

الوحدة الأولى : المادة وتركيبها

المادة

تختلف المواد عن بعضها في بعض من حيث الخواص الكيميائية والفيزيائية :-

الخواص الفيزيائية مثل :

- ١- اللون . ٢- الطعم . ٣- الرائحة . ٤- الكثافة . ٥- درجة الانصهار . ٦- درجة الغليان
٧- الصلابة . ٨- التوصيل الكهربائي . ٩- التوصيل الحراري .
الخواص الكيميائية مثل : - النشاط الكيميائي .

أولاً: اللون والطعم والرائحة

يمكن التمييز بين المواد عن طريق اللون والطعم والرائحة فمثلا :

- ١- يمكن التمييز بين السكر و ملح الطعام عن طريق الطعم
٢- يمكن التمييز بين الخل و العطر عن طريق الرائحة
٣- يمكن التمييز بين الذهب والنحاس و الحديد و الفضة عن طريق اللون

ثانيا : المادة و الكثافة

تعريف الكثافة : هي كتلة وحدة الحجم من المادة "أو هي كتلة ١ سم^٣ من المادة

ماذا يعنى أن : كثافة الألومنيوم ٢.٧ جم/سم^٣ ؟

ای ان : کتلة وحدة الحجم من الالومنيوم تساوى ٢.٧ جم/سم^٣ او كتلة ١ سم^٣ من الالومنيوم = ٢.٧ جم/سم^٣

تجربة توضح ان المواد تختلف عن بعضها من حيث الكثافة

الادوات: حوض بة ماء قطعة من الخشب و قطعة من الفلين و قطعة من الثلج

و بقعة من الزيت و مسمار حديد و عملة معدنية

الخطوات : نحضر حوض به ماء و نضع فيه قطعة من الخشب و الفلين

و قطعة من الثلج و بقعة من الزيت و مسمار حديد و عملة معدنية

الملاحظة: نلاحظ ان مسمار الحديد و العملة المعدنية تغوص فى الماء و تطفو باقى المواد

الاستنتاج: ١- المواد الاقل كثافة من الماء تطفو فوق سطح الماء

٢- و المواد الاكبر كثافة من الماء تغوص في الماء

٣- ان المواد تختلف عن بعضها من حيث الكثافة

تطبيقات حياتية على الكثافة :

١- (علل) : لا يستخدم الماء في إطفاء حرائق البترول؟

لأن كثافة البترول أقل من كثافة الماء فيطفو على سطح الماء ويظل الحريق مشتعلًا

٦- (علل) : ترتفع البالونات المملوءة بغاز الهيدروجين أو الهيليوم المستخدمة في الاحتفالات لعلی؟

لأن هذه الغازات كثافتها أقل من كثافة الهواء فترتفع البالونات الى اعلى .

٣- علل استطاع أرشميدس إكتشاف تاج مصنوع من الذهب مخلوط بالنحاس :

لأن كثافة الذهب المخلوط بالنحاس تختلف عن كثافة الذهب النقي .

٤- يمكن التعرف على ان اللبن نقي او مخلوط بالماء؟

وذلك بتعيين كثافة اللبن اذا كانت 1.03 جم/سم³ كان اللبن نقي

و ادا كانت لا تساوى ١.٠٣ جم/سم كان اللبن مغشوش اى مخلوط بالماء

٥- علل تتغير الكثافة بتغير درجة الحرارة؟

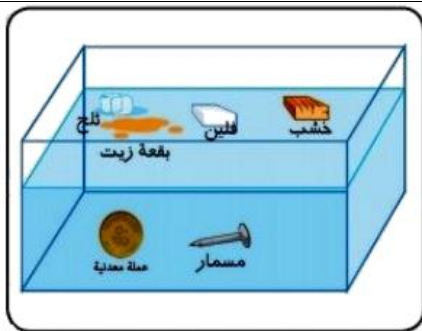
لأن المعادن تتمدد بالحرارة و تنكمش بالبرودة فينتج تغير الحجم وبالتالي تغير كثافته

علل: الكتلة المتساوية من المواد المختلفة لها حجم مختلف؟
بسبب اختلاف الكثافة

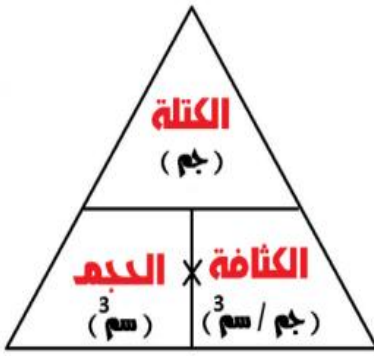
كيف تحسب الكثافة ؟ تحسب الكثافة بقسمة الكتلة بالحجم أو على

طَبَقُ حَسْبِ الْخَلَاءِ : حَسْبُ الْخَلَاءِ بِعَيْنِهِ بِالْجَرَامِ عَلَى الْجَمِّ بِلِسْتِيمِ الْمَحَبِّ

اي ان:- $\text{الكثافه} = \text{الكتله} \div \text{الحجم}$



الكتلة: - هي مقدار ما يحتويه الجسم من مادة ة ويمكن تعيين الكتلة باستخدام :



الحجم: هو مقدار ما يشغله الجسم من فراغ وحدة قياس الحجم هي (سم³)

- 1- يمكن تعيين حجم سائل باستخدام المخبر المدرج
- 2- ويمكن تعيين حجم جسم صلب غير منتظم الشكل = ح² - ح¹

تعيين حجم جسم صلب منتظم الشكل

- 1- تعيين حجم المكعب: حجم المكعب = طول الضلع × نفسه × نفسه.
- 2- تعيين حجم متوازي مستطيلات: حجم متوازي المستطيلات = الطول × العرض × الارتفاع

تعيين كثافة بعض السوائل

لتعيين كثافة سائل ((مثل الماء)) نعين حجمه وكتلته كالآتي :

- 1- نعين حجم السائل باستخدام المخبر المدرج. (ح)
- 2- ونعين كتله كأس فارغ بالميزان الحساس ك¹ ثم نعين كتلة الماء والكأس معاً ك² .
نحسب كتلة السائل من العلاقة : كتلة السائل = كتلة الكأس والسائل - كتلة الكأس فارغة
او كتلة السائل = ك² - ك¹ .
- 3- ونحسب الكثافة من القانون : الكثافة = الكتلة ÷ الحجم

مسائل

- 1- أوجد كثافة الألومنيوم باستخدام مكعب من الألومنيوم حجمه ٦٤ سم³ وكتلته ١٢٨ جم ؟
- 2- قطعة من الحديد حجمها ١٢ سم³ وكتلتها ٣٦٠ جم . أحسب كثافة الحديد ؟
- 3- في تجربة لتعيين كثافة سائل وجد أن كتلة الكأس فارغ ٨٠ جم ، وكتلته وبه السائل هي ١٢٠ جم ، كما أن حجم السائل ٢٠ سم³ ، أوجد كثافة السائل ؟
- 4- قطعة من المعدن كتلتها ٣٦ جم غمرت في مخبر مدرج به ٧٠ سم³ من الماء فارتفع إلى ٨٢ سم³ . أحسب كثافة المعدن ؟
- 5- جسم كتلته ٦ جرام ، وحجمه ١٢ سم³ - أوجد كثافته ، ثم بين هل يغوص في الماء أم يطفو ؟ ولماذا ؟
- 6- في تجربة لتعيين كثافة قطعة من الزلط تم تسجيل البيانات التالية : حجم الماء في المخبر المدرج ٨٠ سم³ ، حجم الماء وقطعة الزلط المغمورة به ١٢٠ سم³ ، كتلة قطعة الزلط ١٦٠ جم . أحسب من ذلك كثافة قطعة الزلط ؟

ثالثاً : المادة ودرجة الانصهار :

درجة الانصهار هي درجة الحرارة التي تتحول عندها المادة من الحالة الصلبة إلى الحالة السائلة

ماذا يعنى ان : درجة انصهار الجليد صفر درجة مئوية؟

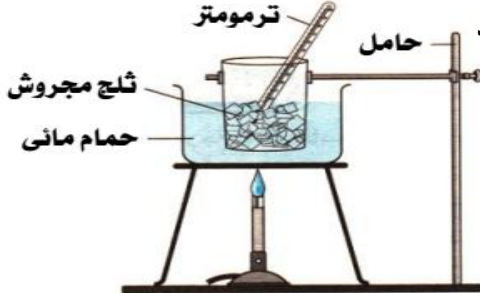
اى ان الجليد يتحول من الحالة الصلبة الى الحالة السائلة عند صفر درجة مئوية

درجة الغليان هي درجة الحرارة التي تتحول عندها المادة من الحالة السائلة إلى الحالة الغازية

ماذا يعنى ان : درجة غليان الماء ١٠٠ درجة مئوية؟

اى ان الماء يتحول من الحالة السائلة الى الحالة الغازية عند ١٠٠ درجة مئوية

تجربة توضيح اختلاف المواد عن بعضها من حيث درجة الانصهار :



الإدوات : حمام مائى - إناء زجاجى - ثلج مجروش - شمع - ترمومتر - حامل حديد
الخطوات :

- 1- نحضر حمام مائى ونضع فيه إناء مملوء بثلج مجروش.
 - 2- نضع الحمام المائى على لهب ومنتظر فترة .
 - 3- عند بداية انصهار الثلج نبدأ الحمام المائى عن اللهب ونسجل قراءة الترمومتر
 - 4- نستبدل الثلج بالشمع وعند بداية انصهار الشمع نسجل قراءة الترمومتر
- الملاحظة :** درجة انصهار الثلج تختلف عن درجة انصهار الشمع .
- الاستنتاج :** ان المواد تختلف عن بعضها من حيث درجة الانصهار .
- بعض المواد درجة انصهارها منخفضة (مثل : الشمع والزبد والثلج) .**
- وبعض المواد درجة انصهاره مرتفعة (مثل : الحديد والنحاس والألمونيوم وملح الطعام)**

تطبيقات حياتية على درجة الانصهار :

(علل) : يقوم الصانع بصهر المعادن؟

حتى يسهل تشكيلها و خلطها بمعادن اخرى لعمل السبائك مثل :

- ١- سبيكة الذهب والنحاس : التي تستخدم في صناعة الحلبي .
 - ٢- و سبيكة النيكل كروم : التي تستخدم في صناعة ملفات التسخين في المكواة.
 - ٣- و سبيكة الصلب الذي لا يصدأ التي تستخدم في صناعة اواني الطهي
- علل : يستخدم الالومنيوم او سبيكة الصلب الذي لا يصدأ في صناعة اواني الطهي؟
لانة جيد التوصيل للحرارة ودرجة انصهاره عالية .

رابعاً : المادة والصلابة :-

تنقسم المواد من حيث الصلابة إلى :

مواد لا تلين بالتسخين	مواد تلين بالتسخين	مواد لينة في درجات الحرارة العادية
مثل : الفحم والكبريت	مثل : المعادن (الحديد والنحاس)	مثل : المطاط

علل : تستخدم أسياخ من الحديد في خرسانة المباني ولا تستخدم أسياخ من النحاس؟ لان الحديد اكثر صلابة من النحاس

خامساً : المادة والتوصيل الكهربى :

تنقسم المواد من حيث التوصيل الكهربى إلى :

مواد رديئة التوصيل للكهرباء			مواد جيدة التوصيل للكهرباء	
٣- الغازات	٢- بعض المحاليل	١ بعض المواد الصلبة	٢- بعض المحاليل	١- المعادن
مثل : الأكسجين- والهيدروجين	مثل : محلول السكر في الماء - ومحلول كلوريد الهيدروجين في البنزين	مثل : الخشب و البلاستيك و الكبريت والفوسفور	مثل : الأحماض و القلويات و محاليل الأملاح مثل محلول كلوريد الصوديوم في الماء	مثل : الحديد - النحاس - الألومنيوم

- ١- علل تصنع أسلاك الكهرباء من النحاس أو الألومنيوم؟ لأنها جيدة التوصيل للكهرباء
- ٢- علل تغلف اسلاك الكهرباء بطبقة من البلاستيك لأن البلاستيك من المواد رديئة التوصيل للكهرباء
- ٣- علل يصنع مقبض المفك من البلاستيك أو الخشب في حين يصنع المفك نفسه من الحديد الصلب؟
لأن البلاستيك أو الخشب من المواد رديئة التوصيل للكهرباء اما الحديد من المواد جيدة التوصيل للكهرباء ودرجة صلابته عالية

سادساً : المادة والتوصيل الحراري :-

تنقسم المواد من حيث التوصيل الحراري إلى

مواد رديئة التوصيل للحرارة	مواد جيدة التوصيل للحرارة
مثل : الخشب والبلاستيك	مثل : المعادن (حديد ، نحاس ، ألومنيوم)

علل : تصنع أواني الطهي من الألومنيوم او الصلب الذي لا يصدأ؟ لأنها جيدة التوصيل للحرارة . ودرجة انصهارها عالية
تصنع مقابض أواني الطهي من الخشب أو البلاستيك ؟ لأنها رديئة التوصيل للحرارة

سابعاً : المادة والنشاط الكيميائي :-

يُقاس النشاط الكيميائي للمادة بدرجة تفاعلها مع الأكسجين وتختلف الفلزات عن بعضها في النشاط الكيميائي وتنقسم إلى :

١- عناصر نشطة جدا كيميائيا	٢- عناصر اقل نشاطا اى (نشطة نسبيا)	٣- عناصر ضعيفة النشاط الكيميائي
لأنها تتفاعل بسرعة مع أكسجين الهواء الرطب	لأنها تتفاعل مع الأكسجين بعد فترة من الزمن قد تصل إلى عدة أيام	لأنها تتفاعل مع الأكسجين بصعوبة
مثل : الصوديوم و البوتاسيوم	مثل : الحديد والنحاس والالومنيوم	مثل : الفضة والذهب والبلاتين و النيكل و الكروم

تطبيقات حياتية على النشاط الكيميائي

- ١- علل: يحفظ الصوديوم و البوتاسيوم تحت سطح الكيروسين ؟
لأنها عناصر نشطة جدا كيميائيا تتفاعل بسرعة مع اكسجين الهواء الرطب
- ٢- علل: طلاء الكباري المعدنية وأعمدة الإنارة من وقت لآخر؟ لحمايتها من الصدأ .
- ٣- علل: تغطية قطع غيار السيارات بطبقة من الشمع؟ لحمايتها من الصدأ .
- ٤- علل: غسل أواني الطهي المصنوعة من الألومنيوم بجسم خشن؟ لإزالة طبقة أكسيد الألومنيوم المتكونة .
- ٥- علل يستخدم الذهب الفضة والبلاتين في صناعة الحلبي؟ بسبب ضعف نشاطها الكيميائي أي يصعب تفاعلها مع الاكسجين
- ٦- علل يستخدم النيكل أو الكروم في تغطية المواد القابلة للصدأ مثل الحديد ؟
لحمايتها من الصدأ لان النيكل و الكروم عناصر ضعيفة النشاط الكيميائي أي يصعب تفاعلها مع الاكسجين
- ٧- (علل): اختلاف المواد عن بعضها في الخواص الكيميائية. لأن هناك مواد تتفاعل مع الأكسجين بسرعة ومواد تتفاعل مع الأكسجين بعد فترة ومواد تتفاعل مع الأكسجين بصعوبة

الوحدة الأولى : المادة وتركيبها ٢ تركيب المادة

المادة تتكون من جزيئات و الجزيئات تتكون من ذرات

تعريف الجزيء : هو أصغر جزء من المادة يمكن أن يوجد على حالة إنفراد وتتضح فيه خواص المادة

وضحي بالتجربة ان المادة تتكون من جزيئات ؟

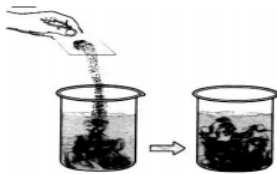


- الادوات** : زجاجة -- كمية من العطر -- ميزان رقمي
- الخطوات** : ١- نضع كمية من العطر في الزجاجة ونعين كتلتها بالميزان الرقمي
- ٢- نتركها في أحد اركان الغرفة فترة زمنية ثم ننقل إلى الركن الآخر من الغرفة
- الملاحظة** : نلاحظ ١- تقل كتلة الزجاجة ٢- وانتشار رائحة العطر في الغرفة
- التفسير** : ان مادة العطر تجزأت إلى أجزاء صغيرة هذه الاجزاء تسمى جزيئات
- الاستنتاج** : ١- ان المادة تتكون من جزيئات
- ٢- الجزيء هو أصغر جزء من المادة يمكن أن يوجد على حالة إنفراد وتتضح فيه خواص المادة

خواص جزيئات المادة ١- جزيئات المادة في حالة حركة مستمرة ٢- جزيئات المادة بينها مسافات بينية

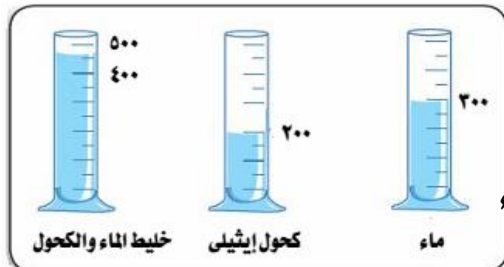
٣- جزيئات المادة بينها قوة ترابط و تماسك

وضحي بالتجربة أن جزيئات المادة في حالة حركة مستمرة:



- الادوات** : كأس بة ماء - قليل من مسحوق برمنجانات البوتاسيوم البنفسجية
- الخطوات** : نحضر كأس بة ماء ونضع بة كمية صغيرة من مسحوق برمنجانات البوتاسيوم البنفسجية و نترك الكأس لفترة من الزمن
- الملاحظة** : تلون الماء باللون البنفسجي
- الاستنتاج** : أن جزيئات المادة في حالة حركة مستمرة .

وضحي بالتجربة ان جزيئات المادة بينها مسافات بينية :



- الادوات** : مخبر مدرج - ماء - كحول
- التجربة** : ١- نضع ٣٠٠ سم^٣ من الماء في مخبر مدرج
- ٢- ونضيف ٢٠٠ سم^٣ من الكحول إلى الماء .
- الملاحظة** : حجم المخلوط أقل من ٥٠٠ سم^٣
- التفسير** : بعض جزيئات الكحول انتشرت في المسافات البينية بين جزيئات الماء
- الاستنتاج** : أن جزيئات المادة بينها مسافات بينية

المسافات البينية : هي الفراغات الموجودة بين جزيئات المادة

علل حجم مخلوط من الماء و الكحول اقل من مجموع حجمهما قبل الخلط؟

لان بعض جزيئات الكحول انتشرت في المسافات البينية الموجودة بين جزيئات الماء

قوة الترابط و التماسك : هي القوة التي تربط بين جزيئات المادة



وضحي بالتجربة ان جزيئات المادة بينها قوة ترابط و تماسك:

التجربة : ١- نحاول تفتيت قطعة من الحديد باليد ٢- ثم نحاول تجزئة كمية من الماء فى اكواب صغيرة




الملاحظة : ١- يصعب تفتيت قطعة الحديد باليد ٢- ويسهل تجزئه الماء

التفسير : ١- يصعب تفتيت قطعة الحديد لان قوة الترابط و التماسك بين جزيئات الحديد كبيرة جدا

٢- بينما يسهل تجزئه الماء لان قوة الترابط و التماسك بين جزيئات الماء ضعيفة

الاستنتاج: ان جزيئات المادة بينها قوة ترابط و تماسك و تختلف من مادة الى اخرى

مقارنة بين خواص المادة في حالاتها الثلاث :

غازية	سائلة	صلبة	وجه المقارنة
 جزيئات مادة غازية	 جزيئات مادة سائلة	 جزيئات مادة صلبة	الرسم التوضيحي
حرية تماماً حركة انتقالية	أكبر حرية حركة انتقالية	حركة محدودة جداً حركة اهتزازية فى موضعها	حركة الجزيئات
كبيرة جداً	كبيرة نسبياً	صغيرة جداً	المسافات البينية
تتكون منعقدة	ضعيفة	كبيرة جداً	قوى الترابط و التماسك
متغيرة الشكل و متغيرة الحجم	متغيرة الشكل و ثابتة الحجم	ثابتة الشكل و الحجم	الشكل و الحجم

ج- لأن قوى التماسك بين جزيئاتها كبيرة جداً.

ج- لأن قوى التماسك بين جزيئاتها ضعيفة.

ج- لأن قوى التماسك بين جزيئاتها تتكون منعقدة

علل : المواد الصلبة ثابتة الشكل و الحجم.

علل : يأخذ السائل شكل الإناء الموضوع فيه.

علل : الغاز متغير الشكل و الحجم.

العلاقة بين درجة حرارة المادة وحالتها الفيزيائية

*** الإنصهار :** "هو تحول المادة من الحالة الصلبة إلى الحالة السائلة بالتسخين .

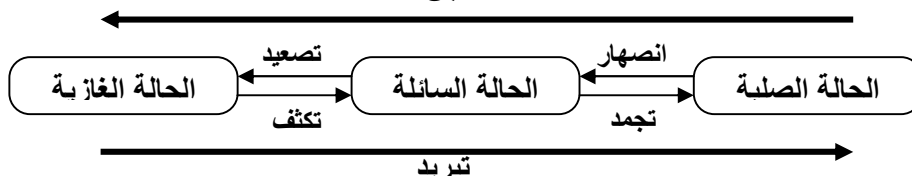
علل تحول المادة من الحالة الصلبة إلى الحالة السائلة بالتسخين؟

لأنه عند تسخين المادة الصلبة تضعف قوى الترابط و التماسك بين الجزيئات وتزداد المسافات البينية و تتحرك بحرية أكبر فتصبح مادة سائلة

*** التصلب :** "هو تحول المادة من الحالة السائلة إلى الحالة الغازية بالتسخين .

علل تحول المادة من الحالة السائلة إلى الحالة الغازية بالتسخين؟

لأنه عند تسخين المادة السائلة تضعف قوى الترابط و التماسك بين الجزيئات وتزداد المسافات البينية و تتحرك بحرية أكبر فتصبح مادة غازية

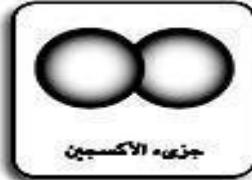


خواص جزيئات المادة : ١- جزيئات المادة الواحدة متشابهة فى الخواص ٢- اما جزيئات المواد المختلفة غير متشابهة

٣- يتكون الجزيء من وحدات أصغر منه تسمى الذرة .

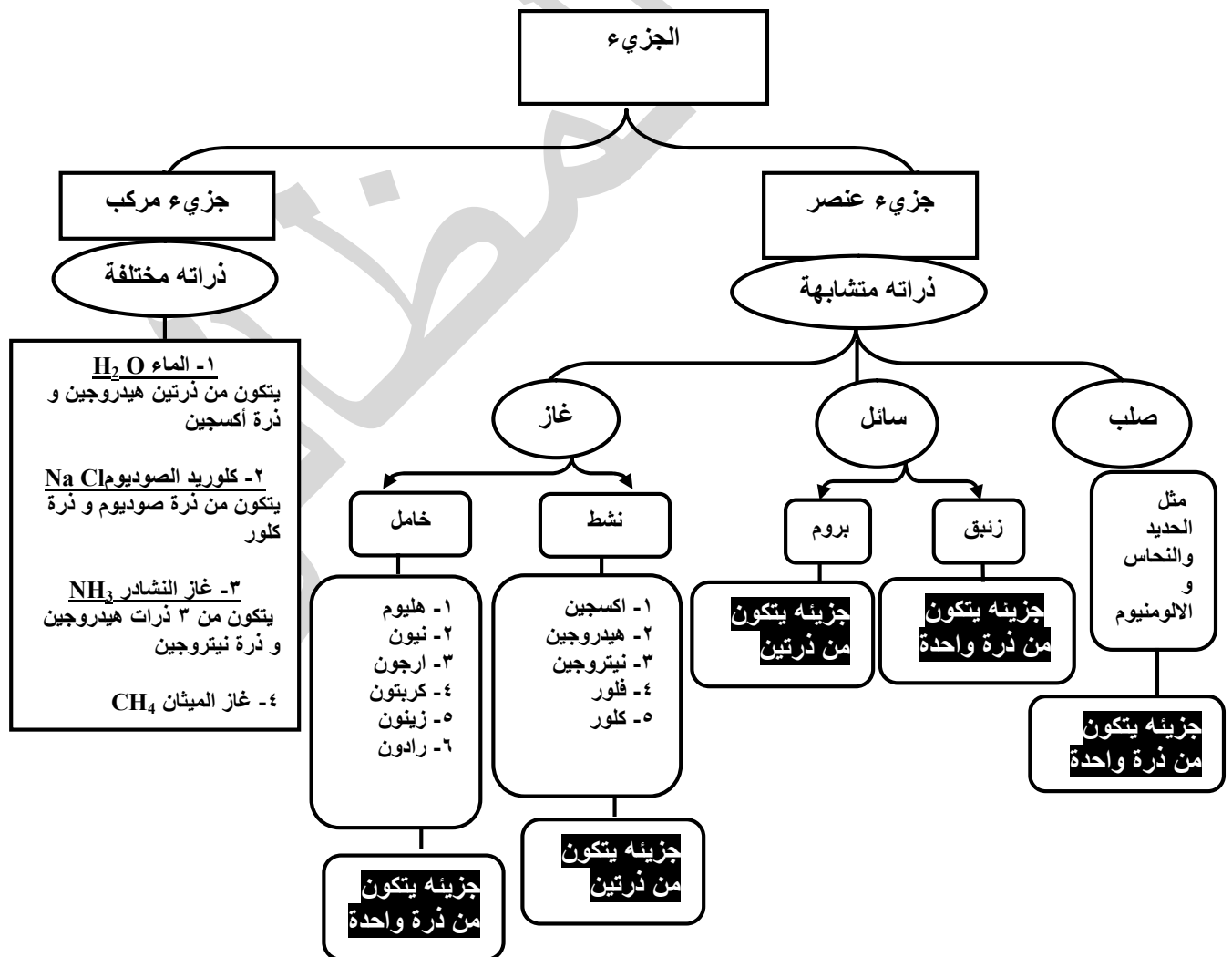
علل جزيئات المواد المختلفة غير متشابهة فى الخواص؟ بسبب اختلاف عدد الذرات ونوع الذرات المكونة لها

العنصر	المركب
هو أبسط صورة نقية للمادة لا يمكن تحليلها إلى ما هو أبسط منها بطرق كيميائية بسيطة	هو ناتج اتحاد ذرتين أو أكثر لعناصر مختلفة بنسب وزنيه ثابتة
وجزئ العنصر يتكون من ذرات متشابهة او متماثلة	وجزئ المركب يتكون من ذرات غير متشابهة او غير متماثلة
مثل جزئ الاكسجين و الهيدروجين و النيتروجين	مثل جزئ الماء و النشادر و ملح الطعام (كلوريد الصوديوم)



علل: جزئ الأكسجين والهيدروجين جزئ عنصر؟ لأنها تتكون من ذرات متماثلة .
 علل جزئ الماء و النشادر جزئ مركب : لأنها تتكون من ذرات غير متماثلة او ذرات لعناصر مختلفة

ويمكن تقسيم الجزيئات الى : - ١- جزيئات عناصر . ٢- جزيئات مركبات .



الوحدة الأولى : المادة وتركيبها ٣ التركيب الذري للمادة

المادة تتكون من جزيئات والجزيئات تتكون من ذرات
الذرة : هي اصغر وحدة بنائية للمادة يمكن ان تشترك في التفاعلات الكيميائية

الرموز الكيميائية للعناصر :-

اقترح العلماء وضع رموز كيميائية لكل عنصر مشتقة من اسمائها اللاتينية علل :؟؟ لسهولة دراستها وسهولة التعامل معها .

* اهم الرموز الكيميائية للعناصر :

الرمز	العنصر	الرمز	العنصر
I	يود	H	هيدروجين
S	كبريت	O	أكسجين
P	فوسفور	N	نيتروجين
C	كربون	F	فلور
Si	سيلكون	Cl	كلور
Li	ليثيوم	He	هيليوم
K	بوتاسيوم	Ar	أرجون
Na	صوديوم	Br	بروم
Ca	كالسيوم	Hg	زئبق
Mg	ماغنسيوم	Ag	فضة
Al	ألومنيوم	Au	ذهب
Zn	خارصين (زنك)	Cu	نحاس
Fe	حديد	Pb	رصاص

إذا كان رمز العنصر يتكون من حرف واحد يكتب كابتال

إذا كان رمز العنصر يتكون من حرفين يكتب الاول كابتال و الاخر صمول

علل : رموز بعض العناصر تتكون من حرفين؟؟ لان بعض العناصر متشابهة في الحرف الاول و للتمييز بينها

نضيف لاحدهما حرف اخر مثل الكالسيوم و الكربون كلاهما يبدأ بحرف C

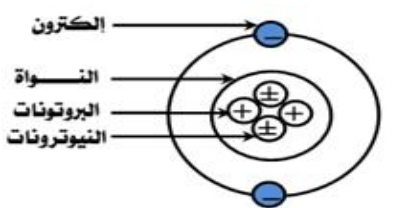
علل: رموز بعض العناصر لا تعبر عن نطق اسم العنصر بالانجليزية؟؟ لان رمز العنصر يكتب باللاتينية و اسماء بعض العناصر

باللاتينية تختلف عن اسمائها بالانجليزية مثل الصوديوم و البوتاسيوم

الرمز	الاسم اللاتيني	الاسم بالانجليزية	الكلمة
Na	Natrium	Sodium	صوديوم
K	Kalium	Potassium	بوتاسيوم

تركيب الذرة: ١- نواة موجبة الشحنة ٢- إلكترونات سالبة الشحنة

(أ) النواة	(ب) الإلكترونات
١- تحتوي على بروتونات موجبة الشحنة (+) و نيوترونات متعادلة الشحنة (+ -) ٢- توجد في مركز الذرة ٣- و شحنتها موجبة ٤- ويتركز بها كتلة الذرة	١- تدور حول النواة بسرعة فائقة ٢- جسيمات سالبة الشحنة ٣- و كتلتها مهمة



علل: النواة موجبة الشحنة؟ لأنها تحتوى على بروتونات موجبة الشحنة (+) و نيوترونات متعادلة الشحنة (-).
علل: الذرة متعادلة كهربيا في حالتها العادية؟ لأن عدد البروتونات الموجبة داخل النواة = عدد الإلكترونات السالبة خارج النواة
علل: كتلة الذرة مركزة في النواة؟ لأن النواة تحتوى على البروتونات و النيوترونات و هما أثقل مكونات الذرة
 اما كتلة الإلكترونات خارج النواة صغيرة جدا تكاد تكون مهملة
علل: لا تسقط الإلكترونات السالبة داخل النواة الموجبة؟ لأن الإلكترونات تدور بسرعة فائقة حول النواة

ملحوظة هامة : يمكن التعبير عن ذرة أى عنصر عن طريق عددين هما :

العدد الكتلى	العدد الذرى
هو مجموع أعداد البروتونات الموجبة والنيوترونات المتعادلة داخل النواة	هو عدد البروتونات الموجبة داخل النواة او عدد الإلكترونات السالبة خارج النواة
و يكتب أعلى رمز العنصر	و يكتب أسفل يسار رمز العنصر

إرشادات حل المسائل :

(١) العدد الذرى = عدد البروتونات = عدد الإلكترونات .

(٢) العدد الكتلى = عدد البروتونات + عدد النيوترونات .

(٣) عدد النيوترونات = العدد الكتلى - العدد الذرى .

(٤) عدد البروتونات = العدد الكتلى - عدد النيوترونات .

علل العدد الكتلى اكبر من العدد الذرى غالبا ؟ لأن العدد الكتلى يساوى عدد البروتونات و النيوترونات اما العدد الذرى يساوى البروتونات فقط او الإلكترونات فقط

علل: لا تحتوى نواة ذرة الهيدروجين على نيوترونات لأن العدد الذرى = العدد الكتلى

علل: العدد الذرى = العدد الكتلى في ذرة الهيدروجين لأن عدد النيوترونات = صفر

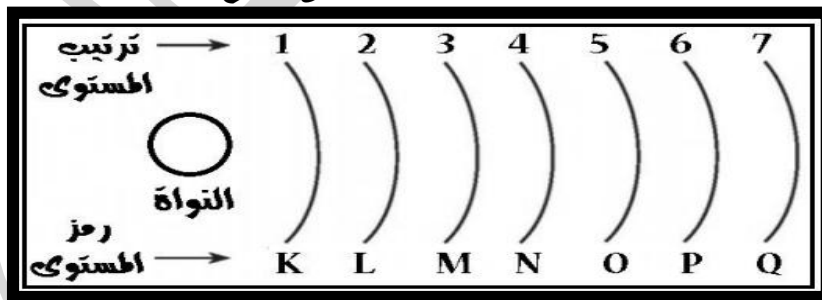
ماذا يحدث: إذا تغير عدد البروتونات في النواة؟

ج: يتغير العدد الذرى والعدد الكتلى وتصبح ذرة عنصر آخر

مستويات الطاقة : هي مناطق وهمية تدور خلالها الإلكترونات حول النواة كل حسب طاقتها .

١- لا يزيد عدد مستويات الطاقة في أكبر الذرات المعروفة عن سبعة مستويات

٢- يرمز لمستويات الطاقة مرتبة من الداخل إلى الخارج بالرموز التالية :



ملحوظة هامة:-

معين من

٣- كل مستوى له قدر

الطاقة وتزداد طاقة المستوى كلما ابتعد عن النواة و على هذا الاساس :-

أقلهم طاقة هو المستوى K و اقربهم للنواة. و أعلاهم طاقة هو المستوى Q و ابعدهم عن النواة

الكم او الكوانتم : هي كمية الطاقة التي يكتسبها أو يفقدها الإلكترون لكي ينتقل من مستوى طاقة إلى مستوى طاقة آخر .

ماذا يحدث : إذا اكتسب الإلكترون كما من الطاقة (كوانتم)؟؟

ج: ينتقل من مستوى طاقته إلى مستوى الطاقة الأعلى منه وتصبح الذرة مثارة.

الذرة المثارة : هي الذرة التي اكتسبت كما من الطاقة

ماذا يحدث: إذا فقد الإلكترون كما من الطاقة (كوانتم)؟؟:- يعود الإلكترون إلى مستواه الأصلي وتعود الذرة إلى حالتها المستقرة

- ٤- كل مستوى طاقة يستوعب عدد معين من الإلكترونات لا يتحمل أكثر منه .
٥- يمكن حساب عدد الإلكترونات التي ينتشع بها مستويات الطاقة من العلاقة ($2n^2$) حيث (ن) هو رقم المستوى وهذه العلاقة تنطبق على مستويات الطاقة الأربعة الأولى فقط كالتالي :

مستوى الطاقة	(ن) = رقم المستوى	عدد الإلكترونات التي ينتشع بها المستوى ($2n^2$)
المستوى K	١	$2n^2 = 2 \times 1^2 = 2$ إلكترون
المستوى L	٢	$2n^2 = 2 \times 2^2 = 8$ إلكترون
المستوى M	٣	$2n^2 = 2 \times 3^2 = 18$ إلكترون
المستوى N	٤	$2n^2 = 2 \times 4^2 = 32$ إلكترون

علل:- مستوى الطاقة الثالث M لا يتحمل أكثر من ١٨ إلكترون.
ج: لأن $n=3$ وعدد الإلكترونات يتحدد من العلاقة $2n^2 = 2 \times 3^2 = 18$

ملاحظات هامة:

- ١- لا تنطبق العلاقة $2n^2$ على المستويات الأعلى من المستوى الرابع (علل) لأن الذرة تصبح غير مستقرة
٢- لا يزيد عدد الإلكترونات في مستوى الطاقة الأخير عن ٨ إلكترونات ما عدا المستوى K لا ينتشع بأكثر من ٢ إلكترون
التوزيع الإلكتروني لبعض العناصر :-

<p>٤٠ Ar أرجون ١٨</p>	<p>٧ Li ليثيوم ٣</p>	<p>١٤ N نيتروجين ٧</p>	<p>٣٥ Cl كلور ١٧</p>	<p>٢٣ Na صوديوم ١١</p>	<p>٢٧ Al ألومنيوم ١٣</p>
-------------------------------	------------------------------	--------------------------------	------------------------------	--------------------------------	----------------------------------

مثال (٣) عنصر (X) تتوزع إلكتروناته على ٣ مستويات طاقة عدد إلكترونات M تساوي

عدد إلكترونات K و عدد النيوترونات = ١٢ احسب العدد الذري - و العدد الكتلي
علل بملأ المستوى K بالإلكترونات قبل المستوى L ؟ لأن طاقة المستوى K أقل من طاقة المستوى L و أقرب للنواة

التركيب الإلكتروني والنشاط الكيميائي

عدد إلكترونات مستوى الطاقة الأخير للذرة هو الذي يحدد إذا كانت الذرة نشطة أو غير نشطة (تدخل في تفاعل كيميائي أو لا تدخل)

الذرة المستقرة (الغازات الحاملة)	الذرة النشطة (الغير مستقرة)
<p>الأرجون Ar ١٨ عدد الإلكترونات في كل مستوى</p> <p>المستوى الخارجي ممتلئ بالإلكترونات</p> <p>لا تدخل في تفاعل كيميائي</p>	<p>الصوديوم Na ١١ عدد الإلكترونات في كل مستوى</p> <p>المستوى الخارجي به أقل من (٨) إلكترونات</p> <p>تدخل في تفاعل كيميائي</p>

مثل الهيليوم He 2 و النيون Ne 10 والأرجون Ar 18

مثل الاكسجين و الصوديوم و البوتاسيوم

علل ذرة الصوديوم نشطة و تدخل فى التفاعلات الكيميائية ؟

لعدم اكتمال مستوى طاقتها الاخير بالالكترونات اى أقل من 8 إلكترونات.

علل: الغازات الخاملة لا تدخل فى تفاعلات كيميائية. أو: ذرة النيون Ne 10 لا تدخل فى تفاعلات كيميائية.

جـ: بسبب اكتمال مستوى طاقتها الاخير بالالكترونات

الوحدة الثانية : الطاقة ١ الطاقة مصادرها وصورها

ما هي أهمية الوقود بالنسبة للسيارة و الغذاء بالنسبة للإنسان؟

الطاقة الناتجة من احتراق الوقود داخل السيارة تجعلها قادرة على الحركة

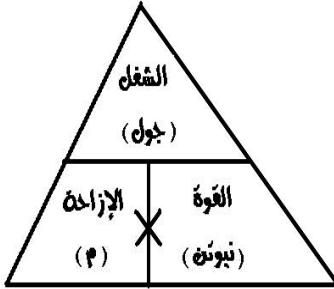
والطاقة الناتجة من احتراق الغذاء تمكن الإنسان من القيام بالأنشطة المختلفة

الشغل إذا أثرت على جسم بقوة فتتحرك مسافة (إزاحة) معينة يقال انك تبذل شغل

وإذا أثرت على جسم بقوة فلم يتحرك مسافة (إزاحة) معينة يقال انك لا تبذل شغل

الشغل = القوة × الإزاحة

جول = نيوتن × متر



الشخص الذى يدفع الحائط لا يبذل شغلًا



اللاعب الذى يرفع الأثقال لأعلى يبذل شغلًا

الطاقة : هي القدرة على بذل شغل أو إحداث تغيير

طاقة صوتية	طاقة ميكانيكية	طاقة كهربائية
طاقة نووية	طاقة الوضع	طاقة ضوئية
طاقة كيميائية	طاقة الحركة	طاقة حرارية

مصادر الطاقة :

الشمس	مثل	١- مصادر دائمة
الماء و الهواء و الرياح و الغذاء	مثل	٢- مصادر متجددة
الوقود (الفحم- البترول -الغاز الطبيعي)	مثل	٣- مصادر غير متجددة

الشمس والرياح وحركة المياه و الغذاء تسمى مصادر طاقة نظيفة لأنها لا تلوث البيئة اما الوقود والتفاعلات النووية من مصادر الطاقة الغير نظيفة لأنها تلوث البيئة

طاقة الوضع : " هي الطاقة المخزونة بالجسم بسبب الشغل المبذول عليه "

ماذا يعنى ان طاقة وضع جسم = ٢٠ جول

اى ان الطاقة المخزونة داخل الجسم بسبب الشغل المبذول عليه = ٢٠ جول

العوامل التى تتوقف عليها طاقة الوضع : -

١- وزن الجسم:- طاقة الوضع تزداد بزيادة وزن الجسم والعكس

عند رفع كرتين من الحديد يبذل شغل اكبر من رفع كرة واحدة

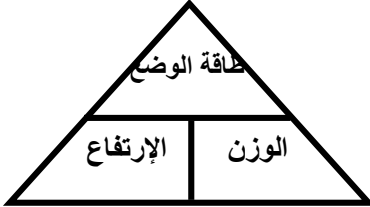
كلما زاد وزن الجسم يزداد الشغل المبذول فتزداد طاقة الوضع

إذا طاقة الوضع تزداد بزيادة وزن الجسم

ماذا يحدث إذا زاد وزن الجسم للضعف؟ تزداد طاقة الوضع للضعف

٢- **الارتفاع :-** طاقة الوضع تزداد بزيادة الارتفاع والعكس
عند رفع كرة من الحديد لمسافة ٥ متر يبذل شغل أكبر من رفعها لمسافة ١ متر
أي كلما زاد الارتفاع يزداد الشغل المبذول فتزداد طاقة الوضع
إذا طاقة الوضع تزداد بزيادة الارتفاع عن سطح الأرض

١- **طاقة الوضع = وزن الجسم × الارتفاع**
٢- **طاقة الوضع = الكتلة × عجلة الجاذبية × الارتفاع**



وزن الجسم = الكتلة × عجلة الجاذبية

علل : وزن الجسم أكبر من كتلته ؟ لأن الوزن = الكتلة × عجلة الجاذبية
مثال : أحسب طاقة الوضع لجسم وزنه ٥ نيوتن عند ارتفاع ٣ متر من سطح الأرض
طاقة الوضع = وزن الجسم × الارتفاع = ٤ × ٣ = ١٢ جول
مثال : ما وزن جسم طاقة وضعه ٨٨ جول على ارتفاع ١١ متر
طاقة الحركة : الشغل المبذول أثناء حركة الجسم "

العوامل التي تتوقف عليها طاقة الحركة

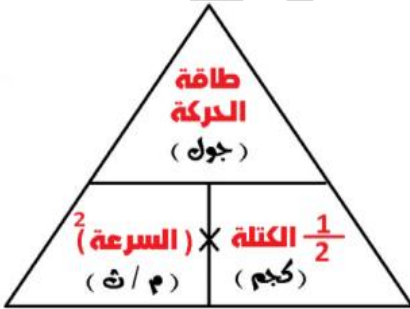
١- **سرعة الجسم :-** إذا كانت هناك سيارتان متماثلتان في الكتلة فإن السيارة الأسرع تحتاج طاقة أكبر لإيقافها
نستنتج أنه : تزداد طاقة الحركة للجسم بزيادة سرعته (تناسب طردي)
٢- **كتلة الجسم :-**

إذا كانت هناك سيارتان تتحركان بسرعة واحدة فإن السيارة الأكبر في الكتلة تحتاج لطاقة أكبر في إيقافها
نستنتج من ذلك أنه تزداد طاقة الحركة للجسم بزيادة كتلته (تناسب طردي)

طاقة الحركة = $\frac{1}{2}$ الكتلة × مربع السرعة

علل إذا زادت السرعة للضعف تزداد طاقة الحركة إلى أربعة أمثال ؟ لأن طاقة الحركة تتناسب طردي مع مربع السرعة
مثال ١ : أحسب طاقة حركة جسم كتلته ١ كجم يتحرك بسرعة ٣ متر/ث ؟
الحل : طاقة الحركة = $\frac{1}{2}$ الكتلة × مربع السرعة

$$\text{طاقة الحركة} = \frac{1}{2} \times 1 \times (3 \times 3) = 4.5 \text{ جول}$$



الطاقة الميكانيكية هي مجموع طاقتي الوضع والحركة

الطاقة الميكانيكية = طاقة الوضع + طاقة الحركة

طاقة الوضع = الطاقة الميكانيكية - طاقة الحركة

طاقة الحركة = الطاقة الميكانيكية - طاقة الوضع

١- الطاقة الميكانيكية للجسم عند أعلى ارتفاع له تساوي طاقة الوضع فقط علل

لأن الجسم ساكن و طاقة الحركة = صفر

٢- الطاقة الميكانيكية للجسم عند وصوله إلى الأرض تساوي طاقة الحركة فقط (علل)

لأن الجسم متحرك و طاقة الوضع = صفر

٣- الطاقة الميكانيكية للجسم عند منتصف المسافة

الطاقة الميكانيكية = ٢ ط و = ٢ ط ح

مثال ٣ : قذف رجل كرة رأسياً فكانت سرعتها ٣ متر/ث عند ارتفاع ٤ متر فما الشغل المبذول على الكرة

إذا كان وزنها ٥ نيوتن وكتلتها ٢ كجم ؟

الطاقة الميكانيكية للجسم = طاقة الوضع + طاقة الحركة

طاقة الوضع = وزن الجسم × الارتفاع = ٥ × ٤ = ٢٠ جول

طاقة الحركة = $\frac{1}{2}$ الكتلة × مربع السرعة = $\frac{1}{2} \times 2 \times (3 \times 3) = ٩$ جول

الطاقة الميكانيكية = ٢٠ + ٩ = ٢٩ جول

مثال ٤- سقط حجر كتلته ٥ كجم من على ارتفاع ٨ متر وعجلة الجاذبية الأرضية ١٠ م/ث^٢

فما طاقة وضعة و طاقة حركته عند ؟

١- بداية السقوط ٢- بعد وصوله الى ارتفاع مترين ٣- عندما يصل الى الارض

وضحي بالتجربة تحول طاقة الوضع الى طاقة حركة و العكس ؟

التجربة : ارفع كرة من كرات التنس من مستوى سطح الأرض الى مستوى الراس

ثم أترك الكرة لتسقط على الارض


الملاحظة : نلاحظ عند اصطدام الكرة بالأرض فإنها تستمر في الصعود و الهبوط

التفسير : ١- عند رفع الكرة تكتسب طاقة وضع بسبب الشغل المبذول عليها

٢ - وعند ترك الكرة تسقط تتحول طاقة الوضع الى طاقة حركة

٣- وعند صعودها مرة أخرى لاعلى تتحول طاقة الحركة الى طاقة وضع وهكذا

الاستنتاج: ان طاقة الوضع تتحول الى طاقة حركة و العكس



الوحدة الثانية : الطاقة ٢ تحولات الطاقة

اولا : بقاء الطاقة الميكانيكية

اثبتى بالتجربة قانون بقاء الطاقة الميكانيكية؟

التجربة : نحضر بندول بسيط وندفعه باليد ثم نتركه

نكرر ما سبق مع بندولين نجذب الكرة بعيدا عن موضع السكون او الاستقرار و نتركها

الملاحظة ١- يتحرك البندول يمينا و يسارا على جانبي موضع السكون

٢- يتحرك البندول الاول فيصطدم بالثاني فيسبب حركته

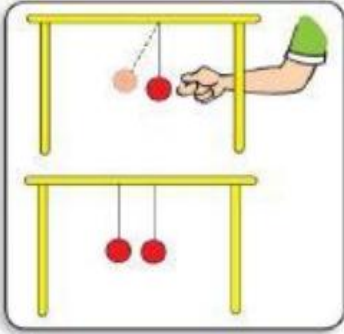
ثم يعود الثاني ليصطدم بالاول فيسبب حركته

التفسير : عند دفع البندول يكتسب طاقة وضع بسبب الشغل المبذول عليه

وعند تركه تتحول طاقة الوضع الى طاقة حركة وعندما يصل البندول الى اقصى ارتفاع

تتحول طاقة الحركة الى وضع و هكذا يظل البندول محتفظا بطاقته الميكانيكية

الاستنتاج : يظل الجسم محتفظا بطاقته الميكانيكية حيث تتبادل طاقتي الوضع و الحركة معا



قانون بقاء الطاقة الميكانيكية : " مجموع طاقتي الوضع والحركة لأي جسم في مجال الجاذبية = مقدار ثابت "

علل تشابه كلا من حركة الأرجوحة و حركة البندول البسيط ؟

لان في كلا منهما تتبادل طاقتي الوضع و الحركة بحيث يكون مجموعهما يساوى مقدار ثابت

ثانيا : العنود الكهربى البسيط

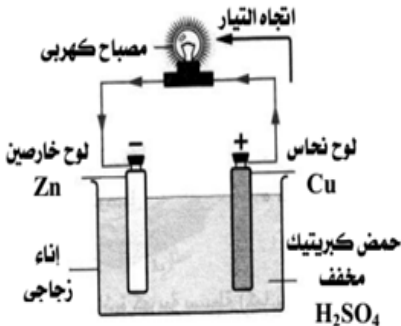
يتركب من : اناء زجاجى يحتوى على محلول حمض

ينغمس فيه معدنان مختلفان احدهما من النحاس

يعمل كقطب موجب (+) و الاخر من الخارصين يعمل كقطب سالب (-)

فكرة عمل العنود البسيط :

تتحول فيه الطاقة الكيميائية الى طاقة كهربية



تجربة عمل نموذج للعنود الكهربى البسيط ؟

الادوات ليمونة كبيرة- بوصلة صغيرة - سلك نحاسى معزول - ساق من الخارصين

الخطوات ١- نضغط على الليمونة من الخارج حتى تصبح لينة ثم نغرس فيها ساق الخارصين

٢ - نكشف طرفى سلك النحاس ثم نلف السلك عدة مرات حول البوصلة

٣- نغرس احد طرفى السلك فى الليمونة و نربط الطرف الاخر حول ساق الخارصين

الملاحظة : نلاحظ انحراف ابرة البوصلة فى اتجاه معين مما يدل على مرور تيار كهربى

التفسير: يحدث داخل الليمونة تفاعلات كيميائية ينتج عنها مرور تيار كهربى

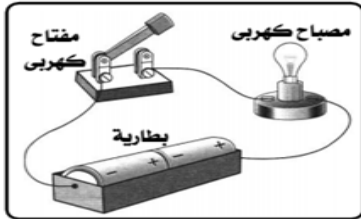
فى سلك النحاس ويستدل عليه من انحراف ابرة البوصلة

الاستنتاج : تتحول الطاقة الكيميائية المختزنة فى الليمونة الى طاقة كهربية



ملحوظة: عند استبدال الليمونة بذرنة بطاطس تنحرف ابرة البوصلة و لكن بدرجة اقل **حالة** لان المحلول الخلوى اى محلول خلايا البطاطس تقوم بدور المحلول الحامضى فى الليمونة

ثالثا دوران التيار الكهربى



وضعى بالتجربة تحولات الطاقة فى المصباح الكهربى :-

- الإدوات** مفتاح - بطارية - أسلاك توصيل - مصباح
الخطوات ١- نكون دائرة كهربائية بسيطة كما هو موضح بالشكل
 ٢ - نغلق الدائرة الكهربائية لمدة دقيقة ثم نفتحها مرة أخرى
 ٣- نلمس زجاج المصباح باليد .

الملاحظة: اضاءة و سخونة المصباح الكهربى

الاستنتاج: فى المصباح الكهربى تتحول الطاقة الكهربائية الى طاقة ضوئية و حرارية اى ان الطاقة تتحول من صورة إلى أخرى .

وضعى بالرسم دائرة كهربية لتنبيه شخص فائد البصر و اخر فاقد السمع؟

رابعا تحولات الطاقة داخل السيارة

تحولات الطاقة	في السيارة
تتحول الطاقة الكيميائية المختزنة في الوقود إلى طاقة حرارية وحركية.	١- آلة الاحتراق الداخلى (الموتور)
تتحول الطاقة الميكانيكية إلى طاقة كهربية	٢- الدينامو
تتحول الطاقة الكهربائية إلى طاقة ضوئية.	٣- الفوانيس
تتحول الطاقة الكهربائية إلى طاقة صوتية.	٤- الراديو
تتحول الطاقة الكهربائية إلى طاقة حرارية.	٥- سخان التكييف

من ذلك نستنتج أن

قانون بقاء الطاقة: " الطاقة لا تفنى ولا تستحدث من العدم ولكنها تتحول من صورة إلى أخرى

أمثلة لبعض تحولات الطاقة

١- فى عملية البناء الضوئي:	تتحول الطاقة الضوئية إلى طاقة كيميائية
٣- فى المصباح الكهربى:	تتحول الطاقة الكهربائية إلى طاقة ضوئية وحرارية
٤- المدفأة (السخان) :	تتحول الطاقة الكهربائية إلى طاقة حرارية
٥- المروحة والموتور :	تتحول الطاقة الكهربائية إلى طاقة حركية ميكانيكية
٦- الخلايا الشمسية	تتحول فيها الطاقة الشمسية إلى طاقة كهربية
٧- السخان الشمسى	يحول الطاقة الشمسية إلى طاقة حرارية
١٠- التليفون المحمول	تتحول طاقة الموجات الكهرومغناطيسية الى طاقة صوتية

الآثار السلبية للتطبيقات التكنولوجية :-

التطبيق التكنولوجى	الآثار السلبية
عادم السيارات	يسبب تلوث كيميائي للهواء
المبيدات الكيميائية	١- تسبب تلوث كيميائي للهواء والماء والتربة ٢- تسبب تسمم غذائى
التفجيرات العسكرية :	تسبب تلوث كيميائي وضوضائي وقتل للكائنات الحية
الأسلحة الذرية والنووية	تسبب الدمار الشامل
شبكات المحمول	تسبب تلوث كهرومغناطيسى
مكبرات الصوت و آلات الحفر	تسبب تلوث ضوضائي

الوحدة الثانية : الطاقة ٣ الطاقة الحرارية

طرق الحصول على الطاقة الحرارية

١ - تحول الطاقة الميكانيكية الى طاقة حرارية بالاحتكاك

تجربة : توضيح تحول الطاقة الميكانيكية الى طاقة حرارية بالاحتكاك


الخطوات :

- ١- نحضر دراجة ونقلبها و ندور البدال بسرعة ثم نضغط على الفرامل بقوة
- ٢- و نلمس اطار الدراجة بعد توقفها مباشرة

الملاحظة : نلاحظ ارتفاع درجة حرارة اطار الدراجة و الفرامل

التفسير : الاحتكاك بين اطار الدراجة و الفرامل ادى الى ارتفاع درجة حرارة كلا منهما

الاستنتاج : تتحول الطاقة الميكانيكية بالاحتكاك الى طاقة حرارية



٢ - تحول الطاقة الحركية للأجسام الى طاقة حرارية :

تجربة (١) : توضيح تحول الطاقة الحركية للأجسام الى طاقة حرارية

الادوات برطمان بلاستيك - ترمومتر - كرات معدنية صغيرة

الخطوات : ١- نضع الكرات المعدنية في البرطمان البلاستيك

٢- ونعين درجة حرارة الكرات بواسطة الترمومتر ثم نغلق البرطمان جيدا

٣- نرج البرطمان عدة مرات بسرعة لمدة دقيقتين ثم نعين درجة حرارة الكرات

الملاحظة : نلاحظ ارتفاع درجة حرارة الكرات المعدنية نتيجة الاحتكاك

الاستنتاج ١- ترتفع درجة الحرارة بسبب حركة الاجسام واحتكاكها ببعضها

٢ - وتناسب درجة الحرارة تناسباً طردياً مع سرعة حركة الاجسام و بالتالي مع طاقة حركتها



درجة الحرارة

الطاقة الحرارية

هي الحالة الحرارية للجسم والتي يتوقف عليها اتجاه انتقال الحرارة منه أو إليه عند ملامسة جسم آخر

هي صورة من صور الطاقة تنتقل من الجسم الأعلى في درجة الحرارة إلى الجسم الأقل في درجة الحرارة عند تلامسهما

الحرارة وانتقالها

تجربة (١) : توضيح كيفية انتقال الحرارة

الخطوات

١- نضع ماء بارد في اناء زجاجي معزول ونعين درجة حرارته بالترمومتر

٢- نقوم بتسخين كرات معدنية بواسطة الغلاية ونعين درجة حرارتها

٣- نترك الكرات المعدنية الساخنة لتسقط في الماء البارد

٤- نعين درجة حرارة الخليط (الماء البارد و الكرات المعدنية)

الملاحظة

نلاحظ ان درجة حرارة خليط الماء والكرات المعدنية

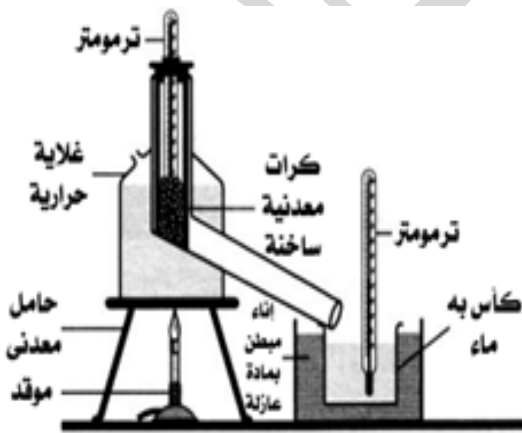
اقل من درجة حرارة الكرات الساخنة و اعلى من درجة حرارة الماء الباردة

الاستنتاج :

١- تنتقل الحرارة من الجسم الأعلى في درجة الحرارة إلى

الجسم الأقل في درجة الحرارة عند تلامسهما

٢-و يستمر انتقال الحرارة بينهما حتى يتساوى الجسمان في درجة الحرارة



ملحوظة : لا تنتقل الحرارة بين جسمين متساويين في درجة الحرارة

انتقال الحرارة بالتوصيل	انتقال الحرارة بالإشعاع	انتقال الحرارة بالحمل
هي انتقال الحرارة خلال بعض الأجسام الصلبة من طرف الى آخر مثال انتقال الحرارة من طرف ملعقة ساخنة للطرف الأخر	هي انتقال الحرارة من جسم درجة حرارته مرتفعة إلى الوسط المحيط ولا تحتاج لوسط مادي تنتقل خلاله مثال انتقال الحرارة من الشمس الى الارض	هي انتقال الحرارة خلال الاوساط الغازية و السائلة حيث تقل كثافة الجزيئات الساخنة فترتفع إلى اعلي وتزداد كثافة الجزيئات الباردة فتبهبط إلى أسفل مثال غليان الماء و انتقال حرارة المدفأة



٢- انتقال حرارة المدفأة بالحمل و الإشعاع

١- انتقال حرارة الشمس الى الارض بالإشعاع فقط

ملحوظة: ١- انتقال حرارة الشمس الى الارض بالإشعاع فقط

(علل) : يوضع الفريزر على أعلى الثلاجة؟
لأن الهواء الملامس للفريزر يبرد فتزداد كثافته فيبهبط إلى أسفل فيحل محلة هواء اخر وهكذا حتى يبرد هواء الثلاجة
(علل) توضع المدفأة على ارضية الحجر؟ لأن الهواء الملامس للمدفأة عندما يسخن تقل كثافته فيرتفع إلى اعلي ليحل محلة هواء بارد اكبر كثافة وهكذا يستمر صعود و هبوط الهواء حتى يتم تدفئة هواء الحجر
(علل) يوجد في دور العرض شبابيك علوية وسفلية؟ لتكوين تيارات هوائية داخل المكان

التكنولوجيا و الطاقة الحرارية في حياتنا

من أمثلة التطبيقات التي تنتج طاقة حرارية

هناك تطبيقات تكنولوجية عديدة تنتج طاقة حرارية وتختلف عن بعضها من حيث

١- مصدر الطاقة ٢- و نوع مصدر الطاقة (دائم - متجدد - غير متجدد) ٣- وتأثيرها على البيئة (ملوث او غير ملوث)

أمثلة لهذه التطبيقات :

تأثيرها على البيئة	نوع مصدر الطاقة	مصدر طاقتها	تطبيقات تكنولوجية
غير ملوث للبيئة	دائم	الشمس	السخان الشمسي
غير ملوث للبيئة	متجددة	الكهرباء	السخان الكهربائي المدفأة الكهربائية
ملوث للبيئة	غير متجدد	الغاز الطبيعي	أفران الغاز
		مشتقات البترول	الموقد البترولي
		الفحم	مدفأة الفحم

علل: يفضل استخدام السخان الشمسي عن السخان الكهربائي أو سخان الغاز لأنه غير ملوث للبيئة ومصدر طاقته (الشمس) دائم.

علل: تفضل المحطات النووية لتوليد الكهرباء عن المحطات البترولية لأنها اقل تلويثا للبيئة وتعتمد على مورد متجدد للطاقة.

الوحدة الثالثة التنوع والتكيف في الكائنات الحية

الدرس الأول تنوع الكائنات الحية ومبادئ تصنيفها





تختلف الحيوانات عن بعضها من حيث : - الحجم و بيئة المعيشة

التنوع في عالم الحيوان

حيوانات صغيرة الحجم	حيوانات كبيرة الحجم
مثل (الأرنب - الفأر) 	مثل (الفيل - وحيد القرن "الخرتيت") 
حيوانات تعيش على اليابس	حيوانات تعيش في الماء
مثل (الكلب - الأسد - الحصان) 	مثل (الأسماك - التماسيح - سباع البحر) 

تختلف النباتات عن بعضها من حيث : - حجم الاشجار وحجم أوراق الاشجار

التنوع في عالم النبات

أعشاب قصيرة	أشجار ضخمة
مثل (البرسيم - الجرجير) 	مثل (النخيل - الكافور) 
نباتات أوراقها صغيرة	نباتات أوراقها كبيرة
مثل (الملوخية) 	مثل (الموز) 

تنوع الكائنات الحية الدقيقة

الكائنات الحية الدقيقة :

هي كائنات دقيقة لا ترى بالعين المجردة ولكنها ترى بالميكروسكوب وتنتشر في الماء والهواء والتربة من أمثاتها الأميبا والبوجلينا والبراميسيوم

تتنوع الكائنات الحية الدقيقة في الشكل وطريقة الحركة

تجربة توضح تنوع الكائنات الحية الدقيقة

الخطوات ١- نضع قطرة من ماء بركة تحت العدسة الشيئية للمجهر

٢- ثم نضع عليها قطرة من محلول أزرق ميثيلين

الملاحظة نلاحظ العديد من الكائنات الدقيقة (وحيدة الخلية) مثل الاميبيا والبراميسيوم

و البوجلينا. تختلف عن بعضها من حيث الشكل وطريقة الحركة

الاستنتاج تختلف الكائنات الدقيقة عن بعضها من حيث الشكل وطريقة الحركة



علم تصنيف الكائنات الحية :





" هو أحد فروع علم الأحياء الذي يبحث في أوجه الشبه والاختلاف بين الكائنات الحية ووضع المتشابه منها في مجموعات حسب نظام معين لسهولة دراستها "

علل يقوم العلماء بتصنيف الكائنات الحية ؟ بسبب تنوعها الهائل و لسهولة دراستها

أولا : تصنيف النباتات حسب الشكل الظاهري

نباتات نالوسبة	نباتات عادية
نباتات لا يمكن تمييزها إلى جذور وسيقان وأوراق	نباتات تتميز إلى جذور وسيقان وأوراق
مثل الطحالب (الخضراء - الحمراء - البنية)	مثل (القمح - الذرة - النخيل - الكافور)
	

ثانيا : تصنيف النباتات حسب طريقة التكاثر

نباتات تتكاثر بالبذور		نباتات تتكاثر بالجراثيم (السراخس)
مغطاة البذور (النباتات الزهرية)	معراة البذور	السراخس نباتات أرضية تتكاثر بتكوين الجراثيم
نباتات زهرية تحاط بذورها بأغلفة ثمرية	نباتات تتكون بذورها داخل مخاريط	
ذات فلعين	ذات فلع	مثل (الفوجير - كزبرة البئر)
مثل (الفول - البسلة)	مثل (الذرة - القمح)	
		

السراخس هي نباتات أرضية صغيرة تتكاثر بتكوين الجراثيم مثل الفوجير و كزبرة البئر
على سميت معراة البذور بهذا الاسم ؟ لان بذور هذه النباتات توجد داخل مخاريط و ليس داخل غلاف ثمرى
على سميت مغطاة البذور بهذا الاسم ؟ لان بذور هذه النباتات توجد داخل غلاف ثمرى




ثالثا : تصنيف الحيوانات تبعا لطبيعة تدعيم الجسم

الجسم مدعم		الجسم الرخو (الرخويات)
ذات دعامة داخلية	ذات دعامة خارجية	حيوانات لا تحتوى أجسامها على دعامة
مثل الفقاريات (الأسماك-الزواحف-الطيور-الثدييات)	مثل (الحار-القواقع)	مثل (قنديل البحر-الإخطبوط-الديدان)
		

ملحوظة : السحفاة ذات دعامة داخلية و خارجية

رابعا : تصنيف المفصليات حسب عدد الأرجل

المفصليات : " حيوانات لا فقارية لها أرجل مفصلية و تصنف حسب عدد الأرجل المفصلية الى :-

عديدة الأرجل	العنكبوتيات	الحشرات
	لها أربعة أزواج من الأرجل المفصلية	لها ثلاثة أزواج من الأرجل المفصلية
مثل (أم ٤٤-ذات الأف قدم)	مثل (العنكبوت-العقرب)	مثل (الجراد-النحل-الذباب-الصرصور)
		






علل لايعتبر العقرب من الحشرات ؟

لان العقرب لة ٤ أزواج من الأرجل المفصلية اما الحشرات لها ٣ أزواج من الأرجل المفصلية

علل لا يعتبر الجراد من العنكبوتيات ؟

لان الجراد لة ٣ أزواج من الأرجل المفصلية اما العنكبوتيات لها ٤ أزواج من الأرجل المفصلية

خامسا : تصنيف الثدييات حسب نوع و عدد الاسنان

كما أسنان				عدد أسنان
حيوانات لها قواطع حادة		حيوانات لها أنياب مدببة وضروس بها تنوعات حادة	حيوانات تمتد أسنانها للخارج	مثل (المدرع-الكسلان)
الأرنبات	القوارض	مثل (الأسد - النمر)	مثل (القنفذ)	
حيوانات تمتلك زوجين من القواطع بالفك العلوي وزوجا واحدا بالفك السفلي	حيوانات تمتلك زوجا من القواطع في كل فك			
مثل (الأرنب)	مثل (السنجاب - الفأر)			

على القنفذ له اسنان امامية ممتدة للخارج؟ حتى تستطيع التقاط على الحشرات
على الاسد و النمر له انياب مدببة وضروس حادة حتى يستطيع تقطيع و تمزيق لحم الفريسة

وحدة تصنيف الكائنات الحية

اتخذ العالم لينوس من النوع وحدة التصنيف الاساسية للكائنات الحية مثل نوع القطط أو الكلاب أو الأرانب

النوع

"هو مجموعة من الكائنات الحية الأكثر تشابها في صفاتها الظاهرية والتي يمكنها أن تتزاوج فيما بينها وتنتج أفرادا جديدة خصبة قادرة على التكاثر وحفظ النوع"

- 1- علل يمكن حدوث تزاوج بين أفراد النوع الواحد؟ لأنها تنتج أفراد خصبة قادرة على التكاثر وحفظ النوع
- 2- لا يمكن حدوث تزاوج بين أفراد أنواع مختلفة؟ لأنها تنتج أفراد عقيمة غير قادرة على التكاثر وحفظ النوع مثل تزاوج ذكر حمار واثني الحصان ينتج اثني عقيمة تسمى البغل
تزاوج ذكر حمار وحشي واثني حمار برى تنتج اثني عقيمة تسمى ذنكي
ماذا يحدث عند تزاوج رجل أفريقي بامرأة آسيوية؟ تنتج أفراد خصبة لانهما نوع واحد

الوحدة الثالثة

التكيف والتنوع الكائنات الحية

ما هو سبب تنوع الكائنات الحية؟ تعدد البيئات التي تعيش فيها حتى تتكيف مع التغيرات البيئية مثل :
1 - تغير المناخ 2 - تنوع الغذاء 3 - مدى وفرة الماء

أمثلة توضح التكيف مع بيئة المعيشة:

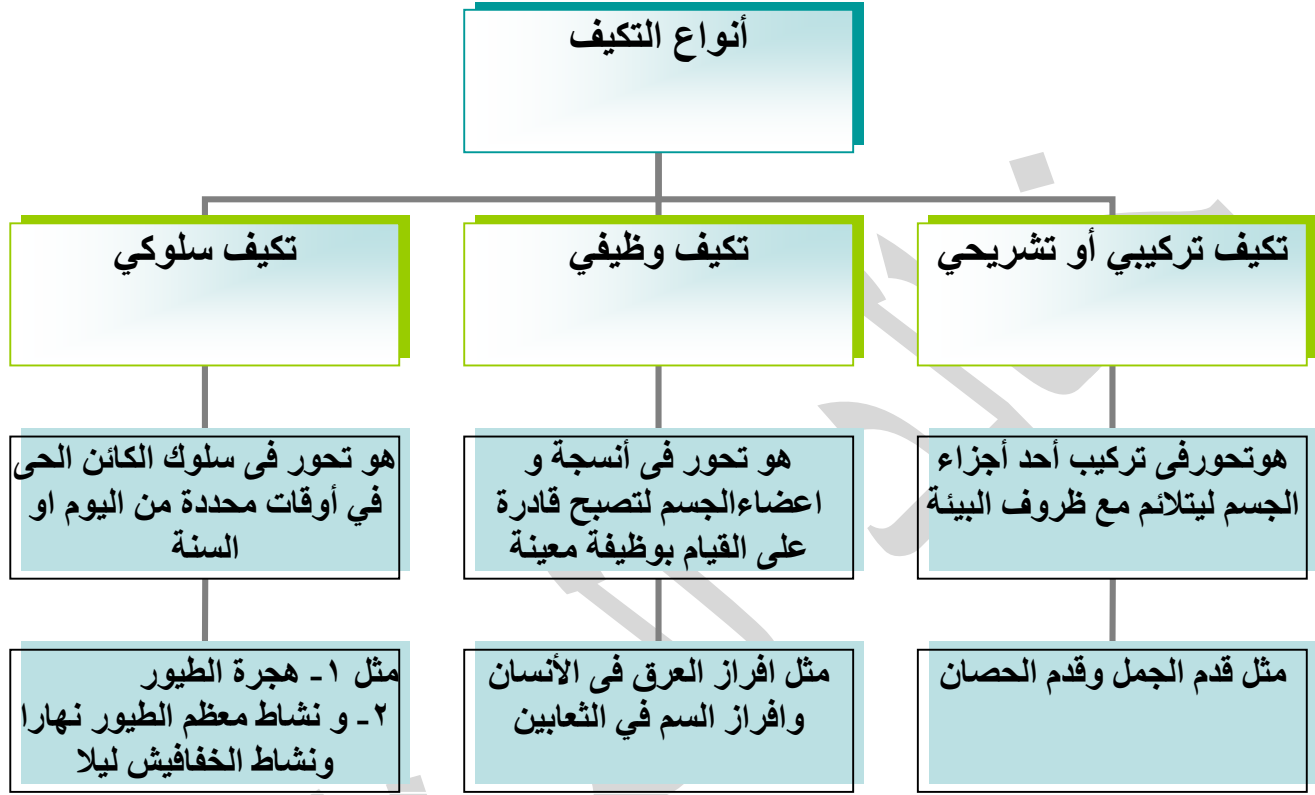
- 1- تنتهي قدم الجمل بخف سميك و مفلطح (علل) حتى لا تغوص في الرمال و تحمية من حرارة الرمال الساخنة
- 2 - تنتهي قدم الحصان بحافر قوي (علل) حتى يستطيع الجري على التربة الصخرية

أ / خالد

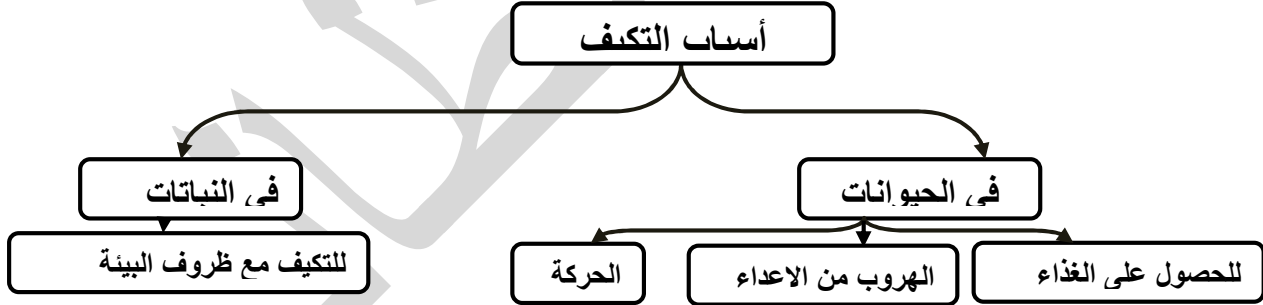
التكيف

هو تحول أو تغير في سلوك الكائن الحي أو تركيب جسمه أو الوظائف الحيوية لأعضائه لكي يصبح أكثر تلاؤماً مع ظروف البيئة التي يعيش فيها مثال قدم الجمل و قدم الحصان

أنواع التكيف




أسباب التكيف



تتحور عظام الأطراف الامامية في الثدييات لتلائم طريقة الحركة و ظروف المعيشة والبيئة التي تعيش فيها

علل لما يأتى :


١- تحورت الاطراف الامامية في الخفاش الى اجنحة ؟	لتساعدها على الطيران
٢- تحورت الاطراف الامامية في الحيتان والدلافين و كلب البحر الى مجاذيف ؟	لتساعدها على العوم في الماء
٣- تحورت الاطراف الامامية في القردة الى أذرع طويلة ؟	لتساعدها على تسلق الاشجار
٤- أرجل الحصان تنتهى بحافر قوى ؟	لتساعده على الجري على التربة الصخرية



سمك



حصان



قرد



خفاش

التكيف وطبيعة الغذاء

تحورت ارجل ومناقير الطيور لتتكيف مع نوع الغذاء الذي تتغذى عليه و ظروف البيئة التي تعيش فيها و طريقة الحركة

الطيور	نوع الغذاء	تحورات المناقير	تحورات الارجل
الطيور الجارحة مثل الصقور و النسور	تتغذى على اللحوم	لها مناقير حادة ومعقوفة حلال لتمزيق لحم الفريسة	ولها اربع اصابع تنتهي بمخالب حادة ثلاثة أمامية و الرابع خلفي قابل للانثناء حلال لتحكم القبض على فريستها
الهدد و ابو قردان	تتغذى على الديدان و القواقع	لها مناقير طويلة ورفيعة حلال لتساعدها على التقاط الديدان والقواقع من التربة	لها أرجل طويلة ورفيعة و تنتهي بأصابع دقيقة حلال حتى تستطيع المشي في وجود الماء
البط والأوز	تتغذى على الطحالب والأسماك	لها مناقير عريضة و مسننة من الأجناب حلال لتساعدها على ترشيح الطعام من الماء	- ولها أرجل مكففة حلال لتساعدها على العوم و السباحة في الماء



التكيف في النباتات المفترسة أكلة الحشرات

النباتات المفترسة اكلة الحشرات :

- 1- هي نباتات خضراء ذاتية التغذية تستطيع القيام بعملية البناء الضوئي وصنع المواد الكربوهيدراتية
- 2- لكنها لا تستطيع امتصاص المواد النيتروجينية من التربة اللازمة لصنع المواد البروتينية
- 3- لذلك تحورت اجزاء من اوراقها لأقتناص الحشرات و هضمها وامتصاص المواد البروتينية منها **ومن أمثلتها** الدايونيا والدروسيرا وحامول الماء



حامول الماء



الدروسيرا



الدايونيا

الوحدة الثالثة التنوع والتكيف في الكائنات الحية

الدرس الثالث التكيف واستمرار الحياة

الكائنات التي عاشت قديما ولم تستطيع ان تتكيف مع ظروف البيئة ماتت و انقرضت مثل الديناصورات والماموث والكائنات التي تكيفت مع ظروف البيئة استمرت في الحياة



من صور التكيف في الكائنات الحية ١- البيات الشتوي ٢- والخمول الصيفي ٣- وهجرة الطيور (وجميعها أمثلة للتكيف السلوكي) ٤- تكيف النباتات المائية و الصحراوية ٥- التكيف بغرض التخفي (المماتنة)

٢- الخمول الصيفي	١- البيات الشتوي	وجه المقارنة
عندما ترتفع درجة الحرارة في فصل الصيف خاصة في المناطق الصحراوية	عندما تنخفض درجة الحرارة في فصل الشتاء	وقت الحدوث
تختبئ بعض الكائنات في جحور رطبة او تلجأ الى السكون مثال اليربوع والقواقع الصحراوي وبعض الحشرات	١- تختبئ بعض الحيوانات في الجحور مثال الزواحف و الحشرات ٢- أو تدفن نفسها في الطين وتتوقف عن التغذية ويقل نشاطها مثال الضفادع	كيف يحدث
التغلب على ارتفاع درجة الحرارة وقلة الماء	التغلب على انخفاض درجة الحرارة	الهدف منه



٣ - هجرة الطيور :



تلجأ بعض الطيور الى الهجرة من المناطق القطبية الباردة خلال فصل الشتاء إلى مناطق أكثر دفئا وحرارة لإتمام عملية التكاثر ثم تعود إلى موطنها الأصلي مع تحسن ظروف المناخ في الربيع مثل طائر السمان

٤ - التكيف بغرض التخفي ويعرف هذا

النوع من التكيف باسم المماتنة

المماتنة: " هي قدرة بعض الكائنات الحية على محاكاة الظروف البيئية السائدة بغرض التخفي من الأعداء أو لإقتناص الفرائس في الأنواع المفترسة " .

- أمثلة ١ - الحشرة الورقية تشبه أوراق النباتات من حيث اللون وشكل الجناحين للتخفي من أعدائها (تكيف تركيبى)
 ٢ - حشرة العود تشبه أغصان النباتات الجافة التى تقف عليها للتخفي من أعدائها (تكيف تركيبى)
 ٣ - الحرباء: تتلون بألوان البيئة السائدة بغرض التخفي عن فرائسها من الحشرات التي تتغذى عليها (تكيف وظيفى)



٥- التكيف في النباتات المائية والنباتات الصحراوية

أولا : النباتات المائية اما ان تعيش مغمورة كليا في الماء (مثل نبات الأيلوديا)

أو تعيش مغمورة جزئيا في الماء (مثل ياسنت الماء المعروف بأسم ورد النيل)

ظروف البيئة المائية :

١- نقص الأكسجين الذائب في الماء ٢- قلة الضوء ٣ - وجود التيارات المائية

التكيف في النباتات المائية المغمورة مثل : نبات الأيلوديا



نبات الإيلوديا

اجزاء النبات	مظاهر التكيف و السبب
الجزور :	ضعيفة (علل) لعدم حاجة النبات اليها فى تثبيت النبات فى التربة او امتصاص الماء لان النبات يمتص الماء و الاملاح عن طريق جسم النبات كله
الأوراق :	١- شريطية و رفيعة و صغيرة الحجم (علل) حتى لا تتمزق بفعل التيارات المائية ٢- أوراق نبات الإيلوديا جالسة أى ليس لها اعناق(علل) حتى يكون إتصالها بالساق أقوى
الساق :	١- مرنة (علل) حتى لا تنكسر بفعل التيارات المائية ٢- ساق نبات الإيلوديا به غرف هوائية(علل) ؟ لتخزين جزء من الأكسجين الناتج من عملية البناء الضوئي وإستخدامه فى التنفس ويجعل النبات عالقا يطفو بالقرب من سطح الماء .

النباتات الصحراوية

مثل ١- قصب الرمال ٢- الصبار ٣- التين الشوكي
ظروف البيئة الصحراوية : ١- شدة الحرارة ٢- شدة الرياح ٣- وقلة الماء

مظاهر التكيف في النباتات الصحراوية

مظاهر التكيف و السبب	مثال	اجزاء النبات
رأسية عميقة في التربة لمسافات كبيرة (علل) حتى تصل إلى طبقات التربة الرطبة أفقية متشعبة بالقرب من سطح التربة (علل) لإمتصاص قطرات الندى ومياة الأمطار صغيرة وملتفة حول نفسها والشغور غائرة و قليلة العدد (علل) لتقليل الماء المفقود في عملية النتح	في نبات قصب الرمال في نبات الصبار و التين الشوكي	الجزء : - الجذور
أوراق عسيرية (علل) لتخزين الماء	في نبات قصب الرمال	الأوراق : -
متحورة الى اشواك مثل التين الشوكي (علل) لتقليل الماء المفقود في عملية النتح	في نبات الصبار	
مغطاة بطبقة شمعية (علل) لمنع الماء المفقود في عملية النتح	في بعض النباتات الصحراوية	
قصيرة و متينة (علل) حتى لا تنكسر بفعل الرياح	في نبات قصب الرمال و الصبار	الساق : -
و قد تكون غنية بالبلاستيدات الخضراء (علل) للقيام بعملية البناء الضوئي	في التين الشوكي	



التين الشوكي



الصبار



قصب الرمال

