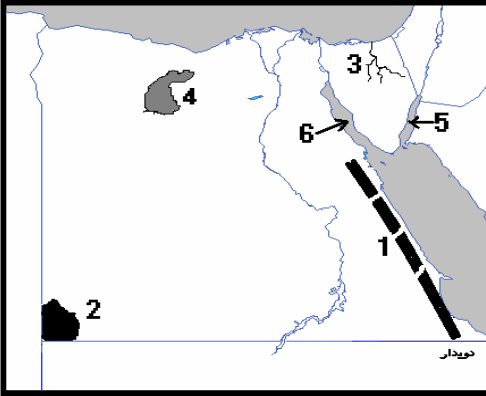


الوحدة الأولى (البيئة الصحراوية) الدرس الأول (ص ٣ / ٤)

السؤال الأول : أكتب ما تدل عليه الأرقام المبينة على الخريطة ؟



١. سلاسل جبال البحر الأحمر .
٢. جبل العوينات .
٣. وادي العريش .
٤. منخفض القطارة .
٥. خليج العقبة .
٦. خليج السويس .

السؤال الثاني : ضع علامة (√) أمام العبارة الصحيحة وعلامة (X) أمام العبارة غير الصحيحة (ص ٣ - ٤)

رقم	العبارة	الإجابة
١	تقع الصحراء الشرقية ما بين البحر المتوسط شمالا وخليجي العقبة والسويس جنوبا	x
٢	يعتمد سكان الواحات على المياه الجوفية في الزراعة .	√
٣	من أشهر جبال شبه جزيرة سيناء جبل سانت كاترين وجبل الشايب وجبل علبة	x
٤	تتميز الصحراء الغربية بوجود المنخفضات والأشكال الرملية التي لا توجد في الصحراء الشرقية وشبه جزيرة سيناء .	√
٥	يوجد وادي قنا في الصحراء الشرقية بينما يوجد وادي العريش في الصحراء الغربية .	x

السؤال الثالث : أكمل ما يلي بكلمات مناسبة :- (ص ٤)

١. يهتم البدو بتربية الأغنام والماعز من أجل لحومها و أصوافها و ألبانها .
٢. تهب الرياح الحارة المحملة بالأتربة على الوادي والدلتا في فصل الربيع وتعرف باسم الخماسين
٣. التربة في البيئة الصحراوية قليلة الجودة بسبب ندرة الماء
٤. من أكبر محافظات الصحراء الشرقية مساحة محافظة البحر الأحمر بينما محافظة الوادي الجديد من أكبر محافظات الصحراء الغربية مساحة .
٥. تنمو في البيئة الصحراوية بعض النباتات الطبيعية منها الصبار و الحرجل .

السؤال الرابع : ما النتائج المترتبة على ؟ (ص ٤)

١. ما النتائج : قلة الأمطار في البيئة الصحراوية .
قلة جودة التربة - قلة النبات الطبيعي - قلة السكان - ندرة الحيوان .
٢. ما النتائج : وجود الآبار والعيون المائية داخل الواحات بالمنخفضات .
قيام الزراعة وتربية الحيوان - استقرار بعض السكان
٣. ما النتائج : انتشار التربة الرملية الصفراء في البيئة الصحراوية
عدم قيام حرفة الزراعة - ندرة السكان - ندرة النبات الطبيعي - ندرة الحيوان

السؤال الخامس : قارن بين الصحراء الشرقية والصحراء الغربية من حيث (ص ٤)

(الموقع والامتداد - المساحة - مظاهر السطح)

وجه المقارنة	الصحراء الشرقية	الصحراء الغربية
الموقع والامتداد	تمتد ما بين البحر تمتد ما بين الأحمر شرقاً حتى وادي النيل غرباً وتتمتد من الدلتا شمالاً حتى الحدود مع السودان جنوباً.	تمتد شرقاً من وادي النيل غرباً حتى حدود ليبيا. وتتمتد من ساحل البحر المتوسط في الشمال حتى حدودنا مع السودان في الجنوب.
المساحة	٢٢ % من مساحة مصر	٦٨ % من مساحة مصر
مظاهر السطح	تتنوع حيث نجد : سلاسل جبال البحر الأحمر . الهضاب مثل الجلالة الشمالية والجنوبية . الأودية الجافة مثل وادي قنا ووادي العلاقي	تتنوع مظاهر السطح حيث نجد : جبل العوينات الهضاب مثل الجلف الكبير ومارماريكا . الواحات مثل الخارجة والداخلية وسيوة والغرافرة والبحرية . المنخفضات مثل القطارة التكوينات الرملية .

حل تدريبات الدرس الثاني (سكان البيئة الصحراوية) (ص ٧)

السؤال الأول : أكمل ما يلي بكلمات مناسبة :- (ص ٧)

١. يتركز سكان البيئة الصحراوية في الواحات ومناطق التعدين واستخراج البترول وحيث يتوافر المياه والأعشاب
٢. من الخصائص الاقتصادية لسكان البيئة الصحراوية انخفاض مستوى المعيشة و الهجرة إلى البيئات الأخرى
٣. يهاجر بعض سكان البيئة الصحراوية إلى البيئات الأخرى بسبب قلة الموارد و انخفاض مستوى المعيشة
٤. يتميز سكان البيئة الصحراوية بمهارة اقتفاء الأثر و الفلك

السؤال الثاني : بم تفسر (ص ٧)

١. بم تفسر : قلة عدد سكان البيئة الصحراوية رغم اتساع مساحتها .
بسبب عدم خصوبة التربة - ونُدرة المياه والأمطار و قلة الموارد - وصعوبة التنقل
٢. بم تفسر : انخفاض نسبة الأمية في البيئة الصحراوية مؤخراً .
بسبب إنشاء الدولة المدارس وكلليات التربية والمعاهد ووجود أطباء ومهندسون يخدمون المجتمع .
٣. بم تفسر : تركيز سكان البيئة الصحراوية في الواحات .
بسبب خصوبة التربة ووجود المياه الجوفية اللازمة للزراعة

٤. بم تفسر : ارتفاع نسبة الوفيات بين الأطفال في البيئة الصحراوية . (بسبب استخدام الوسائل البدائية في العلاج .

٥. بم تفسر : اعتماد البيئة الصحراوية على البيئات الأخرى . بسبب قلة الموارد وانخفاض مستوى المعيشة . وتوفير احتياجاتهم من خلال التبادل التجاري .

السؤال الثالث : ضع علامة (√) أمام العبارة الصحيحة وعلامة (X) أمام العبارة غير الصحيحة
(ص ٧)

رقم	العبارة	الإجابة	التصويب
١	يعيش سكان البيئة الصحراوية في محافظات الحدود	√	
٢	يعيش بعض سكان البيئة الصحراوية في بطون الأودية لاستخراج البترول .	x	الرعي والزراعة
٣	يتميز سكان البيئة الصحراوية بإكرام الضيف	√	
٤	يعني سكان البيئة الصحراوية من قلة الموارد .	√	

السؤال الخامس : برهن على صحة العبارة (تهتم الدولة بنشر التعليم بين أبناء البيئة الصحراوية)

أنشأت الدولة المدارس وكلليات التربية والمعاهد ووجود أطباء ومهندسون يخدمون المجتمع .

حل تدريبات الدرس الثالث (الأنشطة الاقتصادية في البيئة الصحراوية) (ص ١٠)
السؤال الأول : أكمل العبارات التالية مما بين القوسين ؟ (ص ١٠)

١. تبلغ مساحة البيئة الصحراوية نحو % من مساحة مصر (٩٣ - ٩٦ - ٩٥ - ٩٩,٥)
٢. من جبال شبه جزيرة سيناء جبل (الشايب - موسى - علبة - العوينات) .
٣. من هضاب الصحراء الغربية هضبة (الجلف الكبير - المعازة - التيه - العباددة)
٤. تعرف الرياح التي تهب على مصر محملة بالأتربة في شهري مارس وإبريل برياح (السيروكو - السموم - الهبوب - الخماسين) .
٥. من أشهر القبائل التي تعمل بحرفة الرعي في الصحراء الغربية قبيلة أولاد (عامر - علي - عابد - الشهري) .

السؤال الثاني : بم تفسر (ص ١٠)

١. نمو النباتات الطبيعية في البيئة الصحراوية .
بسبب تكيفه مع البيئة الصحراوية عن طريق مد جذوره في التربة للحصول على المياه الجوفية ومقاومة الحرارة والجفاف بالأوراق الإبرية والأسفنجية .
٢. تنوع الأنشطة الاقتصادية في البيئة الصحراوية .
بسبب قيام الزراعة في الواحات وتواجد مناطق التعدين واستخراج البترول وأماكن الرعي .

٣. إقامة مشروع الكثبان الرملية جنوب واحة سيوه .
لتثبيت الرمال ومراقبة حركتها على الطرق والاستفادة منها زراعيًا .
٤. حفر الآبار العميقة في مناطق استصلاح الأراضي .
للحصول على المياه اللازمة للزراعة واستصلاح الأراضي .

السؤال الثالث : صوب ما تحته خط :- (ص ١٠)

م	العبارات	تصويب الخطأ
١	حرفة الزراعة هي الحرفة الرئيسية لسكان البيئة الصحراوية .	الرعي
٢	يتركز السكان في منطقة أبو طرطور حيث تعدين الحديد .	الواحات البحرية
٣	يستخرج الذهب من مناجم أم بجمة بالصحراء الشرقية .	السكري
٤	تجذب الحيوانات البرية النادرة مثل الغزلان السياح لزيارة الصحاري	الكبش الجبلي
٥	من المناظر الطبيعية الخلابة التي تجذب السياح الصحراء البيضاء بواحة الداخلة	الفراغة

حل تدريبات الدرس الرابع (تنمية البيئة الصحراوية) (ص ١٢ / ١٣)

السؤال الأول : بم تفسر (ص ١٢)

١. بم تفسر الاهتمام بالمشروعات السياحية في البيئة الصحراوية .
لتوفير فرص العمل - و استغلال الموارد السياحية مثل المزارات الدينية، وأيضًا لسياحة السفاري، والسياحة البيئية
٢. بم تفسر : إقامة سد الروافعة على وادي العريش .
لحجز وتخزين مياه الأمطار للاستفادة منها في مجال الزراعة
٣. بم تفسر : استزراع الكثبان الرملية في بعض مناطق البيئة الصحراوية .
لتثبيت الرمال ومراقبة حركتها على الطرق والاستفادة منها زراعيًا .
٤. بم تفسر : إنشاء شبكة من الطرق في البيئة الصحراوية .
لتسهيل حركة التجارة ونقل الركاب لربط الصحراء بالوادي والدلتا .
٥. بم تفسر : تعرض بعض المناطق الزراعية في البيئة الصحراوية للتصحّر .
بسبب حركة وزحف الرمال على المناطق الزراعية والجفاف الشديد وتملح التربة

السؤال الثاني : (تعاني البيئة الصحراوية من عدة مشكلات) . على ضوء هذه العبارة

١- حدد مشكلات البيئة الصحراوية ؟ (ص ١٢)

* قلة المياه . * حركة الرمال . * لسيول . * تملح التربة .

٢- جهود الدولة لحل هذه المشكلات ؟

- الاهتمام بمشاريع استصلاح الأراضي في البيئة الصحراوية .
- إنشاء شبكة من الطرق لتسهيل حركة التجارة ونقل الركاب وربط الصحراء بالوادي والدلتا .
- تشجيع سياحة السفاري .
- الاهتمام بالمحميات الطبيعية
- إنشاء سدود على الأودية التي تتعرض للسيول لحجز وتخزين المياه للاستفادة منها من سد الروافعة على وادي العريش
- إقامة مشروع استزراع الكثبان الرملية جنوب واحة سيوة لتثبيت الرمال ومراقبة حركتها .

السؤال الثالث: ضع علامة (✓) أمام العبارة الصحيحة وعلامة (X) أمام العبارة غير الصحيحة مع لتصويب (ص ١٣)

م	العبارة	الإجابة	التصويب
١	يؤدي تملح التربة إلى انخفاض إنتاجها .	✓	
٢	أقيم مشروع استزراع الكثبان الرملية جنوب واحة الفرافرة لتثبيت الرمال	x	واحة سيوة
٣	يعد حفر الآبار العميقة من المشاريع الهامة لاستصلاح الأراضي كما في الصحراء الشرقية .	x	الصحراء الغربية
٤	تؤدي السيول إلى تدمير الحقول الزراعية والمباني .	✓	

السؤال الرابع : ما النتائج المترتبة على ؟ (ص ١٣)

١. تحرك الرمال في البيئة الصحراوية . الأجابة تدمير الطرق، - إتلاف المحاصيل - تعطيل حركة النقل
٢. ندرة الأمطار في البيئة الصحراوية . الإجابة قلة النبات الطبيعي، وقلة السكان وندرة الحيوان.
٣. زيادة استهلاك المياه في البيئة الصحراوية
انخفاض منسوب المياه الجوفية و تملح التربة وقلة الإنتاج الزراعي

تدريبات عامة على الوحدة الأولى (البيئة الصحراوية) (ص ١٤)

السؤال الأول : تخير الإجابة الصحيحة مما بين القوسين ؟ (ص ١٤)

١. تبلغ مساحة البيئة الصحراوية نحو % من جملة مساحة مصر .
(٩٣ - ٩٦ - ٩٥ - ٩٩) .
٢. من جبال شبه جزيرة سيناء جبل . (الشايب - علبة - موسى - العوينات)
٣. من هضاب الصحراء الغربية . (الجلف الكبير - الجلالة البحرية - التيه - العباددة) .
٤. تهب على مصر رياح محملة بالأتربة خاصة في شهري مارس وأبريل تعرف برياح (السيروكو - السموم - الهبوب - الخماسين)
٥. من أشهر القبائل التي تعمل بحرفة الرعي في الصحراء الغربية قبيلة أولاد (عامر - علي - عابد - الشهري) .
٦. تنتشر الجبال القبانية قليلة الارتفاع على السهول الساحلية في شمال سيناء منها جبل (سانت كاترين - الحلال - موسى - حماطة)
٧. تنتشر ظاهرة في الصحراء الشرقية .
(الكثبان الرملية - المنخفضات - الأودية الجافة - الواحات) .

السؤال الثاني : بم تفسر (ص ١٤)

١. بم تفسر : نمو النباتات الطبيعية في البيئة الصحراوية .
بسبب تكيفه مع البيئة الصحراوية عن طريق مد جذوره في التربة للحصول على المياه الجوفية ومقاومة الحرارة والجفاف بالأوراق الإبرية والأسفنجية .

٢. بم تفسر : تنوع الأنشطة الاقتصادية في البيئة الصحراوية .
بسبب قيام الزراعة في الواحات وتواجد مناطق التعدين واستخراج البترول وأماكن الرعي.
٣. بم تفسر إقامة مشروع استزراع الكثبان الرملية جنوب واحة سيوة .
تثبيت الرمال ومراقبة حركتها على الطرق والاستفادة منها زراعيًا
٤. بم تفسر : حفر الآبار العميقة في مناطق استصلاح الأراضي .
للحصول على المياه اللازمة للزراعة واستصلاح الأراضي .
٥. بم تفسر : انتشار صناعة التمور والسجاد اليدوي في البيئة الصحراوية .
صناعة التمور بسبب كثرة أشجار النخيل والسجاد اليدوي بسبب توفر صوف الغنم ووبر الإبل والأيدي العاملة.
٦. بم تفسر : عمل بعض سكان البيئة الصحراوية بحرفة التعدين .
لوجود المعادن المختلفة من مثل الحديد والفوسفات والمنجنيز والفحم والرصاص والقصدير
٧. بم تفسر : يعمل بعض سكان البيئة الصحراوية بالأنشطة السياحي
بسبب توافر المزارات الدينية، وأيضًا لسياحة السفاري، والسياحة البيئية.

السؤال الثالث : قارن بين : (ص ١٥)

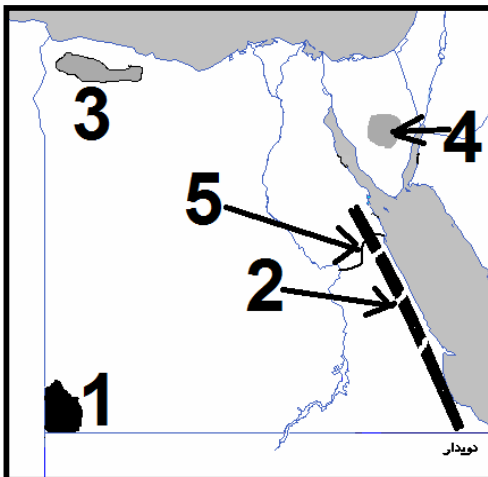
(أ) العادات الإيجابية والعادات السلبية لسكان البيئة الصحراوية.

العادات الإيجابية	العادات السلبية
١ - الحفاظ على التقاليد والتراث. ٢ - احترام المجالس العرفية برئاسة شيخ القبيلة. ٣ - تكوين علاقات طيبة مع سكان البينات الأخرى. ٤ - إكرام الضيف	١. الزواج المبكر. ٢. اشتغال الأطفال بحرفة الرعي. ٣. العلاج بالوسائل البدائية مما يزيد من الوفيات خاصة بين الأطفال.

قارن بين : (ب) الصحراء الغربية والصحراء الشرقية، من حيث الهضاب بكل منهما.

الهضاب في الصحراء الغربية	الهضاب في الصحراء الشرقية
هضبة مارماريكا في الشمال. الهضبة الوسطى. الهضبة الجنوبية	هضبة المعازة. هضبة العبادة. هضبة الجلالة البحرية هضبة الجلالة القبلية

السؤال الرابع أكتب مدلول الأرقام المبينة على الخريطة (ص ١٥)



١. جبل العوينات
٢. سلاسل جبال البحر الأحمر .
٣. هضبة مارماريكا
٤. هضبة العجمة
٥. وادي قنا

السؤال الخامس : ضع علامة (√) أمام العبارة الصحيحة وعلامة (X) أمام العبارة غير الصحيحة مع التصويب
(ص ١٥)

رقم	العبارة	الإجابة	التصويب
١	تبلغ مساحة الصحراء الشرقية ٢٣% من مساحة مصر بينما تبلغ مساحة الصحراء الغربية ٧٦% من جملة مساحتها .	X	الشرقية ٢٢% الغربية ٦٨%
٢	تعرف محافظات البيئة الصحراوية بمحافظات الحدود وعددها خمس محافظات	√	
٣	يتركز السكان حول الواحات بالصحراء الشرقية .	X	الصحراء الغربية
٤	من مشكلات البيئة الصحراوية حركة الرمال .	√	
٥	يقوم سكان الصحاري ببناء أسوار شجرية لمنع تملح التربة	X	لمنع زحف الرمال
٦	أنشأت الدولة وادي الروافعة على وادي فنا لحجز مياه السيول والاستفادة منها	X	على وادي العريش
٧	يعد جبل موسى وسانت كاترين من المزارات الدينية في البيئة الصحراوية	√	

السؤال السادس : أكتب المصطلح الجغرافي الذي تدل عليه العبارات التالية : (ص ١٦)

١. منطقة يقل فيها المطر ويسود فيها الجفاف .
(البيئة الصحراوية)
٢. تدهور التربة الزراعية وانخفاض قدرتها على إنتاج النبات
(التصحر)
٣. التمتع بالبيئة الصحراوية خاصة المحميات .
(السياحة البيئية)
٤. تراكم الأملاح على سطح التربة وداخل مسامها .
(تملح التربة)
٥. مجاري مائية قديمة كانت مملوءة بالمياه ثم جفت .
(الأودية الجافة)

أسئلة إضافية / أعط مفهوما جغرافياً لكل عبارة من العبارات الآتية :

م	العبارة	المفهوم
١	البيئة التي لم يتدخل الإنسان في صنعها .	البيئة الطبيعية
٢	البيئة التي يقل فيها المطر، ويسودها الجفاف، والفقر في النبات، وندرة الحيوان.	البيئة الصحراوية
٣	عدد كبير من سكان البيئة الصحراوية متنقلون بحثاً عن الماء والعشب.	البدو (الرعاة)
٤	صحراء مصرية يحدها غرباً الحدود المصرية مع ليبيا، وأكبر صحارى مصر.	الصحراء الغربية
٥	صحراء مصرية يحدها شرقاً البحر الأحمر .	الصحراء الشرقية
٦	من أكبر محافظات صحراء مصر الغربية.	الوادي الجديد
٧	أكبر محافظات صحراء مصر الشرقية.	البحر الأحمر
٨	شبة جزيرة تضم أجزاء من محافظات بورسعيد والإسماعيلية والسويس.	شبة جزيرة سيناء
٩	أكبر بيئات مصر مساحة وأقلها سكاناً.	البيئة الصحراوية
١٠	جبل يقع في الصحراء الغربية معظمه خارج الحدود المصرية	جبل العوينات
١١	هضبة مصرية يقع بها منخفض الخارجة، ومنخفض الداخلة.	هضبة الجلف الكبير
١٢	أكبر جبال البحر الأحمر ارتفاعاً.	جبل الشايب
١٣	أكبر المنخفضات الصحراوية انخفاضاً، ويقع في الصحراء لغربية.	منخفض القطارة

١٤	أعلى جبال مصر ، ويقع في جنوب سيناء .	جبل سانت كاترين
١٥	رياح تتعرض لها مصر في شهري مارس وإبريل.	رياح الخماسين
١٦	المياه التي نحصل عليها عن طريق الآبار والعيون.	المياه الجوفية
١٧	مناطق داخل البيئة الصحراوية ذات تربة خصبة، وتقوم فيها الزراعة.	الواحات
١٨	المحافظات المصرية التي تقع على الحدود التي تفصل بين مصر وجيرانه	محافظات الحدود
١٩	مناطق تعد من مناطق التركيز السكاني في البيئة الصحراوية.	الواحات / مناطق التعدين
٢٠	أكثر واحات صحراء مصر الغربية سكاناً.	واحة الداخلة
٢١	أقل واحات صحراء مصر الغربية سكاناً.	واحة سيوه
٢٢	حرفة أصيلة لسكان البيئة الصحراوية وتنتشر في شمال الصحراء الغربية وسيناء	حرفة الرعي
٢٣	منظمة تضم مجموعة الدول المنتجة للبترول، وتتحكم في أسعاره .	منظمة أوبك
٢٤	مساحة من الأرض، تضم نباتات طبيعية وحيوانات وطيوراً برية للمحافظة عليها	المحميات الطبيعية
٢٥	تدهور التربة الزراعية ونقص إنتاجيتها .	التصحّر

أسئلة إضافية / ما المقصود بكل من المفاهيم والمصطلحات الآتية ؟

١. بيئة صحراوية : بيئة يقل فيها المطر، ويسود الجفاف والفقر الشديد في النبات، وندرة الحيوان.
٢. بيئة طبيعية : بيئة لم يتدخل الإنسان في صنعها، فهي من صنع الله .
٣. منخفض : أرض منخفضة تحيط بها أراض مرتفعة.
٤. كثبان رملية : كومات رملية تأخذ أشكالاً مختلفة، وتنتشر في المناطق الصحراوية.
٥. نبات طبيعي : نبات ينمو تلقائياً، دون تدخل الإنسان.
٦. بئر : ما يقوم الإنسان بحفرة إلى أعماق بعيدة في باطن الأرض للحصول على المياه الجوفية.
٧. عين : مياه قريبة من سطح الأرض تتدفق تلقائياً.
٨. محافظات الحدود : المحافظات التي تقع على الحدود السياسية المشتركة بين مصر و جيرانه
٩. حيوانات الرعي : يقصد بها الحيوانات التي يرعاها بدو الصحراء ، مثل الإبل والأغنام ، والماعز
١٠. حركة الرمال : يقصد بها تحرك الرمال بفعل الرياح ، وهي حركة لها آثار مدمرة .
١١. التصحّر : تدهور الأرض الزراعية، وعدم قدرتها على الإنتاج.
١٢. استزراع الكثبان الرملية : عملية الغرض منها تثبيت الرمال، ومراقبة حركتها على الطرق.
١٣. محمية طبيعية : منطقة تضم كائنات حية نباتية أو حيوانية ذات قيمة يتم الحفاظ عليها .
١٤. سياحة السفاري : سياحة التجول في الصحارى ، والاستمتاع بالحياة البسيطة ، والخروج من حياة المدن.
١٥. سياحة بيئية : سياحة الغرض منها مشاهدة النباتات الطبيعية، والحيوانات النادرة، وزيارة المحميات الطبيعية.

الوحدة الثانية : البيئة الساحلية / الدرس الأول (ص ١٩)

السؤال الأول : عرف المصطلحات التالية ؟

- **الخليج** : تداخل مائي في اليابس.
- **الشعاب المرجانية** : تكوينات من صخور جيرية أفرزتها حيوانات بحرية دقيقة.
- **البحيرة** : مسطح مائي يمتد عادة موازياً للبحر وتتصل به عن طريق بواغيز .
- **الشرم** : خليج ذو مدخل ضيق متعمق في اليابس .

السؤال الثاني : أكمل العبارات التالية مما بين القوسين ؟ (ص ١٩)

١. من البحيرات على ساحل البحر المتوسط المنزلة وبحيرة البرلس .
٢. تمتد البيئة الساحلية على طول ساحل البحر المتوسط من مدينة رفح في أقصى الشرق حتى مدينة السلوم غرباً
٣. تمتد البيئة الساحلية على طول ساحل البحر الأحمر من مدينة طابا إلى مدينة حلايب جنوباً .
٤. من عناصر البيئة الساحلية السهل الساحلي و الجزر الساحلية و البحيرات .
٥. تنتشر البيئة الساحلية في مصر على طول ساحلي البحر المتوسط و البحر الأحمر وخليجي السويس و العقبة .
٦. من الجزر الموجودة بالقرب من سواحل البحر المتوسط جزيرة شدوان وهي أكبرها وجزيرة صنافير .

السؤال الثالث : ضع المفهوم المناسب لكل من العبارات التالية :- (ص ١٩)

م	العبارات	المصطلح
١	خط يفصل بين اليابسة والماء	خط الساحل
٢	مياه ضحلة غير عميقة تمتد من خط الساحل لداخل البحر .	الشاطئ القريب
٣	تلك المساحة من اليابسة أو الأرض التي تطل على البحر أو المحيط والتي تتأثر به بشكل كبير في مناخها وأعمال سكانها وعاداتهم .	البيئة الساحلية

السؤال الرابع : بم تفسر :- (ص ١٩)

١. تفاوت اتساع السهل الساحلي على طول ساحل البحر الأحمر في مصر .
يتسع السهل الساحلي في مناطق ابتعاد الجبال من البحر ، و يضيق السهل الساحلي عند اقتراب الجبال من البحر
٢. الأهمية الاقتصادية للتلال الجيرية على طول الساحل الشمالي للبحر المتوسط .
لأنها تقوم بدور مهم في تخزين مياه الأمطار ، والإفادة منها في حفر الآبار .
٣. اتساع السهل الساحلي المطل على البحر المتوسط .
بسبب ابتعاد الحواف المرتفعة عن البحر .
٤. نمو الشعاب المرجانية على ساحل البحر الأحمر .
هدوء مياه البحر ودفنها وصفائها .

السؤال الخامس : قارن بين البيئة الساحلية على شاطئ البحر المتوسط والبحر الأحمر حسب معطيات الجدول التالي : (ص ٢٠)

وجه المقارنة	البيئة الساحلية على ساحل البحر المتوسط	البيئة الساحلية على ساحل البحر الأحمر
الامتداد	تمتد من مدينة رفح شرقاً حتى مدينة السلوم غرباً	تمتد من السويس شمالاً حتى مدينة حلايب جنوباً، وسواحل سيناء الجنوبية على خليج السويس والعقبة
السهول الساحلية	يشمل : الساحل الشمالي لشبه جزيرة سيناء ساحل الدلتا من بورسعيد حتى غرب الإسكندرية الساحل الشمالي الغربي : من الإسكندرية حتى السلوم .	يشمل : من مدينة السويس حتى مدينة حلايب جنوباً على خليج العقبة من شرق طابا إلى رأس محمد وعلى خليج السويس من مدينة رأس محمد إلى مدينة السويس .
البحيرات	تنتشر البحيرات مثل : البردويل - المنزلة - البرلس - إدكو - مريوط	_____
الخلجان	تنتشر الخلجان مثل خليج أبوفير - خليج العرب	تكثر الخلجان والشروم على خليج العقبة والسويس التي أنشئ عليها العديد من الموانئ مثل نوبيع وشرم الشيخ
المستنقعات	تنتشر المستنقعات مثل تنتشر في الساحل الشمالي لسيناء ودلتا النيل	تكثر المستنقعات السبخات الملحية التي تنو بها نباتات ملحية

الوحدة الثانية : الدرس الثاني : الخصائص السكانية للبيئة الساحلية (ص ٢٢)

السؤال الأول : أكمل ما يلي بكلمات مناسبة :-

١. من الخصائص الإيجابية لسكان البيئة الساحلية العمل في جماعة و الانفتاح على العالم الخارجى .
٢. تبلغ نسبة السكان في البيئة الساحلية نحو ٣ % من سكان مصر .
٣. من المدن المليونية في البيئة الساحلية مدينة الإسكندرية ومدينة بورسعيد .
٤. يتجه سكان الواحات للاستقرار في مدينة مرسى مطروح .
٥. من مشكلات السكان في البيئة الساحلية الازدحام و التلوث البيئى و ارتفاع نسبة البطالة .

السؤال الثاني : بم تفسر (ص ٢٢)

١. بم تفسر تميز سكان البيئة الساحلية بحبهم للعمل في جماعة .
لأن أعمال الصيد والشحن وتفريغ السفن تحتاج إلى التعاون والعمل في جماعة
٢. بم تفسر اعتبار المناطق الساحلية مناطق جذب للمهاجرين
لكثرة مواردها وتعدد الأنشطة الاقتصادية بها
٣. بم تفسر معظم سكان البيئة الساحلية يعيشون في المدن
لأن المدن هي مركز العمران ومراكز الأنشطة الاقتصادية المختلفة .

السؤال الثالث : ما النتائج التي تترتبت على : (ص ٢٣)
وفرة الموارد الغذائية والمواد الخام بالمناطق الساحلية .
أن أصبحت هذه المناطق ملجأ للمهاجرين من البيئات الأخرى.

السؤال الرابع ما جهود الدولة في مواجهة مشكلات السكان في البيئة الساحلية ؟ (ص ٢٣)
إنشاء المدن الجديدة . - مد الطرق والكباري . - إنشاء مصانع جديدة.

السؤال الخامس : ضع علامة (√) أمام العبارة الصحيحة وعلامة (X) أمام العبارة غير الصحيحة
مع التصويب (ص ٢٣)

رقم	العبارة	الإجابة	التصويب
١	يعيش سكان البيئة الساحلية في إحدى عشر محافظة .	√	
٢	من العادات الايجابية لسكان البيئة الساحلية العمل في جماعة والصيد غير القانوني .	x	الصيد غير القانوني عادات سلبية
٣	تعد البيئة الساحلية منطقة جذب لسكان البيئات الأخرى .	√	
٤	من جهود الدولة في البيئة الساحلية إنشاء مدينة برج العرب الجديدة	√	

الدرس الثالث : الأنشطة الاقتصادية في البيئة الساحلية (ص ٢٥)

السؤال الأول : أكمل ما يلي بكلمات مناسبة :-

١. تبلغ نسبة الإنتاج السنوي للبحار والبحيرات المصرية من الثروة السمكية حوالي **٦٠ %** من إنتاج مصر من الأسماك .
٢. من أهم حقول البترول على ساحل البحر الأحمر حقل **بلاعيم** و **رأس غارب** .
٣. تنتشر المراعي الساحلية شمال مصر على ساحل البحر **المتوسط** .
٤. تتلوث المياه الشاطئية بسبب **الصرف الصحي** و **صرف المصانع** و **حركة السفن** .
٥. تعد مشكلة **تآكل السواحل** من أكبر المشكلات التي تهدد البيئة الساحلية لجمهورية مصر العربية .

السؤال الثاني : بم تفسر (ص ٢٦)

١. **بم تفسر تلوث المياه الشاطئية بالمناطق الساحلية .**
تتلوث المياه الشاطئية بسبب مخلفات الصرف الصحي و ومخلفات المصانع و حركة السفن .
٢. **بم تفسر تنوع الأنشطة الاقتصادية في البيئة الساحلية**
لكثرة مواردها الطبيعية من ثروة سمكية وزراعة ورعي وتجارة وسياحة وتعددين وبترول وغاز طبيعي

السؤال الثالث : ضع علامة (√) أمام العبارة الصحيحة وعلامة (X) أمام العبارة غير الصحيحة (ص ٢٦)

رقم	العبارة	الإجابة
١	تعد بحيرة المنزلة أكبر البحيرات إنتاجاً للأسماك في مصر .	√
٢	تنتشر مراعي الأغنام والإبل في المناطق الساحلية للبحر الأحمر .	x
٣	يؤدي تآكل السواحل إلى إزالة الشواطئ الرملية وتدمير الشاليهات .	√
٤	يعد النشاط الزراعي نشاطاً رئيساً في البيئة الساحلية .	x
٥	من الصناعات القائمة في البيئة الساحلية صناعة الغزل والنسيج وصناعة الحديد والصلب .	x

السؤال الرابع :وضح دور الدولة في حل مشكلات البيئة الساحلية ؟ ص ٢٦

- أصدرت قوانين تجرم رمي مخلفات الصرف الصحي في البحر .
- عمل مصدات خرسانية لكسر الأمواج لحماية الشواطئ من التآكل .

تدريبات عامة على الوحدة الثانية (ص ٢٧)

السؤال الأول : تخير الإجابة للعمود (أ) ما يناسبه من العمود (ب)

م	(أ)	(ب) الإجابة
١	مسطحات مائية تمتد موازية للبحر وتتصل به عن طريق بواغيز	بحيرات مالحة
٢	فتحة طبيعية أو صناعية تدخل عن طريقها المياه للبحيرات.	بوغاز
٣	تنتشر المستنقعات والكثبان الرملية في منطقة	شمال سيناء
٤	أنشئ العديد من الموانئ الهامة مثل شرم الشيخ ونويبع على	ساحل البحر الأحمر
٥	يوجد العديد من الخلجات المتسعة مثل خليج أبو قير وخليج العرب على	ساحل البحر المتوسط
٦	تكوينات من صخور جيرية أفرزتها حيوانات بحرية دقيقة .	الشعاب المرجانية
٧	تداخل مائي في اليابس	خليج

السؤال الثاني : أكمل ما يلي : (ص ٢٧)

١. قامت الدولة بإنشاء مدن جديدة في البيئة الساحلية مثل مدينة برج العرب كما قامت بمد الطرق و الكباري
٢. المدن المليونية هي التي يزيد عدد سكانها على مليون نسمة.
٣. من مشكلات السكان في البيئة الساحلية التلوث البيئي و تآكل الشواطئ
٤. يتجه سكان الواحات للاستقرار في مدينة مطروح أما المهاجرون من سكان الوجه القبلي فقد يتجهون إلى المدن الساحلية على ساحل البحر المتوسط بمدينة الإسكندرية.
٥. تنتشر الجزر الساحلية بالقرب من سواحل البحر الأحمر خاصة عند مدخل خليج السويس ويصل عددها إلى ٤٠ جزيرة.
٦. تمتد البيئة الساحلية على البحر المتوسط في مدينة رفح في أقصى الشرق حتى مدينة السلوم غرباً.

السؤال الثالث : بم تفسر؟ (ص ٢٧ - ٢٨)

١. الأهمية الاقتصادية للجزر الساحلية على البحر الأحمر.
تستخدم كموانئ للصيد - من العناصر السياحية

٢. ضيق السهول الساحلية المطلة على خليج العقبة.
بسبب اقتراب الجبال منها.

٣. اعتبار بحيرة البردويل أقل بحيرات مصر تلوثًا.
لأنها ليس بها صرف صحي أو صناعي حتى تتلوث فهي بعيدة عن التلوث.

٤. إنشاء عدد من الموانئ المهمة على ساحل البحر الأحمر.
بسبب طبيعة سواحل البحر الأحمر واستخدام هذه الموانئ للتجارة والصيد والانتقال مثل السويس، الغردقة، سفاجا، شرم الشيخ، وغيرها.

٥. قيام النشاط الزراعي في الساحل الشمالي الغربي لمصر.
بسبب سقوط الأمطار الشتوية الكافية للزراعة .

٦. نمو الشعاب المرجانية على سواحل البحر الأحمر.
صفاء مياهه - دفء المياه - هدوء حركة المياه

٧. اعتبار المدن الساحلية منطقة جذب سكاني.
لكثرة مواردها وتعدد الأنشطة الاقتصادية بها

السؤال الرابع : ما النتائج التي ترتبت على : (ص ٢٨)

١. تآكل السواحل المصرية.

- إزالة الشواطئ الرملية .
- تدمير الشبوهات المخصصة للسياحة .

٢. تلوث المياه الشاطئية.

- تدهور سياحة الشواطئ .
- تدهور الثروة السمكية .

٣. سقوط الأمطار الشتوية على سواحل البحر المتوسط.

- نمو النباتات الطبيعية
- وجود حرفة الزراعة والرعي .

٤. اقتراب الجبال من سواحل البحر الأحمر.

- ضيق السهول الساحلية للبحر الأحمر

٥. تنوع الأنشطة الاقتصادية في البيئة الساحلية.

- توفر فرص العمل - أصبحت منطقة جذب سكاني

السؤال الخامس : الخريطة (ص ٢٨)

١- خليج السويس ٢- السلوم ٣- خليج العقبة ٤- البحر الأحمر ٥- مدينة حلايب

السؤال السادس : ما المقصود بالمصطلحات الجغرافية الآتية ؟ (ص ٢٨)

١. **خط الساحل** : خط يفصل بين اليابس والماء.
٢. **مستنقع** : مناطق منخفضة وممتلئة بالمياه والحشائش والأعشاب.
٣. **خليج** : تداخل مائي في اليابس.
٤. **رأس** : نوع ساحلي بارز داخل البحر.
٥. **مدينة مليونية** : المدينة التي يزيد عدد سكانها على مليون نسمة.
٦. **هجرة غير شرعية** : الهجرة خارج الوطن بطرق غير قانونية.
٧. **بوغاز** : فتحة طبيعية أو صناعية تدخل عن طريقها المياه للبحيرات.

الوحدة الثالثة (بناء الدولة الحديثة) الدرس الأول

السؤال الأول : أكمل العبارات الآتية بالكلمات المناسبة :

١. اهتم محمد علي ببناء مصر الحديثة على النسق الفرنسي
٢. قسم محمد علي البلاد إلى سبع مديريات ويتبع كل مديرية عدد من المراكز
٣. تمثلت الزراعات الحديثة في عهد محمد علي في القطن و أشجار التوت و أشجار الزيتون و الخضروات
٤. أنشأ محمد علي العديد من مصانع السكر بالوجه القبلي و الغزل والنسيج و ألواح النحاس

تنته

السؤال الثاني : بم تفسر

١. بم تفسر : أهمية التنظيمات الإدارية في مصر في عهد محمد علي
للسيطرة الكاملة علي البلاد .
٢. بم تفسر : السياسة الاقتصادية التي اتبعتها محمد علي في مصر .
لتحقيق الاكتفاء الذاتي لمصر وجعل الصادرات أكثر من الواردات .
٣. بم تفسر : ارتباط النهضة الصناعية في عهد محمد علي بالجيش .
لأن معظم المصانع التي أقامها محمد علي كانت بهدف سد حاجة الجيش من الملابس والأسلحة .

السؤال الثالث : ضع علامة (√) أمام العبارة الصحيحة وعلامة (X) أمام العبارة غير الصحيحة

مع التصويب

رقم	العبارة	الإجابة	التصويب
أ	أصبحت مدينة الإسكندرية مقر الحكومة المركزية في عصر محمد علي .	X	القاهرة
ب	يعد السد العالي من أهم مشروعات الري التي أهتم بها محمد علي .	X	القناطر الخيرية
ج	شهدت التجارة الداخلية والخارجية رواجاً في عصر محمد علي .	√	
د	أنشأ محمد علي قصر الجوهرة بالقلعة .	√	

السؤال الرابع : تخير الإجابة الصحيحة مما بين القوسين ؟

١. كان مقر الحكومة المركزية في عهد محمد علي في.....
(الإسكندرية - الغربية - القاهرة - الجيزة) .
٢. أقام محمد علي مصانع السكر في
(الوجه البحري - الوادي الجديد - الوجه القبلي - شبه جزيرة سيناء)
٣. تولى الخديوي إسماعيل حكم مصر عام
(١٨٦٠ - ١٨٦١ - ١٨٦٢ - ١٨٦٣) م
٤. أنشأ محمد علي ترسانة لبناء السفن في
(بورسعيد - السويس - الإسكندرية - دمياط)

السؤال الخامس : ما النتائج التي تترتبت على

- أ. ما النتائج : اهتمام محمد علي بمشروعات الري .
شق الترغ وحفر القنوات وإنشاء الجسور والقناطر الخيرية وزيادة مساحة الأراضي الزراعية .
- ب. ما النتائج : اهتمام محمد علي بالتعليم والثقافة .
إرسال البعثات إلى الخارج - ترجمة الكتب - إنشاء المدارس الحديثة - أصبحت مصر من الدول المتقدمة
- ج. ما النتائج : اهتمام محمد علي بالجيش والبحرية .
بناء جيش قوي مدرب على أحدث الأسلحة والأساليب - إنشاء ترسانة بالإسكندرية والمدارس الحربية المختلفة .
- د. ما النتائج : سياسة محمد علي الخارجية التوسعية
تدعيم استقلال مصر - الصدام مع الدول الاستعمارية خاصة إنجلترا وفرنسا .

الوحدة الثالثة (بناء الدولة الحديثة) الدرس الثاني

السؤال الأول : أكمل العبارات الآتية بالكلمات المناسبة :

- أ. ولد أحمد عرابي بمحافظة الشرقية .
- ب. تولى الإمام محمد عبده رئاسة تحرير صحيفة الوقائع المصرية واتخذها منبرا لتأييد العرابيين .
- ج. ازداد التدخل الأجنبي في مصر منذ عهد سعيد باشا نتيجة القروض .
- د. دعا الزعيم محمد فريد لإنشاء نقابات للعمال .

السؤال الثاني : ضع علامة (✓) أمام العبارة الصحيحة وعلامة (X) أمام العبارة غير الصحيحة مع التصويب

رقم	العبارة	الإجابة	التصويب
أ	التحق أحمد عرابي بالجيش المصري في عهد سعيد باشا .	✓	
ب	طالب أحمد عرابي بالمساواة بين أبناء مصر وغيرهم من باقي الجنسيات	✓	
ج	وقفت فرنسا بجانب الحركة الوطنية المصرية بعد الاتفاق الودي عام ١٩٠٤ م	x	تخلت عن الحركة الوطنية
د	أدت الامتيازات الأجنبية إلى التدخل الأجنبي في شئون مصر .	✓	

السؤال الثالث : تخير الإجابة الصحيحة مما بين القوسين ؟

- أ. بدأ تجنيد أولاد عمد البلاد ومشايخها في عهد
(سعيد باشا - الخديوي إسماعيل - الخديوي توفيق - إبراهيم باشا) .
- ب. قاد أحمد عرابي مظاهرة عابدين السلمية في سبتمبر عام
(١٨٧٠ - ١٨٧٤ - ١٨٧٨ - ١٨٨١) م
- ج. قام مصطفى كامل بتأسيس جريدة عام ١٩٠٠ م .
(الوقائع المصرية - المؤيد - اللواء - الأهرام) م

السؤال الرابع : بم تفسر

أ. بم تفسر : قيام الثورة العربية

- التدخل الأجنبي والقروض .
- المراقبة الثنائية .
- الامتيازات الأجنبية .
- تسريح الجند المصريين .
- سوء أحوال المصريين الاقتصادية .

ب. بم تفسر : ازدياد التدخل الأجنبي في شئون مصر

- إنشاء مراقبة ثنائية (إنجليزية فرنسية) على الموارد والمصروفات في مصر .
- تشكيل وزارة أجنبية بها وزير إنجليزي وآخر فرنسي كمراقبين على أعمال الحكومة .

ج. بم تفسر : تقديم الضباط المصريين عريضة إلى رياض باشا رئيس مجلس الوزراء

- طالبوا بعزل عثمان رفقي ناظر الجهادية .

د. بم تفسر : التفاف الجيش والشعب حول أحمد عرابي

- أملا في التخلص من النفوذ الأجنبي في مصر وشجاعته ووطنيته وفصاحته وحبهم له

هـ. بم تفسر : اتصال مصطفى كامل بالدول الأوروبية

- فضح المزاعم الانجليزية وسياسة الاحتلال في مصر . مساعدة المطالب المصرية وهي الجلاء والدستور

السؤال الخامس : أكتب في ثلاثة أسطر عن كل من .

أ. أهداف المذكرتين المشتركتين اللتين أرسلتهما بريطانيا وفرنسا إلى مصر .

- تأييد الخديوي توفيق في موقفه المعارض للحركة الوطنية .
- إبعاد أحمد عرابي خارج البلاد مؤقتا .
- نفي علي فهمي وعبد العال حلمي داخل القطر .
- استقالة الوزارة القائمة .

ب. مطالب الجيش والشعب في ٩ سبتمبر ١٨٨١م (مظاهرة عابدين)

- إسقاط الوزارة المستبدة
- تشكيل مجلس النواب .
- زيادة عدد الجيش إلى ١٨ ألف جندي .

الدرس الثالث : سعد زغلول باشا (ثورة ١٩١٩ م)

السؤال الأول : أكمل العبارات الآتية بالكلمات المناسبة :

٤. ولد سعد زغلول بإحدى قرى مديرية الغربية والتحق بالأزهر ليتلقى تعليمه الديني .
٥. تولى سعد زغلول نظارة المعارف عام ١٩٠٦م ووزارة العدل عام ١٩١٠م
٦. في ١٨ ديسمبر ١٩١٤ م أعلنت إنجلترا الحماية على مصر

السؤال الثاني : ضع علامة (✓) أمام العبارة الصحيحة وعلامة (X) أمام العبارة غير الصحيحة مع التصويب

- أ. استولت سلطات الاحتلال البريطاني على المحاصيل الزراعية أثناء الحرب العالمية الأولى ✓
- ب. أدى ازدياد الوعي القومي لدى المصريين إلى قيام ثورة ١٩١٩ م. ✓
- ج. رفضت سلطات الاحتلال سفر الوفد المصري إلى إنجلترا . X إلى باريس
- د. ألقى القبض على سعد زغلول ومجموعة من أعضاء الوفد المصري في يناير ١٩١٧م X في ١٨ مارس ١٩١٩

السؤال الثالث : بم تفسر

١. بم تفسر : قيام ثورة ١٩١٩م
 - ازدياد الوعي القومي لدى المصريين
 - التطلع إلى الحرية والاستقلال .
 - الإجراءات التعسفية التي فرضها الاستعمار البريطاني على مصر أثناء الحرب العالمية الأولى .
 - إعلان الرئيس الأمريكي ويلسن مبادئه التي تنادي بحق كل أمة في تقرير مصيرها .
٢. بم تفسر : الصدام بين أعضاء الوفد المصري وسلطات الاحتلال .
بسبب رفض سلطات الاحتلال سفر الوفد المصري إلى باريس لعرض المطالب الوطنية على مؤتمر الصلح
٣. بم تفسر : تعدد ثورة ١٩١٩م ثورة شعبية لأنها ضمت كل فئات الشعب المصري من عمال وطلبة وموظفين

أسئلة إضافية

ما النتائج التي ترتبت على

- أ. ما النتائج : التقاء سعد زغلول بالسيد جمال الدين الأفغاني .
تعلم منه حرية التفكير والبحث والتجديد والإصلاح .
- ب. ما النتائج : نفي سعد زغلول في ٨ مارس ١٩١٩ م .
قيام المصريين بثورتهم القومية التي شملت كل أنحاء البلاد .
- ج. ما النتائج : نفي سعد زغلول إلى جزيرة سيشل .
مقاطعة المصريين للبضائع والبنوك والسفن الإنجليزية .
- د. ما النتائج : إصدار تصريح ٢٨ فبراير ١٩٢٢م
إلغاء الحماية البريطانية على مصر وإعلان مصر دولة مستقلة .

الدرس الرابع : طلعت حرب باشا

السؤال الأول : ضع علامة (✓) أمام العبارة الصحيحة وعلامة (X) أمام العبارة غير الصحيحة مع التصويب

- أ. ساعدت رؤوس الأموال الأجنبية في التنمية الاقتصادية (x) رؤوس الأموال المصرية
ب. ساهم طلعت حرب في رفض مد امتياز شركة قناة السويس (✓)
ج. أسس طلعت حرب بنك مصر برؤوس أموال مصرية . (✓)
د. اقتصرت مساهمات بنك مصر على المشروعات الصغيرة (x) المشروعات الصغيرة والكبيرة

السؤال الثاني : بم تفسر

- أ. بم تفسر ارتباط استقلال مصر السياسي باستقلالها الاقتصادي .
لأن استقلال الدولة اقتصاديا يجعلها غير خاضعة للسيطرة الأجنبية وهذا يؤدي إلى الاستقلال السياسي
ب. بم تفسر : إعداد طلعت حرب تقرير حول مسألة مد امتياز شركة قناة السويس .
لكي يوضح الخسائر الكبيرة التي تتعرض لها مصر في حال مد امتياز شركة قناة السويس
ج. بم تفسر : تمويل بنك مصر للصناعات الوطنية .
النهوض بالاقتصاد المصري . اعتماد المصريين على أنفسهم

السؤال الثالث : أكتب في ثلاثة أسطر عن كل من .

١. دور طلعت حرب في إنشاء بنك مصر .
استطاع طلعت حرب بمشاركة مجموعة من العاملين في مجال المال والتجارة من المصريين تأسيس بنك مصر في أبريل عام ١٩٢٠م
٢. أهمية البنوك الوطنية المصرية .
تمكن الدول من تحقيق الاستقلال الاقتصادي تمويل المشاريع الاقتصادية الوطنية - تحقيق الاستقلال السياسي
٣. مساندة البنوك الوطنية للاقتصاد الوطني .
تساهم في تمويل المشروعات الصناعية والزراعية والتجارية مما يؤدي إلى زيادة الدخل القومي المصري .
٤. نشأة طلعت حرب .
• ولد طلعت حرب بالقاهرة . - تلقى تعليمه في مدرسة الحقوق . - عمل في التدريس بالجامعة المصرية .
• عين عضوا بمجلس الشيوخ في أول برلمان مصري .

أسئلة إضافية

ما النتائج التي ترتبت على

- أ. ما النتائج : معارضة طلعت حرب لمشروع مد امتياز شركة قناة السويس .
رفض مشروع مد امتياز شركة قناة السويس
ب. ما النتائج : إنشاء بنك مصر عام ١٩٢٠م .
تحرير الاقتصاد المصري من سيطرة الأجانب .
إقامة المشروعات الاقتصادية الوطنية

تدريبات عامة على الوحدة الثالثة

السؤال الأول : ضع علامة (√) أمام العبارة الصحيحة وعلامة (X) أمام العبارة غير الصحيحة مع التصويب

- أ. اهتم محمد علي بتنظيم الإدارة بما يكفل له السيطرة على البلاد (√)
- ب. اهتم محمد علي بمشروع حفر قناة السويس (x) خوفا من زيادة أطماع الدول الأجنبية في مصر
- ج. ولد الزعيم أحمد عرابي في إحدى قرى محافظة الشرقية . (√)
- د. دعا مصطفى كامل إلى إنشاء مجلس شورى على النمط الأوروبي (x)
- هـ. بدأت الحرب العالمية الأولى في ٤ أغسطس ١٩١٨ م (x) ١٩١٤ م

السؤال الثاني : أكمل العبارات الآتية بالكلمات المناسبة :

١. أعلنت دولة بريطانيا الحماية على مصر في ديسمبر ١٩١٤ م
٢. انتهت الحرب العالمية الأولى في ١٣ نوفمبر ١٩١٨ م
٣. في مارس ١٩١٩ م أُلقي القبض على سعد زغلول .
٤. أصدرت بريطانيا تصريح ٢٨ فبراير عام ١٩٢٢ م واعترفت فيه باستقلال مصر

السؤال الثالث : بم تفسر

- أ. بم تفسر : رفض مشروع مد امتياز شركة قناة السويس .
لأنه سيعود على مصر بالخسائر المالية ، ويستمر التدخل والاحتلال البريطاني لمصر.
- ب. بم تفسر : قيام ثورة ١٩١٩ م
• بسبب ازدياد الوعي القومي للمصريين والدعوة للتحرر والاستقلال
• الإجراءات التعسفية التي فرضتها بريطانيا على مصر أثناء الحرب العالمية الأولى
• مبادئ الرئيس الأمريكي ويلسن التي تنادى بحق كل أمة في تقرير مصيرها.
- ج. بم تفسر : مد محمد فريد نشاط الحركة الوطنية إلى أوروبا .
• لأنه وجد أن السلطات الحاكمة في مصر وسلطات الاحتلال البريطاني تضيق عليه وتراقبه .
• لعرض قضية مصر على الدول الأوروبية .
- د. عزل اللورد كرومر من منصبه كمعتمد بريطاني في مصر .
بسبب حادثة دنشواي ١٩٠٦ .
- هـ. مطالبة أحمد عرابي بالمساواة بين أبناء مصر وغيرهم من بباقي الجنسيات ..
بسبب التمييز بين المصريين والجراسة وإهمال المصريين.

السؤال الرابع : قارن بين الثورة العربية وثورة ١٩١٩ م، من حيث الأسباب والنتائج .

عناصر المقارنة	الثورة العربية	ثورة ١٩١٩ م
الأسباب	١ - التدخل الأجنبي في شئون مصر. ٢ - الامتيازات الأجنبية. ٣ - المراقبة الثنائية. ٤ - إهمال الجيش. ٥ - سوء الأحوال الاقتصادية.	١ - ازدياد الوعي القومي والدعوة للتحرر والاستقلال. ٢ - الإجراءات التعسفية التي فرضها الاحتلال البريطاني على مصر أثناء الحرب العالمية الأولى. ٣ - إعلان الرئيس الأمريكي ويلسن مبادئه بحق كل أمة في تحديد مصيرها.
النتائج	١ - فشل الثورة العربية. ٢ - احتلال بريطانيا لمصر عام ١٨٨٢ م.	١ - أصدرت بريطانيا تصريح ٢٨ فبراير ١٩٢٢ الذي اعترف باستقلال مصر وإنهاء الحماية البريطانية على مصر شكلياً. ٢ - وضع دستور ١٩٢٣ م. ٣ - تشكيل أول حكومة دستورية ١٩٢٤ م برئاسة سعد زغلول.

السؤال الخامس : ما المقصود بكل من المفاهيم والمصطلحات الآتية ؟

١. **حكومة مركزية:** الحكومة التي توجد في العاصمة، ومنها تصدر القرارات والأوامر لتنفذ في كل الأقاليم.
٢. **ثورة :** إحداث تغيير في كل الأنظمة السياسية والاجتماعية والاقتصادية القائمة في المجتمع
٣. **جلاء :** خروج قوات الاحتلال من البلد المحتل.
٤. **دستور:** مجموعة المبادئ والقواعد التي تحدد نظام الحكم.

الوحدة الرابعة : التحولات السياسية التدريبات ص ٤٦

السؤال الأول : أكمل العبارات التالية بما يناسبها مما بين القوسين (١٩٥٨ - ١٩٥٦ - ١٩٦٢ - ١٩٧١ م)

١. قامت إسرائيل ومعها إنجلترا وفرنسا بالعدوان الثلاثي على مصر عام ١٩٥٦ م
٢. قامت وحدة بين مصر وسوريا عام ١٩٥٨ م .
٣. تم افتتاح السد العالي عام ١٩٧١ م .

السؤال الثاني ضع علامة (√) أمام العبارة الصحيحة وعلامة (X) أمام العبارة غير الصحيحة (ص ٤٦)

رقم	العبارة	الإجابة
١	ألغيت الأحزاب السياسية في يناير عام ١٩٥٣ م	√
٢	تم جلاء القوات البريطانية عن مصر في عام ١٩٥٤ م	x
٣	أعلن تأميم قناة السويس في يوليو عام ١٩٥٢ م	x
٤	أصدرت حكومة ثورة يوليو قانون الإصلاح الزراعي الأول في سبتمبر عام ١٩٥٢ م	√
٥	احتلت إسرائيل الضفة الغربية لقناة السويس بعد عدوان ١٩٦٧ م	√

السؤال الثالث : أعد ترتيب الأحداث التاريخية التالية وفقا لسلسلها الزمني ؟ الإجابة (ص ٤٦)

١. صدور قانون الإصلاح الزراعي الأول في سبتمبر ١٩٥٢ م .
٢. تأميم قناة السويس في يوليو ١٩٥٦ م .
٣. العدوان الإسرائيلي على مصر في ٥ يونيو ١٩٦٧ م
٤. افتتاح السد العالي ١٩٧١ م .

السؤال الرابع : بم تفسر (ص ٤٦)

١. بم تفسر : تأسيس تنظيم الضباط الأحرار .
 - قيادة الثورة والمطالبة بجلاء القوات البريطانية
٢. بم تفسر : قيام العدوان الثلاثي على مصر .
 - إعلان تأميم شركة قناة السويس في يوليو ١٩٥٦ م
٣. بم تفسر : قيام ثورة يوليو ١٩٥٢ م .
 - الاحتلال البريطاني لمصر .
 - ارتفاع الأسعار وانخفاض الدخل وانتشار الفقر .
 - سوء توزيع الثروات وغياب العدالة الاجتماعية .
 - انتشار الجهل والمرض .
٤. بم تفسر : فشل العدوان الثلاثي على مصر عام ١٩٥٦ م
 - تحالف الجيش والشعب
 - مساندة الشعوب العربية لمصر .
 - معارضة الاتحاد السوفيتي والولايات المتحدة الأمريكية للعدوان .

(ص ٤٨)

الدرس الثاني : حرب أكتوبر ١٩٧٣ م

السؤال الأول : أكمل (ص ٤٨)

١. أقامت إسرائيل عدة تحصينات أمام الجيش المصري منها خط بارليف و الساتر الترابي .
٢. من أسباب قيام حرب أكتوبر ١٩٧٣ م رد كرامة الجندي المصري و إنهاء حالة اللاحرب واللاسلم و تحرير سيناء .
٣. من نتائج حرب أكتوبر عودة الملاحة بقناة السويس و ظهور أهمية التضامن العربي و توقيع اتفاقية السلام مع إسرائيل .

السؤال الثاني : ضع علامة (✓) أمام العبارة الصحيحة وعلامة (X) أمام العبارة غير الصحيحة مع التصويب

(ص ٤٨ - ٤٩)

رقم	العبارة	الإجابة	التصويب
١	وقعت مصر اتفاقية سلام مع إسرائيل في ٢٨ أكتوبر ١٩٧٣ م	X	مارس ١٩٧٩ م
٢	ساندت بعض الدول العربية مصر وسوريا في حرب ١٩٧٣ م	✓	
٣	ألتزمت كل من مصر وإسرائيل بقرار مجلس الأمن رقم ٣٣٨	X	لم تلتزم إسرائيل
٤	غيرت حرب أكتوبر ١٩٧٣ م نظرة العالم للجيش المصري .	✓	

(ص ٤٩)

السؤال الثالث : بم تفسر

١. بم تفسر فشل إسرائيل في اقتحام مدينة السويس .
بسبب المقاومة الشعبية الباسلة وبسالة الجيش المصري .
٢. بم تفسر نجاح الجيش المصري في عبور قناة السويس في حرب أكتوبر ١٩٧٣ م
استخدام عنصر المفاجأة الروح المعنوية العالية للجنود المصريين . التدريب المستمر .

(ص ٤٩)

السؤال الرابع : ما المقصود بالمصطلحات التالية ؟

١. خط بارليف : تحصينات عسكرية أقامتها إسرائيل أمام الجبهة المصرية
٢. حرب الاستنزاف : فترة المواجهات بين الجيش المصري وجيش العدو بين ٦٧ حتى ٧٣ م
٣. الثغرة : اختراق إسرائيل للقوات المصرية عند الدفرسوار

(ص ٥١)

الدرس الثالث : ثورة ٢٥ يناير ٢٠١١ ٣٠ يونيو ٢٠١٣ م

السؤال الأول : أكمل (ص ٥١)

١. من نتائج ثورة ٢٥ يناير حل مجلس الشعب و مجلس الشورى
٢. بدأت الثورة من ميدان التحرير بوسط القاهرة .
٣. تم تسليم السلطة في الثالث من يوليو ٢٠١٣ م إلى المستشار عدلي منصور .
٤. صدر الدستور الجديد في يناير ٢٠١٤ م

السؤال الثاني : بم تفسر (ص ٥١)

١. تكوين اللجان الشعبية في جميع أنحاء الجمهورية أثناء الثورة .
للمساهمة في حفظ الأمن وحماية المواطنين
٢. سقوط مئات الشباب عقب ٢٥ يناير ٢٠١١ م
نتيجة ارتفاع معدلات العنف واستخدام الجمال والجياد في الهجوم علي المتظاهرين .
٣. تأكيد الثورة المصرية على الوحدة الوطنية .
تلاحم المسلمين والأقباط في الثورة وحماية الجبهة الداخلية
٤. الاهتمام بالكمبيوتر والإنترنت بعد ثورة ٢٥ يناير ٢٠١١ م
لأنه يزيد من الوعي عند أفراد الشعب

السؤال الثالث : ضع علامة (✓) أمام العبارة الصحيحة وعلامة (X) أمام العبارة غير الصحيحة مع التصويب

(ص ٥١)

رقم	العبارة	الإجابة	التصويب
١	قام الشباب المصري بالتظاهر يوم ٢٥ يناير ٢٠١١ م	✓	
٢	ساهم تدني الأحوال السياسية والاقتصادية والاجتماعية في قيام الثورة	✓	
٣	حقق الجيش المصري تلاحما وطنيا عظيما مع الشعب أثناء الثورة .	✓	
٤	استجاب النظام السياسي لمطالب الشباب يوم ٢٥ يناير ٢٠١١ م	X	١١ فبراير ٢٠١١ م

السؤال الرابع : ما النتائج التي تترتبت على :

(ص ٥١)

١. سوء الحالة الأمنية في الشارع المصري أثناء ثورة ٢٥ يناير ٢٠١١ م.
تكوين اللجان الشعبية في جميع المحافظات لحفظ الأمن وسد الفراغ الأمني .
٢. تلاحم لشباب والشعب في كل محافظات مصر
نجاح الثورة وإجبار الرئيس مبارك عن التنحي عن الحكم
٣. ثورة ٢٥ يناير من الناحية السياسية .
 - إسقاط رأس النظام السياسي ومحاكمته
 - حل مجلسي الشعب والشورى
 - تشكيل الأحزاب بمجرد الإخطار

تدريبات عامه علي الوحدة الرابعة

(ص ٥٢)

السؤال الأول : اختر الإجابة الصحيحة مما بين القوسين

١. من أسباب سوء حاله مصر قبل ثوره ١٩٥٢م.....
(فساد الحكام - تعدد الأحزاب - تأمين البنوك - إلغاء الرتب المدنية)
٢. من نتائج ثورة ٢٣ يوليو ١٩٥٢ تأميم.....
(بنك مصر - جمعيه مصر الفتاة - شركة قناة السويس - شركة مصر للتأمين)
٣. عادت الملاحة بقناة السويس تحت السيادة المصرية الكاملة في
(يونيو ١٩٧٥ م - مارس ١٩٧٩ م - مارس ١٩٨٩ م - يوليو ١٩٦٧ م)
٤. سيطر الحزب قبل ثورة ٢٥ يناير ٢٠١١ م على اغلبيه مقاعد مجلسي الشعب والشورى
(الوفدي - الديمقراطي - الوطني - الثوري)

(ص ٥٢)

السؤال الثاني : أكمل العبارات التالية بكلمه مناسبة :

١. إثناء ثوره ٢٥ يناير ٢٠١١ م تم قطع جميع وسائل الاتصالات
٢. صدر قانون الإصلاح الزراعي عام ١٩٥٢م م
٣. يعد مشروع توريث الحكم في مصر من ابرز أسباب ثوره ٢٥ يناير ٢٠١١م
٤. نجحت ثوره ٢٥ يناير في إسقاط النظام
٥. اتخذ قرار حرب أكتوبر بالتنسيق بين الجيش المصري والجيش السوري
٦. تمثلت المشكلات الاقتصادية قبل ثوره ٢٣ يوليو في ارتفاع الأسعار و انخفاض الدخل .
٧. ساهمت عوامل عدة في نجاح حرب أكتوبر ومنها الخداع الاستراتيجي و التدريب المستمر للجنود
٨. سعت حرب أكتوبر ١٩٧٣ م لإنهاء حالة اللاحرب و اللاسلم التي فرضت في المنطقة الغربية
٩. من ابرز التحولات في ثوره ٢٣ يوليو ١٩٥٢ م القضاء على النظام الملكي وإعلان النظام الجمهوري

السؤال الثالث : ضع علامة (√) أمام العبارة الصحيحة وعلامة (X) أمام العبارة غير الصحيحة مع التصويب

(ص ٥٣)

١. اتسمت ثوره ٢٥ يناير ٢٠١١م بأنها ثورة سلميه (√)
٢. أعادت ثوره يوليو الأحزاب السياسية في يناير ١٩٥٣ م (X) ألغت الأحزاب
٣. انتشرت التجاوزات والأخطاء والفساد الإداري في مؤسسات الحكم قبل ثورة ٢٥ يناير (√)
٤. حرم الفلاحون من امتلاك الأراضي الزراعية قبل ثورة يوليو ١٩٥٢ م (√)
٥. من عوامل تحقيق النصر في حرب أكتوبر تعاون الدولة العربية (√)
٦. التزمت مصر وإسرائيل بقرار مجلس الأمن رقم ٣٣٨ (X) لم تلتزم إسرائيل
٧. انعكس فساد الحكم علي أحوال مصر قبل ثورة يوليو ١٩٥٢ م (√)

(ص ٥٣)

السؤال الرابع : بم تفسر ؟

١- فشل العدوان الثلاثي على مصر في ١٩٥٦ م

- تضام الشعوب العربية بجانب مصر .
- تلاحم الجيش والشعب .
- معارضة الاتحاد السوفيتي للعدوان .

٢- العدوان الاسرائيلي على مصر في يونيو ١٩٦٧ م

- بسبب مناصرة مصر لحركات التحرر الوطني في آسيا وأفريقيا

٣- اندلاع ثورة ٢٥ يناير ٢٠١١ م

- سوء الأوضاع السياسية والاقتصادية والاجتماعية في مصر .
- انتشار الفساد في مرافق الدولة .
- تزوير الانتخابات وسيطرة الحزب الوطني الحاكم على أغلبية مقاعد مجلس الشعب .

٤- تشكيل لجان شعبية إثناء ثوره ٢٥ يناير ٢٠١١ م

- للمساهمة في حفظ الأمن وحماية المواطنين

(ص ٥٣)

السؤال الخامس : ما النتائج التي تترتب علي ؟

١- تأميم قناة السويس في يوليو ١٩٥٦ م

- العدوان الثلاثي على مصر / عودة القناة للسيادة المصرية

٢- انتصار السادس من أكتوبر ١٩٧٣ م

- كسر حاجز الخوف واستعادة الشعب المصري ثقته بنفسه .
- احترام العالم للمصريين في شتى البقاع
- عودة الملاحة بقناة السويس .
- ظهور أهمية التضامن العربي .

٣- مناصرة مصر لحركات التحرر الوطني في آسيا وإفريقيا

- العدوان الإسرائيلي على مصر ١٩٦٧ م

٤- سوء الحالة الأمنية بالمجتمع بعد ٢٥ يناير ٢٠١١ م
• تكوين اللجان الشعبية للمحافظة على الأمن .

٥- ثوره ٣٠ يونيو ٢٠١٣
• عزل محمد مرسي وتسليم السلطة للمستشار عدلي منصور .
• تعديل دستور ٢٠١٢ م و صدور الدستور الجديد يناير ٢٠١٤ م
• انتخاب عبد الفتاح السيسي رئيسا لمصر .

السؤال السادس: رتب الأحداث التاريخية التالية من القديم للحديث (٥٣)
حرب الاستنزاف - العدوان الاسرائيلي على مصر - العدوان الثلاثي على مصر تأميم قناة السويس
افتتاح السد العالي

الإجابة

- ١- تأميم قناة السويس .
- ٢- العدوان الثلاثي على مصر .
- ٣- العدوان الإسرائيلي على مصر .
- ٤- حرب الاستنزاف .
- ٥- افتتاح السد العالي .

السؤال السابع : قارن بين ثورة ٢٣ يوليو ١٩٥٢ م وثورة يناير ٢٠١١ م (ص ٥٤)

وجه المقارنة	٢٣ يوليو ١٩٥٢ م	٢٥ يناير ٢٠١١ م
أحوال مصر قبيل الثورة	يجيب عليها الطالب	يجيب عليها الطالب
أسباب الثورة		
أهداف / مبادئ الثورة		
ما تم تحقيقه من إنجازات		

السؤال الثامن : ماذا كان يحدث إذا ؟ (ص ٥٤)

- ١- لم يتم تأميم قناة السويس في يوليو ١٩٥٦ م
استمر التدخل في شئون مصر - فقدت مصر موردا اقتصاديا هاما
- ٢- لم يتم صدور قانون الإصلاح الزراعي
لم تتحقق العدالة الاجتماعية / بقاء النظام الطبقي في المجتمع المصري
- ٣- هزمت مصر في حرب أكتوبر ١٩٧٣ م
فقد الشعب والجيش المصري الثقة في النفس - استمرت إسرائيل في احتلال شبه جزيرة سيناء

تدريبات عامه علي الفصل الدراسي الثاني للصف السادس الابتدائي

السؤال الأول : ضع علامة (√) أمام العبارة الصحيحة وعلامة (X) أمام العبارة غير الصحيحة مع التصويب

(ص ٥٥ - ٥٦)

١. تعد الصحراء الغربية اكبر صحاري مصر في مساحتها (√)
٢. تمتد الصحراء الشرقية من وادي النيل والدلتا شرقا حتى الحدود المصرية الليبية غربا (X) الصحراء الغربية
٣. من محافظات الصحراء الشرقية محافظه البحر الأحمر (√)
٤. تقع هضبة مارماريكا في الشمال من الصحراء الشرقية (X) الصحراء الغربية
٥. تعرف الهضبة الجنوبية في الصحراء الغربية بهضبة الجلف الكبير (√)
٦. يعد جبل سانت كاترين من أعلى جبال شبه جزيرة سيناء (√)
٧. يتميز مناخ البيئة الصحراوية بالاعتدال صيفاً وشتاء (X) البيئة الساحلية
٨. تربع البيئة الصحراوية تربه طينية لزجه (X) تربة رملية مفككة
٩. من العادات الايجابية في البيئة الصحراوية الزواج المبكر (X) العادات السلبية
١٠. يؤدي تملح التربة إلى رفع كفاءة إنتاجيه الأرض (X) قلة إنتاجية الأرض
١١. يحد الصحراء الغربية البحر الأحمر شرقاً و وادي النيل غرباً (X) الصحراء الشرقية
١٢. تضم البيئة الساحلية في مصر إحدى عشرة محافظة (√)
١٣. تعتبر مدينه مرسى مطروح من المدن المليونية بالبيئة الساحلية (X) الإسكندرية أو بورسعيد
١٤. تنتشر الشعاب المرجانية بمناطق متفرقة بسواحل البحر المتوسط (X) ساحل البحر الأحمر .
١٥. تتميز السهول الساحلية في شمال الدلتا بانخفاض منسوبها (√)
١٦. تكثر الخلجان علي ساحلي خليج السويس والعقبة ونقل علي طول ساحل البحر الأحمر (√)
١٧. يعمل سكان البيئة الساحلية بالزراعة في مناطق متعددة (√)
١٨. تعد البيئة الساحلية مناطق طرد لسكانها (X) مناطق جذب سكاني
١٩. أصدرت الدولة قوانين تجرم إلقاء مخلفات الصرف في مياه البحر (√)
٢٠. ينقسم الساحل الشمالي إلى خمسة أقسام (X) ثلاثة أقسام .
٢١. لم يهتم (محمد على) بتنمية وتطوير الزراعة (X) أهتم بتنمية الزراعة
٢٢. انشأ (محمد على) قصر الجوهرة بالقلعة (√)
٢٣. اهتم (محمد على) ببناء مصر الحديثه علي النمط الانجليزي (X) النمط الفرنسي
٢٤. أعلنت انجلترا حمايتها علي مصر في عام ١٩٠٤ م (X) ١٩١٤ م
٢٥. عقدت فرنسا مع انجلترا ما عرف بالاتفاق الودي عام ١٩٠٤ م (√)
٢٦. ولد الزعيم احمد عرابي بمحافظه الإسكندرية (X) محافظة الشرقية

٢٧. أدت الامتيازات الأجنبية إلى التدخل في شئون مصر (✓)
٢٨. انضم الزعيم مصطفى عامل إلى صفوف الثورة العربية (✓)
٢٩. قام محمد فريد بدور كبير في مقاومه الاحتلال البريطاني (✓)
٣٠. تتلمذ سعد زغلول علي يد الشيخ محمد عبده (✓)
٣١. بدأت الحرب العالمية الأولى في أغسطس ١٩١٤ م (✓)
٣٢. وافقت السلطات البريطانية في مصر علي سفر الوفد المصري الى باريس (✓)
٣٣. خيب مؤتمر الصلح آمال المصريين في الاستقلال (✓)
٣٤. نفي الزعيم سعد زغلول ورفاقه في المرة الأولى إلى جزيرة سيشل (X) جزيرة مالطة .
٣٥. شكل سعد زغلول أول حكومة دستورية في مصر عام ١٩١٩ م (X) ١٩٢٤ م
٣٦. تعد ثوره ١٩١٩ م ثورة شعبية (✓)
٣٧. رفض محمد فريد مد امتياز شركه قناه السويس عام ١٩١٠ م (✓)
٣٨. أسس طلعت حرب بنك مصر عام ١٩٢٢ م (✓)
٣٩. ساهم بنك مصر في تمويل الصناعات المصرية الكبيرة (✓)
٤٠. عزل اللورد كرومر من منصبه بعد حادثه دنشواي عام ١٩٠٦ (✓)
٤١. أعلن تأميم شركه قناه السويس في عام ١٩٥٦ م (✓)

السؤال الثاني : - اكتب المفهوم أو المصطلح الذي تعبر عنه العبارات التالية :- (ص ٥٧)

١. (منخفض) ارض منخفضة تحيط بها أراضي مرتفعه
٢. (الكثبان الرملية) كومات رملية تأخذ أشكالاً مختلفة وتنتشر في مناطق الصحاري .
٣. (الواحات) قطعة من الأرض مزروعة بالنخيل والمحاصيل الحقلية وسط أرض صحراوية .
٤. (سياحة السفاري) سياحة تتم داخل الصحراء .
٥. (السياحة البيئية) سياحة الغوص منها التمتع بالبيئة الطبيعية خاصة مناطق المحميات .
٦. (التصحر) تدهور التربة الزراعية وانخفاض القدرة الإنتاجية لها .
٧. (الفراشات الرملية) وجود كميات كبيرة من الرمال المفككة تقوم الرياح بتحريكها من مكان لآخر .
٨. (التلال الجيرية) أرض مرتفعة قليلاً ومكونة من الصخور الجيرية ناصعة البياض .
٩. (المستنقعات) مناطق منخفضة ممتلئة بالمياه والحشائش والأعشاب .
١٠. (الخليج) تداخل مائي في اليابس .
١١. (البحيرات) مسطحات مائية تمتد عادة موازية للبحر وتتصل به عن طريق بواغيز .
١٢. (الشرم) خليج شديد الضيق متعمق في اليابس نتيجة هبوط الساحل .
١٣. (المدينة المليونية) المدينة التي يزيد سكانها عن مليون نسمة .

١٤. (الهجرة غير الشرعية) هجرة أفراد وجماعات إلى خارج الدولة بطرق غير قانونية .
١٥. (تآكل الشواطئ) قيام الأمواج بنحت الصخور التي تشكل ساحل البحر .
١٦. (الجلاء) خروج القوات المحتلة من أراضي الدولة التي احتلتها نهائياً .
١٧. (بنك وطني) بنك يديره المواطنون بأموال وطنية وتحت إشراف وطني .

ص (٥٩ - ٦٠)

السؤال الثالث : ما النتائج التي تترتب على

- ١- ارتفاع نسبه مساحه الصحاري المصرية
- ٢- حدوث السيول في البيئة الصحراوية
- تدمير الحقول الزراعية والمباني . - تدمير الطرق - تعطل حركة النقل .
- ٣- هبوب رياح الخماسين على مصر .
- إتلاف المحاصيل الزراعية - ضارة بصحة الإنسان
- ٤- توافر الآبار والعيون في الصحاري المصرية
- قيام حرفة الزراعة في الواحات والأودية - ممارسة حرفة الرعي - تجمع السكان في الواحات
- ٥- ندره الماء في الصحاري المصرية
- قلة النبات الطبيعي - ندرة الحيوانات البرية - قلة السكان .
- ٦- توافر مناطق التعدين وحقول البترول في البيئة الصحراوية
- تجمع السكان في هذه المناطق لاستخراج البترول والمعادن - توفر فرص العمل للسكان في البيئة الصحراوية
- ٧- تمتع البيئة الصحراوية بمناظرها الخلابة
- جذب السياح وأصبحت السياحة من الأنشطة الاقتصادية الهامة في البيئة الصحراوية
- ٨- حركة الرمال على البيئة الصحراوية
- إتلاف المحاصيل الزراعية - تعطيل حركة النقل لتراكم الرمال على الطرق - ردم الآبار وزيادة التصحر
- ٩- إنشاء الدولة للسدود على الأودية
- لحجز مياه الأمطار والاستفادة منها - حماية المنشآت والطرق من أخطار السيول .
- ١٠- انتشار سلاسل التلال الجيرية في البيئة الساحلية
- تخزين مياه الأمطار والاستفادة منها في حفر الآبار .
- ١١- انتشار الجزر الساحلية بالبحر الأحمر
- استخدامها كمراكز للصيد - تستخدم في مجال السياحة .
- ١٢- اهتمام (محمد علي) في سياسته الاقتصادية بالاكثفاء الذاتي
- تحقيق الاستقلال السياسي لمصر .
- ١٣- سياسة (محمد علي) الخارجية التوسعية
- تدعيم استقلال مصر - الصدام مع أطماع الدول الاستعمارية في المنطقة
- ١٤- معاهده لندن عام ١٨٤٠م
- إعادة بلاد الشام والجزيرة العربية إلى سيطرة السلطان العثماني .
- تثبيت محمد علي في حكم مصر وإعلان خضوعه للباب العالي .
- ١٥- الديون التي زادت في عهد إسماعيل باشا
- ازدياد التدخل الأجنبي في شئون مصر .
- ١٦- قيام احمد عرابي وزملائه بتقديم عريضة إلى رياض باشا
- ألقي القبض على زعماء الثورة العرابية (أحمد عرابي - علي فهمي - عبد العال حلمي) .
- تحرك قوة مصرية وأطلقت سراح القادة الثلاثة .
- اضطر الخديوي الاستجابة لمطالبهم وتعين محمود سامي البارودي وزيراً للحربية .

١٧- معركة التل الكبير ١٨٨٢م

التغلب على جيش عرابي في سبتمبر ١٨٨٢ م ثم احتلوا القاهرة في ١٤ سبتمبر ١٨٨٢ م

١٨- نفى سعد زغلول وزملائه إلى جزيرة مالطة ١٩١٩م

كان بمثابة الشرارة التي فجرت ثورة ١٩١٩ م .

١٩- إنشاء طلعت حرب لبنك مصر

تمويل الصناعات المصرية - تمويل الشركات التجارية - ازدهار الاقتصاد المصري

٢٠- عقد معاهدة السلام بين مصر وإسرائيل ١٩٧٩م

استعادة الأجزاء المحتلة من شبه جزيرة سيناء سلميا - انتهاء حالة الحرب بين مصر وإسرائيل .

٢١- انتصار المصريين في حرب أكتوبر ١٩٧٣م

عودة الملاحة بقناة السويس تحت السيادة المصرية .

توقيع اتفاقية السلام مع إسرائيل في مارس ١٩٧٩م

احترام العالم للمصريين في شتى البقاع .

السؤال الرابع :- قارن بين كل من :

ص (٦٠ - ٦١)

١- البيئة الصحراوية - البيئة الساحلية من حيث مظاهر السطح والمناخ

عناصر المقارنة	البيئة الصحراوية	البيئة الساحلية
مظاهر السطح	<p>أولا : الجبال</p> <p>العوينات - جبال البحر الأحمر - سانت كاترين</p> <p>ثانيا : الهضاب</p> <p>مارماريكا - العابدة - الجلالة الشمالية - الجلالة الجنوبية - التيه - العجمية .</p> <p>ثالثا : الأودية الجافة</p> <p>وادي قنا - وادي العلاقي - وادي العريش .</p> <p>رابعا : المنخفضات والواحات</p> <p>القطارة - الخارجة - الداخلة - الفرافرة - سيوة - البحرية .</p> <p>خامسا : التكوينات الرملية</p>	<p>أولا : السهول الساحلية : البحر الأحمر والبحر المتوسط .</p> <p>ثانيا : الجزر الساحلية على ساحل البحر الأحمر .</p> <p>ثالث : البحيرات : تنتشر على سواحل البحر المتوسط</p> <p>رابعا : المستنقعات : شمال سيناء والدلتا</p> <p>خامسا : الخلجان والرؤوس الأرضية مثل : خليج أبوقير وخليج العرب ورأس الحكمة</p> <p>سادسا : الشعاب المرجانية : تنتشر على سواحل البحر الأحمر .</p>
المناخ	<p>أولا : الحرارة مرتفعة صيفا وتنخفض في الشتاء .</p> <p>ثانيا : الأمطار نادرة وفد تكون فجائية على شكل سيول</p> <p>ثالثا : رياح الخماسين تهب في شهري مارس وأبريل وهي رياح ضارة .</p>	<p>سواحل البحر المتوسط : الحرارة : معتدلة بصفة عامة طول العام الأمطار : شتاء</p> <p>سواحل البحر الأحمر : الدفء طول العام وارتفاع الحرارة صيفا . ندرة الأمطار - وقد تسقط على شكل سيول أحيانا .</p>

٢- سكان البيئة الصحراوية – سكان البيئة الساحلية من حيث الكثافة والتوزيع

أوجه المقارنة	سكان البيئة الصحراوية	سكان البيئة الساحلية
الكثافة والتوزيع		
التوزيع	الواحات حول مناطق التعدين واستخراج البترول متناثرون في الصحراء	في المدن الساحلية داخل ١١ محافظة ومنها مدن مليونية كبرى مثل الإسكندرية وبورسعيد .

٣- البيئة الصحراوية والبيئة الساحلية من حيث النبات والحيوان :

البيئة الصحراوية	البيئة الساحلية	
النبات	- أشجار النخيل والدوم . - النباتات الشوكية – الصبار .	على ساحل البحر المتوسط : الحشائش والأعشاب . - أشجار الزيتون واللوز . على ساحل البحر الأحمر : - المانجروف – الغرقد – السمار .
الحيوان	الغزلان – الأرناب البرية – الثعالب . حيوانات يرعاها البدو : الإبل – الأغنام – الماعز .	على ساحل البحر المتوسط : الغزال – الثعالب البرية . على ساحل البحر الأحمر : الغزال – القط البري .

٤- البيئة الصحراوية والبيئة الساحلية من حيث مشكلات كل منهما :

البيئة الصحراوية	البيئة الساحلية
- قلة المياه . - حركة الرمال . - السيول . - تملح التربة .	- تلوث المياه الشاطئية . - تآكل السواحل بفعل نحت الأمواج .

٥- الخليج والشرم :

الخليج : تداخل مائي في اليابس مثل خليج أبو قير وخليج العرب .
الشرم : خليج شديد الضيق متعمق في اليابس .

٦ – البوغاز والمستنقع

البوغاز : فتحة طبيعية أو صناعية تدخل منها المياه إلى البحيرات .
المستنقع : منطقة منخفضة تربتها مشبعة بالماء الراكد تغطيها النباتات .

٧ - العادات الإيجابية والسلبية لسكان البيئة الساحلية

العادات الإيجابية	العادات السلبية
<ul style="list-style-type: none"> العمل في جماعة حب المغامرة والشجاعة . مشاركة المرأة للرجل في العمل . انفتاحهم على العالم الخارجي . الاحتفال ببعض المناسبات . 	<ul style="list-style-type: none"> الهجرة غير الشرعية . تصريف المخلفات المنزلية والصناعية في البحر . الصيد غير القانوني .

٨- نتائج كلاً من ثورة ١٨٨١ وثورة ١٩١٩ من حيث الأسباب

ثورة ١٨٨١ عربي	ثورة سعد زغلول ١٩١٩
<ul style="list-style-type: none"> ازدياد التدخل الأجنبي في شئون مصر نتيجة القروض في عهد سعيد باشا والخديوي إسماعيل . الامتيازات الأجنبية التي منحتها الدولة العثمانية للأجانب . تسريح الآلاف من الجمود والضباط المصريين وعدم ترقية المصريين . 	<ul style="list-style-type: none"> ازدياد الوعي القومي والدعوة إلى التحرر من الاستعمار . التطلع إلى الحرية والاستقلال . إعلان الرئيس الأمريكي حق تقرير المصير . الإجراءات التعسفية التي فرضها الاحتلال البريطاني على مصر أثناء الحرب العالمية الأولى .

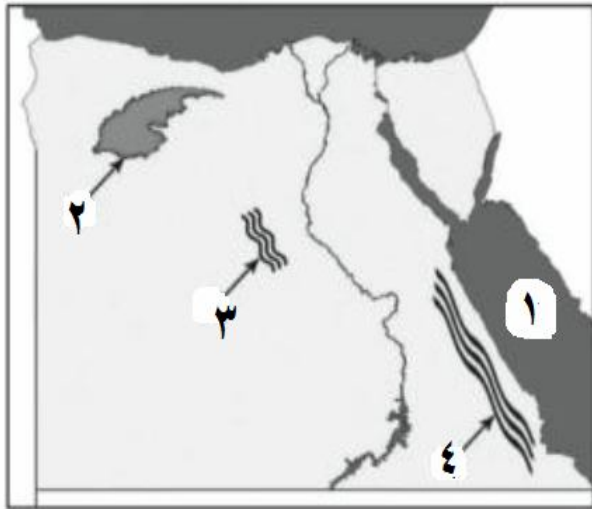
٩- ثورة ١٨٨١ م و ثورة ١٩١٩ م من حيث النتائج

ثورة ١٨٨١ عربي	ثورة سعد زغلول ١٩١٩
<ul style="list-style-type: none"> احتلال الإنجليز لقناة السويس . هزيمة عربي عند التل الكبير . احتلال الإنجليز القاهرة ١٥ سبتمبر ١٨٨٢ . 	<ul style="list-style-type: none"> الإفراج عن سعد زغلول وزملاؤه . أصدار تصريح ٢٨ فبراير .

١٠- الأسباب السياسية – الاقتصادية لثورة يوليو ١٩٥٢

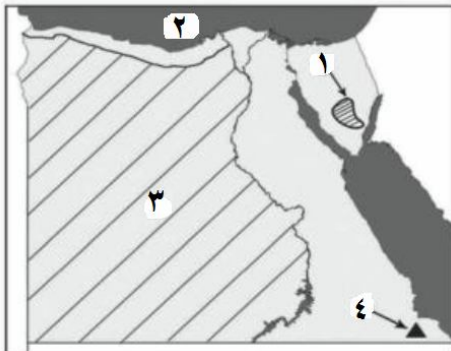
الأسباب السياسية	الأسباب الاقتصادية
الاحتلال البريطاني لمصر وفساد الحكام .	ارتفاع الأسعار وانخفاض الدخل وانتشار الفقر

السؤال الخامس : ص (٦١ - ٦٢ - ٦٣)
(أ) أمامك خريطة صماء لجمهورية مصر العربية أكتب مدلول الأرقام الموقعة عليها ؟



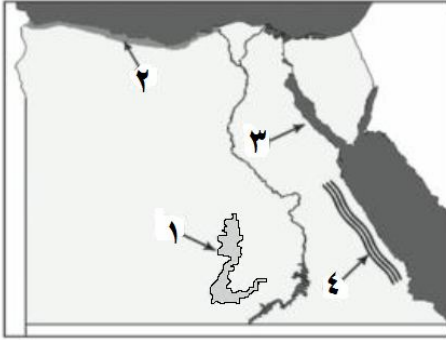
١. البحر : الأحمر
٢. منخفض : القطارة
٣. كتبان : رملية .
٤. جبال : البحر الأحمر .

(ب) أمامك خريطة صماء لجمهورية مصر العربية اكتب مدلول الأرقام الموقعة عليه



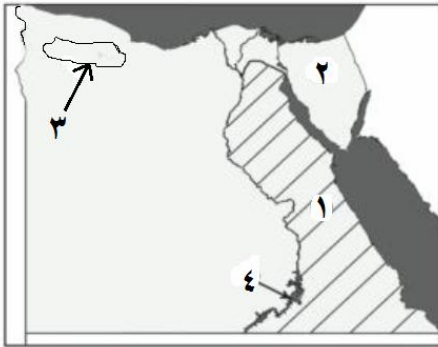
١. هضبة : العجمة .
٢. البحر : المتوسط
٣. الصحراء : الغربية .
٤. جبل : علبة

(ج) أمامك خريطة صماء لجمهورية مصر العربية اكتب مدلول الأرقام المواقع عليه



١. واحة : الخارجة
٢. الساحل : الشمال
٣. خليج : السويس .
٤. جبال : البحر الأحمر

(د) أمامك خريطة صماء لجمهورية مصر العربية اكتب مدلول الأرقام المواقع عليه



١. الصحراء : الشرقية .
٢. شبه جزيرة : سيناء .
٣. هضبة : مارماريكا .
٤. بحيرة : ناصر .

السؤال السادس : أكمل العبارات التالية بما يناسبه ١ من كلمات :- ص (٦٣ - ٦٤ - ٦٥ - ٦٦)

- ١- تبلغ نسبة مساحة البيئة الصحراوية ٩٦% من جملة مساحة مصر
- ٢- الصحراء الغربية تمتد من وادي النيل والدلتا شرقا إلى دوله ليبيا غرباً
- ٣- تبلغ مساحة الصحراء الشرقية نحو ٢٢% من جملة مساحة مصر
- ٤- من محافظات الصحراء الشرقية محافظه البحر الأحمر .
- ٥- تقع هضبة الجلالة البحرية في شمال غرب الصحراء الشرقية
- ٦- تربه الواحات تنتج عن اختلاط الرمال بـ الطين
- ٧- يعتبر وادي العلاقي من الأودية الجافة في الصحراء الشرقية
- ٨- يتميز مناخ البيئة الصحراوية بـ ارتفاع الحرارة في فصل الصيف
- ٩- تتوافر المياه الجوفية بالبيئة الصحراوية
- ١٠- من أهم الحيوانات البرية في البيئة الصحراوية الغزال
- ١١- تعد الواحات من مناطق التركيز السكاني في البيئة الصحراوية
- ١٢- من أهم العادات السلبية في البيئة الصحراوية عمل الأطفال في الرعي
- ١٣- تعد حرفه الرعي من الحرف الأصيلة في البيئة الصحراوية
- ١٤- يهتم سكان البيئة الصحراوية بالصناعات الحرفية
- ١٥- من أهم مناطق تعدين الحديد بالواحات البحرية منطقة الجديدة

- ١٦- سياحة **البيئة** الغرض منها التمتع بالبيئة الطبيعية
- ١٧- تعد البيئة **الصحراوية** مستقبل مصر
- ١٨- تؤثر **تحركات الرمال** في إتلاف الحقول الزراعية بالبيئة الصحراوية
- ١٩- تمتد البيئة **الساحلية** على طول ساحل البحر المتوسط والبحر الأحمر
- ٢٠- تقوم **التلال الجيرية** بدور هام في تخزين مياه الأمطار في البيئة الساحلية
- ٢١- من أشهر القبائل الرعوية في الصحراء الشرقية قبائل **العبادة**
- ٢٢- تنتشر **الشعاب المرجانية** في مناطق متفرقة بالمياه الضحلة لساحل البحر الأحمر
- ٢٣- من أهم النباتات الطبيعية في البيئة الساحلية شجيرات **المانجروف**
- ٢٤- المدن **المليونية** هي المدن التي يزيد عدد سكانها عن مليون نسمة
- ٢٥- طبع البحر سكان البيئة الساحلية علي حب **المغامرة** والشجاعة في مواجهه الإخطار
- ٢٦- من العادات السلبية لسكان البيئة الساحلية الهجرة غير **الشرعية**
- ٢٧- يبلغ إنتاج مصر السنوي من الثروة السمكية في البيئة الساحلية مايزيد عن **٦٠ %**
- ٢٨- تعد حرفه **الصيد** من الحرف الرئيسة في البيئة الساحلية
- ٢٩- من أهم اسماك البحر الأحمر **المرجان** والدنيس
- ٣٠- قسم (محمد على) البلاد إلى **سبع** مديريات
- ٣١- يرأس النظام الإداري في عهد (محمد على) الحكومة **المركزية** ومقرها القاهرة .
- ٣٢- اعتمد (محمد على) في سياسته الاقتصادية علي **الاكتفاء الذاتي**
- ٣٣- من أهم مشروعات الري في عهد (محمد على) مشروع **القناطر الخيرية**
- ٣٤- أنشأ (محمد على) قصر **الجوهرة** بالقلعة
- ٣٥- أقام (محمد على) معامل للسكر في **الوجه القبلي**
- ٣٦- ولد أحمد عرابي في محافظه **الشرقية**
- ٣٧- يعد الإمام **محمد عبده** من زعماء الإصلاح في مصر
- ٣٨- عقدت فرنسا مع انجلترا ما يعرف بـ **الاتفاق الودي** عام ١٩٠٤م
- ٣٩- عزل اللورد كرومر من منصبه عقب حادثه **دنشواي**
- ٤٠- تتلمذ سعد زغلول علي يد المصلح الديني الشيخ **محمد عبده**
- ٤١- تم اختيار سعد زغلول وزيرا للحقانية عام **١٩١٠ م**
- ٤٢- نفي سعد زغلول وزملائه في مارس ١٩١٩م إلى جزيرة **مالطة**
- ٤٣- أعقب تصريح ٢٨ فبراير ١٩٢٢م إصدار دستور **١٩٢٣ م**
- ٤٤- شكل سعد زغلول أول حكومة **دستورية** في مصر عام ١٩٢٤ م
- ٤٥- رفض طلعت حرب مسألة مد امتياز شركه قناة السويس في عام **١٩١٠ م**

٤٦- أسس طلعت حرب بنك مصر عام ١٩٢٠م

٤٧- تم افتتاح السد العالي عام ١٩٧١ م

٤٨- تجمع الشعب مره أخرى في ٣٠ يونيو عام ٢٠١٣ للمطالبة بالتغيير

ص (٦٦ - ٦٨-٦٧)

السؤال السابع : بم تفسر.....؟

- ١- حدوث السيول في البيئة الصحراوية
بسبب سقوط الأمطار فجائية في البيئة الصحراوية .
- ٢- وجود السكان بالواحات في البيئة الصحراوية
لوجود مياه الآبار والعيون . وقيام حرفة الزراعة
- ٣- انخفاض جوده التربة في المناطق الصحراوية
بسبب قلة المياه - لأنها تربة رملية صفراء .
- ٤- معاناة سكان البيئة الصحراوية من المشكلات الاقتصادية
بسبب قلة الموارد - ندرة الأراضي - انخفاض مستوى المعيشة .
- ٥- تعد السياحة من الأنشطة الاقتصادية الهامة في البيئة الصحراوية
لتمتعها بالنباتات والحيوانات النادرة- مناظرها الخلابة - تعدد المزارات السياحية .
- ٦- لحركه الرمال أثارها السلبية في البيئة الصحراوية
لأنها تؤدي لإتلاف الحقول الزراعية وتعطيل حركة النقل - ردم الآبار وزيادة التصحر .
- ٧- إنشاء السدود على الأودية المنتشر في الصحراء
لحجز المياه والاستفادة منها بدلاً من إهدارها .
- ٨- أهميه التلال الجيرية الممتدة على الساحل الشمالى للبحر المتوسط
تخزين مياه المطر والاستفادة منها في حفر الآبار .
- ٩- ضييق السهول الساحلية المطلة على البحر الأحمر
لاقتراب الجبال من ساحل البحر الأحمر .
- ١٠- اعتدال مناخ البيئة الساحلية
لأن البحر يلطف من درجة حرارة الجو معظم فصول السنة .
- ١١- نمو الشعاب المرجانية على طول ساحل البحر الأحمر
لهدوء المياه ودفئ الحرارة وصفاتها .
- ١٢- تركز نسبه كبيره من سكان مصر في المحافظات الساحلية
لتوافر الموارد الغذائية والمواد الخام - لأنها مناطق جذب سياحي - لوجود النقل البحري والتجارة .
- ١٣- تنوع الأنشطة الاقتصادية في البيئة الساحلية
لتنوع الموارد الطبيعية في البيئة الساحلية .
- ١٤- قيام النشاط الزراعي في الساحل الشمالى الغربى لمصر
بسبب سقوط الأمطار على الساحل الشمالى الغربى لمصر .
- ١٥- اهتمام (محمد على) بالنهضة الصناعية
لسد حاجة الجيش من الملابس والأسلحة .

١٦ - اهتمام (محمد علي) بالجيش والبحرية
لأنه كان يعلم أن نجاح مشروعاته الداخلية والخارجية مرتبط ببناء جيش قوي مدرب على أحدث الأساليب الأوروبية ومرتبطة ببناء أسطول بحري قوي .

١٧ - صدور معاهدة لندن عام ١٨٤٠م

بسبب توسعات محمد علي الخارجية في الجزيرة العربية وبلاد الشام وبلاد المورة . والحد من توسعته الخارجية
١٨ - زيادة التدخل الأجنبي في شئون مصر في عهد الخديوي توفيق
بسبب الأزمة المالية التي زادت في عهد إسماعيل وتفاقت في عهد توفيق .

١٩ - قيام الثورة العربية ١٨٨١م

التدخل الأجنبي في شئون البلاد - الامتيازات الأجنبية التي منحتها الدولة العثمانية للرعايا الأجانب في مصر -
ترقية الأتراك في الوظائف على حساب المصريين .

٢٠ - سوء أحوال المصريين الاقتصادية في عهد الخديوي توفيق
بسبب زيادة الأزمة المالية - ترقية الأتراك في الوظائف على حساب المصريين .

٢١ - هزيمة أحمد عرابي في معركة التل الكبير

بسبب خيانة ديليسبس لأحمد عرابي بأمر من الخديوي توفيق .

٢٢ - عزل اللورد كرومر من منصبه كمعتمد بريطاني

بسبب حادثة دنشواي ١٩٠٦ .

٢٣ - نفي سعد زغلول وزملائه إلى جزيرة مالطة

لاتجاههم لتعبئة الرأي العام الداخلي "الشعب" ضد الاحتلال البريطاني .

٢٤ - العدوان الثلاثي على مصر ١٩٥٦م

بسبب تأميم مصر قناة السويس في ٢٦ يوليو ١٩٥٦ .

٢٥ - عقد معاهدة السلام بين مصر وإسرائيل مارس ١٩٧٩م

لوقف الحرب واسترداد مصر لأراضيها المحتلة من سيناء

ص (٦٨ - ٦٩)

السؤال الثامن : ماذا يحدث إذا.....؟

١ - لم يتنوع المناخ في مصر

لم تتنوع النباتات الطبيعية - لم تتنوع المحاصيل الزراعية - لم تتنوع البيئات المصرية

٢ - تميز مناخ البيئة الصحراوية بالاعتدال طول العام

تركز نسبة كبيرة من السكان في البيئة الصحراوية

٣ - لم تتوافر المياه الجوفية بالبيئة الصحراوية

عدم تركيز السكان في الواحات - انعدام وجود حرفتي الرعي والزراعة .

٤ - تميزت تربة البيئة الصحراوية بالتكوينات الطينية

يؤدي لوجود زراعة وتركز السكان

٥ - لم تتوافر سلاسل التلال الجيرية على طول الساحل الشمالى الغربى للبحر المتوسط

لم يتم تخزين مياه المطر . عدم حفر الآبار - قلة الزراعة

٦ - قل النشاط السياحي والترويجي في البيئة الساحلية

انخفاض إقبال السياح - انخفاض الدخل القومي .

٧- ألقى سكان المدن الساحلية بمياه الصرف الصحي في البحر
تلوث المياه - تدهور الثروة السمكية - تقل سياحة الشواطئ .

٨- اعتمد (محمد على) في سياسته الاقتصادية على الدعم الأجنبي
التدخل الأجنبي في شؤون مصر الاقتصادية .

٩- لم يرسل (محمد على) البعثات التعليمية إلى الخارج
لم يتطور التعليم ولم يتم ترجمة الكتب إلى عدة لغات .

١٠- لم تصدر بريطانيا تصريح ٢٨ فبراير ١٩٢٢م
لم تحصل مصر على استقلالها .

١١- لم تعقد اتفاقية السلام بين مصر وإسرائيل عام ١٩٧٩م
استمرار الحرب بين مصر وإسرائيل

١٢- لم يتم تأميم شركه قناة السويس ١٩٥٦م
لم يتم العدوان الثلاثي على مصر في أكتوبر ١٩٥٦ .

السؤال التاسع : ص (٦٩-٧٠)

(أ) تتنوع مظاهر السطح في البيئة الصحراوية تنوعا ملحوظا على ضوء هذه العبارة وضح :-

١- أهم الجبال في الصحراء الشرقية . ص (٦٩)

سلسلة جبال البحر الأحمر - جبل علبة - جبل حماطة - جبل الشايب أعلى جبال الصحراء الشرقية

٢- أوجه التشابه والاختلاف بين هضاب الصحراء الشرقية والغربية ص (٦٩)

هضاب الصحراء الشرقية : في الشمال هضبة الجلالة البحرية والجلالة القبلية و المعازة - في الجنوب العباددة .

هضاب الصحراء الغربية : مارمريكا في الشمال - الوسطى في الوسط - الجلف الكبير في الجنوب

٣- كيف يتكيف النبات في البيئة الصحراوية مع الظروف الطبيعية ؟ ص (٦٩)

يتكيف النبات بطرق مختلفة حيث يمد جذوره في التربة لمسافات بعيدة للحصول على المياه الجوفية مثل أشجار النخيل والدوم - تكون لها أوراق أسفنجية سمكية تخزن المياه فيها لفترات طويلة مثل الصبار والتين الشوكي .

٤- ما الفرق بين البحيرة والمستنقع مع إعطاء مثال لكل منه ؟ ص (٦٩)

البحيرة المالحة : مسطحات مائية تمتد عادة موازية للبحر وتتصل به عن طريق بواغيز . بمثل بحيرة البردويل .

المستنقع : منطقة منخفضة تربتها مشبعة بالماء الراكد وتغطيها النباتات . مثل الساحل الشمالي لدلتا النيل .

(ب) توجد بالبيئة الصحراوية كميات ضخمة من أجود أنواع الصخور التي تستخدم في مجالات متعددة
على ضوء هذه العبارة وضح :-

١- أهم أماكن تواجد خامي الحديد والفوسفات في البيئة الصحراوية ص (٧٠)

خام الحديد : الواحات البحرية منطقة الجديدة .

خام الفوسفات : هضبة أبو طرطور بالوحدات الخارجية

٢- ما العلاقة بين البيئة الصحراوية والنشاط السياحي

ص (٧٠)

قيام سياحة السفاري والسياحة البيئية في الصحاري المصرية مما يؤدي لازدهار السياحة .

٣- تخيل أنك مسئول عن تعمير الصحراء فما أهم القرارات التي سوف تتخذها في هذا المجال ؟

ص (٧٠)

زيادة المشروعات الزراعية فيها .

- عمل شبكة من الطرق لتسهيل حركة النقل .

- إقامة مدن عمرانية جديدة مزودة بالخدمات والمرافق العامة مثل المدارس والمستشفيات

٤- قارن بين البيئة الصحراوية والبيئة الساحلية من حيث العادات الإيجابية للسكان ؟ ص (٧٠)

العادات الإيجابية في البيئة الصحراوية	العادات الإيجابية في البيئة الساحلية
<ul style="list-style-type: none">الحفاظ على التقاليد والتراث القديم في عادات الزواجاحترام المجالس العرفية التي يرأسها شيخ القبيلةإكرام الضيف .تكوين علاقات طيبة مع سكان البيئات الأخرى .	<ul style="list-style-type: none">العمل في جماعةحب المغامرة والشجاعة .مشاركة المرأة للرجل في العمل .انفتاحهم على العالم الخارجي .الاحتفال ببعض المناسبات .

(ج) "قائد سعد زغلول الحركة الوطنية من أجل الاستقلال والدستور" على ضوء هذه العبارة وضح :

ص (٧٠)

١- عوامل قيام ثوره ١٩١٩م

- ازدياد الوعي القومي والدعوة إلى التحرر من الاستعمار .
- التطلع إلى الحرية والاستقلال .
- إعلان الرئيس الأمريكي حق تقرير المصير .
- الإجراءات التعسفية التي فرضها الاحتلال البريطاني على مصر أثناء الحرب العالمية الأولى .

٢- رأيك في تصريح ٢٨ فبراير ١٩٢٢م

ص (٧٠)

اعترفت بريطانيا فيه بمصر دولة مستقلة ذات سيادة ولكنه استقلال شكلي

٣- الدور الذي قام به الطلبة والعمال في ثوره ١٩١٩م

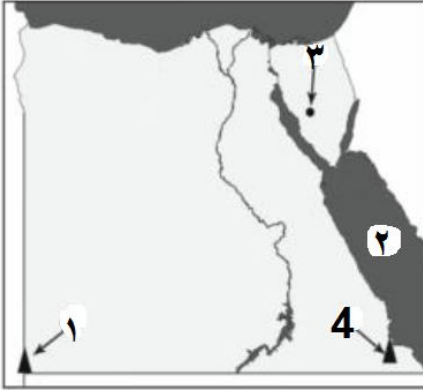
ص (٧٠)

قام الطلبة والعمال بقطع الخطوط الحديدية والتلغرافية لمنع اتصال القوات البريطانية المنتشرة في أنحاء البلاد . مما كان له الأثر في انتصار الثورة .

النموذج رقم (١) ص ٧١

أولاً: الجغرافيا

السؤال الأول : (أ) أمامك خريطة صماء لمصر أكتب في كراسة الإجابة مدلول الأرقام الموقعة عليها



- ١- جبل : العوينات .
- ٢- البحر : الأحمر .
- ٣- منطقة استخراج منجنيز : أم بجمة (شبه جزيرة سيناء) .
- ٤- جبل : علبة .

ص ٧١

(ب) ما النتائج المترتبة على ؟

١. سقوط الأمطار بغزارة أحيانا على الصحراء
امتلاء الأودية الجافة - حدوث سيول . تدمير الطرق - تسبب خسائر مادية وخسائر بشرية
٢. ارتباط سكان البيئة الساحلية بالبحر في معظم أعمالهم
قضاء معظم أوقاتهم في البحر - العمل في جماعة والتعاون فيما بينهم - حب المغامرة والشجاعة
٣. دفع و صفاء وهدوء حركة المياه في البحر الأحمر
تكون الشعاب المرجانية .

ص ٧٢

السؤال الثاني :

(أ) ضع علامة (√) أمام العبارة الصحيحة وعلامة (x) أمام العبارة غير الصحيحة مع التصويب

١. تبلغ مساحة الصحراء الشرقية ٣٢% من جملة سكان مصر (x) ٢٢% .
٢. تعد البيئة الساحلية منطقه جذب لسكان البيئات الأخرى (√)
٣. تختفي ظاهرة المنخفضات من سطح الصحراء الغربية (x) الصحراء الشرقية .
٤. يطلق علي تدهور التربة الزراعية مصطلح التصحر (√)
٥. المدينة المليونية هي التي يزيد عدد سكانها عن ١٠٠,٠٠٠ نسمة (x) مليون .
٦. تتآكل السواحل بفعل الأمطار (√)

(ص ٧٢)

(ب) ماذا يحدث إذا ؟

- ١- زادت مياه الأمطار في المناطق الصحراوية.
زادت مساحة الأراضي الزراعية - زيادة عدد سكان البيئة الصحراوية - انتشرت المراعي
- ٢- لم تطل مصر على البحر المتوسط والبحر الأحمر.
لا توجد بيئة ساحلية في مصر - يقل إنتاج الأسماك - يقل أهمية موقع مصر

ثانياً : التاريخ

ص ٧٢

السؤال الثالث : (أ) اختر الإجابة الصحيحة مما بين القوسين :

- ١- اهتم (محمد علي) بالتعليم فأرسل إلى الخارج
(الحملات - البعثات - الصناع - الحامية)
- ٢- امتدت الإمبراطورية المصرية في عهد إسماعيل إلى
(المغرب - مديريه خط الاستواء - فرنسا - مالطة)
- ٣- قامت بين مصر و وحدة عام ١٩٥٨
(ليبيا - السودان - فلسطين - سوريا)
- ٤- ارتبط اسم بالاستقلال الاقتصادي لمصر
(أحمد عرابي - طلعت حرب - دليسبس - مصطفى كامل)

ص ٧٣

(ب) ما الدروس المستفادة من ؟

- ١- إقامة جيش قوى في عهد محمد علي
المحافظة على استقلال مصر - المحافظة على الأمن والاستقرار اللازم للبناء والتنمية
- ٢- هزيمة احمد عرابي في التل الكبير
يجب تزويد الجيش بالأسلحة المتطورة - عدم الثقة في الدول الأجنبية - تطهير الجيش من الخونة
- ٣- التعاون العربي في حرب أكتوبر ١٩٧٣ م
الاتحاد قوة - أهمية الإسراع في تحقيق التكامل العربي - ضعف العرب في تفرقهم

ص ٧٣

السؤال الرابع : (أ) بم تفسر ؟

ص ٧٣

- ١- اهتمام (محمد علي) بالصناعة
لسد حاجة الجيش من الأسلحة والذخيرة والملابس .

ص ٧٣

٢- فشل العدوان الثلاثي على مصر عام ١٩٥٦ م

- تضام الشعوب العربية بجانب مصر .
- تلاحم الجيش والشعب .
- معارضة الاتحاد السوفيتي للعدوان .

ص ٧٣

٣- اندلاع ثورة الشعب المصري عام ١٩١٩ م

- ازدياد الوعي القومي والدعوة إلى التحرر من الاستعمار .
- التطلع إلى الحرية والاستقلال .
- إعلان الرئيس الأمريكي حق تقرير المصير .
- الإجراءات التعسفية التي فرضها الاحتلال البريطاني على مصر أثناء الحرب العالمية الأولى .

ص ٧٣

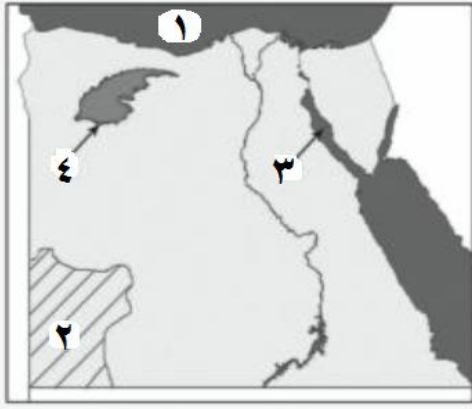
(ب) إلى من تنسب الأعمال التالية ؟

- ١- منح امتياز حفر قناة السويس للمهندس الفرنسي فرديناند دليسبس (سعيد باشا)
- ٢- أقام نقابات للعمال ودعا لتأسيس حكومة وطنية (محمد فريد) .

النموذج رقم (٢) ص ٧٤

أولاً : الجغرافيا

السؤال الأول : (أ) أمامك خريطة صماء لمصر اكتب في كراسة الاجابه مدلول الأرقام الموقعة عليها



١. البحر : المتوسط

٢. هضبه : الجلف الكبير

٣. خليج : السويس

٤. منخفض : القطارة

(ص ٧٤)

(ب) اكتب المفهوم الجغرافى الذى تدل عليه العبارات التالية :

- ١- رمال تأخذ أشكال مختلفة وتنتشر في مناطق الصحاري. (كثبان رملية)
- ٢- فتحة قد تكون طبيعيه أو صناعية تدخل عن طريقها المياه للبحيرات (بوغاز)
- ٣- قيام الأمواج بنحت الصخور التي تشكل ساحل البحر (تآكل الشواطئ)

(ص ٧٤)

السؤال الثاني : (أ) بم تفسر

- ١- معاناة سكان البيئة الصحراوية العديد من المشكلات الاقتصادية .
بسبب قلة الموارد - ندرة الأراضي - انخفاض مستوى المعيشة .
- ٢- تملح التربة في بعض المناطق بالبيئة الصحراوية .
بسبب تبخر المياه واستقرار الملح على سطح التربة .
- ٣- تعد السياحة من الأنشطة الاقتصادية المهمة في البيئة الصحراوية .
لتمتعها بالنباتات والحيوانات النادرة - مناظرها الخلابة - تعدد المزارات السياحية .

(ص ٧٥)

(ب) ماذا يحدث إذا.....؟

- ١- أهملت الدولة إقامة الفنادق والمحميات والطرق الجديدة
يقل النشاط السياحي - يقل التبادل التجاري وحركة الأفراد .
- ٢- لم تتواجد الكثبان الرملية والتلال الجيرية على طول الساحل الشمالى الغربى لمصر
عدم القدرة على تخزين مياه الأمطار وحفر الآبار وقيام حرفة الزراعة والرعي .

ثانيا : التاريخ

السؤال الثالث : (أ) أختار الاجابه الصحيحة مما بين القوسين وأكمل الفراغات التالية : (ص ٧٥)

- ١- أهتم (محمد على) بالتعليم فأرسل البعثات للخارج خاصة
(انجلترا - فرنسا - إيطاليا - أمريكا)

٢- تقلصت مشروعات (محمد علي) الإصلاحية نتيجة معاهدة لندن عام م
(١٨٣٨ - ١٨٣٩ - ١٨٤٠ - ١٨٤١)

٣- التحق احمد عرابي بالجيش في عهد الخديوي
(توفيق - إسماعيل - سعيد - عباس)

٤- كان للرئيس جمال عبد الناصر دور في تأسيس
(الحركة الوطنية - تنظيم الضباط الأحرار - جريدة اللواء - الحزب الوطني)

(ب) ما النتائج التي ترتبت على ؟

١- سوء أحوال مصر السياسية والاقتصادية في أواخر فتره حكم الرئيس الأسبق حسنى مبارك .
قيام ثورة ٢٥ يناير ٢٠١١ م

٢- تأميم شركة قناة السويس عام ١٩٥٦ م .
تعرض مصر للعدوان الثلاثي عام ١٩٥٦ م

٣- نفى سعد زغلول وبعض زعماء الوفد المصري للمرة الثانية .
اشتداد ثورة المصريين - مقاطعة البضائع والبنوك والسفن البريطانية - الإفراج عن سعد زغلول مرة أخرى

السؤال الرابع : (أ) ما الذي قام بالإعمال التالية :

ص ٧٦

- ١- قسم مصر إدارياً إلى سبع مديريات (محمد علي)
- ٢- أقام إمبراطوريه مصرية امتدت إلى مديريه خط الاستواء (الخديوي إسماعيل)
- ٣- أسس جريدة اللواء عام ١٩٠٠ (مصطفى كامل)
- ٤- رفض مد امتياز شركة قناة السويس عام ١٩١٠ (محمد فريد)

(ب) تميزت ثورة ٢٥ يناير بأنها ثورة سلميه :- على ضوء هذه العبارة السابقة - اجب عن الآتي

ص ٧٦

- ١- ما الأسباب التي أدت إلى قيام هذه الثورة
- سوء الأوضاع السياسية والاقتصادية والاجتماعية في مصر .
- انتشار الفساد في مرافق الدولة .
- تزوير الانتخابات وسيطرة الحزب الوطني الحاكم على أغلبية مقاعد مجلس الشعب

٢- قارن بين نتائج ثورة ٢٥ يناير م ٢٠١١ و ثورة ٣٠ يونيو ٢٠١٣ م

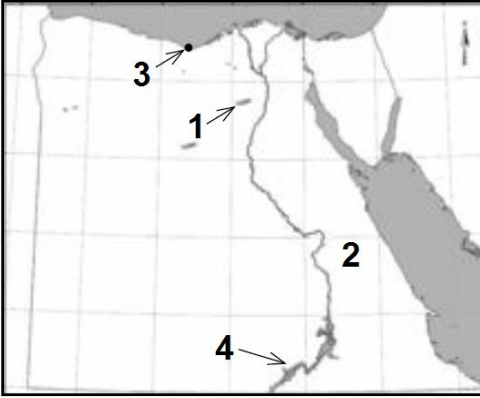
نتائج ثورة ٢٥ يناير ٢٠١١ م	نتائج ثورة يونيو ٢٠١٣ م
<ul style="list-style-type: none">• إسقاط النظام السياسي .• حل مجلسي الشعب والشورى .• الإفراج عن المعتقلين والمسجونين السياسيين .• ارتفاع الوعي السياسي لدى الشعب المصري .• التلاحم بين المسلمين والأقباط في الثورة .	<ul style="list-style-type: none">• عزل محمد مرسي وتسليم السلطة للمستشار عدلي منصور .• تعديل دستور ٢٠١٢ م و صدور الدستور الجديد يناير ٢٠١٤ م• انتخاب عبد الفتاح السيسي رئيسا لمصر .

٣- عبر بأسلوبك عن كيف يمكن تحقيق العدالة الاجتماعية بالمجتمع

محاربة الفساد - وضع حد أقصى للأجور لأصحاب المراتب العالية جدا - وضع حد أدنى للأجور للطبقات العاملة الفقيرة - التوسع في منح معاشات الضمان الاجتماعي - الاهتمام بالتأمين الصحي لمحدودي الدخل - توفير فرص عمل حقيقية للشباب .

أولاً : الجغرافيا

السؤال الأول : (أ) أمامك خريطة صماء لمصر اكتب مدلول الأرقام الموقعة عليها



- ١- منخفض : الفيوم
- ٢- الصحراء : الشرقية
- ٣- مدينة : الإسكندرية .
- ٤- بحيرة : ناصر

ص ٧٧

(ب) ما المقصود بكل من ؟

١. البيئة الصحراوية : منطقة يقل فيها المطر ويسود فيها الجفاف والفقر الشديد في النبات مع ندرة الحيوان .
٢. الخليج : لسان من الماء يتوغل في اليابس وتحيط به الأرض من ثلاث جهات .

ص ٧٧

(ج) بم تفسر؟

- ١- السياحة من الأنشطة الاقتصادية الهامة بالبيئة الصحراوية
لتمتعها بالنباتات والحيوانات النادرة- مناظرها الخلابة - تعدد المزارات السياحية .
- ٢- نمو الشعاب المرجانية على ساحل البحر الأحمر
دفع مياه البحر الأحمر وهدوئها وصفائها
- ٣- أهميه التلال الجيرية على طول الساحل الشمالى الغربى لمصر
تخزين مياه الأمطار الشتوية واستخدامها في حفر الآبار والزراعة

ص ٧٧

السؤال الثاني :

(أ) ضع علامة (√) أمام العبارة الصحيحة وعلامة (x) أمام العبارة غير الصحيحة مع التصويب

- ١- يعتمد سكان الواحات على المياه الجوفية في أزراعه (√)
- ٢- تلمح التربة من المشكلات التي تتعرض لها البيئة الصحراوية (√)
- ٣- تتميز مناطق البيئة الساحلية بالبحر الأحمر بغزارة الأمطار (x) قلة الأمطار وندرته
- ٤- النشاط الزراعي لا يعد نشاطاً رئيسياً للسكان في البيئة الساحلية (√)

ص ٧٧

(ب) ماذا يحدث إذا.....؟

- ١- لم توجد مناطق التعدين في البيئة الصحراوية .
- يقل عدد السكان في الصحاري - تقل فرص العمل لأبناء البيئة الصحراوية .

- ٢- لم تتعرض مصر لرياح الخماسين .
عدم تعطل المواصلات البرية والبحرية والجوية
قلة إصابة الإنسان بالأمراض المختلفة
- ٣- أهملت الدولة شواطئ البحر المتوسط والأحمر .
تآكل الشواطئ الرملية وتدمير بعض الشليهاات للاصطياف .

ص ٧٨

(ج) اذكر نتيجة واحده لكل من :

- ١- إنشاء السدود على الأودية في البيئة الصحراوية
حجز مياه الأمطار والاستفادة منها بدلا من إهدارها
- ٢- ارتفاع نسبه البطالة بين الشباب
حدوث مشاكل اجتماعية واقتصادية وسياسية .
- ٣- انتشار حقول البترول على ساحل خليج السويس
أصبحت منطقة جذب سكاني لتوفر فرص العمل - وجود مناطق صناعية بترولية

ثانيا : التاريخ

ص ٧٨

السؤال الثالث : (أ) أكمل العبارات التالية :

- ١- إنشاء (محمد على) الدواوين ومنها **العالى** ومقره القلعة
- ٢- تم عزل إسماعيل باشا وتولى بعده **أبنة توفيق** .
- ٣- قدم أحمد عرابي في ٩ سبتمبر ١٨٨١م مطالب ألامه ومنها **تشكيل مجلس نواب**
- ٤- خلف مصطفى كامل في كفاحه **محمد فريد**
- ٥- شكل الضباط المصريون تنظيم **الضباط الأحرار** للقيام بالثورة في ١٩٥٢م
- ٦- احتلت **بريطانيا** مصر في ١٤ سبتمبر ١٨٨٢م

ص ٧٨

(ب) بم تفسر :

- ١- قيام ثورة ١٩١٩م
 - ازدياد الوعي القومي والدعوة إلى التحرر من الاستعمار .
 - التطلع إلى الحرية والاستقلال .
 - إعلان الرئيس الأمريكي حق تقرير المصير .
 - الإجراءات التعسفية التي فرضها الاحتلال البريطاني على مصر أثناء الحرب العالمية الأولى .

ص ٧٨

- ٢- خيب مؤتمر الصلح في باريس آمال المصريين
لاعترافه بالحماية البريطانية على مصر .

السؤال الرابع : (أ) رتب الأحداث التاريخية الآتية من القديم إلى الحديث . ص ٧٨
معركة التل الكبير - معاهدة لندن - الاتفاق الودي - حادثه دنشواي - توليه (محمد علي) حكم مصر
الإجابة

١. تولية محمد علي حكم مصر ١٨٠٥م
٢. معاهدة لندن ١٨٤٠م
٣. معركة التل الكبير ١٨٨١م
٤. الاتفاق الودي ١٩٠٤ م
٥. حادثه دنشواي ١٩٠٦م

ب - اذكر عملاً واحداً لكل من : . ص ٧٨

١. الفريق أول عبد المنعم رياض : ابرز شهداء حرب الاستنزاف بين مصر وإسرائيل
٢. محمد عبده : اتخذ من صحيفة الوقائع المصرية منبرا لمناصرة وتأييد العربيين
٣. طلعت حرب : أسس بنك مصر عام ١٩٢٠م

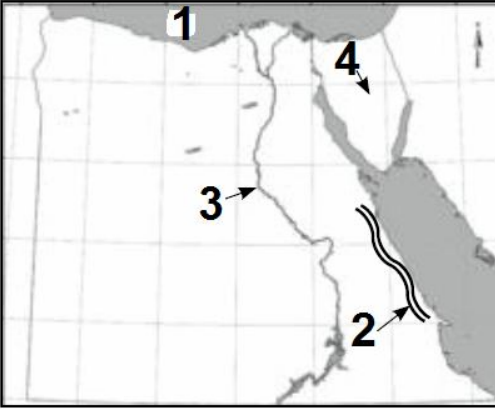
(ج) ما الدروس المستفادة من ثورة ٢٥ يناير ٢٠١١م

حتى لا تقوم ثورة أخرى يجب :-
تحقيق العدالة الاجتماعية - تحقيق الحرية - عدم تزوير الانتخابات - القضاء على الفساد

النموذج (٤) ص (٧٩ - ٨٠)

أولاً : الجغرافيا

السؤال الأول : أمامك خريطة صماء لمصر اكتب مدلول الأرقام الموقعة عليها : ص ٧٩



١- البحر : المتوسط

٢- سلاسل جبال : البحر الأحمر

٣- نهر : النيل

٤- هضبه : التيه / العجمة

ص ٧٩

ب - بم تفسر :

١- تلوث المناطق الشاطئية في المناطق الساحلية

بسبب مخلفات الصرف الصحي و مخلفات المصانع و حركة السفن .

٢- ضييق السهل الساحلى على خليج العقبة

اقتراب الجبال من مياه الخليج

٣- انتشار الشعاب المرجانية في مناطق متفرقة على ساحل البحر الأحمر

دفع المياه وهدونها وصفائها

ص ٧٩

السؤال الثانى

(أ) ضع علامة (√) أمام العبارة الصحيحة وعلامة (x) أمام العبارة غير الصحيحة مع التصويب

- ١- من مشكلات السكان في البيئة الساحلية ازدحام المدن فيها (√)
- ٢- يقل المطر في البيئة الصحراوية (√)
- ٣- حرفة الصيد من الحرف الرئيسة في المدن الساحلية (√)
- ٤- تتميز السهول الساحلية لساحل الدلتا بارتفاع منسوبها (x) انخفاض منسوبها
- ٥- بحيرة المنزلة من أكبر البحيرات إنتاجاً للأسماك في مصر (√)
- ٦- تعد السياحة من الأنشطة الاقتصادية المهمة في البيئة الزراعية (x) الزراعة

ص ٧٩

(ب) ما النتائج المترتبة علي ؟

١- انتشار الجزر الساحلية بالقرب من سواحل البحر الأحمر

استخدامها كمراكز للصيد - تعتبر من المناطق السياحية

٢- سقوط الأمطار الفجائية في البيئة الصحراوية

تسبب السيول - قطع الطرق وتوقف المواصلات - خسائر مادية وبشرية

٣- إنشاء الدولة شبكه من الطرق في البيئة الصحراوية

سهولة انتقال الافراد - سهلت التبادل التجاري بينها وبين البيئات الأخرى - سهولة اتصالها بالوادي

ثانياً : التاريخ

(ص ٨٠)

السؤال الثالث : أ - اختر الاجابه الصحيحة مما بين الأقواس

- ١- من أبرز شهداء حرب الاستنزاف ضد إسرائيل
(جمال عبد الناصر - أنور السادات - محمد نجيب - عبد المنعم رياض)
- ٢- طبق نظام الاحتكار في الاقتصاد المصري
(أحمد عرابي - سعد زغلول - محمد علي - الخديوي توفيق)
- ٣- أسس مصطفى كامل عام ١٩٠٠م جريدة
(الأهرام - اللواء - المؤيد - العروة الوثقى)
- ٤- تم نفي سعد زغلول في مارس ١٩١٩م إلى جزيرة
(مالطة - سيشل - قبرص - شنوان)
- ٥- تم تأميم قناة السويس يوليو عامم
(١٩٥٤ - ١٩٥٨ - ١٩٧١ - ١٩٥٦)
- ٦- احتل الإنجليز القاهرة بعد هزيمة عرابي عند
(التل الكبير - مرج دابق - عابدين - بورسعيد)

(ص ٨٠)

ب - ما المقصود بالمفاهيم الآتية ؟.....

- ١- الدستور : مجموع المبادئ والقواعد التي تحدد نظام الحكم .
- ٢- عدالة اجتماعيه : توزيع الثروة القومية بين المواطنين توزيعاً عادلاً .

(ص ٨٠)

السؤال الرابع : (أ) أعد كتابه العبارات الآتية بعد تصويب ما فوق الخط

- ١- كان مقر الحكومة المركزية في عهد (محمد علي) مدينة الإسكندرية القاهرة
- ٢- التحق أحمد عرابي بالجيش في عهد الخديوي توفيق سعيد باشا
- ٣- رفض مصطفى كامل مد امتياز شركة قناة السويس محمد فريد
- ٤- من نتائج حرب أكتوبر توقيع معاهدة السلام مع إسرائيل عام ١٩٨٩م ١٩٧٩م
- ٥- من مميزات ثورة ٢٥ يناير ٢٠١١م تلاحم الجيش مع النظام الحاكم مع الشعب
- ٦- تأسيس بنك مصر في أبريل ١٩٢٠ علي يد سعد زغلول طلعت حرب

(ب) أجب عما يأتي :

- ١- ما الأسباب المشتركة التي أدت إلى قيام ثورتى ٢٥ يناير ٢٠١١ و ٢٣ يوليو ١٩٥٢م (ص ٨٠)
 - سوء توزيع الثروات وغياب العدالة الاجتماعية .
 - استنزاف ثروات الدولة من قبل رجال الأعمال بتسهيلات من السلطة الحاكمة .

(ص ٨٠)

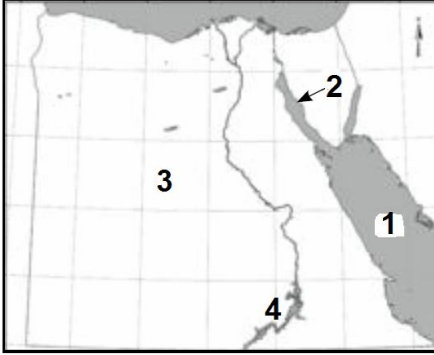
٢- ما دورك اليوم في بناء مصر

الاجتهاد في تحصيل العلم / المحافظة على المنشآت العامة والخاصة - المحافظة على البيئة
اتباع تعليمات وقواعد المرور

النموذج (٥) ص (٨١-٨٢)

أولاً : الجغرافيا

السؤال الأول : (أ) أمامك خريطة صماء لمصر اكتب مدلول الأرقام ألمه قعه علما .



١- البحر : الأحمر

٢- خليج : السويس

٣- الصحراء : الغربية

٤- بحيرة : ناصر .

ب - بم تفسر ص ٨١

١- هجرة بعض سكان البيئة الصحراوية إلى البيئات الأخرى

- للبحث عن فرص العمل في البيئات الأخرى
- انخفاض مستوى المعيشة وعدم توفر فرص العمل في البيئة الصحراوية .

٢- بحيرة البرد ويل أقل البحيرات الشمالية تلوثاً

- عدم صرف مخلفات المصانع والمنازل بالبحيرة

٣- تلوث مياه الشواطئ في البيئة الساحلية

- الصرف الصحي للمدن والبحيرات الساحلية في البحر - صرف المصانع المختلفة في البحر .
- التلوث الناتج عن حركة سفن الشحن وسفن نقل البترول .

٤- تركز نسبة كبيرة من السكان في المحافظات الساحلية

- وجود الموارد الغذائية والمواد الخام التي هي أساس التنمية الاقتصادية .
- المنطقة الساحلية مجالا حيويا للنقل والتجارة - توافر المناظر الطبيعية البيئية المهمة .

ص ٨١

السؤال الثاني :

أ- قارن بين البيئة الصحراوية والبيئة الساحلية من حيث : (عادات السكان - مشكلات البيئة)

عناصر المقارنة	البيئة الصحراوية	البيئة الساحلية
عادات السكان	<p><u>العادات الايجابية :</u></p> <ul style="list-style-type: none"> • إكرام الضيف . • احترام المجلس العرفية التي يرأسها شيخ القبيلة . • تكوين علاقات طيبة مع سكان البيئات الأخرى . • الحفاظ على التقاليد والتراث القديم في عادات الزواج . 	<p><u>العادات الايجابية :</u></p> <ul style="list-style-type: none"> • العمل في جماعة • حب المغامرة والشجاعة . • مشاركة المرأة للرجل في العمل. • انفتاحهم على العالم الخارجي • الاحتفال ببعض المناسبات .
	<p><u>العادات السلبية :</u></p> <ul style="list-style-type: none"> • الزواج المبكر . • العلاج بوسائل بدائية . • عمل الأطفال في الرعي . 	<p><u>العادات السلبية :</u></p> <ul style="list-style-type: none"> • الهجرة غير الشرعية . • تصريف المخلفات المنزلية والصناعية في البحر . • الصيد غير القانوني .

عناصر المقارنة	البيئة الصحراوية	البيئة الساحلية
مشكلات البيئة	ندرة المياه - حركة الرمال السيول - تملح التربة	• الازدحام السكاني . • التلوث البيئي الذي أدى إلى انتشار كثير من الأمراض .

ب - أكتب كلمه (صح) أو كلمه (خطأ) أمام العبارات الآتية مع تصويب الخطأ

ص ٨١

- ١- سكان البيئة الصحراوية هم سكان محافظات الحدود . (√)
- ٢- صناعه السيارات من الصناعات المنتشرة في البيئة الصحراوية (×) صناعة السفن .
- ٣- خط الساحل خط يفصل بين اليابسة والماء (√)
- ٤- الساحل الشمالي لسيناء أطول من ساحل الدلتا (√)
- ٥- بحيرة المنزلة أقل البحيرات إنتاجاً للأسماك (×) أكبر البحيرات
- ٦- صدرت قوانين تجرم إلقاء مخلفات الصرف في البحر (√)

ثانياً : التاريخ

ص ٨٢

السؤال الثالث : (أ) بم تفسر

- ١- اهتمام (محمد على) بزيادة صادرات مصر عن واردتها .
لتحقيق الاستقلال السياسي لمصر
- ٢- تقدير المصريين لموقف محمد فريد ١٩١٠م .
لأنه رفض مد امتياز شركة قناة السويس
- ٣- مؤتمر الصلح في باريس ١٩١٩م لم يحقق آمال المصريين .
خيب آمال المصريين في الاستقلال واعترف بالحماية البريطانية على مصر .
- ٤- العدوان الثلاثي على مصر ١٩٥٦م
بسبب تأميم قناة السويس عام ١٩٥٦ م

ص ٨٢

(ب) أكمل ما يأتي :

- ١- أصدر الزعيم مصطفى كامل جريدة اللواء .
- ٢- أعلنت انجلترا الحماية البريطانية علي مصر عام ١٩١٤ .
- ٣- تأسس بنك مصر في ١٩٢٠م
- ٤- عادت ألاملاحه بقناة السويس في يونيو عام ١٩٧٥ م

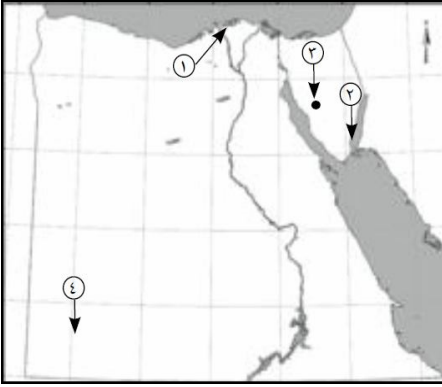
(أ) (كانت ثورة الشعب المصري فى يناير ٢٠١١ م ثورة بيضاء نالت إعجاب العالم)
علي ضوء هذه العبارة اذكر :-

- ١- سبباً واحداً لقيامها .
انشغال الدولة بمشروع توريث الحكم لنجل الرئيس الأسبق حسني مبارك .
- ٢- إحدى مميزاتها
أنها ثورة سلمية - التلاحم بين القوات المسلحة والشعب
- ٣- إنجازاً واحداً لها
إسقاط النظام السياسي - حل مجلس الشعب والشورى
- ٤- ما رأيك فى شعار (الجيش والشعب أيد واحدة)
تأكيد وترسيخ الإحساس بالمواطنة والتأكيد على الوحدة الوطنية .

- ١- اهتم بمشروعات الري ومنها ترعه المحمودية (محمد علي)
- ٢- قائد ثورة الجيش المصري عام ١٨٨١م (أحمد عرابي)
- ٣- زعيم وطني تم نفيه إلى جزيرة مالطة (سعد زغلول)
- ٤- تنظيم الضباط الذي قام بثورة ٢٣ يوليو ١٩٥٢م (الضباط الأحرار)
- ٥- ضباط برتبة فريق أول استشهد في حرب الاستنزاف (عبد المنعم رياض)
- ٦- أعد تقريراً حدد فيه الخسائر المالية عند الموافقة علي مد امتياز مشروع قناة السويس (طلعت حرب)

النموذج (٦) ص (٨٣-٨٤)
أولاً الجغرافيا

السؤال الأول : (أ) أمامك خريطة صماء لمصر اكتب مدلول الأرقام المواقع عليها ص ٨٣



١ - بحيرة : البرلس

٢ - محمية طبيعية : رأس محمد

٣ - منطقة تعدين المنجنيز : أم بجمة

٤ - جبل : العينات

ص ٨٣

(ب) ما النتائج المترتبة على ؟

- ١ - حركه الرمال في المناطق الصحراوية .
إتلاف الحقول الزراعية . - تعطيل حركة النقل لتراكم الرمال على الطرق - ردم الآبار وزيادة التصحر .
- ٢ - نحت الأمواج للسواحل .
إزالة الشواطئ الرملية - تدمير بعض الشاليهات المخصصة للاصطياف
- ٣ - عدم وجود صرف زراعي وصناعي وصحي في بحيرة البردويل .
أصبحت أقل بحيرات مصر تلوثا .

ص ٨٣

السؤال الثاني (أ) صوب ما فوق الخط

- ١ - من محافظات الصحراء الغربية محافظة البحر الأحمر ومطروح : الوادي الجديد
- ٢ - تربة البيئة الصحراوية تربة طينية سوداء : رملية صفراء
- ٣ - يهتم سكان البيئة الصحراوية بالصناعات الثقيلة : الحرفية
- ٤ - يعيش سكان البيئة الساحلية في ١٢ محافظة : ١١
- ٥ - يتميز ساحل البحر المتوسط بوجود خلجان مثل خليج العقبة : أبو قير
- ٦ - من جهود الدولة في البيئة الساحلية إنشاء مدن جديدة مثل الإسكندرية : برج العرب

ب - قارن بين : لعادات الإيجابية لسكان البيئة الصحراوية ولسكان البيئة الساحلية ص ٨٤

البيئة الساحلية	البيئة الصحراوية
<ul style="list-style-type: none"> العمل في جماعة حب المغامرة والشجاعة . مشاركة المرأة للرجل في العمل. انفتاحهم على العالم الخارجي الاحتفال ببعض المناسبات . 	<ul style="list-style-type: none"> إكرام الضيف . احترام المجلس العرفية التي يرأسها شيخ القبيلة . تكوين علاقات طيبة مع سكان البيئات الأخرى . الحفاظ على التقاليد والتراث القديم في عادات الزواج .

(ج) ما مقترحاتك لتمنيہ النشاط السياحي بالبيئة الصحراوية ص ٨٤

- الاهتمام بالمحميات الطبيعية في البيئات المختلفة - إنشاء المنشآت السياحية (القرى السياحية - الفنادق) .
- توفير الأمن والأمان .

ثانيا : التاريخ

السؤال الثالث : (أ) اكتب كلمه (صح) أو (خطأ) مع تصويب الخطأ أمام كل عبارة : ص ٨٤

- ١- أكدت معاهده لندن ١٨٤٠م أحقيه أكبر أبناء (محمد علي) في وراثة الحكم (x) فرمان ١٨٤١م
- ٢- طالب أحمد عرابي بإقالة وزارة شريف باشا (x) عزل عثمان رفقي ناظر الجهادية
- ٣- أصدرت بريطانيا تصريح ٢٨ فبراير ١٩٢٢م واعترفت فيه باستقلال مصر (√)
- ٤- ساهم بنك مصر في تمويل صناعة الغزل والنسيج (√)
- ٥- وقفت فرنسا إلى جانب الحركة الوطنية المصرية بعد الاتفاق الودي ١٩٠٤م (x) تخلت عن القضية المصرية
- ٦- أعادت ثورة يوليو الأحزاب السياسية للحكم في يناير ١٩٥٣م (x) ألغت الأحزاب السياسية

(ب) بم تفسر ص ٨٤

- ١- فشل العدوان الثلاثي على مصر ١٩٥٦م
- تضام الشعوب العربية بجانب مصر . - تلاحم الجيش والشعب - معارضة الاتحاد السوفيتي للعدوان .
- ٢- نجاح حرب أكتوبر ١٩٧٣م
- استخدام عنصر المفاجأة - لروح المعنوية العالية للجنود المصريين . - التدريب المستمر .

السؤال الرابع (أ) لمن تنسب الأعمال الآتية ص ٨٤

- ١- أنشأ أول ترسانة لبناء السفن في الإسكندرية (محمد علي)
- ٢- أسس جريدة اللواء ١٩٠٠م (مصطفى كامل)
- ٣- دعا إلى إنشاء نقابات العمال في مصر (محمد فريد)
- ٤- استشهد وسط جنوده في حرب الاستنزاف (عبد المنعم رياض)

(ب) أجب عما يأتي : ص ٨٤

- ١- كيف حققت ثورة ٢٣ يوليو ١٩٥٢ مبدأ القضاء على الاستعمار وأعوانه
- عقد اتفاقية الجلاء بين مصر وانجلترا في أكتوبر ١٩٥٤م - ورحيل القوات البريطانية ١٨ يونيه ١٩٥٦م
- ٢- ما أهداف ثورة ٢٥ يناير ٢٠١١م
- الكرامة والحرية والعدالة الاجتماعية للمواطن المصري وكان شعار الثورة " عيش حرية عدالة اجتماعية .
- ٣- ما رأيك في ثورة ١٩١٩م
- حركة وطنية من أجل الاستقلال والدستور.

النموذج رقم (٧) ص ٨٥

أولا : الجغرافيا

ص ٨٥

السؤال الأول : (أ) أمامك خريطة لمصر أكتب مدلول الأرقام الموقعة عليها



١. جبل : علبة

٢. منخفض : القطارة

٣. خليج : العقبة

٤. شبه جزيرة : سيناء

ص ٨٥

(ب) ماذا يحدث إذا ؟

١. لم تسقط الأمطار الشتوية على الساحل الشمالي لمصر .
يختفي النشاط الزراعي والرعي ولا تنمو أشجار الزيتون .

٢. بم تتواجد الآبار والعيون في الصحراء الغربية .
لم توجد الواحات - يقل السكان في الصحاري

٣. أهملت الدولة إقامة الفنادق والمحميات والطرق الجديدة .
يقل النشاط السياحي - يقل الدخل القومي . تقل فرص العمل

ص ٨٥

السؤال الثاني :

(أ) أكتب كلمة (ص) أمام العبارة الصحيحة أو (خطأ) أمام العبارة غير الصحيحة مع التصويب .

١. تبلغ مساحة الصحراء الشرقية نحو ٢٣ % من مساحة مصر . (X) ٢٢ %
٢. ارتبط اسم طلعت حرب باستقلال مصر الاقتصادي . (✓)
٣. المنطقة الساحلية منطقة جذب لسكان البيئات الأخرى . (✓)
٤. جبل سانت كاترين أحد جبال شبه جزيرة سيناء . (✓)
٥. المدينة التي يزيد عدد سكانها عن ١٠٠٠٠٠٠ نسمة تعرف بالمدينة المليونية . (✓)
٦. يعمل سكان البيئة الساحلية بالزراعة في مناطق متعددة . (✓)

ص ٨٥

(ب) ما المقصود بكل من :

١. البوغاز : هو فتحة قد تكون طبيعية أو صناعية تدخل عن طريقها المياه البحيرات .
٢. السياحة البيئية : هي السياحة التي تعتمد على زيارة المحميات الطبيعية .

ثانيا : التاريخ

ص ٨٥ - ٨٦

السؤال الأول : أكمل العبارات التالية :

١. أقام محمد علي معامل السكر في الوجه القبلى.
٢. ولد أحمد عرابي في محافظة الشرقية.
٣. عزل اللورد كرومر من منصبه بعد حادثة دنشواى.
٤. أعد طلعت حرب تقرير حدد فيه الخسائر المالية لمصر عند الموافقة على مد امتياز شركة قناة السويس.
٥. عقب تصريح ٢٨ فبراير ١٩٢٢ م تم إصدار دستور ١٩٢٣ م.
٦. تم نفي سعد زغلول في مارس ١٩١٩ م إلى جزيرة مالطة .

ص ٨٦

(ب) بم تفسر

١. قيام ثورة ٢٥ يناير ٢٠١١ م .
 - انشغال الدولة بمشروع توريث الحكم لنجل الرئيس الأسبق حسني مبارك .
 - تزوير الانتخابات وسيطرة الحزب الوطني الحاكم على أغلب مقاعد البرلمان .
 - سوء الأحوال الاقتصادية والسياسية
٢. فشل العدوان الثلاثي على مصر .
 - تلاحم الجيش والشعب بجانب قياداته .
 - تضامن الشعوب العربية بجانب مصر .
 - معارضة الاتحاد السوفيتي وتهديده بالتدخل العسكري .

ص ٨٦

السؤال الرابع (أ) اختر الإجابة الصحيحة مما بين القوسين

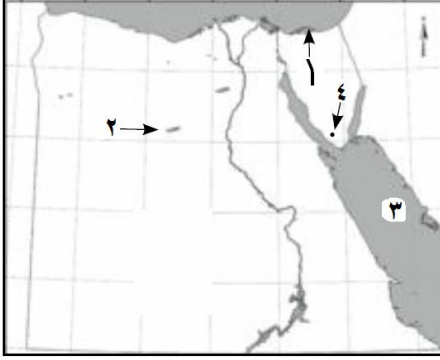
١. اهتم محمد علي بالتعليم فأرسل إلى الخارج .
(الحملات - البعثات - الصناع - المحامين) .
٢. أقام نقابات للعمال ودعا لتأسيس حكومة وطنية .
(سعد زغلول - محمد علي - أحمد عرابي - مجمد فريد)
٣. أسس مصطفى كامل جريدة ١٩٠٠ م .
(الوقائع - المؤيد - الأهرام - اللواء) .
٤. من نتائج ثورة ٢٣ يوليو ١٩٨٢ م إصدار
(قانون الإصلاح الزراعي - بنك مصر - جمعية مصر الفتاة - شركة مصر للتأمين) .
٥. من أبرز شهداء حرب الاستنزاف الفريق أول
(عبد المنعم رياض - عبد الحكيم عامر - جمال عبد الناصر - أنور السادات) .
٦. أطلق على ثورة ٢٥ يناير ٢٠١١ م أنها ثورة
(دموية حمراء - غير سلمية - سلمية بيضاء - طبقية) .

١. معاهدة لندن ١٨٤٠ م.
أدت إلى تقلص مشروعات محمد علي الداخلية والخارجية حيث نصت على إعادة بلاد الشام والجزيرة العربية للدولة العثمانية ، وتثبيت حكمة في مصر وإعلان خضوعه للسلطان العثماني .
٢. لجوء الخديوي إسماعيل إلى سياسة الاستدانة .
أدى ذلك ازدياد التدخل الأجنبي في شؤون مصر - سوء الأحوال الاقتصادية في مصر

النموذج (٨) ص

أولا : الجغرافيا

السؤال الأول : (أ) أمامك خريطة لمصر بين مدلول الأرقام الموقعة عليها ؟ ص ٨٩



١. بحيرة البردويل
٢. الواحات البحرية
٣. البحر الأحمر
٤. جبل سانت كاترين

ص ٨٩

(ب) بم تقسر

١. ينمو النبات الطبيعي في البيئة الصحراوية .
لأنها نباتات تتحمل الجفاف من خلال التكيف مع البيئة أما بالجذور الطويلة كالنخيل والدوم أو الأوراق الأسفنجية كالصبار أو الأوراق الإبرية كالأعشاب الشوكية .
٢. ضييق السهول الساحلية المطلة على خليج العقبة .
بسبب اقتراب الجبال من مياه خليج العقبة .
٣. مشاركة المرأة للرجال في كثير من العمال في البيئة الساحلية .
لأن الرجال يقضون معظم أوقاتهم في الأعمال المرتبطة بالبحر .
قوة الجيش تساعد على استقرار واستقلال الدولة لتتمكن من تنفيذ برامج التنمية .

ص ٨٩

السؤال الثاني :

(أ) اكتب كلمة (صح) أمام العبارات الصحيحة أو (خطأ) أمام العبارة غير الصحيحة مع التصويب

١. الجاموس والأبقار من حيوانات البيئة الصحراوية . (X) الإبل والأغنام والماعز .
٢. إقليم مشروع استزراع الكثبان الرملية في البيئة الصحراوية لتثبيت الرمال . (√)
٣. تمتد البيئة الساحلية على البحر المتوسط من طابا حتى حدود السودان . (X) من السلوم حتى رفح
٤. تنمو شجيرات المانجروف على سواحل البحر المتوسط . (X) أشجار الزيتون .
٥. تعتبر بحيرة البردويل أكثر بحيرات مصر الشمالية تلوثا . (X) أقل
٦. البيئة الساحلية منطقة طاردة للسكان . (X) جاذبة للسكان .

ص ٨٩

(ب) ماذا يحدث إذا

١. اهتمت الدولة بإنشاء المدارس في البيئة الصحراوية .
تنخفض نسبة الأمية / تنهض البيئة الصحراوية .
٢. لم تحافظ الدولة على حماية السواحل .
اختفاء الشواطئ الرملية / تدمير بعض شاليهات الاصطياف .

ثانيا: التاريخ

السؤال الثالث : (١) اختر الإجابة الصحيحة مما بين القوسين .

١. كان أحمد عرابي عضوا بارزا في جمعية
(الجامعة المصرية - الوفد المصري - مصر الفتاة - عابدين) .
٢. دخل الإنجليز القاهرة في سبتمبر عام
(١٨٨٢ - ١٢٨٨ - ١٨٨٨ - ١٩٨٩) م
٣. أقامت مصر عام ١٩٥٨م وحدة مع
(بريطانيا - الجزائر - سوريا - الأردن) .
٤. عبرت إسرائيل قناة السويس في ١٩٧٣م عند منطقة
(سيناء - الدفرسوار - الإسماعيلية - السويس) .
٥. سبب نجاح حرب أكتوبر ١٩٧٣م
(العقيدة القتالية - قوة الإيمان - السرية التامة - كل ما سبق) .
٦. صدر قانون الإصلاح الزراعي عام
(١٩٥٢ - ١٩٥٥ - ١٩٥٩ - ١٩٦١) م

ص ٨٨

(ب) ما رأيك في كل مما يأتي :-

١. موقف محمد فريد من مسألة مد امتياز قناة السويس .
موقف وطني لأنه رفض مد امتياز شركة قناة السويس حفاظا على استقلال مصر .
٢. تسجيل اللجان الشعبية أثناء ثورة يناير ٢٠١١م
ساعدت اللجان الشعبية على حفظ الأمن عندما تعرضت مصر للانفلات الأمني .

ص ٨٨

السؤال الرابع : (أ) لمن تنسب الأعمال الآتية :-

١. أعطى امتياز حفر قناة السويس للمهندس دليسيبس .
(سعيد باشا)
٢. عمل محررا في مجلة الوقائع المصرية ثم تولى نظارة المعارف عام ١٩٠٦ م .
(سعد زغلول)
٣. رئيس أمريكي أعلن حق كل أمه في تقرير مصيرها .
(ويلسن)
٤. قام بتوزيع الثروات بين المواطنين توزيعا عادلا .
(جمال عبد الناصر)

ص ٨٨

(ب) ما النتائج المترتبة على

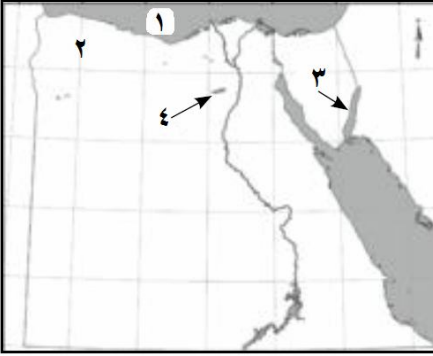
١. خطب ومقالات مصطفى كامل .
تجديد الشعور الوطني للمصريين - إقناع المصريين بأن خروج الانجليز ليس مستحيلا .
بث كراهية المصريين للإنجليز .
٢. انتصار الجيش المصري في حرب أكتوبر ١٩٧٣م
استعادة مصر لدورها الريادي في المنطقة - عودة الملاحة بقناة السويس
ظهور أهمية التضامن العربي . كسر حاجز الخوف واستعادة الشعب المصري ثقته في نفسه .
٣. قيام ثورة ٢٥ يناير ٢٠١١م
• إسقاط النظام السياسي
• حل مجلس الشعب والشورى
• التلاحم بين الأقباط والمسلمين وحماية الجبهة الداخلية .
• الإفراج عن المعتقلين والمسجونين السياسيين .

النموذج (٩)

أولا : الجغرافيا

ص ٨٩

السؤال الأول : (أ) أمامك خريطة لمصر بين مدلول الأرقام الموقعة عليها ؟



٥. البحر المتوسط

٦. هضبة مارماريكا

٧. خليج العقبة

٨. منخفض الفيوم

ص ٨٩

(ب) أكتب المفهوم الجغرافي الذي يدل على كل عبارة من العبارات التالية :-

٤. تجمعات من الرمال تتراكم بفعل الرياح . (الكثبان الرملية)
٥. قيام الأمواج بنحت الصخور التي تشكل ساحل البحر . (تآكل الشواطئ)
٦. فتحة قد تكون طبيعية أو صناعية تدخل عن طريقها المياه للبحيرات . (البوغاز) .

ص ٨٩

(ج) ما النتائج المترتبة على

١. ارتباط سكان البيئة الساحلية بالبحر .
أكسبهم العمل في جماعة والتعاون لمواجهة الأخطار - حب المغامرة
٢. هدوء وصفاء حركة مياه البحر الأحمر .
تكون الشعاب المرجانية على سواحل البحر الأحمر .

ص ٨٩

السؤال الثاني : (أ) بم تفسر

١. معاناة سكان البيئة الصحراوية من المشكلات الاقتصادية .
من المشكلات الاقتصادية التي يعاني منها سكان البيئة الصحراوية :-
 - نقص الغذاء .
 - الاعتماد على البيئات الأخرى لسد حاجتهم .
 - الهجرة إلى البيئات الأخرى .
٢. تملح التربة في بعض المناطق بالبيئة الصحراوية .
 - بسبب تبخر المياه واستقرار الملح على سطح التربة .
٣. اتساع السهول الساحلية المطلة على البحر المتوسط .
 - بسبب ابتعاد الحواف المرتفعة عن البحر
٤. تلوث المياه الشاطئية في مصر .
 - الصرف الصحي للمدن والبحيرات الساحلية في البحر .
 - الصرف الصناعي في البحر .
 - التلوث الناتج عن ناقلات البترول وسفن الشحن .

١. أهملت الدولة إقامة والمحميات والطرق الجديدة .
يقل النشاط السياحي .
٢. لم تتواجد الكثبان الرملية والتلال الجيرية على الساحل الشمالى لمصر .
لم يتم تخزين مياه الأمطار الشتوية وحفر الآبار وانعدام النشاط الزراعي في هذه المناطق .

ثانيا : التاريخ ص ٩٠

السؤال الثالث : (أ) أكمل ما يلي

١. أقام محمد علي صناعات تعتمد على المواد الخام مثل صناعة السكر من قصب السكر .
٢. تقلصت مشروعات محمد علي الإصلاحية نتيجة معاهدة لندن ١٨٤٠ م .
٣. التحق أحمد عرابي في الجيش في عهد الخديوي سعيد باشا .
٤. أسقطت ثورة ٢٣ يوليو ١٩٥٢ م النظام الملكي .

(ب) ما النتائج المترتبة على ؟

١. سوء الأحوال السياسية الاقتصادية قبل عام ٢٠١٠ م
قيام ثورة ٢٥ يناير ٢٠١١ م .
٢. تأميم شركة قناة السويس ١٩٥٦ م .
قيام إنجلترا وفرنسا وإسرائيل بالعدوان الثلاثي على مصر عام ١٩٥٦ م .
٣. نفى سعد زغلول وبعض زعماء الوفد المصري للمرة الثانية .
اشتدت الثورة ضد الإنجليز - لجأ المصريون إلى مقاطعة البضائع والبنوك وسفن الشحن الإنجليزية

السؤال الرابع : (أ) من الذي قام بالآتى ؟

١. قسم مصر إداريا إلى سبع مديريات . (محمد على)
٢. أسس جريدة اللواء ١٩٠٠ م . (مصطفى كامل)
٣. أقام الإمبراطورية المصرية وامتدت إلى مديرية خط الاستواء . (الخديوي إسماعيل)
٤. رفض مد امتياز شركة قناة السويس ١٩١٠ م (محمد فريد)

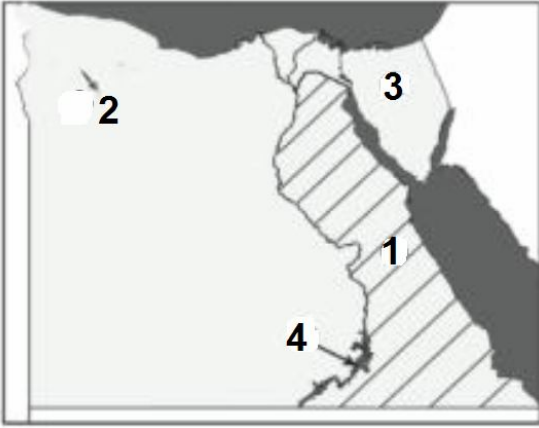
(ب) أجب عما يأتي :-

١. أذكر مميزات ثورة ٢٥ يناير ٢٠١١ م .
استخدام التكنولوجيا والانترنت في تعبئة - كانت ثورة سلمية .
٢. ما أسباب قيام ثورة ٣٠ يونيو ٢٠١٣ م .
عدم ارتياح الشعب المصري للتغيرات بعد ثورة ٢٥ يناير - استمرار سوء الأحوال الاقتصادية والسياسية .
ازدياد الأصوات المعارضة للحكم - لم تقدم ثورة حلا لمشاكل المصريين .
٣. ما الدروس المستفادة من إقامة جيش قوى في عهد محمد علي .
قوة الجيش تساعد على استقرار واستقلال الدولة لتتمكن من تنفيذ برامج التنمية .

النموذج (١٠) ص ٩١

أولاً : الجغرافيا

السؤال الأول : (أ) أمامك خريطة لمصر أكتب مدلول الأرقام الموقعة عليها ؟ ص ٩١



١. الصحراء : الشرقية

٢. منخفض : القطارة

٣. شبه جزيرة : سيناء

٤. بحيرة : ناصر

ص ٩١

ب (بم تفسر ؟

١. نمو الشعاب المرجانية بسواحل البحر الأحمر
بسبب دفء مياه البحر الأحمر وصفائها وهدوئها .

٢. انخفاض نسبة الأمية في المحافظات الصحراوية مؤخراً .
إقامة العديد من المدارس والكليات والمعاهد - أصبح هناك مهندسون وأطباء وأساتذة جامعات يعملون في خدمة المجتمع .

٣. تميز سكان البيئة الساحلية بحبهم العمل الجماعي
لأن أعمال البيئة الساحلية تحتاج إلى تعاون في أعمال الصيد والشحن وتفريغ السفن .

ص ٩١

السؤال الثاني : (أ) اختر الإجابة الصحيحة مما بين الأقواس

١. توجد هضبة مارماريكا في الصحراء وتقع في الجزء منها .
(الأوسط - الشمالي - الجنوبي - الشرقي) .

٢. تعد بحيرة أقل بحيرات مصر الشمالية تلوثاً .
(البردويل - المنزلة - البرلس - إدكو) .

٣. أهم الأشجار التي تنمو على ساحل البحر المتوسط أشجار
(المطاط - المانجروف - الزيتون - الفرقد) .

٤. قامت الدولة بمشروع استزراع الكثبان الرملية جنوب واحة
(الخارجة - الفرافرة - البحرية - سيوة) .

٥. تعد حرفة من الحرف الرئيسة في البيئة الساحلية .
(الصيد - الرعي - الزراعة - السياحة) .

٦. من محافظات الصحراء الغربية محافظة ومرسى مطروح .
(بورسعيد - الوادي الجديد - الفيوم - الإسكندرية) .

(ب) اذكر النتائج المترتبة على ؟

ص ٩٢

١. حركة الرمال التي تسببها الرياح في البيئة الصحراوية .
 - إتلاف الحقول الزراعية . - تعطيل حركة النقل لتراكم الرمال على الطرق - ردم الآبار وزيادة التصحر .
٢. انتشار الجزر بالقرب من سواحل البحر الأحمر .
 - تستخدم كمراكز للصيد . - تستخدم في السياحة .

ثانيا : التاريخ

السؤال الثالث : (أ) أكمل ما يأتي :-

ص ٩٢

١. أقام محمد علي معامل السكر في الوجه القبلي
٢. احتلت إنجلترا القاهرة بعد معركة التل الكبير .
٣. تولى زعامة الحركة الوطنية أواخر القرن الـ ١٩ الميلادي مصطفى كامل .
٤. ولد سعد زغلول بإحدى قرى مديرية الغربية .
٥. كان الحاكم الفعلي للبلاد بعد الاحتلال البريطاني لمصر المعتمد البريطاني .
٦. أصدر الزعيم مصطفى كامل جريدة اللواء

(ب) رتب الأحداث الآتية

ص ٩٢

تصريح ٢٨ فبراير - ثورة ١٩١٩م - الحرب العالمية الأولى - الثورة العربية
الإجابة

- ١ - الثورة العربية ١٨٨١م - ٢ - الحرب العالمية الأولى ١٩١٤م - ٣ - ثورة ١٩١٩م - ٤ - تصريح ٢٨ فبراير ١٩٢٢م

السؤال الرابع (أ) دلل على صحة العبارات التالية

ص ٩٢

١. عمل محمد فريد على مد نشاط الحركة الوطنية إلى أوروبا .
عندما وجد أن سلطات الاحتلال تضيق عليه وتضايقه مد نشاط الحركة الوطنية إلى أوروبا وشارك في العديد من المؤتمرات لبحث مشكلات مصر السياسية والاقتصادية .
٢. رفض طلعت حرب مد امتياز شركة قناة السويس ١٩١٠م .
أعد طلعت حرب تقريراً حدد فيه الخسائر المالية التي ستعرض لها مصر عند الموافقة على مد الامتياز .
٣. إصدار حكومة ثورة يوليو قانون الإصلاح الزراعي ١٩٥٢ .
تحديد ملكية الأراضي الزراعية - توزيع الأراضي على الفلاحين .

(ب) ما المقصود بكل من ؟

ص ٩٢

خط بارليف : خط دفاع أقامته إسرائيل على الضفة الشرقي لقناة السويس .

حرب الاستنزاف : حرب بين مصر وإسرائيل امتدت منذ عام ١٩٦٧م وعام ١٩٧٣م وكبدت مصر خلالها خسائر جسيمة .