



جمهورية مصر العربية
وزارة التربية والتعليم
قطاع الكتب

وطني حياتي

الدراسات الاجتماعية

جغرافية العالم و تاريخ مصر الحديث



الصف الثالث الإعدادي

الفصل الدراسي الأول



ثانياً : التدريبات

السؤال الأول : اختر الإجابة الصحيحة مما بين الأقواس :

- ١ - تعد قارة أكبر قارات العالم من حيث المساحة .
(إفريقيا - أوروبا - آسيا - استراليا)
- ٢ - يعد أكبر البحار المغلقة في العالم .
(البحر الأحمر - البحر المتوسط - بحر قزوين - البحر الأسود)
- ٣ - تفصل جبال قارة أوروبا عن قارة آسيا
(اورال - الهمالايا - البرانس - الألب)
- ٤ - يعتبر المحيط أكبر محيطات العالم مساحة (الهندي - الهادي - الأطلنطي - القطبي الشمالي)
- ٥ - تمر الدائرة القطبية الشمالية بكل من قارة آسيا وأمريكا الشمالية و
(أنتاركتيكا - استراليا - أمريكا الجنوبية - أوروبا)

السؤال الثاني :

اكتب كلمة (صح) أمام العبارات الصحيحة وكلمة (خطأ) أمام العبارات غير الصحيحة مع تصويب الخطأ:

- ١ - يوجد بقارة آسيا أكبر بحر داخلي مغلق في العالم. (صواب)
- ٢ - يحد قارة إفريقيا من الغرب المحيط الهندي . (خطأ)
- ٣ - يفصل قارة استراليا عن جزر أندونيسيا في الشمال بحر آرال. (خطأ)

السؤال الثالث :

ما النتائج المترتبة على ...؟

- ١ - كثرة تعاريج السواحل في قارة أوروبا . **أدى إلى إنشاء الموانئ الطبيعية على السواحل**
- ٢ - وقوع قارة أنتاركتيكا أقصى جنوب الكرة الأرضية. **أصبحت قارة متجمدة غير مأهولة بالسكان**

السؤال الرابع : قارن بين كل قارات العالم المأهولة بالسكان من حيث الموقع الفلكي .

اسم القارة	قارة آسيا	قارة أفريقيا	قارة أوروبا	قارة أمريكا الشمالية	قارة أمريكا الجنوبية	قارة أستراليا
دوائر العرض	٨١ شمالاً ١٠ جنوباً	٣٧,٣٠ شمالاً ٣٤,٣٠ جنوباً	٣٦ شمالاً ٧١ شمالاً	٧,٣٠ شمالاً ٨٣ شمالاً	١٢ شمالاً ٥٦ جنوباً	١٠ جنوباً ٤٤ جنوباً
خطوط الطول	٢٦ شرقاً ١٧٠ غرباً	٥١ شرقاً ١٧ غرباً	٦٦ شرقاً ٢٥ غرباً	١٠ غرباً ١٦٨ غرباً	٣٥ غرباً ٨١ غرباً	١١٣ شرقاً ١٧٨ شرقاً



ثانياً : التدريبات السؤال الأول

اكتب كلمة (صح) أمام العبارات الصحيحة وكلمة (خطأ) أمام العبارات غير الصحيحة مع تصويب الخطأ:

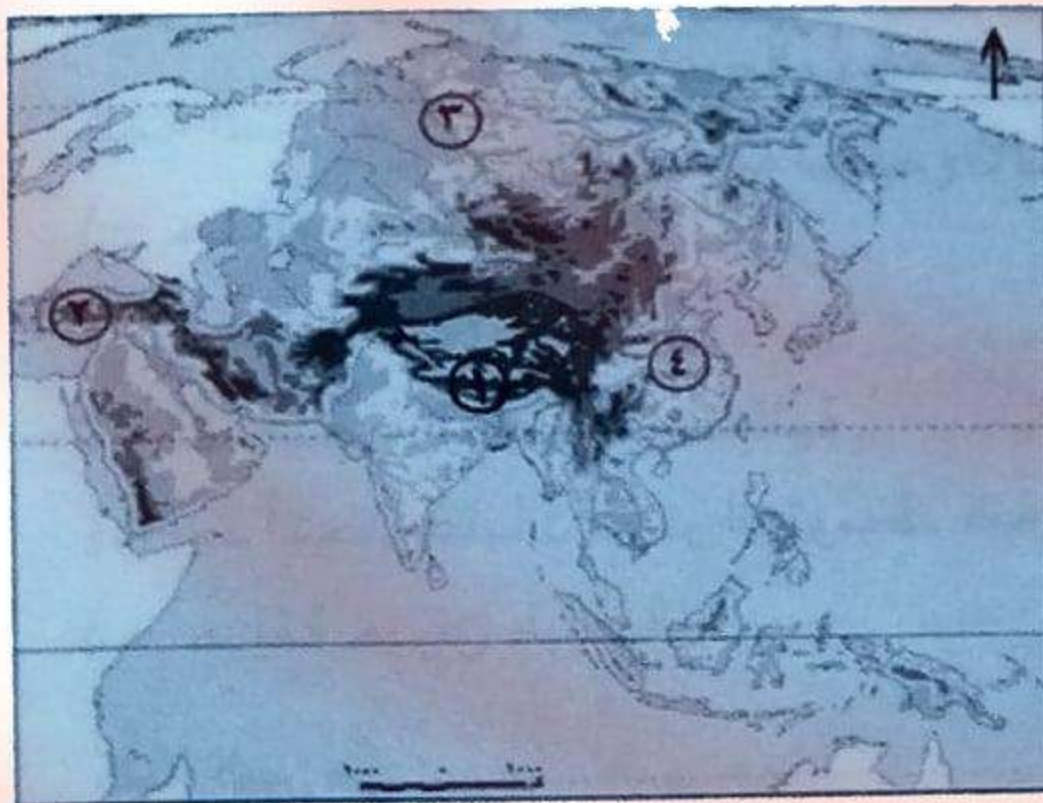
- أ - من جبال إفريقيا جبال أطلس وجبال البحر الأحمر وجبل كلمنجارو. (صواب)
- ب - تمتد السلاسل الجبلية بقارة أوروبا باتجاه عام من الشرق إلى الغرب **من الغرب إلى الشرق** (خطأ)
- ج - تجري أنهار أوب وينسى ولينا في سهول آسيا الشمالية. (صواب)
- د - توجد في شرق قارة أمريكا الشمالية سلاسل جبال روكي. (خطأ)
- هـ - تمتد سلاسل جبال الإنديز من الشمال حتى الأطراف الجنوبية لقارة أمريكا الشمالية. (خطأ)
- و - توجد في قارة استراليا سهول متسعة تجري بها أودية نهرية أهمها نهري مري ودارلنج. (صواب)

السؤال الثاني : بم تفسر...

- أ - إنشاء الموانئ بالسهول الساحلية في قارة أوروبا . بسبب اتساع سواحل أوروبا وتعرجها
- ب - تتميز السهول الساحلية بقارة إفريقيا بشكل عام بالضيق . لاقترب حافات الجبال والهضاب من الساحل
- ج - تعرف هضبة التبت بسقف العالم . بسبب ارتفاعها عن قمم الجبال
- د - فقدان أنهار أوب وينسى ولينا أهميتها الاقتصادية في فصل الشتاء . لأنها تتجمد في فصل الشتاء

السؤال الثالث :

أمامك خريطة صماء لقارة آسيا تم أكتب مدلول الأرقام التالية :



١ - جبال الهيمالايا

٢ - هضبة الاناضول

٣ - نهر ينسى

٤ - سهل شرق الصين في الصين

السؤال الرابع : قارن بين :

- أ - السهول الفيضية في كل من قارتي آسيا وإفريقيا
- ب - الجبال في كل من أمريكا الشمالية وأمريكا الجنوبية

السهول الفيضية في آسيا	السهول الفيضية في إفريقيا	الجبال في أمريكا الجنوبية	الجبال في أمريكا الشمالية
السهول الفيضية في آسيا	السهول الفيضية في إفريقيا	الجبال في أمريكا الجنوبية	الجبال في أمريكا الشمالية
السهول الفيضية في آسيا	السهول الفيضية في إفريقيا	الجبال في أمريكا الجنوبية	الجبال في أمريكا الشمالية
السهول الفيضية في آسيا	السهول الفيضية في إفريقيا	الجبال في أمريكا الجنوبية	الجبال في أمريكا الشمالية
السهول الفيضية في آسيا	السهول الفيضية في إفريقيا	الجبال في أمريكا الجنوبية	الجبال في أمريكا الشمالية



ثالثاً : التدريبات السؤال الأول :

اكتب كلمة (صح) أمام العبارات الصحيحة وكلمة (خطأ) أمام العبارات غير الصحيحة مع تصويب الخطأ:

- ١- يقع المناخ الصيني غرب القارات بين دائرتي عرض ٣٠-٤٥ شمال وجنوب دائرة الإستواء . **خطأ شرق القارات**
- ٢- من العوامل المؤثرة في مناخ القارات الموقع الفلكي والتضاريس . **صواب**
- ٣- تنفض الغابات المخروطية أوراقها في فصل الشتاء . **خطأ الغابات النفضية**
- ٤- تتميز سواحل دول المغرب العربي والجبل الأخضر في ليبيا بمناخ البحر المتوسط . **صواب**
- ٥- تنمو حشائش الاستبس في الإقليم المداري الحار . **خطأ السافانا**

السؤال الثاني : بم تفسر ...؟

- ١- يتميز حوض الأمازون بارتفاع درجة الحرارة طوال العالم وسقوط المطر
- ٢- تنمو الأشجار الموسمية في شبه جزيرة الهند الصينية جنوب الصين . **لغزارة الامطار صيفا**
- ٣- تدرج حشائش السافانا في القصر كلما اتجهنا شمالاً وجنوباً من دائرة الاستواء
- ٢- امتداد جميع الأقاليم المناخية في قارة آسيا **بسبب تدرج كمية الامطار كلما ابتعدنا عن دائرة الاستواء**
- ٢- امتداد جميع الأقاليم المناخية في قارة آسيا **لاتساع مساحتها وامتدادها في حوالي ٩٢ درجة عرضية**

السؤال الثالث : قارن بين

- ١- إقليم مناخ غرب اوربا وإقليم مناخ البحر المتوسط
 - ٢- إقليم المناخ المداري الحار وإقليم المناخ الموسمي
- من حيث مناطق التوزيع والخصائص المناخية والنباتية.

يقع في اسيا في الهند وشبه جزيرة الهند الصينية (جنوب الصين) واستراليا يقع في اقصى شمال القارة وافريقيا في هضبة اثيوبيا وجزيرة مدغشقر حرارة مرتفعة صيفا ** امطار غزيرة صيفا ويسود الجفاف شتاء غابات موسمية من اهم اشجارها جوز الهند ** حشائش السافانا

يمند بين دائرتي عرض ١٠ / ١٨ شمالاً وجنوباً في جنوب غرب اسيا كما في جزر اندونيسيا ، شمال وجنوب الاقليم الاستوائي في كل من افريقيا وامريكا الجنوبية ، كما يوجد في بعض الاجزاء الجنوبية في قارة امريكا الشمالية ، وشمال استراليا حرارة مرتفعة صيفا * امطار تسقط صيفا ويسود الجفاف شتاء اشجار أقل كثافة وتشابكا من اشجار الغابات الاستوائية ** حشائش السافانا

إقليم البحر المتوسط	إقليم غرب اوربا
ميدسير دائري عرض ٣٠-٤٥ شمالاً وجنوباً	ميدسير دائري عرض ٤٥-٦٠ شمالاً وجنوباً
مرب معظم القارات	القارات في اوربا
اسيا سواحل كم وكريا	وامريكا الشمالية في
امريكا دول البحر ليري	السيلى ليري
اوربا لسواحل لطله	في امريكا الجنوبية
على البحر المتوسط	جنوبها الغربي
امريكا الشمالية ولايه	داهي صيفاً بارد شتاء
كاليفورنيا - امريكا	الامطار طول العام
الجنوبية - تها اولاً	سردار شتاء
سكنى اسراليا	
جنوبها الغربي	
حار جاف صيفاً	غابات نفضية
داهي مطر شتاء	اهم اشجارها الزام
غابات البحر المتوسط	
الزيتون	
حشائش السافانا	

تدريبات عامة على الوحدة الأولى

السؤال الأول :

صوب ما تحته خط:

١- تشغل الماء اليابس ٧٠,٧٪ من مساحة الكرة الأرضية ، بينما تشغل المحيطات والبحار اليابس ٢٩,٣

٢- تطل قارة أمريكا الجنوبية على المحيط الهادي من الشرق ، والبحر الكاريبي من الغرب . الشمال

٣- من أهم السلاسل الجبلية فى أوربا سلاسل جبال الألب الأورال التى تمتد من الغرب إلى الشرق فى وسط القارة.

٤- تمتد السهول الفيضية فى أوربا من المحيط الهادي غربا حتى جبال الأورال فى الشرق . الاطلنطى

٥- من جبال قارة آسيا جبال الألب والهمالايا . اليابان / طوروس / زاجروس

٦- من أهم هضاب قارة أمريكا الشمالية هضبة جيتا . نهر ادور

٧- يتميز إقليم المناخ الاستوائي بغزارة أمطاره صيفا بينما يسود الجفاف شتاءً . الموسمى

٨- تنمو أشجار الصنوبر فى إقليم الغابات الاستوائية . المخروطية



السؤال الثانى :

أمامك خريطة صماء لقارة أوربا ، اكتب مدلول

الأرقام الموقعة عليها :

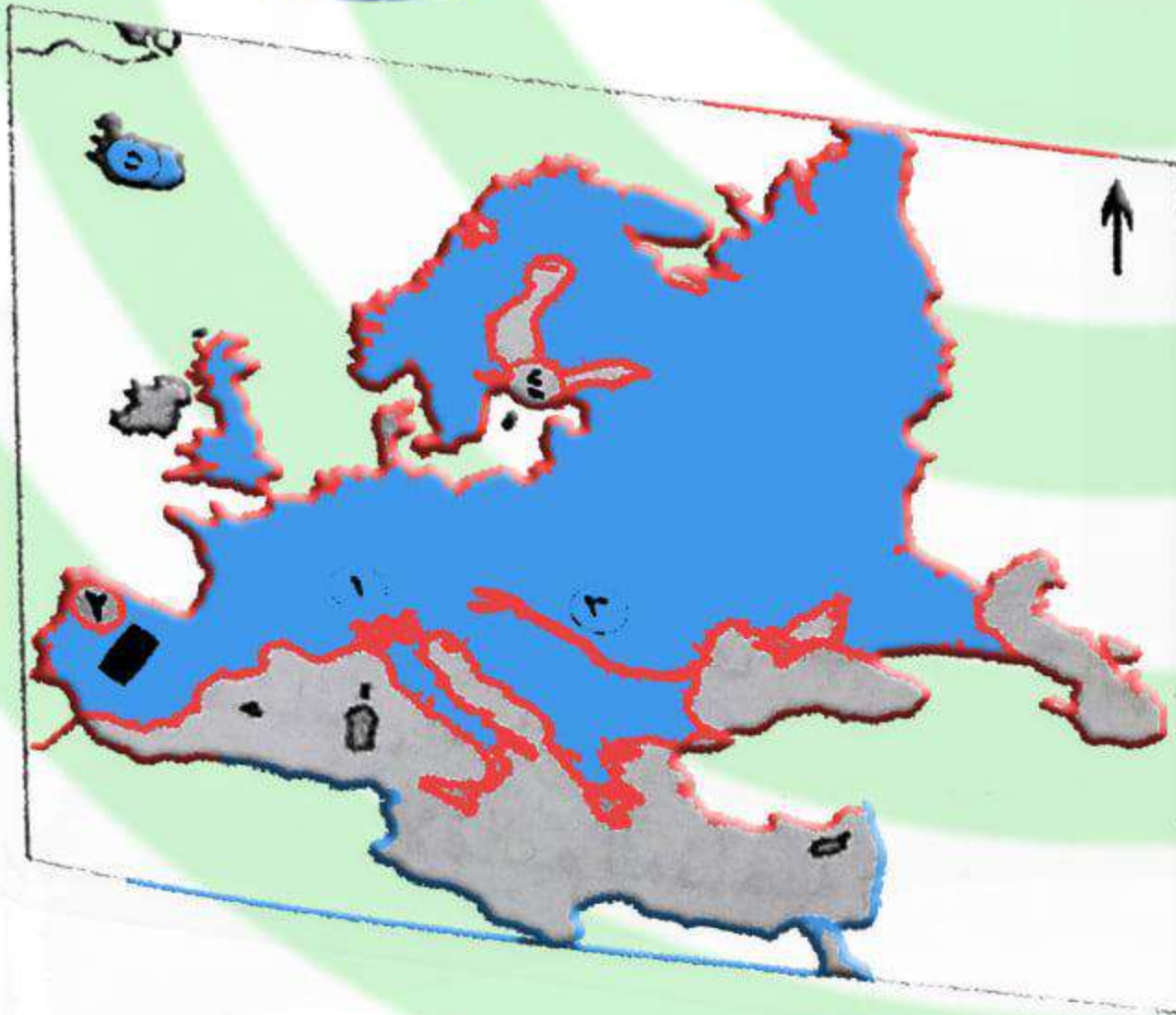
١- جبال الألب

٢- هضبة الميزيتا

٣- نهر الدانوب

٤- بحر البالطى

٥- جزيرة ايسلندا



السؤال الثالث :

بم تفسر .. ؟ **كثرة تعرج السواحل في اوربا وكثرة الجزر**

١- قيام الموانئ الطبيعية على سواحل أوربا.

تتسع في السهول الوسطى /تتد من المحيط القطبي شمالا الى خليج المكسيك جنوبا

٢- تعدد خصائص السهول الفيضية بأمريكا الشمالية

يوجد بها البحيرات العظمى ويغطي الجليد اطرافها الشمالية

٣- السافانا حديقة حيوان طبيعية. يوجد بها حيوانات آكلة العشب مثل الضيلة والزراف وحيوانات آكلة اللحوم مثل الاسود والنمور والضباع

٤- تتنوع الحياة النباتية في إقليم المناخ الجبلي. تبعا لارتفاع السطح واختلاف كمية المطر

٥- قلة أهمية انهار شمال اسيا شتاءا. حيث تتجمد في فصل الشتاء

٦- ضيق السهول الساحلية في غرب أمريكا الجنوبية. بسبب اقتراب جبال الانديز من ساحل المحيط الهادى



السؤال الرابع :

أمامك خريطة صماء لقارة أمريكا الشمالية ، حدد عليها :

أ- الموقع الجغرافى للقارة

ب- أهم الأقاليم المناخية المتواجدة بالقارة

السؤال الخامس زيادة نسبة تلوث البيئة وارتفاع

ماذا يحدث إذا ...؟ **درجة الحرارة**

أزيلت جميع الغابات من العالم .

السؤال السادس :

ما المقصود بالمفاهيم الجغرافية التالية:

- دولة جزرية - إقليم مناخى - حوض النهر - موقع فلكى

- **دولة جزرية** : هى الدول التى تتكون من جزيرة او اكثر وقد تكون جزء من جزيرة

- **موقع فلكى** : موقع المكان بالنسبة لخطوط الطول ودوائر العرض

- **اقليم مناخى** : منطقة محددة من سطح الأرض لها خصائص مناخية معينة مثل الحرارة

والرياح والأمطار وغيرها .

حوض النهر : الاراضى التى يجرى فيها النهر وروافده او تنحدر مياهها إليه





نشاط (٣) سجل رأيك

اقرأ وسجل رأيك في كل عبارة مما يلي :
(أ) بعض السلالات تعتبر نفسها أكثر ذكاء وقدرة على العمل .

ثانياً : التدريبات السؤال الأول :

اختر الأجوبة الصحيحة مما بين الأقواس :

- ١- تتميز السلالة..... بالبشرة الداكنة والأنف العريض والشعر الأجعد.
(القوقازية - الزنجية - الهندية - المغولية)
- ٢- تتركز السلالة المغولية في قارة.....
(أفريقيا - آسيا - أوروبا - استراليا)
- ٣- تشمل السلالة..... نصف سكان العالم وتنتشر في قارات العالم المختلفة مثل قارة أوروبا
(القوقازية - الزنجية - الهندية - المغولية)

السؤال الثاني : دلل على صحة العبارة التالية :

لا يوجد في العالم الآن ما يعرف بالسلالة النقية
بسبب انصهار السلالات واختلاط الصفات الطبيعية التي تميز كل سلالة عن الأخرى
السؤال الثالث :

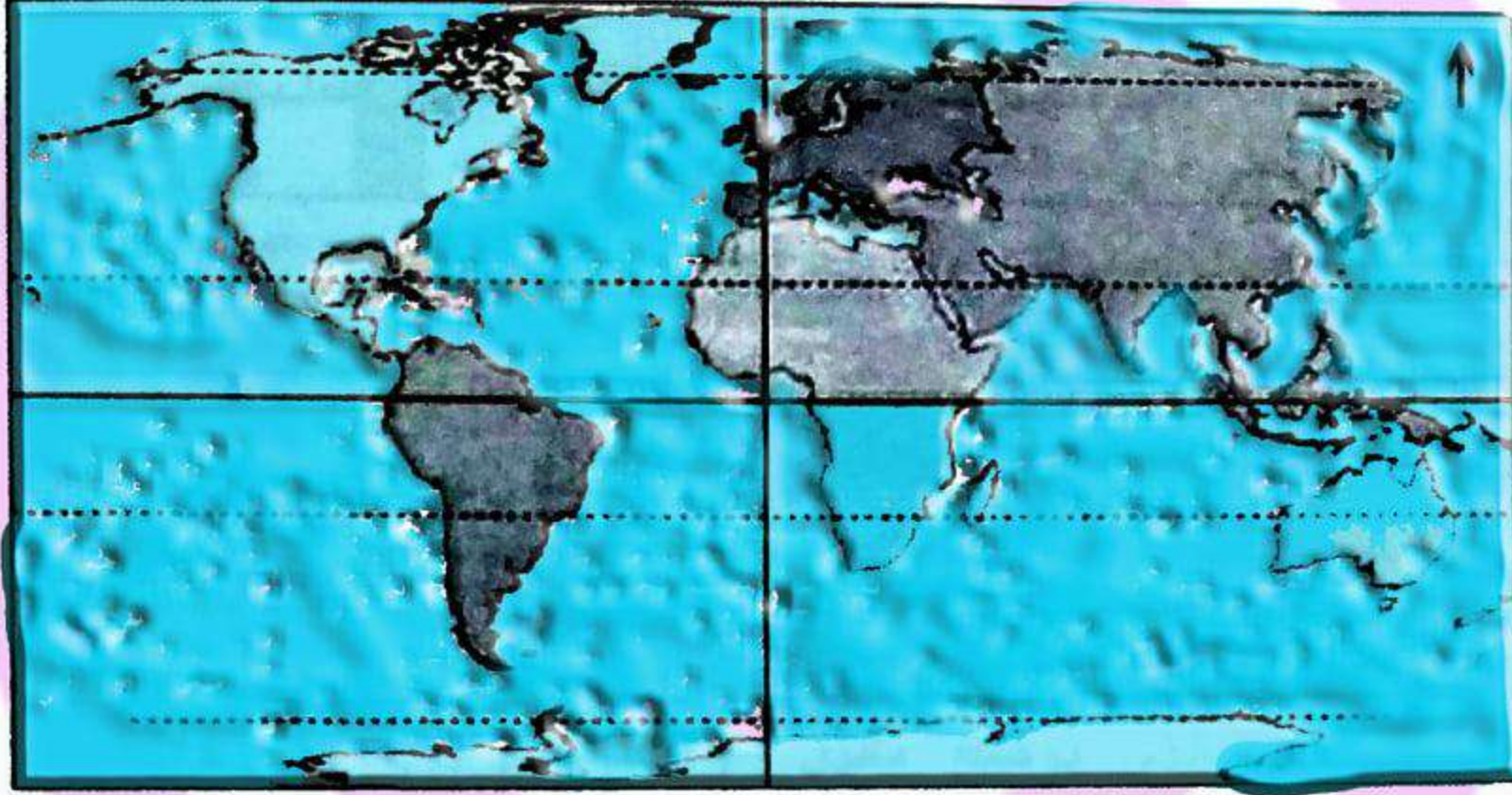
اكتب كلمة (صح) أمام العبارات الصحيحة وكلمة (خطأ) أمام العبارات غير الصحيحة مع تصويب الخطأ:

- ١- يبلغ نسبة الزنوج ٥٢٪ من سكان العالم .
(خطأ) ١٠٪
- ٢- من أقسام السلالة الزنجية الزنوج السودانيون والبانتيون والنيليون الحاميون.
(صواب)
- ٣- تشمل السلالة القوقازية نصف سكان العالم ويعد سكان غرب و وسط أوروبا من السلالة القوقازية.
(صواب)
- ٤- تنتمي جماعة التنجوس في سيبيريا إلى السلالة الزنجية.
(خطأ) المغولية



نشاط (٤) فكر وأجب

أمامك خريطة صماء للعالم حدد عليها ما يلي :



أ- منطقة واحدة بكل قارة تعد من أكثر المناطق تركزا للسكان بالـ قارة .

ب- موقع المناطق الأكثر اكتظاظا بالسكان في الخريطة السابقة ، وفي أى منها تـ يقع أن يتركز السكان ؟
ولماذا ؟ سهول حوض الأمازون - بن - سهول الأرجنتين - غرب أستراليا .

ثانياً : التدريبات

السؤال الأول : اختر الإجابة الصحيحة مما بين الأقواس :

١- يبلغ عدد سكان طبقا لتقديرات ٢٠١٤ م حوالى ٧,٢ مليار نسمة .

(إفريقيا - آسيا - أوروبا - العالم)

٢- يتركز سكان أمريكا الجنوبية حول سهول نهر

(المسيبى - النيل - الأورينوكو - نيجر)

٣- تعد دولة .. من أكثر دول آسيا سكانا

(السعودية - الصين - أندونيسيا - الهند)



السؤال الثاني : بم تفسر؟

١- اختلاف عدد السكان من قارة لأخرى فى العالم .

تبعاً لاختلاف العوامل المؤثرة في توزيع السكان مثل السهول الفيضية - المناخ المعتدل - ومدى توافر فرص العمل واللاجور

٢- قلة عدد السكان فى سيبيريا وألاسكا .

بسبب برودة الجو

٣- قلة عدد السكان فى المناطق الاستوائية بإفريقيا وأمريكا الجنوبية.

بسبب انتشار الغابات الاستوائية الكثيفة حيث البيئة الطبيعية القاسية وانتشار الامراض

٤- تركيز السكان فى مونتريال بكندا .

وجود المدن الكبرى ووفرة فرص العمل

٥- تركيز معظم سكان العالم فى المدن الكبرى .

بسبب وفرة فرص العمل - وفرة الخدمات والمناطق الصناعية



السؤال الثالث : ما النتائج المترتبة على؟

١- زيادة عدد السكان فى معظم دول آسيا .

نقص الغذاء - قلة نصيب الفرد من الدخل القومى - انخفاض مستوى المعيشة - وجود هجرات غير شرعية تتجه معظمها الى الدول المتقدمة مثل دول أوروبا

٢- التقدم الصناعى فى أوروبا.

أدى الى تركيز السكان فى المدن الكبرى

السؤال الرابع : صوب ما تحته خط :

١- يقل السكان فى المناطق الصحراوية ، مثل منطقة الصحراء الكبرى فى قارة آسيا أفريقيا

٢- تعد قارة أوروبا أكبر قارات العالم سكاناً .

٣- تعد دولتا السودان و اليابان أكبر دولتين فى العالم من حيث عدد السكان . الصين والهند آسيا

٤- من أكبر دول قارة أمريكا الجنوبية سكاناً دولة شيلي.

٥- تعد قارة أمريكا الجنوبية أقل قارات العالم سكاناً.

البرازيل
أستراليا



السؤال الأول: صوب ماتحته خط :

- ١- تتميز قارة أوروبا بمعدل مواليد مرتفع احرصا
- ٢- تتميز قارة استراليا بمعدل وفيات مرتفع اوربا
- ٣- دولة ذات رعاية طبية مرتفعة كينيا مصر
- ٤- تتميز دولة الصومال بارتفاع نصيب الفرد من الد

السؤال الثاني: بم تفسر.....؟

- ١- ارتفاع معدلات المواليد في قارة إفريقيا.
- ٢- ارتفاع معدل الوفيات في أوروبا.
- ٣- وصول نسبة المتعلمين في مصر إلى ٦٥٪.
- ٤- تركيز الدول ذات الدخل الاقتصادي المنخفض في إفريقيا.
- ٥- زيادة عدد كبار السن في الدول المتقدمة.

السؤال الثالث: اختر الإجابة الصحيحة مما بين الأقواس:

- ١- تصل نسبة قوة العمل فى مجال الزراعة إلى ٨٠٪ فى الدول.....
(الغنية - النامية - المتقدمة - الفقيرة)
- ٢- تعتبر دولة..... من الدول ذات الرعاية الطبية المنخفضة
(السعودية - مصر - فرنسا - أثيوبيا)
- ٣- تصل معدلات إلى ٨ فرد فى الألف على المستوى العالمى.
(المواليد - الهجرة - الوفيات - الأمية)

السؤال الرابع: ما المقصود بالمفاهيم الجغرافية التالية:

- ١- الزيادة الطبيعية. يتأخر. الضرب من مصدر في المواليد وقصر في الوضائح
- ٢- قوة العمل. محمد بن الميرزا في سبب العمل والحد من عليه والد من يعمل في عمله او يعمل في عمله
- ٣- التركيب العمري. محمد بن الميرزا في سبب كل فجوة من سكان منطقة ما وفضا لفضا في عمره

السؤال الخامس: ماذا يحدث إذا.....؟

- ١- زاد اهتمام دول إفريقيا بتعليم الإناث.
٢- قامت إفريقيا بالاستفادة من ثرواتها المعدنية والزراعية في التصنيع.

تدريبات عامة على الوحدة الثانية

- ١- اكتب كلمة (صح) أمام العبارات الصحيحة وكلمة (خطأ) أمام العبارات غير الصحيحة مع تصويب الخطأ:
 - (أ) تمثل السلالة الزنجية نصف سكان العالم. خطأ ١٠٠٪ ()
 - (ب) تتركز السلالة المغولية في قارة أوروبا وآسيا. خطأ قارة آسيا ()
 - (ج) تتميز السلالة القوقازية بالبشرة الداكنة والشعر المجعد. خطأ لشعر الزنجية ()
 - (د) يعد العرب من السلالة القوقازية. خطأ - العرب لسواهم من أصل واحد ()
 - (هـ) يوجد في آسيا أكبر دولتين في العالم من حيث عدد السكان وهما اليابان وروسيا. (X) (الصحيح والصحيح)
 - (و) يتركز سكان الولايات المتحدة في عدة مناطق منها الساحل الشمالي الشرقي. هو ب ()
- ٢- بم تفسر.....؟

- أ- انعدام تواجد شعب بالكامل من سلالة واحدة. سبب انتشار العرقيات واختلاط الصفات الجينية للصيادين
- ب- تركيز سكان العالم في السهول ذات التربة الجيدة. ممره الجيد وخصوبته العالية
- ج- قلة السكان في سهول نهر الأمازون بأمريكا الجنوبية. سبب انتشار الغابات الكثيفة والحيوانات المفترسة
- د- قلة السكان في غرب ووسط أستراليا. سبب سياره الظروف الصحراوية
- هـ- تواجد أعلى معدلات الوفيات في الدول النامية. صغر نصيب الفرد من الناتج المحلي الإجمالي ونسبة كبيرة من السكان تحت سن ١٥ سنة

٣- ما النتائج المترتبة على.....؟

- أ) زيادة عدد السكان في معظم دول آسيا. نقص البترول - ارتفاع مستوى المعيشة - انخفاض نصيب الفرد من الدخل
- ب) زيادة نسبة العاملين من السكان في دول غرب أوروبا. هجرة كبيرة من الدول النامية إلى الدول المتقدمة
- ج) تساوى معدلات المواليد مع معدلات الوفيات في قارة أوروبا. ارتفاع مستوى المعيشة - انخفاض معدل المواليد
- د- قارن بين قوة العمل في الدول المتقدمة والدول النامية.

هـ- ما رأيك في الجهود القائمة بشأن تعليم المرأة في مصر.

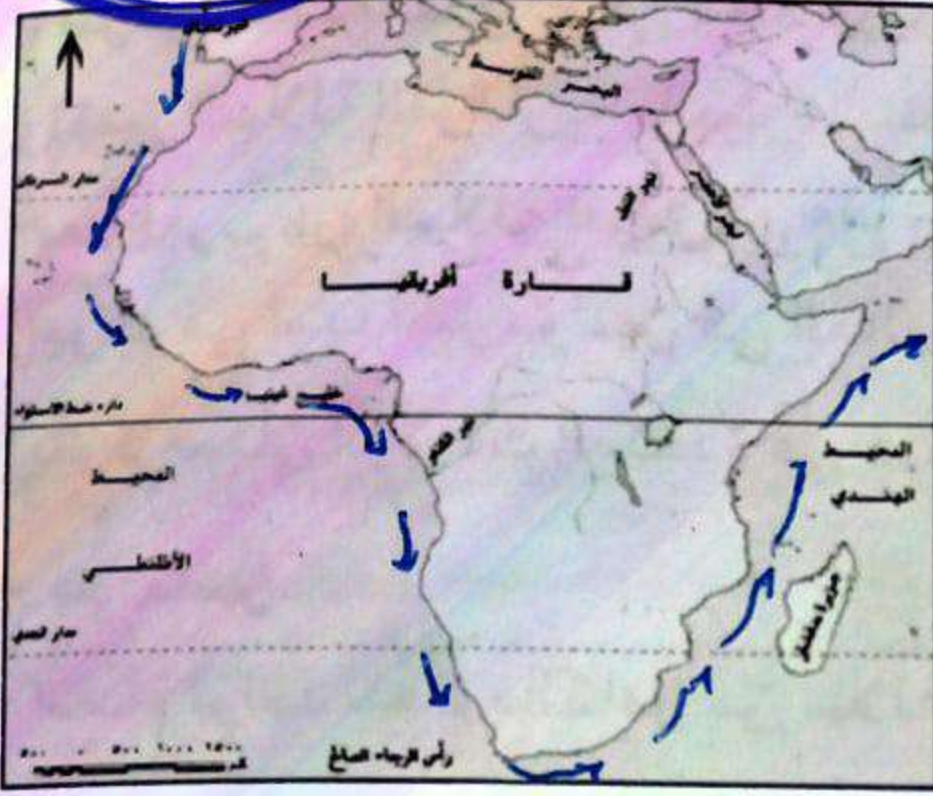
- ١- تزايد نسبة التعليم في مجال الزراعة من إجمالي القوى العاملة في مصر. تزايد نسبة التعليم في مجال الزراعة من إجمالي القوى العاملة في مصر
- ٢- تزايد نسبة التعليم في مجال الزراعة من إجمالي القوى العاملة في مصر. تزايد نسبة التعليم في مجال الزراعة من إجمالي القوى العاملة في مصر
- ٣- تزايد نسبة التعليم في مجال الزراعة من إجمالي القوى العاملة في مصر. تزايد نسبة التعليم في مجال الزراعة من إجمالي القوى العاملة في مصر
- ٤- تزايد نسبة التعليم في مجال الزراعة من إجمالي القوى العاملة في مصر. تزايد نسبة التعليم في مجال الزراعة من إجمالي القوى العاملة في مصر
- ٥- تزايد نسبة التعليم في مجال الزراعة من إجمالي القوى العاملة في مصر. تزايد نسبة التعليم في مجال الزراعة من إجمالي القوى العاملة في مصر
- ٦- تزايد نسبة التعليم في مجال الزراعة من إجمالي القوى العاملة في مصر. تزايد نسبة التعليم في مجال الزراعة من إجمالي القوى العاملة في مصر
- ٧- تزايد نسبة التعليم في مجال الزراعة من إجمالي القوى العاملة في مصر. تزايد نسبة التعليم في مجال الزراعة من إجمالي القوى العاملة في مصر
- ٨- تزايد نسبة التعليم في مجال الزراعة من إجمالي القوى العاملة في مصر. تزايد نسبة التعليم في مجال الزراعة من إجمالي القوى العاملة في مصر
- ٩- تزايد نسبة التعليم في مجال الزراعة من إجمالي القوى العاملة في مصر. تزايد نسبة التعليم في مجال الزراعة من إجمالي القوى العاملة في مصر
- ١٠- تزايد نسبة التعليم في مجال الزراعة من إجمالي القوى العاملة في مصر. تزايد نسبة التعليم في مجال الزراعة من إجمالي القوى العاملة في مصر



الوحدة الثالثة

مصر تحت الحكم العثماني

الدرس الأول: مصر بين المماليك والعثمانيين



أولاً: الأنشطة

نشاط (١) فكر وحدد

- ١- لاحظ الخريطة التي أمامك ثم حدد عليها بالأسهم طريق رأس الرجاء الصالح.
 - ب- ماذا كان يحدث إذا لم تتحول تجارة الشرق إلى طريق رأس الرجاء الصالح؟
- ... لم يتغير صفاء دولة المماليك ... لا زعماء ...
... من ليبيا و مركزها مصر ...

ثانياً: التدريبات

السؤال الأول:

- اكتب كلمة (صح) أمام العبارات الصحيحة وكلمة (خطأ) أمام العبارات غير الصحيحة مع تصويب الخطأ:
- ١- تعرضت دولة المماليك لتدهور اقتصادي نتيجة لاكتشاف طريق رأس الرجاء الصالح. (✓)
 - ٢- انتهى الصدام بين الدولتين الصفوية والعثمانية بهزيمة السلطان سليم الأول. خطأ استعمار
 - ٣- تجنب السلطان العثماني الصدام مع الدول الأوروبية. (✓)
 - ٤- هزمت جيوش طومان باي في معركة مرج دابق. خطأ مع مصر البربر سنة (١٥١٧)

السؤال الثاني:

أكمل العبارات التالية بكلمات مناسبة

- ١- ترواحت مدة بقاء الوالج... بين سنة ، ثلاث سنوات.
- ٢- عانى الفلاح المصري من ظلم المليحة بجمع الضرائب.
- ٣- اتجه السلطان سليم الأول مع بداية القرن السادس عشر في فتوحاته نحو البربر.





السؤال الثالث:
بم تفسر.....؟

- ١- هزيمة الجيوش المملوكية أمام الجيش العثماني.
...البلد... والبر... على...
...العثمانيون نحو مصر والشام.
 - ٢- اتجاه...
...العثمانيون نحو مصر والشام.
 - ٣- التدهور الزراعي في عصر الدولة العثمانية.
...العثمانيون نحو مصر والشام.
- السؤال الرابع:

رتب الأحداث التاريخية التالية من القديم إلى الحديث على خط زمني:
موقعة الريدانية - موقعة مرج دابق - حركة علي بك الكبير في مصر.
(١) (٢) (٣)



السؤال الخامس:

قارن بين كل من (موقعة مرج دابق) ، (موقعة الريدانية)
من حيث الأسباب - النتائج

الريدانية ١٥١٧	مرج دابق ١٥١٦	مخططه
محاوله طرد محمد باي حيدر... ...الريدانية ١٥١٧	بادر... ...الريدانية ١٥١٧	الاسباب
استعمار... ...الريدانية ١٥١٧الريدانية ١٥١٧	النتائج

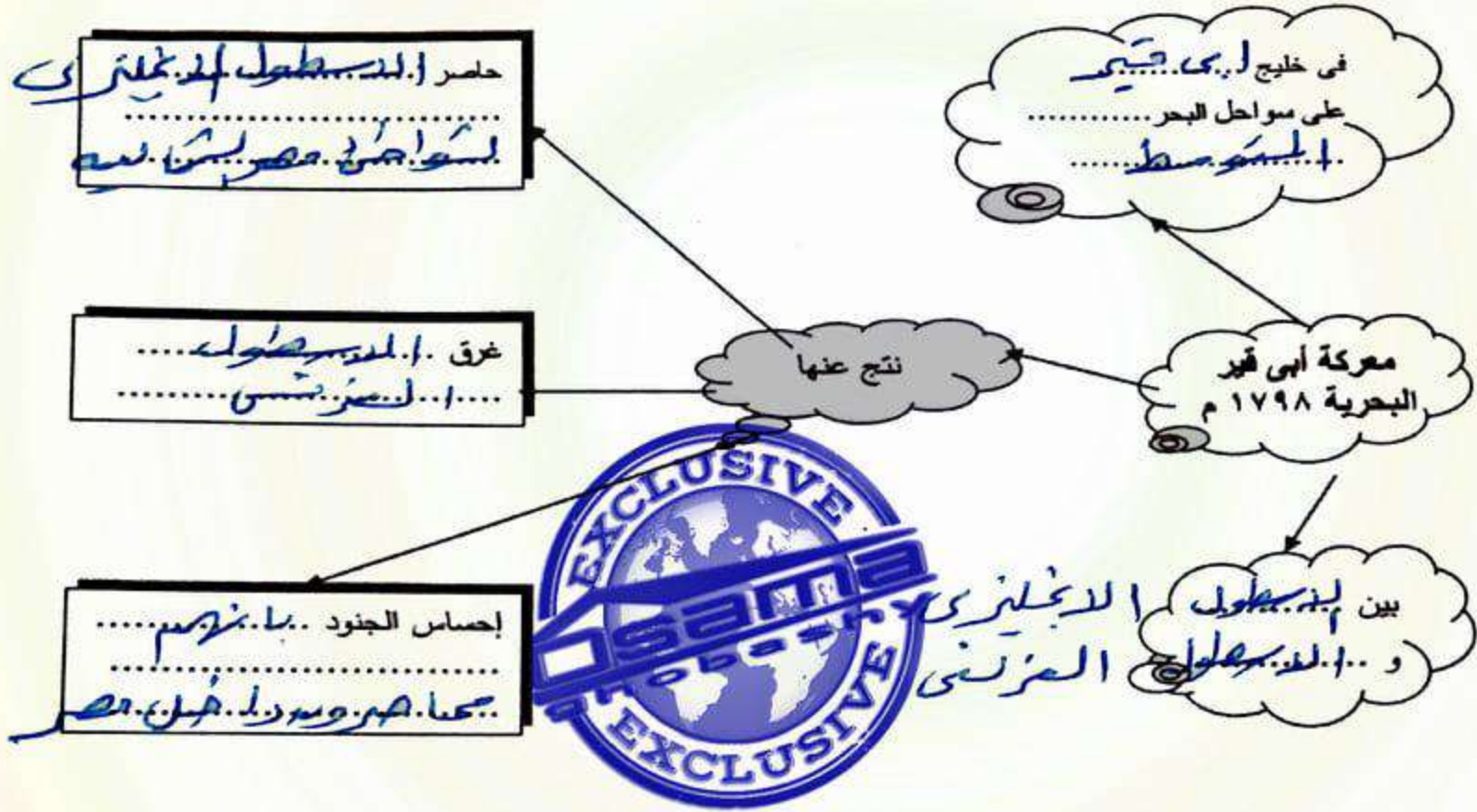
الدرس الثانى: الحملة الفرنسية على مصر
(١٧٩٨م - ١٨٠١م)



أولاً: الأنشطة

نشاط (١) لاحظ واستنتج:

أ- اقرأ خريطة موقعة أبى قير البحرية بالكتاب المدرسى ثم استكمل الشكل التالى:



نشاط (٢) فكر وصنف:

صنف نتائج الحملة الفرنسية على مصر فى الجدول التالى:

نتائج اقتصادية واجتماعية	نتائج علمية وثقافية	نتائج استراتجية وسياسية
تخريب الميناء الإسكندرية تدمير موانئ البحر المتوسط	إنشاء الجمع العلمي / أكاديمية كسب وجمع مصر - الكتب	توحيد نظام الدولة المصرية محاكمات إنجلترا إلى إخماد حشود

مصر الخراب والدمار الذى
ثانياً: التدريبات
السؤال الأول:

اكتب كلمة (صح) أمام العبارات الصحيحة وكلمة (خطأ) أمام العبارات غير الصحيحة مع تصويب الخطأ:

١- تعد الحملة الفرنسية على مصر والشام جزءاً من التنافس الاستعماري بين إنجلترا وفرنسا.

(٤)

٢- اصطحب الجيش الفرنسى مجموعة من العلماء فى مختلف العلوم والفنون لدراسة أحوال مصر.

(٤)

٣- واجه أهالى مدينة الإسكندرية الحملة الفرنسية بزعامة السيد محمد كريم.

(٤)

٤- استخدم المماليك المدافع والمعدات الحديثة فى مواجهة القوات الفرنسية.

خطأ (٤)



السؤال
أكمل العبارات التالية بكلمات مناسبة مما بين الأقواس:
(نلسن - السويس - طرابلس)

١- التقت قوات الحملة الفرنسية قوات المماليك بالقاهرة

٢- أغرق الأسطول البريطاني بقيادة... الأسطول الفرنسي في البحيرة في يوليو ١٧٩٨ م.

السؤال الثالث:

بسم الله الرحمن الرحيم
 بسم مرضنا ما يليق به الصالحين
 ابو بكر

١- قيام ثورة القاهرة الأولى في أكتوبر ١٧٩٨م. السيوف على المهر عبد - مكيام طنور طحله بكفنديس

الحظارة عن المصارف - حرم كسبهم من الحياض والبيارات - حرم الوان كرات

١- الحملة الفرنسية على مصر في ١٧٩٨ م.

[illegible]

- الحملة الفرنسية على الشام في مارس ١٧٩٩ م. *سَمِعَ رَعْنَهُ نَا نَلِسُو يَدُ مَنَ الْوَقْدَانِ وَرَدَ الْحَدَّ*

العمادى السكا ومن بعد السلام .. ميل اندر اسميل الى مصر

١٧٩٩م. بريد اخراج الفرس من مصر بالقوة العسكرية

سؤال الرابع: ما النتائج المترتبة على.....؟

ثورة القاهرة الأولى ضد الاحتلال الفرنسي.

تحطيم الأسطول الفرنسي في موقعة أبوقير البحرية.

سُورَةُ الْاَنْعَامِ ٦

مذبحة يافا البشرية - سحر الخلود - ثم معاصرونا راحل مصر - حرمه كماله

کمالی معاوضہ و اس سبب ان احمالی عکاسی پر ضائع غیر ضروری رقم

لاحتلال الفرنسي لمصر (١٧٩٨ - ١٨٠١م) - نحو الروح المعنوية لدى المصريين - توصيف انظار ال

الشيخ احمد بن محمد بن الحسين بن علي بن ابي طالب - له كتاب في الفقه والحديث والادب -

ال خامس: اختر الإجابة الصحيحة مما بين الأقواس : عا رار عماري واهما عي

١٠٠
 ١٠١
 ١٠٢
 ١٠٣
 ١٠٤
 ١٠٥
 ١٠٦
 ١٠٧
 ١٠٨
 ١٠٩
 ١١٠
 ١١١
 ١١٢
 ١١٣
 ١١٤
 ١١٥
 ١١٦
 ١١٧
 ١١٨
 ١١٩
 ١٢٠
 ١٢١
 ١٢٢
 ١٢٣
 ١٢٤
 ١٢٥
 ١٢٦
 ١٢٧
 ١٢٨
 ١٢٩
 ١٣٠
 ١٣١
 ١٣٢
 ١٣٣
 ١٣٤
 ١٣٥
 ١٣٦
 ١٣٧
 ١٣٨
 ١٣٩
 ١٤٠
 ١٤١
 ١٤٢
 ١٤٣
 ١٤٤
 ١٤٥
 ١٤٦
 ١٤٧
 ١٤٨
 ١٤٩
 ١٥٠
 ١٥١
 ١٥٢
 ١٥٣
 ١٥٤
 ١٥٥
 ١٥٦
 ١٥٧
 ١٥٨
 ١٥٩
 ١٦٠
 ١٦١
 ١٦٢
 ١٦٣
 ١٦٤
 ١٦٥
 ١٦٦
 ١٦٧
 ١٦٨
 ١٦٩
 ١٧٠
 ١٧١
 ١٧٢
 ١٧٣
 ١٧٤
 ١٧٥
 ١٧٦
 ١٧٧
 ١٧٨
 ١٧٩
 ١٨٠
 ١٨١
 ١٨٢
 ١٨٣
 ١٨٤
 ١٨٥
 ١٨٦
 ١٨٧
 ١٨٨
 ١٨٩
 ١٩٠
 ١٩١
 ١٩٢
 ١٩٣
 ١٩٤
 ١٩٥
 ١٩٦
 ١٩٧
 ١٩٨
 ١٩٩
 ٢٠٠
 ٢٠١
 ٢٠٢
 ٢٠٣
 ٢٠٤
 ٢٠٥
 ٢٠٦
 ٢٠٧
 ٢٠٨
 ٢٠٩
 ٢١٠
 ٢١١
 ٢١٢
 ٢١٣
 ٢١٤
 ٢١٥
 ٢١٦
 ٢١٧
 ٢١٨
 ٢١٩
 ٢٢٠
 ٢٢١
 ٢٢٢
 ٢٢٣
 ٢٢٤
 ٢٢٥
 ٢٢٦
 ٢٢٧
 ٢٢٨
 ٢٢٩
 ٢٣٠
 ٢٣١
 ٢٣٢
 ٢٣٣
 ٢٣٤
 ٢٣٥
 ٢٣٦
 ٢٣٧
 ٢٣٨
 ٢٣٩
 ٢٤٠
 ٢٤١
 ٢٤٢
 ٢٤٣
 ٢٤٤
 ٢٤٥
 ٢٤٦
 ٢٤٧
 ٢٤٨
 ٢٤٩
 ٢٥٠
 ٢٥١
 ٢٥٢
 ٢٥٣
 ٢٥٤
 ٢٥٥
 ٢٥٦
 ٢٥٧
 ٢٥٨
 ٢٥٩
 ٢٦٠
 ٢٦١
 ٢٦٢
 ٢٦٣
 ٢٦٤
 ٢٦٥
 ٢٦٦
 ٢٦٧
 ٢٦٨
 ٢٦٩
 ٢٧٠
 ٢٧١
 ٢٧٢
 ٢٧٣
 ٢٧٤
 ٢٧٥
 ٢٧٦
 ٢٧٧
 ٢٧٨
 ٢٧٩
 ٢٨٠
 ٢٨١
 ٢٨٢
 ٢٨٣
 ٢٨٤
 ٢٨٥
 ٢٨٦
 ٢٨٧
 ٢٨٨
 ٢٨٩
 ٢٩٠
 ٢٩١
 ٢٩٢
 ٢٩٣
 ٢٩٤
 ٢٩٥
 ٢٩٦
 ٢٩٧
 ٢٩٨
 ٢٩٩
 ٣٠٠
 ٣٠١
 ٣٠٢
 ٣٠٣
 ٣٠٤
 ٣٠٥
 ٣٠٦
 ٣٠٧
 ٣٠٨
 ٣٠٩
 ٣١٠
 ٣١١
 ٣١٢
 ٣١٣
 ٣١٤
 ٣١٥
 ٣١٦
 ٣١٧
 ٣١٨
 ٣١٩
 ٣٢٠
 ٣٢١
 ٣٢٢
 ٣٢٣
 ٣٢٤
 ٣٢٥
 ٣٢٦
 ٣٢٧
 ٣٢٨
 ٣٢٩
 ٣٣٠
 ٣٣١
 ٣٣٢
 ٣٣٣
 ٣٣٤
 ٣٣٥
 ٣٣٦
 ٣٣٧
 ٣٣٨
 ٣٣٩
 ٣٤٠
 ٣٤١
 ٣٤٢
 ٣٤٣
 ٣٤٤
 ٣٤٥
 ٣٤٦
 ٣٤٧
 ٣٤٨
 ٣٤٩
 ٣٥٠
 ٣٥١
 ٣٥٢
 ٣٥٣
 ٣٥٤
 ٣٥٥
 ٣٥٦
 ٣٥٧
 ٣٥٨
 ٣٥٩
 ٣٦٠
 ٣٦١
 ٣٦٢
 ٣٦٣
 ٣٦٤
 ٣٦٥
 ٣٦٦
 ٣٦٧
 ٣٦٨
 ٣٦٩
 ٣٧٠
 ٣٧١
 ٣٧٢
 ٣٧٣
 ٣٧٤
 ٣٧٥
 ٣٧٦
 ٣٧٧
 ٣٧٨
 ٣٧٩
 ٣٨٠
 ٣٨١
 ٣٨٢
 ٣٨٣
 ٣٨٤
 ٣٨٥
 ٣٨٦
 ٣٨٧
 ٣٨٨
 ٣٨٩
 ٣٩٠
 ٣٩١
 ٣٩٢
 ٣٩٣
 ٣٩٤
 ٣٩٥
 ٣٩٦
 ٣٩٧
 ٣٩٨
 ٣٩٩
 ٤٠٠
 ٤٠١
 ٤٠٢
 ٤٠٣
 ٤٠٤
 ٤٠٥
 ٤٠٦
 ٤٠٧
 ٤٠٨
 ٤٠٩
 ٤١٠
 ٤١١
 ٤١٢
 ٤١٣
 ٤١٤
 ٤١٥
 ٤١٦
 ٤١٧
 ٤١٨
 ٤١٩
 ٤٢٠
 ٤٢١
 ٤٢٢
 ٤٢٣
 ٤٢٤
 ٤٢٥
 ٤٢٦
 ٤٢٧
 ٤٢٨
 ٤٢٩
 ٤٣٠
 ٤٣١
 ٤٣٢
 ٤٣٣
 ٤٣٤
 ٤٣٥
 ٤٣٦
 ٤٣٧
 ٤٣٨
 ٤٣٩
 ٤٤٠
 ٤٤١
 ٤٤٢
 ٤٤٣
 ٤٤٤
 ٤٤٥
 ٤٤٦
 ٤٤٧
 ٤٤٨
 ٤٤٩
 ٤٥٠
 ٤٥١
 ٤٥٢
 ٤٥٣
 ٤٥٤
 ٤٥٥
 ٤٥٦
 ٤٥٧
 ٤٥٨
 ٤٥٩
 ٤٦٠
 ٤٦١
 ٤٦٢
 ٤٦٣
 ٤٦٤
 ٤٦٥
 ٤٦٦
 ٤٦٧
 ٤٦٨
 ٤٦٩
 ٤٧٠
 ٤٧١

المصرية - موقع مصر الجغرافي - خيرات وادي النيل

رب على اكتشاف حجر رشيد

الربط بين البحرين الأحمر والمتوسط)

لـ سليمان الحلبي القائد الفرنسي.....

(مينو- كليبر - نابليون بونابرت - بوسان)



ثانيًا: التدريبات

السؤال الأول: أكمل العبارات التالية بكلمات مناسبة مما بين الأقواس:

(محمد علي - الوالي - فريزر - نلسن - محمد بك الألفي - السلطان)

- ١- كان عام ١٨٠٥ م أول مرة يعزل فيها الوالي في تاريخ مصر الحديثة من قبل الشعب.
- ٢- قرر زعماء الشعب من العلماء ونقباء الطوائف عزل الوالي العثماني وتولية محمد علي حكم مصر.
- ٣- سعت بريطانيا إلى تولية محمد علي حكم مصر.
- ٤- أرسلت إنجلترا حملة إلى مصر عام ١٨٠٧ م بقيادة جيمس بير.

السؤال الثاني: رتب الأحداث التاريخية التالية من الأقدم إلى الأحدث:

- ١- حملة فريزر - خروج الحملة الفرنسية من مصر - تولية محمد علي - ثورة مارس ١٨٠٤ م - نفى السيد عمر مكرم إلى مدينة دمياط.
- ٢- حملة فريزر - خروج الحملة الفرنسية من مصر - تولية محمد علي - ثورة مارس ١٨٠٤ م - نفى السيد عمر مكرم إلى مدينة دمياط.
- ٣- حملة فريزر - خروج الحملة الفرنسية من مصر - تولية محمد علي - ثورة مارس ١٨٠٤ م - نفى السيد عمر مكرم إلى مدينة دمياط.

السؤال الثالث:

اكتب كلمة (صح) أمام العبارات الصحيحة وكلمة (خطأ) أمام العبارات غير الصحيحة مع تصويب الخطأ:

- ١- شهدت مصر حالة من الاستقرار السياسي منذ خروج الحملة الفرنسية. خطأ (موضي) واحظر با
- ٢- أصدر السلطان العثماني فرماناً بتعيين (محمد علي) باشا والياً على مصر بعد خروج الفرنسيين. خطأ لم يتم تعيين محمد علي البردي ثم هو
- ٣- جاهر السلطان العثماني بالانضمام إلى العلماء والمشايخ. خطأ محمد علي
- ٤- أصدر السلطان العثماني فرماناً بعزل خورشيد باشا في يوليو ١٨٠٥ م. صواب
- ٥- تخلص (محمد علي) من المماليك بطردهم ونفيهم خارج البلاد. خطأ دبر لهم مكره

السؤال الرابع: بم تفسر.....؟ كانت بربر احمدر مصر - خلع محمد علي - نور محمد علي الحكم

- ١- حملة فريزر على مصر في مارس ١٨٠٧ م. اراد ان ينقر بالحكم وودعه يده اوركاية
- ٢- نفى (محمد علي) السيد عمر مكرم إلى مدينة دمياط. الى كانت تملك في عمر مكرم بعد ان اراد
- ٣- ثورة الشعب المصري في مارس ١٨٠٤ م. سورها من توليد الحكم وعرضه في
- ٤- سيرة مصر البربر والبربر على البربر

السؤال الخامس: حدد وجه نظرك:

- ١- نتائج اجتماع زعماء الشعب في دار المحكمة ١٣ مايو ١٨٠٥. نزل للطلاب
- ٢- مذبحة القلعة ١٨١١ م. للمعسر ومبر



ثانياً: التدريبات

السؤال الأول: صوب ما تحته خط :

- ١- نظم «محمد علي» الاقتصاد المصري على أساس نظام الالتزام. الدخيل
- ٢- أنشأ «خورشد باشا» القناطر على نهر النيل. محمدي
- ٣- أنشأ «محمد علي» المطبعة الأميرية في القلعة. بولند
- ٤- اهتم «البرديسي» بتأمين الطرق البرية والبحرية كما اهتم بإصلاح الموانئ. محمدي

السؤال الثاني:

اكتب كلمة (صح) أمام العبارات الصحيحة وكلمة (خطأ) أمام العبارات غير الصحيحة مع تصويب الخطأ:

- ١- تضاعل نفوذ علماء الأزهر والقيادات الشعبية في عهد (محمد علي). صواب ()
- ٢- أنشأ (محمد علي) المدارس الحديثة ومنها الزراعة. صواب ()
- ٣- اهتم (محمد علي) بترجمة كتب العلوم المختلفة. صواب ()
- ٤- أنشأ (محمد علي) ترسانة بحرية في أسوان لصناعة السفن. خطأ في بولند ()

السؤال الثالث: بم تفسر:

١- الاهتمام بالتنظيمات الإدارية في عصر (محمد علي).

..... لكنه يسيطر على شؤون البلاد

٢- حروب (محمد علي) في الجزيرة العربية واليونان. كانت بناء على طلب من السلطان العثماني من

..... لحماية المصالح العثمانية في المنطقة

٣- حروب (محمد علي) في السودان والشام. لحماية المصالح العثمانية في المنطقة

..... لحماية المصالح العثمانية في المنطقة

٤- تدخل الدول الأوروبية أمام ازدياد نفوذ (محمد علي). لحماية المصالح العثمانية في المنطقة

..... لحماية المصالح العثمانية في المنطقة

يسبب ادخاله الدول الأوروبية انه محمد علي محمد علي محمد علي محمد علي
على التوازي لدولتي شيبب اشكها رانه على السلطانة العثمانية
وزير بارلنوف

تدريبات وأنشطة الوحدة الثالثة

تدريبات عامة على الوحدة الثالثة

السؤال الأول: صوب ما تحته خط :



١- قسم محمد علي مصر إلى سبع مراكز. سبع مراكز / سبع مراكز

٢- اصطحب كليب مجموعة من العلماء لدراسة أحوال مصر في جميع النواحي. نا بليو / نا بليو

٣- أدرك «محمد علي» قوة المماليك في توليه الحكم. الزمام / الزمام

٤- أنشأ «محمد علي» مدرسة عسكرية في الأسكندرية. السوا / السوا

السؤال الثاني: بم تفسر

١- أصبحت مصر ولاية عثمانية عام ١٥١٧م. سبب / سبب

٢- الحملة الفرنسية على مصر بفرض / بفرض

٣- حملة فريزر مارس ١٨٠٧م. من / من

٤- تطبيق نظام الاحتكار في عصر (محمد علي). من / من

٥- عقد معاهدة لندن ١٨٤٠م. في / في

السؤال الثالث:

اكتب كلمة (صح) أمام العبارات الصحيحة وكلمة (خطأ) أمام العبارات غير الصحيحة مع تصويب الخطأ:

١- تعرضت دولة المماليك لأزمات مالية وتدهور اقتصادي. صواب / صواب

٢- استطاعت القوات الفرنسية إخضاع أهالي الصعيد. خطأ / خطأ

٣- أرسل نابليون بونابرت قواته إلى الشام ليدمر الأسطول الأسباني. خطأ / خطأ

٤- أقدم «محمد علي» على خلع السيد عمر مكرم من نقابة الأشراف. صواب / صواب

٥- أثرت سياسة (محمد علي) الاقتصادية في تشكيل البناء الاجتماعي. صواب / صواب

السؤال الرابع: رتب الأحداث التاريخية التالية من الأقدم إلى الأحدث:

- حروب (محمد علي) في اليونان. - حروب (محمد علي) في الجزيرة العربية. - حملة فريزر على مصر.

- الحملة الفرنسية على الشام (١٣) - ثورة القاهرة الأولى (٢) - موقعة الريدانية.

السؤال الخامس: ما النتائج التي ترتبت على؟

١- ثورة القاهرة الثانية ١٨٠٠م. من / من

٢- حاجة «محمد علي» إلى الموظفين. من / من

٣- تطاحن المماليك المستمر فيما بينهم. من / من

السؤال السادس: ماذا كان يحدث إذا؟

١- هُزمت القوات العثمانية في موقعة مرج دابق. من / من

٢- لم يتم اكتشاف حجر رشيد. من / من

السؤال السابع: ما هي الآثار التي خلفها محمد علي في مصر؟



الوحدة الرابعة مصر والزحف الاستعماري ومحاولات التحرر الوطني الدرس الأول

خلفاء «محمد علي» وازدياد النفوذ الأجنبي

نشاط «أ» فكر وقارن:

أ- أكمل الجدول التالي:

تاريخ صدوره	عقد امتياز قناة السويس الأولى	عقد امتياز قناة السويس الثاني
١٨٥٦	١٨٥٦	١٨٥٦
أهم نصوصه	منح امتياز إنشاء شركة عامة لحفر قناة السويس واستثمارها لمدة ٩٩ سنة استثمار مصر كإقليم اقتصادي	إنشاء قناة السويس - مصر رغبة من الحكومة المصرية إنشاء قناة السويس - مصر رغبة من الحكومة المصرية استثمار قناة السويس - مصر رغبة من الحكومة المصرية

١٥

ثانياً: التدريبات

السؤال الأول: أكمل العبارات الآتية بكلمات مناسبة مما بين الأقواس:
(البنوك - إبراهيم - عباس الأول - سعيد - توفيق - اسماعيل - الأراضي)

- ١- أغلقت معظم المدارس في عهد إبراهيم الأول.
- ٢- تنازلت الحكومة المصرية عن الدرايف المطلوبة لإنشاء القناة المالحة وترعة الإسماعيلية.
- ٣- منح ديناند دي ليسبس امتياز تأسيس شركة عامة لحفر قناة السويس.
- ٤- تم في عهد الخديو إسماعيل تعيين مراقبين أجبيين أحدهما بريطاني لإيرادات والآخرة فرنسي للمصروفات.

ثانياً : التدريبات

السؤال الأول :

اكتب كلمة (صح) أمام العبارات الصحيحة وكلمة (خطأ) أمام العبارات غير الصحيحة مع تصويب الخطأ:

١- أدت سياسة التدخل الأجنبي في الشئون المالية للبلاد إلى إثارة مشاعر الكراهية ضد الأجانب. **صواب**

٢- تنسب الثورة العربية إلى الزعيم سعد زغلول باشا. **خطأ** **أحمد عرابي**

٣- أدى ازدياد سوء أحوال المصريين إلى نشوب الثورة العربية. **صواب**

٤- أعاد الخديو توفيق العمل باللائحة الأساسية لمجلس النواب. **خطأ** **أحمد عرابي**

٥- أدرك الخديو توفيق منذ بداية حكمه ازدياد قوة الانجليز في مصر. **صواب**

٦- أدت الأزمة المالية في عصر الخديو توفيق إلى سوء الأحوال الاجتماعية. **خطأ** **أحمد عرابي**

ازدياد لسوء الأحوال الاجتماعية في عصر الخديو توفيق

المؤثرات الفكرية الغربية التي أدت إلى نمو الوعي القومي

سوء الأحوال الاقتصادية - احتشاد رعايا مصر

مناقب الثورة العربية للمصريين

رغبة برطانيا ومصر في تسويد مركز

الخديو توفيق في مواجهة الحركة الوطنية

رغبة برطانيا ومصر في تسويد مركز

الخديو توفيق أمام العسكر

مطالب الأمة التي تقدم بها أحمد عرابي للخديو توفيق في ٩ سبتمبر ١٨٨١ م. - صوامع الضوا

الاحتشاد لبرطانيا في

وفاة الثورة

الاحتشاد لبرطانيا في

وفاة الثورة

الاحتشاد لبرطانيا في

وفاة الثورة

الاحتشاد لبرطانيا في

وفاة الثورة

الاحتشاد لبرطانيا في

وفاة الثورة

السؤال الثاني: بـم تفسر:

١- قيام الثورة العربية.

٢- المذكرة المشتركة الأولى في يناير ١٨٨٢ م.

٣- المذكرة المشتركة الثانية في مايو ١٨٨٢ م.

٤- فشل الثورة العربية.

٤- فشل الثورة العربية.

٤- فشل الثورة العربية.

٤- فشل الثورة العربية.

٤- فشل الثورة العربية.

٤- فشل الثورة العربية.

٤- فشل الثورة العربية.

٤- فشل الثورة العربية.

٤- فشل الثورة العربية.

٤- فشل الثورة العربية.

٤- فشل الثورة العربية.

٤- فشل الثورة العربية.

٤- فشل الثورة العربية.

٤- فشل الثورة العربية.

العناصر الخديوية للإنجليز
الظروف الدولية عام ١٨٨٢ م
تكن في جميع الحركة الوطنية

السؤال الأول:

١- اعترفت بريطانيا بمصر دولة مستقلة بعد تصريح ٢٨ فبراير ١٩٢٢ م. **صواب** ()

٢- أكد دستور ١٩٢٣ م أن الأمة هي مصدر السلطات. **جواب**

٣- شكل الزعيم سعد زغلول أول وزارة برلمانية في يناير ١٩٢٤م. *جواب*

٤- أعطى دستور ١٩٣٠ م للشعب المصرى المزيد من الرقابة على الحكومة والملك. (خطأ)

٥- وقعت الحكومة المصرية برئاسة مصطفى النحاس باشا معاهدة ١٩٣٦ م.

٦- فرضت فرنسا الحماية على مصر أثناء الحرب العالمية الأولى. خطأ - المجدد (١)

٧- شارك في أحداث ثورة ١٩١٩م جميع فئات الشعب المصري. جواب ()

٨- تألف الوفد المصري برئاسة محمد فريد لعرض المطالب على مؤتمر الصلح. خطة (سعر) غلول

السؤال الثاني : بم تفسر...؟

السؤال الثاني : بم تفسر...؟

١- أسباب قيام ثورة ١٩١٩ م.

٢- إلغاء معاهدة ١٩٣٦ م. أي طرفيها فرنسا والبريطانيات ولسان البحار في ١٥ نوفمبر ١٩٤٨

٢- يوم ٢٥ يناير من كل عام عيداً للشرطة .

السؤال الثالث :

فان بين تصريح ٢٨ فبراير ١٩٢٢ م ومعاهدة ١٩٣٦ م من حيث : (البنود والنتائج)

السؤال الرابع : ما رأيك فى؟

٩- تدخل بريطانيا لإسقاط الوزارات المصرية .

بِسْمِ اللَّهِ الرَّحْمَنِ الرَّحِيمِ

- إلغاء معاهدة ١٩٣٦ م .

اكتب كلمة (صح) أمام العبارات الصحيحة وكلمة (خطأ) أمام العبارات غير الصحيحة مع تصويب الخطأ:

- ١- أصدر سعيد باشا اللائحة السعيدية فى أغسطس ١٨٥٨ م. **صواب** ()
- ٢- أنشأ الخديو إسماعيل مجلس شورى النواب عام ١٨٦٦ م. **صواب** ()
- ٣- تحرك رجال الجيش إلى قصر النيل وأخرجوا أحمد عرابى وزمليه بالقوة فى منتصف يناير سنة ١٨٨١ م. **صواب** ()
- ٤- أدى كفاح الزعيم محمد فريد إلى استقالة اللورد كرومر من منصبه كمعتمد بريطانى فى مصر **خطأ** **مصطفى كامل** ()
- ٥- تألف الوفد المصرى عقب انتهاء الحرب العالمية الثانية ١٩٤٥ م. **خطأ** ()

الحرب العالمية الأولى

- السؤال الثاني : بم تفسر ؟**
- الحرب العالمية الأولى
- ١- كانت شروط امتياز حفر قناة السويس مجحفة بمصر.
- خطا، سركه قناة السويس من مصر على مرور السفن
- ٢- نفى سعد زغلول ورفقائه إلى جزيرة مالطة في مارس ١٩١٩ م.
- عند الدرياع
- ميام أبو خديجة شيخ دولاب الى استقبل مصر رثفت سلطات لا يحكمون خط العالمين

السؤال الثالث : رتب الأحداث التاريخية التالية من القديم إلى الحديث :

- اشترك المرأة المصرية في المظاهرات - الاتفاق الودي بين فرنسا وإنجلترا - حادثة دنشواي - الاحتلال البريطاني لمصر - الثورة العربية - افتتاح قناة السويس للملاحة الدولية

السؤال الرابع : وضح ما يلي :

- [illegible]