



مراجعة ليلة الامتحان لـ للصف السادس الابتدائي



كل البيانات المطلوبة في الترم الأول من طلاب الصف السادس
الابتدائي

وطني ديمقراطي
عربي
وحدة
وحرية
وعدالة
وكرامة
والتعاون
والسلام
والثقة
والاحترام
والشفافية
والنزاهة
والصدق
والأمانة
والالتزام
والمسؤولية
والعمل
والجدد
والابتكار
والعلم
والثقافة
والرياضة
والفنون
والترفيه
والسياحة
والطبيعة
والبيئة
والزراعة
والصناعة
والخدمات
والصحة
والأمن
والعدل
والسياسة
والاقتصاد
والعلوم
والفنون
والرياضة
والفنون
والترفيه
والسياحة
والطبيعة
والبيئة
والزراعة
والصناعة
والخدمات
والصحة
والأمن
والعدل
والسياسة
والاقتصاد
والعلوم





أكمل العبارات التالية:-

١. توجد البيئة الزراعية المروية بمياه النيل في..**الوادي**.....و...**الدلتا**...و...**منخفض الفيوم**....
٢. يعتمد الإنسان في البيئة الزراعية بالوادي والدلتا ومنخفض الفيوم على مياه..**نهر النيل**...
٣. تتميز التربة في الوادي والدلتا ومنخفض الفيوم بأنها تربة...**طينية خصبة**.....وذلك لزيادة نسبة...**الصلصال**....بها
٤. يعد القمح والأرز والذرة من محاصيل...**الحبوب الغذائية**.... في حين قصب السكر والبنجر من محاصيل...**المنتجة للسكر**.....
٥. تتنوع الصناعات الحرفية في البيئة الزراعية منها...**الفخار**...و...**الأثاث**....
٦. أدى التوسع العمراني وتجريف التربة إلى وجود مشكلة...**تناقص الأراضي الزراعية**..
٧. تتميز البيئة الزراعية بـ...**إستواء**....سطحها في الوادي و...**الدلتا**...بينما تكون على شكل مدرجات في...**منخفض الفيوم**.....
٨. يتركز سكان البيئة الزراعية في...**الوادي**.....و...**الدلتا**.....
٩. من العادات الإيجابية في المجتمع الريفي...**احترام الكبير**...و...**التعاون**...
١٠. من العادات السلبية في المجتمع الريفي...**الزواج المبكر**....و...**استخدام الاطفال في الزراعة**..
١١. لجأ الكثير من الشباب إلى الهجرة من بسبب انتشار...**البطالة**..
١٢. انخفاض مستوى المعيشة من الخصائص...**الأقتصادية**... لسكان البيئة الزراعية
١٣. يتركز سكان البيئة الزراعية في المحافظات القريبة من...**نهر النيل**....و...**دمياط**...و...**رشيد**....
١٤. تتميز البيئات المصرية بعدة خصائص هي...**التنوع**.....و...**التداخل**...و...**التكامل**....
١٥. يتميز مناخ البيئة الزراعية في مصر بـ...**ارتفاع درجة الحرارة**..صيفا و...**معتدل**...شتاء
١٦. تزيد مساحة الأراضي الزراعية في...**الدلتا**....عن ٥٥% من جملة المساحة الزراعية في مصر
١٧. تبلغ مساحة الأراضي الزراعية في...**الوادي**.....٢٨% من جملة المساحة الزراعية في مصر
١٨. المناطق...**الشمالية**...لا توجد بها زراعة بالدلتا
١٩. تظهر...**العشوائيات**...حول أطراف المدن وهي بنيت بدون تخطيط
٢٠. تزداد نسبة الأمية في...**الريف**...مقارنة بالمدن



٢١. ظهرت عدة مشكلات نتيجة للاستخدام السيئ للموارد الطبيعية في البيئة الزراعية أخطرها.. **تناقص الأرض الزراعية**...و....**التلوث البيئي**...

٢٢. يظهر السطح في منخفض الفيوم على شكل **مدرجات واسعة**...

٢٣. من المواد الخام الحيوانية اللازمة للصناعة ... **الجلود**...و....**الألبان**..

٢٤. من العوامل البشرية لقيام الصناعة .. **الأيدي العاملة**....و.....**رأس المال**...

٢٥. من العوامل الطبيعية لقيام الصناعة ... **الموقع الجغرافي**....و....**الظروف المناخية**..

٢٦. من أهم الصناعات اليدوية ... **حفر الخشب**..

٢٧. من أهم الصناعات الحديثة **السيارات** ..

٢٨. تعد صناعة السكر من الصناعات .. **الغذائية**.... بينما صناعة الألومنيوم من الصناعات ... **المعدنية**...

٢٩. عرفت مصر الصناعة الحديثة في عهد.... **محمد علي**

٣٠. تصنف الصناعات حسب درجة تطورها إلى صناعات .. **حرفية**...و....**بسيطة**....و.....**حديثة**..

٣١. من خصائص سكان البيئة الصناعية .. **انخفاض الأمية** ..و....**ارتفاع مستوى المعيشة**...

٣٢. من مشكلات سكان البيئة الصناعية .. **تلوث الهواء**....و....**تلوث الماء**...

٣٣. يجب ان تكون المصانع قريبة من مصادر ... **الطاقة**...والمواد... **الخام**...

٣٤. من المواد الخام الزراعية اللازمة للصناعة .. **القطن**....و....**قصب السكر**....

٣٥. قام السلطان ... **سليم الأول** .. بترحيل أمهر الصناعة والحرفيين إلى الأستانة

٣٦. كان الإشراف على تنفيذ قرارات السلطان من مهام. **الوالي (الباشا)**..

٣٧. اقتصر التعليم في مصر أثناء الحكم العثماني على حفظ .. **القرآن الكريم**... ودروس .. **الفقه والتشريع** ..

٣٨. نتج عن أنظمة الحكم والإدارة العثمانية لمصر تدهور.. **أحوال مصر**.....

٣٩. كانت الحياة الاجتماعية في مصر أثناء الحكم العثماني تفرق بين ... **الحاكم**..و....**المحكوم**...

٤٠. كان .. **الوالي** .. يدعو الديوان للانعقاد

٤١. اتجه السلطان .. **سليم الأول** ... في غزواته نحو المشرق العربي

٤٢. هزمت القوات المملوكية أمام قوات الدولة العثمانية في موقعتي .. **مرج دابق**..و....**الريدانية**...

٤٣. تمثلت مظاهر الحكم العثماني لمصر في .. **الوالي**..و....**الديوان**...و....**الحامية العثمانية**....و....**المماليك**..

عاشنا ونلهم ونحزنوا

مراجعة
ليلة الامتحان
لمستر / عطا زكي شحتو

عاشنا ونلهم ونحزنوا

مراجعة
ليلة الامتحان
لمستر / عطا زكي شحتو



وطني ديمقراطي سحرنا



٤٤. وصلت الحملة الفرنسية إلى ميناء الإسكندرية... في يوليو ١٧٩٨م

٤٥. قاوم... محمد كريم... حاكم الإسكندرية الحملة الفرنسية

٤٦. من الأسباب المعلنة الفرنسية على مصر تأديب... المماليك...

٤٧. اتخذ المصريون من... الأزهر الشريف... مركزاً للمقاومة أثناء ثورة القاهرة الأولى

٤٨. أعدم نابليون ستة من زعماء ثورة القاهرة الأولى باستثناء... الشيخ السادات...

٤٩. رحلت الحملة.. الفرنسية... عن مصر في سبتمبر سنة ١٨٠١م

٥٠. فشلت حملة نابليون على الشام في فتح مدينة... عكا.....

٥١. بعد معركة.. أبي قير البرية... عاد نابليون سرا إلى فرنسا

٥٢. قامت ثورة القاهرة الثانية في حى.. بولاق..

٥٣. تولى... محمد على... حكم مصر في مايو سنة ١٨٠٥م

٥٤. تخلص محمد على من المماليك في.. مذبح القلعة... سنة ١٨١١م

٥٥. جاءت الحملة.. الإنجليزية.. على مصر بقيادة... فريزر... عام ١٨٠٧م

٥٦. تولى القيادة العامة لحملة الحجاز.. طوسون..

٥٧. في مايو ١٨٠٥م قرر الشعب المصرى عزل.. خوشيد باشا..

٥٨. ساهمت الزعامة الشعبية بقيادة... عمر مكرم... في تولية محمد على عام ١٨٠٥م

٥٩. اهتم محمد على ببناء مصر الحديثة على النسق الأوربي خاصة.. الفرنسى..

٦٠. قسم محمد على البلاد إلى.. سبع... مديريات ويتبع كل مديرية عدد من.. المراكز...

٦١. أنشأ محمد على العديد من المصانع.. الغزل والنسيج... و.. معامل السكر.....



وطني ديمقراطي سحرنا

بم تفسر :-

١. أنشأت الدولة وزارة البيئة؛

لإصدار القوانين والتشريعات لحماية البيئة من الأخطار

٢. الاهتمام بالتعليم الفني والصناعي

لتخريج عمالة فنية مدربة

٣. تعاني البيئة الصناعية مشكلات التلوث البيئي



بسبب تلوث الهواء بسبب ادخنة المصانع

وتلوث المياه بسبب مخلفات المصانع

٤. حاجة المناطق الصناعية إلى رؤوس الأموال

لشراء الآلات ودفع أجور العمال

٥. اهتمام مصر بزيادة الصادرات من الصناعة

لتوفير العملات الأجنبية

٦. اهتمام مصر بإقامة مناطق صناعية جديدة

لتشغيل الأيدي العاملة - وزيادة الدخل القومي - وتطوير الصناعة وزيادة المصانع

٧. انخفاض نسبة الأمية في البيئة الصناعية

بسبب الاهتمام بالتعليم - وكثرة المدارس

٨. أهمية وسائل النقل والمواصلات في البيئة الصناعية

لأنها تقوم بنقل العمال والمواد الخام والمنتجات بأسعار رخيصة

٩. مراعاة اتجاهات الرياح عند بناء المصانع

حتى لا تتجه أدخنة المصانع إلى المناطق السكنية

١٠. أهميته البيئة الصناعية

توفر فرص عمل - وزيادة الدخل القومي - ورفع مستوى المعيشة

١١. اهتمام محمد علي بالتنظيم الإداري في مصر

ليسيطر على مصر سيطرة كاملة

١٢. أرتبط النهضة الصناعية في عصر محمد علي بالنهوض بالجيش

لأنه أقام المصانع لسد احتياجات الجيش من ملابس وأسلحة وغيرها

١٣. فشل الحملة الإنجليزية على مصر

بسبب مقاومة أهالي رشيد والحماد

١٤. قيام محمد علي بمذبحة القلعة عام ١٨١١م

ليتخلص من المماليك والانفراد بحكم مصر

١٥. قيام ثورة القاهرة الأولى

بسبب قيام الفرنسيين بفرض الضرائب على المصريين

وتفتيش البيوت - وهدم أبواب الحارات والمساجد

١٦. قيام ثورة القاهرة الثانية

بسبب الإجراءات التي اتخذها كليبر ضد أهالي القاهرة

١٧. فشل الحملة الفرنسية على الشام

لأنهم فشلوا في فتح مدينة عكا بسبب قوة أسوارها وبسالة أهلها - وتفشى

مرض الطاعون بين الجنود

١٨. فشل اتفاقية العريش بين كليبر والقوات العثمانية

بسبب إصرار إنجلترا على خروج الفرنسيين كآسرى حرب

١٩. تكتّم الفرنسيين نبأ إعداد الحملة على مصر

حتى لا تتسرب أخبار الحملة إلى إنجلترا وتتعرض لمهاجمة الأسطول

الإنجليزي

عوضاً عن ما كان يجب أن يكون

٢٠. الحملة الفرنسية على مصر

أسباب حقيقية = قطع الطريق بين إنجلترا ومستعمراتها في الهند

تكوين مستعمرة فرنسية في الشرق يكون مركزها مصر

أسباب غير حقيقية = تأديب المماليك - حماية التجار الفرنسيين

عوضاً عن ما كان يجب أن يكون

٢١. ازدهار التجارة في عهد محمد علي

بسبب تقدم الزراعة والصناعة والاستقرار الداخلي

٢٢. نفى (محمد علي) للسيد عمر مكرم

للافراد بحكم مصر

٢٣. تدهور الحياة الفنية أثناء الحكم العثماني

بسبب قيام سليم الأول بترحيل امهر الصناع والحرفيين إلى الاستانة

٢٤. تدهور الحياة العلمية والثقافية في مصر العثمانية

بسبب اقتصار التعليم في الأزهر الشريف على حفظ القرآن ودروس الفقه

والتشريع

أهملوا العلوم العقلية مثل الرياضيات والطبيعة - وتوقف التأليف



٢٥. تأثير الأحوال الاقتصادية في مصر العثمانية

بسبب إهمال الزراعة وتأخر الصناعة وكساد التجارة

٢٦. ازدهار دولة المماليك في مصر

بسبب موقعهم الجغرافي المسيطر على طريق التجارة بين أوروبا والشرق

٢٧. ضعف وانهيار دولة المماليك

بسبب اكتشاف البرتغاليون طريق رأس الرجاء الصالح - و الفتن والاضطرابات

بين فرق المماليك المختلفة

٢٨. هزيمة القوات المملوكية أمام القوات العثمانية

بسبب النظم الحربية التقليدية - التدهور الاقتصادي

بسبب عدم الاستقرار الداخلي وخيانة بعض أمراء المماليك

٢٩. تنوع البيئات المصرية ؟

بسبب - ١ - اتساع مساحة مصر

- ٢ - تنوع مظاهر السطح (جبال - وهضاب - نهر النيل)

- ٣ - تنوع الموارد الطبيعية

مراجعة ليلة الامتحان
لستر / عطا زكي شحتو

٣٠. تكامل البيئات المصرية ؟

لأن كل بيئة تمد البيئات الأخرى بما تحتاجه من منتجات

٣١. تداخل البيئات المصرية

بسبب لعدم وجود حدود فاصلة بين البيئات

٣٢. قيام الزراعة بالساحل الشمالي ؟

بسبب سقوط الأمطار الشتوية

٣٣. قيام الزراعة في الواحات ؟

بسبب وجود المياه الجوفية (الآبار - والعيون)

٣٤. الأطراف الشمالية للدلتا لا تجود بها الزراعة

بسبب ارتفاع نسبة الملوحة في التربة وكثرة المستنقعات

٣٥. تربة وادي النيل ودلتاه ومنخفض الفيوم تربة خصبة ؟

مراجعة ليلة الامتحان
لستر / عطا زكي شحتو

لأن نهر النيل نقلها ورسبها على جانبيه وتتكون بنسبة كبيرة من الصلصال ونسبة قليلة من الرمال

٣٦. يعد منخفض الفيوم بيئة زراعية رغم وقوعه في الصحراء الغربية ؟


لأنه يتصل بنهر النيل عن طريق ترعة بحريوسف

٣٧. يختلف شكل السطح في منخفض الفيوم عن الوادي والدلتا ؟

لأن الأراضي في منخفض الفيوم على شكل مدرجات واسعة

٣٨. تستخدم السواقي في منخفض الفيوم

لرفع المياه لري الأراضي الزراعية لأن الأراضي في منخفض الفيوم على شكل مدرجات



٣٩. ندرة الحيوانات والنباتات الطبيعية في البيئة الزراعية

لأن ندرة الحيوانات ← لأنها اتجهت إلى الصحراء

ولندرة النبات الطبيعي ← بسبب كثافة النشاط الزراعي

٤٠. قلة عدد السكان في وادي النيل عن الدلتا ؟

بسبب ضيق مساحة الأراضي الزراعية

٤١. قلة عدد السكان في المناطق الممتدة نحو الصحراء ؟

بسبب قلة خصوبة التربة

٤٢. ارتفاع معدل الزيادة السكانية الطبيعية في البيئة الزراعية

بسبب كثرة الأنجاب والزواج المبكر وتعدد الزوجات

٤٣. اتجاه عدد كبير من سكان البيئة الزراعية نحو الهجرة

بسبب المشكلات الاقتصادية في البيئة الزراعية مثل البطالة والبحث عن فرصة عمل

٤٤. اهتمام الدولة بإنشاء مراكز تعليم الكبار

للقضاء على الأمية

٤٥. تناقص مساحة الأراضي الزراعية

بسبب التوسع العمراني - وتجريف التربة



٤٦. وجود مشكلات صرف زراعي بالبيئة الزراعية

بسبب استخدام الري الدائم والإسراف في المياه

٤٧. تدهور التربة الزراعية

بسبب تجريف التربة - واستخدام الري الدائم

٤٨. تعاني البيئة الزراعية كثير من المشكلات

بسبب الاستخدام السيئ للموارد الطبيعية

٤٩. التلوث البيئي في البيئة الزراعية

بسبب الإسراف في استخدام الأسمدة الزراعية والمبيدات الحشرية

٥٠. قيام الصناعات الحرفية وتنوعها في البيئة الزراعية

بسبب تنوع الموارد الطبيعية

٥١. تعتبر محافظة الفيوم محافظة جذب سياحي

بسبب وجود بحيرة قارون وعين السيليين والسواقي

٥٢. تعتبر محافظة الشرقية محافظة جذب سياحي

بسبب وجود حضارة تل بسطة

٥٣. تعتبر النوبة من المناطق السياحية

بسبب وجود الآثار النوبية التي تعكس التراث النوبي

ضع علامة (✓) أمام العبارات الصحيحة وعلامة (×) أمام العبارات غير الصحيحة

(١) نحصل على الأغذية المحفوظة من البيئات الصناعية (✓)

(٢) يمكن أن نجد البيئة الزراعية داخل البيئة الصحراوية (✓)

(٣) توجد حدود فاصلة بين البيئات المصرية (×)

(٤) تنتشر صناعة السجاد اليدوي في البيئة الزراعية (✓)

(٥) من أشهر الصناعات الحرفية في البيئة الزراعية صناعة الفخار وصناعة الحديد والصلب (×)

(٦) من محاصيل الحبوب القمح والأرز والكتان (×)

(٧) من مشكلات البيئة الزراعية البطالة والامية (✓)

(٨) الزواج المبكر من العادات الإيجابية لسكان البيئة الزراعية (×)





- (٩) من الخصائص الاقتصادية للبيئة الزراعية ارتفاع مستوى دخل الفرد (✗)
- (١٠) تم تجهير سكان النوبة بعد بناء السد العالي (✓)
- (١١) يراعى عند بناء المصانع أن تكون بعيدة عن المناطق السكنية وقريبة لمصادر الطاقة (✓)
- (١٢) تتنوع الصناعات بتنوع المواد الخام (✓)
- (١٣) مصر تحتاج لشبكة طرق النقل بالسيارات والسكك الحديدية والنهرية والبحرية (✗)
- (١٤) الصناعة تؤدي إلى ارتفاع المستوى الاجتماعي والتعليمي والثقافي لسكان مصر (✓)
- (١٥) أهم مشكلات البيئة الصناعية في مصر الاهتمام بالتعليم الفني (✗)
- (١٦) الانفتاح على العالم الخارجي يشجع على الاستثمار في مجال الصناعة (✓)
- (١٧) الهجرة من الريف إلى البيئة الصناعية تؤدي إلى مزيد من التلوث البيئي (✗)
- (١٨) الاستنزاف يعني تقليل الاستهلاك والاستخدام الأمثل للموارد (✗)
- (١٩) يعتمد نشاط صيد الأسماك في البيئة الزراعية على مصايد نهر النيل والترع (✓)
- (٢٠) أصبحت القسطنطينية عاصمة للإمبراطورية العثمانية في عهد محمد الفاتح (✓)
- (٢١) ضمت الدولة المملوكية بلاد الشام وأطراف شبه الجزيرة العربية فقط (✗)
- (٢٢) اكتشف البريطانيون طريق رأس الرجاء الصالح (✗)
- (٢٣) فرضت الدولة العثمانية سيطرتها على مصر عام ١٥١٧م (✓)
- (٢٤) كان نظام الحكم العثماني لمصر عادلا (✗)
- (٢٥) نجح الفرنسيون في احتلال مدينة الاسكندرية بعد مقاومة حاكمها السيد عمر مكرم (✗)
- (٢٦) فر المماليك إلى الصعيد بعد هزيمتهم في معركة شبراخيت وإمبابة (✓)
- (٢٧) ضمت الحملة الفرنسية على مصر مجموعة من العلماء والرسامين والكتاب (✓)
- (٢٨) استولى الحملة الفرنسية على جزيرة كريت ثم مالطة (✗)
- (٢٩) قام السلطان سليم الأول بترحيل أمهر الصنائع والحرفيين إلى الأستانة (✓)
- (٣٠) نشطت التجارة وازدهرت الصناعة أثناء الحكم العثماني لمصر (✗)
- (٣١) حرم المصريون من خيرات بلادهم في ظل الحكم العثماني (✓)
- (٣٢) ازدهرت النواحي العلمية والثقافية في ظل الحكم العثماني (✗)

عطا زكي شحتو



مراجعة

ليلة الامتحان

لستر / عطا زكي شحتو

(✖)

(٣٣) تألفت هيئات الحكم العثماني بمصر من خمس قوى

(✔)

(٣٤) اندلعت ثورة القاهرة الأولى في أكتوبر ١٧٩٨م

(✖)

(٣٥) نجحت الحملة الفرنسية في جعل مصر قاعدة للإمبراطورية الفرنسية في الشرق

(✔)

(٣٦) تولى الجنرال مينو قيادة الحملة بعد مقتل كليبر

(✖)

(٣٧) من الوجهة الحربية حققت الحملة الفرنسية أهدافها

(✔)

(٣٨) رأى العثمانيون أنهم أحق بالسيادة على مصر بعد رحيل الحملة الفرنسية

(✔)

(٣٩) طمع الإنجليز في بسط نفوذهم على مصر لتأمين طرق المواصلات إلى الهند

(✔)

(٤٠) كان للزعامة الشعبية والعلماء دور في تولية محمد علي

(✖)

(٤١) قام محمد علي بنفى عمر مكرم خارج مصر

(✖)

(٤٢) أصبحت مدينة الاسكندرية مقر الحكومة المركزية في عصر محمد علي

(✖)

(٤٣) يعد السد العالي من أهم مشروعات الري التي اهتم بها محمد علي

(✔)

(٤٤) شهدت التجارة الداخلية والخارجية رواجا حقيقيا في عهد محمد علي

(✔)

(٤٥) أنشأ محمد علي قصر الجوهرة بالقلعة

ما النتائج

المرتتبة على

مراجعة

ليلة الامتحان

لستر / عطا زكي شحتو

١. سياسة محمد علي التوسعية

❖ اصطدم (محمد علي) مع أطماع الدول الاستعمارية

❖ وفرضت عليه معاهدة لندن

٢. السياسة الاقتصادية التي اتبعها (محمد علي)

❖ أدت إلى تحقيق الاستقلال السياسي لمصر

٣. رغبة محمد علي الانفراد بحكم مصر

❖ قام بالتخلص من الزعامة الشعبية بنفي عمر مكرم إلى دمياط

وعزل عبدالله الشرقاوي من منصبه

❖ وتخلص من المماليك في مذبحه القلعة

٤. اكتشاف حجر رشيد

هو حجر رشيد
وهو حجر
من
البرونز
القديم
الذي
اكتشف
في
البحر
المتوسط
في
البحر
المتوسط
في
البحر
المتوسط

❖ أدى إلى فك رموز الكتابة المصرية القديمة

٥. ثورة القاهرة الأولى

❖ إلغاء ديوان القاهرة - إنشاء ديوان جديد ضم غير المصريين - وفرض

الضرائب - وشرع في تحصين القاهرة

٦. ثورة القاهرة الثانية

❖ فرض كليبر الضرائب وصادر الأموال وبتالي زاد كرهيه الشعب له

٧. نتائج الحملة الفرنسية العلمية والثقافية

❖ تأليف كتاب وصف مصر - اكتشاف رموز حجر رشيد

٨. نتائج الحملة السياسية

❖ لفتت أنظار العالم إلى أهمية موقع مصر خاصة إنجلترا

❖ وأيقظت الوعي القومي

٩. نتائج الحملة الحربية

❖ فشلت في تكوين مستعمرة في مصر - أضعفت قوة المماليك

١٠. موقعة أبي قير البحرية

❖ انقطاع الصلة بين الحملة وفرنسا - اعتماد الفرنسيين على موارد مصر

- ضعف الروح المعنوية للجنود

١١. موقعة أبي قير البرية

هو حجر رشيد
وهو حجر
من
البرونز
القديم
الذي
اكتشف
في
البحر
المتوسط
في
البحر
المتوسط
في
البحر
المتوسط

❖ هزيمة العثمانيين وأسرقائدهم

١٢. الحكم العثماني من الناحية الاجتماعية

❖ أصبح هناك فرق بين الحاكم والمحكوم فكان الحكام يمتلكون كل شيء

والمصريين محرومين من خيارات بلادهم

١٣. اكتشاف البرتغاليون طريق رأس الرجاء الصالح

❖ ضعف وانهار دول الممالك الاقتصادية

١٤. ترحيل سليم الأول أمهر الصناع والحرفيين إلى الاستانة

❖ تدهور الحياة الفنية والصناعة

١٥. إخضاع مصر للسيادة العثمانية

❖ أصبحت مصر ولاية عثمانية



١٦. معركة مرج دابق ١٥١٦م

❖ هزيمة الممالك. وأصبحت بلاد الشام ولاية عثمانية

١٧. معركة الريدانية ١٥١٧م

❖ هزيمة الممالك. وأصبحت مصر ولاية عثمانية

١٨. الإكثار من المساحات الخضراء في البيئة الصناعية

❖ امتصاص الغازات الضارة وتقليل التلوث


١٩. تنوع البيئات المصرية ؟

❖ أدى إلى تنوع الثروات الطبيعية وتنوع الإنتاج الاقتصادي

٢٠. تداخل البيئات المصرية ؟

❖ نجد البيئة الصناعية داخل البيئة الزراعية والبيئة الزراعية في

الصحراوية والساحلية



٢١. وجود مياه الآبار والعيون في بعض المناطق الصحراوية

❖ أدى إلى قيام الزراعة في الواحات

٢٢. اتصال منخفض الفيوم بوادي النيل ؟

❖ أصبح جزء من البيئة الزراعية رغم وجوده في الصحراء

٢٣. كثافة النشاط الزراعي في البيئة الزراعية

❖ أدى إلى ندرة النباتات الطبيعية في البيئة الزراعي

٢٤. الزواج المبكر للإناث

عوضاً عن
الزواج المبكر
نحتاج
إلى
مراجعة
ليلة الامتحان
لنسترجع
عما زكنا
شحنوا

❖ يؤثر على صحة المرأة

٢٥. ارتفاع نسبة الهجرة من الريف إلى المدن

❖ أدى إلى (زيادة سكان المدن - زيادة الذكور في المدن

تناقص العاملين في الزراعة - ظهور العشوائيات)

٢٦. غرق أراضي النوبة بعد بناء السد العالي

❖ قامت الدولة ببناء قرى جديدة لهم مثل قرية

(ابريم - وأبوسمبل - ووادي العرب)

٢٧. الزحف العمراني على الأراضي الزراعية

❖ أدى إلى تناقص مساحة الأراضي الزراعية

٢٨. إدخال نظام الري بالرش والتنقيط في الزراعة

❖ عدم تدهور التربة والاستغلال الصحيح للمياه

٢٩. التوسع في استخدام المزارع السمكية

❖ أدى إلى زيادة الثروة السمكية

٣٠. الاستخدام السيئ للموارد الطبيعية البيئة الزراعية

❖ أدى إلى ظهور العديد من المشكلات


٣١. استخدام الأسمدة الكيميائية بكثرة في تسميد التربة

❖ أدى إلى تلوث للتربة الزراعية

٣٢. تنوع الموارد الطبيعية والبشرية في البيئة الزراعية

❖ أدى إلى تنوع الأنشطة الاقتصادية





اختر الاجابة الصحيحة مما بين القوسين :-

١. تقوم الزراعة في الواحات اعتمادا على مياه..... (النيل - الأمطار - الآبار والعيون - كل ما سبق)
٢. تسقط على الساحل الشمالى لمصر أمطار..... (نادرة - قليلة - متوسطة - غزيرة)
٣. تقع ترعة الإسماعيليةالدلتا (غرب - شرق - شمال - جنوب)
٤. تقع ترعة النوباريةالدلتا (غرب - شرق - شمال - جنوب)
٥. تقع ترعة الأراهمية الوادى (غرب - شرق - شمال - جنوب)
٦. بعض مناطق الدلتا لا تجود فيها الزراعة وهى الاطراف..... (الجنوبية - الغربية - الشمالية - الشرقية)
٧. من العادات السلبية فى البيئة الزراعية..... (التعاون - احترام الكبير - التزاور بينهم - زيادة الإنجاب)
٨. من العادات الايجابية لسكان البيئة الزراعية..... (الزواج المبكر - احترام الكبير - كثرة الإنجاب - تفضيل الذكور)
٩. من الخصائص الاقتصادية لسكان البيئة الزراعية..... (الأمية - النشاط الزراعى - التعاون - انتشار البطالة)
١٠. يعد من محاصيل المنسوجات (البنجر - الأرز - القطن - القمح)
١١. من أهم الحبوب الغذائية فى مصر..... (القطن - القمح - قصب السكر - الكتان)
١٢. تبدو الدلتا على شكل (مربع - مثلث - طولى - دائرة)
١٣. يتصل منخفض الفيوم بالنيل عن طريق ترعة..... (بحر يوسف - الإبراهيمية - الإسماعيلية - النوبارية)
١٤. يوجد فى شمال منخفض الفيوم بحيرة..... (البردويل - ناصر - البرلس - قارون)
١٥. العوامل التالية عوامل طبيعية لقيام الصناعة ما عدا..... (الموقع - المناخ - السوق - المواد الخام)
١٦. توفر البيئة الصناعية للبيئة الزراعية..... (الأسمدة - الأدوية - الآلات الزراعية - كل ما سبق)
١٧. من الصناعات الهندسية صناعة..... (العطور - أجهزة السيارات - الأسمدة - الألومنيوم)
١٨. من الصناعات البسيطة صناعة..... (السجاد اليدوى - حفظ الفاكهة - الأسمدة - الكمبيوتر)
١٩. بدأت الصناعة الحديثة فى مصر فى عهد..... (محمد على - الملك فاروق - محمد كريم - عمر مكرم)

٢٠. صناعة الأسمدة والأدوية من الصناعات..... (الكيميائية - الهندسية - المعدنية - الغذائية)
٢١. تحتاج الصناعة إلى عدد كبير من العمال (اليدوية - الحديثة - البسيطة - الهندسية)
٢٢. من الصناعات الحديثة صناعة..... (حلج القطن - السيارات - حفظ الفاكهة - الأسمدة)
٢٣. تعد صناعة العطور من الصناعات..... (الكيميائية - الكهربائية - المعدنية - الغذائية)
٢٤. فتحت القسطنطينية عاصمة الدولة البيزنطية في عهد السلطان
- (سليم الأول - محمد الفاتح - بايزيد الثاني - طومان باي)
٢٥. هُزمت الجيوش المملوكية في ١٥١٧ م عند..... (الريدانية - مرج دابق - جالديران - ديو البحرية)
٢٦. هُزمت الجيوش المملوكية بقيادة السلطان في موقعة الريدانية
- (طومان باي - قنصوه الغوري - سليم الأول - محمد الفاتح)
٢٧. تولى المماليك حكم البلاد عقب انهيار الدولة (الفاطمية - الأيوبية - العباسية - الأموية)
٢٨. ينسب إليه تأسيس الدولة العثمانية
- (سليم الأول - محمد الثاني - محمد علي - عثمان بن أرطغرل)
٢٩. اكتشف طريق رأس الرجاء الصالح
- (البريطانيون - البرتغاليون - الفرنسيون - العثمانيون)
٣٠. أصبحت مصر ولاية عثمانية بعد معركة.....
- (ديو البحرية - جالديران - أبي قير البحرية - الريدانية)
٣١. أبحرت الحملة الفرنسية سرا إلى مصر من ميناء..... (مرسليليا - جنوة - طولون - ليون)
٣٢. تحطم الاسطول الفرنسي في موقعة.....
- (أبو قير البحرية - أبو قير البرية - طولون - شبراخيت)
٣٣. احتل الفرنسيون الإسكندرية بعد مقاومة حاكمها.....
- (محمد كريم - الشيخ السادات - عمر مكرم - احمد باشا)
٣٤. اكتشاف حجر رشيد من أبرز النتائج للحملة الفرنسية
- (العلمية - الحربية - السياسية - الاجتماعية)
٣٥. تم عقد اتفاقية العرش عام ١٨٠٠ بين العثمانيين والقائد..... (نابليون - نلسون - كلير - مينو)
٣٦. ألغى نابليون ديوان القاهرة بعد
- (اتفاقية العرش - ثورة القاهرة الأولى - ثورة القاهرة الثانية - موقعة أبي قير البرية)
٣٧. لفتت الحملة الفرنسية أنظار العالم الغربي لمصر وموقعها وبصفة خاصة
- (فرنسا - ألمانيا - إيطاليا - إنجلترا)
٣٨. كان مقر الحكومة المركزية في عهد محمد علي في.....

(الاسكندرية - القاهرة - الغربية - الجيزة)

٣٩. أقام محمد على معامل للسكر في.....

(الوجه البحرى - الوادى الجديد - الوجه القبلى - شبه جزيرة سيناء)

٤٠. تولى الخديو.....حكم مصر عام ١٨٦٣ م (عباس - سعيد - إسماعيل - توفيق)

٤١. أنشأ محمد على ترسانة لبناء السفن في.....(بور سعيد - السويس - الاسكندرية - دمياط)

٤٢. اجتمع زعماء الشعب والعلماء في دار المحكمة وقرروا عزل.....

(محمد على - خورشيد باشا - ابراهيم باشا - طوسون باشا)

٤٣. تولى.....حكم مصر بعد عزل اسماعيل

(توفيق باشا - عباس باشا - محمد سعيد باشا - ابراهيم باشا)

٤٤. اهتم محمد على بمشروعات الري فحفر ترعة.....

(الاسماعيلية - المحمودية - النوبارية - بحريوسف)

٤٥. ارتبطت النهضة الصناعية في عصر محمد على بالنهوض ب.....

(التعليم - العمران - الجيش - التجارة)

اكب ما تشير اليه العبارات الآتية :-

- (١) هي التي تصدر الأوامر والقرارات ومقرها القاهرة (الحكومة المركزية)
- (٢) إشراف الدولة على مصادر الاقتصاد المصري (الاحتكار)
- (٣) نائب السلطان في الولاية ومقره القلعة (الوالى)
- (٤) حركة شعبية شاملة تهدف إلى التغير الشامل للأوضاع السياسية والاقتصادية والاجتماعية في المجتمع (الثورة)
- (٥) تجهيز الجيش وتوجيهه لأهداف حربية (الحملة)
- (٦) استيلاء دولة على دولة أخرى (احتلال)
- (٧) إقليم يحكمه اجنبي أو يكتفى باستغلاله اقتصاديا أو عسكريا (مستعمرة)
- (٨) طريق بحرى يدور حول قارة إفريقيا من الغرب والجنوب اكتشفه البرتغاليون أواخر القرن ١٥ (طريق رأس الرجاء الصالح)
- (٩) غلمان تم جلبهم بواسطة التجار اشتراهم السلاطين والأمراء وألقوهم بمدارس خاصة تولوا الحكم عقب انهيار الدولة الأيوبية (المماليك)
- (١٠) هو سوء استخدام الموارد الطبيعية مما يؤدي إلى نفاذها (الاستنزاف)
- (١١) تعتمد على العمل اليدوي وتحتاج لرأس مال قليل (الصناعات الحرفية) (اليدوية)
- (١٢) يتم فيها تحويل المواد الخام الى صورة أخرى لتقليل حجمها ووزنها وتحتاج عدد كبير من العمال بجانب الآلات (الصناعات البسيطة)
- (١٣) هي المناطق التي يقوم فيها الصناعة ويعمل معظم سكانها بالصناعة (البيئة الصناعية)
- (١٤) هي تحويل المواد الخام الى منتجات وبيع لسد احتياجات السكان (الصناعة)
- (١٥) هو طلب السكان المحليين للمنتجات المحلية (السوق المحلية)
- (١٦) هو طلب الدول الأخرى للمنتجات المصرية مثل الدول العربية والإفريقية (السوق الخارجية)

- (١٧) استخدام الإنسان للموارد المتاحة لسد احتياجاته من مأكّل ومشرب وملبس (الأنشطة الاقتصادية)
 - (١٨) زراعة الأرض وإنتاج المحاصيل وتربية الحيوانات والدواجن (النشاط الزراعي)
 - (١٩) قناة مائية يتم حفرها عند منسوب أقل من منسوب الترع والأراضي الزراعية لتصريف المياه الزائدة (المصرف)
 - (٢٠) إزالة الطبقة السطحية من التربة مما يؤدي إلى تدهور إنتاجها (تجريف التربة)
 - (٢١) عدم معرفة القراءة والكتابة (الأمية)
 - (٢٢) أفراد في سن العمل ولا يعملون (البطالة)
 - (٢٣) انتقال الأفراد من مكان إلى آخر داخل الدولة أو خارجها فترة زمنية طويلة (الهجرة)
 - (٢٤) هي المناطق التي بنيت دون تخطيط من الدولة وتوجد حول المدن (العشوائيات)
 - (٢٥) بناء هندسي على النهر لحماية البلاد من خطرا الفيضان والجفاف وتخزين المياه (السد)
 - (٢٦) حاجز مائي على النهر أنشئ بغرض رفع منسوب المياه لتوزيعها في الترع (القناطر)
 - (٢٧) قناة مائية يتم حفرها لتوصيل المياه من نهر النيل إلى الأراضي الزراعية (الترع)
 - (٢٨) أرض مستوية على جانبي النهر تكونت نتيجة الرواسب الطينية التي نقلها نهر النيل من منابعه (السهل الفيضي)
 - (٢٩) هي البيئة التي يتوافر بها مقومات الزراعة من (مياه عذبة - وتربة خصبة) وما يرتبط بها من أعمال أخرى (البيئة الزراعية)
 - (٣٠) زراعة تقوم على مياه الأمطار الشتوية على الساحل الشمالي (الزراعة المطرية)
 - (٣١) زراعة تقوم على مياه نهر النيل والمياه الجوفية (الآبار - العيون) (الزراعة المروية)
 - (٣٢) هي المكان الذي نعيش فيه ويضم مظاهر طبيعية وحضارية (البيئة)
- إلى من تناسب هذه الأعمال

- (١) قائد المماليك في معركة الريدانية ١٥١٧م (طومان باي)
- (٢) نجح في إخضاع مصر للسيادة العثمانية عام ١٥١٧م (سليم الأول)
- (٣) فتح القسطنطينية عام ١٤٥٣م واتخذها العثمانيون عاصمة لهم (محمد الثاني)
- (٤) مؤسس الدولة العثمانية (عثمان بن أرطغرل)
- (٥) نائب السلطان ومقره القلعة (الوالي)
- (٦) اعتمد العثمانيون عليهم في حكم الأقاليم لخبرتهم الطويلة في حكم البلاد (المماليك)
- (٧) قام بترحيل أمهر الصنائع إلى الآستانة (سليم الأول)
- (٨) قاد الحملة الفرنسية على مصر عام ١٧٩٨م (نابليون بونابرت)
- (٩) قائد الأسطول الإنجليزي في معركة أبو قير البحرية (نلسون)
- (١٠) حاكم الاسكندرية الذي تصدى للحملة الفرنسية ١٧٩٨م (محمد كريم)
- (١١) شاب سوري قام بقتل كليبر (سليمان الحلبي)
- (١٢) وقع اتفاقية مع ممثل الجيش الإنجليزي لخروج الجيش الفرنسي بكامل معداتهم من مصر (مينو)
- (١٣) قاد ثورة القاهرة الثانية في حي بولاق (عمر مكرم)
- (١٤) قاد الحملة الفرنسية على الشام عام ١٧٩٩م (نابليون بونابرت)
- (١٥) قاد الحملة الفرنسية بعد مقتل كليبر (مينو)
- (١٦) قاد الحملة الفرنسية بعد سفر نابليون (كليبر)
- (١٧) تولى قيادة الحملة التي أرسلها محمد علي إلى بلاد الحجاز (طوسون)

- (١٨) قاد الحملة الإنجليزية على مصر عام ١٨٠٢م (فريزر)
 (١٩) تخلص من المماليك في مذبحة القلعة (محمد على)
 (٢٠) إنشاء ترسانة لصناعة السفن بالإسكندرية (محمد على)
 (٢١) مهندس فرنسي أعطاه سعيد باشا امتياز حفر قناة السويس (فرديناند ديليسبس)
 (٢٢) تولى الحكم بعد عباس باشا الأول (محمد سعيد باشا)
 (٢٣) أقام إمبراطورية مصرية امتدت حتى مديريةية خط الأستواء (إسماعيل باشا)
 (٢٤) أنشأ المطبعة الأميرية في بولاق وأصدر صحيفة الوقائع المصرية (محمد على)
 (٢٥) قسم مصر إداريا إلى سبع مديريات (محمد على)
 (٢٦) أعطى امتياز حفر قناة السويس للمهندس الفرنسي ديليسبس (محمد سعيد باشا)

قارن بين العادات الايجابية والسلبية لسكان البيئة الزراعية

العادات السلبية	العادات الايجابية
١- تفضيل الذكور على الإناث ٢- استخدام الاطفال في الزراعة ٣- الزواج المبكر للإناث	١- احترام الكبير ٢- التعاون ٣- التمسك بالأرضى الزراعية

قارن بين العادات الايجابية والسلبية لسكان البيئة الصناعية

العادات السلبية	العادات الايجابية
١- التدخين داخل المصانع ٢- ترك المخلفات الصناعية دون معالجتها	١- احترام مواعيد العمل ٢- الانتظام في العمل ٣- التعاون بين العاملين



