

إجابة نموذج (١)

صفحتنا الفيسبوك

سلسلة الأوائل للدراسات الاجتماعية

www.facebook.com/ali8272



أجب عن الأسئلة الآتية

أولاً : الجغرافيا

السؤال الأول:

أ. أمامك خريطة صماء لمصر اكتب في كراسة الإجابة مدلول الأرقام الموقعة عليها:

١. جبل العوينات

٢. البحر الأحمر

٣. حقل منجنيز أم بجمه

٤. محمية جزير غزال و سالوجا

ب. ما النتائج المترتبة على ... ؟
١. تتجمع في الأودية الجافة وتسبب سيول مدمرة وتستغل في الزراعة

٢. سقوط الأمطار بغزارة أحيانا على الصحراء.

٣. ارتباط سكان البيئة الساحلية بالبحر في معظم أعمالهم.

٣. دفء وصفاء وهدوء حركة المياه في البحر الأحمر.

تكون الشعاب المرجانية

السؤال الثاني:

أ. ضع علامة (✓) أمام العبارة الصحيحة وعلامة (x) أمام العبارة غير الصحيحة مع التصويب:

١. مساحة الصحراء الشرقية أكبر من مساحة الصحراء الغربية. الصحراء الغربية أكبر (X)

٢. تعد البيئة الساحلية منطقة جذب لسكان البيئات الأخرى. (✓)

٣. تخفي ظاهرة المنخفضات من سطح الصحراء الغربية. الصحراء الشرقية (X)

٤. يتسم السهل الساحلي على خليج العقبة بالضيق. (✓)

٥. المدينة البيئية هي التي يزيد عدد سكانها عن ١٠٠٠٠٠ نسمة. مليون نسمة (X)

٦. تتآكل السواحل بفعل الأمطار. بفعل نحت الأمواج (X)

سلسلة الأوائل @ الدراسات الاجتماعية @ للصف السادس الابتدائي @ أ/علي محمد عبدالله

سلسلة الأوائل للدراسات الاجتماعية
www.facebook.com/ali8272

صفحتنا الفيسبوك



تابع إجابة نموذج (أ)

ب. ماذا يحدث إذا؟

أدى لقيام الزراعة بها وتركز السكان فيها واكتفت ذاتيا

١. زادت مياه الأمطار في المناطق الصحراوية.

أصبحت مصر دولة حبيسة - قلت أهمية موقع مصر - لم تظهر البيئة الساحلية بمصر

٢. لم تطل مصر على البحر المتوسط والبحر الأحمر.

ثانياً: التاريخ السؤال الثالث:

سلسلة

الأوائل

أ. اختر الإجابة الصحيحة مما بين القوسين:

١. أسس جريدة اللواء سنة ١٩٠٠ م. مصطفى كامل - محمد فريد - طلعت حرب - سعد زغلول

٢. فشلت القوات البريطانية دخول مصر عن طريق (كفر الدوار - التل الكبير - كفر الزيات - الإسكندرية)

٣. قامت الوحدة بين مصر و عام ١٩٥٨ م. (ليبيا - السودان - فلسطين - سوريا)

٤. ارتبط اسم بالاستقلال الاقتصادي لمصر. (أحمد عرابي - طلعت حرب - ديليسبس - مصطفى كامل)

سلسلة
الأوائل

ب. ما اندروس الاستفادة من؟

أهمية الاتحاد والتضامن العربي - الإعداد الجيد والتدريب - السرية في القرارات الحاسمة

١. حرب أكتوبر ١٩٧٣ م. الاستعداد والإعداد الجيد لمواجهة الأعداء - تطهير الجيش من الخونة - عدم الثقة في الأعداء

٢. هزيمة أحمد عرابي في التل الكبير.

٣. التعاون العربي في حرب أكتوبر ١٩٧٣ م. التعاون العربي ضروري لتحقيق النصر والتنمية

السؤال الرابع: أ. بم تفسر؟

استمرار سوء الأوضاع السياسية والاجتماعية والاقتصادية - لم تقدم السياسات الجديدة حلولاً للمشكلات القائمة

١. قيام ثورة ٢٠ يونيو ٢٠١٣ م.

صلابة القيادة المصرية - شدة مقاومة الشعب المصري - وقوف الدول العربية مع مصر - معارضة الاتحاد السوفيتي

٢. فشل العدوان الثلاثي على مصر عام ١٩٥٦ م.

بسبب الإجراءات التي اتخذتها بريطانيا مع مصر أثناء الحرب العالمية الأولى - إعلان ويلسون مبادئه ومنها حق تقرير المصير

٣. اندلاع ثورة الشعب المصري عام ١٩١٩ م. نفى سعد زغلول ورفاقه - ازدياد الوعي القومي والتطلع للاستقلال

ب. إلى من تنسب الأعمال الآتية؟

محمد سعيد باشا

١. منح امتيازات حفر قناة السويس للمهندس الفرنسي فرديناند ديليسبس.

٢. أنشأ نقابات للعمال ودعا لتأسيس حكومة وطنية وإنشاء مجلس نيابي. محمد فريد

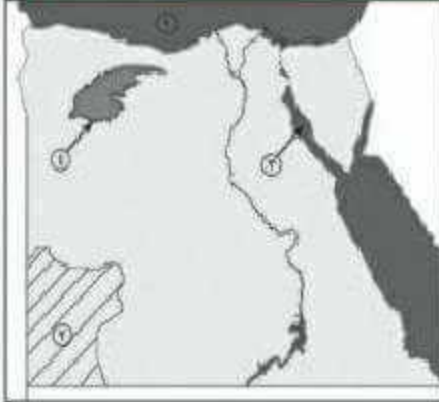
سلسلة الأوائل ٥ الدراسات الاجتماعية ٥ للصف السادس الابتدائي ٥ أ/علي محمد عبدالله

إجابة نموذج (٢)

صفحتنا على الفيسبوك

سلسلة الأوائل للدراسات الاجتماعية

www.facebook.com/ali8272



أجب عن الأسئلة الآتية

أولاً: الجغرافيا السؤال الأول:

أ. أمامك خريطة صماء لمصر اكتب في كراسة الإجابة

مدلول الأرقام الموقعة عليها:

١. البحر المتوسط

٢. مضبة الجلف الكبير

٣. خليج السويس

٤. منخفض القطارة

ب. اكتب المفهوم الجغرافي الذي تدل عليه العبارات التالية:

١. تجمعات من الزرع تأخذ أشكالاً مختلفة وتنتشر في مناطق الصحاري. كثبان رملية

٢. مدينة يزيد عدد سكانها على مليون نسمة. مدينة مليونية

٣. قيام الأمواج بسبب اسخِر التي تشكل ساحل البحر. تآكل الشواطئ

صفحتنا على الفيسبوك

سلسلة الأوائل للدراسات الاجتماعية

www.facebook.com/ali8272

السؤال الثاني: أ. بم تفسر؟

بسبب قلة الموارد الطبيعية

١. معاناة سكان البيئة الصحراوية من مشكلات اقتصادية عديدة.

بسبب تبخر المياه واستقرار الأملاح ع سطح التربة

٢. تملح التربة في بعض المناطق بالبيئة الصحراوية.

لوجود المناظر الخلابة - وتعدد المزارت والمنشآت السياحية والمحميات والنبات الطبيعي

٣. تعد السياحة من الأنشطة الاقتصادية المهمة في البيئة الصحراوية.

ب. ماذا يحدث إذا؟ أدى إلى تدهور السياحة في البيئة الصحراوية

١. أهملت الدولة إقامة الفنادق والمحميات والطرق الجديدة.

لن تخزن مياه الأمطار ولن نستفيد منها في حفر الآبار

٢. لم تتواجد التلال الجيرية بالساحل الشمالي الغربي لمصر.

تابع إجابة نموذج (٣)

جـ اذكر نتيجة واحدة لكل من:

الاستفادة من مياه الأمطار والسيول - التوسع الزراعي بالصحراء - التقليل من مخاطر السيول
١. إنشاء السدود على الأودية في البيئة الصحراوية.

تدهور السياحة - اختفاء الشواطئ الرملية - تدمير الشاليهات

٢. تآكل سواحل الدلتا.

تلوث الأسماك وموتها - الضرر بصحة الإنسان - تدهور السياحة - قلة السياح

٣. تلوث البيئة الساحلية.

صفحتنا على الفيسبوك

سلسلة الأوائل للدراسات الاجتماعية

www.facebook.com/ali8272

ثانياً، التاريخ السؤال الثالث: أ. أكمل العبارات التالية:

١. تسلم المستشار عدلي منصور سلطة البلاد بعد عزل الرئيس محمد مرسي.

٢. رغم موافقة إسرائيل على قرار مجلس الأمن رقم ٢٣٨ إلا أنها لم تلتزم به.

٣. قدم أحمد عرابي في ٩ سبتمبر ١٨٨١ مطالب الأمة ومنها تشكيل مجلس النواب - زيادة الجيش لـ ١٨٠٠٠

٤. خلف مصطفى كامل في كفاحه محمد فريد

٥. شكل الضباط المصريون تنظيم الضباط الأحرار للقيام بالثورة في ١٩٥٢م.

٦. احتلت بريطانيا مصر في ١٤ سبتمبر ١٨٨٢م.

ب. بم تفسر؟

سلسلة
الأوائل

١. قيام ثورة ١٩١٩م. ازدياد الوعي القومي لدى المصريين - الإجراءات التعسفية التي اتخذتها إنجلترا - نفى سعد ورفاقه

بسبب اعتراف الدول الكبرى بالحماية البريطانية (الاحتلال) على مصر

٢. خيب مؤتمر الصلح في باريس آمال المصريين.

السؤال الرابع: أ. رتب الأحداث التاريخية الآتية من القديم إلى الحديث:

١ معركة التل الكبير - ٢ نفى سعد زغلول - ٣ الاتفاق الودي - ٤ حادثة دنشواي - ٥ صدور أول دستور مصري.

ب. اذكر عملاً واحداً لكل من:

صفحتنا على الفيسبوك

سلسلة الأوائل للدراسات الاجتماعية

www.facebook.com/ali8272

١. طلعت حرب تأسيس بنك مصر عام ١٩٢٠ م

٢. أحمد عرابي القيام بالثورة العربية

٣. محمد فريد إنشاء مدارس ليلية لتعليم الفقراء - رفض مد امتياز قناة السويس

جـ ما الدروس المستفادة من ثورة ٢٥ يناير ٢٠١١م.

التمسك الشعبي مهم - إتحاد الشعب والجيش ضروري - الاهتمام بالشباب وتوفيره فرص عمل له

سلسلة الأوائل @ الدراسات الاجتماعية @ لصف السادس الابتدائي @ أ/عنى محمد عبدالله

إجابة سؤال (٣)

صفحتنا ع الفيسبوك

سلسلة الأوائل للدراسات الاجتماعية

www.facebook.com/ali8272

أجب عن الأسئلة الآتية

أولاً: الجغرافيا السؤال الأول:

أ. أمامك خريطة صماء لمصر اكتب مدلول الأرقام الموقعة عليها:



١. منخفض الفيوم
٢. الصحراء الشرقية
٣. مدينة الاسكندرية
٤. بحيرة السد العالي (ناصر)

ب. بم تفسر؟

لوجود النباتات الطبيعية النادرة بها - وجود المناظر الخلابة والمحميات الطبيعية وتعدد المزارات السياحية بها
١. السياحة من الأنشطة الاقتصادية المهمة بالبيئة الصحراوية.

٢. نمو الشعاب المرجانية على ساحل البحر الأحمر بسبب هدوء مياه البحر الأحمر وصفائها ودفء المياه

٣. أهمية التلال الجيرية بالساحل الشمالي الغربي لمصر. لها قدرة ع تخزين مياه الأمطار وبالتالي الاستفادة منها

السؤال الثاني: أ. ضع علامة (٧) أمام العبارة الصحيحة وعلامة (x) أمام العبارة غير الصحيحة مع التصويب:

١. يعتمد سكان الواحات على المياه الجوفية في الزراعة. (√)
٢. تملح التربة من المشكلات التي تدرّس لها البيئة الصحراوية. (√)
٣. تتميز مناطق البيئة الساحلية بالبحر الأحمر بغزارة الأمطار. ندرة الأمطار (X)
٤. النشاط الزراعي لا يعد نشاطاً رئيساً للسكان في البيئة الساحلية. (√)

ب. ماذا يحدث إذا؟

انخفاض عدد سكانها - لم يوجد النشاط التعدين بها - لم تصبح منطقة جذب للسكان

١. لم توجد مناطق التعدين في البيئة الصحراوية.

لم يتعرض الإنسان للضرر و لم تصاب المحاصيل الزراعية بالتلف و أصبح الربيع أجمل فصل بمصر

٢. لم يتعرض مصر لرياح الخماسين.

أدى لتدهور السياحة وقلة السياح بهما وانخفاض الدخل القومي

٣. أهملت الدولة شواطئ البحر المتوسط والأحمر

صفحتنا ع الفيسبوك

سلسلة الأوائل للدراسات الاجتماعية

سلسلة الأوائل @ الدراسات الاجتماعية @ للصف السـ



تابع إجابة نموذج (٢)

صفحتنا على الفيسبوك

سلسلة الأوائل للدراسات الاجتماعية

www.facebook.com/ali8272

ثانياً: التاريخ السؤال الثالث:

أ. اختر الإجابة الصحيحة مما بين القوسين وأكمل الفراغات التالية:

١. احتلت القوات البريطانية مصر بعد هزيمة الجيش المصري في ...
(كفر الدوار - التل الكبير) - الإسماعيلية - القاهرة
٢. فشلت إسرائيل في اقتحام مدينة أثناء حرب أكتوبر بفضل تعاون الشعب مع الجيش.
(الإسماعيلية - بورسعيد - السويس) - القاهرة
٣. النحوق أحمد عرابي بالجيش في عهد الخديو
(توفيق - إسماعيل - سعيد) - عباس
٤. كان الرئيس جمال عبد الناصر دور في تأسيس
(الحركة الوطنية - تنظيم الضباط الأحرار - جريدة اللواء - الحزب الوطني)

سلسلة
الأوائل

- ب. ما النتائج المترتبة على؟
١. سوء أحوال مصر السياسية والاقتصادية في أواخر فترة حكم الرئيس الأسبق محمد حسني مبارك.
قيام إنجلترا وفرنسا وإسرائيل بالعدوان الثلاثي ١٩٥٦
 ٢. تأميم شركة قناة السويس عام ١٩٥٦م.
 ٣. اشتداد ثورة المصريين ومقاطعة البضائع البريطانية وارتباك إنجلترا مما جعلها تسارع بالإفراج عنهم.
 ٣. نفي سعد زغلول وبعض زعماء الوفد المصري للمرة الثانية.

صفحتنا على الفيسبوك

سلسلة الأوائل للدراسات الاجتماعية

www.facebook.com/ali8272

السؤال الرابع: أ. من الذي قام بالأعمال التالية:

١. شكّل أول حكومة دستورية في مصر ١٩٢٤م. سعد زغلول
 ٢. دعا لإنشاء مجلس نيابي، ومدارس ليلية لتعليم العمال، محمد فريد
 ٣. أسس جريدة اللواء عام ١٩٠٠ مصطفى كامل
 ٤. أسس بنك مصر عام ١٩٢٠م. طلعت حرب
 ٥. أعلن انتهاء الحرب العالمية الأولى حق الشعوب في تقرير مصيرها.
- ب. «تميزت ثورة ٢٥ يناير بأنها ثورة سلمية» على ضوء العبارة السابقة - أجب عن الآتي:

١. فساد نظام مبارك - سوء الأوضاع في كل المجالات - تزوير الانتخابات - السعي لتوريث الحكم
٢. ما الأسباب التي أدت إلى قيام هذه الثورة.
٣. لاستمرار سوء الأوضاع - فشل الأخوان في حل المشكلات القائمة - شدة المعارضة
٢. بم تفسر ...؟ قيام ثورة ٣٠ يونيو ٢٠١٣م.
٣. تطبيق الحدين الأدنى والأقصى للأجور - عمل تأمين صحي شامل وحقوقي - سيادة القانون وتطبيقه ع الجميع
٣. عبر بأسلوبك عن كيف يمكن تحقيق العدالة الاجتماعية بالمجتمع المصري.

سلسلة
الأوائل

سلسلة الأوائل @ الدراسات الاجتماعية @ للصف السادس الابتدائي @ أ/علي محمد عبدالله

إجابة نموذج (٤)

أجب عن الاسئلة الآتية

أولاً: الجغرافيا السؤال الأول:

١. أمامك خريطة صماء لمصر اكتب مدلول الأرقام

١. البحر المتوسط

٢. سلاسل جبال البحر الأحمر

٣. نهر النيل

٤. هضبة التية

ب. بم تفسر

بسبب إلقاء مخلفات المصانع بالبحر - بسبب تسريب بقع بترول من الناقلات - إلقاء مياه الصرف بالبحر
١. تلوث المناطق الشاطئية في البيئة الساحلية.

٢. ضيق السهل الساحلي على خليج العقبة. بسبب اقتراب الجبال من خليج العقبة

بسبب دفء المياه وهدوئها وصفائها

٣. انتشار الشعاب المرجانية في مناطق متفرقة على ساحل البحر الأحمر.

السؤال الثاني: أضع علامة (√) أمام العبارة الصحيحة وعلامة (x) أمام العبارة غير الصحيحة مع تصويبها:

١. من مشكلات السكان في البيئة الساحلية الازدحام السكاني بالمدن. (√)

٢. يتسم مناخ البيئة الصحراوية بغزارة الأمطار. ندرة الأمطار. (X)

٣. حرفة الصيد من الحرف الرئيسة في المدن الساحلية. (√)

٤. بحيرة المنزلة من أكبر البحيرات إنتاجاً للأسمك في مصر. (√)

ب. ما النتائج المترتبة على

تسبب تقلب الجو فيما يعرف بالنوة - تعرض بعض ممتلكات الأفراد للتلف

١. سقوط الأمطار الشتوية على سواحل البحر المتوسط.

انتشار النشاط التعدين بها - جذبت بعض الأيدي العاملة للعمل بالتعدين

٢. انتشار المعادن في البيئة الصحراوية.

أدت لربطها بالوادي والدلتا وتسهيل حركة النقل منها وإليها

٣. إنشاء الدولة شبكة من الطرق في البيئة الصحراوية.



تابع إجابة نموذج (٤)

ثانياً: التاريخ

السؤال الثالث:

أ. اختر الإجابة الصحيحة مما بين الأقواس:

١. دعا إلى تأسيس حكومة وطنية مستقلة (جمال عبد الناصر - سعد زغلول - محمد فريد - طلعت حرب)
٢. أسس الزعيم أول حكومة دستورية في مصر. (أحمد عرابي - سعد زغلول - مصطفى كامل - محمد فريد)
٣. أسس مصطفى كامل عام ١٩٠٠ جريدة (الأهرام - اللواء - المؤيد - العروة الوثقى)
٤. تم نفي سعد زغلول في مارس ١٩١٩م إلى جزيرة (مالطة - سيشل - قبرص - شوان)
٥. تم يوليو عام ١٩٥٦م. (تأميم قناة السويس - إعلان الجمهورية - الوحدة بين مصر وسوريا)
٦. احتل الإنجليز القاهرة بعد هزيمة عرابي عند (التل الكبير - كفر الدوار - الإسكندرية - بورسعيد)

ب. ما المقصود بالمفاهيم الآتية؟

١. اندسور الوثيقة التي تضم مجموعة مواد ومبادئ وقوانين التي نظام الحكم

٢. عدالة اجتماعية توزيع الثروات بين المواطنين توزيعاً عادلاً

السؤال الرابع: أ. أعد كتابة العبارات الآتية بعد تصويب ما فوق الخط

١. تخلت إنجلترا عن مساندة القضية المصرية بعد عقد الاتفاق الودي سنة ١٩٠٤م. فرنسا

٢. التحق أحمد عرابي بالجيش في عهد الخديو توفيق. محمد سعيد باشا

٣. رفض مصطفى كامل مد امتياز شركة قناة السويس. محمد فريد

٤. من نتائج ثورة ٢٣ يوليو توقيع معاهدة السلام مع إسرائيل عام ١٩٧٩م. حرب أكتوبر ١٩٧٣ م

٥. من مميزات ثورة ٢٥ يناير ٢٠١١م تلاحم الجيش مع النظام الحاكم. الشعب

٦. تأسس بنك مصر في إبريل ١٩٢٠م على يد سعد زغلول. طلعت حرب

ب. أجب عما يأتي:

١. ما الأسباب المشتركة التي أدت إلى قيام ثورتى ٢٥ يناير ٢٠١١م ٢٣ يوليو ١٩٥٢م.

سوء الأوضاع الاقتصادية والاجتماعية والسياسية

٢. ما دورك اليوم في بناء مصر.

الالتزام الأخلاقي تجاه الوطن والمواطنين - الحفاظ ع ثروات ومقدرات الوطن -الالتزام بالقانون

سلسلة الأوائل @ الدراسات الاجتماعية @ للصف السادس الابتدائي @ أ/عنى محمد عبدالله

صفحتنا ع الفيسبوك

صفحتنا ع الفيسبوك

سلسلة الأوائل للدراسات الاجتماعية

صفحتنا ع الفيسبوك

سلسلة الأوائل للدراسات الاجتماعية

www.facebook.com/ali8272

إجابة نموذج (٥)

أجب عن الاسئلة الآتية أولاً : الجغرافيا السؤال الأول:

أ. أمامك خريطة صماء لمصر اكتب مدلول الأرقام الموقعة عليها:



صفحتنا على الفيسبوك
سلسلة الأوائل للدراسات الاجتماعية
www.facebook.com/ali8272

١. البحر الأحمر
٢. خليج السويس
٣. الصحراء الغربية
٤. مدينة السلوم

ب. بم تفسر؟

بسبب قلة الموارد الطبيعية مما أدى لقلة الموارد الاقتصادية مثل قلة الغذاء والبطالة
١. مجردة بعض سكان البيئة الصحراوية إلى البيئات الأخرى.

بسبب إلقاء مياه الصرف الصحي والزراعي فيها - بسبب صرف مخلفات بعض المصانع فيها
٢. تلوث مياه الشواطئ في البيئة الساحلية.

لتوافر المواد الخام وفرص العمل ولأنها مجال حيوي للتجارة والنقل وتوافر المناظر الطبيعية الخلابة
٣. تركز نسبة كبيرة من السكان في المحافظات الساحلية.

السؤال الثاني: أ. قارن بين البيئة الصحراوية والبيئة الساحلية من حيث : (عادات السكان - مشكلات البيئة)

البيئة الساحلية	البيئة الصحراوية	عادات السكان
العمل في جماعة - مشاركة المرأة في الأعمال الإنفتاح على العالم الآخر لهم عادات ومهرجانات في الأحتفالات و الزواج طبع البحر ع السكان من حيث المخاطرة والشجاعة عادات سلبية الصيد غير القانوني - الهجرة غير الشرعية إلقاء المخلفات المنزلية والصناعية في البحر	حجم الأسرة يزيد عن ٥ أفراد الترايط الأسرى - النزواج من الأقارب إجادة مهارة اقتفاء الأثر و تحديد الاتجاهات إحترام العادات والتقاليد والمجاس العرفية عادات سلبية الزواج المبكر - العلاج بوسائل بدائية	
تأكل الشواطئ تلوث المياه الشاطئية	ندرة المياه - السيول المدمرة حركة الرمال - تملح التربة	مشكلات البيئة

ب. اكتب كلمة (صح) أو كلمة (خطأ) أمام العبارات الآتية مع تصويب الخطأ:

١. يعيش معظم سكان البيئة الصحراوية في محافظات الحدود. (صح)
٢. من الصناعات المنتشرة في البيئة الصحراوية، الصناعات الحرفية (خطأ)
٣. بحيرة المنزلة أقل البحيرات إنتاجاً للأسماك. (خطأ)
٤. أصدرت الدولة قوانين التجريم إلقاء مخلفات الصرف في البحر. (صح)



تابع إجابة سؤال (٥)

ثانياً: التاريخ السؤال الثالث:

أ. بم تفسر؟

قامت الثورة بسبب سوء الأوضاع في كل المجالات وانتشار الفساد وتزوير الانتخابات
١. قيام ثورة ٢٥ يناير ٢٠١١م. وهدفت إلى تحقيق العدالة الاجتماعية والكرامة للمصريين والقضاء ع الفساد

٢. دعوة محمد فريد إلى إنشاء المدارس الليلية. لتعليم العمال والفقراء مجاناً
بسبب اعتراف الدول المجتمعة بالحماية البريطانية (الاحتلال) ع مصر

٣. مؤتمر الصلح في باريس ١٩١٩م لم يحقق آمال المصريين.

بسبب تأميم مصر لقناة السويس ومساندتها الثورة الجزائرية
٤. العدوان الثلاثي على مصر ١٩٥٦م.

ب. أكمل ما يأتي:

اللواء

سلسلة

الأوائل

صفحتنا ع الفيسبوك

سلسلة الأوائل للدراسات الاجتماعية

www.facebook.com/ali8272

١. أصدر الزعيم مصطفى كامل جريدة

٢. أعلنت بريطانيا الحماية على مصر في عام ١٩١٤م.

٣. تأسس بنك مصر في عام ١٩٢٠م.

٤. عادت الملاحة بقناة السويس في يونيو عام ١٩٧٥ م.

السؤال الرابع:

أ. كانت ثورة الشعب المصري في يناير ٢٠١١م ثورة بيضاء نالت إعجاب العالم ع ضوء هذه العبارة اذكر

١. سبباً واحداً لقيامها. تزوير انتخابات مجلس الشعب ٢٠١٠م - انتشار الفساد في مؤسسات الدولة

٢. إحدى مميزاتاها. الوحدة الوطنية بين المسلمين والمسيحيين - تلاحم الشعب والجيش في يد واحدة

٣. إنجازاً واحداً لها. إسقاط مبارك ونظامه - حل الحزب الوطني وحظر رموزه - التمسك الوطني

٤. ما رأيك في شعار (الجيش والشعب إيد واحدة) أؤيده بشدة لأنه شعار رائع و جيد يدل ع تلاحم الشعب والجيش

ب. لمن تنسب الأعمال الآتية؟

١. أسس بنك وطني بأموال مصرية عام ١٩٢٠م. طلعت حرب

٢. قائد ثورة الجيش المصري عام ١٨٨١م. أحمد عرابي

٣. زعيم وطني تم نفيه إلى جزيرة مالطة. سعد زغلول

٤. تنظيم الضباط الأحرار ٢٣ يوليو ١٩٥٢م. الضباط الأحرار

٥. أنشأ الحزب الوطني عام ١٩٠٧م. مصطفى كامل

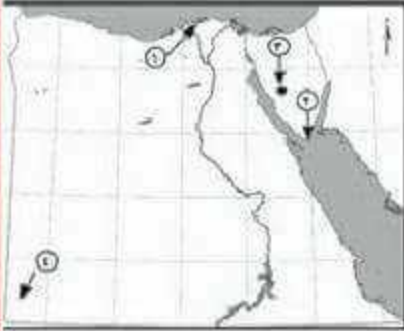
٦. أعد تقريراً حدد فيه الخسائر المالية عند الموافقة على مد امتياز مشروع قناة السويس بمصر. محمد فريد

سلسلة الأوائل @ الدراسات الاجتماعية @ للصف السادس الابتدائي @ أ/علي محمد عبدالله

إجابة نموذج (1)

أجب عن الأسئلة الآتية

أولاً: الجغرافيا السؤال الأول: أ. أمامك خريطة صماء لمصر اكتب مدلول الأرقام الموقعة عليه



١. بحيرة البرلس

٢. محمية طبيعية رأس محمد

٣. منطقة لتعدين المنجنيز أم بجمه

٤. جبل العوينات

ب. ما النتائج المترتبة على.....؟

١. حركة الرمال في المناطق الصحراوية.

تعطيل حركة النقل - ردم الآبار - الأضرار بالمحاصيل - زيادة التصحر

٢. نحت الأمواج للسواحل.

تآكل الشواطئ - الضرر بالسياحة الشاطئية - تعرض الشاليهات للضرر

٣. تلوث المياه الشاطئية في البيئة الساحلية.

يؤدي لتأثير سلبي ع الأسماك وعلى صحة الإنسان ويضر السياحة الشاطئية

السؤال الثاني: أ. صوب ما فوق الخط:

١. يعيش سكان البيئة الصحراوية في محافظات الحضر.

٢. تربة البيئة الصحراوية تربة طينية سوداء.

٣. يهتم سكان البيئة الصحراوية بالصناعات الثقيلة.

٤. يعيش سكان البيئة الصحراوية في ١١ محافظة.

٥. يتميز ساحل البحر المتوسط بوجود خلجان مثل خليج العقبة. البحر الأحمر

٦. من جهود الدولة في البيئة الساحلية إنشاء مدن جديدة مثل الإسكندرية. برج العرب الجديدة

ب. قارن بين: العادات الإيجابية لسكان البيئتين الصحراوية والساحلية.

العادات الإيجابية لسكان البيئة الساحلية

العمل في جماعة

طبع البحر السكان ع حب المخاطرة والشجاعة

مشاركة المرأة للرجل في معظم الأعمال

الانفتاح ع العالم الخارجي

العادات الإيجابية لسكان البيئة الصحراوية

الترابط الأسري - التزاوج بين الأقارب

المهارة في معرفة الأثر وتحديد الاتجاهات

الحفاظ ع العادات - احترام المجالس العرفية

إكرام الضيف - تكوين علاقات جيدة مع البيئات الأخرى

ج. ما مقترحاتك لتنمية النشاط السياحي بالبيئة الصحراوية.

التوسع في بناء الفنادق والقرى السياحية - التوسع في إنشاء - الأهتمام بالمزارات السياحية والسفاري

سلسلة الأوائل @ الدراسات الاجتماعية @ للصف السادس الابتدائي @ أ/عنى محمد عبدالله

تابع إجابة نموذج (١)

ثانياً: التاريخ

السؤال الثالث:

أ. اكتب كلمة (صح) أو (خطأ) مع تصويب الخطأ أمام كل عبارة:

١. تخلت فرنسا عن مساندة مصطفى كامل بعد عقد الاتفاق الودي مع إنجلترا عام ١٩٠٤م. (✓)
 ٢. مالب أحمد عرابي بإقالة وزارة شريف باشا. **وزارة رياض** (X)
 ٣. أصدرت بريطانيا مرسوم ٢٨ فبراير ١٩٢٢م واعترفت فيه باستقلال مصر. (✓)
 ٤. أسس العرب حزب بنك مصر عام ١٩٢٠ برؤوس أموال أجنبية. **أموال مصرية** (X)
 ٥. كان إلغاء النظام الملكي وإعلان النظام الجمهوري هو إصلاح لثورة ١٩٥٢م. (✓)
 ٦. أعادت ثورة يوليو الأحزاب السياسية للحكم في يناير ١٩٥٦م. **حلت الأحزاب** (X)
- ب. بم تفسر؟

١. فشل العدوان الثلاثي على مصر ١٩٥٦م.

بسبب وقوف الدول العربية مع مصر - صلابه القيادة المصرية - تلاحم الشعب والجيش

- معارضة الاتحاد السوفيتي للعدوان

٢. نجاح حرب أكتوبر ١٩٧٣م.

بسبب قوة الإيمان - السرية التامة - خطة الخداع الاستراتيجي - دعم الدول العربية - التدريب المستمر الجيد

السؤال الرابع: أ. لمن تنسب الأعمال الآتية؟

١. تولى سلطة البلاد بعد عزل الرئيس محمد مرسي عام ٢٠١٣م. **عدلى منصور**

٢. أسس جريدة اللواء ١٩٠٠م. **مصطفى كامل**

٣. دعا إلى إنشاء مدارس ليلية للعمال في مصر. **محمد فريد**

٤. اتخذ القرار بحرب أكتوبر ١٩٧٣م. **محمد أنور السادات**

ب. أجب عما يأتي:

١. كيف حققت ثورة يوليو ١٩٥٢م مبدأ القضاء على الاستعمار وأعوانه؟

بتوقيع اتفاقية الجلاء مع بريطانيا عام ١٩٥٤م وبالتالي رحيل القوات الإنجليزية المحتلة

٢. ما أهداف ثورة ٢٥ يناير ٢٠١١م؟

الحرية - الكرامة - العدالة الاجتماعية لكل المصريين

٣. ما رأيك في ثورة ١٩١٩م؟

ثورة شعبية شاملة حيث شارك فيها كل أفراد وطوائف الشعب

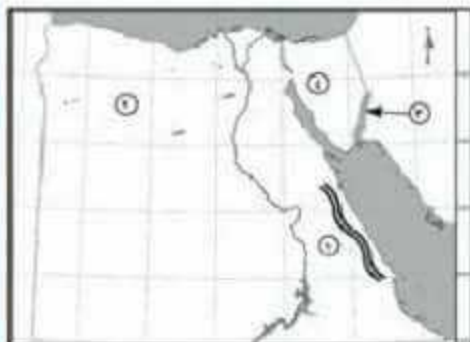
المصري وتلاحموا مع بعضهم البعض ضد المحتل الإنجليزي

إجابة نموذج (٧)

أجب عن الأسئلة الآتية

أولاً : الجغرافيا

السؤال الأول: أ. أمامك خريطة صماء لمصر اكتب مدلول الأرقام الموقعة عليها:



١. سلاسل جبال البحر الأحمر

٢. منخفض القطارة

٣. خليج العقبة

٤. شبه جزيرة سيناء

**سلسلة
الأوائل**

ب. ماذا يحدث إذا.....؟

١. لم تسقط الأمطار على الساحل الشمالي لمصر.

لن ينمو النبات الطبيعي فيها - لن تصلح لقيام الزراعة - لن توجد مياه جوفية فيها

٢. لم تتواجد المياه الجوفية في الصحراء المصرية.

لن تصلح للزراعة - لم توجد واحات بها - لن يتواجد فيها سكان

٣. أهملت البوالة إقامة الفنادق والمحميات والطرق الجديدة.

أدى ذلك لندهور السياحة وقلة السكان وتدهور النبات الطبيعي والحيوان البري

السؤال الثاني: أ. اكتب كلمة (صح) أو كلمة (خطأ) أمام العبارات الآتية مع تصويب الخطأ:

١. مساحة الصحراء الشرقية أكبر من مساحة الصحراء الغربية. الصحراء الغربية أكبر

٢. يقع سد الروافعة على وادي العلاقي. وادي العريش

٣. البيئة الصحراوية تملك جذب لسكان البيئات الأخرى.

٤. يعد جبل سانت كاترين أعلى قمة جبلية في مصر.

٥. المدينة التي يزيد عدد سكانها عن ١٠٠٠٠٠٠ نسمة تعرف بالمدينة المليونية.

٦. يعمل سكان البيئة الساحلية بالزراعة في مناطق متعددة

تابع إجابة نموذج (٧)

ب. ما المقصود بكل من:

١. الرأس الأرضي امتداد أرضي من اليابس داخل البحر
٢. الواحات أراضٍ منخفضة بالصحراء يقوم بها الزراعة ع المياه الجوفية

ج. ما مقترحاتك لتنمية النشاط السياحي بالبيئة الصحراوية.

التوسع في إنشاء الفنادق والقرى السياحية - التوسع في البنية التحتية (طرق، كبارى، كهرباء، مياه)
تطوير المزارات السياحية والاعتناء بها - إطلاق حملات إعلامية عن السياحة العلاجية والسفاري بالواحات

ثانياً: التاريخ

السؤال الثالث: أ. أكمل العبارات الآتية:

١. احتلت القوات البريطانية مصر بعد هزيمة الجيش المصري في التل الكبير
٢. بدأ أحمد عرابي كفاحه منذ عصر الخديو إسماعيل
٣. عزل اللورد كرومر من منصبه عقب حادثة دنشواي
٤. ساندت ثورة يوليو ١٩٥٢م معظم الثورات العربية وأبرزها ثورة الجزائر
٥. عقب تصريح ٢٨ فبراير ١٩٢٢م تم إصدار دستور ١٩٢٣
٦. تم نفي سعد زغلول ورفاقه في مارس ١٩١٩م إلى جزيرة مالطة.

ب. بم تفسر

١. قيام ثورة ٢٥ يناير ٢٠١١م.
٢. سوء الأوضاع الاقتصادية والاجتماعية والسياسية - تزوير انتخابات مجلس الشعب ٢٠١٠م
٣. فشل العدوان السلابي على مصر.
٤. انتشار الفساد في كل مؤسسات الدولة
٥. بسبب تلامد الجيش الشعب مع القيادة - وقوف الشعوب العربية بجوار مصر - معارضة الاتحاد السوفيتي

السؤال الرابع: أ. اختر الإجابة الصحيحة مما بين اقوسين:

١. تشكلت أول حكومة دستورية برئاسة عام ١٩٢٤م.

(سعد زغلول - مصطفى كامل - محمد فريد - أحمد عرابي)



تابع إجابة نموذج (أ)

ب. ماذا يحدث إذا؟

١. اهتمت الدولة بإنشاء المدارس في البيئة الصحراوية.
٢. ترفع نسبة التعليم وتقل نسبة الأمية ويصبح شبابهم مؤهلين علمياً وعملياً
٣. اهتمت الدولة بحماية السواحل.

سلسلة

الأوائل

سؤال المواطن للناكل - تدمير الشاليهات

شأننا الذي

الأوائل
السؤال الثالث

١. اختر الإجابة الصحيحة مما بين القوسين:

١. كان أحمد عرابي عضواً بارزاً في جمعية (الجامعة المصرية - الوفد المصري - مصر الفتاة - عابدين)
٢. دخل الإنجليز في سبتمبر عام ١٨٨٢م. (الإسكندرية - السويس - الإسماعيلية - القاهرة)
٣. أقامت مصر عام ١٩٥٨م وحدة مع (بريطانيا - الجزائر - سوريا - الأردن)
٤. نجح الجيش المصري في إزالة الساتر الترابي والعبور إلى (سيناء - الدفرسوار - الإسماعيلية - السويس)
٥. من أسباب نجاح حرب أكتوبر ١٩٧٣م (العقيدة القتالية - قوة الإيمان - السرية التامة - كل ما سبق)
٦. من الدول التي شاركت في العدوان الثلاثي على مصر (الولايات المتحدة الأمريكية - ألمانيا - انجلترا - روسيا)

صفحتنا على الفيسبوك

سلسلة الأوائل للدراسات الاجتماعية

www.facebook.com/ali8272

ب. ما رأيك في كل مما يأتي:

سلسلة

الأوائل

١. وقفت محمد فريد من مسألة مد امتياز شركة قناة السويس.

موقف وطني شجاع يدل على وطنية وحب الزعيم محمد فريد لوطنه

٢. تشكيل اللجان الشعبية أثناء ثورة ٢٥ يناير ٢٠١١م

موقف شجاع وممتاز من الشعب الوطني لأنهم تكاتفوا معا لحماية أنفسهم وممتلكاتهم

إجابة سؤال (٨)

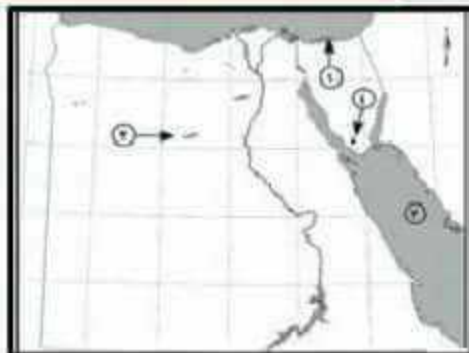
أجب عن الأسئلة الآتية
أولاً: الجغرافيا

صفحتنا الفيسبوك

سلسلة الأوائل للدراسات الاجتماعية

www.facebook.com/ali8272

السؤال الأول: أ. أمامك خريطة صماء لمصر اكتب مدلول الأرقام الآتية



١. بحيرة البحري

٢. منخفض البحري

٣. البحر الأحمر

٤. جبل سانت كاترين

الأوائل

ب. بم تفسر؟

١. نمو النبات الطبيعي في البيئة الصحراوية.
بسبب تكيفه مع ظروف البيئة الصحراوية عن طريق مد جذوره في التربة للوصول للمياه الجوفية ومقاومة الحرارة والجفاف بالأوراق الأبرية والأسفنجية
٢. ضيق السهول الساحلية المطلة على خليج العقبة.

الأوائل

الأوائل

لإقتراب الجبال من خليج العقبة

٣. مشاركة المرأة للرجال في كثير من الأعمال في البيئة الساحلية،

لأن الرجال يقضون معظم أوقاتهم في الأعمال المرتبطة بالبحر

السؤال الثاني: أ. اكتب كلمة (صح) أو كلمة (خطأ) أمام العبارات الآتية مع ذكر السبب:

١. الجاموس والأبقار من حيوانات البيئة الصحراوية. الأغنام والماعز (X)
٢. أقيم مشروع استزراع الكتبان الرملية في واحة سيوة لتثبيت الرمال. (✓)
٣. تمتد البيئة الساحلية على البحر المتوسط من طابا حتى حدود السودان. من شرق رفح حتى غرب السلوم (X)
٤. تنمو شجر النارجون على سواحل البحر المتوسط. البحر الأحمر (X)
٥. البيئة الساحلية منطقة طرد سكانى منطقة جذب سكانى (X)
٦. يعمل عدد كبير من سكان البيئة الصحراوية في حرفة التعدين (✓)

إجابة سؤال (٨)

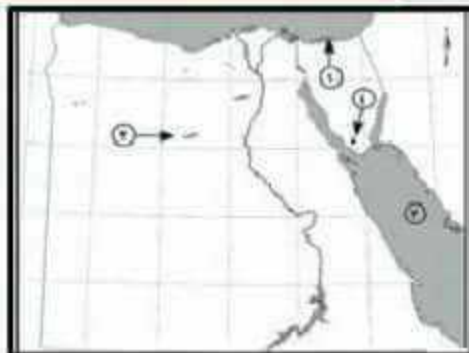
أجب عن الأسئلة الآتية
أولاً: الجغرافيا

صفحتنا الفيسبوك

سلسلة الأوائل للدراسات الاجتماعية

www.facebook.com/ali8272

السؤال الأول: أ. أمامك خريطة صماء لمصر اكتب مدلول الأرقام الآتية



١. بحيرة البحري

٢. منخفض البحري

٣. البحر الأحمر

٤. جبل سانت كاترين

الأوائل

ب. بم تفسر؟

١. نمو النبات الطبيعي في البيئة الصحراوية.
بسبب تكيفه مع ظروف البيئة الصحراوية عن طريق مد جذوره في التربة للوصول للمياه الجوفية ومقاومة الحرارة والجفاف بالأوراق الأبرية والأسفنجية
٢. ضيق السهول الساحلية المطلة على خليج العقبة.

الأوائل

الأوائل

لإقتراب الجبال من خليج العقبة

٣. مشاركة المرأة للرجال في كثير من الأعمال في البيئة الساحلية،

لأن الرجال يقضون معظم أوقاتهم في الأعمال المرتبطة بالبحر

السؤال الثاني: أ. اكتب كلمة (صح) أو كلمة (خطأ) أمام العبارات الآتية مع ذكر السبب:

١. الجاموس والأبقار من حيوانات البيئة الصحراوية. الأغنام والماعز (X)

٢. أقيم مشروع استزراع الكتبان الرملية في واحة سيوة لتثبيت الرمال. (✓)

٣. تمتد البيئة الساحلية على البحر المتوسط من طابا حتى حدود السودان. من شرق رفح حتى غرب السلوم (X)

٤. تنمو شجر النارجون على سواحل البحر المتوسط. البحر الأحمر (X)

٥. البيئة الساحلية منطقة طرد سكاني منطقة جذب سكاني (X)

٦. يعمل عدد كبير من سكان البيئة الصحراوية في حرفة التعدين (✓)

تابع إجابة نموذج (٧)

٢. دعا لتأسيس حكومة وطنية. (سعد زغلول - مصطفى كامل - أحمد عرابي - محمد فريد)

٣. أسس مصطفى كامل جريدة ١٩٠٠ م. (الوقائع - المؤيد - الأهرام - اللواء)

مسلمة

٤. يعد أول إصلاح لثورة ٢٣ يوليو ١٩٥٢ م.

(قانون الإصلاح الزراعي - إعلان الجمهورية - تأميم شركة قناة السويس - إقامة الوحدة بين مصر وسوريا)

الأوائل

٥. من أبرز شهداء حوب الاستنزاف الفريق أول

(عبد المنعم رياض - عبد الحكيم عامر - جمال عبد الناصر - أنور السادات)

صفحتنا ع الفيسبوك

سلسلة الأوائل للدراسات الاجتماعية

www.facebook.com/all8272

ب. ما رأيك في

١. ثورة ١٩١٩ م.

ثورة شعبية شاملة ضمت كل طوائف وفئات الشعب المصري وتلاحم طرفي الشعب (مسلمين ومسيحيين معا) كما كان للمرأة دور كبير فيها

٢. الاتفاق الودي بين إنجلترا وفرنسا ١٩٠٤ م.

أرفضه لأنه خيانة واستيلاء ع الأراضي العربية بدون حق

ج. أنكر نتيجة واحدة لثورة ٣٠ يونيو ٢٠١٣ م.

مسلمة

الأوائل

عزل الرئيس محمد مرسى وتسليم السلطة لـ عدلى منصور

تعديل دستور ٢٠١٣ م وصدر دستور جديد ٢٠١٤ م

صفحتنا ع الفيسبوك

سلسلة الأوائل للدراسات الاجتماعية

www.facebook.com/ali8272

صفحتنا ع الفيسبوك

سلسلة الأوائل للدراسات الاجتماعية

www.facebook.com/ali8272

صفحتنا ع الفيسبوك

سلسلة الأوائل للدراسات الاجتماعية

www.facebook.com/ali8272

صفحتنا ع الفيسبوك

سلسلة الأوائل للدراسات الاجتماعية

www.facebook.com/ali8272

تابع إجابة سؤال (أ)

السؤال الرابع: أ. لمن تنسب الأعمال الآتية؟

١. أعطى امتياز حفر قناة السويس للمهندس ديليسبس. **محمد سعيد باشا**
٢. عمل محرراً في جريدة الوقائع المصرية ثم تولى نظارة المعارف عام ١٩٠٦م. **سعد زغلول**
٣. رئيس أمريكي أعلن حق الشعوب في تقرير مصيرها. **ويلسن**
٤. قام بتوزيع الثروات بين المواطنين توزيعاً عادلاً. **الزعيم جمال عبدالناصر**

ب. ما النتائج المترتبة على؟

١. خطب ومقالات مصلى كامل.

- إثارة حماس المصريين ضد الاحتلال الإنجليزي وهبوا للتصدي للمحتل وتحرير الوطن
٢. انتصار الجيش المصري في حرب أكتوبر ١٩٧٣م.
- عودة سيناء لمصر - إظهار قوة العرب في التضامن والوحدة - عودة الملاحة في قناة السويس - توقيع اتفاقية السلام
٣. قيام ثورة ٢٥ يناير ٢٠١١م.

إسقاط نظام مبارك - حل مجلس الشعب المزور - تلاحم الشعب والجيش - إظهار الوحدة الوطنية - إجراء انتخابات نزيهة

سلسلة الأوائل في الدراسات الاجتماعية

إبتدائي - إعدادي - ثانوي

مع سلسلة الأوائل أنت دائما من الأوائل

أ/ علي محمد عبد الله

معلم أول جغرافيا بمدرسة النواورة ش.م

٠١٠٩٩٦٩٦٨٨٢

صفحتنا ع الفيسبوك
سلسلة الأوائل للدراسات الاجتماعية
www.facebook.com/ali8272

صفحتنا ع الفيسبوك
سلسلة الأوائل للدراسات الاجتماعية
www.facebook.com/ali8272

صفحتنا ع الفيسبوك
سلسلة الأوائل للدراسات الاجتماعية
www.facebook.com/ali8272

إجابة سؤال (٩)

أجب عن الأسئلة الآتية

أولاً : الجغرافيا

السؤال الأول: أ. أمامك خريطة صماء لمصر اكتب مدلول الأرقام الموقعة عليها:



١. البحر البحر المتوسط

٢. مضبة مضبة فاروق

٣. خليج الخليج

٤. منخفض المنخفض

ب. اكتب المفهوم الجغرافي الذي تدل عليه العبارات التالية:

١. تجمعات من الرمال تتراكم بفعل الرياح. الكثبان الرملية

٢. قيام الأمواج بنحت الصخور التي تشكل ساحل البحر. تآكل الساحل

جـ ما النتائج المترتبة على

١. ارتباط سكان البيئة الساحلية بالبحر.

أدى لارتباطهم بالبحر - اكتسابهم حب المخاطرة والشجاعة في مواجهة الأخطار والتعاون مع بعضهم

٢. هدوء وصفاء حركة مياه البحر الأحمر.

نمو الشعاب المرجانية - جذب السياح

السؤال الثاني: أ. بم تفسر

١. ظهور عديد من المشكلات الاقتصادية في البنية الصحراوية.

بسبب قلة الموارد الطبيعية بالبيئة الصحراوية

٢. تملح التربة في بعض المناطق بالبيئة الصحراوية.

بسبب تبخر المياه واستقرار الملح على سطح التربة

٣. اتساع السهول الساحلية المطلة على البحر المتوسط

لابتعاد الحواف المرتفعة عن ساحل البحر المتوسط

٤. تلوث المياه الشاطئية في مصر.

بسبب إلقاء الصرف الصحي والزراعي في البحر - إلقاء مخلفات بعض المصانع في البحر

وحركة السفن وناقلات البترول

سلسلة الأوائل @ الدراسات الاجتماعية @ للصف السادس الابتدائي @ أ/عنى محمد عبدالله

سلسلة

الأوائل

صفحتنا على الفيسبوك
سلسلة الأوائل للدراسات الاجتماعية
www.facebook.com/ali8272

صفحتنا على الفيسبوك
سلسلة الأوائل للدراسات الاجتماعية
www.facebook.com/ali8272

تابع إجابة نموذج (٩)

ب. ماذا يحدث إذا؟

١. أهملت الدولة إقامة الفنادة، والمحطات والطرق الحديثة في الستة الصحراوية.
- لم تصبح البيئة الصحراوية منطقة جذب سياحي - يصعب الوصول إليها وإليها من البيئات الأخرى
٢. لم تتواجد الكثبان الرملية، التي تجذب السياح إلى مصر.
- لم تختزن مياه الأمطار، التي تسقط بالمنطقة ولم يستفاد منها

ثانياً: التاريخ السؤال الثالث: أ. أكمل ما يأتي:

١. كان من نتائج ثورة يوليو ١٩٥٢م إنشاء عديد من المصانع مثل مصنع الحديد ولصلب بحلوان
 ٢. شارك محمد فريد في العديد من التجمعات لبحث المشكلات المصرية السياسية.
 ٣. التحق أحمد عرابي بالجيش في يد والده
 ٤. أعلن الرئيس الأمريكي ولسن أثناء الحرب العالمية الأولى حق كل شعب في تقرير مصيره
- ب. ما النتائج المترتبة على؟

١. سوء الأحوال السياسية والاقتصادية قبل عام ٢٠١٠م.
- أدى إلى قيام ثورة ٢٥ يناير ٢٠١١م
٢. تأميم شركة قناة السويس ١٩٥٦م.

- قيام العدوان الثلاثي على مصر - أصبحت القناة تحت إدارة المصريين وإيراداتها لمصر
٣. نفي سعد زغلول وبعض زعماء الوفد المصري للمرة الثانية.

أدى لمقاطعة المصريين للتبضع والتسوق والتجارية - اشتعلت الثورة مرة أخرى

السؤال الرابع: أ. من الذي قام بالآتي:

١. تولى سلطة البلاد عقب قيام ثورة ٢٣ يوليو ١٩٥٢م.
 ٢. أسس جريدة اللواء ١٩٠٠م.
 ٣. أسس بنك مصر عام ١٩٢٠م طلعت حرب
 ٤. قاد ثورة ١٨٨١م أحمد عرابي
- ب. أجب ما يأتي:

١. أذكر ثلاثة من نتائج حرب تحرير مصر
- عودة سيناء لمصر - عودة الحياة الطبيعية في مصر - عودة الثقة للمقاتل المصري
٢. ما أسباب ثورة ٣ يونيو ٢٠١٣م
- استمرار سوء الأحوال الاقتصادية والاجتماعية - عدم تقديم السياسة الجديدة أية حلولاً للمشكلات القائمة
٣. ما سلبات تصريح ٢٨ فبراير ١٩٢٢م بالنسبة لمصر
- وجود التحفظات الأربعة - أصبح استقلال مصر شكلي - اشتراك بريطانيا مع مصر في إدارة السودان

ثانياً، التاريخ

السؤال الثالث: أ. أكمل ما يأتي:

الثلث العير

١. احتلت إنجلترا القاهرة بعد معركة
٢. تولى زعامة الحركة الوطنية أواخر القرن الـ ١٩ الميلادي
٣. شارك في العدوان الثلاثي على مصر كل من
٤. كان الحاكم الفعلي للبلاد منذ الاحتلال البريطاني لمصر
٥. أصدر الزعيم مصطفى كامل جريدة

ب. رتب الأحداث التالية:
١ - الثورة العربية
٢ - الحرب العالمية الأولى
٣ - ثورة ١٩١٩ م
٤ - تصريح ٢٨ فبراير

السؤال الرابع: أ. دلل على صحة العبارات الآتية:

١. عمل محمد فريد على مد يد الناحية الطبية إلى أوروبا
- عندما وجد سلطات الاحتلال والمصريون معاً، شجعوا على أوروبا ونقل نشاطه الوطني إليها
٢. تحرير الاقتصاد المصري من التبعية الأجنبية
- حيث أنشأ طلع حرب بنك مصر لتمويل المشروعات الوطنية بأموال المصريين
٣. إصدار حكومة ثورة ٢٣ يوليو قانون الإصلاح الزراعي ١٩٥٢ م
- حيث صدر قانون الإصلاح الزراعي في سبتمبر ١٩٥٢ م وحدد ملكية الأراضي الزراعية
- بـ ٢٠٠ فدان ويوزع الباقي على الفلاحين وتبعه إصدار عدة قوانين أخرى
- ب. ما المقصود بكل من ..؟

١. عدالة إجتماعية توزيع الثروات بين المواطنين توزيعاً عادلاً

٢. حرب الاستنزاف

هي العمليات العسكرية التي دارت بين القوات المصرية والعدو الإسرائيلي شرق القناة وقد ألحقت خسائر فادحة بالعدو واستمرت ثلاث سنوات من مارس ١٩٦٨ - أغسطس ١٩٧٠ م



إجابة نموذج (١٥)

أجب عن الأسئلة الآتية أولاً: الجغرافيا

السؤال الأول: أ. أمامك خريطة صماء لمصر اكتب مدلول الأرقام الموقعة عليها:



١. الصحراء الشرقية

٢. شبه جزيرة سيناء

٣. مدينة الإسكندرية

٤. بحيرة السد العالي (ناصر)

ب. بم تفسر؟

١. نمو الشعاب المرجانية بسواحل البحر الأحمر.

بسبب دفء مياه البحر الأحمر وصفاتها وهدونها

٢. انخفاض نسبة الأمية في المحافظات الصحراوية مؤخراً.

بسبب توسع الدولة في بناء المدارس والجامعات بها - والتوسع في برامج محو الأمية

٣. تميز سكان البيئة الساحلية بحبهم للعمل الجماعي.

لأن أعمال الصيد والشحن والنقل وتفرغ السفن تتطلب التعاون فيما بينهم

السؤال الثاني: أ. اختر الإجابة الصحيحة مما بين اقوسين:

١. توجد هضبة عارمريكا في الصحراء الغربية وتقع في الجزء ... منها. (الأوسط - الشمالي - الجنوبي - الشرقي)

٢. كبر المحميات إنتاجاً للأسماك بحيرة (البرديول - المنزلة - البرلس - إدكو)

٣. هم النباتات التي تنمو على ساحل البحر المتوسط أشجار .. (المطاط - المانجروف - الزيتون - الغرقد)

٤. امت الدولة بمشروع استزراع الكثبان الرملية جنوب واحة ... (الخارجة - الفرافرة - البحرية - سيوة)

٥. ع. د. ر. ... (الحدف الرئيسية في البيئة الساحلية) (الصيد - الرعى - الزراعة - السياحة)

٦. من المدن الساحلية ... (القاهرة - الإسكندرية - الإسماعيلية - الغردقة)

ب. ما النتائج المترتبة على ... ؟

١. حركة الرمال التي تسببها الرياح في البيئة الصحراوية

تعطيل حركة النقل - ردم الآبار - زيادة التصحر - تلف المحاصيل الزراعية

٢. صفاء مياه البحر الأحمر وهدوء حركتها

نمو الشعاب المرجانية - جذب السياحة إليها