

**امتحان الصف السادس الابتدائي**  
آخر العام الفصل الدراسي الثاني

إدارة سوهاج التعليمية

مدرسة

اسم التلميذ

الزمن: ساعة ونصف

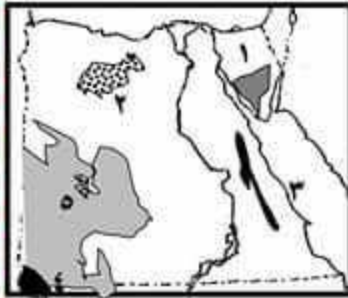
المادة: الدراسات

الصف: ٦/

مراجعة ليلة الامتحان رقم: ١

**أولاً: الجغرافي**

**السؤال الأول:**



(١) أمامك خريطة سماء لعصر الحقب مملوء الأرقام.

١ - هضبة

٢ - منخفض

٣ - بحر

٤ - جبل

٥ - هضبة

٦ - بحر

**السؤال الثاني:** ضع علامة (✓) أمام العبارات الصحيحة وعلامة (×) أمام العبارات الخاطئة.

(١) تقع الصحراء الشرقية بين البحر المتوسط شمالاً وخليجي العقبة والسويس جنوباً ( )

(٢) من أشهر جبال شبه جزيرة سيناء جبل سانت كاترين وجبل الشايب وجبل علبه ( )

(٣) أكبر واحات الصحراء الغربية سكاناً هي واحة الفرافرة ( )

(٤) من القبائل التي تمتعن حرفة الرعي قبائل أولاد علي في محافظة مطروح ( )

(٥) من النباتات الطبية التي تستخدم في علاج أمراض الجهاز الهضمي نبات الحرمل ( )

**السؤال الثالث:** (١) اختر الإجابة الصحيحة مما بين القوسين.

(١) تبلغ مساحة الصحراء الشرقية % (٩٥ - ٨٦ - ٦٨ - ٢٢)

(٢) تهب رياح الخماسين في شهري (مايو وأبريل - يناير وأبريل - مارس وأبريل)

(٣) سياحة داخل الصحراء تسمى سياحة (السفاري - البيئة - الثقافية)

(٤) من محافظات الحدود (القاهرة - السويس - الوادي الجديد)

(٥) تم إقامة سد الروافعة على وادي (النيل - الفرات - العريش)

**السؤال الرابع:** (١) اكتب ما تخير إليه حل عبارة من العبارات الآتية.

(١) مساحة من الأرض بها كانتات حية ذات قيمة نادرة

(٢) تدهور التربة الزراعية وانخفاض القدرة الإنتاجية

(٣) مجموعة من الدول المنتجة للبترول والتي تتحكم في أسعاره

(ب) به تفرع

(١) تنوع الأنشطة الاقتصادية في البيئة الصحراوية؟

(٢) تركز سكان البيئة الصحراوية في الواحات

## ثانياً: التاريخ

### السؤال الأول: اُجمل ما يأتي:

- (١) من أهم الشركات التي أقامها بنك مصر ..... و .....
- (٢) أعلنت إنجلترا في ١٨ ديسمبر ١٩١٤ ..... وفي ٢٨ فبراير ١٩٢٢ .....
- (٣) أعد طلعت حرب تقريراً عن ..... وحدد فيه ..... في مسألة امتياز قناة السويس
- (٤) الزعيم ..... انضم للثورة العربية (مصطفى كامل – محمد فريد – سعد زغلول)

### السؤال الثاني: ضع علامة (✓) أمام العبارات الصحيحة وعلامة (×) أمام العبارات الخاطئة.

- (١) تلقى طلعت حرب تعليمه في مدرسة التجارة العليا ( )
- (٢) توفي محمد فريد في منفاه بأمريكا ( )
- (٣) يقوم بنك مصر بتمويل المشروعات الصغيرة فقط ( )

### السؤال الثالث

(جـ) ما النتائج المترتبة على انتصار مصر في حرب أكتوبر ١٩٧٣

(جـ) ما النتائج المترتبة على تصريح ٢٨ فبراير ١٩٢٢

### السؤال الرابع: اُجمل المسألة العلمية لحل من العبارات الآتية:

- (١) العام الذي تولى فيه محمد علي حكم مصر
  - (٢) أعطى حق امتياز حفر قناة السويس للمهندس الفرنسي فرديناند ديليسبس
- (ب) به تغمر – (ل) – (ح) المربوب ( )
- (١) قيام ثورة ١٩٥٢ م.

الزمن: ساعة ونصف  
المادة: الدراسات  
الصف: ٦/

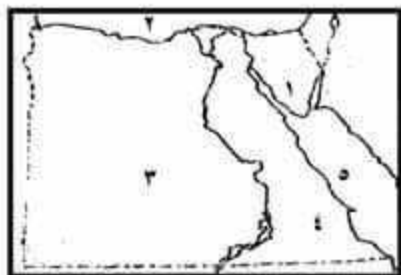
**امتحان الصف السادس الابتدائي**  
آخر العام الفصل الدراسي الثاني

إدارة سوهاج التعليمية  
مدرسة  
اسم التلميذ

مراجعة ليلة الامتحان رقم: ٣

**أولاً: الجغرافيا**

**السؤال الأول**



أمامك خريطة صماء أكتب ما تدل عليه الأرقام

(١) شبه

(٢) البحر

(٣) الصحراء

(٤) الصحراء

(٥) البحر

**السؤال الثاني مع علامة ( √ ) أمام العبارة الصحيحة وعلامة ( × ) أمام العبارة الخطأ.**

- ( ) ١) تشغل البيئة الصحراوية نسبة كبيرة من مساحة مصر
- ( ) ٢) الصناعة في البيئة الصحراوية معظمها صناعة حديثة
- ( ) ٣) سكان البيئة الصحراوية لا يعملون إلا بالرعي
- ( ) ٤) البيئة الصحراوية غنية في نباتها الطبيعي
- ( ) ٥) يوجد منخفض القطارة في الصحراء الشرقية

**السؤال الثالث أعمل العبارات الآتية**

- ١) من الصفات التي يتصف بها أهل لبيئة الصحراوية و
- ٢) تعيش قبيلة ..... في إقليم مريوط وتعيش قبائل ..... في حلايب وشلاتين
- ٣) البدو الرحل ينتقلون مع حيواناتهم بحثاً عن
- ٤) تمتد الصحراء الغربية من غرباً حتى شرقاً
- ٥) تقوم الزراعة في ساحل مريوط على مياه

**السؤال الرابع به تفسر ١- قيام الزراعة في الواحات.**

٢- قيام الدولة بتوطين البدو.

**السؤال الرابع ما المقصود بـ (.....) :-**

- ١- المنطقة الجافة التي لا تسقط عليها الأمطار إلا قليلاً [.....]



## ثانياً: التاريخ

٢- منطقة منخفضة في الصحراء توجد بها المياه الجوفية [ ]

**السؤال الأول:** اختر الإجابة الصحيحة مما بين القوسين.

(١) خروج القوات المحتلة من أراض الدول التي احتلتها نهائياً

(الاحتلال - الجلاء - الاثنين معاً)

(٢) من الشركات أسسها بنك مصر ... (مصر للطيران - مصر للتأمين - كل ما سبق)

(٤) الزعيم ..... انضم للثورة العربية (مصطفى كامل - محمد فريد - سعد زغلول)

**السؤال الثاني: أ - اجعل العبارات التالية والخلفاء العثمانية**

(٢) تشكلت أول حكومة دستورية في مصر بزعامة

(٣) تولى زعامة الحركة الوطنية المصرية في أواخر القرن التاسع عشر

ب - حوِّب الخلفاء التي تتعاقب في أدنى العبارات التالية صحيحة في ورقة الإجابة

(١) نفى أحمد عرابي ورفاقه إلى جزيرة مالطة أشعل ثورة ١٩١٩

**السؤال الخامس:** اختر المصنوع الذي تحمل عليه حل عبارة مما يلي

(١) بنك يديره المواطنون بأموال وطنية

(٣) مجموعة المبادئ والقوانين التي تحدد نظام الحكم

(٤) كل ما يلم به الإنسان من أفكار في مختلف المجالات

ب - رتب الأحداث التاريخية من الأقدم إلى الأحدث

(١) تأسيس بنك مصر

(٣) إصدار بريطانيا تصريحاً تعترف فيه بمصر دولة مستقلة ذات سيادة

(٤) اشتراك الجيش والشعب في مظاهرة عابدين السلمية لعرض مطالب الأمة على

الخدوي

**السؤال السادس:** "تعد ثورة ٢٥ من يناير ٢٠١١ امتداداً لثورات الشعب المصري من

اجل المطالبة بالحرية والكرامة"

في ضوء العبارة السابقة اجب عما يلي

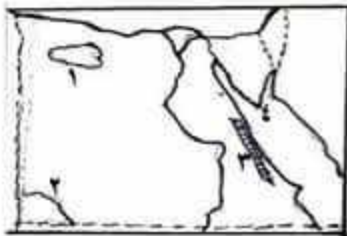
(١) ما معنى ثورة

(٢) اذكر سببين لقيام الثورة العربية

(٣) ما دور المرأة المصرية في أحداث ثورة ١٩١٩

## أولاً: الجغرافيا

السؤال الأول ( أ ) أمامك خريطة صماء لمصر اكتب مدلول الأرقام التي عليها.



١) منخفض

٢) هضبة

٣) منطقة لاستخراج الفوسفات

٤) أكبر الجزر مساحة عند مدخل خليج

السويس

(ب) أكمل العبارات الآتية بكلمات مناسبة :

شرقاً حتى الحدود

١) تمتد الصحراء الغربية من وادي النيل و

غرباً

المصرية

٢) سياحة السفاري هي سياحة داخل

٣) من العادات السلبية لسكان البيئة الساحلية

غير الشرعية

(ج) ١- ماذا يحدث إذا لم يوجد مياه في الآبار والعيون والواحات ؟

٢- ماذا ينتج عن تآكل السواحل بفعل نحت الأمواج لها ؟

السؤال الثاني ( أ ) اختر الإجابة الصحيحة مما بين الأقواس :

١- أكثر جبال البحر الأحمر ارتفاعاً جبل ( غلبة - حماطة - الشايب - المغارة )

٢- أقل واحات الصحراء الغربية سكاناً هي واحة :

( سيوه - الفرافرة - الداخلة - الخارجة )

٣- من الصناعات الحرفية واليدوية بالبيئة الصحراوية صناعة :

( الزجاج - الصيني - المراوح - الأرابيسك )

٤- أكبر بحيرات مصر إنتاجاً للثروة السمكية هي :

( المنزلة - البرلس - إدكو - مريوط )

٥- يوجد حقل للغاز الطبيعي في شمال الدلتا هو :



## ثانياً: التاريخ

( أبو ماضي - أبو فير - أبو الغراديق - بلاعيم )

**السؤال الأول** ضع علامة ( √ ) أمام العبارة الصحيحة وعلامة ( × ) أمام العبارة الخطأ.

٢- دعا محمد فريد إلى إنشاء مدارس ليلية لتعليم العمال والفقراء مجاناً ( )

٣- رفضت سلطات الاحتلال البريطاني في مصر سفر الوفد لحضور مؤتمر

الصلح في باريس ( )

٤- ساهم بنك مصر برئاسة طلعت حرب في تمويل الصناعات المصرية

والشركات التجارية ( )

( ب ) أكتب المفهوم الدال على كل مما يأتي :-

١- مجموعة من المبادئ والقواعد التي تحدد نظام الحكم

٢- خروج القوات المحتلة من أراضي الدول التي احتلتها

( ج ) انسب الأعمال الآتية إلى الشخصية التي قامت بها

١- قاد مظاهرة عابدين السلمية في ٩ سبتمبر ١٨٨١م

٢- قام بنفسه مع كبار القوات المسلحة بالتخطيط الجيد للحرب في أكتوبر

١٩٧٣م

**السؤال الثاني :** ( أ ) تخير الإجابة الصحيحة مما بين القوسين :

٢- غزل اللورد كرومر من منصبه كمعتمد بريطاني في مصر عقب حادثة

دنشواي عام ( ١٩٠٤ - ١٩٠٦ - ١٩٠٨ - ١٩٤٠ ) م

٣- أسس مصطفى كامل جريدة ( ١٩٠٠م ) ( اللواء - المؤيد - الأهرام - )

٤- في ٨ مارس ١٩١٩م نفى سعد زغلول وثلاثة من أعضاء الوفد المصري

إلى جزيرة ( سيشل - مالطة - شدون - مجاويش )

٥- من نتائج ثورة ٢٣ يوليو ١٩٥٢م إقامة وحدة مع دولة

( سوريا - ليبيا - الأردن - فلسطين )

١- بدأت ثورة ٢٥ يناير ٢٠١١م من ميدان ( سوريا - ليبيا - الأردن - فلسطين )

بوسط القاهرة

( ب ) أكتب مبادئ ثورة ١٩٥٢م واهم انجازاتها ؟

## أولاً: الجغرافيا

**السؤال الأول :** أعمل الفراغ في العبارات الآتية بكلمات مناسبة :

(١) ينتشر النشاط الرعوي في شمال الصحراء

(٢) من أهم المحميات الطبيعية في مصر محمية رأس جنوب سيناء

**السؤال الثاني :** تدبر الإجابة السبعة مما بين القوسين فيما يلي :

(١) تقع جنوب الصحراء الغربية دولة ( السودان - ليبيا - السعودية )

(٢) رياح جافة محملة بالأتربة تهب في فصل الربيع ( الربيعين - الخماسين - الشمال )

(٣) من المحاصيل الزراعية في البيئة الصحراوية ( القطن - القمح - الأرز )

**السؤال الثالث:** صح علامة ( ✓ ) أساء العبارة السبعة وعلامة ( × ) أساء العبارة العطا:

(١) من القبائل التي تقوم على حرفة الرعي قبيلة أولاد على ( )

(٢) من الصناعات الحرفية في البيئة الصحراوية صناعة الفخار ( )

(٣) تعرضت قوات عرابي للهزيمة في التل الكبير ( )

**السؤال الرابع أ :** أاملك خريطة سماء لعمر وضع ما تخبر إليه الأرفاء :

(١) جبل

(٢) الصحراء

(٣) منخفض

(٤) البحر

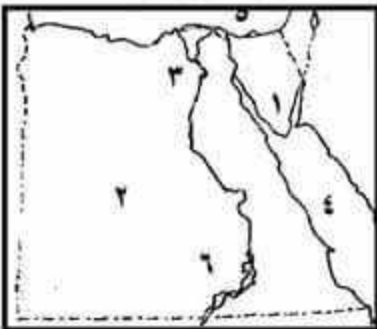
(٥) بحيرة

(٦) بحيرة

ب. بم تفسر :

(١) وجود بعض السكان في البيئة الصحراوية

مع أطيب المنى وأرق تحياتي



## ثانياً: التاريخ

### السؤال الأول اختر الإجابة الصحيحة مما بين القوسين :

- تم نفي سعد زغلول ثاني مرة إلى جزيرة ..... ( مالطة - سيشل - قبرص )  
 ١- أعطى الخديوي ..... حق امتياز القناة لدليسبس ( سعيد - عباس - توفيق )  
 ٢- هُزم احمد عرابي في موقعة ..... ( إمبابة - الريدانية - النيل الكبير )  
 ٣- أسس مصطفى كامل الحزب الوطني عام ..... ( ١٩٠٧ - ١٩١١ - ١٩١٥ )

### السؤال الثاني اكتب ما تدبر اليه العبارات التالية :-

- ١) تغيير أساسي في الأوضاع السياسية والاجتماعية يقوم به الشعب | .....  
 ٢) اتفاق بين فرنسا وانجلترا عام ١٩٠٤ م | .....  
 ٣) خروج القوات المحتلة من الأرض التي احتلتها نهائيا | .....  
 ٤) إشراف الدولة على مصادر الاقتصاد المصري | .....

### السؤال الثالث (أ) ، حل من العمود (١) ما يناسبه من العمود (٢) :-

(١)	٢ الرقم الصحيح
١- أسس جريدة اللواء عام ١٩٠٠	محمد فريد
٣ - تولى الحكم عام ١٨٦٣ ولجأ إلى الاستدانة	احمد عرابي
٤- أنشأ نقابات للعمال ومدارس ليلية لتعليم العمال والفقراء	الخديوي إسماعيل
٥- من أقواله (لقد خلقنا الله أحرارا والله ؟، ولم يخلقنا تراناً أو عقار، فو الله الذي إلا اله إلا هو لن نورث ولن نستعبد)	مصطفى كامل

### ب : بم تفسر

- ١) تخلى فرنسا عن تأييد مصطفى كامل في حركته الوطنية ؟

### السؤال الرابع : (أ) بم تفسر - ( ب ) حلل - ( ج ) اذكر المبرر :

- ١- إرسال بريطانيا وفرنسا المذكرتين الأولى والثانية لمصر .



**امتحان الصف السادس الابتدائي**  
آخر العام الفصل الدراسي الثاني

إدارة سوهاج التعليمية

الزمن: ساعة ونصف

المادة: الدراسات

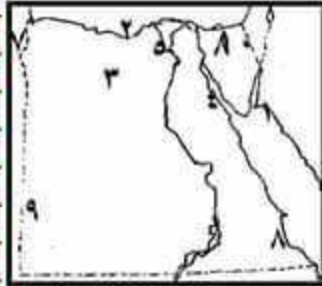
مدرسة

الصف: ٦/

مراجعة ليلة الامتحان رقم: ٩

اسم التلميذ

- ٢- قيام الثورة العربية أولاً: الجغرافياً  
٣- التفاف الجيش والشعب حول أحمد عرابي.



**السؤال الأول** إمامك خريطة صماء لمصر

وضح عليها الآتي

- ١) البحر  
٢) البحر  
٣) الصحراء  
٤) الصحراء  
٥) مقر الحكومة المركزية  
٦) دولة  
٧) دولة  
٨) شبة جزيرة  
٩) جبل  
١٠) جبل

(ب) قارن بين الصحراء الشرقية والغربية من حيث الجبال والهضاب الموجودة بكلا منهما

**السؤال الثاني (أ) أكمل العبارات الآتية بكلمة مناسبة**

- ١) تبلغ مساحة البيئة الصحراوية من مساحة مصر بينما تبلغ مساحة الصحراء الشرقية والغربية وشبة جزيرة سيناء

٢) يحد الصحراء الغربية من جهة الشرق ويحد الصحراء الغربية من جهة الغرب

٣) تقع شبة جزيرة سيناء بين خليجي و

(ب) بم نفسر

١) عدم خصوبة معظم الأراضي في البيئة الصحراوية على الرغم من خصوبة ارض الواحات

٢) تواجد سكان في البيئة الصحراوية على الرغم من قسوة المناخ والظروف المعيشية

**السؤال الثالث اذكر المصطلح العلمي**

- ١) يوجد في الصحراء الغربية على الحدود المصرية السودانية الليبية.  
٢) أعلى جبال مصر ويوجد في شبة جزيرة سيناء.

مستر / هشام عبد الله

٩

مع أطيب المنى وارق تحياتي

### ثانياً: التاريخ

٣) رياح جافة محملة بالأتربة تهب في شهري مارس و أبريل.

٤) هما السبب الرئيسي في وجود السكان في البيئة الصحراوية

**السؤال الأول:** ضع علامة (✓) أمام العبارات الصحيحة وعلامة (×) أمام العبارات الخاطئة.

١) يعد المد العالي من أهم مشروعات الري التي أنجزتها ثورة ١٩٥٢م ( )

٢) دعا محمد فريد إلى إنشاء مدارس ليلية لتعليم العمال والفقراء مجاناً ( )

٣) رفضت سلطات الاحتلال البريطاني سفر الوفد لحضور مؤتمر الصلح في باريس ( )

٤) ساهم بنك مصر برئاسة طلعت حرب في تمويل الصناعات والشركات المصرية ( )

٥) حُرِمَ الفلاحون المصريون بعد ثورة ٢٣ يوليو ١٩٥٢م من امتلاك الأراضي الزراعية ( )

**السؤال الثاني:** (١) أختبئ المغموم الحال على كل ما يأتي -

١) مجموعة من المبادئ والقواعد التي تحدد نظام الحكم

٢) خروج القوات المحتلة من أراضي الدول التي احتلتها

(بم) ايصم الأعمال الآتية إلى الفحوصة التي قامت بها

١) قاد مظاهرة عابدين السلمية في ٩ سبتمبر ١٨٨١م

٢) قام مع القوات المسلحة بالتخطيط للحرب في أكتوبر ١٩٧٣م

**السؤال الثالث:** (١) تدبر الإجابة الصحيحة مما بين القوسين .

٢- غزل اللورد كرومر من منصبه كمعتمد بريطاني في مصر عقب حادثة

دنشواي عام ( ١٩٠٤ - ١٩٠٦ - ١٩٠٨ - ١٩٤٠ ) م

٣- أسس مصطفى كامل جريدة ١٩٠٠م ( اللواء - المؤيد - الوقائع المصرية )

٤- في ٨ مارس ١٩١٩م نفى سعد زغول وثلاثة من أعضاء الوفد المصري

إلى جزيرة ( سيشل - مالطة - شدوان - مجاويش )

٥- من نتائج ثورة ٢٣ يوليو ١٩٥٢م إقامة وحدة مع دولة ١٩٥٨م



## ثانياً: التاريخ

(٣) اكبر الجزر عند مدخل قناة السويس ( تيران - صنافير - شدوان - جوبال )

(٤) تنتشر على طول الساحل الشمالي لسيناء زراعة أشجار ( الموز - الأناناس - الزيتون )

(٥) تمتد البيئة الساحلية المصرية على البحر الأحمر من طابا شمالاً إلى جنوباً

( السويس - الغردقة - حلايب - سفاجة )

## السؤال الأول اعمل العبارات الآتية

ولد أحمد عرابي بمحافظة

(١) تم نفي سعد زغلول في المرة الأولى إلى ..... والمرة الثانية إلى

جزيرة

(٢) تم تأسيس بنك مصر في عام ..... ولد أحمد عرابي بمحافظة

(٣) أدى كفاح مصطفى كامل إلى عزل ..... في حادثة دنشواي

(٤) عام ..... تم وضع أول دستور وتشكلت الحكومة بزعامة

## السؤال الثاني اكتب ما تحب إليه العبارات

١. معاهدة فرضتها الدول الاستعمارية على مصر عام ١٨٤٠م |

٢. كان زعيماً للثورة العربية عام ١٨٨١م |

٣. مهندس فرنسي اشرف على حفر قناة السويس |

٤. لجأ إلى الاستدانة من الدول الأوروبية وكان سبباً في الأزمة المالية |

## السؤال الثالث: اختر الإجابة الصحيحة مما بين القومين.

(٤) أنشأ محمد ترسانة بناء السفن في .. (دمياط - الإسكندرية - القاهرة)

(٥) كانت معاهدة لندن عام ..... ( ١٨٤٠ - ١٨٤١ - ١٨٤٢ )

(٣) بدأ تجنيد أولاد العمدة والمشايخ في عهد.....

( سعيد باشا - الخديوي إسماعيل - إبراهيم باشا )

(٥) ما النتائج المترتبة على ؟ :

١- تصريح ٢٨ فبراير عام ١٩٢٢م :

(٦) من يكون ؟ :

أدى كفاحه إلى عزل المعتمد البريطاني من منصبه عام ١٩٠٧م ؟

## السؤال الرابع: ضع علامة ( ✓ ) أمام العبارات الصحيحة وعلامة ( x ) أمام العبارات الخاطئة.

(١) كانت الشرارة الأولى التي أحدثت الثورة الإفراج عن سعد زغلول ( )

(٣) طالب أحمد عرابي بزيادة عدد الجيش المصري ( )