

# Maths

Grade 1

Second term 2020

Mr. Aymman Gaber

01022744086



سعر المذكرة بدون اسم أو علامة مائية فقط 50 جنيهاً  
ترسل على فودافون كاش على الرقم 01091540940

أ / أيمن جابر كامل سلسلة التفوق في الرياضيات 01091540940


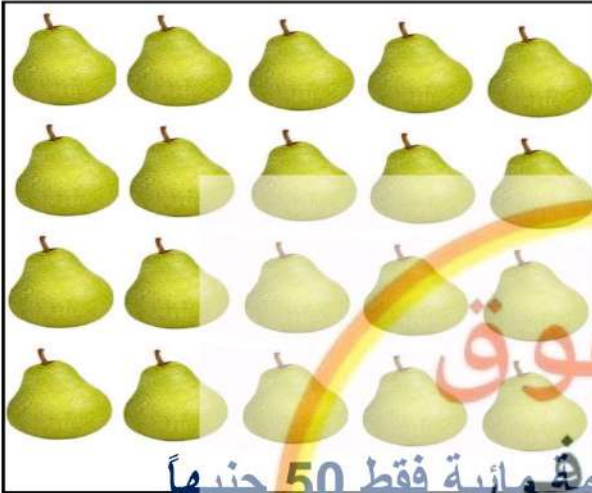
# Grade 1 Maths Second term 2020

( 61 - 65 )

Counting using units and tens 1 - 100




Count and compare using ( > , = , < )



سعر المذكرة بدون اسم أو علامة مائية فقط 50 جنيهاً

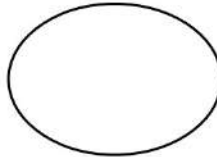


ترسل على فودافون كاش على الرقم 01091540940

تصاك المذكرة على الواتس أو الماسنجر مباشرة بعد التحويل



أ / أيمن جابر كامل

يوجد مذكرة ماث للصف الأول الابتدائي والصف الثاني المنهج الجديد 2020



أو علامة مائية 50 جنيهاً

2

سعر المذكرة بدون اسم

يوجد مذكرة ماث للصف الأول الابتدائي والصف الثاني المنهج الجديد 2020

أ / أيمن جابر كامل سلسلة التفوق في الرياضيات 01091540940



Compare using ( > , = , < )

أ / أيمن جابر كامل ..... 01091540940

11	<input type="text"/>	21	14	>	11
14	<input type="text"/>	56	7	<input type="text"/>	7
21	<input type="text"/>	55	26	<input type="text"/>	13
11	<input type="text"/>	11	11	<input type="text"/>	36
56	<input type="text"/>	29	65	<input type="text"/>	46
14	<input type="text"/>	14	24	<input type="text"/>	14



Complete the missing digit

<input type="text"/>	>	24	=	<input type="text"/>
14	<	<input type="text"/>	>	24
<input type="text"/>	=	55	<	<input type="text"/>
11	>	<input type="text"/>	>	36
<input type="text"/>	<	29	<	<input type="text"/>

أو علامة مائة 50 جنيهاً

سعر المذكرة بدون اسم

أ / أيمن جابر كامل سلسلة التفوق في الرياضيات 01091540940



Complete the missing digits in the table

أ / أيمن جابر كامل ..... 01091540940

9	8	7	6		4	3		1	0
19	18	17		15			12		10
		27		25		23	22	21	20
									30
									40
									50
									60
									70
									80
99	98	97							90

70 60 50  
80 40  
90 30  
100 10 20



7 6 5 4  
8  
9 10 1 2



أو علامة مائبة 50 جديها

سعر المذكرة بدون اسم

أ / أيمن جابر كامل سلسلة التفوق في الرياضيات 01091540940

## ( 61 - 65 ) Talls Comparing



**Circle the tallest thing:**

أ / أيمن جابر كامل ..... 01091540940



سلسلة التفوق في الرياضيات

أ / أيمن جابر كامل ..... 01091540940



**Put talls in order from the shortest to the tallest:**

٠١٠٢٢٧٤٤٠٨٦



سعر المذكرة بدون اسم أو علامة مائية فقط 50 جنيهاً

ترسل على فودافون كاش على الرقم 01091540940

تصلك المذكرة على الواتس أو الماسنجر مباشرة بعد التحويل

أو علامة مائية 50 جنيهاً

سعر المذكرة بدون اسم

أ / أيمن جابر كامل سلسلة التفوق فى الرياضيات 01091540940

أ / أيمن جابر كامل ..... 01091540940

سعر المذكرة بدون اسم أو علامة مائية فقط 50 جنيهاً

ترسل على فودافون كاش على الرقم 01091540940

تصلك المذكرة على الواتس أو الماسنجر مباشرة بعد التحويل

التفوق

سلسلة التفوق فى الرياضيات

أ / أيمن جابر كامل ..... 01091540940

Ayman

Mohamed

Look and answer:

أ / أيمن جابر كامل

Ahmed

Omar



Ahmed is taller than .....

Ayman is taller than.....

Mohamed is shorter than.....

Ordering the tall from the shortest to the tallest

.....

أو علامة مائية 50 جنيهاً

سعر المذكرة بدون اسم

أ / أيمن جابر كامل سلسلة التفوق فى الرياضيات 01091540940



**Look and complete:**

Camel



Cat



Dog



Bee



أ / أيمن جابر كامل ..... 01091540940

The tallest Animal is .....

Cat is taller than .....

The dog is taller than..... and shorter than.....

The camel is taller than.....

Ordering from tall to short :

Bus



Car



Bike



Car is shorter than.....

Bike is shorter than .....

Bus is taller than.....

Ordering from tall to short .....

أو علامة مائة 50 جنيهاً



سعر المذكرة بدون اسم

01091540940

أ / أيمن جابر كامل

( 61 - 65 )


# Tall measurement



Use the unit



to measure the tall:



سلسلة التفوق في الرياضيات

أ / أيمن جابر كامل ..... 01091540940



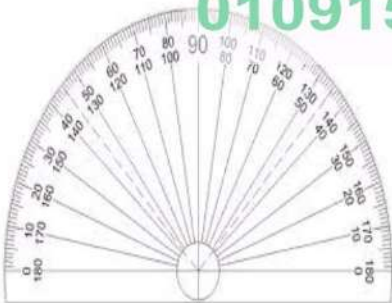
You can use many different measurements to measure the tall:



أ / أيمن جابر كامل

سلسلة التفوق في الرياضيات

أ / أيمن جابر كامل ..... 01091540940



أو علامة مائة 50 جنيهاً

سعر المذكرة بدون اسم

( 61 - 65 )

## Describing things position

Top & bottom in front & behind up & down

Dog ..... Table

Table ..... Dog



Square

1- Name the shape up the line .....

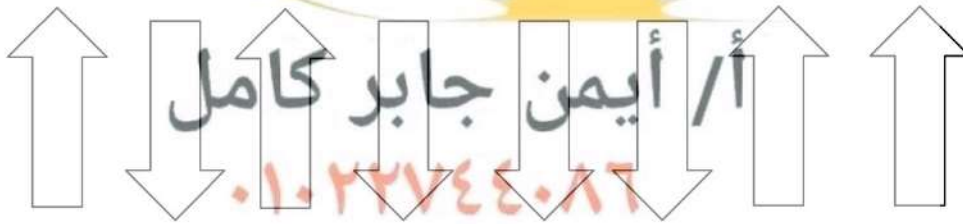
2- Name the shape under the line .....

Circle

أ / أيمن جابر كامل ..... 01091540940

1- Color the up arrow in blue

2- Color the down arrow in red



Right left

أو علامة مائة 50 جنيهاً

سعر المذكرة بدون اسم

أ / أيمن جابر كامل سلسلة التفوق فى الرياضيات 01091540940



The bus (right / left) the girl



The girl (right / left) the bus

أ / أيمن جابر كامل ..... 01091540940




The tree (right / left) the boy



The tree (right / left) the boy

سعر المذكرة بدون اسم أو علامة مائة فقط 50 جنيهاً  
ترسل على فودافون كاش على الرقم 01091540940

تصلك المذكرة على الواتس أو الماسنجر مباشرة بعد التحويل



The cat (in front / behind) the chair



The cat (in front / behind) the chair

سلسلة التفوق فى الرياضيات



The ball (up / down) the chair



The ball (up / down) the chair

أ / أيمن جابر كامل ..... 01091540940

أو علامة مائة 50 جنيهاً

سعر المذكرة بدون اسم

أ / أيمن جابر كامل سلسلة التفوق في الرياضيات 01091540940



أ / أيمن جابر كامل ..... 01091540940

The girl (right / left) the boy

The girl (in front / behind) the boy



التفوق

في

الرياضيات



We live (in / out ) the house.

We sleep (up / down) the bed



أ / أيمن جابر كامل

٠١٠٢٢٧٤٤٠٨٦



The fox (in / out) the box

We put the book (in / out) the bag

سعر المذكرة بدون اسم أو علامة مائية فقط 50 جنيهاً

ترسل على فودافون كاش على الرقم 01091540940

تصلك المذكرة على الواتس أو الماسنجر مباشرة بعد التحويل

أو علامة مائية 50 جنيهاً

11

سعر المذكرة بدون اسم




The rug is (up / down)



The plane is (up / down)

أ / أيمن جابر كامل ..... 01091540940



We put the book (up / down) the desk



The plane is flying (up / down)

سلسلة التفوق في الرياضيات



أ / أيمن جابر كامل ..... 01091540940



We put the seeds (in / out) the soil

We put the hat (up / down) head

سلسلة التفوق في الرياضيات

أ / أيمن جابر كامل ..... 01091540940

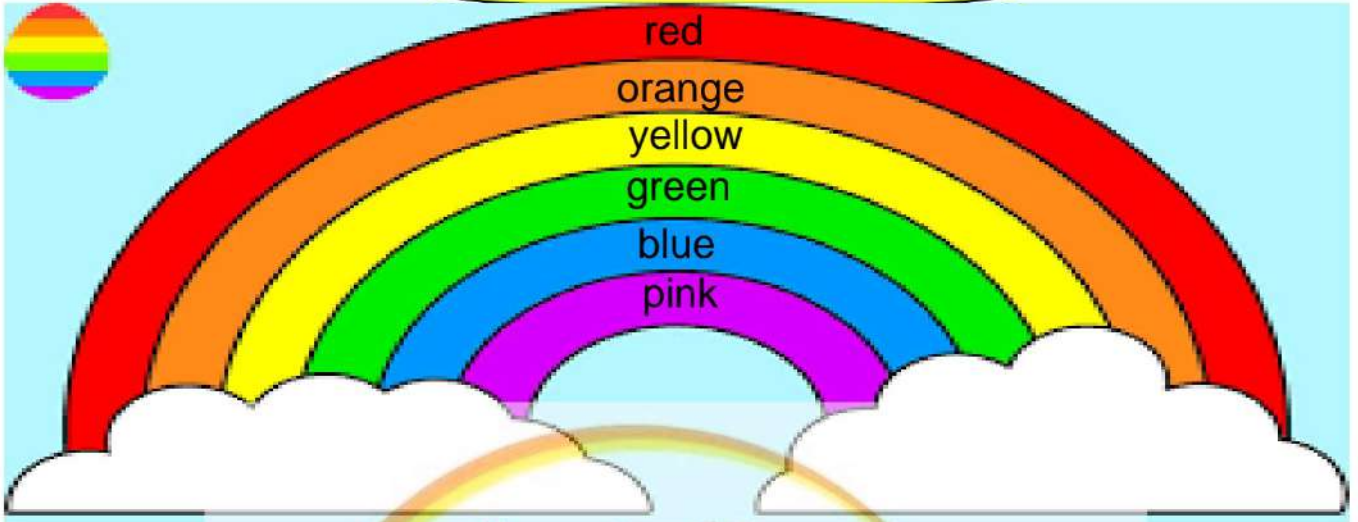


We put the food (in / out) the pot



Hippo lives (in / out) water

## Ordering digit



Complete:

التفوق

Yellow is number.....

Pink is number.....

Blue is number.....

the colour number 6 is called.....

the second colour is .....

Green is number .....



Blue is number.....

Red is number .....

Colour number 4 is .....

Green is number .....

أ / أيمن جابر كامل سلسلة التفوق فى الرياضيات 01091540940



Colour:



colour boy number 1 using red

colour boy number 5 using blue

colour boy number 2 using green

colour boy number 4 using yellow

أ / أيمن جابر كامل ..... 01091540940



Write the number of the odd shape:

5



أ / أيمن جابر كامل



أو علامة مائة 50 جنيهاً

سعر المذكرة بدون اسم

أ / أيمن جابر كامل سلسلة التفوق في الرياضيات 01091540940



**Match:**



2

1

5

4

3

أ / أيمن جابر كامل ..... 01091540940



Omar



Ahmed



Ali



Mohamed

Omar is number .....

He is number 4 .....

Ahmed is number .....

He is number 3 .....



أ / أيمن جابر كامل Complete the table.

First	second	third	fourth	fifth	sixth	seventh	eighth	ninth
.....	.....	.....	.....	.....	.....	.....	.....	.....
.....	.....	.....	.....	.....	.....	.....	.....	.....
.....	.....	.....	.....	.....	.....	.....	.....	.....

أو علامة مائة 50 جنيهاً

15

سعر المذكرة بدون اسم

## Preceding & next digits



Write the preceding & next digits:

Three groups of three circles each. The first group has empty circles. The second group has a circle with 64 in the middle. The third group has circles with 45, 46, and 44.

أ / أيمن جابر كامل ..... 01091540940

Three groups of three circles each. The first group has a circle with 93 in the middle. The second group has a circle with 35 in the middle. The third group has a circle with 84 in the middle.

أ / أيمن جابر كامل ..... 01091540940

Three groups of three circles each. The first group has a circle with 70 in the middle. The second group has a circle with 24 in the middle. The third group has a circle with 52 in the middle.



Write the next digits:

أ / أيمن جابر كامل


Six bees, each with a number in a circle next to it and an empty circle for the next digit. The numbers are 32, 90, 47, 13, 5, and 21.

أ / أيمن جابر كامل سلسلة التفوق في الرياضيات 01091540940



Write the next digits:

أ / أيمن جابر كامل ..... 01091540940



سعر المذكرة بدون اسم أو علامة مائية فقط 50 جنيهاً

ترسل على فودافون كاش على الرقم 01091540940

تصلك المذكرة على الواتس أو الماسنجر مباشرة بعد التحويل



أ / أيمن جابر كامل



٠١٠٢٢٧٤٤٠٨٦



سعر المذكرة بدون اسم أو علامة مائية فقط 50 جنيهاً

ترسل على فودافون كاش على الرقم 01091540940

تصلك المذكرة على الواتس أو الماسنجر مباشرة بعد التحويل

أو علامة مائية 50 جنيهاً

سعر المذكرة بدون اسم

01091540940

أ / أيمن جابر كامل سلسلة التفوق في الرياضيات



01091540940

أ / أيمن جابر كامل

1 pound

5 pounds

10 pounds



سلسلة التفوق في الرياضيات

أ / أيمن جابر كامل ..... 01091540940



أ / أيمن جابر كامل سلسلة التفوق في الرياضيات

أ / أيمن جابر كامل ..... 01091540940



أو علامة مائة 50 جنيهاً

18

سعر المذكرة بدون اسم

أ / أيمن جابر كامل سلسلة التفوق فى الرياضيات 01091540940



Look and answer:

Fatma  
has ..... pounds



Ahmed  
has ..... pounds



أ / أيمن جابر كامل ..... التفوق فى الرياضيات 01091540940



Total = .....



Total = .....



Total = .....  
أو علامة مائة 50 جنيهاً

أ / أيمن جابر كامل سلسلة التفوق في الرياضيات 01091540940



**Look and answer:**

أ / أيمن جابر كامل ..... 01091540940



**34 pounds**



**45 pounds**

How many tens are there in the car price ?

.....

How many fives are there in the doll price?

.....



**Match:**



أ / أيمن جابر كامل

سلسلة التفوق في الرياضيات



أ / أيمن جابر كامل ..... 01091540940



أو علامة مائة 50 جنيهاً

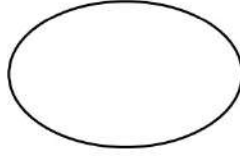
سعر المذكرة بدون اسم

01091540940

أ / أيمن جابر كامل



Compare using ( < = , > );



سعر المذكرة بدون اسم أو علامة مائة فقط 50 جنيهاً



التفوق

في

الرياضيات



ترسل على فودافون كاش على الرقم 01091540940

تصلك المذكرة على الواتس أو الماسنجر مباشرة بعد التحويل



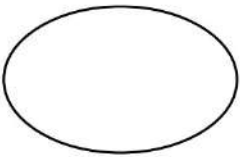
أ / أيمن جابر كامل

٠١٠٢٢٧٤٤٠٨٦



سلسلة التفوق في الرياضيات

أ / أيمن جابر كامل ..... 01091540940



أو علامة مائة 50 جنيهاً

سعر المذكرة بدون اسم

01091540940



Circle the money you need to buy:

أ / أيمن جابر كامل



سعر المذكرة بدون اسم أو علامة مائة فقط 50 جنيهاً  
ترسل على فودافون كاش على الرقم 01091540940

تصلك المذكرة على الواتس أو الماسنجر مباشرة بعد التحويل



سعر المذكرة بدون اسم أو علامة مائة فقط 50 جنيهاً  
ترسل على فودافون كاش على الرقم 01091540940

تصلك المذكرة على الواتس أو الماسنجر مباشرة بعد التحويل



سعر المذكرة بدون اسم أو علامة مائة فقط 50 جنيهاً

ترسل على فودافون كاش على الرقم 01091540940

تصلك المذكرة على الواتس أو الماسنجر مباشرة بعد التحويل



أو علامة مائة 50 جنيهاً

<22>

سعر المذكرة بدون اسم

أ / أيمن جابر كامل سلسلة التفوق في الرياضيات 01091540940



Put ✓ if the money is enough  
and ✗ if it is not:

أ / أيمن جابر كامل ..... 01091540940



33



52



أ / أيمن جابر كامل ..... 01091540940



52



24



أ / أيمن جابر كامل

سلسلة التفوق في الرياضيات



71



35




أو علامة مائة 50 جنيهاً

23

سعر المذكرة بدون اسم

# Units & Tens



Tens Units



Tens Units



Tens Units



Tens Units



# Look and answer:



Tens Units

....Pounds

Tens Units

....Pounds

سعر المذكرة بدون اسم أو علامة مائية فقط 50 جنيهاً  
ترسل على فودافون كاش على الرقم 01091540940  
تصلك المذكرة على الواتس أو الماسنجر مباشرة بعد التحويل



Tens Units

....Pounds



Tens Units

....Pounds

## Units & Tens

$$5 \text{ teens} + 3 \text{ units} = 53$$

أ / أيمن جابر كامل ..... 01091540940



**Complete:**

$$5 \text{ teens} + 6 \text{ units} = \dots\dots$$

$$8 \text{ teens} + 7 \text{ units} = \dots\dots$$

$$9 \text{ teens} + 2 \text{ units} = \dots\dots$$

$$7 \text{ teens} + 3 \text{ units} = \dots\dots$$



**Complete:**

أ / أيمن جابر كامل

$$5 \text{ teens} + \dots \text{ units} = 53$$

$$5 \text{ teens} + \dots \text{ units} = 55$$

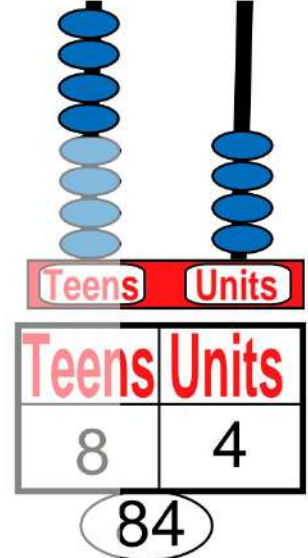
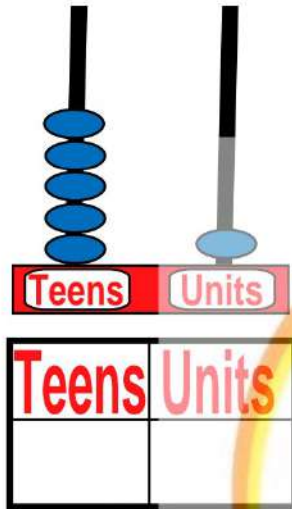
$$\dots \text{ teens} + 5 \text{ units} = 35$$

$$\dots \text{ teens} + \dots \text{ units} = 56$$

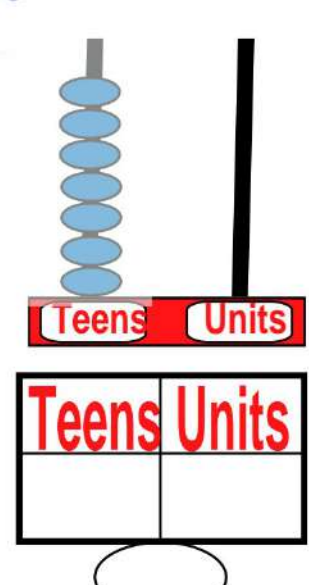



# Complete:

أ / أيمن جابر كامل ..... 01091540940



سعر المذكرة بدون اسم أو علامة مائية فقط 50 جنيهاً  
ترسل على فودافون كاش على الرقم 01091540940  
تصلك المذكرة على الواتس أو الماسنجر مباشرة بعد التحويل



سعر المذكرة بدون اسم أو علامة مائية فقط 50 جنيهاً  
ترسل على فودافون كاش على الرقم 01091540940  
تصلك المذكرة على الواتس أو الماسنجر مباشرة بعد التحويل  
سعر المذكرة بدون اسم أو علامة مائية 50 جنيهاً



# Match:



2 Teens 3 Units



أ / أيمن جابر كامل ..... 01091540940



7 Teens 1 Units



سلسلة التفوق في الرياضيات



9 Teens 4 Units



أ / أيمن جابر كامل ..... 01091540940

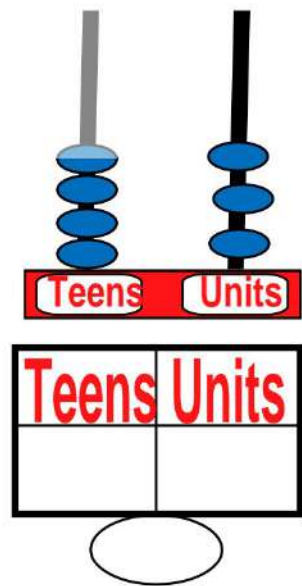
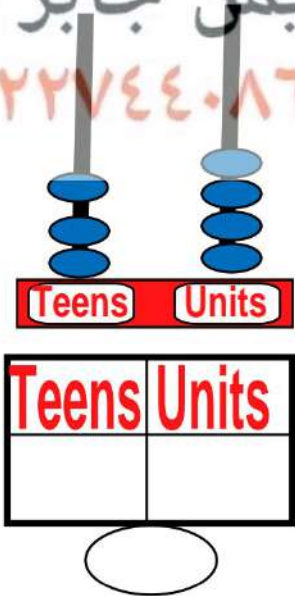



5 Teens



أ / أيمن جابر كامل

٠١٠٢٢٧٤٤٠٨٦



أو علامة مائة 50 جنيهاً

سعر المذكرة بدون اسم



**Complete:**



أ / أيمن جابر كامل ..... 01091540940

3 is a unit

7 is .....

9 is a .....

6 is .....

التفوق

في

الرياضيات سلسلة التفوق في الرياضيات



**Complete:**

أ / أيمن جابر كامل ..... 01091540940

Number	Place value	Number value
34	٠١٠٢٢٧٤٤٠٨٦	.....
98	.....	.....
76	.....	.....
45	.....	.....
78	.....	.....



# Complete:

Teens 9 Units

96

01091540940 ..... أ / أيمن جابر كامل

Teens 37 Units

37

أ / أيمن جابر كامل

Teens 53 Units

53

أ / أيمن جابر كامل

Teens 63 Units

63

أ / أيمن جابر كامل

Teens 35 Units

35

أ / أيمن جابر كامل

Teens 67 Units

67

أ / أيمن جابر كامل

Teens 48 Units

48

أ / أيمن جابر كامل

Teens 68 Units

68

أ / أيمن جابر كامل

أو علامة مائة 50 جنيهاً

سعر المذكرة بدون اسم



**Choose:**

8 Teens  
1 Units




(81) (89) (80)

3 Teens  
1 Units



(34) (31) (30)

2 Teens  
6 Units



(27) (28) (26)

أ / أيمن جابر كامل ..... 01091540940

6 Teens  
7 Units



(64) (69) (67)

5 Teens  
6 Units



(57) (56) (54)

3 Teens  
0 Units



(32) (31) (30)



**Circle the underlined digit place value:**



Teens \* Units



Teens \* Units



Teens \* Units



Teens \* Units



Teens \* Units



Teens \* Units

أ / أيمن جابر كامل سلسلة التفوق فى الرياضيات 01091540940



Colour the underlined digit value:

أ / أيمن جابر كامل ..... 01091540940



سعر المذكرة بدون اسم أو علامة مائية فقط 50 جنيهاً

ترسل على فودافون كاش على الرقم 01091540940

تصلك المذكرة على الواتس أو الماسنجر مباشرة بعد التحويل



سعر المذكرة بدون اسم أو علامة مائية فقط 50 جنيهاً

ترسل على فودافون كاش على الرقم 01091540940

تصلك المذكرة على الواتس أو الماسنجر مباشرة بعد التحويل



سعر المذكرة بدون اسم أو علامة مائية فقط 50 جنيهاً

ترسل على فودافون كاش على الرقم 01091540940

تصلك المذكرة على الواتس أو الماسنجر مباشرة بعد التحويل



سعر المذكرة بدون اسم أو علامة مائية فقط 50 جنيهاً

ترسل على فودافون كاش على الرقم 01091540940

تصلك المذكرة على الواتس أو الماسنجر مباشرة بعد التحويل


أو علامة مائية 50 جنيهاً

32

سعر المذكرة بدون اسم

## Comparing using ( > , = , < )

 Compare using ( > , = , < )



سعر المذكرة بدون اسم أو علامة مائية فقط 50 جنيهاً  
ترسل على فودافون كاش على الرقم 01091540940



سلسلة التفوق في الرياضيات



أ / أيمن جابر كامل 01091540940



$$20 + 30 = 80$$

$$90 - 60 = 40$$


$$20 + 40 = 80$$

$$10 + 20 = 30$$


أ / أيمن جابر كامل سلسلة التفوق فى الرياضيات 01091540940



Look and answer: 01091540940 ..... أ / أيمن جابر كامل



سعر المذكرة بدون اسم أو علامة مائية فقط 50 جنيهاً  
ترسل على فودافون كاش على الرقم 01091540940



تصلك المذكرة على الواتس أو الماسنجر مباشرة بعد التحويل



أ / أيمن جابر كامل Use ( > )



34	<input type="text"/>	34
97	<input type="text"/>	65
70	<input type="text"/>	43
61	<input type="text"/>	51
54	<input type="text"/>	28



أو علامة مائية 50 جنيهاً

<34>

سعر المذكرة بدون اسم



## Choose :

3 Units and 2 Tens ( 32 ، 43 ، 23 )

أ / أيمن جابر كامل ..... 01091540940

9 Units and 3 Tens ( 39 ، 45 ، 54 )

سلسلة التفوق فى الرياضيات

8 Units and 3 Tens ( 78 ، 28 ، 38 )

أ / أيمن جابر كامل ..... 01091540940

9 Units and 5 Tens ( 59 ، 39 ، 56 )

1 Units and 2 Tens ( 32 ، 12 ، 21 )

سلسلة التفوق فى الرياضيات

3 Units and 4 Tens ( 39 ، 45 ، 43 )

أ / أيمن جابر كامل ..... 01091540940

5 Units and 6 Tens ( 78 ، 65 ، 38 )

7 Units and 8 Tens ( 39 ، 56 ، 87 )

9 Units and 9 Tens ( 32 ، 99 ، 23 )

سلسلة التفوق فى الرياضيات

8 Units and 7 Tens ( 39 ، 45 ، 78 )

أ / أيمن جابر كامل ..... 01091540940

6 Units and 5 Tens ( 78 ، 56 ، 38 )

4 Units and 3 Tens ( 95 ، 34 ، 56 )

## Notice

أ / أيمن جابر كامل ..... 01091540940

Ascending


Descending



# التفوق




Put in ascending order :



أ / أيمن جابر كامل ..... 01091540940

سلسلة التفوق في الرياضيات



أ / أيمن جابر كامل ..... 01091540940

01091540940



Put in descending order :

أ / أيمن جابر كامل



سلسلة التفوق في الرياضيات

01091540940 ..... أ / أيمن جابر كامل



التفوق في الرياضيات

01091540940 ..... أ / أيمن جابر كامل



أ / أيمن جابر كامل

٠١٠٢٢٧٤٤٠٨٦

سلسلة التفوق في الرياضيات



01091540940 ..... أ / أيمن جابر كامل

أو علامة مائة 50 جنيهاً

سعر المذكرة بدون اسم

## 10 doubling minus



**Complete the table :**

90	80	70	60	50	40	30	20	10
.....	.....	.....	.....	.....	.....	.....	.....	.....
.....	01091540940	.....	.....	.....	.....	أ / أيمن جابر كامل	.....	.....



**Look and answer using minus :**

$$90 - 40 = \text{..... في}$$

$$40 - 10 = \text{.....}$$

$$30 - 10 = \text{.....}$$

$$70 - 10 = \text{.....}$$

$$20 - 20 = \text{.....}$$

$$20 - 10 = \text{.....}$$

$$80 - 20 = \text{.....}$$

$$70 - 40 = \text{.....}$$

$$80 - 30 = \text{.....}$$

$$50 - 10 = \text{.....}$$

$$90 - 30 = \text{.....}$$

$$60 - 40 = \text{.....}$$



**Look and answer using minus :**



أ / أيمن جابر كامل ..... 01091540940

التفوق  
في  
الرياضيات  
سلسلة التفوق في الرياضيات



Hamza had 20 apples. He gave his brother 10 apples.

How many apples Hamza has now?

Hamza has = ..... - ..... = ..... apples

أ / أيمن جابر كامل ..... 01091540940



Adam had 90 pounds. He bought shoes

50 pounds. How many pounds he has now?

Adam has = ..... - ..... = ..... Pounds.

أ / أيمن جابر كامل ..... 01091540940

01091540940

أ / أيمن جابر كامل سلسلة التفوق فى الرياضيات



Huda bought a 50 pages book.

she red 20 pages.

How many pages she did not read?

.....-.....=.....Pages.

سلسلة التفوق فى الرياضيات

أ / أيمن جابر كامل ..... 01091540940



Complete

التفوق

فى

الرياضيات

15 , 25 , .....

11 , 21 .....

9 , 19 .....

1 , 11 .....

أ / أيمن جابر كامل

٠١٠٢٢٧٤٤٠٨٦

2 , 22 .....

5 , 25 .....

21 , 31 .....

8 , 18 .....

أو علامة مائة 50 جنيهاً

40

سعر المذكرة بدون اسم



**Complete :**

أ / أيمن جابر كامل ..... 01091540940



Teens	Units
8	0
4	0
-	



Teens	Units
7	0
5	0
-	



Teens	Units
9	0
8	0
-	
1	0



Teens	Units
9	0
6	0
-	



Teens	Units
6	0
2	0
-	



Teens	Units
7	0
5	0
-	

أ / أيمن جابر كامل



**Count and answer:**

10 22 74 40 86

						= .....
						= .....
						= .....

أو علامة مائة 50 جنبها

سعر المذكرة بدون اسم

أ / أيمن جابر كامل سلسلة التفوق في الرياضيات 01091540940



**Look and answer:**

$$\begin{array}{r} 90 \\ - 50 \\ \hline \end{array}$$

.....

$$\begin{array}{r} 70 \\ - 30 \\ \hline \end{array}$$

.....

$$\begin{array}{r} 60 \\ - 20 \\ \hline \end{array}$$

.....

$$\begin{array}{r} 40 \\ - 40 \\ \hline \end{array}$$

.....

أ / أيمن جابر كامل ..... 01091540940

$$\begin{array}{r} 30 \\ - 10 \\ \hline \end{array}$$

.....

$$\begin{array}{r} 70 \\ - 40 \\ \hline \end{array}$$

.....

$$\begin{array}{r} 90 \\ - 70 \\ \hline \end{array}$$

.....

$$\begin{array}{r} 50 \\ - 40 \\ \hline \end{array}$$

.....

التفوق  
في  
الرياضيات  
سلسلة التفوق في الرياضيات



**Complete :**

أ / أيمن جابر كامل ..... 01091540940

70

80

90

أ / أيمن جابر كامل

30

20

10

١٠٢٢٧٤٤٠٨٦

60

50

40

39

29

19

35

25

15

76

86

96

أو علامة مائبة 50 جنيهاً



# Answer using addition :

أ / أيمن جابر كامل ..... 01091540940



5

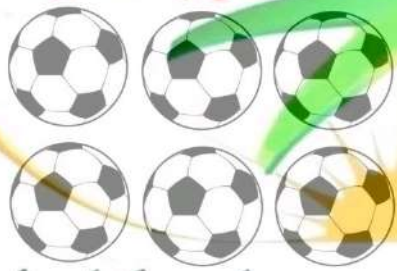


7



12


الرياضيات



أ / أيمن جابر كامل



٠١٠٢٢٧٤٤٠٨٦





**Answer;**

أ / أيمن جابر كامل ..... 01091540940

$$8 + 8 = \dots\dots$$

$$6 + \dots = 9$$

$$\dots + 5 = 7$$

$$3 + \dots = 3$$

$$\dots + 4 = 12$$

$$4 + \dots = 9$$

$$\begin{array}{r} \square \\ + 6 \\ \hline 17 \end{array}$$

$$\begin{array}{r} 15 \\ + \square \\ \hline 20 \end{array}$$

$$\begin{array}{r} 3 \\ + \square \\ \hline 10 \end{array}$$

$$\begin{array}{r} 2 \\ + \square \\ \hline 9 \end{array}$$

$$\begin{array}{r} \square \\ + 8 \\ \hline 16 \end{array}$$

$$\begin{array}{r} \square \\ + 4 \\ \hline 20 \end{array}$$

$$\begin{array}{r} 11 \\ + \square \\ \hline 17 \end{array}$$

$$\begin{array}{r} 7 \\ + \square \\ \hline 12 \end{array}$$

أ / أيمن جابر كامل

Fatma has 235 pounds. Shw bought Hijab 146

Pounds. How many pounds she has?

Fatma has = ..... pounds - ..... pounds

=..... Pounds





Look and answer;



16 - 5 = .....


في



20 - ..... = .....

أ / أيمن جابر كامل سلسلة التفوق في الرياضيات

٠١٠٢٢٧٤٤٠٨٦



18 - ..... = .....

أ / أيمن جابر كامل سلسلة التفوق في الرياضيات 01091540940

Ali has 909 pounds. He bought a bike 777 pounds.


How many pounds he has?

Ali has = ..... - ..... = .....pounds

أ / أيمن جابر كامل ..... 01091540940

Hamza bought sandwich with 30 pounds and fries 12 pounds and cola 5 pounds

how many opunds he paid?



سلسلة التفوق في الرياضيات

أ / أيمن جابر كامل ..... 01091540940

Nermin grandma gave her 135 in her birthday and her grandpa 320 pound.

How many pounds she has?



أو علامة مائة 50 جنيهاً

سعر المذكرة بدون اسم



Use minus and colour the right answers:

أ / أيمن جابر كامل ..... 01091540940

1	2	3	4	5	6	7	8	9	10
11	12	13	14	15	16	17	18	19	20
21	22	23	24	25	26	27	28	29	30
31	32	33	34	35	36	37	38	39	40
41	42	43	44	45	46	47	48	49	50
51	52	53	54	55	56	57	58	59	60
61	62	63	64	65	66	67	68	69	70
71	72	73	74	75	76	77	78	79	80
81	82	83	84	85	86	87	88	89	90
91	92	93	94	95	96	97	98	99	100

أ / أيمن جابر كامل ..... 01091540940 سلسلة التفوق فى الرياضيات

$$80 - \boxed{\phantom{00}} = 160 \quad 66 - \boxed{\phantom{00}} = 60$$

$$65 - \boxed{\phantom{00}} = 40$$

$$80 - \boxed{\phantom{00}} = 40$$

$$20 - \boxed{\phantom{00}} = 10$$

$$70 - \boxed{\phantom{00}} = 30$$

$$99 - \boxed{\phantom{00}} = 20$$

$$90 - \boxed{\phantom{00}} = 20$$

أ / أيمن جابر كامل سلسلة التفوق فى الرياضيات 01091540940

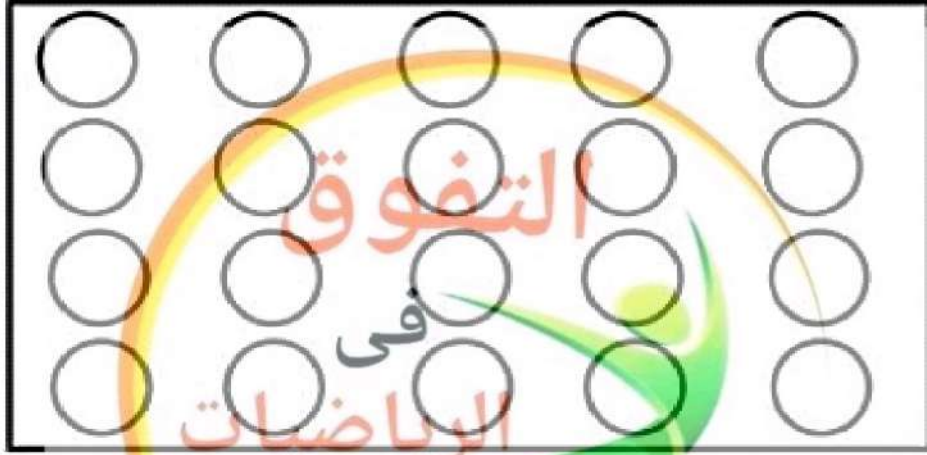
Look at the shape and colour 3 green, 4 red, and 2 yellow.

How many uncoloured circles?

.....

.....

أ / أيمن جابر كامل ..... 01091540940

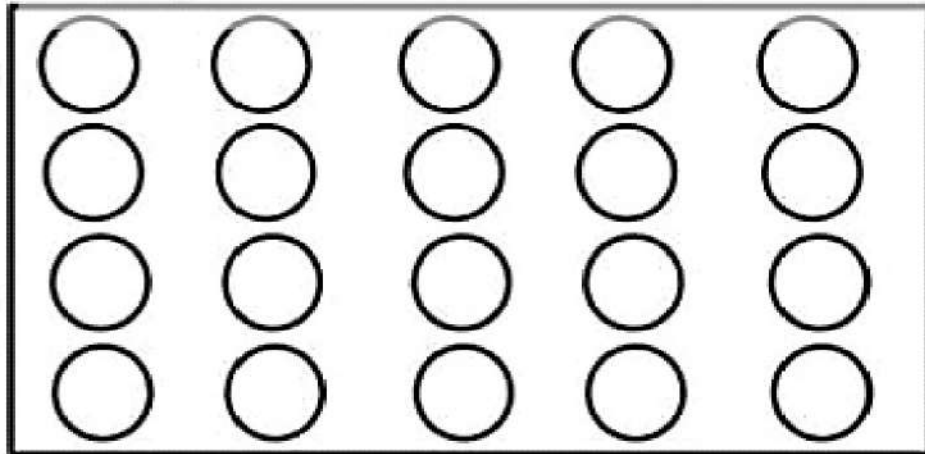


Look at the shape and colour 5 green, 8 red, and 1 yellow.

How many uncoloured circles?

أ / أيمن جابر كامل

٠١٠٢٢٧٤٤٠٨٦



أو علامة مائة 50 جنيهاً

48

سعر المذكرة بدون اسم

01091540940

أ / أيمن جابر كامل سلسلة التفوق في الرياضيات



Count using money



1 pound



5 pounds



10 pounds



20 pounds



50 pounds



100 pounds

أ / أيمن جابر كامل ..... 01091540940



أ / أيمن جابر كامل

..... pounds ١٠٢٢٧٤٤٠٨٦

..... pounds



..... pounds

سلسلة التفوق في الرياضيات

..... pounds

أ / أيمن جابر كامل ..... 01091540940

أو علامة مائة 50 جنيهاً

49

سعر المذكرة بدون اسم

أ / أيمن جابر كامل سلسلة التفوق في الرياضيات 01091540940



..... pounds

..... pounds

أ / أيمن جابر كامل ..... 01091540940



..... pounds



Match:



66 pounds

أ / أيمن جابر كامل ..... 01091540940



35 pounds



26 pounds



49 pounds

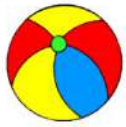


أو علامة مائة 50 جنيهاً

<50>

سعر المذكرة بدون اسم

أ / أيمن جابر كامل سلسلة التفوق فى الرياضيات 01091540940  
أ / أيمن جابر كامل ..... 01091540940



10 pounds



10 pounds



30 pounds



40 pounds



40 pounds



20 pounds



10 pounds



20 pounds



Ahmed bought car and train. Ayman bought plane and ball :

Ahmed



فى

Total

Total

Ayman



أ / أيمن جابر كامل  
سلسلة التفوق فى الرياضيات

أ / أيمن جابر كامل ..... 01091540940

Mohammed has 65 cows. He bought 34 cows.

How many cows he has?

He has = ..... + ..... = ..... Cows



أو علامة مائة 50 جنيهاً

51

سعر المذكرة بدون اسم









# Look and answer :

أ / أيمن جابر كامل ..... 01091540940

1	2	3	4	5	6	7	8	9	10
11	12	13	14	15	16	17	18	19	20
21	22	23	24	25	26	27	28	29	30
31	32	33	34	35	36	37	38	39	40
41	42	43	44	45	46	47	48	49	50
51	52	53	54	55	56	57	58	59	60
61	62	63	64	65	66	67	68	69	70
71	72	73	74	75	76	77	78	79	80
81	82	83	84	85	86	87	88	89	90
91	92	93	94	95	96	97	98	99	100

أ / أيمن جابر كامل



أو علامة مائة 50 جنيتها

<52>

سعر المذكرة بدون اسم

$$\begin{array}{r} 97 \\ - 7 \\ \hline \end{array}$$

$$\begin{array}{r} 27 \\ - 11 \\ \hline \end{array}$$

$$\begin{array}{r} 47 \\ - 19 \\ \hline \end{array}$$

$$\begin{array}{r} 20 \\ - 17 \\ \hline \end{array}$$

$$\begin{array}{r} 87 \\ - 12 \\ \hline \end{array}$$

$$\begin{array}{r} 67 \\ - 14 \\ \hline \end{array}$$

$$\begin{array}{r} 57 \\ - 16 \\ \hline \end{array}$$

$$\begin{array}{r} 77 \\ - 18 \\ \hline \end{array}$$

التفوق  
سلسلة التفوق فى الرياضيات

Logy had 100 pounds. She bought a doll 35 pounds

How many pounds she has now?

Logy has ..... - ..... = .....



أ / أيمن جابر كامل ..... 01091540940

Ahmed had 150 pounds. He gave Mona 35 pounds

How many pounds he has now?

He has ..... - ..... = .....



أ / أيمن جابر كامل ..... 01091540940

Mohamed had 80 pounds. He bought a bag 66 pounds

How many pounds he has now?

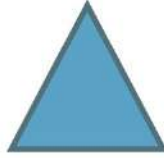
He has ..... - ..... = .....



# Shapes

أ / أيمن جابر كامل ..... 01091540940

Triangle



It has 3 sides and 3 angle

Rectangle



2 sets of equal sides. Equal sides are opposite each other

Circle

It is a round shape

Square



It has 4 equal sides.

Opposite sides are parallel



How many sides. Circle the right answer :



( 3 ، 5 ، 4 )



( 4 ، 3 ، 2 )



( 5 ، 4 ، 3 )



How many angles. Circle the right answer :



( 0 ، 3 ، 2 )



( 5 ، 3 ، 2 )

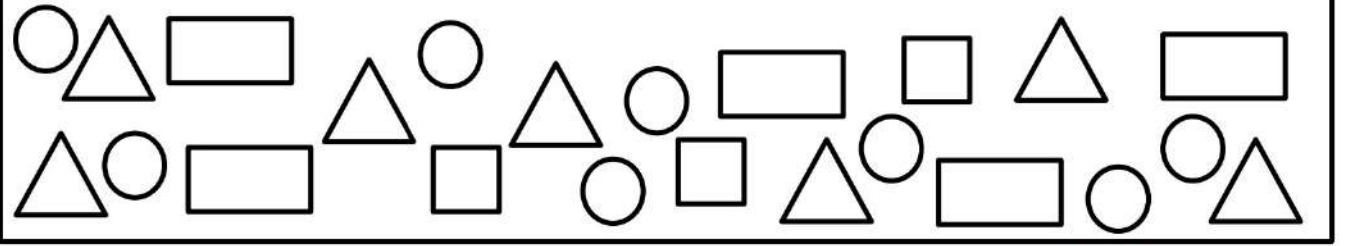


( 4 ، 2 ، 5 )

أو علامة مائة 50 جنيهاً

<54>

سعر المذكرة بدون اسم



أ / أيمن جابر كامل ..... 01091540940

How many circles?

How many squares?

How many triangles?

How many rectangles?



Draw triangles, circles, rectangles and squares :

أ / أيمن جابر كامل

٠١٠٢٢٧٤٤٠٨٦

أ / أيمن جابر كامل ..... 01091540940



Look and answer :

أ / أيمن جابر كامل ..... 01091540940

1	2	3	4	5	6	7	8	9	10
11	12	13	14	15	16	17	18	19	20
21	22	23	24	25	26	27	28	29	30
31	32	33	34	35	36	37	38	39	40
41	42	43	44	45	46	47	48	49	50
51	52	53	54	55	56	57	58	59	60
61	62	63	64	65	66	67	68	69	70
71	72	73	74	75	76	77	78	79	80
81	82	83	84	85	86	87	88	89	90
91	92	93	94	95	96	97	98	99	100

أ / أيمن جابر كامل سلسلة التفوق في الرياضيات 01091540940

$$\begin{array}{r} 91 \\ + 83 \\ \hline \end{array}$$

$$\begin{array}{r} 93 \\ + 86 \\ \hline \end{array}$$

$$\begin{array}{r} 96 \\ + 81 \\ \hline \end{array}$$

$$\begin{array}{r} 92 \\ + 84 \\ \hline \end{array}$$

$$\begin{array}{r} 94 \\ + 82 \\ \hline \end{array}$$


$$\begin{array}{r} 95 \\ + 85 \\ \hline \end{array}$$

أو علامة مائة 50 جنيهاً


سعر المذكرة بدون اسم

## 3 D Shapes

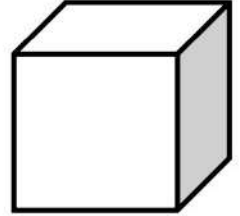
أ / أيمن جابر كامل ..... 01091540940



Cylinder



Cuboid



Cube



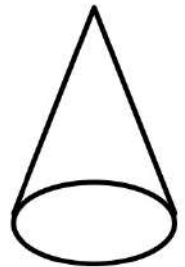
Ball



Square pyramid



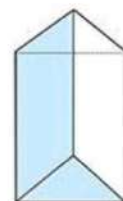
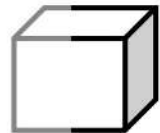


Triangular prism



Cone



Look and match :

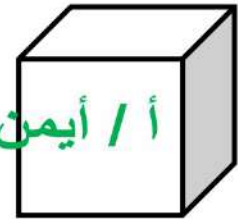


أ / أيمن جابر كامل ..... 01091540940



**Cuboid**

أ / أيمن جابر كامل ..... 01091540940



**Cube**

6 faces  
8 angles  
12 edges

6 faces  
8 angles  
12 edges



**Square pyramid**

5 faces  
8 edges  
5 angles



**Cylinder**

No faces  
No edges  
No angles



**Ball**

No faces  
No edges  
No angles

أ / أيمن جابر كامل ..... 01091540940

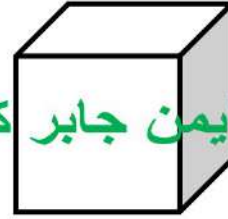
أ / أيمن جابر كامل سلسلة التفوق في الرياضيات 01091540940



Write down the shape name :



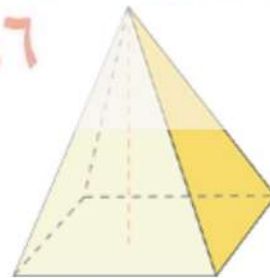
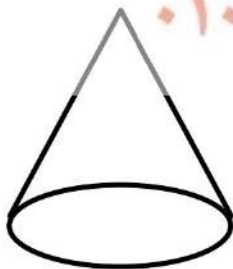
أ / أيمن جابر كامل ..... 01091540940



01091540940

أ / أيمن جابر كامل ..... 01091540940

٠١٠٢٢٧٤٤٠٨٦



أو علامة مائة 50 جنيهاً

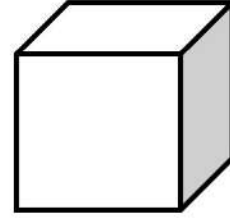

سعر المذكرة بدون اسم

أ / أيمن جابر كامل سلسلة التفوق فى الرياضيات 01091540940



**How many sides does the shape has ?**

أ / أيمن جابر كامل ..... 01091540940



سلسلة التفوق فى الرياضيات

أ / أيمن جابر كامل ..... 01091540940



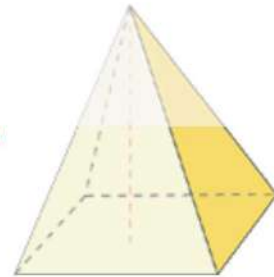
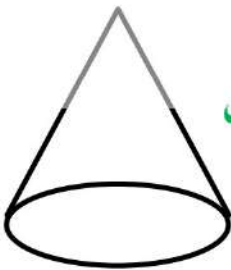
التفوق  
فى  
الرياضيات  
سلسلة التفوق فى الرياضيات

أ / أيمن جابر كامل ..... 01091540940

أ / أيمن جابر كامل

٠١٠٢٢٧٤٤٠٨٦

سلسلة التفوق فى الرياضيات



أ / أيمن جابر كامل ..... 01091540940

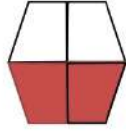
أو علامة مائة 50 جنيهاً

60

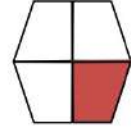
سعر المذكرة بدون اسم

Dividing the shapes into equal parts

أ / أيمن جابر كامل ..... 01091540940



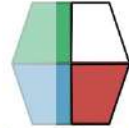
The number expressing the coloured part  $\frac{1}{2}$



The number expressing the coloured part  $\frac{1}{4}$



The number expressing the coloured part  $\frac{1}{3}$



The number expressing the coloured part  $\frac{3}{4}$

أ / أيمن جابر كامل ..... 01091540940

سلسلة التفوق فى الرياضيات




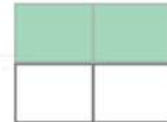
Write the number expressing the coloured part :

The number expressing the coloured part .....

أ / أيمن جابر كامل

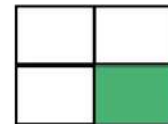
سلسلة التفوق فى الرياضيات

The number expressing the coloured part .....




أ / أيمن جابر كامل ..... 01091540940

The number expressing the coloured part .....



The number expressing the coloured part .....



01091540940

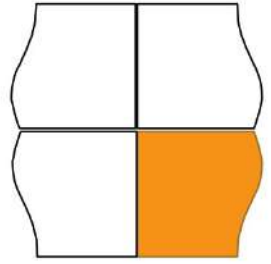
أ / أيمن جابر كامل



Circle the number expressing the coloured part :

$$\frac{3}{4} * \frac{1}{4} * \frac{1}{2} * 1 *$$

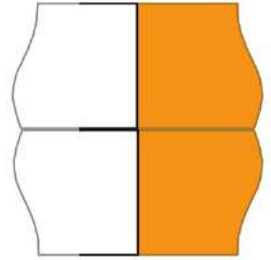
سلسلة التفوق فى الرياضيات



01091540940 ..... أ / أيمن جابر كامل

$$\frac{3}{4} * \frac{1}{4} * \frac{1}{2} * 1 *$$

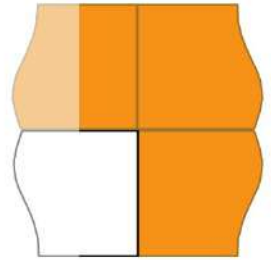
سلسلة التفوق فى الرياضيات



01091540940 ..... أ / أيمن جابر كامل

$$\frac{3}{4} * \frac{1}{4} * \frac{1}{2} * 1 *$$

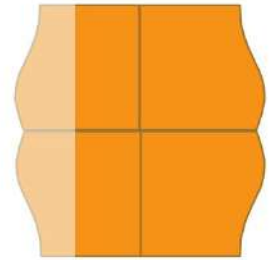
سلسلة التفوق فى الرياضيات



01091540940 ..... أ / أيمن جابر كامل

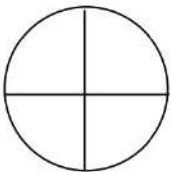
$$\frac{3}{4} * \frac{1}{4} * \frac{1}{2} * 1 *$$

سلسلة التفوق فى الرياضيات




Colour :

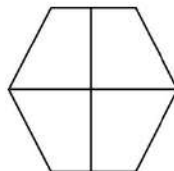
01091540940 ..... أ / أيمن جابر كامل



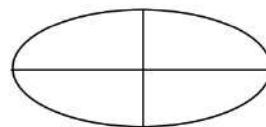
3/4



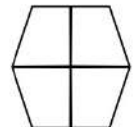
1/4



2/4



1



1/2

أو علامة مائة 50 جنيهاً

<62>

سعر المذكرة بدون اسم

01091540940

أ / أيمن جابر كامل سلسلة التفوق في الرياضيات



## Analyzing 10 into 2 parts

أ / أيمن جابر كامل ..... 01091540940



سلسلة التفوق في الرياضيات

أ / أيمن جابر كامل ..... 01091540940



سلسلة التفوق في الرياضيات

أ / أيمن جابر كامل ..... 01091540940



سلسلة التفوق في الرياضيات

أ / أيمن جابر كامل ..... 01091540940



أو علامة مائة 50 جنيهاً

63

سعر المذكرة بدون اسم

أ / أيمن جابر كامل سلسلة التفوق في الرياضيات 01091540940



Complete :

أ / أيمن جابر كامل ..... 01091540940



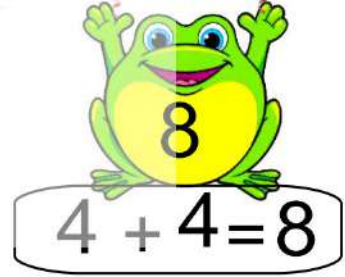

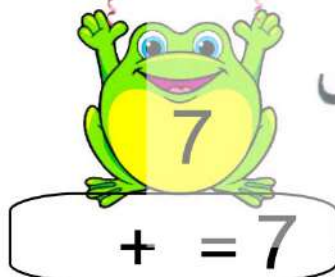
التفوق

في

سلسلة التفوق في الرياضيات

01091540940

أ / أيمن جابر كامل



أ / أيمن جابر كامل

٠١٠٢٢٧٤٤٠١٦



أو علامة مائية 50 جنيهاً

سعر المذكرة بدون اسم

أ / أيمن جابر كامل سلسلة التفوق في الرياضيات 01091540940



**Complete the table :**

أ / أيمن جابر كامل ..... 01091540940

1		3		5		7		9	
	12	13			16		18		
21		23			26	27			30
	32	33			36		38		
	42		44			47		49	
51		53					58		60
	62		64		66				
71		73		75		77		79	
	82		84			87			90
91			94		96		98	99	

أ / أيمن جابر كامل ..... 01091540940

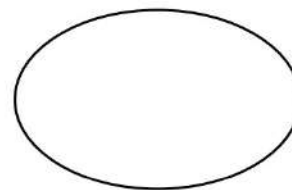



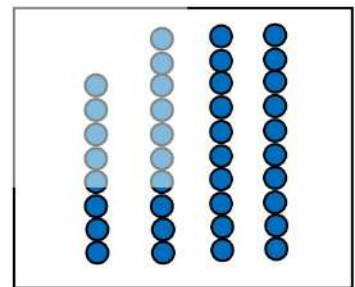



**Count and compare :**

سلسلة التفوق في الرياضيات

أ / أيمن جابر كامل

٠١٠٢٣٧٤٤٠٨٦



أو علامة مائة 50 جنيهاً

<65>

سعر المذكرة بدون اسم

## Time & Daily activities

أ / أيمن جابر كامل ..... 01091540940



Eating breakfast at 7:00



I go to school at 8:00



wake up at 6:00



Eating lunch at 3:00



Studying at 5:00



Go to sleep at 9:00



Write down the time :



..... : .....



..... : .....



..... : .....

أو علامة مائة 50 جنيهاً

سعر المذكرة بدون اسم


أ / أيمن جابر كامل سلسلة التفوق في الرياضيات 01091540940



Match :

أ / أيمن جابر كامل ..... 01091540940

four



سلسلة التفوق في الرياضيات

seven



أ / أيمن جابر كامل ..... 01091540940

one



Draw the time :

studying

go to school

wake up



go to sleep

play with my friends

take a shower



أو علامة مائة 50 جنيهاً

<67>

سعر المذكرة بدون اسم

أ / أيمن جابر كامل سلسلة التفوق في الرياضيات 01091540940



Look and answer :

أ / أيمن جابر كامل ..... 01091540940

7 :00

Time = .....



Time = .....

6 :00

01091540940

Time = .....

سلسلة التفوق في الرياضيات

التفوق

في

الرياضيات



Time = .....

8 :00

01091540940

Time = .....

أ / أيمن جابر كامل

أ / أيمن جابر كامل ..... 01091540940

سلسلة التفوق في الرياضيات



Time = .....

5 :00

01091540940

Time = .....

أ / أيمن جابر كامل



Time = .....

أو علامة مائة 50 جنيهاً

سعر المذكرة بدون اسم

أ / أيمن جابر كامل سلسلة التفوق في الرياضيات 01091540940



Answer using add / minus :

أ / أيمن جابر كامل ..... 01091540940

سلسلة التفوق في الرياضيات

$$35 + 22 = \dots\dots$$

$$79 + 21 = \dots\dots$$

أ / أيمن جابر كامل ..... 01091540940

$$36 + 12 = \dots\dots$$

$$56 + 33 = \dots\dots$$

سلسلة التفوق في الرياضيات

أ / أيمن جابر كامل ..... 01091540940

$$35 + 34 = \dots\dots$$

$$74 + 12 = \dots\dots$$

سلسلة التفوق في الرياضيات

أ / أيمن جابر كامل ..... 01091540940

$$74 - 33 = \dots\dots$$

$$87 - 45 = \dots\dots$$

سلسلة التفوق في الرياضيات

$$45 - 34 = \dots\dots$$

$$35 - 22 = \dots\dots$$

أ / أيمن جابر كامل ..... 01091540940

$$71 - 41 = \dots\dots$$

$$87 - 74 = \dots\dots$$

أو علامة مائة 50 جنيهاً

سعر المذكرة بدون اسم

أ / أيمن جابر كامل سلسلة التفوق في الرياضيات 01091540940

## Money ( add / minus )



أ / أيمن جابر كامل ..... 01091540940 Count and answer :



Total ..... التفوق

Total .....



Total .....

Total .....



Circle the money you need to buy :

أ / أيمن جابر كامل

٠١٠٢٢٧٤٤٠٨٦



37



44



<70>

100



أو علامة مائبة 50 جنيها

سعر المذكرة بدون اسم



Complete the following :

أ / أيمن جابر كامل ..... 01091540940

$0 + 4 = \dots$

$1 + 3 = \dots$

$2 + 2 = \dots$

$0 + 7 = \dots$

$1 + 6 = \dots$

$2 + 5 = \dots$

$3 + 4 = \dots$

$0 + 3 = \dots$

$1 + 2 = \dots$

$2 + 1 = \dots$

$0 + 6 = \dots$

$1 + 5 = \dots$

$2 + 4 = \dots$

$3 + 3 = \dots$

$0 + 2 = \dots$

$1 + 2 = \dots$

$2 + 0 = \dots$

$0 + 5 = \dots$

$1 + 4 = \dots$

$2 + 3 = \dots$

$3 + 2 = \dots$

$0 + 9 = \dots$

$1 + 8 = \dots$

$7 + 2 = \dots$

$6 + 3 = \dots$

$5 + 4 = \dots$

$0 + 8 = \dots$

$1 + 7 = \dots$

$2 + 6 = \dots$

$3 + 5 = \dots$

$4 + 4 = \dots$

سلسلة التفوق في الرياضيات

أ / أيمن جابر كامل ..... 01091540940

$6 + \dots = 10$

$4 + \dots = 10$

$5 + \dots = 10$

$6 + \dots = 10$

$8 + \dots = 10$

$1 + \dots = 10$

$10 + \dots = 10$

$0 + \dots = 10$

$1 + \dots = 10$

$2 + \dots = 10$

$3 + \dots = 10$

أو علامة مائة 50 جنيهاً

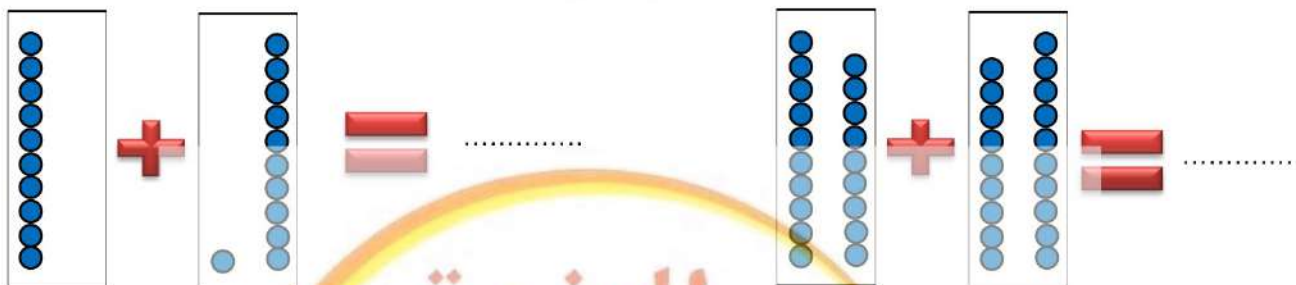
سعر المذكرة بدون اسم



**Complete the following :**

أ / أيمن جابر كامل ..... 01091540940

## سلسلة التفوق في الرياضيات



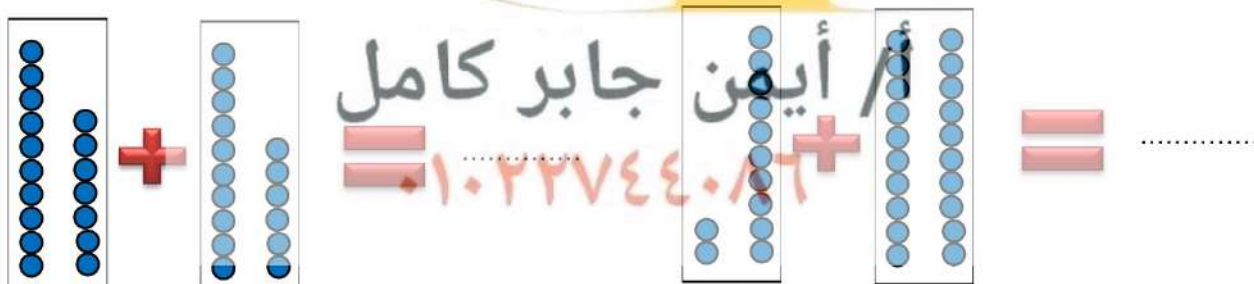
أ / أيمن جابر كامل ..... 01091540940

في  
الرياضيات



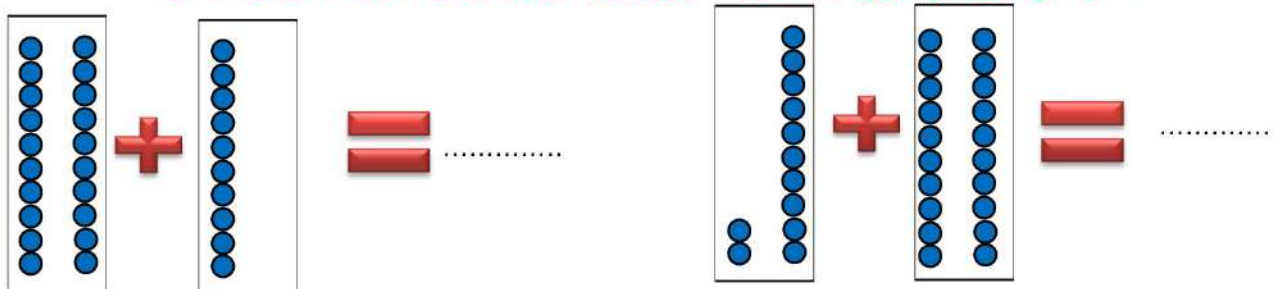
## سلسلة التفوق في الرياضيات

أ / أيمن جابر كامل ..... 01091540940



## سلسلة التفوق في الرياضيات

أ / أيمن جابر كامل ..... 01091540940



أ / أيمن جابر كامل سلسلة التفوق في الرياضيات 01091540940



Complete the following :

أ / أيمن جابر كامل ..... 01091540940

10	20	30				
30			60		80	
90		70			40	

سلسلة التفوق في الرياضيات

أ / أيمن جابر كامل ..... 01091540940

20	30	40				
35			65		85	
91		71			41	

سلسلة التفوق في الرياضيات

أ / أيمن جابر كامل ..... 01091540940


11	21	31				
37			67		87	
99		79			49	

أو علامة مائة 50 جنيهاً


73

سعر المذكرة بدون اسم

$$\begin{array}{r} 93 \\ + 8 \\ \hline \end{array}$$



$$\begin{array}{r} 44 \\ + 1 \\ \hline \end{array}$$



أ / أيمن جابر كامل ..... 01091540940

$$\begin{array}{r} 88 \\ + 7 \\ \hline \end{array}$$



$$\begin{array}{r} 21 \\ + 6 \\ \hline \end{array}$$



$$\begin{array}{r} 91 \\ + 8 \\ \hline \end{array}$$



$$\begin{array}{r} 93 \\ + 9 \\ \hline \end{array}$$



التفوق  
في  
سلسلة التفوق في الرياضيات

$$\begin{array}{r} 92 \\ + 5 \\ \hline \end{array}$$



$$\begin{array}{r} 94 \\ + 6 \\ \hline \end{array}$$



أ / أيمن جابر كامل ..... 01091540940


$$\begin{array}{r} 91 \\ + 55 \\ \hline \end{array}$$



$$\begin{array}{r} 70 \\ + 86 \\ \hline \end{array}$$



$$\begin{array}{r} 92 \\ + 75 \\ \hline \end{array}$$



$$\begin{array}{r} 94 \\ + 66 \\ \hline \end{array}$$



# Addition

أ / أيمن جابر كامل ..... 01091540940



أ / أيمن جابر كامل ..... 01091540940



سلسلة التفوق في الرياضيات

أ / أيمن جابر كامل ..... 01091540940

أو علامة مائة 50 جنيهاً

سعر المذكرة بدون اسم

## Answer



أ / أيمن جابر كامل ..... 01091540940



أ / أيمن جابر كامل ..... 01091540940



سلسلة التفوق في الرياضيات

أ / أيمن جابر كامل ..... 01091540940

80 -  = 40      30 -  = 12

66 -  = 40      28 -  = 4

20 -  = 11      77 -  = 30

سلسلة التفوق في الرياضيات

85 -  = 20      90 -  = 40

أ / أيمن جابر كامل ..... 01091540940



Complete the following sentences:



Teens \* Units



Teens \* Units



Teens \* Units



Teens \* Units



Teens \* Units



Teens \* Units

أ / أيمن جابر كامل ..... 01091540940



Teens \* Units



Teens \* Units



Teens \* Units



Teens \* Units



Teens \* Units



Teens \* Units

## Minus

$$\begin{array}{r} 99 \\ - 50 \\ \hline \end{array}$$

$$\begin{array}{r} 75 \\ - 50 \\ \hline \end{array}$$

$$\begin{array}{r} 90 \\ - 25 \\ \hline \end{array}$$

$$\begin{array}{r} 90 \\ - 55 \\ \hline \end{array}$$

$$\begin{array}{r} 88 \\ - 50 \\ \hline \end{array}$$

$$\begin{array}{r} 91 \\ - 50 \\ \hline \end{array}$$

$$\begin{array}{r} 90 \\ - 48 \\ \hline \end{array}$$

$$\begin{array}{r} 70 \\ - 50 \\ \hline \end{array}$$

$$\begin{array}{r} 65 \\ - 50 \\ \hline \end{array}$$

$$\begin{array}{r} 90 \\ - 33 \\ \hline \end{array}$$

$$\begin{array}{r} 80 \\ - 50 \\ \hline \end{array}$$

$$\begin{array}{r} 96 \\ - 50 \\ \hline \end{array}$$

أ / أيمن جابر كامل سلسلة التفوق في الرياضيات 01091540940



Complete the followin :

أ / أيمن جابر كامل ..... 01091540940

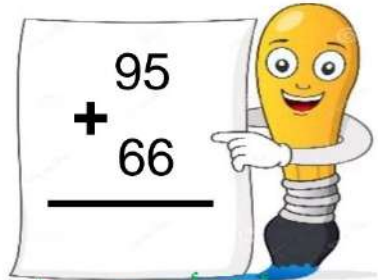
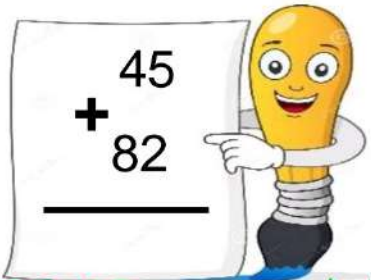
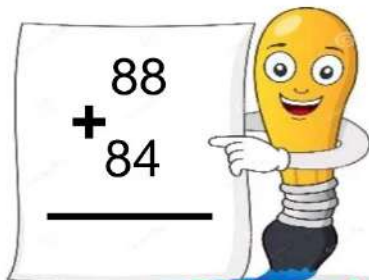


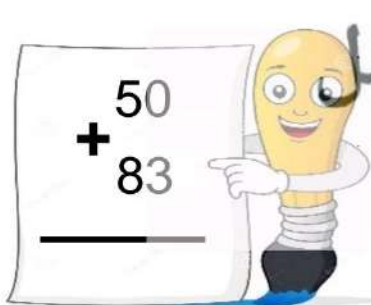
سلسلة التفوق في الرياضيات



أ / أيمن جابر كامل ..... 01091540940



أ / أيمن جابر كامل ..... 01091540940



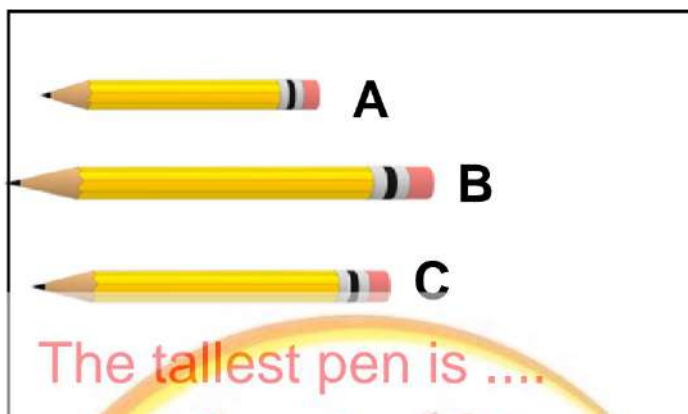
أ / أيمن جابر كامل ..... 01091540940

أو علامة مائة 50 جنيهاً

﴿79﴾

سعر المذكرة بدون اسم

## Revision



Write ( up / down ):

-  Vas is ..... the table  
 Pen is ..... the table  
 Ball is ..... the table  
 Cat is ..... the table



Complete the following sentences:

Square has ..... sides

Triangle has ..... sides

Traingle has ..... angles

Circle the tall boy:



أ / أيمن جابر كامل ..... 01091540940

مدرس الرياضيات بأسيوط

أو علامة مائة 50 جنيهاً

سعر المذكرة بدون اسم