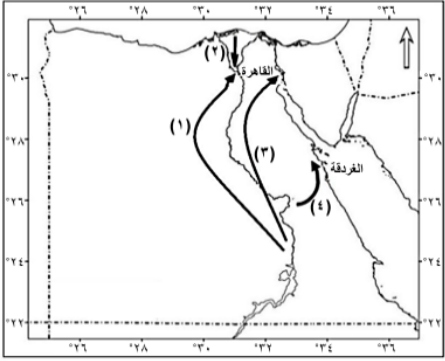


### Question 1

أمامك خريطة لبعض تيارات الهجرة داخل مصر أدرس الشكل ثم اختر  
تيار الهجرة المتجهة إلى مناطق التعدين والسياحة معاً هو التيار رقم .....



2 ☐

3 ☐

4 ☐

1 ☐

### Question 2

يتجه غالبية المهاجرين من سكان شرق الدلتا إلى منطقة .....

☐ مدن القناة

☐ الوجه القبلي

☐ الساحلي الشمالي

☐ القاهرة الكبرى

### Question 3

تد محافظة الوادي الجديد من المحافظات الحدودية منخفضة الكثافة السكانية  
في ضوء العبارة أختار .

يرتبط وجود المراكز العمرانية في محافظة الوادي الجديد بـ.....

☐ المناخ السائد

☐ المياه الجارية

☐ التركيب الجيولوجي.

☐ المظهر التضاريسي.

#### Question 4

ادرس الجدول الإحصائي الذي أمامك واطبق مفهوم الكثافة السكانية .

اصدار الجهاز المركزي للتعبئة العامة والإحصاء إبريل ٢٠١٦		
المحافظة	عدد السكان	المساحة كم <sup>٢</sup>
المنيا	٥٣٦٤٧٧٦	٣٢٢٧٩
الشرقية	٦٦٩٨١٦٠	٤١٨٠
الغربية	٤٨٩٠٦٦٤	١٩٤٢
الدقهلية	٦١٢٢٣٤٣	٣٤٧١

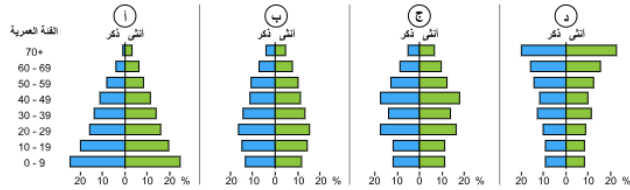
أكثر المحافظات كثافة سكانية في هذا الجدول محافظة .....

- ☐ الشرقية.
- ☐ المنيا.
- ☐ الدقهلية.
- ☐ الغربية.

#### Question 5

أمامك أربعة أشكال لأهرامات سكانية لدول مختلفة ادرسها جيداً للإجابة عن السؤال التالي :-

تزداد نسبة الإعالة في الشكلين ..



- ☐ ب - ج
- ☐ أ - ب
- ☐ ج - د
- ☐ أ - د

#### Question 6

تعمل الهجرة الداخلية في الدولة على .....

- ☐ تناقص معدل النمو السكاني
- ☐ إعادة توزيع السكان
- ☐ زيادة معدلات المواليد
- ☐ زيادة أعداد السكان

### Question 7

الهجرة القسرية هي انتقال الفرد من مكان لآخر دون إرادته داخل الدولة أو خارجها: في ضوء العبارة اختر  
ظهر تيار الهجرة القسرية في النصف الثاني من القرن العشرين في محافظتي .....

- ☐ الاسكندرية ومطروح
- ☐ أسوان والجيزة
- ☐ الجيزة والسويس
- ☐ السويس وأسوان

### Question 8

تسعى مصر إلى الوصول لمرحلة الاستقرار السكاني في الوقت الحالي . في ضوء العبارة اختر.  
تتميز مرحلة الاستقرار السكاني بـ .....

- ☐ ارتفاع معدل المواليد وارتفاع معدل الوفيات.
- ☐ انخفاض معدل المواليد وارتفاع معدل الوفيات.
- ☐ ارتفاع معدل المواليد وانخفاض معدل الوفيات.
- ☐ انخفاض معدل المواليد وانخفاض معدل الوفيات.

### Question 9

أكثر جهات الدلتا طرداً للسكان هي الجهات .....

- ☐ الغربية
- ☐ الشرقية
- ☐ الشمالية
- ☐ الجنوبية

### Question 10

العامل المسؤول عن مستوى الكثافة السكانية في محافظة مطروح هو .....

- ☐ التضاريس
- ☐ المناخ
- ☐ الموارد
- ☐ المساحة

### Question 11

"تختلف الخصائص الاقتصادية لسكان شبه جزيرة سيناء" في ضوء الجارة  
حدد بالأمثلة مدى اختلاف الخصائص الاقتصادية لسكان شبه جزيرة سيناء

☰ ☷ | U *I* **B**

10000 / 0 حد الكلمة

### Question 12

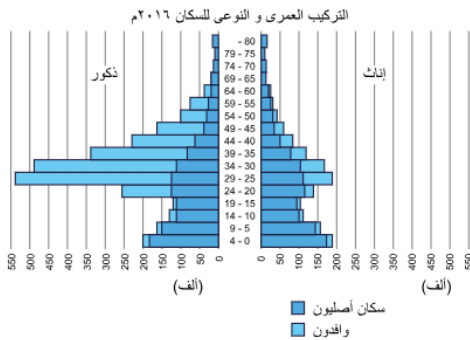
من خلال دراستك للتعدادات السكانية والإحصاءات الحيوية.  
حدد الطريقة المناسبة لحساب الهجرة الداخلية في محافظتك

☰ ☷ | U *I* **B**

10000 / 0 حد الكلمة

### Question 13

من خلال دراستك للهرم السكاني  
ادرس الشكل الذي أمامك ثم حدد  
سليبات هذا الهرم السكاني



☰ ☷ | U *I* **B**

10000 / 0 حد الكلمة

#### Question 14

إذا كنت في فريق يخطط لإقامة مجتمعات عمرانية جديدة، وأمامك منطقتي الدلتا والصحراء الغربية واخترت الصحراء الغربية .  
حدد الأسباب التي تدفعك لاختيار الصحراء الغربية .

<div style="text-align: right;"> <span>☰</span> <span>☷</span>   <u>U</u> <i>I</i> <b>B</b> </div>
<div style="text-align: right;">10000 / 0 حد الكلمة</div>

#### Question 15

أمامك خريطة إدارية صماء لمحافظات مصر ادرس الخريطة جيداً ثم  
حدد نوع الكثافة السكانية في محافظتك ، وأهم المشكلات المرتبطة بالسكان فيها.



<div style="text-align: right;"> <span>☰</span> <span>☷</span>   <u>U</u> <i>I</i> <b>B</b> </div>
<div style="text-align: right;">10000 / 0 حد الكلمة</div>

#### Question 16


حلل أسباب اختلاف الكثافة السكانية على ضفتي النيل الشرقية والغربية من القاهرة لنجع حمادى.

<div style="text-align: right;"> <span>☰</span> <span>☷</span>   <u>U</u> <i>I</i> <b>B</b> </div>
<div style="text-align: right;">10000 / 0 حد الكلمة</div>

## Question 17

"تعتبر منطقة الدوينة جنوب شرق القاهرة إحدى أكبر المناطق العشوائية في مصر وقد تعرضت للانقيارات الصخرية في عامي 2008 - 2019م" في ضوء الجارة .

اقترح حلول مستقبليه للقضاء على العشوائيات في القاهرة.

<div style="text-align: right;"><b>B</b> <i>I</i> <u>U</u>    </div>
<div style="text-align: right;">10000 / 0 حد الكلمة</div>