

١- يهتم بدراسة تفاصيل اشكال سطح الارض و العوامل التي شكلها-----

جغرافيا اقتصادية جغرافيا حيوية جغرافيا التضاريس جغرافيا الجيومورفولوجيا

٢- تتمتع مصر بثروة من النبات الطبيعي في شبة جزيرة سيناء والصحراء الشرقية احد اهتمامات علم-----

جغرافيا اقليمية جغرافيا الجيومورفولوجيا جغرافيا اقتصادية جغرافيا حيوية

٣- دراسة الظواهر الطبيعية والبشرية في الدولة لمعرفة مدى قوتها أو ضعفها وتأثيرها الخارجي أحد اهتمامات-----

الجغرافيا الاقتصادية جغرافية السكان جغرافية العمران الجغرافيا السياسية

٤- للتعرف على البيانات والمعلومات التي تحتويها الخريطة نستخدم-----

مفتاح الخريطة مقياس الرسم مصدر الخريطة إحداثيات الخريطة

٥- دراسة توزيع الأقاليم النباتية في العالم أحد اهتمامات-----

الجغرافيا الحيوية الجيومورفولوجيا جغرافية التضاريس الجغرافيا المناخية

٦- دراسة الظواهر الطبيعية والبشرية في الوطن العربي أحد اهتمامات-----

جغرافية التضاريس الجغرافيا الاقتصادية الجغرافيا الاقليمية الجغرافيا التاريخية

٧- تساعد الخريطة في تحديد الزمن من خلال-----

مفتاح الخريطة مقياس الرسم مصدر الخريطة إحداثيات الخريطة

٨- تقوم جغرافية السكان بدراسة كل مما يلي عدا-----

توزيع السكان هجرة السكان الخدمات المتوفرة للسكان أنواع السكان

٩- يعتبر العنصر الإيجابي في نظم المعلومات الجغرافية هو-----

البيانات الأجهزة البرامج المختصون

١٠- دراسة الأعاصير أحد اهتمامات-----

الجغرافيا المناخية الجيومورفولوجيا الجغرافيا الحيوية الجغرافيا الفلكية

١١- دراسة تأثير صناعة الطوب الأحمر احد اهتمامات-----

الجغرافيا الاقتصادية جغرافية السكان جغرافية العمران الجغرافيا السياسية

١٢- يمكن التنبؤ بالتغيرات المناخية عن طريق-----

برنامج تحديد المواقع العالمي الخريطة الاستشعار من بعد نظم المعلومات الجغرافية

١٤- إذا أردت السفر إلى تونس فإنك تخرج من مصر عبر الحدود-----

الشمالية الجنوبية الشرقية الغربية

١٥- العمق الاستراتيجي لمصر يتمثل في الحدود-----

الشمالية الجنوبية الشرقية الغربية

١٦- أول المدن التي تشرق عليها الشمس في مصر هي-----

رفح السلوم حلايب طابا

١٧- تمر السفن القادمة من الخليج العربي إلى دول أوربا أولاً بميناء-----

الاسكندرية السويس بورسعيد السلوم

١٨- تمر دائرة عرض ٣٠ شمالاً على مدينة-----

القاهرة الاسكندرية أسيوط اسوان

١٨- أكثر الحدود التي تحقق لمصر تواصلًا حضاريًا في الوقت الحاضر هي الحدود-----

الشمالية الجنوبية الشرقية الغربية

١٩- يمر خط طول ٢٦ شرقاً ب-----

شبه جزيرة سيناء الدلتا الصحراء الشرقية الصحراء الغربية

٢٠- يقترب مدار السرطان في مصر من الحدود-----

الشمالية الجنوبية الشرقية الغربية

٢١- أكثر حدود مصر استقامة هي الحدود-----

الشمالية الجنوبية الشرقية الغربية

٢٢- السفر البري يتم بصورة أكثر سهولة عبر الحدود-----

الشمالية الجنوبية الشرقية الغربية

٢٣- الحدود الشمالية لمصر تطل على الحد ----- لحوض البحر المتوسط

الشمالي الغربي الشمالي الغربي الجنوبي

٢٤- يطلق عليها الحدود الفلكية الهندسية في مصر.....

الحد الغربي والشرقي الحد الشرقي والجنوبي الحد الغربي والجنوبي الحد الشمالي والشرقي

٢٥- إذا اقتربنا من دائرة العرض ٢٩ شمالا فأنا نقترب من الحد..... لجمهورية مصر العربية

الشمالي الغربي الجنوبي الشرقي

٢٦- دراسة الموارد المتاحة واستنباط أساليب إنتاجية جديدة تتضمنه

- جغرافية العمران.
- الجغرافية الإقليمية.
- الجغرافية الطبية.
- جغرافية الاقتصادية.

٢٧- لمعرفة ما تحتويه الخريطة من بيانات نستخدم

- مقياس الرسم.
- مصدر الخريطة.
- عنوان الخريطة.
- مفتاح الخريطة.

٢٨- يشترك كل من نظام تحديد المواقع العالمي والخريطة في استخدام أحد العناصر الآتية

- مقياس رسم كبير.
- إحداثيات الخريطة.
- وجود مفتاح للخريطة.
- اتجاه الشمال.

٢٩- يمكن استخدام الخرائط في تحديد فروق التوقيت بين المدن عن طريق

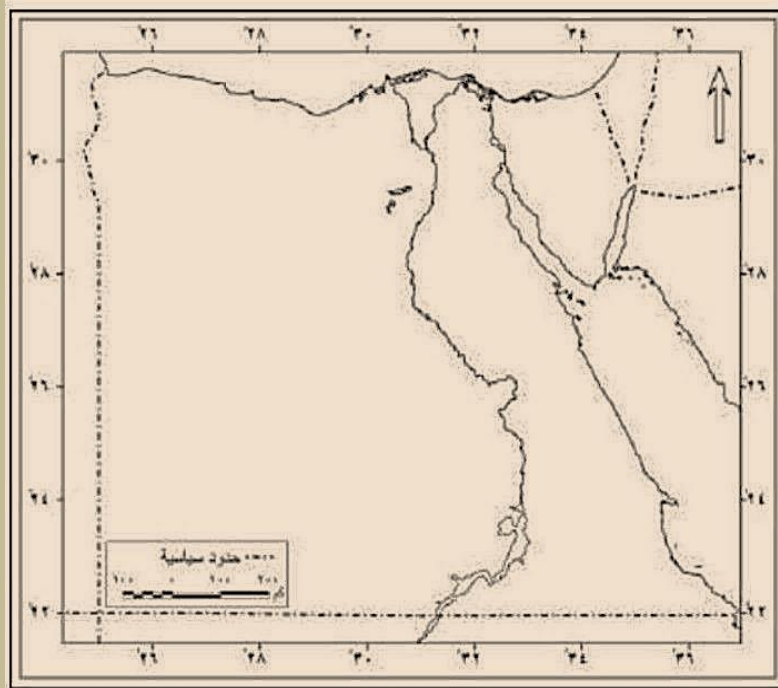
- مقياس الرسم.
- مصدر الخريطة.
- اتجاه الشمال.
- إحداثيات الخريطة.

٣٠- دراسة توزيع المعابد الفرعونية في مصر يدخل ضمن مجال

- الجغرافية الاقتصادية.
- الجغرافية السياسية.
- جغرافية العمران.
- الجغرافية التاريخية.

٣١- تبدأ الحدود الغربية لجمهورية مصر العربية متعرجة قليلا في الشمال حتى واحة.....

الداخلية الخارجة الفرافرة الإجابة غير موجودة



٣٢- أطول الحدود البرية في جمهورية مصر العربية الحد.

الشمالي الجنوبي الشرقي الغربي

٣٣- الوحدة التضاريسية الاسيوية في جمهورية مصر العربية هي

الصحراء الشرقية الصحراء الغربية سيناء الإجابة غير موجودة

٣٤- من دراسة الخريطة الصماء التي امامك تقع القاهرة عاصمة جمهورية مصر العربية على دائرة العرض

٢٠ شمالا ٣٠ شمالا ١٢ شمالا ٣٠ شرقا

٣٥- من الدول العربية الاسيوية التي تجاور الحدود المصرية السعودية والاردن و

ليبيا السودان الجزائر الاجابة غير موجودة

٣٦- تقع مصر في ١٢ خط طول

شرقي غربي شمالي جنوبي

٣٧- ازدادت اهمية مصر بعد شق قناة السويس بسبب ؟؟

زيادة حركة التجارة اختصار المسافة والوقت اكتشاف البترول كل ما سبق

٣٨- تبدأ الحدود الجنوبية لمصر من ساحل البحر الاحمر حتى جبل

المغارة الجلف الكبير الشايب الاجابة غير موجودة

٣٩- تبدو مصر في شكلها اقرب الى الشكل

المستطيل المندمج ذو البروز الجيوب المربع

٤١ - يحد مصر شرقا البحر الاحمر وخليج.....

السويس العقبة العرب ابو قير

٤٢ - تمثل مصر حوالى ٣% من مساحة.....

اسيا الوطن العربي اوريا افريقيا

٤٣ - تمتد الحدود الشمالية لمصر منرفح عند الحدود المصرية الفلسطينية

شمال شرق شمال شرق غرب

٤٤ - تتماشى الحدود الجنوبية مع دائرة العرض ٢٢ شمالا وتنتهى عند التقاء هذه الدائرة مع خط الطول ٢٥.....

شمالا غربا شرقا جنوبا

٤٥ - الحدود الشرقية لجمهورية مصر العربية بريه وبحرية واطولها.....

البرية البحرية الفلكية الاجابة غير موجودة

٤٦ - تمتد الحدود الشرقية من راس خليج.....

العقبة السويس ابو قير الاجابة غير موجودة

٤٧ - بعد الفتح العربى ٦٤١م ساهمت مصر في نشر الاسلام في شمال و..... افريقيا

وسط جنوب غرب جنوب شرق

٤٨ - باستخدام الاتجاهات الاربعة في مصر فان اكبر مساحة تضاريسية تتجه الى الاجزاء.....من مصر

الجنوبية الشمالية الشرقية الغربية

٤٩ - ساهم اكتشاف البترول في الخليج العربي وجنوباسيا في تزايد اهمية موقع قناة السويس

شرق شمال غرب الاجابة غير موجودة

٥٠ - يحدث لو مرت دائرة الاستواء في وسط مصر؟-----

اعتدال الحرارة والامطار اعتدال الحرارة وغزارة الامطار

ارتفاع الحرارة وقله الامطار ارتفاع الحرارة وغزارة الامطار

○ شمالا

○ جنوبا

○ شرقا

○ غربا

تمتد حدود مصر الجنوبية من البحر الأحمر حتى جبل
العوينات.....

تتعلم الشمس في فصل الشتاء الشمالي على

- ⊙ مدار الجدى
- ⊙ مدار السرطان
- ⊙ خط الاستواء
- ⊙ الدائرة القطبية

٥٣- تسير حدود مصر الغربية في خط مستقيم باستثناء قطاعها الشمالي الممتد من السلوم حتى

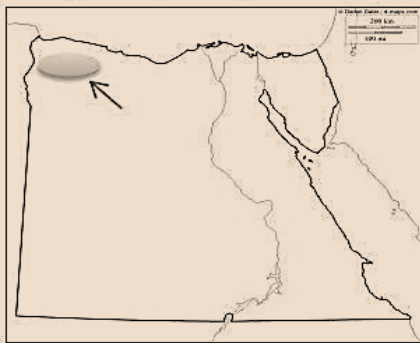
منخفض واحة الفرافرة / منخفض القطارة / منخفض واحة سيوة / منخفض واحة البحرية

- ٥٤ - تعد صخور خزانات المياه الجوفية الحجر الجيري الحجر الرملى النوبى الجرانيت البازلت
- ٥٥ - تظهر آثار الزمن فى ١٤ % من سطح مصر الاول - الثاني - الثالث - الرابع
- ٥٦ - اقدم الازمنة الجيولوجية فى مصر هو الزمن الأركي الاول الثاني الرابع
- ٥٧ - اقل مساحة تكوينات للازمنة الجيولوجية فى مصر فى الزمن الثالث الرابع الأركي الاول
- ٥٨ - اكثر الازمنة الجيولوجية تأثيرا فى النشاط الزراعي فى مصر الثالث العتيق الرابع الاول
- ٦٠ - يطلق على الزمن زمن الاضطرابات الباطنية الرابع الاول الثالث الثاني
- ٦١ - تنتمى تكوينات الزمن الاول الى طبقات من الحجر الرملى الحجر الجيري البازلت الجرانيت
- ٦٢ - تكون الحديد والذهب فى الزمن الاول الأركي الثالث الرابع
- ٦٣ - رواسب الفحم فى جبل المغارة تنتمى للزمن الثالث الأركي الرابع الاجابة غير موجودة
- ٦٤ - من عصور الزمن الثالث البرمى الديفونى الميوسين الكامبرى

٦٥

الظاهرة المظلمة والمشار اليه على الخريطة تنتمى تكويناتها الى الزمن الجيولوجي ...

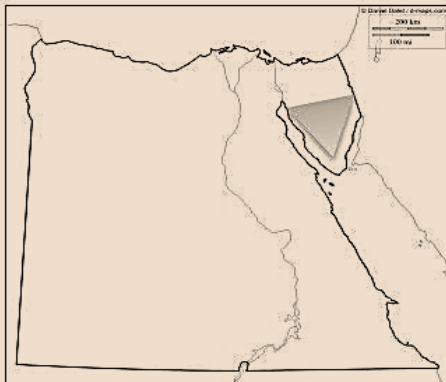
- ⊙ الاول
- ⊙ الثاني
- ⊙ الثالث
- ⊙ الرابع



٦٦

التكوينات الجيولوجية الموجودة على الخريطة تنتمى الى الزمن الجيولوجي ...

- ⊙ الاول
- ⊙ الثاني
- ⊙ الثالث
- ⊙ الرابع



٦٧ - من عصور الزمن الثاني البرمين الديفوني الجوراسي الاوليغوسين

٦٨ - تنتمي صخور القاعدة لجمال البحر الاحمر للزمن الاول الثاني الأركي الإجابة غير موجوده

٦٩ - خامات الفوسفات توجد فى الصخور الطباشيرية النارية الرملية الطينية الرملية

٧٠ - اهم عصور الزمن الجيولوجي الثاني الاوليغوسين الايوسين الترياسي البرمن

٧١ - تنتمي هضبه المعازة الى الزمن الاول الثاني الثالث الرابع

٧٢ - يرجع ظهور الجرانيت والرخام الى الزمن الثالث الثاني الأركي الاول

٧٣ - الزمن الذى يضم سته عصور هو الزمن الثالث الاول الثاني الأركي

٧٤ - تقع الأراضي المصرية فوق جزء من درع قاري قديم تعرض لحركات فى الزمن الجيولوجي الثالث

الالتواء التصدع التعرية المائية التعرية الهوائية

٧٥ - فى مناطق متفرقة على طول ساحل البحر الاحمر وخليجي السويس والعقبة توجد تكوينات الزمن

الاول الثاني الثالث الرابع

٧٦ - الرواسب الطينية والشواطئ المرجانية والتلال الجيرية تنتمي للزمن الاول الثاني الثالث الرابع الأركي

٧٧ - من المناطق التى تعرضت للتدخلات البركانية جبل قطراني فى

شمال الفيوم جنوب الفيوم غرب الفيوم شرق الفيوم

٧٨ - تعرضت ارض مصر لحركات التوائية قادمة من جهة

الشمال الغربي الجنوب الشرقي الغرب الاجابة غير موجودة

٧٩ - شهدت ارض مصر حركات التصدع والانكسار عصر

الميوسين البليوسين الاوليغوسين الهولوسين

٨٠ - اذا اردت البحث عن الذهب فى مصر فى أي الأزمنة تبحث الأركي الاول الثاني الثالث

٨١ - الحركات الباطنية التي تسببت في اندفاع تكوينات الزمن الأركي الى اعلى السطح تمت فى الزمن

الأركي الرابع الاول الثالث

٨٢ - ترجع الرؤوس الارضية والخلجان والشروم الى

التعرية النهرية التعرية الجوفية التعرية البحرية الأنهار

٨٤ - التعرية الجوفية ارتبطت بظاهرة جيومرفولوجية هي

الفيوردات الجرووف الشروم الاجابة غير موجودة

٨٥- تعد الرياح.....السبب الرئيسي فى تكون الاشكال الرملية واتجاهات تحرك الكثبان الرملية

الشرقية الغربية الجنوبية الشمالية الغربية

٨٦ - الاشكال الرملية وظواهر الصحراء الغربية كالمنخفضات تنتمى الى عوامل التعرية.....

الهوائية الجوفية النيلية الفيضية

٨٧ - عصور الترياسى والجوراسى والكريتاسى تنتمى الى الزمن الاول الثانى الثالث الرابع

٨٨- العلم الذى يهتم بدراسة نشأة الكره الارضية وخصائص الصخور هو

علم الحفريات علم الجغرافيا الاقتصادية الجيومورفولوجيا جغرافية التضاريس

٨٩- اقل مساحة تكوينات للأزمنة الجيولوجية فى مصر فى الزمن..... الثالث الرابع الأركي الاول

٩٠- اكثر الازمنة الجيولوجية تأثيرا فى النشاط الزراعي فى مصر..... الثالث العتيق الرابع الاول

٩١- يطلق على الزمنزمن الاضطرابات الباطنية الرابع الاول الثالث الثانى

٩٢ - تنتمى تكوينات الزمن الاول الى طبقات من الحجر الرملي الحجر الجيري البازلت الجرانيت

٩٣- تكون الحديد والذهب فى الزمن..... الاول الأركي الثالث الرابع

٩٤- رواسب الفحم فى جبل المغارة تنتمى للزمن الثالث الأركي الرابع الاجابة غير موجودة

٩٦ - تنتمى صخور القاعدة لجبال البحر الاحمر للزمن الاول الثانى الأركي الإجابة غير موجوده

٩٧- خامات الفوسفات توجد فى الصخور..... الطباشيرية النارية الرملية الطينية الرملية

٩٨- تنتمى هضبه المعازة الى الزمن..... الاول الثانى الثالث الرابع

٩٩- يرجع ظهور الجرانيت والرخام الى الزمن..... الثالث الثانى الأركي الاول

١٠٠- الزمن الذى يضم سته عصور هو الزمن..... الثالث الاول الثانى الأركي

١٩١ - تقع الأراضي المصرية فوق جزء من درع قاري قديم تعرض لحركات.....فى الزمن الجيولوجي الثالث

الالتواء التصدع التعرية المائية التعرية الهوائية

١٠٢- فى مناطق متفرقة على طول ساحل البحر الاحمر وخليجي السويس والعقبة توجد تكوينات الزمن

الاول الثانى الثالث الرابع

١٠٢ - الرواسب الطينية والشواطئ المرجانية والتلال الجيرية تنتمى للزمن..... الاول الثانى الرابع الأركي

١٠٤ - من المناطق التي تعرضت للتدخلات البركانية جبل قطراني فى

شمال الفيوم جنوب الفيوم غرب الفيوم شرق الفيوم

١٠٥ - تعرضت ارض مصر لحركات التوائية قادمة من جهة.....

الشمال الغربى الجنوب الشرقى الغرب الاجابة غير موجودة

١٠٦ - شهدت ارض مصر حركات التصدع والانكسار في عصر.....

الميوسين البلايوسين الاوليجوسين الهولوسين

١٠٧ - اذا اردت البحث عن الذهب فى مصر فى أي الأزمنة تبحث..... الأركي الاول الثاني الثالث

١٠٨ - الحركات الباطنية التي تسببت فى اندفاع تكوينات الزمن الأركي الى اعلى السطح تمت فى الزمن

الأركي الرابع الاول الثالث

١٠٩ - ترجع الرؤوس الارضية والخلجان والشروم الى

التعرية النهرية التعرية الجوفية التعرية البحرية الأنهار

١١٠ - التعرية الجوفية ارتبطت بظاهرة جيومرفولوجية هى

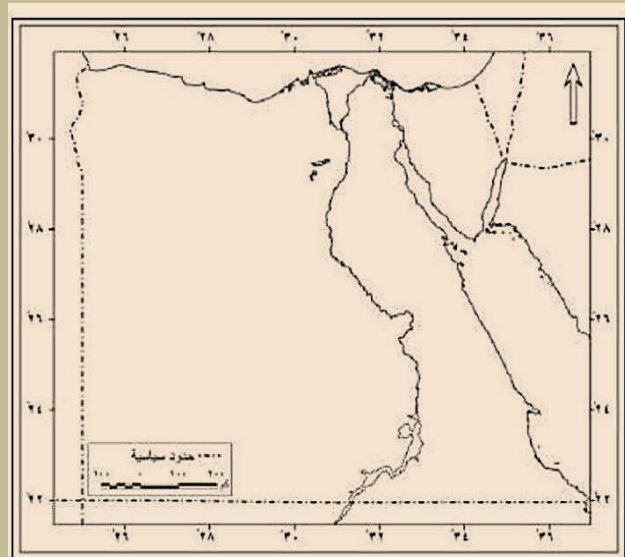
الفيوردات الجروف الشروم الاجابة غير موجودة

١١١ - تعد الرياحالسبب الرئيسي في تكون الاشكال الرملية واتجاهات تحرك الكثبان الرملية

الشرقية الغربية الجنوبية الشمالية الغربية

١١٢ - الاشكال الرملية وظواهر الصحراء الغربية كالمخفضات تنتمى الى عوامل التعرية.....

الهوائية الجوفية النيلية الفيضية



١١٣ - الخريطة الصماء التي امامك توضح ان مصر تقطع الاقليم الصحراوي الذى قطعه ظاهرة جغرافية عظيمة هى نهر النيل فى اى عصر جيولوجى حفر النيل مجراه.....

الاوليجوسين الترياسى البلايوسين الميوسين

١١٤ - تمثل صخور الجرانيت التي تكونت منها جبال البحر الاحمر الاساس الصخري في مصر ويرجع الى الزمن الأركي الذي ارتفع في شكل سلاسل جبلية في الزمن

الأركي الثالث الأول الثاني

- ١١٥ - تحتوي تكوينات عصر الميوسين على الفوسفات الفحم البترول النبات المتحجر
- ١١٦ - تحتوي صخور الحجر الرملي على خزانات المياه الجوفية و..... القشريات الفقريات الغاز البترول
- ١١٧ - يحدث لو لم تتعرض كتلة الدرع العربي النوبي الى حركات التصدع.....

يتكون البحر الاحمر يرتفع كتل الزمن الأركي الى اعلى السطح
تظهر الثروات الجيرية تصبح الحدود الشرقية حدودا برية سياسية

١١٨ - ينتمي جبل العوينات الى الزمن الأركي بينما حواف الجبل تنتمي الى الزمن

الأول الثاني الثالث الرابع

١١٩ - يحدث لو لم تتعرض مصر لا مطار عصر البلايستوسين ؟

تكوين الرواسب الطينية تكوين المياه الجوفية تكوين الشطوط الرملية الاجابة غير موجودة

١٢٠ - الكهوف ظاهرة جيومرفولوجية ترجع الى.....

التعرية النهرية التعرية البحرية الانكسارات التعرية الجوفية

١٢١ - يقع راس بناس على الساحلللبحر الاحمر الشمالي الجنوبي الشرقي الغربي

١٢٢ - رغم صغر عمر هذا الزمن الا انه ترك اثارا واضحة في مصرانه الزمن

الأركي الأول الثاني الرابع

ضع كل عنصر من العناصر الآتية في المجموعة المناسبة:

١٢٣

مناطق انتشار الزمن الرابع		مناطق انتشار الزمن الأركي	
خانق كلابشة	الوادي والدلتا	الصحراء الغربية	جبل العوينات
جبال البحر الأحمر	ساحل البحر الأحمر		

١٢٤ تتشابه الواحات البحرية بالصحراء الغربية و هضبه العبايده بالصحراء الشرقيه في ...

- انتماؤها للزمن الأركي ○ وجود الابار والعيون بها
○ استخدام صخورها في اغراض البناء ○ وجود تكوينات الزمن الثالث

الاجابة:

وجود الابار والعيون بها : حيث تحتوي صخور كل من الواحات البحرية و هضبه العبايده على الحجر الرملي النوبي والذي يحتوي على خزانات المياه الجوفيه والتي يحصل عليها من عن طريق الابار والعيون



١٢٥ امامك صورته لآحد الكهوف الموجوده في بعض الهضاب المصريه

والتي تثبت تعرض مصر لـ ...

- فترات جفاف ○ فترات مطيره
- نشاط بركاني ○ فترات جليديه

١٢٦

تنتشر الصخور الناريه والمتحوله في ...

- هضبه العباده ○ هضبه التيه
- جبل العوينات ○ جبل المغاره

١٢٧

من المتوقع تكون الظاهره التي امامك في عصر ...

- البلايستوسين
- الايوسين
- السيلوري
- الاوليجوسين



١٢٨

الرووس الارضيه والخلجان المنتشره على سواحل مصر الشماليه تنتمي الى الزمن الجيولوجي ...

- الاركي ○ الثاني ○ الثالث ○ الرابع

١٢٩

انفصلت مصر عن شبه الجزيره العربيه في الزمن الجيولوجي ...

- الاول ○ الثاني ○ الثالث ○ الرابع

١٣٠

يظهر اثر الصدوع بشكل ملحوظ في ...

- الوادي ○ الصحراء الشرقيه ○ الدلتا ○ الصحراء الغربيه

١٣١

يظهر اثر حركات الضغط الجانبيه القادمه من الشمال الشرقي في ...

- شمال سيناء ○ شمال الدلتا ○ جنوب سيناء ○ سواحل البحر الاحمر

١٣٢

من الظواهر التضاريسيه التي تكونت في مصر نتجه لعاملين احدهما باطني والآخر خارجي ...

- بحر الرمال العظيم ○ الطفوح البازلتيه بجبل قطراني ○ جبال البحر الاحمر ○ منخفض الخارجه

١٣٣

اذا كنت مقيم في الواحات البحريه فانت تعيش فوق ظاهره مرتبطه بـ ...

- التصدع ○ الالتواءات ○ التعريه الهوائيه ○ التداخلات البركانيه

١٣٤

اكثر الازمنه الجيولوجيه تأثيرا في النشاط الزراعي الزمن الجيولوجي ...

- الاول ○ الثاني ○ الثالث ○ الرابع

١٣٥- تنمو أشجار السنط في منطقة..... في أقصى الجنوب الشرقي للصحراء الشرقية.

جبل علبه جبل الشايب جبل العوينات جبل موسى

١٤٦- تتعامد الشمس في فصل الربيع على.....

مدار الجدى مدار السرطان خط الاستواء الدائرة القطبية

١٣٧- تقع معظم مساحة مصر ضمن الإقليم

الصحراوي البحر المتوسط شبه الصحراوي المرتفعات

١٣٨- ينعدم سقوط الأمطار على مصر في فصل

الشتاء الصيف الربيع الخريف

١٣٩- تنتمي مدينة للإقليم الصحراوي في مصر

الفيوم القصير كفر الشيخ شرم الشيخ

١٤٠- يُعد من أهم المناطق التي تنتشر بها الكائنات البحرية من أسماك وطيور.

البحر المتوسط البحيرات الشمالية البحر الأحمر نهر النيل

١٤١- يُعد غرق السواحل من تأثيرات التغيرات المناخية على

صحة الإنسان المياه الزراعة السياحة

١٤٢- أكثر مدن مصر أمطارًا مدينة

الإسكندرية العريش بورسعيد رفح

١٤٣- يتوقع أن يزيد المدى الحرارى اليومي والسنوي في مدينة

السلوم طنطا دمياط الخارجة

١٤٤- من أشهر النباتات التي تنمو في الوادي والدلتا

الشيخ المانجروف الكافور الغرق

١٤٥- تزداد معدلات الرطوبة بشكل كبير في الإقليم

البحر المتوسط الصحراوي شبه الصحراوي المرتفعات

١٤٦- اختر المختلف -----

الرواسب الطينية الشواطئ المرجانية الحجر الرملي الرواسب الرملية

١٤٧- تتبع منها روافد النيل الأزرق الذى يستمد معظم مياهه من بحيرة ----- في دول أثيوبيا

تانا فكتوريا ادور البرت

١٤٨- بحيرة المنزلة تتصل بالبحر المتوسط بفتحات تسمى ابو غاز -----

ادكو مريوط البردويل اشتوم الجميل

١٤٩- يختلف نهر النيل من قطاع إلى آخر، فيضيق بشكل عام في الجنوب ويتسع في الشمال ويصل أقصى اتساع له في محافظة بنى سويف ٢٥ كم وأقل اتساع له عند ----- شمال أسوان (أقل من ٣ كم).

المنيا بني سويف خانق السلسلة ثنية قنا

١٥٠- منخفض الفيوم تكونه حفر بواسطة العوامل الباطنية والنحت المائي والرياح في صخور-----

الهضبة الرملية الهضبة الطباشيرية الهضبة الصخرية الهضبة الجيرية.

١٥١- الوادي الذي يفصل هضبة العجمة عن النطاق الجبلي المرتفع في شبه جزيرة سيناء هو وادي.....

العلاقي العريش العقبة أبو طريفة

١٥٢- سهل القاع هو سهل متسع ممتد في موازاة.....

ساحل سيناء على خليج السويس ساحل سيناء على خليج العقبة ساحل الصحراء الشرقية

١٥٣- في أي المناطق التالية تتوقع قيام الزراعة

هضبة العباددة - النطاق الشمالي فلى سيناء - الهضبة الوسطى بالصحراء الغربية - المثلث الجبلي في سيناء

١٥٤

حدد المختلف من هذه المجموعة:

التعرية النهرية

التعرية البحرية

التعرية بفعل المياه الجوفية

التعرية بفعل الرياح

١٥٤

اختر البطاقة الصحيحة مما يأتي:

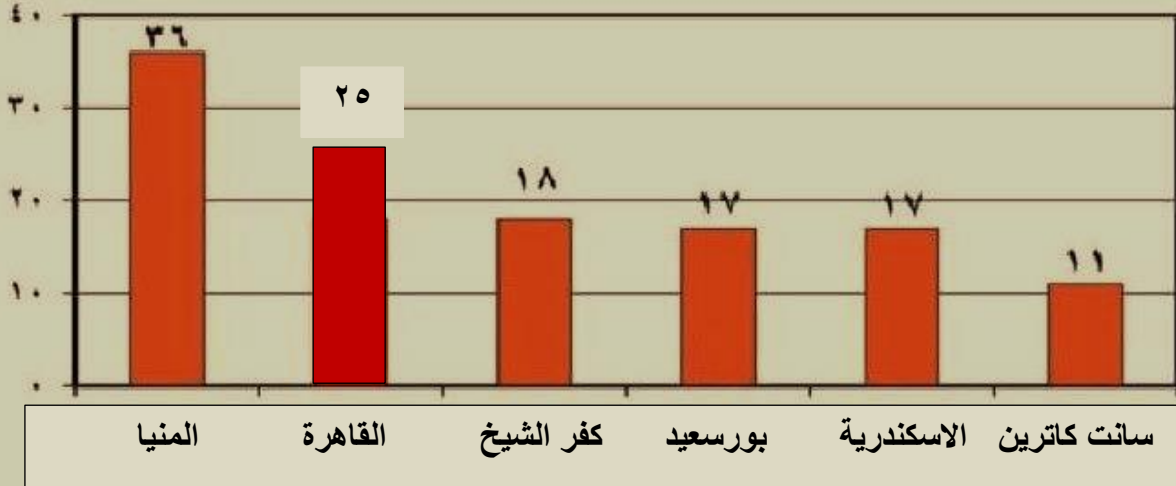
حدثت الانزياحات في مصر بسبب حركة ضغط قادمة من الاتجاه


الجنوبي الغربى


الجنوبي الشرقى


الشمالى الغربى


الشمالى الشرقى



س١/ اختر الإجابة الصحيحة من بين (أ)، (ب)، (ج)، (د) فيما يلي :

- ١- تسقط الأمطار بمصر في جميع الفترات الآتية ولنها تندر في الفترة من
 (أ) مارس، مايو .
 (ب) سبتمبر، نوفمبر .
 (ج) ديسمبر، فبراير .
 (د) يونية، أغسطس .

٢- تتميز مدينة بورسعيد ب.....

- (أ) قلة المدى الحراري اليومي والسنوي .
 (ب) وقوعها في النطاق المداري الجاف .
 (ج) قلة معدلات الرطوبة النسبية .
 (د) ارتفاع المدى الحراري الفصلي .

٣- من المتوقع ان توجد اقل معدلات الرطوبة النسبية في مدينة.....

- (أ) السلوم .
 (ب) كفر الشيخ .
 (ج) قنا .
 (د) الاسكندرية .

٤- تتعرض مصر في شهر ابريل لانخفاضات جوية قادمة من الغرب ينتج عنها هبوب رياح.....

- (أ) شمالية .
 (ب) الخماسين .
 (ج) شمالية تجارية .
 (د) عكسية شمالية غربية .

٥- تنخفض الرطوبة النسبية في المناطق الداخلية ولكن تنكسر هذه القاعدة صيفا عن طريق.....

- (أ) هبوب الرياح الشمالية التجارية .
 (ب) تأثرها بالضغط الجوي فوق اسيا .
 (ج) هبوب الرياح الشمالية الشرقية من اسيا .
 (د) تأثرها بالانخفاضات الجوية فوق البحر المتوسط .

٦- يتشابه المدى الحراري اليومي والسنوي في مدينتي.....

- (أ) الخارجة والسويس .
 (ب) القاهرة ودمياط .
 (ج) بورسعيد ومرسى مطروح .
 (د) اسوان والجيزة .

M / KHALED KHAMES

٧- تزداد كمية المطر السنوى فى فصل الشتاء خاصة فى

- (أ) جنوب الدلتا .
- (ب) اقليم مريوط .
- (ج) ساحل البحر الأحمر .
- (د) القاهرة الكبرى .

٨- تتشابه مدينتى الغردقة والاسكندرية فى

- (أ) ارتفاع المدى الحرارى اليومى .
- (ب) المناخ القارى .
- (ج) ارتفاع معدلات الرطوبة النسبية .
- (د) التطرف الحرارى .

٩- تتوقع ان يقل المدى الحرارى اليومى والسنوى بصورة اكبر فى مدينة

- (أ) السلوم .
- (ب) بنى سويف .
- (ج) القصير .
- (د) اسوان .

١٠- المدن الآتية تقع ضمن النطاق المدارى الجاف ما عدا

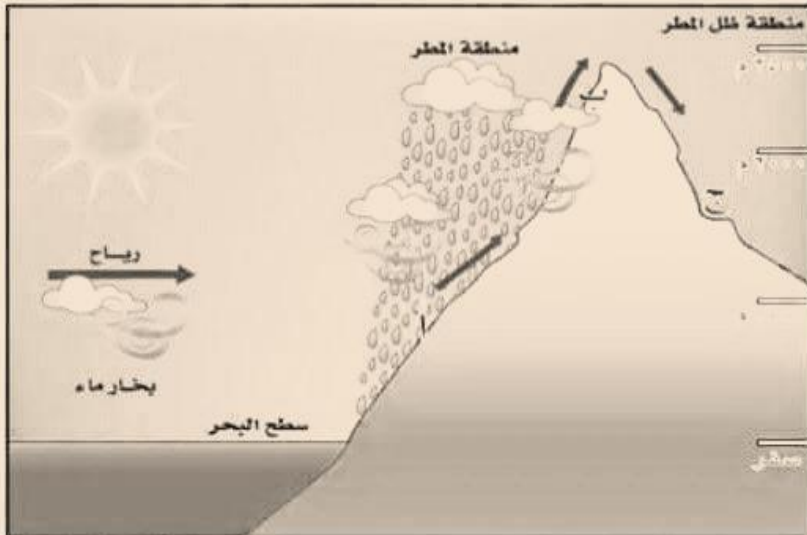
- (أ) اسوان .
- (ب) الفيوم .
- (ج) اسيوط .
- (د) كفر الشيخ .

١١- اكثر مدن مصر انخفاضا فى درجة الحرارة خلال فصل الشتاء مدينة

- (أ) سانت كاترين .
- (ب) القاهرة .
- (ج) المنيا .
- (د) كفر الشيخ .

١٢- تعبر الصورة المقابلة عن احد العوامل المؤثرة فى مناخ مصر والتي توجد فى

- (أ) شمالها .
- (ب) جنوبها .
- (ج) شرقها .
- (د) غربها .



M / KHALED KHAMES

س٨) تتشابه مدينتي الغردقه والاسكندريه في ...

○ ارتفاع المدى الحراري اليومي ○ المناخ القاري ○ ارتفاع معدلات الرطوبه النسبيه ○ التطرف الحراري

س٩) تتوقع ان يقل المدى الحراري اليومي والسنوي بصورة اكبر في مدينه ...

○ السلوم ○ بني سويف ○ القصير ○ اسوان

س١٠) المدن الاتيه تقع ضمن النطاق المداري الجاف ما عدا ...

○ اسوان ○ الفيوم ○ اسيوط ○ كفر الشيخ

س١١) اكثر مدن مصر انخفاضاً في درجه الحرارة خلال فصل الشتاء مدينه

○ سانت كاترين ○ القاهره ○ المنيا ○ كفر الشيخ

س١٢) تعبر الصورة المقابله عن احد العوامل المؤثره



في مناخ مصر التي توجد في ...

○ شمالها
○ جنوبها
○ شرقها
○ غربها

س٩) من المناطق التي ترتفع بها معدلات الرطوبه صيفا

○ القصير ○ منخفض الخارجه ○ القاهره الكبرى ○ سانت كاترين

س١٠) في رايك : اي المناطق الاتيه الاكثر تاثراً بزياده معدلات التبخر مستقبلاً ...

○ الدلتا ○ جنوب سيناء ○ اقليم مريوط ○ شمال سيناء

س١١) تتوقع اي المدن الاتيه الاكثر مطراً في فصل الشتاء ...

○ كفر الشيخ ○ المنيا ○ الباويط ○ اسيوط

س١٢) ينتمي اقليم مريوط في مصر الى مناخ اقليم

○ المرتفعات ○ الاقليم الصحراوي ○ الاقليم شبه الصحراوي ○ اقليم البحر المتوسط

س١٣) تقل معدلات الرطوبه النسبيه شتاء في المدن الاتيه ما عدا

○ الفيوم ○ العريش ○ اسيوط ○ قنا

لل١) ينمو في منطقة راس بناس نبات ...

○ السنط ○ المانجروف ○ التوت ○ الشيح

لل٢) اذا اردت دراسه خصائص بعض الصخور وانواعها وتأريخها فسوف تذهب الى محميه ...

○ بحيره البرلس ○ راس محمد ○ الغابه المتحجره ○ الزرانيق

لل٣) نظرا لوجود مجاري المياه العذبه في مصر ينمو نبات ...

○ المانجروف ○ الكافور ○ الغرقد ○ الشيح

لل٤) اقامت الدوله محميه طبيعيه بالاراضي المنخفضه المتشبعه بالاملاح في ..

○ غرب الصحراء الغربيه ○ جنوب الدلتا ○ شمال سيناء ○ غرب الصحراء الشرقيه

لل٥) تتمركز معظم الطيور المهاجره التي تمر بمصر في ...

○ شمال الدلتا ○ جنوب سيناء ○ الساحل الشمالي ○ شمال الوادي

لل٦) من النباتات التي يمكن ان تنمو على ضفاف بحر يوسف ...

○ التوت ○ المانجروف ○ الزيتون ○ السنط

لل٧) المحميه التي تقع بالقرب من نقطه التقاء خليجي السويس والعقبه محميه ...

○ جيولوجية ○ غابات متحجره ○ تراث طبيعي ○ معزل طبيعي للطيور

لل٨) يوجد تطابق بين خريطه توزيع النبات الطبيعي في مصر و خريطه توزيع ...

○ المطر ○ الحراره ○ الضغط ○ الرياح

إلى أى الأقاليم المناخية تنتمى هذه المدينة ...؟

تنتمى مدينة البايوطى بالواحات البحرية إلى إقليم



إلى أى الأقاليم المناخية تنتمى هذه المدينة ...؟

تنتمى مدينة سانت كاترين إلى إقليم



تقع معظم مساحة مصر فى نطاق المناخ



صل كل عبارة بما يناسبها:

أهم مدنه سانت كاترين

أهم مدنه مرسى مطروح

أهم مدنه القاهرة

أهم مدنه أسبوط

أعلى أجزاء مصر حرارة

أكثر الأقاليم اعتدالاً

يشتمل على جنوب الدلتا

تنتساقط عليه الثلوج شتاء

إقليم المرتفعات

الإقليم الصحراوي

الإقليم شبه الصحراوي

إقليم البحر المتوسط

س1) ينطبق مفهوم الجغرافيا قديماً فقط على دراسته . . .

- توزيع وتحليل التربة والنبات الطبيعي والحيوان البري
- الأشكال التضاريسية الرئيسية على سطح الأرض
- المقومات الجغرافية للدولة واثار ذلك في علاقاتها الدولية
- المناخ واثاره ذلك على الانسان وانشطته


س2) دراسته الموارد المتاحة واستنباط اساليب انتاج جديده تتضمنه . . .

- الجغرافيا الاقليمية
- الجغرافيا الحيوية
- جغرافيه العمران
- الجغرافيا الاقتصادية

س3) يمكن تحديد موقع ما تحديدا دقيقا باستخدام الخريطة من خلال

- اتجاه الشمال
- مصدر الخريطة
- احداثيات الخريطة
- مقياس الرسم

مرئية فضائية لتنوع الالوان باختلاف الصخور



س4) توضح المرئية الفضائية التي امامك احد تطبيقات الاستشعار من بعد وهو . . .

- دراسته الموارد الطبيعيه
- الدراسات العمرانيه
- المجال العسكري
- الملاحة الجويه

س5) دراسته اسباب توزيع الاهرامات في مصر من (الفيوم الى الجيزه) يقع ضمن

- الجغرافيا الاقتصادية
- جغرافيه العمران
- الجغرافيا السياسيه
- الجغرافيا التاريخيه

س6) المرئية الفضائية التي امامك توضح احد مجالات اهتمام . . .

- جغرافيه العمران
- الجغرافيا الحيويه
- جغرافيه التضاريس
- الجغرافيا الاقتصادية



اللهم اجعله علماً ينتفع به

M / KHALED KHAMES