

مذكرة (تحب مصر) في الدراسات الاجتماعية

الصف الثاني الإعدادي

الفصل الدراسي الأول 2016 / 2017

إعداد الأستاذ / وليد نصرى

الجزء الثاني (أسئلة وإجابات الجغرافيا)

الوحدة الأولى (وطننا العربي مكان واحد وطبيعة متغيرة)

الدرس الأول (وطننا العربي - الموقع والمساحة)

السؤال الأول : ضع علامة (✓) أمام العبارة الصحيحة وعلامة (x) أمام العبارة الخاطئة : مع تصحيح الخطأ .

1. يمتد الوطن العربي بين دائرتي 2 جنوباً و 30 37 شمالاً (✓)
2. يقع الوطن العربي وسط ثلاث قارات العالم الجديد هي آسيا وأفريقيا وأوروبا (العالم القديم) (x)
3. يحد الوطن العربي من الشرق الخليج العربي و خليج عمان والبحر العربي (✓)
4. يقع الوطن العربي بين خطي طول 60 شرقاً و 20 غرباً (60 - 17) (x)
5. يشرف الوطن العربي على ثلاث خلجان هما الخليج العربي وخليج عدن وخليج عمان (✓)
6. كل الدول العربية تمتلك سواحل تطل على البحار والمحيطات (✓)
7. يحد الوطن العربي من الشمال الشرقي جبال كردستان و زاجروس (✓)
8. تبلغ مساحة الوطن العربي نحو 23 مليون كم (13 مليون كم مربع) (x)
9. يمر خط الطول الرئيسي جرينتش غرب الوطن العربي (✓)
10. قامت على أرض الوطن العربي العديد من الحضارات منها الحضارة المصرية القديمة و حضارة بلاد العراق القديمة (✓)
11. يشرف الوطن العربي على محيطين هما المحيط الهندي والمحيط الأطلنطي (✓)
12. يقع مضيق باب المندب تحت اشرف عربي خالص (✓)
13. تشرف دولتي المغرب وإسبانيا على مضيق جبل طارق (✓)
14. الدولة العربية التي تشرف على مضيق هرمز هي اليمن (عمان) (x)
15. من المشكلات السياسية في الجناح العربي الآسيوي مشكلة جنوب السودان (الجناح العربي الإفريقي) (x)
16. سبته ومليلة المغربية من المناطق التي ما زالت خاضعة للاستعمار في الوطن العربي (✓)
17. من الدول العربية التي تشرف على مضيق باب المندب دولة جيبوتي (✓)

السؤال الثاني : اكمل الجمل الآتية :

1. تمتد أراضي الوطن العربي في قارتي آسيا و أفريقيا ويفصل بينهما البحر الأحمر
2. يحد وطننا العربي من الشمال البحر المتوسط وجبال طوروس ومن الجنوب المحيط الهندي ودول وسط القارة الأفريقية
3. يبلغ عدد دول الوطن العربي بالجناح الآسيوي 12 دولة وبالجناح الأفريقي 10 دول
4. من الأماكن المقدسة في وطننا العربي إلى يقصدها الناس للزيارة المسجد الأقصى بفلسطين و الكعبة المشرفة بالسعودية
5. يطل الوطن العربي على ثلاث أذرع مائية مهمة البحر المتوسط و البحر الأحمر و الخليج العربي
6. لم تحصل فلسطين وبعض الجزر الإماراتية على استقلالها حتى الآن
7. يمر في الوطن العربي دائرتي عرض رئيسيتين هما مدار السرطان في الوسط و دائرة الاستواء في جنوب الوطن العربي
8. تقع جزر القمر عند تقاطع دائرة عرض 12 جنوباً وخط طول 44 شرقاً وهي تقع في المحيط الهندي

1. الأهمية الحضارية للوطن العربي

- حيث قامت علي أرضه حضارات قديمة مثل
- الحضارة المصرية القديمة
- حضارة بلاد الشام
- * حضارة بلاد العراق القديم (ما بين النهرين)
- * حضارة بلاد اليمن

2. للوطن العربي مكانه دينية مهمة (الأهمية الدينية للوطن العربي)

- مهد الديانات السماوية الثلاثة ومنه انتشرت للعالم كله.
- وجود أماكن مقدسة يقصدها الناس مما اكسبه قيمة روحية عظيمة في نفوس سكان العالم مثل :
- (المسجد الأقصى - كنيسة المهد بفلسطين - الكعبة المشرفة بالسعودية) .

3. الأهمية الاقتصادية لوطننا العربي.

- بسبب تنوع الموارد الاقتصادية في الوطن العربي
- وجود البترول والغاز الطبيعي في الوطن العربي
- بسبب موقع الوطن العربي المتوسط بين قارات العالم
- بسبب تحكم الوطن العربي في طرق التجارة العالمية
- لأنه يشرف على ثلاث اذرع مائية (البحر الأحمر - البحر المتوسط - الخليج العربي)
- لأنه يتحكم في اربع ممرات مائية (قناة السويس - هرمز - باب المندب - جبل طارق)

4. الأهمية الاستراتيجية للوطن العربي

- اصبح الوطن العربي من اهم المواقع الاستراتيجية بسبب
- إشرافه على البحار والخلجان المهمة
- سيطرته على قناة السويس والمضايق
- جعلت الوطن العربي يتحكم في طرق الملاحة العالمية
- تزداد أهميه الوطن العربي في وقت الحروب والصراعات

5. تنوع الموارد الاقتصادية في الوطن العربي

- بسبب تنوع الأقاليم المناخية والنباتية
- بسبب تنوع التكوينات الجيولوجية به

6. تقسيم الوطن العربي إلى دول مختلفة المساحة .

- بسبب تعرض الوطن العربي للاستعمار الأوروبي الذي قسمه إلى دول مختلفة في المساحة وعدد السكان
- تفصل الدول حدود سياسية مصطنعة.

السؤال الرابع : اكتب ما تشير اليه العبارات التالية :

1. الموقع بالنسبة للماء واليابس (موقع جغرافي)
2. الموقع بالنسبة لدوائر العرض وخطوط الطول (موقع فلكي)
3. الأهمية وقت الحروب والأزمات والسلم (أهمية استراتيجية)
4. مضيق يصل بين الخليج العربي وخليج عمان بالمحيط الهندي (مضيق هرمز)
5. مضيق يصل بين المحيط الأطلنطي والبحر المتوسط (مضيق جبل طارق)
6. مضيق يصل بين البحر الأحمر وخليج عدن بالمحيط الهندي (مضيق باب المندب)
7. قناة تصل بين البحر الأحمر والبحر المتوسط (قناة السويس)
8. الدولة العربية (الأفريقية) الوحيدة التي تقع خارج الموقع الفلكي للوطن العربي (جزر القمر)
9. حدود تسير مع ظواهر طبيعية (جبال - بحار - محيطات - خلجان) (حدود طبيعية)

السؤال الخامس : ما النتائج المترتبة على :

1. الأهمية الاستراتيجية لموقع الوطن العربي
 - تعرض الوطن العربي للاستعمار الأوروبي
 - عمل الاستعمار على نهب خيرات الوطن العربي
 - تقسيم الوطن العربي إلى دول مختلفة في المساحة وعدد السكان تفصل بينهما حدود سياسية
 - قاومت الدول العربية الاستعمار حتى حصلت على الاستقلال ماعدا (فلسطين - سبته ومليلة).
2. امتداد حدود الوطن العربي مع ظواهر طبيعية (بحار - محيطات - جبال - صحراء)
 - ترتب على ذلك احتفاظ الوطن العربي بشخصيته العربية المميزة بين الأمم
3. الموقع الجغرافي للوطن العربي .
 - ترتب عليه أصبح للوطن العربي أهمية اقتصادية واستراتيجية وحضارية ودينية هامة
4. الموقع الفلكي للوطن العربي
 - أدى إلى تنوع المناخ وتنوع الحياة النباتية
5. تحكم الوطن العربي في أربع ممرات مائية مهمة.
 - أصبح للوطن العربي أهمية استراتيجية واقتصادية هامة
 - بسبب تحكمه وسيطرته على طرق التجارة العالمية
6. تنوع الأقاليم المناخية والنباتية في الوطن العربي
 - أدى ذلك إلى تنوع الموارد في الوطن العربي

السؤال السادس : اختر الإجابة الصحيحة مما بين القوسين :

1. يحد الوطن العربي من الغرب المحيط (الهندي - الهادي - الأطلنطي)
2. من دول الجناح العربي الآسيوي (لبنان - السودان - المغرب)
3. من دول الجناح العربي الإفريقي (سوريا - البحرين - جيبوتي)
4. يتحكم الوطن العربي في ممرات مائية مهمة (ثلاث - أربعة - خمسة)

السؤال السابع : قارن بين :

مضيق هرمز ومضيق باب المندب من حيث (الدولة التي تشرف عليه و المسطحات المائية التي تصل بينها)

| أوجه المقارنة | مضيق هرمز | مضيق باب المندب |
|---------------|--|---|
| الدولة | • عمان - إيران | • جيبوتي - اليمن |
| المسطحات | • الخليج العربي - خليج عمان • بالتالي المحيط الهندي | • البحر الأحمر وخليج عدن • بالتالي المحيط الهندي |

مضيق جبل طارق وقناة السويس (الدولة التي تشرف عليه و المسطحات المائية التي تصل بينها)

| أوجه المقارنة | مضيق جبل طارق | قناة السويس |
|---------------|-----------------------------------|--------------------------------|
| الدولة | • المغرب - إسبانيا | • مصر |
| المسطحات | • البحر المتوسط - المحيط الأطلنطي | • البحر المتوسط - البحر الأحمر |

**أطيب التمنيات بالنجاح والتوفيق
لجميع الطلبة والطالبات**

الدرس الثاني (تضاريس الوطن العربي)

السؤال الأول : ضع علامة (✓) أمام العبارة الصحيحة وعلامة (x) أمام العبارة الخطأ : مع تصحيح الخطأ .

1. الحركات الانكسارية والالتوائية من العوامل الخارجية لتشكيل سطح الأرض (العوامل الباطنية) (x)
2. وقفت تضاريس الوطن العربي عائقاً أمام وحدته (لم تقف) (x)
3. تعمل البحار على حفظ توازن الأرض أثناء دورانها (الجبال) (x)
4. جبال اطلس من الجبال الالتوائية والتي تمتد في شمال شرق الجناح الأفريقي (✓)
5. جبال البحر الأحمر توجد في مصر والسودان في الجناح العربي الأفريقي (✓)
6. من هضاب الجناح العربي الآسيوي هضبة نجد شمال شبه الجزيرة العربية (هضبة بادية الشام) (x)
7. تعتبر هضبة الشطوط من أهم مظاهر هضبة إفريقيا الشمالية (✓)
8. تكونت هضبة اليمن نتيجة الحركات الالتوائية (الثورات البركانية) (x)
9. السهول المطلة على الخليج العربي من السهول الساحلية بالجناح العربي الأفريقي (الجناح الآسيوي) (x)
10. كون نهر دجلة والفرات سهلاً فيضياً في الصومال (العراق) (x)
11. تتميز السهول الفيضية بمصر والعراق بالتربة الخصبة لذلك ترتفع بها الكثافة السكانية (✓)
12. السهول المطلة على البحر المتوسط من السهول الفيضية في الوطن العربي (السهول الساحلية) (x)
13. سهول نهر النيل في مصر وسهول دجلة والفرات في العراق من السهول الساحلية (الساحلية الفيضية) (x)
14. التعرية المائية والهوائية من العوامل الخارجية التي شكلت سطح الوطن العربي (✓)
15. تكونت الأودية الجافة والسهول الفيضية نتيجة التعرية المائية (✓)
16. تتميز هضاب الوطن العربي بوجود العديد من الظواهر الطبيعية مثل الواحات والتكوينات الرملية والأودية الجافة (✓)
17. الثورات البركانية من العوامل الباطنية التي شكلت سطح الأرض (✓)
18. التعرية المائية والهوائية من العوامل الخارجية التي شكلت سطح الأرض (✓)
19. وادي العلاقي من أمثله الأودية الجافة في مصر (✓)

السؤال الثاني : اكمل الجمل الآتية :

1. جبال الشام تحصر بينها سهول تجرى بها الأنهار مثل نهر البيطاني في لبنان ونهر العاصي في سوريا
2. تمتد جبال اطلس التل في ثلاث دول عربية المغرب والجزائر وتونس
3. نشأت جبال الشام نتيجة الحركات الانكسارية بينما تكونت جبال اطلس نتيجة الحركات الالتوائية التي حدثت في القشرة الأرضية
4. تتكون جبال اطلس من مجموعة سلاسل جبيلية أهمها اطلس الصحراء في الجنوب و اطلس التل في الشمال
5. تعرف جبال البحر الأحمر الانكسارية في السعودية بجبال الحجاز وعسير بينما في اليمن تعرف بمرتفعات اليمن
6. من هضاب الجناح الآسيوي بادية الشام ونجد وحضرموت
7. من الهضاب البركانية في الوطن العربي هضبة اليمن

8. يوجد سهول نهري جوبا وشيبلي دولة الصومال
9. تعد سهول البحر المتوسط من السهول الساحلية الصالحة للزراعة في الوطن العربي
10. من هضاب الجناح الأفريقي هضبة أفريقيا الشمالية وهضبة الشطوط
11. تنقسم السهول في وطننا العربي إلى سهول فيضية وساحلية وصحراوية
12. من أمثله الواحات في الوطن العربي واحة الكفرة ليبيا وواحة سيوه في مصر
13. من اشهر التكوينات الرملية بين مصر وليبيا بحر الرمال العظيم
14. تكونت الكثبان الرملية نتيجة التعرية الهوائية
15. تكونت الدالات الشواطئ بالوطن العربي بفعل التعرية المائية

السؤال الثالث : بم تفسر :

1. أهمية الأودية الجافة في الوطن العربي.
 - تستخدم كطرق للمواصلات
 - يسهل الحصول منها على المياه الجوفية
 - مثل (وادي العلاقي في مصر)
2. تكون السهول الفيضية في الوطن العربي
 - بسبب ترسيب المواد العالقة بمياه الأنهار على جانبيها
3. أهمية الواحات بالوطن العربي.
 - توجد بها ارض خصبة صالحة للزراعة
 - يعمل السكان بالزراعة وتربية الحيوانات
 - مثل (واحة سيوه في مصر - واحة الكفرة في ليبيا)
4. الأهمية الاقتصادية لسهول البحر المتوسط
 - بسبب أنها سهول صالحة للزراعة
5. الأهمية الاقتصادية لسهول البحر الأحمر والخليج العربي
 - لأنها يستخرج منها الثروات المعدنية ومصادر الطاقة
6. الأهمية الاقتصادية للسهول الفيضية
 - لأنها تقوم بها الزراعة بسبب خصوبة التربة
7. ساعدت التضاريس على وحدة و شخصية الوطن العربي المتميزة. عدم وقوف مظاهر السطح في الوطن العربي عائقاً أمام وحدته
 - حافظت مظاهر السطح على شخصيته العربية
 - كانت عامل في تحقيق الوحدة بين أبناء الوطن العربي
 - ساعدت مظاهر السطح على اتصال الوطن العربي بالعالم الخارجي.
8. أهمية الجبال
 - تحفظ توازن الأرض أثناء دورانها
 - مصدر مهم للعديد من الثروات مثل المعادن

9. تكون هضبة اليمن

- نتيجة حدوث الثورات البركانية

10. تكون جبال اطلس وزاجروس وكردستان وعمان

- نتيجة الحركات الالتوائية

11. قيام الزراعة في الواحات

- بسبب توافر مياه الآبار والعيون

12. تكون جبال البحر الأحمر وجبال الشام

- نتيجة الحركات الانكسارية

13. تكون ظاهرة الكثبان الرملية

- بسبب نحت الرياح للصخور ونقلها وإرسابها (تسمى التعرية الهوائية)

14. ارتفاع الكثافة السكانية في مناطق السهول الفيضية

- بسبب وجود التربة الخصبة الصالحة للزراعة

السؤال الرابع : اكتب ما تشير إليه الجمل التالية :

1. جبال انكسارية تمتد على الساحل الشرقي للبحر المتوسط في (سوريا - لبنان - فلسطين) (جبال الشام)
2. حركات باطنية كبرى أدت إلى تكوين سلاسل جبلية مرتفعة (حركات التوائية)
3. حركات باطنية أصابت الصخور الصلبة وأدت إلى ارتفاع بعضها مكونة الجبال وانخفاض بعضها مكونة البحار والبحيرات (حركات انكسارية)
4. أودية كانت تجرى بها المياه في قديما ثم جفت (الأودية الجافة)
5. أراضي مستوية أو شبه مستوية كونتها الأنهار عن طريق ترسيب المواد العالقة بمياهه وتوجد على جانبي الأنهار (سهول فيضية)
6. أراضي مستوية أو شبه مستوية تمتد على سواحل البحار والمحيطات (سهول ساحلية)
7. تجمعات رملية تنتشر في مساحات من الصحراء مختلفة الأشكال والأحجام (الارسابات الرملية)
8. منخفضات في الصحراء صالحة للحياة تستمد المياه من الآبار والعيون وتوجد بها أراضي صالحة للزراعة (الواحات)
9. نحت الماء للصخور وإرسابها (التعرية المائية)
10. نحت الرياح للصخور ونقلها وإرسابها (التعرية الهوائية)
11. هضبة تمتد من جبال البحر الأحمر شرقا إلى المحيط الأطلنطي غربا (هضبة أفريقيا الشمالية)
12. هضبة تقع وسط شبه الجزيرة العربية (نجد)

السؤال الخامس : ما النتائج المترتبة على :

1. الحركات الالتوائية

- أدت إلى تكوين سلاسل جبلية مرتفعة
- مثل جبال اطلس وزاجروس وكردستان وعمان

2. الحركات الانكسارية

- ارتفاع بعض الصخور (مكونه الجبال)
- انخفاض بعض الصخور (البحار والمحيطات)
- الثورات البركانية
- أدت إلى ظهور الجبال والهضاب البركانية (مثل هضبة اليمن)

3. التعرية المائية

- ينتج عنها أشكال سطح منها (الشواطئ - دلتا الأنهار)

4. التعرية الهوائية

- ينتج عنها أشكال ارسابات رملية مثل (الكثبان الرملية)

السؤال السادس : اختر الإجابة الصحيحة مما بين القوسين :

1. تقع هضبة الشطوط بين سلاسل جبال (اطلس - البحر الأحمر - الحجاز - عسير)
2. تمتد جبال الشام على طول الساحل الشرقي للبحر (الأحمر - المتوسط - العربي - الميت)
3. تمتد جبال اطلس في دول عربية (ثلاث - اربع - خمس - سبع)
4. تقع هضبة حضرموت في شبه الجزيرة العربية (شمال - جنوب - شرق - وسط)
5. من السهول الساحلية الغنية بالثروات المعدنية ومصادر الطاقة سهول (البحر المتوسط - البحر الأحمر - المحيط الأطلنطي)

السؤال السابع : قارن بين

جبال اطلس وجبال الشام من حيث (النشأة والامتداد)

| أوجه المقارنة | جبال اطلس | جبال الشام |
|---------------|--|--|
| النشأة | • بسبب الحركات الالتوائية | • بسبب الحركات الانكسارية |
| الامتداد | • تمتد من الغرب إلى الشرق • المغرب - الجزائر - تونس | • تمتد على طول الساحل الشرقي للبحر المتوسط • سوريا - لبنان - فلسطين |

السهول الساحلية والسهول الفيضية (من حيث أوجه الشبة والاختلاف) مع ذكر مثال لكل منهما .

| أوجه المقارنة | السهول الساحلية | السهول الفيضية |
|---------------|---|---|
| الشبة | ارض مستوية أو شبه مستوية | ارض مستوية أو شبه مستوية |
| الاختلاف | توجد على سواحل البحار والمحيطات | توجد على جانبي الأنهار |
| مثال | سهول البحر المتوسط والأحمر | سهول نهر النيل |
| الأهمية | استخراج المعادن - مصادر الطاقة قيام الزراعة في بعض الأماكن | تربة خصبة تساعد على قيام الزراعة ارتفاع الكثافة السكانية بها |

الوحدات والأودية الجافة (من حيث أوجه الشبة والاختلاف) مع ذكر مثال لكل منهما .

| أوجه المقارنة | الوحدات | الأودية الجافة |
|---------------|---------------------------------|----------------------------|
| الشبة | توجد في الصحارى | توجد في الصحارى |
| الاختلاف | تستخرج منها المياه الجوفية | تستخرج منها المياه الجوفية |
| مثال | يعيش بها السكان - صالحة للزراعة | تستخدم طرق للمواصلات |
| | واحة الكفرة في ليبيا | وادي العلاقي في مصر |

جبال البحر الأحمر وجبال أطلس من حيث أوجه الشبة والاختلاف) مع ذكر مثال لكل منهما .

| أوجه المقارنة | جبال البحر الأحمر | جبال اطلس |
|---------------|-----------------------------------|---------------------------------|
| الشبة | سلاسل جبلية | سلاسل جبلية |
| الاختلاف | تكونت نتيجة حركات انكسارية | تكونت نتيجة حركات التوائية |
| مثال | جبال البحر الأحمر في مصر والسودان | جبال اطلس في بلاد المغرب العربي |

أطيب التمنيات بالنجاح والتوفيق

لجميع الطلبة والطالبات

الدرس الثالث : المناخ والنبات الطبيعي في الوطن العربي

السؤال الأول : ضع علامة (✓) أمام العبارة الصحيحة وعلامة (x) أمام العبارة الخطأ : مع تصحيح الخطأ .

1. من العوامل المؤثرة في مناخ الوطن العربي الموقع بالنسبة لدوائر العرض والتضاريس (✓)
2. يقع معظم الوطن العربي في المنطقة المناخية المدارية الحارة (✓)
3. ترتفع الحرارة جنوب الوطن العربي للقرب من مدار السرطان (دائرة الاستواء) (x)
4. تتميز المناطق القارية باعتدال المناخ (ارتفاع الحرارة في الصيف وانخفاض الحرارة في الشتاء) (x)
5. تنخفض درجة الحرارة في المناطق الصحراوية بالوطن العربي شتاءً (✓)
6. تقل درجة الحرارة جنوب الوطن العربي (ترتفع الحرارة) (x)
7. تنخفض درجة الحرارة بمعدل درجة واحدة مئوية كلما ارتفعنا 150 متر عن سطح البحر (✓)
8. جبال لبنان من جبال الوطن العربي التي تتكون على قممها الثلوج (✓)
9. السفوح الداخلية للجبال تكون أغزر مطرا من سفوح الجبال المواجهة للرياح الممطرة (العكس) (x)
10. يؤثر اتجاه الكتل الجبلية في توزيع كمية المطر في الوطن العربي (✓)
11. سفوح جبال الشام المواجهة للبحر اقل مطرا من السفوح الداخلية (أغزر مطرا) (x)
12. تنتمي جبال اطلس إلى مناخ البحر المتوسط (✓)
13. يشغل إقليم البحر المتوسط معظم مساحة الوطن العربي (الإقليم الصحراوي) (x)
14. تنتمي أجزاء من مصر لإقليم البحر المتوسط (✓)
15. يتميز الإقليم المداري بسقوط الأمطار الغزيرة في فصل الشتاء (فصل الصيف) (x)
16. تسمى الحشائش الحارة باسم السافانا وتزدهر في فصل الصيف (✓)
17. تزدهر حشائش الاستبس في فصل الشتاء (✓)
18. تنمو الغابات المعتدلة في أقصى جنوب الوطن العربي (أقصى شمال الوطن العربي) (x)
19. تنمو أشجار الصنوبر فوق على مرتفعات بلاد الشام (✓)
20. تنمو الغابات المدارية في وسط الوطن العربي (جنوب الوطن العربي) (x)
21. تنمو حشائش السافانا جنوب الوطن العربي (✓)
22. تنتشر الحيوانات أكله العشب وآكله اللحوم داخل الغابات المدارية (داخل حشائش السافانا) (x)

السؤال الثاني : اكمل الجمل الآتية :

1. تتميز الأجزاء الساحلية المطلة على البحار بالوطن العربي بالمناخ المعتدل.
2. تعرف المناطق الداخلية البعيدة عن تأثير البحر بالمناطق القارية.
3. مناخ الجهات الساحلية معتدل.
4. يتمثل المناخ القاري في المناطق الداخلية في الوطن العربي.

5. تعرف السفوح الداخلية للجبال بمنطقة ظل المطر
6. تسقط الأمطار في إقليم البحر المتوسط في فصل الشتاء بينما تسقط في الإقليم المداري في فصل الصيف
7. يشغل الإقليم الصحراوي 80 ٪ من مساحة الوطن العربي
8. يمتد الإقليم الصحراوي بين إقليم البحر المتوسط في الشمال وبين الإقليم المداري في الجنوب
9. تنتمي معظم جمهورية السودان إلى الإقليم المناخي المداري
10. تدخل الأجزاء الجنوبية الغربية من شبه الجزيرة العربية ضمن إقليم مناخ المداري
11. تنمو الغابات المعتدلة فوق المنحدرات الجبلية مثل جبال اطلس ومرتفعات بلاد الشام
12. تنمو الحشائش المعتدلة في إقليم مناخ البحر المتوسط بالوطن العربي
13. تنمو أشجار الأرز والبلوط الفليني في إقليم الغابات المعتدلة
14. تزدهر حشائش الاستبس في فصل الشتاء
15. تتنوع النباتات الصحراوية حسب كمية المطر
16. تغطي المنطقة الصحراوية معظم مساحة الوطن العربي عدا الأجزاء الشمالية فتقع في المنطقة المعتدلة
17. من أشجار الغابات المعتدلة البلوط الفليني و الصنوبر والأرز
18. من أهم الحيوانات في الإقليم الصحراوي الابل و الزواحف والغزلان
19. من الحيوانات التي تربي على حشائش الاستبس الماعز والأغنام

السؤال الثالث : اكتب ما تشير اليه الجمل التالية

1. منطقة قليلة المطر عند السفوح الداخلية للجبال (منطقة ظل المطر)
2. غابات تنمو فوق المنحدرات الجبلية غزيرة المطر في إقليم مناخ البحر المتوسط (الغابات المعتدلة)
3. غابات تنمو في إقليم المناخ المداري وتشبه الغابات الاستوائية وتكثر بها أشجار السنت (الغابات المدارية)
4. حشائش تنمو بين إقليم مناخ البحر المتوسط والإقليم الصحراوي وتزدهر شتاء وتجف صيفا (الاستبس)
5. حشائش تنمو في إقليم المناخ المداري وتترج في الطول من الجنوب إلى الشمال (السافانا)
6. أشجار تكثر في الغابات المدارية ويستخرج منها الصمغ العربي (شجر السنت)
7. شجرة اتخذت لبنان منها شعارا لها (شجرة الأرز)
8. إقليم مناخي يمتد على الأطراف الشمالية للوطن العربي (إقليم البحر المتوسط)
9. أكبر أقاليم الوطن العربي النباتية مساحة (الإقليم الصحراوي)
10. إقليم مناخي يتميز بارتفاع الحرارة صيفا وانخفاضها في الشتاء وندرة الأمطار (الإقليم الصحراوي)
11. الإقليم الذي يتمثل في معظم السودان واليمن (الإقليم المداري)
12. المناطق المطلة على المسطحات المائية (محيطات - بحار) وتتميز بالمناخ المعتدل (المناطق الساحلية)
13. يتصف بارتفاع الحرارة صيفا وانخفاضها في الشتاء (المناخ القاري)

1. تغطي الثلوج قمم الجبال العالية في وطننا العربي
 - بسبب شدة ارتفاعها فكلما ارتفعنا 150 متر عن سطح البحر تنخفض درجة الحرارة درجة مئوية
2. سفوح جبال اطلس المواجهة للرياح أغزر مطراً من السفوح الداخلية الواقعة في منطقة ظل المطر
 - بسبب اصطدام الرياح المحملة ببخار الماء القادمة من المسطحات المائية بجوانب الجبال المواجهة لها فتسقط الأمطار
 - عندما تعبر الرياح إلى السفوح الداخلية الواقعة في ظل المطر تكون جافة أو شبه جافة
3. يسود المناخ القاري مساحة كبيرة من الوطن العربي
 - لان الإقليم الصحراوي يغطي 80 ٪ من مساحة الوطن العربي
4. سقوط الأمطار صيفاً على جنوب غرب شبه الجزيرة العربية
 - بسبب وقوعها ضمن الإقليم المداري
5. تدرج حشائش السافانا في الطول من الجنوب إلى الشمال
 - بسبب اختلاف كمية المطر
6. الأهمية الاقتصادية لأشجار السنط
 - لأنها يستخرج منها الصمغ العربي
7. ارتفاع درجة الحرارة في معظم مساحة الوطن العربي .
 - بسبب امتداد الوطن العربي بين دائرتي عرض 2° جنوباً و37,5° شمالاً
 - مما أدى إلى وقوع معظم الوطن العربي في المنطقة المدارية الحارة .
8. تعد حشائش السافانا حديقة حيوان طبيعية
 - توجد بها أنواع عديدة من الحيوانات أكله العشب واللحوم
 - مثل (النمر - الأسود - الزراف - الأفيال)
9. الأهمية الاقتصادية للغابات المدارية
 - تكثر بها أشجار السنط التي يستخدم في استخراج الصمغ العربي
10. تنوع النبات الطبيعي في الوطن العربي .
 - بسبب تنوع الأقاليم المناخية في الوطن العربي .
11. تنوع النباتات الصحراوية في الوطن العربي.
 - بسبب اختلاف كمية المطر
 - المناطق القليلة الأمطار تنمو بها الحشائش القصيرة.
 - المناطق النادرة الأمطار تنمو النباتات الشوكية والصبار.
12. قارية المناخ في قلب الوطن العربي طوال العام
 - لبعد قلب الوطن العربي عن المسطحات المائية
13. أهمية الحشائش المعتدلة (الاستبس)
 - لأنها تربي عليها الأغنام والماعز

14. يؤثر تعامد الرياح مع الكتل الجبلية على كميات المطر

- تزداد الأمطار على السفوح المواجهة للرياح عن السفوح الداخلية (منطقة ظل المطر)

15. معظم الوطن العربي يقع ضمن الإقليم الصحراوي

- لا نه يمثل 80 ٪ من مساحة الوطن العربي

16. يؤثر الارتفاع في المناخ

- لا نه كلما ارتفعنا 150 متر تنخفض درجة الحرارة (درجة واحدة)
- لذلك نجد بعض القمم الجبلية في الوطن العربي يغطيها الجليد مثل جبال لبنان

السؤال الخامس : اختر الإجابة الصحيحة مما بين القوسين

1. كل العوامل الآتية تؤثر في مناخ الوطن العربي ما عدا

(الموقع الفلكي - التضاريس - البعد والقرب عن المسطحات المائية - الموارد الاقتصادية)

2. كل الحيوانات الآتية تعيش في حشاش السافانا ما عدا (الأغنام - الزراف - الأفيال - الأسود)

3. تتميز المناطق القارية بارتفاع الحرارة في فصل (الشتاء - الخريف - الصيف - الربيع)

4. إقليم المناخ يقع جنوب إقليم البحر المتوسط في الوطن العربي (الصحراوي - المداري - الاستوائي - القطبي)

5. تنمو الحشاش المعتدلة بين إقليم البحر المتوسط والإقليم (الاستوائي - الموسمي - الصحراوي - المداري)

6. تدخل الأجزاء الجنوبية الغربية في شبة الجزيرة العربية ضمن مناخ الإقليم (المداري - الاستوائي - البحر المتوسط)

7. تنمو أشجار فوق منحدرات جبال اطلس (الماهوجني - السنط - الصنوبر - الصبار)

8. دولة تنتمي لإقليم مناخ البحر المتوسط (لبنان - الكويت - السودان)

9. تسقط الأمطار على إقليم البحر المتوسط في فصل (الصيف - الشتاء - الربيع - الخريف)

10. تنمو الغابات المعتدلة فوق جبال (اطلس - البحر الأحمر - عسير - اليمن)

11. تنمو الغابات المعتدلة في إقليم (البحر المتوسط - الصحراوي - الاستوائي - المداري)

السؤال السادس : ما النتائج المترتبة على

1. وقوع معظم جمهورية السودان ضمن الإقليم المداري

- أدى إلى ارتفاع الحرارة صيفا وسقوط الأمطار
- انخفاض الحرارة شتاء مع وجود الجفاف

2. ارتفاع جبال لبنان ارتفاعا شاهقا

- أدى ذلك إلى تغطية الجليد قمم الجبال

3. تنوع المناخ في الوطن العربي.

- أدى ذلك إلى تنوع النباتات الطبيعية والمحاصيل الزراعية.
- ساعد على تكامل الدول العربية فيما بينها

4. الموقع الفلكي للوطن العربي

- تنوع الظروف المناخية * تنوع المحاصيل الزراعية
- أصبح الوطن العربي داخل المنطقة المدارية الحارة
- 5. مواجهة سفوح جبال أطلس الأمامية للرياح (للبحر).
- أصبحت سفوح جبال أطلس الأمامية أغزر مطراً من السفوح الداخلية.
- 6. اثر الموقع على مناخ الوطن العربي
- ارتفاع درجة الحرارة كلما اقتربنا من دائرة الاستواء
- تنخفض الحرارة كلما بعدنا عن دائرة الاستواء

السؤال السابع : ماذا يحدث اذا

1. كان مناخ الوطن العربي على وتغيره واحدة
- أدى ذلك إلى عدم تنوع النبات الطبيعي والمحاصيل الزراعية
- لم يكن هناك تكامل اقتصادي بين الدول العربية

السؤال الثامن : ما العلاقة بين

1. العلاقة بين اتجاه الكتل الجبلية وتوزيع كمية المطر
- جوانب (سفوح) الجبال المواجهة للمسطحات المائية (غزيرة المطر)
- جوانب الجبال الداخلية (الواقعة في منطقة ظل المطر) (اقل مطراً)
- السبب : اصطدام الرياح المحملة بالمياه في الجوانب المواجهة للمسطحات المائية مثل (جبال اطلس)
2. العلاقة بين المسطحات المائية والمناخ في الوطن العربي
- تؤثر المسطحات المائية على المناخ
- المناطق القريبة من المسطحات المائية (يسود بها المناخ المعتدل)
- المناطق البعيدة عن المسطحات المائية (يسود بها المناخ القاري)
3. العلاقة بين الموقع بالنسبة لدوائر العرض ومناخ الوطن العربي
- يؤثر الموقع بالنسبة لدوائر العرض في المناخ كالآتي
- الأماكن القريبة من دائرة الاستواء ترتفع بها درجة الحرارة
- كلما ابتعدنا عن دائرة الاستواء تنخفض درجة الحرارة

Walid Nassry

السؤال السابع : قارن بين إقليم مناخ البحر المتوسط وإقليم المناخ المداري والإقليم المناخ الصحراوي من حيث (الموقع – الخصائص المناخية والخصائص النباتية)

| أوجه المقارنة | إقليم مناخ البحر المتوسط | إقليم المناخ الصحراوي | إقليم المناخ المداري |
|-------------------------|--|--|--|
| الموقع | * الأطراف الشمالية للوطن العربي المطلة على البحر المتوسط * بعض أجزاء من مصر – ليبيا – لبنان – المغرب | * يمتد بين إقليم البحر المتوسط شمالا والإقليم المداري جنوبا * في معظم دول الوطن العربي * يمثل 80 ٪ من مساحة الوطن العربي | * جنوب الوطن العربي (معظم السودان – جنوب موريتانيا – وسط الصومال – جنوب غرب شبه الجزيرة العربية) |
| الخصائص المناخية | * الصيف : (ارتفاع الحرارة) * الشتاء : (اعتدال الحرارة – سقوط الأمطار) | * الصيف : (مناخ قاري شديد الحرارة) (نهارا) * الشتاء : (مناخ قاري شديد البرودة) (ليلا) | * الصيف : (حرارة مرتفعة – سقوط أمطار) * الشتاء : (حرارة منخفضة – يسود الجفاف) |
| النبات الطبيعي | • غابات معتدلة (تنمو فوق المنحدرات الجبلية غزيرة المطر) اهم الأشجار (البلوط – الصنوبر – الارز) • حشائش معتدلة (الاستبس) * تنمو بين إقليم البحر المتوسط والإقليم الصحراوي * تزدهر شتاء وتجف صيفا | • نباتات متنوع حسب كمية المطر * حشائش قصيرة (مناطق قليلة المطر) * نباتات شوكية (مناطق نادرة المطر) | • غابات مدارية (تشبه الغابات الاستوائية) * اهم الأشجار (السنت) * حشائش السافانا |
| اهم الحيوانات | • الماعز – الأغنام • (تربي على الاستبس) | • الزواحف – الابل – الغزلان | • الزراف – الأفال – الأسود – النمر • (تعيش في السافانا) |

أطيب التمنيات بالنجاح والتوفيق

لجميع الطلبة والطالبات

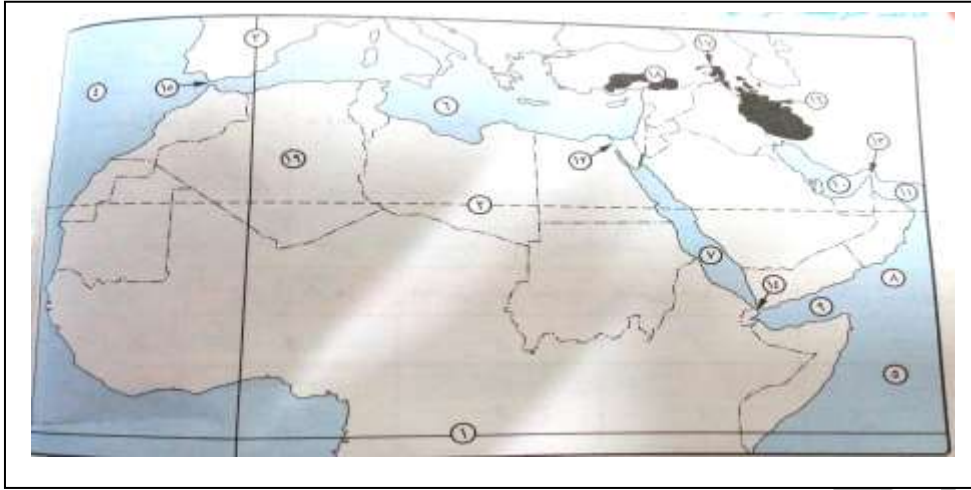
وليد نصرى 01226084618 الشيتات مرفوعة على صفحة الفيس بوك (مذكرات دراسات اجتماعية) (ملخصات دراسات اجتماعية)

الجغرافيا الصف الثالث الثانوي – الصف الأول الثانوي – الدراسات الاجتماعية الصف الأول والثاني والثالث الإعدادي – الصف السادس الابتدائي

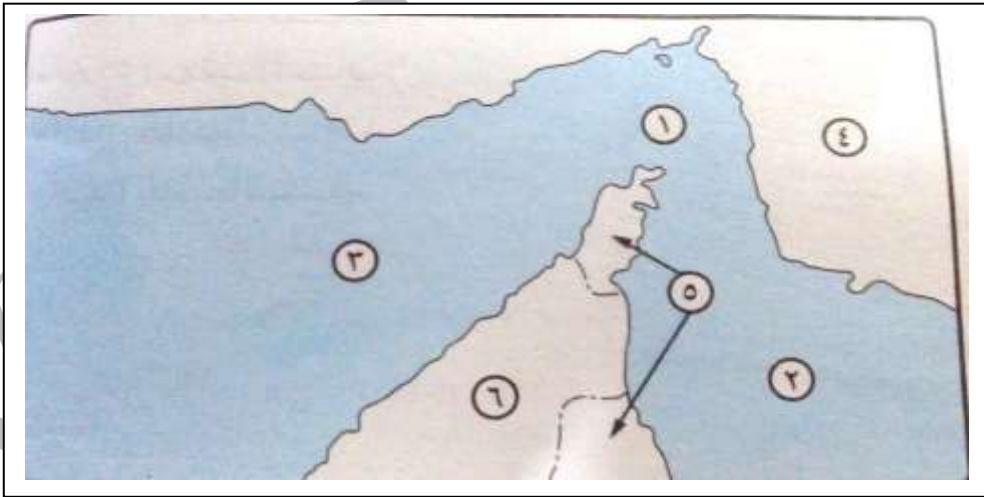
Walid Nassry

وليد نصرى 01226084618 الشيتات مرفوعة على صفحة الفيس بوك (مذكرات دراسات اجتماعية) (ملخصات دراسات اجتماعية)
الجغرافيا الصف الثالث الثانوي - الصف الأول الثانوي - الدراسات الاجتماعية الصف الأول و الثاني والثالث الإعدادي - الصف السادس الابتدائي

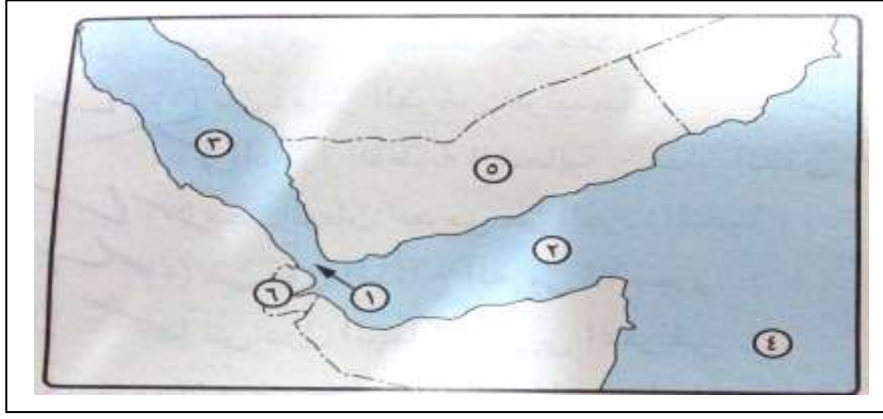
الخرائط



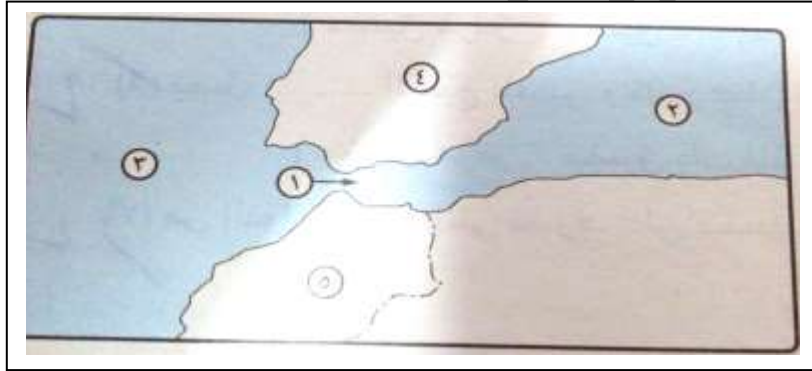
- | | | | |
|-------------------|---------------------|-------------------|--------------------------|
| 1. دائرة الاستواء | 2. مدار السرطان | 3. خط جرينتش | 4. المحيط الأطلنطي |
| 5. المحيط الهندي | 6. البحر المتوسط | 7. البحر الأحمر | 8. البحر العربي |
| 9. خليج عدن | 10. الخليج العربي | 11. خليج عمان | 12. ممر مائي قناة السويس |
| 13. مضيق هرمز | 14. مضيق باب المندب | 15. مضيق جبل طارق | 16. جبال زاغروس |
| 17. جبال كردستان | 18. جبال طوروس | 19. دولة الجزائر | |



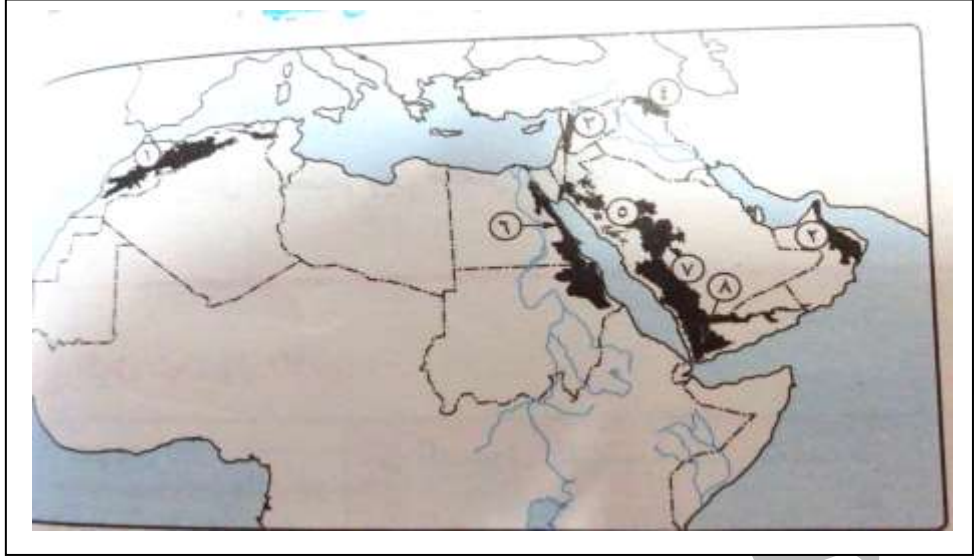
- | | | | |
|--------------|------------------|------------------|---------------|
| 1. مضيق هرمز | 2. خليج عمان | 3. الخليج العربي | 4. دولة ايران |
| 5. دولة عمان | 6. دولة الإمارات | | |



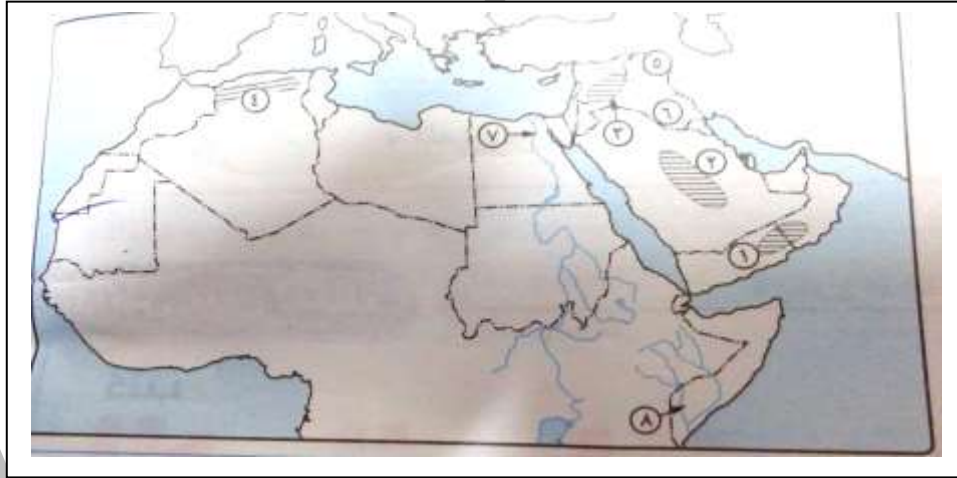
1. مضيق باب المندب 2. خليج عدن 3. البحر الأحمر 4. المحيط الهندي
5. دولة اليمن 6. دولة جيبوتي



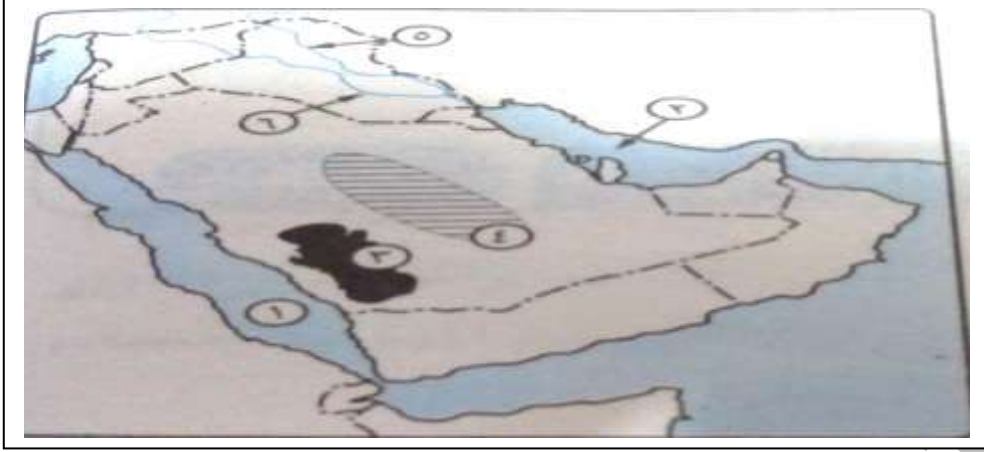
1. مضيق جبل طارق 2. البحر المتوسط 3. المحيط الأطلسي 4. دولة إسبانيا
5. دولة المغرب



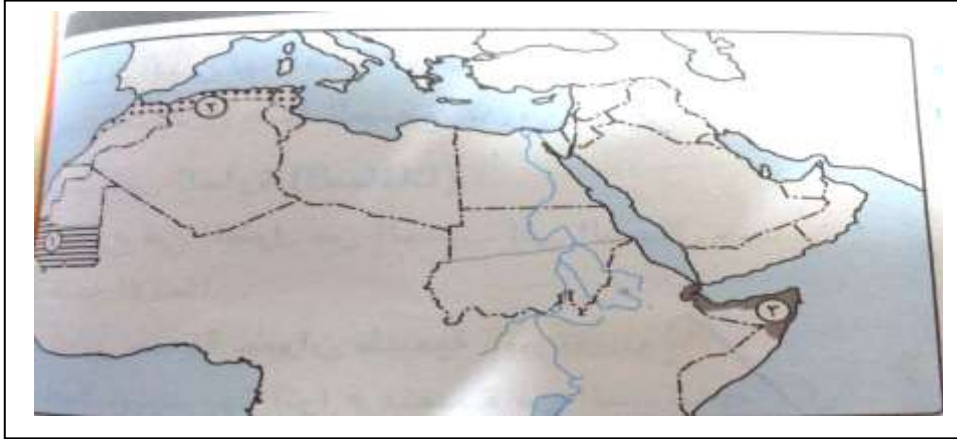
- | | | | |
|----------------|----------------------|---------------|------------------|
| 1. جبال اطلس | 2. جبال عمان | 3. جبال الشام | 4. جبال كردستان |
| 5. جبال الحجاز | 6. جبال البحر الأحمر | 7. جبال عسير | 8. مرتفعات اليمن |



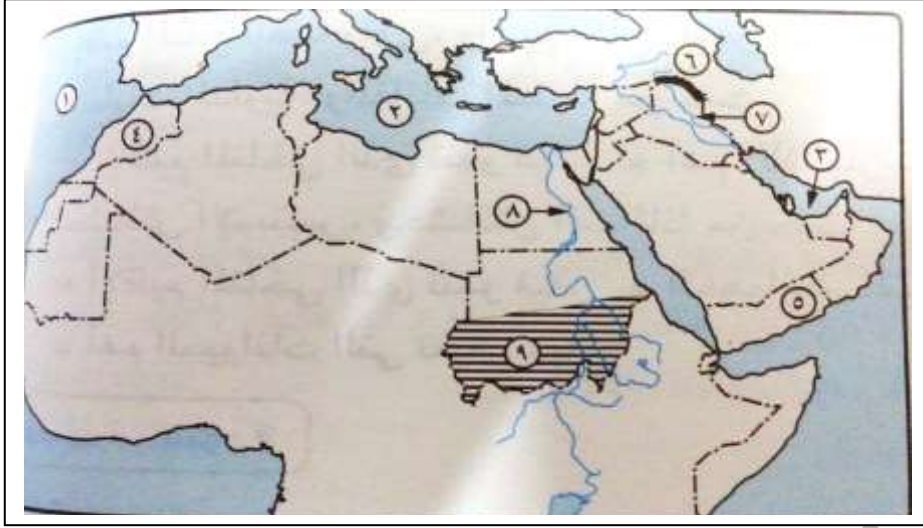
- | | | | |
|----------------|---------------|---------------------|----------------|
| 1. هضبة حضرموت | 2. هضبة نجد | 3. هضبة بادية الشام | 4. هضبة الشطوط |
| 5. نهر دجلة | 6. نهر الفرات | 7. نهر النيل | 8. نهر جوبا |



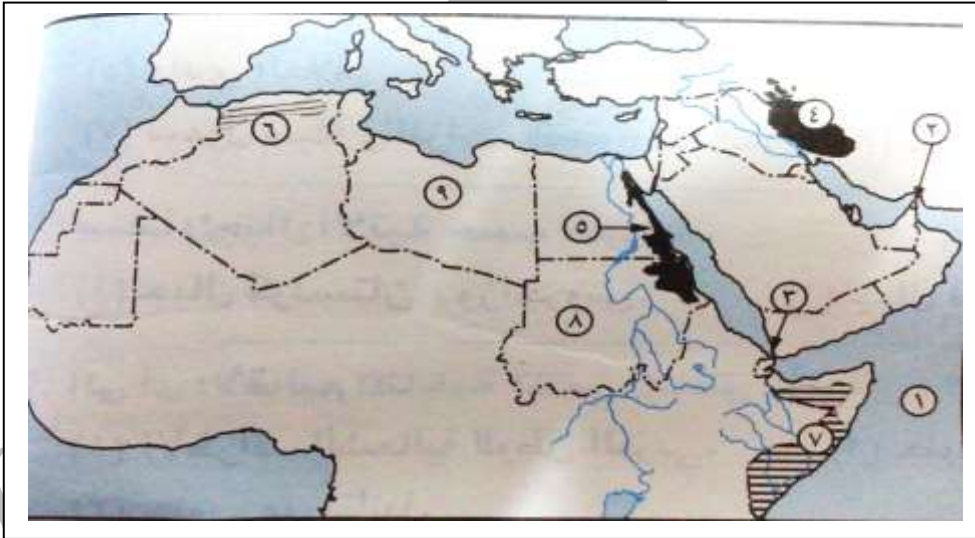
1. البحر الأحمر
2. الخليج العربي
3. جبال عسير
4. هضبة نجد
5. نهر دجلة
6. نهر الفرات



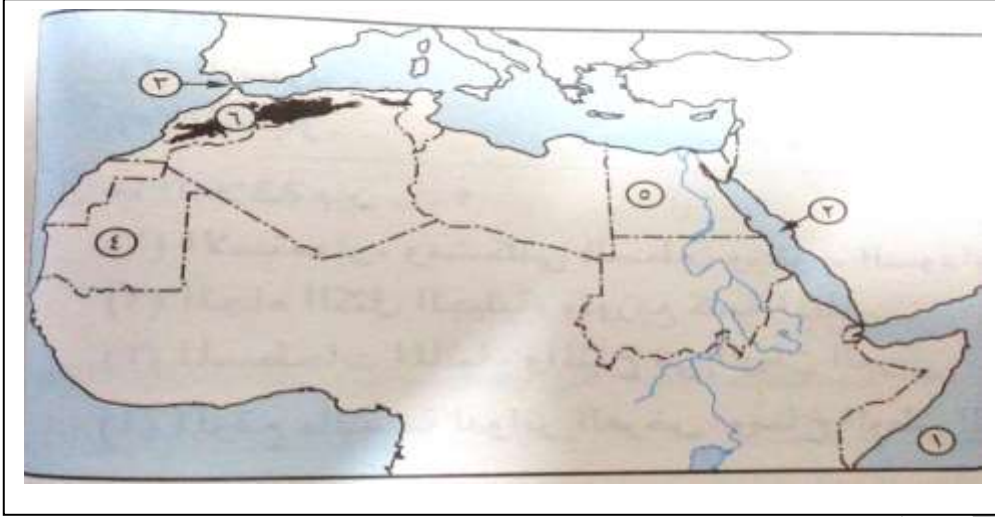
1. إقليم مناخي المداري
2. إقليم مناخي البحر المتوسط
3. إقليم مناخي الصحراوي



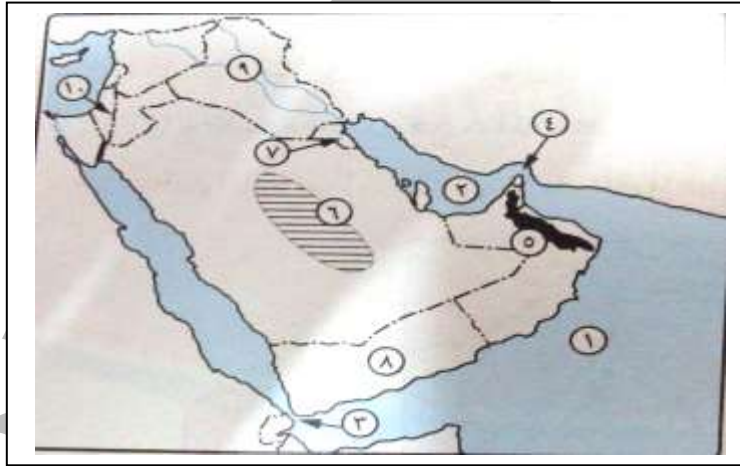
1. المحيط الأطلسي
2. البحر المتوسط
3. الخليج العربي
4. دولة المغرب
5. دولة اليمن
6. جبال كردستان
7. نهر دجلة
8. نهر النيل
9. إقليم مناخي مداري



1. المحيط الهندي
2. مضيق هرمز
3. مضيق باب المندب
4. جبال زاغروس
5. جبال البحر الأحمر
6. هضبة الشطوط
7. إقليم مناخي مداري
8. دولة السودان
9. دولة ليبيا



1. المحيط الهندي
2. البحر الأحمر
3. مضيق جبل طارق
4. دولة موريتانيا
5. دولة مصر
6. سلاسل جبال اطلس



1. البحر العربي
2. الخليج العربي
3. مضيق باب المندب
4. مضيق هرمز
5. جبال عمان
6. هضبة نجد
7. دولة الكويت
8. دولة اليمن
9. دولة العراق
10. مشكلة سياسية فلسطين



1. مضيق هرمز
2. الخليج العربي
3. خليج عمان
4. دولة الإمارات
5. دولة ايران
6. دولة عمان

**أطيب التمنيات بالنجاح والتوفيق
لجميع الطلبة والطالبات**

الوحدة الثانية (سكان الوطن العربي)

الدرس الأول (توزيع سكان الوطن العربي)

السؤال الأول : ضع علامة (✓) أمام العبارة الصحيحة وعلامة (x) أمام العبارة الخطأ : مع تصحيح الخطأ .

1. يبلغ معدل نمو سكان الوطن العربي 2.6 % . (✓)
2. ترتفع الكثافة السكانية في وادي النيل بمصر والسودان (✓)
3. ترتفع الكثافة السكانية في المدن الصناعية (✓)
4. يفضل السكان الإقامة في المناطق السهلية الخصبة (✓)
5. تنخفض الكثافة السكانية في مناطق التعدين لتوفر فرص العمل وارتفاع الأجور (x) (ترتفع)
6. تنخفض الكثافة السكانية في المناطق الرعوية (✓)
7. تعاني دولتي السعودية والكويت من البطالة بالوطن العربي (x) (من عجز في القوة العاملة)
8. سكان الوطن العربي في تزايد مستمر (✓)
9. تؤثر الأنشطة الاقتصادية في توزيع السكان (✓)
10. ينخفض معدل الوفيات في معظم الدول العربية (✓)
11. تنخفض الكثافة السكانية في المناطق الساحلية (x) (ترتفع)
12. يظهر أثر الزيادة الغير طبيعية في نمو سكان دول الخليج (✓)
13. يعد توافر الطرق ووسائل النقل والمواصلات من العوامل التي تجذب السكان (✓)
14. يختلف توزيع الكثافة السكانية بالوطن العربي من مكان لآخر (✓)
15. الجهات الساحلية ببلاد المغرب العربي مرتفعة الكثافة السكانية (x) (متوسطة الكثافة)
16. الكويت والسعودية تعاني من فائض في السكان ونقص في الموارد (x) (فائض في الموارد نقص سكاني)
17. تعاني مصر نقصاً سكانياً وزيادة في الموارد الاقتصادية (x) (زيادة سكان وقلة في الموارد)
18. سكان الوطن العربي تجمعهم لغة واحدة وتاريخ واحد (✓)
19. تؤثر الصراعات والحروب على عدد السكان وكثافتهم (✓)

السؤال الثاني : اكمل الجمل الآتية :

1. من العوامل الطبيعية التي تؤثر في توزيع السكان في الوطن العربي التضاريس و المناخ وموارد المياه والتربة الخصبة
2. يعيش بعض سكان الوطن العربي على المرتفعات (الجبال) في دولتي لبنان واليمن
3. من الدول العربية المستقبلية للمهاجرين دول الخليج العربي
4. يتركز سكان الوطن العربي في المناطق ذات المناخ المعتدل الممطر بينما يقل السكان في مناطق المناخ الحار الجاف
5. ترتفع الكثافة السكانية في المدن الصناعية بالوطن العربي منها القاهرة والإسكندرية في مصر
6. من الدول العربية التي تعاني من البطالة مصر وسوريا

7. من الأنشطة الاقتصادية المؤثرة في توزيع السكان الزراعة والصناعة
8. من العوامل البشرية التي تؤثر في توزيع السكان في الوطن العربي النقل والمواصلات والأنشطة الاقتصادية والصراعات والحروب
9. يندر سكان الوطن العربي في مناطق الصحاري
10. من الدول العربية التي تعاني من الصراعات والحروب سوريا وفلسطين
11. من الدول العربية التي لديها زيادة سكانية مصر بينما من الدول العربية التي لديها نقص في عدد السكان الكويت

السؤال الثالث : اختر الإجابة الصحيحة مما بين الأقواس :

1. يمثل سكان الوطن العربي % من سكان العالم حوالى 385 مليون نسمة 2014 (4.8 - 5.3 - 7.4 - 8.4)
2. شمال إفريقيا (بلاد المغرب العربي) من المناطق الكثافة السكانية (مرتفعة - متوسطة - منخفضة - نادرة)
3. تعد دولة من الدول العربية التي أثرت الحروب والصراعات في عدد سكانها (مصر - فلسطين - الإمارات - السعودية)
4. تنخفض الكثافة السكانية في الوطن العربي في مناطق (الصناعة - الزراعة - الرعي)
5. من البلاد العربية التي تعاني قلة في الموارد الاقتصادية (مصر - الكويت - السعودية - ليبيا)
6. وادى النيل ودلتاه من المناطق الكثافة السكانية (مرتفعة - متوسطة - منخفضة - نادرة)
7. اقليم مريوط وشمال سيناء وشمال ليبيا وهضبة الشطوط من المناطق الكثافة السكانية (مرتفعة - متوسطة - منخفضة)

السؤال الرابع : بم تفسر :

1. ارتفاع معدل الزيادة الطبيعية للسكان بالوطن العربي
 - بسبب ارتفاع معدل المواليد بصفه عامة وانخفاض معدل الوفيات
2. انخفاض معدل الوفيات في معظم الوطن العربي
 - بسبب تحسن الأحوال الصحية
 - تقدم الرعاية الطبية للأطفال
 - ارتفاع مستوى المعيشة
3. ارتفاع النمو السكاني بالوطن العربي (النمو السكاني في الوطن العربي في ارتفاع مستمر)
 - بسبب الزيادة الطبيعية المتمثلة في زيادة عدد المواليد وقلة عدد الوفيات
 - بسبب الزيادة الغير طبيعية المتمثلة في الهجرة
4. تفضيل سكان لبنان واليمن سكنى الجبال
 - بسبب اعتدال المناخ
5. يرتفع معدل الوفيات في بعض الدول العربية (مثل الصومال)
 - بسبب انتشار الأمراض والأوبئة
 - انتشار الحروب
 - وجود الفقر والجهل
 - قلة الرعاية الصحية

6. اختلاف توزيع السكان في الوطن العربي من منطقة لأخرى

- بسبب وجود عدة عوامل منها
- العوامل الطبيعية (موارد المياه - التربة الخصبة - المناخ - التضاريس)
- العوامل البشرية (الأنشطة الاقتصادية - الصراعات والحروب - النقل والمواصلات)

7. تفضيل سكان لبنان واليمن سكنى الجبال

- بسبب اعتدال المناخ

8. ارتفاع الكثافة السكانية في المدن

- بسبب قيام حرفة الصناعة التي تحتاج إلى أيدي عاملة كثيرة

9. يعيش سكان الصحارى في الواحات

- بسبب وجود المياه الجوفية (الآبار والعيون)

10. انخفاض الكثافة السكانية على المرتفعات

- بسبب وعورة السطح * صعوبة استغلال الأراضي

*صعوبة استخدام المواصلات

11. ارتفاع كثافة السكان في وادي النيل ودلتاه في مصر

- بسبب توافر المياه العذبة والتربة الخصبة
- أدى إلى قيام الزراعة وارتفاع الكثافة السكانية

12. تركيز السكان في مناطق التعدين ومصادر الطاقة

- بسبب توافر فرص العمل وارتفاع الأجور

13. ظهور المشكلة السكانية في الوطن العربي

- بسبب العلاقة غير متوازنة بين عدد السكان والموارد الاقتصادية المتاحة حيث يوجد
- دول بها قلة في الموارد الاقتصادية وزيادة في عدد السكان (تعانى من البطالة) مثل (سوريا - مصر)
- دول بها زيادة في الموارد ونقص في عدد السكان (تعانى نقص في الأيدي العاملة) مثل (السعودية - الكويت)

السؤال الخامس : ما النتائج المترتبة على :

1. الزيادة الغير طبيعية (الهجرة)

- تزيد نسبة السكان في البلاد المهاجر اليها (دول الخليج)
- تقلل نسبة السكان في البلاد المهاجر منها

2. تزايد عدد السكان بدرجة لا تتناسب مع الموارد الاقتصادية للدولة

- ترتب على ذلك حدوث خلل في توزيع السكان وظهور المشكلة السكانية

3. توافر وسائل النقل والمواصلات

- أدى إلى زيادة عدد السكان في هذه المناطق والاستقرار بها

4. هجرة أبناء بعض الدول العربية إلى دول الخليج

- أدى إلى زيادة سكان دول الخليج (الزيادة الغير طبيعية)
- أدى إلى قلة السكان في الدول التي تخرج منها الأيدي العاملة

5. المشكلة السكانية في الوطن العربي

- أدى إلى وجود فائض في عدد السكان في بعض الدول و تعاني من ارتفاع البطالة وقلة الموارد مثل (مصر - سوريا)
- أدى إلى وجود عجز في عدد السكان وزيادة في الموارد في بعض الدول و تعاني نقص في القوى العاملة مثل (السعودية - الكويت)

6. تحسن الأحوال الصحية وارتفاع مستوى المعيشة في الوطن العربي

- أدى إلى انخفاض معدل الوفيات

7. قيام الصراعات والحروب على عدد السكان بالوطن العربي وكثافتهم

- ترتب على ذلك قلة عدد سكان هذه المناطق
- يقتل عدد كبير منهم - يجبر عدد على ترك بلادهم والانتقال للعيش في أماكن أخرى

8. ظهور المدن البترولية في بعض دول الوطن العربي

- أصبحت هذه الدول مستقبلة للمهاجرين بهدف العمل والإقامة
- أصبحت هذه الدول تعاني من الزيادة الغير طبيعية

14. خصوبة الأراضي في السهول الفيضية

- ترتيب على قيام الزراعة وارتفاع الكثافة السكانية بها

السؤال السادس : اكتب ما تشير اليه الجمل التالية :

(الكثافة السكانية)

1. نسبة عدد السكان إلى المساحة التي يقيمون عليها

(الهجرة)

2. انتقال الفرد من منطقة لأخرى بغرض الإقامة والعمل

(الأنشطة الاقتصادية)

3. الحرف والأعمال التي يمارسها البشر في إطار القانون وتدر عليهم دخلاً

(المشكلة السكانية)

4. العلاقة غير المتوازنة بين السكان والموارد

(النمو السكاني)

5. زيادة عدد السكان خلال فترة زمنية معينة

(تعداد سكاني)

6. حصر شامل للسكان من حيث العدد والنوع والتعليم ومكان الإقامة والحالة الاجتماعية والنشاط الاقتصادي (تعداد سكاني)

(زيادة طبيعية)

7. الزيادة الناتجة عن الفرق بين معدل المواليد والوفيات

(زيادة غير طبيعية)

8. الزيادة الناتجة عن هجرة السكان من منطقة إلى أخرى

(معدل الخصوبة)

9. عدد الأطفال الذين يمكن أن تنجبهم المرأة الواحدة

السؤال السابع ما العلاقة بين كل من

1. المناخ وتوزيع السكان في الوطن العربي

- يؤثر المناخ في توزيع السكان
- يتركز السكان في المناطق ذات المناخ المعتدل الممطر
- يقل السكان في المناطق ذات المناخ الحار الجاف

2. التضاريس وتوزيع السكان

- تؤثر التضاريس في توزيع السكان
- يفضل السكان مناطق السهول للسكن والاستقرار بها
- مناطق المرتفعات لا يسكنها الإنسان إلا في دولتين (اليمن - لبنان)

3. الحروب والصراعات والنمو السكاني

- تؤثر الحروب والصراعات في نمو السكان حيث
- يقتل أعداد كبيرة من السكان
- يجبر عدد كبير من السكان على ترك بلادهم والانتقال في أماكن أخرى

4. موارد المياه والتربة الخصبة وتوزيع السكان في الوطن العربي

- يتركز السكان في مناطق توافر المياه (السهول الفيضية - مناطق سقوط الأمطار - مناطق المياه الجوفية)
- يقل السكان في المناطق التي تقل أو يندم بها المياه (الصحارى العربية)

5. النقل والمواصلات وتوزيع السكان

- النقل والمواصلات من العوامل البشرية تؤثر في توزيع السكان
- المناطق التي تتوفر بها المواصلات تكون مناطق جذب للسكان

السؤال الثامن : أيد بالأدلة على كل مما يأتي

1. للهجرة تأثير على النمو السكاني

- يزيد عدد سكان الدول المستقبلية للهجرات مثل دول الخليج
- يقل عدد سكان الدول التي تخرج منها الهجرة مثل سوريا ومصر

2. تعتبر موارد المياه من العوامل التي تؤثر في توزيع السكان

- يتركز السكان في مناطق توافر المياه (السهول الفيضية - مناطق سقوط الأمطار - مناطق المياه الجوفية)
- يقل السكان في المناطق التي تقل أو يندم بها المياه (الصحارى العربية)

3. يعاني الوطن العربي من خلل في توزيع السكان (المشكلة السكانية)

- هناك دول عربية بها فائض في عدد السكان و تعاني من ارتفاع البطالة وقلة الموارد مثل (مصر - سوريا)
- هناك دول عربية بها عجز في عدد السكان وزيادة في الموارد و تعاني نقص في القوى العاملة مثل (السعودية - الكويت)

4. تؤثر الحروب على عدد السكان وكثافتهم

- يقتل أعداد كبيرة من السكان في الحروب
- يجبر السكان على ترك بلادهم بسبب الحروب
- من الدول التي تعاني من الصراعات والحروب (سوريا - فلسطين)

5. تؤثر وسائل النقل والمواصلات وتمهيد الطرق في توزيع السكان

- ترتفع الكثافة السكانية في المناطق التي تتوفر فيها المواصلات والطرق الممهدة
- يؤدي ذلك إلى جذب السكان للعمل والاستقرار

السؤال التاسع : قارن بين

المشكلة السكانية مصر والسعودية من حيث (سبب المشكلة - الآثار السلبية للمشكلة - كيفية حل المشكلة السكانية)

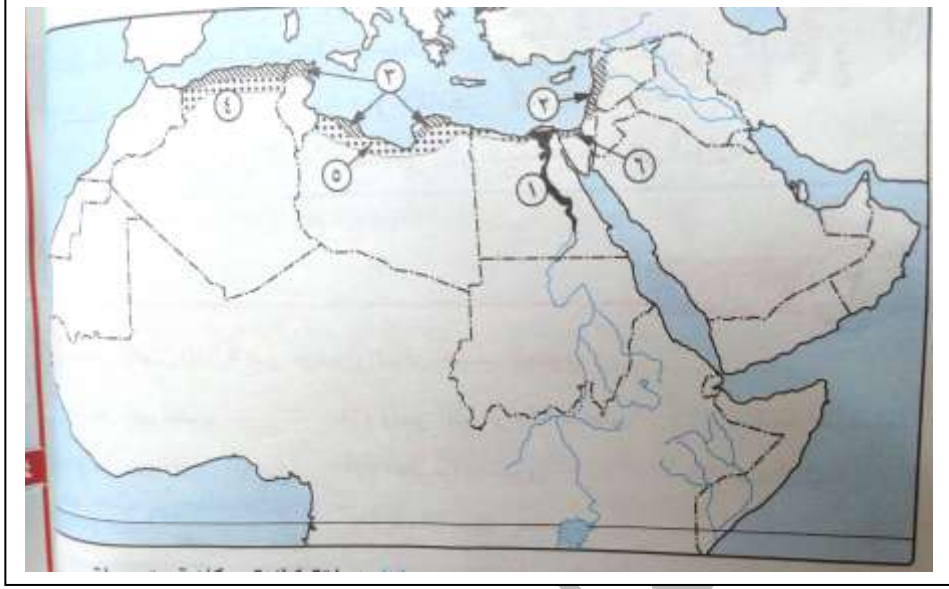
| المشكلة السكانية في مصر | المشكلة السكانية في السعودية | أوجه المقارنة |
|---|---|----------------|
| *وجود فائض سكاني *وجود نقص في الموارد الاقتصادية | *وجود فائض في الموارد الاقتصادية *وجود نقص في السكان | السبب |
| *ارتفاع معدل البطالة | *عجز في القوى العاملة | الآثار السلبية |
| *نشر الوعي بخطورة الزيادة السكانية *توفير الموارد المالية لاقامة المشاريع *تشجيع انتقال القوى العاملة إلى دول العجز السكاني | *توفير القوى العاملة للعمل بها من الدول الفائض السكاني | كيفية حلها |

السؤال العاشر : ما مقترحاتك من أجل:

1. التغلب على المشكلة السكانية التي يعاني منها الوطن العربي

- نشر الوعي بخطورة الزيادة السكانية في دول الفائض السكاني
- توفير الموارد المالية لاقامة مشاريع كبرى في دول الفائض السكاني لايجاد فرص عمل
- تشجيع انتقال القوى العاملة من دول الفائض السكاني للعمل في دول العجز السكاني التي لديها فائض في الموارد

السؤال الحادي عشر : اكتب ما تشير اليه الأرقام التالية



1. منطقة كثافة سكانية مرتفعة وادي النيل والدلتا
2. منطقة كثافة سكانية متوسطة سواحل بلاد الشام
3. منطقة كثافة سكانية متوسطة سواحل شمال افريقيا
4. منطقة كثافة سكانية منخفضة هضبة الشطوط
5. منطقة كثافة سكانية منخفضة شمال ليبيا
6. منطقة كثافة سكانية منخفضة شمال سيناء

**أطيب التمنيات بالنجاح والتوفيق
لجميع الطلبة والطالبات**

الدرس الثاني : خصائص سكان الوطن

السؤال الأول : ضع علامة (✓) أمام العبارة الصحيحة وعلامة (x) أمام العبارة الخطأ : مع تصحيح الخطأ.

1. يعيش الريفيون حياه التنقل والترحال بحثاً عن الماء والعشب (يعيش البدو) (x)
2. البدو في الوطن العربي في تزايد مستمر (تناقص) (x)
3. سكان الحضر هم الذين يقيمون في الصحارى العربية (البدو) (x)
4. سكان الحضر في تزايد مستمر (✓)
5. تنخفض الكثافة السكانية في المناطق الرعوية (✓)
6. يمثل سكان الحضر اكثر من نصف (غالبية) سكان الوطن العربي 55% (✓)
7. تختلف انماط السكان في الوطن العربي باختلاف اماكن اقامتهم (✓)
8. ظهور المدن الصناعية في دول الخليج زاد من نسبة سكان الحضر (ظهور المدن البنزولية) (x)
9. إنشاء المدن الصناعية في مصر وسوريا زاد من نسبة سكان الحضر (✓)
10. من خصائص سكان الوطن العربي الاهتمام بالتعليم وتنوع الأنشطة الاقتصادية (✓)
11. يرتفع مستوى الخدمات الصحية والاجتماعية بالاحياء العشوائية (يقل) (x)
12. الأحياء العشوائية من اهم المشكلات التي تعاني منها المدن الكبرى في الوطن العربي (✓)
13. تبلغ نسبة التحاق الاناث بالتعليم في الوطن العربي نحو 88% (نحو 77%) (x)
14. حصلت المرأة العربية على كثير من حقوقها في الفترة الاخيرة (✓)
15. قلت نسبة تعليم الاناث بالوطن العربي (زادت) (x)
16. زادت نسبة مشاركة المرأة في سوق العمل عربيا في السنوات العشر الاخيرة (✓)
17. الكرم وحسن الضيافة من القيم التي تجمع بين العرب (✓)
18. زادت نسبة الملتحقين بالتعليم قبل الجامعي بالوطن العربي ووصلت إلى 65.5% (✓)
19. ترتفع نسبة الاعالة في الدول العربية لارتفاع معدل المواليد (✓)
20. نسبة الاعالة منخفضة بالوطن العربي (مرتفعة) (x)
21. المواطنة والتسامح من القيم التي تجمع بين العرب (✓)
22. تحرص الحكومات في الوطن العربي على اتاحة فرص عادلة للتعليم للجميع (✓)
23. تنخفض نسبة الاعالة بين سكان الوطن العربي (تزيد) (x)

السؤال الثاني : اكمل الجمل الآتية :

1. تنقسم انماط السكان في الوطن العربي إلى بدو - ريفيون - حضر
2. تبلغ نسبة سكان الريف 45% من مجموع سكان الوطن العربي
3. من نتائج الهجرة من الريف إلى المدن ظهور **الأحياء العشوائية**
4. يؤدي ارتفاع نسبة الاطفال إلى ارتفاع معدل **البطالة**

5. يعمل سكان الحضر بحرفة الصناعة و التجارة والخدمات بينما يعمل سكان الريف بحرفة الزراعة
6. يعيش سكان الصحارى في الواحات
7. تبلغ نسبة قوة العمل 63.5٪ من سكان الوطن العربى
8. ضعف مشاركة المرأة العربية في سوق العمل ادى إلى ارتفاع نسبه الإعالة
9. من الخصائص الاجتماعية لسكان الوطن العربى الاهتمام بالتعليم وارتفاع مكانه المرأة
10. من الخصائص الاقتصادية لسكان الوطن العربى تنوع الأنشطة الاقتصادية
11. يتميز المجتمع العربى بالعديد من القيم والاخلاق الحميدة منها الترايط الأسرى والكرم والتمسك بالقيم الدينية

السؤال الثالث : بم تفسر :

1. ارتفاع نسبه الإعالة في الوطن العربى
 - بسبب ارتفاع نسبه الأطفال صغار السن (نتيجة ارتفاع معدل الإنجاب)
 - ارتفاع نسبه كبار السن
 - ارتفاع نسبه من هم في سن التعليم
 - ارتفاع نسبه البطالة بين الشباب
 - ضعف مشاركة المرأة في سوق العمل
2. سكان الصحارى (البدو) في تناقص مستمر
 - تحول أعداد كبيرة منهم للعمل في التعدين
 - هجرة أعداد منهم للقرى والمدن القريبة
 - قيام الدولة بتوطينهم في القرى
3. سكان الحضر في تزايد مستمر
 - بسبب الهجرة من الريف إلى المدن
 - قيام المدن البترولية (دول الخليج)
 - إنشاء المدن الصناعية كما في (سوريا - مصر)
4. سكان الريف في تناقص مستمر
 - بسبب الهجرة المستمرة من الريف إلى المدن
5. نسبه التحاق المرأة بالتعليم كانت ضعيفة في الماضي
 - سبب ضعف تعليم البنات هى العادات والتقاليد التى كانت تمنع الفتاة من التعليم
6. تصدى الحكومات العربية لتناقص سكان الريف
 - لان هجرة سكان الريف تؤدى إلى إهمال الأرض الزراعية ونقص الإنتاج الزراعي
 - يترتب أيضا على الهجرة ظهور الأحياء العشوائية في المدن
7. تشجيع الحكومات العربية لتناقص أعداد البدو
 - لان توطين البدو في القرى يوفر لهم الخدمات ويرفع مستوى المعيشة

8. زادت نسبة الملتحقين بالتعليم قبل الجامعي في الوطن العربي حتى وصلت إلى 65.5٪.

- نتيجة حرص الحكومات فرص التعليم العادلة للجميع (الأسوياء – ذوي الاحتياجات الخاصة
- عملت الحكومات على إقامة المدارس والجامعات في كل مكان

9. ظهور الأحياء العشوائية حول المدن العربية الكبرى

- بسبب الهجرة من الريف إلى المدن

10. اهتمام الدول العربية بنشر التعليم

- لاتاحة فرص التعليم لجميع أبناء الدول العربية (الأسوياء – ذوي الاحتياجات الخاصة)

السؤال الرابع : اكتب ما تشير اليه الجمل التالية :

1. احياء تنشأ حول المدن بدون تخطيط وتفتقر للمرافق والخدمات (أحياء عشوائية)
2. افتقاد الشخص لمهارات القراءة والكتابة (الأمية)
3. عدد الافراد في سن العمل والقادرين على العمل والذين يعملون فعليا او يبحثون عن عمل (قوة العمل)
4. جماعة تعيش حياة التنقل وعدم الاستقرار في الصحارى العربية (البدو)

السؤال الخامس : ما النتائج المترتبة على كل مما يأتي :

1. تزايد الأحياء العشوائية حول المدن
 - ارتفاع نسبة السكان الذين يعانون من نقص الخدمات
 - انخفاض مستوى المعيشة
2. استمرار الهجرة من الريف إلى المدن
 - ظهور الأحياء العشوائية حول المدن الكبيرة
 - زيادة عدد سكان المدن ونقص عدد سكان الريف
3. ظهور المدن البترولية في بعض دول الوطن العربي
 - تناقص أعداد البدو نتيجة العمل في البترول
4. اهتمام الوطن العربي بالمرأة
 - ارتفاع مكانة المرأة في المجتمع العربي
 - زادت نسبة التحاق الإناث بالتعليم الابتدائي إلى 77٪
 - حصلت المرأة على حقوقها
 - زادت نسبة مشاركة المرأة في سوق العمل
5. اهتمام الدول العربية بإقامة المدارس (بالتعليم)
 - زادت نسبة الملتحقين بالتعليم قبل الجامعي في الوطن العربي إلى 65.5٪

السؤال السادس : دال على صحة الجمل التالية :

1. تنوعت أنماط السكان في الوطن العربي بتنوع البيئات
 - يوجد أنماط مختلفة للسكان منها (الحضر الريف البدو)
 - يختلفون طبقا لطريقة معيشتهم ونشاطهم الاقتصادي
2. تشجيع الحكومات العربية لتناقص اعداد البدو بينما تنصدي لتناقص اعداد سكان الريف
 - تعمل الحكومات على تناقص أعداد البدو عن طريق
 - تحويل اعداد كبيرة منهم للعمل في التعدين واستخراج البترول
 - قيام الدول العربية بتوطينهم في القرى
 - جهود الدولة في التنصدي لتناقص أعداد سكان الريف
 - قيام الدولة بجهود لوقف الهجرة المستمرة من الريف إلى المدن
3. يتميز سكان الوطن العربي ببعض القيم الأخلاقية
 - حيث التمسك بالقيم الدينية
 - التمسك بالعادات والتقاليد الحسنة
 - الترابط الأسرى
 - الكرم وحسن الضيافة
 - المواطنة والتسامح
4. للمرأة مكانة متميزة في الوطن العربي
 - زادت نسبة التحاق الإناث بالتعليم الابتدائي إلى 77٪
 - حصلت المرأة على حقوقها
 - زادت نسبة مشاركة المرأة في سوق العمل

السؤال السابع : اختر الإجابة الصحيحة مما بين الأقواس :

1. يعمل أغلبية البدو الرحل بحرفة..... (الزراعة - التعدين - الرعي - صيد الاسماك)
2. يعمل أغلبية سكان الريف بحرفة..... (الزراعة - التعدين - الرعي - صيد الاسماك)
3. من خصائص الاحياء العشوائية (قلة المرافق - زيادة الدخل - ارتفاع مستوى المعيشة)

السؤال الثامن : قارن بين

البدو و سكان القرى وسكان المدن من حيث (نسبتهم من سكان الوطن العربي - الأنشطة الاقتصادية)

| أوجه المقارنة | سكان القرى | سكان الحضر | البدو |
|---------------|---|---|-------------------|
| النسبة | * 45٪ | * 55٪ | * نسبة صغيرة |
| الأنشطة | * يعملون في (الزراعة - تربية الحيوان) | * يعملون في الصناعة والتجارة والخدمات مثل (التعليم - الصحة) | * يعملون في الرعي |

أطيب التمنيات بالنجاح والتوفيق

لجميع الطلبة والطالبات

وليد نصرى 01226084618 الشيتات مرفوعة على صفحة الفيس بوك (مذكرات دراسات اجتماعية) (ملخصات دراسات اجتماعية) الجغرافيا الصف الثالث الثانوي - الصف الأول الثانوي - الدراسات الاجتماعية الصف الأول و الثاني والثالث الإعدادي - الصف السادس الابتدائي