

# الإبداع

في

## الدراسات الاجتماعية

للفئة السادس الابتدائي

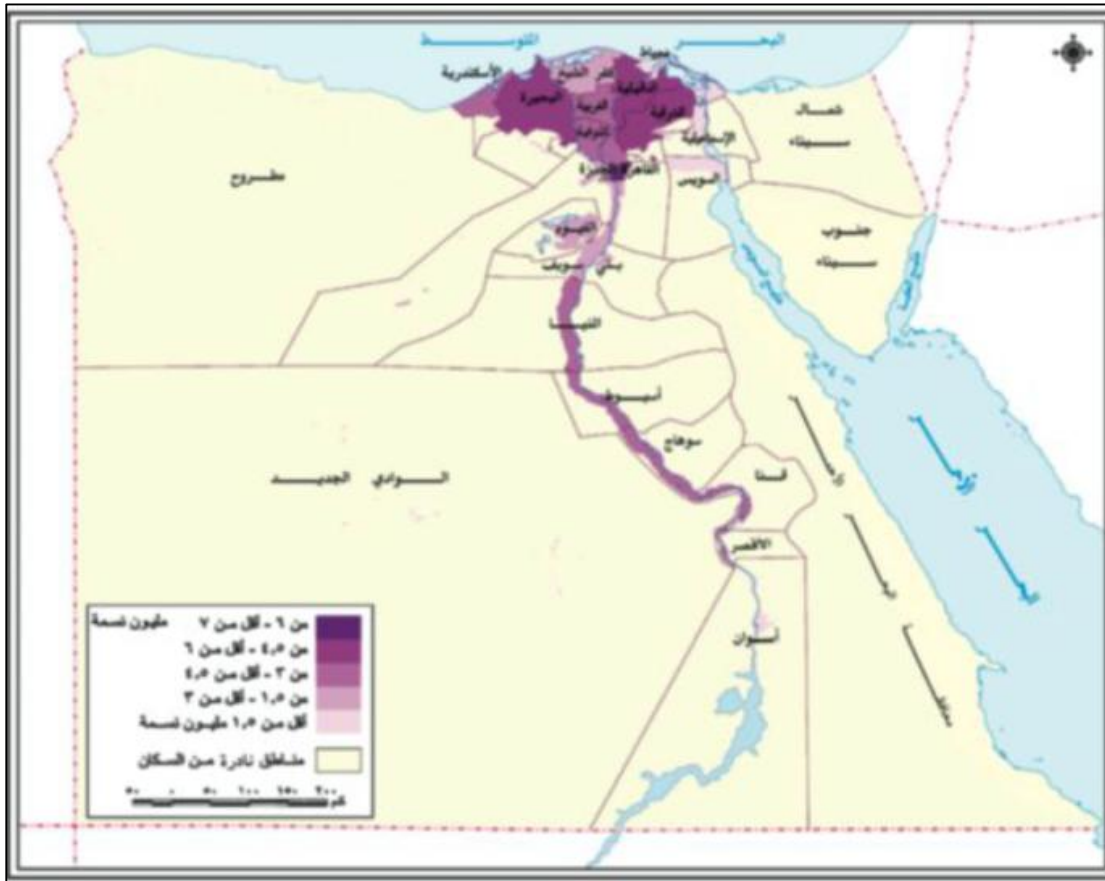
الترم الأول

إعداد

الأستاذ باسم عزت

تليفون : ٠١٢٨٠٩٥٦٦٧١

المحتوى	رقم الصفحة
الوحدة الاولى	٦-١
الوحدة الثانية	١٣-١٠
الوحدة الثالثة	١٠-٦
الوحدة الرابعة	١٧-١٣
اسئلة الخرائط	١٩-١٧
التدريبات العامة للكتاب المقرر	٢٥-٢٠
الامتحان الاول	٢٧-٢٦
الامتحان الثاني	٢٨-٢٧
الامتحان الـ	٢٩-٢٨
الامتحان الرابع	٣٠-٢٩
الامتحان الخامس	٣٢-٣١
الامتحان السادس	٣٣-٣٢
الامتحان السابع	٣٤
الامتحان الثامن	٣٦-٣٥
الامتحان التاسع	٢٦
الامتحان العاشر	٢٧





## مراجعة الوحدة الأولى ( البيئة الزراعية )

### السؤال الأول : أكمل العبارات التالية :

- تتميز البيئات المصرية بعدة خصائص منها التنوع والتداخل .
- البيئة الزراعية هي البيئة التي يتوافر بها مقومات الزراعة في حين أن البيئة الزراعية الفيضية ، هي البيئة التي نشأت في السهول الفيضية .
- يتميز مناخ البيئة الزراعية بانه حار جاف صيفا ، ومعتدل ممطر شتاء .
- هي قناة مائية أنشئت بغرض توصيل المياه للأراضي الزراعية ، ومن أمثلتها ترعة الإسماعلية في الدلتا والإبراهيمية في الوجه القبلي .
- تتميز البيئة الفيضية بخصوبة أراضيها لأنها تتكون من الصلصال .
- تزيد مساحة الأراضي الزراعية بالدلتا عن % مساحة مصر ، وتبلغ مساحة الأراضي الزراعية % .
- من مناطق الدلتا التي لا توجد بها زراعة الأطراف الشمالية .
- أكبر نسبة من عدد سكان البيئة الزراعية بمصر توجد في % .
- من الخصائص التعليمية للبيئة الزراعية زيادة نسبة الأمية حيث تصل إلى % .
- بيعية في البيئة الزراعية تناقص الأراضي الزراعية .

- يظهر السطح في منخفض الفيوم على % .
- تتصف بيئات مصر بأنها % .
- تقوم الزراعة المروية على مياه نهر النيل في الوادي والدلتا ومياه الآبار والعيون ف % .
- تمدنا البيئة الساحلية بالثروة السمكية .
- تنوع البيئات المصرية أدى إلى تنوع الموارد الطبيعية وتنوع الإنتاج الاقتصادي .
- تقوم الزراعة في الواحات المصرية على المياه الجوفية .
- تتركز البيئة الزراعية بشكل أساسي في الفيوم .
- تبلغ مساحة الأراضي الزراعية بالدلتا % جملة مساحة الأراضي الزراعية .
- تبلغ مساحة الأراضي الزراعية بالوادي % مساحة الأراضي الزراعية بمصر .
- يقع منخفض الفيوم .
- يتصل منخفض الفيوم بالنيل عن طريق بحر يوسف عبر فتحة اللاهون .
- من اهم الترع في الدلتا الإسماعلية وترعة النوبارية .
- من اهم ترع الوادي ترعة الإبراهيمية .
- من اهم قناطر الوجه البحري القناطر الخيرية .
- من المحافظات الحضرية القاهرة والأسكندرية .
- من اهم المحاصيل المستخدمة في صناعة % .

### السؤال الثاني : ما المقصود بالمفاهيم التالية :

- الزراعة المروية : هي الزراعة التي تعتمد على نهر النيل أو المياه الجوفية
- الزراعة المطرية : هي الزراعة التي تقوم على مياه الأمطار الشتوية .
- البيئة الزراعية : هي البيئة التي يتوافر بها مقومات قيام الزراعة
- قناة مائية لتوصيل المياه للأراضي الزراعية .
- قناة مائية لرفع المياه للأراضي الزراعية .
- حاجز مائي أنشئ بغرض تخزين المياه وتوليد الكهرباء .
- تجريف التربة : السطحية الخصبة من التربة الزراعية واستخدمها في صناعة الطوب الأحمر .
- الأمية :

- الهجرة :

السؤال الثالث : بم تفسر :

- تنوع البيئات المصرية .

- : - إتساع مساحة مصر وتبلغ مليون كيلومتر مربع .
- تنوع مظاهر السطح .
- تنوع الموارد الطبيعية .
- تنوع الموارد البشرية .

- تداخل البيئات المصرية .

- بسبب عدم وجود حدود تفصل بين البيئات .

- تكامل البيئات المصرية .

بسبب ان كل بيئة تمد البيئة الأخرى بما تحتاجه من منتجات التى ليست موجودة بها .

- قيام الزراعة فى الواحات .

- تقوم الزراعة فى الواحات اعتمادا على مياه الأبار والعيون

- قيام الزراعة فى الساحل الشمالى .

اعتمادا على مياه الأمطار الشتوية

- يعتبر منخفض الفيوم بيئة زراعية رغم وقوعه فى الصحراء الغربية .

- لانه يتصل بنهر النيل عن طريق بحر يوسف عبر فتحة اللاهون .

- استخدام السواقي لرى الأراضى فى الفيوم .

لان الأرض فى الفيوم تبدو على شكل مدرجات فحتاج للسواقي لرفع المياه للأرض الزراعية .

- يختلف شكل أراضى الفيوم عن الوادى والدلتا .

لان أراضى الفيوم على شكل مدرجات ، بينما الأرض فى الوادى والدلتا مستوية مما تسهل قيام عملة

- أهمية الترع .

تقوم التربة بتوصيل المياه للأراضى الزراعية .

- أهمية القناطر .

قوم القناطر برفع المياه للأراضى الزراعية المرتفعة .

- أهمية السد العالى لمصر .

- توليد الكهرباء . - حماية مصر من خطر الفيضانات .

- تخزين المياه .

- أهمية مشاريع الصرف .

لتصريف المياه الزائدة عن الزراعة .

-

لانه تربة سميكة سوداء اللون خصبة تزداد بها نسبة الصلصال .

- خطورة تجريف التربة على الزراعة .

لانه يؤدى إلى تدهور الأراضى الزراعية .

- يقل عدد سكان البيئة الزراعية كلما إتجهنا نحو الصحراء .

حيث تقل وجود التربة لأقتراب الرمال منها .

- يتركز عدد كبير من سكان البيئة الزراعية بالدلتا .



- لوفرة موارد المياه والتربة الخصبة لانها تضم % من الاراضى الزراعية .
- ندرة النبات الطبيعى والحيوانات البرية فى البيئة الزراعية .
- بسبب كثافة النشاط الزراعى الذى يمارسه الإنسان وهجر الحيوانات للصحراء .
- هجرة السكان من الريف للم .

- إنتشار الأمراض فى بعض مناطق البيئة الزراعية .
- أستخدام المياه الملوثة ، وتربية الدواجن داخل المنازل وفوق الأسطح .
- تنوع الأنشطة الاقتصادية فى البيئة الزراعية .
- بسبب تنوع الموارد الطبيعية
- البيئة الزراعية بالزراعة .
- لوفرة موارد المياه والتربة الزراعية الخصبة ووسائل النقل .
- شهرة الفيوم فى مجال السياحة .
- حيث تضم بعض المعالم السياحية مثل عين السلين والسواقي .
- تناقص مساحة الأراض الزراعية .
- بسبب البناء عليها ، وتجريف التربة لصناعة الطوب الأ .
- تلوث التربة الزراعية .
- بسبب الإسراف فى استخدام المبيدات الحشرية والأسمدة الكيماوية
- تعاني البيئة الزراعية من مشاكل الصرف الزراعى .

#### السؤال الرابع : ما النتائج المترتبة على :

- 
- تنوع البيئات المصرية .
- تنوع البيئات المصرية .
- تنوع الثروات الطبيعية وتنوع الإنتاج الأقتصادى .
- وجود المياه الجوفية فى الواحات .
- قيام الزراعة فى الواحات .
- سقوط الأمطار الشتوية على الساحل الشمالى .
- قيام الزراعة بالساحل الشمالى .
- بحر يوسف بالنسبة للفيوم .
- توصيل المياه للفيوم .
- أراضى الفيوم على هيئة مدرجات .
- أستخدام السواقي لرفع المياه للأراضى الزراعية المرتفعة .
- 
- حماية مصر من خطر الفيضان – توليد الكهرباء – تخزين المياه
- تجريف التربة .
- قلة مساحة الأراضى الزراعية –
-

## قلة النبات الطبيعي

- هجرة سكان الريف للمدن .

- زيادة عدد سكان المدن .

- ظهور العشوائيات والمساكن العشوائية .

- تناقص نسبة العاملين بالنشاط الزراعى .

- زيادة نسبة العاملين بالمجال الصناعى .

- تنوع الموارد الطبيعية فى البيئة الزراعية .

تنوع الأنشطة الاقتصادية .

- التوسع العمرانى على الأراضى الزراعية .

قلة مساحة الأراضى الزراعية .

-

تملح الأراضى الزراعية .

- الإسراف فى استخدام المبيدات والأسمدة الكيماوية .

تلوث التربة الزراعية .

-

ادى ذلك إلى هجرة سكان النوبة من أراضيهم .

### السؤال الخامس : أكتب ما تشير إليه كل عبارة مما يلى :

- المكان الذى نعيش فيه مع مخلوقات أخرى وتتوافر به مقومات الحياة .

( البيئة )

(المياه الجوفية)

( )

(اللاهون)

- مصدر مياه الري والزرر .

- منطقة زراعية فيضية على شكل مثلث قاعدته على البحر المتوسط .

- الفتحة الطبيعية التى يدخل منها بحر يوسف إلى الفيوم .

- البيئة التى نشأت فى السهول الزراعية .

( البيئة الزراعية الفيضية )

- أقرب المنخفضات الصحراوية لوادى النيل ويقع شـد

( منخفض الفيوم )

- السهل يتكون من التربة الطينية التى يأتى بها نهر النيل من منابعه .

( السهل الفيضى )

- إزالة الطبقة السطحية الخصبة من التربة لصناعة طوب البناء .

( تجريف التربة )

( )

( النبات الطبيعى )

( الحيوان البرى )

( الأمية )

( الهجرة الداخلية )

- قناة يتم حفرها

- النبات الذى ينمو تلقائياً دون تدخل الإنسان .

- الحيوان الذى لم يستأنسه الإنسان مثل الذئب .

-

-

- المحافظات التى بهـ

( )

- المحافظات التى بها بطالة وقلة الدخل وقلة الخدمات .

( )

( الهجرة الخارجية )

( الهجرة )

( )

( - )

- بحيرة سياحية هامة فى منخفض الفيوم. (بحيرة قارون)



## الوحدة الثالثة (الحكم العثماني لمصر)

### السؤال الأول : أكمل العبارات التالية :

- سيطرت دولة المماليك طرق التجارة بين أوروبا والشرق - تحالفت الدولة العثمانية مع دولة المماليك عند ظهور \_\_\_\_\_.
- هزمت القوات المملوكية أمام القوات العثمانية فى موقعة مرج دابق والريدانية.
- تمثلت مظاهر الحكم العثماني لمصر فى هيئات الحكم المحلية - لقضاء والتشريع.
- العثمانيون هم قبائل جائت من آسيا الوسطى.
- تنسب الدولة العثمانية إلى مؤسسها \_\_\_\_\_.
- نشأت الدولة العثمانية فى أواخر \_\_\_\_\_ الميلادى
- أستطاع محمد الثانى فتح القنسطنطينية عام \_\_\_\_\_.
- تولى المماليك حكم مصر عقب سد الدولة الأيوبية.
- عرفت الضرائب التى كان يحصل عليها المماليك من مرور القوافل التجارية بأسم \_\_\_\_\_.
- البرتغاليون طريق رأس الرجاء \_\_\_\_\_.
- أستطاع السلطان سليم الأول هزيمة المماليك فى الشام فى \_\_\_\_\_.
- هو نائب السلطان ومقرة القلعة.
- سليم الأول باب زويلة.
- بين عام إلى ثلاث أعوام.
- كانت مهمة الحامية العثمانية التى تركها سليم الأول فى مصر حماية البلاد.
- أبقي العثمانيون على المماليك شئون المماليك لخبرتهم الإدارية .
- عانى الفلاح المصرى زمن العثمانيون من الضرائب \_\_\_\_\_.
- لضمان تحصيل الضرائب فى مواعيدها طبق العثمانيون \_\_\_\_\_.
- نظمت الدولة العثمانية طرق جباية الأموال عن طريق الدواوين.
- تركزت السلطة القضائية فى مصر العثمانية فى يد قاضى القضاة .
- كانت الفجوة فى مصر واسعة بين \_\_\_\_\_.
- تكونت الطبقة الحاكمة فى مصر العثمانية من الوالى والديوان والحامية العثمانية.
- أقتصرت التعليم فى مصر العثمانية على الفقة والحديث.
- نية مدينة القنسطنطينية عاصمة لها منذ عام \_\_\_\_\_.

### السؤال الثانى : ما المقصود بالمفاهيم التالية :

١- الدولة العثمانية	دولة تنسب إلى مؤسسها الأمير عثمان بن أرطغرل ونشأت فى أواخر القرن الثالث عشر الميلادى وأمتدت فى الأناضول والبلقان .
٢- المماليك	لغلمان كان يتم جلبهم بواسطة التجار ويتشترتهم السلاطين والأمراء ويلحقون بمدارس تسمى الطباقي للتدريب على الفروسية .
٣- المكوس	الضرائب التى كان يحصل عليها المماليك من مرور القوافل التجارية عبر أراضيهم .
٤- طرق تجارية بحرية	يقصد بها مرور التجارة عبر البحار والمحيطات والأنهار مثل طريق رأس الرجاء الصالح قديما ، وقناة السويس حديثا .
٥- طريق رأس الرجاء الصالح	طريق بحرى يدور حول قارة افريقيا من جهتي الجنوب والغرب ، أكتشفه البرتغاليون فى القرن الخامس عشر الميلادى



٦- الحامية العثمانية	فرق عسكرية كانت مهمتها حفظ
٧- فائض الالتزام	هو الفرق بين ما يدفعه الملتزم للحكومة وما يقوم بجباية من الفلاحين
٨- قاضى القضاة	هو القاضى المعين من قبل الدولة العثمانية ليتصرف فى الأحكام الشرعية وفقا للمذاهب الأربعة .
٩- السناجق	مجموعة من العسكرين مهمتهم إدارة بعض الأقاليم الهامة.
١٠- الديوان	كان يتكون من كبار ضباط الحامية العثمانية والعلماء والأعيان ولة سلطة

#### السؤال الثالث : إلى من تنسب الأعمال الآتية :

١- محمد الثانى	قام بفتح القنسطنطينية عام
٢- عثمان بن أرطغرل	مؤسس الدولة العثمانية .
٣- سليم الأول	أنتصر على المماليك فى مصر والشام .
٤- قنصوة الغورى	قائد المماليك فى الشام الذى هزم فى معركة مرج دابق
٥- طومان باى	قائد المماليك فى مصر الى هزم على يد سليم الأول فى معركة الريدانية وتم شنقة على باب زويلة .

#### السؤال السادس : أذكر الحدث التاريخى :

١- ١٤٥١ م	تولى محمد الثانى حكم الدولة العثمانية
٢- ١٤٥٣ م	فتح محمد الثانى القنسطنطينية
٣- ١٤٩٨ م	أكتشاف البرتغاليون طريق رأس الرجاء الصالح
٤- ١٥٠٩	معركة ديو البحرية بين المماليك والبرتغاليون والتي انتهت بهزيمة المماليك .
٥- ١٥١٦ م	معركة مرج دابق والتي انتهت بهزيمة المماليك
٦- ١٥١٧	موقعة الريدانية وهزيمة المماليك بها وتحول مصر إلى ولاية عثمانية .
١٥١٢ م	تولى سليم الأول قيادة الدولة العثمانية .

#### السؤال السابع : بم تفسر :

١- ازدهار الدولة المملوكية فى مصر والشام .	- موقعها الجغرافى المسيطر على طرق التجارة بين أوروبا والشرق . - مواردها من الضرائب والمكوس والحاصلات الزراعية والحيوانية .
٢- الضعف الاقتصادى لدولة المماليك .	بسبب أكتشاف البرتغاليون طريق رأس الرجاء الصالح وتحول طريق
٣- توتر العلاقات بين الدولة العثمانية والدولة المملوكية .	- حماية المماليك لبعض الأمراء العثمانيون الفارين . - أستيلاء العثمانيون على بعض المناطق التابعة للمماليك . - رغبة الدولة العثمانية فى السيطرة على العالم الإسلامى . - رغبة السلطان سليم الأول فى تحقيق السيادة ف
٤- هزيمة المماليك فى معركة مرج دابق عام ١٥١٦	بسبب ضعف أسلحتهم وخيانة بعض أمراء المماليك .
٥- هزيمة المماليك أمام العثمانيون	- خيانة بعض أمراء المماليك . - التدهور الاقتصادى والعسكرى للمماليك . - أسلحة المماليك المتخلفة . - مانبيون .
٦- توسع العثمانيون نحو الشرق العربى	بسبب رغبة الدولة العثمانية فى توسيع حدودها والسيطرة على الطرق البرية والبحرية الهامة .



٧- أهمية دور الحماية العثمانية	- رغبة الدولة العثمانية فى السيطرة على العالم الإسلامى . - - حضور إجتماعات ديوان القاهرة .
٨- إبقاء العثمانيون على المماليك فى إدارة شؤن الأقاليم	لخبرتهم فى إدارة شؤن البلاد .
٩- تعيين العثمانيون لقاضى القضاة	لتصرف فى الأحكام الشرعية وفقا للمذاهب الأربعة .
١٠- تدهور أحوال الصناعة فى مصر العثمانية .	بسبب إهمال الصناعة وفرض الضرائب الباهظة على الصناع .
١١- تدهور أحوال التجارة فى مصر العثمانية	بسبب تدهور الزراعة والصناعة
١٢- أهمية دور العلماء ورجال الدين فى زمن العثمانيون .	كانوا يدافعون عن حقوق الشعب لدى الحكام
١٣- انتشار الجهل فى مصر زمن العثمانيون .	بسبب إهمال العثمانيون للتعليم فى مصر .
١٤- تدهور الحياة الفنية فى العصر العثمانى	بسبب تأخر الحرف والصناعات وتدهور التعليم ، وسفر الصناع المهرة الاستيلاء على التحف الثمينة والمخطوطات النادرة .
١٥- أهمية وظيفة الديوان .	
١٦- أ تفى دور علماء الأزهر فى القضاء أثناء الحكم العثمانى لمصر .	بسبب تعيين قاضى القضاة من الأتراك .

#### السؤال الثامن : ما النتائج المترتبة على :

١- فتح محمد الثانى القنسطنطية .	إتخاذها عاصمة للدولة العثمانية .
٢- سيطرة دولة المماليك على طرق التجارة بين الشرق والغرب .	التقدم الأقتصادى لدولة المماليك .
٣- هزيمة المماليك أمام البرتغاليون فى موقعة ديو البحرية .	ضعف الدولة المملوكية عسكريا .
٤- اكتشاف البرتغاليون طريق رأس الرجاء الصالح .	تدهور الأحوال الأقتصادية للمماليك .
٥- حماية المماليك لبعض الأمراء العثمانيون الفارين	توتر العلاقات بين الدولتين العثمانية والمملوكية
٦- موقعة مرج دابق ١٥١٦م	- هزيمة المماليك - دخول العثمانيون بلاد الشام . - أصبحت الشام ولاية عثمانية - مقتل قائد المماليك القائد قنصورة الغو .
٧- معركة الريدانية ١٥١٧م.	- هزيمة المماليك - مقتل السلطان طومان باى قائد المماليك وتعليقه على باب زويلة .
٨- اعتماد المماليك على الفروسية فى قتالهم مع العثمانيون .	هزيمة المماليك أمام العثمانيون بسبب تقدم أسلحة العثمانيون عن المماليك .
٩- تطبيق العثمانيون نظام الألتزام .	تدهور الزراعة .

## السؤال التاسع : قارن بين :

- موقعة الريدانية ومرج دابق

وجه المقارنة	موقعة الريدانية ١٥١٧	موقعة مرج دابق
	بين العثمانيون والمماليك في مصر .	بين العثمانيون والمماليك .
	<ul style="list-style-type: none"> <li>- هزيمة المماليك .</li> <li>- ق طومان باى على باب زويلة .</li> <li>- أصبحت مصر ولاية عثمانية .</li> <li>- مقتل قائد المماليك قنصوة الغورى .</li> </ul>	<ul style="list-style-type: none"> <li>- هزيمة المماليك .</li> <li>- دخول العثمانيون بلاد الشام .</li> <li>- إعدام طومان باى على باب زويلة .</li> </ul>

أحوال الزراعة في العصر العثماني	أحوال الصناعة في العصر العثماني
تدهورت الزراعة بسبب إتلاف الأراضي الزراعية وتطبيق نظام الإلتزام .	تدهورت الصناعة بسبب فرض الضرائب الباهظة على الصناع ، وقيام سليم الأول بترحيل أمهر الصناع .

- الوالى والحامية العثمانية من حيث التعرف ومهما كل منهما .

وجه المقارنة	الوالى	الحامية العثمانية
التعريف	هو نائب السلطان ومقرة القلعة	هي الحامية التى تركها السلطان سليم الأول في مصر وتقوم بحماية البلاد .
وظائفهما	<ul style="list-style-type: none"> <li>- تنفيذ قرارات السلطان العثماني .</li> <li>- الزراعي .</li> <li>- دعوة الديوان للإنعقاد .</li> </ul>	<ul style="list-style-type: none"> <li>- مراقبة وحضور إجتماعات ديوان القاهرة .</li> </ul>

الملتزم	قاضى القضاة
شخص يدفع للحكومة قيمة الضرائب المفروضة على كل إقليم ثم ينوب عن الحكومة فى جبايتها .	هو القاضى المعين من قبل الدولة العثمانية لمدة عام واحد ليتولى السلطة القضائية فى مصر .

٥- الطبقة الحاكمة والطبقة المحكومة من حيث المميزات ، والأطراف .

وجه المقارنة	الطبقة الحاكمة	الطبقة المحكومة
--------------	----------------	-----------------

المميزات	عاشت فى رفاهية وتمتعت بكل الامتيازات .	كانت هذه الطبقة تعمل وتكدح لمصلحة السلطة العثمانية فهي تعمل لتحقيق الرفاهية إليهم .
	— — — أعضاء الديوان	الرعية ( الشعب )

### السؤال السابع : برهن تاريخيا على صحة العبارات التالية :

- تمتعت دولة المماليك فى مصر والشام بالثراء الاقتصادى .
- تمتعت دولة المماليك فى مصر والشام بالثراء الاقتصادى عن طريق موقعها الجغرافى المسيطر على طرق التجارة بين الشرق والغرب والذى سمح لها بجباية المكوس على القوافل المارة بالأراضى المصرية .
- بفضل مواردها التى تمثلت فى المنتجات الزراعية والحيوانية

- بدأت العلاقات بين الدولتين المملوكية والعثمانية بداية طبية بدليل :

- احتفال المماليك بسيطرة العثمانيين على القنسطنطينية عام .
- الوقوف بجانب العثمانيين ضد البرتغاليين بعد اكتشافهم طريق رأس الرجاء الصالح .
- مساعدة العثمانيون للماليك فى مواجهة البرتغال فى موقعة ديو البحرية

- أنقلبت العلاقات الطبية بين الدولتين العثمانية والمملوكية إلى صدام مسلح . بدليل :

- رغبة الدولة العثمانية فى السيطرة على العالم الإسلامى والسيادة على المنطقة الحيوية .
- حماية المماليك لبعض أمراء العثمانيين الفارين
- أستيلاء العثمانيون على بعض المناطق التابعة للمماليك على الحدود الشمالية
- رغبة السلطان سليم الأول فى توسيع حدود دولته وتحقيق السيادة فى المنطقة

- كان نظام الحكم العثمانى لمصر أستبداديا .  
لانة كان يعتمد على عنصر القوة لضمان أستمرار أحتلالهم لمصر .

- سيطرت الدولة العثمانية على القضاء والتشريع فى مصر  
سيطرت الدولة العثمانية على القضاء والتشريع حيث قامت بتعيين قاضى القضاة العثمانى ليتصرف فى الأحكام الشرعية وفقا للمذاهب الأربعة مما ادى إلى انسحاب السلطة من يد علماء الأزهر .

- تدهورت أحوال مصر الاقتصادية فى العصر العثمانى .  
كانت الحياة الإجتماعية فى العصر العثمانى قائمة على النظام الطبقي .  
- تسبب السلطان سليم الأول فى تدهور الحياة الفنية فى مصر .  
تسبب السلطان سليم الأول فى تدهور الحياة الفنية فى مصر حيث قام بترحيل امهر الصناع إلى العاصمة الأستانة ، بالإضافة للأستيلاء على اغلب التحف الثمينة والمخطوطات النادرة .



## الوحدة الثانية ( البيئة الصناعية )



### السؤال الأول : أكمل العبارات التالية :

	- من المواد الخام الزراعية اللازم
	- يجب ان تكون المصانع قريبة من مصادر المواد .....و.....
تلوث الهواء وتلوث	- من مشكلات التلوث البيئي الناتجة عن الصناعة .....و.....
نخفاض الأمية	- من خصائص سكان البيئة الصناعية .....و.....
المعيشة	- تصنف الصناعات حسب درجة تطورها إلى .....و.....و.....
بدائية – بسيطة – حديثة	- من أنواع الصناعات صناعة ..... وتقوم عليها الملابس الجاهزة والمفروشات .
الغزل والنسيج	- البيئة الصناعية هي المناطق التي تقوم بها .....
	- الصناعة هي تحويل ..... إلى .....
	- تتركز صناعة الغزل والنسيج في .....
	- من المواد الخام الحيوانية التي تدخل في الصناعة .....و.....
	- ر الطاقة الهامة التي تدخل في الصناعة الفحم و.....و.....
الطبيعي	- طلب السكان المحليين للمنتجات هو السوق .....
المحلية	- يعمل بالصناعة في مصر حوالى .....مليون نسمة .
	- توفر البيئة الصناعية للبيئة الزراعية .....
التعليم – الأمية	- من خصائص سكان البيئة الصناعية التعليمية ارتفاع نسبة .....وإنخفاض نسبة .....
	- من العادات الإيجابية لسكان البيئة الصناعية ..... في العمل .
–	- من الصناعات الحرفية .....و.....
السجاد اليدوى	- صناعة الآلات والسيارات من الصناعات .....
الحديثة	- صناعة الأسمدة والأدوية من الصناعات .....
الكيمائية	- من الصناعات الملوثة للبيئة صناعة .....و.....
	- صرف مخلفات المصانع فى الأنهار يؤدي إلى ..
تلوث المياه	- الأستنزاف هو أستهلاك الموارد الطبيعية بشكل ...
غير منتظم	- من مشكلات البيئة الصناعية ارتفاع أسعار ....و.....
–	- ترشيد الاستهلاك هو تقليل .... والاستخدام الأمثل ل.....
–	- الدولة وزاة ... لإصدار قوانين لحماية البيئة .
البيئة	- لمنع إنبعاث الإبخرة الضارة يجب تركيب .....على مداخل المصانع

### السؤال الثانى : ما المقصود بالمفاهيم التالية :

- البيئة الصناعية	هى المناطق التى تقوم فيها الصناعة ويعمل معظم سكانها بالصنا .
-------------------	--

- السوق المحلية	يقصد بها طلب السكان المحليين للمنتجات المحلية .
- السوق الخارجية	يقصد بها طلبات الدول الأخرى للمنتجات الصناعية المصرية مثل الدول العربية والأجنبية .
- الصناعة اليدوية	هي الصناعات التي تعتمد على العمل اليدوى .
- صناعات بسيطة	صناعة يتم فيها تحويل المواد الخام إلى صورة أخرى .
-	هي الصناعات التي تعتمد على الآلات الحديثة ويقل فيها الاعتماد على العمالة البشرية .
-	صغيرة لإنشاء المصانع وكل مصنع يقوم بإحدى الصناعات .
- الاستنزاف	استهلاك واستغلال الموارد الطبيعية بشكل غير منتظم مما يؤدي إلى ضياعها أو إنقراضها .

### السؤال الثالث : بم تفسر :

- أهمية بناء المصانع بعيدا عن المناطق السكنية .	لتقليل نسبة التلوث .
- أهمية بناء المصانع قريبا من	لتوفير الوقت والجهد والمال
- تركز صناعة الغزل والنسيج فى	لوجود المناخ المعتدل الملائم لقيام الصناعة
- التلوث ليس له حدود جغرافية .	لأنه ينتشر بسرعة سواء عن طريق الهواء أو الماء أو التربة الزراعية
- أهمية رأس المال لقيام الصناعة.	
- أهمية النقل والمواصلات لقيام	-
- أهمية الصناعة لمصر .	- توفير فرص عمل للمواطنين . - ناعية . - زيادة الدخل القومى
- هناك تكامل بين البيئة الزراعية والصناعية .	توفر البيئة الزراعية للبيئة الصناعية المواد الخام والأيدى العاملة ، فى حين ان توفر البيئة الصناعية للبيئة الزراعية المنتجات الصناعية والآلات .
- هناك عادات سلبية وأخرى إيجابية فى البيئة الصناعية	لأنه توجد عادات إيجابية مثل التعاون واحترام مواعيد العمل ، وفى نفس الوقت يوجد عادات سلبية مثل التدخين داخل المصنع وعدم التخلص من المخلفات الصناعية
-	لأنها توفر فرص عمل للشباب .
- تلوث الهو الصناعية	
- تلوث الماء فى البيئة الصناعية	بسبب إلقاء مخلفات المصانع فى المياه
- إنتشار المناطق العشوائية على أطراف المدن الصناعية .	بسبب الهجرة من الريف للمدن
- تواجده الصناعة العديد من	- : -
- أهمية الإكثار من المساحات	- التهرب الجمركى . لمنع تلوث الهواء .

الخضراء فى البيئة الصناعية .	
- أهمية تركيب مرشحات وفلاتر	ات الضارة التى تلوث الهواء .
- إنشاء الدولة وزارة البيئة	لحماية البيئة من الأخطار .
- اهتمام الدولة بالتعليم الفنى	لتخريج عمالة فنية مدربة .
- أهمية إنفتاح مصر على العالم	تشجيع العرب والأجانب على الاستثمار فى مجال الصناعة .

#### السؤال الرابع : ما النتائج المترتبة على :

-	
-	قيام الصناعات المختلفة .
-	قيام الصناعات الحديثة
- زيادة الإنتاج الصناعى	التصدير للخارج والحصول على العملات الصعبة مما يزيد الدخل
- تنوع الأنشطة الاقتصادية فى البيئة الصناعية	توفير فرص عمل للشباب وتقليل نسبة البطالة
- تطوير الدولة للصناعة .	
- وجود مصانع الأسمنت والحديد والصلب	تؤدى إلى تلوث البيئة وإنتشار الأمراض الصدرية
- استهلاك الموارد الطبيعية بشكل غير منتظم	
- إلقاء مخلفات المصانع فى مياه النيل.	تلوث المياه
- زيادة المساحات الخضراء فى البيئة الصناعية .	تقليل نسبة التلوث



### الوحدة الرابعة : الحملة الفرنسية على مصر

السؤال الأول	أختر الإجابة الصحيحة مما بين القوسين :
--------------	--

- قاد الحملة الفرنسية على مصر .....
- ( نابليون بونابرت - مينو - كليبر - )
- وصلت الحملة الفرنسية ميناء الأسكندرية فى يوليو عام ..... م .
- ( \_\_\_\_\_ - \_\_\_\_\_ - \_\_\_\_\_ )
- .....
- ( أبى قير البرية - أبى قير البحرية - )
- ولد محمد على فى مدينة قولة شمال .....
- ( ليونان - إيطاليا - )

#### السؤال الثانى : أكمل العبارات التالية :

- جاءت الحملة الفرنسية على مصر ع .....	
- أبحرت الحملة الفرنسية من ميناء ..... الفرنسى فى مايو	
- قاوم أهل أسكندرية الحملة بقيادة .....	محمد كريم
- جاء المصريين إلى مصر بحجة .....	تاديب المماليك



- الفرنسية في طريقها إلى القاهرة طريقا بریا عبر صحراء .....	الرحمانية
- كانت موقعة ..... أول مواجهة بين الفرنسيين والمماليك	شبراخيت
- سميت معركة ..... بأسم معركة الأهرام .	
- أستطاع الاسطول الإنجليزى تدمير الأسطول الفرنسى فى معركة .....	ابى قير البحرية
- أنشأ نابليون ديوان ..... من العلماء والمشايخ	القاهرة
- إتخذت ثورة القاهرة الأولى من ..... مركزا لها.	الأزهر
- تولى ..... قيادة الحملة الفرنسية بعد سفر نابليون لفرنسا سرا .	كليب
- تولى ..... قيادة الحملة بعد كليب .	مينو
- تزوج مينو من فتاة مصرية من مدينة .....	رشيد
- أعد علماء الحملة كتابا عن مصر أطلق عليه أسم .....	
- بعد رحيل الفرنسيين عن مصر تصارع على الحكم .....و.....ز.....	العثمانيون والمماليك والإنجليز
- أرادت إنجلترا السيطرة على مصر لتأمين مواصلتها إلى ...	الهند
- خرجت الحملة الفرنسية من مصر عام .....	
- أستطاعت الزعامة الشعبية بقيادة ..... تعيين محمد على واليا على مصر .	
- ..... .....	-اليونان-
- جاء محمد على إلى مصر مع الجيش ..... الذى ج .....	- الفرنسيين
- ..... .....	فريزر
- تصدى أهل ..... للحملة الإنجليزية حتى أجبروها على الانسحاب	رشيد
- قام محمد على بنفى ..... إلى دمياط	
- تخلص محمد على من المماليك فى .....	

### **السؤال الثانى : برهن تاريخيا ( دلل ) على صحة العبارات التالية :**

- لم يعلم بأمر الحملة الفرنسية على مصر إلا قائدة نابليون بونابرت.
- حيث أخفت أنجلترا نبأ حملتها على مصر لعدم تسرب أخبار الحملة لأنجلترا حتى لا تتعرض لمهاجمة الأنجليزى الذى كان يراقب الملاحة فى البحر المتوسط .

- اختلفت الاسباب الحقيقية للحملة الفرنسية عن اسبابها المعلنة

#### **[ ١ ] الاسباب الظاهرية : [ المعلنة ]**

- تأديب المماليك وتحطيم قوتهم ونفوذهم .
- حماية التجار الفرنسيين والرعايا المصريين من اضطهاد وظلم المماليك .
- إدعاء الحكومة الفرنسية إنشاء حكومة وطنية يكون الحكم فيها للمصريين .

#### **[ ٢ ] الاسباب الحقيقية [ غير المعلنة ] .**

- تهديد مصالح إنجلترا في الشرق بقطع الطريق بين إنجلترا ومستعمراتها في الهند .
- إقامة مستعمرة فرنسية في الشرق يكون مركزها مصر .
- وبيض فرنسا عن أمراطوريتهما التى فقدتها في حروبها مع إنجلترا

- كانت لموقعة أبى قير البحرية آثار خطيرة بالنسبة للفرنسيين

#### **حيث نتج عنها :**

- تحطيم الأسطول الفرنسى ومقتل قائدة .

- أنقطاع الصلة بين الجيش الفرنسي الموجود في مصر وبين موطنه الأصلي بفرنسا .
- اعتماد الفرنسيين في سد احتياجاتهم على موارد مصر .
- ضعف الروح المعنوية للجند الفرنسيين .
- محاصرة الأنجليز للشواطئ المصرية .
- تفكير نابليون في الإتجاه للشام

- كان نابليون بونابرت عنيفا في معاملة الثوار في ثورة القاهرة الأولى .

- أستخدم نابليون الشدة والعنف في معاملة الـ .
- القاء القبض على بعض زعماء الثورة والحكم على ستة منهم بالأعدام وكانو من مشايخ الأزهر باستثناء الشيخ
- دخول نابليون وجنوده الجامع الأزهر بخيولهم وهذا كان إساءة لحرمة الجامع الأزهر .

- لم تحقق حملة نابليون على بلاد الشام أهدافها .

بسبب فشل الحملة في فتح أسوار عكا لقوة أسوارها وبسالة أهلها في الدفاع عنها وانتشار مرض الطاعون بين الجنود الفرنسيين .

- تنكر محمد علي للزعامة الشعبية التي مهدت له حكم مصر .
- حيث قام بنفى عمرو مكرم إلى دمياط

### السؤال الثالث: بم تفسر :

إخفاء الحكومة الفرنسية أخبار حملتها على مصر .	حتى لا تتسرب أخبار حملتها إلى إنجلترا وتتعرض لهجمات الاسطول الأنجليزى .
أصطحب نابليون أثناء حملة	.
إعدام نابليون للسيد محمد كريم	لأنه تصدى للحملة الفرنسية أثناء دخولها الأسكندرية .
كانت للحملة الفرنسية أسباب معلنة	تأديب المماليك بسبب ظلم التجار الفرنسيين - إقامة حكومة وطنية يكون الحكم فيها للمصريين . - مساعدة الدولة العثمانية .
مجيء الحملة الفرنسية على مصر ( الاسباب الحقيقية )	لقطع الطريق بين إنجلترا ومستعمراتها في الهند - إقامة مستعمرة فرنسية في الشرق .
هزيمة المماليك في موقعة شبراخيت .	بسبب استخدام المماليك الأسلحة التقليدية .
أبى قير البحرية أحد أسباب فشل الحملة الفرنسية على مصر	.
إنشاء نابليون ديوان القاهرة .	للمساعدة في حكم القاهرة .
قيام ثورة القاهرة الأولى .	بسبب فرض الضرائب الباهظة على المصريين - إعدام العلماء والمشايخ واستثنى منهم الشيخ السادات لمكانة عند المصريين .
حملة نابليون على الشام	بسبب مهاجمة الجيش العثماني في بلاد الشام قبل ان يصل إلى مصر
فشل نابليون في حملة على بلاد الشام .	بسبب قوة أسوار عكا وبسالة أهلها في الدفاع عنها .

- عقد كليبر إتفاقية العريش مع العثمانيون .	لخروج الحملة الفرنسية من مصر .
- ثورة القاهرة الثانية فى مارس .	- لشدة نابليون بعد ثورة القاهرة الأولى . - علم المصريين بأن العثمانيون على أبواب القاهرة .
- فشل الحملة الفرنسية على مصر عسكريا وحربيا .	لأنها فشلت فى تكوين إمبراطورية فرنسية فى ولأنها فشلت فى ضرب مصالح أنجلترا فى الشرق
- حققت الحملة الفرنسية بعض النجاح العلمى فى مصر .	بسبب اكتشاف رموز حجر رشيد ، وعمل كتاب
- حرق المماليك السفن بعد هزيمتهم فى أمبابة .	حتى لا تقع فى ايدى الفرنسيين .
- العثمانيون يرون أنهم أصحاب الحق الشرعى فى	لأنهم قدموا تضحيات ومساعدات ضد الحملة الفرنسية .
- كان المماليك يرون أنهم أصحاب الحق الشرعى فى حكم	لأنهم شاركوا فى التصدى للفرنسيين .
- رغبة أنجلترا فى السيطرة على مصر عقب خروج الحملة الفرنسية	أمين موصلتها إلى الهند
-	جاء إلى مصر ضمن الجيش العثمانى الذى جاء لطرده الفرنسيين من مصر
- لعبت الزعامة الشعبية دورا كبيرا فى تولية محمد على	لأنهم ضغطوا على السلطان العثمانى فى تعيين محمد على واليا على مصر
- ريزر على مصر	بسبب رغبة أنجلترا فى السيطرة على مصر .
-	.
- تخلص محمد على من المماليك	.

### السؤال الرابع : ما النتائج المترتبة على :

- مقاومة محمد كريم للحملة الفرنسية .	ام نابليون لمحمد كريم
- موقعة شبراخيت .	تقهقر المماليك إلى القاهرة بعد هزيمتهم
- موقعة أمبابة فى يوليو .	فرار المماليك إلى الصعيد
- معركة الصالحية فى أغسطس	هزيمة المماليك وفرارهم لسوريا .
- موقعة أبى قير البحرية أغسطس .	تدمير ا -
- ثورة القاهرة أكتوبر	أقتحام الأزهر - إعدام الكثير من المصريين - الديوان الوطنى .
- حملة نابليون على الشام .	هزيمة نابليون فى عكا بسبب بسالة أهلها فى الدفاع عنها
- قير البرية .	هزيمة العثمانيون
- ثورة القاهرة الثانية .	قيام كليبر بتدمير حى بولاق .
- رغبة كليبر فى عدم البقاء فى مصر	عقد إتفاقية العريش
- قتل كليبر بعد ثورة القاهرة الثانية .	تولى مينو قيادة الحملة



- الحملة الفرنسية على مصر من الناحية الحربية	فشلت فرنسا في تكوين إمبراطورية في مصر
- الحملة الفرنسية على مصر من الناحية السياسية	نهبت أنظار أوروبا خاصة إنجلترا إلى أهمية موقع مصر -
- الحملة الفرنسية على مصر من الناحية الاقتصادية	أيقظت الوعي القومي للمصريين
- الحملة الفرنسية على مصر من الناحية الاجتماعية	الأهتمام بمشاريع الر - إنشاء مصانع النسيج - أسواق جديدة .
- الحملة الفرنسية على مصر من الناحية العلمية والثقافية	تعرف الشعب المصرى على الأنظمة الإدارية الحديثة
- حملة فرنسا على مصر	أكتشاف رموز حجر رشيد وعمل كتاب وصف مصر
- تأخير الولاة الرواتب عن الجنود المماليك	تصارع الأنجليز والعثمانيون والمماليك على حكم مصر
- حملة فريزر على مصر	ثورة الجنود ضدهم
-	فشل الحملة وخروجها
-	بنة بنفى عمرو مكرم لدمياط ، والتخلص من المماليك فى مذبحه القلعة

### السؤال الخامس : ما المقصود بالمفاهيم التالية :

المصطلح	معناه
١- الحملة	تجهيز الجيش وتوجيه لأهداف حربية
٢- الاحتلال	أستيلاء دولة على دولة أخرى قهرا
٣- مستعمرة	إقليم يحكمه أجنبى ويكتفى بأستغلاله اقتصاديا وعسكريا .
٤- ثورة	تغير اساسى فى الأوضاع السياسية والإجتماعية يقوم به الشعب وقد يهيب الشعب ويثور ولا يحقق التغير الجذرى .
٥- عصر	فترة زمنية تنسب إلى مصر او أى دولة او أى تطورات مثل عصر محمد على .

### السؤال السادس : من هو ....؟

- قائد الحملة الفرنسية على مصر	نابليون
- حاكم الاسكندرية الذى تصدى للحملة الفرنسية	محمد كريم
- قائد الأسطول الأنجليزى فى معركة ابى قير البحرية	
- أمر جنوده بدخول الأزهر بخيولهم وفرض الضرائب على المصريين	نابليون
- عثمانيون إتفاقية العريش	كليبر
- قائد وزعيم المصريين فى ثورة القاهرة الثانية	
- قائد فرنسى أعلن إسلامه وتزوج من مصرية	مينو
- عالم فرنسى أكتشف رموز حجر رشيد	شامبليون
- تزعم الحركة الوطنية التى عينت محمد على واليا على مصر	
-	
- قائد الحملة الأنجليزية على مصر	فريزر
- ابن محمد على وقاد جيش مصر للحجاز	

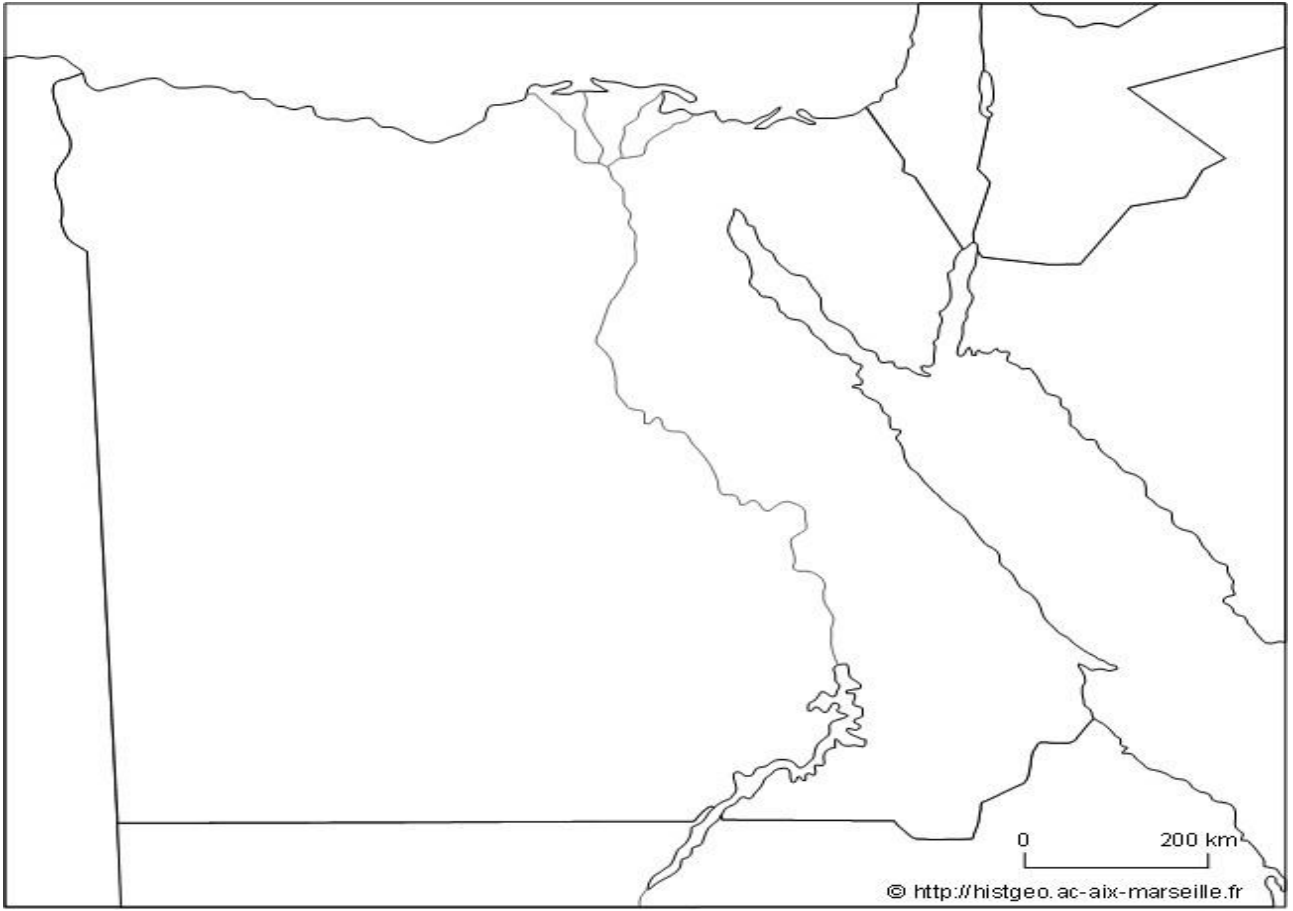
### أهنة الخرائط :

١- وزع على خريطة مصر أماكن الزراعة مبينا ما يلى : ( يجب عنها

الطالب ):

١- أماكن الزراعة المروية .

- أماكن الزراعة المطرية .  
— مناطق الزراعة على المياه الجوفية .



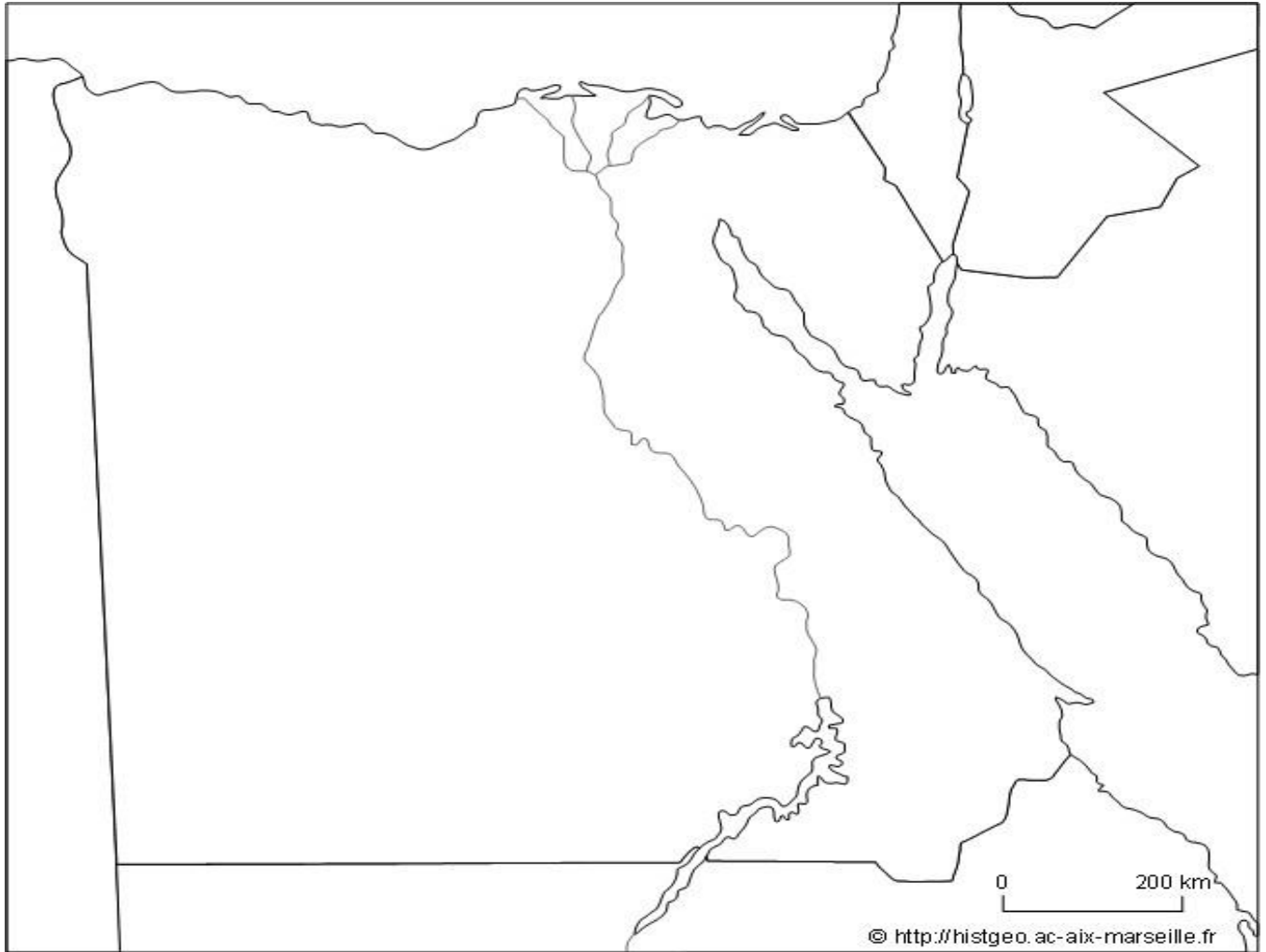
٢- وزع على خريطة مصر الأماكن التي تتواجد بها الترع والسدود والقناطر مع تحليل ذلك في جدول .



أهم الترعة في الدلتا	أهم الترعة في الوادى	أهم الترعة في منخفض الفيوم
- ترعة الإسماعلية - ترعة النوبارية في	ترعة الإبراهيمية في غرب	ترعة بحر يوسف التى تخرج منها ترعة الإبراهيمية
أهم القناطر في الدلتا	أهم القناطر في الوادى	أهم القناطر في منخفض الفيوم
القناطر الخيرية على	قناطر اسيوط.	قناطر اللاهون

### ٣- وزع على خريطة مصر الطبيعية ما يلى :

- ١- أهم الجبال فى الصحراء الشرقية والغربية .
- أهم الهضاب .
- أهم المنخفضات .
- البحيرات المالحة والعذبة
- أهم الخلجان .







**السؤال الاول : اكتب كلمة ( صح ) امام العبارة الصحيحة ، وكلمة ( خطأ ) امام العبارة الخاطئة مع التصويب :**

( )	-
	- يعد منخفض الفيوم بيئة زراعية رغم وقوعه في الصحراء الغربية .
خطأ ( مستوية )	- تتميز أراضي الدلتا بوجود تضاريس مرتفعة بها .
خطأ ( الصناعات الحرفية )	- تعد صناعة الفخار أحد أنواع الصناعات الحديثة .
( )	- تعتبر محافظة شمال سيناء أحد محافظات وادي النيل .
	- الزراعة في الأطراف الشمالية للدلتا .
	- تبدو الدلتا على شكل مثلث رأسه شمال مدينة القاعدة وقاعدة على ساحل البحر
	- احترام الكبير والتعاون من العادات الإيجابية لسكان البيئة الزراعية .
( يزداد )	- يقل استخدام مصادر الطاقة في مجال الصناعة .
	- تساهم الصناعة في ارتفاع مستوى معيشة الفرد .
	- الزواج المبكر من العادات السيئة في البيئة الزراعية .
( )	- تنخفض نسبة الأمية في الريف مقارنة بالمدن .
	- تدهورت أحوال المماليك الاقتصادية بعد اكتشاف طريق رأس الرجاء الصالح .
خطأ ( تدهورت )	- ازدهرت أحوال الفلاحين في ظل الحكم العثماني .
	-
	- استخدم نابليون الشدة في قمع الثوار في ثورة القاهرة الأولى
	- ولد محمد علي في مدينة قولة شمال اليونان عام .
	- تخلص محمد علي من المماليك في مذبحة القلعة

**السؤال الثاني : اكمل العبارات التالية :**

المكان الذي يعيش فيه الإنسان	البيئة هي .....
الصحراء الشرقية والغربية وشبه جزيرة سيناء .	- تقع البيئة الصحراوية في .....و.....و.....
تنوع الثروات الطبيعية وتنوع	- أدى تنوع البيئات المصرية إلى .....و.....
	- توجد ترعة الإسماعلية في شرق .....
بحر يوسف	- يتصل منخفض الفيوم بالنيل عن طريق بحر .....
	- يعيش بالبيئة الزراعية أكثر من ..... مليون نسمة

	- تتميز البيئة المصرية بالتنوع والتداخل و.....
	- تعمل الصناعة على توفير الكثير من .....
مستوية	- يتطلب بناء المصانع أرضا .....
القاهرة – الإسكندرية	- يهاجر سكان الوجه القبلى إلى مدن .....و.....
الهجرة إلى المدن	- تناقص نسبة العاملين بالنشاط الزراعى بسبب .....
تربية الحيوانات – الحرفية	- .....
	- من محاصيل المنسوجات فى مصر .....و.....
إلقاء مخلفات المصانع فى نهر النيل –	- من أسباب التلوث البيئى فى مصر .....و.....
الديوان	- تألفت هيئات الحكم العثمانى من الحامية العثمانية والوالى و.....
	- قامت الحياة الإجتماعية فى مصر على النظام .....
المماليك	- أسند العثمانيون إدارة الأقاليم فى مصر إلى .....
	- هزمت القوات المملوكية أمام العثمانيين فى معركة ..... عام
زويلة	- قام العثمانيون بشنق طومان باى على باب .....
	- أصبحت ..... ولاية عثمانية عام .
القنسطنطينية	- م بفتح مدينة .....
	- حصل المماليك ضرائب على القوافل المارة بأراضيهم تسمى
البرتغاليون	- هزم المماليك فى موقعة ديوالبحرية عام .....
– الديوان	- من هيئات الحكم المحلية أثناء الحكم العثما .....
	- يعتبر الوالى نائب للسلطان ومقره .....
–	- كانت مدة حكم الوالى تتراوح ما بين ..... إلى ..... أعوام
الدواوين	- نظمت الإدارة العثمانية طرق جباية الأموال من خلال .....
	- أتعبت الدولة العثمانية نظام ..... لضمان تحصيل الضرائب فى القرن
	- تركزت السلطة القضائية فى يد .....
	- .....
– وفاء النيل	- أسهمت طوائف الحرف فى العصر العثمانى .....
– الفقة والتشريع	- أقتصرت التعليم فى الازهر على حفظ ..... ودروس .....
- كرييت	- أبحرت الحملة الفرنسية من ميناء ..... ومنة لجزيرة ..... عام
شبرايت –	- هزم المماليك أمام الفرنسيين فى معركة ..... و.....
فريزر	- ارسلت إنجلترا حملة بقيادة ..... إلى مصر عام .
عمر مكرم ، دمياط	- تخلص محمد على من الزعامة الشعبية بنفى ..... إلى .....

السؤال الثالث : اختر الإجابة الصحيحة ما بين القوسين :

( الهندسية والكهربائية - الكيميائية - <u>المعدنية</u> - الغذائية )	- تعتبر صناعة الألمنيوم أحد أنواع الصناعات
( واحة سيوة - شبة جزيرة سيناء - <u>منخفض الفيوم</u> - )	- توجد البيئة الزراعية الفيضية فى الودى والدلتا و
( - - - )	- تصل نسبة الأمية فى الريف حوالى .....%
( الآلات الزراعية - - - - - المتنتجات الغذائية - الأجهزة الكهربائية )	- توفر البيئة الزراعية للبيئة الصناعية
( - الكبير - التزاور فيما بينهم - <u>زيادة</u> )	- من العادات السلبية فى البيئة الزراعية
( - - - )	- من العوامل البشرية لقيام الصناعة
( النيل - - - - - الأبار والعيون - )	- تقوم الزراعة فى الواحات اعتمادا على مياه
( الزراعية - الصناعية - الساحلية - الصحراوية )	- تمدنا البيئة ..... بالـ
( - - - - - الودى وشبة جزيرة سيناء - والدلتا وشبة جزيرة سيناء )	- تقع البيئة الزراعية فى ....
( - - - - - )	- تقع البيئة الساحلية فى ..... مصر
( - - - - - )	- تقوم الزراعة على مياه الأمطار فى ... مصر
( وجود الكثير من الأبار - <u>إتصاله بنهر النيل</u> - )	- يختلف منخفض الفيوم عن المنخفضات الصحراوية بـ
( - - - - - قلة مياه الرى - الأنشطة الاقتصادية - تنوع النبات الطبيعى )	- يقل عدد السكان فى الوجهة البحرى كلما إتجهنا
( - - - - - )	- من العوامل الطبيعية اللازمة لقيام الصناعة
( - - - - - )	- من خصائص سكان البيئة الصناعية
( - - - - - )	- نسبة الأمية -
( - الريدانية - <u>ديو البحرية</u> - شبراخيت )	- هزم المماليك أمام البرتغاليين فى موقعة ...
( - - - - - )	-
( - <u>محمد كريم</u> - - الشيخ السادات - )	- نجح الفرنسيون فى احتلال الأسكندرية بعد مقاومة حاكمها .....

#### السؤال الرابع : ما المقصود بكل مما يلى :

- ١- **الترعة** : قناة مائية أنشئت بغرض توصيل المياه للأراضى الزراعية .
- ٢- **السد** : بناء هندسى يشيد على مجرى الأنهار لأتقاء خطر الفيضان وتوليد الكهرباء
- ٣- **القنطرة** : حاجز مائى أنشئ بغرض رفع مسنوب المياه للأراضى الزراعية .
- ٤- **البيئة الزراعية الفيضية** : هى البيئة التى نشأت فى السهول الفيضية .
- ٥- **السهل الفيضى** : هو سهل يتكون من ترسيب التربة الطينية التى ينقلها نهر النيل من منابعه
- **تجريف التربة الزراعية** : إزالة الطبقة السطحية من التربة واستخدامها فى صناعة الطوب الأحمر مما يؤدى لتدهور الأراضى الزراعية .
- **الهجرة** : هجرة الأشخاص من مكان لأخر سواء داخل أو خارج حدود الدولة .
- ٨- **العشوائيات** : هى المناطق التى بنيت بدون تخطيط من الدولة عن طريق وضع اليد .
- ٩- **النشاط الاقتصادى** : هو أستغلال وأستهلاك الموارد المتاحة بشكل غير منتظم مما يؤدى إلى ضياعها .
- ١٠- **المحافظات الحضرية** : هى المحافظات التى يعمل معظم سكانها بالصناعة والخدمات .



- ١١- **المحافظات الزراعية** : هى المحافظات التى يعمل معظم سكانها بالزراعة وتربية الحيوانات .
- ١٢- **الحملة** : تجهيز الجيش وتوجيه لأهداف حربية .
- **الأحتلال** : أستيلاء دولة على دولة أخرى قهراً .
- **مستعمرة** : إقليم يحكمه أجنبى ويكتفى بأستغلاله أقتصاديا وعسكريا .
- ١٥- **طرق تجارية بحرية** : مرور التجارة عبر البحار والأنهار والمحيطات .
- ١٦- **السنابج** : عدد من الرجال العسكريين يقومون بمهام خاصة مثل إدارة الأقاليم .
- ١٧- **الحامية** : جماعة من الجيش تحمى بلدا أو موقعا .

### السؤال الخامس : ما النتائج المترتبة على :

- الهجرة من الريف للمدن	- زيادة عدد سكان المدن – ظهور العشوائيات والمساكن العشوائية – قلة العاملين بالنشاط الزراعى – زيادة العاملين بالمجال الصناعى
- تنوع الموارد الطبيعية والبشرية فى البيئة الزراعية	- تنوع الأنشطة الاقتصادية
- أنتشار المناطق السياحية فى البيئة الزراعية .	- زيادة الجذب السياحى
- زيادة المشكلات الاقتصادية التى يعانىها السكان فى البيئة الزراعية	- أدى إلى الهجرة للمدن وظهور العشوائيات ونقص العاملين بالزراعة وزيادة العاملين بالصناعة
- تنوع البيئات المصرية	- أدى إلى تنوع الثروات الطبيعية وتنوع الإنتاج
-	- التأثير السلبى على صحة المرأة
- نظام الحكم والإدارة العثمانية لمصر	- تأخر مصر وضعفها
- نفى محمد على للسيد عمرو مكرم	- هزيمة حملة فريزر وجلاؤهم عن مصر
- تصدى أهالى رشيد لحملة فريزر	- تحطيم الأسطول الفرنسى
- موقعة ابقي فير البحرية	- تأليف كتاب وصف مصر- أكتشاف حجر رشيد
- نسية على مصر من الناحية الثقافية والعلمية	

### السؤال السادس : بم تفسر :

أهتمام الدولة بالتعليم الفنى والصناعى	لتطوير الصناعة وتخريج عمالة فنية مدربة
- تنوع البيئات المصرية .	- إتساع مساحة مصر مليون كيلومتر مربع – ظاهر – تنوع الموارد البشرية .
- تدهور الحياة الفنية فى الحكم العثمانى	- بسبب قيام سليم الأول بترحيل امهر الصناع للأستانة عاصمة الدولة العثمانية بالإضافة لأستيلاء على اغلب التحف الثمينية
- اسباب ثورة القاهرة الأولى	- فرض الضرائب الباهظة على المصريين . - أستخدام نابليون الشدة والعنف . - إعدام المواطنين .
- قيام محمد على بمذبحة القلعة	للتخلص من المماليك
- أتسمت العلاقات بين الدولة العثمانية والدولة المملوكية فى بدايتها بالتحالف	- إحتقال المماليك بسيطرة العثمانيون على القنسطنطينية . - وقوف العثمانيون إلى جانب المماليك فى مواجهة البرتغال عند أكتشافهم طريق الرجاء الصالح . - وقوف العثمانيون بجانب المماليك فى موقعة ديو البحرية

في مواجهة البرتغال .	- ضعف وانهيار الدولة المملوكية
- سوء الأوضاع السياسية للصراع على الحكم فيما بينهم . - سوء الأوضاع الاقتصادية لأكتشاف البرتغاليون طريق - سوء الأوضاع العسكرية لأعتماد المماليك على الأسلحة التقليدية - هزيمة المماليك في موقعة ديو البحرية	- فشل حملة نابليون على الشام
بب قوة اسوار عكا وبسالة اهلها في الدفاع عنها لأنتشار مرض الطاعون بين الجنود الفرنسيين .	- إتباع الدولة العثمانية نظام الألتزام .
لضمان تحصيل الضرائب في أوقتها المحددة بسبب تدخل إنجلترا وهو ما أدى لعودة الحرب بين كليبر والدولة العثمانية .	- فشل إتفاقية العريش بين كليبر والعثمانيون

### السؤال السابع : برهن تاريخيا على صحة العبارات التالية :

لأنها انتزعت السلطة القضائية من يد الأزهر الشريف وتعين قاضى القضاة العثماني	- سيطرت الدولة العثمانية على القضاء والتشريع فى
<u>من اسبابها المعلنة :</u> تأديب المماليك لأضطهاد التجار الفرنسيين وإقامة حكومة وطنية يكون الحكم فيها للمصريين . <u>ومن اسبابها الغير معلنة :</u> قطع الطريق بين إنجلترا ومستعمراتها فى الهند إقامة مستعمرة فرنسية فى مصر	- سية اسباب معلنة وغير معلنة
ان اعضاء الديوان تعهدوا بعدم القيام بأى عمل ضد مصلحة الجيش الفرنسى والعمل تحت الرقابة الفرنسية .	- كانت سلطة ديوان القاهرة استشارية مقيدة .

### السؤال الثامن : ماذا يحدث اذا لو :

- استطاعت الحملة الفرنسية جعل مصر قاعدة للإمبراطورية الفرنسية فى الشرق .
- قطع الطريق بين إنجلترا ومستعمراتها فى الهند .
- اهتم العثمانيون بالتعليم والثقافة فى مصر .

لم يقتصر التعليم على الأهر الشريف – بناء مدارس حديثة – ازدهار الحياة العلمية والثقافية فى مصر .

### السؤال التاسع : اجب عما يأتى : ( يجب عنها الطالب )

١- " قامت الدولة بسن القوانين التى نخرج تجريف التربة نظرا لأضرارها الكبيرة فى الحاضر والمستقبل فى ضوء هذه العبارة وضح

- اسباب تجريف التربة .
- ب- النتائج المترتبة على أستمرار تجريفها .

---

---

---

---

---

---

---

---

٢- " أعنبرت الحكومة الفرنسية أمر حملة نابليون على مصر سراء " فى ضوء هذه العبارة  
اجب :

- ما أسم الميناء التى ابهرت منة الحملة ؟ ب-

---

---

---

---

٣- " نواجة البيئة الصناعية العديد من المشكلات ونسعى الدولة جاهدة لحلها " فى  
ضوء ذلك اجب :

- ما هى المشكلات التى تواجهها البيئة الصناعية ؟

- ما هى جهود الدولة لحلها ؟

---

---

---

---

---

---

---

---

٤- " كان لضعف الدولة العثمانية أثره الواضح على أوضاع مصر السياسية والاجتماعية  
والاقتصادية " اجب فى ضوء العبارة عن :

- ما مظاهر الحكم العثمانى فى مصر ؟

---

---

---

---

- ما رأيك فى ترحيل السلطان سليم الأول أمهر الصناع للأستانة ؟

---

٥- " يميز سكان البيئة الصناعية ببعض الخصائص " فى ضوء هذه العبارة اجب:

- ما العادات السلبية لدى سكان البيئة الزراعية .

..... -	..... -
..... -	..... -
..... -	..... -

- ما هى جهود الدولة لحل مشكلة البطالة ، تهجير سكان النوبة -

أولا : جهود الدولة لحل مشكلة البطالة :

..... -	..... -
..... -	..... -

ثانيا : جهود الدولة لحل مشكلة تهجير سكان النوبة .

---

---

: جهود الدولة لحل مشكلة أنتشار الأمراض

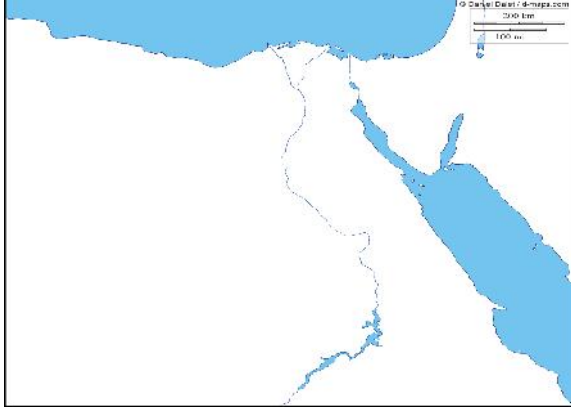
---



# امتحانات الفصل الدراسي الأول

## النموذج الأول للكتاب المقرر

السؤال الأول : أمامك خريطة صماء أجب عن الأرقام الموجة أمامك :



- .....
  - .....
  - .....
  - .....
- ( ب ) أعط تعريفا لكل من المفاهيم التالية :

- العشوائيات
- الهجرة
- السهل الفيضي .

السؤال الثاني : اكتب كلمة ( صح ) أمام العبارة الصحيحة، وكلمة ( خطأ ) أمام العبارة الخاطئة مع التصويب :

- ع البيئات المصرية إلى تنوع الثروات الطبيعية بها ( )
  - تعتمد الزراعة في الساحل الشمالي على مياه النيل ( )
  - صناعة الألومنيوم من الصناعات الهندسية ( )
  - تضم محافظة الفيوم بعض المعالم السياحية مثل بحيرة قارون ( )
- ( ب ) ما النتائج المترتبة على :
- الهجرة الداخلية .
  - تجريف التربة الزراعية .

## ثانيا : التاريخ

السؤال الثالث : اختر الإجابة الصحيحة مما بين القوسين :

- تنسب الدولة العثمانية إلى مؤسسها ..... ( - يازيد الثاني - سليم الأول - )
- أنتصر العثمانيون على المماليك في موقعة ..... عام ( - أبي قير البحرية - الريدانية - النيل الكبير )
- تم عقد إتفاقية العريش م بين العثمانيون و..... ( - كليبر - مينو - نابليون - )
- أنطلق ثورة القاهرة الثانية من حي ..... ( - الأزهر - عين شمس - المطرية )
- تولى ..... الدفاع عن حقوق المصريين لدى الحكام العثمانيون . ( - الدين - السناجق والمماليك )
- تولى القيادة العامة لحملة الحجاز عام ..... ( - إبراهيم - - طاهر )

(ب) ماذا يحدث إذا :

- لم يقف زعماء الشعب بجانب محمد على فى بداية حكمة .
- نجحت حملة فريزر فى تحقيق اهدافها .

السؤال الرابع : (أ) بم تفسر :

- قيام ثورة القاهرة الأولى .
- قيام محمد على بمذبحة القلعة .
- ضعف وانهيار الدولة المملوكية .
- تدهور الحياة الفنية ايام الحكم العثمانى .

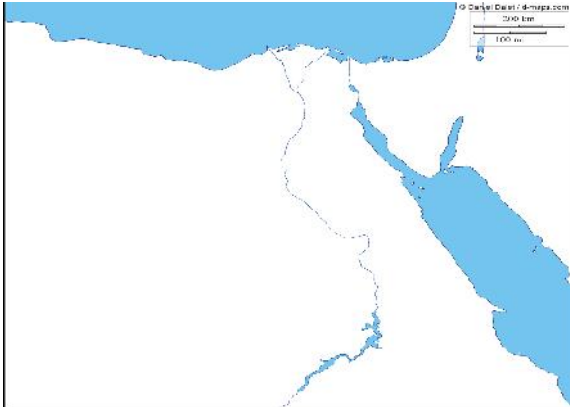
(ب) أكتب ما تشير إليه كل عبارة من العبارات التالية :

- مجموعة من الجيش تحمى بلدا او موقعا .
- شخص ينوب عن الحكومة فى جباية الضرائب المفروضة على كل اقليم من الاقاليم .

## النموذج الثانى للكتاب المقرر

اولا : الجغرافيا :

السؤال الأول : أمامك خريطة صماء أجب عن الأرقام الموجة أمامك :



- .....
- .....
- .....
- .....

(ب) ما المقصود بالمفاهيم التالية :

- .....
- الصناعات البسيطة .
- .....

السؤال الثانى : (أ) بم تفسر :

- ندرة النباتات الطبيعية فى البيئة الزراعية .
- تنوع البيئات المصرية .
- اهتمام الدولة بإنشاء وزارة للبيئة .

(ب) اكتب كلمة (صح) أمام العبارة الصحيحة، وكلمة (خطأ) أمام العبارة الخاطئة مع التصويب :

- تبلغ مساحة الاراضى الزراعية نحو % ( )
- شجعت الدولة استخدام الأسمدة الكيماوية فى تسميد التربة ( )
- يراعى عند بناء المصانع إتجاهات الرياح ( )
- تتركز صناعة الألومنيوم فى الوجهة البحرى ( )

ثانيا : التاريخ :

السؤال الثالث : (أ) أكمل العبارات التالية :

- تالفت هيئات الحكم المحلية اثناء الحكم العثمانى من ..... قوى .
- تدهورت الحالة الاقتصادية لمصر بعد اكتشاف طريق ..... .
- سلكت الحملة الفرنسية طريقها البرى من الاسكندرية عبر ..... وصولا للقاهرة .

- كانت الحياة الإجتماعية فى العصر العثمانى قائمة على .....
- أستثنى الشيخ ..... من أحكام الإعدام التى صدرت ضد مشايخ الازهر .
- ( ب ) رتب الأحداث التاريخية من القديم للحديث :
- نهاية حكم محمد على فى مصر – إتفاقية العريش – موقعة ابى قير البرية – الحملة الفرنسية على

#### السؤال الرابع : ( أ ) أكتب ما تشير إليه كل عبارة من العبارات التالية :

- الأموال التى يحصل عليها المماليك من عبور القوافل التجارية عبر الأراضى المصرية .
- قوات عثمانية تركها السلطان سليم الأول فى مصر .....
- إقليم يحكمه اجنبى يتوطنة ، او يكتفى بأستغلاله أقتصاديا وعسكريا .
- رجل يعين من قبل الدولة العثمانية لتصرف فى الأحكام الشرعية وفقا للمذاهب الأربعة .
- تجهيز الجيش وتوجية لأهداف حربية .
- ( ب ) اختر الإجابة الصحيحة مما بين القوسين :
- أبحرت الحملة الفرنسية سرا من ميناء .....
- ( ليون – مرسلية - )
- تولى قيادة الحملة الإنجليزية على رشيد .....
- ( فريزر – كليبر - مينو )
- أصبحت مصر ولاية عثمانية بعد موقعة .....
- ( ديو البحرية – الريدانية – شبراخيت )
- .....
- ( دمياط – الأسكندرية – رشيد – سيوة )
- .....
- ( - - - )

## النموذج الثالث للكتاب المقرر



#### السؤال الأول : ( أ ) أمامك خريطة صماء أجب عن الأرقام الموجة

أمامك :

- مدينة .....
- .....
- .....
- بحيرة .....

#### ( ب ) إليك مجموعة من العوامل لقيام الصناعة الطبيعية والبشرية

- الخبرة الفنية –
- ( صنفها فى الجدول التالى :





العوامل الطبيعية	العوامل البشرية

( ج ) أكمل العبارات التالية :

- تصل نسبة الأمية فى الريف ..... % من سكانية .
- تعتمد الزراعة فى الواحات على المياه .....

السؤال الثانى : ( أ ) أكتب المصطلح المناسب أمام العبارات التالية :

- تقليل الاستهلاك وا
- يقصد بها عدداً لأشخاص فى سن ( - ) عام ولا يعملون .
- بناء هندسى يشيد على مجرى النهر لإتقاء خطر الفيضانات .

( ب ) بم تفسر :

- بيئة .
- يعد منخفض الفيوم بيئة زراعية رغم وقوعه فى الصحراء الغربية .
- كثرة المشكلات الصحية التى تعاني منها البيئة الزراعية .

**ثانياً: التاريخ :**

السؤال الثالث : ( أ ) اختر الأجوبة الصحيحة مما بين القوسين :

- تولى المماليك حكم مصر بعد انهيار الدولة .....
- ( الأيوبية - الفاطمية - الصفوية - الأخشدية )
- قام الشاب السورى سليمان الحلبي بقتل القائد.....
- ( كليبر - مينو - نابليون - )
- تحالفت الدولة العثمانية مع المماليك ضد الخطر .....
- ( - - - - - )
- انفرد محمد على بحكم مصر وبدأ فى تنفيذ سياسة منذ عام .....
- ( - - - - - )
- أصبحت مصر ولاية عثمانية بعد موقعة الريدانية عام .....
- ( - - - - - )
- د الحجاز بقيادة ابنة.....
- ( إبراهيم - - - )

( ب ) ماذا يحدث إذا :

- لم يتم إكتشاف طريق رأس الرجاء الصالح عام .
- أهتمت الدولة العثمانية بالعلوم العقلية والرياضيات والطبيعة .

السؤال الرابع : اكتب كلمة ( صح ) أمام العبارة الصحيحة، وكلمة ( خطأ ) أمام العبارة الخاطئة مع التصويب :

- ظلت الأوضاع الاقتصادية بمصر أثناء الحكم العثمانى فى تدهور حتى مجيء الحملة الفرنسية ( )
- بعد مذبحة القلعة فر الباقيون من المماليك إلى ليبيا ( )
- تألفت هيئات الحكم المحلية بمصر أثناء الحكم العثمانى من خمس قوى ( )
- تألف ديوان القاهرة من كبار المشايخ فقط .

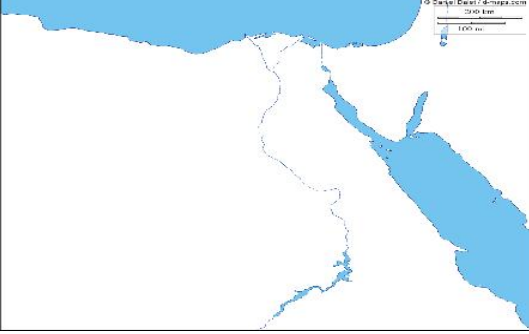
( ب ) بم تفسر :

- تعد النتائج العلمية والثقافية للحملة الفرنسية من أبرز واعظم النتائج .
- هار دولة المماليك فى مصر والشام .

### النموذج الرابع للكتاب المقرر

## أولا : الجغرافيا

**السؤال الأول : ( أ ) أمامك خريطة صماء لمصر أكتب مدلول الأرقام التى أمامك :**



- ..... منطقة زراعية فيضية .....
- خليج .....
- .....

**( ب ) :**

- تركز صناعة الغزل والنسيج بالدلتا بمصر .
- تناقص مساحة الأراضي الزراعية فى السنوات الأخيرة لمصر .
- أهتمام الدولة بالتعليم الفنى والصناعى .

**السؤال الثانى : أكتب كلمة ( صح ) أمام العبارة الصحيحة ، وكلمة ( ) أمام العبارة الخاطئة مع التصويب :**

- تتركز صناعة الألومنيوم فى الاسكندرية والقاهرة .
- التكلفة الزائدة لمصادر الطاقة من مشكلات البيئة الصناعية .
- يقل سكان البيئة الزراعية فى المحافظات القريبة لنهر النيل .
- من أهم الحبوب الغذائية لمصر القمح والقطن والأ .
- حفر الخشب والسجاد من الصناعات الكيماوية .
- رأس المال من العوامل البشرية لقيام الصناعة .

**( ب ) قارن بين : سكان البيئة الزراعية وسكان البيئة الصناعية من حيث العادات والنقائيد الإيجابية**

العادات الإيجابية لسكان البيئة الصناعية .	العادات الإيجابية لسكان البيئة الزراعية
- .....	- .....
- .....	- .....
- .....	- .....
- .....	- .....

## ثانيا : التاريخ :

**ث : ( أ ) اختر الإجابة الصحيحة مما بين القوسين :**

- .....  
( - الديمقراطى )
- نجح الفرنسيون فى احتلال الاسكندرية رغم مقاومة حاكمها .....  
( محمد كريم - الشيخ السادات - )
- تصارع الأنجليز والعثمانيون والمماليك على السلطة بعد جلاء الحملة الفرنسية عن مصر وتناسوا .....  
( - على بك الكبير )
- كان ..... يتم جلبهم غلمانا بواسطة التجار ويشترهم السلاطين .  
( السلاطين - الحفرين - المماليك - )

- أطلق الفرنسيون على معركة ..... أسم معركة الأهرام  
( - الصالحية - ابى قير - شبراخيت )

( ) :

- لعثمانيون نظام الألتزام على الفلاحين فى منتصف القرن الخامس عشر الميلادى .
- بترحيل امهر الصناع للأستانة .
- هى الحد الفاصل لنهاية دولة المماليك .
- كان يتم تعيين قاضى القضاة فى العصر العثمانى .
- دمياط فى التصدى للحملة الأنجليزية عام .

**السؤال الرابع : ( أ ) أكتب المفهوم الذى تشير إليه كل عبارة مما يلى :**

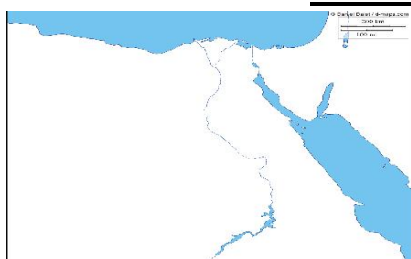
- أستيلاء دولة على دولة أخرى قهرا .
- مجموعة من الجيش تحى بلدا أو موقعا .
- الشخص الذى ينوب عن الحكومة فى جباية الضرائب .
- ( ب ) **قارن بين :** ثورة القاهرة الأولى والثانية من حيث مركز الثورة والنتائج .

ثورة القاهرة الأولى	ثورة القاهرة الثانية

## النموذج الخامس

### أولاً : الجغرافيا :

**السؤال الأول : ( أ ) أمامك خريطة صماء لمصر ، أجب عن الأرقام :**



- .....
- .....
- .....
- نهر .....

( ب ) **أكتب المفهوم الجغرافى :** ( - البيئة الصناعية - ) .

**السؤال الثانى : ( أ ) أكمل العبارات التالية :**

- تمدنا البيئة .....
- من الخصائص الأقتصادية لسكان البيئة الزراعية .....
- من المواد الخام الحيوانية .....
- من الصناعات الكميائية صناعة .....



- ( ) :  
 - تنوع الأنشطة الاقتصادية فى البيئة الصناعية  
 - هجرة سكان الريف إلى البيئة الصناعية  
 - إزالة الطبقة السطحية الخصبة من التربة .

### ثانيا : التاريخ :

#### السؤال الثالث : أكمل العبارات التالية :

- تم تحطيم الأسطول الفرنسى فى معركة ابى قير البحرية على يد القائد الأنجليزى .....
- دعم تولية محمد على حكم مصر عام ..... المشايخ وزعماء مصر بزعامة .....
- تم فتح القنسطنطينية عاصمة الدولة البيزنطية عام ..... م على يد السلطان .....
- م مكيدة للقضاء على .....

#### ( ) :

- فرنسا حملتها على مصر عام .....
- قيام ثورة القاهرة الثانية مارس .....
- ازدهار دولة المماليك وتمتعها بالثراء الاقتصادى .....

#### السؤال الرابع : ( أ ) أكتب كلمة ( صح ) أمام العبارة الصحيحة ، وكلمة ( خطأ ) أمام العبارة الخاطئة مع التصويب :

- تولى الجنرال مينو قيادة الحملة بعد وفاة كليبر .
- تدهورت الحياة الفنية من عمارة وفنون وأثار فى عصر سلاطين المماليك .
- قام العثمانيون بشنق طومان باى على باب زويلة .
- حكم نابليون على ستة من مشايخ الأزهر الإعدام وكان منهم الشيخ السادات .

#### ( ) :

- الحملة الفرنسية على مصر من الناحية العلمية والثقافية .
- تعيين قاضى القضاة العثمانى فى مصر .
- معركة الصالحية بين المماليك وقوات الحملة الفرنسية .

### النموذج السادس

#### السؤال الأول : ( أ ) أمامك خريطة صماء ، أجب عن

#### :

- .....
- .....
- .....
- خليج .....

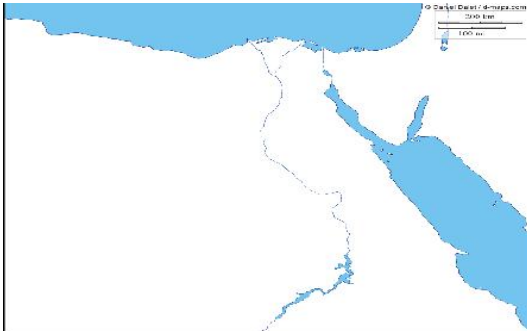
#### ( ب ) ماذا يحدث لو لم ؟:

- يتم إلقاء مخلفات المصانع السائلة فى المجارى المائية ونهر النيل .
- تنوع البيئات المصرية .

#### ( ) يفا صحيحا لكل من المفهومين التاليين : ( - منطقة صناعية ) .

#### السؤال الثانى : ( أ ) أكمل العبارات التالية :

- تعتمد الزراعة فى ..... على مياه الأمطار الشتوية .
- ترتفع نسبة ..... فى تربة وادى النيل والدلتا .
- أنتشار المناطق العشوائية يسهم فى .....



- من العوامل البشرية لقيام الصناعة .....  
( ) :

- إنتشار المناطق السياحية فى البيئة الزراعية .
- توسع الدولة فى إنشاء المناطق الصناعية .
- ( ) أكتب كلمة ( صح ) أمام العبارة الصحيحة ، وكلمة ( خطأ ) أمام العبارة الخاطئة مع التصويب :

- من الصناعات المعدنية صناعة الحديد والصلب وصناعة الأسمدة .
- تتركز صناعة السكر فى محافظات أسيوط وسوهاج وقنا .
- تسهم البيئة الصناعية فى ارتفاع المستوى الإقتصادى والتعليمى للسكان .
- المحافظات الحضرية هى التى يعمل معظم سكانها بالزراعة وتربية الحيوان .
- ( ) :
- تنوع البيئات المصرية .
- أهمية البيئة الزراعية للبيئة الصناعية .
- أهمية تكامل البيئات المصرية .

### ثانيا : التاريخ :

( أ ) أكمل العبارات التالية :

- أصبحت مصر ولاية ..... منذ عام .....
- كان من مهام الوالى العثمانى إرسال ..... المفروضة على البلاد .
- كانت الحياة الإجتماعية قائمة فى مصر على النظام .....
- دخل الفرنسيون مدينة القاهرة بعد معركة .....
- تعاون الإنجليز مع الدولة العثمانية لإخراج الحملة ..... من مصر .

( ب ) أكتب ما تشير إليه كل عبارة من العبارات التالية :

- الفرق بين ما يدفعه الملتزم للحكومة وبين ما يجمعه من الفلاحين .
- الضرائب التى كان يحصل عليها المماليك من مرور القوافل التجارية .
- إقليم يحكمه أجنبى ويكتفى بأستغلاله أقتصاديا وعسكريا .
- شخص يعين من قبل الدولة العثمانية لكى يتولى السلطة القضائية .
- تجهيز الجيش وتوجيهه لأهداف حربية .

( ) :

- الحملة الفرنسية على مصر من الناحية السياسية .
- أنظمة الحكم والإدارة العثمانية لمصر .
- أكتشاف البرتغاليون طريق رأس الرجاء الصالح .

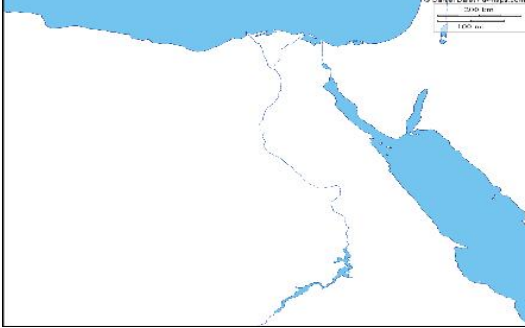
( ب ) ما رأيك فى :

- دخول نابليون وجنوده الجامع الأزهر بخيولهم .
- إبقاء السلطان سليم الأول على المماليك فى إدارة الأقاليم المصرية .

## النموذج السابع

### أولاً : الجغرافيا :

السؤال الأول : ( أ ) أمامك خريطة صماء لمصر ، أكتب مدلول الأرقام التى امامك :



- .....  
- منطقة زراعية فيضية .....
- .....  
- شبة جزيرة .....

( ب ) " نعانى البيئة الصناعية فى مصر من العديد من المشكلات " فى ضوء هذه العبارة

أجب :

- ما اهم مشكلات البيئة الصناعية .
- ما هى جهود الدولة لحل هذه المشكلات .
- ما رأيك فى جهود الدولة لحل هذه المشكلات .

( ) : الجميل التالية :

- تعرف الهجرة بانها .....
- صناعات تعتمد على الآلات الحديثة ويقل فيها الاعتماد على الأيدى العاملة هى .....
- السهل الذى يتكون من ترسيب التربة الطينية التى ينقلها نهر النيل من منابعه هو .....
- إزالة الطبقة السطحية من تربة الأراضى الزراعية .

( ) :

- إقامة الدولة لعدد من مشروعات الرى على مجرى نهر النيل .
- قيام صناعة الفخار فى البيئة الزراعية .
- أهمية رأس المال فى البيئة الصناعية .

### ثانيا : التاريخ :

( ) :

الأسكندرية

- تنسب الدولة العثمانية لمؤسسها سليم الأول .
- عقد كليبر مع الإنجليز إتفاقية العريش عام ..
- تولى المماليك حكم مصر والشام بعد إنهيار الدولة الفاطمية .
- أنطلقت ثورة القاهرة الثانية من حي الأزهر .

( ب ) أكمل العبارات التالية :

- .....  
- أستثنى الشيخ ..... من أحكام الإعدام التى صدرت ضد بعض مشايخ الأزهر .
- جاء الكفاح والجهاد ضد الحملة الأنجليزية عام ..... م على يد أبناء مدينة .....

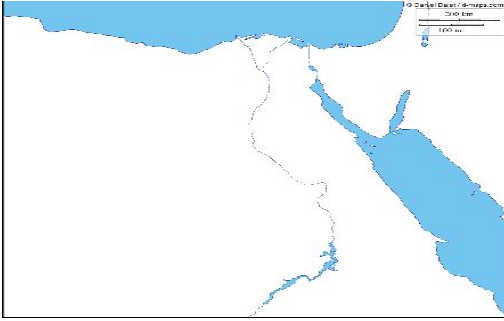
( ج ) ما رأيك فى : شنق طومان باى على باب زويلة بعد هزيمة .

( ) :

- تخلص محمد على من المماليك فى مذبحة القلعة عام ..
- إنشاء نابليون ديوان القاهرة .
- ازدهار دولة المماليك .
- .....  
- يك إلى الأستثنار بحكم مصر بعد جلاء الحملة الفرنسية .
- ( ب ) أذكر الاسباب المعلنة والغير معلنة للحملة الفرنسية على مصر .



## النموذج الثامن



### أولاً : الجغرافيا :

السؤال الأول : ( ١ ) أمامك خريطة صماء لمصر ، أكتب

- .....  
.....  
.....  
.....

( ب ) أكمل العبارات التالية :

- تسهم الصناعة فى زيادة .....
- طلب السكان المحليين للمنتجات الصناعية يعرف بالسوق .....
- يزدهر النشاط السياحى فى البيئة الزراعية ومنها آثار منطقة ..... بالشرقية .
- تتميز البيئة الزراعية بـ ..... سطحها فى الوادى و .....
- يجب بناء المصانع بعيدا عن المناطق .....
- تصل نسبة الأمية فى مصر أكثر ..... سكانها .

.....

- العوامل البشرية فى قيام الصناعة .
- نتيجة عدد كبير من المهاجرين نحو الدول العربية الزراعية .
- القاهرة والاسكندرية من .....
- يعمل فى مجال الصناعة ..... مليون نسمة .

( ) :

- أهتمام الدولة بالتوسع فى إنشاء المزارع السمكية .
- أهمية وسائل النقل فى البيئة الصناعية .
- تلوث المياه فى المجارى المائية لنهر النيل .

### ثانيا التاريخ :

السؤال الثالث : ( ١ ) أكمل العبارات التالية :

- أطلق الفرنسيون على معركة الأهرام معركة .....
- تكون ديوان القاهرة الذى أنشأه نابليون من .....
- تخلص محمد على من المماليك فى .....
- كان قاضى القضاة العثمانى يعين لمدة .....

( ) :

- عانى الفلاح المصرى كثيرا فى العصر ا ..
- تكتمت الحكومة الفرنسية أخبار حملتها على مصر .
- ( ج ) ماذا يحدث إذا لو : لم تفقد فرنسا فى حروبها مع إنجلترا .

السؤال الرابع : أكتب المفهوم الذى تشير إليه كل عبارة مما يلى :

- طريق بحرى يدور حول قارة أفريقيا من جهتى الجنوب والغرب ..
- ب السلطان فى الولاية ومقرة القلعة .
- أستيلاء دولة على دولة أخرى قهرا .
- تغيير أساسى فى الأوضاع السياسية والاجتماعية يقوم به الشعب .

**(ب) برهن تاريخيا على صحة العبارتين :**

- كانت مصر مسرحا للقوى المتصارعة على الحكم بعد جلاء الحملة الفرنسية .
- للاقات بين الدولة العثمانية والمملوكية بداية طيبة .

**(ج) قارن بين : موقف الفرنسيين من ثورة القاهرة الأولى والثانية**

**نموذج رقم (٩)**

**أولاً: الجغرافيا :**



**السؤال الأول : (أ) أمامك خريطة  
سماء لمصر اكتب عليها مدلول الأرقام  
الموقعة عليها**

- ١- البحر .....
- ٢- قناطر .....
- ٣- ترعة .....
- ٤- منطقة زراعية .....

**(ب) ضع علامة (✓) امام العبارة الصحيحة وعلامة (x) أمام العبارة غير الصحيحة  
مع التصويب .**

- ١- يقل سكان البيئة الزراعية في المحافظات القريبة من نهر النيل . ( )
- ٢- الحديد والمنجنيز من المواد الخام المعدنية. ( )
- ٣- حفر الخشب و السجاد اليدوي من الصناعات الكيماوية. ( )
- ٤- تتركز صناعة السكر في محافظات اسيوط وسوهاج وقنا . ( )

**(ج) ماذا يحدث إذا ....؟**

\* توسعت الدولة في إنشاء المزارع السمكية.

**السؤال الثاني: (أ) أكمل العبارات الآتية بكلمات مناسبة**

١- تعتمد الزراعة في ..... على المياه الجوفية

**(ب) رتب الأحداث التاريخية الآتية من الأقدم إلى الأحدث :**

ثورة القاهرة الأولى - (نهاية حكم (محمد علي) - الحملة الفرنسية على مصر )

- موقعة أبي قير البحرية

**السؤال الرابع (أ) أكمل العبارات الآتية بكلمات مناسبة**

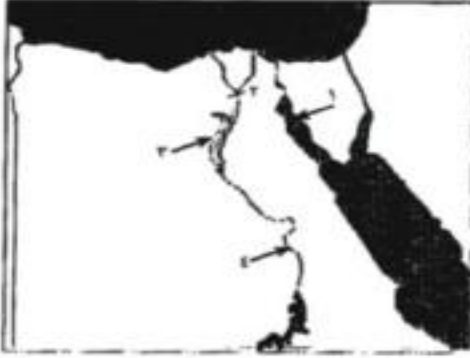
- ١- هزم المماليك أمام البرتغاليين في موقعة ..... عام ١٥٠٩م وحطم الأسطول المملوكي.
- ٢- أباحت الحملة الفرنسية من ميناء طولون منها إلى جزيرة ..... عام ١٧٩٨م
- ٣- حدثت أول مواجهة بين الفرنسيين وزعماء المماليك عند مدينة .....
- ٤ - اعتمد الحكم العثماني لمصر على عنصر ..... لضمان استمرار احتلالهم لمصر

**(ب) ماذا يحدث إذا :**

- ١- رحبت الحكومة البريطانية بعقد اتفاقية العريش عام ١٨٠٠م
- ٢- اهتم العثمانيون بالتعليم والثقافة
- ٣- نجحت حملة فريزر على مصر ١٨٠٧م

## نموذج رقم (١٠)

### أولاً: الجغرافيا :



السؤال الأول : (أ) أمامك خريطة

صماء لمصر اكتب عليها مدلول

الأرقام الموقعة عليها

- ١- خليج .....
- ٢- مدينة .....
- ٣- ترعة .....
- ٤- قناطر .....

(ب) اكتب نصيحة إلى :

- ١- فلاح يستخدم الأسمدة بكثرة في تسميد التربة .
- ٢- صياد يستخدم المواد السامة في صيد أسماك النيل .

(ج) ما المقصود بالمصطلحات الآتية :

( منطقة صناعية - البطالة - القناطر - تجريف تربة ) .

السؤال الثاني : (أ) أكمل العبارات الآتية بكلمات مناسبة :

- ١- من العادات الإيجابية لسكان البيئة الزراعية ..... و .....
- ٢- تتركز صناعة ..... في الدلتا .
- ٣- يترتب على الهجرة الداخلية ارتفاع نسبة ..... بالمدين
- ٤- يتصل منخفض الفيوم بنهر النيل عن طريق ..... الذى يدخل المنخفض عبر فتحة .....

(ب) ما رأيك في المواقف التالية ....؟

- ١- استخدام الفلاح للآلات الحديثة في الزراعة .
- ٢- بناء مصنع في اتجاه الرياح .

ثانياً: التاريخ

السؤال الثالث: (أ) أكمل العبارات الآتية بكلمات مناسبة

- ١- تولى ..... الدفاع عن حقوق الشعب المصرى لدى الحكام العثمانيين .
- ٢- حدثت أول مواجهة بين الفرنسيين وزعماء المماليك عند .....
- ٣- تحطم الأسطول الفرنسى في موقعة ..... عام ١٧٩٨م .
- ٤- تولى ..... منصب نائب رئيس الفرقة الأليانية في الجيش العثماني .

(ب) يم تفسر ....؟

- ١- ضعف و انهيار دولة المماليك .
- ٢- تطبيق الدولة العثمانية نظام الالتزام منتصف القرن ١٧م في مصر .

(ج) قارن بين :

معركة شبراخيت ومعركة الصالحية من حيث الأطراف والنتائج .