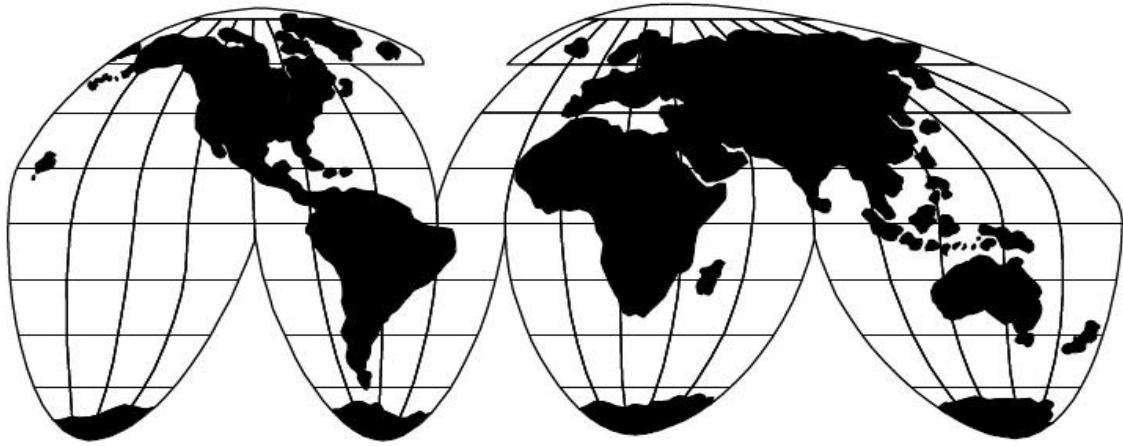


الكتاب

الجغرافيا

الصف السادس الابتدائي

الفصل الدراسي الأول



معالم من جغرافيا مصر وتاريخ مصر الحديث

معالم من جغرافيا مصر وتاريخ مصر الحديث

اولا : موضوعات جغرافية مصر

رقم الصفحة	الوحدة الأولى : البيئة الزراعية
-	الدرس الأول البيئات المصرية
-	الدرس الثاني خصائص البيئة الزراعية
-	الدرس الثالث الأنشطة الاقتصادية في البيئة الزراعية

رقم الصفحة	الوحدة الثانية البيئة الصناعي
-	الدرس الأول العوامل الطبيعية والبشرية للصناعة
-	الدرس الثاني الصناعة والمناطق الصناعية
-	الدرس الثالث مشكلات البيئة الصناعية وكيفية التغلب عليها

ثانيا : موضوعات التاريخ المصري الحديث

رقم الصفحة	مصر تحت الحكم العثماني	الوحدة الثالثة
-	مصر تحت الحكم العثماني	الدرس الأول
-	مظاهر الحكم العثماني	الدرس الثاني
-	أثار الحكم العثماني في مصر	الدرس الثالث

رقم الصفحة	العملة الفرنسية على مصر	الوحدة الرابعة
-	الأحتلال الفرنسي لمصر	الدرس الأول
-	مصر تحت الأحتلال الفرنسي	الدرس الثاني
-	محمد علي واليا على مصر	الدرس الثالث

الدرس التمهيدى: البيئات المصرية



- هو المكان الذى نعيش فيه ويضم مظاهر طبيعية وحضرية ويتوافر به مقومات استمرار الحياة من (مأكـل - ملابس - مسكن) ونوثر فيه ونتأثر به .

خصائص البيئات المصرية

البيئات المصرية	الخصائص
<p>تتداخل بعض البيئات مع بعضها فمن الممكن أن نجد البيئة الصناعية داخل البيئة الزراعية وهكذا .</p> <p>٣. التكامل</p> <p>أيد صحة العبارة الآتية :</p> <p>س : تتكامل البيئات المصرية مع بعضها ؟</p> <p>ننكامل البيئات المصرية مع بعضها حيث أن :-</p> <ul style="list-style-type: none">- البيئة الزراعية تمد البيئة الصناعية بحاجتها من الحاصلات الزراعية والمنتجات الحيوانية .- البيئة الصناعية تمد البيئة الزراعية بما تحتاجه من .	<p>الطابع الطابع</p> <p>تتنوع البيئات المصرية الى :</p> <ul style="list-style-type: none">- بيئة زراعية .- بيئة صناعية .- بيئة صحراوية .- بيئة ساحلية . <p>س : بم تفسر : تنوع البيئات المصرية ؟</p> <p>لعدة أسباب وهى :</p> <ul style="list-style-type: none">- اتساع مساحة مصر : تبلغ نحو مليون كم .- تنوع مظاهر السطح : سهول - هضاب - أنهار -- تنوع الموارد الطبيعية : مسطحات مائية -- تنوع المناخ : حار جاف صيفا -- تنوع الموارد البشرية : عمالة يدوية - عمالة فنية . <p>س : ما النتائج المترتبة على : تنوع البيئات المصرية ؟</p> <ul style="list-style-type: none">- تنوع الثروات الطبيعية .- زيادة الدخل .

معالم من جغرافيا مصر وتاريخ مصر الحديث

الدرس الأول : خصائص البيئة الزراعية .

س : بم تفسر : أهمية تنوع البيئات المصرية ؟ سؤال امتحان

- البيئة الزراعية تمدنا بالغذاء والمنتجات الزراعية والحيوانية .
- البيئة الصناعية تمدنا بالصناعات المختلفة .
- البيئة الصحراوية تمدنا بالمعادن المختلفة البيئة الساحلية تمدنا بالثروة السمكية .

١- البيئة الزراعية	- هي البيئة التي تمدنا بالحاصلات الزراعية والثروة الحيوانية
٢- البيئة الصناعية	البيئة التي تمدنا بالصناعات المختلفة .
٤- البيئة الساحلية	البيئة التي تمدنا بالثروات السمكية
٥- البيئة الصحراوية	البيئة التي تمدنا بالمعادن المختلفة

المقصود بالبيئة الزراعية

استقر المصريون على ضفتي نهر النيل وأرتبط استقرارهم بـ :

- (أ) زراعة الأرض .
- (ب) توافر البيئة الزراعية .

هي البيئة التي يتوافر بها مقومات الزراعة (تربة - خصبة - مياه) وما يرتبط بها من أنواع أخرى .



معالم من جغرافيا مصر وتاريخ مصر الحديث

<p>١- الزراعة المروية</p> <p>(أ) <u>الزراعة على مياه نهر النيل :</u></p> <ul style="list-style-type: none">- هي الزراعة التي تعتمد على مياه نهر النيل .- بم تفسر تسمى الزراعة المروية بأسم الزراعة الفيضية ؟- لأنها توجد في السهول الفيضية .- تبلغ مساحتها مليون فدان .- توجد الزراعة الفيضية في مصر في ثلاث مناطق :- منخفض الفيوم . <p>(ب) <u>الزراعة على المياه الجوفية :</u></p> <ul style="list-style-type: none">- تعتمد على مياه الآبار والعيون .	
<p>٢- الزراعة المطرية</p> <p>تنتشر على الساحل الشمالى بالبيئة الساحلية .</p> <p>تقوم على مياه الأمطار الشتوية .</p>	

مناطق الزراعة الفيضية

١- دلتا نهر النيل

- تأخذ شكل مثلث قاعدته على ساحل البحر المتوسط ورأسه شمال مدينة القاهرة .
- تزيد مساحة الأراضي الزراعية بها عن % من جملة المساحة الزراعية في مصر

٢- توجد فيها ١١ محافظة يتوزع كالتالى :

- شرق الدلتا : الدقهلية - الشرقية - القليوبية - بورسعيد - الإسماعلية - دمياط .

٢- غرب الدلتا : البحيرة والأسكندرية .

٣- وسط الدلتا : كفر الشيخ - الغربية - المنوفية .

٤- لا توجد الزراعة في الأطراف الشمالية للدلتا بسبب :

- ارتفاع نسبة الملوحة لقربها من البحر .



معالم من جغرافيا مصر وتاريخ مصر الحديث

١- وادى النيل

- يمتد وادى النيل أمتدادا طويلا لأكثر من كم ، حيث الأراضي الخصبة على جانبي نهر النيل .
- مساحة الأراضي الزراعية به % من جملة مساحة الأراضي الزراعية فى مصر .
- (تزيد عن % من جملة المساحة الزراعية فى مصر) .

٣ هناك محافظات فى الوادى وهما :

- الجيزة .
- الفيوم .
- بنى سويف .
- المنيا .
- أسيوط .
- سوهاج .
- .
- .

٢- منخفض الفيوم

- أقرب المنخفضات الصحراوية لوادى النيل .
- يقع إلى الشمال الغربى من الوادى .
- يتصل بنهر النيل عن طريق بحر يوسف الذى يدخل من جهة الشرق عبر فتحة اللاهون .
- تتكون تربته من طمي النيل .
- يختلف منخفض الفيوم عن باقى منخفضات الصحراء الغربية فى :

أنه يروى
من ماء النيل

أن تربته من طمي النيل
(تربة طينية خصبة)

التدريب الأول

السؤال الأول : أكمل العبارات التالية :

- تبلغ مساحة الأراضي الزراعية بالدلتا نحو % ، بينما تبلغ مساحة الأراضي فى الوادى % .
- يمتد وادى النيل بطول - تصل مياة النيل إلى الفيوم عبر
- توجد البيئة الزراعية الفيضية فى ثلاثة مناطق وهم و..... و.....
- يعتمد الإنسان فى البيئة الزراعية فى الوادى والدلتا ومنخفض الفيوم على مياة فحين يعتمد على مياة فى الواحات للزراعة ، ومياة فى الساحل الشمالى للزراعة .
- تتميز البيئة الزراعية ب..... سطحها ، على حين تكون على شكل مدرجات فى ولهذا تستخدم فى رفع المياة للأراضي الزراعية .
- من أهم القناطر فى الدلتا و..... و.....
- من أهم القناطر فى الوادى و..... و.....
- من أهم القناطر فى منخفض الفيوم
- تقع قناطر أدينا على ، بينما تقع القناطر الخيرية على ، بينما تقع قناطر زفتى على

معالم من جغرافيا مصر وتاريخ مصر الحديث

- يقع منخفض الفيوم فى من الوادى .

السؤال الثانى : اكتب ما تشير إليه كل من العبارات التالية :

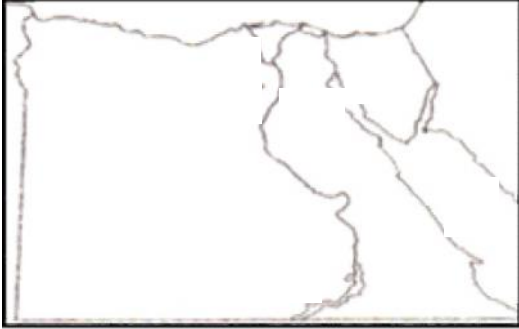
- قناة مائية يتم حفرها لتوصيل المياه للأر

- زراعة تقوم على النيل والمياه الجوفية .
الزراعية .

- تبدو فى شكل مثلث كبير تمتد قاعدته على البحر المتوسط ورأسه شمال مدينة القاهرة .

- البيئة التى يعمل معظم سكانها بالزراعة . - بناء هندسى يشيد على الأنهار لتجنب خطر الفيضان .

السؤال الثالث : املأ خريطة صماء لمصر أجب عن الأرقام التى أملك :



-
- منطقة زراعية اساسية
-
-
-
- بحيرة

الخصائص الطبيعية للبيئة الزراعية فى مصر

٢- المناخ	١- السطح
<p>* يتميز مناخ البيئة الزراعية باعتدالة مع :</p> <p>- ارتفاع درجة الحرارة صيفا</p> <p>- مصر على مياه الأمطار .</p>	<p>١- الوادى : تتميز البيئة الزراعية بأتواء سطحها مما يسهل قيام الزراعة بها .</p> <p>٢- الدلتا : تتميز بأستواءها وعدم وجود تضاريس مرتفعة بها فهى سهول فيضية</p> <p>٣- منخفض الفيوم : تظهر فيه الأراضي الزراعية فى شكل</p> <p>قع المياه</p> <p>لرى الأراضي الزراعية</p>
٤- التربة	٣- توافر موارد المياه
<p>* تربة وادى النيل ودلتا ومنخفض الفيوم تربة طينية ، جلبها نهر النيل عبر ألف السنين رسبها على جانبية .</p> <p>- تربة وادى النيل :</p> <p>- تتكون من نسبة كبيرة من الصلصال ونسبة</p>	<p>- تعتمد الزراعة على المياه : لذلك ترتبط البيئة الزراعية بالمياه .</p> <p>- تعتمد الزراعة فى الوادى والدلتا ومنخفض الفيوم على مياه نهر النيل</p> <p>- يتم تنظيم الرى من مياه نهر النيل للأراضي الزراعية عن طريق :</p>

معالم من جغرافيا مصر وتاريخ مصر الحديث

(أ) الترع :

١- شرق الدلتا : ترعة الإسماعيلية

٢- غرب الدلتا : ترعة النوبارية

٣- في أسيوط (الوادي) ترعة الإبراهيمية

(ب) القناطر :

١- القناطر الخيرية

- قناطر إسنا وأسيوط : على مجرى نهر النيل .

(ج) السدود :

- تتميز بأنها تربة خصبة وسميكة وسوداء
لذلك فهي هامة لقيام الزراعة .

الحيوان البرى

التعريف : هى الحيوانات التى لا تربي فى المنازل
(غير مستأنسة) ، مثل الثعالب وغيرها .

تتدر الحيوانات البرية مثل الذئب والثعالب حيث
إتجهت نحو الصحراء .

نجد فى الريف الحيوانات التى يقوم الفلاح بزراعتها
:

النبات الطبيعى

التعريف : هو النبات الذى ينمو تلقائياً دون تدخل

تتدر النباتات الطبيعية فى البيئة الزراعية بسبب كثافة
النشاط الزراعى الذى يمارسه الإنسان منذ آلاف السنين .

- نجد فى الريف النباتات التى يقوم الإنسان بزراعتها

المفاهيم والمصطلحات

١- البيئة
الزراعية
هى البيئة التى يتوافر بها مقومات الزراعة (تربة - خصبة - مياه) وما
يرتبط بها من أنواع أخرى

٢- البيئة
الزراعية
الفيضية
هى البيئة التى نشأت فى السهول الفيضية الخصبة وتبلغ مساحتها ٨.٥ مليون
فدان .

٣- السهل الفيضى
سهل يتكون من ترسيب التربة الطينية التى ينقلها نهر النيل من منابعه .

٤- الزراعة المروية
هى الزراعة التى تعتمد على مياه نهر النيل ، وتوجد فى (الوادي - الدلتا -
منخفض الفيوم) والزراعة التى تعتمد على المياه الجوفية وتوجد فى الواحات .

معالم من جغرافيا مصر وتاريخ مصر الحديث

٥- الزراعة المطرية	هى الزراعة التى تقوم على مياة الأمطار الشتوية ، وتنتشر على الساحل الشمالى بالبيئة الساحلية .
٦- الترع	قناة مائية يتم حفرها لتوصيل المياة من النهر للأراضى الزراعية .
٧- القنطرة	حاجز مائى أنشئ بغرض رفع منسوب المياة لنقلها للأراضى المرتفعة .
٨- السد	هندسة يشيد على الأنهار لتجنب أخطار الفيضانات وتوفير المياة فى أوقات انخفاض منسوب النهر .
٩- المصرف	قناة يتم حفرها عند منسوب أقل من منسوب الترع لصرف المياة الزائدة عن الزراعة .
١٠- تجريف التربة	إزالة الطبقة السطحية من تربة الأراضى الزراعية مما يؤدى لتدهورها .

الدرس الثاني : سكان البيئة الزراعية

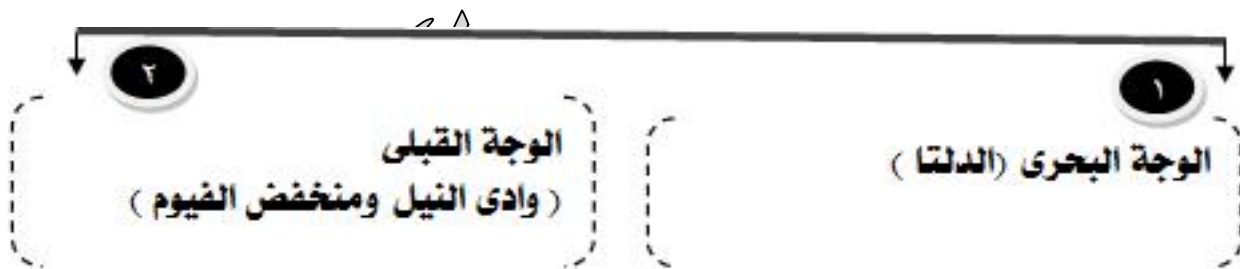
مقدمة

بلغ عدد سكان مصر فى عام ٢٠٠٦ نحو : ٧٢ مليون نسمة ويتم توزيعهم كالتى :

- ١- **في الريف** : يعيش أكثر من مليون منهم فى البيئة الزراعية الفيضية ، مثل : الدقهلية والشرقية والبحيرة) .
- **في المدن** : يعيش نحو مليون نسمة (%) فى المحافظات الحضرية مثل (القاهرة والأسكندرية والسويس) .

س : ما هى مناطق تركيز سكان البيئة الزراعية ؟

- جـ : فى المحافظات القريبة من مجرى النيل وفرع دمياط ورشيد .
- ويقل عدد السكان فى المناطق الممتدة ناحية الصحارى ----- حيث تقل وجود التربة .



معالم من جغرافيا مصر وتاريخ مصر الحديث

١ الوجهة البحرية (الدلتا)	٢- الوجهة القبلى (وادى النيل ومنخفض الفيوم)
<p>- من مناطق التركيز السكانى (بم تفسر). حيث يوجد في محافظتها الزراعية نحو % من سكان البيئة الزراعية في مصر .</p> <p>- تتراجع المساحة الزراعية (بم تفسر). بسبب الزحف العمرانى عليها نتيجة الزيادة المطردة في عدد مما أدى الى : - هجرة الكثير من سكان البيئة الزراعية إلى المحافظات الحضرية .</p>	<p>- يقل بة عدد السكان عن الدلتا (بم تفسر) :----- - ضيق مساحة الأراضى الزراعية . -</p>

ملحوظة هامة :

- الزيادة السكانية الطبيعية في البيئة الزراعية أعلى من معدل الزيادة الطبيعية في المدن ويرجع ذلك إلى :

- ١- كثرة الإنجاب .
- ٢- الزواج المبكر .
- ٣- تعدد الزوجات .

خصائص سكان البيئة الزراعية



معالم من جغرافيا مصر وتاريخ مصر الحديث

١. الخصائص الاجتماعية

- عادات وتقاليد إيجابية	- عادات وتقاليد سلبية
<ul style="list-style-type: none">- أحترام الكبير- التزاور بين الناس- التعاون فيما بينهم- التمسك بالأراضي الزراعية	<ul style="list-style-type: none">- مما يؤدي إلى :<ul style="list-style-type: none">- تدهور صحة الم- زيادة عدد السكان- انخفاض مستوى المعيشة- تفضيل الذكور عن الإناث- زيادة متوسط حجم الأسرة عن

٢. الخصائص التعليمية

- زيادة نسبة الأمية بالريف مقارنة بالمدن حيث تصل في الريف أكثر من %

ولكن نتيجة زيادة جهود الدولة أدى ذلك إلى :

- زيادة عدد المدارس بالريف .
- انتشار التعليم .

٣. الخصائص الاقتصادية

١- انخفاض مستوى دخل الفرد .	٢- انتشار البطالة	٣- انخفاض مستوى المعيشة	٤- عدم توافر الوظائف والخدمات .
-----------------------------	-------------------	-------------------------	---------------------------------

التعريف بالهجرة

هى انتقال الأفراد من مكان إلى آخر لفترة زمنية طويلة.

س : بم تفسر : حدوث الهجرة ؟

بسبب المشكلات الاقتصادية التى يعانىها سكان البيئة الزراعية لذلك لجأ الكثير منهم خاصة الشباب للهجرة .

معالم من جغرافيا مصر وتاريخ مصر الحديث



أ) الهجرة الداخلية.

- (١) **التعريف** : هي هجرة الأشخاص من مكان لأخر داخل حدود الدولة (هجر) .
- مثال** : - الهجرة من الوجهة القبلى للوجهة البحرى (القاهرة - بورسعيد) .
- س : بم تفسر - القاهرة أكبر المناطق جذبا للمهاجرين ؟**
-
- تركز معظم المصالح والوزارات والشركات والمصانع بها (وفرة فرص العمل) .
 - كبرى والمستشفيات (وفرة الخدمات) .
- س : ما النتائج المترتبة على : حدوث الهجرة الداخلية ؟ سؤال امتحان .**
- ظهور العشوائيات والمساكن العشوائية .
 - زيادة نسبة العاملين فى المجالات الصناعية والخدمات .
 -

ملحوظة هامة

يمكن تقسيم نتائج الهجرة كالاتى :

١. خاصة بالمدن	٢. خاصة بالريف
<ul style="list-style-type: none">- زيادة عدد سكان المدن .-- زيادة نسبة العاملين فى المجال الصناعى والخدمات- ظهور العشوائيات والمساكن العشوائية .	<ul style="list-style-type: none">- قلة عدد سكان الريف .-- تناقص العاملين بالنشاط الزراعى .

ثانيا : الهجرة الخارجية :

التعريف بالهجرة الخارجية

هي الهجرة من مكان لأخر خارج حدود الدولة .

معالم من جغرافيا مصر وتاريخ مصر الحديث

س : بم تفسر : يتجة عدد كبير للهجرة إلى الدول العربية المنتجة للبترول ؟
- للعمل فى الخدمات التعليمية أو الزراعية أو الصناعية وغيرها من الأنشطة .

المشكلات السكانية بالبيئة الزراعية وجهود الدولة لحلها

١- البطالة	- إنشاء الجمعيات التعاونية الزراعية : - تقديم القروض للمزارعين . - مدهم بالأسمدة والبذور وشراء منتجاتهم . - تقديم مشاريع تنمية متوسطة وصغيرة للشباب . - إقامة مراكز شبابوتوفير فرص عمل للشباب الخريجين .
٢- الأمية	- الاهتمام بزيادة أعداد المدارس فى الريف . - إنشاء مراكز لتعليم الكبار .
٣- مشكلات صحية (مثل) : ١- انتشار الأمراض بسبب استخدام المياه الملوثة من الترع والمصارف	- إقامة مراكز صحية (مستوصفات) . - الاهتمام بالصرف . - الاهتمام بمد الريف بالمياه النقية ، - مد الريف بالكهرباء .
٤- تهجير سكان النوبة بعد بناء السد العالى : حيث غمرت مياه البحيرة قراهم وأراضيهم الزراعية .	- تقوم وزارة الإسكان بإنشاء بعض القرى السكنية مثل (قرية إبريم - قرية أبو سمبل - قرية - تقوم وزارة الصناعة بإنشاء منطقة للصناعات الصغيرة لتشغيل الشباب .

مفاهيم ومصطلحات الدرس الثانى

المفهوم	المعنى
- الحضرية	هى التى يعمل سكانها بالصناعة والوظائف والخدمات .
٢- المحافظات الزراعية	هى التى يعمل معظم سكانها بالزراعة وتربية الحيوان .
٣- المحافظات الطبيعية للسكان	عبارة عن الفرق بين معدل المواليد ومعدل الوفيات .
٤- الأمية	هى عدم معرفة القراءة والكتابة ويتم حسابها من خلال عدد من لا يعرف القراءة والكتابة ÷ × .
٥- الهجرة	هى إنتقال الأفراد من مكان لآخر .
٦- الهجرة الداخلية	هى إنتقال الأفراد من مكان لآخر داخل حدود الدولة .
٧- الهجرة الخارجية	هى إنتقال الأفراد من دولة لأخرى .
٨- البطالة .	(-) لا يعملون .

معالم من جغرافيا مصر وتاريخ مصر الحديث

٩- مناطق جاذبة للسكان	مناطق تتوفر فيها فرص العمل ويرتفع فيها مستوى المعيشة مما يؤدي للهجرة .
١٠- العشوائيات	هى المناطق التى بنيت بدون تخطيط من الدولة عن طريق وضع اليد وعادة ما تظهر حول

التدريب الثانى

س ١ : ما النتائج المترتبة على :

- هجرة من الريف إلى المدن .
- استخدام المياه الجوفية الملوثة فى بعض مناطق البيئة الزراعية .

س ٢ : أكتب ما تشير إليه كل من العبارات التالية :

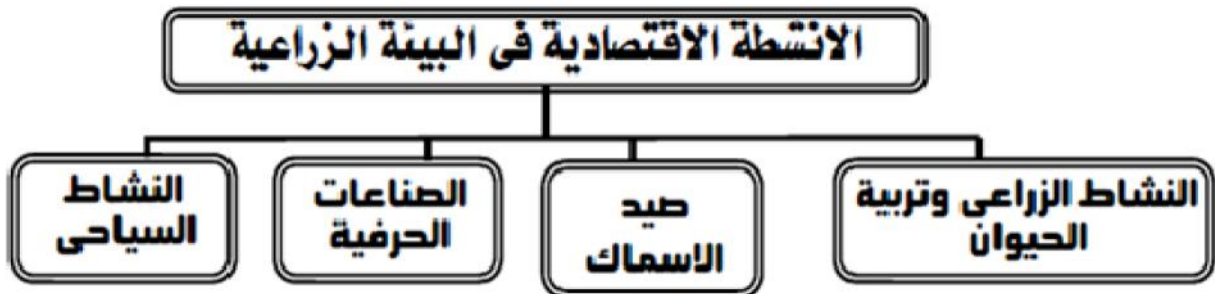
- المناطق التى بنيت بدون تخطيط من الدولة عن طريق وضع اليد .
- المحافظات التى يعمل معظم سكانها بالصناعة والوظائف الخدمية .

س ٣ : حدد العلاقة بين كل من الهجرة ومايلى : (ظهور العشوائيات –) .

الدرس الثالث : الأنشطة الاقتصادية فى البيئة الزراعية

المقصود بالنشاط الاقتصادى

هو استخدام الإنسان للموارد المتاحة لسد احتياجاته من مأكـل ومشرب وملبس .



س : بم تفسر : تنوع الأنشطة الاقتصادية فى البيئة الزراعية ؟

معالم من جغرافيا مصر وتاريخ مصر الحديث

تتقسم الموارد إلى :

موارد بشرية

هو كل ما يقوم الإنسان بصناعة لإشباع حاجاته مثل المنتجات الزراعية والصناعية

موارد طبيعية

هي الثروات التي منحها الله للإنسان دون مجهود مثل (المياة - المعادن - التربة)

الأنشطة الاقتصادية

١- النشاط الزراعى وتربية الحيوان

سلطان يقصد به: زراعة الأرض وإنتاج المحاصيل وتربية الحيوانات من أجل إنتاج اللحوم والدواجن والألبان .

سلطان معظم سكان البيئة الزراعية يعملون بالنشاط الزراعى (بم تفسر)

للسبب:

- (توافر التربة الفيضية الخصبة .
- (توافر موارد المياة من نهر النيل وفرعية .
- (ترعة الإبراهيمية - ترعة الإسماعيلية) .

أهم المحاصيل الزراعية:

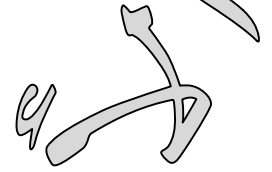
- الحبوب الغذائية :
- المحاصيل المنتجة للسكر :
- محاصيل المنسوجات :
- محاصيل الأعلاف : البرسيم والعدس والفل .
- محاصيل الفاكهة : - ليمون .

تربية الحيوان

معالم من جغرافيا مصر وتاريخ مصر الحديث

* من أهم حيوانات البيئة الزراعية :
س : بم تفسر أهمية تربية الحيوان فى النشاط الزراعى ؟

٢- نشاط صيد الأسماك



مناطق الصيد :

- نهر النيل وفرعية
- بحيرة قارون .

الأنواع :

قشر البياض -

جهود الدولة :

تم إنشاء المزارع السمكية لزيادة الإنتاج .

نشاط الصناعات الحرفية

الصناعة	المادة الخام	ملاحظات
السجاد اليدوى		(كراسة) ذات شهرة فى السجاد اليدوى والملابس التقليدية .
صناعات غذائية	المحاصيل الزراعية	مثل حفظ وتعليب التمر
الفخار	التربة الطينية	محافظة قناة أشهر المحافظات فى هذه الصناعة
سلطان الأثاث		محافظة دمياط من أشهر المحافظات فى هذه

٣- النشاط السياحى

البيئة الزراعية منطقة جذب سياحى فى مناطق متنوعة منها :

- فى محافظة الفيوم : توجد معالم سياحية مثل :

معالم من جغرافيا مصر وتاريخ مصر الحديث

(بحيرة قارون – عين السلين –) .

٢- في محافظة الشرقية: بها مناطق آثار وحضارة

- برك الصيد .

- في محافظة النوبية: يوجد بها العديد من الآثارات من : المباني - الزخارف وهي أمور تجذب السياح لمشاهدتها .

المشكلات المرتبطة باستخدام موارد البيئة الزراعية

المشكلة	أسبابها (بم تفسر)	جهود الدولة
١- تناقص الأراضي الزراعية	- تجريف التربة لصناعة الطوب الأحمر	- سن قوانين لتحريم تجريف التربة . - تشجيع المزارعين على التوسيع : ١- الأفقى : ويعنى زيادة أستصلاح الأراضي ٢- رأسى : ويعنى زيادة الإنتاج
٢- الصرف الزراعى الزائد	- مياة الرى مما يؤدى لتدهور التربة .	- إنشاء المصارف الحديثة . - إدخال نظم رى حديثة كالرى بالرش والتنقيط .
٣- التلوث البيئى	- استخدام الأسمدة الكيماوية . - استخدام المبيدات الحشرية فى تسميد .	- تشجيع المزارعين لأستخدام الأسمدة العضوية بدلا من الكيماوية .

مفاهيم هامة

- تجريف التربة : إزالة الطبقة السطحية من الأرضى مما يؤدى لتدهورها .
٢ - المصرف : قناة يتم حفرها عند منسوب أقل من منسوب الترع لصرف المياه الزائد .



الوحدة الثانية : البيئة الصناعية

الدرس الأول : العوامل الطبيعية والبشرية للبيئة الصناعية

البيئة الصناعية

هي المناطق التي تقوم فيها الصناعة ويعمل سكانها بالصناعة .

عوامل قيام الصناعة

أولا : العوامل الطبيعية

١- اطوقع الجغرافى	٢- الظروف المناخية
يجب بناء المصانع بعيدا عن المناطق السكنية بالكن وتكون قريبة من مصادر المواد الخام والطاقة .	يجب ان تكون الظروف المناخية ملائمة لأنواع الصناعات مثل صناعة الغزل والنسيج التي تتركز فى الدلتا لوجود المناخ المعتدل الملائم للصناعة كما يجب مراقبة إتجاه الرياح عند بناء المصانع
٣- المواد الخام	٤- مصادر الطاقة
لغات تتنوع المواد الخام للصناعة ومنها : ١- مواد خام زراعية : ٢- مواد خام حيوانية : () من الماشية . ٣- مواد خام معدنية : حديد - منجنيز . ٤- مواد خام صخرية :	* ١- مصادر طاقة تقليدية : (- غاز طبيعى) ٢- مصادر طاقة جديدة : هي مصادر نظيفة للطاقة تعمل على حماية البيئة مثل الطاقة الكهرومائية والطاقة النووية السلمية ..

معالم من جغرافيا مصر وتاريخ مصر الحديث

٥- السطح :

* إنشاء المصانع يتطلب أرض مستوية .

المقصود بتكرير البترول

يتم تكرير البترول الخام في معامل خاصة لاستخراج أنواع مختلفة من الوقود أهمها (السولار - البنزين - الكيروسين)

ثانيا : العوامل البشرية

١- الأيدي العاملة والخبرة الفنية	٢- رأس المال
* لنجاح الصناعة يجب توافر الأيدي العاملة والمهارات الفنية المدربة وأختيار موقع المصنع بالقرب من مناطق سكنالعمال لراحة العاملين .	* يعد رأس المال أساسيا لقيام الصناعة وتحسين نوعيتها . * يتوافر الإنتاج الأقتصادي في مصر خاصة بعد الإنفتاح
٣ النقل والمواصلات	٤- السوق
* العوامل الهامة في الصناعة حيث يتيح الفرصة لنقل الع والمنتجات بأسعار رخيصة . * طرق النقل بالسيارات والسكك الحديدية والنهرية والبحر	ينقسم إلى : ١- السوق المحلية : ويقصد بها طلب السكان المحليين للمنتجات المحلية . ٢- السوق الخارجية : وهي طلبات الدول الاخرى للمنتجات الصناعية المصرية مثل الدول العربية والأجنبية

المقصود بالإنفتاح الأقتصادي

هي تشجيع الأستثمارات العربية والأجنبية واعطاؤها لاتسهيلات لإقامة المصانع والمشاريع الأستثمارية المختلفة . وبدأ الإنفتاح في مصر في السبعينات .

معالم من جغرافيا مصر وتاريخ مصر الحديث

ملحوظة هامة

أرتفعت نسبة عمالة النساء من % إلى % خلال الفترة من م إلى م

سؤال امتحان

س/ بم تفسر : أهمية البيئة الصناعية ؟

- توفر فرص عمل للمواطنين حيث يعمل بالصناعة نحو . مليون من
- تقدم المنتجات الصناعية المختلفة لسد حاجة السكان .
- تساهم في زيادة الدخل القومي المصري والحصول على العملات الاجنبية من خلال تصدير المنتجات الصناعية للخارج .
- تساهم في ارتفاع المستوى التعليمي والثقافي والاجتماعي للسكان .
- توفير المرافق و

س : ما النتائج المترتبة على : تنوع الأنشطة الاقتصادية في البيئة الصناعية ؟

ج: توفير فرص العمل وتقليل البطالة .

لاحظ أن :

من مجالات العمل المتاحة في البيئة الصناعية :

- المصانع والمنشآت الصناعية .

س : ماهى علاقة البيئة الصناعية بالبيئة الزراعية ؟

[أ] توفر البيئة الزراعية للبيئة الصناعية :

- المواد الخام الزراعية للعديد من الصناعات مثل القطن .
- الأيدي العاملة .
- المنتجات الغذائية لإشباع حاجات العاملين بالصناعة وأسرتهم .

[ب] توفر البيئة الصناعية للبيئة الزراعية :

- المنتجات الصناعية التي يحتاجها سكان البيئة الزراعية مثل (الأسمدة - المخصبات الكيماوية - الأدوية - الآت الزراعية : كآلات حصد المحاصيل وغيرها - المنتجات الغذائية المصنعة وغيرها) .

خصائص سكان البيئة الصناعية

- ارتفاع نسبة التعليم وإنخفاض نسبة الأمية خاصة للصناعات التي تتطلب عمالة ماهرة
- الاهتمام بتعليم الأطفال ورفاهيتهم .
- المشاركة في النقابات العمالية التي تحافظ على مصالحهم .

معالم من جغرافيا مصر وتاريخ مصر الحديث

عادات وتقاليد سلبية	عادات وتقاليد إيجابية
<ul style="list-style-type: none"> - التدخين داخل المصنع . - ترك المخلفات الصناعية دون معالجتها . 	<ul style="list-style-type: none"> - التعاون بين العاملين بـ . - الانتظام في العمل واحترام المواعيد .

الدرس الثاني: أنواع الصناعات والمناطق الصناعية

عرفت مصر الصناعة منذ عهد الفراعنة ، غير ان معرفتها بالصناعة الحديثة بدأت منذ عهد محمد علي مؤسس مصر الحديثة .

تصنيف الصناعات حسب درجة تطورها

١- صناعات حرفية (يدوية)	هي صناعات يدوية يقوم بها بعض العمال بهدف تحقيق الأكتفاء الذاتي وتعتمد على رأس المال قليل مثل : حفر الخشب – السجاد اليدوي – .
٢- صناعات بسيطة	تتم في المناطق التي يتوافر بها المواد الخام أكثر من حاجة السكان لذلك يتم تحويلها إلى صورة أخرى لتقليل حجمها بهدف الاستهلاك المحلي أو التصدير للخارج ، وتحتاج لعدد كبير من العمال مثل : حلج القطن ، حفظ وتعليب الفاكهة، حفظ الأسماك – تصنيع الجلود .
٣- صناعات حديثة	هي صناعات تعتمد على آلات حديثة ويقل فيها الاعتماد على العمالة البشرية مثل صناعة الآلات والسيارات – صناعة الأجهزة الكهربائية والكومبيوتر .

أهم أنواع الصناعات في مصر

الصناعات الكيماوية والدوائية	الصناعات الهندسية والكهربائية	الصناعات المعدنية	صناعة الغزل والنسيج	الصناعات الغذائية
صناعة الاسمدة والادوية والصابون والعطور	صناعة التلاجات والأجهزة الالكترونية وأجهزة السيارات والآلات	صناعة الحديد والصلب وصناعة الألومنيوم	صناعة المنسوجات والملابس الجاهزة والمفروشات والسجاد	صناعة السكر ومنتجات الألبان وحفظ وتعليب الفاكهة والخضراوات

معالم من جغرافيا مصر وتاريخ مصر الحديث

التعريف بالمنطقة الصناعية

هي مساحة من الأرض تضم مجموعة من المصانع مزودة بالخدمات والمرافق اللازمة ، وتوزع لأقسام صغيرة يخصص كل منها لغنشاء مصنع، وكل مصنع يقوم بإحدى الصناعات .

توزيع المناطق الصناعية بمصر

المحافظة	أهم الصناعات
القاهرة الكبرى	تكرير البترول - حديد و صلب - صناعات غذائية وكهربائية
الاسكندرية - كفر الشيخ - الغربية	الحديد والصلب - منسوجات - صناعات غذائية - أسمدة
بورسعيد - الشرقية	السجاد - صناعات غذائية - غزل ونسيج
أسيوط - سوهاج - قنا	صناعة الألومنيوم - صناعة السكر

س : بم تفسر / قيام الدولة بإنشاء المناطق السكنية ؟

- تطوير الصناعة وزيادة الدخل .
- تشغيل الأيدي العاملة .
- زيادة الصادرات العربية للحصول على العملات الأجنبية .
- زيادة الدخل القومي .

يبلغ عدد المصانع في مصر ما يزيد عن ٢٦ ألف مصنع ويعمل بالصناعة نحو ٢.٥ مليون شخص يمثلون حوالي ثلث قوة العمل في القطاعات الاقتصادية المختلفة
تعد صناعة الغزل والنسيج من أهم وأعرق الصناعات المصرية ويعمل بها ٩٥٠ ألف عامل يمثلون حوالي ٢٠٪ من حجم القوى العاملة في السوق المصرية

الدرس الثالث :مشكلات البيئة الصناعية

س : بم تفسر / تعرض البيئة الصناعية والبيئات المجاورة للتلوث ؟

بسبب الصناعات الثقيلة ومصانع تكرير البترول ومصانع الأسمت وغيرها .

س : بم تفسر / التلوث ليس له حدود جغرافية ؟

لأنه لا يلوث المنطقة التي يوجد بها المصنع فقط ولكنه ينتشر في كل مكان .

معالم من جغرافيا مصر وتاريخ مصر الحديث

مشكلات البيئة الصناعية والتلوث البيئي

مشكلات التلوث البيئي

من أسباب مشكلة التلوث البيئي :

- انبعاث الأبخرة والغازات المتصاعدة من مداخل المصانع مما يؤدي إلى تلوث الهواء
- إلقاء مخلفات المصانع السائلة في المجارى المائية ونهر النيل مما يؤدي إلى تلوثيت المياه وموت الأسماك والكائنات الحية .
- استنزاف الموارد الطبيعية نتيجة الاستخدام غير المنتظم .
- هجرة سكان الريف للبيئة الصناعية مما أدى لأزدحام المدن وانتشار المناطق العشوائية

مشكلات البيئة الصناعية

من أسبابها ما يلى :

- التهريب الجمركى .
- نقص الكوادر الفنية .

وسائل علاج مشكلات البيئة الصناعية

س : ماهى الوسائل التى يمكن استخدامها لعلاج مشكلات البيئة الصناعية ؟

- نقل المصانع التى تضر بالبيئة خارج المناطق السكنية ، والأكل
- تركيب مرشحات على مداخل المصانع وعمل فلاتر للغبار المنبعث من مصانع الأسمنت .
- وقف الهجرة والزحف العمرانى الغير منتظم .
- قيام الدولة بإنشاء وزارة البيئة .
- تنظيم استخدام الموارد الطبيعة بشكل عا .

س : بم تفسر / قامت الدولة بإنشاء وزارة البيئة ؟

لإصدار القوانين والتشريعات لحماية البيئة من الاخطار .

معالم من جغرافيا مصر وتاريخ مصر الحديث



س : أيد صحة العبارة الآتية : تهتم الدولة اهتماما بالغا بالصناعة ؟

س : ضع علامة () أو (×) مع التصويب في الحالتين :

- تهتم الدولة بالصناعة ()

ج : تهتم الدولة اهتماما كبيرا بالصناعة حيث :

١- الإنفتاح على العالم الخارجى بتشجيع العرب والأجانب على الاستثمار في مجال الصناعة .

- فتح أسواق داخلية وخارجية جديدة .

- الاهتمام بالتعليم الفنى والصناعى بهدف تخريج عمالة فنية مدربة .

المفهوم	المعنى
-	هو استهلاك واستغلال الموارد الطبيعية بشكل غير منتظم والذي يؤدي بدوره لإفراطها .
ترشيد الاستهلاك	يعنى تقليل الاستهلاك والاستخدام الأمثل للموارد

معالم من جغرافيا مصر وتاريخ مصر الحديث

الدولة العثمانية : مصر تحت الحكم العثماني

أولا : نشأة الدولة العثمانية واتساعها

التعريف بالدولة العثمانية	دولة إسلامية نشأت في أواخر القرن الثالث الميلادي وسيطرت على البلقا العثمانيون : قبائل من اسيا الوسطى وقد عرفوا بالعثمانيين نسبة إلى مؤسس دولتهم " عثمان بن "
إنساع الدولة العثمانية	١- في عهد محمد الثاني الملقب (بالفاتح) : - ج القنستطنطينية عاصمة الدولة البيزنطية عام ١٤٥٣م وإتخذ منها عاصمة للدولة العثمانية . - في عهده توسعت الدولة العثمانية وسيطرت على الأناضول والبلقان مع بداية القرن السادس عشر الميلادي . ٢- في عهد سليم الأول : - إتجه السلطان سليم الأول () - ()

ثانيا : أحوال مصر قبل الحكم العثماني

مصر قبل الحكم العثماني لمصر، كانت مصر تحت حكم دولة : المماليك .

* الدولة المملوكية	
١- التعريف بالمماليك	كان يتم جلبهم غلمانا بواسطة التجار ويشترهم السلاطين والأمراء ويلحقونهم بمدارس خاصة تسمى (الطباقي) وهي توجد في القلعة ، ويدربون على الفروسية . - عقب انهيار الدولة الأيوبية - - امتدت دولة المماليك إلى : - أطراف الجزيرة العربية واليمن
٢- ازدهار دولة المماليك	يم تفسر : قوة وازدهار دولة المماليك ؟ بموقعها الجغرافي المسيطر على طرق التجارة بين أوربا والشرق - مواردها من الضرائب (المكوس) . - المحصولات الزراعية والصناعات الحرفية

معالم من جغرافيا مصر وتاريخ مصر الحديث

ضعف وأنهيار دولة المماليك

س : بم تفسر : نعرض دولة المماليك في بداية القرن الـ ١٦ ميلادي مظاهر الضعف والانهيار ؟

- سوء الأوضاع السياسية (بم تفسر) نتيجة النزاع والتنافس على
- ضعف القوة العسكرية للمماليك (بم تفسر) لأعتمادهم على الأسلحة التقليدية .
- تدهور الأوضاع الاقتصادية (بم تفسر) بسبب اكتشاف طريق رأس الرجاء الصالح على يد البرتغاليين عام
- هزيمة المماليك أمام البرتغاليين في موقعة ديو البحرية (بالمحيط الهندي قرب الهند) عام م وتحطيم الأسطول

العلاقة بين الدولة العثمانية والدولة المملوكية

مررت العلاقات بين الدولتين مرحلتين :

المرحلة الأولى (مرحلة الود)	المرحلة الثانية (مرحلة التوتر)
<p>س : برهن تاريخيا على صحة العبارة التالية " انسبمت العلاقات بين الدولتين العثمانية والمملوكية في بدايتها بالتحالف " .</p> <ul style="list-style-type: none">- التعاون والتحالف في تحقيق الأمن الداخلي- الوقوف ضد الأخطار الخارجية <p>.....</p> <ul style="list-style-type: none">- احتفال المماليك بسيطرة العثمانيين على القسطنطينية عام- الوقوف بجانب العثمانيين ضد البرتغاليين بعد اكتشافهم طريق رأس الرجاء ا- مساعدة العثمانيون للمماليك في مواجهة البرتغال في موقعة ديو البحرية	<p>س : برهن تاريخيا : نوتر العلاقة بين الدولتين العثمانية والمملوكية .</p> <p>س : بم تفسر : نوتر العلاقة بين الدولة العثمانية والدولة المملوكية .</p> <p>انقلبت العلاقة الطيبة بينهم إلى عداوة انتهى في النهاية بالصدام العسكري</p> <p>العوامل التي ساعدت على تدهور العلاقات بينهم :</p> <ul style="list-style-type: none">- رغبة الدولة العثمانية في السيطرة على العالم الإسلامي والسيادة على المنطقة الحيوية .- حماية المماليك لبعض أمراء العثمانيين الفارين- استيلاء العثمانيون على بعض المنا للمماليك على الحدود الشمالية .- رغبة السلطان سليم الأول في توسيع حدود دولته وتحقيق السيادة في المنطقة .

معالم من جغرافيا مصر وتاريخ مصر الحديث

مراحل سيطرة العثمانيون على مصر والشام .

١- موقعة مرج دابق

١- الأطراف	- الدولة العثمانية . - الدولة المملوكية .
٢- المكان	يا .
٣- التاريخ	.
٤- الأسباب	س : <u>مفسر : دخول المماليك مع العثمانيين في معركة مرج دابق .</u> - توتر العلاقة بين الدولة العثمانية والدولة المملوكية . - ضعف دولة المماليك . - رغبة السلطان سليم الأول في توسيع دولة ، وضم بلاد الشام .
٥- النتائج	س : <u>ما النتائج المترتبة على : موقعة مرج دابق ١٥١٦م .</u> - هزيمة القوات المملوكية . - . - قتل السلطان قنسوة الغوري بعد خيانة بعض المماليك .

موقعة الريدانية (يناير ١٥١٧م)

١- الأطراف	- القوات العثمانية - القوات المملوكية .
٢- المكان	صحراء العباسية عند الريدانية .
٣- التاريخ	يناير
٤- الأسباب	- إتجاه الزحف العثماني نحو مصر (المقر الرئيسي للسيادة المملوكية) ، - اعتبار مصر هي مفتاح الشرق العربي .
٥- النتائج	- هزيمة القوات المملوكية . - إعدام طومان باي على باب زويلة بالقاهرة - دخول العثمانيين القاهرة . - أصبحت مصر ولاية عثمانية . - انتهاء دولة المماليك .

معالم من جغرافيا مصر وتاريخ مصر الحديث

م. نفسير : هزيمة المماليك امام العثمانيين فى كل المعارك التى دخلوها .

- التدهور الاقتصادى .
- خيانة بعض أمراء المماليك .
- النظم الحربية التقليدية .

اهم المفاهيم الواردة على الدرس الاول

المفهوم	التعريف
١- العثمانيون	قبائل رعوية جاؤا من آسيا الوسطى ، وقد عرفوا بالعثمانيين نسبة إلى مؤسس دولتهم عثمان بن أرطغرل .
٢- المكنوس	كان يحصل عليها المماليك من عبور القوافل التجارية عبر الأراضى المصرية .
٣- الطرق البحرية	يقصد بها : مرور التجارة عبر البحار والمحيطات (مثل قناة السويس حديثا ، وطريق رأس الرجاء الصالح قديما .
٤- طريق رأس الرجاء الصالح	طريق بحرى يدور حول قارة أفريقيا من جهتي الغرب والجنوب للوصول للهند بقارة آسيا ، أكتشفه البرتغاليون فى أواخر القرن الخامس الميلادى (

الدرس الثانى : مظاهر الحكم العثمانى فى مصر



س : ما النتائج المترتبة على : فتح السلطان سليم الأول لمصر .

س : م. نفسير : فقدان مصر استقلالها ، او خضوعها للباب العالى فى الأستانة .

- بعد أن فتح السلطان سليم الأول مصر ارتطبت بنظم الإدارة العثمانية وترتب على ذلك :
- فقدان مصر استقلالها .
- أن سلطة الهيئات الحاكمة خاضعة لإرادة الباب العالى فى الأستانة .

معالم من جغرافيا مصر وتاريخ مصر الحديث

مظاهر الحكم العثماني

أولا : هيئات الحكم المحلية

الوالي	هو نائب السلطان وم
مدة حكمه	م. نفسير : أنسمت مدة حكم الوالي بالقصر . من عام إلى ثلاث أعوام حتى لا يتسقل بالولاية .
وظائفه	م. نفسير : أهمية وظيفة الوالي في مصر العثمانية . - يشرف على تنفيذ القرارات الصادرة من السلطان العثماني . - . - . - الحفاظ على الأمن في الولاية . - دعوة الديوان للإنعقاد . - إرسال بعض منتجات مصر الزراعية .

٢- الديوان

يتكون من	- كبار ضباط الحامية . - الموظفين . - الأعيان .
وظيفة	- لا يستطيع الوالي أن يبيت في أمر إلا بموافقة أعضاء الديوان .

٣- الحامية العثمانية

١- التعريف	الحامية العثمانية التي تركها السلطان سليم الأول في مصر .
٢- تكوينها	تكونت من عدة فرق عسكرية .
٣- وظائفها	١- الدفاع عن البلاد . ٢- مشاركة الوالي والسناجق في حكم مصر ومراقبتهم . ٣- حضور اجتماعات ديوان القاهرة .

معالم من جغرافيا مصر وتاريخ مصر الحديث

ثانيا : النظام الإداري

★ قسمت مصر من الوجهة الإدارية إلى عدة أقاليم :



١- خبراتهم في إدارة الأقاليم المصرية . ٢- معرفتهم بأحوال البلاد .

١- خبراتهم في إدارة الأقاليم المصرية . ٢- معرفتهم بأحوال البلاد .

الإدارة المالية

* طرق جباية الأموال :

س : (بم تفسر) / نظمت الدولة العثمانية طرق جباية الأموال من خلال الدواوين المختلفة ؟

- بهدف تحصيل الضرائب وتوزيعها على بنودها المختلفة .

* الأراضي الزراعية : كانت الاراضى موزعة بين السلطان والأمراء .

❖ الفلاح المصري :

- () . فرض ضرائب عديدة التي كانت عبئا ثقيلا عليه .

س : بم نفسر / اتباع الدولة العثمانية نظام الالتزام ؟ (هام جدا) .

أتبعت الدولة نظام الالتزام لضمان تحصيل الضرائب المفروضة على مصرفى أوقاتها المحددة ويقوم بجبايتها شخص يطلق عليه (الملتزم) .

ثالثا : القضاء والنشر

التعريف بقاضى القضاة	هو القاضى المعين من قبل الدولة العثمانية لمدة عام واحد .
سلطانه	يتصرف فى الاحكام الشرعية
النتائج المترتبة على ترك السلطة فى يد قاضى القضاة	انتزاع السلطة القضائية من يد علماء الأزهر لحيل محلهم القضاة ا

معالم من جغرافيا مصر وتاريخ مصر الحديث

المصطلح	مفهومه
١- الوالى	هو نائب السلطان فى الولاية ومقره القلعة ، وعلية الإشراف على تنفيذ قرارات السلطان ، وإرسال الجزية وبعض المنتجات ، والحفاظ على الأمن ، وإعداد فرقة من الجند ، ودعوة الديوان للإنعقاد ، ومدة حكمة سنة إلى ثلاث سنوات .
٢- الديوان	أحد هيئات الحكم العثمانى فى مصر ، ويتكون من كبار الحامية العثمانية والموظفين والعلماء والأعيان ولة سلطة مراقبة الوالى .
٣- الحامية العثمانية	هى فرق من الجيش تحمى بلدا او موقعا .
٤- السناجق	عدد من الرجال العسكريين أو المدنيين يطلق عليهم هذا الأسم للأقاليم
٥- الالتزام	نظام طبقة العثمانيون فى منتصف القرن السابع عشر الميلادى لضمان تحصيل الضرائب المفروضة على الأراضى الزراعية فى مصر .
٦- الملتزم	شخص من الأقوياء ينوب عن الحكومة فى جباية الضرائب المفروضة على أقليم من الأقاليم .
٧- فائض الالتزام	هو الفرق بين ما يدفعه الملتزم للحكومة وما يجمعه من الفلاحين
٨- قاضى القضاة	القاضى المعين من قبل الدولة العثمانية لمدة عام واحد لكى يتولى السلطة القضائية
الخراج	ضريبة سنوية فرضها العثمانيون على مصر يرسلها الوالى إلى السلطان العثمانى ك

الدرس الثالث : أثار الحكم العثمانى فى مصر

الوحدة الثالثة

أعتمد الحكم العثمانى فى مصر على :

(٢) سلطة الاستبداد : سلطة سياسية مستبدة .

(١) عنصر القوة : لضمان استمرار احتلالهم لمصر .

أحوال مصر العثمانية

تدهورت الحياة الفنية بعد ان كانت مصر تمتلك تروة هائلة من العمارة والفنون والاثار بسبب

١- قيام السلطان سليم الأول بترحيل أمهر الصناعات والحرفين للأستانة .

٢- الاستيلاء على الكثير من التحف الثمينة والمخطوطات النادرة .

معالم من جغرافيا مصر وتاريخ مصر الحديث

٢- أحوال مصر العلمية والدينية والثقافية

س / بم تفسر : تدهور الحياة العلمية والدينية والثقافية في ظل الدولة العثمانية ؟

بسبب :

- أقتصار التعليم في الأزهر على حفظ القرآن الكريم ودروس الفقه والتشريع .
- عدم الاهتمام بالعلوم العقلية مثل الرياضيات والطبيعية .
- تدهور الحياة الأدبية وتوقف نشاط التأليف .

١- أحوال مصر الاقتصادية

بم تفسر : تدهور حالة مصر الاقتصادية في عهد الدولة العثمانية ؟

بسبب :

- (الأكتشافات الجغرافية) : حرمان مصر من الضرائب التي كانت تحصل عليها من التجار الذين كانوا يعبرون أراضيها بعد أكتشاف طريق راس الرجاء الصالح .
- ٢- تدهور الاقتصاد المصري ويتضح في :
 - ١- أهمل الزراعة .
 - تراجع أسواق الاستهلاك المحلي (تراجع حركة البيع والشراء) .

الحياة الاجتماعية

فئات المجتمع المصري

الطبقة الحاكمة * الوالي - قواد الحامية - المماليك - القضاة - الإدارة المحلية

الطبقة المحكومة * الفلاحون - التجار - الصناع - العلماء - رجال الدين

- قامت الحياة الاجتماعية في مصر على النظام الطبقي .
- كانت الفجوة واسعة بين الحكام الأتراك والمحكومين الرعية من المصريين بمختلف الفئات ..
- مهمة المجتمع المصري : العمل لخدمة السلطة العثمانية ومدّها بحياة الرفاهية .
- الفلاحون : يقومون بزراعة الأرض مقابل سداد ما عليها من ضرائب (نظام الالتزام) .
- التجار والصناع :
 - الصناع والتجار وفرض عليهم ضرائب باهظة .
- ٦- ساهمت طوائف الحرف في الأحتفالات العامة بالمناسبات الدينية والأعياد مثل :
 - وفاء النيل .
 - المولد النبوي الشريف .
 - رؤية هلال رمضان .
- رجال الدين والعلماء :

اجية ، فكان منهم

معالم من جغرافيا مصر وتاريخ مصر الحديث

س / ما النتائج المترتبة على : الحكم العثماني لمصر ؟

- أصبحت مصر ولاية عثمانية ضعيفة .
- معاناة طوائف الشعب المصرى من الفقر والجهل والمرض .
- ساد الجمود والتأخر فى جميع نواحي الحياة .

أهم المفاهيم الواردة على الدرس الثالث

المصطلح	تعريفه
١- النظام الطبقي	يعنى أن المجتمع يتكون من طبقات والفرق كبير بين طبقة وأخرى ، مثل المجتمع المصرى
٢- الطبقة الحاكمة :	- الديوان - الحامية العثمانية - القضاء والأدارة المحلية) ويتمتعون بالعديد من الامتيازات والرفاهية .
٣- طوائف الحرف	نظام يضم جميع فئات المجتمع المصرى كوحدة انتاجية منهم الصناع والتجار ، مثل النحاسيين والعقادين .. إلخ .

الوحدة الرابعة : الحملة الفرنسية على مصر

الدرس الأول : الأحتلال الفرنسى لمصر (١٧٩٨ - ١٨٠١ م)

أحوال مصر قبل مجيء الحملة الفرنسية

س : بم تفسر : تدهور أحوال مصر قبل مجيء الحملة الفرنسية ؟

x- تدهورت أحوال مصر قبل مجيء الحملة الفرنسية بسبب :

- زيادة قوة وسلطة الأمراء المماليك نتيجة ضعف الدولة العثمانية .
- رغبة المماليك في الأستقلال عن الدولة العثمانية .
- تدهورت الحياة السياسية والاجتماعية والأقتصادية .

معالم من جغرافيا مصر وتاريخ مصر الحديث

أسباب الحملة الفرنسية على مصر

بم تفسر : مجيء الحملة الفرنسية على مصر ؟

[١] الأسباب الظاهرية : [المعلنة]

- تأديب المماليك وتحطيم قوتهم ونفوذهم .
- حماية التجار الفرنسيين والرعايا المصريين من اضطهاد وظلم المماليك .
- إدعاء الحكومة الفرنسية إنشاء حكومة وطنية يكون الحكم فيها للمصريين .

[٢] الأسباب الحقيقية [غير المعلنة]

- تهديد مصالح إنجلترا في الشرق بقطع الطريق بين إنجلترا ومستعمراتها في الهند .
- إقامة مستعمرة فرنسية في الشرق يكون مركزها مصر .
- تعويض فرنسا عن أمر الطوريتها التي فقدتها في حروبها مع إنجلترا .

التجهيز للحملة

س : بم تفسر / أعتبرت الحكومة الفرنسية أمر هذه الحملة سرا ولم يعلم بها غير قائدها نابليون بونابرت ؟

س : إخفاء وتكتم الفرنسيين إعداد الحملة على مصر ؟ " القاهرة ٢٠١٢ "

لعدم تسرب أخبار الحملة لإنجلترا حتى لا تتعرض لمهاجمة الأسطول الإنجليزي الذي كان يراقب الملاحة في البحر المتوسط .

لأحضان : زويد الحملة بكافة المعدات والأسلحة العسكرية حيث ضمت :

- مجموعة من الكتاب والرسمين والمصورين .

خط سير الحملة

- أبحرت الحملة من ميناء طولون بفرنسا (مايو) .
- أستولت على جزيرة مالطة وجزيرة كريت لتضليل الأسطول الإنجليزي .
- وصلت الحملة لميناء الأسكندرية في يولية عام .

أحتلال الفرنسيين لمصر

- وصلت الحملة لسواحل الأسكندرية في يولية .
- نجح الفرنسيون في أحتلال الأسكندرية بعد مقاومة أهلها بزعامة مين محمد كريم .

٣- سلكت الحملة طريقين :

- [أ] الطريق البري : من الأسكندرية عبر صحراء الرحمانية .
- [ب] الطريق النهري : تسلكة مراكب الأسطول الخفيفة في فرع رشيد .

معالم من جغرافيا مصر وتاريخ مصر الحديث

المعركة	أطرافها	نتائجها
معركة شبراخيت (يولية ١٧٩٨ م).	- الفرنسيين . - زعماء المماليك والوالى التركى	- هزيمة المماليك نظرا لتوافر الأسلحة الحديثة لدى الفرنسيين . - تقهقر المماليك نحو القاهرة .
معركة الأمبابة (الأهرام) (يولية ١٧٩٨ م)	* القوات الفرنسية من جانب والقوات المصرية المملوكية من	- هزيمة المماليك هزيمة كبرى بسبب تخلف الأسلحة وتسليح جيش نابليون بالقنابل . - فرار المماليك للصعيد بسبب حرق السفن تحمل الذخيرة . - أصبحت القاهرة بدون حماية .

معركة الصالحية بمحافظة الشرقية (أغسطس ١٧٩٨ م)	بين قوات الحملة الفرنسية بقيادة (نابليون) من جانب والقوات المملوكية من جانب الآخر .	- هزيمة قوات المماليك . - فرار المماليك لسوريا .
---	---	---

موقعة أبى قير البحرية

الأسباب	النتائج
بسبب أخبار نابليون القائد الفرنسى كليبر بتحطيم الأسطول الفرنسى ومقتل قائده على يد الأسطول الأنجليزى بقيادة نلسون .	- تحطيم الأسطول الفرنسى ومقتل قائده . - انقطاع الصلة بين الجيش الفرنسى الموجود فى مصر وبين - اعتماد الفرنسيين فى سد احتياجاتهم على موارد مصر . - ضعف الروح المعنوية للجند الفرنسيين . - محاصرة الأنجليز للشواطئ المصرية . - تفكير نابليون فى الاتجاه للشام .
التاريخ	المكان
.	خليج أبى قير بالإسكندرية

معالم من جغرافيا مصر وتاريخ مصر الحديث

المصطلح	المفهوم
١- حملة	تجهيز جيش وتوجيه لاهداف حربية .
٢- احتلال	- استيلاء دولة على بلد اخر قهرا .
٣- استعمار	- فرض دولة سيادتها على دولة اخرى ، وأستغلالها .
٤- مستعمرة	- إقليم يحكمه اجنبى ، أو يكتفى بأستغلاله اقتصاديا او عسكريا .

الدرس الثانى : مصر تحت الاحتلال الفرنسى

أحوال المصريين تحت الاحتلال الفرنسى

- ١- أستطاع نابليون القضاء على المقاومة ودخول القاهرة في (يوليو ١٧٩٨ م) وأصبحت مصر تحت الاحتلال الفرنسى فعمل نابليون على :
- كسب ود المصريين بتوزيع منشورات يوضح فيها أسباب مجيئة لمصر .
 - إنشاء ديوان القاهرة .

بم تفسر : إنشاء نابليون لديوان القاهرة ؟

لتدعيم الاحتلال الفرنسى والعمل تحت السلطة الفرنسية .

س : ما النتائج المترتبة على : إنشاء نابليون ديوان القاهرة ؟

صيغة اخرى : استعمال نابليون سياسة الود تجاه المصريين ؟

- لم يندفع المصريون بسياسة وثاروا ضد نابليون بونابرت .

ثورة القاهرة الأولى أكتوبر ١٧٩٨ م .

بم تفسر : قيام ثورة القاهرة الأولى ؟

- بسبب فرض الفرنسيين للضرائب ليحصلون على التمويل اللازم بعد تدمير أسطولهم البحرى في معركة ابى قير البحرية .
- إدراك الأهالى أن الفرنسيين لا يقلون عن غيرهم في التعسف ..
- مركز الثورة : الأزهر الشريف .

موقف نابليون بونابرت (الأحداث) :

- أستخدم نابليون الشدة والعنف في معاملة الثوار .
- القاء القبض على بعض زعماء الثورة والحكم على ستة منهم بالأعدام وكانو من مشايخ الأزهر بأستثناء الشيخ السادات .
- دخول نابليون وجنوده الجامع الازهر بخيولهم وهذا كان إساءة لحرمة الجامع الازهر .

بم تفسر : أستثناء الشيخ السادات من أحكام الإعدام التى صدرت ضد بعض مشايخ الأزهر ؟

بسبب إدراك نابليون مكانة الشيخ السادات العلمية والأدبية لدى المصريين فخشى رد فعلهم

س : ما النتائج المترتبة على : ثورة القاهرة الأولى ؟

- إلغاء ديوان القاهرة الذى كان مقورا على علماء الازهر .

معالم من جغرافيا مصر وتاريخ مصر الحديث

- إنشاء ديوان جديد ضم كل الطوائف والعناصر غير المصرية المقيمة في مصر .
- هدم المباني والمساجد بحجة تحصين القاهرة .
- فرض الغرامات المالية على التجارة والعلماء .
- ظهور الوجهة القبيح للاحتلال الفرنسي .

حملة الشام وموقعة أبي قير البرية (يولية ١٧٩٩م)

بم تفسر : الحملة الفرنسية على بلاد الشام ؟

بسبب :

- هزيمة الأسطول الفرنسي في موقعة ابى قير البحرية .
- تحالف الدولة العثمانية مع إنجلترا لإعداد حملة مشتركة لطرد الفرنسيين من مصر فأراد نابليون القضاء على الجيش العثمانى

س : ما النتائج المترتبة على : الحملة الفرنسية على بلاد الشام ؟

- ١- فشلت الحملة في فتح أسوار عكا لقوة أسوارها بسالة أهلها .
- أنتشار مرض الطاعون بين جنود الحملة ، وخسر نابليون أعداد كبيرة من جنوده وأسلحة .

موقعة أبى قير البرية أغسطس ١٧٩٩ م .

الأطراف :

- القوات العثمانية .
- القوات الفرنسية .

الأحداث :

عند عودة نابليون وجيشه من الشام تقابل مع الجيش العثمانى ودارات بينهم المعركة .

النتائج :

- هزيمة الجيش العثمانى وأسر قائده .
- بعد ذلك عاد نابليون سرا لفرنسا بعد ان عين كليبر قائدا للحملة مكانه .

اتفاقية العريش يناير ١٨٠٠م

الأطراف	- الأتراك (العثمانيين) - كليبر .
بنود الاتفاق	جلاء الفرنسيين عن مصر بأسلحتهم ومعداتهم على نفقة الدولة العثمانية
موقف إنجلترا	رفضت الاتفاقية وأصررت على تسليم الفرنسيين أنفسهم كأسرى .
نتائج موقف إنجلترا	- رفض كليبر موقف إنجلترا . - محاربة القوات العثمانية في مختلف ضواحي القاهرة وهزمهم وتقهقرم للشام . - اتخاذ كليبر إجراءات لمعاقبة أهالى القاهرة .

معالم من جغرافيا مصر وتاريخ مصر الحديث

التدريب الأول

مصر تحت الاحتلال الفرنسي .

س١ : أكمل العبارات الآتية :

- نجحت الحملة الفرنسية في إضعاف قوة ونفوذ
- أعدم نابليون ستة من زعماء ثورة القاهرة الأولى بإستثناء
- عقدت اتفاقية العرش بين كل من و
- أنتصر نابليون على العثمانيون في معركة

س٢ : بم تفسر :

- فشل حملة نابليون على الشام في تحقيق أهدافها .
- الحملة الفرنسية على مصر .
- س٣ : لمن ينسب هذا العمل : تفاوض مع الأتراك للخروج بالحملة الفرنسية من مصر سنة ..
- س٤ : ما النتائج المترتبة على : ثورة القاهرة الأولى ؟

ثورة القاهرة الثانية (مارس ١٨٠٠)

الأسباب :

بم تفسر / قيام ثورة القاهرة الثانية مارس ١٨٠٠ ؟

- الإجراءات العقابية التي أتخذها كليبر ضد اهل القاهرة .
- تسريب الأخبار إلى المصريين بأن العثمانيين على أبواب القاهرة .

مركز الثورة :

الأحداث :

- أندلعت الثورة في حى بولاق حيث توجد مخازن تموين الجيش الفرنسي .
- حطم الثوار أبواب المخازن وأستولم على ما فيها وقتلوا الحامية الفرنسية .
- عجز كليبر عن إخماد الثورة التي أستمرت أكثر من شهر .
- قام كليبر بتدمير حى بولاق بالمدا .

نتائج ثورة القاهرة الأولى مارس ١٨٠٠ م .

- تدمير حى بولاق .
- منع الغذاء عن سكان القاهرة .
- زيادة سخط الشعب المصرى على كليبر .

بم تفسر : قيام كليبر بإنشاء الحصون بالقاهرة والأسكندرية ؟

☆ لاحظ أن : بعد ان هدأت الاوضاع قام كليبرا بأجراء بعض الإصلاحات مثل إنشاء الحصون بالقاهرة والأسكندرية لكي يلبي طلبات الجيش الفرنسي .

قام شاب سورى يدرس بالأزهر بطعن كليبر بخنجره فى قلبه وقتله فى يونية وهذا الشاب هو سليمان الحلبي .

مقتل كليبر

معالم من جغرافيا مصر وتاريخ مصر الحديث

مينو ورحيل الحملة عن مصر ستمبر ١٨٠١ م.

- تولى مينو قيادة الحملة بعد موت كليبر .

- يدة من أبناء رشيد .

٣- أيقن مينو بحكم نجاح الحملة على مصر بسبب :

- لم تحقق الحملة هدفها وهو " جعل مصر قاعدة للامبراطورية الفرنسية في الشرق " .

- تفوق أنجلترا البحري وحصارها للشواطئ المصرية .

- تعدد ثورات المصريين .

- مقاومة العثمانيين والمماليك .

📖 **س: ما النتائج المترتبة على : اعتقاد مينو بفكرة عدم نجاح الحملة على مصر ؟**

وقع مينو وممثل الجيش الأنجليزى إتفاقية كانت بمثابة أستسلامهم وخروجهم بكامل عدتهم على متن السفن الأنجليزية في ستمبر .

❄ نتائج الحملة الفرنسية على مصر

- لم تستطيع الحملة تحقيق هدفها " تحويل مصر إلى قاعدة للامبراطورية الفرنسية فى

- لم تتمكن من قطع الطريق بين أنجلترا وأكبر مستعمراتها فى الهند .

- أضعف قوة ونفوذ المماليك .

- النتائج الحربية

النتائج الاجتماعية

- المصريين .
- معرفة الشعب المصرى لنظم الإدارة الحديثة مثل (- نظام تسجيل المواليد والوفيات) .
- أثرت الحضارة الغربية بميزاها ومساؤها على المصريين .

النتائج السياسية

- (خاصة أنجلترا) لأهمية موقع مصر
- أظهرت للمجتمع المصرى عزلة عما يحدث فى العالم .
- إيقاظ الوعى القومى لدى المصريين .

معالم من جغرافيا مصر وتاريخ مصر الحديث

☆ النتائج العلمية والثقافية :

- اكتشاف حجر رشيد وفك رموز الكتابة المصرية القديمة على يد العالم الفرنسى شامبليون .
- تأليف كتاب (وصف مصر) الذى تضمن وصف مصر منذ أقدم العصور وحتى الحملة الفرنسية على مصر .
- دراسة مشروع توصيل البحرين الأحمر بالمتوسط .
- شاء المجمع العلمى المصرى كمقر لإجراء الأبحاث العلمية .



ثورة	تغير في الأوضاع السياسية والاجتماعية والاقتصادية يقوم به الشعب
حجر رشيد	حجر عثر عليه أحد ضباط الحملة الفرنسية " شامبليون " وعلية كتابات مصرية قديمة .
كتاب وصف مصر	كتاب تضمن وصف مصر منذ أقدم العصور وحتى مجيء الحملة الفرنسية على مصر ويعتبر أول موسوعة حديثة عن مصر .

الدرس الثالث : محمد على واليا على مصر

س : برهن على صحة العبارة الآتية : كانت مصر مصر حاقا للقوى المتصارعة على حكم مصر بعد جلاء الحملة الفرنسية ؟

بعد جلاء الحملة الفرنسية من مصر تنازع على الحكم ثلاثة قوى للأفراد بحكم مصر وهم :

١- الأتراك (العثمانيين) :

س : بم تفسر : كان العثمانيون يرون أنهم صاحب الحق الشرعى في حكم مصر ؟
رأت الدولة العثمانية أنها صاحبة الحق الشرعى في السيادة على البلاد ، كما أنها قدمت تضحيات ومساعدات أثناء الاحتلال .
- خلال هذه الفترة من الفوضى عين السلطان العثمانى عدد من الولاة قتل بعضهم نتيجة للمؤمرات التى دبرت للتخلص منهم

٢- المماليك :

س : بم تفسر / تطلع المماليك للعودة لحكم مصر بعد جلاء الحملة الفرنسية ؟
اعتقد المماليك بأحقيتهم في حكم مصر بسبب :

- لما قدموا من جهود ومساعدات عسكرية سواء للعثمانيين أو للإنجليز ضد الفرنسيين .
- تصديهم للفرنسيين في معارك عديدة .

معالم من جغرافيا مصر وتاريخ مصر الحديث

س : بم تفسر / لم يتمكن المماليك من الوصول للسلطة ؟

بسبب :

- الصراعات فيما بينهم للأستئثار بالسلطة .
- نهب ثروات البلاد .

٣- الأنجليز :

س : بم تفسر : رغبة أ . بلتر في السيطرة على مصر ؟

لتأمين طرق مواصلاتها إلى أكبر مستعمراتها في الهند .

ظهور قوة الشعب المصرى بقيادة (الزعامة الشعبية)

- بجانب القوى الثلاثة المتنازعة على الحكم ، ظهرت قوة جديدة هى قوة الشعب المصرى .

٢- كان للزعامة الشعبية دور في :

- وكان على رأسهم المشايخ والعلماء خاصة في ثورة القاهرة الأولى والثانية .
- الوطنية في مواجهة الغزو الأجنبى من البلاد .

س : بم تفسر : لعبت الزعامة الشعبية دورا هاما في تولية محمد على حكم مصر ؟

حيث أستطاعت هذه القوى أن تضغط على الدولة العثمانية للموافقة على تولية محمد على على حكم مصر لشروطهم .

☆ محمد على واليا على مصر (١٨٠٥ - ١٨٤٨ م)

أولا : حياة محمد على

- ولد محمد على في مدينة قولة شمال اليونان عام .
- التحق بالجندية فأظهر شجاعة وبسالة .
- جاء مع الجيش العثماني لإخراج الفرنسيين من مصر .
- كان قائد للفرق الألبانية في الجيش العثماني .

لشعبية معة

ثورة الشعب المصرى وتولية محمد على

حالة الفوضى

بعد رحيل الفرنسيين بدأت الدولة العثمانية تستعيد حكمها للبلاد بتعين عدد من الولاة على حكم مصر .

س : ما النتائج المترتبة على : عجز الولاة عن دفع رواتب الجند المتأخرة ؟

عجز هؤلاء الولاة عن دفع رواتب الجند المتأخرة مما أدى إلى :

- أنهم قاموا بفرض الضرائب والإتاوات على الأهالى .
- ثار الشعب ضد هذا الأمر وقاموا بالثورات ضد هؤلاء الولاة مثل (خسرو باشا - طاهر باشا - البرديسى) .

موقف محمد على :

معالم من جغرافيا مصر وتاريخ مصر الحديث

س : بم تفسر : اقتراح محمد على تولية خورشيد باشا واليا على مصر ؟

أقترح محمد على تعيين خورشيد باشا واليا على مصر ، وبذلك ظهر بمظهر غير الطامع في السلطة .

موقف زعماء الشعب المصري :

- رفض زعماء الشعب تولية خورشيد باشا حكم مصر ولذلك قاموا ب :

وقرر عزل الوالي خورشيد وتعيين محمد على .

مايو

- الأجتماع في دار المحكمة الشرعية في

تولية محمد على حكم مصر

- (عمرو مكرم) نقيب الأشراف والشيخ (عبد الله الشرقاوى) كبير العلماء لمحمد على وألبسة لباس الولاية وأخذوا عليه شرط إلا يفعل شيء بدون الرجوع إليهم .
- عندما أرسل محمد على رسالة للسلطان العثماني رسالة لم يقبل في بداية الأمر لأنه يعم نوايا وأطماع محمد على .
- أستطاع ضغط الشعب والعلماء إجبار السلطان العثماني للموافقة على تولية محمد على حكم مصر .

الصعوبات التي واجهت محمد على

الصعوبات

٣- الماليك

٢- الزعامة الشعبية

١- حملة فريزر

١٨٠٧م

١- حملة فريزر ١٨٠٧م

١- خط سير الحملة :

أرسل بريطانيا حملة إلى مصر بقيادة (فريزر) فاستولت على مدينة الإسكندرية ثم رحلت إلى رشيد .

٢- المقاومة :

- فزعت تلك الحملة المصريين فكاتبوا للسيد عمر مكرم فأرسل إليهم يحثهم على الزحف نحو رشيد .
- تجمع الألف من الناس وخرجوا لملاقاة الجيش البريطاني في حماس وقوة وقابلوا القوات البريطانية وهزمهم هزيمة منكرة .

٣- النتائج :

- هزيمة القوات البريطانية .
- جلاء القوات البريطانية عن مدينة الإسكندرية في سبتمبر .

معالم من جغرافيا مصر وتاريخ مصر الحديث

٢. التلخص من الزعامة الشعبية


- بعد استقرار الأوضاع قرر محمد علي التلخص من منافسية وعلى رأسهم العلماء مستغلا الصراع فيما بينهم حيث عمل على :
- إضعافهم بالإغراء ، والتهديد بقطع الأرزاق عنهم والنفي .
- نفي السيد عمر مكرم فقيب الأشراف لدمياط .
- عزل الشيخ عبد الله الشرقاوي من منسبة .

٣. التلخص من المماليك (مذبحة القلعة مارس ١٨١١ م) .

- دبر محمد علي مكيدة في (مارس) للقضاء على المماليك حيث دعا زعماء المماليك في القلعة للاحتفال بأبنة طوسون باشا لتولية القيادة العامة لحملة الحجاز ، فقتل عدد كبير منهم .
- تعقب أبنة إبراهيم الفارين من المذبحة وفضى على عدد منهم وفر الباقون للسودان
- وبذلك توطد لمحمد علي حكم مصر وبدأ يتفرغ لتنفيذ السياسة التي رسمها لحكم مصر وإدارتها .

أهم المفاهيم

الوالي	حاكم الولاية الذي يملك الأمر فيها نيابة عن السلطان .
توطيد	تثبيت وتقوية وتدعيم سيطرة شخص على دولة ما في مكان معين
مذبحة القلعة	المذبحة التي دبرها محمد علي في مارس للقضاء على المماليك .



سلسلة الإبداع تقدم:
كراسة التدريبات والأنشطة

في

الدراسات الاجتماعية

معالم من جغرافيا مصر وتاريخ مصر الحديث



السؤال الأول : أكمل العبارات التالية :

- البيئة تشمل ظواهر و.....
- تتنوع البيئات المصرية ما بين بيئة وبيئة
- تمدنا البيئة الساحلية
- تمد البيئة الزراعية البيئة الصناعية
- تمدنا البيئة الزراعية ب..... و..... والمنتجات
- تمدنا البيئة الصحراوية ب.....
- توجد البيئة الزراعية الفيضية في ثلاث مناطق هم و..... و.....
- يعتمد الإنسان في البيئة الزراعية في الوادي والدلتا على مياة ، في حين يعتمد في الواحات على مياة
- تتميز التربة في الوادي والدلتا بأنها تربة
- يتصل منخفض الفيوم بنهر النيل عن طريق عبر فتحة
- يعد منخفض الفيوم من المنخفضات
- تتميز البيئة الزراعية ب..... سطحها في الوادي و.....
-
البيئة الزراعية الفيضية تبلغ مساحتها مليون فدان .
- تقوم الزراعة في الساحل الشمالي بمصر اعتمادا على مياة
- من مناطق الزراعة الفيضية شرق الدلتا وغرب الدلتا و.....
- يمتد نهر النيل امتدادا طويلا لأكثر من
- تبلغ مساحة الأراضي المزروعة بالوادي والدلتا % من جملة المساحة الزراعية بمصر .
- يختلف منخفض الفيوم عن المنخفضات الصحراوية في و.....

(ب) بم تفسر :

- تنوع البيئات المصرية .
- تكامل البيئات المصرية .
- تداخل البيئات المصرية .
- أهمية التكامل بين البيئات المصرية .
- يعد منخفض الفيوم بيئة زراعية رغم وقوعه في الصحراء الغربية .
- قيام الزراعة في الساحل الشمالي بمصر .
- نيل ودلتاة ومنخفض الفيوم تربة مهمة لقيام النشاط الزراعي .

السؤال الثاني : ما النتائج المترتبة على :

- تنوع البيئات المصرية .
- تداخل البيئات المصرية .
- أستواء سطح البيئة الزراعية .

(ب) ما المقصود بالمفاهيم التالية :

- البيئة الصحراوية .
- البيئة الزراعية .
- الزراعة المروية .
- السهل الفيضي .

السؤال الثالث : أكتب المصطلح الدال على كل عبارة من العبارات التالية :

- سهل يتكون من ترسيب التربة الطينية التي ينقلها نهر النيل من منابعه .
- ناة مائية يتم حفرها لتوصيل المياة للأراضي الزراعية .
- قناة مائية يتم حفرها لتخزين المياة للاستفادة منها وقت الحاجة .

معالم من جغرافيا مصر وتاريخ مصر الحديث

- حاجز مائى أنشء بغرض رفع منسوب المياه للأراضى الزراعية .
- قناة مائية يتم تشييدها عند منسوب اقل من منسوب الترع لصرف الماء الزائد .
- لزراعة التى تقوم على مياه الأمطار الشتوية وتنتشر بالساحل الشمالى بمصر .

من الخصائص الطبيعية للبيئة الزراعية إلى مشكلات البيئة الزراعية



السؤال الأول: أكمل العبارات التالية :

- أدى بناء السد العالى إلى تخزين المياه فى بحيرة ناصر
- تتميز أراضى الدلتا
- النباتات الطبيعية فى البيئة الزراعية
- يعيش أكثر من مليون نسمة فى البيئة الزراعية .
- يتركز سكان البيئة الزراعية فى و.....
- من العادات الإيجابية فى المجتمع الريفى و..... بينما من العادات السلبية
- تبلغ مساحة الأراضى الزراعية فى الدلتا من المساحة المزروعة .
- تصل نسبة الأمية فى الريف من سكانه .
- من نتائج الهجرة الداخلية و.....
- يقل عدد السكان كلما إتجهنا نحو
- تعد مدينة أكثر المدن ازدحاما بالسكان .
- يطلق على المناطق التى بنيت بدون تخطيط من الدولة عن طريق وضع اليد اسم

(ب) ما المقصود بالمفاهيم التالية :

- الأمية .
- الزيادة الطبيعية للسكان .
- المحافظات الحضرية والزراعية .
- الهجرة الخارجية .

السؤال الثانى : بم تفسر :

- القاهرة من أكثر المناطق جذبا للمهاجرين من البيئة الزراعية .
- إتجاه عدد كبير من المهاجرين نحو الدول العربية المنتجة للنفط .
- زيادة الإنجاب من العادات السلبية فى البيئة الزراعية .
- ظهور العشوائيات والمساكن العشوائية فى المدن .
- الزواج المبكر من العادات السلبية فى البيئة الزراعية .
- ندرة الحيوانات والنباتات الطبيعية فى البيئة الزراعية .

(ب) ما العلاقة بين الهجرة وما يلى :

- ظهور العشوائيات .
- ب-

السؤال الثالث : ما النتائج المترتبة على :

- ارتفاع نسبة الهجرة من الريف .
- ارتفاع نسبة الأمية فى مصر .

(ب) قارن بين :

- الخصائص التعليمية والخصائص الاجتماعية لسكان البيئة الزراعية .
- العادات الإيجابية والسلبية لسكان البيئة الزراعية .

معالم من جغرافيا مصر وتاريخ مصر الحديث

إلى نهاية الأنشطة الاقتصادية

التدريب الثالث

السؤال الأول : أكمل العبارات التالية :

- من المحاصيل المنتجة للسكر
- من أهم الحيوانات التي تربي في البيئة الزراعية
- من مصايد الأسماك وفرع و.....
- حيث التربة الطينية الخصبة قامت صناعة الحرفية .
- من المناطق الأثرية مناطق آثار حضارة تل بسطة بمحافظة
- من الأنشطة الاقتصادية في البيئة الزراعية و.....
- من أهم أنواع الأسماك التي يتم صيدها أسماك و.....
- البيئة الزراعية منطقة جذب سياحي خاصة في محافظة ومحافظة
- عين السلين من المعالم السياحية في مصر وتوجد في محافظة
- من المناطق الأثرية في محافظة الشرقية آثار
- لزيادة الإنتاج السمكي تم إنشاء
- لفيوم معالم سياحية متعددة منها و.....
- التوسع العمراني وتجرير التربة أدى إلى وجود مشكلة

(ب) ما المقصود بالمفاهيم التالية :

- تجريف التربة
- الموارد الطبيعية والبشرية .

السؤال الثاني : بم تفسر :

- قيام الصناعات الحرفية وتنوعها في البيئة الزراعية .
- تعتبر محافظة الفيوم محافظة جذب سياحي .
- اهتمام الحكومة بإنشاء المزارع السمكية في البيئة الزراعية .

(ب) ما النتائج المترتبة على :

- استخدام الاسمدة والمبيدات الحشرية بكثرة في تسميد التربة .
- التوسع في استخدام المزارع السمكية .
- إدخال نظام الري بالرش والري بالتنقيط في الزراعة .
- تجريف التربة
- الإسراف في استخدام مياه الري .

السؤال الثالث : أجب عما يأتي :

- أعرض للجهود التي قامت بها الدولة لمواجهة مشكلة الأمية .
- جهود الدولة في علاج مشكلات البيئة الزراعية .

معالم من جغرافيا مصر وتاريخ مصر الحديث

أسئلة الكتاب المقرر على الوحدة الأولى

السؤال الأول : أكمل العبارات التالية :

- تتميز البيئات المصرية بعدة خصائص هي و..... و.....
- البيئة الزراعية هي التي ، في حين ان البيئة الزراعية الفيضية هي
- التربة هي ومن أمثلتها ترعة في الدلتا وترعة في الوجهة القبلى .
- تتميز تربة البيئة الفيضية لأنها تتكون من
- زيد مساحة الأراضي المزروعة بالدلتا على% من جملة المساحة الزراعية بمصر ، بينما تبلغ مساحة الأراضي الزراعية بالوادي المساحة المزروعة بنهر النيل .
- من مناطق الدلتا التي لا توجد بها زراعة
- بيئة الزراعة توجد في ومن اكبر محافظتها
- الهجرة الداخلية هي في حين ان الهجرة الخارجية هي
- من الخصائص التعليمية للبيئة الزراعية و..... و.....
- يظهر السطح في منخفض الفيوم على شكل

(ب) بم تفسر :

- تنوع البيئات المصرية .
- تناقص الأراضي الزراعية .
- وجود مشكلات صرف زراعى في البيئة الزراعية .
- وجود المحافظات فى الوادى والدلتا على شكل شريط طولى .

السؤال الثانى : ما النتائج المترتبة على :

- الهجرة الداخلية من الريف للمدينة .
- تنوع الموارد الطبيعية والبشرية فى البيئة الزراعية .
- الإسراف فى استخدام مياه الري .
- توافر مياه النيل فى البيئة الزراعية .
- تنوع البيئات المصرية .

(ب) أكتب المصطلح الدال على كل عبارة مما يأتى :

- المناطق التى بنيت بدون تخطيط من الدولة عن طريق وضع اليد .
- بناء هندسى يشيد على الأنهار لتجنب خطر الفيضانات .
- أرض منخفضة خصبة كونها نهر النيل عند المصب .
- سهل يتكون من ترسيب التربة الطينية التى ينقلها نهر النيل من منابعه .

(ج) عرف :

- الزراعة المطرية .
- تجريف التربة .

مراجعة الإبداع على الوحدة الأولى (البيئة الزراعية)

السؤال الاول : بم تفسر :

- تتكون تربة منخفض الفيوم من طمي النيل .
- البيئة الزراعية لا تعتمد فى زراعتها على المطر .
- تربة وادى النيل ودلتاة ومنخفض الفيوم تربة مهمة لقيام النشاط الزراعى .

معالم من جغرافيا مصر وتاريخ مصر الحديث

- معظم سكان البيئة الزراعية يعملون بالنشاط الزراعى .
- ازدهار النشاط السياحى فى البيئة الزراعية .
- قيام صناعة الفخار فى البيئة الزراعية .

السؤال الثانى : ما النتائج المترتبة على :

- أسنواء سطح البيئة الزراعية .
- تنوع الموارد الطبيعية فى البيئة الزراعية .
- الإسراف فى استخدام الأسمدة الحشرية .
- (ب) ما المقصود بالمقاييم التالية :
- يعنى :

السؤال الثالث : أكمل الجمل التالية :

- أقرب المنخفضات الصحراوية لوادى النيل
- من الخصائص الاقتصادية لسكان البيئة الزراعية زيادة وانخفاض
- نوع الصناعات الحرفية فى البيئة الزراعية وفقا إلى
- يقع منخفض الفيوم إلى من الوادى .
- بلغ عدد محافظات الـ نهر النيل محافظة .



السؤال الأول : أكمل العبارات التالية :

- فرضت الدولة العثمانية سيطرتها على مصر عام
- فرض المماليك على القوافل التجارية المارة بمصر .
- احتفل المماليك فى مصر بسقوط فى يد الدولة العثمانية .
- تحطم الأسطول المملوكى فى موقعة عام على يد
- عام بين وفى وانتهت بـ
- دارت موقعة الريدانية عام بين وفى وانتهت بـ
- تولى السلطان سليم الأول الحكم عام ونجح فى
- تولى سلطنة المماليك بعد وفاة قنصورة الغورى .
- فتحت القنسطنطينية عاصمة الدولة العثمانية فى عهد السلطان
- أمتدت الدولة المملوكية متضمنة و
- زالت دولة المماليك بعد موقعة
- يك حكم مصر بعد انهيار الدولة
- تولى العثمانيون حكم مصر بعد انهيار الدولة
- تم اكتشاف طريق رأس الرجاء الصالح عام
- تولى السلطان حكم الدولة العثمانية عام
- ويلة .
- أنتصر البرتغاليون على المماليك فى موقعة
- تدهورت الحالة الاقتصادية بعد اكتشاف طريق

معالم من جغرافيا مصر وتاريخ مصر الحديث

- تحالفت الدولة العثمانية مع دولة المماليك ضد الخطر بعد عام
 - تنسب الدولة العثمانية لمؤسسها
 - الأموال التي يحصل عليها المماليك من مرور القوافل التجارية عبر أراضيهم تسمى
 - بطريق طريق رأس الرجاء الصالح حول قارة من جهتي و.....
 - واح بين سنة و..... سنوات .
 - كانت من مهام والي العثماني و.....
 - شهرت مع الحماية العثمانية في حكم مصر .
 - كان يلقب نائب السلطان العثماني في مصر بلقب
 - تآلفت هيئات الحكم في مصر في أثناء الحكم العثماني من والحماية العثمانية .
 - تآلفت هيئات الحكم المحلية في مصر زمن الحكم العثماني من قوى .
 - والي هو ومقرة
 - كان يتكون الديوان من و..... و..... و.....
 - من مهام الحماية العثمانية و.....
 - كان المماليك يلحقون بمدارس تسمى من أجل
- (ب) ما المقصود بالمفاهيم التالية :

- الحماية العثمانية .
 - طريق رأس الرجاء الصالح .
 - المماليك .
- السؤال الثاني : بم تفسر :
- ازدهار الدولة المملوكية .
 - هزيمة القوات المملوكية أمام القوات العثمانية .

السؤال الثالث : ما النتائج المترتبة على :

- توتر العلاقة بين الدولتين العثمانية والمملوكية .

من النظام الإداري إلى نهاية الوحدة



السؤال الأول : أكمل العبارات التالية :

- من الثغور الهامة في مصر زمن الحكم العثماني
- طبق العثمانيون نظام الألتزام في منتصف القرن الميلادي .
- تركزت السلطة القضائية في مصر في زمن الحكم العثماني في يد
- بظهور منصب قاضي القضاة تم أنتزاع السلطة القضائية من يد
- كانت الدولة العثمانية تعين قاضي القضاة لمدة
- أعتمد الحكم العثماني على عنصر لضمان استمرار احتلالهم للبلاد .
- نتج عن أنظمة الحكم والإدارة العثمانية لمصر تدهور
- كانت الحياة الاجتماعية في مصر العثمانية قائمة على النظام

(ب) ما المقصود بالمفاهيم التالية :

- ديوان .
- قواد الحماية .

السؤال الثاني : بم تفسر :

- إتباع الدولة العثمانية نظام الألتزام .

معالم من جغرافيا مصر وتاريخ مصر الحديث

- سيطرة الدولة العثمانية على القضاء والتشريع في مصر .
- كان نظام الحكم العثماني في مصر أستيبداديا .
- إسناد العثمانيون للماليك إدارة الأقاليم .
- إسناد الدولة العثمانية القضاء في مصر لقاضي القضاة .
- تدهور الحياة العلمية والثقافية في مصر العثمانية .
- تدهور الحياة الفنية زمن الحكم العثماني .
- ضاع الأقتصادية في مصر العثمانية .

(ب) ماذا يحدث إذا؟

- تملك الفلاحون الأراضي التي كانوا يزرعونها في ظل الحكم العثماني .
- أعطى السلطان سليم الأول لهيئات الحكم المحلية سلطات واسعة .

السؤال الثالث : ما النتائج المترتبة على :

- انية في منتصف القرن السابع عشر الميلادي .
- تطبيق نظام الالتزام كوسيلة لتجصيل ضرائب الأراضي الزراعية
- أنظمة الحكم والإدارة العثمانية .
- إهمال العلوم العقلية والرياضيات والطبيعية في مصر في زمن الحكم العثماني .

تدريبات الكتاب المقرر على الوحدة الثانية (مصر تحت الحكم العثماني)

السؤال الأول : أكمل الجمل التالية :

- سيطرت دولة المماليك على بين أوروبا والشرق .
- تحالفت الدولة العثمانية مع المماليك عند ظهور الخطر
- هزمت القوات المملوكية أمام القوات العثمانية في موقعة و.....
- تمثلت مظاهر

السؤال الثاني : ما النتائج المترتبة على :

- ضعف سلطة الدولة العثمانية في منتصف القرن السابع عشر الميلادي .
- الأكتشافات الجغرافية في القرن الخامس عشر الميلادي .
- ترحيل السلطان سليم الأول أمهر الصناع والحرفين إلى الاستانة عاصمة الدولة العثمانية .
- إخضاع مصر للسيادة العثمانية .

السؤال الثالث : ماذا يحدث إذا :

- أهتمت الدولة العثمانية بالعلوم العقلية والرياضيات والطبيعية .
- نالت مشاريع الري والزراعة الاهتمام المنشود من حكام الدولة العثمانية في مصر .
- أسخدام المماليك أسلحة متطورة في حروبهم مع القوات العثمانية .

(ب) رتب الأحداث التاريخية تصاعديا :

- (موقعة ديو البحرية – أكتشاف طريق رأس الرجاء الصالح – موقعة الريدانية)

السؤال الرابع : بم تفسر :

- قات العثمانية المملوكية .
- هزيمة المماليك في موقعة مرج دابق والريدانية .
- عوامل ازدهار دولة المماليك .

معالم من جغرافيا مصر وتاريخ مصر الحديث

مراجعة الإبداع على الوحدة الثانية (مصر تحت الحكم العثماني)

السؤال الأول : بوهن (أيد) تاريخيا على صحة العبارات التالية :

- تمتعت دولة المماليك في مصر والشام بالثراء الأ
- بدأت العلاقات بين الدولتين المملوكية والعثمانية بداية طيبة .
- فقدت مصر مركزها التجارى نتيجة الكشف الجغرافية .
- أنقلبت العلاقات الطيبة بين الدولتين العثمانية والمملوكية إلى عدا و صدام .
- أدت موقعة الريدانية إلى زول الدولة المملوكية فى م
- كان نظام الحكم العثماني لمصر أستبداديا .
- رغم زوال دولتم ، ظل المماليك يقومون ببعض المهام فى مصر العثمانية .
- فقدت مصر استقلالها منذ عام
- لم تلجا الدولة العثمانية إلى تطبيق نظام الألتزام إلا فى منتصف القرن السابع عشر الميلادى .
- سيطرت الدولة العثمانية على القضاء والتشريع فى مصر .
- تدهورت أحوال مصر الأقتصادية فى زمن الحكم العثماني .
- كانت الحياة الإجتماعية فى مصر قائمة على النظام الطبقي .
- تسبب السلطان سليم الأول فى تدهور الحياة الفنية فى مصر .

السؤال الثانى : بم تفسر :

- سمية الدولة العثمانية بهذا الأسم .
- ازدهار دولة المماليك .
- التعاون بين الدولتين العثمانية والمملوكية بعد عام
- سوء أوضاع الدولة المملوكية سياسيا .
- تدهور الأوضاع الأقتصادية للدولة المملوكية .
- ترك السلطان سليم الاول حامية عسكرية فى مصر .
- اختيار السلطان سليم الأول لبعض الأمراء من بقايا المماليك .
- لجوء الدولة العثمانية إلى تطبيق نظام الألتزام فى مصر فى منتصف القرن السابع عشر .
- أنتزاع السلطة القضائية من ايدى علماء الأزهر فى الع
- عانى الفلاح المصرى كثيرا فى ظل الحكم العثماني .
- تدهور الحياة العلمية والثقافية والفنية فى العصر العثماني .
- هزيمة الجيوش المملوكية امام الجيوش العثمانية فى عامى

السؤال الثالث : ما النتائج المترتبة على :

- ن محمد الفاتح فى فتح القنسطنطينية عام
- سيطرة الدولة المملوكية فى مصر والشام على طريق التجارة بين الشرق والغرب ؟
- ضعف الدولة المملوكية من الناحية العسكرية .
- أكتشاف البرتغاليون طريق رأس الرجاء الصالح .
- حماية المماليك لبعض الأمراء العثمانيين الفارين .
- موقعة الريدانية
- إخضاع السلطان سليم الأول مصر تحت السيادة العثمانية .
- الخبرة الطويلة التى اكتسبها المماليك بأحوال مصر قبل الحكم العثماني .
- أنظمة الحكم والإدارة التى طبقها العثمانيون فى مصر .
- أقتصار التعليم فى العصر العثماني على العلوم الدينية .

معالم من جغرافيا مصر وتاريخ مصر الحديث

- إرسال السلطان سليم الأول أمهر الصناع المصريين للأستانة .

السؤال الرابع : أكتب المدلول أو المفهوم التاريخي لكل عبارة من العبارات التالية :

- دولة إسلامية نشأت في أواخر القرن الثالث عشر الميلادي وسيطرت على
- دولة إسلامية سيطرت على مصر وبلاد الشام عقب أنهيار الدولة الأيوبية .
- الأموال التي كان يحصل عليها أمراء المماليك من مرور القوافل التجارية عبر أراضيهم .
- تركها السلطان سليم الأول في مصر ومهمتها الدفاع عن البلاد .
- العسكرين ، قاموا بمهام خاصة مثل إدارة الأقاليم الهامة .
- نظام طبقة العثمانيون في منتصف القرن السابع عشر الميلادي لضمان تحصيل الضرائب .
- نظام ضم جميع فئات المجتمع كوحدات إنتاجية في العصر العثماني .

السؤال الخامس : قارن بين :

- الأحوال الاقتصادية للدولة المملوكية قبل وبعد عام
- مظاهر العلاقات الطيبة والعدائية بين الدولتين العثمانية والمملوكية .
- موقعتي مرج دابق والريدانية من حيث أطرافهما - نتائجهما .
- الوالي العثماني والحامية العثمانية من حيث مهمة كل منهما .
- طرق جباية الأموال المفروضة على الأراضي الزراعية أيام قوة الدولة العثمانية وإيام ضعفها .
- السنجق والملتزم من حيث اختصاص كل منها .
- الحياة الفنية في مصر قبل وبعد الفتح العثماني .

السؤال السادس : أكمل الجمل التالية :

- الذين كانوا ينوبون عن الحكومة في جباية الضرائب يسمون
- أفقدت الاكتشافات الجغرافية في أواخر القرن الخامس عشر الميلادي مصر مركزها
- تكونت الطبقة في مصر في العصر العثماني من الوالي والديوان والحامية العثمانية .
- أسهمت في الاحتفالات التي أقيمت في المناسبات والأعياد الدينية .
- عانى الفلاح المصري في زمن العثمانيون من
- أتجة السلطان سليم الأول نحو الـ

(ب) ماذا يحدث إذا :

- لم تتمتع دولة المماليك بموقعها الجغرافي المسيطر على طرق التجارة العالمية .
- لم يكتشف البرتغاليون طريق رأس الرجاء الصالح في أواخر القرن الخامس عشر الميلادي .
- لم تنطبع الدولة العثمانية الفتية إلى
- كان النصر في معركتي منرج دابق والريدانية في صالح ممالك مصر .
- لم يحدد السلطان العثماني مدة حكم الولاة في مصر .
- لم تضعف الدولة العثمانية في منتصف القرن السابع عشر الميلادي .
- لم تلجأ الدولة العثمانية إلى تعيين ما يسمى بـ

مراجعة الوحدة الثالثة (البيئة الصناعية)

معالم من جغرافيا مصر وتاريخ مصر الحديث

العوامل الطبيعية والبشرية للصناعة



السؤال الأول : بم تفسر :

- تركز صناعة الغزل والنسيج في الدلتا .
- أهمية وسائل النقل والمواصلات في البيئة الصناعية .
- ارتفاع مستوى المعيشة في البيئة الصناعية .
- حاجة المناطق الصناعية
- (ب) " لسكان البيئة الصناعية عادات وتقاليد تميزهم عن غيرهم من البيئات " في ضوء هذه العبارة حدد اهم العادات الإيجابية والسلبية لسكان البيئة الصناعية .
- (ج) يستطيع سكان البيئة الصناعية العمل في العديد من المجالات حدد هذه المجالات .

السؤال الثاني : أكمل العبارات التالية :

- عوامل قيام الصناعة : العوامل والعوامل
- من العوامل الطبيعية لقيام الصناعة و..... و.....
- من العوامل البشرية لقيام الصناعة و..... و.....
- بيئة الصناعية و..... و.....
- الموقع الجغرافي والظروف المناخية من العوامل لقيام الصناعة .
- يتطلب إنشاء المصانع
-
.....
.....
تتيح وسائل النقل الفرصة لنقل
من المواد الخام المعدنية اللازمة للصناعة و..... و.....
.....
يمكن نجاح الصناعة في مدى توافر والمهارات الفردية .
- تسهم الصناعة في زيادة
.....
طلب السكان المحليين للمنتجات الصناعية يقصد به السوق
يجب بناء المصانع بعيدا عن
يجب ان تكون المصانع قريبة من وبعيدة عن
المحافظات هي التي يعمل سكانها بالصناعة والوظائف الخدمية .
-
تنوع الأنشطة الاقتصادية في البيئة الصناعية ساعد على توفير وتقليل
(ب) أذكر خصائص سكان البيئة الصناعية .

(ج) قارن بين :

- ما توفرة البيئة الزراعية للبيئة الصناعية وما توفرة البيئة الصناعية للبيئة الزراعية .
- العادات والتقاليد الإيجابية والسلبية للبيئة الصناعية .
- العوامل الطبيعية والعوامل البشرية اللازمة لقيام الصناعة .
- (د) ما المقصود بكل مما يأتي) - البيئة الصناعية - (.

الصناعة والمناطق الصناعية



السؤال الأول : أكمل العبارات الآتية :

- من الصناعات الهندسية صناعة
- من الصناعات البسيطة صناعة
- بدأت الصناعة الحديثة في مصر في عهد

معالم من جغرافيا مصر وتاريخ مصر الحديث

- من اهم الصناعات فى الاسكندرية وكفر الشيخ والغربية صناعة
 - تتركز الصناعات الكهربائية فى محافظة
- (ب) بم تفسر :

- إنشاء الدولة للمناطق الصناعية فى مصر .
- أهمية المناطق الصناعية فى مصر .
- تنوع الصناعات فى جمهورية مصر العربية .

السؤال الثانى : أكمل الجمل التالية :

- منذ عهد محمد على بدأت الصناعات فى مصر .
- من الصناعات الحرفية : الفخار و..... و.....
- حفظ وتعليب الفاكهة والأسماك من الصناعات
-

(ب) أكتب ما تشير إليه كل عبارة من العبارات التالية :

- صناعة يدوية يقوم بها بعض العمال بهدف تحقيق الأكتفاء الذاتى .
 - صناعة تتم فيها تحويل المواد الخام إلى صورة أخرى .
 - صناعة تعتمد على آلات حديثة .
 -
- (ج) ما اهم المصانع الموجودة فى اسبوط وقنا .

مشكلات البيئة الصناعية وكيفية التغلب عليها

التدريب الثالث

السؤال الأول : اكمل العبارات التالية :

- من مشكلات البيئة الصناعية المرتبطة بالصناعة :
-
- قامت الدولة بالعديد من الجهود لعلاج مشكلات البيئة الصناعية منها :
- تضرر بالبيئة خارج المنطقة السكنية
-
- من مشكلات التلوث البيئى إلقاء مخلفات المصانع السا
- استنزاف الموارد الطبيعية نتيجة الإسراف فى
-
- من جهود الدولة لعلاج مشكلات البيئة الصناعية

السؤال الثانى : بم تفسر :

- إنشاء الدولة وزارة البيئة .
- الأهتمام بالتعليم الفنى والصناعى
- تعاني البيئة الصناعية من مشكلات التلوث البيئى .

(ب) ماذا يحدث لو :

- لم توجد بيئة صناعية فى مصر .
-

السؤال الثالث : ما النتائج المترتبة على :

- إلقاء مخلفات المصانع السائلة فى المجارى المائية .
- الإكثار من المساحات الخضراء فى البيئة الصناعية .

(ب) أجب عما يلى :

معالم من جغرافيا مصر وتاريخ مصر الحديث

" تقوم الدولة بجهود كبيرة لمواجهة مشكلة نقص الكوادر الفنية في البيئة الصناعية " في ضوء ذلك وضع جهود الدولة لمواجهة هذه المشكلة .

: " أنت من أبناء مصر المخلصين وعليك ان تساعد على نهضة بلادك الصناعية والقضاء على المشكلات التي تهدد تقدم هذه البلاد " :
- أكتب عن إحدى هذه المشكلات .

س٢ : ما المقصود بالمفاهيم التالية : (الأستنزاف – ترشيد الاستهلاك) .

تدريبات الكتاب المقرر على الوحدة الثالثة (البيئة الصناعية)

س١ (ترتبط البيئة الزراعية بالبيئة الصناعية) على ضوء العبارة السابقة وضع :

- تعريف البيئة الصناعية .
- العلاقة بين البيئة الزراعية والصناعية .

س٢ : اختر الإجابة الصحيحة مما بين القوسين :

- يعمل بالصناعة عدد كبير من السكان وصل إلى أكثر من مليون نسمة

(.)

..... دينة صناعة

(..... – السيارات – حفظ الفاكهة)

(.....)
(الكيماوية – الكهربائية – الغذائية – المعدنية)

- من العوامل البشرية الهامة لقيام الصناعة :

(.....)
- الظروف المناخية –

س٣ : " تعاني البيئة الصناعية من العديد من المشكلات " في ضوء العبارة اجب عما يلي :

- ما هي مشكلات البيئة الصناعية .
- ما جهود الدولة لحل هذه المشكلات .
- ما رأيك في جهود الدولة لحل هذه المشكلات .

س٤ : اكمل الجمل التالية :

- مواد الخام الزراعية اللازمة لقيام الصناعة
- يجب ان تكون المصانع قريبة من مصادر المواد
- من مشكلات التلوث البيئي الناتجة عن الصناعة
- بيئة الصناعية
- تصنف الصناعات حسب درجة تطورها إلى صناعات و.....
- من انواع الصناعات صناعة وتقوم عليها الملابس الجاهزة والمفروشات .

س٥ : ما النتائج المترتبة على :

- هجرة سكان الريف للبيئة الصناعية .
- الإكثار من المساحات الخضراء في البيئة الصناعية

س٦ : بم تفسر :

- تركيز صناعة الغزل والنسيج في الدلتا .
- اهمية وسائل النقل والمواصلات في الصناعة .

معالم من جغرافيا مصر وتاريخ مصر الحديث

ندريات (الإبداع) على الوحدة الثالثة (البيئة الصناعية)

السؤال الأول : بم تفسر :

- أهمية البيئة الصناعية .
- أهمية البيئة الزراعية للبيئة الصناعية .
- تلوث الماء وملوث الأسماك في البيئة الصناعية .
- الأهتمام بزيادة المساحات الخضراء .
- أهمية رأس المال في الصناعة .
- أهمية تنوع الأنشطة الاقتصادية في البيئة الصناعية .
- أهمية الصناعة للبيئة الزراعية .
- م المدن وانتشار المناطق العشوائية .
- الأهتمام بتطوير الصناعة وتعديل خطوط الإنتاج .
- أهمية تركيب مرشحات وفلاتر على مداخل المصانع .

السؤال الثاني : ما النتائج المترتبة على :

- توافر الأيدي العاملة الماهرة .
- الأعتداد على الألت الحديثة في الصناعة .
- هجرة سكان الريف للبيئة الصناعية .
- أستهلاك المواد الطبيعية بشكل غير منتظم .
- تنوع الأنشطة الاقتصادية في البيئة الصناعية .
- إلقاء المخلفات السائلة في المجارى المائية ونهر النيل .

(ب) ما المقصود بالمفاهيم التالية :

- المنطقة الصناعية .
- الصناعة الحديثة .
- الصناعة البسيطة .
- ترشيد الأستهلاك .

مراجعة الوحدة الرابعة (الحملة الفرنسية على مصر)

السؤال الأول : أكمل العبارات التالية :

- كان تدهور الحالة الاقتصادية في مصر قبل مجيء الحملة الفرنسية بسبب
- وصلت الحملة الفرنسية إلى سواحل في أوائل يولية عام
- قاوم حاكم الأسكندرية الحملة الفرنسية .
- من الاسباب الظاهرية المباشرة للحملة الفرنسية على مصر تأديب
- (ب) رتب الأحداث التاريخية من القديم للحديث (ملاحظة لابد من ذكر التواريخ)
- (.....) ير البحرية - موقعة شبراخيت - موقعة الصالحية -

السؤال الثاني : بم تفسر :

- تكتم الفرنسيين لنبا الإعداد للحملة على مصر .
- تحطيم الأسطول البريطاني للأسطول الفرنسي في موقعة ابى قير البحرية .
- كومة فرنسا في إقامة مستعمرة فرنسية في مصر .

(ب) أكتب كلمة (صح) أمام العبارة الصحيحة ، وكلمة (خطأ) أمام العبارة الخاطئة :

- نجح الفرنسيون في أحتلال الأسكندرية م بعد مقاومة حاكمها السيد عمر مكرم .
- فر المماليك إلى الصعيد بعد موقعة الأهرام .
- قاد نابليون معركة الصالحية وهزم المماليك .
- سلكت الحملة الفرنسية على مصر طريقين أحدهما برى واخر بحرى .

السؤال الثالث : أكمل العبارات التالية :



معالم من جغرافيا مصر وتاريخ مصر الحديث

- ابهرت الحملة الفرنسية من ميناء
- أرسل رسالة لنابليون تفيد بتحطيم الأسطول الفرنسي في ابى قير.
- فر سوريا بعد معركة الصالحية .
- كان قائد الاسطول الأنجليزى فى موقعة ابى قير البحرية يسمى
- لم يعلم بأمر الحملة الفرنسية إلا قائدھا
- وصلت الحملة الفرنسية فى يولية إلى ميناء
- عم المقاومة ضد الحملة الفرنسية كان السيد
- بعد معركة دخل الفرنسيون مدينة القاهرة .
- كانت الحكومة الفرنسية تخشى تسرب أخبار حملتها إلى
- كانت فرنسا تهدف من وراء حملتها على مصر قطع طريق مواصلات إنجلترا فى
- تكتمت الحكومة الفرنسية أمر الحملة حتى لا تتعرض لمهاجمة الأسطول
- الأقليم الذى يحكمه اجنبى ويستغلة يسمى

السؤال الرابع : ما النتائج المترتبة على :

- مراقبة الاسطول الأنجليزى للملاحة فى البحر المتوسط .
- معركة شبراخيت .
- معركة الصالحية بين المماليك والفرنسيين .
- فقدان فرنسا مستعمراتها نتيجة حروبها مع إنجلترا.

(ب) ماذا يحدث إذا :

- لم فقد فرنسا مستعمراتها فى حروبها مع إنجلترا .
- نجح السيد محمد كريم مع اهالى الاسكندرية فى هزيمة الفرنسيين .
- نجح المماليك فى هزيمة الفرنسيين فى معركة امبابة .

(ج) ما المقصود بالمفاهيم التالية :

إلى نهاية ثورة القاهرة الثانية



السؤال الأول : أكمل العبارات التالية :

- جحت الحملة الفرنسية فى إضعاف نفوذ وقوة
- أعدم نابليون ستة من زعماء القاهرة الأولى باستثناء
- رحلت الحملة الفرنسية عن مصر فى ستمبر سنة
- كانت سلطة ديوان القاهرة سلكة مقيدة بمصالح الفرنسيين .
- تعاونت مع الدولة العثمانية لأخراج الحملة الفرنسية من مصر .
- فى يناير عقد كليبر مع الأتراك إتفاقية
- أندلعت ثورة القاهرة الأولى بقيادة عام
- لفتت الحملة الفرنسية انظار الدول الاوربية إلى اهمية موقع مصر الجغرافى خاصة دولة
- قام الشاب السورى سليمان الحلبي بقتل القائد الفرنسى
- رحلت الحملة الفرنسية عن مصر فى
- أنطلقت ثورة القاهرة الثانية من حى
- نابليون على الجيش العثمانى فى موقعة عام

السؤال الثانى : بم تفسر :

- سفر نابليون سرا لفرنسا .
- فشل حملة نابليون على الشام فى تحقيق اهدافها .
- أثار نابليون الشعور الدينى لدى المصريين .

معالم من جغرافيا مصر وتاريخ مصر الحديث

- عقد اتفاقية العريش

(ب) ماذا يحدث إذا :

- لم يتم التحالف بين إنجلترا والدولة العثمانية ضد الحملة الفرنسية في مصر .
- لم يفكر نابليون في الرحيل من مصر إلى فرنسا سرا .
- رحبت الحكومة البريطانية بعقد إتفاقية العريش في يناير .

السؤال الرابع : ما النتائج المترتبة على :

- موقعة ابي قير البرية
- ثورة القاهرة الأولى والثانية .
- الحملة التي قادها نابليون في فبراير
- عقد إتفاقية العريش بين كليبر والأتراك في يناير

السؤال الأول : بم تفسر :

- إلغاء نابليون الديوان الوطنى (ديوان القاهرة) .
- إنشاء نابليون ديوان القاهرة .
- كانت النتائج العلمية للحملة الفرنسية من أبرز نتائجها .

(ب) أكمل العبارات التالية :

- أكتشاف حجر رشيد ساعد على فك رموز على يد شامليون .
- نتائج الحربية للحملة الفرنسية إضعاف قوة ونفوذ
- قام نابليون لتدعيم الاحتلال الفرنسي بإنشاء
- أندلعت ثورة القاهرة الثانية بسبب تسرب الأخبار للمصريين بأن على أبواب القاهرة .
- قيادة الحملة الفرنسية بعد كليبر .
- تزوج مينو من امرأة تدعى من أبناء
- رحلت الحملة الفرنسية عن مصر فى

السؤال الثانى : ما النتائج المترتبة على :

- الحملة الفرنسية من الناحية العلمية والثقافية
- الحملة الفرنسية من الناحية السياسية .
- أكتشاف حجر رشيد .
- (ب) " أستمرت الحملة الفرنسية بمصر ثلاث سنوات ، دار خلالها العديد من الأحداث لتنته بفشلها فى جعل مصر قاعدة للإمبرطورية الفرنسية فى الشرق " فى ضوء هذه العبارة أجب عما يلى :
- باب التى ادت لرحيل الحملة من مصر .
- : من النتائج العلمية للحملة الفرنسية

(ج) ما رأيك فى :

- ديوان القاهرة الذى انشأه نابليون .
- معاملة كليبر للمصريين .
- القول بأن النتائج العلمية للحملة الفرنسية لصالح مصر .

السؤال الثالث : أكتب ما تشير إليه كل عبارة من العبارات التالية :

- قام بطعن كليبر بخنجر وقتلة فى يمنية
- قام بفك رموز الكتابة المصرية القديمة على حجر رشيد .
- تغير أساسى فى الأوضاع السياسية والاقتصادية يقوم به الشعب .
- أحد زعماء ثورة القاهرة الأولى ومن مشايخ الازهر ويتمتع بمكانة علمية عظيمة لدى المصريين .
- القائد الذى تزعم ثورة القاهرة الثانية التى اندلعت من حى بولاق .
- كتاب تضمن وصف مصر منذ اقدم العصور وحتى نهاية الحملة .

(ب) برهن على العبارات التالية :

- للحملة الفرنسية على مصر بعض الفوائد العلمية والثقافية .
- لم تحقق الحملة الفرنسية اهدافها العسكرية .
- كان نابليون بونابرت عنيقا فى قمع ثورة القاهرة الأولى .



معالم من جغرافيا مصر وتاريخ مصر الحديث

السؤال الأول : أكمل العبارة التالية :

التدريب الثالث

- تخلص محمد على من المماليك فى عام
- كانت حملة فريزر على رشيد عام

- كان على راس الضباط المصريين فى تولية محمد على .
- تم عزل والى العثمانى وتعين محمد على على حكم مصر .
- جاء الكفاح ضد الحملة الانجليزية على يد ابناء مدينة
- نفى السيد عمرو مكرم نقيب الإشراف إلى مدي
- ولد محمد على فى مدينة شمال اليونان .

(ب) أكتب كلمة صح امام العبارة الصحيحة ، وكلمة خطأ امام العبارة الخاطئة :

- رأى العثمانيون انه ماحق بالسيادة على مصر بعد خروج الفرنسيين .
- كان المماليك عضوا غريبا عن المجتمع ولا يهتمون بمصلحة البلاد .

(ج) بم تفسر :

- هزيمة القوات البريطانية فى رشيد / فشل حملة فريزر .
- تطلع المماليك إلى العودة إلى حكم مصر بعد جلاء الحملة الفرنسية .
- مجيء حملة فريزر .

السؤال الثانى : ما النتائج المترتبة على :

- المذبحة التى ارتكبها محمد على عام
- الحملة التى ارسلتها أنجلترا على مصر عام

(ب) ماذا يحدث لو :

- فشل محمد على فى المؤامرة التى دبرها عام
- نجاح القائد فريزر فى المهمة التى جاء من اجلها .
- رفض محمد على الشروط التى عرضها عليه عمرو مكرم عام

السؤال الثالث : أيد تاريخيا على صحة العبارات التالية :

- لقوى المتصارعة على الحكم بعد جلاء الحملة الفرنسية .
- لعب السيد عمرو مكرم دورا بارزا عام .
- تنكر محمد على للزعامة الشعبية التى اسندت له الحكم .

(ب) ما المقصود بالمفاهيم التالية : (- توطيد)

معالم من جغرافيا مصر وتاريخ مصر الحديث

التدريبات العامة للكتاب المقرر على الوحدة الرابعة (الحملة الفرنسية على مصر)

السؤال الأول : اختر الإجابة الصحيحة مما بين القوسين :

- قائد الحملة الفرنسية على مصر (مينو - نابليون - كليبر -) .
- وصلت الحملة الفرنسية ميناء الإسكندرية أول يولية : (- - - -)
- ولد محمد على في مدينة قوله شمال (ديو البحرية - أبى قير البحرية -)
- (اليونان - إيطاليا -) .

السؤال الثانى : قارن بين موقعة أبى قير البحرية وموقعة أبى قير البرية من حيث السنة والاسباب

السؤال الثالث : ما النتائج المترتبة على :

- الحملة الفرنسية على مصر .
- نفى محمد على للسيد عمرو مكرم .
- هزيمة المماليك فى موقعة شبراخيت .
- (ب) ما المقصود بالمفاهيم التالية : (-) .
- (ج) ماذا يحدث لو :

- تم تحطيم الأسطول البريطانى فى موقعة أبى قير البحرية .
- تخاذلت الزعامة الشعبية عن تأيد محمد على .

السؤال الرابع : بم تفسر :

- الحملة الفرنسية على مصر والشام .
- هزيمة المماليك امام قوات الحملة الفرنسية .
- مطاردة الاسطول البريطانى للأسطول الفرنسى فى مياه البحر المتوسط .

(ب) رتب الأحداث التاريخية ترتيبا تصاعديا :

- مقتل القائد الفرنسى كليبر .
- قيادة مينو للحملة الفرنسية .
- ب- تولية محمد على حكم مصر .
- د- إبحار الحملة الفرنسية من ميناء طولون ؟
- فك رموز الكتابة المصرية القديمة .

تدريبات الإبداع على الوحدة الرابعة

السؤال الأول : أكمل العبارات التالية :

- انتهت معركة امبابية فى يولية م بهزيمة
- أنشأ نابليون وتكون من المشايخ والعلماء .
- نجح الفرنسيون فى احتلال مدينة الإسكندرية بعد مقاومة اهلها بزعامة
- بعد هزيمة المماليك فى معركة فروا إلى سوريا .

معالم من جغرافيا مصر وتاريخ مصر الحديث

- كليبر مع الأتراك العثمانيين فى يناير .
- تمكن الشاب السورى من قتل القائد الكبير كليبر .
- بهدف الإنفراد بحكم مصر نفى محمد على السيد عمرو مكرم إلى
- أعد علماء الحملة الفرنسية كتابا عن مصر أطلق عليه
- جاء محمد على إلى مصر فى الجيش الذى جاء لطرد
- تزعم ثورة القاهرة الثانية عام .

السؤال الثانى : بم تفسر :

- تدهور اوضاع مصر قبل مجىء الحملة الفرنسية .
- الحكومة الفرنسية أمر حملتها على مصر .
- إبحار الحملة الفرنسية من ميناء طولون ، ومنها إلى جزيرة كريت قبل ان تصل إلى مصر .
- إرسال فرنسا حملتها على مصر .
- كانت سلطة ديوان القاهرة سلطة مقيدة .
- قضت موقعة أبي قير البحرية على امال فرنسا فى حملتها على مصر .
- خروج نابليون بونابرت بحملة على بلاد الشام .
- فشل الحملة الفرنسية على مصر عسكريا .
- تطلع المماليك إلى الاستئثار بحكم مصر بعد جلاء الحملة الفرنسية .
- تخلص محمد على من كل الزعامة الشعبية والمماليك الموجودين فى مصر .
- نيون يرون انهم اصحاب الحق الشرعى فى حكم مصر .
- لبعث الزعامة الشعبية دورا كبيرا فى تعيين محمد على واليا على مصر .

السؤال الثالث : ما النتائج المترتبة على :

- ضعف الدولة العثمانية منذ منتصف القرن السابع عشر الميلادى .
- الأسطول الإنجليزى للملاحة فى مياه البحر المتوسط .
- مجموعة العلماء والكتاب والرسامين الذين أصطحبهم نابليون فى حملة على مصر .
- فقدان فرنسا لمستعمراتها فى حروبها مع إنجلترا .
- معركة شبراخيت بين المماليك وقوات الحملة الفرنسية .
- معركة الأهرام بين المماليك وقوات الحملة الفرنسية .
- اعتماد المماليك فى مواجهة الحملة الفرنسية على سلاح الفرسان والأسلحة التقليدية .
- معركة الصالحية بين المماليك وقوات الحملة الفرنسية .
- الدور الوطنى لكل من السيد عمرو مكرم والشيخ عبد الله الشرقاوى عام .

السؤال الرابع : برهن تاريخيا على صحة العبارات التالية :

- لم يعلم بأمر الحملة الفرنسية على مصر سوى قائدها نابليون بونابرت .
- لم تكن الحملة الفرنسية على مصر مجرد حملة للغزو والاحتلال فقط .
- اختلفت الاسباب الحقيقية للحملة الفرنسية على مصر عن اسبابها المعلنة .
- واجهت الحملة الفرنسية مقاومات عديدة على طول الطريق حتى دخولها القاهرة .
- كان نابليون بونابرت عنيفا فى معاملة الثوار فى ثورة القاهرة الأولى .
- لم تحقق حملة نابليون بونابرت على بلاد الشام اهدافها .
- أداق كليبر الشعب المصرى الكثير من ألوان الأضطهاد والتعذيب .
- أستفاد كل من مصر والمصريين من مجىء الحملة الفرنسية على مصر .
- رفضت القوى الوطنية المصرية الفوضى السياسية التى شهدتها مصر بعد جلاء الحملة الفرنسية .
- أنتصرت الإرادة الشعبية المصرية انتصارا هائلا فى عام .
- تنكر محمد على للزعامة الشعبية التى مهدت له حكم مصر .

السؤال الخامس : اكتب المفهوم التاريخى على كل عبارة من العبارات التالية :

- تجهيز الجيش وتوجية لأهداف حربية .
- أستيلاء دولة على بلد اخر قهرا .

معالم من جغرافيا مصر وتاريخ مصر الحديث

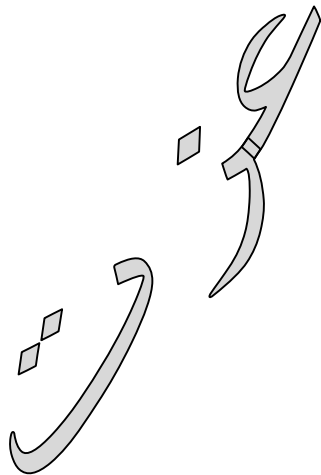
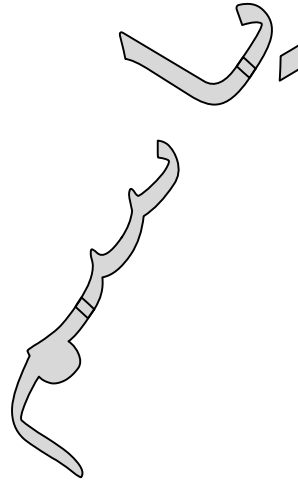
- إقليم يحكمة أجنبى ويستوطنة او يكتفى بأستغلاله أقتصاديا وعسكريا .
- المعركة التى كانت من بين عوامل جلاء الفرنسيين عن مصر .
- المعركة التى بعدها دخل نابليون مدينة القاهرة .
- المدينة التى شهدت أول مواجهة بين الفرنسيين وقوات المماليك .

(ب) قتل بين :

- الأسباب المعلنة والغير معلنة للحملة الفرنسية على مصر .
- ديوان القاهرة قبل وبعد ثورة القاهرة الأولى من حيث تشكيلة .
- ثورات القاهرة الأولى والثانية من حيث موقف الفرنسيين من كل منهما .
- معركة ابي قير البرية والبحرية من حيث نتائج كل منهما .
- موقف محمد على من الزعامة الشعبية قبل وبعد عام .

السؤال السادس (أ) ماذا يحدث لو :

- لم يفكر نابليون فى اصطحاب هذا العدد الكبير من العلماء والفنانين فى حملته على مصر .
- نجح اهالى الاسكندرية بزعامة حاكمها فى هزيمة جيوش نابليون بونابرت .
- أستخدم المماليك سلاح المشاة والمدفعية والأسلحة الحديثة فى مواجهة الحملة الفرنسية .
- الفرنسي فى تعظيم الأسطول الإنجليزى .
- رحبت الحكومة البريطانية بعقد إتفاقية العريش (يناير) .
- نجحت الحملة الفرنسية فى بسط سيطرتها الكاملة على مصر عام .



ثالثا : المراجعة العامة

معالم من جغرافيا مصر وتاريخ مصر الحديث



مراجعة الوحدة الأولى (البيئة الزراعية)

السؤال الأول : أكمل العبارات التالية :

- تتميز البيئات المصرية بعدة خصائص منها التنوع والتداخل .
- البيئة الزراعية هي البيئة التي يتوافر بها مقومات الزراعة في حين ان البيئة الزراعية الفيضية ، هي البيئة التي نشأت في السهول الفيضية .
- يتميز مناخ البيئة الزراعية بانه حار جاف صيفا ، ومعتدل ممطر شتاء .
- هي قناة مائية أنشئت بغرض توصيل المياه للأراضي الزراعية ، ومن أمثلتها ترعة الإسماعلية في الدلتا والإبراهيمية في الوجه القبلي .
- تتميز البيئة الفيضية بخصوبة أراضيها لأنها تتكون من ال
- تزيد مساحة الأراضي الزراعية بالدلتا عن % مساحة مصر ، وتبلغ مساحة الأراضي الزراعية بالوادي %
- من مناطق الدلتا التي لا توجد بها زراعة الأطراف الشمالية .
- أكبر نسبة من عدد سكان البيئة الزراعية بمصر ت
- من الخصائص التعليمية للبيئة الزراعية زيادة نسبة الأمية حيث تصل إلى %
- من المشكلات الناتجة عن الاستخدام السيء للموارد الطبيعية في البيئة الزراعية تناقص الأراضي الزراعية والصرف

- يظهر السطح في منخفض الفيوم على _____ .
- تتصف بيئات مصر بأنها _____
- تقوم الزراعة المروية على مياه نهر النيل في الوادي والدلتا ومياه الأبار والعيون في الواحات .
- تمدنا البيئة الساحلية بالثروة السمكية .
- تنوع البيئات المصرية أدى إلى تنوع الموارد الطبيعية .
- تقوم الزراعة في الواحات المصرية على المياه الجوفية .
- تتركز البيئة الزراعية بشكل أساسي في الوادي والدلتا ومنخفض الفيوم .
- تبلغ مساحة الأراضي الزراعية بالدلتا % جملة مساحة الأراضي الزراعية .
- زراعية بالوادي % مساحة الأراضي الزراعية بمصر .
- يقع منخفض الفيوم .
- يتصل منخفض الفيوم بالنيل عن طريق بحر يوسف عبر فتحة الإلاهون .
- من اهم الترع في الدلتا الإسماعلية وترعة النوبارية .
- من اهم ترع الوادي رعة الإبراهيمية .
- من اهم قناطر الوجه البحري القناطر الخيرية .
- من المحافظات الحضرية القاهرة والأسكندرية .
- من اهم المحاصيل المستخدمة في صناعة _____ .

السؤال الثاني : ما المقصود بالمفاهيم التالية :

- ية : هي الزراعة التي تعتمد على نهر النيل أو المياه الجوفية
- الزراعة المطرية : هي الزراعة التي تقوم على مياه الأمطار الشتوية .
- البيئة الزراعية : هي البيئة التي يتوافر بها مقومات قيام الزراعة
- قناة مائية لتوصيل المياه للأراضي الزراعية .
- قناة مائية لرفع المياه للأراضي الزراعية .
- حاجز مائي أنشئ بغرض تخزين المياه وتوليد الكهرباء .
- تجريف التربة : إزالة الطبقة السطحية الخصبة من التربة الزراعية واستخدامها في صناعة الطوب الأحمر .
- الأمية :

معالم من جغرافيا مصر وتاريخ مصر الحديث

- الهجرة :

السؤال الثالث : بم تفسر :

- تنوع البيئات المصرية .

- اتساع مساحة مصر وتبلغ مليون كيلومتر مربع .

- تنوع مظاهر السطح .

- الموارد الطبيعية .

- تنوع الموارد البشرية .

- تداخل البيئات المصرية .

- بسبب عدم وجود حدود تفصل بين البيئات .

- تكامل البيئات المصرية .

- بسبب ان كل بيئة لها البيئة الأخرى بما تحتاجه من منتجات التي ليست موجودة بها .

- قيام

- تقوم الزراعة في الواحات اعتمادا على مياه الأبار والعيون

- قيام الزراعة في الساحل الشمالى .

- تقوم الزراعة في الساحل الشمالى اعتمادا على مياه الأمطار الشتوية

- يعتبر منخفض الفيوم بيئة زراعية رغم وقوعه في الصحراء الغربية .

- لانه يتصل بنهر النيل عن طريق بحر يوسف عبر فتحة اللاهون .

- استخدام السواقي لرى الأراضى فى الفيوم .

- لان الأرض فى الفيوم تبدو على شكل مدرجات فتحتاج للسواقي لرفع المياه للأرض الزراعية .

- يختلف شكل أراضى الفيوم عن الوادى والدلتا .

- لان أراضى الفيوم على شكل مدرجات ، بينما الأرض فى الوادى والدلتا مستوية مما تسهل قيام عملة

- أهمية الترع .

- تقوم التربة بتوصيل المياه للأراضى الزراعية .

- أهمية القناطر .

- تقوم القناطر برفع المياه للأراضى الزراعية المرتفعة .

- أهمية السد العالى لمصر .

- توليد الكهرباء . - حماية مصر من خطر الفيضانات .

- تخزين المياه .

- أهمية مشاريع الصرف .

- لتصريف المياه الزائدة عن الزراعة .

-

- لانها تربة سميكة سوداء اللون خصبة تزداد بها نسبة الصلصال .

- خطورة تجريف التربة على الزراعة .

- لانه يؤدى إلى تدهور الأراضى الزراعية .

- يقل عدد سكان البيئة الزراعية كلما إتجهنا نحو الصحراء .

- حيث تقل وجود التربة لأقتراب الرمال منها .

معالم من جغرافيا مصر وتاريخ مصر الحديث

- يتركز عدد كبير من سكان البيئة الزراعية بالدلتا .
- لوفرة موارد المياه والتربة الخصبة لأنها تضم % من الأراضي الزراعية .
- لطبيعي والحيوانات البرية في البيئة الزراعية .
- بسبب كثافة النشاط الزراعي الذي يمارسه الإنسان وهجر الحيوانات للصحراء .
- هجرة السكان من الريف للمدن .
- إنتشار الأمراض في بعض مناطق البيئة الزراعية .
- استخدام المياه الملوثة ، وتربية الدواجن داخل المنازل وفوق الأسطح .
- تنوع الأنشطة الاقتصادية في البيئة الزراعية .
- بسبب تنوع الموارد الطبيعية
- عمل معظم سكان البيئة الزراعية بالزراعة .
- لوفرة موارد المياه والتربة الزراعية الخصبة ووسائل النقل .
- شهرة الفيوم في مجال السياحة .
- حيث تضم بعض المعالم السياحية مثل عين السلين والسواقي .
- تناقص مساحة الأراضي الزراعية .
- بسبب البناء عليها ، وتجريف التربة لصناعة الطوب الأحمر .
- تلوث التربة الزراعية .
- بسبب الإسراف في استخدام المبيدات الحشرية والأسمدة الكيماوية
- تعاني البيئة الزراعية من مشاكل الصرف الزراعي .

السؤال الرابع : ما النتائج المترتبة على :

- تنوع البيئات المصرية .
- تنوع البيئات المصرية .
- تنوع الثروات الطبيعية وتنوع الإنتاج الاقتصادي .
- وجود المياه الجوفية في الواحا
- قيام الزراعة في الواحات .
- سقوط الأمطار الشتوية على الساحل الشمالي .
- قيام الزراعة بالساحل الشمالي .
- بحر يوسف بالنسبة للفيوم .
- توصيل المياه للفيوم .
- أراضي الفيوم على هيئة مدرجات .
- استخدام السواقي لرفع المياه للأراضي الزراعية المرتفعة .
- حماية مصر من خطر الفيضان - توليد الكهرباء - تخزين المياه
- تجريف التربة .
- قلة مساحة الأراضي الزراعية -

معالم من جغرافيا مصر وتاريخ مصر الحديث

قلة النبات الطبيعي

- هجرة سكان الريف للمدن .

- زيادة عدد سكان المدن .

- ظهور العشوائيات والمساكن العشوائية .

- تناقص نسبة العاملين بالنشاط الزراعى .

- زيادة نسبة العاملين بالمجال الصناعى .

- تنوع الموارد الطبيعية فى البيئة الزراعية .

تنوع الأنشطة الاقتصادية .

- التوسع العمرانى على الأراضى الزراعية .

زراعية .

-

تملح الأراضى الزراعية

- الإسراف فى استخدام المبيدات والأسمدة الكيماوية .

تلوث التربة الزراعية .

-

أدى ذلك إلى هجرة سكان النوبة من أراضيهم .

السؤال الخامس : أكتب ما تشير إليه كل عبارة مما يلى :

- المكان الذى نعيش فيه مع مخلوقات أخرى وتتوافر به مقومات الحياة .

- مصدر مياه الري والزراعة فى الواحات .

- منطقة زراعية فيضية على شكل مثلث قاعدة على البحر المتوسط .

- الفتحة الطبيعية التى يدخل منها بحر يوسف إلى الفيوم .

- البيئة التى نشأت فى السهول الزراعية .

- أقرب المنخفضات الصحراوية لوادى النيل ويقع شمال غرب الوادى .

- السهل يتكون من التربة الطينية التى يأتى بها نهر النيل من منابعه

- إزالة الطبقة السطحية الخصبة من التربة لصناعة طوب .

- قناة يتم حفرها عند منسوب أقل من منسوب الترعرع لصرف الماء الزائد عن الزراعة .

- النبات الذى ينمو تلقائياً دون تدخل .

- الحيوان الذى لم يستأنسه الإنسان مثل الذئب .

-

-

- المحافظات التى بها فرص عمل وتوافر الخدمات .

- المحافظات التى بها بطالة وقلة الدخل وقلة الخدمات .

-

-

-

- بحيرة سياحية هامة فى منخفض الفيوم .

(بحيرة قارون)

(البيئة)

(المياه الجوفية)

()

(اللاهون)

(البيئة الزراعية الفيضية)

(منخفض الفيوم)

(السهل الفيضى)

(تجريف التربة)

()

(النبات الطبيعى)

(الحيوان البرى)

(الأمية)

(الهجرة الداخلية)

()

(الهجرة الخارجية)

(الهجرة)

()

معالم من جغرافيا مصر وتاريخ مصر الحديث



الوحدة الثالثة (الحكم العثماني لمصر)

السؤال الأول: أكمل العبارات التالية :

- سيطرت دولة المماليك على طرق التجارة بين أوروبا والشرق - تحالفت الدولة العثمانية مع دولة المماليك عند ظهور _____ .
- هزمت القوات المملوكية أمام القوات العثمانية في موقعة مرج دابق والريدانية .
- تمثلت مظاهر الحكم العثماني لمصر في هيئات الحكم المحلية - النظام الإداري والقضاء والتشريع .
- العثمانيون هم قبائل جاءت من آسيا الوسطى .
- تنسب الدولة العثمانية إلى مؤسسها _____ .
- نشأت الدولة العثمانية في أواخر _____ الميلادي .
- أستطاع محمد الثاني فتح القسطنطينية عام _____ .
- تولى المماليك حكم مصر عقب سقوط الدولة الأيوبية .
- عرفت الضرائب التي كان يحصل عليها المماليك من مرور القوافل التجارية بأسم _____ .
- البرتغاليون طريق رأس الرجاء _____ .
- أستطاع السلطان سليم الأول هزيمة المماليك في الشام في _____ .
- هو نائب السلطان ومقره القلعة .
- سليم الأول باب زويلة .
- بين عام إلى ثلاث أعوام .
- كانت مهمة الحامية العثمانية التي تركها سليم الأول في مصر حماية البلاد .
- أبقى العثمانيون على المماليك لإدارة شؤون المماليك لخبرتهم الإدارية .
- عانى الفلاح المصري زمن العثمانيون من الضرائب _____ .
- لضمان تحصيل الضرائب في مواعيدها طبق العثمانيون _____ .
- نظمت الدولة العثمانية طرق جباية الأموال عن طريق الدواوين .
- تركزت السلطة القضائية في مصر العثمانية في يد قاضي القضاة .
- كانت الفجوة في مصر واسعة بين _____ .
- الحاكمة في مصر العثمانية من الوالي والديوان والحامية العثمانية .
- أقتصرت التعليم في مصر العثمانية على الفقة والحديث .
- اتخذت الدولة العثمانية مدينة القسطنطينية عاصمة لها منذ عام _____ .

السؤال الثاني : ما المقصود بالمفاهيم التالية :

١- الدولة العثمانية	دولة تنسب إلى مؤسسها الأمير عثمان بن أرطغرل ونشأت في أواخر القرن الثالث عشر الميلادي وامتدت في الأناضول والبلقان .
٢- المماليك	مجموعة من الغلمان كان يتم جلبهم بواسطة التجار وتحت تربيتهم السلاطين والأمراء ويلحقون بمدارس تسمى الطبايق للتدريب على الفروسيات .
٣- المكوس	الضرائب التي كان يحصل عليها المماليك من مرور القوافل التجارية عبر أراضيهم .
٤- طرق تجارية بحرية	يقصد بها مرور التجارة عبر البحار والمحيطات والأنهار مثل طريق رأس الرجاء الصالح قديما ، وقناة السويس حديثا .
٥- طريق رأس الرجاء الصالح	طريق بحري يدور حول قارة إفريقيا من جهتي الجنوب والغرب ، اكتشفه البرتغاليون في القرن الخامس عشر الميلادي .
٦- الحامية العثمانية	فرق عسكرية كانت مهمتها حفظ الأمن والأمان داخل البلاد .
٧- فائض الالتزام	هو الفرق بين ما يدفعه الملتزم للحكومة وما يقوم بجباية من الفلاحين .
٨- قاضي القضاة	هو القاضي المعين من قبل الدولة العثمانية ليتصرف في الأحكام الشرعية وفقا للمذاهب الأربعة .

معالم من جغرافيا مصر وتاريخ مصر الحديث

١- محمد الثانى	قام بفتح القسطنطينية عام	وإتخذها عاصمة للدولة العثمانية .
٢- عثمان بن أرطغرل	مؤسس الدولة العثمانية .	
٣- سليم الأول	انتصر على المماليك فى مصر والشام .	
٤- قنصوة الغورى	قائد المماليك فى الشام الذى هزم فى موقعة مرج دابق	
٥- طومان باى	قائد المماليك فى مصر الى هزم على يد سليم الأول فى موقعة الريدانية وتم شنقة على باب زويلة .	
٩- السناجق	مجموعة من العسكرين مهمتهم إدارة بعض الأقاليم الهامة.	
١٠- الديوان	كان يتكون من كبار ضباط الحامية العثمانية والعلماء والأعيان ولة سلط	

السؤال الثالث : الى من تنسب الأعمال الآتية :

١- ١٤٥١ م	تولى محمد الثانى حكم الدولة العثمانية
٢- ١٤٥٣ م	فتح محمد الثانى القسطنطينية
٣- ١٤٩٨ م	أكتشف البرتغاليون طريق رأس الرجاء الصالح
٤- ١٥٠٩	معركة ديو البحرية بين المماليك والبرتغاليون والتي انتهت بهزيمة المماليك .
٥- ١٥١٦ م	معركة مرج دابق والتي انتهت بهزيمة المماليك
٦- ١٥١٧	موقعة الريدانية وهزيمة المماليك بها وتحول مصر إلى ولاية عثمانية .
١٥١٢ م	تولى سليم الأول قيادة الدولة العثمانية .

السؤال السادس : أذكر الحدث التاريخى :

السؤال السابع : بم تفسر :

١- ازدهار الدولة المملوكية فى مصر والشام .	- موقعها الجغرافى المسيطر على طرق التجارة بين أوربا والشرق . - مواردها من الضرائب والمكوس والحاصلات الزراعية والحيوانية .
٢- الضعف الاقتصادى لدولة المماليك .	بسبب أكتشاف البرتغاليون طريق رأس الرجاء الصالح وتحول طريق التجارة .
٣- توتر العلاقات بين الدولة العثمانية والدولة المملوكية .	- حماية المماليك لبعض الأمراء العثمانيون الفارين . - أستيلاء العثمانيون على بعض المناطق التابعة للمماليك . - رغبة الدولة العثمانية فى السيطرة على العالم الإسلامى . - رغبة السلطان سليم الأول فى تحقيق السيادة فى المنطقة .
٤- هزيمة المماليك فى معركة مرج دابق عام ١٥١٦	بسبب ضعف أسلحتهم وخيانة بعض أمراء المماليك .
٥- هزيمة المماليك أمام العثمانيون	- خيانة بعض أمراء المماليك . - التدهور الاقتصادى والعسكرى للمماليك . - أسلحة المماليك المتخلفة . - تقدم أسلحة العثمانيون .
٦- توسع العثمانيون نحو الشرق العربى	بسبب رغبة الدولة العثمانية فى توسيع حدودها والسيطرة على الطرق البرية والبحرية الهامة . - رغبة الدولة العثمانية فى السيطرة على العالم الإسلامى .
٧- أهمية دور الحامية العثمانية	- - - حضور إجتماعات ديوان القاهرة .
٨- إبقاء العثمانيون على المماليك فى إدارة شئون الاقاليم	لخبرتهم فى إدارة شئون البلاد .

معالم من جغرافيا مصر وتاريخ مصر الحديث

٩- تعين العثمانيون لقاضى القضاة	لتصرف فى الأحكام الشرعية وفقا للمذاهب الأربعة .
١٠- تدهور أحوال الصناعة فى مصر العثمانية .	بسبب إهمال الصناعة وفرض الضرائب الباهظة على الصناع .
١١- تدهور أحوال التجارة فى مصر العثمانية .	بسبب تدهور الزراعة والصناعة
١٢- أهمية دور العلماء ورجال الدين فى زمن العثمانيين	كانوا يدافعون عن حقوق الشعب لدى الحكام
١٣- إنتشار الجهل فى مصر زمن العثمانيين .	بسبب إهمال العثمانيون للتعليم فى مصر .
١٤- تدهور الحياة الفنية فى العصر العثمانى	سبب تأخر الحرف والصناعات وتدهور التعليم ، وسفر الصناع المهرة للأسنانة . الاستيلاء على التحف الثمينة والمخطوطات النادرة .
١٥- أهمية وظيفة الديوان .	
١٦- أ تفى دور علماء الأزهر فى القضاء أثناء الحكم العثمانى لمصر .	بسبب تعين قاضى القضاة .

السؤال الثامن : ما النتائج المترتبة على :

١- فتح محمد الثانى القسطنطينية .	إتخاذها عاصمة للدولة العثمانية .
٢- سيطرة دولة المماليك على طرق التجارة بين الشرق والغرب .	التقدم الأقتصادى لدولة المماليك .
٣- هزيمة المماليك أمام البرتغاليون فى موقعة ديو البحرية .	ضعف الدولة المملوكية عسكريا .
٤- اكتشاف البرتغاليون طريق رأس الرجاء الصالح .	تدهور الأحوال الأقتصادية للمماليك .
٥- حماية المماليك لبعض الأمراء العثمانيين الفارين	توتر العلاقات بين الدولتين العثمانية والمملوكية
٦- موقعة مرج دابق ١٥١٦م	- هزيمة المماليك - دخول العثمانيون بلاد الشام . - أصبحت الشام ولاية عثمانية - مقتل قائد المماليك القائد قنصورة الغورى .
٧- معركة الريدانية ١٥١٧م.	- هزيمة المماليك - مقتل السلطان طومان باى قائد المماليك وتعلية على باب زويلة .
٨- اعتماد المماليك على الفروسية فى قتالهم مع العثمانيين .	هزيمة المماليك أمام العثمانيين بسبب تقدم أسلحة العثمانيين عن المماليك .
٩- تطبيق العثمانيون نظام الألتزام .	تدهور الزراعة .

السؤال التاسع : قارن بين :

- موقعة الريدانية ومرج دابق

وجهة	موقعة الريدانية ١٥١٧	موقعة مرج دابق
------	----------------------	----------------

معالم من جغرافيا مصر وتاريخ مصر الحديث

المقارنة		
	بين العثمانيون والمماليك في مصر .	بين العثمانيون والمماليك .
	- هزيمة المماليك .	- هزيمة المماليك .
	- شنق طومان باى على باب زويلة .	- هزيمة المماليك .
	- أصبحت مصر ولاية عثمانية .	- دخول العثمانيون بلاد الشام .
	- مقتل القائد المماليك قنصوة الغورى .	- إعدام طومان باى على باب زويلة .

أحوال الزراعة في العصر العثماني	أحوال الصناعة في العصر العثماني
تدهورت الزراعة بسبب إتلاف الأراضي الزراعية وتطبيق نظام الإقطاع .	تدهورت الصناعة بسبب فرض الضرائب الباهظة على الصناع ، وقيام سليم الأول بترحيل أمهر الصناع للأستانة .

- الوالى والحامية العثمانية من حيث التعرف ومهما كل منهما .

وجه المقارنة	الوالى	الحامية العثمانية
التعريف	هو نائب السلطان ومقره القلعة	هى الحامية التى تركها السلطان سليم الأول فى مصر وتقوم بحماية البلاد .
وظائفهما	- تنفيذ قرارات السلطان العثمانى . - الزراعة . - دعوة الديوان للإنعقاد .	- مراقبة وحضور إجتماعات ديوان القاهرة . - .

الملتزم	قاضى القضاة
شخص يدفع للحكومة قيمة الضرائب المفروضة على كل إقليم ثم ينوب عن الحكومة فى جبايتها .	هو القاضى المعين من قبل الدولة العثمانية لمدة عام واحد ليتولى السلطة القضائية فى مصر .

٥- الطبقة الحاكمة والطبقة المحكومة من حيث المميزات ، والأطراف .

وجه المقارنة	الطبقة الحاكمة	الطبقة المحكومة
المميزات	عاشت فى رفاهية وتمتعت بكل الامتيازات والحقوق .	كانت هذه الطبقة تعمل وتكدح لمصلحة السلطة العثمانية فهى تعمل لتحقيق الرفاهية إليهم .
	- أعضاء الديوان	الرعية (الشعب)

معالم من جغرافيا مصر وتاريخ مصر الحديث

السؤال السادس : برهن تاريخيا على صحة العبارات التالية :

- تمتعت دولة المماليك في مصر والشام بالثراء الاقتصادي .

عت دولة المماليك في مصر والشام بالثراء الاقتصادي عن طريق موقعها الجغرافي المسيطر على طرق التجارة بين الشرق والغرب والذي سمح لها بجباية المكوس على القوافل المارة بالأراضي المصرية .
- بفضل مواردها التي تمثلت في المنتجات الزراعية والحيوانية

- بدأت العلاقات بين الدولتين المملوكية والعثمانية بداية طيبة
بدليل :

- احتفال المماليك بهيمنة العثمانيين على القسطنطينية عام .
- الوقوف بجانب العثمانيين ضد البرتغاليين بعد اكتشافهم طريق رأس الرجاء الصالح .
- مساعدة العثمانيون للمماليك في مواجهة البرتغال في موقعة ديو البحرية

- أنقلبت العلاقات الطيبة بين الدولتين العثمانية والمملوكية إلى صدام مسلح .
بدليل :

- رغبة الدولة العثمانية في السيطرة على العالم الإسلامي والسيادة على المنطقة الحيوية .
- حماية المماليك لبعض أمراء العثمانيين الفارين
- أستياء العثمانيون على بعض المناطق التابعة للمماليك على الحدود الشمالية
- لطان سليم الأول في توسيع حدود دولته وتحقيق السيادة في المنطقة

- كان نظام الحكم العثماني لمصر أستبداديا .
لأنه كان يعتمد على عنصر القوة لضمان أستقرار أستبدادهم لمصر .

- سيطرت الدولة العثمانية على القضاء والتشريع في مصر
سيطرت الدولة العثمانية على القضاء والتشريع حيث قام بتعيين قاضي القضاة العثماني ليتصرف في الأحكام الشرعية وفقا للمذاهب الأربعة مما أدى إلى انسحاب السلطة من يد علماء الأزهر .

- تدهورت أحوال مصر الاقتصادية في العصر العثماني .
- كانت الحياة الاجتماعية في العصر العثماني قائمة على النظام الطبقي .
- تسبب السلطان سليم الأول في تدهور الحياة الفنية في مصر .

تسبب السلطان سليم الأول في تدهور الحياة الفنية في مصر حيث قام بترحيل امهر الصناع إلى العاصمة الأستانة للأستياء على اغلب التحف الثمينة والمخطوطات النادرة .

معالم من جغرافيا مصر وتاريخ مصر الحديث



الوحدة الثانية (البيئة الصناعية)

السؤال الأول : أكمل العبارات التالية :

	- من المواد الخام اللازمة للصناعة
	- يجب ان تكون المصانع قريبة من مصادر الموادو.....
تلوث الهواء وتلوث الماء	- من مشكلات التلوث البيئي الناتجة عن الصناعةو.....
إنخفاض الأمية وارتفاع مستوى المعيشة	- من خصائص سكان البيئة الصناعيةو.....
بدائية – بسيطة – حديثة	- تصنف الصناعات حسب درجة تطورها إلىو.....
الغزل والنسيج	- من أنواع الصناعات صناعة وتقوم عليها الملابس الجاهزة والمفروشات .
	- البيئة الصناعية هي المناطق التي تقوم بها
	- الصناعة هي تحويل إلى
	- تتركز صناعة الغزل والنسيج في
	- من المواد الخام الحيوانية التي تدخل في الصناعةو.....
البتترول والغاز الطبيعي	- من مصادر الطاقة الهامة التي تدخل في الصناعة الفحم و.....و.....
المحلية	- طلب السكان المحليين للمنتجات هو السوق
	- يعمل بالصناعة في مصر حوالىمليون نسمة .
	- توفر البيئة الصناعية للبيئة الزراعيةو.....
التعليم – الأمية	- من خصائص سكان البيئة الصناعية التعليمية ارتفاع نسبةوإنخفا
	- من العادات الإيجابية لسكان البيئة الصناعية في العمل .
اليدوى	- من الصناعات الحرفيةو.....
الحديثة	- صناعة الآلات والسيارات من الصناعات
الكيمائية	- اعة الأسمدة والأدوية من الصناعات
	- من الصناعات الملوثة للبيئة صناعةو.....
تلوث المياه	- صرف مخلفات المصانع في الأنهار يؤدي إلى ..
غير منتظم	- الاستنزاف هو استهلاك الموارد الطبيعية بشكل ...
-	- كلات البيئة الصناعية ارتفاع أسعارو.....
-	- ترشيد الاستهلاك هو تقليل والاستخدام الأمثل ل.....
البيئة	- إنشأت الدولة وزارة ... لإصدار قوانين لحماية البيئة .
	- لمنع انبعاث الإبخرة الضارة يجب تركيب

معالم من جغرافيا مصر وتاريخ مصر الحديث

السؤال الثاني : ما المقصود بالمفاهيم التالية :

- البيئة الصناعية	هى المناطق التى تقوم فيها الصناعة ويعمل معظم سكانها بالصناعة .
- السوق المحلية	يقصد بها طلب السكان المحليين للمنتجات المحلية .
- السوق الخارجية	يقصد بها طلبات الدول الأخرى للمنتجات الصناعية المصرية مثل الدول العربية والأجنبية .
- الصناعة اليدوية	هى الصناعات التى تعتمد على العمل اليدوى .
- صناعات	صناعة يتم فيها تحويل المواد الخام إلى صورة أخرى .
-	هى الصناعات التى تعتمد على الآلات الحديثة ويقل فيها الاعتماد على العمالة البشرية .
-	أقسام صغيرة لإنشاء المصانع وكل مصنع يقوم بإحدى الصناعات .
- الاستنزاف	استهلاك واستغلال الموارد الطبيعية بشكل غير منتظم مما يؤدي إلى ضياعها أو إنقراضها .

السؤال الثالث : بم تفسر :

- أهمية بناء المصانع بعيدا عن المناطق السكنية .	لتقليل نسبة التلوث .
- أهمية بناء المصانع قريبا من	لتوفير الوقت والجهد والمال
-	لوجود المناخ المعتدل الملائم لقيام الصناعة
- التلوث ليس له حدود جغرافية .	لأنه ينتشر بسرعة سواء عن طريق الهواء أو الماء أو التربة الزراعية
- أهمية رأس المال لقيام الصناعة .	-
- أهمية النقل والمواصلات لقيام	-
- أهمية الصناعة لمصر .	- توفر فرص عمل للمواطنين . - توفر المنتجات الصناعية . - زيادة الدخل القومي
- هناك تكامل بين البيئة الزراعية والصناعية .	توفر البيئة الزراعية للبيئة الصناعية المواد الخام والأيدى العاملة ، فى حين ان توفر البيئة الصناعية للبيئة الزراعية المنتجات الصناعية والآلات والاسمدة .
- هناك عادات سلبية وأخرى إيجابية فى البيئة الصناعية	لأنه توجد عادات إيجابية مثل التعاون واحترام مواعيد العمل ، وفى نفس الوقت يوجد عادات سلبية مثل التدخين داخل المصنع وعدم التخلص من المخلفات الصناعية لأنها توفر فرص عمل للشباب .
- تلوث الهواء فى المناطق الصناعية	-
- تلوث الماء فى البيئة الصناعية	بسبب إلقاء مخلفات المصانع فى المياه
- إنتشار المناطق العشوائية على أطراف المدن الصناعية .	بسبب الهجرة من الريف للمدن

معالم من جغرافيا مصر وتاريخ مصر الحديث

- تواجـة الصنـاعة العـديد من	- : - - التهرب
- أهمـية الإكـثار من المسـاحات الخـضراء فـى البـيئة الصـناعية .	لمنع تلوث الهواء .
- أهمـية ترـكيب مرشـحات وفلاتر	لمنع الأبخرة والغازات الضارة التى تلوث الهواء .
- إنشـاء الدـولة وزارها البـيئة	لحماية البـيئة من الأخطار .
- أهـتمام الدـولة بالتـعليم الفـنى	لتخريج عمالة فنية مدربة .
- أهمـية إنـفتاح مـصر عـلى العـالم	تشجيع العرب والأجانب على الأستثمار فى مجال الصناعة .

السؤال الرابع : ما النتائج المترتبة على :

-	- قيام الصناعات المختلفة .
-	- قيام الصناعات الحديثة
- زيادة الإنتاج الصناعى	التصدير للخارج والحصول على العملات الصعبة مما يزيد الدخل القومى .
- تنوع الأنشطة الاقتصادية فى البيئة الصناعية	توفير فرص عمل للشباب وتقليل نسبة البطالة
- تطوير الدولة للصناعة .	
- وجود مصانع الأسمنت والحديد والصلب	تؤدى إلى تلوث البيئة وإنتشار الأمراض الصدرية
- أستهلاك الموارد الطبيعية بشكل غير منظم	
- إلقاء مخلفات المصانع فى مياه النيل.	تلوث المياه
- زيادة المساحات الخضراء فى البيئة الصناعية .	تقليل نسبة التلوث



الوحدة الرابعة : الحملة الفرنسية على مصر

السؤال الأول	أختر الإجابة الصحيحة مما بين القوسين :
--------------	--

- قاد الحملة الفرنسية على مصر
- (نابليون بونابرت - مينو - كليبر -)
- رنسية ميناء الأسكندرية فى يوليو عام م .
- (..... -)
- (أبى قير البرية - أبى قير البحرية -)
- ولد محمد على فى مدينة قوله ش)
- (ليونان - إيطاليا -)

معالم من جغرافيا مصر وتاريخ مصر الحديث

السؤال الثاني : أكمل العبارات التالية :

	- جاءت الحملة الفرنسية على مصر عام م .
	- أبحرت الحملة الفرنسية من ميناء الفرنسي في مايو
محمد كريم	- أومأه أسكندرية الحملة بقيادة
تاديب المماليك	- جاء المصلين إلى مصر بحجة
الرحمانية	- سلكت الحملة الفرنسية في طريقها إلى القاهرة طريقا برياً عبر صحراء
شبراخيت	- كانت الموقعة أول مواجهة بين الفرنسيين والمماليك
	- سميت معركة بأسم معركة الأهرام .
أبي قير البحرية	- أستطاع الأسطول الإنجليزي تدمير الأسطول الفرنسي في معركة
القاهرة	- أنشأ نابليون هوان من العلماء والمشايخ
الأزهر	- إتخذت ثورة القاهرة الأولى من مركزاً لها.
كليبر	- تولى قيادة الحملة الفرنسية بعد سفر نابليون لفرنسا سرا .
مينو	- تولى قيادة الحملة بعد كليبر .
رشيد	- تزوج مينو من فتاة مصرية من مينة
	- أعد علماء الحملة كتاباً عن مصر أطلق عليه أسم
العثمانيون والمماليك والإنجليز	- بعد رحيل الفرنسيين عن مصر تصارع على الحكم و ز
الهند	- أرادت إنجلترا السيطرة على مصر لتأمين مواصلتها إلى ...
	- خرجت الحملة الفرنسية من مصر عام
	- أستطاعت الزعامة الشعبية بقيادة تعيين محمد علي والياً على مصر .
-اليونان-	-
- الفرنسيين	- جاء محمد علي إلى مصر مع الجيش الذي جاء لطرد
فريزر	-
رشيد	- تصدى أهل للحملة الإنجليزية حتى أجبروها على الانسحاب
	- قام محمد علي بنفى إلى دمياط
	- تخلص محمد علي من المماليك في عام

السؤال الثاني : برهن تاريخياً (دلل) على صحة العبارات التالية :

- لم يعلم بأمر الحملة الفرنسية على مصر إلا قائدة نابليون بونابرت .
حيث أخفت إنجلترا نبأ حملتها على مصر لعدم تسرب أخبار الحملة لإنجلترا حتى لا تتعرض لمهاجمة الأسطول الإنجليزي الذي كان يراقب الملاحة في البحر المتوسط .

- اختلفت الأسباب الحقيقية للحملة الفرنسية عن أسبابها المعلنة

[١] الأسباب الظاهرية : [المعلنة]

- تأديب المماليك وتحطيم قوتهم ونفوذهم .
- حماية التجار الفرنسيين والرعايا المصريين من اضطهاد وظلم المماليك .
- إدعاء الحكومة الفرنسية إنشاء حكومة وطنية يكون الحكم فيها للمصريين .

[٢] الأسباب الحقيقية [غير المعلنة] .

- تهديد مصالح إنجلترا في الشرق بقطع الطريق بين إنجلترا ومستعمراتها في الهند .
- إقامة مستعمرة فرنسية في الشرق يكون مركزها مصر .
- تعويض فرنسا عن أمراطوريتها التي فقدتها في حروبها مع إنجلترا

معالم من جغرافيا مصر وتاريخ مصر الحديث

- كانت لموقعة أبى قير البحرية أثار خطيرة بالنسبة للفرنسيين

حيث نتج عنها :

- تحطيم الأسطول الفرنسى ومقتل قائدة .
- انقطاع الصلة بين الجيش الفرنسى الموجود فى مصر وبين
- اعتماد الفرنسيين فى سد احتياجاتهم على موارد مصر .
- ضعف الروح المعنوية للجند الفرنسيين .
- محاصرة الأنجليز للشواطئ المصرية .
- تفجير نابليون فى الإتجاه للشام

- كان نابليون بونابرت عنيفا فى معاملة الثوار فى ثورة القاهرة الأولى .

- أستخدم نابليون الشدة والعنف فى معاملة الثوار .
- القاء القبض على بعض زعماء الثورة والحكم على ستة منهم بالأعدام وكانو من مشايخ الأزهر باستثناء الشيخ السادات .
- دخول نابليون وحفوده الجامع الأزهر بخيولهم وهذا كان إساءة لحرمة الجامع الأزهر .

- لم تحقق حملة نابليون على بلاد الشام أهدافها .

بسبب فشل الحملة فى فتح أسوار عكا لقوة أسوارها وبسالة أهلها فى الدفاع عنها وانتشار مرض الطاعون بين الجنود الفرنسيين .

- ر محمد على للزعامة الشعبية التى مهدت له حكم مصر .
- حيث قام بنفى عمرو مكرم إلى دمياط

السؤال الثالث: بم تفسر :

- إخفاء الحكومة الفرنسية أخبار حملتها على مصر .	حتى لا تتسرب أخبار حملتها إلى أنجلترا وتتعرض لهجمات الاسطول الأنجليزى .
- أصطحب نابليون أثناء حملة على مصر مجموعة من	.
- إعدام نابليون للسيد محمد كريم	حملة الفرنسية أثناء دخولها الأسكندرية .
- كانت للحملة الفرنسية أسباب معلنة	تأديب المماليك بسبب ظلم التجار الفرنسيين - إقامة حكومة وطنية يكون الحكم فيها للمصريين . العثمانية .
- مجيء الحملة الفرنسية على مصر (الاسباب الحقيقية)	لقطع الطريق بين أنجلترا ومستعمراتها فى الهند - مستعمرة فرنسية فى الشرق . بسبب استخدام المماليك الأسلحة التقليدية .
- هزيمة المماليك فى موقعة شبراخيت .	
- كانت معركة أبى قير البحرية أحد أسباب فشل الحملة الفرنسية على مصر	
- إنشاء نابليون ديوان القاهرة .	للمساعدة فى حكم القاهرة .
- قيام ثورة القاهرة الأولى .	بسبب فرض الضرائب الباهظة على المصريين - العلماء والمشايخ واستثنى منهم الشيخ السادات لمكانة عند المصريين .
- حملة نابليون على الشام	بسبب مهاجمة الجيش يصل إلى مصر
- فشل نابليون فى حملة على بلاد الشام .	بسبب قوة أسوار عكا وبسالة أهلها فى الدفاع عنها .

معالم من جغرافيا مصر وتاريخ مصر الحديث

- عقد كليبر إتفاقية العريش مع العثمانيون .	خروج الحملة الفرنسية من مصر .
- ثورة القاهرة الثانية فى مارس .	- شدة نابليون بعد ثورة القاهرة الأولى . - علم المصريين بأن العثمانيون على أبواب القاهرة .
- فشل الحملة الفرنسية على مصر عسكريا وحربيا .	لانها فشلت فى تكوين إمبراطورية فرنسية فى الشرق . ولانها فشلت فى ضرب مصالح أنجلترا فى الشرق
- حقق الحملة الفرنسية	بسبب أكتشاف رموز حجر رشيد ، وعمل كتاب وصف
- حرق المماليك السفن بعد هزيمتهم فى أمبابة .	حتى لا تقع فى ايدي الفرنسيين .
- كان العثمانيون يرون أنهم أصحاب الحق الشرعى فى	لأنهم قدموا تضحيات ومساعدات ضد سية .
- كان المماليك يرون أنهم أصحاب الحق الشرعى فى حكم	لأنهم شاركوا فى التصدى للفرنسيين .
- رغبة أنجلترا فى السيطرة على مصر عقب خروج الحملة الفرنسية	لتأمين مواصلاتها إلى الهند
-	جاء إلى مصر ضمن الجيش العثمانى الذى جاء لـ الفرنسيين من مصر
- لعبت الزعامة الشعبية دورا كبيرا فى تولية محمد على	لأنهم ضغطوا على السلطان العثمانى فى تعيين محمد على واليا على مصر
- فريزر على مصر	بسبب رغبة أنجلترا فى السيطرة على مصر .
-	.
- تخلص محمد على من المماليك	.

السؤال الرابع : ما النتائج المترتبة على :

إعدام نابليون لمحمد كريم	- مقاومة محمد كريم للحملة الفرنسية .
تقهقر المماليك إلى القاهرة بعد هزيمتهم	- موقعة شبراخيت .
فرار المماليك إلى الصعيد	- مبابية في يوليو .
هزيمة المماليك وفرارهم لسوريا .	- معركة الصالحية في أغسطس
تدمير الأسطول الفرنسي -	- موقعة أبي قير البحرية أغسطس .
أقتحام الأزهر - الكثير من المصريين - إلغاء الديوان	- ثورة القاهرة أكتوبر
هزيمة نابليون في عكا بسبب بسالة أهلها في الدفاع عنها وقوة	- حملة نابليون على الشام .
هزيمة العثمانيون	- موقعة أبي قير البرية .
قيام كليبر بتدمير حي بولاق .	- ثورة القاهرة الثانية .
عقد إتفاقية العريش	- رغبة كليبر في عدم البقاء في مصر
تولى مينو قيادة الحملة	- قتل كليبر بعد ثورة القاهرة الثانية .
فشلت فرنسا في تكوين إمبراطورية في مصر	- الحملة الفرنسية على مصر من الناحية الحربية
نبهت أنظار أوروبا خاصة إنجلترا إلى أهمية موقع مصر - أيقظت	- الحملة الفرنسية على مصر من الناحية السياسية
الوعي القومي للمصريين	

معالم من جغرافيا مصر وتاريخ مصر الحديث

الأهتمام بمشاريع الري - إنشاء مصانع النسيج - جديدة .	- الحملة الفرنسية على مصر من الناحية الاقتصادية .
تعرف الشعب المصرى على الأظمة الإدارية الحديثة	- الحملة الفرنسية على مصر من الناحية الإجتماعية .
أكتشاف رموز حجر رشيد وعمل كتاب وصف مصر	- الحملة الفرنسية على مصر من الناحية العلمية والثقافية .
تصارع الأنجليز والعثمانيون والمماليك على حكم مصر	- خروج الحملة الفرنسية من مصر .
ثورة الجنود ضدهم	- تأخير الولاة الرواتب عن الجنود المماليك .
فشل الحملة وخروجها	- حملة فريزر على مصر .
التخلص من الزعامة الشعبية بنفى عمرو مكرم لدمياط ، والتخلص من المماليك فى مذبحة القلعة	-

السؤال الخامس : ما المقصود بالمفاهيم التالية :

المصطلح	معناه
١- الحملة	تجهيز الجيش وتوجيه لأهداف حربية
٢- الاحتلال	استيلاء دولة على دولة أخرى قهرا
٣- مستعمرة	إقليم يحكمه أجنبى ويكتفى بأستغلاله أقتصاديا وعسكريا .
٤- ثورة	تغير اساسى فى الأوضاع السياسية والإجتماعية يقوم به الشعب وقد يهيب الشعب ويثور ولا يحقق التغير الجذرى .
٥- عصر	فترة زمنية تنسب إلى مصر او أى دولة او أى تطورات مثل عصر محمد على .

السؤال السادس : من هو؟

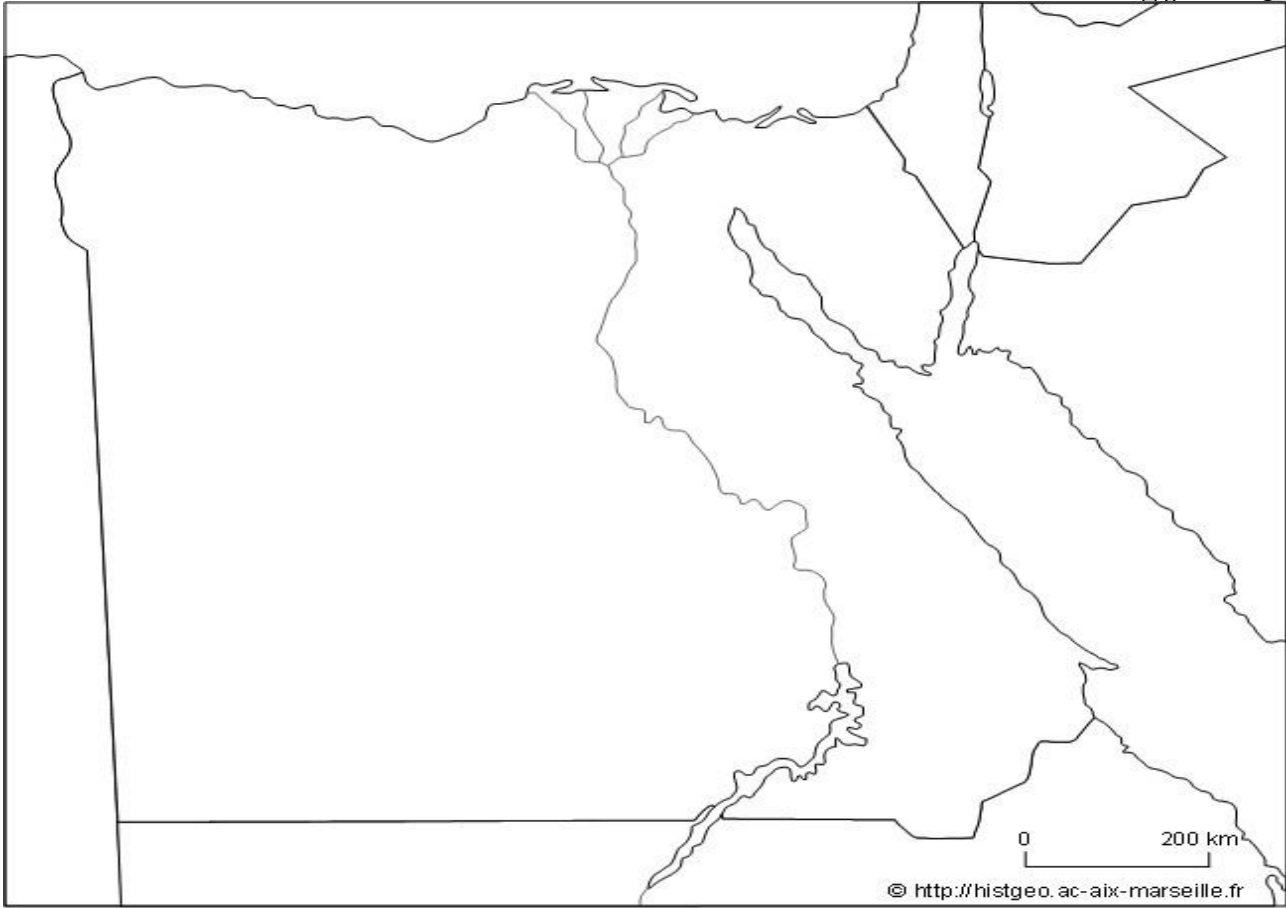
نابليون	- قائد الحملة الفرنسية على مصر
حمد كريم	- حاكم الاسكندرية الذى تصدى للحملة الفرنسية
	- قائد الأسطول الأنجليزى فى معركة ابى قير البحرية
نابليون	- أمر جنوده بدخول الأزهر بخيولهم وفرض الضرائب على المصريين
كليب	- قائد فرنسى عقد مع العثمانيون إتفاقية العريش
	- قائد وزعيم المصريين فى ثورة القاهرة الثانية
مينو	- إند فرنسى أعلن إسلامه وتزوج من مصرية
شامبليون	- عالم فرنسى أكتشف رموز حجر رشيد
	- تزعم الحركة الوطنية التى عينت محمد على واليا على مصر
	-
فريزر	- قائد الحملة الأنجليزية على مصر
	- ابن محمد على وقاد جيش مصر للحجاز

معالم من جغرافيا مصر وتاريخ مصر الحديث

أسئلة الخرائط :

١- وزع على خريطة مصر أماكن الزراعة مبينا ما يلي : (يجب عنها الطالب):

- ١- أماكن الزراعة المروية .
- أماكن الزراعة المطرية .
- مناطق الزراعة على المياه الجوفية .



٢- وزع على خريطة مصر الأماكن التي تتواجد بها الترع والسدود والقناطر . مع تحليل ذلك في جدول .

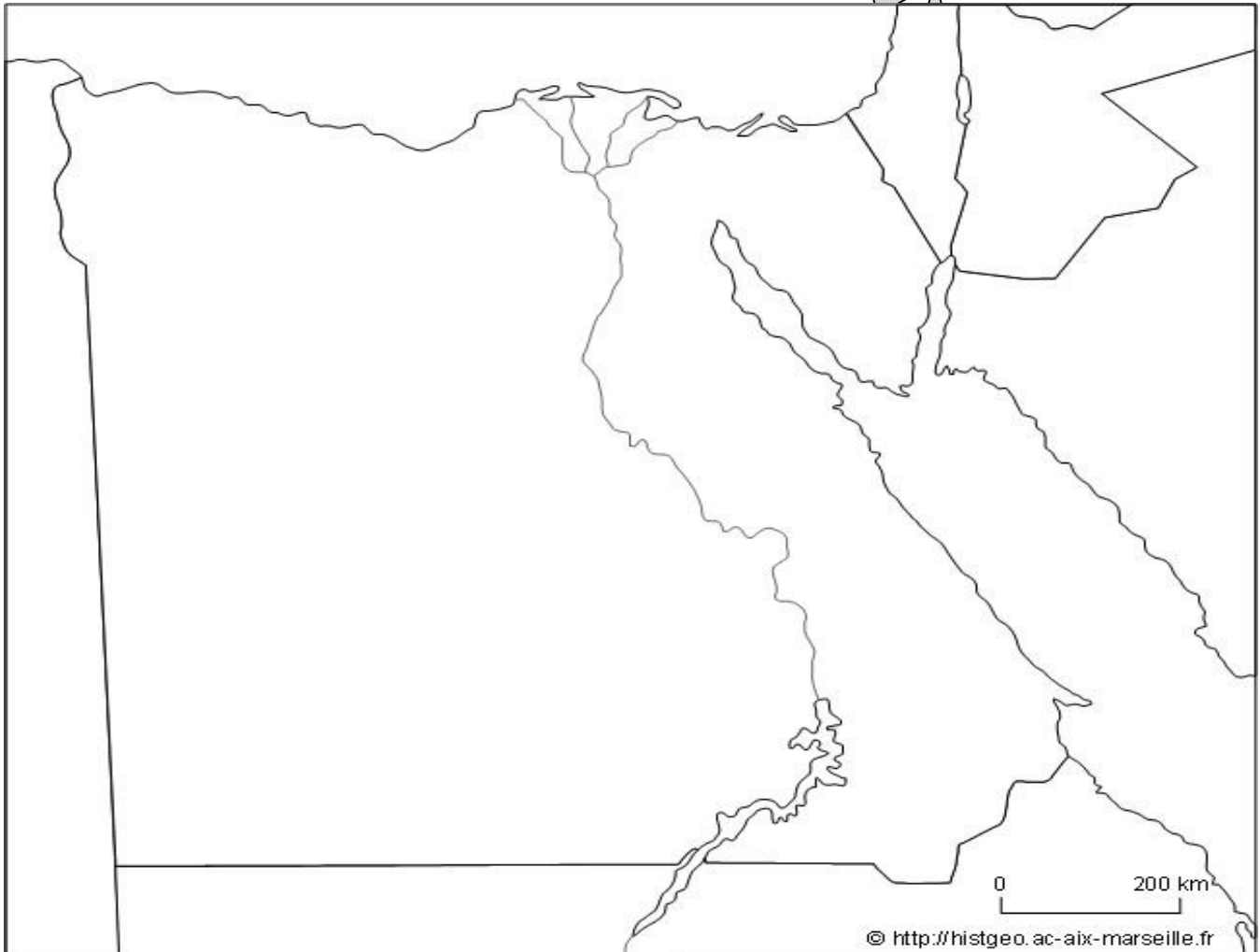


معالم من جغرافيا مصر وتاريخ مصر الحديث

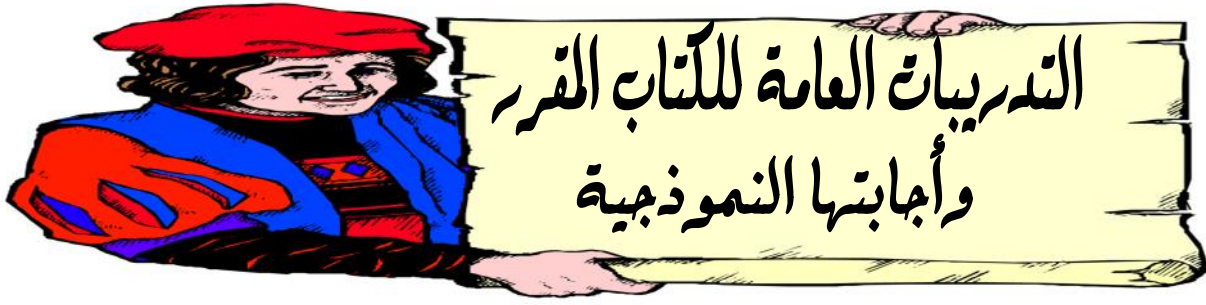
أهم الترعة في الدلتا	أهم الترعة في الوادي	أهم الترعة في منخفض الفيوم
- ترعة الإسماعيلية - ترعة النوبارية في	ترعة الإبراهيمية في غرب	ترعة بحر يوسف التي تخرج منها ترعة الإبراهيمية
أهم القناطر في الدلتا	أهم القناطر في الوادي	أهم القناطر في منخفض الفيوم
القناطر الخيرية على	قناطر اسيوط.	قناطر اللاهون

٣- وزع على خريطة مصر الطبيعية ما يلي :

- ١- أهم الجبال في الصحراء الشرقية والغربية .
- أهم الهضاب .
- أهم المنخفضات .
-
- البحيرات المالحة والعذبة
- أهم الخلجان .



معالم من جغرافيا مصر وتاريخ مصر الحديث



السؤال الأول : اكتب كلمة (صح) امام العبارة الصحيحة ، وكلمة (خطأ) امام العبارة الخاطئة مع التصويب :

()	-
	- يعد منخفض الفيوم بيئة زراعية رغم وقوعه في الصحراء الغربية .
خطأ (مستوى)	- تتميز أراضي الدلتا بوجود تضاريس مرتفعة بها .
خطأ (الصناعات الحرفية)	- تعد صناعة الفخار أحد أنواع الصناعات الحديثة .
()	- تعتبر محافظة شمال سيناء أحد محافظات وادي النيل .
	- تقل الزراعة في الأطراف الشمالية للدلتا
	- تبدو الدلتا على شكل مثلث رأسه شمال مدينة القاعدة
	- احترام الكبير والتعاون من العادات الإيجابية لسكان البيئة الزراعية .
خطأ (يزداد)	- يقل استخدام مصادر الطاقة في مجال الصناعة .
	- تساهم الصناعة في ارتفاع مستوى معيشة الفرد .
	- سيئة في البيئة الزراعية .
()	- تنخفض نسبة الأمية في الريف مقارنة بالمدن .
	- تدهورت أحوال المماليك الاقتصادية بعد اكتشاف طريق رأس الرجاء الصالح .
خطأ (تدهورت)	- ازدهرت أحوال الفلاحين في ظل الحكم العثماني .
	-
	- استخدم نابليون الشدة في قمع الثوار في ثورة القاهرة الأولى
	- ولد محمد علي في مدينة قولة شمال اليونان عام
	- تخلص محمد علي من المماليك في مذبحة القلعة

السؤال الثاني : اكمل العبارات التالفة :

البيئة هي	المكان الذي يعيش فيه الإنسان بجانب المخلوقات
- تقع البيئة الصحراوية في و..... و.....	الصحراء الشرقية والغربية وشبه جزيرة سيناء .
- أدى تنوع البيئات المصرية إلى و.....	تنوع الثروات الطبيعية و
- توجد ترعة الإسماعلية في شرق	بحر يوسف
- يتصل منخفض الفيوم بالنيل عن طريق بحر	
- يعيش بالبيئة الزراعية أكثر من مليون نسمة	
- تتميز البيئة المصرية بالتنوع والتداخل و.....	
- الصناعة على توفير الكثير من	
- يتطلب بناء المصانع أرضاً	مستوية

معالم من جغرافيا مصر وتاريخ مصر الحديث

القاهرة – الإسكندرية	- يهاجر سكان الوجه القبلى إلى مدن و.....
الهجرة إلى المدن	- تناقص نسبة العاملين بالنشاط الزراعى بسبب
تربية الحيوانات – الصناعات الحرفية	-
	- من محاصيل المنسوجات فى مصر و.....
إلقاء مخلفات المصانع فى نهر النيل –	- من أسباب التلوث البيئى فى مصر و.....
الديوان	- تألفت هيئات الحكم العثمانى من الحامية العثمانية والوالى
	- قامت الحياة الإجتماعية فى مصر على النظام
المماليك	- أسند العثمانيون إدارة الأقاليم فى مصر إلى
	- هزمت القوات المملوكية أمام العثمانيين فى معركة عام
زويلة	- قام العثمانيون بشنق طوهمان باى على باب
	- أصبحت ولاية عثمانية عام
القنسطنطينية	- مفتح مدينة
	- حصل المماليك ضرائب على القوافل المارة بأراضيهم تسمى
البرتغاليون	- هزم المماليك فى موقعة ديو البحرية عام
- الديوان	- من هيئات الحكم المحلية أثناء الحكم العثمانى
	- يعتبر الوالى نائب للسلطان ومقره
-	- كانت مدة حكم الوالى تتراوح ما بين إلى أعوام
الدواوين	- نظمت الإدارة العثمانية طرق جباية الأموال من خلال
	- أتعبت الدولة العثمانية نظام لضمان تحصيل الضرائب فى
	- تركزت السلطة القضائية فى يد
	-
- وفاء النيل	- أسهمت طوائف الحرف فى العصر العثمانى فى الاحتفالات
- الفقه والتشريع	- أقتصر التعليم فى الازهر على حفظ ودروس
كريت	- أبحرت الحملة الفرنسية من ميناء ومنة لجزيرة
شبرايت –	- هزم المماليك أمام الفرنسيين فى معركة و.....
فريزر	- ارسلت إنجلترا حملة بقيادة إلى مصر عام
عمر مكرم ، دمياط	- تخلص محمد على من الزعامة الشعبية بنفى إلى

السؤال الثالث : اختر الإجابة الصحيحة ما بين القوسين :

(الهندسية والكهربائية – الكيمائية – المعدنية – الغذائية)	- تعتبر صناعة الألومنيوم أحد أنواع
(واحة سيوة – شبة جزيرة سيناء – منخفض الفيوم –	- توجد البيئة الزراعية الفيضية فى الوادى

معالم من جغرافيا مصر وتاريخ مصر الحديث

()	- تصل نسبة الأمية فى الريف حوالى%
(- - -)	- توفر البيئة الزراعية للبيئة الصناعية
(- الألات الزراعية - - - - -) (- المنتجات الغذائية المصنعة - الأجهزة الكهربائية)	- من العادات السلبية فى البيئة الزراعية
(- احترام الكبير - التزاور فيما بينهم - زيادة الإنجاب)	- من العوامل البشرية لقيام الصناعة
(- - -)	- تقوم الزراعة فى الواحات اعتمادا على مياه
(النيل - - - - -) (- الأبار والعيون -)	- تمدن البيئة بالمعادن المختلفة
(الزراعية - الصناعية - الساحلية - الصحراوية)	- تقع البيئة الزراعية فى
(- - - - -) (- الوادى وشبة جزيرة سيناء - جزيرة سيناء)	- تقع البيئة الساحلية فى مصر
(- - - - -)	- تقوم الزراعة على مياه الأمطار فى ...
(وجود الكثير من الأبار - إتصاله بنهر النيل -)	- يختلف منخفض الفيوم عن المنخفضات الصحراوية ب
(- - - - -) (- نبات الطبيعى)	- يقل عدد السكان فى الوجهة البحرى كلما إتجهنا شمالا بسبب
(- - - - -)	- من العوامل الطبيعية اللازمة لقيام
(- ارتفاع نسبة الأمية -)	- من خصائص سكان البيئة الصناعية
(- الريدانية - ديو البحرية - شبراخيت)	- هزم المماليك أمام البرتغاليين فى موقعة
(- - - - -)	-
(- محمد كريم - - الشيخ السادات -)	- نجح الفرنسيون فى احتلال الإسكندرية بعد مقاومة حاكمها

السؤال الرابع : ما المقصود بكل مما يلى :

- ١- التربة : قناة مائية أنشئت بغرض توصيل المياه للأراضى الزراعية .
- ٢- السد : بناء هندسى يشيد على مجرى الأنهار لأتقاء خطر الفيضان وتوليد الكهرباء
- ٣- القنطرة : حاجز مائى أنشئ بغرض رفع مسنوب المياه للأراضى الزراعي .
- ٤- البيئة الزراعية الفيضية : هى البيئة التى نشأت فى السهول الفيضية .
- ٥- السهل الفيضى : هو سهل يتكون من ترسيب التربة الطينية التى ينقلها نهر النيل من منابعه
- تجريف التربة الزراعية : إزالة الطبقة السطحية من التربة واستخدامها فى صناعة الطوب الأحمر مما يؤدى لتدهور الأراضى الزراعية .
- الهجرة : هجرة الأشخاص من مكان لآخر سواء داخل أو خارج حدود الدولة .
- ٨- العشوائيات : هى المناطق التى بنيت بدون تخطيط من الدولة عن طريق وضع اليد
- ٩- النشاط الاقتصادى : هو أستغلال وأستهلاك الموارد المتاحة بشكل غير منتظم مما يؤدى إلى ضياعها .
- ١٠- المحافظات الحضرية : هى المحافظات التى يعمل معظم سكانها بالصناعة والخدمات .
- ١١- المحافظات الزراعية : هى المحافظات التى يعمل معظم سكانها بالزراعة وتربية الحيوانات .
- ١٢- الحملة : تجهيز الجيش وتوجيه لأهداف حربية .
- الاحتلال : أستلاء دولة على دولة أخرى قهرا .
- مستعمرة : إقليم يحكمه أجنبى ويكتفى بأستغلاله اقتصاديا وعسكريا .
- ١٥- طرق تجارية بحرية : مرور التجارة عبر البحار والأنهار والمحيطات .

معالم من جغرافيا مصر وتاريخ مصر الحديث

١٦- السناجق : عدد من الرجال العسكريين يقومون بمهام خاصة مثل إدارة الأقاليم .

١٧- الحامية : ماعة من الجيش تحمي بلدا أو موقعا .

السؤال الخامس : ما النتائج المترتبة على :

- الهجرة من الريف للمدن	- زيادة عدد سكان المدن - ظهور العشوائيات والمساكن العشوائية - قلة العاملين بالنشاط الزراعي - زيادة العاملين بالمجال الصناعي
- تنوع الموارد الطبيعية والبشرية في البيئة الزراعية	تنوع الأنشطة الاقتصادية
- انتشار المناطق السياحية في البيئة الزراعية .	زيادة الجذب السياحي
- زيادة المشكلات الاقتصادية التي يعانيها السكان في البيئة الزراعية	أدى إلى الهجرة للمدن وظهور العشوائيات ونقص العاملين بالزراعة
- تنوع البيئات المصرية	يأيد إلى تنوع الثروات الطبيعية وتنوع الإنتاج الاقتصادي
-	التأثير السلبي على صحة المرأة
- نظام الحكم والإدارة العثمانية لمصر	تأخر مصر وضعفها
- نفى محمد على للسيد عمر و مكرم	
- تصدى أهالي رشيد لحملة فرير	هزيمة حملة فرير و جلاؤهم عن مصر
- موقعة ابقى فير البحرية	تحطيم الأسطول الفرنسي
- الحملة الفرنسية على مصر من الناحية الثقافية والعلمية	تأليف كتاب وصف مصر - اكتشاف حجر رشيد

السؤال السادس : بم تفسر :

أهتمام الدولة بالتعليم الفني والصناعي	التطوير الصناعة وتخرج عمالة فنية مدربة
- تنوع البيئات المصرية .	التوسع مساحة مصر مليون كيلومتر مربع - تنوع مظاهر السح - تنوع الموارد البشرية .
- تدهور الحياة الفنية في الحكم العثماني	سبب قيام سليم الأول بترحيل امهر الصناع للأستانة عاصمة الدولة العثمانية بالإضافة للاستيلاء على اغلب التحف الثمينة والمخطوطات .
- اسباب ثورة القاهرة الأولى	- فرض الضرائب الباهظة على المصريين . - استخدام نابليون الشدة والعنف . - إعدام المواطنين .
- قيام محمد على بمذبحة القلعة	للتخلص من المماليك
- أتسمت العلاقات بين الدولة العثمانية والدولة المملوكية في بدايتها بالتحالف	- إحتفال المماليك بسيطرة العثمانيون على القنسطنطينية . - وقوف العثمانيون إلى جانب المماليك في مواجهة البرتغال عند اكتشافه طريق الرجاء الصالح . - وقوف العثمانيون بجانب المماليك في موقعة ديو البحرية في مواجهة
- ضعف وانهيار الدولة المملوكية	- سوء الأوضاع السياسية للصراع على الحكم فيما بينهم . - سوء الأوضاع الاقتصادية لاكتشاف البرتغاليون طريق رأس الرجاء
- فشل حملة نابليون على الشام	- سوء الأوضاع العسكرية لأعتماد المماليك على الأسلحة التقليدية - هزيمة المماليك في موقعة ديو البحرية
- تباع الدولة العثمانية نظام الألتزام .	بسبب قوة اسوار عكا وبسالة اهلها في الدفاع عنها لانتشار مرض الطاعون بين الجنود الفرنسيين . لضمان تحصيل الضرائب في أوقتها المحددة

معالم من جغرافيا مصر وتاريخ مصر الحديث

- فشل إتفاقية العريش بين كليبر والعثمانيون
بسبب تدخل إنجلترا وهو ما أدى لعودة الحرب بين كليبر والدولة العثمانية .

السؤال السابع : برهن تاريخيا على صحة العبارات التالية :

- سيطرت الدولة العثمانية على القضاء والتشريع في ظل الحكم العثماني	لأنها انتزعت السلطة القضائية من يد الأزهر الشريف وتعين قاضى
- كانت الحملة الفرنسية اسباب معلنة وغير	من اسبابها المعلنة : تأديب المماليك لأضطهاد التجار الفرنسيين وإقامة حكومة وطنية يكون الحكم فيها للمصريين . ومن اسبابها الغير معلنة : قطع الطريق بين إنجلترا ومستعمراتها في الهند إقامة مستعمرة فرنسية في مصر
- كانت سلطة ديوان القاهرة استشارية مقيدة .	ان اعضاء الديوان تعهدوا بعدم القيام بأى عمل ضد مصلحة الجيش تحت الرقابة الفرنسية .

السؤال الثامن : ماذا يحدث إذا لو :

- استطاعت الحملة الفرنسية جعل مصر قاعدة للامبراطورية الفرنسية فى الشرق .

قطع الطريق بين إنجلترا ومستعمراتها فى الهند .

- اهتم العثمانيون بالتعليم والثقافة فى مصر .

لم يقتصر التعليم على الأزهر الشريف - بناء مدارس حديثة - ازدهار الحياة العلمية والثقافية فى مصر .

السؤال التاسع : اجب عما يأتى : (يجب عنها الطالب)

١- " قامت الدولة بسن القوانين التى ندرج تجريف الثروة نظرا لأضرارها الكبيرة فى الحاضر

والمستقبل فى ضوء هذه العبارة وضح

- اسباب تجريف الثروة .
- النتائج المترتبة على استمرار تجريفها .

٢- " أعنبرت الحكومة الفرنسية أمر حملة نابليون على مصر سراء " فى ضوء هذه العبارة

اجب :

- ما أسم الميناء التى ابجرت منه الحملة ؟
ب-

٣- " نواجة البيئة الصناعية العديد من المشكلات ونسعى الدولة جاهدة لحلها " فى ضوء

ذلك اجب :

- ما هى المشكلات التى تواجهها البيئة الصناعية ؟

- ما هى جهود الدولة لحلها ؟

معالم من جغرافيا مصر وتاريخ مصر الحديث

٤- " كان لضعف الدولة العثمانية أثره الواضح على أوضاع مصر السياسية والاجتماعية والاقتصادية " أجب في ضوء العبارة عن :

- ما مظاهر الحكم العثماني في مصر ؟

- ما رأيك في ترحيل السلطان سليم الأول أمهر الصناع للأستانة ؟

٥- " يتميز سكان البيئة الصناعية ببعض الخصائص " في ضوء هذه العبارة اجب :

- ما العادات السلبية لدى سكان البيئة الزراعية .

- ما هي جهود الدولة لحل مشكلة البطالة ، تهجير سكان النوبة -
: جهود الدولة لحل مشكلة البطالة :

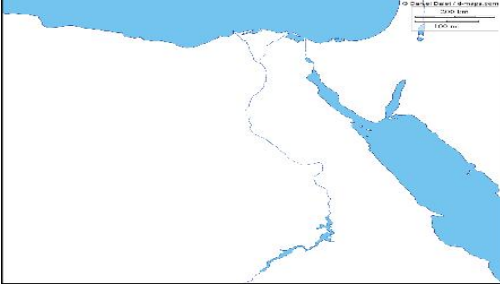
ثانيا : جهود الدولة لحل مشكلة تهجير سكان النوبة .

ثالثا : جهود الدولة لحل مشكلة أنتشار الأمراض

معالم من جغرافيا مصر وتاريخ مصر الحديث

امتحانات الفصل الدراسي الأول

النموذج الأول للكتاب المقرر



السؤال الأول : أمامك خريطة صماء أجب عن الأرقام الموجة أمامك :

(ب) أعط تعريفا لكل من المفاهيم التالية :

- العشوائيات
- الهجرة
- السهل الفيضي .

السؤال الثاني : اكتب كلمة (صح) أمام العبارة الصحيحة وكلمة (خطأ) أمام العبارة الخاطئة مع التصويب :

- أدى تنوع البيئات المصرية إلى تنوع الثروات الطبيعية بها ()
- تعتمد الزراعة في الساحل الشمالي على مياه النيل ()
- صناعة الألومنيوم من الصناعات الهندسية ()
- فظة الفيوم بعض المعالم السياحية مثل بحيرة قارون ()
- (ب) ما النتائج المترتبة على :
 - الهجرة الداخلية .
 - تجريف التربة الزراعية .

ثانيا : التاريخ

السؤال الثالث : اختر الإجابة الصحيحة مما بين القوسين :

- تنسب الدولة العثمانية إلى مؤسسها (- يازيد الثاني - سليم الأول -)
- أنتصر العثمانيون على المماليك في موقعة عام (- أبي قير البحرية - الريدانية - التل الكبير)
- تم عقد إتفاقية العريش م بين العثمانيون و (كليبر - مينو - نابليون -)
- أنطلق ثورة القاهرة الثانية من حي (- الأزهر - عين شمس - المطرية)
- تولى الدفاع عن حقوق المصريين لدى الحكام العثمانيون . (العلماء ورجال الدين - السناجق والمماليك)
- تولى القيادة العامة لحملة الحجاز عام (إبراهيم - طاهر -)

معالم من جغرافيا مصر وتاريخ مصر الحديث

(ب) ماذا يحدث إذا :

- لم يقف زعماء الشعب بجانب محمد على فى بداية حكمة .
- نجحت حملة فريزر فى تحقيق اهدافها .

السؤال الرابع : (أ) بم تفسر :

- قيام ثورة القاهرة الأولى .
- ضعف وانهيار الدولة المملوكية .
- تدهور الحياة الفنية أيام الحكم العثمانى .

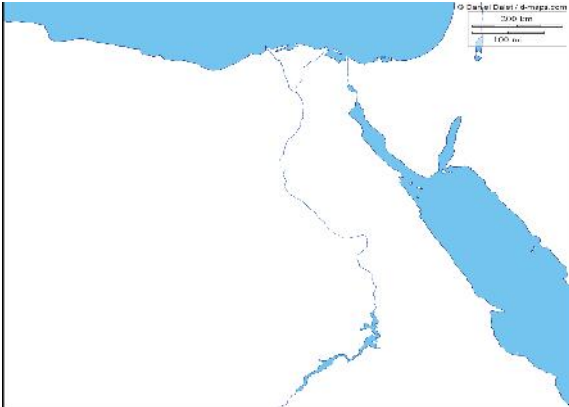
(ب) أكتب ما تشير إليه كل عبارة من العبارات التالية :

- مجموعة من الجيش تحمى بلدا او موقعا .
- شخص ينوب عن الحكومة فى جباية الضرائب المفروضة على كل اقليم من الاقاليم .

النموذج الثانى للكتاب المقرر

اولا : الجغرافيا :

السؤال الأول : أمامك خريطة صماء أجب عن الأرقام الموجة أمامك :



-
-
-
-
-

(ب) ما المقصود بالمفاهيم التالية :

- الصناعات البسيطة .

السؤال الثانى : (أ) بم تفسر :

- ندرة النباتات الطبيعية فى البيئة الزراعية .
- تنوع البيئات المصرية .
- اهتمام الدولة بإنشاء وزارة للبيئة .

(ب) اكتب كلمة (صح) أمام العبارة الصحيحة، وكلمة (خطأ) أمام العبارة الخاطئة مع التصويب :

- () تبلغ مساحة الاراضى الزراعية نحو %
- () شجعت الدولة استخدام الأسمدة الكيماوية فى تسميد التربة
- () يراعى عند بناء المصانع إتجاهات الرياح
- () تتركز صناعة الألومنيوم فى الوجهة البحرى

ثانيا : التاريخ :

السؤال الثالث : (أ) أكمل العبارات التالية :

- تالفت هيئات الحكم المحلية اثناء الحكم العثمانى من قوى .
- تدهورت الحالة الاقتصادية لمصر بعد اكتشاف طريق
- سلكت الحملة الفرنسية طريقها البرى من الاسكندرية عبر وصولا للقاهرة .
- كانت الحياة الإجتماعية فى العصر العثمانى قائمة على النظام
- أسستنى الشيخ من أحكام الإعدام التى صدرت ضد مشايخ الازهر .

(ب) رتب الأحداث التاريخية من القديم للحديث :

معالم من جغرافيا مصر وتاريخ مصر الحديث

نهاية حكم محمد على في مصر – إتفاقية العريش – موقعة ابى قير البرية – الحملة الفرنسية على مصر –

السؤال الرابع : (أ) أكتب ما تشير إليه كل عبارة من العبارات التالية :

- الأموال التي يحصل عليها المماليك من عبور القوافل التجارية عبر الأراضي المصرية .
- قوات عثمانية تركها السلطان سليم الأول في مصر
- إقليم بحكمة اجنبي يتوطنة ، او يكتفى بأستغلاله أقتصاديا وعسكريا .
- رجل يعين من قبل الدولة العثمانية لتصرف في الأحكام الشرعية وفقا للمذاهب الأربعة .
- تخطيط الجيش وتوجيهه لأهداف حربية .

(ب) اختر الإجابة الصحيحة مما بين القوسين :

- أبحرت الحملة الفرنسية سرا من ميناء
(- ليون - مرسلينا -)
- تولى قيادة الحملة الإنجليزية على رشيد
(- فريزر - - كليبر - مينو)
- أصبحت مصر ولاية عثمانية بعد موقعة
(- ديو البحرية - الريدانية - - شبراخيت)
-
(- دمياط - الأسكندرية - رشيد - سيوة)
-
(- - - -)

النموذج الثالث للكتاب المقرر

السؤال

الأول :)

(أ)

أمامك خريطة صماء أجب عن الأرقام الموجة امامك :

- مدينة
-
-
- بحيرة

(ب) إليك مجموعة من العوامل لقيام الصناعة الطبيعية والبشرية

(الخبرة الفنية -)

(صنفها في الجدول التالي)

العوامل الطبيعية	العوامل البشرية

(ج) أكمل العبارات التالية :

- تصل نسبة الأمية في الريف % من سكانية .
- تعتمد الزراعة في الواحات على المياه

معالم من جغرافيا مصر وتاريخ مصر الحديث

السؤال الثاني : (أ) أكتب المصطلح المناسب أمام العبارات التالية :

- تقليل الاستهلاك والاستخدام الأمثل للموارد .
- يقصد بها عدداً لأشخاص في سن (-) يعملون .
- بناء هندسي يشيد على مجرى النهر لإتقاء خطر الفيضانات .

(ب) بم تفسر :

- إنشاء الدولة ورعاية البيئة .
- يعمد من خفض الفئوم بيئة زراعية رغم وقوعه في الصحراء الغربية .
- كثرة المشكلات الصحية التي تعاني منها البيئة الزراعية .

ثانياً: التاريخ :

السؤال الثالث : (أ) اختر الأجوبة الصحيحة مما بين القوسين :

- تولى المماليك حكم مصر بعد انهيار الدولة
(الأيوبية - الفاطمية - الصفوية - دية)
- قام الشاب السورى سليمان الحلبي بقتل القائد
(كليبر - مينو - نابليون -)
- تحالفت الدولة العثمانية مع المماليك ضد الخطر
(- - - - -)
- انفراد محمد على بحكم مصر وبدأ في تنفيذ سياسة منذ
(- - - - -)
- أصبحت مصر ولاية عثمانية بعد موقعة الريدانية عام
(- - - - -)
- أرسل محمد على حملة على بلاد الحجاز بقيادة ابنه
(إبراهيم - - -)

(ب) ماذا يحدث إذا :

- لم يتم إكتشاف طريق رأس الرجاء الصالح عام .
- أهتمت الدولة العثمانية بالعلوم العقلية والرياضيات والطبيعة .

السؤال الرابع : اكتب كلمة (صح) أمام العبارة الصحيحة، وكلمة (خطأ) أمام العبارة الخاطئة مع التصويب :

- دية بمصر أثناء الحكم العثماني في تدهور حتى مجيء الحملة الفرنسية ()
- بعد مذبحة القلعة فر الباقيون من المماليك إلى ليبيا ()
- تألفت هيئات الحكم المحلية بمصر أثناء الحكم العثماني من خمس ()
- تالف ديوان القاهرة من كبار المشايخ فقط .

(ب) بم تفسر :

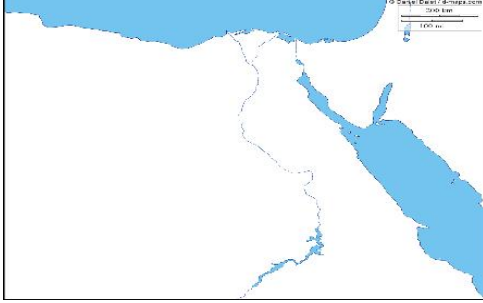
- تعد النتائج العلمية والثقافية للحملة الفرنسية من أبرز واعظم النتائج .
- ازدهار دولة المماليك في مصر والشام .
- فشل الحملة الإنجليزية على مصر .

معالم من جغرافيا مصر وتاريخ مصر الحديث

النموذج الرابع للكتاب المقرر

أولا : الجغرافيا

السؤال الأول : (أ) أمامك خريطة صماء لمصر أكتب مدلول الأرقام التي أمامك :



- منطقة زراعية فيضية
- خليج
-

(ب)

- لنسيج بالدلتا بمصر .
- تناقص مساحة الأراضي الزراعية في السنوات الأخيرة لمصر .
- اهتمام الدولة بالتعليم الفني والصناعي .

السؤال الثاني : أكتب كلمة (صح) أمام العبارة الصحيحة ، وكلمة (خطأ) أمام العبارة الخاطئة مع التصويب :

- تتركز صناعة الألومنيوم في الاسكندرية والقاهرة .
- التكلفة الزائدة لمصادر الطاقة من مشكلات البيئة الصناعية .
- يقل سكان البيئة الزراعية في المحافظات القريبة لنهر النيل .
- من أهم الحبوب الغذائية لمصر القمح والقطن والأرز .
- حفر الخشب والسجاد من الصناعات الكيماوية .
- ن العوامل البشرية لقيام الصحافة .

(ب) قارن بين : سكان البيئة الزراعية وسكان البيئة الصناعية من حيث العادات والنقاليه الإيجابية

العادات الإيجابية لسكان البيئة الصناعية .	العادات الإيجابية لسكان البيئة الزراعية
.....
.....
.....
.....

ثانيا : التاريخ :

السؤال الثالث : (أ) أختَر الإجابة الصحيحة مما بين القوسين :

- (- الديمقراطي)
- نجح الفرنسيون في احتلال الأسكندرية رغم مقاومة حاكمها (محمد كريم - الشيخ السادات)
- تصارع الأنجليز والعثمانيون والمماليك على السلطة بعد جلاء الحملة الفرنسية عن مصر وتناسوا قوة (- على بك الكبير)
- كان يتم جلبهم غلمانا بواسطة التجار ويشترتهم السلاطين . (السلاطين - الحفرين - المماليك -)
- أطلق الفرنسيون على معركة أسم معركة الأهرام (- الصالحية - ابى قبر - شبراخيت)

معالم من جغرافيا مصر وتاريخ مصر الحديث

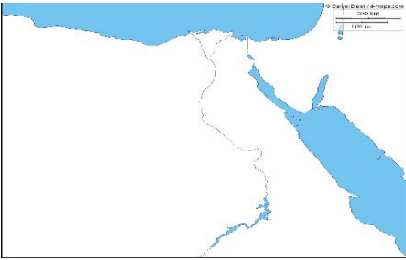
- ()
- اتبع العثمانيون نظام الالتزام على الفلاحين فى _____ لميلادى .
 - بترحيل امهر الصناع للأستانة .
 - هى الحد الفاصل لنهاية دولة المماليك .
 - كان يتم تعيين قاضى القضاة فى العصر العثمانى _____ .
 - **دمياط فى** التصدى للحملة الأنجليزية عام _____ .
- الرابع : (أ) أكتب المفهوم الذى تشير إليه كل عبارة مما يلى :**
- استيلاء دولة على دولة أخرى قهرا .
 - مجموعة من الجيش تحى بلدا أو موقعا .
 - الشخص الذى ينوب عن الحكومة فى جباية الضرائب .
- (ب) قارن بين :** ثورة القاهرة الأولى والثانية من حيث مركز الثورة والنتائج .

ثورة القاهرة الثانية	ثورة القاهرة الأولى

النموذج الخامس

أولاً : الجغرافيا :

السؤال الأول : (أ) أمامك خريطة صماء لمصر ، أجب عن الأرقام التى امامك :



-
-
-
- نهر

(ب) أكتب المفهوم الجغرافى : () - البيئة الصناعية -

السؤال الثانى : (أ) أكمل العبارات التالية :

- تمدنا البيئة بالمعادن .
- من الخصائص الاقتصادية لسكان البيئة الزراعية
- من المواد الخام الحيوانية
- من الصناعات الكيماوية صناعة

()

- تنوع الأنشطة الاقتصادية فى البيئة الصناعية
- إزالة الطبقة السطحية الخصبة من التربة .
- هجرة سكان الريف إلى البيئة الصناعية

ثانيا : التاريخ :

معالم من جغرافيا مصر وتاريخ مصر الحديث

السؤال الثالث : أكمل العبارات التالية :

- تم تحطيم الأسطول الفرنسي في معركة ابى قير البحرية على يد القائد الأنجليزى
- دعم تولية محمد على حكم مصر عام المشايخ وزعماء مصر بزعامة
- تم فتح القسطنطينية عاصمة الدولة البيزنطية عام م على يد السلطان
- م مكيدة للقضاء على

() :

- إرسال فرنسا حملتها على مصر عام
 - قيام ثورة القاهرة الثانية م
 - ازدهار دولة المماليك وتمتعها بالثراء الأقتصادى
- السؤال الرابع : (أ) أكتب كلمة (صح) أمام العبارة الصحيحة ، وكلمة (خطأ) أمام العبارة الخاطئة مع التصويب :

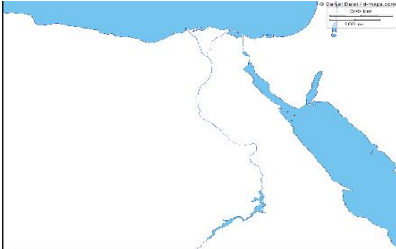
- تولى الجينرال مينو قيادة الحملة بعد وفاة كليبر .
- تدهورت الحياة الفنية من عمارة وفنون وأثار في عصر سلاطين المماليك .
- قام العثمانيون بشلق طومان باى على باب زويلة .
- حكم نابليون على ستة من مشايخ الأزهر الإعدام وكان منهم الشيخ السادات .

() :

- الحملة الفرنسية على مصر من الناحية العلمية والثقافية .
- تعيد
- معركة الصالحية بين المماليك وقوات الحملة الفرنسية .

النموذج السادس

السؤال الأول : (أ) أمامك خريطة صمم ، أجب عن الأقسام التى أمامك :



.....

.....

.....

..... خليج

(ب) ماذا يحدث لو لم ؟

- يتم إلقاء مخلفات المصانع السائلة فى المجارى المائية ونهر النيل .
- تنوع البيئات المصرية .
- (ج) أعط تعريفا صحيحا لكل من المفهومين التاليين : (منطقة صناعية) .

والثانى : (أ) أكمل العبارات التالية :

- تعتمد الزراعة فى على مياه الأمطار الشتوية .
- ترتفع نسبة فى تربة وادى النيل والدلتا .
- أنتشار المناطق العشوائية يسهم فى ارتفاع
- من العوامل البشرية لقيام الصناعة

() :

- إنتشار المناطق السياحية فى البيئة الزراعية .
- توسع الدولة فى إنشاء المناطق الصناعية .

السؤال الثالث : (أ) أكتب كلمة (صح) أمام العبارة الصحيحة ، وكلمة (خطأ) أمام العبارة الخاطئة مع التصويب :

- من الصناعات المعدنية صناعة الحديد والصلب وصناعة الأسمدة .
- تتركز صناعة السكر فى محافظات أسبوط وسوهاج وقنا .
- تسهم البيئة الصناعية فى ارتفاع المستوى الإجتماعى والتعليمى للسكان .

معالم من جغرافيا مصر وتاريخ مصر الحديث

- المحافظات الحضرية هي التي يعمل معظم سكانها بالزراعة وتربية الحيوان .

() :

- تنوع البيئات المصرية .
- أهمية البيئة الزراعية للبيئة الصناعية .
- أهمية تكامل البيئات المصرية .

ثانيا : التاريخ :

(أ) أكمل العبارات التالية :

- أصبحت مصر ولاية م
- كان من مهام الوالى العثمانى إرسال المفروضة على البلاد .
- كانت الحياة الإجتماعية قائمة فى مصر على النظام
- دخل الفرنسيون مدينة القاهرة بعد معركة
- تعاون الإنجليز مع الدولة العثمانية لإخراج

(ب) أكتب ما تشير إليه كل عبارة من العبارات التالية :

- الفرق بين ما يفعله الملتزم للحكومة وبين ما يجمعه من الفلاحين .
- الضرائب التى كان يحصل عليها المماليك من مرور القوافل التجارية .
- إقليم يحكمة أجنبى ويكتفى بأستغلاله أقتصاديا وعسكريا .
- شخص يعين من قبل الدولة العثمانية لى يتولى السلطة القضائية .
- تجهيز الجيش وتوجيهه لأهداف حربية .

() :

- الحملة الفرنسية على مصر من الناحية السياسية .
- أنظمة الحكم والإدارة العثمانية لـ
- أكتشاف البرتغاليون طريق رأس الرجاء الصالح .

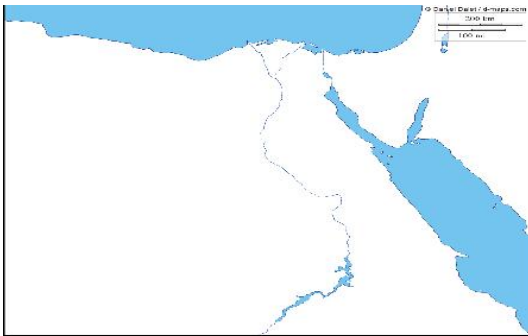
(ب) ما رأيك فى :

- دخول نابليون وجنودة الجامع الأزهر ليهولهم
- إبقاء السلطان سليم الأول على المماليك فى إدارة الأقاليم المصرية .

النموذج السابع

أولا : الجغرافيا :

() : مامك خريطة صماء لمصر ، أكتب ملول الأرقام التى امامك :



- منطقة زراعية فيضية
- شبة جزيرة

(ب) " نعانى البيئة الصناعية فى مصر من العديد من

المشكلات " فى ضوء هذه العبارة أحب :

- ما اهم مشكلات البيئة الصناعية .
- ما هى جهود الدولة لحل هذه المشكلات .
- ما رأيك فى جهود الدولة لحل هذه المشكلات .

السؤال الثانى : (أ) أكمل الجمل التالية :

- تعرف الهجرة بانها
- عات تعتمد على الآلات الحديثة ويقل فيها الاعتماد على الأيدي العاملة هى
- السهل الذى يتكون من ترسيب التربة الطينية التى ينقلها نهر النيل من منابعه هو
- إزالة الطبقة السطحية من تربة الأراضى الزراعية .

() :

معالم من جغرافيا مصر وتاريخ مصر الحديث

- الدولة لعدد من مشروعات الري على مجرى نهر النيل .
- قيام صناعة الفخار فى البيئة الزراعية .
- أهمية رأس المال فى البيئة الصناعية .

ثانيا : التاريخ :

الأسكندرية

- الدولة العثمانية لمؤسسها سليم الأول .
- عقد كلبير مع الإنجليز إتفاقية العريش عام
- تولى المماليك حكم مصر والشام بعد إنهيار الدولة الفاطمية .
- أنطلقت ثورة القاهرة الثانية من حي الأزهر .

(ب) أكمل العبارات التالية :

- أسستنى الشيخ من أحكام الإعدام التى صدرت ضد بعض مشايخ الأزهر .
- جاء الكفاح والجهاد ضد الحملة الأنجليزية عام م على يد أبناء مدينة
- (ج) ما رأيك فى : شوق طومان باى على باب زويلة بعد هزيمة .

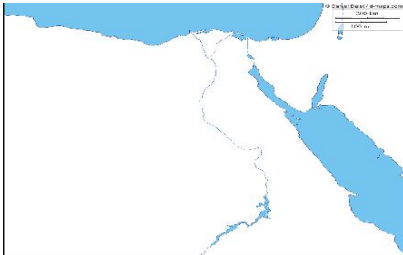
() :

- تخلص محمد على من المماليك فى مذبحه القلعة عام
- إنشاء نابليون ديوان القاهرة .
- ازدهار دولة المماليك .
- لمعلنة والغير معلنة للحملة الفرنسية على مصر .

النموذج الثامن

أولاً : الجغرافيا :

السؤال الأول : (١) أمامك خريطة صماء لمصر ، أكتب مدلول الأرقام التى أمامك :



(ب) أكمل العبارات التالية :

- تسهم الصناعة فى زيادة
- طلب السكان المحليين للمنتجات الصناعية يعرف بالسوق
- يزدهر النشاط السياحى فى البيئة الزراعية ومنها آثار منطقة بالشرقية .
- تتميز البيئة الزراعية بـ سطحها فى الوادى و
- يجب بناء المصانع بعيدا عن المناطق
- تصل نسبة الأمية فى مصر أكثر سكانها .

العوامل البشرية

- يتجة عدد كبير من المهاجرين نحو الدول العربية الزراعية .
- القاهرة والاسكندرية من
- يعمل فى مجال الصناعة مليون نسمة .

() :

- أهتمام الدولة بالتوسع فى إنشاء المزارع السمكية .

معالم من جغرافيا مصر وتاريخ مصر الحديث

- أهمية وسائل النقل فى البيئة الصناعية .
- تلوث المياه فى المجارى المائية لنهر النيل .

ثانيا التاريخ :

السؤال الثالث : (١) أكمل العبارات التالية :

- أطلق الفرنسيون على معركة الأهرام معركة
- تكون ديوان القاهرة الذى أنشأه نابليون من
- تخلص محمد على من المماليك فى
- كان قاضي القضاة العثماني يعين لمدة

- عانى الفلاح المصرى كثيرا فى العصر العثماني .

- تكتمت الحكومة الفرنسية أخبار حملتها على مصر .

(٢) ماذا يحدث إذا لو : لم تفقد فرنسا فى حروبها مع إنجلترا .

السؤال الرابع : اكمل المفهوم الذى تشير إليه كل عبارة مما يلى :

- طريق بحرى يدور حول قارة أفريقيا من جهتي الجنوب والغرب
- نائب السلطان فى الولاية ومقره القلعة .
- أستلاء دولة على دولة أخرى فهرا .
- تغير أساسى فى الأوضاع السياسية والاجتماعية يقوم به الشعب .

التدريبات العامة لكتاب الإبداع

السؤال الأول : أكمل العبارات التالية :

- تعتمد الزراعة فى الواحات على المياه
- انخفاض نسبة الأمية من خصائص البيئة
- من أشهر الصناعات الحرفية فى البيئة الزراعية صناعة
- من المعالم السياحية بمحافظة الشرقية آثار حضارة
- من العوامل الطبيعية لقيام الصناعة
- تمدنا البيئة بالمعادن المختلفة .

.....

- الوالى هو
- عقدت إتفاقية العريش بين و عام
- هزم المماليك فى موقعة ديو البحرية عام على يد
- نفى محمد على السيد عمر مكرم لمدينة
- تولى قيادة الحملة الإنجليزية على رشيد .
- تعد صناعة السجاد اليدوى من الصناعات
- من أهم الترع فى شرق الدلتا ، وفى غرب الدلتا
- تصل مياه النيل لمنخفض الفيوم ع
- تعتمد الزراعة فى السواحل الشمالية على
- توفر لنا البيئة الساحلية

- فرض المماليك ضرائب تسمى على التجارة المارة بمصر
- من إنجازات الحملة الفرنسية كتاب
- إتبع العثمانيون نظام لجمع الضرائب .
- أعتمد الحكم العثماني على عنصر لضمان استمرار أحتلالهم لمصر .
- من العوامل البشرية لقيام الصناعة و

معالم من جغرافيا مصر وتاريخ مصر الحديث

- صناعات البسيطة
- ولد محمد على فى مدينة شمال عام م
- قاوم أهالى الأسكندرية الفرنسيون بقيادة حاكمهم
- أطلق الفرنسيون على معركة أسم معركة الأهرام .
- من المحاصيل المنتجة
- توفر البيئة الزراعية للبيئة الصناعية
- تصارع الإنجليز والعثمانيون والمماليك على حكم مصر وتنافسوا قوة
- كما يتم جلب بواسطة التجار ويشترهم السلاطين .
- بلاد الحجاز بقيادة
- فشلت الحملة الفرنسية فى الشام فى فتح مدينة
- أصبحت مصر ولاية عثمانية بعد موقعة عام
- تعد مدينة من أكثر المناطق جذبا للمهاجرين .
- حدثت أول مواجهة بين الفرنسيون والمماليك
- اندلعت ثورة القاهرة الثانية عام فى حى
- كانت من مهام الوالى العثمانى إرسال المفروضة على البلاد .
- تولى المماليك حكم مصر بعد إنهيار الدولة
- من الأسباب الظاهرية للحملة الفرنسية تأديب

- هزيمة المماليك فى موقعة إمبابية .
- إنشاء نابليون ديوان القاهرة .
- تدهور الحياة الفنية فى العصر العثمانى .
- تكتمت الحكومة الفرنسية أخبار حملتها على مصر .
- ضعف وإنهيار دولة المماليك فى مصر والشام .
- ليون على الشام .
- عمل معظم سكان البيئة الزراعية بالزراعة .
- أهمية البيئة الصناعية لسكان مصر .
- تعتبر القاهرة من أكثر المناطق جذبا للمهاجرين فى البيئة الزراعية .
- توتر العلاقة بين الدولتين العثمانية والمملوكية .
-
- تعد النوبة منطقة جذب سياحى .
- ندرة النباتات الطبيعية فى البيئة الزراعية .
- معدل الزيادة السكانية فى البيئة الزراعية أعلى من المناطق الحضرية .
- مجى الحملة الفرنسية على مصر .
- تنوع الصناعات الحرفية فى البيئة الزراعية .
- ل النقل من العوامل المهمة لقيام الصناعة .

- تحطيم الأسطول الفرنسى فى موقعة أبى قير البحرية .
- ترحيل السلطان سليم الأول أمهر الصناع إلى الاستانة .
- الإفراط فى استخدام الأسمدة والمبيدات .
- هجرة السكان من الريف .
- رفض إنجلترا إتفاقية العريش .
- اعتماد المماليك على الأسلحة التقليدية .
- موقعة أبى قير البرية .
- سيطرة الدولة العثمانية على القضاء والتشريع فى مصر .
- ثورة القاهرة الثانية .

معالم من جغرافيا مصر وتاريخ مصر الحديث

- ثورة القاهرة الأولى .
- الحملة الفرنسية من الناحية الإجتماعية .
- أكتشاف طريق رأس الرجاء الصالح .
- الحملة الفرنسية من الناحية السياسية .
- لقاء مخلفات المصانع فى نهر النيل .

السؤال الرابع : ما المقصود بالمفاهيم التالية :

- الزيادة الطبيعية .
- العشوائيات .
- طرق تجارية بحرية .
- البيئة الزراعية .
- العشوائيات .
- تجريف التربة .

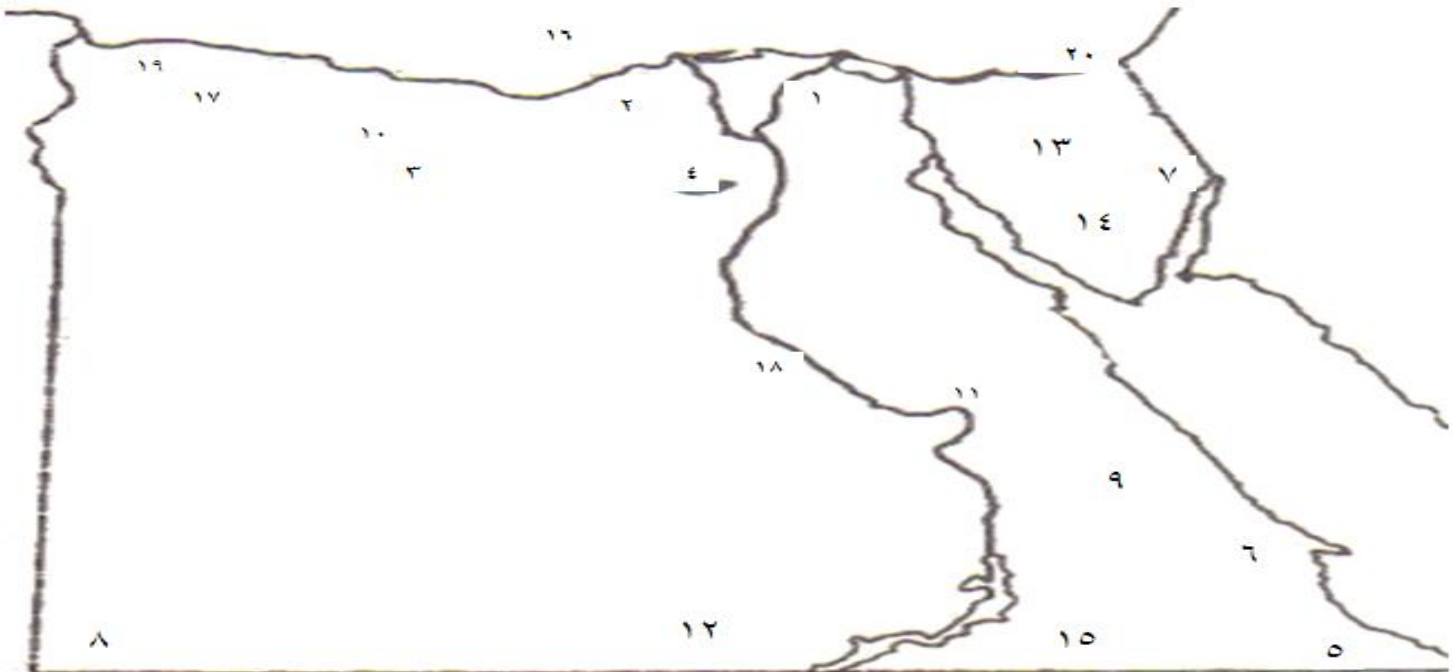
برهن تاريخيا على صحة العبارات التالية :

- بدأت العلاقات بين الدولتين العثمانية والمملوكية بداية طيبة .
- كانت للحملة الفرنسية آثار إجتماعية وثقافية إيجابية .
- تدهور الأقتصاد المصرى فى العصر العثمانى .
- أنتصرت الإرادة الشعبية إنتصارا رائعا عام .

السؤال السادس : قارن بين :

- ثورتى القاهرة الأولى والثانية من حيث موقف الفرنسيين من كل منهما .
- موقف محمد على من الزعامة الشعبية قبل وبعد توليه الحكم .
- موقعى مرج دابق والريدانية من حيث الأطراف والنتائج .
- الوالى العثمانى والحامية العثمانية من حيث مهمة كل منهما .
- العادات الإيجابية لسكان البيئة الزراعية والصناعية .

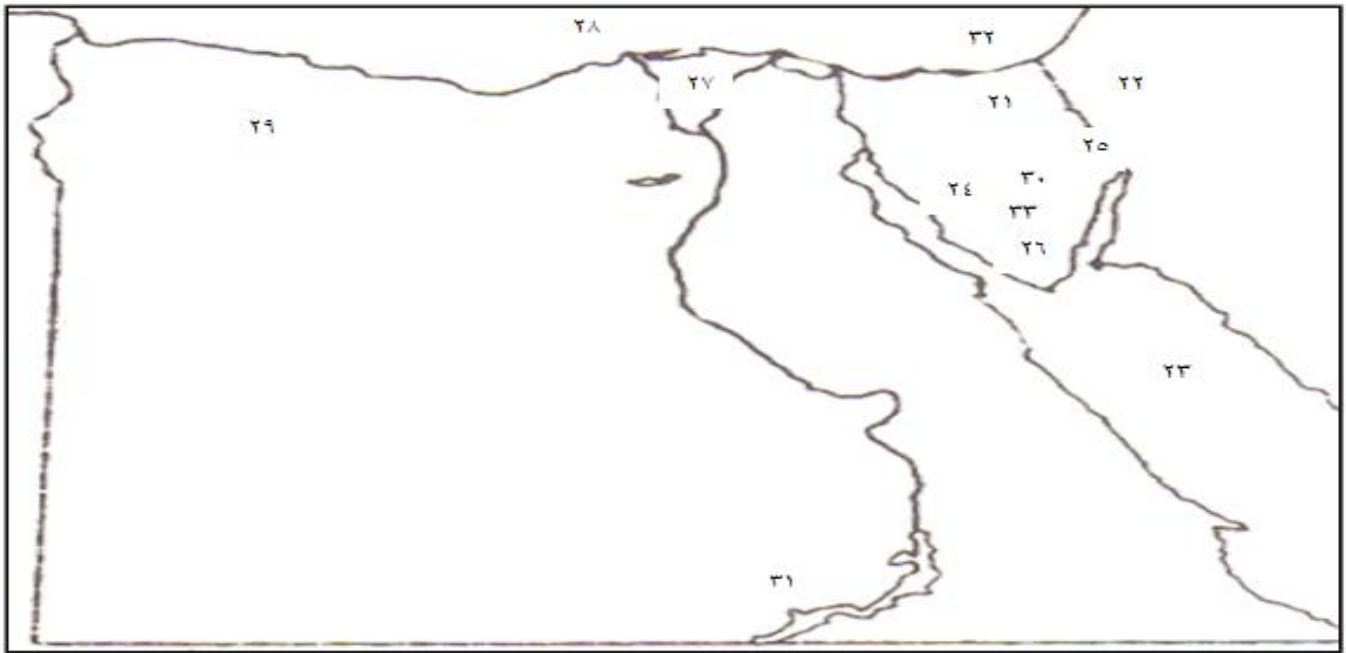
اهم التوزيعات على خريطة مصر (طبيعيا واقتصاديا وسياسيا)



معالم من جغرافيا مصر وتاريخ مصر الحديث

أجب عن الأرقام التي أمامك :

- محمية الزرائيق .
- محمية جبل علبة .
- محمية العמיד .
- حمية وادى الجمال .
- محمية الصحراء البيضاء .
- بحيرة قارون .
- محمية جبل علبة .
- محمية طابا .
- محمية ماريامريكا .
- هضبة التية .
- هضبة العجمة .
- هضبة العبادة .
- إقليم مريوط .
- نهر النيل .
- مدينة السلوم .
- مدينة رفح .



أجب عن الأرقام التي أمامك :

- مدينة فلسطين .
- ساحل خليج السويس .
- مدينة الأردن .
- ساحل خليج العقبة .
- محمية البرلس .
- منطقة استخراج منجنيز : ام بجمة .
- بحيرة ناصر .
- بحيرة البردويل .
- محمية جنوب سيناء : رأس محمد .

