




دراسات اجتماعية الصف الخامس الابتدائي

الأسئلة

السؤال الأول :-

اكمل العبارات الآتية:-

- ١- البيئة هي.....
- ٢- من خصائص البيئات المصرية.....و.....و.....
- ٣- من البيئات المصرية.....و.....و.....و.....
- ٤- تمدنا البيئة الزراعية ب.....و.....
- ٥- تمدنا البيئة الصناعية ب.....
- ٦- تمدنا البيئة الصحراوية ب.....بينما البيئة الساحلية تمدنا ب.....
- ٧- استقر المصريون القدماء على ضفتي.....وعلى أراضي.....حيث
أرتبط إستقرارهم ب.....
- ٨- البيئة الزراعية هي.....
- ٩- الزراعة المروية تنقسم إلى زراعة على.....و.....
- ١٠- الزراعة المطرية تنتشر على.....بالبيئة الساحلية وتقوم على مياه.....
- ١١- الدلتا تبدو في شكل.....كبير تمتد قاعدته على ساحل البحر.....
ورأسه شمال مدينه.....
- ١٢- الزراعة التي تعتمد على مياه النيل وتوجد في.....وتبلغ مساحتها.....
- ١٣- تزيد مساحة الأراضي الزراعية بها على.....% من جملة المساحة الزراعية مصر.
- ١٤- توجد بالدلتا.....محافظه.





دراسات اجتماعية المصفى (الأساسى) (الابتدائى)

١٥- يمتد وادى النيل امتداد طويلا لأكثر من.....كم حيث توجد الأراضى الفيضية الخصبة على جانبيه.....من.....إلى.....

١٦- تبلغ مساحة الأراضى الزراعيه بالوادى نحو.....% من جملة المساحة وعدد محافظات الوادى.....محافظه.

١٧- يوجد داخل مجرى نهر النيل أكثر من.....جزيرة مثل جزر.....و.....و.....

١٨- يعتبر منخفض.....أقرب المنخفضات الصحراوية لوادى النيل ويقع إلى.....من الوادى.

١٩- يتصل منخفض الفيوم بنهر النيل عن طريق ترعة.....ويوجد فى شماله بحيرة.....

٢٠- تظهر الأراضى فى منخفض الفيوم على شكل.....لذلك تستخدم.....لرفع المياه.

٢١- تعد بحيرة.....أكثر اجزاء الفيوم انخفاضاً ولذلك تنصرف إليها المياه الزائدة عن الزراعة.

٢٢- من أهم الترع فى شرق الدلتا.....وفى غرب الدلتا.....وفى غرب الوادى.....


٢٣- من أهم القناطر.....على رأس الدلتا وقناطر.....و.....على مجرى نهر النيل.

٢٤- من أهم السدود فى مصر السد.....فى أسوان.

٢٥- تم الانتهاء من بناء السد العالى عام.....لتخزين المياه.

٢٦- تعد بحيرة.....خزاناً دائماً لمياه الفيضانات.


٢٧- تندر النباتات الطبيعیه فى البيئه الزراعيه بسبب.....





دراسات اجتماعية الصف الخامس الابتدائى


- ٢٨- تندر الحيوانات..... فى البيئه الزراعيه مثل..... و.....
- ٢٩- من المؤسسات الحكوميه التى نهتم ببيئتك الزراعيه..... و.....
- ٣٠- يهتم العالم بالزراعه من خلال منظمه.....
- ٣١- بلغ عدد سكان مصر عام..... حوالى..... مليون نسمة ويعيش اكثر من..... مليون نسمة فى البيئه الزراعيه (الريف) والعدد الباقي ويمثل نحو..... فى المناطق الحضرية.
- ٣٢- يقل عدد السكان فى المناطق القريه من..... حيث تقل جودة التربه.
- ٣٣- من العادات الإيجابيه فى البيئه الزراعيه..... و.....
- ٣٤- من العادات السلبيه فى البيئه الزراعيه..... و.....
- ٣٥- تزداد نسبه الأميه فى..... مقارنة ب..... حيث تصل إلى اكثر من..... % من سكانه.
- ٣٦- الأميه هى.....
- ٣٧- من الخدمات المتوفرة لسكان البيئه الزراعيه..... و.....
- ٣٨- البطالة هى.....
- ٣٩- الهجرة هى.....
- ٤٠- العشوائيات هى.....
- ٤١- يتسم التراث الشعبى النوبى ب.....
- ٤٢- يعكس الفن..... الثقافه النوبية المتميزه التى هى جزء أصيل من تاريخ وثقافه المصريين.
- ٤٣- النشاط الأقتصادى هو.....





دراسات اجتماعية الصف السادس الابتدائى

- ٤٤- يعمل معظم سكان البيئه الزراعيه بالزراعة بسبب توفر.....
.....و.....و.....
- ٤٥- من الحبوب الغذائيه.....و.....و.....
- ٤٦- لزيادة الإنتاج السمكى تم إنشاء.....
- ٤٧- من المعالم السياحيه فى الفيوم.....و.....و.....
- ٤٨- من الآثار التى توجد فى محافظة الشرقيه.....
- ٤٩- نشأت الدولة العثمانية أواخر القرن.....الميلادى.
- ٥٠- تم فتح القسطنطينيه فى عام.....م على يد السلطان.....
- ٥١- فى بداية القرن.....اتجه السلطان سليم الأول (١٥١٢ - ١٥٢٠) فى غزواته
نحو المشرق العربى.
- ٥٢- كانت مصر قبل حكم.....تحت حكم المماليك التى امتدت دولتهم فى.....
.....و.....و.....
- ٥٣- اكتشف البرتغاليون طريق رأس الرجاء الصالح عام.....أى أواخر
القرن.....
- ٥٤- دارت معركة مرج دابق فى.....عام.....وهزم فيها.....
- ٥٥- دارت معركة المريدانية فى.....عام.....وهزم فيها المماليك.
- ٥٦- تمثل السلاح الرئيس للقوات المملوكية فى.....فى حين امتلك الجيش العثمانى
قوات من.....و.....
- ٥٧- أرتبطت مصر.....الإدارة العثمانية وترتب على ذلك فقد مصر.....
.....وتحولها إلى.....
- ٥٨- كان نظام الحكم لمصر.....وتألفت هيئات الحكم فى مصر من.....قوى.







دراسات اجتماعية الفصل السادس (الابترائى)

- ٩- من أشهر الصناعات الحرفية فى البيئه الزراعية صناعة الفخار وصناعه الحديد والصلب. ()
- ١٠- من محاصيل الحبوب القمح والأرز والكتان. ()
- ١١- اصبحت القسطنطينية عاصمة للإمبراطورية العثمانية فى عهد محمد الفاتح. ()
- ١٢- ضمت الدولة المملوكية بلاد الشام وأطراف شبه الجزيرة العربية فقط. ()
- ١٣- اكتشفت البريطانيون طريق رأس الرجاء الصالح. ()
- ١٤- فرضت الدولة العثمانية سيطرتها على مصر عام ١٥١٧م. ()
- ١٥- كان نظام الحكم العثمانى لمصر عادلاً. ()
- ١٦- قام السلطان سليم الأول بترحيل أمهر الصناع والحرفيين إلى الأستانه. ()
- ١٧- نشطت التجارة وازدهرت الصناعة أثناء الحكم العثمانى لمصر. ()
- ١٨- حُرم المصريون من خيرات بلادهم فى ظل الحكم العثمانى. ()

السؤال الثالث:-

اكتب ما تشير إليه العبارة:-

- ١- البيئه التى نشأت فى السهول الفيضية. ()
- ٢- سهل يتكون من التربه الطينية التى يأتى بها نهر النيل من منابعه. ()
- ٣- إزالة الطبقة السطحيه الخصبة من التربه مما يؤدى إلى لتدهورها. ()
- ٤- إستهلاك وإستغلال الموارد الطبيعیه بشكل غير منتظم مما يؤدى لضياعها أو إنقراضها. ()
- ٥- قناة مائيه يتم حفرها لتوصيل المياه من النهر إلى الأراضى الزراعية. ()



دراسات اجتماعية الصف السادس الابتدائي



٦- حاجز مائى أنشى بغرض رفع منسوب الماء للأراضى مرتفعه المنسوب.

()

٧- بناء هندسى يشيد على الأنهار لتجنب أخطار الفيضانات.

()

٨- حواجز مبنية بجوار المسطحات المائيه وتربى فيها زريعة الاسماك ويتم تغذيتها بالأعلاف.

()

٩- قناة يتم حفرها عند منسوب أقل من منسوب الترع والأراضى الزراعية لصرف المياه الزائده عن التربه.

()

١٠- قبائل من آسيا الوسطى، وقد عرفوا بالعثمانيين نسبه لمؤسس دولتهم "عثمان بن أرطغرل".

()

١١- غلمان تم جلبهم بواسطة التجار اشتراهم السلاطين والأمراء والحقوهم بمدارس خاصة.

()

١٢- طريق تجارى بحرى اكتشفه البرتغاليون وهو يدور حول قارة أفريقيا من جهتى الغرب والجنوب.

()

السؤال الرابع:-

اكمل العبارات الآتية:-

١- تنوع البيئات المصرية.

.....

٢- قيام الزراعة فى الساحل الشمالى للبيئه الساحلية.


.....

٣- قيام الزراعة فى الواحات.

.....

لا توجد الزراعة فى الأطراف الشمالية للدلتا.

.....





دراسات اجتماعية الفصل السادس (الابتدائي)

٥- اختفاء الأراضي الزراعية في القاهرة.

.....

٦- يعتبر منخفض الفيوم جزء من وادي النيل.

.....

٧- سهولة الزراعة في الوادي والدلتا.

.....

٨- استخدام السواقي لرفع المياه لرى الأراضي بالفيوم.

.....

٩- استخدام بحيرة قارون كمصرف للمياه الزائدة عن الزراعة.

.....

١٠- أهمية بناء السد العالي.

.....

١١- تندر النباتات الطبيعية في البيئه الزراعية.

.....

١٢- تراجع المساحة الزراعية في الدلتا.

.....

١٣- قلة عدد السكان في الوجه القبلى عن الدلتا.

.....

١٤- معدل الزيادة السكانية الطبيعیه في البيئه الزراعيه أعلى من معدلها في المناطق الحضرية.

.....





دراسات اجتماعية الصف السادس الابتدائي

١٥- إزدهار دولة المماليك فى مصر والشام.

.....

١٦- ضعف وانهيار دولة المماليك.

.....

١٧- اتجاه الزحف العثمانى نحو مصر.

.....

١٨- أهميه وظيفه الوالى "الباشا".

.....

١٩- أهميه الحامية العسكرية العثمانية.

.....

٢٠- تدهور الأحوال الاقتصادية فى مصر فى العصر العثمانى.

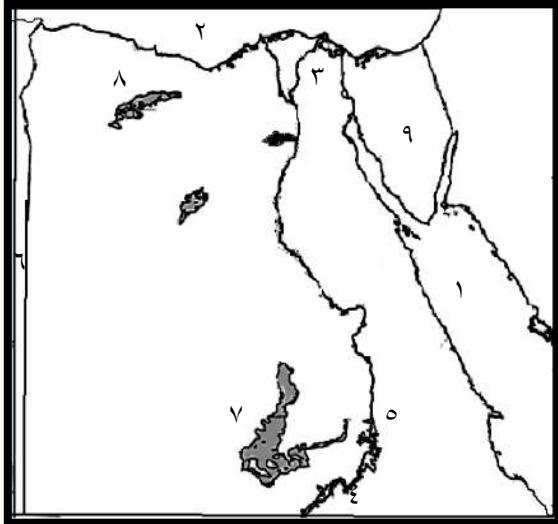
.....



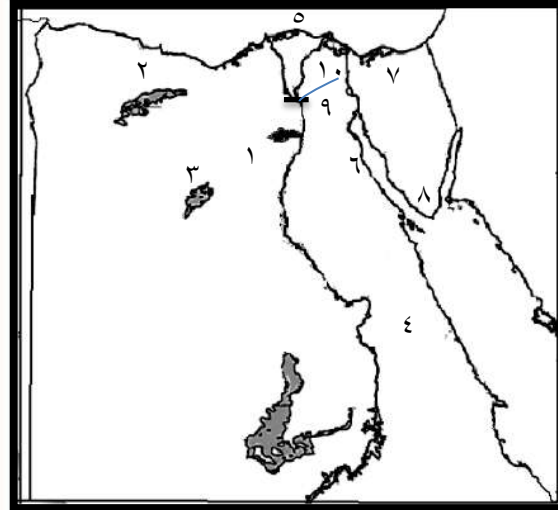


السؤال الخامس:-

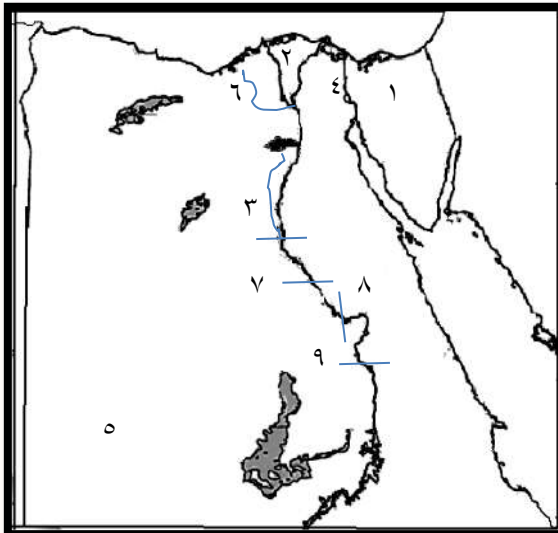
أمامك خرائط صماء لمصر وضع ما تدل عليه الأرقام:-



- (١)
- | | |
|-------------------|---------------|
| ١- البحر..... | ٢- البحر..... |
| ٣- فرع..... | ٤- بحيرة..... |
| ٥- السد..... | ٦- دولة..... |
| ٧- الواحات..... | ٨- منخفض..... |
| ٩- شبه جزيرة..... | |



- (٢)
- | | |
|-----------------|---------------|
| ١- منخفض..... | |
| ٢- منخفض..... | |
| ٣- الواحات..... | |
| ٤- الصحراء..... | |
| ٥- البحر..... | ٦- خليج..... |
| ٧- بحيرة..... | ٨- محمية..... |



- (٣)
- | | |
|----------------------|---------------|
| ١- شبه جزيرة..... | |
| ٢- منطقة زراعية..... | |
| ٣- ترعة..... | ٤- قناة..... |
| ٥- الصحراء..... | ٦- ترعه..... |
| ٧- قناطر..... | ٨- قناطر..... |
| ٩- قناطر..... | |





الإجابة

السؤال الأول: اكمل العبارات الآتية:-

- ١- المكان الذى نعيش فيه ويضم ظواهر طبيعية ومظاهر حضارية ويتوفر به مقومات الحياة وتؤثر فيه ونتأثر به.
- ٢- التنوع – التكامل – التداخل.
- ٣- الصحراوي – الساحلية – زراعيه – صناعيه.
- ٤- الحاصلات الزراعيه – المنتجات الحيوانية.
- ٥- الصناعات المختلفه.
- ٦- المعادن المختلفه – الثروات المائية.
- ٧- نهر النيل – الدلتا – الزراعة.
- ٨- البيئة الى يتوفر بها مقومات الزراعة وما يرتبط بها من أعمال أخرى.
- ٩- مياه نهر النيل – المياه الجوفيه.
- ١٠- الساحل الشمالى – الأمطار الشتوية.
- ١١- مثلث – المتوسط – القاهرة.
- ١٢- السهول الفيضيه – ٨,٥ مليون فدان.
- ١٣- ٥٥
- ١٤- ١١
- ١٥- ١٠٠٠ – نهر النيل – اسوان – القاهرة.
- ١٦- ٢٨ – ٩ .
- ١٧- ٦٠٠ – الوراق – الزمالك – الذهب.
- ١٨- الفيوم – الشمال الغربى.
- ١٩- بحر يوسف – قارون.
- ٢٠- مدرجات واسعه – السواقي.
- ٢١- قارون.
- ٢٢- الأسماعيليه – النوباريه – الإبراهيميه.





دراسات اجتماعية الفصل السادس (الابترائي)

- ٢٣- الخيرية – إسنا – أسيوط.
- ٢٤- العالى.
- ٢٥- ١٩٧٠م.
- ٢٦- ناصر.
- ٢٧- كثافة النشاط الزراعى.
- ٢٨- البرية – الذئاب – الثعالب.
- ٢٩- الجمعيه التعاونيه – الزراعيه – بنك الأئتمان الزراعى.
- ٣٠- الأغذية والزراعة (الفاو) FAO
- ٣١- ٢٠٠٦ – ٧٢,٨ – ٤١
- ٣٢- ٣١
- ٣٣- الصحارى
- ٣٤- احترام الكبير – التمسك بالأراضى الزراعيه.
- ٣٥- تفضيل الذكور على الإناث – الزواج المبكر.
- ٣٦- الريف – المدن – ٥٠ .
- ٣٧- عدم معرفة القراءة والكتابة.
- ٣٨- الوحدات الصحية – وحدات تنظيم الأسرة – مراكز شباب ريفية.
- ٣٩- الأفراد الذين فى سن العمل ولا يعملون.
- ٤٠- انتقال الأفراد من مكان لآخر سواء داخل الدولة أو خارجها ويكون لفترة زمنية طويلة.
- ٤١- المناطق التى بنيت بدون تخطيط من الدولة وبعضها عن طريق وضع اليد وعادة ما تظهر حول أطراف المدن.
- ٤٢- العراق – الثراء – التنوع.
- ٤٣- النوبى.
- ٤٤- استخدام الإنسان للموارد المتاحة لسد احتياجه من مأكّل وملبس ومشرب.
- ٤٥- التربة الخصبه – المياه العذبه – وسائل النقل.
- ٤٦- القمح – الأرز – الذرة.
- ٤٧- المزارع السمكية.
- ٤٨- تل بسطه.





دراسات اجتماعية الصف الخامس الابتدائي

- ٤٩- الخامس عشر.
- ٥٠- الثالث عشر.
- ٥١- ١٤٥٣ - محمد الفاتح.
- ٥٢- السادس عشر.
- ٥٣- العثمانيين - مصر - بلاد الشام - اليمن - أطراف الجزيرة.
- ٥٤- ١٤٩٨ م - الخامس عشر الميلادي.
- ٥٥- شمال سوريا - ١٥١٦م - المماليك.
- ٥٦- صحراء العباسية - ١٥١٧م .
- ٥٧- الفرسان - المشاة - المدفعية.
- ٥٨- بتنظيم - لإستقلالها - ولايه.
- ٥٩- استبداديا - ثلاث.
- ٦٠- نائب - القلعه - ١ : ٣ .
- ٦١- كبار ضباط الحاميه - كبار الموظفين - كبار العلماء - الأعيان.
- ٦٢- الزراعة - التجارة - الصناعة.
- ٦٣- حفظ القرآن - دروس الفقه والتشريع.
- ٦٤- التأليف.
- ٦٥- ٢ ١/٣ - المماليك - الأتراك.

السؤال الثاني: ضع علامة (✓) أو (x) مع تصويب الخطأ:-

- ١- (✓)
- ٢- (✓)
- ٣- (x) لا توجد
- ٤- (✓)
- ٥- (x) السلبيه
- ٦- (x) انخفاض



دراسات اجتماعية الفصل السادس (الابتدائي)

٧- (✓)

٨- (✓)

٩- (x) الآثاث

١٠- (x) الذرة

١١- (✓)

١٢- (x) مصر واليمن

١٣- (x) البرتغاليون

١٤- (✓)

١٥- (x) استبدادياً

١٦- (✓)

١٧- (x) كسدت التجارة – تأخرت الصناعة.

١٨- (✓)

السؤال الثالث: اكتب ما تشير إليه العبارة:-

١- البيئه الزراعية.

٢- سهل فيضى.


٣- تجريف.

٤- استنزاف.

٥- التربة.

٦- القناطر.

٧- السد.





دراسات اجتماعية الفصل السادس (الابتدائي)

٨- مزارع سمكية.

٩- المصرف.

١٠- العثمانيون.

١١- الممالك.

١٢- طريق رأس الرجاء الصالح.

السؤال الرابع: بم تفسر:-

١- تنوع البيئات المصرية.

(١) إتساع مساحة مصر والتي تزيد قليلاً عن ١ مليون كم^٢.

(٢) تنوع مظاهر السطح.

(٣) تنوع الموارد الطبيعية.

٢- قيام الزراعة فى الساحل الشمالى للبيئة الساحلية.

- لوجود الأمطار الشتوية.

٣- قيام الزراعة فى الواحات.

- اعتماداً على المياه الجوفية.

٤- لا توجد الزراعة فى الأطراف الشمالية للدلتا.

- بسبب ارتفاع نسبة الملوحة وكثرة المستنقعات بها.

٥- اختفاء الأراضى الزراعية فى القاهرة.

- نتيجة الزحف العمرانى عليها.

٦- يعتبر منخفض الفيوم جزء من وادى النيل.





دراسات اجتماعية المصفى الأساسى (الابترائى)

- لأنه يتصل بنهر النيل عن طريق ترعة بحر يوسف التى تجلب مياه نهر النيل والتربه الطينية إلى داخل المنخفض.

٧- سهولة الزراعة فى الوادى والدلتا.

- لأن البيئه الزراعية فى الوادى والدلتا تتميز بإستواء سطحها وعدم وجود مناطق مرتفعة.

٨- استخدام السواقي لرفع المياه لرى الأراضى بالفيوم.

- لأن أراضيه تظهر على شكل مدرجات واسعة.

٩- إستخدام بحيرة قارون كمصرف للمياه الزائدة عن الزراعة.

- لأن بحيرة قارون هى أكثر أجزاء الفيوم انخفاضاً لذلك تنصرف إليها المياه.

١٠- أهمية بناء السد العالى.

(١) تخزين مياه الفيضان الزائدة. (٢) توليد الكهرباء.

(٣) التوسع فى استصلاح الأراضى الزراعية.

١١- تندر النباتات الطبيعية فى البيئه الزراعية.

- بسبب كثافة النشاط الزراعى الذى يمارسه الانسان منذ الاف السنين "ولكنها تنمو على جوانب الترع وضايف نهر النيل".

١٢- تراجع المساحة الزراعية فى الدلتا.


- بسبب الزحف العمرانى عليها.

١٣- قله عدد السكان فى الوجه القبلى عن الدلتا.

- نظراً لضيق مساحة الأراضى الزراعية.

١٤- معدل الزيادة السكانية الطبيعى فى البيئه الزراعيه أعلى من معدلها فى المناطق الحضرية.

(١) كثرة الانجاب. (٢) الزواج المبكر. (٣) تعدد الزوجات.





دراسات اجتماعية الصف السادس الابتدائي

١٥- إزدهار دولة المماليك فى مصر والشام.

- بسبب موقعها الجغرافى المسيطر على طرق التجارة بين أوروبا والشرق.

١٦- ضعف وانهايار دولة المماليك.

(١) الأزمات المالية والتدهور الإقتصادى بعد اكتشاف البرتغاليون لطريق رأس الرجاء الصالح ١٤٩٨م.

(٢) سوء الأوضاع السياسية وضعف القوة العسكرية بسبب الفتن والإضطرابات بين فرق المماليك المختلفة.

١٧- اتجاه الزحف العثمانى نحو مصر.

- لأنها المقر الرئيسى للسيادة المملوكية ومفتاحا للمشرق العربى.

١٨- أهميه وظيفه الوالى "الباشا".

(١) يشرف على تنفيذ القرارات الصادرة من السلطان العثمانى.

(٢) يرسل الخراج المفروض على البلاد.

(٣) يحافظ على الأمن فى الولاية.

(٤) يدعو الديوان للإنعقاد.

١٩- أهميه الحامية العسكرية العثمانية.

- تكونت من فرق عسكرية ومن مهامها الدفاع عن البلاد.

٢٠- تدهور الأحوال الاقتصادية فى مصر فى العصر العثمانى.

- بسبب إهمال الزراعة وكساد التجارة وتأخر الصناعة.



دراسات اجتماعية الصف السادس الابتدائي



السؤال الخامس:-

أمامك خرائط صماء لمصر وضع ما تدل عليه الأرقام:-

(١)

١- البحر الأحمر ٢- البحر المتوسط

٣- فرع دمياط ٤- بحيرة ناصر

٥- السد العالي ٦- دولة ليبيا

٧- الواحات الخارجة ٨- منخفض القطارة

٩- شبه جزيرة سيناء

(٢)

١- منخفض الفيوم

٢- منخفض القطارة

٣- الواحات البحرية

٤- الصحراء الغربية

٥- البحر المتوسط ٦- خليج السويس

٧- بحيرة البردويل ٨- محمية رأس محمد

٩- القناطر الخيرية ١٠- ترعة الإسماعيلية

(٣)

١- شبه جزيرة سيناء

٢- منطقة زراعية الدلتا

٣- ترعة الإبراهيمية ٤- قناة السويس

٥- الصحراء الغربية ٦- ترعة المحمودية

٧- قناطر ديروط ٨- قناطر نجع حمادى

٩- قناطر إسنا

"مع ثباتنا بالنجاح والتوفيق"