




الرياضيات




الصف الأول الابتدائي

الأسئلة


(1) كون مجموعات :



(2) كون مجموعة من السيارات :



(3) كون مجموعة من 4 :-



كم مجموعة لديك؟

بوابة الأشراف التعليمية

www.alashrafedu.com




الرياضيات

الصف الأول الابتدائي




4- كون مجموعة من القلوب الأكبر:-




5) وصل كل وردة بشجرة :

أى المجموعتين أصغر؟



6) أكمل بأستخدام أكثر أو أقل :-



الديدان تكون من الأشجار





الرياضيات




الصف الأول الابتدائي

(7) ارسم لتجعل المجموعات متساوية:-



(8) صل المجموعات المتساوية :-



بوابة الأشراف التعليمية

www.alashrafedu.com



الرياضيات




الصف الأول الابتدائي

9- عد ثم أكتب الرقم بالحروف:



.....



.....



.....



.....




.....

10- ضع دائرة حول الإجابة الصحيحة



(4 ، 3 ، 2)



(3 ، 2 ، 1)



(3 ، 2 ، 1)



(3 ، 2 ، 1)

11- أكتب بالحروف:-

..... 6 *

..... 1 *

..... 5 *

..... 4 *

..... 9 *

..... 7 *

..... 8 *

..... 2 *



الرياضيات




الصف الأول الابتدائي

12- أكتب بالأرقام:

- * أربعة
 * خمسة
 * ثمانية
 * إثنان
 * ستة
 * سبعة
 * تسعة
 * واحد

13- صل:-



- 6
 7
 خمسة
 ثلاثة
 واحد

14- ضع دائرة حول الرقم الأصغر:-

5 ، أربعة ، 1 ، 7

15- أكمل بنفس التسلسل:-


1 ، 2 ، ،
 9 ، 7 ، ،

16- أكمل:-

2 أصغر من
 5 >
 6 <
 4 >
 ثلاثة أكبر من



الرياضيات



الصف الأول الابتدائي

17- ضع علامة < ، > أو = :-

5	<input type="checkbox"/>	9
6	<input type="checkbox"/>	5
7	<input type="checkbox"/>	سبعة
أربعة	<input type="checkbox"/>	اثنين
سته	<input type="checkbox"/>	9

18- رتب تصاعدياً :-

خمسة ، 4 ، 2 ، 8 ، 6

..... ، ، ، ،

19- رتب تنازلياً :-

2 ، 4 ، 9 ، 5 ، 7

..... ، ، ، ،

20- أكمل باستخدام الصور:




1- ترتيب السيارة هو

2- ترتيب النجمه هو

3- ترتيب هو الثالث.



الرياضيات



الصف الأول الابتدائي

21- الإجابة الصحيحة من بين القوسين:-



(الأول – الثاني – الثالث)



1- ترتيب

(الرابع – الأول – الخامس)



2- ترتيب

(الأول – الثاني – الخامس)



3- ترتيب

(الثاني – الأول – الرابع)



4- ترتيب

(الأول – الثالث – الرابع)



5- ترتيب

22- أكمل:-

1- العدد التالي لرقم 2 هو

2- العدد التالي لرقم 6 هو

3- العدد التالي للرقم واحد هو

4- العدد السابق لرقم 8 هو

5- العدد السابق لرقم ستة هو

6- العدد السابق لرقم 1 هو

بوابة النشرف التعليمية

www.alashrafedu.com



الرياضيات

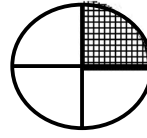


الصف الاول الابتدائي

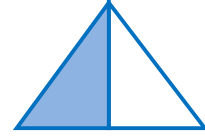
23- أكتب الكسر حسب الجزء المظل:-




.....



.....



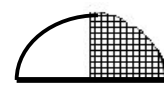
.....



.....



.....



.....

24- ضع دائرة حول العدد الأكبر :-

7 - 3 - 5 - واحد

25- رتب تصاعدياً:

ستة - 4 - 7 - 2 - صفر

26- رتب تنازلياً:

3 - تسعة - 8 - واحد - 5

27- ضع دائرة حول العدد الأصغر

تسعة - 1 - 4 - 6

28- صل:-

0	أربعة
4	تسعه
8	صفر
9	ثمانية



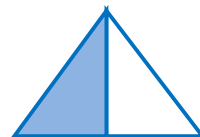
الرياضيات



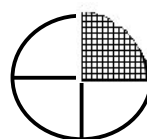
الصف الأول الابتدائي

29- صل:-

$$\frac{1}{4}$$



$$\frac{1}{2}$$



30- رتب تصاعدياً:

أربعة – تسعة – اثنان – خمسة

.....

31- رتب تنازلياً:

صفر – خمسة – تسعة – ثلاثة

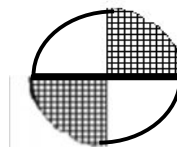
.....

32- اختر مما بين الأقواس.

(نصف – ربع)



(ربع – نصف)





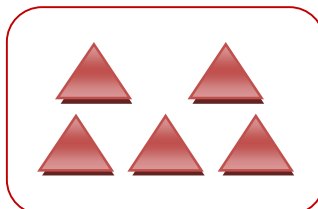

الرياضيات




الصف الاول الابتدائي

الإجابة


(1) كون مجموعات :



(2) كون مجموعة من السيارات :



(3) كون مجموعة من 4 :-



كم مجموعة لديك؟ 4

بوابة الأشراف التعليمية

www.alashrafedu.com





الرياضيات



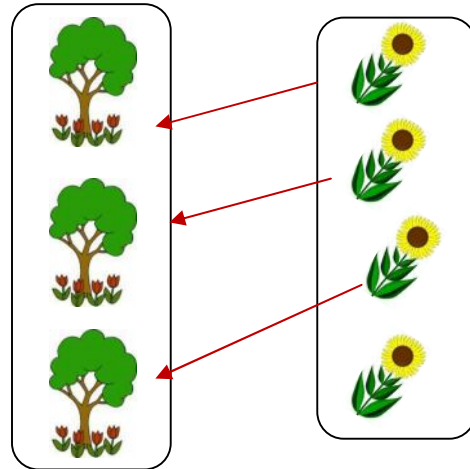


الصف الاول الابتدائي

4- كون مجموعة من القلوب الأكبر:-

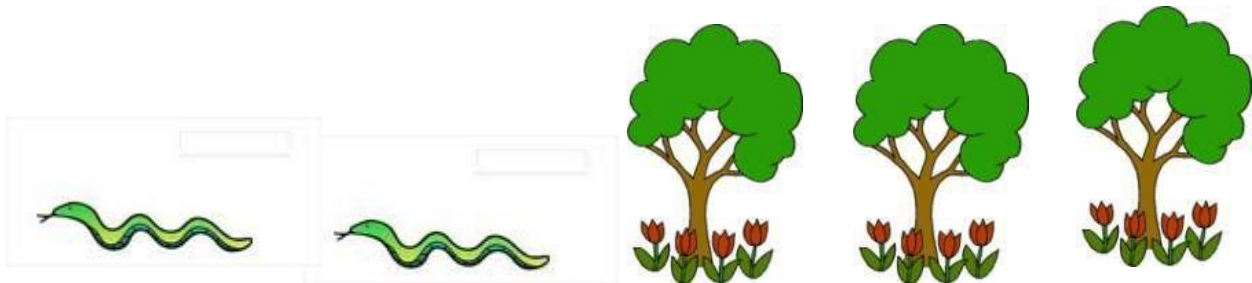


5) وصل كل وردة بشجرة :

أى المجموعتين أصغر؟



6) أكمل بأستخدام أكثر أو أقل :-



الديدان تكون أكثر من الأشجار





الرياضيات

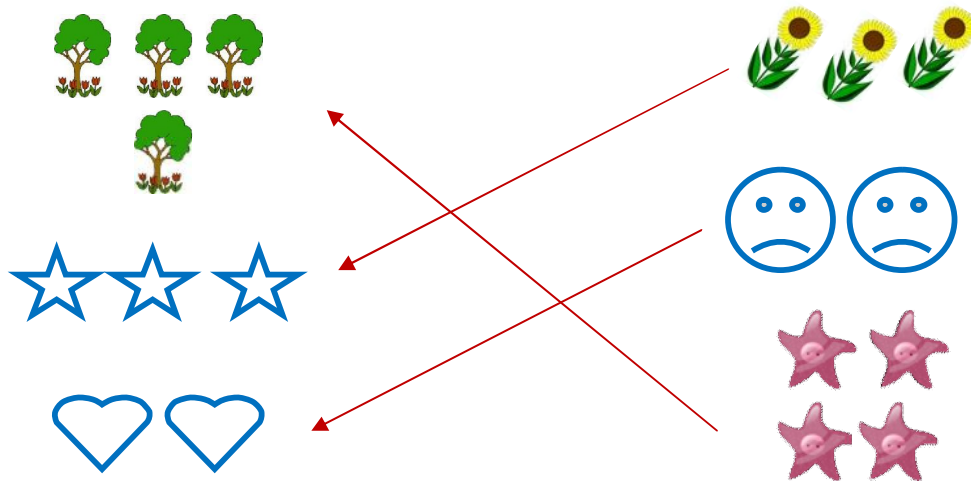


الصف الأول الابتدائي

(7) ارسم لتجعل المجموعات متساوية:-



(8) صل المجموعات المتساوية :-



بوابة الأشراف التعليمية

www.alashrafedu.com



الرياضيات



الصف الأول الابتدائي

9- عد ثم أكتب الرقم بالحروف :




1



4



2



5



3

10- ضع دائرة حول الإجابة الصحيحة



(4، 3، 2)



(3، 2، 1)



(3، 2، 1)



(3، 2، 1)

11- أكتب بالحروف:-

* 6 ستة

* 9 تسعة

* 1 واحد

* 7 سبعة

* 5 خمسة

* 8 ثمانية

* 4 أربعة

* 2 إثنان



الرياضيات




الصف الأول الابتدائي

12- أكتب بالأرقام:

- * أربعة 4
- * ستة 6
- * خمسة 5
- * سبعة 7
- * ثمانية 8
- * تسعة 9
- * إثنان 2
- * واحد 1

13- صل:-



- 6
- 7
- خمسة
- ثلاثة
- واحد

14- ضع دائرة حول الرقم الأصغر:-

7 ، ① ، أربعة ، 5

15- أكمل بنفس التسلسل:-

1 ، 2 ، 3 ، 4 ، 5 ، 6

9 ، 7 ، 5 ، 3 ، 1

16- أكمل:-

5 < 6

2 أصغر من 3

5 > 4

6 > 5

ثلاثة أكبر من 2 ، 1



الرياضيات



الصف الأول الابتدائي

17- ضع علامة < ، > أو = :-

5	<	9
6	>	5
7	=	سبعة
أربعة	>	اثنين
سته	<	9

18- رتب تصاعدياً:-

خمسة ، 4 ، 2 ، 8 ، 6

2 ، 4 ، خمسة ، 6 ، 8

19- رتب تنازلياً:-

7 ، 5 ، 9 ، 4 ، 2

2 ، 4 ، 5 ، 7 ، 9

20- أكمل باستخدام الصور:




4- ترتيب السيارة هو الخامس

5- ترتيب النجمه هو الثاني

6- ترتيب الوردة هو الثالث.



الرياضيات



الصف الأول الابتدائي

21- الإجابة الصحيحة من بين القوسين:-



(الأول – الثاني – الثالث)



6- ترتيب

(الرابع – الأول – الخامس)



7- ترتيب

(الأول – الثاني – الخامس)



8- ترتيب

(الثاني – الأول – الرابع)



9- ترتيب

(الأول – الثالث – الرابع)



10- ترتيب

22- أكمل:-

7- العدد التالي لرقم 2 هو 3

8- العدد التالي لرقم 6 هو 7

9- العدد التالي للرقم واحد هو 2

10- العدد السابق لرقم 8 هو 7

11- العدد السابق لرقم ستة هو 5

12- العدد السابق لرقم 1 هو صفر

بوابة الأشراف التعليمية

www.alashrafedu.com



الرياضيات

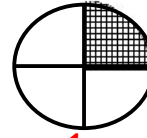


الصف الأول الابتدائي

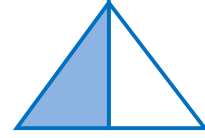
23- أكتب الكسر حسب الجزء المظل:-




$$\frac{1}{2}$$




$$\frac{1}{4}$$



$$\frac{1}{2}$$



$$\frac{1}{2}$$



$$\frac{1}{4}$$



$$\frac{1}{2}$$

24- ضع دائرة حول العدد الأكبر :-

7 - 3 - 5 - واحد

25- رتب تصاعدياً:

ستة - 4 - 7 - 2 - صفر

صفر - 2 - 4 - ستة - 7

26- رتب تنازلياً:

3 - تسعة - 8 - واحد - 5

تسعة - 8 - 5 - 3 - واحد

27- ضع دائرة حول العدد الأصغر

تسعة - 1 - 4 - 6

28- صل:-

0	أربعة
4	تسعه
8	صفر
9	ثمانية



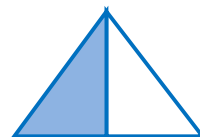
الرياضيات



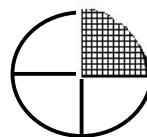
الصف الأول الابتدائي

29- صل:-

$$\frac{1}{4}$$



$$\frac{1}{2}$$



30- رتب تصاعدياً :

أربعة – تسعة – أثنان – خمسة

أثنان – أربعة – خمسة – تسعة

31- رتب تنازلياً:

صفر – خمسة – تسعة – ثلاثة

تسعة – خمسة – ثلاثة – صفر

32- اختر مما بين الأقواس.

(نصف – ربع)



(ربع – نصف)

