

محافظة القاهرة

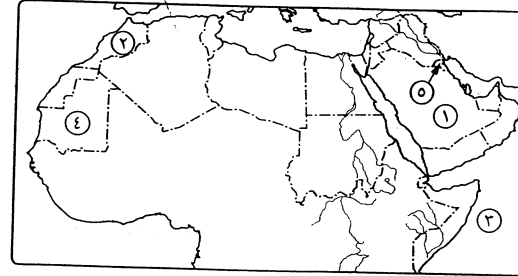
ادارة شرق مدينة نصر التعليمية  
توجيه الدراسات الاجتماعية

مجاب عنه

الجغرافيا

أولاً

أجب عن الأسئلة الآتية:



- ١/ (١) أمامك خريطة للوطن العربي، اكتب مدلول الأرقام التي عليها:
- (١) من أكبر الدول إنتاجاً للدواجن .....
- (٢) أولى الدول إنتاجاً للفوسفات .....
- (٣) المحيط .....
- (٤) دولة .....

(٥) مقر منظمة الأوابك .....

(ب) يم تفسر ... ؟

- (١) رغم طول السواحل العربية إلا أن إنتاجها من الأسماك قليل.
- (٢) للبترول أهمية كبيرة في الوطن العربي.
- (٣) قلة حجم التبادل التجاري بين الدول العربية. (٤) إنشاء المنظمة العربية للسياحة.

- ٢/ (١) ضع علامة (✓) أمام العبارة الصحيحة، وعلامة (X) أمام العبارة غير الصحيحة، مع تصحيح الخطأ:
- ( ) (١) تعتبر سوريا من أهم دول الوطن العربي في تربية الجاموس.
- ( ) (٢) تعتبر بحيرة ناصر من أهم المصايد البحرية في مصر.
- ( ) (٣) تعد موريتانيا من أهم الدول العربية المنتجة للحديد.
- ( ) (٤) زيارة سواحل البحر الأحمر من السياحة الترفيهية.
- ( ) (٥) يدخل المنجنيز في صناعة أسلاك الكهرباء والتليفون.

(ب) ما المقصود بـ ... ؟ (١) احتياطي المعادن. (٢) التعريفة الجمركية.

(ج) ما مقترحاتك لتحقيق التكامل الاقتصادي العربي ؟

٣/ (١) اختر الإجابة الصحيحة مما بين القوسين :

- (١) \* تتركز تربية الأبقار في دولة ..... ( الجزائر - العراق - السودان - الإمارات )
- (٢) من الدول العربية التي تستخدم الأنهار لتوليد طاقة كهرومائية ..... ( العراق - ليبيا - الإمارات - الجزائر )

(٣) حقل بترول حاسي مسعود من أهم حقول دولة .....

( مصر - الجزائر - السعودية - ليبيا )

(٤) من الواردات العربية ..... ( الأسمت - المنسوجات - الفاكهة - الزيوت )

(ب) «تواجه الصناعة والتجارة العربية عدة مشكلات في الوطن العربي». في ضوء العبارة اذكر :

(١) أهمية الصناعة في الوطن العربي.

(٢) أهم المشكلات التي تواجه الصناعة في الوطن العربي.

ثانياً التاريخ

٤/ (١) صوب ما فوق الخط :

- (١) الخراج ضريبة كانت تؤخذ على كل ما يخرج من باطن الأرض من معادن.
- (٢) اختص علم الحديث ببيان معاني القرآن الكريم وأسباب نزول الآيات.
- (٣) نبغ الحسن بن الهيثم في علم الكيمياء.
- (٤) \* يختص ديوان الجهيزة بمراسلات الخليفة إلى الولاة.
- (٥) تعطى الحرية الفكرية الفرد الحق في التصرف في ماله وأملكه دون تدخل الآخرين.

(ب) ماذا كان يحدث إذا ... ؟ (١) \* كانت الحضارة الإسلامية منغلقة على نفسها.

(٢) انتصر المغول في معركة عين جالوت.

(ج) ماذا تقول لفرد لكي يحرص على المشاركة في الأعمال التطوعية ؟

٥/ (١) \* في أي عصر من العصور ... ؟

- (١) تحولت الخلافة من مبدأ الشورى إلى مبدأ الوراثة.
- (٢) نشأت الدواوين.

(ب) دلل على صحة كل عبارة من العبارات الآتية :

(١) ازدهار التجارة في الدولة الإسلامية.

(٢) اندمج الموالى داخل المجتمع الإسلامي.

(٣) \* لم يعترف الإسلام بفروق بين البشر.

٦/ (١) من هو ... ؟

(١) أُلحق الصابئة بأهل الذمة. (٢) أشهر الجغرافيين المسلمين.

(٣) اكتشف الدورة الدموية. (٤) \* استرد مدينة أنطاكية من الصليبيين.

(ب) \* قارن بين : نظام الحسبة في عصر الخلفاء الراشدين، وعصر الخلفاء العباسيين.

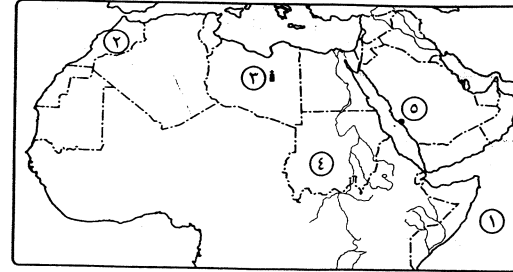
## محافظة الجيزة

إدارة العجوزة التعليمية  
توجيه الدراسات الاجتماعية

مجاب عنه

أولاً الجغرافيا

أجب عن الأسئلة الآتية:



- ١ (١) أمامك خريطة للوطن العربى،  
وضح ما تدل عليه الأرقام،  
(١) المحيط .....  
(٢) دولة منتجة للمنجنيز .....  
(٣) حقول بترول .....  
(٤) أكبر دولة إنتاجاً للثروة  
الحيوانية .....  
(٥) مقر منظمة السياحة العربية .....

(ب) ما المقصود بالآتى ... ؟ (١) المراعى الطبيعية. (٢) التعريفية الجمركية.

٢ (١) اختر الإجابة الصحيحة مما بين القوسين :

- (١) من المعادن الفلزية ..... (المنجنيز - الكبريت - الفوسفات - الحجر الجيرى)  
(٢) من الدول العربية المنتجة للطاقة الكهرومائية .....  
( ليبيا - السودان - اليمن - البحرين )  
(٣) من العوامل البشرية لقيام الصناعة .....  
( السوق - الطاقة الكهرومائية - المواد الخام - البترول )  
(٤) سياحة الشواطئ والسفارى من أنواع السياحة .....  
( العلمية - الدينية - الطبية - الترفيهية )

(ب) أيد بالأدلة صحة كل عبارة مما يأتى :  
(١) غنى الوطن العربى بالبترول. (٢) تبذل الدول العربية جهوداً كبيرة للتنمية السياحية.

٣ (٣) بم تفسر ... ؟ (يكتفى بذكر سبب واحد)

- (١) تقتصر تربية الجاموس على مصر والعراق.  
(٢) أهمية صخور الفوسفات.  
(٣) تواجه الصناعة العربية عدة مشكلات.  
(٤) يواجه التكامل الاقتصادى العربى مشكلات عديدة.

ثانياً التاريخ

٤ (١) إلى من تنسب الأعمال الآتية ... ؟

- (١) مؤسس علم البصريات. (٢) \* أنشئ فى عهده أول أسطول إسلامى.

- (٣) \* قام بعزل المنصور على وتولى حكم البلاد. (٤) وحد قبائل المغول.  
(٥) أول امرأة مسلمة تتولى حكم مصر.

(ب) \* أكمل الجدول الآتى :

الموقع	التاريخ الهجرى	أطراف النزاع
الريمانية	.....	.....
عين جالوت	.....	.....

٥ (١) أعد كتابة العبارات الآتية بعد تصويبها :

- (١) ما يحصل عليه المسلمون من غنائم أثناء الفتوحات الإسلامية يسمى الخراج.  
(٢) علوم الفقه والحديث والتفسير من أهم العلوم الطبيعية.  
(٣) \* استرد الناصر محمد بن قلاوون عكا من أيدي الصليبيين.  
(٤) الديمقراطية كلمة فرعونية تعنى حكم الشعب لنفسه.

(ب) رتب الأحداث التاريخية الآتية من الأقدم إلى الأحدث :

- \* \* وفاة قطز.  
\* \* تولية الظاهر بيبرس الحكم.  
\* سقوط الخلافة العباسية على يد المغول. \* \* إنشاء المدرسة الناصرية.

٦ (١) أيد بالأدلة صحة كل عبارة من العبارات الآتية :

- (١) تعدد المؤسسات المدنية التعليمية الإسلامية. (٢) \* أعلى الإسلام من شأن المرأة.  
(٣) للظاهر بيبرس أعمال عظيمة. (٤) توجد تحديات للمشاركة التطوعية.

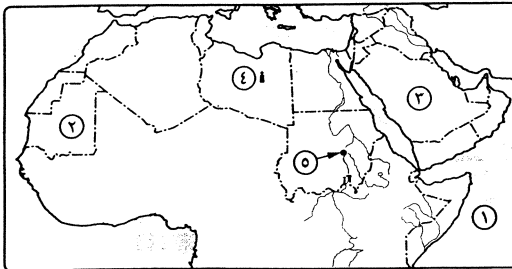
## محافظة الإسكندرية

إدارة وسط التعليمية  
توجيه الدراسات الاجتماعية

مجاب عنه

أولاً الجغرافيا

أجب عن الأسئلة الآتية:



- ١ (١) أمامك خريطة للوطن العربى،  
اكتب مدلول الأرقام التى عليها،  
(١) المحيط .....  
(٢) أولى الدول إنتاجاً  
للحديد .....  
(٣) من أكبر الدول إنتاجاً  
للدواجن .....  
(٤) حقول بترول .....  
(٥) مقر المنظمة العربية للتنمية الزراعية .....

- (ب) بم تفسر ... ؟ (١) بالرغم من طول السواحل العربية إلا أن إنتاجها من الأسماك قليل.  
(٢) أهمية الصناعة في الوطن العربي.

- (١) اكتب كلمة (صح) أمام العبارة الصحيحة، وكلمة (خطأ) أمام العبارة غير الصحيحة :  
(١) من أسباب ضعف التجارة بين الدول العربية تشابه الإنتاج العربي. ( )  
(٢) تتركز تربية الجاموس في مصر والعراق. ( )  
(٣) يدخل الفوسفات في صناعة المبيدات الحشرية. ( )  
(٤) يعتبر المناخ والموقع من أهم المقومات البشرية للجذب السياحي العربي. ( )  
(ب) قارن بين : الصادرات، والواردات العربية، مع ذكر مثالين لكل منهما.

- (١) اكتب ما تشير إليه كل عبارة من العبارات الآتية :  
(١) حشائش تنمو طبيعياً دون تدخل الإنسان.  
(٢) أنشئت عام ١٩٤٥م لتحقيق التعاون بين الدول العربية.  
(٣) أي دولة عربية يمكنها أن تستكمل ما ينقصها من موارد اقتصادية وبشرية من الدول العربية الأخرى.  
(٤) رياضة شعبية تمارس في الوطن العربي معتمدة على الإبل.  
(ب) دلل على صحة كل عبارة مما يأتي :  
(١) تواجه الصناعة العربية عدة مشكلات.  
(٢) السياحة في وطننا العربي لها أهمية كبيرة.

### ثانياً التاريخ

- (١) اختر الإجابة الصحيحة مما بين القوسين :  
(١) نبغ الحسن بن الهيثم في علم ..... ( الكيمياء - الطب - الفلك - الفيزياء )  
(٢) \* تم قتل توران شاه على يد ..... ( المغول - الصليبيين - المماليك - العثمانيين )  
(٣) \* عُرف منصب الإمارة في عهد .....  
( الرسول ﷺ - الخلفاء الراشدين - الأمويين - العباسيين )  
(٤) من أشهر علماء المسلمين في علم الاجتماع .....  
( سيبويه - ابن الأثير - ابن خلدون - الفارابي )  
(٥) \* قام الخليفة ..... بإنشاء بيت مال المسلمين.  
( أبو بكر الصديق - عمر بن الخطاب - عثمان بن عفان - علي بن أبي طالب )

- (ب) ما النتائج التي ترقبت على ... ؟

- (١) اكتشاف البرتغاليين طريق رأس الرجاء الصالح.  
(٢) \* قيام المجتمع الإسلامي على عدة دعائم مثل المساواة والتسامح والحرية.

- (١) أعد كتابة العبارات الآتية بعد تصويب ما تحته خط :  
(١) يختص علم التفسير بتدوين ما ورد عن الرسول ﷺ.  
(٢) الجزية ركن من أركان الإسلام فرض على المسلم ليعطى للفقراء والمحتاجين.  
(٣) \* الموالى هم اليهود والنصارى الذين ظلوا على دينهم بعد الفتح الإسلامي.  
(٤) \* التتار هم مجموعة من أجناس مختلفة جلبهم الأيوبيون من أسواق الرقيق وأسرى الحروب.

- (ب) «قام عمر بن الخطاب بتطوير النظام الاقتصادي للدولة الإسلامية فأنشأ بيت مال المسلمين». على ضوء هذه العبارة أجب عما يلي :  
(١) ما العملات التي كانت مستخدمة في الدولة الإسلامية ؟  
(٢) اذكر إيرادات بيت مال المسلمين.

- (١) لمن تنسب الأعمال الآتية ... ؟  
(١) \* أحيا الخلافة العباسية في القاهرة بعد تدمير بغداد.  
(٢) \* قام بتنظيم الشرطة.  
(٣) \* ألحق البربر بأهل الذمة.  
(٤) نجح في حماية العالم الإسلامي من الخطر المغولي.  
(ب) ما رأيك في ... ؟ (١) الديمقراطية تعني المساواة بين أفراد المجتمع.  
(٢) تطبيق المشاركة التطوعية في حياتنا.



مديرية التربية والتعليم  
إدارة قلوب التعليمية

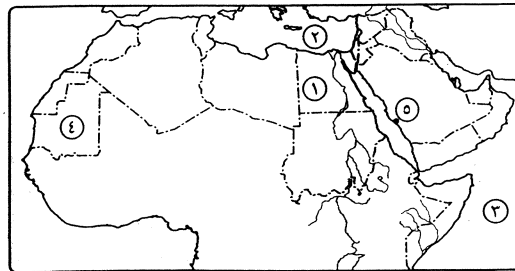
### ٤ محافظة القليوبية

مجاب عنه

الجغرافيا

أولاً

أجب عن الأسئلة الآتية:



- (١) أمامك خريطة للوطن العربي، اكتب ما تدل الأرقام الموضحة عليها :  
(١) من أهم الدول المنتجة للفحم .....  
(٢) البحر .....  
(٣) من المصايد البحرية المحيط .....  
(٤) أولى الدول المنتجة للحديد .....  
(٥) مدينة بها مقر المنظمة العربية للسياحة .....

(ب) قارن بين : المنجنيز، والنحاس من حيث :  
\* أهم الدول المنتجة. \* أهم الصناعات القائمة عليه.

٢ (١) اكتب ما تشير إليه كل عبارة من العبارات الآتية :

- (١) حشائش فى شمال الوطن العربى تربي عليها الأغنام والماعز.
- (٢) دولة عربية توجد بها كل أنواع مصايد الأسماك.
- (٣) معدن يستخدم فى صناعة المبيدات الحشرية والطوب الحرارى.
- (٤) السلع والخدمات والمنتجات التى تبيعها الدول للدول الأخرى.

(ب) ماذا يحدث إذا ... ؟ (١) انخفض إنتاج الوطن العربى من البترول.  
(٢) زاد نصيب الدول العربية من السياحة العالمية.

٣ (١) اكتب كلمة (صح) أمام العبارة الصحيحة، وكلمة (خطأ) أمام العبارة الخطأ فيما يلى :

- (١) \* من أسناب قلة الإنتاج السمكى بالوطن العربى اتجاه السكان للعمل فى استخراج البترول. ( )
- (٢) تعد السودان من الدول التى تمارس بها سباق الهجن. ( )
- (٣) أكثر الحيوانات انتشاراً فى الوطن العربى الأغنام. ( )
- (٤) تعد الصناعة التحويلية الأكثر انتشاراً فى الوطن العربى. ( )

(ب) ما النتائج المترتبة على ... ؟  
(١) تشابه الإنتاج الزراعى والصناعى فى البلاد العربية.  
(٢) إنشاء جامعة الدول العربية.

### ثانياً التاريخ

٤ (١) اختر الإجابة الصحيحة لكل عبارة مما يأتى مما بين القوسين :

- (١) هم أصل الدولة الإسلامية واختارهم الله لحمل الرسالة وتبليغها للناس ..... ( العرب - الفرس - أهل الذمة - المجوس )
- (٢) يختص ببيان معانى القرآن الكريم وأسباب نزول الآيات علم ..... ( الفقه - الحديث - التفسير - اللغة )
- (٣) مبلغ من المال يؤخذ من أهل الذمة ..... ( الزكاة - الخراج - العشور - الجزية )
- (٤) يُعد علم التاريخ من العلوم ..... ( الاجتماعية - الشرعية - اللغوية - الطبيعية )
- (٥) تم إنشاء البيمارستان المنصورى فى عهد الدولة ..... ( الطولونية - الإخشيدية - الفاطمية - المملوكية )

(ب) أيد بالأدلة التاريخية صحة كل عبارة مما يأتى :  
(١) تعدد مصارف بيت المال. (٢) برع المسلمون فى علم الفلك.

٥ (١) أعد كتابة العبارات التالية بعد تصويب ما تحته خط :

- (١) أطلق المسلمون اسم علم الصنعة على علم الفيزياء.
- (٢) نجح الظاهر بيبرس فى استرداد إمارة الرها من الصليبيين.
- (٣) يطلق على القبائل التى جاءت من وسط آسيا وغزت العالم الإسلامى اسم الصليبيين.
- (٤) الحرية الدينية تعطى الفرد الحق فى التصرف فى أملاكه دون تدخل من الآخرين.

(ب) ما المقصود بما يلى ... ؟ (١) الموالى. (٢) المشاركة التطوعية.

٦ (١) لمن تنسب الأعمال الآتية ... ؟

- (١) أدخل تعديلات على النقود لتأخذ الشكل الإسلامى.
- (٢) أسس علم البصريات. (٣) \* أول قاضى فى الإسلام.
- (٤) \* تحرك بجيشه نحو بغداد واستولى عليها.

(ب) «نجح المسلمون فى بناء حضارة عظيمة أنارت العالم ...»

فى ضوء العبارة السابقة أجب عما يأتى :  
(١) وضع أحوال مصر فى عهد الدولة المملوكية.  
(٢) ما رأيك فى : أعمال المغول عند دخولهم بغداد ٦٥٦ هـ ؟

### ٥ محافظة الشرقية

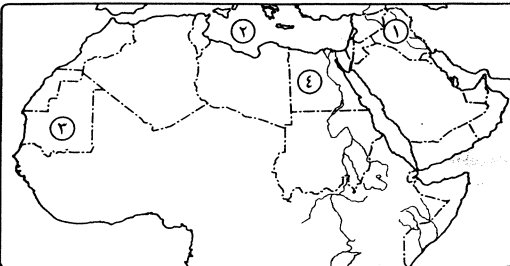
ادارة غرب الزقازيق التعليمية  
توجيه الدراسات الاجتماعية

مجاب عنه

الجغرافيا

أولاً

أجب عن الأسئلة الآتية :



١ (١) أمامك خريطة للوطن العربى،

اكتب ما تدل عليه الأرقام :

- (١) دولة يُربى بها الجاموس .....
- (٢) البحر .....
- (٣) دولة منتجة للحديد .....
- (٤) دولة بها مقر الجامعة العربية .....

(ب) اكتب ما تشير إليه كل عبارة من العبارات الآتية :

- (١) رياضة شعبية تمارس في الوطن العربي وفيها تتسابق الإبل بسرعة قد تصل إلى ٦٤ كم / ساعة.
- (٢) من الصخور الاقتصادية والتي تدخل في صناعة الأسمدة والمبيدات الحشرية.
- (٣) كمية المخزون في باطن الأرض من المعادن المختلفة.
- (٤) الرسوم التي تفرض على السلع التي تستوردها الدول من الخارج.
- (٥) السلع والمنتجات والخدمات التي تبيعها الدول العربية للدول الأخرى.

٢ (١) بم تفسر ... ؟ (١) تزايد إنتاج الغاز الطبيعي في الوطن العربي.  
(٢) ضعف التبادل التجاري بين الدول العربية.

(ب) اختر الإجابة الصحيحة مما بين القوسين :

- (١) أولى الدول العربية في إنتاج الأسماك ..... (السعودية - مصر - اليمن - المغرب)
- (٢) يوجد خام ..... منفرداً أو مختلطاً بالغاز الطبيعي والحديد.  
(الكبريت - الفوسفات - المنجنيز - الزنك)
- (٣) تدخل مشتقات البترول في العديد من الصناعات مثل .....  
(أسلاك الكهرباء - السبائك - الألياف الصناعية - الصلب)
- (٤) يوجد مقر المنظمة العربية للتنمية الزراعية في .....  
(جدة - الكويت - الخرطوم - الرباط)

٣ (١) أكمل العبارات الآتية بما يناسبها :

- (١) تبلغ مساحة المراعى الطبيعية نحو ..... % من مساحة الوطن العربي.
- (٢) تعتبر دولة ..... من أكبر الدول العربية في تربية الدواجن.
- (٣) زيارة الشواطئ في مصر ولبنان من أنواع السياحة .....
- (٤) تعد دولة ..... أكبر الدول العربية امتلاكاً للثروة الحيوانية قبل تقسيمها.

(ب) دال على صحة كل عبارة مما يأتى :

- (١) تبذل الدول العربية جهوداً كبيرة لحل مشكلات الصناعة والتجارة.
- (٢) تعمل جامعة الدول العربية على تحقيق التعاون بين الدول العربية.

### ثانياً التاريخ

٤ (١) صوب ما تحته خط في العبارات الآتية :

- (١) ضريبة الركاك تؤخذ على بضائع التجار غير المسلمين.
- (٢) يعد جابر بن حيان من أشهر علماء المسلمين في الفيزياء.

(٣) بدأ تطوير النظام الاقتصادى للدولة الإسلامية في عهد على بن أبى طالب.

(٤) أصبحت مصر ولاية عثمانية بعد معركة مرج دابق ١٥١٧م.

(٥) الديمقراطية كلمة رومانية وتعنى حكم الشعب لنفسه.

(ب) ما النتائج التي ترقبت على ... ؟

(١) \* اتساع الدولة الإسلامية في عهد الخليفة عمر بن الخطاب.

(٢) \* موقعة عين جالوت عام ٦٥٨ هـ.

٥ (١) إلى من تنسب الأعمال الآتية ... ؟

(١) اكتشاف الدورة الدموية.

(٢) ألق المجوس بأهل الذمة.

(٣) \* أحيى الخلافة العباسية في القاهرة عام ٦٥٩ هـ.

(٤) \* عين قاضيًا لكل ولاية.

(ب) بم تفسر ... ؟ (١) \* دخول كثير من الناس في الإسلام على يد التجار المسلمين.

(٢) تنازل شجر الدر لزوجها عز الدين أيبك عن الحكم.

٦ (١) \* قارن بين : الخلافة، والوزارة من حيث المفهوم.

(ب) رتب الأحداث التاريخية الآتية من الأقدم إلى الأحدث :

\* اكتشاف طريق رأس الرجاء الصالح. \* عزل المنصور على.

\* معركة عين جالوت. \* وفاة جنكيز خان.

## ٦ محافظة المنوفية

ادارة منوف التعليمية

توجيه الدراسات الاجتماعية

مجاب عنه

أولاً الجغرافيا

أجب عن الأسئلة الآتية:

١ (١) أمامك خريطة للوطن العربي،

اذكر ما تدل عليه الأرقام

الآتية :

(١) دولة منتجة للغاز

الطبيعى .....

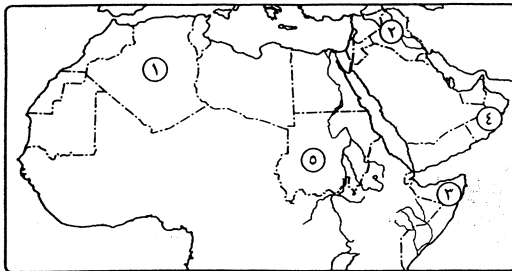
(٢) دولة يربى بها

الجاموس .....

(٣) دولة يوجد بها مراعى طبيعية .....

(٤) دولة منتجة للأسماك .....

(٥) دولة تشتهر بتربية الأبقار .....



(ب) ما المقصود بكل من ... ؟

(١) سباق الهجن. (٢) الأوابك. (٣) تكامل اقتصادي. (٤) الصادرات.

(٢) (١) ضع علامة (✓) أمام العبارة الصحيحة، وعلامة (X) أمام العبارة غير الصحيحة :

- (١) من الجهود المبذولة لتنمية السياحة التوسع في إنشاء الفنادق. ( )  
 (٢) معظم واردات الدول العربية من دولة روسيا الاتحادية. ( )  
 (٣) المغرب من الدول العربية المنتجة للفحم. ( )  
 (٤) المحيط الأطلنطي من المصايد البحرية بالوطن العربي. ( )

(ب) بم تفسر ... ؟ (١) صعوبة تحقيق التكامل الاقتصادي بين الدول العربية.

(٢) أهمية الصناعة بالوطن العربي.

(٣) (١) اختر الإجابة الصحيحة مما بين القوسين :

- (١) \* من الصناعات الاستخراجية صناعة .....  
 ( تجميع السيارات - تعدين الفوسفات - تعليب الخضراوات والفاكهة - تصنيع الأثاث )  
 (٢) من المقومات البشرية للسياحة بالوطن العربي .....  
 ( المناخ - الموقع - الطبيعة الخلابة - وسائل النقل )  
 (٣) من أهم الصادرات العربية ..... ( النفط - الآلات - الطائرات - السفن )  
 (٤) سياحة الشواطئ بالوطن العربي من السياحة .....  
 ( الترفيهية - الدينية - الثقافية - الطبية )

(ب) قارن في جدول بين : الفوسفات، والكبريت من حيث :

\* الأهمية الاقتصادية. \* أهم الدول العربية المنتجة.

### ثانياً التاريخ

(٤) (١) إلى من تنسب الأعمال الآتية ... ؟

- (١) \* غزا بغداد وأسقط الخلافة العباسية عام ٦٥٦ هـ.  
 (٢) اكتشف الدورة الدموية.  
 (٣) \* أسس علم الجبر.  
 (٤) \* قام بإعداد جيش بعد نزول آيات الجهاد وأصبح القائد الأعلى له.  
 (٥) \* أنشأ بيت المال في الدولة الإسلامية.

(ب) ما النتائج التي ترقبت على ... ؟

- (١) رفض الخليفة العباسي تولية شجر الدر حكم مصر.  
 (٢) قيام المجتمع الإسلامي على دعائم الحرية والتسامح والمساواة.

(٥) (١) أكمل ما يأتي : (١) \* أصبحت الحسبة وظيفة رسمية في عصر .....

(٢) \* من أسس قيام الحضارة الإسلامية .....

(٣) \* إذا اختلف أهل الشورى يؤخذ برأى .....

(٤) استرد الظاهر بيبرس إمارة ..... من الصليبيين.

(ب) اذكر دليل تاريخي يثبت صحة ما يأتي :

(١) تمتعت المرأة بمكانة مرموقة بالمجتمع الإسلامي.

(٢) تعددت مراكز انتقال الحضارة الإسلامية إلى أوروبا.

(٦) (١) صوب ما تحته خط :

(١) \* كانت عكا منارة للعلم والعلماء يفد إليها الطلاب من أوروبا.

(٢) إتقان العمل من حقوق المتطوع.


(٣) مؤسس علم البصريات هو جابر بن حيان.

(٤) الركاز ضريبة تفرض على ما تنتجه الأرض الزراعية.

(ب) ماذا كان يحدث إذا ... ؟

(١) لم يتم اكتشاف طريق رأس الرجاء الصالح.

(٢) لم تتوافر المواد الخام بالدولة الإسلامية.



إدارة غرب المحلة الكبرى التعليمية  
توجيه الدراسات الاجتماعية

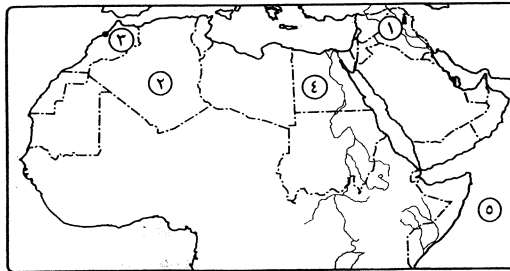
مجاب عنه

الجغرافيا

أولاً

## محافظة الغربية

أجب عن الأسئلة الآتية:



(١) أمامك خريطة للوطن العربي،

اكتب ما تدل عليه الأرقام الآتية :

(١) حقل بترول .....

(٢) دولة منتجة للغاز

الطبيعي .....

(٣) مدينة بها مقر المنظمة

العربية للتنمية الصناعية

والتعدين .....

(٤) دولة بها جميع أنواع المصايد السمكية ..... (٥) المحيط .....

(ب) بم تفسر ... ؟ (١) يعتبر الفوسفات من الصخور الاقتصادية المهمة في الوطن العربي.

(٢) قلة حجم التبادل التجاري بين دول الوطن العربي.

- ٢ (١) ضع علامة (✓) أمام العبارة الصحيحة، وعلامة (X) أمام العبارة غير الصحيحة فيما يلي :
- (١) من أهم الدول العربية المنتجة للرصاص والزنك سلطنة عُمان. ( )
- (٢) تقتصر تربية الجاموس في الوطن العربي على دولتي مصر والعراق. ( )
- (٣) الموقع المتميز من المقومات البشرية اللازمة للجذب السياحي العربي. ( )
- (٤) تم توظيف البترول في خدمة القضية العربية في عام ١٩٧٣م. ( )

- (ب) ماذا يقصد بالمصطلحات الآتية ... ؟
- (١) احتياطي المعادن. (٢) \* مراعى طبيعية.
- (٣) التكامل الاقتصادي. (٤) تعريف جمركية.

- ٣ (١) اختر الإجابة الصحيحة مما بين القوسين :
- (١) من أكبر دول الوطن العربي إنتاجاً للدواجن ..... ( المغرب - الجزائر - السعودية - السودان )
- (٢) من الدول العربية الغنية بالثروات البشرية ..... ( الإمارات - ليبيا - سوريا - العراق )
- (٣) كل ما يلي صادرات عربية ما عدا ..... ( الفوسفات - الأسمت - السيارات - الصمغ العربي )
- (٤) سياحة السفارى والسياحة النيلية من أنواع السياحة ..... ( الترفيهية - الثقافية - الطبية - الدينية )

- (ب) اكتب بأسلوبك عن :
- (١) الجهود التي يمكن أن تبذل لزيادة إنتاج الأسماك في الوطن العربي.
- (٢) معوقات التكامل الاقتصادي العربي.

### ثانياً التاريخ

- ٤ (١) بم تفسر ... ؟
- (١) إنشاء الخليفة عمر بن الخطاب بيت مال المسلمين.
- (٢) \* سقوط الدولة المملوكية.
- (٣) \* اهتمام المسلمين باللغة العربية.

- (ب) من هو ... ؟
- (١) خليفة أدخل بعض التعديلات على العملة لتأخذ الشكل الإسلامي.
- (٢) مؤسس علم الجبر.
- (٣) أحد سلاطين المماليك استرد عكا من الصليبيين.

- ٥ (١) صوب ما تحته خط في العبارات الآتية :
- (١) يطلق على الذين دخلوا الإسلام من غير العرب أهل الذمة.
- (٢) \* ديوان الجبهة يختص بجرائم الأطفال.
- (٣) استرد نور الدين محمود إمارة صور من أيدي الصليبيين.
- (٤) تم إحياء الخلافة العباسية في القاهرة على يد سيف الدين قطز.

- (ب) ما المقصود بالمصطلحات الآتية ... ؟
- (١) علم التفسير. (٢) ركاز. (٣) \* ممالك. (٤) الحرية الفكرية.

- ٦ (١) ما النتائج التي ترقبت على ... ؟ (١) تولية شجر الدر حكم مصر.
- (٢) اكتشاف البرتغاليين طريق رأس الرجاء الصالح.
- (ب) ما أهم الأحداث التي وقعت في كل عام مما يأتي ... ؟ (١) ٦٥٨ هـ. (٢) ١٥١٦م.
- (ج) اكتب بأسلوبك عن أهم تحديات المشاركة التطوعية.



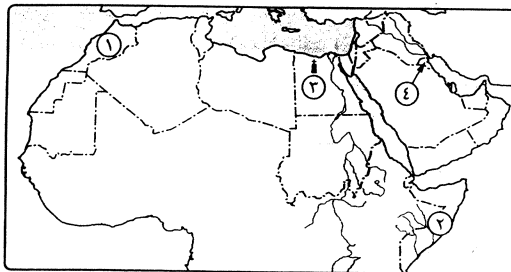
وزارة التربية والتعليم  
توجيه الدراسات الاجتماعية

مجاب عنه

## ٨ محافظة الدقهلية

أولاً الجغرافيا

### أجب عن الأسئلة الآتية:



- ١ (١) أمامك خريطة للوطن العربي، اكتب ما تدل عليه الأرقام الآتية :
- (١) أكبر الدول إنتاجاً للأسماك .....
- (٢) دولة غنية بالثروة الحيوانية .....
- (٣) حقول بترول .....
- (٤) مقر منظمة الأوابك .....

- (ب) دلل على صحة هاتين العبارتين :
- (١) البترول أهم مصادر الطاقة. (٢) للسياحة أهمية كبيرة في الوطن العربي.
- (ج) ما مقترحاتك لزيادة إنتاج الثروة السمكية في الوطن العربي ؟

- ٢ (١) اكتب كلمة (صح) أمام العبارة الصحيحة، وكلمة (خطأ) أمام العبارة غير الصحيحة :
- (١) تعد الإمارات من أهم الدول العربية التي تستخدم الطاقة الكهرومائية. ( )

- (٢) من الدول العربية التي بها جميع أنواع المصايد السمكية ليبيا. ( )  
 (٣) يتزايد إنتاج الوطن العربي من الغاز الطبيعي. ( )  
 (٤) الموقع المتميز من المقومات البشرية لقيام السياحة في الوطن العربي. ( )

(ب) بم تفسر ... ؟

- (١) أهمية الثروة الحيوانية في الوطن العربي.  
 (٢) عدم تحقيق التكامل الاقتصادي بين الدول العربية بالصورة المرغوبة.

٣ (١) اكتب ما تشير إليه كل عبارة من العبارات الآتية :

- (١) حيوانات تقتصر تربيتها في مصر والعراق حيث البيئة الزراعية.  
 (٢) معدن يستخدم في صناعة أسلاك الكهرباء والتليفون.  
 (٣) أهم الصخور الاقتصادية في الوطن العربي وتستخدم في صناعة الأسمدة.  
 (٤) مقرها القاهرة بمصر وتهدف إلى إنشاء منظمات تدعم التكامل الاقتصادي العربي.  
 (ب) «تعد الصناعة والتجارة من الأنشطة الاقتصادية المهمة للوطن العربي». في ضوء العبارة وضع :  
 (١) عوامل قيام الصناعة في الوطن العربي.  
 (٢) جهود الدول العربية لحل مشكلات الصناعة والتجارة.

### ثانياً التاريخ

٤ (١) اختر الإجابة الصحيحة مما بين القوسين :

- (١) أعطى الإسلام للمرأة حق ..... ( التعليم - العمل - التملك - جميع ما سبق )  
 (٢) من مراكز انتقال الحضارة الإسلامية لأوروبا .....  
 (٣) \* ديوان ..... اختص بجمع الزكاة وتوزيعها على المحتاجين.  
 ( الجند - الصدقات - الأحداث - الخراج )  
 (٤) \* يعتبر علم ..... من العلوم الاجتماعية.  
 ( التاريخ - الفلك - الأدب - الحديث )  
 (٥) الحرية ..... تعطى الفرد الحق في التصرف في ماله وأملاكه.  
 ( الدينية - المدنية - السياسية - الفكرية )  
 (٦) كل جهد يبذله أفراد المجتمع رغبة وشعوراً منهم بالمسئولية تجاه مجتمعهم  
 يعنى ..... ( الديمقراطية - الحرية - الشورى - المشاركة التطوعية )

(ب) ما الفرق بين : الخراج، والجزية ؟

(ج) ما رأيك في : ما فعله المغول عندما دخلوا بغداد ؟

٥ (١) إلى من تنسب الأعمال الآتية ... ؟

- (١) اكتشاف الدورة الدموية.  
 (٢) أسس علم البصريات.  
 (٣) \* أقام حضارة عمرانية لم تشهدها مصر في عهد أى سلطان من سلاطين المماليك.  
 (٤) \* تولى الحكم بعد مقتل أبيه عز الدين أيبك.

(ب) ما النتائج التي تترتب على ... ؟

- (١) \* وفاة الرسول ﷺ دون أن يعين من يخلفه.  
 (٢) \* أمانة وسماحة التجار المسلمين.

٦ (١) صوب ما تحته خط، وأعد كتابة العبارة صحيحة :

- (١) كان الموالي هم أصل الدولة الإسلامية.  
 (٢) ضرب معاوية بن أبي سفيان العملة الإسلامية.  
 (٣) \* تحولت الخلافة في عصر الأمويين والعباسيين إلى مبدأ الشورى.  
 (٤) العلوم الشرعية تختص بدراسة الإنسان وتفاعله مع غيره والمكان الذي يعيش فيه.  
 (ب) «استطاعت دولة المماليك التصدي للخطرین الصليبي والمغولي معاً». في ضوء العبارة وضع :  
 (١) نتائج دخول المغول بغداد ٦٥٦ هـ.  
 (٢) أسباب انتصار قطز في معركة عين جالوت.  
 (٣) دور كل من السلطان بيبرس، والأشرف خليل بن قلاوون في مواجهة هذين الخطرين.

### ٩ محافظة الإسماعيلية

مديرية التربية والتعليم  
توجيه الدراسات الاجتماعية

مجاب عنه

الجغرافيا

أولاً

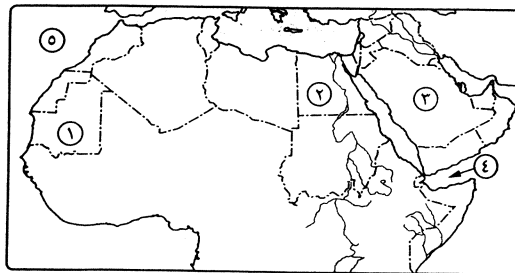
أجب عن الأسئلة الآتية :

١ (١) أمامك خريطة للوطن العربي،

- اكتب مدلول الأرقام :  
 (١) أولى الدول إنتاجاً للحديد .....  
 (٢) من أهم الدول الصناعية بالوطن العربي .....  
 (٣) من أكبر الدول المنتجة للدواجن .....  
 (٤) خليج .....  
 (٥) المحيط .....

(ب) ماذا يقصد بكل من ... ؟

- (١) تعريف جمركية. (٢) تكامل اقتصادي (٣) أوأبك. (٤) \* دخل قومي.



- (٢) (١) اختر الإجابة الصحيحة مما بين القوسين :
- (١) مقر المنظمة العربية للتنمية الصناعية والتعدين .....
- (٢) سياحة الشواطئ والسياحة النيلية نوع من أنواع السياحة .....
- (٣) يدخل ..... في صناعة الأسلاك الكهربائية.
- (٤) \* تتركز تربية الأبقار في دولة ..... ( مصر - ليبيا - الجزائر - العراق )
- (٥) من أهم الدول العربية إنتاجاً للغاز الطبيعي .....
- (الجزائر - الإمارات - المغرب - السودان )
- (ب) بم تفسر ... ؟
- (١) ضعف التبادل التجاري بين دول الوطن العربي.
- (٢) أهمية الصناعة في الوطن العربي.
- (٣) إنشاء جامعة الدول العربية.

- (٣) (١) أكمل العبارات الآتية :
- (١) معظم الواردات العربية تأتي من دول .....
- (٢) تحتل دولة ..... المركز الأول في صيد الأسماك عربياً.
- (٣) تربي الماعز في الوطن العربي على المراعى .....
- (٤) من أهم حقول البترول في البحرين .....
- (٥) \* تسهم ..... بنحو ٤٨,٨ ٪ من الناتج القومي العربي.
- (ب) ما النتائج المترتبة على ... ؟
- (١) اختلاف توزيع الثروات المعدنية في الوطن العربي.
- (٢) \* تقدم تكنولوجيا تسييل ونقل الغاز الطبيعي.
- (٣) توقيع اتفاقية التجارة الحرة بين الدول العربية.

### ثانياً التاريخ

- (٤) (١) صوب ما تحته خط في العبارات الآتية :
- (١) كان الدينار البيزنطي يصنع من الفضة.
- (٢) أطلق على علم الصيدلة علم الصنعة.
- (٣) \* شملت دولة الممالك بلاد الشام والحجاز و الهند.
- (٤) من أشهر علماء المسلمين في الفيزياء ابن الأثير.
- (٥) \* تعطي الحرية المدنية الفرد الحق في أن يعتقد ما يشاء من الأديان.
- (ب) بم تفسر ... ؟
- (١) \* أنشأ عمر بن الخطاب بيت المال.
- (٢) نهاية الدولة المملوكية.

- (٥) (١) من تنسب الأعمال الآتية ... ؟
- (١) \* تولى الحكم بعد السلطان قطز.
- (٢) \* أسس علم الجبر.
- (٣) \* قسم الدولة الإسلامية إلى ولايات وعين لكل منها والياً نيابة عنه.
- (٤) خليفة أموى أدخل تعديلات على النقود في الدولة الإسلامية.
- (ب) ضع علامة (✓) أمام العبارة الصحيحة، وعلامة (X) أمام العبارة غير الصحيحة فيما يلي :
- (١) المشاركة التطوعية هي الجهد الذي يبذله الإنسان في المجتمع دون مقابل. ( )
- (٢) كفلت الدولة الإسلامية الحرية الكاملة للناس دون ضوابط. ( )
- (٣) \* توحدت قبائل المغول على يد هولاكو. ( )
- (٤) \* قام عز الدين أيبك بتحويل مصر إلى ولاية عثمانية. ( )
- (٥) \* في عصر الأمويين والعباسيين أصبح التجنيد إجبارياً. ( )

- (٦) (١) «تطور وضع نظام اقتصادي للدولة الإسلامية في عهد عمر بن الخطاب وذلك لاتساع الدولة الإسلامية». على ضوء العبارة وضح ما يلي :
- (١) أسباب ازدهار الزراعة والتجارة في الدولة الإسلامية.
- (٢) إيرادات بيت مال المسلمين.
- (ب) قارن بين : الجزية، والعشور.
- (ج) ماذا كان يحدث إذا ... ؟ (١) \* لم ينتصر سليم الأول في معركة الريدانية.
- (٢) \* رفض الأفراد مساعدة الفقراء والمحتاجين.

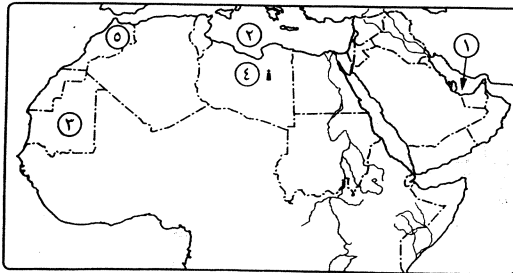
## محافظة السويس

مديرية التربية والتعليم  
توجيه الدراسات الاجتماعية

مجاب عنه

أولاً الجغرافيا

أجب عن الأسئلة الآتية :



- (١) أمامك خريطة للوطن العربي، اكتب مدلول الأرقام :
- (١) الخليج .....
- (٢) البحر .....
- (٣) دولة عربية منتجة للحديد .....
- (٤) حقل بترول .....
- (٥) دولة يوجد بها المنظمة العربية للصناعة والتعدين .....

(ب) اكتب ما تشير إليه كل عبارة من العبارات التالية :

- (١) رياضة شعبية تمارس في الوطن العربي معتمدة على الإبل.
- (٢) كمية المخزون في باطن الأرض من المعادن المختلفة.
- (٣) الرسوم التي تفرض على السلع التي تستوردها الدول من الخارج.
- (٤) معدن يدخل في صناعة المبيدات الحشرية.

٢/ (١) بم تفسر ... ؟

- (١) تعاني الصناعة في الوطن العربي من عدة مشكلات.
- (٢) تزايد أهمية الغاز الطبيعي كمصدر للطاقة في الوطن العربي.

(ب) اختر الإجابة الصحيحة مما بين القوسين :

- (١) يوجد مقر المنظمة العربية للسياحة في .....  
( القاهرة - الرباط - جدة - الخرطوم )
- (٢) تدخل مشتقات البترول في العديد من الصناعات مثل .....  
( الفوسفات - الألياف الصناعية - الأسلاك الكهربائية - السبائك )
- (٣) يوجد خام ..... منفرداً أو مختلطاً بالغاز الطبيعي والحديد.  
( الفوسفات - الكبريت - المنجنيز - الزنك )
- (٤) أولى الدول العربية إنتاجاً للأسماك ..... ( مصر - السعودية - المغرب - اليمن )

٣/ (١) ضع علامة (✓) أمام العبارة الصحيحة، وعلامة (X) أمام العبارة غير الصحيحة :

- (١) عُمان من الدول العربية التي يوجد بها جميع أنواع المصايد. ( )
- (٢) المغرب أكبر الدول العربية في إنتاج معدن المنجنيز والنحاس. ( )
- (٣) \* تشابه الإنتاج الزراعي والحيواني والصناعي في الدول العربية عمل على ضعف التبادل التجاري العربي. ( )
- (٤) تبلغ مساحة المراعي الطبيعية بالوطن العربي نحو ٦٥٪. ( )

(ب) ما النتائج المترتبة على ... ؟ (١) منافسة السلع الأجنبية للسلع العربية.

(٢) إنشاء جامعة الدول العربية عام ١٩٤٥م.

### ثانياً التاريخ

٤/ (١) صوب ما تحته خط في العبارات الآتية :

- (١) الركاز ضريبة تؤخذ على بضائع التجار غير المسلمين.
- (٢) \* كان عز الدين أيبك آخر خلفاء الدولة الأيوبية.
- (٣) أصبحت مصر ولاية عثمانية عام ١٥١٦م.
- (٤) الديمقراطية كلمة رومانية وتعني حكم الشعب لنفسه.
- (٥) عاش المغول في وسط آسيا في منطقة تسمى ما وراء النهر.

(ب) أمامك بعض العلوم التي برع فيها المسلمون، وضح أشهر علماء كل منها :

(١) الفيزياء. (٢) الصيدلة. (٣) الجغرافيا. (٤) الفقه.

٥/ (١) إلى من تنسب الأعمال الآتية ... ؟

- (١) \* ألحق المجوس بأهل الذمة. (٢) \* من أشهر رواة الحديث.
- (٣) \* أنشئ في عهده أول أسطول إسلامي.
- (٤) \* غزا بغداد وأسقط الخلافة العباسية عام ٦٥٦ هـ.

(ب) اختر الإجابة الصحيحة مما بين القوسين :

- (١) الذين دخلوا الإسلام من بلدان مختلفة ولهم حقوق وواجبات هم .....  
( العرب - الموالي - أهل الذمة - المهاجرين )
- (٢) حق الفرد في التصرف في ماله وأملكه دون تدخل من الآخرين حرية .....  
( فكرية - دينية - مدنية - سياسية )
- (٣) أحياناً ..... الخلافة العباسية في القاهرة بعد تدمير بغداد.  
( عز الدين أيبك - قلاوون - قطز - بيبرس )
- (٤) \* من واجبات المتطوع .....  
( احترام الآخرين - الالتزام بالمواعيد - المحافظة على الأسرار - جميع ماسبق )

٦/ (١) \* ما الفرق بين : نظام التجنيد في عهد الرسول ﷺ ، وفي عصر الأمويين والعباسيين ؟

(ب) برهن على صحة كل عبارة مما يأتي :

- (١) \* قامت الحضارة الإسلامية على العديد من الأسس.
- (٢) الإسلام أعلى من شأن المرأة.



مديرية التربية والتعليم  
توجيه الدراسات الاجتماعية

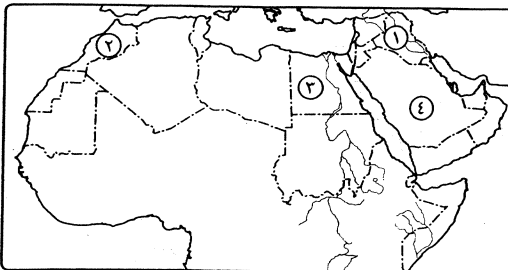
## ١١ محافظة بورسعيد

مجاب عنه

الجغرافيا

أولاً

أجب عن الأسئلة الآتية :



١/ (١) أمامك خريطة صماء للوطن العربي، لاحظها جيداً ثم

وضح ما تشير إليه الأرقام :

(١) دولة مربية للجاموس

(٢) أولى الدول إنتاجاً

للمنجنيز

(٤) دولة منتجة للبترول

(٣) دولة تنتج طاقة كهرومائية

- (ب) ما النتائج المترتبة على : تشابه الإنتاج الزراعى والحيوانى فى الوطن العربى ؟  
(ج) قارن بين : المنظمة العربية للتنمية الزراعية، والمنظمة العربية للتنمية الصناعية  
من حيث : \* المقر. \* الهدف من الإنشاء.

- ٢ (١) اكتب كلمة (صح) أمام العبارة الصحيحة، وكلمة (خطأ) أمام العبارة غير الصحيحة :  
(١) تعتبر بحيرة ناصر من المصايد البحرية لصيد الأسماك. ( )  
(٢) يدخل معدن النحاس فى صناعة البطاريات. ( )  
(٣) من مشكلات الصناعة فى الوطن العربى التركيز على الصناعات التحويلية. ( )  
(٤) تنقسم السياحة الطبية إلى سياحة علاجية وسياحة وقائية. ( )  
(ب) بم تفسر ... ؟ (١) أهمية الثروة السمكية فى الوطن العربى.  
(٢) ضرورة الاهتمام بتكنولوجيا المعلومات لدعم التعاون العربى.

- ٣ (١) اكتب بين القوسين المصطلح الدال على كل عبارة مما يأتى :  
(١) أحد الصخور الاقتصادية ويدخل فى صناعة دبغ الجلود. (.....)  
(٢) أحد مصادر الطاقة الرخيصة وأقل تلويثاً للبيئة. (.....)  
(٣) الرسوم التى تفرض على السلع التى تستوردها الدولة من الخارج. (.....)  
(٤) \* مجموع الدخول فى الدولة من القطاعات الاقتصادية المختلفة  
بها خلال العام. (.....)

- (ب) دلل على صحة كل عبارة مما يأتى :  
(١) تعددت أهمية البترول فى الوطن العربى.  
(٢) تبذل الدول العربية جهوداً كثيرة للنهوض بالسياحة.

### ثانياً التاريخ

- ٤ (١) اختر الإجابة الصحيحة مما بين القوسين :  
(١) كان الدينار البيزنطى يصنع من ..... (النحاس - الألومنيوم - الذهب - الفضة)  
(٢) تم إلحاق ..... بأهل الذمة فى عهد الخليفة المأمون.  
( ) المجوس - البربر - الأحباش - الصابئة  
(٣) أطلق المسلمون على ..... علم الصناعة. ( الكيمياء - الطب - الفلك - الفيزياء)  
(٤) \* من تحديات المشاركة التطوعية ..... ( التدريب والتوجيه - طرح الأسئلة  
- الالتزام بالمواعيد - الخوف من تأثير العمل التطوعى على الدراسة)  
(٥) مبدأ إسلامى يقوم على استشارة أهل العلم .....  
( الانتخاب - الشورى - المساواة - التسامح )

- (ب) دلل تاريخياً على صحة كل عبارة مما يأتى :  
(١) أن الإسلام قد أعلى من شأن المرأة.  
(٢) كان للبرتغاليين دوراً فى تدهور دولة المماليك اقتصادياً.

٥ (١) من هو ... ؟

- (١) مؤسس علم الجبر. (٢) \* دخل بغداد وقتل الخليفة المستعصم.  
(٣) \* من أشهر رواة الحديث. (٤) أحيا الخلافة العباسية بمصر.  
(ب) بم تفسر ... ؟ (١) يعد المسجد مؤسسة علمية وتعليمية. (٢) سقوط الدولة المملوكية.

٦ (١) صوب ما تحته خط فى العبارات الآتية :

- (١) \* اتخذ المماليك مدينة أنطاكية عاصمة لدولتهم.  
(٢) من معابر انتقال الحضارة الإسلامية إلى أوروبا جزيرة قبرص.  
(٣) \* نُظمت الشرطة فى عهد الخليفة أبو بكر الصديق.  
(٤) حق الفرد فى التصرف فى ماله وأملكه تسمى حرية دينية.  
(ب) «تعتبر موقعة عين جالوت من المعارك الفاصلة فى التاريخ الإسلامى وكان لها الفضل  
الأكبر فى حماية العالم الإسلامى». فى ضوء هذه العبارة :  
\* اذكر أسباب ونتائج موقعة عين جالوت.

(ج) ما رأيك فى : العمل التطوعى ؟

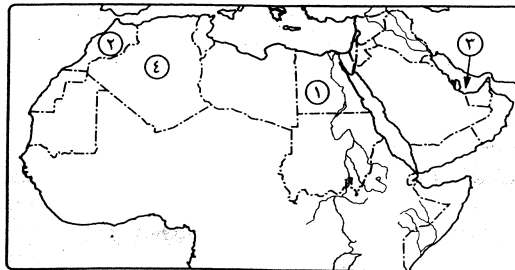


إدارة دمياط التعليمية  
توجيه الدراسات الاجتماعية

مجاب عنه

## ١٢ محافظة دمياط

أجب عن الأسئلة الآتية : أولاً الجغرافيا



- ١ (١) أمامك خريطة صماء للوطن العربى، اكتب مدلول الأرقام الموقعة عليها :  
(١) دولة بها جميع أنواع المصايد السمكية .....  
(٢) أكبر الدول المنتجة للنحاس .....  
(٣) الخليج .....  
(٤) من الدول المنتجة للغاز الطبيعى .....

التاريخ

- ٤ (١) أعد كتابة العبارات الآتية في كراسة الإجابة، بعد تصويب ما تحته خط :
- (١) العلم الذي يختص بأحكام العبادات والمعاملات هو علم الحديث.
- (٢) \* أصبحت مصر ولاية عثمانية بعد معركة عين جالوت.
- (٣) \* ظهر ديوان الرسائل في عصر الدولة العباسية.
- (٤) القائد المغولي الذي أسقط بغداد جنكيز خان.
- (٥) حكم الشعب لنفسه من خلال مجموعة مختارة من أفرادها هي المسؤولية.

(ب) اكتب ما تشير إليه كل عبارة من العبارات الآتية :

- (١) اليهود والنصارى الذين ظلوا على دينهم بعد الفتح الإسلامي.
- (٢) أجناس مختلفة جلبهم الأيوبيون من أسواق الرقيق وأسرى الحروب للعمل في الجيش وفي حراسة السلاطين.
- (٣) كل جهد يبذله أفراد المجتمع شعورًا منهم بالمسؤولية تجاه مجتمعهم دون مقابل مادي.
- (٤) وسيلة ديمقراطية يتم من خلالها اختيار ممثلين للشعب لرعاية مصالحه من خلال عملية التصويت.

٥ (١) من تنسب الأعمال الآتية ... ؟

- (١) أسس علم البصريات.
- (٢) خليفة خرج بنفسه للأسواق لمراقبة المكايل والموازين.
- (٣) تنازلت عن الحكم لزوجها فبدأ حكم المماليك لمصر.
- (٤) أحيا الخلافة العباسية في القاهرة.

(ب) قارن بين : \* معركة ذات الصواري، ومعركة عين جالوت من حيث الأسباب.

٦ (١) بم تفسر ... ؟ (١) \* إنشاء الخليفة عمر بن الخطاب للدواوين.

(٢) \* ازدهار التجارة في الدولة الإسلامية.

(٣) إنشاء ديوان الخراج.

(٤) تدهور الحالة الاقتصادية في مصر أواخر حكم المماليك.

(ب) رتب الأحداث التاريخية الآتية من الأقدم إلى الأحدث :

- \* \* تولية الأشرف خليل بن قلاوون حكم مصر.
- \* \* إنشاء مسجد الظاهر ببيرس.
- \* \* موقعة مرج دابق.
- \* \* اكتشاف طريق رأس الرجاء الصالح.

(ب) ما المقصود بكل مما يأتي ... ؟

- (١) المراعى الطبيعية.
- (٢) سباق الهجن.
- (٣) احتياطي المعادن.
- (٤) الدخل القومي.
- (٥) الصادرات.

٢ (١) ما الأسباب التي أدت إلى كل مما يأتي ... ؟

- (١) اقتصار تربية الجاموس في مصر والعراق بالوطن العربي.
- (٢) الأهمية الاقتصادية للفوسفات.
- (٣) أهمية الصناعة في الوطن العربي.
- (٤) تأخر الدول العربية في تحقيق التكامل الاقتصادي.

(ب) اكتب كلمة (صح) أمام العبارة الصحيحة، وكلمة (خطأ) أمام العبارة غير الصحيحة :

- (١) من المشكلات التي تواجه الصناعة انخفاض المستوى العلمي للعمالة العربية. ( )
- (٢) البترول من مصادر الطاقة الأقل تلويثًا للبيئة. ( )
- (٣) الموقع المتميز من المقومات الطبيعية اللازمة لقيام السياحة في الوطن العربي. ( )
- (٤) مقر منظمة الأوابك مدينة الرباط. ( )

٣ (١) أكمل العبارات الآتية بما يناسبها من كلمات، ثم انقلها كاملة إلى كراسة الإجابة :

- (١) الماعز يُربى في الوطن العربي على المراعى .....
- (٢) يستخدم المنجنيز في صناعة الصلب ومواد .....
- (٣) من العوامل الطبيعية اللازمة للصناعة المواد الخام الزراعية والحيوانية و.....
- (٤) زيارة المسجد الأقصى من السياحة .....

(ب) اختر الإجابة الصحيحة مما بين القوسين، ثم انقلها كاملة إلى كراسة الإجابة :

- (١) من أهم الدول المنتجة للحديد في الوطن العربي .....
- (تونس - الأردن - موريتانيا - اليمن)
- (٢) الطاقة الكهرومائية تنتجها الدول العربية التي لديها .....
- (صحاري - أنهار - مناجم - واحات)
- (٣) دول الخليج العربي من الدول الغنية بـ .....
- (مصادر الطاقة - الثروات البشرية - المعادن - ثروات حيوانية زراعية)
- (٤) المنظمة العربية للتنمية الزراعية مقرها .....
- (الرباط - جدة - مصر - الخرطوم)

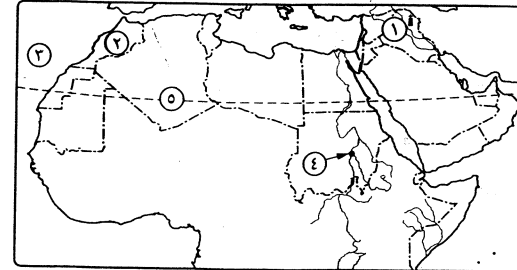
## ١٣ محافظة البحيرة

إدارة كثر الدوار التعليمية  
توجيه الدراسات الاجتماعية

مجاب عنه

أولاً الجغرافيا

أجب عن الأسئلة الآتية:



١/ (١) أمامك خريطة للوطن العربى،

وضح مدلول الأرقام الآتية :

(١) حقل بترول .....

(٢) دولة منتجة للحديد .....

(٣) مسطح مائى .....

(٤) مقر المنظمة العربية

للتنمية الزراعية .....

(٥) دائرة عرض .....

(ب) عرف كل مصطلح مما يأتى : (١) دخل قومى. (٢) صادرات.

٢/ (١) بم تفسر ... ؟

(١) عدم تحقيق التكامل الاقتصادى بين الدول العربية.

(٢) \* أهمية الصناعة فى الوطن العربى.

(٣) يتجه العالم حالياً إلى استخدام الطاقة النظيفة.

(٤) يؤثر تلوث المياه على الإنتاج السمكى.

(ب) ما نتائج كل من ... ؟ (١) تنوع مقومات الجذب السياحى فى الوطن العربى.

(٢) تشابه الإنتاج الزراعى والصناعى فى الدول العربية.

٣/ (١) انقل العبارات الآتية فى كراسة الإجابة، ثم اكتب كلمة (صح) أمام العبارة الصحيحة،

وكلمة (خطأ) أمام العبارة غير الصحيحة :

(١) اليمن أكبر الدول العربية الأفريقية فى إنتاج الأسماك. ( )

(٢) مقر منظمة الدول العربية للدول المصدرة للبترول فى الخرطوم. ( )

(٣) سياحة الشواطئ من أنواع السياحة الترفيهية. ( )

(٤) تستورد الدول العربية المواد الغذائية مثل القمح والزيت. ( )

(ب) قارن بين : المنظمة العربية للتنمية الزراعية، ومنظمة الدول العربية للسياحة من حيث :

\* الأهداف.

\* المقر.

## ثانياً التاريخ

٤/ (١) اختر الإجابة الصحيحة مما بين القوسين :

(١) تطور النظام الاقتصادى للدولة الإسلامية فى عهد .....

( الرسول ﷺ - الخلفاء الراشدين - الدولة الأموية - الدولة العباسية )

(٢) \* من علوم اللغة التى برع فيها المسلمون علم .....

( القراءات - الحديث - الصرف - التاريخ )

(٣) \* شارك الأسطول الإسلامى فى فتح .....

( مصر - الشام - ليبيا - جزيرة قبرص )

(٤) \* عُرفت الوزارة كمنصب رسمى فى عصر .....

( الرسول ﷺ - الخلفاء الراشدين - الأمويين - العباسيين )

(٥) \* استرد ..... مدينة صور من أيدي الصليبيين.

( الظاهر بيبرس - سيف الدين قطز )

( - الناصر محمد بن قلاوون - الأشرف خليل بن قلاوون )

(ب) أثبت صحة كل عبارة مما يأتى :

(١) \* اهتم المماليك بالعلم والثقافة. (٢) هناك أسباب كثيرة تدعونا للتطوع.

٥/ (١) اكتب ما تشير إليه كل عبارة مما يأتى :

(١) وسيلة ديمقراطية يتم من خلالها اختيار ممثلين للشعب.

(٢) \* ركن من أركان الإسلام فرض على المسلم القادر.

(٣) \* إرشاد الناس وتوجيههم للسلوك القويم فى المعاملات التجارية.

(٤) \* موقعة انتهت بعدها دولة المماليك.

(ب) بم تفسر ... ؟ (١) أثرت الحضارة الإسلامية فى الحضارة الأوروبية.

(٢) دخول الكثير فى الإسلام على أيدي التجار المسلمين.

٦/ (١) انقل العبارات الآتية فى كراسة الإجابة، ثم اكتب كلمة (صح) أمام العبارة الصحيحة،

وكلمة (خطأ) أمام العبارة غير الصحيحة :

(١) أطلق المسلمون على علم الكيمياء علم الصنعة. ( )

(٢) \* نُظمت الشرطة فى عهد عثمان بن عفان ولقب رئيسها بصاحب الشرطة. ( )

(٣) من حقوق الخليفة فى الإسلام السمع والطاعة والمشورة. ( )

(٤) \* تُعد العشور من إيرادات بيت المال. ( )

(٥) الجوامع من المؤسسات المدنية فى العصر الإسلامى. ( )

(ب) ما رأيك في : موقف سيف الدين قطز من المغول ؟

(ج) \* اختر من الكلمات الآتية ما يناسب كل عبارة مما يليها :

( الرمال البيضاء - علم القراءات - الزكاة - علم الفقه - علم الحديث )

(١) من موارد بيت المال. (٢) تختص بكيفية قراءة القرآن الكريم.

(٣) استخدمها المسلمون في صناعة الزجاج. (٤) تختص بأحكام العبادات والمعاملات.

## ١٤ محافظة الفيوم

ادارة غرب الفيوم التعليمية  
توجيه الدراسات الاجتماعية

مجاب عنه

أولاً الجغرافيا

أجب عن الأسئلة الآتية :

(١) (أ) أمامك خريطة للوطن العربى،

اكتب مدلول الأرقام الآتية :

(١) حقل بتروول .....

(٢) دولة منتجة للحديد .....

(٣) حقل غاز طبيعى .....

(٤) من المصايد البحرية .....

(٥) مقر المنظمة العربية للسياحة .....

(ب) اكتب ما تشير إليه كل عبارة من العبارات الآتية :

(١) اتفاقية وقعت بين الدول العربية وأدت إلى خفض التعريفات الجمركية.

(٢) مصايد تسهم بنحو ٣,٣ ٪ من جملة إنتاج الأسماك فى الوطن العربى.

(٣) السياحة التى تقوم فيها بزيارة الصحارى والغابات.

(٤) مجموع الدخول فى الدولة من القطاعات الاقتصادية المختلفة بها خلال عام.

(٢) (أ) اختر الإجابة الصحيحة مما بين القوسين :

(١) يوجد خام ..... منفرداً أو مختلطاً بالغاز الطبيعى أو الحديد.

( المنجنيز - الفوسفات - الكبريت - الزنك )

(٢) \* من الدول التى يقام فيها سباق الهجن دولة .....

( سوريا - العراق - الإمارات - الصومال )

(٣) يوجد مقر منظمة الدول العربية المصدرة للنفط فى دولة .....

( ليبيا - العراق - الكويت - السعودية )

(٤) من الصادرات العربية ..... ( الأسمت - القمح - العطور - الملابس )

(ب) بم تفسر ... ؟ (١) يعتبر الفوسفات من أهم الصخور الاقتصادية.

(٢) إنشاء جامعة الدول العربية عام ١٩٤٥م.

(٣) (١) اكتب كلمة (صح) أمام العبارة الصحيحة، وكلمة (خطأ) أمام العبارة غير الصحيحة :

(١) تنتشر المراعى المعتدلة جنوب الوطن العربى. ( )

(٢) تُعد الصومال من الدول التى تنتج الطاقة الكهرومائية. ( )

(٣) يمر الطريق الدولى الذى يربط بين الدول العربية شمال مصر. ( )

(٤) يدخل الرصاص والزنك فى صناعة السبائك. ( )

(ب) دلل على صحة العبارة الآتية : «تواجه الصناعة فى الوطن العربى عدة مشكلات».

(ج) حدد فى جدول، المشكلات التى تواجه الإنتاج السمكى فى الوطن العربى وال حلول المقترحة لها.

### التاريخ

(٤) (١) من أكون ... ؟

(١) اكتشفت الدورة الدموية.

(٢) \* أول امرأة توليت الحكم فى الدولة الإسلامية.

(٣) دمرت بغداد وأسقطت الخلافة العباسية.

(٤) استوليت على (أنطاكية) أقوى الإمارات الصليبية.

(ب) رتب الأحداث التاريخية الآتية من القديم إلى الحديث :

\* قتل سيف الدين قطز. \* استرداد عكا من الصليبيين.

\* بناء المدرسة الظاهرية. \* موقعة عين جالوت.

(ج) اذكر دعائم الحكم الإسلامى (باختصار).

(د) \* وضع مكانة المرأة فى الإسلام وأبرز الشخصيات النسائية فى المجتمع الإسلامى.

(٥) (١) اختر الإجابة الصحيحة مما بين القوسين :

(١) شارك الأسطول الإسلامى فى فتح جزيرتى رودس و ..... ( )

( كريت - صقلية - مالطة - قبرص )

(٢) من مراكز انتقال الحضارة الإسلامية إلى أوروبا .....

( مصر - العراق - بلاد الشام - جميع ما سبق )

(٣) \* أصبحت الحسبة وظيفة رسمية فى عصر .....

( الخلفاء الراشدين - الأمويين - العباسيين - الرسول ﷺ )

(٤) كانت ..... تؤخذ على بضائع التجار غير المسلمين.

( الركاز - العشور - الخراج - الغنيمة )

(ب) بم تفسر ... ؟

(١) إنشاء ديوان الجند.

(٢) \* تعتبر معركة عين جالوت ٦٥٨ هـ من أهم المعارك في التاريخ الإسلامي.

٦ (١) اكتب كلمة (صح) أمام العبارة الصحيحة، وكلمة (خطأ) أمام العبارة غير الصحيحة :

(١) الموالى هم الذين ظلوا على دينهم بعد الفتح الإسلامي. ( )


(٢) \* خضعت مصر لحكم المماليك بعد مقتل توران شاه. ( )

(٣) اهتم الأشرف خليل بن قلاوون بإقامة حضارة عمرانية بمصر. ( )

(٤) من واجبات المتطوع أن يلتزم بالمواعيد. ( )

(ب) ما النتائج التي ترقبت على : رفض الخليفة العباسي تولى شجر الدر عرش مصر ؟

(ج) ماذا كان يحدث إذا : لم يُكتشف طريق رأس الرجاء الصالح ؟



## ١٥ محافظة بنى سويف

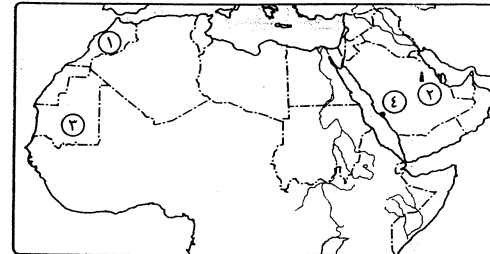
إدارة بنى سويف التعليمية  
توجيه الدراسات الاجتماعية

مجاب عنه

الجغرافيا

أولاً

أجب عن الأسئلة الآتية :



١ (١) أمامك خريطة للوطن العربى،

اكتب ما تدل عليه الأرقام :

(١) أولى الدول المنتجة

للأسماك .....

(٢) حقل بترول .....

(٣) أهم الدول المنتجة

للحديد .....

(٤) مدينة بها مقر المنظمة العربية للسياحة .....

(ب) اكتب المصطلح الجغرافى الدال على كل عبارة من العبارات التالية :

(١) رياضة شعبية تمارس فى الوطن العربى وفيها تتسابق الإبل بسرعة تصل ٦٤ كم/ساعة.

(٢) كمية البترول المخزونة فى باطن الأرض.

(٣) من الصخور الاقتصادية ويدخل فى صناعة دبغ الجلود والأسمدة.

(ج) اكتب كلمة (صح) أمام العبارة الصحيحة، وكلمة (خطأ) أمام العبارة غير الصحيحة :

(١) أنشئت جامعة الدول العربية لدعم التكامل الاقتصادى العربى. ( )

(٢) السياحة نشاط اقتصادى غير مهم للوطن العربى. ( )

(٣) رأس المال من العوامل الطبيعية اللازمة لقيام الصناعة. ( )

(٤) مصر من الدول العربية التى تستخدم الطاقة الكهرومائية. ( )

٢ (١) بم تفسر ... ؟ (١) ضعف التبادل التجارى بين الدول العربية.

(٢) أهمية الغاز الطبيعى كمصدر للطاقة.

(٣) تعتبر الأغنام أكثر الحيوانات انتشاراً فى الوطن العربى.

(٤) للثروة السمكية أهمية كبيرة فى وطننا العربى.

(ب) اختر الإجابة الصحيحة مما بين القوسين :

(١) زيارة الشواطئ من السياحة ..... ( الدينية - الطبية - العلمية - الترفيهية )

(٢) من الواردات العربية ..... ( النفط - السيارات - الفوسفات - الغاز الطبيعى )

(٣) أكثر الدول العربية امتلاكاً للثروة الحيوانية .....

( السودان قبل التقسيم - ليبيا - المغرب - جيبوتى )

(٤) من الدول العربية التى يوجد بها جميع أنواع المصايد .....

( تونس - المغرب - مصر - سوريا )

٣ (١) دلل على صحة كل عبارة مما يأتى :

(١) تتوافر مقومات الجذب السياحى بالوطن العربى.

(٢) تواجه الصناعة فى الوطن العربى عدة مشكلات.

(ب) ما أهم استخدامات كل من ... ؟ (١) المنجنيز. (٢) الرصاص والزنك.

(ج) ماذا يحدث إذا ... ؟ (١) تخصصت كل دولة عربية فى إنتاج سلعة معينة.

(٢) كانت جميع مراعى الوطن العربى غنية.

## ثانياً التاريخ

٤ (١) \* أكمل العبارات الآتية بما يناسبها مما بين القوسين :

( الأغلبية - الدولة - القاهرة - عكا - المغولى - الريدانية - أنطاكية )

(١) أحيا الظاهر بيبرس الخلافة العباسية فى .....

(٢) استطاعت دولة المماليك صد الخطر .....

(٣) أصبحت مصر ولاية عثمانية بعد معركة .....

(٤) إذا اختلف أهل الشورى يؤخذ برأى .....

(ه) تقوم ..... بنشر الوعي بأهمية المشاركة التطوعية.

(٦) استرد الأشرف خليل بن قلاوون ..... من الصليبيين.

(ب) ما رأيك في ... ؟ (١) انفتاح الدولة الإسلامية على الحضارات الأخرى.

(٢) دخول المغول بغداد وقتل الخليفة المستعصم.

(١) رتب الأحداث التاريخية التالية من الأقدم إلى الأحدث :

- \* معركة عين جالوت.
- \* مقتل توران شاه.
- \* تولية الناصر محمد بن قلاوون الحكم.
- \* إنشاء بيت المال.

(ب) قارن بين كل من :

- (١) الزكاة، والجزية من حيث المفهوم.
- (٢) حقوق المتطوع، وواجباته.

(١) ما النتائج التي ترقبت على كل من ... ؟

- (١) اكتشاف البرتغاليين طريق رأس الرجاء الصالح.
- (٢) تمسك التجار المسلمين بمبادئ الإسلام السمحة.
- (٣) تولية شجر الدر حكم مصر.
- (٤) تنوع المناخ داخل أراضي الدولة الإسلامية.

(ب) اكتب العبارات التالية بعد تصويب ما تحته خط :

- (١) البيروني من أشهر علماء المسلمين في علم الاجتماع والعمران.
- (٢) الحرية الدينية هي التي تعطى للفرد حق التصرف في أمواله وأملاكه.
- (٣) الشورى مبدأ إسلامي يقوم على استشارة كل الناس.
- (٤) الديمقراطية تعني حكم الشعب لنفسه وأصلها مصري.



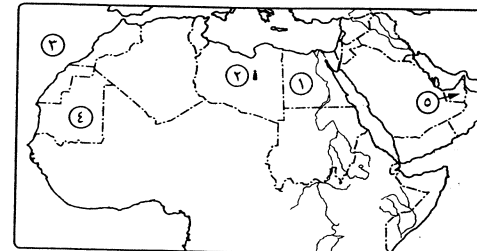
إدارة المنيا التعليمية  
م. ناصف الإعدادية بنين

محافظة المنيا

١٦

أولاً الجغرافيا

أجب عن الأسئلة الآتية :



(١) أمامك خريطة للوطن العربي،

اكتب ما تدل عليه الأرقام الآتية :

(١) دولة بها مقر جامعة الدول

العربية .....

(٢) حقل بترول .....

(٣) المحيط .....

(٤) أكبر دولة منتجة للحديد .....

(٥) من الدول التي تقام فيها سباق الهجن .....

(ب) قارن بين : المنظمة العربية للتنمية الصناعية والتعدين، ومنظمة الدول العربية المصدرة للبترول من حيث : \* المقر. \* الهدف من إنشائها.

(٢) (١) ضع علامة (✓) أمام العبارة الصحيحة، وعلامة (X) أمام العبارة غير الصحيحة :

- (١) يدخل الفوسفات في صناعة الأسمدة والمبيدات الحشرية. ( )
- (٢) من مزايا الصناعة العربية التركيز على الصناعات الاستخراجية والتعدينية. ( )
- (٣) يتشابه الإنتاج في الوطن العربي لذلك يزداد التبادل التجاري بين الدول العربية. ( )
- (٤) المعاملة الحسنة للسائحين تسهم في تنمية السياحة. ( )

(ب) اكتب المصطلح الجغرافي الذي تدل عليه كل عبارة من العبارات الآتية :

- (١) الرسوم التي تفرض على السلع التي تستوردها الدولة من الخارج.
- (٢) أحد أنواع المصايد ويساهم بنحو ٣,٢ ٪ من الإنتاج السمكي بالوطن العربي.
- (٣) أي دولة عربية يمكنها أن تستكمل ما ينقصها من موارد من الدول العربية الأخرى.
- (٤) تسهم بحوالي ١,٥ ٪ من الطاقة في الوطن العربي.

(٢) (١) اختر الإجابة الصحيحة مما بين القوسين :

- (١) يُعد ..... من حقول البترول في العراق.
- ( زاكم - الزبير - مرجان - الغوار )
- (٢) يستخدم في صناعة البطاريات والسبائك معدن .....
- ( الحديد - الرصاص والزنك - النحاس - المنجنيز )
- (٣) كل ما يلي صادرات عربية ما عدا .....
- ( الأسمت - الغاز الطبيعي - الفاكهة - العطور )
- (٤) من أكبر الدول العربية إنتاجاً للدواجن .....
- ( المغرب - العراق - السعودية - سوريا )

(ب) بم تفسر ... ؟

- (١) تسمية الصناعة في الوطن العربي.
- (٢) تعدد أنواع السياحة في وطننا العربي.

ثانياً التاريخ

(٤) (١) إلى من تنسب الأعمال الآتية ... ؟

- (١) طور النظام الاقتصادي للدولة الإسلامية.
- (٢) أحد أشهر سلاطين المماليك وأحيا الخلافة العباسية في القاهرة.

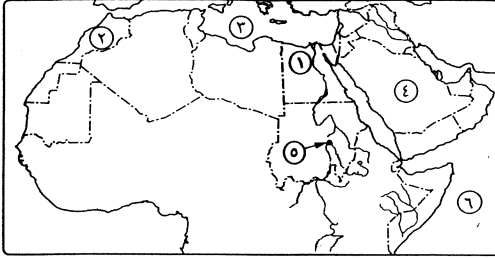


إدارة أسبوت تعليمية  
مدرسة منقباد الإعدادية بنات

## ١٧ محافظة أسبوت

### أجب عن الأسئلة الآتية:

أولاً الجغرافيا



١ (أ) أمامك خريطة للوطن العربي،

اكتب ما تشير إليه الأرقام الآتية:

(١) دولة تولد الطاقة

الكهرومائية .....

(٢) أكبر الدول المنتجة

للفوسفات .....

(٣) من المصايد البحرية .....

(٤) من أكبر الدول إنتاجاً للدواجن .....

(ب) ما المقصود بكل من ... ؟

(١) تعريفة جمركية. (٢) المراعى الطبيعية. (٣) سباق الهجن.

٢ (أ) بم تفسر ... ؟ (١) أهمية السياحة فى الوطن العربى.

(٢) تعد الأسماك أهم موارد الثروة المائية فى الوطن العربى.

(٣) تواجه الصناعة العربية العديد من المشكلات.

(ب) أكمل ما يأتى : (١) توجد جميع أنواع المصايد السمكية بالوطن العربى فى دولة .....

(٢) تُعد السياحة النيلية من أنواع السياحة .....

٣ (أ) اختر الإجابة الصحيحة مما بين القوسين :

(١) أكبر الدول العربية امتلاكاً للثروة الحيوانية .....

( السودان قبل التقسيم - المغرب - مصر - ليبيا )

(٢) من الدول العربية الغنية بالثروة المعدنية .....

( الصومال - لبنان - العراق - موريتانيا )

(٣) يوجد خام ..... فى الطبيعة منفرداً أو مختلطاً بالغاز الطبيعى أو الحديد.

( الكبريت - النحاس - المنجنيز - الفوسفات )

(٤) أكثر الحيوانات انتشاراً فى الوطن العربى .....

( الإبل - الجاموس - الأغنام - الأبقار )

(٣) مؤسس علم الاجتماع.

(٤) \* استطاع أن يسترد مدينة صيدا من الصليبيين.

(٥) \* أنشأ المدرسة الناصرية. (٦) أشهر علماء المسلمين فى علم الفلك.

(ب) ما المقصود بكل من ... ؟

(١) المغول. (٢) علم الفقه. (٣) الديمقراطية.

٥ (أ) صوب ما تحته خط :

(١) الموالى هم اليهود والنصارى الذين ظلوا على دينهم بعد الفتح الإسلامى.

(٢) المشاركة التطوعية هى الجهد المبذول من أفراد المجتمع بمقابل مادية.

(٣) كانت الفسطاط منارة للعلم والعلماء يفد إليها الطلاب من جميع أنحاء أوروبا.

(٤) \* يُعتبر الحسن بن الهيثم مؤسس علم الجبر.

(ب) ما النتائج التى ترتبت على ... ؟

(١) اكتشاف طريق رأس الرجاء الصالح.

(٢) سماحة التجار المسلمين فى البيع والشراء وتمسكهم بالدين الإسلامى.

٦ (أ) اختر الإجابة الصحيحة مما بين القوسين :

(١) من الشخصيات النسائية البارزة فى التاريخ الإسلامى السيدة ..... زوجة

هارون الرشيد. ( خديجة - فاطمة - زبيدة - أم عطية الأنصارية )

(٢) \* من العلوم الشرعية عند المسلمين علم .....

( الأدب - التاريخ - الفلك - القراءات )

(٣) من المؤسسات التعليمية العسكرية .....

( الكتاتيب - الرُّبُط - المساجد - الجامعات )

(٤) من الدعائم التى قام عليها المجتمع الإسلامى .....

( الديمقراطية - الشورى - الديكتاتورية - الوراثة )

(٥) ضريبة فرضت على الأراضى الزراعية .....

( الركاز - الخراج - الجزية - العشور )

(ب) اذكر الحدث التاريخى المرتبط بكل من التواريخ الآتية :

(١) \* ١٥١٧م. (٢) \* ١٢٦٠م. (٣) \* ١٢٥٠م.

(ب) ضع علامة (✓) أمام العبارة الصحيحة، وعلامة (X) أمام العبارة غير الصحيحة :

- (١) من أهم الصادرات العربية الآلات ومعدات النقل الثقيلة. ( )  
 (٢) تأتي سلطنة عُمان بعد المغرب في إنتاج النحاس. ( )  
 (٣) تتركز تربية الإبل في السودان. ( )  
 (٤) يعد البترول من مصادر الطاقة غير المتجددة الأقل تلويثاً للبيئة. ( )

### ثانياً التاريخ

٤ (١) إلى من تنسب الأعمال الآتية ... ؟

- (١) قام بتوحيد قبائل المغول (التتار) في فترة زمنية قصيرة.  
 (٢) \* نجح في استرداد مدينة صور من الصليبيين.  
 (٣) مكتشف الدورة الدموية.  
 (٤) قام بتطوير النظام الاقتصادي في الدولة الإسلامية فأنشأ بيت المال.  
 (٥) انتصر على المماليك في موقعة مرج دابق والريمانية.

(ب) ما النتائج التي ترقبت على ... ؟

- (١) \* دخول المغول بغداد ٦٥٦ هـ.  
 (٢) \* تنوع المناخ داخل الأراضي الإسلامية.

٥ (١) بم تفسر ... ؟ (١) تعد المساواة من الدعائم التي يقوم عليها الحكم الإسلامي.

(٢) ازدهار التجارة في الدولة الإسلامية.

(ب) دلل على صحة العبارة الآتية : اهتمام المماليك بالثقافة والعلم في مصر.

(ج) ضع علامة (✓) أمام العبارة الصحيحة، وعلامة (X) أمام العبارة غير الصحيحة :

- (١) من واجبات المتطوع إتقان العمل الذي يقوم به. ( )  
 (٢) تحولت مصر إلى ولاية عثمانية بعد موقعة مرج دابق ١٥١٦ م. ( )

٦ (١) اختر الإجابة الصحيحة مما بين القوسين :

- (١) حكم الشعب لنفسه من خلال مجموعة مختارة من بين أفرادها تعنى .....  
 ( الحرية - الديمقراطية - الدكتاتورية - البيروقراطية )  
 (٢) \* كان الدرهم الفارسي يصنع من ..... ( الذهب - الفضة - النحاس - البرونز )  
 (٣) ..... هم الذين دخلوا الإسلام من غير العرب من البلدان المختلفة.  
 ( الغرب - الموالي - أهل النمة - الأمويون )  
 (٤) ..... ضريبة كانت تؤخذ على كل ما يخرج من باطن الأرض.  
 ( الخراج - العشور - الركاز - الزكاة )

(ب) أكمل العبارات الآتية :

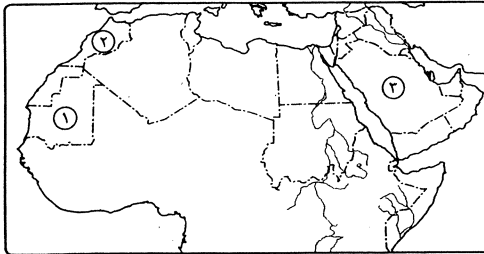
- (١) الحرية ..... تعطي الفرد الحق في أن يعتقد ما يشاء من الأديان دون تدخل من أحد.  
 (٢) \* نجح الأسطول الإسلامي في عهد عثمان بن عفان في صد هجمات الدولة البيزنطية في معركة .....  
 (٣) \* من أسلحة الجيش في الدولة الإسلامية .....  
 (٤) انتصر سيف الدين قطز على المغول في معركة .....



إدارة سوهاج التعليمية  
توجيه الدراسات الاجتماعية

## ١٨ محافظة سوهاج

### أولاً الجغرافيا



١ (١) أمامك خريطة للوطن العربي،

وضح ما تدل عليه الأرقام :

- (١) أولى الدول في إنتاج الحديد .....  
 (٢) أولى الدول في إنتاج المنجنيز .....  
 (٣) دولة منتجة للغاز الطبيعي .....

(ب) بم تفسر ... ؟ (١) أهمية السياحة في الوطن العربي.

(٢) تقتصر تربية الجاموس على مصر والعراق.

(٣) معوقات التكامل الاقتصادي العربي.

٢ اكتب كلمة (صح) أمام العبارة الصحيحة، وكلمة (خطأ) أمام العبارة غير الصحيحة :

- (١) الإبل العربية لها شهرة كبيرة في العالم وتستخدم في سباق الهجن. ( )  
 (٢) من أهم الدول العربية المنتجة لخام الكبريت العراق. ( )  
 (٣) سياحة المهرجانات الرياضية من السياحة الترفيهية. ( )  
 (٤) المنظمة العربية للتنمية الصناعية والتعدين مقرها مدينة الرباط. ( )

٣ (١) اكتب المصطلح الجغرافي الدال على كل عبارة من العبارات الآتية :

- (١) حشائش تنمو طبيعياً دون تدخل الإنسان.  
 (٢) مجموعة الدخول في الدولة من القطاعات الاقتصادية المختلفة خلال عام.  
 (٣) كمية المخزون في باطن الأرض من الثروة المعدنية.  
 (ب) ما الفرق بين : المصايد البحرية، والمصايد البحرية ؟ مع ذكر أمثلة.

## لانيا التاريخ

٤ (١) ما النتائج التي ترقبت على ... ؟

(١) \* إنشاء الأسطول في الدولة الإسلامية.

(٢) وفاة الرسول ﷺ دون أن يحدد من يخلفه.

(٣) اكتشاف البرتغاليين طريق رأس الرجاء الصالح.

(ب) أكمل ما يأتي : (١) من أبرز النساء المسلمات السيدة ..... الأنصارية.

(٢) من أشهر علماء المسلمين في الجغرافيا .....

(٣) وسيلة ديمقراطية يتم خلالها اختيار ممثلين للشعب هي .....

٥ اختر الإجابة الصحيحة مما بين القوسين :

(١) الدينار البيزنطي كان يصنع من ..... ( الفضة - الذهب - الحديد - النحاس )

(٢) كل ما يحصل عليه المسلمون من غنائم يسمى ..... ( ركاز - زكاة - عشور - غنيمة )

(٣) من علماء العرب في الكيمياء ..... ( جابر بن حيان - البيروني - الخوارزمي - ابن سينا )

(٤) مبدأ إسلامي يقوم على استشارة أهل العلم ..... ( التسامح - الحرية - الشورى - المساواة )

٦ من تنسب الأعمال الآتية ... ؟

(١) \* استعان بكل من عثمان بن عفان وعلى بن أبي طالب في إدارة بعض أمور الحكم.

(٢) \* اهتم بإقامة حضارة عمرانية لم تشهدها مصر في عهد غيره من سلاطين المماليك.

(٣) انتصر على المغول في عين جالوت ٦٥٨ هـ. (٤) \* أضاف الصفر للأرقام الحسابية.



إدارة قنا التعليمية

توجيه الدراسات الاجتماعية

١٩ محافظة قنا

## أولاً الجغرافيا

أجب عن الأسئلة الآتية :

١ (١) أمامك خريطة صماء للوطن

العربي، اكتب ما تدل عليه

الأرقام الآتية :

(١) المحيط .....

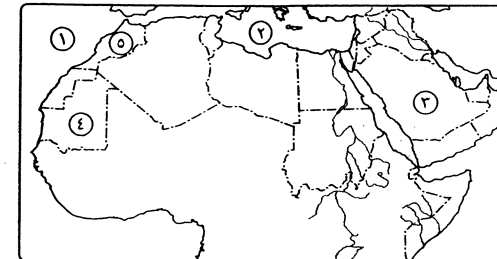
(٢) البحر .....

(٣) من الدول المنتجة

للبنترول .....

(٤) من الدول المنتجة للحديد .....

(٥) من الدول المنتجة للأسماك .....



(ب) ما المقصود بكل من ... ؟

(١) المراعى الطبيعية. (٢) الواردات. (٣) احتياطي البنترول. (٤) الصادرات.

٢ (١) اختر الإجابة الصحيحة مما بين القوسين :

(١) أكثر الحيوانات انتشاراً في الوطن العربي .....

( الماعز - الأغنام - الجاموس - الإبل )

(٢) من المصايد البحرية في الوطن العربي .....

( البحر الأحمر - البحر المتوسط - بحيرة قارون - المحيط الأطلنطي )

(٣) من أهم الصناعات التي يدخل فيها الفوسفات صناعة .....

( الأسمدة - الحديد والصلب - المنسوجات - البطاريات )

(٤) من أهم الدول المنتجة للغاز الطبيعي في الوطن العربي .....

( المغرب - تونس - قطر - الكويت )

(ب) بم تفسر ... ؟ (١) ضعف التبادل التجاري بين الدول العربية.

(٢) السياحة من الأنشطة الاقتصادية المهمة في الوطن العربي.

٣ (١) اكتب كلمة (صح) أمام العبارة الصحيحة، وكلمة (خطأ) أمام العبارة غير الصحيحة :

(١) من أهم الصادرات العربية الأسماك والأدوية والأدوات الكهربائية. ( )

(٢) تقع المنظمة العربية للتنمية الصناعية والتعدين في مدينة جدة. ( )

(٣) شهدت الصناعة العربية تطوراً كبيراً خلال القرن العشرين. ( )

(٤) لم يسع الوطن العربي لتوليد الطاقة من مصادر الطاقة المتجددة. ( )

(٥) تتركز تربية الجاموس في مصر والعراق. ( )

(ب) اذكر معوقات التكامل الاقتصادي العربي.

## لانيا التاريخ

٤ (١) صوب ما تحته خط، مع كتابة الجملة صحيحة كاملة بورقة الإجابة :

(١) من العملات الذهبية في الدولة الإسلامية في بداية عصر الخلفاء الراشدين هي

الريال السعودي.

(٢) أطلق على النصارى واليهود الذين ظلوا على دينهم بعد الفتح الإسلامي اسم الموالى.

(٣) العلوم التي تختص بدراسة اللغة العربية وحفظها من الضياع تعرف باسم

العلوم الاجتماعية.

(٤) محمد بن أحمد البيروني من أشهر علماء المسلمين في الطب.

(٥) \* تم تشييد المدرسة الظاهرية في عصر الدولة الأيوبية.

(ب) بم تفسر ... ؟ (١) \* تعيين عمر بن الخطاب قاضي لكل ولاية.

(٢) تواجه المشاركة التطوعية كثير من التحديات.

٥ (١) أكمل العبارات الآتية بما يناسبها من الكلمات الآتية :

( التسامح - البرتغاليين - المغول - الأوانى - الأبواب )

(١) تمكن قطز من حماية العالم الإسلامى من خطر .....

(٢) تم اكتشاف طريق رأس الرجاء الصالح على يد .....

(٣) من الدعائم التى يقوم عليها المجتمع الإسلامى .....

(٤) من الصناعات المعدنية التى عرفها المسلمون صناعة .....

(ب) ما النتائج التى ترتبت على ... ؟

(١) \* اكتشاف طريق رأس الرجاء الصالح.

(٢) قتل الأمراء المماليك لتوران شاه آخر ملوك الدولة الأيوبية.

٦ (١) لمن تنسب الأعمال الآتية ... ؟

(١) \* استكمل مسيرة جده جنكيز خان فى غزو العالم.

(٢) \* ألحق الصابئة بأهل الذمة.

(٣) \* وأصل الحرب ضد الصليبيين واسترد منهم عكا.

(٤) السلطان العثمانى الذى انتصر على المماليك فى موقعة الريدانية.

(٥) العالم الإسلامى الذى اكتشف الدورة الدموية.

(ب) رتب الأحداث الآتية من القديم إلى الحديث :

\* معركة عين جالوت.

\* معركة ذات الصواري.

\* استرداد أنطاكية.

\* موقعة مرج دابق.



إدارة أسس التعليمية  
مديرية التربية والتعليم

محافظة الأقصر

٢٠

أولاً الجغرافيا

أجب عن الأسئلة الآتية :

١ (١) أمامك خريطة للوطن العربى،

وضح مدلول الأرقام التى عليها :

(١) أولى الدول إنتاجاً

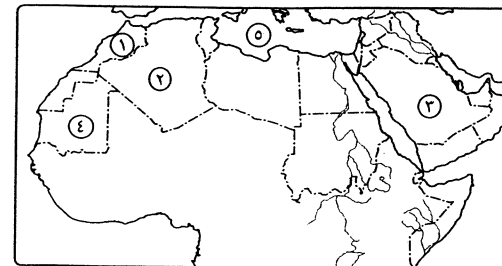
للفوسفات .....

(٢) من الدول المنتجة للغاز

الطبيعى .....

(٣) دولة منتجة للبتروىل .....

(٤) دولة منتجة للحديد .....



(٥) البحر .....

(ب) ما المقصود بكل من ... ؟ (١) سباق الهجن. (٢) الواردات.

٢ (١) أكمل العبارات الآتية بكلمات مناسبة :

(١) أكثر الحيوانات انتشاراً فى الوطن العربى .....

(٢) من أهم حقول البترول فى السودان .....

(٣) تسمى زيارة الأماكن المقدسة بالسياحة .....

(٤) من العوامل الطبيعية لقيام الصناعة .....

(ب) ضع علامة (✓) أمام العبارة الصحيحة، وعلامة (X) أمام العبارة غير الصحيحة :

(١) الموقع المتميز من المقومات البشرية للسياحة. ( )

(٢) الطائرات والسيارات أهم الصادرات العربية. ( )

(٣) يستخدم النحاس فى صناعة أسلاك الكهرباء وأسلاك التليفون. ( )

(٤) يختلف توزيع الثروات المعدنية من دولة عربية لأخرى. ( )

٣ (ب) بم تفسر ... ؟ (١) للحيوانات فى الوطن العربى أهمية كبيرة.

(٢) قلة إنتاج الأسماك فى الوطن العربى.

(٣) تواجه الصناعة العربية العديد من المشاكل.

(٤) أهمية السياحة فى وطننا العربى.

ثانياً التاريخ

٤ (١) اختر الإجابة الصحيحة مما بين القوسين :

(١) \* تم بناء المدرسة الناصرية فى عهد .....

(قطز - الظاهر بيبرس - الأشرف خليل بن قلاوون - الناصر محمد بن قلاوون)

(٢) \* كان محمد بن سنان البتانى من أشهر علماء المسلمين فى .....

( الفلك - الصيدلة - الطب - الهندسة )

(٣) \* انتصر سيف الدين قطز على المغول عام ١٢٦٠م فى موقعة .....

( عين جالوت - ذات الصواري - مرج دابق - الريدانية )

(٤) \* من الدواوين التى أنشأها العباسيون .....

( الصدقات - الرسائل - الجهيزة - الخراج )

(٥) من مراكز انتقال الحضارة الإسلامية إلى أوروبا .....

( الأندلس - صقلية - بلاد الشام - جميع ما سبق )

(ب) ما النتائج التى ترتبت على ... ؟

(١) \* أمانة وصدق التجار المسلمين. (٢) اكتشاف طريق رأس الرجاء الصالح.

٥ (١) إلى من تنسب الأعمال الآتية ... ؟


- (١) اكتشاف الدورة الدموية. (٢) انتصر على الممالك في معركة الريدانية.  
(٣) طرد الصليبيين من صيدا. (٤) \* أنشأ ديوان الجند.

- (ب) ضع علامة (✓) أمام العبارة الصحيحة، وعلامة (X) أمام العبارة غير الصحيحة :  
(١) المغول قبائل رعوية جاءت من أواسط آسيا. ( )  
(٢) \* صنع المسلمون الفخار من الرمال البيضاء. ( )  
(٣) تم إحياء الخلافة العباسية في القاهرة على يد الظاهر بيبرس. ( )  
(٤) حظيت المرأة بمكانة عالية في المجتمع الإسلامي. ( )

٦ (١) اكتب ما تشير إليه كل عبارة مما يأتي :

- (١) علم يختص بأحكام العبادات والمعاملات.  
(٢) \* كل ما يحصل عليه المسلمون من مكاسب عند فتوحاتهم الإسلامية.

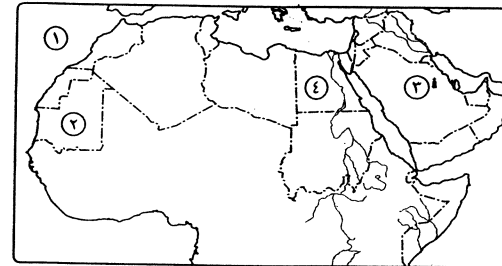
- (ب) «بدأت فكرة وضع نظام اقتصادي للدولة الإسلامية في عهد عمر بن الخطاب وذلك لتوسع الدولة الإسلامية». في ضوء العبارة وضع ما يلي :  
(١) إيرادات بيت مال المسلمين. (٢) العملات المستخدمة في الدولة الإسلامية.



إدارة أسوان التعليمية  
مدرسة مجمع العروبة

٢١ محافظة أسوان

أجب عن الأسئلة الآتية : أولاً الجغرافيا



١ (١) أمامك خريطة للوطن العربي ،

- اكتب ما تدل عليه الأرقام الآتية :  
(١) المحيط .....  
(٢) دولة منتجة للحديد .....  
(٣) حقل بترول .....  
(٤) مقر جامعة الدول العربية .....

(ب) بم تفسر ... ؟ (١) تقتصر تربية الجاموس على البيئة الفيضية.

(٢) الأهمية الاقتصادية لخام الفوسفات.

(ج) اذكر نوع السياحة في زيارة كل مما يأتي :

- (١) الآثار الفرعونية بالأقصر.  
(٢) المسجد الحرام بالسعودية.

٢ (١) أعد كتابة العبارة صحيحة، بعد تصويب ما فوق الخط :

- (١) تأتي في مقدمة الدول العربية المنتجة للأسماك دولة سوريا.  
(٢) يوجد في الطبيعة إما منفرداً أو مختلطاً بالغاز الطبيعي أو الحديد خام النحاس.  
(٣) مجموعة الدخول في الدولة من القطاعات الاقتصادية المختلفة خلال عام  
تعريف جمركية.

(٤) مقر المنظمة العربية للتنمية الزراعية مدينة الرباط.

(ب) ما مقترحاتك لتحقيق ... ؟ (يكتفى بمقترحين في ضوء ما درست)

- (١) التنمية السياحية في دول الوطن العربي. (٢) التكامل الاقتصادي العربي.

٣ (٢) قارن في جدول بين :

- (١) البترول، والغاز الطبيعي من حيث : \* الأهمية.  
(٢) الصادرات، والواردات العربية من حيث : \* المفهوم. \* أمثلة لكل منها.

ثانياً التاريخ

٤ (١) اختر الإجابة الصحيحة مما بين القوسين :

- (١) ضريبة كانت تفرض على ما تنتجها الأراضي الزراعية .....  
( الجزية - العشر - الخراج - الزكاة )  
(٢) ألحق الخليفة عثمان بن عفان طائفة ..... بأهل الذمة.  
( المجوس - البربر - الموالي - الصابئة )  
(٣) من أشهر علماء المسلمين في علم الصيدلة .....  
( ابن البيطار - الإدريسي - الخوارزمي - البخاري )  
(٤) الحرية التي تعطى للفرد الحق في التصرف في أمواله وأملكه حرية .....  
( مدنية - دينية - سياسية - فكرية )

(ب) ماذا كان يحدث إذا ... ؟

- (١) \* لم يعترض الخليفة العباسي على تولية شجر الدر حكم مصر.  
(٢) انتصر المماليك في موقعة الريدانية ١٥١٧م.

(ج) \* ما رأيك في : أمانة التجار المسلمين في البلاد التي تاجروا فيها ؟

٥ (١) إلى من تنسب الأعمال الآتية ... ؟

- (١) \* مؤسس علم الجبر وأضاف الصفر إلى الأرقام الحسابية.  
(٢) \* انتصر على المماليك في موقعة الريدانية.  
(٣) وحد قبائل المغول وأسس إمبراطورية كبيرة امتدت في أجزاء من آسيا.  
(٤) استرد إمارة أنطاكية أقوى الإمارات الصليبية.



- (٢) توقيع اتفاقية التجارة الحرة بين الدول العربية أدت إلى خفض .....  
 (٣) يؤدي ..... إلى قتل عدد كبير من الأسماك.  
 (٤) زيارة المسجد الأقصى من السياحة .....

(ب) اذكر أهمية واحدة لكل مما يأتي :

- (١) مصادر الطاقة. (٢) الفوسفات. (٣) تربية الدواجن. (٤) الصناعة.

(٣) (١) اكتب كلمة (صح) أمام العبارة الصحيحة، وكلمة (خطأ) أمام العبارة غير الصحيحة :

- (١) تتركز تربية الإبل في السودان. ( )  
 (٢) توجد معظم المراعي الطبيعية في الوطن العربي. ( )  
 (٣) مشتقات البترول تدخل في الكيماويات والألياف الصناعية. ( )  
 (٤) الصناعات الاستخراجية والتعدينية ملوثة للبيئة. ( )

(ب) «تقتصر تربية الجاموس على مصر والعراق». وضع ذلك في ضوء ما درست.

(ج) ما المقومات الطبيعية لجذب السياحة العربية ؟

### ثانياً التاريخ

(٤) (١) اذكر نتيجة واحدة لكل مما يأتي :

- (١) \* هزيمة المماليك أمام العثمانيين عام ١٥١٧م.  
 (٢) \* وفاة الرسول ﷺ دون أن يحدد من يخلفه. (٣) معركة عين جالوت.

(ب) إلى من تنسب الأعمال الآتية ... ؟

- (١) \* أدخل تعديلات على النقود في الدولة الإسلامية.  
 (٢) أسس إمبراطورية المغول. (٣) مؤسس علم الجبر.

(ج) أعد كتابة العبارات التالية بعد تصويب ما تحته خط :

- (١) اكتشف الفرنسيون طريق رأس الرجاء الصالح.  
 (٢) يختص علم اللغة بأحكام العبادات والمعاملات.  
 (٣) الأنصار هم الذين دخلوا الإسلام من بلدان مختلفة ولهم حقوق وواجبات العرب.

(٥) (١) اختر الإجابة الصحيحة مما بين القوسين :

- (١) أهم مراكز نقل الحضارة الإسلامية إلى أوروبا .....  
 (بلاد الشام - الأندلس - صقلية - جميع ما سبق)  
 (٢) قام ..... بإحياء الخلافة العباسية في القاهرة.  
 (قطز - الأشرف خليل بن قلاوون - الظاهر بيبرس - الناصر محمد بن قلاوون)

(ب) ما النتائج التي ترتبت على ... ؟

- (١) اتصال أوروبا بالحضارة الإسلامية.  
 (٢) \* معركة ذات الصواري.

(٦) (١) «من مكاسب ثورة ٢٥ يناير ٢٠١١م تدعيم الديمقراطية والتأكيد على المشاركة

التطوعية والقضاء على الفساد». في ضوء العبارة أجب عما يأتي :

- (١) ما المقصود بـ : الديمقراطية ؟  
 (٢) اذكر تحديات المشاركة التطوعية.

(ب) اذكر الحدث التاريخي المرتبط بالتواريخ التالية :

- (١) \* ١٥١٦م. (٢) ١٢٥٠م. (٣) ٦٥٦هـ. (٤) ٦٥٨هـ / ١٢٦٠م.



## محافظة الوادي الجديد

إدارة الخارجة التعليمية  
 توجيه الدراسات الاجتماعية

إيمان - عمل - تنمية

### أولاً الجغرافيا

### أجب عن الأسئلة الآتية :

(١) (١) أمامك خريطة صماء للوطن

العربي، اكتب ما تدل عليه

الأرقام الآتية :

(١) دولة منتجة للطاقة

الكهرومائية .....

(٢) من الدول المربية

للأبقار .....

(٣) أولى الدول في إنتاج المنجنيز .....

(٤) مقر منظمة الدول العربية المصدرة للبترول (أوابك) .....

(ب) ضع تفسيراً واحداً لكل مما يأتي :

(١) انتشار تربية الأغنام في الوطن العربي.

(٢) ضعف التبادل التجاري بين الدول العربية.

(ج) اكتب ما تدل عليه كل عبارة مما يأتي :

(١) السلع والمنتجات والخدمات التي تبيعها الدول للدول الأخرى.

(٢) خام يدخل في الصناعات الكيماوية ويوجد منفرداً أو مختلطاً بالغاز الطبيعي أو الحديد.

(٢) (١) أكمل العبارات الآتية بكلمات مناسبة :

(١) \* تعد العراق من أهم الدول في الوطن العربي المنتجة لـ .....

(٣) من مصروفات بيت مال المسلمين .....

( الجزية - العشور - الزكاة - إعطاء رواتب العاملين )

(٤) \* كانت ..... عاصمة دولة المماليك. ( بغداد - الكوفة - القاهرة - الأنبار )

(ب) ماذا كان يحدث إذا ... ؟ (١) \* لم يدخل المغول بغداد عام ٦٥٦ هـ.

(٢) \* انفلقت الحضارة الإسلامية على نفسها.

٦ (١) في أى العصور بُنيت كل مما يأتى ... ؟ (١) المدرسة الناصرية. (٢) بيت المال.

(ب) قارن بين : (١) الشورى، والديمقراطية من حيث المفهوم.

(٢) حقوق، وواجبات المتطوع. (يكتفى بنقطة واحدة)

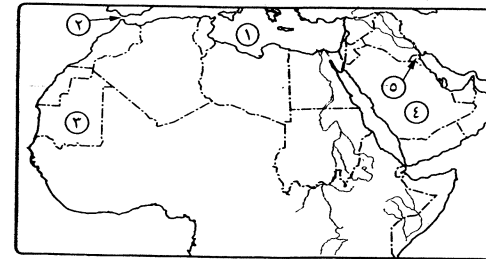


مديرية التربية والتعليم  
إدارة طور سيناء التعليمية

## ٢٣ محافظة جنوب سيناء

### أولاً الجغرافيا

### أجب عن الأسئلة الآتية :



١ (١) أمامك خريطة صماء للوطن

العربي، اكتب مدلول الأرقام :

(١) البحر .....

(٢) مضيق .....

(٣) أهم الدول العربية إنتاجاً

للحديد .....

(٥) مقر منظمة الأوبك .....

(٤) دولة منتجة للبترو

(ب) ما المقصود بالآتى ... ؟

(١) المراعى الطبيعية. (٢) احتياطى البترول. (٣) دخل قومى. (٤) صادرات.

٢ (١) بم تفسر ... ؟ (١) أهمية الصناعة فى الوطن العربى.

(٢) للغاز الطبيعى أهمية كبيرة فى الوطن العربى.

(ب) صوب ما فوق الخط :

(١) أكبر دولة عربية امتلاكاً للثروة الحيوانية دولة الصومال.

(٢) تحتل اليمن المركز الأول فى إنتاج الأسماك.

(٣) تقوم صناعة الأسمدة والطوب الحرارى على خام المنجنيز.

(٤) زيارة المسجد الأقصى من أنواع السياحة الطبية.

٣ (١) اختر الإجابة الصحيحة مما بين القوسين :

(١) من الدول التى يقام فيها سباق الهجن دولة .....

( سوريا - العراق - الإمارات - الصومال )

(٢) تقوم صناعة الأسلاك الكهربائية على خام .....

( النحاس - الحديد - الكبريت - الكوبالت )

(٣) تدخل بعض مشتقات البترول فى العديد من المنتجات مثل .....

( السولار - البنزين - الألياف الصناعية - جميع ما سبق )

(٤) من الواردات العربية ..... ( البترول - السيارات - الغاز الطبيعى - الصمغ العربى )

(ب) ما النتائج المترتبة على : تشابه الإنتاج الزراعى والحيوانى فى الوطن العربى ؟

(ج) ما رأيك فى : استغلال الدول العربية للبترو أثناء حرب أكتوبر ١٩٧٣ م ؟

### ثانياً التاريخ

٤ (١) من تنسب الأعمال الآتية ... ؟

(١) \* نظم الشرطة ولقب رئيسها بصاحب الشرطة. (٢) أسس علم البصريات.

(٣) إحياء الخلافة العباسية بالقاهرة. (٤) \* استرد مدينة صيدا.

(٥) أنشأ بيت مال المسلمين.

(ب) \* قارن بين : الخلافة، والوزارة من حيث المفهوم.

٥ (١) اكتب المصطلح الذى تعبر عنه كل عبارة مما يأتى :

(١) ضريبة تؤخذ على كل ما يخرج من باطن الأرض من معادن.

(٢) ركن من أركان الإسلام فرض على المسلم ليعطى الفقراء والمساكين.

(٣) مجموعة من أجناس مختلفة جلبهم الأيوبيون من أسواق الرقيق وأسرى الحروب.

(٤) وسيلة يتم من خلالها اختيار ممثلين للشعب لرعاية مصالحه.

(ب) أيد صحة كل عبارة مما يأتى :

(١) \* اهتمام الحضارة الإسلامية بالعلم. (٢) تواجه المشاركة التطوعية معوقات كثيرة.

٦ (١) رتب الأحداث الآتية من الأقدم إلى الأحدث :

\* طرد الصليبيين من عكا. \* معركة عين جالوت.

\* مقتل توران شاه. \* معركة ذات الصواري.

(ب) ماذا كان يحدث إذا : لم يتم اكتشاف طريق رأس الرجاء الصالح ؟



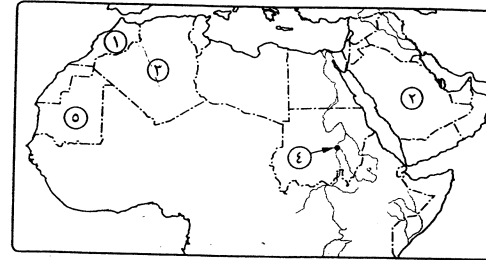
إدارة العرش التعليمية  
توجيه الدراسات الاجتماعية

## محافظة شمال سيناء

٢٤

### أولاً الجغرافيا

### أجب عن الأسئلة الآتية:



١/ (١) أمامك خريطة للوطن العربى،

اكتب مدلول الأرقام :

- (١) دولة منتجة للأسماك .....  
(٢) دولة منتجة للبتروك .....  
(٣) دولة منتجة للغاز الطبيعى .....

(٤) مقر المنظمة العربية للتنمية الزراعية ..... (٥) دولة منتجة للحديد .....

(ب) ما المقصود بالمصطلحات الآتية ... ؟

- (١) المراعى الطبيعية. (٢) سباق الهجن. (٣) صادرات. (٤) احتياطى البترول.

٢/ (١) اختر الإجابة الصحيحة مما بين القوسين :

- (١) المنظمة العربية للسياحة مقرها مدينة .....  
(جدة - الكويت - الرباط - الخرطوم )  
(٢) حقل بترول أبو الغراديق من أهم حقول دولة .....  
( ليبيا - مصر - السعودية - الأردن )  
(٣) من المعادن اللافلزية ..... ( الحديد - النحاس - المنجنيز - الكبريت )  
(٤) من أمثلة السياحة الترفيهية سياحة .....  
( الشواطىء - المهرجانات - التاريخية - المؤتمرات )

(ب) بم تفسر ... ؟

- (١) تقتصر تربية الجاموس على مصر والعراق فى الوطن العربى.  
(٢) قلة إنتاج الأسماك بالوطن العربى. (٣) أهمية الصناعة فى الوطن العربى.  
(٤) وجود معوقات لقيام تكامل اقتصادى عربى.

٣/ (١) قارن بين كل من :

- (١) المصايد البحرية، والمصايد النهرية فى الوطن العربى من حيث الدول التى يوجد بها.  
(٢) المنجنيز، والنحاس من حيث الأهمية.

(ب) اكتب كلمة (صح) أمام العبارة الصحيحة، وكلمة (خطأ) أمام العبارة غير الصحيحة :

- (١) يختلف توزيع الثروات المعدنية من دولة عربية إلى أخرى. ( )  
(٢) من أهم الصادرات العربية المواد الغذائية كالقمح والزيوت. ( )  
(٣) تسهم السياحة فى نشر روح التسامح والتفاهم بين الشعوب. ( )  
(٤) تُعد الإمارات من أهم الدول العربية التى تستخدم الطاقة الكهربائية. ( )

### ثانياً التاريخ

٤/ (١) من هو ... ؟ (١) قام بتطوير النظام الاقتصادى للدولة الإسلامية.

(٢) أطلق عليه المسلمون علم الصناعة.

(٣) \* تولى حكم مصر بعد وفاة أبيه عز الدين أيبك.

(٤) قام بطرد الصليبيين من صيدا.

(٥) انتصر على المماليك عام ١٥١٦م بالشام.

(ب) صوب ما تحته خط فى العبارات الآتية :

- (١) \* من حقوق المتطوع أن يحافظ على الأسرار.  
(٢) \* يُعد عز الدين أيبك آخر خلفاء الدولة الأيوبية.  
(٣) \* عُرفت الإمارة منذ عهد الأمويين.  
(٤) الحرية الفكرية هى التى تعطى الفرد الحق فى التصرف فى ماله وأملاكه.

٥/ (١) بم تفسر ... ؟

- (١) ازدهار التجارة فى الدولة الإسلامية.  
(٢) \* ضعف وسقوط دولة المماليك.  
(٣) الإنفاق على الجيش والأسطول فى عهد الدولة الإسلامية.  
(٤) \* تقدم المسلمون فى كافة مجالات العلوم المختلفة.

(ب) ما النتائج التى ترتبت على ... ؟

- (١) موقعة عين جالوت. (٢) \* براعة المسلمون فى علم الصيدلة.

٦/ (١) ماذا كان يحدث إذا ... ؟

- (١) \* لم تتسع الدولة الإسلامية.  
(٢) \* شارك أفراد المجتمع مشاركة تطوعية فعالة فى المجتمع.

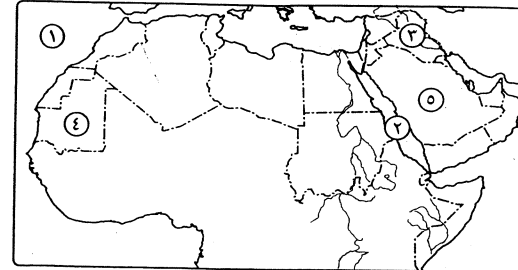
(ب) ما رأيك فى ... ؟ (١) المكانة التى حصلت عليها المرأة فى المجتمع الإسلامى.

(٢) فرد من المجتمع يرفض المشاركة التطوعية فى الأعمال.

٢٥ محافظة مطروح

إدارة مطروح التعليمية  
توجيه الدراسات الاجتماعية

أولاً الجغرافيا



١) أمامك خريطة صماء للوطن

العربي، اكتب ما تشير إليه  
الأرقام الآتية :

- (١) المحيط .....  
(٢) البحر .....  
(٣) من الدول المنتجة للطاقة  
الكهرومائية .....  
(٤) من الدول المنتجة للحديد .....

(٥) من الدول المنتجة للغاز الطبيعي .....

(ب) بم تفسر ... ؟ (١) قلة إنتاج الأسماك بالوطن العربي.

(٢) للصناعة أهمية كبرى في وطننا العربي.

٢) (١) اختر الإجابة الصحيحة مما بين القوسين :

- (١) أكثر الحيوانات انتشاراً في الوطن العربي .....  
(الأغنام - الأبقار - الماعز - الإبل)  
(٢) من أهم الصادرات العربية ..... ( الآلات - الطائرات - السيارات - الفوسفات )  
(٣) تنتمي سياحة الشواطئ والسفاري إلى السياحة .....  
( الدينية - الثقافية - الطبية - الترفيهية )  
(٤) يوجد مقر المنظمة العربية للتنمية الزراعية في مدينة .....  
( الخرطوم - القاهرة - الرياض - الكويت )

(ب) قارن بين : المنجنيز، والفوسفات من حيث :

\* الأهمية.  
\* أهم الدول العربية المنتجة.

٣) (١) اكتب ما تشير إليه كل عبارة من العبارات الآتية :

- (١) خام يدخل في الصناعات الكيماوية ويوجد منفرداً أو مختلطاً بالغاز الطبيعي أو الحديد.  
(٢) الإجراءات التي تتخذها الدول لإزالة القيود على حركة التجارة وعناصر الإنتاج.  
(٣) اتفاقية ترتب عليها خفض الجمارك بين الدول العربية.  
(٤) كمية البترول المخزونة في باطن الأرض.

(ب) اذكر : (١) اثنين من جهود الدول العربية لتحقيق التنمية السياحية.

(٢) اثنين من معوقات التكامل الاقتصادي العربي.

ثانياً التاريخ

٤) (١) ضع علامة (✓) أمام العبارة الصحيحة، وعلامة (X) أمام العبارة غير الصحيحة :

- (١) العلم الذي أطلق عليه علم الصنعة هو الكيمياء. ( )  
(٢) \* كفلت الدولة الإسلامية سبل المعيشة الكريمة للخليفة. ( )  
(٣) \* تمثلت عناصر المجتمع الإسلامي في العرب والموالي فقط. ( )  
(٤) آخر سلاطين الدولة الأيوبية هو السلطان الكامل. ( )  
(٥) المشاركة التطوعية هي كل جهد يبذله أفراد المجتمع دون مقابل مادي. ( )

(ب) اذكر نتيجة واحدة ترتبت على كل من :

(١) تعدد إيرادات الدولة الإسلامية في عهد الخليفة عمر بن الخطاب.

(٢) انتصار المسلمين على المغول في معركة عين جالوت.

٥) (١) لمن تنسب الأعمال الآتية ... ؟

- (١) أسس علم البصريات.  
(٢) \* ضرب العملة الإسلامية.  
(٣) \* انتصر على الصليبيين في عكا.  
(٤) أحيا الخلافة العباسية في القاهرة بعد سقوط بغداد.

(ب) ما المقصود بكل من ... ؟

- (١) مغول.  
(٢) ديمقراطية.

٦) (١) «تعد الحضارة الإسلامية أعظم حضارة عرفتها البشرية». في ضوء هذه العبارة وضع :

- (١) اثنين من إيرادات بيت المال.  
(٢) اثنين من مراكز انتقال الحضارة الإسلامية إلى أوروبا.

(ب) رتب الأحداث التاريخية الآتية من القديم إلى الحديث :

- \* هزيمة المماليك في معركة مرج دابق.  
\* \* تولى عز الدين أيبك حكم مصر.  
\* \* مقتل توران شاه.  
\* \* انتصار المسلمين على المغول في عين جالوت.