



مراجعات المنهوقين

برعاية متتدي بهابة التانهية العامة

مادة / الجغرافيا

للصف / الاول الثانوي

للأستاذ الكبير

مستتر / محمد الجومري

مراجعات املتفوقين

بدعاية منتدى بوابة الثانوية العامة

رئيس مجلس الإدارة مستر أمين نور

رئيس التحرير محمد محمود بلبل

مدير التحرير مستر حاتم أحمد

ابداعات

امراجعة النهائية



الجغرافيا

للمصف الأول الثانوي



إعداد

محمد الجوهري

01002042428

الموقع ومظاهر سطح مصر

الوحدة الأولى

أهم مفاهيم الوحدة :

موقع جغرافي	موقع دولة أو منطقة بالنسبة للقارات والبحار والمحيطات .
موقع فلكي	موقع دولة بالنسبة لدوائر العرض وخطوط الطول
علم الجيولوجيا	يعنى باللغة اليونانية علم الأرض ، وهو العلم الذى يهتم بدراسة نشأة الكرة الأرضية والتطور الجيولوجي الذى مرت به ، وخصائص الصخور وأنواعها وتاريخها ، وينقسم الى فروع عديدة ، مثل علم الحفريات و علم الطبقات الصخرية وغيرها .
تعرية	عمليات النقل والنحت والإرساب .
تعرية نهريّة	عمليات النقل والنحت والإرساب التى تقوم بها المياه الجارية فى الأنهار
تعرية بحريّة	عمليات النقل والنحت والإرساب بفعل الأمواج والتيارات البحرية والمد والجزر
جندل	مجموعة من الصخور النارية الصلبة تعترض مجرى النهر .
خاريق	الفترة التى ينخفض فيها منسوب مياه نهر النيل ، وتمتد من نهاية فيضانته حتى بداية الفيضان التالى ، وذلك قبل التخزين الدائم ببحيرة السد العالى .
وادي النيل	الأراضي الفيضية الخصبة التى تمتد على جانبي نهر النيل ، ويحدها حافات عالية من الشرق والغرب ويمتد من جنوب مصر الى القاهرة
دلتا النيل	رواسب فيضية تكونت عند مصب النهر بما يأتى به من حمولة ، تترسب فى مياه شاطئية ضحلة ، تتطور الى أن تتحول الى سهل دلتاوى تخترقه فروع للنهر لم يتبق منها سوى فرع رشيد وفرع دمياط
بوغاز	فتحة تصل البحر بالبحيرة وتعمل على تبادل المياه بينهما نتجت عن نحت الأمواج أو أنها كانت مصبات لفروع نيلية قديمة أو من صنع الإنسان للحفاظ على استمرار المياه بالبحيرات .
سبخات	أرض منخفضة تتميز بالأملاح نتيجة لقربها من المياه الجوفية أو من البحر وتبدو رطبة شتاءً وتجف صيفا وتتحول الى مسطحات ملحية .
غرود	كشبان طولية ضيقة ذات قمة حادة وجوانب منحدره ، وعادة ما تمتد مع اتجاه الرياح السائدة ، والتى تسببت فى وجودها وأكبر غرد أبو المحاريق الذى يبلغ طوله نحو ٢٥٠ كم .

(١) أكمل :

- (١) تقع مصر في الركن من قارة إفريقيا.
- (٢) إذا كنت تقف عند دائرة عرض ١٨° شمالاً فإنك بذلك تقترب من حدود مصر
- (٣) تعد حدود مصر أكثر الحدود تعرضاً للمخاطر الأمنية.
- (٤) تقع مصر بين خطي طول ٢٥° و شرقاً تقريباً.
- (٥) تسير حدود مصر الغربية في خط مستقيم باستثناء قطاعها الشمالي الممتد من السلوم حتى

- (٦) نشأ نهر النيل في عصر.....
 (٧) يأتي ٨٤% من مياه نهر النيل من روافده في.....
 (٨) أقصى اتساع في وادي النيل يوجد في.....
 (٩) يتميز السهل الفيضي لوادي النيل باستواء سطحه وانحداره الخفيف من إلى
 (١٠) تمتد دلتا نهر النيل من سهل شرقاً حتى الإسكندرية غرباً.
 (١١) تتصل بحيرة المنزلة بالبحر المتوسط بفتحات تسمى وأهمها.....
 (١٢) تنتهى الصحراء الغربية شمالاً بنطاق ساحلي يمتد من غرب حتى هضبة

(٢) اختر الإجابة الصحيحة من بين الأقواس :

- (١) تقع مصر بين دائرتي عرض شمالاً (٢٢°، ٣٣° - ٢°، ٣٠° - ٢٢°، ٣٦° - ٣٢°، ٣٢°)
 (٢) تقع مصر بين خطي طول ٢٥° و شرقاً (٣٦° - ٣٧° - ٣٨° - ٣٩°)
 (٣) من أودية الصحراء الشرقية
 (٤) تعد الحدود أقصر حدود برية لمصر (الغربية - الشمالية الشرقية - الجنوبية - الشمالية)
 (٥) يعد نهر الذي يصب في بحيرة فيكتوريا بداية لنهر النيل (كاجيرا - عطبرة - السوبات - الغزال)
 (٦) تبلغ مساحة حوالي ٦٨% من جلة مساحة مصر (الصحراء الشرقية - الصحراء الغربية - سيناء - الدلتا)

(٢) لم تفسر :

١) تعد شبه جزيرة سيناء بوابة مصر الشرقية

- حيث استقبلت الهجرات السكانية من شبه الجزيرة العربية وبلاد الشام والرافدين منذ القدم.
- انطلقت منها المؤشرات الحضارية والدينية إلى بقية دول القارة الإفريقية خاصة دول شمال القارة وكثير من دولها جنوب الصحراء.

٢) تعد قناة السويس أهم طريق ملاحى في العالم

- اختصرت المسافة بين الشرق والغرب مقارنة بطريقة رأس الرجاء الصالح.
- زيادة حركة التجارة العالمية
- اكتشاف واستخراج البترول ونقله من الخليج العربي وجنوب شرق آسيا إلى أوروبا وأمريكا الشمالية.

٣) انتشار المياه الجوفية في الصحراء الغربية.

- بسبب الفترات المطيرة في عصر البلايستوسين وتسرب كميات كبيرة من مياه الأمطار في باطن القشرة الأرضية

٤) تكون المنخفضات الصحراوية في الصحراء الغربية.

- بسبب نحت ونقل وارساب الرياح في المناطق الصحراوية بمصر حيث نشطت في فترات الجفاف

٥) تكون جبال البحر الأحمر.

- بسبب الصدوع التي تعرضت لها مصر في عصر الأوليجوسين

٦) تشكيل السهل الفيضي على جانبي مجرى نهر النيل.

- بسبب نحت مياه النهر مجاريها ونقل الرواسب وترسيبها على جانبي مجرى نهر النيل

٧) تكون دلتا نهر النيل.

٨) تعدد الأشكال الساحلية على البحرين المتوسط والأحمر.

- بسبب التعرية البحرية بفعل الأمواج والتيارات البحرية والمد والجزر .

٩) انتشار الكثبان والغطاءات الرملية في الصحراء الغربية.

- بسبب نحت ونقل وارساب الرياح في المناطق الصحراوية بمصر حيث نشطت في فترات الجفاف

(١٠) أهمية روافد هضبة الحبشة بالنسبة لمصر.

(١١) اتساع السهل الفيضى غرب نهر النيل مقارنة بجانبه الشرقى.

(١٢) ما النتائج المترتبة على:

(١) تعرض عديد من مناطق كثيرة من مصر للتصدع.

تكون البحر الأحمر وجبال البحر الأحمر وجبال جنوب سيناء

(٢) اندفاع البازلت البركانى مصاحباً للحركات الصدمية.

(٣) قيام المياه الجارية فى الأنهار بعمليات الإرساب.

(٤) قيام الأمواج بعمليات نحت وإرساب.

(٥) نشاط الرياح فى فترات الجفاف.

(٤) ضع علامة (✓) ، وعلامة (x) أمام العبارات الآتية فيما يلي مع تصويب الخطأ:

- ١- توجد الصخور الأركية القديمة جنوب شبه جزيرة سيناء وجبال البحر الأحمر بالصحراء الشرقية ()
- ٢- تعد تكوينات الزمن الأول أكبر التكوينات الجيولوجية مساحة في مصر ()
- ٣- تنقسم تكوينات الزمن الثالث إلى ثلاثة عصور هي الترياسي - الجوراسي - الكريتاسي ()
- ٤- تعد صخور الحجر الجيري من الصخور الأركية القديمة ()
- ٥- من المناطق التي تعرضت للتدخلات البركانية وطفوح البازلت جبل قطراني شمال الفيوم ()
- ٦- من أشكال السطح التي نتجت بفعل التعرية النهرية السهول الفيضية والشواطئ الرملية والدلتاوات ()
- ٧- تشكلت المنخفضات الصحراوية بفعل عوامل باطنية وعوامل تعرية خارجية ()

(٥) فى أى الأزمنة الجيولوجية تكونت الظاهرات والصخور الآتية :

الزمن الأركى	- الجرانيت والبازلت والرخام - الجندل الأول - خانق كلابشة - المثلث الجبلى - جبل العوينات - جبال البحر الأحمر
الزمن الأول	الحجر الرملى - وادى عربية
الزمن الثانى	- الحجر الرملى النوبى - الصخور الطباشيرية - هضبة الجلف الكبير - هضبة العبادة - منخفض الواحات البحرية - هضبتى التيه والعجمة - جبل مغارة
الزمن الثالث	الهضبة الوسطى بالصحراء الغربية - هضبة مارمريكا - هضبة المعازرة - الحجر الجيرى
الزمن الرابع	- الوادى والدلتا ومنخفض الفيوم - التلال الجيرية - الشواطئ المرجانية - الرواسب الطينية النيلية - ساحل البحر الأحمر

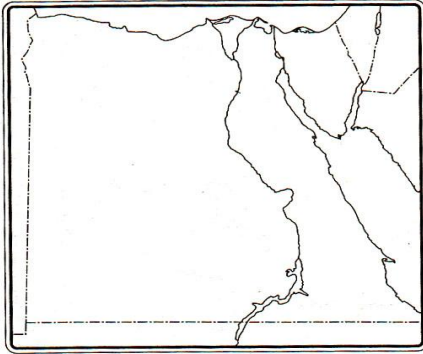
(٦) قارن بين :

١- الصحراء الشرقية والصحراء الشرقية من حيث (المساحة - الأقسام التضاريسية)

الصحراء الغربية	الصحراء الشرقية	المساحة
٦٨١ ألف كم ^٢ (٦٨% من مساحة مصر)	٢٢٤ ألف كم ^٢ (٢٢% من مساحة مصر)	
١- الهضاب (هضبة مارمريكا في الشمال - الهضبة الوسطى - الهضبة الجنوبية) ٢- النطاق الساحلى أهم الظواهر التضاريسية التي تميزه الرؤوس أرضية بارزة في البحر مثل رأس علم الروم ، ورأس الضبعة ، ورأس الحكمة	١- خط الساحل : أهم الظواهر التضاريسية التي تميزه - الرؤوس الأرضية أهم والخلجان والشروم ٢- السهل الساحلى يتميز بشكل عام باستواء سطحه مع بروز بعض التلال المرتفعة ويغطيه رواسب رملية ومفتتات ٣- جبال البحر الأحمر ٤- النطاق الهضبي : يمتد إلى الغرب من جبال البحر الأحمر	الاقسام التضاريسية

٢- الزمن الجيولوجى الثالث والزمن الثانى من حيث (مساحته - أهميته الاقتصادية)

الزمن الجيولوجى الثانى	الزمن الجيولوجى الثالث	مساحته
٤٢% من مساحة مصر	٣٣% من مساحة مصر	
تحتوي صخور الحجر الرملي النوبي على خزانات المياه الجوفية والبتروىل تحتوي الصخور الطباشيرية على خامات الفوسفات. توجد في جبل المغارة رواسب الفحم	تستخدم صخور الحجر الجري في أغراض البناء وصناعة الأسمت والجبس وغيرها . تحتوي تكوينات الميوسين على مصايد البتروىل	



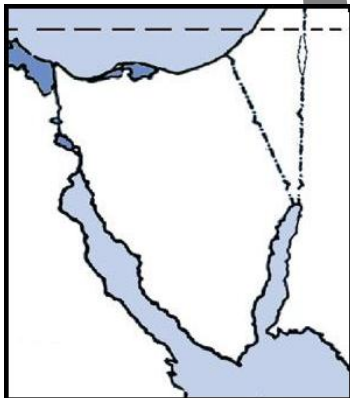
(٧) سؤال الخريطة :

١- على خريطة مصر الصماء حدد الظاهرات التالية:

- ١- هضبة التيه.
- ٢- هضبة المعازة.
- ٣- جبال البحر الأحمر.
- ٤- منخفض الواحات البحرية.
- ٥- هضبة مارمريكا
- ٦- جبل مغارة
- ٧- هضبة الجلف الكبير
- ٨- جبل العوينات

١- على خريطة سيناء الصماء حدد الظاهرات التالية:

- ١- جبل مغارة
- ٢- جبل سانت كاترين
- ٣- هضبة التيه
- ٤- هضبة العجمة
- ٥- البحر المتوسط
- ٦- خليج العقبة
- ٧- دولة فلسطين
- ٨- وادى فيران
- ٩- وادى وتير



المناخ والحياة النباتية والحيوانية فى مصر

الوحدة الثانية

أهم مفاهيم الوحدة :

مناخ	حالة الجو من حرارة و ضغط جوي و رياح و أمطار في فترة زمنية طويلة.
مدى حراري يومي	الفرق بين أعلى درجة حرارة و أدنى درجة حرارة خلال اليوم الواحد.
مدى حراري سنوي	الفرق بين متوسط درجة الحرارة لأحر شهور السنة و متوسط درجة الحرارة لأبرد شهور السنة لمنطقة ما.
مناخ قاري	مناخ المناطق الداخلية و يتصف بالتفاوت الكبير في درجات الحرارة بين الليل و النهار أو خلال فصول السنة و ذلك في المناطق الداخلية البعيدة عن المسطحات المائية.
رياح الخماسين	رياح محلية محملة بالرمال و الأتربة تهب من الجهات الصحراوية الجنوبية على شمال مصر خلال فصل الربيع.
رطوبة نسبية	نسبة بخار الماء الموجودة في الهواء إلى كمية بخار الماء التي يمكن أن يتشبع بها الهواء تشبعا تاما عند نفس درجة الحرارة.
إقليم مناخي	مساحة من سطح الأرض تتشابه في عناصرها المناخية المختلفة.
تغيرات مناخية	اختلال في الأحوال المناخية المعتادة كالحركة و الرياح و الأمطار التي تميز مكان ما على سطح الأرض و تؤدي على المدى الطويل إلى تأثيرات هائلة على الأنظمة الحيوية الطبيعية.
نبات طبيعي	النبات الذي ينمو دون تدخل الإنسان نتيجة لتفاعل عناصر المناخ المختلفة مع التربة.
محميات طبيعية	مساحة من الأرض أو المياه الساحلية أو الداخلية تتميز بما تضمه من كائنات حية، نباتات أو حيوانات أو أسماك أو ظواهر طبيعية ذات قيمة ثقافية أو علمية أو سياحية أو جمالية.

(أكمل العبارات التالية :

- (١) من العوامل المؤثرة فى مناخ مصر و
- (٢) تقع معظم مساحة مصر فى نطاق المناخ
- (٣) تعد المناطق الواقعة فى أكثر المناطق حرارة خلال فصل الصيف.
- (٤) الرياح التى تهب على مصر فى فصل الربيع هي الرياح
- (٥) تتأثر مصر بنوعين من الرياح فى فصل الشتاء، هي الرياح والرياح
- (٦) تتحرك المنخفضات الجوية فوق البحر المتوسط فى الشتاء من إلى
- (٧) تسقط الأمطار الشتوية على مصر نتيجة هبوب الرياح
- (٨) يعد إقليم أكثر أقاليم مصر اعتدالاً فى درجات الحرارة.

- (٩) من أهم مدن إقليم شبه البحر المتوسط في مصر مدن و
- (١٠) من أهم مدن إقليم شبه الصحراوى مدينتا و
- (١١) من الغازات التى تسبب ارتفاع فى درجة حرارة سطح الأرض و
- (١٢) نتيجة للتغيرات المناخية قد تتعرض بعض الشواطئ المصرية وأجزاء من الدلتا لخطر
- (١٣) يمتد إقليم جنوب إقليم شبه البحر المتوسط حتي دائرة عرض مدينة المنيا.
- (١٤) من أهم المدن التي تنتمي لأقليم المرتفعات
- (١٥) من العوامل المؤثرة في نمو النبات الطبيعي و
- (١٦) من أهم النباتات الطبيعية في مجري نهر النيل
- (١٧) تنتشر النباتات الطبيعية في الصحراء الشرقية في
- (١٨) تنمو النباتات الطبيعية شمال الصحراء الغربية نتيجة
- (١٩) تعد منطقة أكثر المناطق التي توجد بها حيوانات برية في مصر.

(٢) ضع علامة (✓) ، وعلامة (x) أمام العبارات الآتية فيما يلي مع تصويب الخطأ:

- () (١) تهب الرياح الشمالية والشمالية الغربية على مصر في فصل الخريف.
- () (٢) يعد فصل الخريف أفضل فصول العام مناخياً.
- () (٣) يزيد المدى الحرارى اليومي والفصلى فى المدن الساحلية مقارنة بالمناطق الداخلية
- () (٤) تكتسب المياه الحرارة ببطء وتفقدتها ببطء.
- () (٥) يتكون نطاق من الضغط المرتفع فوق اليابس المصرى في فصل الصيف.
- () (٦) يقل المدى الحرارى اليومي والفصلى فى إقليم شبه البحر المتوسط.
- () (٧) يمتد إقليم شبه الصحراوى حتى مدينة أسيوط.
- () (٨) تعد ظاهرة التغيرات المناخية من الظواهر المحلية المرتبطة بالبيئة المصرية.
- () (٩) تقتصر آثار التغيرات المناخية على ارتفاع درجات الحرارة فى مصر.
- () (١٠) قد يترتب على التغيرات المناخية زيادة فى إنتاج المحاصيل الصيفية.
- () (١١) مدينة بورسعيد تقع في الإقليم شبه الصحراوى.
- () (١٢) يشمل إقليم المرتفعات جبال جنوب سيناء وجبال البحر الأحمر.
- () (١٣) تسقط أمطار غزيرة علي جبل علبة في أقصى جنوب غرب مصر.
- () (١٤) تعد ظاهرة التغيرات المناخية ظاهرة عالمية وتأثيراتها عالمية.
- () (١٥) تنتشر أشجار المانجروف علي طول الساحل الشمالى في مصر.
- () (١٦) تزدهر الأشجار والأعشاب المدارية جنوب مصر.
- () (١٧) تنمو النباتات الطبيعية في أودية الصحراء الشرقية نتيجة وجود الآبار والعيون.

(٣) اختر الإجابة الصحيحة مما بين القوسين:

- (١) يقصد بالاعتدالين فصلي (الصيف والشتاء ، الربيع والخريف ، الشتاء والربيع ، الصيف والربيع)
- (٢) أكثر مدن مصر أمطاراً مدينة (الإسكندرية ، العريش - بورسعيد ، رفح)
- (٣) تتعامد الشمس فى الصيف الشمالى على .. (مدار الجدي ، مدار السرطان ، خط الاستواء ، الدائرة القطبية)
- (٤) تسقط الأمطار الشتوية نتيجة هبوب الرياح الشمالية (التجارية ، الغربية ، الشرقية - الجنوبية)
- (٥) تختلف الخصائص المناخية فى جنوب سيناء عن شمالها نتيجة لتأثير (الرياح - الارتفاع - البحر - الأمطار)
- (٦) تقل درجات الحرارة فى إقليم المرتفعات عن المناطق الساحلية المجاورة لها فى سيناء درجة (١٠ - ٢٠ - ٣٠ - ١٥)
- (٧) من أهم مدن الإقليم شبه الصحراوى (المنيا - الخارجة - الإسكندرية - سانت كاترين)

- (٨) تتعامد الشمس في فصل الصيف علي في جنوب مصر
(مدار الجدي - مدار السرطان - دائرة الاستواء - الدائرة القطبية)
- (٩) تسقط الأمطار الشتوية علي مصر نتيجة هبوب الرياح الشمالية
(التجارية - الغربية - الشرقية - الجنوبية)
- (١٠) أكثر مدن مصر أمطاراً مدينة
(الإسكندرية - العريش - بورسعيد - رفح)
- (١١) تختلف الخصائص المناخية في جنوب سيناء عن شمالها نتيجة لتأثير
(الرياح - الارتفاع - البحر - الأمطار)
- (١٢) تعد مدينة أكثر جهات مصر تعرضاً للتطرف المناخي (سوهاج - المنيا - أسيوط - الأقصر)

٤) بم تفسر:

١- يقل المدى الحراري في الأجزاء الشمالية لمصر

٢- هبوب الرياح الشمالية التجارية على مصر صيفاً
بسبب انخفاض الضغط الجوي على مصر صيفاً مما يؤدي لهبوب الرياح من مناطق الضغط المرتفع إلى مناطق الضغط المنخفض

٣- يعد فصل الخريف أفضل فصول السنة

٤- ضعف تأثير البحر الأحمر على مناخ مصر.

بسبب امتداد جبال البحر الأحمر من الشمال للجنوب بمحاذاة الساحل

٥- لا يوجد تأثير لمظاهر السطح على الأمطار في مناخ الوادي والدلتا
لاستواء السطح.

٦- حدوث التغيرات المناخية للكثرة الأرضية

بسبب زيادة نسبة تركيز الغازات مثل (ثاني أكسيد الكربون والكلوروفلوروكربون) المتولدة من عمليات الاحتراق

٧- لا نعتبر الصحراء الغربية ولا الصحراء الشرقية إقليماً مستقلاً وموحد لكل منهما

- لأن الأطراف الشمالية من هاتين الصحراوين تختلف عن الأطراف الجنوبية منهما.

- وادي النيل في مصر لا يمثل فاصلاً ولا إقليماً مناخياً بين الشرق والغرب

٨- اتساع المدى الحراري في الإقليم شبه الصحراوي

بسبب الابتعاد عن المسطحات المائية والاتجاه نحو الداخل

٩- سقوط الأمطار شتاء على إقليم البحر المتوسط

١٠- يتميز الإقليم الصحراوي بشتاء بارد في النهار وشديد البرودة ليلاً

١١- إنشاء المحميات الطبيعية في مصر.

- حماية

- حماية

- تشجيع

نشر

(٥) ما النتائج المترتبة على:

١ - موقع مصر الفلكى من الناحية المناخية.

٢ - موقع مصر على البحر المتوسط

- ضيق المدى الحراري اليومي والسنوى
- تزداد معدلات الرطوبة في المدن الساحلية وتقل بالاتجاه إلى الداخل
- ٣ - امتداد جبال البحر الأحمر بشكل عام من الشمال إلى الجنوب.

٤ - هبوب الرياح الشمالية الغربية شتاءً.

٥ - هبوب رياح الخماسين في فصل الربيع.

٦ - التغيرات المناخية على صحة الإنسان.

- يؤدي إلى ارتفاع درجة الحرارة إلى انتشار بعض الأمراض الخطيرة كالمalaria وسرطان الجلد
- بالإضافة إلى ضربات الشمس.
- للمناخ تأثير كبير على زيادة معدلات تكاثر الحشرات التي تنقل العديد من الأمراض.

(٦) ماذا يحدث لو:

١ - لم تطل مصر على مسطحات مائية.

٢ - إذا امتدت سلاسل جبلية في موازاة ساحل البحر المتوسط من الغرب إلى الشرق.

٣ - حدثت تغيرات مناخية أدت إلى انخفاض درجات الحرارة عالمياً.

٤ - استمرت ظاهرة التغيرات المناخية وارتفاع درجات الحرارة.

(٧) تتعدد المحميات الطبيعية في مصر وتشمل أنواعاً عديدة (في ضوء العبارة السابقة) وضح ما يلي:

١ - مفهوم المحميات الطبيعية

٣ - أنواع المحميات الطبيعية.

تراث طبيعي	صحراوية	بحرية	جيولوجية	معزل طبيعي للطيور	متعددة الأغراض
محمية رأس محمد	محمية الصحراء البيضاء	محمية بحيرة البرلس	محمية الغابة المتحجرة	محمية الزرائيق - سبخة البردويل	محمية نبق

سكان مصر

الوحدة الثالثة

اهم مفاهيم الوحدة :

تعداد سكاني	عمليات جمع وحصر شامل للمعلومات المرتبطة بالسكان من حيث عددهم وتوزيعهم والأوضاع الاقتصادية والاجتماعية لهم في منطقة معينة وفي فترة زمنية محددة.
إحصاءات حيوية	مصدر للبيانات السكانية في مصر وتتمثل أساسا في تسجيلات المواليد والوفيات وحالات الزواج والطلاق وغيرها.
زيادة طبيعية	زيادة عدد السكان نتيجة ارتفاع معدلات المواليد وانخفاض معدلات الوفيات.
معدل المواليد	عدد المواليد الأحياء في العام مقسوما على عدد السكان في منتصف العام $1000 \times$
معدل الوفيات	عدد الوفيات أقل من سنة مقسوما على عدد السكان في منتصف العام $1000 \times$
زيادة غير طبيعية	ويقصد بها الزيادة في أعداد السكان نتيجة الهجرة.
هجرة داخلية	انتقال السكان من منطقة لأخرى داخل حدود الدولة بهدف العمل أو الإقامة أو التعليم مثل انتقال السكان من محافظة إلى أخرى داخل مصر أو هجرة السكان من الريف إلى المدن.
هجرة خارجية	انتقال السكان من دولة إلى أخرى بهدف العمل أو الإقامة أو التعليم .. مثل هجرة المصريين إلى الدول العربية.
تركيب سكاني	تقسيم السكان حسب النوع و الفئـة العمرية أو حسب الأنشطة الاقتصادية أو المستوى التعليمي.
هرم سكاني	أحد الأشكال البيانية لتمثيل السكان من حيث أعدادهم والتركيب النوعي.
كثافة عامة	عدد السكان بالنسبة للمساحة الكلية
كثافة صافية	عدد السكان بالنسبة للمساحة المأهولة بالسكان
مناطق عشوائية	تجمعات عمرانية في المدن الكبرى وحولها غير مخططة عمرانيا وتغتنق إلى الخدمات الصحية والمياه النقية والصرف الصحي والطرق وشروط السكن الصحي
بطالة	وجود نسبية مؤثرة من شباب المجتمع خارج قوة العمل
المشكلة السكانية	النمو السريع والذي لا يتناسب مع موارد الدولة وانخفاض المستوى الصحي والتعليمي والاقتصادي وسوء التوزيع الجغرافي

(١) أكمل العبارات التالية :

- ١- من المحافظات الطاردة للسكان محافظة و..... و.....
- ٢- تقوم مصر بعمل تعداد كل سنوات
- ٣- بلغ عدد سكان جمهورية مصر العربية مليون نسمة ، طبقاً لتقديرات عام ٢٠١٢ م
- ٤- هجرة العقول تعنى.....
- ٥- يدل الإتساع النسبى لقاعدة الهرم السكانى فى مصر على إرتفاع معدل
- ٦- أكثر الأنشطة انتشاراً يتمثل فى النشاط.....
- ٧- يعيش نحو ٩٨,٢% من السكان فى و والذى تبلغ مساحته أقل من% من مساحة مصر
- ٨- تعدد العوامل الطبيعية التى تؤثر فى توزيع السكان ومن أهمها و و
- ٩- تعدد العوامل البشرية التى تؤثر فى توزيع السكان ومن أهمها و و
- ١٠- من المدن لم تكن موجودة قبل حفر قناة السويس و و
- ١١- تعد من أهم وأكثر العوامل تأثيراً فى توزيع السكان
- ١٢- من المحافظات مرتفعة الكثافة السكانية جداً.....ومن المحافظات مرتفعة الكثافة السكانية
- ١٣- من المحافظات متوسطة الكثافة السكانيةومن المحافظات منخفضة الكثافة السكانية
- ١٤- بلغ معدل البطالة% من قوة العمل عام ٢٠١٢ م
- ١٥- مشكلتى الإدمان وتعاطى المخدرات مرتبطة ب و.....
- ١٦- ويساهم انتشار الفقر فى انتشار..... و.....
- ١٧- تودى الزيادة السكانية إلى زيادة الطلب على السلع
- ١٨- للتغلب على المشكلة السكانية بآثارها الإقتصادية والإجتماعية لابد من السير فى اتجاهين هما..... و.....
- ١٩- يقل عدد السكان فى الأطراف للدلتا
- ٢٠- المحافظات الصحراوية يوجد بها% من عدد السكان فى مصر

(٢) بم تفسر :

١- إرتفاع معدلات المواليد فى مصر

٢- الهجرة الخارجية لسكان مصر

٣- ترتفع الكثافة السكانية فى المدن عن الريف

٤- يتركز السكان فى مناطق السهول خاصة الفيضية

بسبب سيادة حرفة الزراعة والتربة الخصبة

٥- الكثافة السكانية لا تعكس التوزيع الحقيقى للسكان

لأن يعيش ٩٨,٢% فى أقل من ٥% من مساحة مصر (الوادي و..... و.....)

ويعيش ١,٨% فى أكثر من ٩٥% من مساحة مصر فى محافظات الحدود (الصحراوية)

٦- يقل عدد السكان فى الأطراف الشرقية والغربية للدلتا

٧- يقل السكان فى المناطق الصحراوية

- ندرة المطر

- ارتفاع درجة الحرارة

٨- حدوث مشكلة البطالة

- قصور النمو الاقتصادى عن ملاحقة النمو السكانى

- عجز المدخرات المحلية عن تمويل الاستثمارات اللازمة لتوفير فرص العمل

٩- انتشار الأمية فى مصر

١٠- إزدحام المدن وظهور العشوائيات

١١- ارتفاع نسبة الإعالة

(٢) ما النتائج المترتبة على :

١- سوء توزيع السكان فى مصر

٢- التوسع فى مجالات التنمية لمناطق بعيدة عن التركيز السكانى

٣- نقص الغذاء

(٤) برهن على صحة العبارات الآتية :

١- تؤثر الأوضاع السياسية والعسكرية فى إعادة توزيع السكان

- عندما احتلت إسرائيل سيناء عام ١٩٦٧ م أدى إلى نزوح أعداد كبيرة من سكان سيناء ومدن قناة السويس إلى مناطق أخرى داخل مصر

- بعد هزيمة إسرائيل عام ١٩٧٣ م عاد السكان إلى سيناء ومدن القناة وارتفعت بها الكثافة السكانية .

٢- تؤثر الأوضاع الاقتصادية التى يمارسها السكان فى توزيعهم وكثافتهم

- حيث يتركز السكان فى المناطق الآتية :

- المناطق الزراعية : فى الوادى والدلتا

- المدن الصناعية : مثل : السادس من أكتوبر

- المناطق السياحية : كشواطئ سيناء والبحر الأحمر

- مناطق التعدين : مثل خليج السويس

(٥) ماذا يحدث إذا :

١- استمرت الزيادة فى معدلات البطالة بين الشباب

٢- اهتمت الدولة بتطوير التعليم خاصة الفنى

مع الجوهرى أنت دائماً فى المقدمة

الأنشطة الاقتصادية فى مصر

الوحدة الرابعة

اهم مفاهيم الوحدة :

قنوات مائية اصطناعية تشق لتوصيل مياه النهر الى الاراضى الزراعية	ترع
حواجز مائية لها بوابات تنشأ فى مجرى النهر وتعمل على رفع المياه أمامها لتصب فى الترع المتفرعة أمامها	قناطر
استخراج الخامات المعدنية من باطن الأرض وهناك نوعان من التعدين : التعدين السطحى حينما تكون المعادن قريبة من السطح والتعدين الباطن ، حينما تكون المعادن على أعماق بعيدة من سطح الأرض	تعدين
تتكون من عنصر أو أكثر من العناصر غير العضوية	معادن فلزية
تتكون من عناصر عضوية أو غير عضوية	معادن لافلزية
تبادل السلع والخدمات بين الدولة وغيرها من دول العالم الأخرى	تجارة خارجية
تبادل السلع والخدمات المتنوعة من سلع مصنعة أو منتجات زراعية وغيرها ما بين المحافظات والمناطق المختلفة داخل الدولة من خلال الأسواق المتخصصة	تجارة داخلية

(١) أكمل العبارات التالية :

- ١- التربة فى دلتا نهر النيل يتكون معظمها من
- ٢- تتحدد موارد المياه فى مصر فى ثلاث مصادر و..... و.....
- ٣- و اقيمت عديد من مشروعات الري لتنظيم مياه الري مثل و..... و.....
- ٤- من مصارف شرق الدلتا ووسط الدلتا مصرف وغرب الدلتا مصرف
- ٥- تبلغ مساحة الاراضى الزراعية فى مصر نحو مليون فدان
- ٦- يبلغ إجمالى واردات مصر من الأسماك نحو طن سنوياً
- ٧- من المعادن الفلزية و..... ومن المعادن اللافلزية و.....
- ٨- تحتل مصر المرتبة فى انتاج الفوسفات فى العالم
- ٩- من أهم حقول الغاز الطبيعى و..... و.....
- ١٠- من أهم حقول البترول البحرية حقل و..... و.....
- ١١- من مقومات الصناعة و و
- ١٢- يبلغ طول الطرق المائية الملاحية فى مصر كم
- ١٣- تتعامل ميناء مع أكثر من نصف تجارة مصر الخارجية
- ١٤- من المطارات الدولية مطار و و
- ١٥- تعتمد الشراكة على و..... و.....
- ١٦- من المقومات الطبيعية لجذب السياح و..... و.....
- ١٧- من المقومات البشرية لجذب السياح و..... و.....
- ١٨- من المعالم الأثرية بالفيوم..... و.....
- ١٩- تعد الواحات مناطق جذب لسياحة
- ٢٠- تهدف السياحة..... إلى الإستراحة من عناء العمل

(٢) بم تفسر :

١- تؤثر الرياح على المحاصيل الزراعية

لأنه عندما تهب رياح حارة تضر بالمحاصيل بما تحمله من رمال وأتربة فتؤدى لسقوط البراعم والأزهار

٢- تناقص انتاج محصول القطن فى السنوات الأخيرة

بسبب اتجاه السياسة الحكومية نحو التوسع فى زراعة المحاصيل الزراعية

٣- تواجه الزراعة فى مصر عدة المشكلات

- تفتت - تصحر
- هجرة - انتشار
- تجريف - العمالة
- استخدام - هجرة

٤- تناقص اعداد العاملين فى الزراعة

بسبب

٥- انخفاض اعداد الثروة الحيوانية فى مصر

- نقص - قلة
- ارتفاع - انتشار
- استخدام المزارعين

٦- تعد الأسماك والقشريات مصدر هام للغذاء

- سد النقص فى اللحوم والدواجن - رخص ثمنها - اقبال عدد كبير من السكان عليها

٧- لم تستغل مناجم حديد جبال البحر الأحمر حتى الآن

بسبب وعورة التضاريس وتباعد المناجم

٨- أهمية الغاز الطبيعى كمصدر للطاقة

.....

٩- للصناعة المصرية معوقات عديدة

- نقص المواد الخام
- ضعف الأسواق المحلية بسبب التضخم
- اغراق الاسواق بالمنجات الخارجية
- استيراد آلات التصنيع من الخارج
- نقص العمالة الماهرة
- صعوبة منافسة المنتجات العالمية (جودة - اسعار)
- ابتعاد المستثمرين عن الاستثمار الصناعى
- الاعتماد على الآلات القديمة فى المصانع

١٠- يعانى الإقتصاد المصرى من العديد من المشكلات والتحديات

- انخفاض مستوى التقنيات
- زيادة الديون الداخلية والخارجية
- عدم استقرار الاوضاع السياسية فى المنطقة وخاصة مصر
- زيادة استهلاك المنتجات غير المتوفرة بالقدر الكافى

١١- رغم طول سواحل مصر فإن عدد الموانئ المصرية قليل

.....

١٢- هناك صعوبات ترتبط بالنقل النهري

.....

١٣- تعد طرق النقل بأنواعها المختلفة بمثابة شرايين الحياة بالنسبة للدولة

لأن عن طريقها يتم نقل السكان والبضائع والمواد الخام

١٥ - تعد سيناء من مناطق السياحة الرئيسية فى مصر

- ١ - التنوع ما بين ساحلية وجبلية وصحراوية
- ٢ - الشعاب المرجانية
- ٣ - كثرة الشواطئ الرملية والمناخ الدافئ شتا والشمس الساطعة
- ٤ - توجد فى سيناء العديد من الآثار القديمة مثل دير سانت كاترين وقلعة صلاح الدين فى طابا

(٣) ما المقصود بالمفاهيم الآتية :

(١) المساحة الزراعية : هى مساحة الأرض الزراعية الفعلية

(٢) المساحة المحصولية : هى اجمالى مساحة المحاصيل التى تزرع فى كل المواسم الزراعية خلال السنة

(٣) الميزان التجارى : هو

(٤) اكتب ماتعرفه عن :

١ - الجهود المبذولة للتغلب على مشكلات الزراعة

- استصلاح
- استنباط
- مساعدة
- إدخال
- توعية والارشاد الزراعى ودعم نقابة الفلاحين
- الاهتمام بمشروعات

٣ - تنمية الثروة المعدنية فى مصر

- البحث والتنقيب عن معادن جديدة
- تنمية الانتاج فى مناطق الانتاج
- إدخال الاساليب العلمية والتكنولوجية فى قطاع استخراج البترول

٤ - جهود الدولة للنهوض بالصناعة

- ادخال صناعات حديثة مثل الالكترونيات وتجميع السيارات
- رفع الجمارك على الواردات لتشجيع الصناعة المصرية
- استغلال وتطوير المناجم لتوفير المواد الخام
- تشجيع الاستثمار فى المجال الصناعى
- التوسع فى برامج التعليم والتدريب لتوفير العمالة الماهرة
- تشجيع العاملين فى الصناعة من خلال رفع الاجور وزيادة الحوافز

٦ - كيفية النهوض بالاقتصاد المصرى

- العمل على استقرار الاوضاع السياسية
- الاهتمام بالزراعة من خلال استصلاح اراضى جديدة واستنباط سلالات نباتية جديدة
- البحث عن مصادر مياه جديدة
- دعم وتشجيع السياحة
- الاهتمام بالتعليم خاصة الفنى ودعم البحث العلمى
- التوسع فى استخدام نظم المعلومات الجغرافية فى الدراسات الاقتصادية

٧ - مستقبل النقل فى مصر

- امتدادات مترو الانفاق للوصول لأطراف مدينة القاهرة والمدن الجديدة
- تطوير وتجديد السكك الحديدية
- تطوير الموانئ القديمة وانشاء موانئ جديدة
- تطوير وزيادة اعداد السفن
- مشروع لعمل جسر بحرى بين مصر والسعودية

٨- جهود الدولة لتنمية السياحة

- انشاء وزارة للثقافة وللآثار لدعم وتنمية المشروعات الكبرى
- التوسع فى إنشاء الفنادق بدرجاتها المختلفة .
- تطوير القرى السياحية والمنتجعات .
- المشاركة فى المعارض العالمية والتسويق السياحى
- التوسع فى إنشاء المطارات بالمناطق السياحية
- توعية المواطنين وارشادهم بكيفية التعامل مع السائحين .
- إنشاء كليات ومعاهد السياحة لتوفير الكوادر العلمية والكفاءات فى العمل السياحى

٩- مقومات الجذب السياحى فى مصر

- المقومات الطبيعية (الموقع الجغرافى - المناخ - نهر النيل - البيئة الطبيعية)
المقومات البشرية (النقل - التراث الحضارى - التسهيلات السياحية - التنوع الاجتماعى)

٤- قارن بين :

١- الحديد والمنجنيز من حيث الانتاج ومناطق الاستخراج

المنجنيز	الحديد	
الإنتاج السنوى ١٤٠ ألف طن	الإنتاج السنوى ٣ ملايين طن	الانتاج
- أم بجمة فى سيناء - جبل علبة	- المناجم الجديدة بالواحات البحرية - مناجم جبال البحر الأحمر	مناطق الاستخراج

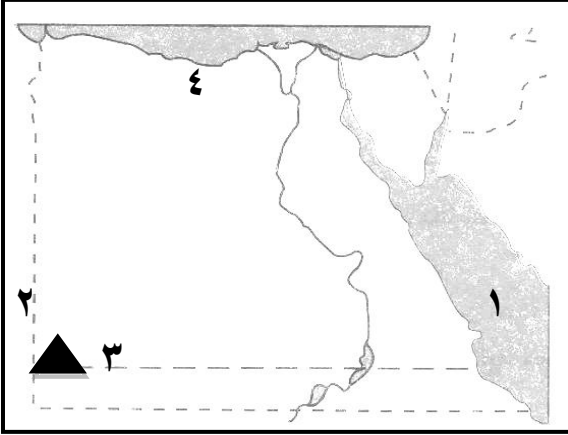
٢- الصادرات والواردات المصرية

الواردات	الصادرات	
٦٥ مليار دولار	٢٢ مليار دولار	القيمة
الفحم ، والزيت النباتية ، واللحوم ، والأجهزة والآلات	الفوسفات والغاز الطبيعى والخضروات والملابس الجاهزة والأجهزة المنزلية.	السلع

الجغرافيا مع الجوهري أسهل بكثير

نموذج اختبار على الوحدة الأولى

السؤال الأول (أ) أمامك خريطة لجمهورية مصر العربية وضح مدلول الأرقام



- ١- البحر
- ٢- دولة
- ٣- جبل
- ٤- هضبة

(ب) ما المقصود بـ؟

- ١- الغرود
- ٢- السبخات
- ٣- علم الجيولوجيا

س٢: أكمل العبارات الآتية:

- ١- تمتد مصر بين خطى طول و شرقا
- ٢- تبلغ مساحة الصحراء حوالى ٦٨% من جملة مساحه مصر.
- ٣- تظهر تلال قبابية جنوب السهل الساحلى الشمالى بشبه جزيرة سيناء منها جبل
- ٤- من الظواهر الجغرافية لوادى النيل و

س٣: (أ) بم تفسر:

- ١- زادت أهمية موقع مصر بعد شق قناة السويس
- ٢- زيادة الاهتمام الأمنى بالحدود الشرقية

(ب) أكتب ما تشير اليه العبارات:

- ١- مجموعة من الصخور النارية الصلبة التى تعترض مجرى النهر
- ٢- عمليات النقل و النحت و الإرساب

س٤: ضع علامة (✓) أو (x) مع التعليل فى الحالتين:

- ١- تعد صخور الحجر الجيري من الصخور الأركية القديمة
- ٢- يستمد النيل الازرق معظم مياهه من بحيرة فيكتوريا
- ٣- تمتد الصحراء الشرقية من وادى النيل شرقا حتى الحدود مع ليبيا غربا
- ٤- تعتبر الحدود الشرقية البرية اطول حدود مصر

س٥: (أ) قارن بين:

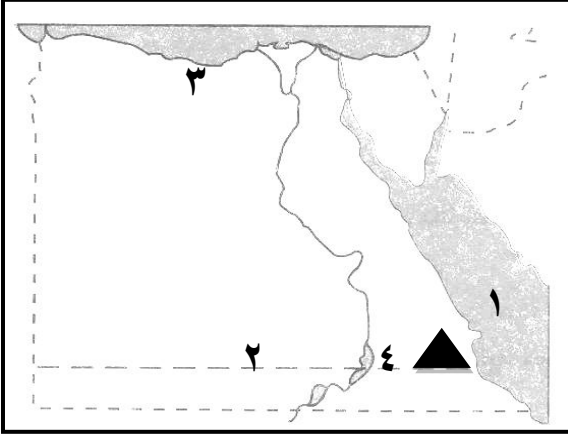
الجغرافيا الطبيعية والجغرافيا البشرية من حيث التعريف - أهم الفروع

(ب) أذكر ما تعرفه عن:

الزمن الجيولوجى الثالث

نموذج اختبار على الوحدة الثانية

السؤال الأول (أ) أمامك خريطة لجمهورية مصر العربية وضح مدلول الأرقام



- ١ - البحر
- ٢ - مدار
- ٣ - إقليم مناخى
- ٤ - إقليم نباتى

(ب) ما المقصود بـ؟

- ١ - النبات الطبيعي
- ٢ - محمية طبيعية
- ٣ - الرطوبة النسبية

س٢ : أكمل العبارات الآتية :

- ١ - تنمو النباتات الطبيعية في الواحات اعتماداً علي
- ٢ - تسقط الأمطار الشتوية علي مصر نتيجة هبوب الرياح
- ٣ - تقع معظم مساحة مصر في نطاق المناخ
- ٤ - من الغازات التي تسبب ارتفاع في درجة حرارة سطح الأرض و
- ٥ - تعد مدينة أكثر جهات مصر تعرضاً للتطرف المناخي

س٣ : (أ) بم تفسر :

- ١ - الأهمية الاقتصادية للنبات الطبيعي في مصر
- ٢ - ضعف تأثير البحر الأحمر على مناخ مصر

(ب) أكتب ما تشير اليه العبارات :

- ١ - اختلاف في الأحوال المناخية المعتادة التي تميز مكان ما على سطح الأرض
- ٢ - رياح تهب على مصر في فصل الربيع

س٤ : ضع علامة (✓) أو (x) مع التعليل في الحالتين :

- ١ - تهب الرياح الشمالية والشمالية الغربية على مصر في فصل الخريف.
- ٢ - يتكون نطاق من الضغط المرتفع فوق اليابس المصرى في فصل الصيف.
- ٣ - يمتد إقليم شبه الصحراوى حتى مدينة أسيوط.
- ٤ - تسقط أمطار غزيرة علي جبل علبة في أقصى جنوب غرب مصر

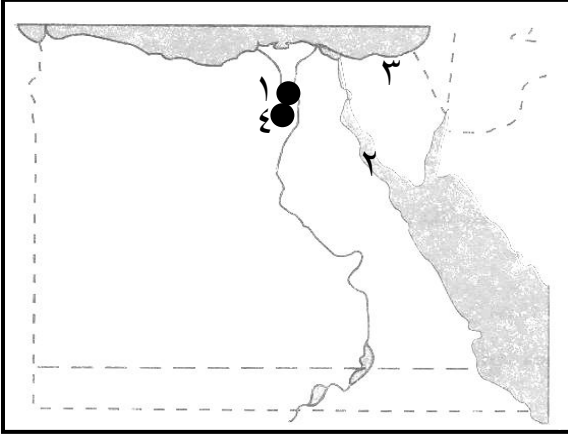
س٥ : (أ) قارن بين :

إقليم مناخ البحر المتوسط وإقليم المناخ الصحراوى من حيث (الموقع - الخصائص المناخية - المدن)

(ب) أذكر أهداف المحميات الطبيعية

نموذج اختبار على الوحدة الثالثة

السؤال الأول (أ) أمامك خريطة لجمهورية مصر العربية وضح مدلول الأرقام



- ١ - محافظة مرتفعة الكثافة جداً
- ٢ - خليج
- ٣ - من محافظات الحدود
- ٤ - محافظة مرتفعة الكثافة

(ب) ما المقصود بـ؟

- ١ - الكثافة السكانية
- ٢ - البطالة

س٢ : أكمل العبارات الآتية :

- ١ - يعيش بالمحافظات ١,٨% من عدد السكان
- ٢ - تتميز المناطق الجبلية الوعرة بـ السكان
- ٣ - يتركز السكان فى المدن الصناعية مثل
- ٤ - تعد الكثافة مؤشر حقيقى للكثافة السكانية

س٣ : (أ) بم تفسر :

- ١ - ارتفاع نسبة الأمية فى الريف عن المدن
- ٢ - حدوث المشكلة السكانية فى مصر

(ب) أكتب ما تشير اليه العبارات

- ١ - تجمعات عمرانية فى المدن الكبرى وحولها غير مخططة عمرانياً وتفتقر إلى الخدمات
- ٢ - زيادة عدد العاملين عما يتطلبه حاجة العمل من أيد عاملة

س٤ : ضع علامة (✓) أو (x) مع التعليل فى الحالتين :

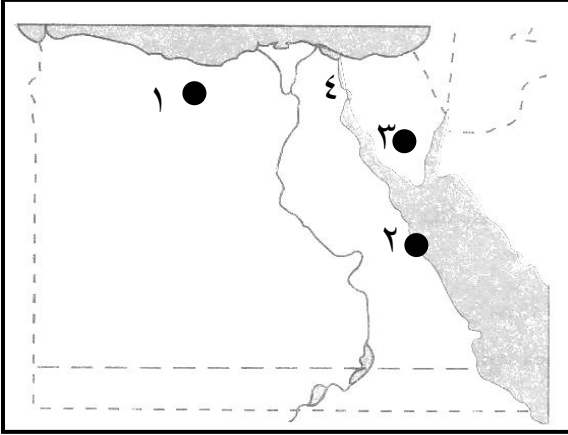
- ١ - يزداد عدد السكان فى الأطراف الشمالية للدلتا
- ٢ - تؤثر الأوضاع السياسية والعسكرية فى إعادة توزيع السكان
- ٣ - يتركز السكان فى مناطق التعدين
- ٤ - تعاني نسبة كبيرة من المصريين من انخفاض مستوى المعيشة

س٥ : " تعاني مصرنا الحبيبة من زيادة كبيرة فى عدد السكان " فى ضوء العبارة وضح

- ١ - أبعاد المشكلة السكانية
- ٢ - كيف تخرج مصر من أزمتها الاقتصادية ؟

نموذج اختبار على الوحدة الرابعة

السؤال الأول (أ) أمامك خريطة لجمهورية مصر العربية وضح مدلول الأرقام



- ١ - حقل بترول
- ٢ - ميناء بحرى
- ٣ - حقل منجنيز
- ٤ - قناة ملاحية

(ب) ما المقصود بـ؟

- ١ - المعادن الفلزية
- ٢ - الكثافة السكانية

س٢ : أكمل العبارات الآتية :

- ١ - مشكلتي الإدمان وتعاطى المخدرات مرتبطة بـ و
- ٢ - من المحافظات مرتفعة الكثافة السكانية جداً
- ٣ - مشروع شرق العوينات يعتمد على المياه
- ٤ - تعد صناعة أكثر الصناعات انتشاراً

س٣ : (أ) بم تفسر :

- ١ - تعد سيناء من مناطق السياحة الرئيسية فى مصر
- ٢ - يواجه النقل النهري عدة صعوبات

(ب) أكتب ما تشير اليه العبارات

- ١ - هي المساحة الفعلية للأراضى الزراعية
- ٢ - حواجز مائية لها بوابات تنشا فى مجرى النهر وتعمل على رفع المياه امامها لتصب فى الترع

س٤ : ضع علامة (✓) أو (x) مع التعليل فى الحالتين :

- ١ - ترتفع الكثافة السكانية فى المدن عن الريف
- ٢ - ما تم استصلاحه حتى الآن مساحة محدودة جداً من مشروع توشكى
- ٣ - الميزان التجارى للبلاد فى الوقت الحالى فى صالح مصر
- ٤ - تتعامل ميناء السويس مع أكثر من نصف تجارة مصر الخارجية

س٥ (أ) أكتب ما تعرفه عن :

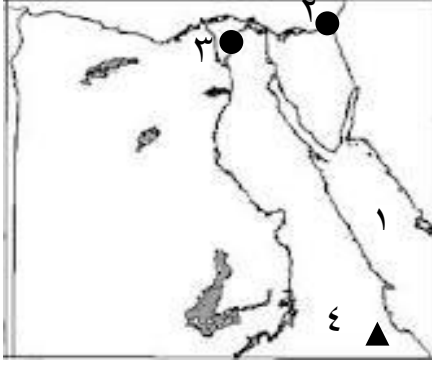
- ١ - المقومات الطبيعية لجذب السياح
- ٢ - مشكلة البطالة وأثرها على المجتمع

(ب) قارن بين :

الحديد و المنجنيز من حيث : مناطق الانتاج

نموذج امتحان (١)

السؤال الأول : (أ) أمامك خريطة لمصر أكتب مدلول الأرقام



- (١) البحر
- (٢) مدينة
- (٣) محافظة جاذبة للسكان
- (٤) جبل

(ب) ما النتائج المترتبة على :

- (١) تعرض الكتلة العربية النوبية لحركات التصدع
- (٢) موقع مصر على البحرين المتوسط والأحمر
- (٣) شق قناة السويس

السؤال الثانى : (أ) ضع علامة صح أو خطأ مع تصويب الخطأ :

- (١) يعد فصل الربيع أفضل فصول مصر مناخاً
- (٢) يمتد إقليم شبه الصحراوى حتى مدينة أسيوط
- (٣) يقل عدد السكان فى الأطراف الشمالية للدلتا
- (٤) تعد صخور الحجر الجيري من الصخور الأركية القديمة
- (٥) يتسع السهل الفيضى غرب الوادى مقارنة بجانبه الشرقى

(ب) بم تفسر :

- (١) تكون جبال البحر الأحمر
- (٢) تكوينات الزمن الجيولوجى الثانى أكثر التكوينات الجيولوجية فى مصر
- (٣) تتمتع شبه جزيرة سيناء بأهمية إستراتيجية و إقتصادية
- (٤) إرتفاع معدلات المواليد فى مصر

السؤال الثالث : (أ) قارن بين :

- (١) الصحراء الشرقية و الصحراء الغربية من حيث (الموقع والمساحة والمظاهر التضاريسية
- (٢) حدود مصر البرية والبحرية

(ب) ماذا يحدث إذا

- (١) حدثت تغيرات مناخية أدت إلى انخفاض درجات الحرارة عالمياً
- (٢) لم تطل مصر على مسطحات مائية

السؤال الرابع : (أ) أكمل العبارات الآتية :

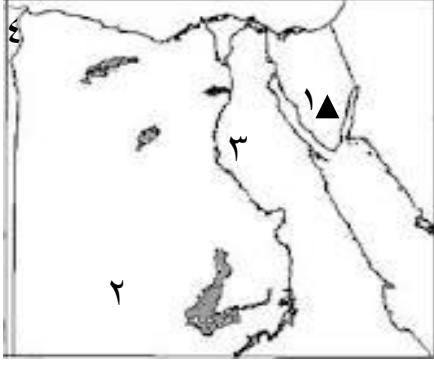
- (١) تعد أكثر محافظات مصر جذباً للسكان وأكثرهم كثافة و أكثرهم طرد
- (٢) الرياح التى تهب على مصر فى فصل الربيع هي الرياح
- (٣) تمتد دلتا نهر النيل من سهل شرقاً حتى الإسكندرية غرباً
- (٤) تقع مصر فى الركن من قارة إفريقيا

(ب) اكتب ما تعرفه عن :

المحميات الطبيعية فى مصر

نموذج امتحان (٢)

السؤال الأول : (أ) أمامك خريطة لمصر أكتب مدلول الأرقام



- (١) جبل
- (٢) هضبة
- (٣) إقليم مناخى
- (٤) دولة

(ب) بم تفسر :

- (١) الأهمية الاقتصادية للنبات الطبيعى فى مصر
- (٢) قلة السكان فى محافظات الحدود
- (٣) الهجرة الخارجية لسكان مصر
- (٤) سقوط الأمطار الشتوية على الأجزاء الشمالية لمصر

السؤال الثانى : (أ) ضع علامة صح أو خطأ مع تصويب الخطأ :

- (١) تشكلت المنخفضات الصحراوية بفعل عوامل باطنية وعوامل تعرية خارجية
- (٢) يعد فصل الخريف أفضل فصول العام مناخياً
- (٣) الصخور الأركية ذات قيمة إقتصادية كبيرة
- (٤) مدينة بورسعيد تقع فى الإقليم شبه الصحراوي
- (٥) تنخفض الرطوبة النسبية فى المناطق الساحلية صيفاً

(ب) ما المقصود بـ ؟

- (١) الرطوبة النسبية
- (٢) الهرم السكانى

السؤال الثالث : (أ) قارن بين :

إقليم شبه البحر المتوسط وإقليم شبه الصحراوي

(ب) ماذا يحدث إذا :

- (١) امتدت سلاسل جبلية فى موازاة الساحل من الغرب إلى الشرق
- (٢) استمرت التغيرات المناخية فى ارتفاع الحرارة

السؤال الرابع : أكمل العبارات الآتية :

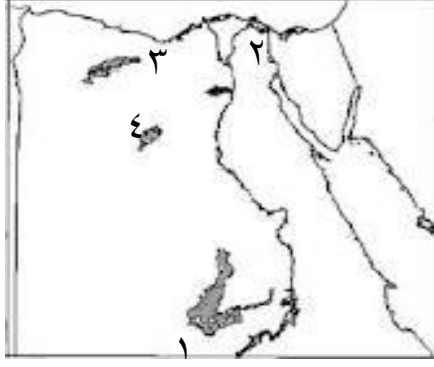
- (١) تقع معظم مساحة مصر فى نطاق المناخ
- (٢) يتميز السهل الساحلي للصحراء الشرقية بشكل عام بـ
- (٣) تظهر تكوينات الزمن الأركى فى جبال و
- (٤) تعد حدود مصر أكثر الحدود تعرضاً للمخاطر الأمنية

(ب) اكتب ما تعرفه عن :

النبات الطبيعى فى الصحارى المصرية

نموذج امتحان (٣)

السؤال الأول : (أ) أمامك خريطة لمصر أكتب مدلول الأرقام



- (١) دولة
- (٢) قناة ملاحية
- (٣) هضبة
- (٤) واحة

(ب) ما المقصود بـ ؟

- (١) التعداد السكاني
- (٢) المناخ القارى
- (٣) المدى الحرارى
- (٤) اقليم مناخى

السؤال الثانى : (أ) أكمل العبارات الآتية :

- (١) تعد أكثر المدن تطرفاً مناخياً بينما مدينة أكثرهم مطراً
- (٢) يشغل ٣٦% من مساحة الصحراء الغربية
- (٣) العوامل المؤثرة فى مناخ مصر و..... و.....
- (٤) تقع مصر بين خطي طول ٢٥° و شرقاً

(ب) بم تفسر :

- (١) ارتفاع الكثافة السكانية فى المدن عن الريف
- (٢) تنخفض الحرارة فى بعض مناطق الصحراء الغربية الى ما دون الصفر شتاءً
- (٣) أهمية المنابع الحشوية
- (٤) إنشاء المحميات الطبيعية فى مصر

السؤال الثالث : (أ) ماذا يحدث إذا

- (١) لم تشق قناة السويس
- (٢) لم تطل مصر على مسطحات مائية

(ب) أذكر ما يلى :

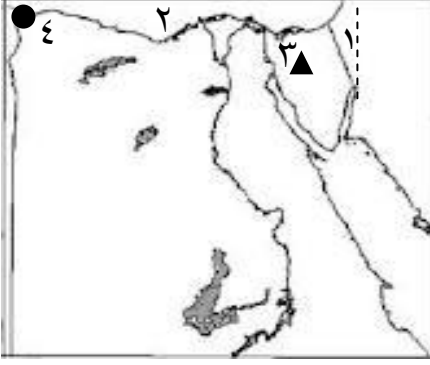
العوامل التى أدت الى زيادة النمو السكاني فى مصر

السؤال الرابع : (أ) ضع علامة صح أو خطأ مع تصويب الخطأ :

- (١) الجيومورفولوجيا أحد فروع الجغرافيا التى تهتم بدراسة أشكال السطح وعوامل تشكيلها
- (٢) تعد تكوينات الزمن الأول أكبر التكوينات الجيولوجية مساحة فى مصر
- (٣) يوجد وادى فيران فى المثلث الجبلى جنوب سيناء
- (٤) تتميز هضبة المعازة بتقطعها بفعل الاودية الجافة مثل وادى العريش

(ب) قارن بين :

الزمن الجيولوجى الثالث والزمن الجيولوجى الرابع

نموذج امتحان (٤)

السؤال الأول : (أ) أمامك خريطة لمصر أكتب مدلول الأرقام

- (١) دولة
- (٢) البحر
- (٣) جبل
- (٤) مدينة

(ب) بم تفسر :

- (١) للتغيرات المناخية آثار متعددة
- (٢) إرتفاع معدل النمو السكاني فى مصر
- (٣) تكون دلتا نهر النيل.
- (٤) يعد إقليم المرتفعات إقليمياً مناخياً مميزاً عن المناطق الأخرى

السؤال الثانى : (أ) ضع علامة صح أو خطأ مع تصويب الخطأ :

- (١) تشكلت المنخفضات الصحراوية بفعل عوامل باطنية وعوامل تعرية خارجية
- (٢) إنخفاض درجات الحرارة الصغرى فى الصحراء الغربية فى فصل الشتاء
- (٣) محمية نبق محمية ذات اغراق متنوعة
- (٤) يتركز السكان فى وسط وشمال الدلتا

(ب) قارن بين :

- (١) الزيادة الطبيعية والزيادة غير الطبيعية

السؤال الثالث : (أ) أكمل العبارات الآتية :

- (١) العوامل المؤثرة فى المناخ و
- (٢) تنخفض درجات الحرارة الى الصفر المئوى فى مدينتى و
- (٣) نشأ نهر النيل فى عصر
- (٤) يعد إقليم أكثر أقاليم مصر اعتدالاً فى درجات الحرارة

(ب) أذكر العلاقة بين :

البطالة والهجرة غير الشرعية للشباب

السؤال الرابع : (أ) ما النتائج المترتبة على :

- (١) إنتشار صخور الزمن الثانى فى مساحات واسعة من مصر
- (٢) وقوع مصر فى الجزء الشمالى من حوض النيل
- (٣) تعرض مصر الى ضغوط أرضية من جهة الشمال الشرقى
- (٤) سيادة الجفاف فى الصحراء الغربية

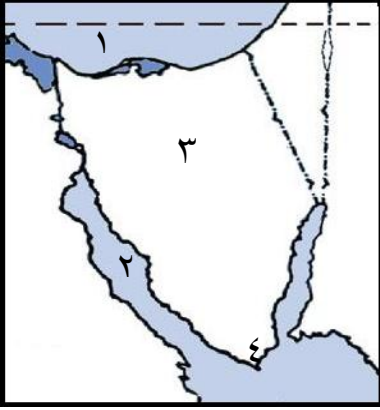
(ب) " تتعدد المحميات الطبيعية فى مصر وتشمل أنواعاً عديدة

(فى ضوء العبارة السابقة) وضح ما يلى:

- ١- مفهوم المحميات الطبيعية
- ٢- الهدف من انشاء المحميات الطبيعية
- ٣- أنواع المحميات الطبيعية

نموذج امتحان (٥)

السؤال الأول : (أ) أمامك خريطة لشبه جزيرة سيناء أكتب مدلول الأرقام



- (١) مسطح مائى
- (٢) خليج
- (٣) هضبة
- (٤) محمية

(ب) قارن بين :

الحدود الجنوبية لمصر - الحدود الغربية

السؤال الثانى : (أ) ضع علامة صح أو خطأ مع تصويب الخطأ :

- (١) تقع معظم مساحة مصر فى نطاق المدارى الجاف
- (٢) الصحراء الغربية فقيرة فى النبات الطبيعى
- (٣) أكثر محافظات مصر جذبا للسكان القاهرة والأسكندرية
- (٤) تهب رياح الخماسين على مصر فى فصل الربيع

(ب) أكتب المصطلح الجغرافى الدال على العبارات الآتية :

- (١) انتقال السكان من مكان لآخر داخل حدود الدولة بهدف الإقامة والعمل والتعليم
- (٢) أعلي القمم الجبلية فى الصحراء الشرقية

(ج) ما النتائج المترتبة على :

- (١) التغيرات المناخية على الزراعة
- (٢) نشاط الرياح فى مصر خلال فترات الجفاف فى الزم الجيولوجى الرابع

السؤال الثالث (أ) بم تفسر :

- (١) زيادة الاهتمام الأمنى بالحدود الشرقية لمصر.
- (٢) يقل المدى الحرارى اليومى والفصلى للمدن الساحلية مقارنة بالمناطق الداخلية
- (٣) انتشار الكثبان والغطاءات الرملية فى الصحراء الغربية

(ب) ما العلاقة بين :

- (١) الانشطة البشرية والتغيرات المناخية
- (٢) مناخ مصر وموقعها الفلكى

السؤال الرابع (أ) قارن بين :

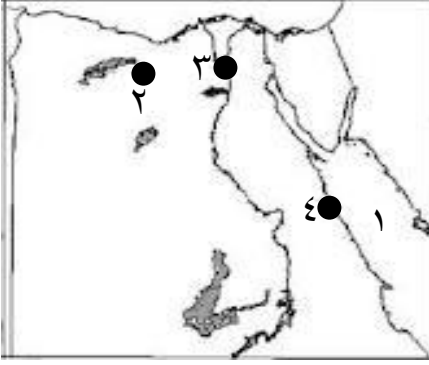
عوامل جذب السكان - عوامل الطرد

(ب) أذكر ما يلى :

العوامل التى ساعدت على تشكيل سطح مصر
العوامل المؤثرة على مناخ مصر

نموذج امتحان (٦)

السؤال الأول : (أ) أمامك خريطة لمصر أكتب مدلول الأرقام



- ١- البحر
- ٢- حقل بترول
- ٣- محافظة مرتفعة الكثافة السكانية
- ٤- ميناء بحرى

(ب) ما النتائج المترتبة على :

- ١- انتشار البطالة فى مصر
- ٢- جهود الدولة لتنمية الثورة المعدنية
- ٣- فقر التربة فى شمال الدلتا

السؤال الثانى : (أ) ضع علامة صح أو خطأ مع تصويب الخطأ :

- ١- تقل الموانئ البحرية على سواحل مصر
- ٢- يعد النقل النهري وسيلة لنقل ٧٠% من السائحين
- ٣- مصر غنية بتراتها الحضارى المتنوع
- ٤- تعد صناعة الجلود أكثر الصناعات انتشاراً

(ب) بم تفسر :

- ١- مصر بلد سياحى من الطراز الأول
- ٢- تواجه الزراعة فى مصر عدة المشكلات
- ٣- لم تستغل مناجم حديد جبال البحر الأحمر حتى الآن
- ٤- تعاني مصر من مشكلة سكانية

السؤال الثالث : (أ) قارن بين :

- ١- الصادرات والواردات المصرية
- ٢- القمح والأرز من حيث الأهمية - الانتاج

(ب) أذكر العلاقة بين :

- ١- السياسات الحكومية والزراعة
- ٢- المناخ وتوزيع السكان

السؤال الرابع : (أ) أكمل العبارات الآتية :

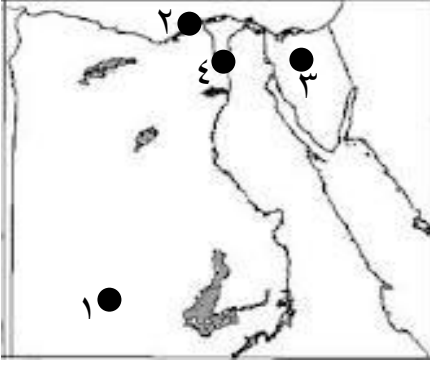
- ١- تعد الواحات مناطق جذب لسياحة
- ٢- تُعد مصر أكبر الدول العربية إنتاجاً لـ وأكبر الدول إستيراداً لـ
- ٣- يمثل الشريك التجارى الاول لمصر و الاخير
- ٤- يتحكم ميناء فى نصف صادرات مصر
- ٥- يعيش نحو ٩٨,٢% من السكان فى و

(ب) أذكر ما يلى :

- ١- العوامل المؤثرة على توزيع السكان فى مصر
- ٢- أهم الصناعات فى مصر

نموذج امتحان (٧)

السؤال الأول : (أ) أمامك خريطة لمصر أكتب مدلول الأرقام



- ١- مشروع زراعى
- ٢- حقل غاز طبيعى
- ٣- منجم فحم
- ٤- قناطر

(ب) بم تفسر :

- ١ - انخفاض أعداد الثروة الحيوانية فى مصر
- ٢ - قلة السكان فى محافظات الحدود
- ٣ - إزدحام المدن وظهور العشوائيات
- ٤ - تعد صناعة الغزل والنسيج أكثر الصناعات انتشاراً

السؤال الثانى : (أ) ضع علامة صح أو خطأ مع تصويب الخطأ :

- ١ - يقل عدد السكان فى الأطراف الشمالية للدلتا
- ٢ - ينتقل البترول فى مصر من السويس الى ميناء سيدى كرير بالأسكندرية عن طريق خط السوميد
- ٣ - مشروع شرق العوينات يعتمد على مياه نهر النيل
- ٤ - تعد سيناء من مناطق السياحة الرئيسية فى مصر

(ب) ما المقصود بـ ؟

- ١ - الكثافة السكانية
- ٢ - الترع
- ٣ - المعادن اللافلزية
- ٤ - الميزان التجارى

السؤال الثالث : (أ) دلل على صحة العبارة :

- ١ - الصناعة سلاح ذو حدين
- ٢ - يعانى الاقتصاد المصرى من العديد من المشكلات والتحديات

(ب) ماذا يحدث إذا :

- ١ - استغلت مناجم الحديد بجبال البحر الاحمر
- ٢ - اهتمت الدولة بتطوير التعليم خاصة الفنى

السؤال الرابع : (أ) أكمل العبارات الآتية :

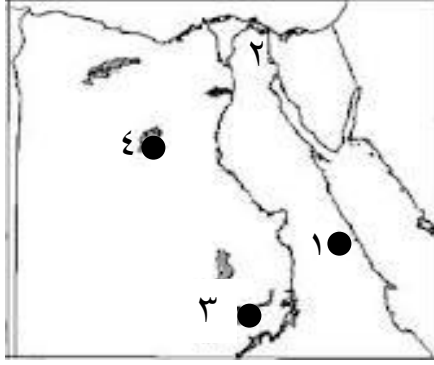
- ١ - من مصارف شرق الدلتا
- ٢ - من المشروعات الزراعية فى مصر و
- ٣ - من أهم حقول البترول البحرية حقل و
- ٤ - من مقاومات النشاط السياحى فى مصر و
- ٥ - نتج عن المشكلة السكانية و

(ب) أذكر العلاقة بين :

- ١ - السياسة الحكومية والمساحة الزراعية
- ٢ - الصناعة والبيئة

نموذج امتحان (٨)

السؤال الأول : (أ) أمامك خريطة لمصر أكتب مدلول الأرقام



- ١- منجم ذهب
- ٢- قناة ملاحية
- ٣- مشروع زراعى
- ٤- منجم حديد

(ب) ما المقصود بـ ؟

- ١- مناطق عشوائية
- ٢- البطالة
- ٣- التجارة الخارجية
- ٤- سياحة بيئية

السؤال الثانى : (أ) أكمل العبارات الآتية :

- ١- تحتل مصر المرتبة فى انتاج الفوسفات فى العالم
- ٢- تبلغ مساحة الأراضي الزراعية فى مصر نحو مليون فدان
- ٣- من مقومات النشاط الصناعى فى مصر و..... و..... و.....
- ٤- من المدن الجديدة الصناعية الجاذبة للسكان و.....

(ب) بم تفسر :

- ١- ارتفاع الكثافة السكانية فى المدن عن الريف
- ٢- تعدد سيناء من مناطق السياحة الرئيسية فى مصر

السؤال الثالث : (أ) ماذا يحدث إذا

- ١- لم تواجه المصرية معوقات
- ٢- لم تنتشر ظاهرة البطالة فى مصر

(ب) أذكر ما يلى :

- ١- العوامل التى أدت الى زيادة النمو السكانى فى مصر
- ٢- أهم مقومات الصناعة فى مصر

السؤال الرابع : (أ) ضع علامة صح أو خطأ مع تصويب الخطأ :

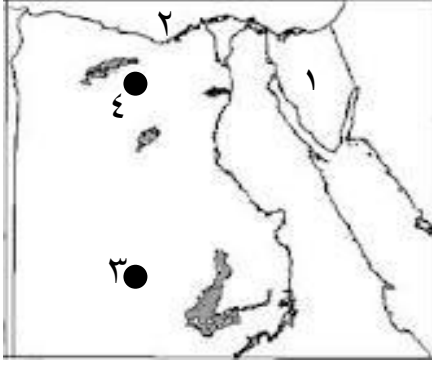
- ١- تزداد نسبة الأمية بين سكان المدن عن سكان الريف
- ٢- للأوضاع السياسية والعسكرية تأثيراً فى إعادة توزيع السكان فى مصر
- ٣- من المقومات البشرية للسياحة الموقع الجغرافى المتميز والمناخ المعتدل
- ٤- تعد مصر من أقدم الدول استخداماً للسكك الحديدية

(ب) دلل على صحة العبارة :

- ١- تتعدد مشروعات الرى لتنظيم مياة الرى فى مصر منذ بداية القرن ال ١٩
- ٢- تعدد مناطق الجذب السياحى بالساحل الشمالى لمصر

نموذج امتحان (٩)

السؤال الأول : (أ) أمامك خريطة لمصر أكتب مدلول الأرقام



- ١- منطقة جذب سياحي
- ٢- البحر
- ٣- حقول فوسفات
- ٤- حقول بترول وغاز طبيعي

(ب) بم تفسر :

- ١- ارتفاع نسبة الإعالة في مصر
- ٢- استيراد مصر للأسماء رغم كبر حجم الانتاج
- ٣- عدم إستغلال مناجم الحديد بجبال البحر الاحمر
- ٤- يعاني الإقتصاد المصرى من العديد من المشكلات والتحديات

السؤال الثانى : (أ) ضع علامة صح أو خطأ مع التعليل :

- ١- هناك صعوبات ترتبط بالنقل النهري
- ٢- تناقص انتاج مصر من القطن فى السنوات الأخيرة
- ٣- المحافظات الصحراوية يوجد بها ١.٨ % من عدد السكان فى مصر
- ٤- يتركز السكان فى وسط وشمال الدلتا

(ب) قارن بين :

الكثافة العامة والكثافة الصافية

السؤال الثالث : (أ) أكمل العبارات الآتية :

- ١- العوامل المؤثرة فى الزراعة و..... و.....
- ٢- من المحافظات مرتفعة الكثافة السكانية
- ٣- من المعالم السياحية فى الفيوم و..... و.....
- ٤- يُعد حقول أقدم حقول الفوسفات فى مصر

(ب) أذكر العلاقة بين :

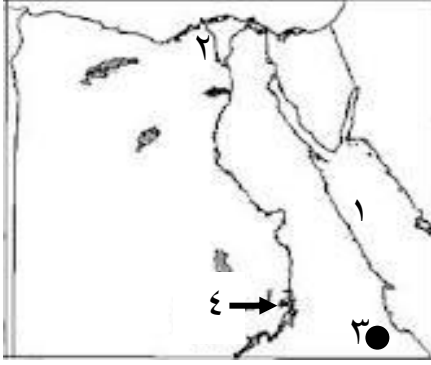
- ١- البطالة والادمان
- ٢- وسائل النقل والصناعة

السؤال الرابع : (أ) ما النتائج المترتبة على :

- ١- سوء توزيع السكان فى مصر
- ٢- موقع مصر على البحر المتوسط

(ب) أذكر ما يلى :

- ١- العوامل التى ساعدت على قيام الزراعة فى مصر
- ٢- أهم انواع السياحة فى مصر

نموذج امتحان (١٠)**السؤال الأول : (أ) أمامك خريطة لمصر أكتب مدلول الأرقام**

- ١- مسطح مائى
- ٢- فرع
- ٣- منطقة لانتاج الكروم.....
- ٤- بحيرة

(ب) دال على صحة العبارة :

- ١- لسيناء اهمية كبيرة فى انتاج الثروة المعدنية ومصادر الطاقة
- ٢- تواجه الصناعة فى مصر عدة معوقات

(ج) ما مقترحاتك فى :

- ١- طرق تنمية الثروة المعدنية فى مصر
- ٢- النهوض بالتجارة الخارجية والتغلب على مشكلاتها

السؤال الثانى : (أ) ضع علامة صح أو خطأ مع التعليل :

- ١- يقل السكان فى المناطق الصحراوية
- ٢- للسياسات الحكومية دور مهم فى المجال الزراعى بمصر
- ٣- ينخفض معدل الدخل القومى فى مصر رغم تعدد الموارد الاقتصادية

(ب) أكتب المصطلح الجغرافى الدال على العبارات الآتية :

- ١- استخراج الخامات المعدنية من باطن الارض
- ٢- حواجز مائية لها بوابات تنشأ فى مجرى النهر لرفع منسوب المياه أمامها
- ٣- تبادل السلع والخدمات بين الدولة وغيرها من دول العالم الخارجى

السؤال الثالث (أ) بم تفسر :

- ١- عدم استغلال مناجم الحديد بالبحر الأحمر حتى الآن
- ٢- يقل عدد السكان فى الأطراف الشرقية والغربية للدلتا

(ب) اختر الاجابة الجابة الصحيحة من بين الأقواس :

- ١- توجد طبقات الفحم فى مصر فى(الصعيد - الصحراء الغربية - شمال سيناء - النوبة)
- ٢- تعد مصر أكبر الدول العربية انتاجا لمحصول (القمح - الأرز - الشعير - البن)
- ٣- يهدف مشروع لزراعة ٦٠٠ ألف فدان (توشكى - شرق العوينات - ترعة السلام)

السؤال الرابع : (أ) " يعتمد الاقتصاد المصرى على العديد من الموارد الطبيعية والبشرية " فى ضوء العبارة أجب عما يأتى :

- ١- أهم مقومات الصناعة فى مصر
- ٢- الفرق بين المساحة الزراعية والمساحة المحصولية
- ٣- جهود الدولة لتنمية السياحة

(ب) ما العلاقة بين :

الرياح والمحاصيل الزراعية



مجتمع التعليم

ثانوية

مراجعات امتحونين

برعاية منتدى بوابة الثانوية العامة

انتظرونا في الأعداد القادمة