

أولاً الجغرافيا

بم تفسر

1- ارتفاع معدلات المواليد في أفريقيا

- انتشار الأمية والفقر
- الاعتماد على الزراعة البدائية والرعى
- انتشار العادات والتقاليد السلبية

2- يتركز نصف سكان العالم تقريباً في المدن الكبرى

- لوفرة فرص العمل
- وفرة الخدمات المتنوعة
- وفرة المناطق الصناعية

3- لا يوجد دولة في العالم شعبها من سلالة واحدة

بسبب انصهار السلالات واختلاط الصفات الطبيعية التي تميز كل سلالة نتيجة الهجرات فالولايات المتحدة تضم السلالة الزنجية السوداء و السلالة المغولية الصفراء وهم الهنود الحمر والسلالة القوقازية وهم السكان البيض القادمون من أوروبا .

4- تعرف هضبة التبت بسقف العالم

لارتفاعها عن قمم الجبال

5- توجد أعلى معدلات الوفيات في إفريقيا

انتشار الحروب - انخفاض مستوى المعيشة

قلة الرعاية الصحية وانتشار الأمراض

6- مصر مركز تجاري وحضاري هام

(أهمية موقع مصر)

لأنها تنوسط قارات العالم وتمر بها طرق التجارة العالمية البحرية والبرية خاصة بعد حفر قناة السويس

7- قلة السكان في المناطق الاستوائية والصحراوية

في الاستوائية بسبب انتشار الغابات الاستوائية الكثيفة التي يصعب العيش فيها وانتشار الأمراض

في الصحراوية لسيادة الظروف الصحراوية

8- تركز السكان في منطقة البحيرات العظمى

لأنها مدينة ذات موارد اقتصادية ضخمة وبها العديد من المدن الصناعية الكبرى مثل شيكاغو

9- قلة السكان في سيبيريا والاسكا

لشدة البرودة

10- أهمية سهول الميساس في أمريكا الجنوبية

لأنه أغنى مناطق الأرجنتين في زراعة القمح

وتربية الأبقار والأغنام

11- قلة السكان في غرب استراليا / (شمال

أوروبا) فنلندا والنرويج

لسيادة الظروف الصحراوية (الحارة والباردة)

12- ضيق السهول الساحلية

بسبب اقتراب حافات الجبال والهضاب

من الساحل

13- المناطق الساحلية أغزر مطراً من

المناطق الداخلية

بسبب تضيق الرياح المحملة ببخار الماء بالسفوح الأمامية للجبال

14- نمو الغابات الموسمية

بسبب غزارة الأمطار ضعفاً

15- انخفاض معدل الوفيات في مصر

بسبب اهتمام الدولة بالرعاية الصحية (بلا.....)

16- تكون الجليد فوق قمم الجبال

بسبب عامل الارتفاع فكلاً ارتفعنا لأعلى قلت

درجة الحرارة

17- تسمية الغابات النفضية بهذا الاسم

لأنها تنفض أوراقها في فصل الشتاء

18- ارتفاع الحرارة في ساحل غانا وحوض

الامازون طوال العام

لوقوعه ضمن الإقليم الاستوائي الذي يتميز

بارتفاع الحرارة والمطر طوال العام

19- تركز السكان في السهل الأوربي العظيم

لأنه من السهول الفيضية الخصبة الصالحة للزراعة

20- تشابه المناخ المعتدل البارد مع مناخ

غرب أوروبا

يتشابهان في وقوعهما في نفس دوائر العرض

2- مطران طوال العام

21- تشابه تضاريس أفريقيا وتضاريس استراليا

1- يسود أفريقيا المظهر الهضبي

2- تشغل الهضبة الغربية نصف مساحة أستراليا

25- يؤثر المناخ في توزيع السكان أفريقيا

حيث يقل السكان في المناطق الاستوائية

ويقل السكان في المناطق الصحراوية لسيادة الظروف الصحراوية

ويتكثز السكان في المناطق المدارية مرتفعة السطح

26 - الاقليم المداري منطقة انتقالية بين

المناخ الاستوائي والصحراوي

لوقوعه بين الاقليم الصحراوي والاقليم الاستوائي

26- ارتفاع فئة كبار السن في الدول المتقدمة

بسبب الاهتمام بالرعاية الصحية وتقدم

الرعاية بها وارتفاع مستوى المعيشة

ما النتائج المترتبة على :

1- كثرة تعاريج سواحل أوروبا

قيام الموانئ الطبيعية وسهولة اتصالها بالعالم الخارجي

2- زيادة السكان في معظم دول آسيا

(1) نقص الغذاء

(2) انخفاض مستوى المعيشة

(3) قلة نصيب الفرد من الدخل القومي

(4) كثرة الهجرات غير شرعية

3- ارتفاع فئة صغار السن في الدول النامية

زيادة العبء على الدولة ورب الأسره لأنهم

يكلفون الدولة أموال ضخمة على الغذاء

والمليس والخدمات الأخرى

4- زيادة نسبة قوة العمل في الزراعة

بقارة إفريقيا

أصبحت دول أفريقيا من الدول ذات

الدخل الاقتصادي المنخفض

5- اقتراب جبال الانديز من ساحل المحيط الهادي

ضيق السهول الساحلية لأمريكا الجنوبية

6- وفرة المناطق الصناعية في المدن الكبرى

يتركز بها أكثر من نص سكان العالم

7- وقوع أوروبا على المحيط الأطلنطي

والبحر المتوسط

1- انتشار الحضارة الأوروبية في العالم

2- اكتشاف قارات العالم الجديد

8- تساوي عدد المواليد مع عدد الوفيات في

أوروبا ثبات معدل الزيادة

الطبيعية وثبات معدل النمو السكاني

9- جريان أنهار بارانا وباراجواي

((لاياتا)) بسهول الميساس

أصبحت الأرجنتين أغنى مناطق العالم في زراعة

القمح وتربية الأبقار والأغنام

10- ضيق اليابسة وصغر مساحتها في نصف

الكرة الجنوبي

يخفى المناخ القاري البارد في النصف الجنوبي

11- الرعاية الطبية الفائقة في الدول المتقدمة

1-زيادة كبار السن

2-انخفاض معدل الوفيات

1- قيام الصناعة واعتدال المناخ في شرق استراليا

تركز السكان ووجود المدن الكبرى

12- انصهار السلالات واختلاطها معا

لا توجد دولة واحدة في العالم يتكون

شعبها من سلالة واحدة ولا يوجد في

العالم مايعرف بالسلالة النقية

13- ارتفاع معدلات المواليد في أفريقيا

- زيادة معدل الزيادة الطبيعية

- زيادة نسبة فئة صغار السن

14- الرعاية الطبية الفائقة في أوروبا

زيادة نسبة كبار السن

15- انتقال عدد من الزوج للأمريكتين

1-يشكلون نسبة من سكان الأمريكيتين

2-حصلوا على حقوقهم

3-عملوا في مزارع الأوروبيين

16- انخفاض عدد الأطباء بالنسبة لعدد السكان

قلة الرعاية الطبية (منخفضة)

أسئلة متنوعة

- وضح العوامل المؤثرة على معدلات

الوفيات في العالم

1- قلة الرعاية الصحية

2- مستوى الغذاء والسكن

3- الكوارث الطبيعية والتلوث

- ما أثر كل من الموقع الفلكي والتضاريسي

على مناخ الإقليم ؟

الموقع الفلكي : كلما اقتربنا من خط الاستواء

زادت درجة الحرارة

التضاريس : كلما ارتفعنا لأعلى قلت درجة الحرارة

- تعمل الجبال على زيادة كمية المطر

- في رأيك كيف تقلل مصر من نسبة الأمية ؟

- الاهتمام بتعليم الأطفال في المرحلة الابتدائية

- عمل برامج لمحو الأمية

- ماذا يحدث إذا

انخفضت نسبة صغار السن في مصر؟

- قلة الأعباء والتكاليف التي تتحملها الدولة
- زيادة نسبة الفئة المنتجة

- تساوت المواليد والوفيات في إفريقيا؟

ثبات معدل الزيادة الطبيعية والنمو السكاني

- خفضت مصر معدلات الزيادة الطبيعية

- انخفاض معدل النمو السكاني
- انخفاض نسبة فئة صغار السن ويقل تحمل الدولة لأعباء إضافية

- أصبحت الصناعة الحرفة الأولى في مصر

أصبحت مصر من الدول ذات الدخل الاقتصادي المرتفع

- انخفضت معدلات المواليد في إفريقيا

- انخفاض معدل الزيادة الطبيعية
- انخفاض معدل النمو السكاني
- انخفاض نسبة فئة صغار السن

- لم يتم حفر قناة السويس

- لم تزد أهمية موقع مصر تجارياً وحضارياً

- ما أهم العادات والتقاليد المؤثرة على تعليم الإناث؟

- الزواج المبكر
- حرمان المجتمعات الإناث من التعليم

مفاهيم هامة

الدول الجزرية: الدول التي تتكون من جزيرة أو أكثر أو قد تكون جزءاً من جزيرة.

الموقع الجغرافي: موقع المكان بالنسبة للمساحات المائية والدول المجاورة

الجيال: نطاق أرضي مرتفع عما حوله ، تتميز جوانبه بانحدارها وعادة ما يزيد ارتفاعها عن 1000 متر.

الهضاب: مناطق واسعة مستوية السطح ومرتفعة عما حولها

السهول: عبارة عن أراضي واسعة منخفضة ومستوية السطح

السهول الساحلية: أراضي واسعة منخفضة مستوية السطح مختلفة الاتساع توجد على سواحل البحار والمحيطات

السهول الصحراوية: أراضي واسعة مستوية السطح قد تكون صخرية متماسكة أو مفككة التكوينات من الرمال والحصى

السهول الفيضية: أراضي واسعة مستوية السطح تمتد على جوانب الأنهار مكونة من رواسب نهريّة خصبة

حوض النهر: عبارة عن الأرض التي يجري داخلها النهر وروافده ويحدده خط وهمي خط تقسيم المياه

الأقاليم المناخية

منطقة محددة على سطح الأرض لها خصائصها المناخية

الموقع الفلكي: الموقع بالنسبة لخطوط الطول ودوائر العرض

السلالة البشرية: هي مجموعة بشرية تتشابه في صفاتها الجسمية

الديموغرافية: علم دراسة السكان

الزيادة الطبيعية: ناتج الفارق بين معدل المواليد ومعدل الوفيات

التركيب العمري: دراسة عدد ونسبة كل مجموعة من سكان المنطقة وفقاً لفئات عمرية محددة

قوة العمل: عدد الأفراد الذين هم في سن العمل أو الذين يعملون فعلياً أو يبحثون عن عمل

ثانياً التاريخ بم تفسر

1- ضعف القوة العسكرية للدولة المماليك

- التدهور الاقتصادي للمماليك
- التنافس المستمر بين المماليك
- كثرة الفتن والثورات الداخلية

2- ثورة المصريين في مارس 1804 م

- عجز الولاة عن دفع رواتب الجنود
- فرض الضرائب الباهظة

3- عقد معاهدة لندن 1840 م

1- انتصارات محمد علي وتهديد السلطان العثماني
2- خوفاً من ازدياد نفوذ محمد علي وقوته
وما تمثله من خطر على التوازن الدولي

4- إلغاء معاهدة 1936 م في أكتوبر 1954 م

استجابة للرأي العام المصري

5- فشلة حملة فريرز عام 1807 م

1- مقاومة الشعب المصري في رشيد والحملا
2- عدم مساعدة المماليك لبريطانيا
3- حصار محمد علي مدينة الاسكندرية

6- تدهور الزراعة والصناعة في العصر العثماني

تدهور الزراعة

① بسبب عدم اهتمام الطبقة الحاكمة بتنظيم الري

② تطبيق نظام الالتزام حيث عانى الفلاح من ظلم جباة الضرائب

③ عانى الفلاح من التلاعب بالموازين والمكاييل

تدهور الصناعة

① إرسال سليم الأول أمر الصناع إلى القسطنطينية

② تدهور الزراعة ③ اقتصر على الصناعة البسيطة

7- توجيه إسماعيل حملات حربية للأقاليم الاستوائية

1- منع تجارة الرقيق 2- التوسع في الجنوب

والسيطرة على النيل

⑧ يوم 25 يناير من كل عام عيداً للشرطة

لأنه في ذلك اليوم

استشهد عدداً من الضباط المصريين في 25 يناير 1952م ضحوا بأنفسهم وأرواحهم من أجل وطنهم وتكريماً لهم اعتبر هذا اليوم عيد لهم

8- الفتح العثماني لمصر

1- تأمين حدود الدولة العثمانية من ناحية المماليك

2- تأكيد الصبغة الدينية للدولة العثمانية بالاستيلاء على أراضي الحجاز

3- توسيع ممتلكات الدولة العثمانية في الشرق

4- السيطرة على الطرق البحرية والبرية التي تربط بين الشرق والغرب

9- الحملة الفرنسية على مصر 1798م

1- موقع مصر بين الشرق والغرب
2- تعويض فرنسا عن فقد مستعمراتها في الهند وكندا
3- استغلال موارد مصر المادية والبشرية
4- قطع الطريق بين إنجلترا ومستعمراتها في الهند

10- ازدهار التجارة في عصر محمد علي

1- موقع مصر المتميز 2- وفرة المواد الخام
3- تأمين طرق التجارة البرية والبحرية الاهتمام بالموانئ المصرية 4- تطبيق نظام الاحتكار

11- تدخل بريطاني لإسقاط حكومة حسين سري

بسبب ميوله لدول المحور

12- حروب محمد علي في الجزيرة العربية

1- القضاء على الدعوة الوهابية التي هددا نفوذ الدولة العثمانية في شبه الجزيرة العربية

13- قيام ثورة 1919 م

1- إلهام الوعي الوطني لدى المصريين
2- الإخراعات العنيفة التي اتخذتها إنجلترا
3- ادعاء إنجلترا وحلفائها أنها تحارب من أجل حرية الشعوب

4- إعلان الرئيس الأمريكي ولسن مبادئ الأربعة عشر ومنها حق الشعوب في تقرير مصيرها

14- إرسال بريطانيا وفرنسا المذكرة المشتركة الثانية

يطلبان فيها إقالة وزارة البارودي

إرسال عرابي وزملاؤه خارج البلاد

15- تخلي فرنسا عن مساندة مصطفى كامل

بسبب عقد الاتفاق الودي مع إنجلترا 1904م

16- إرسال إنجلترا وفرنسا المذكرة المشتركة الأولى

لقوية مركز الخديوي في مواجهة الحركة الوطنية

2- لتعلنان رغبتهما الصريحة في حل مجلس النواب وتأييدهما التام لموقف الخديوي

ومساندته ضد الحركة الوطنية

17- رفض الشعب المصري تصريح 28 فبراير

بسبب التحفظات الأربعة فلم يحقق الاستقلال الكامل

18- تدخل بريطانيا لعزل حكومة علي ماهر باشا

بسبب رفضه إعلان الحرب على دول المحور

19- إصرار شريف باشا على عدم مناقشة الميزانية

خوفاً من تدخل إنجلترا وفرنسا في مناقشتها

20- قيام الثورة العربية

1- ازدياد التدخل الأجنبي في مصر

2- تشكيل وزارة رياض

3- سوء الأحوال الاقتصادية

4- المؤثرات الفكرية الغربية

21- حملة فريرز على مصر مارس 1807 م

1- احتلال مصر

2- خلع محمد علي

3- تثبيت تابعها محمد بك الألفي المملوكي

22- وزارة البارودي عرفت بوزارة الثورة

لان عين فيها احمد عرابي وزيراً للجهادية

23- الصدام بين الاحتلال والشرطة 25 يناير 1952م

1- أطلق مصطفى النحاس الحرية للشعب للنضال

المسلح ضد القوات البريطانية في القناة

2- قام الفدائيون بمهاجمة المعسكرات البريطانية في منطقة القناة

3- عملت الحكومة على زيادة عدد جنود الشرطة لمساعدة الفدائيين

4- عندما اكتشف الإنجليز الأمر حاصروا مبنى محافظة الإسماعيلية لنزع سلاح جنود الشرطة

ورفض الجنود التسليم

5- حدث اشتباك بينهم استشهد فيه عدداً من الضباط المصريين في 25 يناير 1952م

24- محاصرة الديابات لقصر عابدين 1942م

قامت بريطانيا بتوجيه إنذار للملك

لإسقاط حكومة حسين سري باشا

وتعيين حكومة برئاسة النحاس باشا

25- كان عقد الامتياز الثاني محققاً لحقوق المصريين

لأنه أعطى للشركة حق:

1- مشاركة الحكومة المصرية في حقوق ملكيتها

وسيادتها في المناطق التي تمر بها القناة

2- انتزاع أملاك الأهالي في تلك المناطق

26- اخفاق الفرنسيين في اخضاع أهالي الصعيد

بببب إتباع أهالي الصعيد حرب المناوشات والمعارك

المترقة على طول الوادي اما اجهد الفرنسيين

27- فشل الثورة العربية رغم صدق اهدافها

- 1- عدم تكافؤ القوة العسكرية بين الطرفين
- 2- تباطؤ إدارة قناة السويس مع الانجليز وتسهيل دخولهم القناة
- 3- إعلان السلطان العثماني عصيان عرابي واعتباره تمردا عسكريا
- 4- عدم إدراك قيادة الثورة لأهمية التعبئة الشعبية لمساندة القوات المصرية
- 5- عدم قيام عرابي بتطهير الجيش من العناصر الموالية للخبديوي والانجليز
- 6- عدم مناسبة الظروف الدولية للحركات الوطنية

28- تعتبر ثورة 1919 ثورة شعبية شاملة

شارك فيها كل طوائف الشعب المسلمون والأقباط والفلاحين والعمال والطلبة والموظفين والمتقنين والعلماء والمشايخ ورجال الكنائس واشتركت فيها لأول مرة المرأة المصرية

29- سيطرة التجار الأجانب على التجارة في عهد العثمانيين

بسبب منح الدولة العثمانية امتيازات أجنبية وجمركية للدول الأوروبية

30- توتر العلاقات بين محمد علي والسلطان العثماني

تفاوض محمد علي مع القوى الأوروبية لتأمين انسحاب الجيش المصري من المورة

2- تصميم " محمد علي " على الانفصال بمصر

31- توقف حركة النهضة في عهد عباس الأول

- أغلق المدارس واستبعد أغلب الأساتذة
- إغلاق صحيفة الوقائع المصرية
- أوقف العمل بالقناطر الخيرية
- أغلق المصانع التي أنشأها محمد علي
- عطل الترسانة البحرية وقلل عدد الجيش

32- ازدهار التعليم في عهد اسماعيل

- 1- أعاد فتح ديوان المدارس
- 2- أنشأ المدارس بمختلف أنواعها (الطب والهندسة ودار العلوم)
- 3- اهتم بتعليم البنات
- 4- أنشأ دار الرصد بالعباسية ومصلحة الإحصاء والمساحة و الجمعية الجغرافية
- 5- أنشأ دار الكتب و تنظيم المتحف المصري

33- انتهاء السيادة العثمانية 1914 م على مصر

بسبب إعلان إنجلترا الحماية البريطانية على مصر ديسمبر 1914

34- أيقظت الحملة الروح القومية في مصر

حيث دافع المصريون عن بلادهم بأموالهم وأرواحهم وظهر ذلك واضحا في ثورات المصريين

35- ازدياد التدخل الأجنبي في عهد اسماعيل

أدت سياسة الاقتراض وحفل افتتاح قناة السويس وعلاقته بالثورة العثمانية والامتيازات الأجنبية إلى التدخل الأجنبي في مصر

وازداد هذا التدخل بمسبب

- 1- إرسال بعثة كنيست
- 2- إنشاء صندوق الدين العام
- 3- إنشاء المراقبة الثنائية
- 4- لجنة التحقيق العليا
- 5- الوزارة المختلطة

ما النتائج المترتبة على

1- الأزمة المالية في عهد الخديوي توفيق

- 1- سوء الأحوال الاقتصادية
- 2- إحالة الكثير من الضباط للتقاعد بحجة توفير النفقات
- 3- تدمير حائزو الأراضي بسبب إلغاء قانون المقابلة
- 4- بيع حصة مصر في قناة السويس

2- تحطيم الأسطول الفرنسي في موقعة أبي قير البحرية

القضاء على آمال فرنسا في السيطرة على سواحل البحر المتوسط - حرم الحملة في مصر من إمدادات فرنسا لها - شعر الجنود الفرنسيون أنهم محاصرون داخل مصر - بدا نابليون يفكر في استغلال موارد مصر وفرض الضرائب - حصار الأسطول الإنجليزي سواحل مصر الشمالية

3- إصدار اللائحة السعيدية

- 1- أصبح الفلاح بموجبها مالكا للأرض الزراعية وحررا في تصريف حاصلاته الزراعية
- 2- إلغاء نظام الاحتكار وازدهار الزراعة

3- الاتفاق الودي 1904

- إطلاق فرنسا يد بريطانيا لمصر مقابل إطلاق بريطانيا يد فرنسا لمراكش " المغرب " مما تخلى فرنسا عن تأييدها ومساعدتها لمصطفى كامل

5- اغتيال السير لي ستاك 1924 م ؟

ترتب على ذلك قدم المندوب السامي البريطاني اللورد اللبني إنذار للحكومة المصرية يطالب بسحب الجيش المصري من السودان ولذلك قدم سعد زغول استقالته تألفت وزارة جديدة برئاسة زيور باشا وقبلت المطالب البريطانية وسحبت الجيش

6- معاهدة لندن عام 1840م ترتب على ذلك

- 1- إعادة بلاد الشام والجزيرة العربية إلى السلطان العثماني و تثبيت محمد علي

7- إصدار تصريح 28 فبراير 1922م

- 1- أعلن الملك فؤاد نفسه ملكا لمصر
- 2- إعادة إنشاء وزارة الخارجية المصرية
- 3- تشكيل وزارة عبد الخالق ثروت لجنة لوضع الدستور

8- موقعة نفاارين 1827 م

- 1- تحطم الأسطول المصري
- 2- سحب الجيش المصري من المورة
- 3- تفاوض الدول الأوربية مع محمد علي

9- حروب محمد علي في السودان ؟

ضم محمد علي للسودان

- امتداد النفوذ المصري إلى جنوب السودان
- اكتشاف منابع النيل
- إنشاء مدينة الخرطوم العاصمة الوصول إلى أواسط أفريقيا في عصر اسماعيل

10- العزلة التي فرضها العثمانيين على البلاد ؟

- انتشار الدجل والشعوذة والخرافات والجهل
- تدهور الحالة الفكرية والثقافية في مصر في العصر العثماني
- 1- اهترت مكانة الأزهر العلمية واقتصرت التعليم فيه على الفقه والتشريع
- 2- تدهورت الحياة الأدبية ولم يعد هناك اهتمام بالعلوم العقلية أو الرياضية أو الطبيعية
- 3- انتشر الدجل والشعوذة والخرافات وشاع الجهل

11- المذكرة المشتركة الأولى 7 يناير 1882م ؟

اضطر شريف باشا للاستقالة إزاء هذا التوتر

المذكرة المشتركة الثانية في 25 مايو 1882م ؟

استقالة وزارة البارودي احتجاجا عليها

12- معركة مرج دابق أغسطس 1516

- 1- هزيمة المماليك
- 2- دخل السلطان سليم مدينة حلب دون مقاومة
- 3- انهارت كل مقاومة للمماليك في الشام

13- معاهدة 1936 م

- 1- انتهاء احتلال مصر عسكريا
- 2- انضمام مصر إلى عصبة الأمم
- 3- إلغاء الامتيازات الأجنبية وفقا لمؤتمر مونترنو
- 4- إرجاع الجيش المصري إلى السودان
- 5- حرية مصر في عقد معاهدات سياسية مع 22 الدول الأجنبية

14 - اشتداد الحركة الوطنية ضد الاحتلال

في عهد مصطفى كامل

- 1- ندد مصطفى كامل بالاحتلال البريطاني

2- استقالة اللورد كرومر

15- موقف محمد فريد من مشروع مد امتياز حفر قناة السويس 40 عام أخرى ؟

رفض محمد فريد مشروع مد امتياز قناة السويس

ترتب على ذلك رفض الحكومة المصرية لمطلب الشركة - اغتيال بطرس غالي رئيس الوزراء - سجن محمد فريد ستة أشهر

16- سياسة المراقبة الثنائية في عهد توفيق

- 1- بيع حصة مصر في قناة السويس
- 2- إصدار قانون التصفية
- 3- تأسيس شركات أجنبية كثيرة
- 4- منح المراقبان الجنيان سلطات واسعة
- 5- تولى الأجانب الوظائف الهامة

17- إلغاء حكومة مصطفى النحاس لمعاهدة

1936 م في أكتوبر 1951 م ؟

ترتب على ذلك [- مهاجمة الفدائيين للمعسكرات البريطانية - مساعدة الحكومة الفدائيين - محاصرة القوات البريطانية مبنى محافظة الإسماعيلية والصدام بين قوات الاحتلال وعناصر الشرطة

18- الاحتلال البريطاني لمصر

- 1- أصبحت السلطة في يد المعتد البريطاني
- 2- اتباع سياسة اقتصادية تخدم المصالح البريطانية
- 3- إهمال التعليم و محاربة الصناعة
- 4- انشاء جيش لا يزيد عدده عن ستة آلاف جندي يرأسه قائد عام بريطاني

19 - اكتشاف طريق رأس الرجاء الصالح 1498 م

- 1- تدهور الأحوال الاقتصادية لدولة المماليك
- 2- تدهور التجارة الخارجية للدولة العثمانية

20 - حروب محمد علي في اليونان 1828م

- 1- ضم جزيرة كريت لولاية مصر
- 2- علو مكانة مصر دوليا

21 - تنديد مصطفى كامل بحادثة دنشواي 1906 م

- 1- قدم اللورد كرومر استقالته
- 2- إنشاء الحزب الوطني 1907

مذبحة يافا البشرية كان لها اثر كبير في

استماتة أهل كعكا ضد الحملة الفرنسية وفشلها

23 مظاهرة عابدين 9 سبتمبر 1881

- 1- إقالة وزارة رياض

- 2- تعيين وزارة شريف
- 3- انشاء مجلس نواب على النسق الأوروبي
- 24 **حروب محمد علي في شبه الجزيرة العربية**
 - 1- القضاء على الحركة الوهابية
 - 2- للسيطرة على الجزيرة العربية
- 25 **معركة ديو البحرية 1509 م**
 - 1- تحطم الأسطول المملوكي
 - 2- تدهور التجارة الخارجية
- 26 **سياسة محمد علي الاقتصادية**
 - 1- ازدهار الزراعة والصناعة والتجارة
 - 2- ظهور طبقات واختلافها
 - 3- تشكيل القوى الاجتماعية
 - 4- اختفاء روح الابتكار والابداع
- 27 **ثورة القاهرة الأولى أكتوبر 1798 م**
 - 1- أعدم نابليون الكثير من الأهالي والثوار
 - 2- فرض نابليون الغرامات المالية على التجار والعلماء
 - 3- شرع نابليون في تحصين القاهرة
- 29- **إلغاء دستور 1923 م**

عارض الشعب دستور 1930 الذي أصدره اسماعيل صدقي مما دفع الملك لإعادته مرة أخرى
- 30- **اهتمام محمد علي بالزراعة**
 - 1- انشاء القناطر الخيرية
 - 2- انشاء المدارس الزراعية
 - 3- ادخال محاصيل جديدة
 - 4- ازدهار الصناعة والتجارة
 - 5- استقدام الخبراء الزراعيين
 - 6- استحداث أساليب زراعية جديدة
- 31- **سياسة الخديوي توفيق وخضوعه للأجانب**
 - 1- إعادة المراقبة الثنائية
 - 2- رفض مشروع اللانحة التي وضعها شريف باشا
 - 3- أسند الوزارة لرياض باشا
- أيد بالأدلة التاريخية (دلل على صحة) (برهن تاريخياً)**
 - 1- استمرت مقاومة أهالي الصعيد للحملة الفرنسية فترة طويلة فشل الحملة الفرنسية في إخضاعهم و استمرت المقاومة عشره أشهر
 - 2- **حققت معاهدة 1936 مكاسب لمصر**

دخل مصر عصبة الأمم - إلغاء الامتيازات الأجنبية - عودة الجيش المصري للسودان -

- حرية مصر في عقد المعاهدات
- 3- **آدت سياسة محمد علي إلى عاني الفلاح المصري كثيراً في عهد العثمانيين**
 - إلغاء نظام الالتزام - أصبح محمد علي المالك للأرض الزراعية
 - ازدهار الزراعة وإمداد الفلاح بكل مايلزمه من أدوات وبذور - الاهتمام بشئون الري
- 4- **كان للاحتلال البريطاني مساوئ وسلبات**
 - 1- أصبحت السلطة في يد المعتد البريطاني
 - 2- اتباع سياسة اقتصادية تخدم المصالح البريطانية
 - 3- إهمال التعليم ومحاربة الصناعة
 - 4- انشاء جيش لا يزيد عدده عن ستة آلاف جندي يرأسه قائد عام بريطاني
- 5- **استبداد وزارة رياض**
 - 1- كرهها للنظام الدستوري
 - 2- استخدام الشدة والعنف ضد الحركة الوطنية
 - 3- اصدار قانون التصفية
 - 4- انشاء المراقبة الثنائية وتأسيس شركات أجنبية
- 6- **كانت شروط حفر القناة وبالأعلى مصر**

أعطت للشركة حق مشاركة الحكومة المصرية في ملكية القناة وسيادتها وانتزاع الأراضي من الأهالي
- 7- **كانت النتائج النهائية لحروب اليونان في صالح مصر**
 - 1- ضم جزيرة كريت لولاية مصر
 - 2- علو مكانة مصر دولياً
 - 3- اهتم اسماعيل بالتعليم في مصر
 - 4- أعاد فتح ديوان المدارس
 - 5- انشأ المدارس بمختلف أنواعها ومنها الطب والهندسة ودار العلوم والمدارس الحربية
 - 6- اهتم بتعليم البنات فأنشأ مدرسة السنية عام 1873
 - 7- أنشأ دار الكتب
 - 8- كلف العالم الاثرى مارييت بتنظيم المتحف المصري
 - 9- أنشأ دار الرصد بالعاسية ومصلة الإحصاء والمساحة
 - 10- أسس الجمعية الجغرافية عام 1875
- 9- **يعد تولى محمد علي الحكم انتصار لإرادة الشعب**

حيث استطاع الشعب المصري بإرائته عزل والي خورشيد وتولية محمد علي والياً على مصر
- 10- **لم تكن الحملة الفرنسية مجرد حملة عسكرية تقليدية**

حيث اصطحب نابليون بوناپرت مع الحملة مجموعة كبيرة من العلماء في مختلف المجالات محاولة شق قناة تربط بين البحرين الأحمر والمتوسط
- تأليف كتاب (وصف مصر) وهو أول موسوعة حديثة عن مصر - العثور على حجر رشيد مما مكن العالم الفرنسي شامبليون من قراءة ومعرفة اللغة المصرية القديمة
- 11- **شهدت مصر فترة عصيبة بعد خروج الحملة الفرنسية**

حيث تمثلت في تعدد الولاة وشهدت اضطراب أمنى وثورات داخلية وتنازع على السلطة في مصر
- 12- **أظهرت ثورة 1919 وحدة عناصر الأمة**

حيث شارك فيها المسلمون والمسيحيون جنباً إلى جنب ضد الإنجليز
- 13- **كان لإنجلترا دوراً كبيراً في فشل الحملة الفرنسية**

حيث سعت لإفشال الحملة عندما قامت بـ

 - 1- تحطيم الأسطول الفرنسي في موقعة أبوقير البحرية
 - 2- أعدت حملة برية وبحرية لإخراج الفرنسيين
 - 3- قامت بمساعدة أهل عكا ضد الحملة الفرنسية
 - 4- قامت بارسال جملة بالاشتراك مع أوله العثمانية وروسيا لإخراج الفرنسيين
 - 5- رفضت خروج فرنسا في معاهدة العريش

ماذا كان سيحدث

 - 1- إذا لم تنجح الدولة العثمانية في تحريض محمد بك أبو الذهب ضد سيده علي بك الكبير
 - 2- انفراد بحكم مصر دون منافس
 - 3- عاد حكم المماليك لمصر والتخلص من السيادة العثمانية
 - 4- نجاح حركة علي بك الكبير
- **رجحت إنجلترا بمعاهدة العريش**

خروج الحملة الفرنسية على نفقة الدولة العثمانية
- **إذا التزم ديلسيس بوعوده لأحمد عرابي (لم يتواظف)**

لظل الانجليز في أعلى البحار لم يستطيعوا اقتحام قناة السويس واحتلال مصر
- **لم يعقد الاتفاق الودي 1904**

لم تتخلي فرنسا عن تأييد مصطفى كامل
- **لم يعلن السلطان العثماني عصيان عرابي**

- لم تضعف الروح المعنوية للمصريين

- لم تفشل الثورة العربية
- **لم يتمكن شامبليون من فك رموز حجر رشيد**

لم يتم معرفة اللغة المصرية القديمة
- **لم يتفاوض محمد علي مع الدول الأوروبية في المورة**
 - لم تعلو مكانة مصر دولياً
 - لم تسيطر مصر على جزيرة كريت
 - لم تدهور العلق بين محمد علي والسلطان العثماني

- **لم يتحطم الأسطول الفرنسي في أبو قير البحرية**
 - بقاء آمال فرنسا في السيطرة على البحر المتوسط
 - لم تتوقف حكة التجارة الخارجية
 - لم ينقطع الاتصال بين الحملة في مصر وفرنسا
 - لم يقيم نابليون باستغلال موارد مصر
- **عطل عرابي الملاحة في قناة السويس**

لظل الانجليز في أعلى البحار لم يستطيعوا اقتحام قناة السويس واحتلال مصر
- **لم يعترض الشعب المصري على دستور 1930 م**

لم يقيم الملك أحمد فؤاد الأول بإعادة دستور 1923 م
- **لم يتخلص محمد علي من المماليك**

لم يستطع الانفراد بالحكم
- **لم يتم إصدار اللانحة السعيدية 1858م**
 - لم يتم إلغاء نظام الاحتكار
 - لم يصبح الفلاح مالكا للأرض الزراعية
 - لم تزدهر الزراعة
- **طبقنا نظام الاحتكار كما طبقه محمد علي**

ازدهار الزراعة والصناعة والتجارة
- **لم ينجح محمد علي في ضم السودان**
 - لم يضم مدينة الخرطوم
 - لم يصل إلى منابع النيل
- **لم تتدخل أوروبا في الصراع بين محمد علي والسلطان العثماني**

لم يتم عقد معاهدة لندن /ازدياد نفوذ محمد علي
- **اقتصرت الحملة الفرنسية على العسكريين فقط**

لم تقم الحملة بنتائج علمية مثل محاولة شق قناة تربط بين البحرين الأحمر والمتوسط

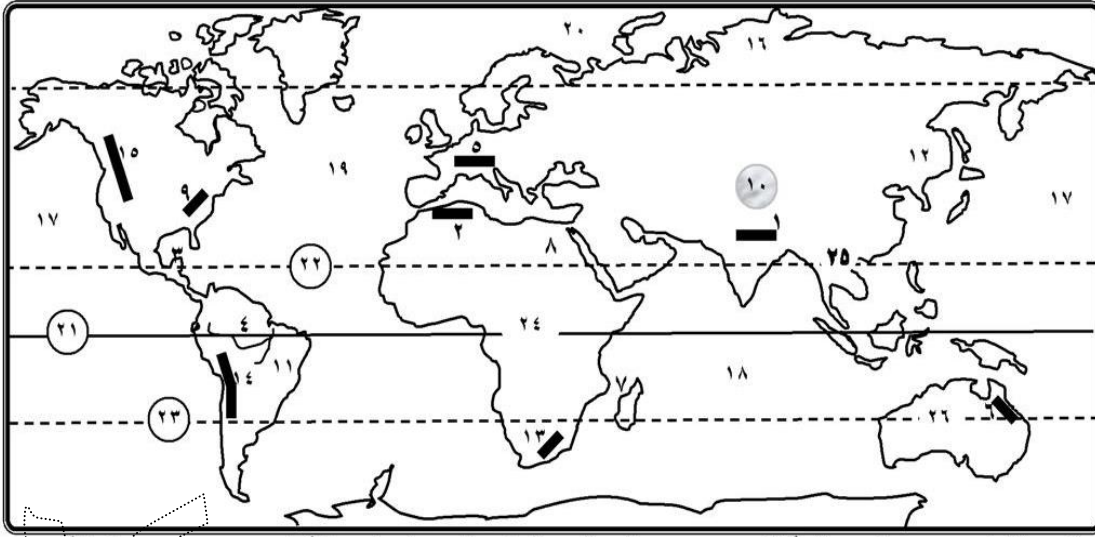
تأليف كتاب (وصف مصر) وهو أول موسوعة حديثة عن مصر - العثور على حجر رشيد مما مكن العالم الفرنسي شامبليون من قراءة ومعرفة اللغة المصرية القديمة

لا نسألكم الا الدعاء

أولاً : الجغرافيا

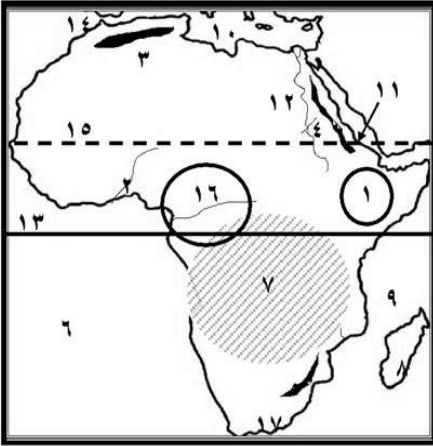
أسئلة الخرائط

س١ : أمامك خريطة للعالم وضع مدلول الأرقام



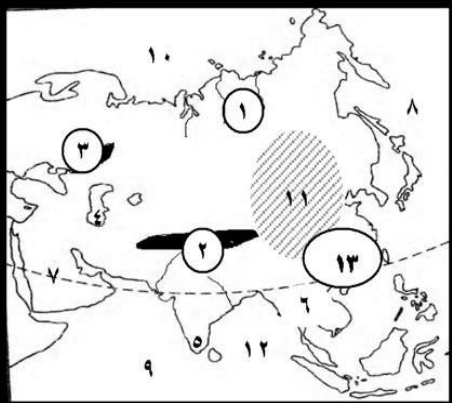
- ١- جبال الهيمالايا ٢- جبال أطلس ٣- خليج المكسيك ٤- نهر الأمازون ٥- جبال الألب
٦- جبال الحجاز الكبير ٧- جزيرة مدغشقر ٨- نهر النيل ٩- جبال الألب ١٠- هضبة التبت
١١- هضبة البرازيل ١٢- سهل منشوريا وبها نهر يانجستي ١٣- جبال دراكنزبرج
١٤- جبال الأنديز ١٥- جبال روكي ١٦- سهول سيبيريا وبها أنهار أوب وينسي ولينا
١٧- المحيط الهادي ١٨- المحيط الهندي ١٩- المحيط الأطلنطي ٢٠- المحيط القطبي الشمالي
٢١- دائرة عرض خط الاستواء ٢٢- مدار السرطان ٢٣- مدار الجدي
٢٤- المناخ الاستوائي ٢٥- المناخ الموسمي ٢٦- قارة أستراليا

س٢ : أمامك خريطة لأفريقيا اكتب مدلول الأرقام



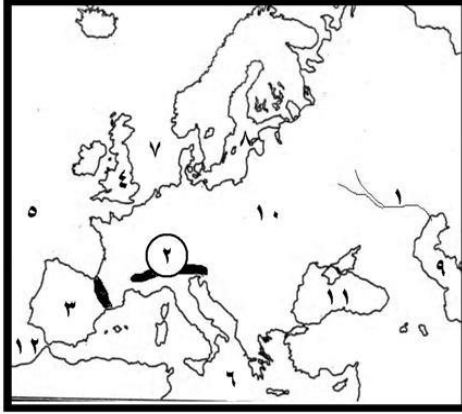
- ١- هضبة الحبشة ٢- نهر النيجر ٣- جبال أطلس ٤- جبال البحر الأحمر ٥- جبال دراكنزبرج ٦- المحيط ٧- السلالة المنتشرة ٨- جزيرة مدغشقر أو مناخ موسمي ٩- المحيط ١٠- البحر ١١- البحر ١٢- نهر النيل ١٣- دائرة عرض ١٤- مضيق جبل طارق ١٥- مدار السرطان ١٦- المناخ الاستوائي ١٧- منطقة تركيز سكاني سواحل جنوب إفريقيا
تمتد بين دائرتي عرض و..... ، وخطي طول و.....

س٣ : أمامك خريطة لآسيا اكتب مدلول الأرقام :



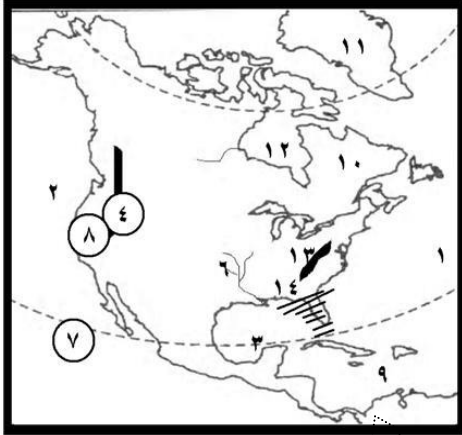
- ١- سهول سيبيريا ٢- جبال الهيمالايا ٣- جبال أورال ٤- بحر قزوين ٥- هضبة الدكن ٦- مناخ موسمي ٧- مناخ صحراوي ٨- المحيط الهادي ٩- المحيط الهندي ١٠- المحيط ١١- السلالة المنتشرة المغولية ١٢- خليج البنغال
تمتد القارة بين دائرتي عرض ١٠ ج و ٨١ ش
١٣- إقليم المناخ الصيني

س٤ : أمامك خريطة لأوروبا اكتب مدلول الأرقام :



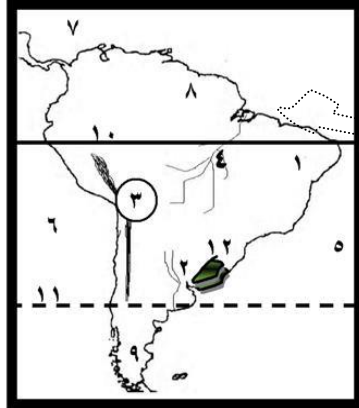
- ١- نهر الفولجا
 - ٢- جبال الألب
 - ٣- هضبة الميزيتا
 - ٤- مناخ غرب أوروبا الجزر البريطانية
 - ٥- المحيط الأطلنطي
 - ٦- البحر
 - ٧- بحر الشمال
 - ٨- البحر البلطي
 - ٩- بحر قزوين
 - ١٠- السهل الأوروبي العظيم
 - ١١- البحر الأسود
 - ١٢- مضيق
- تمتد بين دائرتي عرض وخطي طول ٢٥ غ و ٦٦ ش

س٥ : أمامك خريطة لأمريكا الشمالية اكتب مدلول الأرقام :



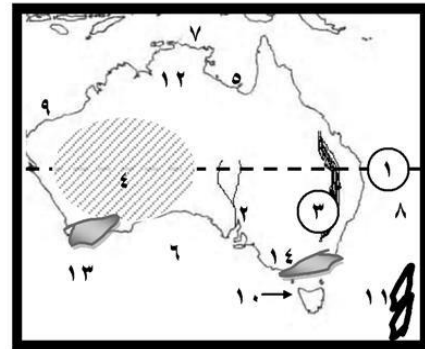
- ١- المحيط الأطلنطي
 - ٢- المحيط الهادي
 - ٣- خليج المكسيك
 - ٤- جبال روكي
 - ٥- جبال الأبلاتش
 - ٦- نهر المسيسيبي
 - ٧- مدار السرطان
 - ٨- منطقة تركيز سكاني الوادي الأوسط
 - ٩- البحر الكاريبي
 - ١٠- هضبة ليرادور (مناخ لورانس)
 - ١١- مناخ التندرا
 - ١٢- خليج هدسن
 - ١٣- جبال الأبلاتش
 - ١٤- إقليم مناخي الصيني
- تمتد بين دائرتي عرض ٧.٥ و ٨٣ ش،

س٦ : أمامك خريطة لأمريكا الجنوبية اكتب مدلول الأرقام :



- ١- هضبة البرازيل
 - ٢- نهر لابلاتا (سهول البامباس)
 - ٣- جبال
 - ٤- نهر الأمازون أو مناخ استوائي
 - ٥- المحيط
 - ٦- المحيط الهادي
 - ٧- البحر الكاريبي
 - ٨- هضبة جيانا أو نهر الأورينكو
 - ٩- هضبة بتاجونيا
 - ١٠- دائرة الأستواء
 - ١١- مدار الجدي
 - ١٢- إقليم مناخي الصيني
- تمتد بين دائرتي عرض وخطي طول ٣٥ و ٨١ غرباً

س٧ : أمامك خريطة لأستراليا اكتب مدلول الأرقام :



- ١- مدار الجدي
 - ٢- نهرا
 - ٣- جبال الحاجز الكبير
 - ٤- هضبة أستراليا الغربية
 - ٥- خليج كارينتاريا
 - ٦- الخليج الأسترالي الكبير
 - ٧- بحر أرافورا
 - ٨- المحيط الهادي
 - ٩- المحيط الهندي
 - ١٠- جزيرة تسمانيا
 - ١١- جزر نيوزيلاند
 - ١٢- مناخ موسمي أو مداري
 - ١٣- إقليم مناخي بحر متوسط
 - ١٤- إقليم مناخي الصيني
- تمتد بين دائرتي عرض ١٠ و ٤٤ ج ، وخطي طول ١٣ و ١٧٨ ش

أهم المصطلحات والمفاهيم

دولة جزرية	دولة تتكون من جزيرة أو أكثر أو قد تكون جزءاً من جزيرة. مثل اليابان - اندونيسيا
موقع فلكي	موقع المكان بالنسبة لدوائر العرض وخطوط الطول.
موقع جغرافي	موقع المكان سواء كان قارة أو دولة أو غيرها بالنسبة للأماكن الأخرى والبحار والمحيطات.
جبال	نطاق أرضي مرتفع عما حوله وتتميز جوانبه بانحدارها وعادة ما يزيد ارتفاعه عن ١٠٠٠ متر.
هضاب	مناطق واسعة مستوية السطح ومرتفعة عما حولها .
سهول	أراض منخفضة من أسطح القارات ومستوية السطح.
سهول فيضية	سهول تمتد على جوانب الأنهار وتتكون من رواسب الأنهار وتتميز بصلاحياتها للزراعة.
سهول ساحلية	سهول تطل على البحار والمحيطات ويختلف اتساعها من ساحل إلى آخر.
سهول صحراوية	سهول تظهر صخرية متماسكة أو مكونة من تكوينات مفككة من رمال أو حصي.
أرصقة صخرية	سهول صحراوية صخرية صلبة متماسكة.
حوض النهر	الأرض التي يجري داخلها النهر وروافده أو تتحد مياهه إليه.
بحر داخلي مغلق	بحر يوجد في داخل اليابس ولا يتصل بأي بحر أو محيطات.
إقليم مناخي	منطقة محددة على سطح الأرض لها خصائص مناخية معينة من حيث الحرارة والرياح والمطر ...
تندرا	طحالب تنمو سريعاً في فصل الصيف عند ذوبان الجليد.
سلالة بشرية	مجموعة بشرية تتشابه في صفاتها الجسمية.
سلالة نقية	سلالة بشرية لم تختلط غيرها من السلالات الأخرى ولا توجد إلا في المجتمعات البدائية المنعزلة
كثافة سكانية	عدد السكان مقسوماً على المساحة بالكيلو مترات المربعة.
ديموغرافية	علم دراسة السكان من حيث المواليد والوفيات والتركيب العمري والنوع.
زيادة طبيعية	نتاج الفارق بين معدلات المواليد ومعدلات الوفيات.
تركيب عمري	دراسة عدد ونسبة كل مجموعة من سكان المنطقة وفقاً لفئات عمرية محددة.
قوة العمل	عدد الأفراد في سن العمل والقادرين عليه والذين يعملون فعلياً أو يبحثون عن عمل.
الامية	عدم معرفة الإنسان للقراءة والكتابة أو كليهما .

أكمل العبارات الآتية :-

- ١- من أقسام السلالة القوقازية النوردية في شمال أوروبا و الألبية في غرب ووسط أوروبا .
- ٢- من أقسام السلالة المغولية الهندو الحمر في الأمريكتين و في سيبيريا و في كندا و ألاسكا .
- ٣- أكبر قارات العالم قارة آسيا ، وأكبر محيطات العالم المحيط الهادئ
- ٤- تقع هضبة بافاريا في وسط دولة ألمانيا وهضبة الميزيتا في إسبانيا.
- ٥- يفصل قارة آسيا عن قارة أوروبا جبال أورال التي تقع في دولة روسيا بينما يفصلها عن أفريقيا البحر الأحمر.
- ٦- تسقط الأمطار في إقليم غرب أوروبا طوال العام وفي إقليم البحر المتوسط شتاءً.
- ٧- يوجد في وسط القارة الأفريقية هضبة البحيرات الإستوائية وهي المنبع الدائم لنهر النيل .
- ٨- تُعد البرازيل و كولومبيا أكبر دول قارة أمريكا الجنوبية سكاناً .
- ٩- يسكن قارة آسيا نحو ثلاثة أخماس (٦٠ %) من سكان العالم ، وثاني القارات إفريقيا
- ١٠- أكبر دول العالم في السكان الصين تليها الهند
- ١١- تعرف الاستبس في أمريكا الشمالية باسم البراري .
- ١٢- أكبر قارات العالم سكاناً قارة آسيا ، وأقلها سكاناً أستراليا.
- ١٣- يتمثل مناخ البحر المتوسط في قارة أستراليا في جنوب غرب أستراليا .
- ١٤- يقع شمال قارة أمريكا الجنوبية البحر الكاريبي .
- ١٥- تُعد جزيرة كويا أكثر جزر أمريكا الشمالية ازدحاماً بالسكان، بينما أكثر الجزر ازدحاماً في العالم و آسيا جزيرة جاوة.

- ١٦- أعلى قمة جبلية فى العالم قمة أفريست ٨٨٤٨ متر .
- ١٧- تُعد لندن وباريس من المدن مرتفعة الكثافة السكانية . فى السهل الاوروبى العظيم
- ١٨- حيوان الرنة من الحيوانات التى تعيش فى إقليم نباتات الصحارى الباردة .
- ١٩- أوسع السهول الفيضية والغابات الاستوائية تتمثل فى سهول حوض نهر الأمازون .
- ٢٠- من الدول ذات الرعاية الطبية الفائقة روسيا و معظم دول أوروبا و أمريكا الشمالية .
- ٢١- من الدول ذات الرعاية الطبية المرتفعة مصر و الأردن و الإمارات و استراليا .
- ٢٢- من الدول ذات الرعاية الطبية المنخفضة النيجر و إثيوبيا و أريتريا و نيبال .
- ٢٣- أعلى قارات العالم فى معدلات العالم المواليد قارة وأقلها قارة
- ٢٤- يصل أعلى معدل للوفيات فى قارة
- ٢٥- أكبر الدول مساحة فى أمريكا الشمالية وثانى الدول وهى أكثر الدول تقدماً
- ٢٦- من أصغر دول العالم مساحة فى آسيا و
- ٢٧- يقع مناخ بين دائرتي عرض ٣٠ ، ٤٥ ش/ج و بين ٤٥ ، ٦٠ ش/ج غرب القارات .
- ٢٨- تُعد أكبر دول أمريكا الجنوبية سكاناً دولة بينما أصغر هضبة
- ٢٩- تُعتبر أشجار الصنوبر من أشجار الغابات
- ٣٠- تنتمى سواحل المغرب العربى والجبل الأخضر بليبيا لمناخ إقليم
- ٣١- أغلب العرب من السلالة
- ٣٢- من القارات التى لا توجد بها غابات مخروطية قارة
- ٣٣- أقل المناطق سكاناً فى قارة أوروبا المناطق بسبب
- ٣٤- أصغر قارات العالم مساحة وأكبرها
- ٣٥- توجد السلالة النقية فى الوقت الحاضر بأفريقيا فى حوض
- ٣٦- تنتمى جماعة التنجوس فى والإسكيمو فى شمال كندا والاسكا إلى السلالة
- ٣٨- تتركز السلالة الزنجية قرب فى قارة أفريقيا و تمثل حوالى % من سكان القارة .
- ٣٩- أكبر هضاب أمريكا الجنوبية هضبة والتى تمتد فى القارة .
- ٤٠- تقترب قارة أفريقيا من قارة أوروبا عند جزيرة و مضيق
- ٤١- يوجد فى قارة آسيا أكبر بحر داخلى مغلق فى العالم وهو
- ٤٢- يقل عدد السكان فى شمال أوروبا كما هو الحال فى دولتى و بسبب
- ٤٤- يمتد سهل دلتا نهر فى شمال أمريكا الجنوبية .
- ٤٥- تقع هضبة فى الشمال الشرقى لقارة أمريكا الشمالية .
- ٤٦- أطول أنهار أوروبا نهر ويصب فى بحر
- ٤٧- من السهول الصحراوية التى تقع فى أفريقيا سهل فى ليبيا .
- ٤٨- تستهلك الدول الصناعية ذات الدخل الاقتصادى المرتفع كميات كبيرة من مثل دول
- ٤٩- عدد قارات العالم المأهولة بالسكان قارات .
- ٥٠- ينتمى معظم سكان دول شمال أوروبا إلى المجموعة التى تتبع السلالة
- ٥١- توجد هضبة البرازيل فى أمريكا الجنوبية ويجرى بها نهر
- ٥٢- كان العالم فى الماضى عبارة عن قارة واحدة أطلق عليها قارة
- ٥٤- تمتد أمريكا الجنوبية بين دائرتي عرض و
- ٥٥- فى سهول سيمريا الواسعة تجرى أنهار أوب و ينسى و والتى تصب فى المحيط
- ٥٦- من هيزات السلالة الزنجية البشرية و الشعر والشفاه
- ٥٧- من السهول التى يتركز بها السكان فى أوروبا سهل طبارديا شمال دولة
- اكتب ما تشير إليه العبارات الآتية :**
- ١ . الاسم الذى يطلق على حشائش الاستبس فى أمريكا الشمالية (.....)
- ٢ . قارة تبدو فى شكل أقرب إلى المثلث وتمتد أطرافها الجنوبية بالقرب من الدائرة القطبية الجنوبية . (أمريكا الجنوبية)
- ٣ . عدد السكان مقسوماً على مساحة معينة بالكيلومترات المربعة . (.....)
- ٤ . اراض واسعة منخفضة ومستوية السطح وقد تظهر صخرية أو رملية أو حصوية . (.....)
- ٥ . موقع الدولة بالنسبة للدول والمسطحات المائية المحيطة بها . (.....)

٦. اراض واسعة منخفضة ومستوية السطح . (.....)
٧. سلاطة تتميز بالعيون المنحرفة والشعر المسترسل . (.....)
٨. طحالب تنمو سريعاً في فصل ذوبان الجليد . (.....)
٩. دراسة عدد ونسبة كل مجموعة من سكان المنطقة وفقاً لفئات عمرية محددة . (.....)
١٠. عدد الأفراد في سن العمل والقادرين عليه والذين يعملون فعلياً أو يبحثون عن عمل . (.....)

ضع علامة (✓) أمام العبارة الصحيحة وعلامة (×) أمام العبارة غير الصحيحة مع تصويب الخطأ :

١. قارة أنتاركتيكا من القارات متوسطة الكثافة السكانية . ()
٢. الزيادة الطبيعية للسكان هي نتاج الفارق بين معدلات الهجرة الداخلية والهجرة الخارجية . ()
٣. توجد غابات الإقليم الصيني في شرق القارات . ()
٤. يتميز إقليم المناخ الموسمي بخرارة الأمطار شتاءً والجفاف صيفاً . ()
٥. يزداد تركيز السكان في أمريكا الشمالية في دول الرزخ مثل هندوراس . ()
٦. تتميز الغابات الاستوائية بأنها كثيفة ومتنوعة ومنها أشجار البندق والمطاط . ()
٧. ترتفع فئة صغار السن في الدول المتقدمة وتنخفض في الدول النامية . ()
٨. يجري نهر أورانيج و نهر طوبوبو على هضبة جنوب أفريقيا . ()
٩. تمتد قارة أمريكا الشمالية بين دائرتي عرض ٧.٥ جنوباً إلى ٨٣ شمالاً . ()
١٠. تعرف حشائش الاستبس في أمريكا الشمالية بحشائش البراري . ()
١١. تعتبر قارة آسيا أكبر قارات العالم من حيث عدد السكان . ()
١٢. تنتمي جماعة التنجوس في سيبيريا إلى السلالة الزنجية . ()
١٣. تعتبر أمريكا الجنوبية أقل قارات العالم في معدلات طوالب اللجوء . ()
١٤. قارة أوروبا عبارة عن شبه جزيرة غير منتظمة الشكل . ()
١٥. تعتمد الدول ذات الدخل الاقتصادي المرتفع على النشاط الزراعي . ()
١٦. تمثل السلالة الزنجية (السوداء) حوالي ٢٠ ٪ من سكان قارة أفريقيا . ()
١٧. كان العالم في الماضي يتكون من قارة واحدة متصلة تعرف باسم بنجاليا . ()
١٨. أشجار الصنوبر من أشجار الغابات الاستوائية . ()
١٩. أكبر المحيطات المحيط الهادئ وتبلغ مساحته ١٦٦ مليون / كم ٢ . ()
٢٠. توجد جبال الانديز في شرق أمريكا الجنوبية . ()
٢١. لا توجد دولة واحدة في العالم يتكون شعبها من سلالة واحدة . ()
٢٢. يتركز سكان استراليا على السواحل الشرقية . ()
٢٣. يقع إقليم المناخ الصيني غرب القارات بين ٣٠ إلى ٤٥ شمال وجنوب دائرة الإستواء . ()
٢٤. ينتمي الإسكيمو إلى السلالة القوقازية . ()
٢٥. تنتمي مصر إلى الدول ذات الدخل الاقتصادي أقل من المتوسط . ()
٢٦. يجري نهر اليانغتسي في السهول الشمالية في سيبيريا . ()

بم تفسر :

١. كثرة الموانئ الطبيعية بقارة أوروبا . ج . بسبب كثرة التعاريج والجزر القريبة .
٢. ضيق السهول الساحلية في شرق استراليا . ج . بسبب إقتراب جبال الحاجز الكبير من ساحل المحيط الهادئ .
٣. قلة عدد السكان في شمال أوروبا . ج . بسبب شدة البرودة .
٤. يسود المظهر الهضبي سطح قارة أفريقيا . ج . بسبب كثرة الهضاب بالقارة مثل هضبة الصحراء الكبرى في الشمال وإثيوبيا في الشرق والبحيرات الإستوائية في الوسط وجنوب إفريقيا في الجنوب .
٥. انعدام تواجد شعب بالكامل من سلالة واحدة . ج . بسبب إنصهار السلالات واختلاط الصفات الطبيعية نتيجة الهجرات .
٦. انتشار الحضارة الأوروبية في العالم . ج . بسبب موقعها على البحر المتوسط والمحيط الأطلنطي .

٧. تركز السكان في منطقة البحيرات العظمى بالولايات المتحدة الأمريكية . أو (الساحل الشمالي الشرقي).
- ج. بسبب الموارد الاقتصادية الضخمة ووجود المدن الكبرى.
٨. ارتفاع معدلات المواليد في قارة أفريقيا بشكل كبير .ج. بسبب أ- انتشار الأمية والفقر .ب- الاعتماد على الزراعة البدائية والرعى .ج- انتشار العادات والتقاليد السلبية مثل الزواج المبكر و إنجاب أكبر عدد من الأبناء.
٩. اختفاء المناخ القارى البارد في نصف الكرة الجنوبي. ج . بسبب ضيق اليابسة وصغر مساحتها.
١٠. تسمية الغابات النفضية بهذا الاسم.ج. لأنها تنفض أوراقها في فصل الشتاء لسقوط الثلوج وتكون الصقيع.
١١. يتميز السهل الأوروبي العظيم بتربة زراعية جيدة.ج. لأنه يتكون من إرسابات طينية خصبة صالحة للزراعة.
١٢. المناطق الساحلية أكثر مطراً من المناطق الداخلية. ج . بسبب هبوب الرياح المحملة ببخار الماء .
١٣. انتشار عدد كبير من الزوج في الأمريكتين.ج. بسبب إنتقالهم إليها عبر الهجرات الإجبارية ضمن تجارة الرقيق
١٤. الموقع الفلكي له أثر واضح على المناخ.
- ج. حيث كلما اقتربنا من دائرة الإستواء ترتفع درجة الحرارة وكلما إبتعدنا تقل درجة الحرارة
١٥. تكون القارات بشكلها الحالي.ج. لتصدع وإنكسار قارة بنجاليا فإنقسمت إلى كتلتين ثم تباعدت لتكون القارات
١٦. يتركز أكثر من نصف سكان العالم في المدن الكبرى .
- ج. ١. لوفرة فرص العمل ٢. لوفرة الخدمات المتنوعة. ٣. لوفرة المناطق الصناعية.
١٧. أهمية موقع مصر الجغرافي بالنسبة للعالم .ج. حيث تتوسط قارت العالم ويمر بها طرق التجارة العالمية.
١٨. تكون الثلوج على قمم الجبال في المناطق الاستوائية والمدارية.
- ج. بسبب شدة إرتفاعها وكلما إرتفعنا ١٥٠ متراً تقل الحرارة بمقدار درجة مئوية واحدة.
١٩. تعرف هضبة التبت بسقف العالم . ج . لأنها تعلو عن قمم الجبال ، فهي أعلى هضاب العالم .
٢٠. ارتفاع معدل الوفيات في قارة أفريقيا.
- ج. بسبب ١. قلة الرعاية الصحية وانتشار الأمراض. ٢. كثرة الحروب والكوارث الطبيعية مثل الجفاف والزلازل.
٢١. تعتبر قارة أستراليا جزيرة كبيرة . ج. حيث تحيط بها المياه من جميع الجهات.
٢٢. تصل نسبة المتعلمين في مصر إلى ٦٥ %.
- ج. بسبب ١. زيادة الإهتمام بالتعليم في مراحله المختلفة. ٢. جهود الدولة في محو الأمية. ٣- تكافؤ الفرص
٢٣. ضيق السهول الساحلية في شرق أستراليا وغرب أمريكا الجنوبية.
- ج. لإقتراب جبال الحاجز الكبير في أستراليا والاندíz في أمريكا الجنوبية من ساحل المحيط الهادئ.
٢٤. الغابات الموسمية أقل كثافة وتشابك من الغابات الاستوائية . ج. لأن الغابات الموسمية أقل مطراً من الإستوائية
٢٥. قلة عدد السكان في سيبيريا وآلاسكا (شمال كند – شمال أوروبا) .ج. بسبب شدة برودة المناخ.
٢٦. انخفاض معدلات الوفيات في مصر . ج. بسبب الرعاية الصحية وإهتمام بصحة الأطفال.
٢٧. تتركز الدول ذات الدخل الاقتصادي المنخفض في قارة أفريقيا. ج. لإعتماد معظم دول أفريقيا على الزراعة.
٢٨. للسهول الفيضية أهمية اقتصادية. ج. لأنها تتميز بخصوبة تربتها مما يساعد على قيام الزراعة.
- تركز السكان على الساحل الشرقي للولايات المتحدة الأمريكية.ج. للموارد الاقتصادية الضخمة والمدن الكبرى
٢٩. انخفاض معدل تعليم الاناث في بعض الدول. ج. بسبب تأثير بعض العادات والتقاليد مثل أ- بعض القرى التي تحرم المرأة من التعليم حفاظاً عليها .ب- الزواج المبكر.ج- تحيز بعض المجتمعات ضد تعليم المرأة مثل: الهندوس الذين تنص معتقداتهم على أن البنت لا تتلقى تعليمها إلا على يد والدها أو أخيها أو جدّها.

ما النتائج المترتبة على :

١. كثرة تعاريج السواحل في قارة أوروبا .ج. كثرة قيام الموانئ الطبيعية وسهولة إتصالها بالعالم الخارجى.
٢. زيادة السكان في معظم دول قارة آسيا .
- ج. نقص الغذاء- انخفاض مستوى المعيشة- قلة نصيب الفرد من الدخل القومى. - وجود الهجرات غير الشرعية
٣. تساوى معدلات المواليد ومعدلات الوفيات في أوروبا.ج. ثبات عدد السكان حيث وصلت الزيادة الطبيعية إلى صفر
٤. ارتفاع فئة صغار السن في الدول النامية.ج.تحمل الدولة ميزانية ضخمة لتوفير الغذاء والرعاية الصحية والتعليمية
٥. موقع مصر وسط قارات العالم . ج. إحتلال مصر مركزاً تجارياً وحضارياً مهماً بالنسبة للعالم.
٦. هجرة السلاسل البشرية بين القارات . ج. أدى إلى إختلاط السلالات وعدم وجود دولة واحدة يتكون شعبها من سلالة واحدة - وعدم وجود سلالة نقية إلا في المجتمعات البدائية.
٧. تصدع قارة بنجاليا قديماً . ج. تكون القارات بشكلها الحالي.
٨. سيادة الظروف الصحراوية غرب قارة أستراليا.ج. أدى لقلة عدد السكان في غرب أستراليا.
٩. ضيق اليابس وصغر مساحته في نصف الكرة الجنوبي. ج. إختفاء المناخ القارى البارد في نصف الكرة الجنوبي.
١٠. الرعاية الطبية الفائقة في دول قارة أوروبا. ج . أدى إلى ارتفاع نسبة كبار السن .
١١. اصطدام الرياح المحملة ببخار الماء بالجبال المرتفعة.ج. زيادة سقوط الأمطار على السفوح المواجهة للبحر.

ماذا يحدث إذا:

١. لم يتم حفر قناة السويس. ج. لم يمر بها طرق التجارة العالمية البحرية ولم تزداد أهمية موقع مصر تجارياً وحضارياً
٢. انخفض معدل المواليد. ج. سوف ينخفض معدل الزيادة الطبيعية وتقل فئة صغار السن.
٣. كانت سواحل قارة أوروبا مستقيمة. ج. قلة الموانئ الطبيعية بقارة أوروبا وصعوبة إتصالها بالعالم الخارجى.

أثبت بالأدلة الجغرافية صحة العبارات الآتية:

١. يتشابه مناخ الإقليم السوداني مع مناخ الإقليم الموسمي. ج. حيث يسود فى فيهما صيف حار ممطر وشتاء جاف
٢. تعد حشائش السافانا من مناطق الرعى الرئيسية فى العالم. ج. حيث يوجد بها حيوانات آكلة عشب وأكلة لحوم.
٣. تضم الولايات المتحدة شعباً من سلالات مختلفة. ج. حيث يوجد بها السلالة القوقازية والمغولية والزنجية (اشرح)
٤. للتضاريس تأثير واضح فى مناخ أى إقليم. ج. كلما ارتفعنا ١٥٠ م تقل درجة واحدة ب. الجبال تعمل على زيادة الأمطار

قارن:

١. قوة العمل فى الدول المتقدمة والدول النامية.
- الدول المتقدمة : تعمل فى الصناعة والخدمات . النامية : فى التصنيع النامى والأنشطة التقليدية.
٢. السهول الفيضية فى أوروبا والسهول الفيضية فى أمريكا الشمالية من حيث : أ- الامتداد . ب- أهم الأنهار.
- * فى أوروبا : يمتد السهل الأوروبى العظيم من المحيط الأطلنطى غرباً إلى جبال أورال شرقاً (الفلجا-السين -الرين).
- * فى أمريكا الشمالية : تمتد السهول فى الوسط مثل : نهر (نلسن -سانت لورنس -المسيبى)
٣. الجبال فى قارة أمريكا الشمالية وقارة أمريكا الجنوبية.
- * أمريكا الشمالية : الألباتش فى الشرق -الروكى و ماكنزى -الاسكا -كيبك و شير ألتاد و سيرا ماديرا فى الغرب
- * أمريكا الجنوبية : جبال الإنديز فى الغرب من أقصى الشمال إلى أقصى الجنوب.
٤. قارة أفريقيا وأستراليا من حيث : مناطق التركز السكانى فى كل منهما.
- * أفريقيا: السهول الفيضية (النيل-النيجر) - السهول الساحلية المعتدلة (البحر المتوسط) -المناطق المدارية المرتفعة
- * أستراليا : فى السواحل لشرقية (المدن الكبرى والصناعية) - الجنوب الشرقى فى سهول مرى ودارلنج.

النهر	المصب	النهر	المصب	النهر	المصب
النيل	البحر المتوسط	سانت لورنس	خليج سانت لورنس	السين	المانش
النيجر	خليج غينيا	السند	المحيط الهندى	الراين	بحر الشمال
الكونغو/ الأورنج	المحيط الأطلنطى	الجانج	خليج البنغال	البو	البحر الأديراتى
جوبا - شيبلى	المحيط الهندى	دجلة والفرات	الخليج العربى	الأورينكو	البحر الكاريبى
الزيمبىزى/ الومبو	المحيط الهندى	سهول سيبريا (أوب/ينسى/لينا)	المحيط القطبى الشمالى	بارانا وباراجواى ولاپلاتا(البمباس)	المحيط الأطلنطى
المسيبى	خليج المكسيك	الدانوب	البحر الأسود	الأمزون	المحيط الهادى
نلسن	خليج هدسن	الفلجا	بحر قزوين	ساو فرانسيسكو	المحيط الأطلنطى

السلالة ونسبتها	المميزات	أماكن تركيزها	أهم الأقسام
الزنجية % ١٠	البشرة الداكنة - الأنف العريض -الشعر الأجدع الشفاه الغليظة	أفريقيا: قرب الإستواء . ٧٥% من زنوج العالم. ٧٠% من سكان القارة. آسيا: شرق الهند- أوروبا- أستراليا : السكان الأصليون- الأمريكتين	الزنوج السودانيون - البانتو النيليون الحاميون- الأقزام - الأستراليون الأصليون - قبائل الفدا - البوشمن والهوتنتوت
المغولية % ٤٠	البشرة الصفراء العيون المنحرفة الشعر الأسود المسترسل	آسيا: الصين-اليابان-كوريا-منغوليا- سيبيريا- جنوب شرق القارة- كندا والاسكا-أمريكا الجنوبية	الإسكيمو - الهنود الحمر جماعة التجوس
القوقازية % ٥٠	البشرة البيضاء الوردية الشعر المتموج الشفاه الرفيعة	أوروبا - الأمريكتين- شمال الصحراء الكبرى فى الدول العربية - الهند وإيران	البحر المتوسط المجموعة الألبية المجموعة النوردية الشمالية

وجه المقارنة	إقليم مناخ البحر المتوسط	إقليم مناخ غرب أوروبا
الحرارة والموقع	حار جاف صيفاً دافئ ممطر شتاءً	دافئ صيفاً وبارد شتاءً وممطر طوال العام وتكثر الأمطار في فصلي الخريف والشتاء.
الموقع	ويمتد بين ٣٠ ، ٤٥ شمالاً وجنوباً في العروض المعتدلة غرب القارات	ويمتد بين ٤٥ ، ٦٠ شمالاً وجنوباً في العروض الباردة غرب القارات
النبات الطبيعي	أشجار دائمة الخضرة مثل الزيتون - الاستبس	الغابات النفضية ومن أشجارها الزان
وجه المقارنة	الغابات النفضية	الغابات المخروطية
الموقع	إقليم غرب أوروبا بين دائرتي عرض ٤٠ ، ٦٠ شمالاً في العروض العليا	تنمو في إقليم المناخ القاري البارد
النبات	أشجار تنفض أوراقها شتاءً بسبب شدة البرودة مثل الزان	الصنوبر والشربين
وجه المقارنة	الغابات الاستوائية	الغابات الموسمية
الموقع	في الأقاليم المدارية داخل إقليم المناخ الاستوائي.	في الإقليم المداري
المناخ	حرارة مرتفعه وأمطار طوال العام	حرارة مرتفعة وأمطار في الصيف
أهم الأشجار	الماهو جنى - المطاط	جوز الهند
أهم الحيوانات	الزواحف - الطيور - الحيوانات المتسلقة	يعيش بها العديد من الحيوانات

من أذكر فصل سقوط المطر

١ - الإقليم الموسمي ٢ - الإقليم الميني ٣ - الإقليم الاستوائي ٤ - البحر المتوسط ٥ - غرب أوروبا

من أين توجد الظواهر الآتية ١ - جبال الأطلس ٢ - جبال الألب ٣ - هضبة الميزتا ٤ - هضبة جيانا

من إلى أي السلالات تنتمي هذه العنصر

١ - العرب ٢ - الاسكيمو ٣ - سكان كوريا ٤ - التنجوس ٥ - البانتو ٦ - قبائل الفدا ٧ - البوشمن ٨ - الهنود الحمر

من ما العلاقة بين ١ - المناخ وتوزيع السكان ٢ - التضاريس وتركز السكان

من أين ترتفع كثافة السكان ولماذا

١ - حوض الامزون ٢ - سهول الارجنطين ٣ - غرب استراليا ٤ - حوض الكونغو ٥ - سهول سيمبا ٦ - اوغندا وكينيا ٧ - جزيرة جاوة

ثانياً : التاريخ

أختر الإجابة الصحيحة / أكمل العبارات / صوب ما تحته خط :

١. سقطت عاصمة الدولة الصفوية بعد هزيمة الصفويين من العثمانيين في معركة
٢. بعدما ضعفت الدولة العثمانية كان الحكم الفعلي لمصر في يد
٣. أصبح لمصر مكانة عالية دولياً بعد حروب محمد علي في
٤. كان هدف نابليون من إنشاء الدواوين تدريب المصريين على نظام محاسن
٥. نظراً لاستفحال الإمبريالات الأجنبية في مصر ومساوئ المحاكم القنصلية أنشأ إسماعيل المحاكم
٦. من الأحزاب المصرية وكان في الاسكندرية وطالب الخديو بالحرية العامة
٧. أصبحت مصر ولاية عثمانية عام ١٥١٧م عقب معركة
٨. جاءت قرارات معاهدة لندن الدولية عام ١٨٤٠م لصالح
٩. استشهد الضابط محمد عبيد ومعظم رجاله في معركة
١٠. أسفر كفاح الزعيم مصطفى كامل عن استقالة
١١. أصدر السلطان العثماني عام ١٨٠٥م فرماناً بعزل وتولية
١٢. تدخل الدولة في مجالات الاقتصاد في عهد محمد علي يسمى
١٣. أول خط حديدي في مصر ربط بين القاهرة و
١٤. تولى الخديو توفيق حكم مصر في يونيو عام
١٥. أرسلت بريطانيا عام ١٨٢٥م بعثة إلى مصر برئاسة
١٦. أعلن مصطفى النحاس رئيس الوزارة المصرية إلغاء معاهدة ١٩٣٦م في أكتوبر عام
١٧. تمكن الضابط الفرنسي بوشار من إكتشاف أثناء الحملة الفرنسية
١٨. أرسلت إنجلترا حملة لاحتلال مصر عام ١٨٠٧م بقيادة
١٩. أنهت حروب اليونان عام ١٨٢٨م بتعطيم الأسطول المصري في معركة
٢٠. اتجه سليم الأول بغزواته نحو الشرق مع بداية القرن الميلادي.
٢١. أنشأ مجلس المشورة والديوان العالي .
٢٢. الوزارة المختلطة في مصر عام ١٨٢٨م كانت برئاسة
٢٣. تمكن عرابي من صد هجمات القوات البريطانية عند
٢٤. عجزت الحكومة المصرية أن تصدر قانوناً نافذاً على الأجنب إلا إذا صدقت عليه للمحاكم المختلطة
٢٥. كان مقراً لثورة القاهرة الأولى و مقراً لثورة القاهرة الثانية.
٢٦. أنشأ نابليون الدواوين لتدريب المصريين على نظام من حيث الاستشارة وتلقي الآراء.
٢٧. غرق الأسطول الفرنسي في معركة أبي قير البحرية على يد الأسطول الإنجليزي بقيادة
٢٨. أعلنت الأحكام العرفية والحماية البريطانية في مصر عام
٢٩. انتهت دولة المماليك في مصر بعد هزيمتهم في معركة
٣٠. تحالفت الدولة العثمانية مع إنجلترا و في إخراج الفرنسيين من مصر.
٣١. منح سعيد باشا امتياز لتأسيس شركة عامة لحفر قناة السويس ل.....
٣٢. خضعت مصر عام ١٥١٧م للحكم
٣٣. دخل الفرنسيون القاهرة عقب معركة
٣٤. اجتمع زعماء الشعب في دار المحكمة لتولية محمد علي حكم مصر عام م.
٣٥. تصدى لمشروع مد امتياز قناة السويس ٤٠ عاماً أخرى الزعيم

٣٦. يعتبر منع تجارة الرقيق من أهم الأعمال التي قام بها
٣٧. تدمر حائزو الأراضي بسبب إلغاء قانون في عهد الخديو توفيق.
٣٨. أنشأ محمد علي أول مدرسة عسكرية في مدينة
٣٩. انتهت حروب اليونان (المورة) بضم جزيرة إلى ولاية مصر عام ١٨٢٧م.
٤٠. في ٣٠ يوليو ١٨٨٢ أصدر الخديو توفيق أمراً بعزل من وزارة الحربي
٤١. نجح العثمانيون في دخول عاصمة الصقليين.
٤٢. يعتبر تأسيس عام ١٨٦٦م بداية الحياة النيابية في مصر .
٤٣. شكل أول وزارة بريطانية في مصر عام ١٩٢٤ م .
٤٤. أول معتمد بريطاني في مصر بعد الاحتلال البريطاني عام ١٨٨٢م
٤٥. انقسم المجتمع المصري في زمن العثمانيين إلى طبقتين و
٤٦. من النتائج العلمية للحملة الفرنسية محاولة شق والعثور على
٤٧. بعد مظاهرة عابدين سبتمبر ١٨٨١م تشكلت وزارة برئاسة ثم تلتها وزارة
٤٨. أسس الحرب عام ١٩٠٢م
٤٩. أنشأ الخيو إسماعيل العديد من مشروعات الري أهمها ترعة
٥٠. من العوامل التي دفعت كليم لعقد معاهدة العريش يناير ١٨٠٠م و
٥١. من المبادئ الديوقراطية التي تضمنها دستور ١٩٢٣م مبدأ و مبدأ
٥٢. كان من نتائج معركة أبي قير البحرية و
٥٣. تم إنشاء المطبعة الأميرية وأول ترسانة بحرية في عهد محمد علي في
٥٤. تم إلغاء الإمتيازات الأجنبية عام ١٩٣٧م في مؤتمر
٥٥. أدت حادثة دنشواي إلى استقالة المعتمد البريطاني اللورد
٥٦. عقد أول قرض من أحد البنوك البريطانية عام ١٨٦٢م.
٥٧. حطمت الدول الأوروبية أسطول محمد علي في معركة عام ١٨٢٧م.
٥٨. نفى سعد زغلول وزملاؤه في المرة الأولى إلى جزيرة بينما نفى أحمد عرابي إلى جزيرة
٥٩. كانت مدة حكم الوالي العثماني ترموخ بين و
٦٠. سعت بريطانيا إلى تولية حكم مصر بعد جلاء الحملة الفرنسية .
٦١. تم إنشاء خط سكة حديد بين القاهرة والسويس في عهد
٦٢. بعد عزل عثمان رفقى وزير الجهادية تم تعيين بدلاً منه
٦٣. قامت ثورة القاهرة الثانية في عهد القائد الفرنسي
٦٤. القائد العام للجيش المصري والحاكم العام للسودان الذي تم اغتياله في ١٩ نوفمبر عام ١٩٢٤م هو

كتب ما تشير إليه كل عبارة من العبارات الآتية من مصطلحات أو شخصيات تاريخية :

١. نظام اتبعه العثمانيون في مصر لجباية الأموال والضرائب من المصريين . []
٢. مجلس نيابي أنشئ في عهد الخديو إسماعيل عام ١٨٦٦م . []
٣. الزعيم الوطني الذي نجح في وقف مشروع مد اختيار قناة السويس ٤٠ سنة أخرى []
٤. المنظمة الدولية التي انضمت إليها مصر بعد عقد معاهدة ١٩٣٦م . []
٥. استطاع التخلص من منافسيه الأقوياء من المماليك حتى صار الحاكم الفعلي لمصر سنة ١٢٦٨م []
٦. خلعه محمد علي من نقابة الأشراف ونفاه إلى دمياط ١٨٠٩م . []
٧. دفعه إتمامه الإسلامي والعربي إلى قتل القائد الفرنسي كليم . []
٨. وقع اتفاقية الصداقة والتحالف عام ١٩٣٦م وألغاه في عام أكتوبر ١٩٥١م . []

٩. تحالف مع الشيخ ظاهر العمر حاكم جنوب الشام ولقب بلقب سلطان مصر. []
١٠. صمد بقواته أمام القوات البريطانية وقاتلهم حتى استشهد في معركة التل الكبير. []
١١. أعلن مبدأ حق الشعوب في تقرير مصيرها. []
١٢. اكتشف حجر رشيد ١٧٩٩م. []
١٣. أشخاص يقومون بدفع الضرائب المفروضة للحكومة ويتعسفوا في جمعها مضاعفة. []
١٤. اتفاق نص على انفراد إنجلترا بمصر مقابل انفراد فرنسا بمراكش (المغرب) []
١٥. مؤتمر خلصت مصر بمقتضاها من الإمتيازات الأجنبية عام ١٩٣٧م. []
١٦. معاهدة دولية فرضت على محمد علي من الدول الأوروبية خشية ازدياد نفوذه. []
١٧. قاد حركة المقاومة ضد نابليون في عكا. []
١٨. ألغى دستور ١٩٢٣م ووضع دستور ١٩٣٠م. []
١٩. انتصر على الدولة الصفوية ودخل عاصمتها تبريز. []
٢٠. قضى على المماليك في مذبحة القلعة. []
٢١. تأليف كتاب وصف مصر. []
٢٢. أسس الحرب الوطني و جريدة اللواء ١٩٠٠م باللغة العربية والفرنسية. []
٢٣. اهتم بالتعليم ودعا إلى إنشاء الجامعة المصرية. []
٢٤. اكتشف مناجيل النيل الاستوائية. []
٢٥. أعاد نظام المراقبة الثنائية ورفض اللائحة الأساسية (الدستور) لمجلس النواب. []
٢٦. اغتاز للسلطان العثماني ضد علي بك الكبير. []
٢٧. ارتكب مذبحة يافا البشرية عام ١٧٩٩م. []
٢٨. خلف مصطفى كامل في قيادة الكفاح الوطني ضد الاحتلال. []
٢٩. خلف سعد زغلول بعد وفاته عام ١٩٢٧م في رئاسة حزب الوفد. []

ضع علامة (✓) أمام العبارة الصحيحة وعلامة (×) أمام العبارة غير الصحيحة مع تصويب الخطأ :

١. سيطر العثمانيون على العالم العربي من الاتجاهين الآسيوي و الأفريقي. ()
٢. أدرك كليبر حتمية بقاء الحملة الفرنسية في مصر. ()
٣. استمرت النهضة التي ظهرت في عهد محمد علي أثناء تولي عباس الأول حكم مصر. ()
٤. ساعدت الظروف الدولية على فشل الثورة العربية. ()
٥. تحالفت الدولة العثمانية مع إنجلترا وروسيا لإخراج الفرنسيين من مصر. ()
٦. جاءت حملة فرير عام ١٨٠٢م لتثبيت محمد علي في حكم مصر. ()
٧. تدمر حائزو الأراضي الزراعية في عهد الخديو توفيق. ()
٨. الوحدة الوطنية بين المسلمين والأقباط كانت إحدى وسائل مصطفى كامل في كفاحه الوطني. ()
٩. اكتشف الضابط الفرنسي شامبليون حجر رشيد في يوليو ١٧٩٩م. ()
١٠. يقضى فرمان ١٨٤١م بحق وراثية عرش مصر لأكم أبناء محمد علي الذكور سناً. ()
١١. أسس الخديو إسماعيل مجلس شورى النواب عام ١٨٦٦م. ()
١٢. رحب محمد فريد بفكرة مد إمتياز قناة السويس أربعين عاماً أخرى. ()
١٣. قام المصريون بثورة القاهرة اثنائية برعاية عم مكرم ضد الاحتلال الفرنسي. ()
١٤. تضائل نفوذ علماء الأزهر والقيادات الشعبية في عهد محمد علي. ()
١٥. عقد الخديو توفيق أول قرض مع البنوك البريطانية عام ١٨٦٢م. ()
١٦. نجحت مفاوضات عدلي / كيرزون في مارس ١٩٢١م. ()

١٧. أصبح التجنيد إجبارياً في عهد سعيد باشا . ()
١٨. شكل مصطفى النحاس أول وزارة بريطانية في عام ١٩٢٤م. ()
١٩. أنشأ محمد علي ترسانة بحرية في أسوان لصناعة السفن. ()
٢٠. كان حي بولاق مركزاً لثورة القاهرة الأولى أكتوبر ١٢٩٨م. ()
٢١. انتهى الصدام بين الدولتين الصفوية والعثمانية بهزيمة السلطان العثماني سليم الأول . ()
٢٢. كان صندوق الدين بمثابة حكومة أجنبية داخل الحكومة المصرية. ()
٢٣. أصدر الخديو إسماعيل قراراً بإنشاء المحاكم المختلطة. ()
٢٤. كسب محمد علي ثقة الشعب المصري وزعامته الشعبية سنة ١٨٠٤م . ()
٢٥. انفرد محمد علي تماماً بحكم مصر بعد التخلص من الرعامة الشعبية. ()
٢٦. أصبحت السلطة الفعلية في مصر بعد الاحتلال البريطاني للخديو . ()
٢٧. حمل نظام الحكم العثماني في ثناية عوامل ضعفه. ()
٢٨. طالب مصطفى كامل بالدستور باعتبار أداة الحكم الصالح. ()
٢٩. الاحتكار في عهد محمد علي يعني ترك السوق لسياسة العرض والطلب. ()
٣٠. خروج قوات الجيش للمطالبة بحقوقهم تعد مظاهرة شعبية. ()

بم تفسر :

١. سيطرة التجار الأجانب على أمور التجارة في مصر خلال العهد العثماني.
ج. بسبب الامتيازات الأجنبية والجمركية والقضائية التي منحتها الدولة العثمانية للتجار الأجانب..
٢. شروط عقد إختيار قناة السويس كانت ظالمة للمصريين.
ج. لأنها أعطت للشركة أ- حق مشاركة الحكومة في حقوق ملكيتها وسيادتها في المناطق التي تمر بها القناة.
ب- حق انتزاع أملاك الأهالي في المناطق التي تمر بها القناة. أو نكتب الشروط
٣. تدهور الصناعة في مصر في العصر العثماني.
ج. ١- إرسال سليم الأول أمهر الصناع لعاصمة الدولة العثمانية. ٢- تدهور الزراعة.
٤. نشاط التجارة الداخلية والخارجية في عهد محمد علي .
ج. ١- موقع مصر المتميز ٢- ازدهار الزراعة والصناعة
٥. إرسال بريطانيا وفرنسا المذكرة المشتركة الثانية في ٢٥ مايو ١٨٨٢م.
ج. لتقوية موقف الخديو توفيق في مواجهة العسكرين ورغبتها في إقالة حكومة البارودي وإبعاد عرابي خارج البلا
- ٥- لم يحقق تصريح ٢٨ فبراير أمان المصريين الوطنية.
ج. بسبب إحتفاظ بريطانيا بالتحفظات الأربعة وهي ١- تأمين المواصلات البريطانية في مصر. ٢- الدفاع عن مصر ضد أي اعتداء أو تدخل أجنبي. ٣- حماية المصالح الأجنبية والأقليات. ٤- إستمرار الوضع في السودان كما هو.
٦. عقد الإتفاق الودي ١٩٠٤م بين بريطانيا و فرنسا .
ج. لكي تطلق فرنسا يد إنجلترا في مصر مقابل إطلاق إنجلترا يد فرنسا في مراكش(المغرب).
٧. توقفت حركة النهضة في عصر عباس باشا.
ج. حيث أ- أغلق المدارس الابتدائية والتجهيزية واستبعد أغلب الأساتذة الأجانب. ب- أغلق صحيفة الوقائع المصرية -إهمال التأليف والترجمة. ٤- أغلق المصانع.
- ٥- تخفيض حجم الجيش من حيث العدد والأسلحة ٦- تعطل أعمال الترسانة البحرية.
٨. أجاء العثمانيين لفتح مصر والشام .
ج. تأمين حدودهم من جانب المماليك. ٢- توسيع أملكهم في الشرق. ٣- ادراك خطورة الصراع مع أوروبا
٩. قيام ثورة القاهرة الأولى أكتوبر ١٢٩٨م.
فرض الضرائب الفادحة/تفتيش البيوت والحوانيت- هدم أبواب الحارات - هدم المباني والآثار بحجة تحصين القاهرة
١٠. ازدهار التعليم والنهضة التعليمية في عهد الخديو إسماعيل .
ج. حيث أعاد فتح ديوان المدارس وفتح المدار العليا مثل دار العلوم والحقوق والطب وغيرها وأرسل البعثات العلمية - وأنشأ دار الكتب والدار الإحصاء والرصد والجمعية الجغرافية عام ١٨٧٥م.

١١. تدهور التعليم في عهد الاحتلال البريطاني.

ج. حيث عملوا على جعله بمصروفات مرتفعة وحصره في فئة قليلة بهدف تخريج موظفين للعمل في الإدارات الحكومية .

١٢. اعتبار عهد الخديو إسماعيل عهد الإصلاح النيابي.

ج. حيث أنشأ مجلس شورى النواب عام ١٨٦٦م وعمل على وضع اللائحة الأساسية (الدستور) والحكومة المسؤولة ١٨٧٨م

١٣. عوامل قيام ثورة ١٩١٩م. ج. ١- نمو الوعي الوطني.

٢- الإجراءات العنيفة التي اتخذتها بريطانيا أثناء الحرب العالمية الأولى.

٣- إدعاء بريطانيا أنها تحارب من أجل حرية وأستقلال الشعوب.

٤- إعلان الرئيس الأمريكى ولسن لمبادئه ١٤ ومنها حق الشعوب فى تقرير مصيرها.

١٤. حروب محمد علي في اليونان.

ج. بأمر السلطان العثمانى للقضاء على ثوار المورة الذين كانوا يريدون الإستقلال عن الدولة العثمانية.

١٥. ما أسباب معارضة الشعب لدستور ١٩٣٠م.

ج. لأنه كان يعطى سلطات واسعة للملك ويهدر سلطة الأمة وحقوقها فى مواضع كثيرة.

١٦. ازدهار الزراعة في عهد محمد علي .

ج. حيث أ- ألغا نظام الإلتزام ووزع مساحات الأراضى على الفلاحين. ب- إحلال اساليب زراعية حديثة. ج- الاهتمام

بالتعظيم الزراعى. د- تحسين طرق الري وبناء القناطر الخيرية. هـ- إدخال محاصيل جديدة

١٧. الحملة الفرنسية على مصر عام ١٧٩٨م.

١- موقع مصر بين الشرق والغرب ٢- تعويض فرنسا عن فقد مستعمراتها في الهند وكندا

٣- استغلال موارد مصر المادية والبشرية. ٤- قطع الطريق بين انجلترا ومستعمراتها في الهند

١٨. حملة فرير (الحملة الإنجليزية) على مصر ١٨٠٧م.

١- إحتلال مصر. ٢- خلع محمد على. ٣- تولية محمد بك الألفى حكم مصر.

١٩. أثر الحملة الفرنسية في نمو الروح القومية عند المصريين .

ج. حيث أيقظت الروح القومية فدافعوا عن بلادهم بالمال والأسلح والأرواح وتمسكوا بعد خروج الحملة بالحرية.

٢٥. أسباب فشل الثورة العرابية.

١- عدم تكافؤ القوة العسكرية بين الطرفين وعدم تقدير الزعيم عرابي قوة عدوه

٢- تواطؤ إدارة قناة السويس (دليسبس) مع الانجليز وتسهيل دخولهم القناة

٣- اعلان السلطان العثماني عصيان عرابي فى ٩ سبتمبر ١٨٨٢م واعتبار الحركة تمردا عسكريا.

٤- عدم إدراك قيادة الثورة لأهمية التعبئة الشعبية لمساندة القوات المصرية

٥- عدم قيام عرابي بتطهير الجيش من العناصر الموالية للخديو والانجليز

٦- عدم مناسبة الظروف الدولية للحركات الوطنية .

ما النتائج المترتبة على :**١. المظاهرة العسكرية الشعبية في ميدان عابدين يوم ٩ سبتمبر ١٨٨١م .**

ج. عزل وزارة رياض باشا وإسناد الوزارة إلى شريف باشا.

٢. إلغاء إسماعيل مدق الدستور ١٩٢٣م ووضع دستور ١٩٣٠م .

ج. أ- رفض الشعب المصرى له فاضطر الملك فؤاد للرضوخ لمطالب الأمة وإعادة دستور ١٩٢٣م.

٣. الاحتلال البريطاني بالنسبة للجيش المصري . ج. إنشاء جيش لا يتجاوز ستة آلاف جندي بقيادة ضابط إنجليزى**٤. معاهدة ١٩٣٦م.**

ج. ١-إنهاء إحتلال مصر عسكرياً-إلغاء الإمتيازات الأجنبية بعد مؤتمر مونترو ١٩٣٧م. ٣-إنضمام مصر لعصبة الأمم . ٤-

تقوية الجيش المصرى. ٥- حرية مصر فى عقد المعاهدات السياسية. ٦- عودة القوات المصرية للسودان.

٥. إلغاء معاهدة ١٩٣٦م. ج. أ. أدى إلى أ- إطلاق الحرية للشعب للنضال ضد القوات البريطانية فى القناة.

ب- مهاجمة جماعات الفدائيين للمعسكرات البريطانية. ج- زيادة عدد جنود الشرطة لمساعدة الفدائيين

٦. انقصار السلطان سليم الأول على الدولة المملوكية في مصر والشام.

ج. انتهاء الدولة المملوكية فى مصر والشام - وانتقال خلافة العالم الإسلامى الدينية والسياسية إلى الدولة العثمانية -

وأصبح سليم الأول الحامى الوحيد للحرمين الشريفين -تحول مصر من دولة كبرى إلى مجرد ولاية

٢. معارضة الإنجليز لتولية محمد علي حكم مصر .

ج. قامت بـ ١- الضغط على السلطان العثماني لنقله إلى ولاية سالونيك. ٢- إرسال حملة فريزر لخلعه ١٨٠٧م.

٨. معركة أبي قير البحرية في أغسطس ١٧٩٨م.

أ- تحطيم الأسطول الفرنسي. ب- حصار الأسطول البريطاني لسواحل مصر الشمالية. توقف حركة التجارة الخارجية. -
ج- تشجيع السلطان على التحالف مع الانجليز لإخراج الفرنسيين. د- استغلال نابليون لموارد مصر.

٩. حروب محمد علي في بلاد اليونان.

أ- ضم جزيرة كريت لولاية مصر. ب- هزيمة الجيش وتحطيم الأسطول المصري. ج- علو مكانة مصر دولياً

١٠. تنديد الزعيم مصطفى كامل بمحادثة دنشواي عام ١٩٠٦م.

أ- استقالة اللورد كرومر . ب- اهتمام الصحف العالمية بالقضية المصرية.

هزيمة طومان باي في معركة الريدانية ١٥١٢م .

أ- انتصار العثمانيين. ب- دخول العثمانيين القاهرة. ج- انتهاء دولة المماليك وأصبحت مصر ولاية عثمانية.

١١. مذبة يافا البشرية ١٧٩٩م . ج. أدى إلى شدة مقاومة جنود عكا في الدفاع عن مدينتهم بقيادة أحمد باشا الجزار

١٢. الاتفاق الودي بين فرنسا وبريطانيا عام ١٩٠٤م . ج. تخلى فرنسا عن تأييدها لمصطفى كامل .

١٣. ضم محمد علي للسودان. الإجابة. أ- امتداد نفوذ مصر إلى جنوب السودان. ب- إنشاء مدينة الخرطوم .

ج- اكتشاف منابع النيل والوصول لوسط أفريقيا (فى عهد الخديو إسماعيل)

١٤. سياسة العزلة التي فرضتها الدولة العثمانية على مصر .

ج. جمود وتخلف الحياة الفكرية والثقافية وإهتزاز مكانة الأزهر وتدهور الحياة الأدبية وشاع الجهل وانتشر الدجل والشعوذة

١٥. المظاهرة العسكرية في ميدان عابدين عام ١٨٨١م.

ج. اضطر الخديو إلى الموافقة على مطالب الأمة والجيش وإسناد الوزارة إلى شريف باشا بعد عزل رياض باشا.

١٦. امتياز حفر قناة السويس.

ج. أ- زيادة التدخل الأجنبي . ب- ارتباك ميزانية مصر. ج- استفادة الشركة بالأرباح ولم تستفد مصر شيئاً.

١٧. الأزمة المالية في عهد الخديو توفيق .

ج. (سوء الأحوال الاقتصادية. ب- قُدم حائزو الأراضي لإلغاء قانون المقابلة. ج- إحالة كثير من الضباط للتقاعد

١٨. حروب محمد علي في شبه الجزيرة العربية. ج. سيطرة محمد علي شبه الجزيرة العربية.

١٩. إصدار سعيد باشا اللائحة السعيدية عام ١٨٥٨م.

ج. أ- امتلاك الفلاح للأرض الزراعية. ب- إلغاء نظام الاحتكار فاصبح الفلاح حراً فى تصريف حاصلاته الزراعية.

دلال على صحة كل عبارة من العبارات الآتية :

١. حدوث نهضة زراعية في عهد سعيد باشا .

حيث أصدر اللائحة السعيدية والتي أ- جعلت الفلاح مالكا. ب- ألغا نظام الاحتكار فاصبح الفلاح حر فى تصريف

حاصلاته الزراعية. ج - اهتم بتطهير ترعة المحمودية لتفى بحاجة الرى والزراعة.

٢. توحدت جميع فئات وعناصر الشعب المصري خلال ثورة ١٩١٩م (تعلم ثورة ١٩١٩م ثورة شعبية شاملة) .

لأنه اشترك فيها جميع طوائف الشعب من مسلمين ومسيحيين وعمال وفلاحين ومتقنين وخرجت المرأة لأول مرة.

٣. أثر سياسة محمد علي الاقتصادية في تشكيل وبناء القوى الاجتماعية في مصر.

* حيث تدهورت واختفت بعض الطبقات الاجتماعية وظهرت طبقات أخرى مثل إختفاء المماليك كهيبة حاکمة وظهور

أسرة محمد علي وبعض العناصر التركية وتضائل نفوذ مكانة العلماء وظهور طبقة الأعيان وظهور البدو كهيبة

اجتماعية وعمال الصناعة وتدهور طبقة التجار وظهور التجار الأجانب ووكلائهم.

٤. سوء أحوال مصر السياسية والاقتصادية في ظل المراقبة الثنائية في عهد الخديو توفيق.

* أ- ١- بيع حصة مصر من أسهم قناة السويس (١٥%) لاتحاد الماليين بباريس. ٢- تأسيس شركات أجنبية كثيرة

وتولى عدد كبير من الأجانب الوظائف الهامة فى البلاد. ٣- تشكيل لجنة دولية اصدرت قانون التصفية عام ١٨٠٠م

ب- أصبح للمراقبين نفوذ أكبر من وزراء الدولة ولهم الحق فى حضور جلسات مجلس الوزراء.

٥. كان دستور عام ١٩٢٣م العديد من المزايا ولكنه لم يخل من العيوب.

* حيث (المزايا: ١- كان خطوة فى تقرير أن الأمة هى مصدر السلطات. ٢- وضع نهاية للحكم المطلق. ٣- قرر مبدأ

المساواة بين جميع المصريين فى الحقوق والواجبات - مع احترام الحريات العامة.

العبوب : أعطى للملط سلطات واسعة تجاه السلطتين التشريعية والتنفيذية فكان من حقه حل البرلمان.

٦. تصريح ٢٨ فبراير ١٩٢٢م لمحقق الاستقلال الكامل لمصر.

ج. بسبب احتفاظ بريطانيا بالتحفظات الأربعة وهي ١- تأمين المواصلات البريطانية في مصر. ٢- الدفاع عن مصر ضد أي اعتداء أو تدخل أجنبي. ٣- حماية المصالح الأجنبية والأقليات. ٤- استمرار الوضع في السودان كما هو.

٧. لعلماء الحملة الفرنسية آثاراً بعيدة المدى وعميقة الأثر على مصر.

حيث تمكنوا من فك رموز حجر رشيد ووضع مشروع توصيل البحرين وتأليف كتاب وصف مصر.

٨. كان امتياز قناة السويس ظالماً لحقوق المصريين.

لأنه أعطى للشركة حق مشاركة الحكومة المصرية في حقوق ملكيتها وسيادتها في المناطق التي تمر بها القناة ٢- انتزاع أملاك الأهالي في تلك المناطق

٩. أدرك محمد علي قوة الزعامة الشعبية لذلك سعى للتخلص منها .

حيث أدرك دور الزعامة الشعبية في توليه الحكم والقيود التي فرضتها عليه عند قبوله الحكم لذلك سعى لتقرب الوقت المناسب للتخلص منها بخلق عمر مكرم من نقابة الأشراف ثم نفيه لدمياط ٩ ١٨٠٩م ثم التخلص من باقي الزعماء

١٠. شهدن مصر في عهد الخديو إسماعيل نهضة عمرانية كبرى .

ج. أ - قام ببناء العديد من القصور والسرايات مثل (قصر عابدين - قصر القبة - سراي الرمل ورأس التين بالإسكندرية)
ب- بناء الكباري مثل كبرى قصر النيل . ج- بناء دار الأوبرا المصرية. د - مد أنابيب المياه وأدخل الإنارة بالغاز.

ما رأيك في : على الطالب أن يعبر عن رأيه بحرية ولكن بما لا يخالف الواقع التاريخي :

(١) موقف الزعيم محمد فريد من مشروع مد امتياز قناة السويس ، ولماذا ؟

(٢) شروط امتياز قناة السويس.

(٣) دستور ١٩٢٣م.

(٤) اختيار الشعب المصري لمحمد علي والياً على مصر عام ١٨٠٥م.

(٥) سياسة نابليون تجاه المصريين بعد معركة أبي قير البحرية ١٧٩٨م.

(٦) موقف الخديو توفيق من عرابي بعد احتلال الإنجليز للإسكندرية؟

رتب الأحداث التاريخية الآتية من الأقدم إلى الأحدث:

* حادثة دنشواي. * اكتشاف حجر رشيد. * مؤتمر مونترو. * افتتاح قناة السويس.

* إصدار تصريح ٢٨ فبراير. * مذبحه القلعة. * مذبحه يافا البشرية. * إصدار اللائحة السعيدية.

* إعلان الحماية البريطانية على مصر. * الاتفاق الودي. * حملة فريزر. * اتفاقية الحكم الثنائي.

* تخلص محمد علي من الزعامة الشعبية. * إلغاء معاهدة ١٩٣٦م. * افتتاح قناة السويس. * معركة أبو قير البحرية

* مذبحه القلعة. * مؤتمر الصلح في باريس. * تولية محمد علي حكم مصر. * افتتاح قناة السويس للملاحة.

* حريق القاهرة. * معركة نوارين. * إلغاء السيادة العثمانية على مصر. * افتتاح قناة السويس. * صدور قانون التصفية

٨) إقترعن الحملة الفرنسية على العسكريين فقط.

ج. لم يكن للحملة نتائج علمية مثل : كتاب وصف مصر و مشروع توصيل البحرين و فك رموز حجر رشيد .

٢) لم يتفاوض محمد علي مع القوى الأوروبية لتأمين انسحاب الجيش المصري من المطرة .

• لم ترتفع مكانة مصر دولياً - لم تتوتر العلاقات بين محمد علي والسلطان -

٣) لم يتم تخليط الأسطول الفرنسي في معركة أبي قير البحرية عام ١٧٩٨م ؟

• لم يتم ١- محاصرة سواحل مصر الشمالية ٢- قطع إمدادات الحملة من فرنسا ٣- توقف التجارة الخارجية .

٤) لم يقاوم محمد فريد مشروع مد امتياز قناة السويس ؟

• يصبح للشركة الحق في البقاء لمدة ٤٠ سنة أخرى وازدياد التدخل الأجنبي في مصر.

أسئلة متنوعة وهامة :

- قارن بين الزراعة في مصر في العهد العثماني ، وفي عهد محمد علي .

* العثماني : تدهورت لكثرة الضرائب على الفلاح - ظلم الملتزم - التلاعب بالموازين والمكايل [إهمال الحكام.
* محمد علي : نهضت لـ إلغاء الإلتزام وتوزيع الأراضي على الفلاحين-إحلال أساليب حديثة - الإهتمام بالتعليم الزراعي - تحسين طرق الري وإنشاء القناطر الخيرية- إدخال غلات جديدة(التوت)- تحسين زراعة القطن]

- قارن بين الصناعة في عهد محمد علي والصناعة تحت الاحتلال البريطاني.

الصناعة في عهد محمد علي : تقدمت حيث قام ببناء المصانع وجمع الصبية للعمل بها فأصبحت بمثابة مدارس صناعية واستعان بالخبرات الأجنبية وأرسل البعثات للخارج لدراسة فنون الصناعة الحديثة وترجمة الكتب الخاصة بها.
الصناعة تحت الاحتلال البريطاني : حارب الاحتلال الصناعة بتسويق المنتجات البريطانية والأجنبية في السوق المصرية.

- أهم مطالب الجيش والأمة التي طالب بها عرابي في مظاهرة سبتمبر ١٨٨١م.

١- عزل وزارة رياض باشا المستبدة. ٢- تشكيل مجلس نواب على النسق الأوروبي. ٣- زيادة عدد الجيش لـ ١٨ ألف جندي.

- ما الجهود التي بذلها مصطفى كامل في محاربة الاستعمار الإنجليزي داخليا وخارجيا ؟

داخليا ١- دفع عوامل اليأس. ٢- إقناع المصريين بأن جلاء الاحتلال ليس من المستحيلات. ٣- الدعوة للوحدة الوطنية. ٤- المطالبة بالدستور. ٥- تأسيس جريدة اللواء ١٩٠٠م. ٦- تأسيس الحزب الوطني ١٩٠٧م. ٧- الاهتمام بالدعوة لنشر التعليم خارجيا : ١- تعريف الرأي العام الأوروبي خاصة فرنسا بحق مصر في الاستقلال .

٢- الاتجاه نحو الدولة العثمانية باعتبارها صاحبة السيادة على مصر لتساعدها في جلاء الاحتلال.
٣- استغلال حادث دنشواي ١٩٠٦م للثني بالاحتلال البريطاني وسياسته القمعية وإعادة المطالبة بالجلاء.
٤- الدعوة لرفض اتفاقية الحكم الثنائي في السودان ١٨٩٩م. (فسر) لأنها أعطت لبريطانيا رسمياً الإشتراك في إدارة السودان

- قارن بين أحوال التعليم أثناء حكم الخديو إسماعيل وفترة وجود الاحتلال البريطاني.

التعليم في عهد إسماعيل: إهتم بالتعليم فأعاد ديوان المدارس وأنشأ المدارس بمختلف أنواعها. وفتح أول مدرسة تعليم البنات التعليم في عهد الاحتلال: أهمل التعليم وجعله بمصروفات مرتفعة وحصره في فئة قليلة بهدف موظفين للعمل في الحكومة

- قارن بين سياسة محمد علي وسياسة سعيد باشا بالنسبة للفلاح المصري ، وأيهما تفصل ؟

محمد علي : وزع مساحات الأراضي على الفلاحين ومد الفلاح بما يلزمه من بذور ومواش وأدوات زراعية ولكنه ألزمه بزراعة كل ما تقرره الحكمة من حاصلات زراعية وبيع الحاصلات الزراعية للحكومة.
سعيد باشا : إهتم بإصلاح أحوال الفلاحين فأصدر اللائحة السعيدية ١٨٥٨م فأصبح الفلاح مالكا للأرض الزراعية وألغى نظام الإحتكار فأصبح الفلاح حراً في تصريف حاصلاته الزراعية .

- قارن بين نتائج : ضم السودان إلى مصر في عهد محمد علي ، والحملات التي أرسلها الخديو إسماعيل إلى أفريقيا

أ- محمد علي : ١- وصول نفوذ مصر إلى جنوب السودان. ٢- بناء مدينة الخرطوم.
ب- إسماعيل : ١- السيطرة على ساحل البحر الأحمر بالكامل. ٢- السيطرة على مياه النيل .

- ما الإجراءات التي اتبعها محمد علي لتطبيق نظام الإحتكار في التجارة .

١- تسويق الحاصلات الزراعية . ٢- البيع للتجار الأجانب في مصر.
٣- البيع في الخارج لحساب الحكومة المصرية. ٤- احتكار تجارة الواردات.

- اذكر المشكلات التي واجهت محمد علي في بداية حكمه.

١- محاولة نقله. ٢- حملة فيزير ١٨٠٧م. ٣- الزعامة الشعبية. ٤- المماليك. وتخلص منهم بمذبحة القلعة ١٨١١.

٢- ما العلاقة بين : ١- موقعة أبي قير البحرية و ثورة القاهرة الأولى.

ج /كان من نتائج موقعة أبي قير البحرية أن فرض نابليون الضرائب خاصة على التجار فكان ذلك سبباً لقيام ثورة القاهرة الأولى أكتوبر ١٧٩٨م.

العام	الحدث التاريخي	العام	الحدث التاريخي
١٢٦٩	حركة علي بك الكبير	١٨٦٢	عقد سعيد أول قرض مع احد البنوك البريطانية
١٥١٤	موقعة جالديران	١٨٦٦	تأسيس إسماعيل مجلس شورى النواب
١٥١٦	موقعة مرج دابق	نوفمبر ١٨٦٩	افتتاح قناة السويس للملاحة
يناير ١٥١٢	موقعة الريدانية	١٨٢٩	فرمان عزل إسماعيل وتولية توفيق
يوليو ١٢٩٨	دخول نابليون مدينة القاهرة	يوليو ١٨٨٠	إصدار قانون التصفية
أغسطس ١٢٩٨	ابوقير البحرية وتحطم الأسطول F	سبتمبر ١٨٨١	مظاهرة لعراي عرض مطالب الأمة
أكتوبر ١٢٩٨	ثورة القاهرة الأولى	يناير ١٨٨٢	إرسال E و F المذكرة المشتركة الأولى
مارس ١٢٩٩	حملة نابليون على الشلم	مايو ١٨٨٢	المذكرة المشتركة الثانية
يولية ١٢٩٩	أبو قير البرية وانتصار نابليون	سبتمبر ١٨٨٢	دخول الانجليز القاهرة
يناير ١٨٠٠	معاهدة العريش بين كليبر والأتراك	١٨٩٩	اتفاقية الحكم الثنائي بين مصر وبريطانيا
مارس ١٨٠٠	ثورة القاهرة الثانية	١٩٠٠	تأسيس مصطفى كامل جريدة اللواء
يونيو ١٨٠٠	مقتل كليبر على يد سليمان الحلبي	١٩٠٤	عقد الاتفاق الودي بين بريطانيا وفرنسا
سبتمبر ١٨٠١	جلاء قوات الحملة الفرنسية عن مصر	١٩٠٢	تأسيس الحزب الوطني
مارس ١٨٠٤	قيام الشعب المصرية بالثورة ضد الأتراك	ديسمبر ١٩١٤	إعلان الحماية البريطانية على مصر
١٣ مايو ١٨٠٥	اختيار الزعماء محمد علي والبا لمصر	مارس ١٩١٩	نفي سعد وزملاؤه الى مالطة
٩ يوليو ١٨٠٥	فرمان السلطان بتولية محمد علي	يناير ١٩٢٤	تشكيل سعد زغلول أول حكومة برلمانية
يوليو ١٨٠٦	فرمان بنقل محمد علي الى سالونيك	مارس ١٩٢٤	افتتاح أول برلمان مصري
مارس ١٨٠٢	حملة فريزر على مصر	نوفمبر ١٩٢٤	اغتيال سيرلي ستاك
١٨٠٩	نفي محمد علي عمر مكرم الى دمياط	١٩٢٧	وفاة سعد زغلول
١٨٢٧	موقعة نفايرين البحرية	يونيو ١٩٣٠	تشكيل وزارة إسماعيل صدقي
١٨٤٠	معاهدة لندن	١٩٣٧	مؤتمر مونترلو لإلغاء الامتيازات الأجنبية
يونيو ١٨٤١	فرمان بجعل الوراثة لأكبر ابناء محمد علي	سبتمبر ١٩٣٩	قيام الحرب العالمية الثانية
١٨٤١	فرمان حكم محمد علي السودان	فبراير ١٩٤٢	حادث ٤ فبراير وتشكيل وزارة النحاس
نوفمبر ١٨٥٤	إصدار محمد سعيد عقد الامتياز الأول	أكتوبر ١٩٥١	إلغاء النحاس معاهدة ١٩٣٦
يناير ١٨٥٦	إصدار سعيد باشا عقد الامتياز الثاني	يناير ١٩٥٢	ضرب مدينة الإسماعيلية " عيد الشرطة "
١٨٥٨	إصدار سعيد باشا اللانحة السعيدية	يوليو ١٩٥٢	قيام ثورة ٢٣ يوليو

أهم المصطلحات والمفاهيم

نظام الالتزام	جباية الأموال والضرائب المفروضة على الفلاحين وإرسالها إلى العثماني ويتولى جمعها الملتزمون.
حق الانتفاع	نظام طبقه العثمانيون جعل الأرض الزراعية ملكاً للدولة ويتم تكليف الفلاحين بزراعتها.
مقاومة	رفض الشعب للاحتلال ومظاهره ودفعه عن البلاد بمختلف الوسائل.
جلاء	حيل قوات الاحتلال عن البلد المحتل.
نظام الاحتكار	نظام تقوم فيه الحكومة ممثلة في محمد علي بتحديد نوع الغلات التي تزرع ونوع المصنوعات التي تنتج وتحديد أثمان شرائها من المنتجين وأثمان بيعها في السوق.
فرمان	أمر سلطاني واجب التنفيذ .
اللائحة السعيدية	لائحة أصدرها سعيد باشا في أغسطس ١٨٥٨م وبموجبها أصبح الفلاح مالكا للأرض الزراعية وحرراً في تصريف حاصلاته الزراعية .
امتياز	ترخيص تمنحه الحكومة لإقامة مشروع ما مقابل مبلغ محدد أو نسبة من الأرباح .
الامتيازات الأجنبية	تسهيلات منحتها الدولة العثمانية لرعايا الدول الأجنبية.
محاكم قنصلية	محاكم تنتظر في الجرائم التي يرتكبها العايا الأجانب ضد المصريين والحكومة المصرية.
محاكم مختلطة	محاكم أنشأها الخديو إسماعيل تهدف إلى الحد من زيادة الامتيازات الأجنبية في مصر ومساوئ المحاكم القنصلية وقضاتها أجانب ومصريين .
مراقبة ثنائية	فرض رقابة على مالية مصر عن طريق مراقبين بريطاني للإيرادات وفرنسي للمصروفات .
مظاهرة عسكرية	خروج قوات الجيش للمطالبة بالحقوق الوطنية ومطالبة الحُكام بتنفيذها.
احتلال	الاستيلاء على أرض الغير بالقوة.
حكم مطلق	تكون السلطة كلها في يد الحاكم ولا توجد سلطة نيابية تراقب أعمال الحكومة.
الاتفاق الودي	انفراد إنجلترا بمصر مقابل أفراد فرنسا بمراكش (المغرب حالياً) .
حق تقرير المصير	مبدأ من المبادئ الأربعة عشر التي دعا إليها الرئيس الأمريكي ولسن في الحرب العالمية الأولى.
بعثة كيف ١٨٧٥م	اسلحتها بريطانيا لدراسة الأذمة المالية في مصر
صندوق الدين ١٨٧٧	جاءت لحل الأذمة المالية في مصر وكانت أول هيئة أوروبية رسمية في مصر

أسئلة متنوعة س ١ مالعلاقة بين ١- مذبحه يافا وفشل حملة نابليون على الشام ؟ أدت إلى استبسال أهالي عكا
٢- حروب اليونان وتدهور العلاقة بين محمد علي والسلطان ؟ التفاوض مع الدول الأوروبية- نمو فكرة الانفصال
٣- الوزارة المختلطة وعزل الخديو اسماعيل من الحكم ؟ قيامه بعزل الوزررين الأجنيين
س بم تفسر

- ٢- يوم ٢٥ يناير من كل عام عيد للشرطة ؟ بسبب محاصرة الإنجليز لمبنى الاسماعيلية لنزع سلاح جنود الشرطة
- ٥- تغيير السياسة الاقتصادية في مصر بعد الاحتلال البريطاني ؟ التوسع في زراعة القطن وحاربة الصناعة المصرية
- ٦- عزل الخديو اسماعيل وتولية ابنة توفيق ؟ قيامه بعزل الوزررين الأجنيين وضغط بريطانيا وفرنسا على السلطان
- ٧- نظام الاحتكار في عهد محمد علي ؟ ليضمن الدخول في سوق التجارة الدولية منافسا لغيره من الدول
- ٨- عقد معاهدة لندن ١٨٤٠ م ؟ لفرض شروط على محمد علي خشية ازدياد نفوذه
- ٩- الاهتمام بالتنظيمات الادارية في عصر محمد علي ؟ ليكفل له السيطرة الكاملة على شئون البلاد
- ١٠- نفى عمر مكرم الى دمياط ؟ للتخلص من الزعامة الشعبية

س النتائج

٢- الحملة الفرنسية من الناحية القومية ؟ نحو الروح القومية

٦- حاجة محمد علي الى المواطنين ؟ اهتمامه بالتعليم

ماذا كان يحدث اذا ١- لم يقم اسماعيل باقصاء الوزررين الاجنيين ؟ لم يعزل

س ما رأيك في سياسة رياض باشا ؟ موقف ظالم

٢- موقف الضابط محمد عبيد ؟ مشرف

٣- موقف محمد فريد من مشروع قناة السويس ؟ عظيم ووطنى

٤- مصطفى كامل من حادثة دنشواى ١٩٠٦ ؟ عظيم حيث أدى إلى استقالة اللورد كرومر

س اذكر عملا واحداً ١- محمد كريم ٢- اعلى بك الكبير ٣- أحمد باشا الجزار ٤- عدلى يكن ٥- الضابط محمد عبيد

امتحان نصف العام لشهادة اتمام مرحلة التعليم الاساس للعام الدراسي - ٢٠١٣م

اجب عن الاسئلة الاتية

اولا الجغرافيا



السؤال الاول

(١) امامك خريطة لقارة افريقيا اكتب ما تدل عليه الارقام بالخرطة

- ١ - جبال.....
- ٢ - مضيق.....
- ٣ - المناخ.....
- ٤ - صحراء.....

(ب) بم تفسر :

- ١ - ضيق السهول الساحلية في شرق اسراليا .
- ٢ - اختفاء المناخ القاري البارد في نصف الكرة الجنوبي
- ٣ - ترك السكان في منطقة البحيرات العظمى بالولايات المتحدة الامريكه .
- ٤ - ارتفاع نسبة المتعلمين في مصر الى ٦٥ %

(ج) حدد المصطلح الجغرافي لما ياتي :

- ١ - الدولة التي تتكون من جزيرة او اكثر .
- ٢ - منطقة انتقاليه بين المناخ الاستوائي والمناخ الصحراوي .

السؤال الثاني:

(ا) ما النتائج المترتبة على ما يلي :

- ١ - زيادة عدد السكان في معظم دول قارة آسيا
- ٢ - تصدع وتفكك قارة بنجاليا .

(ب) اكتب كلمة (صح) او (خطأ) امام العبارات الاتيه :

- ١ - يصب نهر الجانج في الخليج العربي
- ٢ - توجد في امريكا الجنوبيه اوسع سهول نهريه في العالم وهي سهول لابلاتا .
- ٣ - الصنوبر والشرين انواع من اشجار الغابات المخروطية .
- ٤ - يرجع انتشار الانسان في قارات العالم الى اواخر عصر البلايستوسين .
- ٥ - تنتمي جماعة التنجوس في سيبيريا الى السلالة الزغيمه .
- ٦ - مصر والمغرب مثلا من الدول ذات المستوى الاقتصادي الاقل من المتوسط .

ثانيا التاريخ

السؤال الثالث (١) اختر الاجابة الصحيحة من بين الاقواس :

- (1) تعرضت دولة المماليك الى التدهور الاقتصادي بعد تحول طرق التجارة الى ايدى :
(العثمانيين - البرتغاليين - الصفويين - الانجليز)
- (2) اعتقلته القوات الفرنسية وتم اعدامه في سبتمبر ١٢٩٨ م :
(مراد بك - ابراهيم بك - عمر مكرم - محمد كريم)
- (3) قهر زعماء الشعب في اجتماعهم ببيت القاضي عام ١٨٠٥ م عزل :
(محمد علي - عمر مكرم - خورشيد باشا - محمد كريم)
- (4) اسس محمد علي ترسانة الصناعة احدهما في الاسكندرية والثانية في :
(الازبكية - بولاق - السويس - عابدين)
- (5) شكل اول وزارة بريطانية عرفة بوزارة الشعب ١٩٢٤ :
(احمد عرابي - مصطفى كامل - سعد زغلول - محمد فريد)
- (6) اهتم بمصالح احوال الفلاحين فاصدر اللائحة السعيدية :
(سعيد - اسماعيل - توفيق - عباس)

(ب) قارن بين

- ١ - نظام الالتزام - نظام الاحتكار
- ٢ - التعليم في عهد اسماعيل - التعليم تحت الاحتلال البريطاني

السؤال الرابع (١) اعد كتابة العبارات الاتية بعد تصحيح ما تحته خط :

- (1) تخالف على بك الكبير لاختضاع الحجاز لنفوذ مع محمد بك ابو الذهب.
- (2) بعد صدور تصريح ٢٨ فبراير أعلن فاروق نفسه ملكا على البلاد.
- (3) استغل حادثه دنشواي للتنديد بالاحتلال البريطاني الزعيم محمد فريد.
- (4) ادت حادثه قصر النيل ١٨٨١م الى تعيين عثمان رفقي وزير للجهادية.
- (5) نتيجة فشل المفاوضات مع كيرزون وزير خارجية بريطانيا استقالت وزارة اسماعيل صدقي.
- (6) منح الى فرديناند ديليبس امتياز استغلال قناة السويس لمدة ٩٩ عاما الحديوي توفيق.

(ب) ما المقصود بما يلي :

(1) فرمان .

(2) الاحتلال

(ج) ماذا يحدث اذا :

- ١ - لم يصطحب نابليون معه مجموعة من العلماء في حملته على مصر .
- ٢ - لم تفرض الدول الاوربية معاهد لندن ١٨٤٠م على محمد علي.