



# دليل تقويم الطالب في مادة الجغرافيا

للصف الثالث الثانوى

٢٠١٥/٢٠١٦م

تصميم  
د/سهيرو عبد ربه

دليل تقويم الطالب  
للف الثالث الثانوى  
لمادة الجغرافيا السياسية

إعداد

أ.د/ سعاد سيد محمد الفجال	د/ اسماء محمد عبدالحليم
د/ رضا شعبان عبدالسلام	أ/ عادل عبدالحميد يونس رجب

إشراف تربوى

رئيس قسم التطوير	مدير المركز
أ.د/ هبة الله عدلى	أ.د/ مجدى محمود أمين

مستشار الدراسات الاجتماعية  
أ/ سمير محمود ابراهيم الشرقاوى

العام الدراسى  
٢٠١٥م – ٢٠١٦م

دليل تقويم الطالب  
لـلصف الثالث الثانوى  
الجغرافيا السياسية  
٢٠١٥ / ٢٠١٦ م

## بسم الله الرحمن الرحيم

### تقديم:

أبنائي الأعزاء الطلاب والطالبات: إن وزارة التربية والتعليم تعمل ضمن المنظومة العالمية، من أجل مواجهة ما تفرضه علينا العولمة من تحديات وتسعى في نفس الوقت للاستفادة مما يتيح لنا من فرص وإمكانات.. لذلك فقد تفاعلت مصر مع المنظمات والهيئات العالمية في مبادراتها المختلفة نحو دعم التنمية المستدامة.

ونحن ندرك تماما أن العملية التعليمية والسياسات التي تستهدف تطويرها، وما يترتب على ذلك من نتائج، موضوع يشغل اهتمام كل بيت وكل أسرة في مصر، ولوزارة التربية والتعليم دور فاعل في دعم جهود تطوير التعليم والمشاركة في تحقيق هدف مصر القومي، سعيا للوصول إلى تعليم عالي الجودة في شتى مراحله.

إن تطوير المناهج وطرق التدريس يمثلان التحدي الحقيقي أماننا، لإحداث نقلة نوعية في نظام التعليم المصري، لذلك فإننا نسعى لتطوير مناهج التعليم وطرق التدريس تطويرا شاملا وفق خطة مدروسة للانتقال من نموذج تربوي تقليدي قائم على الحفظ والتلقين إلى نموذج تربوي حديث يدعم التفكير الناقد وينمي قدرة التلاميذ على حل المشكلات.

ودعما لهذا التوجه حرصت على تكليف المركز القومي للامتحانات والتقويم التربوي بإعداد أدلة تقويم الطالب بهدف تقديم نماذج متنوعة من الأسئلة والاختبارات التحصيلية للتدريب عليها، ولتتمكنوا من خلالها من الوقوف على مدى استيعابكم لجوانب المادة الدراسية المختلفة، وقد روعي في إعدادها أن تتضمن مختلف أنواع الأسئلة المطابقة لمواصفات الورقة الامتحانية، وتدرجها في الاعتماد على المستويات المعرفية المختلفة حتى يستفيد منها الطالب والمعلم.

وختاما أبنائي الأعزاء الطلاب والطالبات: تعلموا أن الدولة تعي مسئوليتها إزاء قضية تطوير التعليم وإصلاح المؤسسة التعليمية.. والارتقاء بمكانتها، وتتطلع إلى أن يقف المجتمع بأسره مؤيدا لأهدافها.. مساندا لتبعتها.. كي نحقق هدفنا القومي في إحداث تطوير إيجابي حقيقي في نظامنا التعليمي ومؤسساتنا التعليمية..

وزير التربية والتعليم

رئيس مجلس إدارة المركز

القومي للامتحانات والتقويم التربوي

أ.د/ الهلالي الشربيني

الجغرافيا السياسية الثالث الثانوى

للعام الدراسى ٢٠١٥ م – ٢٠١٦ م

يعد دليل تقويم الطالب للصف الثالث الثانوي الجغرافيا السياسية ، مرشدًا للتأكيد على العزم القوى، والإرادة الراسخة على السير قدمًا بخطى واثقة فى سبيل إنجاز برامج وخطط عمليات التقويم وأساليبه، والتي تؤكد عليها وزارة التربية والتعليم من أجل رسم إطار سياستها لإصلاح وتوحيد التعليم بمراحله المختلفة، وقد جاء إخراج هذا الدليل ضمن سلسلة أدلة تقويم الطالب لمرحلة التعليم الثانوى بناء على ملاحظات التقويم الميدانى لتناسب جميع مستويات الطلاب وتحقق الترابط بين جميع المواد الداسية المقررة، وتساعد فى بناء الشخصية المتكاملة للمتعلم.

والدليل فى منهجيته مصدر مهم يستتير به المعلم فى تقويم طلابه من أجل بلوغ الكفايات التدريسية والتعليمية بنهاية المرحلة التعليمية.

ولعل هذا الدليل يعد النموذج الجيد لأساليب التقويم المتنوعة التى تحقق الهدف المنشود فى بناء شخصيه الطالب المصرى موحد العقل والفؤاد والمتطلع إلى مستقبل أفضل.

المؤلفون

المحتويات

الوحدة التمهيديّة : مدخل إلى الجغرافيا السياسية	٥ - ١٢
الوحدة الأولى : الدولة والجغرافيا السياسية	١٣ - ٢٤
الوحدة الثانية: المشكلات السياسية	٢٥ - ٣٢
الوحدة الثالثة: التكتلات السياسية والأحلاف العسكرية	٣٣ - ٤٣
الوحدة الرابعة: العلاقات الدولية والنظام الدولى الجديد	٤٤ - ٥٢
الاجابات:	٥٣ - ٨٧

مدخل إلى الجغرافيا السياسية

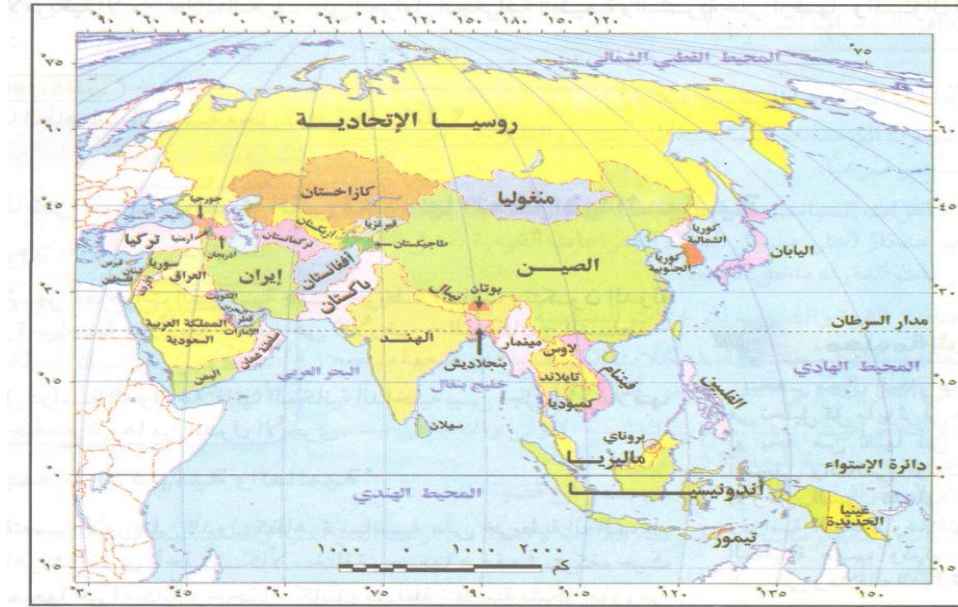
من المتوقع بعد دراسة " الوحدة التمهيدية " أن يكون الطالب قادراً على أن:-

- ١ - يعطى تعريفاً صحيحاً للمفاهيم الجغرافية الواردة بالوحدة " الجغرافيا السياسية - العلوم السياسية - المجال الحيوى للدولة " .
- ٢ - يوضح أهداف الجغرافيا السياسية.
- ٣ - يستنتج أهمية الجغرافيا السياسية.
- ٤ - يحدد مراحل تطور الجغرافيا السياسية والجيوبولتيك.
- ٥ - يوضح علاقة الجغرافيا السياسية بالعلوم الأخرى.
- ٦ - يعرف مجالات ونظريات الجغرافيا السياسية.
- ٧ - يفند الآراء التى نادت بها النظريات الاستراتيجية فى الجغرافيا السياسية.
- ٨ - يقدر دور الجغرافيا السياسية فى فهم قضايا ومشكلات العالم المعاصر.
- ٩ - يوضح الفروق التى طرأت على خريطة قارة آسيا والخريطة السياسية العالمية.
- ١٠ - يوضح النتائج المترتبة على التطور التكنولوجى فى علم الجغرافيا السياسية.

مدخل إلى الجغرافيا السياسية

السؤال الأول:-

أمامك خريطتين لقارة آسيا ادرسهما جيداً ثم وضح .....



خريطة (ت-٢): آسيا السياسية الآن



خريطة (ت-١): آسيا قبل تفكك الاتحاد السوفيتي

- ١ - التغيرات السياسية العالمية التى طرأت على خريطة العالم
- ٢ - لاحظ وسجل الفروق الواضحة التى طرأت على العالم فى الآونة الأخيرة



السؤال الثانى:-

بم تفسر ..... ؟

- ١ - أطلق على الجغرافيا السياسية اسم الطفل المولود خارج الحظيرة الجغرافية
- ٢ - يعد أرسطو أشهر مؤلفى الجغرافيا السياسية

السؤال الثالث:-

حدد أهمية الجغرافيا السياسية لكل من:-

- أ- رجال الأعمال      ب - الساسة      ج - الإعلاميين

السؤال الرابع:-

ما معنى المفاهيم الجغرافية التالية:-

- ١ - الجغرافيا السياسية
- ٢ - الدولة
- ٣ - الجيوبولتيك
- ٤ - المجال الحيوى
- ٥ - العولمة

السؤال الخامس:-

قارن بين كل من:-

الجغرافيا السياسية والجيوبولتيك من حيث المفهوم وسمات كل منهما

السؤال السادس:-

" تعد الجغرافيا السياسية وثيقة الصلة بالعلوم الأخرى "

فى ضوء العبارة السابقة أجب .....

- ١ - ما علاقة علم الجغرافيا السياسية بالعلوم الأخرى؟

السؤال السابع:-

تحدد أهداف الجغرافيا السياسية فى :-

- أ - .....
- ب - .....
- ج - .....

السؤال الثامن:-

ما النتائج المترتبة على:-

- ١ - تطور نظم المعلومات الجغرافية
- ٢ - التطور التكنولوجى ( بالنسبة للجغرافيا السياسية).

السؤال التاسع:-

فى القرن ١٩ تغيرت النظرة إلى الكرة الأرضية، وظهر فى كتابات الجغرافيين رصد للأنماط المكانية السياسية فى العالم.

فى ضوء العبارة السابقة أجب؟

- ١ - ما النظريات الاستراتيجية التى ظهرت فى الجغرافيا السياسية؟
- ٢ - انقد أى من هذه النظريات معبراً عن رأيك فيها؟

السؤال العاشر:-

مر علم الجغرافيا السياسية بالعديد من التطورات وقد أثرت فى مجالاتها .

فى ضوء العبارة السابقة أجب .....

- أ - قارن بين مجال علم الجغرافيا السياسية قديماً وفى الوقت الحاضر مدعماً رأيك بالتغيرات السريعة التى حدثت؟
- ب- اختر مجال من مجالات علم الجغرافيا السياسية فى الوقت الحاضر وانقده، مدعماً رأيك بمجالات أخرى تهتم بها الجغرافيا السياسية؟

السؤال الحادى عشر:-

ابحث فى الانترنت عن نظريات أخرى للجغرافيا السياسية مثل " نظرية القوى الجوية " وسجل ملاحظاتك للاستفادة منها؟

السؤال الثانى عشر:-

- ١ - ما المقصود بالمرئيات الفضائية؟
- ٢ - كيف أثر التطور التكنولوجى على تطور علم الجغرافيا السياسية؟
- ٣ - ما رأيك فى نظرية ما كيندر والتي تؤكد على أن القوة فقط يجب أن تتعاون؟

السؤال الثالث عشر

أكمل العبارات التالية

- ١ - علم العلاقات الدولية ينقسم إلى ..... ، ..... ، .....
- ٢ - أهم مجالات الجغرافيا السياسية ..... ، .....
- ٣ - الأمن المائى هو .....
- ٤ - يعتبر مؤتمر فرساي للسلام الذى انعقد فى ١٩١٩م خطوة جيدة لمجال علم .....

السؤال الرابع عشر :اختر الإجابة الصحيحة مما يلي:

- ١- العالم الذي فسر حركة التاريخ في ضوء الصراع بين قوي البر والبحر هو.....
  - أ- راتزل .
  - ب- الفرد ماهان .
  - ج- رودلف كيلين .
  - د- ماكيندر "

٢- ظهر مصطلح الجيوبولتيك لأول مرة علي يد .....

- أ- أرسطو .
- ب- ابن خلدون .
- ج- ماكيندر .
- د - رودلف كيلين .

٣- الجغرافيا السياسية هي أحد فروع الجغرافيا .....

- أ- الطبيعية .
- ب- البشرية .
- ج- الاجتماعية .
- د- الاقتصادية.

٤- وصلت الجغرافيا السياسية إلى قمة مجدها عام ١٩١٩م بعد عقد مؤتمر..... للسلام

- أ- فرساي .
- ب- لندن .
- ج- موسكو.
- د- واشنطن

٥- أشهر الظواهر السياسية علي خريطة العالم .....

- أ- التجمعات الإقليمية .
- ب- التجمعات العالمية .
- ج- الدولة.
- د- القوي الكبرى

السؤال الخامس عشر: بم تفسر...؟

- ١- يعتبر مجال سياسة النظام العالمي بالغ من أهم مجالات الجغرافيا السياسي.
- ٢- تتعدد أهداف الجغرافيا السياسية .
- ٣- ركزت نظرية ماكيندر علي أهمية القوات البرية في حسم المعارك في مختلف بقاع العالم .
- ٤- يعتبر راتزل المؤسس الحقيقي للجغرافيا السياسية .
- ٥- كان للعلماء المسلمين إسهامات عظيمة في مجال الجغرافيا السياسية .
- ٦- اهتمام الجغرافيين بالجغرافية السياسية قديماً.

السؤال السادس عشر: ضع علامة صح أو خطأ مع التفسير في الحالتين.

- ١- دراسة العلاقات السياسية بين الدول لم تكن محور اهتمام الجغرافيا السياسية قديماً.
- ٢- يعتبر رودلف كيلين هو المؤسس للجيوبولتيكا الألمانية.
- ٣- الجغرافيا السياسية تتسم بالتطور والحركة بينما علم الجيوبولتيك يميل إلى الثبات .
- ٤- تهتم الجغرافيا السياسية بتحليل الظواهر السياسية المختلفة تحليلاً فلكياً.
- ٥- الجغرافيا السياسية لها صلة وثيقة بعلم التاريخ

السؤال السابع عشر : ما المقصود ب .....

- ١- الجغرافيا السياسية .
- ٢- الاستشعار عن بعد .
- ٣- الجيوبولتيك

السؤال الثامن عشر: ما العلاقة بين كل من .....؟

- ١- الجغرافيا السياسية وعلم العلاقات الدولية .
- ٢- الجغرافيا السياسية وعلم الجغرافيا.
- ٣- الجغرافيا السياسية والعلوم السياسية .
- ٤- المربيات الفضائية ودارس الجغرافيا السياسية .
- ٥- نظم الاستشعار عن بعد وتطور علم الجغرافيا السياسية .
- ٦- سياسة النظام العالمي ومجالات الجغرافيا السياسية .

السؤال التاسع عشر: ما أوجه الشبه والاختلاف بين الجغرافيا السياسية والجيوبولتيك .

السؤال العشرون: ما النتائج المترتبة علي .....

- ١- تطور وسائل النقل الجوي والأقمار الصناعية .
- ٢- تطور وسائل الاتصالات وتكنولوجيا المعلومات .
- ٣- تأثير الثورة الصناعية علي الجغرافيا السياسية .

السؤال الحادى والعشرون : قارن بين كل مما يلي.

- ١- الجغرافيا السياسية - علم العلاقات الدولية.
- ٢- إسهامات أرسطو - ابن خلدون في مجال الجغرافيا السياسية.
- ٣- الجغرافيا السياسية - الجيوبولتيك.

السؤال الثانى والعشرون:

"تنوعت النظريات في مجال الجغرافيا السياسية معتمدة علي بعض الأسس والأفكار"

في ضوء العبارة وضح

- ١- ما أهم النظريات الإستراتيجية في الجغرافيا السياسية؟
- ٢- اختر أحد هذه النظريات ولخصها ؟
- ٣- ارسم شكل يوضح هذه النظرية.
- ٤- ما رأيك في هذه النظرية مؤيداً رأيك بدلائل؟

السؤال الثالث والعشرون:

"أضافت نظم الاستشعار عن بعد والخرائط الالكترونية إضافة هائلة لمختلف العلوم وخاصة الجغرافيا السياسية "

في ضوء العبارة وضح

- ١- ما أهمية نظم الاستشعار عن بعد والخرائط الالكترونية الجغرافيا السياسية؟
- ٢- من وجهة نظرك كيف يمكن الاستفادة منها في الجغرافيا السياسية؟
- ٣- ماذا يحدث إذا لم تستخدم الوسائل التكنولوجية في الجغرافيا السياسية ؟

## الوحدة الأولى

من المتوقع بعد انتهاء الطالب من دراسة الوحدة الأولى : " الدولة وجغرافيا السياسية " أن يكون الطالب قادر على أن:-

- ١ - يعطى تعريفاً صحيحاً للمفاهيم الجغرافية الواردة بالوحدة " الدولة - الأمة - الإقليم - عاصمة الدولة - نواة الدولة " .
- ٢ - يعطى أمثلة للعواصم ونواة الدولة.
- ٣ - يحدد مقومات الدولة الطبيعية والبشرية.
- ٤ - يوضح أوجه الشبه والاختلاف بين أنواع وأشكال الدولة وتأثيرها على قوة الدولة.
- ٥ - يفسر العلاقة بين مساحة الدولة وقوتها.
- ٦ - يحدد العلاقة بين التقدم الاقتصادى وقوة الدولة.
- ٧ - يحدد دور التقنيات الحديثة فى الحصول على معلومات جغرافية.
- ٨ - يحدد دور وأهمية الانتخابات كأداة للديمقراطية فى حياة الأمم والشعوب.
- ٩ - يكتب مقالاً من ١٠ أسطر عن أحقية الدول فى المحافظة على أمنها القومى.

السؤال الأول:-

اختر الإجابة الصحيحة من بين أ ، ب ، ج ، د لتكمل بها العبارات الآتية:-

١ - تسمى جماعة من البشر بينهم روابط مشتركة ويعيشون على قطعة أرض ب.....

أ - الدولة      ب- الإقليم      ج - الأمة      د - القبيلة

٢ - وحدة جغرافية مساحية لها حدود ومعايير علمية من قبل الجغرافيين .....

أ - الدولة      ب- الإقليم      ج - الأمة      د - القبيلة

٣ - من خصائص الأمة .....

أ - اللغة الواحدة      ب - الاتفاق عليها من قبل الجغرافيين

ج- الوحدة المركزية      د - الوحدة الكونفيدرالية

٤ - العامل الأكثر أهمية فى اختيار الخرطوم عاصمة للسودان هو ....

أ - العامل التاريخى      ب- سهولة المواصلات

ج - الحماية والدفاع      د - السيادة القومية

٥ - العامل الأكثر أهمية فى اختيار موسكو عاصمة لروسيا هو ....

أ - العامل التاريخى      ب- سهولة المواصلات

ج - الحماية والدفاع      د - السيادة القومية

السؤال الثانى

أ - وضح أوجه الشبه والاختلاف بين الأمة والدولة من حيث عناصر التكوين والسلطة والمساحة الجغرافية.

ب- وضح أوجه الشبه والاختلاف بين الدولة الوحدويه والدولة الاتحاديه المركبة.



### السؤال الثالث

اكتب كلمة صح أمام العبارات الصحيحة وكلمة خطأ أمام العبارات غير الصحيحة مع ذكر السبب فى الحالتين:

- ١ - تتميز الدولة الوندوية بوجود حكومة واحدة ومجلس نيابى واحد.
- ٢ - تتميز الدولة الاتحادية بتجانس سكانها عرقيا ودينيا وثقافياً.
- ٣ - تعتبر الولايات المتحدة الأمريكية مثالا جيدا للدولة الوندوية.
- ٤ - العامل الأكثر أهمية عند اختيار القاهرة عاصمة لمصر هو السيادة القومية.
- ٥ - العامل الأكثر أهمية عند اختيار أنقرة عاصمة لتركيا هو العامل التاريخى.

### السؤال الرابع

" العاصمة هى المدينة التى تستقر فيها حكومة الدولة وسلطاتها والسفارات والمؤسسات القومية"

فى ضوء العبارة السابقة، وضح

- ١ - أهم سمات العاصمة.
- ٢ - أهم تصنيف العواصم.
- ٣ - مقترحاتك لإنشاء عاصمة جديدة لمصر من حيث الموقع والموارد المتاحة.

### السؤال الخامس

اختر الإجابة الصحيحة من بين أ ، ب ، ج ، د لتكمل بها العبارات الآتية:-

- ١ - من المقومات الطبيعية للدولة .....
- أ - الشكل      ب- خصائص السكان      ج - الإنتاج الزراعى      د- الموارد المعدنية
- ٢ - من الدول التى لها واجهة بحرية واحدة دولة .....
- أ- المغرب      ب- فرنسا      ج - سوريا      د - أفغانستان

٣ - من الدول التى لها واجهتان بحريتان دولة .....

أ - تشيلى ب - فرنسا ج - أثيوبيا د - موريتانيا

٤ - من الدول الجزرية دولة .....

أ - المملكة العربية السعودية ب - المغرب ج - تشاد د - اليابان

٥ - من الدول الحبيسة فى قارة آسيا دولة .....

أ - إيران ب - باكستان ج - أفغانستان د - بنجلاديش

#### السؤال السادس

اكتب كلمة صح أمام العبارة الصحيحة وكلمة خطأ أمام العبارة غير الصحيحة مع ذكر السبب فى الحالتين مما يأتى -

١ - يؤثر الموقع الفلكى فى قوة الدولة.

٢ - يعتبر موقع الدولة الحبيسة أفضل من موقع الدول الجزرية.

٣ - من الدول الأفريقية كثيرة الجيران دولة المغرب.

٤ - من الدول الآسيوية كثيرة الجيران دولة الصين.

٥ - تساهم المساحة الكبيرة للدولة فى قوتها.



### السؤال السابع

أمامك خريطة أفريقيا السياسية ادرسها

جيدا ثم استخرج منها:-

- ١ - الدول الحبيسة.
- ٢ - دول تشرف بواجهتين بحريتين.
- ٣ - دول جزرية.
- ٤ - أقل الدول وأكثرها من حيث عدد الدول المجاورة.
- ٥ - وضح أسباب تفضيلك لإحدى الدول الأفريقية على الدول الأخرى.

### السؤال الثامن

قارن بين دولة كبيرة المساحة ودولة صغيرة المساحة من حيث:-

- أ- حجم الموارد وتنوعها.
- ب- عدد السكان وتوزيعهم.
- ج- النظم الاقتصادية السائدة.
- د - سهولة الاتصال بكافة أرجاء الدولة.

### السؤال التاسع

ما النتائج المترتبة على:-

- ١ - الموقع البحرى الجيد للدولة.
- ٢ - وقوع الدولة فى دوائر عرض متعددة.
- ٣ - وجود قناة السويس داخل مصر.
- ٤ - ممرات سيناء الجبلية.

### السؤال العاشر

" تشغل الدولة مساحة من الأرض يحدها حدود سياسية واضحة ومعتترف بها "

فى ضوء العبارة السابقة وضح

- ١ - أثر المساحة على الدولة فى السلم والحرب.
- ٢ - العوامل المحددة لأهمية مساحة الدولة.
- ٣ - الدولة التى تفضل أن تعيش بها ولماذا؟

السؤال الحادى عشر

" تختلف أشكال الدول إلى شكل مندمج أو ذات بروز ومستطيل ومجزأ ومحتوى "

فى ضوء العبارة السابقة وضح

- ١ - مزايا الشكل المندمج.
- ٢ - عيوب الشكل المستطيل.
- ٣ - عيوب الشكل المحتوى.

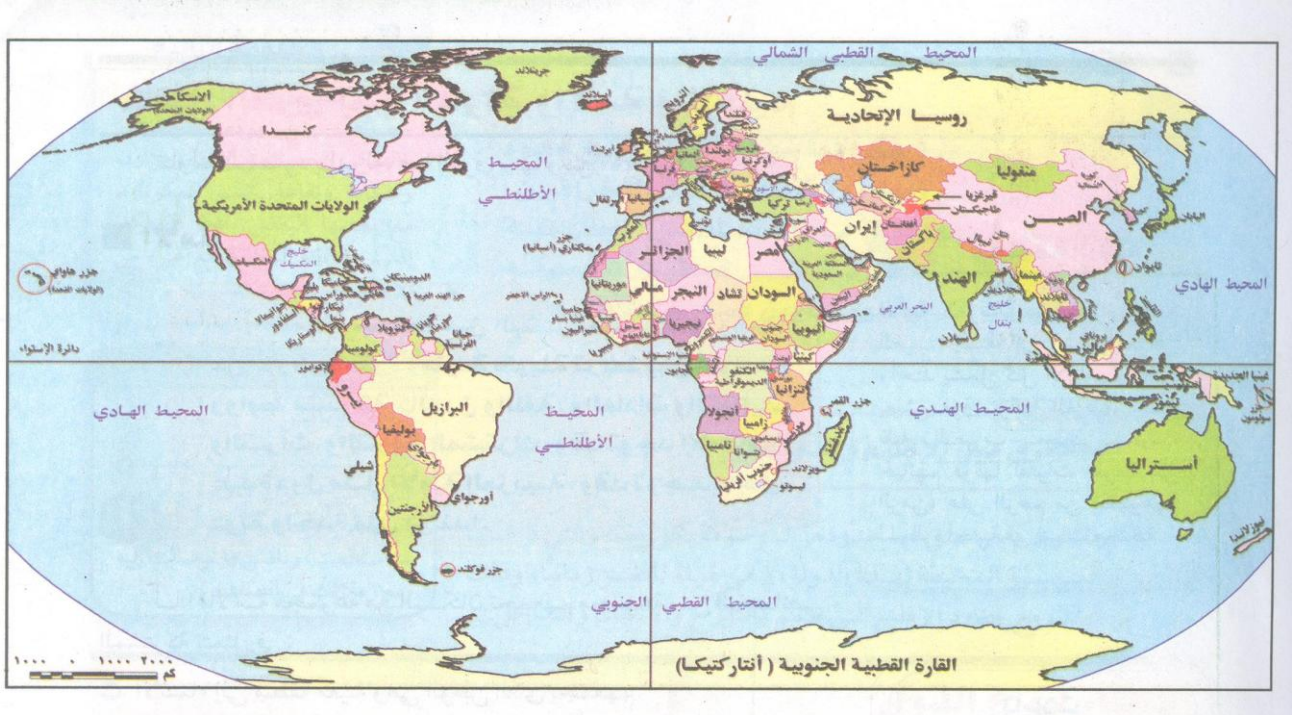
السؤال الثانى عشر

اختر الإجابة الصحيحة من بين أ ، ب ، ج ، د لتكمل بها العبارات الآتية:-

- ١ - من الدول عملاقة المساحة .....  
أ - السودان      ب- روسيا      ج - سلطنة عمان      د - بريطانيا
- ٢ - من الدول صغيرة المساحة التى استولت عليها ألمانيا فى الحرب العالمية الثانية دولة ....  
أ - بريطانيا      ب- باكستان      ج - ليبيا      د - هولندا
- ٣ - من دول الشكل المندمج .....  
أ - فرنسا      ب - إيطاليا      ج - الأرجنتين      د - تركيا
- ٤ - من دول الشكل المستطيل ( النحيل ) .....  
أ - مصر      ب - السودان      ج - إيطاليا      د - الكونغو
- ٥ - من أشكال الدول البحرية المجزأة دولة .....  
أ - الأرجنتين      ب - مصر      ج - إندونيسيا      د - الكونغو

### السؤال الثالث عشر

أمامك خريطة العالم السياسية ادرسها جيدا ثم وضع:-



- ١ - أمثلة للدول ذات الشكل المندمج.
- ٢ - أمثلة للدول ذات الشكل ذو البروز.
- ٣ - أمثلة للدول ذات الشكل المستطيل.
- ٤ - أمثلة للدول ذات الشكل المجزأ.
- ٥ - أمثلة للدول ذات الشكل المتحوى.

### السؤال الرابع عشر

اكتب كلمة صح أمام العبارات الصحيحة وكلمة خطأ أمام العبارات غير الصحيحة مع ذكر السبب فى الحالتين:

- ١ - من أمثلة الدول البرية المجزأة دولة بريطانيا.
- ٢ - من أمثلة الدول ذات الشكل المحتوى دولة بنسوانا.
- ٣ - يزيد المناخ المعتدل من قوة الدولة.

٤ - يزيد المناخ المتطرف من قوة الدولة.

٥ - من الدول البرية البحرية المجزأة دولة اليابان.

#### السؤال الخامس عشر

بم تفسر .... ؟

١ - أثر التضاريس فى توزيع سكان الدولة.

٢ - دور النبات الطبيعى فى الدولة.

#### السؤال السادس عشر

اكتب كلمة صح أمام العبارات الصحيحة وكلمة خطأ أمام العبارات غير الصحيحة مع ذكر السبب فى الحالتين:

١ - تحتاج الدول ذات حجم السكان الكبير إلى استقدام عمالة أجنبية.

٢ - يعتبر الدين عاملاً من عوامل التجانس السكانى للدولة.

٣ - تنخفض نسبة الأطفال فى الدول النامية.

٤ - تؤثر الهجرة سلباً على اقتصاديات الدول النامية.

٥ - تعد الحبوب الغذائية من متطلبات الأمن القومى.

#### السؤال السابع عشر

" لحجم السكان الكبير للدولة مزايا وسلبات كثيرة "

فى ضوء العبارة السابقة وضح:-

١ - مميزات الحجم الكبير للسكان.

٢ - سلبات الحجم الكبير للسكان

٣ - أثر حجم سكان الدولة فى المجال الاقتصادى.



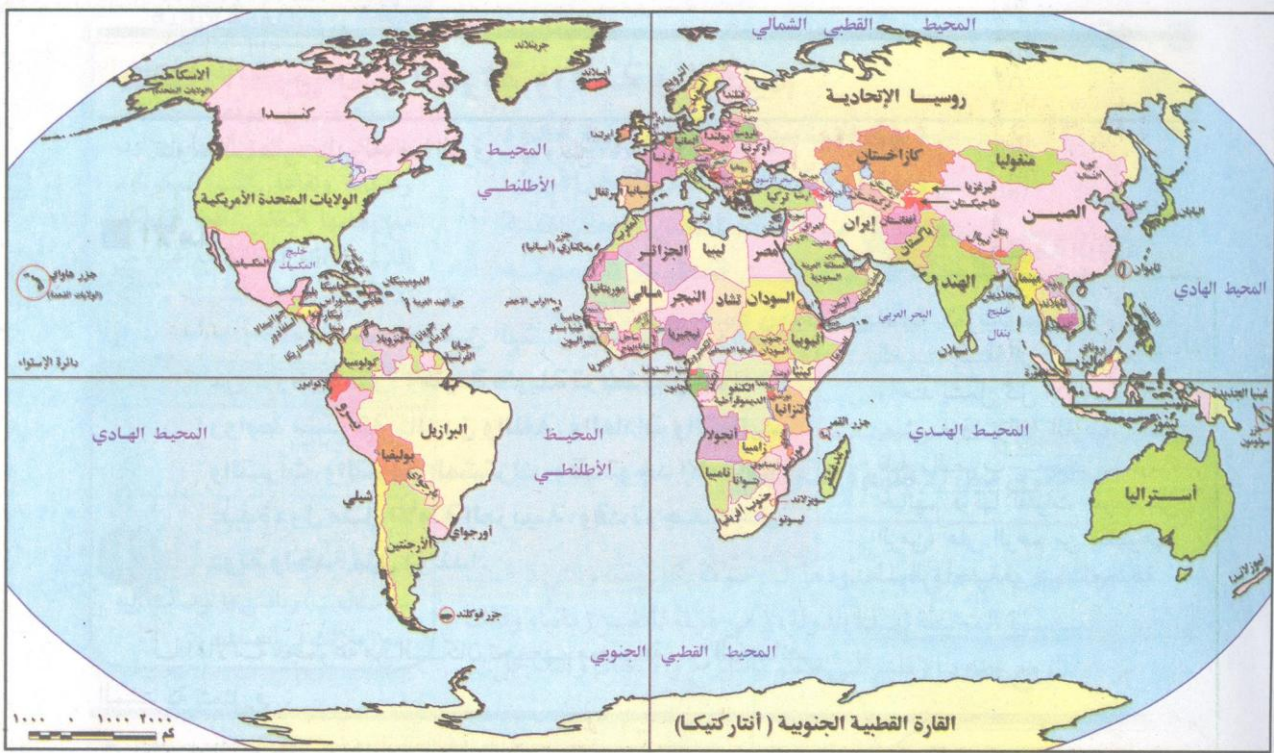
## السؤال الثامن عشر

بم تفسر ..... ؟

- ١ - أهمية البحث العلمى فى حياة الأمم فى الوقت الحاضر.
- ٢ - اعتراف بعض الدول بحرية الأقليات فى لغتهم.
- ٣ - صعوبة احتلال دول ذات حجم سكاني كبير.

## السؤال التاسع عشر

على خريطة العالم السياسية وضح .....



- ١ - دول ذات حجم سكاني كبير.
- ٢ - دول ذات حجم سكاني صغير.

### السؤال العشرون

ما النتائج المترتبة على ..... ؟

- ١ - وجود الموارد المعدنية فى الدولة.
- ٢ - الاكتفاء الذاتى من الموارد الزراعية.
- ٣ - وجود نظام نقل متطور فى الدولة.

### السؤال الواحد والعشرون

" تقوم الدولة على الشعب والوطن والموقع الجغرافى ومساحتة وموارده ونظامه السياسى "

فى ضوء العبارة السابقة وضح :-

- ١ - المقصود بقوة الدولة.
- ٢ - أهم عناصر قوة الدولة.
- ٣ - صعوبة قياس قوة الدولة.

### السؤال الثانى والعشرون

اكتب كلمة صح أمام العبارات الصحيحة وكلمة خطأ أمام العبارات غير الصحيحة مع ذكر السبب فى الحالتين:

- ١ - يمثل عدد أفراد جيش الدولة مؤشراً على قوتها.
- ٢ - تعنى زيادة السكان زيادة قوة الدولة.
- ٣ - لمساحة وشكل الدولة دور كبير فى قوة الدولة.
- ٤ - يمثل تركيز السكان فى مناطق معينة من الدولة خطراً على سلامتها.



### السؤال الثالث والعشرون

ما النتائج المترتبة على ..... ؟

١ - ارتفاع نسبة البطالة بين سكان الدولة.

٢ - القوة التنظيمية للدولة.

### السؤال الرابع والعشرون

بم تفسر ..... ؟

١ - أهمية نظام الانتخابات بالدولة.

٢ - اعتماد أنظمة الحكم الديمقراطية على مبدأ الفصل بين السلطات.

### السؤال الخامس والعشرون

أ - وضح أوجه الشبه والاختلاف بين السلطتين التشريعية والتنفيذية فى النظام الرئاسى.

ب - قارن بين نظام الترشيح الفردى ونظام الترشيح بالقوائم.

### السؤال السادس والعشرون

أختر الإجابة الصحيحة من بين أ ، ب ، ج ، د لتكمل بها العبارات الآتية:-

١ - نظام اجتماعى يقوم بأدوار تحقيق الأمن الداخلى والخارجى والمصالح العامة .....

أ - نظام الانتخابات ب - النظام السياسى

ج - النظام الرئاسى د - النظام البرلمانى

٢ - تسعى أنظمة الحكم الديمقراطية إلى .....

أ - تطبيق النظام البرلمانى ب - تطبيق النظام الرئاسى

ج - توزيع عادل للسلطة د - تحديد أدوار الوزارات المختلفة

٣ - من الدول التى تعتمد النظام شبه الرئاسى.....

أ - الولايات المتحدة الأمريكية ب - روسيا

ج - بريطانيا د - فرنسا

٤ - من الدول التى تعتمد النظام البرلمانى .....

- أ - بريطانيا  
ب - فرنسا  
ج - الصين  
د - مصر

٥ - من الدول التى تعتمد النظام الرئاسى .....

- أ - الولايات المتحدة الأمريكية  
ب - اليابان  
ج - بريطانيا  
د - فرنسا

#### السؤال السابع والعشرون

بم تفسر ..... ؟

- ١ - لا يوجد نظام حكم مثالى.  
٢ - يتميز النظام الرئاسى بسمات تميزه عن غيره من أنظمة الحكم الأخرى.

#### السؤال الثامن والعشرون

" اجتمع رؤساء الاتحادات الأهلية لكرة القدم فى فبراير ٢٠١٦م لتحديد الرئيس الجديد للفيفا "

فى ضوء هذه العبارة.

- ١ - رتب العناصر الآتية تصاعدياً  
( فرز أصوات الناخبين - إجراء الانتخابات - تحديد الفائز - الترشح للانتخابات - تحديد كشوف الناخبين )  
٢ - ما الشروط الواجب توافرها لإجراء الانتخابات  
٣ - فى رأيك : ما النظام الذى تقترحه لإجراء الانتخابات فى مصر؟

## الوحدة الثانية

### المشكلات السياسية

من المتوقع بعد انتهاء الطالب من دراسة " الوحدة الثانية " المشكلات السياسية " أن يكون الطالب قادر على أن:-

- ١ - يعطى تعريفاً صحيحاً للمصطلحات الجغرافية الآتية ( الحدود السياسية - الحدود التالية - الحدود المنطبعة - المشكلات السياسية - المياه الإقليمية - المياه التكميلية - المياه المحايدة - أعالي البحار - الرصيف القارى - الأقليات - الهجرة غير الشرعية - الهجرة الدولية )
- ٢ - يقارن بين التخوم والحدود.
- ٣ - يستنتج أهمية الحدود للدولة.
- ٤ - يميز بين أنواع الحدود.
- ٥ - يوقع على خريطة العالم الحدود الطبيعية ( جبلية - مائية ) ويحدد مشكلاتها.
- ٦ - يحدد العلاقة بين الاستعمار ووجود بعض المشكلات السياسية ( سبته ومليلة - كشمير ).
- ٧ - يميز بين المياه الإقليمية والدولية والمحايدة.
- ٨ - يحدد مبادئ تحديد المياه الإقليمية فى بعض دول العالم.
- ٩ - يفسر الحاجة لاتفاقات المياه على طول الأنهار الدولية.
- ١٠ - يحدد بعض المشكلات المرتبطة بخطوط تقسيم المياه.
- ١١ - يتتبع مشكلات بعض الأنهار.
- ١٢ - يحدد المشكلات التى ترتبت على الهجرة الدولية.
- ١٣ - يحدد دور الهجرة فى الصراعات السياسية المعاصرة.
- ١٤ - يقدر دور الجغرافيا السياسية فى فهم قضايا ومشكلات العالم السياسية.

السؤال التاسع والعشرون

اختر الإجابة الصحيحة من بين أ ، ب ، ج ، د لتكمل بها العبارات الآتية:-

- ١ - السبب الرئيسى لنشأة الحدود السياسية فى أفريقيا السمراء هو .....  
أ - زيادة عدد السكان  
ب - الحاجة إلى تنمية المناطق الهامشية  
ج - المعاهدات الموقعة بين الدول  
د - تصفية الاستعمار لمستعمراته
- ٢ - السبب الرئيسى لنشأة الحدود السياسية فى أوروبا هى .....  
أ - زيادة عدد السكان  
ب - الحاجة إلى تنمية المناطق الهامشية  
ج - المعاهدات الموقعة بين الدول  
د - الحروب
- ٣ - تعتبر الحدود بين الهند وباكستان حدود .....  
أ - سابقة  
ب - تالية  
ج - منطبعة  
د - هندسية
- ٤ - تعتبر الحدود بين دولتى كوريا حدود .....  
أ - سابقة  
ب - تالية  
ج - منطبعة  
د - طبيعية
- ٥ - تعتبر الحدود بين أريتريا وأثيوبيا حدود .....  
أ - سابقة  
ب - تالية  
ج - منطبعة  
د - طبيعية

### السؤال الثلاثون

" ظهرت الحدود السياسية كمرحلة بديلة للتخوم التى كانت موجوده من قبل "

فى ضوء العبارة السابقة وضح

- ١ - المقصود بالتخوم.
- ٢ - المقصود بالحدود السياسية.
- ٣ - أوجه الشبه والاختلاف بين التخوم والحدود.

### السؤال الواحد والثلاثون

اكتب كلمة صح أمام العبارة الصحيحة وكلمة خطأ أمام العبارة غير الصحيحة مع ذكر السبب فى الحالتين:

- ١ - كانت الجبال والغابات بمثابة تخوم فاصلة بين دول أوروبا.
- ٢ - للمعاهدات الموقعة بين الدول تأثير فى ترسيم الحدود السياسية.
- ٣ - تتحدد وظائف الحدود السياسية فى الحماية والأمن.
- ٤ - تلعب الحدود السياسية دوراً فى الفصل بين الدول.

### السؤال الثانى والثلاثون

بم تفسر .....

- ١ - من وظائف الحدود السياسية الحماية الاقتصادية للدول.
- ٢ - تغيير الحدود السياسية لبعض الدول.

### السؤال الثالث والثلاثون

ما النتائج المترتبة على ..... ؟

- ١ - الزيادة السكانية (على نشأة الحدود السياسية).
- ٢ - استقلال الدول الأفريقية (على الحدود السياسية).
- ٣ - اختراع الطائرات والصواريخ (على وظيفة الحد الأمن).

### السؤال الرابع والثلاثون

اكتب كلمة صح أمام العبارة الصحيحة وكلمة خطأ أمام العبارة غير الصحيحة مع ذكر السبب فى الحالتين:

- ١ - تعتبر الحدود بين الهند والصين حدود حضارية.
- ٢ - تعتبر الحدود بين شيلي والأرجنتين حدود طبيعية.
- ٣ - تفصل جبال البرانس بين إسبانيا والبرتغال.
- ٤ - من مميزات اتخاذ الأنهار حدوداً سياسية تمتعها بالاستقرار.
- ٥ - يعتبر الحد السياسى بين مصر والسودان حداً طبيعياً.

### السؤال الخامس والثلاثون

أ - ما المقصود بالمفاهيم الآتية:-

- |                      |                      |                     |
|----------------------|----------------------|---------------------|
| ١ - المياه الإقليمية | ٢ - المشكلة السياسية | ٣ - المياه الداخلية |
| ٤ - المياه التكميلية | ٥ - الرصيف القارى.   |                     |

ب- بم تفسر .....

- ١ - وجود مشكلات مترتبة على اتخاذ الأنهار كحدود سياسية.
- ٢ - معظم حدود مصر حدود هندسية.

### السؤال السادس والثلاثون

اختر الإجابة الصحيحة من بين أ ، ب ، ج ، د لتكمل بها العبارات الآتية:-

- ١ - تم تقسيم الحدود فى أوروبا بعد الحرب العالمية الأولى على أساس.....  
أ - هندسى      ب - الدين      ج - اللغة      د - العرق
- ٢ - تم تحديد الحدود السياسية بين الهند وباكستان على أساس.....  
أ - هندسى      ب - الدين      ج - اللغة      د - العرق
- ٣ - ظهر الاستقطاب العالمى بين الكتلة الشيوعية والكتلة الرأسمالية فى.....  
أ - النصف الأول من القرن التاسع عشر      ب - النصف الثانى من القرن التاسع عشر  
ج - النصف الأول من القرن العشرين      د - النصف الثانى من القرن العشرين
- ٤ - بنهاية القرن العشرين تم حل حلف.....  
أ - بغداد      ب - وارسو      ج - شمال الأطلسى      د - المحيط الهادى
- ٥ - تقع مشكلة كشمير بين.....  
أ - الهند والصين      ب - الهند ونيبال      ج - الصين وباكستان      د - الهند وباكستان

### السؤال السابع والثلاثون

" تظهر بعض النزاعات على الحدود السياسية بين بعض الدول "

فى ضوء هذه العبارة وضح

- ١ - المتغيرات التى أثرت على خريطة العالم السياسية من وجهة نظرك.
- ٢ - أهم المشكلات السياسية فى آسيا وأفريقيا.
- ٣ - من وجهة نظرك، كيف يمكن تلافى المشكلات على الحدود السياسية فى العالم.

### السؤال الثامن والثلاثون

بم تفسر ..... ؟

- ١ - أهمية إقليم كشمير .
- ٢ - أهمية سبته ومليلة .

### السؤال التاسع والثلاثون

على خريطة العالم الصماء وضع عليها ..... ؟

- ١ - إقليم كشمير
- ٢ - مدينتى سبته ومليلة .
- ٣ - نماذج من أماكن يسبب فيها الرعاة بعض المشكلات .

### السؤال الأربعون

ما النتائج المترتبة على ..... ؟

- ١ - استحداث المياه التكميلية .
- ٢ - وجود جزيرتى ( جربة وكرناح ) على تقسيم الحدود الليبية التونسية .

### السؤال الواحد والأربعون

" يتفاوت تحديد عرض المياه الإقليمية فى دول العالم بين ٣ أميال إلى ٣٠٠ ميل بحرى "

فى ضوء العبارة السابقة وضح

- ١ - الأسباب التى على أساسها بدأت الدول تحديد المياه الإقليمية بـ ٣ ، ٤ أميال .
- ٢ - الأسباب التى تدفع ببعض الدول إلى اعتماد ٣٠٠ ميل بحرى كحد للمياه الإقليمية .
- ٣ - أهمية وجود اتفاقيات لتحديد المياه الإقليمية والدولية .



### السؤال الثانى والأربعون

اكتب كلمة صح أمام العبارة الصحيحة وكلمة خطأ أمام العبارة الخطأ مع ذكر السبب فى الحالتين:

- ١ - وظيفة الحد المائى لاتقل أهمية عن الحد البرى.
- ٢ - تعتبر الأنهار الدولية خارج نطاق النزاعات.
- ٣ - يعتبر الحد البحرى للدولة جزء من النطاق الإقليمى للدولة الساحلية.
- ٤ - توجد مؤسسات دولية تهتم بالتعاون الدولى لمواجهة المشكلات الاقتصادية.

### السؤال الثالث والأربعون

قارن بين كل من:-

- ١ - الأنهار المحلية - الأنهار الدولية.
- ٢ - معاهدة باريس ١٨٥٦ - اتفاقية برشلونه ١٩٢١.

### السؤال الرابع والأربعون

بم تفسر ..... ؟

- ١ - التنوع اللغوى والعرقى فى الولايات المتحدة الأمريكية.
- ٢ - حدوث الهجرة الإجبارية.
- ٣ - التفرقة العنصرية كمثال بشع للتمييز ضد الأقليات.

### السؤال الخامس والأربعون

اختر الإجابة الصحيحة من بين أ ، ب ، ج ، د لتكمل بها العبارات الآتية:-

- ١ - مارست الأغلبية تفرقة عنصرية ضد الأقلية فى دولة .....
- أ - جنوب أفريقيا
- ب - البرازيل
- ج - المكسيك
- د - الولايات المتحدة الأمريكية

- ٢ - مارست الأقلية تفرقة عنصرية ضد الأغلبية فى .....  
أ - جنوب أفريقيا ب - البرازيل  
ج - المكسيك د - الولايات المتحدة الأمريكية
- ٣ - تشكل بعض الأقليات خطراً على استقرار الدولة مثل إقليم .....  
أ - سبته ومليلة ب - الباسك  
ج - كشمير د - جنوب أفريقيا
- ٤ - من أمثلة الهجرة الإجبارية فى النصف الثانى من القرن العشرين .....  
أ - تهجير الزنوج إلى الولايات المتحدة الأمريكية  
ب - تهجير أهالى النوبة من جنوب أسوان  
ج - تهجير الهنود الحمر فى أمريكا الشمالية  
د - الهجرة غير الشرعية عبر البحر المتوسط
- ٥ - يهاجر الفلسطينيون خارج أرضهم بسبب .....  
أ - إغراءات الدول المتقدمة ب - عدم وجود فرص عمل حقيقية  
ج - الاضطهاد السياسى والدينى والعرقى د - رغبتهم فى تحسين الأحوال الاقتصادية

#### السؤال السادس والأربعون

##### على خريطة العالم وقع عليها

أماكن المشكلات الآتية:-

- ١ - مشكلة إقليم الباسك.  
٢ - تيمور الشرقية.  
٣ - فلسطين.

#### السؤال السابع والأربعون

ما النتائج المترتبة على كل من .....

- ١ - الحرب الأهلية فى السودان.  
٢ - تفكك الاتحاد السوفيتى.  
٣ - الاضطهاد السياسى والدينى والعرقى ضد فئة من السكان.

#### السؤال الثامن والأربعون

- أ - ما العلاقة بين حجم الأقلية وقوتها الاقتصادية؟  
ب - ماذا يحدث إذا كانت الأقلية مركزه جغرافيا فى مكان ما بالدولة.

### التكتلات الاقتصادية والأحلاف العسكرية

من المتوقع بعد إنتهاء الطالب من دراسة " الوحدة الثالثة " التكتلات الاقتصادية والأحلاف العسكرية  
أن يكون الطالب قادر على أن:-

- ١ - يعطى تعريفاً صحيحاً للمصطلحات الجغرافية الآتية ( التكتلات الاقتصادية والأحلاف العسكرية )
- ٢ - يحدد أهم مراحل ومقومات التكتلات على الساحة العالمية والإقليمية.
- ٣ - يعدد نماذج التكتلات الاقتصادية المختلفة.
- ٤ - يحدد أهداف الأحلاف العسكرية فى العالم.
- ٥ - يستنتج دور الأحلاف العسكرية فى حفظ السلام العالمى.
- ٦ - يحدد دور المنظمات الدولية فى حل النزاعات والمشكلات العالمية.

الدرس الأول: التكتلات الاقتصادية (مفهومها ومقوماتها وأهدافها)

السؤال الأول: ( أ ) اختر الإجابة الصحيحة مما بين القوسين :

- ١- أول من ساهم فى قيام التكتلات الاقتصادية .....
- ( أفريقيا - آسيا - أوربا - أمريكا الجنوبية ).
- ٢- يطلق على منطقة التجارة لأمريكا الشمالية اسم ....
- ( الفاو - الأوبك - الناftا - اليونسكو ).
- ٣- اتفاقية تحول بسببها السوق الأوروبية إلى اتحاد أوروبي .....
- ( الناftا - الكوميسا - جنيف - ماستريخت )
- ٤- يطلق على منتدى التعاون الاقتصادي لدول آسيا والمحيط الهادى اسم .....
- ( الكوميسا - أبك - كامب ديفيد - فرساي )
- ٥- السوق المشتركة لدول شرق وجنوب أفريقيا تسمى .....
- ( الكوميسا - أبك - كامب ديفيد - فرساي )

السؤال الثاني : ضع علامة ( √ ) أو علامة ( × ) أمام ما يناسبها من العبارات مع ذكر السبب:

- ١- التكتلات الاقتصادية ظاهرة قديمة النشأة ( )
- ٢- تعد دول آسيا أول من ساهم في نشأة التكتلات الاقتصادية ( )
- ٣- الحجم السكاني المناسب في دول التكتل الاقتصادي عنصر أساسي في قيامه ( )
- ٤- المقومات العسكرية عامل أساسي في نشأة التكتلات الاقتصادية ( )
- ٥- البنية الأساسية تمثل شريان التكتل الاقتصادي ( )
- ٦- يقوم التكامل الاقتصادي على التشابه في الموارد بين الدول . ( )
- ٧- المقومات الاقتصادية الأولية والاقتصادية تدفع وتشجع قيام التكتلات الاقتصادية ( )

(السؤال الثالث) : ( أ ) بم تفسر :

- ١- بقاء التكتلات الاقتصادية مشروط ببقاء الإرادة لدول التكتل.
- ٢- شعوب أوروبا أول من ساهم في نشأة التكتلات الاقتصادية.
- ٣- اختلاف الموارد الاقتصادية للدول حافزا لقيام التكامل الاقتصادي.
- ٤- لابد من وجود قوة عسكرية لضمان استمرار التكتلات الاقتصادية.
- ٥- اندماج الدول فى تكتل اقتصادي من ضروريات العصر الحالي.
- ٦- قيام التكتلات الاقتصادية الدولية.
- ٧- تتعدد مقومات قيام التكتلات الاقتصادية .
- ٨- أهمية المقومات البشرية والتكنولوجية فى قيام التكتلات الاقتصادية.

(ب) ما النتائج المترتبة على : - قيام تكتلات اقتصادية ناجحة.

السؤال الرابع: ( أ ) " التكتلات الاقتصادية ظاهرة حديثة خاصة بعد الحرب العالمية الثانية " فى ضوء العبارة وضح :

- (١) ما المقصود : التكتلات الاقتصادية.
- (٢) ما أهم : السمات المشتركة للتكتلات الاقتصادية الناجحة.
- (٣) ما رأيك مع التأييد بالأدلة : يمكن للدول العربية إقامة تكتل اقتصادي عربي.
- (٤) أيد بالأدلة : توجد العديد من الإجراءات لتحقيق التكامل الاقتصادي بين الدول.
- (٥) وضع العلاقة بين : الخصائص الثقافية للدول - ونشأة التكتلات الاقتصادية.
- (٦) ما نتائج : عدم التماثل بين دول التكتل فى أنظمتها السياسية .
- (٧) أذكر أمثله لتكتل اقتصادي عربي ناجح .

(ب) اكتب ماتدل عليه الأرقام فى خريطة العالم السياسية :



١ - المحيط .....

٢ - دولة .....

٣ - دولة .....

٤ - دولة .....

## الدرس الثانى: نماذج من التكتلات الاقتصادية

### السؤال الأول: (أ) اختر الإجابة الصحيحة مما بين القوسين :

- ١- مر تكوين الاتحاد الأوربي بعدة مراحل بلغ عددها .....  
( ثلاثة - أربعة - خمسة - تسعة )
- ٢- معاهدة ١٩٥٧م تحول بموجبها الجماعة الأوربية للفحم والصلب إلى السوق الأوربية المشتركة  
( النافتا - جنيف - ماستريخت - روما )
- ٣- معاهدة ١٩٩٢م تحول بموجبها السوق الأوربية المشتركة إلى الاتحاد الأوربي ....  
( روما - النافتا - جنيف - ماستريخت )
- ٤ - يعد أضخم الأسواق الداخلية ويضم ٢٨ دولة هو الاتحاد .....  
( الكوميسا - أبك - النافتا - الأوربي )
- ٥- الجماعة الأوربية للفحم والصلب كانت تضم دول أوربية عددها .....  
( ثلاثة - أربعة - خمسة - ستة )
- ٦- آخر الدول الأوربية التى انضمت إلى الاتحاد الأوربي ٢٠١٣ م.  
( إيطاليا - كرواتيا - فرنسا - لكسمبورج )
- ٧- قمة أجهزة اتحاد الدول الأوربية .....  
( البرلمان الأوربي- مجلس الاتحاد الأوربي - المفوضية الأوربية - المجلس الأوربي )
- ٨- الجهة الرئيسية لاتخاذ القرارات داخل الاتحاد الأوربي .....  
( البرلمان الأوربي- مجلس الاتحاد الأوربي - المفوضية الأوربية - المجلس الأوربي )
- ٩- أكبر دول الاتحاد الأوربي سكانا .....  
( هولندا - إيطاليا - ألمانيا - مالطة )

- ١٠- أصغر دول الاتحاد الأوربي سكانا .....  
( هولندا - مالطة - ألمانيا - إيطاليا )
- ١١- أنشئ مجلس التعاون الخليجي عام ١٩٨١ م بمدينة .....  
( مسقط - أبو ظبي - الدوحة - المنامة ).
- ١٢- المقر الدائم لمجلس التعاون الخليجي بمدينة .....  
( مسقط - أبو ظبي - الرياض - المنامة ).
- ١٣- يتكون مجلس التعاون الخليجي من عدة دول عددها .....  
( أربعة - خمسة - ستة - سبعة ).
- ١٤- الجهاز التنفيذي لمجلس التعاون الخليجي ويتولى تعيين الأمناء المساعدين .....  
( المجلس الأعلى - المجلس الوزاري - الأمانة العامة - المجلس الرئاسي ).
- ١٥- الهيئة الإدارية المركزية الثابتة مجلس التعاون الخليجي ويهتم بالتنسيق والتخطيط .....  
( المجلس الأعلى - المجلس الوزاري - الأمانة العامة - المجلس الرئاسي ).
- ١٦- السلطة العليا لمجلس التعاون الخليجي ويتولى التصديق عل الميزانية .....  
( المجلس الأعلى - المجلس الوزاري - الأمانة العامة - المجلس الرئاسي ).
- السؤال الثاني : ضع علامة ( √ ) أو علامة ( × ) أمام ما يناسبها من العبارات مع ذكر السبب:**

- ١- تتعدد الثقافات واللغات بين سكان دول الاتحاد الأوربي ( )
- ٢- من حق المجلس الأوربي تقديم اقتراحات بقوانين إلى البرلمان الأوربي ( )
- ٣- يتكون مجلس الاتحاد الأوربي من رؤساء الدول ورؤساء الحكومات في الاتحاد ( )
- ٤- تعد المفوضية الأوربية الجهاز التنفيذي للاتحاد الأوربي ( )
- ٥- تشترك المفوضية الأوربية مع البرلمان في إصدار قوانين الاتحاد الأوربي ( )
- ٦- يحدد البرلمان الأوربي اتجاه وأولويات السياسة العامة للاتحاد الأوربي ( )
- ٧- يسعى الاتحاد الأوربي ليكون على رأس النظام الاقتصادي العالمي ( )
- ٨- تسود اللغة الفرنسية معظم دول الاتحاد الأوربي ( )

(السؤال الثالث) : ( أ ) بم تفسر :



١- نشأة الجماعة الأوربية للفحم والصلب ١٩٥١م

٢- وضع الاتحاد الأوربي شروط أمام الدول الأوربية للانضمام إليه.

٣- أهمية المفوضية الأوربية لدول الاتحاد الأوربي.

٥- يتميز سكان مجلس التعاون الخليجي بخصائص مشتركة.

السؤال الرابع: " الاتحاد الأوربي تكتلات اقتصادي فى ظاهره ، غير أنه قائم على مؤسسات فريدة تعكس

نضج التجربة " .... فى ضوء العبارة وضح :

(١) ما أهداف : الاتحاد الأوربي .

(٢) ما أهم : الركائز التي يقوم عليها الاتحاد الأوربي.

(٣) ما رأيك مع التأييد بالأدلة : تبنى الاتحاد الأوربي شروط أمام الدول الأوربية للانضمام إليه.

(٤) أيد بالأدلة : مر تكوين الاتحاد الأوربي بعدة مراحل.

(٥) وضح العلاقة بين : مجلس الاتحاد الأوربي - والبرلمان الأوربي.

السؤال الخامس : " مجلس التعاون الخليجي منظمة عربية سياسية واقتصادية " .....

فى ضوء العبارة وضح :

(١) ما أهداف : مجلس التعاون الخليجي.

(٢) وضح العلاقة بين : قوات درع الجزيرة المشتركة ، والحرب العراقية الإيرانية (١٩٨١-١٩٨٨م).

(٣) أيد بالأدلة : تتعدد أنشطة وأجهزة مجلس التعاون الخليجي.

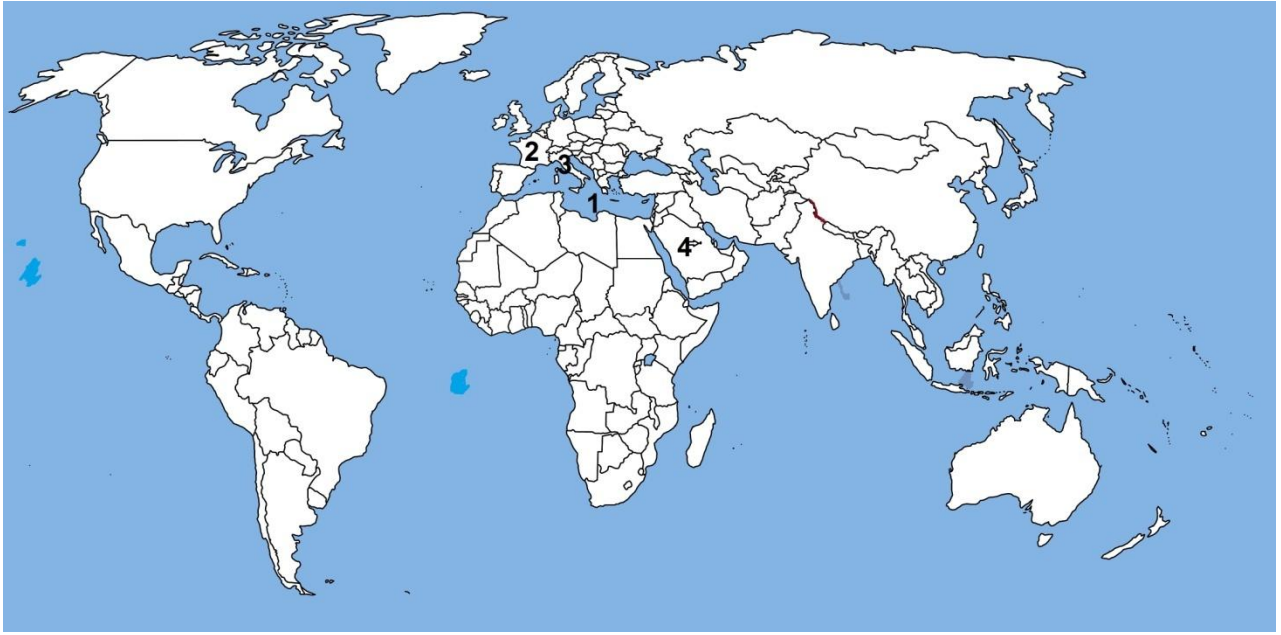
(٤) وازن بين مهام : المجلس الوزاري ، والمجلس الأعلى لمجلس التعاون الخليجي .

(٥) قارن بين : الاتحاد الأوربي ومجلس التعاون الخليجي من حيث ( الخصائص الطبيعية - المساحة

- عدد السكان - عدد الدول - المقر - الأهداف - أهم المؤسسات التي يعتمد عليها

(

(ب) اكتب ماتدل عليه الأرقام فى خريطة العالم السياسية :



١ - البحر .....

٢ - دولة .....

٣ - دولة .....

٤ - دولة .....

### الدرس الثالث : الأحلاف العسكرية

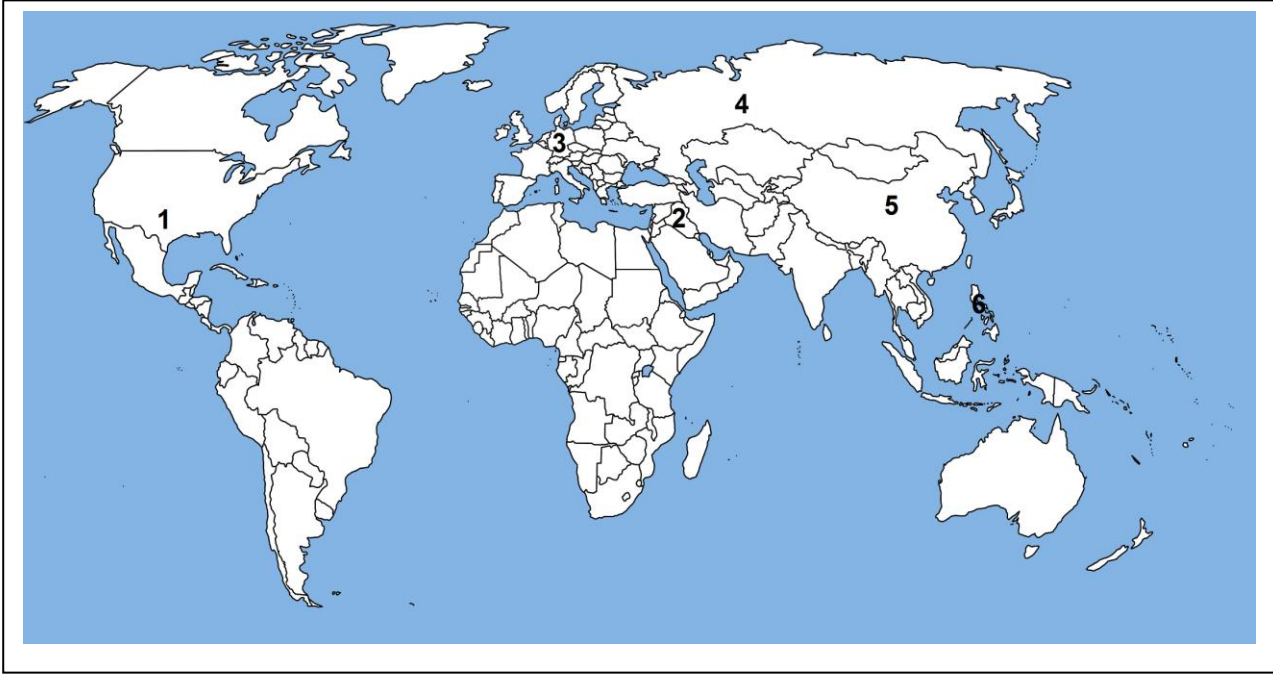
#### السؤال الأول: (أ) اختر الإجابة الصحيحة مما بين القوسين :

- ١- انتشرت ظاهرة الاستقطاب الثنائى الدولى .....  
( قبل الحرب العالمية الأولى - بعد الحرب العالمية الأولى - بعد الحرب العالمية الثانية - اثناء الحرب العالمية الثانية).
- ٢- أطلق على التحالف بين الدول الأوروبية والولايات المتحدة ضد أي هجوم روسي اسم.....  
( قوات درع الجزيرة - المظلة النووية الأمريكية - الحلف المركزى - قوات حفظ السلام )
- ٣- نشأ حلف جنوب شرق آسيا مع تعاضم قوة .... فى قارة آسيا  
( كوريا الشمالية - الهند - الصين - إندونيسيا )
- ٤- من أهم الأحلاف العسكرية والذي ما زال قائما حتى الآن حلف .....  
( وارسو - بغداد - شمال الأطلنطي - جنوب شرق آسيا )

#### السؤال الثاني : (أ) ضع علامة ( √ ) أو علامة ( × ) أمام ما يناسبها من العبارات مع ذكر السبب:

- ١- الأحلاف العسكرية ظاهرة حديثة النشأة ( )
- ٢- كان انهيار حلف وارسو نتيجة لتداعيات كثيرة ( )
- ٣- نجحت سياسة الرئيس السوفيتى جورباتشوف فى إيجاد نظام متطور ( )
- ٤- نص حلف وارسو على قصر انضمام دول جديدة والاقتصار على الدول المؤسسة له ( )

(ب) اكتب ما تدل عليه الأرقام فى خريطة العالم السياسية :



السؤال الثالث : ( أ ) بم تفسر :

- ١- زاد انتشار الأحلاف العسكرية فى التاريخ المعاصر .
- ٢- نشأة حلف وارسو ١٩٥٥م.
- ٣- فشل الحلف المركزى فى استقطاب دول عربية مثل سوريا ومصر .
- ٥- نشأة حلف جنوب شرق آسيا.
- ٦- انسحاب باكستان من حلف بغداد عام ١٩٧١ م.
- ٧- حل حلف جنوب شرق آسيا ١٩٧٧م.
- ٨- نشأة حلف الناتو ١٩٤٩م.

السؤال الرابع " تعددت الأحلاف العسكرية فى العالم "

فى ضوء العبارة وضح :

- (١) ما معنى كل مما يأتى : الأحلاف العسكرية - البيروسترويك - الجلاسنوست .
  - (٢) ما أهداف: الأحلاف العسكرية.
  - (٣) قارن بين : أهداف حلف جنوب شرق آسيا ، وأهداف الحلف المركزى.
  - (٤) أيد بالأدلة: كان عام ١٩٩٠م بداية تسارع التغيرات وحل حلف وارسو.
  - (٥) وضح العلاقة بين نتائج الحرب الفيتنامية - وحلف جنوب شرق آسيا.
- السؤال الخامس : " لو كنت تعتقد أنك قادر على تحقيق الانتصار فإنك كذلك "

فى ضوء العبارة وضح :

- (١) ما أهداف : حلف شمال الأطلسي .
  - (٢) ما النتائج المترتبة على : انهماك حلف وارسو وحلف الناتو فى سياسة سباق التسلح
  - (٣) أيد بالأدلة :
- (أ) قيام حلف الناتو بالتقارب مع روسيا بعد تفكك حلف وارسو.
  - (ب) مجهودات حلف شمال الأطلسي فى حفظ السلام العالمي.
  - (ج) دور منظمة الأمم المتحدة فى حل بعض المشكلات الدولية.
  - (٤) وازن بين: أهداف حلف وارسو ، وأهداف حلف شمال الأطلسي.
  - (٥) قارن بين : حلف شمال الأطلسي وحلف وارسو من حيث ( الدول المشاركة - مقر الحلف - الأهداف)
  - (٦) ما الآثار : الدولية والإقليمية لسياسة الصراع بين حلفى وارسو والناتو.

الوحدة الرابعة

العلاقات الدولية والنظام العالمي الجديد

من المتوقع بعد إنتهاء الطالب من دراسة " الوحدة الثانية " العلاقات الدولية والنظام العالمى الجديد " أن يكون الطالب قادر على أن:-

- ١ - يعطى تعريفاً صحيحاً للمصطلحات الجغرافية الآتية ( العلاقات الدولية - الحرب - النظام الدولى - النظام العالمى الجديد )
- ٢ - يتتبع تطور العلاقات الدولية عبر الزمن.
- ٣ - يستنتج المتغيرات الدولية ومدى تأثيرها على العلاقات الدولية.
- ٤ - يستنتج العوامل المؤثرة فى العلاقات الدولية.
- ٥ - يحدد خصائص وأهداف النظام الدولى العالمى الجديد.
- ٦ - يحدد مدى تأثير النظام الدولى الجديد على مختلف الدول.
- ٧ - يعدد تصورات الباحثين فى خريطة العالم المستقبلية.

الدرس الأول: ماهية العلاقات الدولية

السؤال الأول: (أ) ضع علامة (✓) أو علامة (×) أمام ما يناسبها من العبارات مع ذكر السبب:

- ١- لا توجد دولة تستطيع أن تعيش بمعزل عن غيرها من الدول ( )
- ٢- عقد رمسيس الثاني معاهدة مع ملك الحيثيين (خاتو سبل) ١٢٧٨ ق . م ( )
- ٣- يعد الوزن العسكري المحصلة النهائية لمقومات الدولة الطبيعية والبشرية ( )

(ب) أيد بالأدلة :

- هناك عدة طرق وأساليب لحل النزاعات الدولية سلميا.
- ظهور مرحلة التعايش السلمى (١٩٥٣-١٩٦٩م) فى العلاقات الدولية .
- تتأثر العلاقات الدولية سلبا أو إيجابا بعوامل متنوعة ومتشابكة .

(ج) اكتب ما تدل عليه الأرقام فى خريطة العالم السياسية :



السؤال الثانى : بم تفسر :

- ١- كانت الحرب ولا تزال من سمات الحياة البشرية.
  - ٢- فشل عصبة الأمم فى تحقيق أهدافها.
  - ٣- يؤخذ على هيئة منظمة الأمم المتحدة عدة اعتبارات.
  - ٤- تعد مرحلة المواجهة (١٩٤٧ - ١٩٥٣م) من أخطر المراحل فى العلاقات الدولية .
  - ٥- فشل حصار الاتحاد السوفيتي لبرلين ١٩٤٨م.
  - ٦- تراجع الوفاق فى العلاقات الدولية بين عامى ( ١٩٧٦ - ١٩٨٥ م ) .
  ٧. القوة والوزن السياسى على المسرح الدولى وجهان لعملة واحدة.
  - ٨- تلعب القوة العسكرية دورا مؤثرا فى العلاقات الدولية .
- السؤال الثالث : " يقول أحد المفكرين : أن الأمر الوحيد الذي سيحرر البشرية هو التعاون "

فى ضوء العبارة وضح :

- (١) ما المقصود : العلاقات الدولية - الحرب .
- (٢) وضع العلاقة بين :
  - الثورة الصناعية - والعلاقات الدولية .
  - الصين - وحجم سكانها فى العلاقات الدولية .
- (٣) ما نتائج : استقالة جورباتشوف من رئاسة الاتحاد السوفيتي ١٩٩٢ م
- (٤) قارن بين : العلاقات الدولية فى العصور القديمة - والعلاقات الدولية فى العصر الحديث



## الدرس الثاني: النظام الدولي العالمي الجديد

### السؤال الأول: (أ) اختر الإجابة الصحيحة مما بين القوسين :

- ١- أول من طرح فكرة النظام العالمي الجديد الرئيس الأمريكى .....  
( أبراهام لنكولن - ويلسون - جورج بوش - باراك أوباما ).
- ٢- ظهر مفهوم النظام العالمي الجديد للمرة الأولى فى خطاب الرئيس....  
( الأمريكى ويلسون - السوفيتي جورباتشوف - الفرنسى ميتران - الأمريكى بيل كلينتون )
- ٣- يطلق عليها الثورة الصناعية الثالثة ثورة .....  
( المعادن - المعلوماتية - الثروات الطبيعية - البترول )

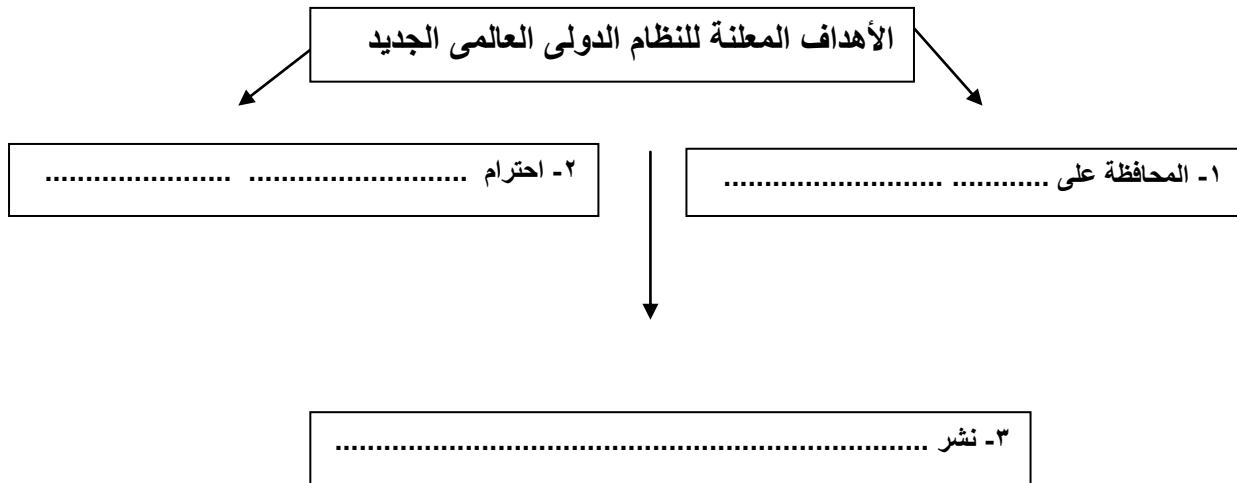
### (ب) ما النتائج المترتبة على :

- أ) النظام الدولى العالمى الجديد على الدول النامية والمتقدمة .
- ب) احتكار دول الغرب الرأسمالية للمال والسلاح والتكنولوجيا .
- ت) بروز ظاهرة الاعتماد الدولى المتبادل .

### السؤال الثانى : ضع علامة ( √ ) أو علامة ( × ) أمام ما يناسبها من العبارات مع ذكر السبب:

- ١- يعتمد النظام العالمى الجديد على مبدأ توازن القوى ( )
- ٢- يتبنى النظام الدولى العالمى الجديد أساسا الحل العسكرى لعلاج المشكلات الدولية ( )
- ٣- من أسس النظام الدولى العالمى الجديد التناقض بين الرأسمالية والاشتراكية ( )
- ٤- مبدأ توازن القوى هو الأساس فى النظام الدولى العالمى الجديد ( )
- ٥- يتزايد دور حركة عدم الانحياز فى ظل النظام الدولى العالمى الجديد ( )
- ٦- الصراع الرأهن فى النظام الدولى العالمى الجديد حول التكنولوجيا ( )
- ٧- اعتمد النظام الدولى العالمى الجديد على مبدأ المشروعية الدولية ( )

(السؤال الثالث) : ( أ ) استكمل الشكل الآتى :



السؤال الرابع : ( أ ) يطرح النظام العالمى الجديد فكرة التفاعل بين أعضاء المجتمع الدولى وفق

منظومة معينة للقيم " ..... فى ضوء العبارة وضح :

(١) ما معنى : النظام العالمى الجديد .

(٢) ما أهم : المبادئ الحاكمة للنظام العالمى الجديد.

( ٣ ) أيد بالأدلة :

- توجد متغيرات دولية دفعت إلى الإعلان عن ضرورة وجود نظام عالمى جديد.

- يتميز النظام العالمى الجديد بعدة خصائص.

### التدريبات العامة

السؤال الأول: اختر الإجابة الصحيحة مما يلي:

- ١- تتميز العلاقات الدولية في السلم ب.....
  - أ- التحكيم .
  - ب- التعايش السلمي .
  - ج- توازن المصالح.
  - د- تراجع الوفاق
- ٢- ظهرت عصبة الأمم المتحدة بعد .....
  - أ- الحرب العالمية الأولى .
  - ب- الحرب العالمية الثانية .
  - ج- مرحلة المواجهة .
  - د- انتهاء الحرب الباردة .
- ٣- كل ما يلي من خصائص النظام الدولي العالمي الجديد ما عدا .....
  - أ- تنوع الإنتاج بطريقة اقتصادية .
  - ب- الثورة الهائلة في وسائل الاتصالات .
  - ج- قيود التجارة العالمية والدولية.
  - د- التحول في مبدأ السيادة الوطنية.
- ٤- يطلق علي الثورة الصناعية الثالثة اسم الثورة .....
  - أ- الاجتماعية .
  - ب- السياسية .
  - ج- الاقتصادية .
  - د- المعلوماتية .

٥- عادت طابا لمصر بمقتضى .....

أ- الوساطة .

ب- التحكيم

ج - المفاوضات .

د - المساعي الحميدة .

٦- يطلق علي إحالة النزاع إلي لجنة محايدة من أجل التسوية بين دولتين :-

ت-المفاوضات .

ث- الوساطة .

ج - التحكيم .

د - التوفيق .

السؤال الثاني: ما ذا كان يحدث إذا.....؟

١. لم يتدخل الاتحاد السوفيتي في أفغانستان .

٢. لم يسقط جدار برلين .

٣. لم يتوسع الاتحاد الأوروبي وحلف الناتو علي حساب المعسكر الشرقي .

السؤال الثالث : بم تفسر .....

١. تحتل الصين مقعدًا في مجلس الأمن

٢. أصبحت الصين لاعبًا أساسيًا على مسرح العلاقات الدولية .

٣. تعتبر الصين القوة الثانية بعد الولايات المتحدة الأمريكية.

٤. اختراق الأمن الثقافي العربي أحد متأثرات النظام العالمي الجديد.

٥. فشل وسقوط الاتحاد السوفيتي السابق.

٦. فشل عصبة الأمم في حفظ السلم والأمن الدوليين.

٧. فشل حصار الاتحاد السوفيتي السابق لبرلين.

٨. مرحلة المواجهة من أخطر المراحل في الحرب الباردة بين الشرق والغرب.

٩. السوق الأوروبية المشتركة كإحدى متغيرات النظام العالمي الجديد.

١٠. يدور الصراع الخفي على المواد الخام مثل اليورانيوم.

١١. عصبة الأمم المتحدة.

١٢. إقامة النظام العالمي الجديد.

١٣. فشل عصبة الأمم وانهارها عام ١٩٣٩ م .

١٤. للدول الصناعية الآسيوية الناشئة دور في ظهور النظام العالمي الجديد

**السؤال الرابع : دال ما صحة أو خطأ العبارات التالية :**

١. تشعبت العلاقات الدولية بين دول العالم في الوقت الحاضر .
٢. يلعب حجم السكان دور هام في العلاقات الدولية.
٣. أول من طرح فكرة نظام عالمي جديد جورباتشوف .
٤. النظام العالمي الجديد كان ثمرة اتفاق بين الدول في العالم .
٥. كانت مرحلة المواجهه ( ١٩٤٧ - ١٩٥٣م ) من أخطر مراحل الصراع بين القطبين العالميين .
٦. تنوع الطرق السلمية لحل النزاعات بين الدول .
٧. ازدادت وتشعبت العلاقات الدولية بين دول العالم في العصر الحديث .
٨. كان لظهور اليابان و ألمانيا أثر في ظهور النظام العالمي الجديد .
٩. كانت مرحلة الوفاق ( ١٩٦٩ - ١٩٧٦م ) بمثابة سياسة التقارب و الانفتاح بين القطبين

**السؤال الخامس : ما النتائج المترتبة علي .....**

- ١- تدخل الاتحاد السوفيتي عسكريا في أفغانستان ١٩٧٩م.
- ٢- سقوط الاتحاد السوفيتي .
- ٣- استخدام مبدأ التوفيق في حل النزاعات الدولية
- ٤- مؤتمر باريس عام ١٩٩١م بين الولايات المتحدة والاتحاد السوفيتي.
- ٥- حصار الاتحاد السوفيتي السابق لبرلين عام ١٩٤٨م.
- ٦- احتكار دول الغرب الرأسمالية للسلاح والمال والتكنولوجيا.

**السؤال السادس: أجب عن الأسئلة الآتية.**

- ١- في رأيك ..... ما العوامل التي أدت إلى انهيار الاتحاد السوفيتي ؟
- ٢- ما الطرق التي تستخدمها الدول لحل النزاعات في حالة السلم.
- ٣- ما الفرق بين مرحلة الوفاق وتراجع الوفاق؟

**السؤال السابع : اكتب المفهوم أو المصطلح الجغرافي**

- ١- مجموعة إجراءات وقوانين تضبط العلاقات الدولية وتحدد الخريطة السياسية للعالم ما بعد الحرب الباردة .
- ٢- مجموعة العلاقات الاقتصادية والسياسية والعسكرية والقانونية والدبلوماسية بين الدول والمنظمات .
- ٣- صراع مسلح بين دولتين لتحقيق مصالح وطنية.

السؤال الثامن : ما العلاقة بين كل من .....؟

- ١- الثروة الصناعية والعلاقات الدولية.
- ٢- هيئة الأمم المتحدة وظهور النظام العالمي الجديد.
- ٣- توافر اليورانيوم في بعض دول أفريقيا - و الصراع التكنولوجي للدول المتقدمة.
- ٤- سقوط الاتحاد السوفيتي السابق - وعجزة عن تطوير نظم إنتاجه الاقتصادي.

## الإجابات

### مدخل إلى الجغرافيا السياسية

#### السؤال الأول

١ - التغييرات السياسية العالمية التى طرأت على خريطة العالم :-

ظهرت التغييرات فى صورة ظهور دول واختفاء أخرى، واندماج دول مع بعضها البعض وانقسام أخرى، واختلف توزيع القوى العالمية بغروب قوى عالمية وشروق أخرى ونسخ علاقات دولية جديدة وتمزق أخرى، وفى الآونة الأخيرة اختفى الاتحاد السوفيتى والكتلة الشرقية.

٢ - يجب الطالب فى ضوء الفروق الواضحة التى طرأت على العالم

#### السؤال الثانى

١ - أطلق على الجغرافيا السياسية اسم الطفل المولود : نتيجة اعتقاد البعض أن الجغرافيا السياسية ليست علماً نظراً لديناميكيته المستمرة.

٢ - يعد أرسطو أشهر مؤلفى الجغرافيا السياسية : حيث تناول فى مؤلفاته الدولة المثالية وحدد عناصرها فى خمسة موضوعات

( عدد سكان الدولة - مواردها الاقتصادية - العاصمة - الجيش - الحدود السياسية )

كما حدد مدى قوة الدولة أو ضعفها كمركب سياسى وتطرق إلى مسألة موقع الدولة الجغرافى وتأثير المناخ عليها .

#### السؤال الثالث

##### أهمية الجغرافيا السياسية:-

رجال الأعمال: توفير كافة البيانات والمعلومات الرئيسية عن استخدام الثروات المختلفة التى تتمتع بها الدول والتعرف على قوتها أو ضعفها ونقل هذه المعلومات للاستفادة من تسيير أعمالهم.

السياسة: تساعد فى اتخاذ القرارات السياسية الحكيمة اعتماداً على البيانات الدقيقة والتفصيلية المستمدة من التقنيات الحديثة.

الإعلاميين فى جعل الجغرافيا على الهواء من خلال وسائل الاتصال وتكنولوجيا المعلومات. والبعد عن الأخطاء العلمية التى قد يقعوا فيها من عدم وجود معلومات حديثة.

#### السؤال الرابع

##### الجغرافيا السياسية

هو ذلك الفرع من الجغرافيا البشرية الذى يهتم بدراسة مقومات الجغرافيا الطبيعية والبشرية للدولة وأثرها فى قوتها السياسية وكيفية تأثير تلك العوامل فى العلاقات الدولية.

##### الدولة:

تنظيم سياسى يشغل مساحة أرضية لها حدودها السياسية ومكوناتها الداخلية التى تتمثل فى ( السكان ، الموارد ، نظام الحكم ) مع تمتعها بالسيادة.

##### المجال الحيوى:

هو المفهوم الذى يجعل الخريطة السياسية للعالم والدول كائنات حية وأن كل دولة تستطيع التوسع على حساب الدول المجاورة وتعتبرها مجال حيوى تابع لها دون حدود بينهم.

##### الجيوبولتيك: لها عدة تعريفات منها:

تهتم بدراسة الوحدات السياسية لتحليل بيئتها الطبيعية والبشرية والاقتصادي وتوضح أثر ذلك على السلوك السياسى للدولة من خلال وجهة نظرا الدولة، ماذا تريد وما مطالبها الخارجية إلى جانب رسم تصور للدولة يهتم بالحركة والتطور.

##### العولمة:

امتداد طبيعى لانسياب المعارف وسهولة تداولها وهى ترجمة للمصطلح الانجليزى Globalisation وتعنى الكونية.

#### السؤال الخامس

يجيب الطالب فى حدود مفهوم كل من الجغرافيا السياسية والجيوبولتيك من حيث المفهوم والسمات الكتاب المدرسى ص ٧

#### السؤال السادس

ترتبط الجغرافيا السياسية ببعض العلوم لآخرى من خلال علم الجغرافيا وعلم السياسية وعلم التاريخ وعلم العلاقات الدولية إلى جانب بعض العلوم الأخرى مثل الجغرافيا الاقليمية وجغرافيا السكان .... إلخ



## السؤال السابع

أهداف الجغرافيا السياسية :- ( يكتفى ٣ أهداف ) أ ، ب ، ج

- ١ - تفسير سلوك الوحدات السياسية الداخلى والخارجى تفسيراً موضوعياً جغرافياً.
- ٢ - تحليل الظواهر السياسية المختلفة تحليلاً مكانياً ( جغرافياً ) حياً.
- ٣ - تحديد عناصر القوة والضعف للوحدات السياسية.
- ٤ - المشاركة فى اقتراح حلول للمشكلات السياسية ووضعها موضع التنفيذ.
- ٥ - توفير البيانات والمعلومات الموضوعية اللازمة لاتخاذ القرارات السياسية العسكرية ذات الأبعاد المكانية.
- ٦ - أداة تثقيف موضوعية للشعب عن المشاكل السياسية فى كافة أرجاء العالم.

## السؤال الثامن

- ١ - تطور نظم المعلومات الجغرافية
- توفير مميزات فضائية حديثة ودقيقة عن الدول ونشأتها ونموها وتطورها.
- توفير كافة البيانات والمعلومات الرقمية عن استخدامات الأرض والثروات المختلفة.
- مساعدة متخذى القرار فى اتخاذ القرارات السياسية الحكيمة اعتماداً على البيانات الدقيقة والتفصيلية المستمدة من هذه التقنية الحديثة.
- ٢ - أثر التطور التكنولوجى فى علم الجغرافيا السياسية
- توفير معلومات أكثر دقة فى كثير من المجالات فى علم الجغرافيا السياسية.
- توفير المميزات الفضائية كمادة علمية ضخمة باللغة الدقة تفيد الدارسين.
- أصبح العالم وحدة واحدة أو ما يعرف بالقرية الكونية مما جعل الجغرافيه السياسية " جغرافية حية على الهواء".
- توفير البيانات والمعلومات الرقمية عن استخدام الأرض والثروات المختلفة التى تتمتع بها الدول.

## السؤال التاسع

- أ - النظريات الاستراتيجية التى ظهرت فى الجغرافيا السياسية
- نظرية القوى البحرية

- نظرية القوى البرية ( قلب الأرض )
- نظرية القوى الجوية
- الاستراتيجية الذرية

(ب) على الطالب أن يختار أحد هذه النظريات ويعبر عن رأيه فيها فى ضوء علم الجغرافيا السياسية وأهدافه.

#### السؤال العاشر

وجه المقارنه	قديما	فى الوقت الحاضر
مجال علم الجغرافيا	حدد أرسطو فى مؤلفاته ( السياسه ) عناصرها فى خمسة (عدد سكان الدولة - مواردها الاقتصادية - العاصمة - الجيش - الحدود السياسية) كما ناقش مدى قوة الدولة أو ضعفها كمركب سياسى.	على يد العالم الألمانى " فريدريك راتزل " وضع أول مؤلف علمى فى الجغرافيا السياسيه والتي اعتبر الدولة بمثابة كائن حى تنطبق عليه ( قوانين الميلاد - النمو - الوفاة ) وذكر أن الخريطة السياسية للدولة تشكلت نتيجة الصراع بين الكائنات الحية (الدولة ) وكانت أفكاره لها تأثير واضح فى التوسع الاستعمارى لدول على حساب دول أخرى تحت مسمى المجال الحيوى لها
	- أما " ابن خلدون " حيث أضاف إلى الفكر الجغرافى كثيراً من كتابه " مقدمة التاريخ " وركز فيها على ظاهرتين فى البناء السياسى بالعالم العربى وهى ( القبيلة - المدنية ) ووضع الإطار العام باسم دورة حياة الدولة وهى ( النشأة النضج - الاضلال)	أما " ألفرد ماهان " كتب عن القوة البحرية وعلاقة ذلك بالسيادة والسيطرة العالمية. " رودلف كيلين - عالم سويدي أول من استخدم عبارة الجيوبوليتيك وتمركزت آراؤه حول نمو الدول عضوياً. " هالفورد ماكندر " نشر حركة التاريخ فى ضوء الصراع بين قوى البر والبحر واعتبر أشهر جيوبوليتيكي بريطانى
التغيرات السريعة	دعم وجهة نظره بدراسة الكيان القائم للدولة كما هو قائم فعلا ويميل إلى الثبات	وجهة نظر الدولة كما هى قائمة بالإضافة إلى مطالبتها الخارجية ورسم صورة لما يجب أن تكون عليه الدولة والتي تتسم بالحركة والتطور . أن القوة فى حياة الدولة هى أكثر أهمية من سيادة القانون توسع الدولة على الدولة المجاورة تعتبرها المجال الحيوى لها.

ب- يجيب الطالب فى ضوء اختياره عن مجال من مجالات الجغرافيا السياسيه وينتقده مدعماً رأيه بأمثلة متنوعة.

### السؤال الحادى عشر

يبحث الطالب عن نظريات أخرى للجغرافيا السياسية. ويسجل ملاحظاته

### السؤال الثانى عشر

١ - المرئيات الفضائية

هى وسائل النقل الجوى والأقمار الصناعية بأنواعها المختلفة وأجهزة تحديد المواقع GPS وغيرها وهى توفر مادة علمية ضخمة بالغة الدقة تفيد الدارسين.

٢ - أثر التطور التكنولوجى على تطور علم الجغرافيا السياسية حيث ظهرت وسائل وتقنيات حديثة مثل:

وسائل النقل الجوى والأقمار الصناعية، تطور وسائل الاتصالات السلكية واللاسلكية وتكنولوجيا المعلومات - نظم الاستشعار عن بعد ( الخرائط الالكترونية ).

ج - يجيب الطالب معبراً عن رأيه فى نظرية ماكيندر ( قلب العالم فى ضوء التحليل السياسى للقوة)

### السؤال الثالث عشر

١ - السياسة الخارجية للدول - المنظمات الدولية والإقليمية المتنوعة.

٢ - التحليل السياسى للقوة - سياسة النظام العالمى وما ينتج عنها من تغيرات.

٣ - الأمن المائى هو إشباع كافة الاحتياجات المائية كماً وكيفاً.

٤ - الجغرافيا السياسية.

### السؤال الرابع عشر

- ١- د ٢- د ٣- ب ٤- أ ٥- ج

### السؤال الخامس عشر

- ١- نظراً للتغيرات السريعة التي شهدتها النظام العامي خلال السنوات الأخيرة حيث شهد اتجاه القوي الرأس مالية العالمية نحو الهيمنة والسيطرة علي مقدرات وموارد دول العالم الثالث.
- حيث تتميز بالشمولية وتتضمن عدداً كبيراً من المجالات الفرعية.
  - ٢- تفسر سلوك الوحدات السياسية تفسيراً موضوعياً جغرافياً .
  - تحليل الظواهر السياسية تحليلاً مكانياً جغرافياً حيادياً غير منحاز .
  - تحديد عناصر القوة والضعف في الدولة .
  - تعتبر أداة تثقيف موضوعية للشعب في كافة أنحاء العالم .
- ٣- لأن قلب الأرض كما ذكرها ماكيندر تتبني مساحة مترامية بعيدة عن البحار والساحل
- لذلك تتمتع بحصانة طبيعية ضد أي غزو بحري .
- ٤- لأنه:

- وضع أول مؤلف علمي للجغرافيا السياسية والذي حمل اسمها فيما بعد.
  - اعتبر في كتاباته أن الدولة بمثابة كائن حي يولد وينمو ويموت وذكر أن الخريطة السياسية تشكلت نتيجة الصراع بين الدول .
- ٥- يعتبر ابن خلدون من أبرز المفكرين المسلمين حيث :
- وضع كتابه مقدمة التاريخ وركز علي أهم ظاهرتين بالبناء السياسي بالعالم العربي وهما القبيلة والمدينة.
  - وضع الإطار العام الذي عرف باسم دورة حياة الدولة .
- ٦- لأن الجغرافيا تدرس الدولة كعنصر جغرافي، وأن الدولة تستخدم قوتها لتحقيق هدف داخلي وهو تحقيق الوحدة والانسجام بين شعبها في الداخل، وهدف خارجي وهو الحصول علي حدود سياسية طبيعية .

### السؤال السادس عشر

- ١- ( خطأ ) حيث اهتمت الجغرافيا السياسية قديماً بدراسة الوحدات السياسية المختلفة - ودراسة العلاقات السياسية بين الدول - ودراسة المشكلات السياسية المختلفة.
- ٢- العبارة خطأ؛ حيث يعتبر سهوفر هو المؤسس للجيوپولتيكا الألمانية أما رودلف كيلين فعن طريقه ظهر أول مصطلح للجيوپولتيك عام ١٨٩٩ .

- ٣- العبارة خطأ. حيث تميل الجغرافيا السياسية إلى الثبات لأنها تدرس الكيان القائم، بينما يتسم الجيوبولتيك بالتطور والحركة لأنها ترسم تصورا لما يجب أن تكون عليه الدولة .
- ٤- العبارة صحيحة : مثل الصراعات القومية داخل الدولة واضطرابات الفقراء داخل المدن.
- ٥- الإجابة صحيحة حيث يمد التاريخ الجغرافيا السياسية بمجريات الأحداث التاريخية التي أثرت في تطور الدول.

### السؤال السابع عشر

- ١- هي فرع من فروع الجغرافيا البشرية الذي يهتم بدراسة المقومات الجغرافية الطبيعية والبشرية للدولة وتحديد أثر ذلك في قوتها السياسية .
- ٢- علم القياس أو الحصول علي المعلومات بواسطة مستشعرات أو أجهزة لا تلامس سطح الأرض.
- ٣- متروك الطالب

### السؤال الثامن عشر

- ١- الجغرافيا السياسية وثيقة الصلة بعلم العلاقات الدولية فكلاهما يتناول دراسة العلاقات والسياسات الخارجية للدول، وبالتالي فلا يمكن بأي حال من الأحوال تفسير أحوال وعلاقة الدولة دون الرجوع إلي جغرافية الدولتين .
- ٢- تمد الجغرافيا خاصة العامة منهج الجغرافيا السياسية بالمعلومات اللازمة عن المقومات الطبيعية والبشرية والاقتصادية للدولة.
- ٣- الجغرافيا السياسية وثيقة الصلة بعلم السياسة التي استمدت اسمها من الجغرافيا وصفاتها من السياسة . تدارس العلوم السياسية يدرس شكل الحكومات ولا يمكن فهم هذا الشكل علي حقيقته إلا إذا تعرف علي مساحة الدولة والاختلاف المكاني .
- ٤- توفر المرئيات الفضائية معلومات ضخمة بالغة الدقة لدارس الجغرافيا السياسية.
- ٥- أضاف نظم الاستشعار عن بعد
- توفير مرئيات فضائية حديثة عن الدول .
  - توفير كافة البيانات والمعلومات الرقمية عن الأراضي والثروات بالدول .
  - مساعدة متخذي القرار في اتخاذ القرارات السياسي الحكيمة .
- ٦- سياسة النظام العالمي من أهم مجالات الجغرافيا السياسية لأنه:
- بالغ الأهمية نظرا للتغيرات السريعة التي شهدتها النظام العالمي في السنوات الأخيرة وظهور القوي الرأسمالية العالمية الكبرى التي هيمنت علي مقدرات وموارد دول العالم الثالث.
  - يتميز بالشمولية وله مجالات فرعية عديدة منها الأحلاف العسكرية والعولمة والأمن المائي.

### السؤال التاسع عشر

أوجه الشبه ؛ كلاهما يتناول دراسة الوحدات السياسية في ضوء ظروفها الجغرافية

- أوجه الاختلاف :

#### الجغرافيا السياسية

- تهتم بتحليل المكونات الطبيعية والبشرية والاقتصادية للدولة وتوضح أثر ذلك علي قوة الدولة
- تدرس الكيان القائم فعلاً
- تميل إلي الثبات .

#### أما الجيوبولتيك

- تقوم بنفس الدراسة ولكن من وجهة نظر الدولة ماذا تريد وما مطالبتها الخارجية
- ترسم تصور لما يجب أن تكون عليه الدول .
- تتسم بالتطور والحركة .

### السؤال العشرون

- ١- توفير معلومات أكثر دقة عن الكثير من مجالات الجغرافيا السياسية مثل الحدود السياسية بين الدول - الممرات الملاحية والمياه الإقليمية - مناطق النزاع بين الدول.
- ٢- أصبح العالم كله وحدة واحدة أو ما يعرف بالقرية الكونية وذلك لسهولة تداول المعلومات عبر الحدود ، والجغرافيا السياسية مثلها مثل العلوم الأخرى استفادت من تطور وسائل الاتصالات ولذلك يقال علي الجغرافيا السياسية إن جاز التعبير جغرافيا حية علي الهواء .
- ٣- أثرت الثورة الصناعية منذ بداية القرن ١٩ في تغيير النظرة إلي الكرة الأرضية كوحدة ومجال لدراسة الجغرافيا السياسية .
- ظهر ذلك في كتابات الجغرافيين في وصف الأنماط المكانية للوحدات السياسية وبذلك ظهرت النظريات الاستراتيجية للجغرافيا السياسية .

### السؤال الواحد والعشرون: متروك الطالب

### السؤال الثانى والعشرون:

١- نظرية القوي البحرية- نظرية القوي البرية(قلب الأرض) - نظرية القوي الجوية- الاستراتيجية الذرية.

٢- ٣- ٤- متروك الطالب

## السؤال الثالث والعشرون: متروك الطالب

### إجابات الوحدة الأولى

#### إجابة السؤال الأول

- ١ - ج - الأمة      ٢ - ب - الإقليم      ٣ - أ - اللغة الواحدة  
٤ - ب - سهولة المواصلات      ٥ - د - السيادة القومية

#### إجابة السؤال الثانى

- أ - تتشابه الأمة والدولة فى عناصر التكوين مثل الأرض والشعب.  
ويختلفان فى أن الأمة لا تتطلب سلطة حاكمية كما أن الأمة يمكن أن تعيش فى أكثر من دولة لكل منها سلطاتها الخاصة بها ، كما أن كثير من عناصر الأمة ليس ضرورياً للدولة مثل اللغة الواحدة والعادات والتقاليد مثل الولايات المتحدة الأمريكية التى يعيش بها سكان من جنسيات ولغات مختلفة، وسويسرا التى بها ثلاث لغات ( الإيطالية - الفرنسية - الألمانية ).  
ب - تترك الإجابة للطالب تحت إشراف معلمه.

#### إجابة السؤال الثالث

- ١ - العبارة صحيحة حيث تسيطر الحكومة المركزية على جميع السلطات المحلية فى الولايات والأقاليم والمحافظات والمجالس الإدارية التى تستمد قراراتها من الحكومه المركزية.  
٢ - العبارة خطأ حيث إن الدولة الوحديية هى التى تتصف بتجانس سكانها عرقياً ودينياً وثقافياً.  
٣ - العبارة خطأ حيث إن أفضل مثال للدولة الوحدييه هى فرنسا.  
٤ - العبارة خطأ حيث إن العامل التاريخى هو أكثر العوامل أهمية عندما اختيرت القاهرة عاصمة لمصر.  
٥ - العبارة خطأ حيث أن الحماية والدفاع كان العامل الأكثر أهمية عند اختيار أنقرة عاصمة لتركيا.

#### إجابة السؤال الرابع

١ - تتسم العاصمة بعدة مواصفات هى :- أنها مركز للحكم والإدارة ومركز للقوة والسلطة، وتمثل حلقة اتصال بين الدولة والعالم الخارجى، وتمثل المركز الثقافى للدولة، وعادة ما تكون ملتقى طرق النقل ووسائل الاتصال فى الدولة.

٢ - يتم تصنيف العواصم وفقاً لاعتبارات تاريخية، فهناك عواصم طبيعية تطورت على مر الزمان من محلة عمرانية صغيرة إلى قلب لمنطقة جديدة مثل لندن وباريس وروما والقاهرة، وعواصم صناعية مثل برازيليا وكانبرا اللتين أسستا وبنيتا لتقوما بوظيفة إدارية، كما تصنف العواصم تصنيفاً مورفولوجياً وفقاً لموقعها إلى عواصم دائمة وهى العواصم التى ظلت لقرون عديدة مركزاً اقتصادياً وثقافياً رئيسياً فى الدولة مثل لندن وباريس والقاهرة وعواصم مستحدثة مثل التى قررت الحكومة نقلها من أماكنها إلى مدن أخرى لسبب أو لآخر مثل اليابان التى قررت نقل عاصمتها من كيوتو الداخلية إلى طوكيو الساحلية.

٣ - تترك الإجابة للطالب تحت إشراف معلمه وفى ضوء ما درسه.

#### إجابة السؤال الخامس

١ - أ - الشكل ٢ - ج - سوريا ٣ - ب - فرنسا

٤ - ج - اليابان ٥ - د - أفغانستان

#### إجابة السؤال السادس

١ - العبارة صحيحة حيث يحدد الموقع الفلكى الملامح العامة لمناخ الدولة ويؤثر فى نشاط السكان ويحدد الظروف المناخية التى تساعد على ثراء الإقليم وازدهاره من الناحية الزراعية وسهولة المواصلات.

٢ - العبارة خطأ حيث إن موقع الدولة الجزرية أفضل لعدة أسباب منها وجود وسائل اتصال بالعالم الخارجى دون عوائق أو دون تحكم من دول أخرى، وكذلك زيادة احتكاك الدولة حضارياً بغيرها من الدول والثقافات، وكذلك تمتعها بالثروات البحرية المختلفة الموجودة فى مياهها الإقليمية، بالإضافة إلى زيادة دخل الدولة الناتج عن السياحة الشاطئية.

٣ - العبارة خطأ حيث إن المغرب من الدول التى يجاورها عدد قليل من الدول وهى الجزائر وموريتانيا فقط.



٤ - العبارة صحيحة حيث يجاور دولة الصين خمس عشرة دولة.

٥ - العبارة صحيحة حيث إن المساحة الكبيرة للدولة تزيد من احتمالية تنوع التركيب الجيولوجى

الذى يعنى تنوع الموارد المعدنية مثل روسيا والصين والولايات المتحدة الأمريكية، كما يتيح للدولة تبنى نظرية الدفاع بالعمق.

#### إجابة السؤال السابع

تترك الإجابة للطالب تحت إشراف معلمه.

#### إجابة السؤال الثامن

تترك الإجابة للطالب فى ضوء ما درسه وتحت إشراف معلمه.

#### إجابة السؤال التاسع

١ - يمثل الموقع البحرى الجيد للدولة وسيلة اتصال دون عوائق بالعالم الخارجى ودون عوائق أو تحكم من دول أخرى وكذلك زيادة احتكاك الدولة حضاريا بغيرها من الدول، كما تتمتع بالثروات البحرية الموجودة فى مياها الإقليمية، بالإضافة إلى زيادة دخل الدولة الناتج عن السياحة الشاطئية على طول سواحلها.

٢ - عندما تقع الدولة داخل دوائر عرض متعددة فإن ذلك يؤدى إلى تنوع المناخ داخل الدولة، وبالتالي تنوع الموارد الطبيعية مثل النبات الطبيعى ومثل الغابات والحشائش، وبالتالي الحيوان الطبيعى، والرعى، وكذلك ازدهار الناحية الزراعية، ونشاط السكان.

٣ - أدى وجود قناة السويس إلى زيادة الموقع الاستراتيجى الذى تتمتع به مصر منذ وقت طويل، حيث تتحكم فى طرق الملاحة والتجارة البحرية الدولية.

٤ - تعتبر ممرات سيناء الجبلية بوابة التحكم فى سيناء مما أكسبها بعداً استراتيجياً مهماً عند الحركة فى شبه جزيرة سيناء.

#### إجابة السؤال العاشر

١ - تتباين مساحات الدولة على خريطة العالم فهناك دول مساحتها عدة ملايين من الكيلو مترات المربعة مثل روسيا الاتحادية ١٧,٦ مليون كم<sup>٢</sup> والفاثيان ١/٢ كم<sup>٢</sup>.

وتؤثر المساحة الكبيرة فى قوة الدولة حيث يزيد احتمال التنوع فى التركيب الجيولوجى وبالتالي الموارد المعدنية، كما يتيح للدولة تبنى نظرية الدفاع بالعمق، وتساعد على ضم عدد كبير من

السكان إلا أنها تحتاج إلى جهود وامكانيات كبيرة لتطويرها وحمايتها والسيطرة على كافة أرجائها المترامية الأطراف.

وعلى العكس فإن المساحة الصغيرة للدولة تمكنها من ضبط وإدارة الدولة بسهولة، وتنمية جميع أجزائها وتطويرها، إلا أنها يسهل اختراقها والسيطرة عليها وقت الحرب مثل حرب الكويت ١٩٩٠، وتكون أكثر عرضة للتأثر بالكوارث الطبيعية كالزلازل والأعاصير.

٢ - العوامل المحددة لأهمية مساحة الدولة هي : حجم الموارد وتنوعها، وعدد السكان وتوزيعهم والنظم الاقتصادية والسياسية السائدة فى الدولة، وقدرة السكان العلمية والتكنولوجية على استغلال الموارد وسهولة الاتصال بكافة أرجاء الدولة.

٣ - تترك الإجابة للطالب فى ضوء ما درسه وتحت إشراف معلمه.

#### إجابة السؤال الحادى عشر

تترك الإجابة للطالب فى ضوء ما درسه وتحت إشراف معلمه.

#### إجابة السؤال الثانى عشر

١ - ب - روسيا ٢ - د - هولندا ٣ - أ - فرنسا

٤ - ج - إيطاليا ٥ - ج - إندونيسيا

#### إجابة السؤال الثالث عشر

تترك الإجابة للطالب فى ضوء ما درسه وتحت إشراف معلمه.

#### إجابة السؤال الرابع عشر

١ - العبارة خطأ والصواب الولايات المتحدة الأمريكية.

٢ - العبارة خطأ والصواب دولة ليسوتو التى تحيط بها دولة جنوب أفريقيا من جميع الجهات.

٣ - العبارة صحيحة حيث إن المناخ المعتدل يزيد من فاعلية الأنشطة البشرية فى مختلف المجالات

مما يساعد على قوة الدولة مثل دول حوض البحر المتوسط.

٤ - العبارة خطأ حيث إن المناخ المتطرف سواء كان بارداً أو حاراً يؤدي إلى الحد من فاعلية

الأنشطة البشرية وقلة السكان مثل سيبيريا فى شمال روسيا وصحراء شمال أفريقيا.

- ٥ - العبارة خطأ والصواب دولة إيطاليا التى يكون جزء من أراضيها متصل مع اليابس والجزء الآخر موجود كجزيرة فى البحر ( سردينيا وصقلية ).

#### إجابة السؤال الخامس عشر

- ١ - تؤثر التضاريس فى توزيع السكان بشكل كبير فهى تتحكم فى نظام التصريف المائى وتتحكم أيضاً فى مدى استثمار موارد الدولة المائية والمعدنية، فالظروف التضاريسية كانت مسئولة ضمن عوامل أخرى عن تحديد الحيز الذى عاش فيه المصرى عبر تاريخه، ويميل السكان فى معظم دول العالم إلى سكنى السهول أكثر من المرتفعات وذلك لوفرة الإنتاج الزراعى مثل المناطق السهلية لنهر النيل فى مصر، والسهل الأوروبى الأعظم وسهول آسيا الموسمية.
- ٢ - النبات الطبيعى هو النبات الذى لم يكن للإنسان دور فى ظهوره أو نموه أو كثافته أو نوعه، وتتمثل النباتات الطبيعية فى الغابات والحشائش، حيث تمثل الغابات مورداً مهماً لإنتاج الأخشاب لبناء وصناعة السفن والأثاث والمطاط الذى يعتبر مهماً للطائرات والسيارات وكذلك تستخدم أشجار الغابات فى توفير الأدوية والمستحضرات الطبية، أما الحشائش فهى تلعب دوراً مهماً فى رعى الحيوان عبر التاريخ.

#### إجابة السؤال السادس عشر

- ١ - العبارة خطأ حيث إن الدول ذات الحجم السكانى الصغير هى التى تعاني نقصاً فى القوى العاملة وبالتالي تعتمد على الأيدي العاملة الأجنبية.
- ٢ - العبارة خطأ حيث إن انتشار الثقافة وتغليب المصالح السياسية والاقتصادية أدى إلى تناقص أهمية هذا العامل من عوامل التجانس السكانى للدولة.
- ٣ - العبارة خطأ والعكس هو الصحيح حيث ترتفع نسبة الأطفال دون سن الخامسة عشرة فى الدول النامية، مما يسبب لها مزيداً من المشكلات.
- ٤ - العبارة صحيحة حيث تعمل الهجرة على تفريغ الدول النامية من الأيدي العاملة وخاصة الكفاءات.
- ٥ - العبارة صحيحة حيث يعد القمح والأرز والذرة الغذاء الأساسى وقت الأزمات والحروب.

### إجابة السؤال السابع عشر

- ١ - من مميزات الحجم السكانى الكبير للدولة سهولة إعداد جيوش عسكرية ضخمة مثل الجيش الصينى والجيش الأمريكى، وتوفير قوى بشرية عاملة فى مختلف المجالات، وظهور المبتكرين والمخترعين والمبدعين فى المجالات العلمية والرياضية والطبية والفنية .... إلخ ويمكن الدولة من إنشاء مصانع كبيرة الحجم على أساسى اقتصادى.
- ٢ - من سلبيات الحجم السكانى الكبير للدولة صعوبة توفير الغذاء لجميع السكان بسهولة، وكذلك صعوبة توفير الأمن والحماية بالإضافة إلى ظهور حركات التمرد الانفصالية.
- ٣ - يؤثر الحجم السكانى الكبير للدولة حيث يمثل السكان قوة هائلة فى الإنتاج الاقتصادى مما يساعد فى إنشاء الصناعات ذات الأهمية الاستراتيجية الكبيرة مثل صناعة الطائرات والقطارات والسيارات وآلات البناء والماكينات الثقيلة، ولا شك أن تقدم الصناعة لم يعد يتحقق حيث توجد مصادر الموارد الخام بل حيث توجد العقول والمهارات والتكنولوجيا المناسبة، وتعتبر اليابان خير دليل .

### إجابة السؤال الثامن عشر

تترك الإجابة للطالب فى ضوء ما درسه وتحت إشراف معلمه

### إجابة السؤال التاسع عشر

تترك الإجابة للطالب فى ضوء ما درسه وتحت إشراف معلمه

### إجابة السؤال العشرون

- ١ - تعتمد الصناعة على موارد معدنية أساسية وموارد طاقة ولاشك أن وجود هذه الموارد داخل الدولة على جانب كبير من الأهمية خاصة فى الصناعات الحربية والاستراتيجية التى تشد الحاجة إليها وقت الحرب مثل الحديد والنحاس والألومنيوم والزنك والرصاص والمنجنيز والنيكل واليورانيوم والبتروول مما يمنح الدولة سلاحاً تستخدمه فى تحقيق أهدافها.

- ٢ - تعد موارد الغذاء من أهم الجوانب التى يجب أن تتوفر من داخل الدولة أو على الأقل الاكتفاء الذاتى من الغذاء الأساسى وقت الأزمات والحروب مثل القمح والأرز والذرة لأنها من متطلبات الأمن القومى حيث تعفى الدولة والشعب من التعرض للضغوط الخارجية إذا كانت الدولة تعتمد على سد حاجة سكانها من الداخل، ولذلك يتم تصنيف

الدول من حيث قدرتها على الإنتاج الغذائى إلى:- دول لديها فائض مثل الولايات المتحدة الأمريكية وبعض الدول الأوربية، ودول لديها اكتفاء ذاتى مثل فرنسا، ودول تعاني من نقص فى إنتاج المواد الغذائية.

٣ - تعد وسائل النقل من الأمور الضرورية للدولة العصرية، حيث تعمل الطرق ووسائل الاتصال الجيدة على زيادة تماسك الدولة الداخلى ووحدتها القومية، ويؤدى نقل الأفراد والسلع إلى تقوية العلاقات الداخلية والخارجية للدولة كما إن وجود نظام نقل متطور ومتكامل يؤدى إلى نجاح خطط التنمية واستثمار موارد الدولة بشكل فعال، وكذلك سهولة السيطرة على الأمور الإدارية والسياسية فى جميع أنحاء الدولة، بالإضافة إلى سهولة حركة جيش الدولة وقت الحرب ونقل الامدادات عند تعرضها للكوارث.

#### إجابة السؤال الواحد والعشرون

- ١ - يقصد بقوة الدولة مدى قدرتها على تحريك عوامل القوة المتاحة لها، وتحويلها إلى طاقة فعالة ترفع مستوى معيشة مواطنيها وتؤثر فى الدول الأخرى بما يحقق مصلحتها القومية.
- ٢ - تترك الإجابة للطالب فى ضوء ما درسه وتحت إشراف معلمه
- ٣ - تترك الإجابة للطالب فى ضوء ما درسه وتحت إشراف معلمه

#### إجابة السؤال الثانى والعشرون

- ١ - العبارة خطأ حيث أن المؤشر الحقيقى لقوة الدولة العسكرية ليس عدد أفراد قوات جيشها بل أيضاً نوعية الفرد المقاتل ودرجة تعلمه وإخلاصة ودوافعه وأجهزة جميع المعلومات وتحليلها (المخابرات).
- ٢ - العبارة خطأ إذ يجب أن يواكب زيادة السكان زيادة مماثلة فى الناتج القومى للدولة وفى نصيب الفرد من الدخل القومى.
- ٣ - العبارة صحيحة فكلما زادت مساحة الدولة زاد احتمال قدرتها على الحصول على الموارد اللازمة للاكتفاء الذاتى خاصة فى الغذاء، وتوافر المواد الخام.
- ٤ - العبارة صحيحة حيث إن الدول التى يتركز سكانها فى جهات محدده يضعف استثمار جميع مواردها كما هو الحال فى معظم الدول العربية، كما يشكل تركيز السكان الشديد فى المدن الكبرى عاملاً من عوامل الخطر على سلامة واستقرار الدول.

### إجابة السؤال الثالث والعشرون

- ١ - عندما ترتفع نسبة البطالة بين سكان الدولة يؤدي ذلك إلى وجود مشكلات اجتماعية وسياسية خطيرة، فضلاً عن انخفاض مستوى الدخل وبالتالي مستوى المعيشة.
- ٢ - تعنى القوة التنظيمية للدولة نوعية الحكومة ومستويات الإدارة والحكم داخل الدولة مثل التقسيم الإدارى ودرجة مركزية الحكومة ومؤسسات الدولة والشفافية والكفاءة وكلما كانت مؤسسات الدولة قوية ومتكاملة كلما انعكس ذلك على الدخل القومى ومستوى المعيشة.

### إجابة السؤال الرابع والعشرون

تترك الإجابة للطالب فى ضوء ما درسه وتحت إشراف معلمه.

### إجابة السؤال الخامس والعشرون

- ١ - ب - النظام السياسى
- ٢ - ج - توزيع عادل للسلطة
- ٣ - د - فرنسا
- ٤ - أ - بريطانيا
- ٥ - أ - الولايات المتحدة الأمريكية

### إجابة السؤال السادس والعشرون

- ١ - لا يوجد نظام حكم مثالى فكل نظام مميزاته وعيوبه لأن المجتمعات تختلف حضارياً وجغرافياً وثقافياً، ولكل منها تجربته الخاصة.
- ٢ - من مميزات النظام الرئاسى استقلال السلطة التنفيذية عن السلطة التشريعية، كما أن السلطة القضائية مستقلة عن باقى السلطات.

### إجابة السؤال السابع والعشرون

- ١ - تحديد كشوف الناخبين ثم الترشح للانتخابات ثم اجراء الانتخابات ثم فرز أصوات الناخبين ثم تحديد الفائزين.
- ٢ - تترك الإجابة للطالب فى ضوء ما درسه وتحت إشراف معلمه.
- ٣ - تترك الإجابة للطالب فى ضوء ما درسه وتحت إشراف معلمه.

المشكلات السياسية

إجابة السؤال التاسع والعشرون

١ - د - تصفية الاستعمار لمستعمراته ٢ - أ - زيادة عدد السكان

٣ - ب - تالية ٤ - ج - منطبعة

٥ - ج - منطبعة

إجابة السؤال الثلاثون

١ - التخوم : منطقة جغرافية لها مساحة ذات بعدين طول وعرض.

٢ - الحدود السياسية : خطوط ترسم على الخريطة لتبين الرقعة الأرضية التى تمارس عليها الدولة

سيادتها، ولا بد أن تعترف بهذه الحدود صاحبة العلاقة والمجتمع الدولى.

٣ -	التخوم	الحدود السياسية
١	مناطق جغرافية لها مساحة كالغابات والصحارى	خطوط تفصل بين الدول بعضها وبعض.
٢	ظاهرة جغرافية	ظاهرة سياسية ولا يتعدى عرضها بضع بوصات أحياناً
٣	ليس لها أساسى قانونى أو معاهده تحدد إطارها المكانى بدقة	ظاهرة قانونية شرعية من خلال اتفاقية أو معاهده
٤	ظاهرة ثابتة فى المكان لا يمكن تحريكها	قابلة للنقل والحركة، فهى ظاهره بشرية
٥	تضم أحياناً موارد طبيعية كالغابات	لا تظهر بها موارد طبيعية لأنها مجرد خطوط
٦	مناطق وصل ذات توجه خارجى حيث أن سكانها يديرون أمورهم بعيداً عن السلطة المركزية	خطوط فصل ذات توجه داخلى حددتها الحكومة المركزية وتحافظ عليها، وتفرض سيطرتها عليها أرضاً وسكاناً

إجابة السؤال الواحد والثلاثون

- ١ - العبارة صحيحة وعندما أزيلت الغابات انكشفت الأرض، وبالتالي رسمت الحدود الخطية للفصل بين الدول بدلاً من التخوم.
- ٢ - العبارة صحيحة فقد ظهرت الحدود السياسية الخطية نتيجة لإبرام المعاهدات بين الدول، وكثير من حدود العالم اليوم تم تحديدها بناء على معاهدات خشية طغيان دولة على أخرى.
- ٣ - العبارة خطأ حيث إن وظيفة الحد السياسى تشمل الفصل بين الدول والحماية والأمن والحماية الاقتصادية بالإضافة إلى الوظيفة السياسية والقانونية للحد.
- ٤ - العبارة صحيحة حيث تلعب الحدود السياسية دوراً فى الفصل بين الدول من خلال الاتفاقات الموثقة فى وثائق رسمية بين الدول.

#### إجابة السؤال الثانى والثلاثون

- ١ - من وظائف الحدود السياسية الحماية الاقتصادية للدول حيث تحدد الحدود السياسية نصيب كل دولة من موارد الثروة التى تستثمرها الدولة الآن وفى المستقبل ولذلك تقوم كل دولة بتحديد حدودها بدقة وتعقد الاتفاقات الخاصة بذلك، كما تراقب الدول تدفق السلع والبضائع عبر الحدود فى الاتجاهين، وتحاول منع تهريب السلع وتحدد الرسوم الجمركية على السلع المستوردة لحماية منتجاتها، وتسهم فى حماية مواطنيها من خلال فحص المنتجات المستوردة وتحديد مدى صلاحيتها أو جودتها للاستخدام.
- ٢ - تقوم بعض الدول بتغيير حدودها السياسية عندما تظهر موارد وثروات اقتصادية مهمة، وكذلك عند زيادة السكان وتقدم وسائل النقل والمواصلات.

#### إجابة السؤال الثالث والثلاثون

- ١ - أدت الزيادة السكانية إلى أن تتوسع كل دولة فى مناطق التخوم المجاوره لها، وصاحب هذا التوسع تقدم وسائل النقل والاتصالات، ومع هذا التوسع التقت الدول مع بعضها البعض عند نقطة لا بد وأن يحدد فيها أو عندها حدود خطية تحدد سيادة كل دولة بكل دقة مثلما حدث فى قارة أوروبا.
- ٢ - أدى استقلال الدول الأفريقية إلى نشأة الكثير من الحدود الخطية بين المناطق التى كانت الدول الأوربية تحتلها.
- ٣ - تعتبر وظيفة الحماية والأمن من أكثر وظائف الحدود أهمية، حيث إن الغرض الأساسى من إقامة الحدود هو الأمن والحماية من الاعتداءات المفاجئة، حيث تتركز الدفاعات العسكرية على



طول الحدود خاصة فى القطاعات المعرضة لأغراض الغزو والتهريب، إلا أن اختراع الطائرات والصواريخ والأقمار الصناعية والتطورات الحديثة فى وسائل الحرب ومداها وسرعتها وفاعلية تدميرها وتخطيها للعقبات الطبيعية أسقط نظرية الحد الآمن.

#### إجابة السؤال الرابع والثلاثون

- ١ - العبارة خطأ حيث إن الحدود بين الهند والصين حدود طبيعية تتمثل فى جبال الهيمالايا.
- ٢ - العبارة صحيحة حيث تمتد الحدود السياسية بين شيلى والأرجنتين على طول امتداد جبال الإنديز.
- ٣ - العبارة خطأ حيث إن جبال البرانس تفصل بين فرنسا وإسبانيا كحد سياسى.
- ٤ - العبارة خطأ حيث أن أحد عيوب اتخاذ الأنهار حداً سياسياً هو عدم استقرارها وتغيير مجراها باستمرار.
- ٥ - العبارة خطأ حيث يتمشى خط الحدود بين مصر والسودان مع دائرة عرض ٢٢ ° شمالاً ولذا فإنه يعتبر حداً هندسياً.

#### إجابة السؤال الخامس والثلاثون

- أ - ١ - المياه الإقليمية : نطاق من المياه البحرية تحدد حافته الخارجية من جهة البحر الحد السياسى البحرى للدولة.
- ٢ - المشكلة السياسية: أى تهديد للدولة يمس سيادتها على أراضيها أو استقرار شعبها وتماسكه من الخارج.
- ٣ - المياه الداخلية: كل الأشكال المائية المتصلة بالبحر وتقع فوق أراضي الدولة، وتشمل البحيرات الساحلية ومصبات الأنهار والخلجان محدوده المساحة ، ولاتعد المياه الداخلية جزءاً من المياه الإقليمية.
- ٤ - المياه التكميلية: تمتد من نهاية المياه الإقليمية للدولة الساحلية إلى مسافة محدودة فى اتجاه البحر.
- ٥ - الرصيف القارى: امتداد لليابس تحت مياه البحر ويمتد من خط الساحل حتى عمق

١٠٠ إقامة، وللدولة حق استكشاف الموارد الاقتصادية المائية والمعدنية الموجودة به واستغلالها.

ب- ١ - تسير الحدود السياسية فى بعض الأحيان مع الأنهار، ولها مميزات مثل وضوحها فى الطبيعة وأنها تمثل خطأ دفاعياً ومانعاً مائياً، إلا أن لها العديد من العيوب التى يترتب عليها الكثير من المشكلات مثل أنها غير مستقرة لأنها تغير مجاريها باستمرار، كما أن ضفافها غير ثابتة بسبب الفيضان والنحت والإرساب مثل نهر ( ريوجراند ) الذى تسير معه الحدود السياسية بين الولايات المتحدة الأمريكية والمكسيك.

٢ - تسير معظم حدود مصر الغربية مع خط طول ٢٥° شرقاً فيما عدا بعض الأجزاء الشمالية، وتسير كل حدود مصر الجنوبية مع دائرة عرض ٢٢° شمالاً وهى حدود مصر مع السودان.

#### إجابة السؤال السادس والثلاثون

١ - ج - اللغة ٢ - ب - الدين ٣ - د - النصف الثانى من القرن العشرين

٤ - ب - وارسو ٥ - د - الهند وباكستان

#### إجابة السؤال السابع والثلاثون

تترك الإجابة للطالب تحت إشراف معلمه وفى ضوء ما درسه.

#### إجابة السؤال الثامن والثلاثون

١ - يعتبر إقليم كشمير فى غاية الأهمية لكل من الهند وباكستان، فعلى الجانب الباكستانى فإن معظم سكان كشمير من المسلمين، كما أن هناك اتفاقاً فى العادات واللغة والتقاليد والثقافة والأصول العرقية، وترتبط كشمير بباكستان بشبكة سكك حديدية وشبكة طرق برية. وأعلى نهر السند وروافده يمران فى كشمير، بالإضافة إلى الحدود السياسية الطويلة بين كشمير وباكستان، أما الجانب الهندى فيستند على أن حكومة كشمير هى التى طلبت منها التدخل، بالإضافة إلى قيام الهند بمشروعات لتنمية الإقليم واستصلحت أراضى وأنشأت شبكة طرق، وحماية الهندوس.

٢ - تقع مدينة سبته فى مواجهة جبل طارق مباشرة وهى ذات موقع استراتيجى مهم، حيث تبعد عن جبل طارق بحوالى ٢٦ كم فقط، وتقع مدينة مليلة إلى الشرق من مدينة سبته بنحو ٢٥٠ كم وتكمن أهمية هاتين المدينتين الاستراتيجيتين فى إشرافهما على مضيق جبل طارق الذى يتحكم فى المرور من وإلى البحر المتوسط، وبالتالي نسبة كبيرة من التجارة الدولية.

### إجابة السؤال التاسع والثلاثون

تترك الإجابة للطالب تحت إشراف معلمه.

### إجابة السؤال الأربعون

١ - تم استحداث المياه التكميلية فى سبعينات القرن العشرين وتم الاتفاق على أن المياه الإقليمية للدولة هى ١٢ ميلاً بحرياً، ويكون لها ١٢ ميلاً بحرياً أخرى بمثابة مياه تكميلية لها مما ترتب عليه زيادة المدى البحرى للدولة الى ٢٤ ميلاً بحرياً، مما يعنى زيادة نصيب الدولة من الثروات البحرية المختلفة.

٢ - ترتب على وجود جزيرتى ( جربة وكرناح ) التونسيتين أن تم تعديل الحد البحرى بين ليبيا وتونس إلى أن يسير بزاوية ٢٦° ثم بعد ذلك بزاوية ٥٢° درجة وبذلك أصبح لتونس حقوق أساسية فى حقول الغاز والبتروى فى هذه المنطقة.

### إجابة السؤال الواحد والأربعون

تترك الإجابة للطالب تحت إشراف معلمه.

### إجابة السؤال الثانى والأربعون

تترك الإجابة للطالب تحت إشراف معلمه.

### إجابة السؤال الثالث والأربعون

تترك الإجابة للطالب تحت إشراف معلمه.

### إجابة السؤال الرابع والأربعون

١ - تتنوع اللغات فى الولايات المتحدة الأمريكية، حيث وفد إليها أناس من كافة أرجاء العالم وينحدرون من أعراق مختلفة، ويتحدثون لغات مختلفة وكذا فإنها تعد متحفاً لغوياً كبيراً رغم ذلك فإن من يحمل الجنسية الأمريكية لغته الرسمية هى اللغة الإنجليزية.

٢ - تحدث الهجرة الإجبارية داخل الأوطان وخارجها لأسباب كثيرة منها، حدوث الكوارث الطبيعية كالفيضانات والزلازل، أو لدوافع قومية مثل تهجير أهالى منطقة النوبة جنوب أسوان إلى أماكن أخرى بسبب بناء السد العالى، أو الحروب الأهلية والنزاعات المسلحة مثلما حدث فى دولة

الكويت وشطرى السودان، ويمكن أن نطلق على من يهاجر قسرياً بسبب الحرب الأهلية وما ينتج عنها اسم " اللاجئين " .

٣ - تعد قضية التفرقة العنصرية من أبشع صور التمييز الذى تتعرض له أقلية بسبب العرق أو الدين أو اللون، كما كان يحدث فى الولايات المتحدة الأمريكية حتى وقت قريب، حيث حصلت الأقلية الزنجية على حقوقها المدنية عام ١٩٦٨م بعد صراع طويل وتضحيات بشرية وظلم، ورغم ذلك فإن هذه المشكلة تطفو على السطح من وقت لآخر فى بعض الأحداث.

#### إجابة السؤال الخامس والأربعون

- ١ - د - الولايات المتحدة الأمريكية.      ٢ - أ - جنوب أفريقيا.
- ٣ - ب - الباسك.      ٤ - ب - تهجير أهالى النوبة من جنوب أسوان.

#### إجابة السؤال السادس والأربعون

تترك الإجابة للطالب تحت إشراف معلمه.

الوحدة الثالثة

إجابات

الدرس الأول: التكتلات الاقتصادية (مفهومها ومقوماتها وأهدافها)

إجابة السؤال الأول: ( أ )

١ - أوربا      ٢ - النفط      ٣ - ماستريخت      ٤ - آبك      ٥ - الكوميسا

إجابة السؤال الثانى: متروك للطالب تحت إشراف معلمه.

إجابة السؤال الثالث: ( أ ) متروك للطالب تحت إشراف معلمه.

(ب) ما النتائج المترتبة على : متروك للطالب تحت إشراف معلمه.

إجابة السؤال الرابع: ( أ )

(١) التكتلات الاقتصادية هى درجة من درجات التكامل الاقتصادى الذى يقوم بين مجموعة من الدول المتجانسة جغرافياً وثقافياً واجتماعياً والتي تجمعها مجموعة من المصالح الاقتصادية المشتركة، بهدف توسيع تلك المصالح وزيادة التجارة الدولية البينية، لتحقيق أكبر عائد ممكن، ثم الوصول إلى أقصى درجة من الرفاهية الاقتصادية لشعوب تلك الدول.

(٢) السمات المشتركة للتكتلات الاقتصادية الناجحة

- تشغل التكتلات الاقتصادية بأشكالها حيزاً مكانياً على خريطة العالم، تضم دولاً متعددة ، أى أنها تتكون من دول.
- تضم سكاناً، كما توجد سلطة إدارية تنظم العلاقات بين الأعضاء.
- المصالح المشتركة.

(٣) متروك للطالب تحت إشراف معلمه.

(٤) متروك للطالب تحت إشراف معلمه.

(٥) متروك للطالب تحت إشراف معلمه.

(٦) متروك للطالب تحت إشراف معلمه.

(٧) متروك للطالب تحت إشراف معلمه.

(ب) متروك للطالب تحت إشراف معلمه.

## إجابة الدرس الثاني: نماذج من التكتلات الاقتصادية

### إجابة السؤال الأول:

- ١- خمسة ٢- روما ٣- ماستريخت ٤- الأوربي
- ٥- خمسة ٦- كرواتيا ٧- المجلس الأوربي ٨- مجلس الاتحاد الأوربي ٩- ألمانيا
- ١٠- مالطة ١١- أبو ظبي ١٢- الرياض
- ١٣- ستة ١٤- المجلس الأعلى ١٥- الأمانة العامة
- ١٦- المجلس

### إجابة السؤال الثاني : متروك للطالب تحت إشراف معلمه.

### إجابة السؤال الثالث: متروك للطالب تحت إشراف معلمه.

### إجابة السؤال الرابع:

#### (١) أهداف الإتحاد الأوربي

- تحقيق التكامل الاقتصادى بين الدول الأعضاء.
- تحقيق الرفاهية الاقتصادية والاجتماعية للشعوب الأوربية.
- تقوية دول أوربا فى العالم فى مجالات السياسة الخارجية فى مياها الإقليمية.
- السعى نحو الوحدة الأوروبية التى تبدأ طريقها بالوحدة الاقتصادية.
- حرية التنقل بين الدول الأعضاء تنقل الأموال والاستثمارات والأيدى العاملة.

(٢) متروك للطالب تحت إشراف معلمه.

(٣) متروك للطالب تحت إشراف معلمه.

(٤) مراحل تكوين الاتحاد الأوربي :

- ١٩٥١ تشكيل المجموعه الأوروبية للفحم والصلب ( ست دول).

- ١٩٥٨ أول تشكيل وحدة جمركية.

- ١٩٩٢ تأسيس الاتحاد بتوقيع معاهدة ماسترخيت ( ١٣ دولة ).

- ٢٠٠٤ أكبر انضمام إلى الاتحاد الأوربي ( عشرة دول ).

- ٢٠١٣ أقصى توسع للاتحاد الأوربي ( يتكون من ٢٨ دولة )

(٥) متروك للطالب تحت إشراف معلمه.

إجابة السؤال الخامس :

(١) أهداف مجلس التعاون الخليجي

- تحقيق التعاون والتكامل بين دول المجلس فى جميع المجالات وصولاً إلى وحدتها.

- توثيق الروابط بين الشعوب.

- وضع أنظمة متماثلة فى مختلف الميادين الاقتصادية، المالية ،

التجارية، الجمارك ، وغيرها من الأنشطة المختلفة.

- دفع عملية التقدم العلمى والتقنى فى مجالات الاقتصاد المختلفة عن طريق إنشاء

مراكز بحوث علمية.

- إقامة مشاريع مشتركة وتشجيع تعاون القطاع الخاص.

(٢) متروك للطالب تحت إشراف معلمه.

(٣) متروك للطالب تحت إشراف معلمه.



(٤) متروك للطالب تحت إشراف معلمه.

(٥) متروك للطالب تحت إشراف معلمه.

(ب) متروك للطالب تحت إشراف معلمه.

### إجابة الدرس الثالث : الأحلاف العسكرية

#### إجابة السؤال الأول:

١- بعد الحرب العالمية الأولى      ٢- المظلة النووية الأمريكية

٣- الصين      ٤- شمال الأطلنطي

إجابة السؤال الثاني : متروك للطالب تحت إشراف معلمه.

إجابة السؤال الثالث: متروك للطالب تحت إشراف معلمه.

#### إجابة السؤال الرابع:

(١) الأحلاف العسكرية: هى اتفاق رسمى تتعهد بموجبه مجموعه من الدول بأن تتعاون فيما

بينها فى مجال الاستخدام المشترك لقدراتها العسكرية ضد دولة أو مجموعة دول، كما تلتزم الدول الموقعه باستخدام القوة أو التشاور باستخدامها فى ظروف معينة.

- البيروسترويك: تعنى بالروسية إعادة البناء، تضمنت محاولة إصلاح البنية الاقتصادية من خلال إعطاء فرصة أكبر للقطاع الخاص فصدرت قوانين تؤكد أهمية حاجات الأفراد الأساسية من خلال تشجيع المبادرة الفردية وتحقيق إصلاحات جذرية فى الزراعة ودعم المؤسسات الاقتصادية.

- الجلاسنوست: هى كلمة روسية تعنى الشفافية والانفتاح والتى تسمح باتخاذ إجراءات

التحرر السياسى وفتح المجال الديمقراطى للمجتمع الديمقراطى.

(٢) أهداف الأحلاف العسكرية:

- ردع الأعداء - زيادة القوة

(٣) متروك للطالب تحت إشراف معلمه.

(٤) متروك للطالب تحت إشراف معلمه.

(٥) متروك للطالب تحت إشراف معلمه.

إجابة السؤال الخامس :

(١) أهداف حلف شمال الأطلسي:

- احترام سيادة الدول الأعضاء واستقلالها.
- تسوية النزاعات بين الدول الأعضاء بالطريقة السلمية.
- تنمية التعاون الاقتصادي والاجتماعي والثقافي بين الدول الأعضاء.

(٢) متروك للطالب تحت إشراف معلمه.

(٣) متروك للطالب تحت إشراف معلمه.

(٤) متروك للطالب تحت إشراف معلمه.

(٥) متروك للطالب تحت إشراف معلمه.

(٦) متروك للطالب تحت إشراف معلمه.

إجابات الوحدة الرابعة

العلاقات الدولية والنظام العالمي الجديد

الدرس الأول: ماهية العلاقات الدولية

إجابة السؤال الأول: (أ)

١- ( ✓ )      ٢- ( ✓ )      ٣- ( × )

( ب ) متروك للطالب تحت إشراف معلمه.

( ج ) متروك للطالب تحت إشراف معلمه.

إجابة السؤال الثاني

متروك للطالب تحت إشراف معلمه.

إجابة السؤال الثالث :

(١) العلاقات الدولية هى مجموعة العلاقات الاقتصادية والسياسية والعسكرية والقانونية

والدبلوماسية بين الدول أو منظمات، دول موجوده على الساحة العالمية.

الحرب: صراع مسلح بين دولتين أو أكثر تتشب لتحقيق مصالح وطنية من جهة

نظر الدولتين وهى حالة قانونية معترف بإمكان حدوثها.

(٢) متروك للطالب تحت إشراف معلمه.

(٣) متروك للطالب تحت إشراف معلمه.

(٤) متروك للطالب تحت إشراف معلمه.

الدرس الثاني: النظام الدولي العالمي الجديد

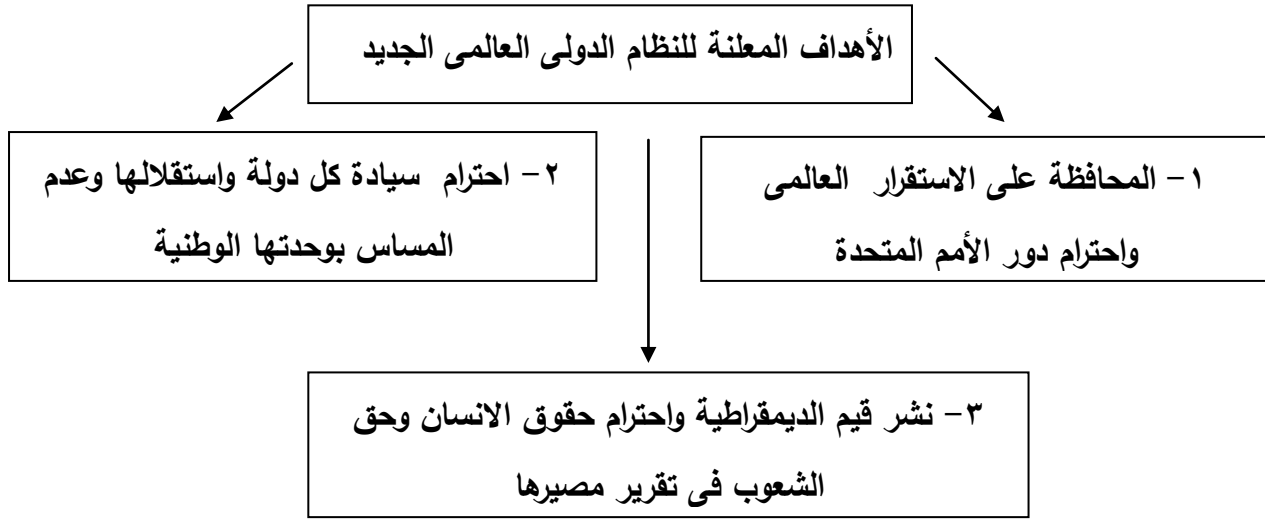
إجابة السؤال الأول: (أ)

- ١- ويلسون      ٢- السوفيتي جورباتشوف      ٣- المعلوماتية

(ب) متروك للطالب تحت إشراف معلمه.

إجابة السؤال الثاني : متروك للطالب تحت إشراف معلمه.

إجابة السؤال الثالث : ( أ )



إجابة السؤال الرابع : ( أ )

١ - النظام العالمي الجديد: عبارة عن مجموعة من إجراءات وقوانين تضبط العلاقات

الدولية وتحدد الخريطة السياسية لعالم ما بعد الحرب الباردة

٢ - المبادئ الحاكمة للنظام العالمي الجديد:

- نزع السلاح

- إحلال مبدأ توازن المصالح بدلاً من توازن القوى

- العمل من أجل تخطى الحواجز والصراعات تحقيقاً لمصالح البشرية

(٣) متروك للطالب تحت إشراف معلمه.

(ب) متروك للطالب تحت إشراف معلمه.

اجابات التدريبات العامة

إجابة السؤال الأول:

- ١- أ      ٢- ب      ٣- ج      ٤- د      ٥- هـ      ٦- د

السؤال الثاني: ما ذا كان يحدث إذا.....؟

١- إذا لم يتدخل الاتحاد السوفيتي في أفغانستان

- كان من الصعب أن ينهار كقوة عظمى تحافظ على التوازن الدولي مما سيؤدي إلى استقرار العلاقات الدولية إلى جانب احتفاظه بقوته العسكرية والاقتصادية
- لم تكن هناك إمكانية لتوسع الاتحاد الأوروبي وحلف الناتو على حساب المعسكر الشرقي.
- ٢- لم تعد ألمانيا الموحدة وتبرز كأكبر قوة اقتصادية في أوروبا.
- ٣- لم يكن هناك انقلاب في العلاقات بين الشرق والغرب

إجابة السؤال الثالث : بم تفسر .....

- ١- كان لابد من حصول الصين على مقعد دائم في مجلس الأمن بسبب ثقلها السكاني الذي كان يبلغ حينها أقل قليلاً من ربع سكان العالم
- ٢- تطور دور الصين في الألفية الثالثة على مسرح العلاقات الدولية بسبب تقدمها في المجالين الاقتصادي والعسكري إلى جانب عدد سكانها الضخم مما أدى إلى أن تسعى معظم دول العالم لإقامة علاقات معها في كافة المجالات.
- ٣- لأنها ظهرت كقوة اقتصادية إلى جانب تطور قدراتها العسكرية وأيضاً حجمها السكاني لذلك أصبح لها اعتبار سياسي على مسرح العلاقات الدولية.
- ٤- بسبب إحلال قيم العولمة السلبية .
- ٥- بسبب عزه عن تطوير إنتاجه الاقتصادي مقارنة بالمستوى السائد في الدول الغربية.
- ٦- بانهيار الاتحاد السوفيتي تغيرت ملامح العلاقات الدولية والتي تمثلت في فقد العالم للتوازن الدولي بسبب انفراد الولايات المتحدة بزعامة العالم - تنامي دور الصين على الساحة العالمية - صعود نجم الهند - التقارب الروسي الصيني- توسع الاتحاد الأوروبي على حساب المعسكر الشرقي .
- ٧- بسبب مساعدة الولايات المتحدة الأمريكية لبرلين .
- وانتهت الأزمة بتقسيم ألمانيا إلى دولتين الشرقية والغربية .

٨- بسبب الصراع بين القطبين الشرق والغرب والذي بلغ ذروته في حصار الاتحاد السوفيتي لبرلين عام ١٩٤٨ م.

• وتلاه إنشاء حلف شمال الأطلسي وحلف وارسو.

٩- لأن دول غرب أوروبا سعت لاستكمال وحدتها بمحورها الاقتصادي والسياسي والاجتماعي والذي فشل بسبب مساعدة الولايات المتحدة لسكان برلين

• للتطوير نحو المزيد من التكتلات الاقتصادية لتحقيق التكامل الاقتصادي  
-١٠-

• لأن الصراع الحالي يدور حول التكنولوجيا

• عدم انضمام دول كبرى كالولايات المتحدة الأمريكية والاتحاد السوفيتي  
-١١-

• انسحاب دول أخرى كاليابان وألمانيا.

• واليورانيوم يدخل في الصناعات التكنولوجية المتقدمة.

• \*افتقار العصبية إلى قوة عسكرية تابعة لها واندلاع الحرب العالمية الثانية.

١٢- التغيرات والتطورات التي حدثت علي الساحة الدولية في السنوات الأخيرة منها:

• سعي دول أوروبا الغربية ؛ لاستكمال وحدتها بمحورها الاقتصادي والسياسي والاجتماعي .  
• سعي الدول الصناعية الآسيوية الناشئة للحصول علي مكانة هامة في الساحة الاقتصادية والسياسية.  
-١٣-

• عدم انضمام دول كبرى إليها مثل الولايات المتحدة والاتحاد السوفيتي .

• انسحاب دول أخرى كاليابان و ألمانيا .

• الثورة الصناعية الثالثة.

• افتقار العصبية إلي قوة عسكرية تابعة لها .

١٤- سعت الدول الصناعية الآسيوية الناشئة للحصول علي مكانة هامة في الساحة الاقتصادية و السياسية ومن هذه الدول الصين وكوريا وسنغافورة والهند

إجابة السؤال الرابع : **دلل ما صحة العبارة :**

١. العبارة صحيحة: حيث شملت البعثات الدبلوماسية لأي دولة ونوعية التمثيل داخل كل بعثة علي

حده (تمثيل سياسي و اقتصادي - عسكري - ثقافي - صحي - تعليمي )

٢. العبارة صحيحة: مثل دولة بوزن الصين احتلت مقعد دائم في مجلس الأمن بعد الحرب العالمية

( الثانية وغيره )

- ولم يكن في ذلك الوقت لها رصيد اقتصادي أو عسكري يؤهلها لذلك

٣. العبارة خطأ: الرئيس ويلسون الأمريكي

٤. العبارة خطأ: فرضته ظروف العالم في الفترة التي تلت الحرب الباردة .

٥. العبارة صحيحة: بسبب حصار الاتحاد السوفيتي لبرلين ١٩٤٨ ولكنه فشل بسبب مساعدة الولايات المتحدة لسكان برلين .

٦. العبارة صحيحة: المفاوضات - الوساطة - المساعي الحميدة - التوفيق - التحكيم

٧. العبارة صحيحة: دليل علي ذلك البعثات الدبلوماسية لأي دولة ونوعية التمثيل داخل كل بعثة علي حدة كالتمثيل السياسي والاقتصادي وغيرها .

٨. العبارة صحيحة : كان لظهور اليابان و ألمانيا كقوتين عظميين لهما دورهما الفعال والمؤثر في النظام الاقتصادي العالمي والأسواق العالمية .

٩. العبارة صحيحة: خشية وقوع مواجهه عسكرية تؤدي إلي اندلاع حرب نووية مدمرة

إجابة السؤال الخامس : ما النتائج المترتبة علي .....

١- تدهورت العلاقة بين الطرفين .

• اعتبرت الولايات المتحدة هذا التدخل أعظم تهديد للسلام العالمي منذ الحرب العالمية الثانية.

٢- أصبحت مرحلة من مراحل الحرب الباردة بين الطرفين وهي تراجع الوفاق.

٣- يتم إحالة النزاع إلي لجنة محايدة مهمتها تقديم تقرير إلي الطرفين يتضمن اقتراحات واضحة من أجل إجراء تسوية بينهما .

٤- تم الإعلان رسمياً عن نهاية الحرب الباردة - عقد مؤتمرات قمة بين الدولتين لتسوية المشاكل العالقة بينهما واستقالة جورباتشوف من رئاسة الاتحاد السوفيتي عام ١٩٩٢ الذي انتهى رسمياً .

٥- فشل الاتحاد السوفيتي بسبب مساعدة الولايات المتحدة لسكان برلين وانتهت الأزمة بتقسيم ألمانيا إلي قسمين.



٦- أدي ذلك إلى تحويل كثير من المساعدات الاقتصادية والمالية والتكنولوجية والتبادل التجاري لصالح العلاقات الجديدة بين شرق أوروبا والغرب عموماً علي حساب الدول النامية .

#### إجابة السؤال السادس:

- ١ - متروك للطالب تحت إشراف معلمه.
- ٢ - أهم طرق حل النزاعات الدولية في حالة السلم  
المفاوضات - الوساطة - المساعي الحميدة - التوفيق - التحكيم .
- ٣ - كلا المرحلتين من نتائج الحرب العالمية الثاني  
الأولى في الفترة من ١٩٦٩ إلى ١٩٧٦م كانت سياسة التقارب والانفتاح على أساس المصالح المشتركة خشية وقوع حرب مدمرة  
الثانية ١٩٧٦ إلى ١٩٨٥م بسبب التدخل السوفيتي في أفغانستان وقد تدهورت العلاقة بين قطبي الصراع الولايات المتحدة والاتحاد السوفيتي

#### إجابة السؤال السابع :

- ١ - النظام الدولي العالمي
- ٢ - العلاقات الدولية.
- ٣ - الحرب

#### إجابة السؤال الثامن : ما العلاقة بين كل من .....؟

- ١- نقلت الثورة الصناعية العلاقات بين الدول من علاقات جوار إلى آفاق أوسع شملت العالم كله  
• ونقلت العلاقات من مجرد سلم وحرب إلى مجالات متطورة أخرى
- ٢- تدعيم دور هيئة الأمم المتحدة في الحفاظ علي السلم والأمن الدوليين .  
• تكوين قوات حفظ السلام القادرة علي أداء مهماتها .
- ٣- حدوث صراع خفي بين الدول المتقدمة للحصول علي اليورانيوم من بعض الدول الأفريقية مما يجعلها مطمئناً للدول المتقدمة
- ٤- من أهم أسباب سقوط الاتحاد السوفيتي السابق عجزه عن تطوير نظم إنتاجه الاقتصادي مقارنة بالمستوي السائد في الدول الغربية.

## قطاع الكتب

### تحذير

هذا الكتاب ملك لوزارة التربية والتعليم وغير مسموح  
لأى جهة أو شخص يقوم بإصدار كتب مماثلة بالنقل منها  
أو الاقتباس أو إصدار كتاب أو نشره أو نسخه أو حلها أو اجاباتها  
لها ورد به من أسئلة وإلا تعرض للمساءلة القانونية

**المركز القومي للمكتبات والتقويم التربوي**