



جمهورية مصر العربية
وزارة التربية والتعليم والتعليم الفني
الإدارة المركزية لتطوير المناهج
الإدارة المركزية لشئون الكتب

الدراسات الاجتماعية

جغرافية العالم وتاريخ مصر الحديث والمعاصر

تأليف

أ.د/ إسماعيل زين الدين
أستاذ التاريخ الحديث - كلية الآداب جامعة القاهرة

أ.د/ أحمد ماهر عبد الله
أستاذ مناهج و طرق تدريس التاريخ
كلية التربية جامعة بنها

د/ مروة حسين إسماعيل طه
مدرس مناهج و طرق تدريس جغرافيا
كلية البنات جامعة عين شمس

د/ محمد إبراهيم محمد خطاب
مدرس الجغرافيا
كلية الآداب جامعة القاهرة

أ.د/ محمد صبرى محسوب
أستاذ الجغرافيا - كلية الآداب جامعة القاهرة

أ.د/ أحمد إبراهيم شلبى
أستاذ مناهج و طرق تدريس الجغرافيا
كلية التربية جامعة عين شمس

د/ السيد محمد منصور
أستاذ مناهج و طرق تدريس علم النفس والاجتماع
كلية التربية جامعة بنها

د/ محمد أحمد عبد الهادى
خبير البيئة والمناهج والمواد التعليمية

مراجعة

الإدارة العامة لتخطيط و صياغة المناهج

الإدارة العامة لتنفيذ و تقييم المناهج

إشراف

د / أكرم حسن محمد

رئيس الإدارة المركزية لتطوير المناهج

طبعة ٢٠٢٣ - ٢٠٢٤ م

غير مصرح بتداول هذا الكتاب خارج وزارة التربية والتعليم والتعليم الفني

الصف الثالث الإعدادي

للفصلين الدراسيين

لجنة المراجعة والتعديل

أ.د / علي جودة محمد

أستاذ المناهج وطرق التدريس - جامعة بنها

أ.د / جمال معوض شقرة

أستاذ التاريخ - جامعة عين شمس

أ.د / منير بسيوني سالم

أستاذ الجغرافيا - جامعة المنصورة

أ.د / إبراهيم العدل

أستاذ التاريخ الحديث - جامعة المنصورة

د / وصفی حکیم لویز

خبير المناهج بالإدارة المركزية لتطوير المناهج

د / أمنية يوسف محمد عزمى

خبير المناهج بالإدارة المركزية لتطوير المناهج

أ / سماح صلاح إمام

رئيس قسم بمكتب تنمية مادة الدراسات الاجتماعية

أ/ هند عبد الغني نصر

رئيس قسم بمكتب تنمية مادة الدراسات الاجتماعية

أ / أشرف عبد المنعم سيد

مدير عام تنمية مادة الدراسات الاجتماعية

لجنة تعديل وتعميق البعد الإفريقي

أ.د/ حمدنا الله مصطفى حسن	أستاذ التاريخ الحديث والمعاصر بكلية الآداب جامعة عين شمس
أ.د/ عزيزة بدر	أستاذ الجغرافيا بمعهد البحوث الإفريقية/ جامعة القاهرة
د/ سالي محمد فريد	أستاذ الاقتصاد الإفريقي والتنمية بمعهد البحوث والدراسات الإفريقية
أ/ محمود محمد إبراهيم عطية	مدير عام تنمية مادة الدراسات الاجتماعية بديوان عام الوزارة (سابقاً)
د/ ثناء أحمد جمعة	رئيس قسم الدراسات الاجتماعية بالإدارة العامة للتخطيط وصياغة المناهج
د/ ميرفت عبدالنبي سيد	خبير بالإدارة العامة للتخطيط وصياغة المناهج

الاسم :

المدرسة :

الفصل :

العنوان :

العام الدراسي :

المقدمة

أبناءنا تلاميذ وتلميذات الصف الثالث الإعدادي، يطيب لنا أن نقدم لكم كتاب الدراسات الاجتماعية، الفصل الدراسي الأول وهو بعنوان.. جغرافية العالم وتاريخ مصر الحديث.

وفي ذلك الكتاب نعيش سوياً في جولة سياحية حول العالم لتتعرف من خلالها على الملامح الطبيعية للقارات من حيث الموقع والتضاريس والأقاليم المناخية والنبات الطبيعي كما نتعرف سوياً على السلالات البشرية في العالم وخصائص سكان العالم. و الموارد و الانشطة الاقتصادية بالإضافة إلي نماذج لبعض الدول النامية و المتقدمة

ويتناول الكتاب أحداث من تاريخ مصر الحديث ، بدءاً من الحكم العثماني لمصر حتى قيام ثورة ٢٣ يوليو ١٩٥٢م، موضحاً حالة مصر تحت الحكم العثماني والحملة الفرنسية على مصر والشام ونتائجها، ونمو الروح القومية لدى المصريين التي أدت إلى اعتلاء(محمد علي)حكم مصر في عام ١٨٠٥م، واستمرار مقاومة الاحتلال حتى انبعث فجر جديد لمصرنا العزيزة في ٢٣ يوليو ١٩٥٢م. و حرب أكتوبر ١٩٧٣ ، و مصر و النزاع العربي الإسرائيلي ، و ثورتا ٢٥ يناير ٢٠١١ م ، و ٣٠ يونيو ٢٠١٣ م .

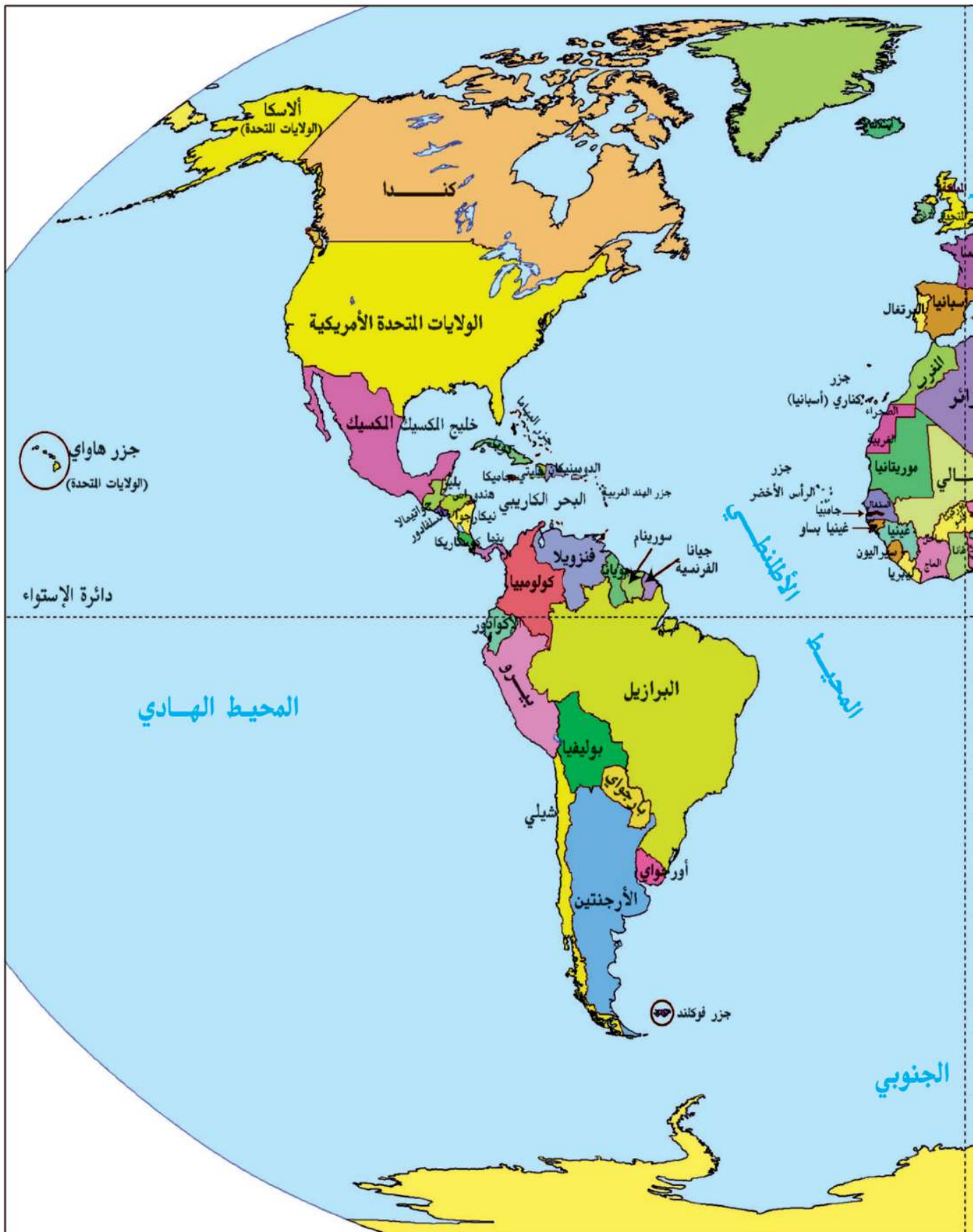
ولقد تم تنظيم محتوى الكتاب في صورة وحدات دراسية بحيث تضم كل وحدة عدداً من الدروس المترابطة التي يمكنك من استيعاب مضمون الكتاب في يسر وسهولة، وتضمن الكتاب العديد من المعلومات الإثرائية، والمفاهيم وكذلك العديد من الصور والخرائط والأشكال التوضيحية والرسوم البيانية بألوانها الجذابة وتوظيفها بالشكل الذي يساعد على فهم واستيعاب المادة العلمية والتنمية الشاملة والتدريب على مهارات التفكير والتعامل مع مصادر المعرفة المتعددة ، ونأمل من الله عز وجل أن نكون قد قدمنا لكم عزيزي التلميذ/عزيزتي التلميذة هذا الكتاب بالشكل الذي يحقق الأهداف المرجوة منه .

ملحوظة مهمة : الأرقام والنسب والسنوات بالكتاب ليست هدفاً للورقة الامتحانية وإنما للاستدلال والاستنتاج.

والله الموفق .



خريطة (١) العالم سياسياً



محتويات الفصل الدراسي الأول

الصفحة	المقدمة
	الوحدة الأولى
	الجغرافيا الطبيعية للعالم
٢	الدرس الأول قارات العالم (الموقع و المساحة)
٧	الدرس الثاني تضاريس العالم
١٥	الدرس الثالث المناخ والنبات الطبيعي في العالم
	الوحدة الثانية
	جغرافية سكان العالم
٢٣	الدرس الأول السلالات البشرية في العالم
٢٨	الدرس الثاني توزيع السكان في العالم
٣٤	الدرس الثالث خصائص سكان العالم
	الوحدة الثالثة
	مصر تحت الحكم العثماني
٤١	الدرس الأول مصر بين المماليك والعثمانيين
٤٧	الدرس الثاني الحملة الفرنسية على مصر (١٧٩٨ - ١٨٠١م)
٥٣	الدرس الثالث ثورة الشعب المصري وتولية (محمد علي)
٥٧	الدرس الرابع (محمد علي) وبناء مصر الحديثة
	الوحدة الرابعة
	مصر والزحف الاستعماري ومحاولات التحرر الوطني
٦٤	الدرس الأول خلفاء (محمد علي) وازدياد النفوذ الأجنبي
٧٢	الدرس الثاني الحركة الوطنية والثورة العربية
٧٨	الدرس الثالث الكفاح الوطني ضد الاحتلال البريطاني
٨١	الدرس الرابع مصر من الحماية البريطانية حتى ثورة يوليو ١٩٥٢م

أهداف الوحدة

في نهاية دراسة هذه الوحدة يتوقع أن يكون التلميذ قادرًا على أن :

- يوزع قارات العالم القديم والجديد على خريطة صماء.
- يحدد موقع مصر المتوسط بين قارات العالم.
- يصنف التضاريس التي تميز كل قارة من قارات العالم.
- يقارن بين مظاهر السطح في قارات العالم.
- يميز بين العوامل المؤثرة في مناخ القارات.
- يوضح أهم الأقاليم المناخية في قارات العالم.
- يوزع الأقاليم المناخية في قارات العالم على خريطة صماء.
- يقدر عظمة الله في تنوع الخصائص الطبيعية بين قارات العالم.

دروس الوحدة

الدرس الأول : قارات العالم (الموقع والمساحة)



الدرس الثاني: تضاريس العالم



الدرس الثالث: المناخ والنبات الطبيعي في العالم



الوحدة الأولى

الدرس الأول

قارات العالم (الموقع والمساحة)

أهداف الدرس

من المتوقع بعد الانتهاء من الدرس أن يكون التلميذ قادرًا على أن:

- يوزع على خريطة صماء قارات العالم.
- يرتب قارات العالم تبعًا لمساحة كل قارة.
- يحدد أسماء المحيطات على خريطة صماء للعالم.
- يذكر بعض الجزر بقارات العالم.
- يحدد الموقع الجغرافي والفلكي لكل قارة من قارات العالم.

معلومات إثرائية عن

- المحيط القطبي الجنوبي .

خرائط

- خريطة مساحات القارات والمحيطات في العالم.
- خريطة الموقع الفلكي والجغرافي لقارة آسيا.
- خريطة الموقع الفلكي والجغرافي لقارة أفريقيا.
- خريطة الموقع الفلكي والجغرافي لقارة أوروبا.
- خريطة الموقع الفلكي والجغرافي لقارة أمريكا الشمالية.
- خريطة الموقع الفلكي والجغرافي لقارة أمريكا الجنوبية.
- خريطة الموقع الفلكي والجغرافي لقارة أستراليا

مفاهيم أتعلّمها

- الدول الجزرية.
- الموقع الجغرافي.

قضايا متضمنة

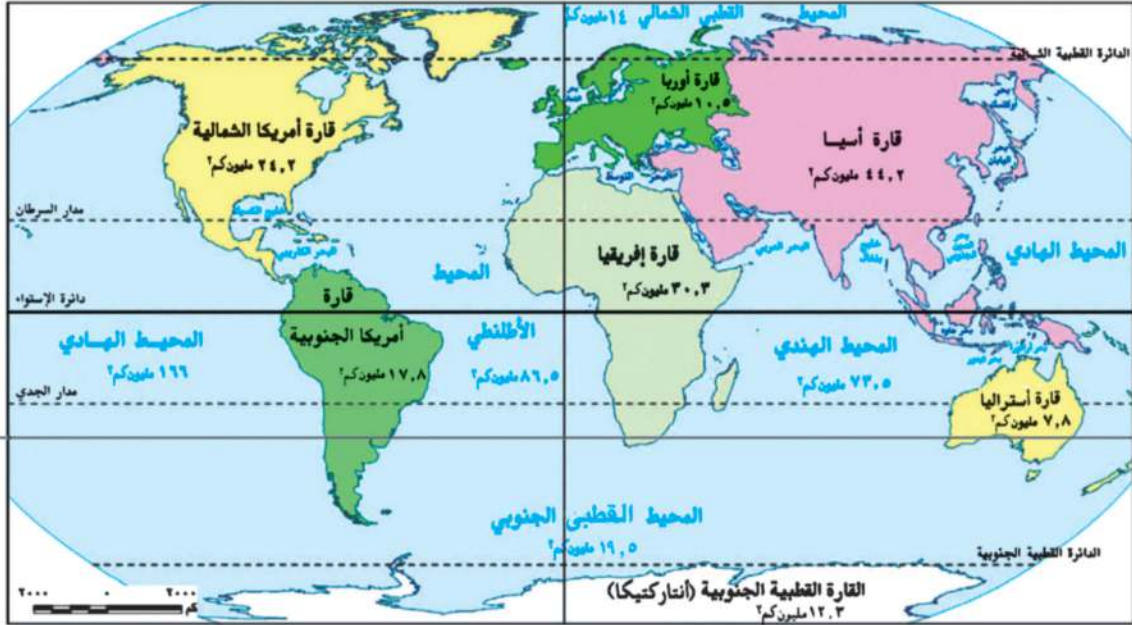
- قضايا البيئة وحمايتها.

القيم المتضمنة

- الانتماء للوطن.

التمهيد

- تبلغ مساحة الكرة الأرضية ٥١٠ مليون كم^٢ ، تمثل مساحة المحيطات والبحار ٧٠,٧٪ من مساحة الكرة الأرضية بينما النسبة الباقية. وقدرها ٢٩,٣٪ فتشغلها القارات.
- لاحظ الخريطة (٢) وناقش معلمك في توزيع القارات والمحيطات وترتيبها من حيث المساحة :



خريطة (٢) مساحة قارات ومحيطات العالم

ويمكن تقسيم القارات إلى قارات العالم القديم وهي أفريقيا وأوروبا وآسيا، وقارات العالم الجديد وهي أمريكا الشمالية وأمريكا الجنوبية وأستراليا بالإضافة إلى القارة القطبية الجنوبية، تعال معاً نتعرف المزيد عنها من حيث الموقع الفلكي الجغرافي.

الموقع الفلكي والجغرافي لقارات العالم

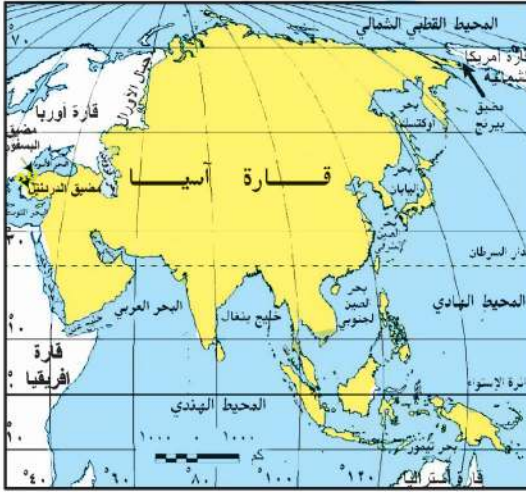
قارة آسيا

نلاحظ من الخريطة (٣) أن قارة آسيا:

- تمتد من دائرة عرض ١٠° جنوب دائرة الاستواء إلى دائرة عرض ٨١° شمالاً، وتمتد من خط طول ٢٦° شرقاً حتى ١٧٠° غرباً.

مفاهيم تعلمها

الموقع الجغرافي : يقصد به موقع المكان سواء كان قارة أو دولة أو غيرها بالنسبة للأماكن الأخرى من بحار ومحيطات ودول مجاورة



خريطة (٣) الموقع الفلكي والجغرافي لقارة آسيا

- تحاط بالمياه من ثلاث جهات، المحيط القطبي الشمالي من الشمال، المحيط الهادئ من الشرق، والمحيط الهندي من الجنوب، لاحظها بالخريطة.
- يوجد بها أكبر بحر مغلق فى العالم، وهو بحر قزوين.
- يفصلها عن قارة أوروبا جبال الأورال، ويفصلها عن إفريقيا شبه جزيرة سيناء والبحر الأحمر ومضيق باب المندب.
- تتميز بكثرة الجزر القريبة من سواحلها مثل جزر اليابان والفلبين، وتوجد بها أشباه جزر كثيرة، مثل شبه الجزيرة العربية وشبه جزيرة الملايو.

مفاهيم اتعلمها

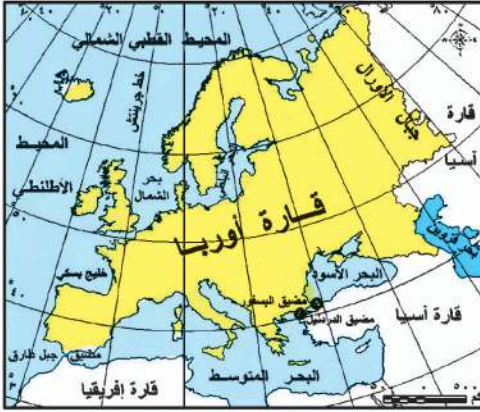
الدول الجزرية : هي الدول التى تتكون من جزيرة أو أكثر أو قد تكون جزء من جزيرة.



خريطة (٤) الموقع الفلكي والجغرافي لقارة إفريقيا

قارة إفريقيا

- نلاحظ من الخريطة (٤) أن قارة إفريقيا:
- تمتد بين دائرتي عرض ٣٠° ٣٤° جنوباً، ٣٠° ٣٧° شمالاً وتمتد من خط طول ١٧° غرباً حتى ٥١° شرقاً.
 - يحدها البحر المتوسط من الشمال ويفصلها عن قارة أوروبا، بينما يحدها من الشرق المحيط الهندي، والبحر الأحمر ويحدها من الغرب المحيط الأطلسي.
 - تقل بها الجزر وأهمها جزيرة مدغشقر وجزر القمر
- (تعرف على موقع هذه الجزر من خلال الخريطة (٤))



خريطة (٥) الموقع الفلكي والجغرافي لقارة أوروبا



خريطة (٦) الموقع الفلكي والجغرافي لقارة أمريكا الشمالية



خريطة (٧) الموقع الفلكي والجغرافي لقارة أمريكا الجنوبية

■ قارة أوروبا

نلاحظ من الخريطة (٥) أن قارة أوروبا:

- تمتد من دائرة عرض ٣٦ شمالاً حتى دائرة عرض ٧١ شمالاً، وتمتد من خط طول ٢٥ غرباً (غرب آيسلندا) وحتى خط طول ٦٦ شرقاً، وتحدها قارة آسيا شرقاً والبحر المتوسط جنوباً والمحيط الأطلنطي في الغرب والمحيط القطبي الشمالي شمالاً.

- تتميز سواحلها بالتعرج وكثرة الجزر، مما ساعد على إنشاء الموانئ.

■ قارة أمريكا الشمالية

نلاحظ من الخريطة (٦) أن قارة أمريكا الشمالية:

- تمتد من دائرة عرض ٣٠ شمالاً وحتى ٨٣ شمالاً وتمتد من خط طول ١٠ غرباً حتى ١٦٨ غرباً.
- يحدها المحيط الأطلنطي من الشرق والمحيط الهادي من الغرب، والمحيط القطبي الشمالي شمالاً وخليج المكسيك والبحر الكاريبي في الجنوب الشرقي.

■ قارة أمريكا الجنوبية

نلاحظ من الخريطة (٧) أن قارة أمريكا الجنوبية:

- تمتد من دائرة عرض ١٢ شمالاً وحتى دائرة عرض ٥٦ جنوباً، وتمتد من خط طول ٣٥ غرباً حتى حوالي ٨١ غرباً.
- تبدو في شكل أقرب إلى المثلث.
- يحدها المحيط الأطلنطي من الشرق والمحيط الهادي من الغرب والبحر الكاريبي من الشمال.



خريطة (٨) الموقع الفلكي والجغرافي لقارة أستراليا

■ قارة أستراليا (الأوقيانوسية)

نلاحظ من الخريطة (٨) أن قارة أستراليا:

- تمتد بين دائرتي عرض ١٠° : ٤٤° جنوباً وبين خطي طول ١١٣° : ١٧٨° شرقاً.
- وتتكون من مجموعة من الجزر، يحدها المحيط الهادى شرقاً والمحيط الهندى غرباً وجنوباً ، ويفصلها بحر أرافورا عن جزر أندونيسيا فى الشمال.
- من أهم الجزر بها (تسمانيا - نيوزيلند الشمالية - نيوزيلند الجنوبية) بجانب مجموعات الجزر الصغيرة بالمحيط الهادى.

تعرف هذه الجزر من الخريطة السياسية للعالم

■ القارة القطبية الجنوبية (Antarctica)

هى قارة متجمدة غير مأهولة بالسكان، باستثناء مراكز بحوث ومناطق مقسمة بين عدد من الدول التى لها مصالح بها، مثل روسيا والولايات المتحدة الأمريكية وفرنسا وإنجلترا، وتقع أقصى جنوب الكرة الأرضية، يحيطها المحيط القطبى الجنوبى من جميع الجهات، وتبلغ مساحتها نحو ١٢,٣ مليون كم ٢.

توجه إلى الموقع الإلكتروني للوزارة لحل الأنشطة والتدريبات على الدرس



الوحدة الأولى

تضاريس العالم

الدرس الثاني

أهداف الدرس

من المتوقع بعد الانتهاء من الدرس أن يكون التلميذ قادراً على أن:

- يقرأ التضاريس من خريطة تضاريس العالم.
- يصف التضاريس التي تميز كل قارة من قارات العالم.
- يميز بين أنواع السهول في العالم.
- يقارن بين مظاهر السطح في قارات العالم.
- يقدر عظمة الله في تنوع مظاهر السطح بين قارات العالم.

معلومات إثرائية عن

- دول حوض النيل.
- الإنسان والبيئة.
- البحيرات العظمى.
- الزلازل في الإنديز.
- الشعاب المرجانية.

مفاهيم أتعلّمها

- حوض النهر .

صور

- سلسلة جبلية بأوروبا.

خرائط ورسوم

- خريطة تضاريس العالم.
- خريطة تضاريس آسيا.
- خريطة تضاريس إفريقيا.
- خريطة تضاريس أوروبا.
- خريطة تضاريس أمريكا الشمالية.
- خريطة تضاريس أمريكا الجنوبية.
- خريطة تضاريس الأوقيانوسية.

قضايا متضمنة

- حُسن استخدام الموارد وتنميتها .

التمهيد

عزيزي التلميذ، عزيزتي التلميذة، بعد أن تعرفنا على مواقع قارات العالم ومحيطاته وأهم بحاره، تعال نتناول التضاريس التي تميز كل قارة من قارات العالم:



خريطة (٩) تضاريس العالم
تلاحظ من الخريطة أن هناك ثلاثة أقسام تضاريسية رئيسية في العالم

السهول

الهضاب

الجبال

توجد الجبال والهضاب والسهول في كل قارات العالم، وإن اختلفت في امتدادها ومساحتها وارتفاعها من قارة إلى أخرى ناقش معلمك في المقصود بكل من (الجبال - الهضاب - السهول) في ضوء دراستك لها الأعوام السابقة.

والآن هيا نتعرف على : التضاريس التي تميز كل قارة من قارات العالم .

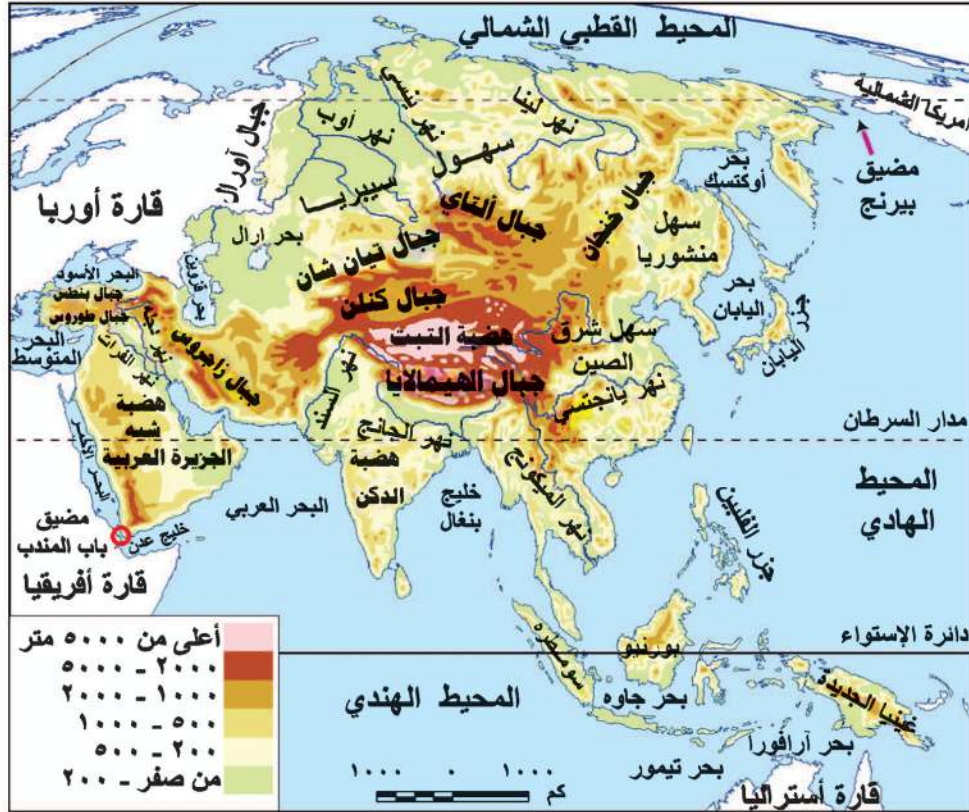
تضاريس آسيا

الجبال :

تظهر السلاسل الجبلية الضخمة في آسيا ، ومن أكبرها:

- جبال غرب القارة : ومنها جبال طوروس في تركيا وزاجروس في العراق وإيران

- **جبال وسط القارة :** وهى أعلى جبال العالم، ومنها سلسلة جبال الهيمالايا، وتوجد بها أعلى قمة جبلية فى العالم بارتفاع أكثر من ٨٨٤٨ متراً ، وتعرف بقمة إفرست
- **جبال شرق القارة :** ومنها جبال اليابان



خريطة (١٠) تضاريس قارة آسيا

الهضاب :

تتمثل فى هضاب وسط آسيا التى تشابك مع بعضها، ومن أكبرها هضبة التبت وهى أعلى هضاب العالم، وتعرف بسقف العالم لارتفاعها عن قمم الجبال، ومن الهضاب الأخرى هضبة الدكن فى وسط الهند وهضبة شبه الجزيرة العربية.

السهول : وتتمثل فيما يلى :

١ - سهول ساحلية:

- سهول ساحلية على طول سواحل البحار والمحيطات التى تحيط بالقارة .
- سهول متفرقة حول بحر قزوين .

٢- سهول فيضية :

- **السهول الشمالية الواسعة :** فى سيبيريا وتجري فيها أنهار أوب وينسى ولينا التى تنبع من الجنوب وتصب فى المحيط القطبى الشمالى وتتجمد فى الشتاء .
- **سهول شرق القارة :** وهى سهول شرق الصين ومنشوريا، وتجري بها العديد من الأنهار وأهمها اليانغتسي .
- **سهول نهري دجلة والفرات :** ويصبان فى الخليج العربى، وسهول نهر السند الذى يصب فى المحيط الهندي .



خريطة (١١) تضاريس قارة إفريقيا

تضاريس قارة إفريقيا

ما أشكال السطح التى تتميز بها قارة إفريقيا؟
نلاحظ من خريطة تضاريس قارة إفريقيا ما يلى :

يسود المظهر الهضبي سطح قارة إفريقيا وتنقسم تضاريس قارة إفريقيا إلى ما يلى :

الجبال :

- جبال أطلس تقع فى أقصى شمال غرب القارة وتحصر بينها هضبة الشطوط .
- جبال البحر الأحمر فى مصر والسودان وأريتريا .
- جبال كينيا وكلمنجارو فى شرق إفريقيا .
- جبال دراكنزبرج فى أقصى الجنوب الشرقي .

الهضاب :

- توجد الهضاب فى مناطق واسعة فى القارة الإفريقية، مثل هضاب الصحراء الكبرى، والتي تضم هضاب الصحراء الشرقية والغربية فى مصر .
- كما يوجد فى وسط القارة هضبة البحيرات الاستوائية، وفى الشرق هضبة الحبشة (إثيوبيا) وتنبع منها روافد نهر النيل، وتمتد فى جنوب القارة هضبة جنوب إفريقيا ويجرى بها نهرا الأورانج واللمبوبو .

مفاهيم تعلمها

حوض النهر : عبارة عن الأرض التى يجرى فيها النهر وأحد روافده أو تنحدر مياهه إليه

السهول :

معلومة إثرائية
دول حوض النيل : هي الدول التي يجري بها نهر النيل وروافده، ويبلغ عددها إحدى عشر دولة هي إثيوبيا، وأوغندا، ورواندا، بورندي، جمهورية السودان ، جمهورية جنوب السودان ، تنزانيا ، الكونغو ، مصر ، وكينيا، وإريتريا.

١ - سهول ساحلية: توجد السهول الساحلية على سواحل البحار والمحيطات، وتتميز بالضيق بصفة عامة لاقتراب حافات الجبال والهضاب من الساحل، وتوسع عند مصبات الأنهار.

٢ - سهول فيضية: مثل سهول نهر النيل في مصر وجمهورية السودان وجمهورية جنوب السودان وسهول حوض نهر الكونغو وسهول نهر النيجر وغيرها، وتتميز جميعها بجودة التربة وصلاحياتها للزراعة.

٣ - سهول صحراوية رملية: تنتشر

هذه السهول في الصحراء الكبرى وهي سهول صحراوية متسعة، ومنها سهل كلنشو في ليبيا، وبحر الرمال العظيم الذي يمتد في مصر وليبيا، وسهول صحراء كلهارى في جنوب القارة.



خريطة (١٢) تضاريس قارة أوروبا

تضاريس قارة أوروبا

نلاحظ من خريطة تضاريس أوروبا ما يلي

الجبال

من أهم السلاسل الجبلية في أوروبا :

١ - سلاسل جبال الألب: تمتد من الغرب إلى الشرق

في وسط القارة وتأخذ مسميات تختلف من دولة لأخرى فتعرف بجبال البرانس في شمال إسبانيا، وجبال الألب الدينارية في شبه جزيرة البلقان، تعرف على باقى السلاسل الجبلية من خلال خريطة (١٢)



سلسلة جبلية بأوروبا

الهضاب:

تمتد في وسط القارة من الشرق إلى الغرب، وتقطعها أودية نهرية، كما تجاورها الجبال، ومن أهمها:

- هضبة المزيता: وتشغل معظم دولة إسبانيا
- هضبة فرنسا الوسطي: في فرنسا تقطعها أنهار مهمة أهمها السين.

السهول:

١ - سهول ساحلية: تتميز سواحل أوروبا بتعرجها مما ساعد على إنشاء الموانئ بها، وهي سهول متسعة تمتد على المحيط الأطلنطي والبحر البلطى وبحر الشمال فى الغرب والشمال الغربى وعلى البحر المتوسط فى الجنوب.

٢ - سهول فيضية: تمتد من المحيط الأطلنطي غربا حتى جبال الأورال فى الشرق، وتعرف بالسهل الأوروبى العظيم، ويتكون معظمه من رواسب طينية وتوجد به المدن الأوربية الرئيسة مثل باريس وبرلين وهذه سهول ذات تربة جيدة كونتها الأنهار، ومن أهم الأنهار:

- نهر الفولجا: أطول نهر فى أوروبا ويصب فى بحر قزوين.
- نهر الراين: ويصب فى بحر الشمال.
- نهر الدانوب: ويصب فى البحر الأسود.

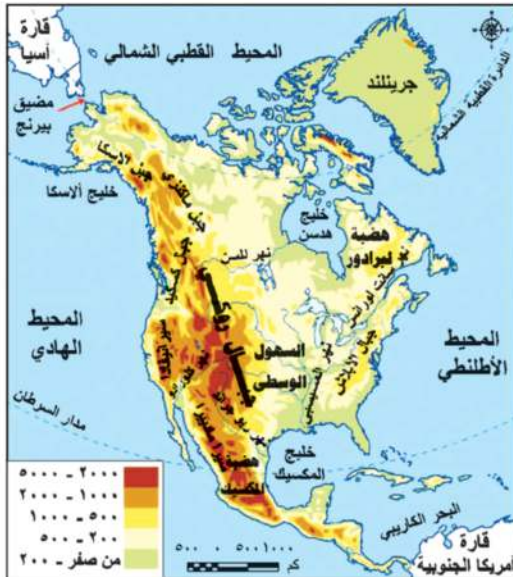
تعاون مع زملائك وتعرف على أنهار أخرى من أطلس العالم.

تضاريس أمريكا الشمالية

نلاحظ من الخريطة ما يلى: تتنوع مظاهر السطح فى قارة أمريكا الشمالية، ومن المظاهر التضاريسية البارزة بها:

الجبال:

أهمها سلاسل جبال الأبلاش فى الشرق وسلاسل جبال روكى فى الغرب، وتعد سلسلة جبال روكى أعلى جبال القارة ويغطى قممها الجليد فى فصل الشتاء.



اقرأ وتعلم:

بماذا تتميز جبال أوروبا؟
تتميز جبال أوروبا بارتفاعها وتغطيتها قممها بالجليد شتاء، وتفصل بينها أودية تجرى بها الأنهار مثل نهرى الراين والدانوب

معلومة إثرائية

استطاع الإنسان أن يتغلب على قيود البيئة بحفر أنفاق جبلية لتمر بها القطارات والسيارات التى تربط المدن الأوربية بعضها ببعض، مثل الأنفاق التى تعبر جبال الألب بين إيطاليا وكل من سويسرا والنمسا.

الهضاب :

هضبة المكسيك فى الجنوب، كما توجد هضبة لبرادور فى الشمال الشرقى من القارة .

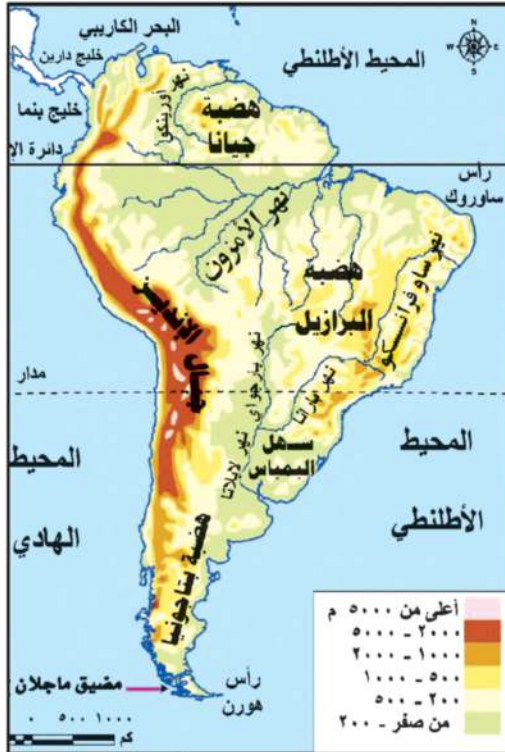
السهول :

تنقسم سهول أمريكا الشمالية إلى :

١ - سهول ساحلية : فى الشرق والجنوب الشرقى تمتد على المحيط الأطلنطي وخليج المكسيك، كما تمتد سهول ساحلية حول خليج هدسن، وسهول ساحلية ضيقة على المحيط الهادى فى الغرب .

معلومة إثرائية
البحيرات العظمى : بحيرات عذبة
وهى منشجن وسوبيريور وهورن
وأونتاريو وإيرى، وتوجد عليها بعض المدن
الصناعية ومنها شيكاغو وديترويت .

٢ - سهول فيضية : تتعدد خصائصها حيث تتسع السهول الفيضية بوسط أمريكا الشمالية إلى الشرق من جبال روكي، وتمتد من المحيط القطبى الشمالى شمالاً إلى خليج المكسيك جنوباً ويغطى الجليد أطرافها الشمالية، كما توجد بها البحيرات العظمى فى كل من كندا والولايات المتحدة، وتنتهى فى الجنوب بسهول نهر المسيسيبي، حيث الأراضي الزراعية كما توجد سهول نهر نلسن وسانت لورانس فى الشمال الشرقى .



تضاريس أمريكا الجنوبية

نلاحظ من خريطة تضاريس قارة أمريكا الجنوبية ما يلي :

الجبال :

تمتد سلاسل جبلية مرتفعة فى الغرب قرب سواحلها على المحيط الهادى، وتعرف بجبال الإنديز التى تمتد من الشمال حتى الأطراف الجنوبية للقارة .

الهضاب :

تكثر الهضاب شرقى جبال الإنديز، ومنها :

- هضبة جيانا فى الشمال .
- هضبة البرازيل فى الشرق، وهى أكبر الهضاب وأكثرها ارتفاعاً .

● هضبة باتاجونيا فى الجنوب وهى أصغر هضاب القارة مساحة .

خريطة (١٤) تضاريس قارة أمريكا الجنوبية

السهول:

١- سهول فيضية:

- توجد فى أمريكا الجنوبية أوسع سهول فيضية فى العالم، وهى سهول حوض نهر الأمازون، وسهول نهر لابلاتا التى تمتد من الشمال إلى الجنوب وتجرى بها أنهار بارانا وباراجواى ولاپلاتا، التى تصب فى المحيط الأطلنطي.

- وسهل نهر أورينوكو فى الشمال ويصب فى المحيط الأطلنطي.

٢- سهول ساحلية:

- تضيق فى الغرب، وذلك لاقتراب جبال الإنديز من المحيط الهادى، وتوسع فى شرق القارة وشمالها على سواحل المحيط الأطلنطي.

«ناقش مع معلمك» أهمية السهول فى أمريكا الجنوبية.

تضاريس قارة أستراليا «الأوقيانوسية»

نلاحظ من الخريطة ما يلي:

الجبال:

من أهم الجبال جبال الحاجز الكبير، وتمتد على طول الساحل الشرقى للقارة، وتعرف بجبال الألب الأسترالية فى شكل قوس ومقسمة إلى قسمين: الحاجز الكبير فى الجنوب والحاجز الكبير فى الشمال الشرقى، وتتميز هذه الجبال بارتفاعها، كما تقطعها بعض الأنهار.

الهضاب:

- تشبه تضاريس أستراليا تضاريس إفريقيا، حيث تشغل الهضبة الغربية نصف مساحة القارة ويتميز معظم سطحها بالاستواء.

السهول:

- ١- **سهول فيضية:** هى سهول متسعة يجرى بها نهر مري ودارلنج، ويصبان فى الخليج الأسترالى الكبير، وهى سهول زراعية توجد بها الكثير من المدن المهمة.

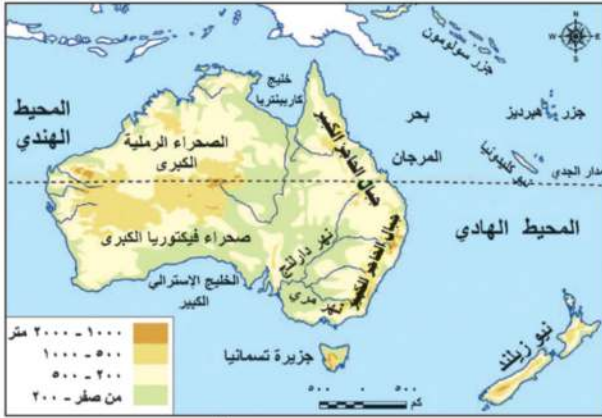
- ٢- **سهول ساحلية:** تتسع فى الشمال والغرب والجنوب وتضيق فى الشرق لاقتراب جبال الحاجز الكبير من المحيط الهادى.

- ٣- **سهول صحراوية:** توجد فى الداخل وفى الغرب، وهى صحارى رملية تقل بها موارد المياه.

توجه إلى الموقع الإلكتروني للوزارة لحل الأنشطة والتدريبات على الدرس

معلومة إثرائية

تتعرض جبال الإنديز للزلازل مثلما حدث فى عام ١٩٦٠م عندما ضربها زلزال أدى إلى تدمير القرى والمدن وتدمير الخطوط الحديدية والطرق.



خريطة (١٥) تضاريس قارة الأوقيانوسية

معلومة إثرائية

تمتد الشعاب المرجانية على السواحل الشرقية لقارة أستراليا لمسافة ٢٠٠٠ كم فيما يعرف بالحاجز المرجانى العظيم.



الوحدة الأولى

الدرس الثالث

المناخ والنبات الطبيعي في العالم

أهداف الدرس

من المتوقع بعد الانتهاء من الدرس أن يكون التلميذ قادرًا على أن:

- يُحدّد العوامل المؤثرة في مناخ قارات العالم.
- يذكّر الأقاليم المناخية في قارات العالم.
- يُقارن بين بعض الأقاليم المناخية من حيث موقع الإقليم وأهم خصائصه المناخية والنباتية .
- يُعدد الخصائص المميزة لكل إقليم مناخي.
- يوزع الأقاليم المناخية في كل قارة على خريطة.
- يستنتج العلاقة بين الأقاليم المناخية والنبات الطبيعي في العالم .
- يذكر الأهمية الاقتصادية لبعض النباتات الطبيعية في قارات العالم .

مفاهيم أتعلّمها

- إقليم مناخي.

خرائط

- خريطة توزيع إقليم المناخ الاستوائي والمداري الحار والموسمي.
- خريطة توزيع إقليم المناخ الصحراوي الحار والمعتدل.
- خريطة توزيع إقليم مناخ البحر المتوسط والصيني.
- خريطة توزيع مناخ غرب أوروبا المعتدل والبارد.
- خريطة توزيع المناخ القاري البارد والتندرا والجلي.

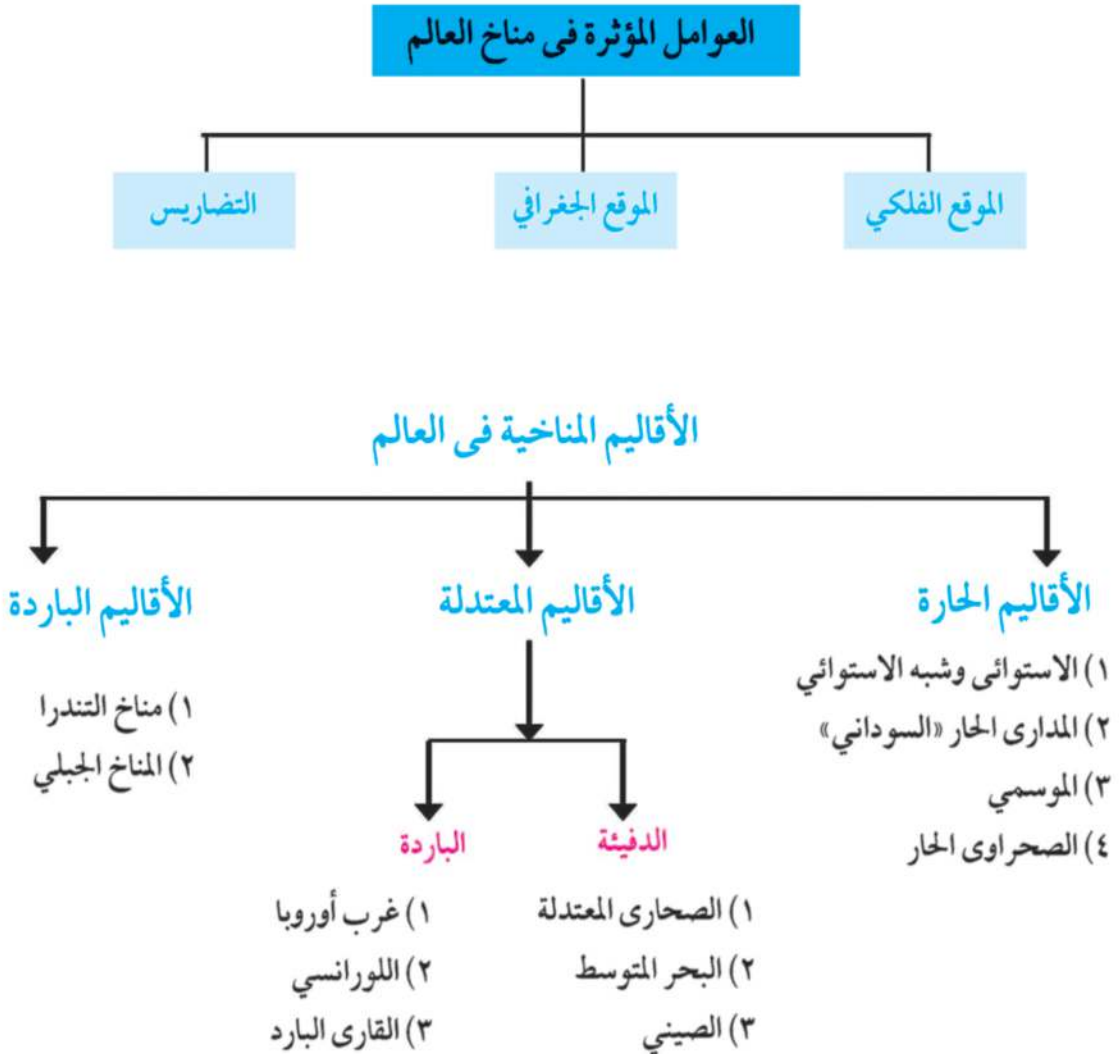
القضايا المتضمنة

- قضايا البيئة وحمايتها.
- حسن استخدام الموارد

التمهيد:

الإقليم المناخي: هو منطقة محددة على سطح الأرض لها خصائصها المناخية من حيث الحرارة والرياح والمطر، وغيرها من عناصر المناخ التي تميزها عن غيرها من المناطق، وتتنوع الأقاليم المناخية في العالم كما يختلف المناخ داخل القارة الواحدة من منطقة إلى أخرى وفقاً لعدة عوامل مؤثرة في مناخ القارات.

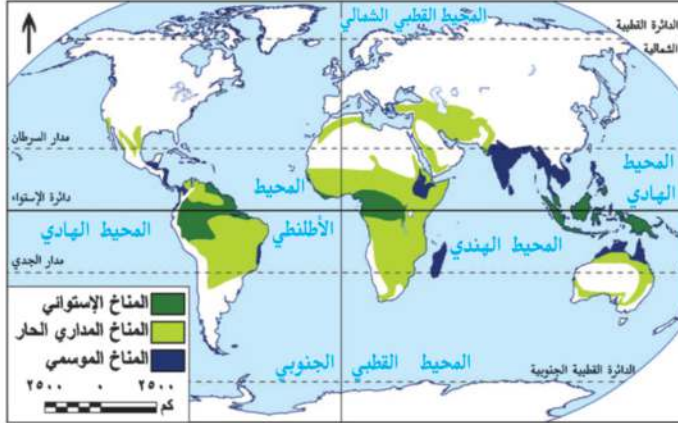
لاحظ: الشكل التخطيطي الذي أمامك وتعرف العوامل المؤثرة في المناخ ثم ناقش معلمك فيها في ضوء دراستك بالأعوام السابقة.



وسوف نتعرف بعض الأقاليم المناخية بالتفصيل.

أولاً: الأقاليم الحارة «وتمتد بين دائرتي عرض ٣٠° شمالاً، ٣٠° جنوباً».

١) إقليم المناخ الاستوائي وشبه الاستوائي



خريطة (١٦) توزيع إقليم المناخ الاستوائي والمدارى الحار والموسمى

الموقع

يقع فى المناطق القريبة من دائرة الاستواء بين دائرتي عرض «صفر° - ١٠°» شمال وجنوب دائرة الاستواء، ويتمثل في قارة:

- إفريقيا: كما فى حوض الكونغو.
- آسيا: كما فى جزر إندونيسيا.
- أمريكا الجنوبية: كما فى

حوض الأمازون

الخصائص المناخية:

يتميز بـ: ارتفاع درجة الحرارة وسقوط أمطار طوال العام.

الخصائص النباتية: يرتبط بالإقليم غو الغابات الاستوائية والتي تتميز بكثافة أشجارها وتشابكها، ومن أهم أشجارها الماهوجنى والمطاط وتكثر بها الزواحف والطيور والحيوانات المتسلقة.

٢) إقليم المناخ المدارى الحار

إقليم المناخ المدارى الحار، ويسمى أيضاً بالمناخ السودانى .

الموقع:

يقع بين دائرتي عرض «١٠° - ١٨°»: شمال وجنوب دائرة الاستواء. ويتمثل في:

- قارتي أفريقيا وأمريكا الجنوبية شمال وجنوب الإقليم الاستوائي.
- أستراليا: شمال أستراليا
- أمريكا الشمالية: بعض الأجزاء الجنوبية
- آسيا: جنوب غرب آسيا.

الخصائص المناخية: يتميز بصيف حار ممطر وشتاء جاف.

الخصائص النباتية:

تنمو به أشجار أقل كثافة وتشابكاً من الغابات الاستوائية، كما تنمو به حشائش السافانا وتتميز بالتدرج فى أطوالها حسب كمية المطر وتعتبر حديقة حيوان طبيعية حيث تعيش بها الحيوانات آكلة العشب وآكلة اللحوم.

٣ (إقليم المناخ الموسمي

الموقع:

يقع في: • **قارة آسيا:** الهند - شبه جزيرة الهند الصينية جنوب الصين.

• **قارة أستراليا:** أقصى الشمال.

• **قارة أفريقيا:** هضبة إثيوبيا وجزيرة مدغشقر.

الخصائص المناخية: يتميز بأنه ذو مناخ مداري غزير المطر صيفاً، بينما يسوده الجفاف شتاءً.

نستنتج مما سبق أن: الإقليم المداري والإقليم الموسمي يتشابهان في صيف غزير الأمطار وشتاء جاف.

الخصائص النباتية: وتنمو في هذا الإقليم: الأشجار الموسمية بسبب غزارة الأمطار التي تسقط في فصل الصيف، ومن أهم أشجارها جوز الهند كما تنمو به حشائش السافانا.

مستخدماً شبكة المعلومات الدولية (الانترنت) قارن بين إقليم مناخ الصحراوي الحار وإقليم مناخ الصحراوي المعتدل من حيث مناطق الانتشار والخصائص المناخية والنباتية.

ثانياً: **الأقاليم المعتدلة الدفيئة: «ما بين دائرتي عرض ٣٠° - ٤٥° شمالاً وجنوباً».**

١ (إقليم مناخ البحر المتوسط

الموقع: يقع في العروض المعتدلة غرب القارات ما بين دائرتي عرض ٣٠° - ٤٥° شمال وجنوب دائرة

الاستواء.

نلاحظ من الخريطة أنه يظهر في جميع القارات:

- **إفريقيا:** على سواحل دول المغرب العربي.
- **آسيا:** على سواحل الشام وتركيا.
- **أوروبا:** على سواحلها المطلة على البحر المتوسط.
- **أمريكا الشمالية:** في الغرب

بولاية كاليفورنيا.

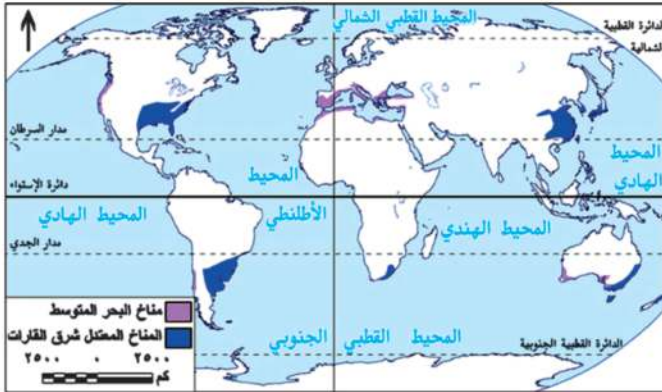
• **أمريكا الجنوبية:** في الساحل الأوسط في شيلي.

• **أستراليا:** بجنوب غرب أستراليا.

الخصائص المناخية

- يتميز ب: • حار جاف صيفاً.
- دفي ممطر شتاءً.

الخصائص النباتية: ينمو بالإقليم غابات البحر المتوسط ومن أهم أشجارها الزيتون وهي أشجار دائمة الخضرة، كما تنمو بالقرب منها حشائش الاستبس التي تستغل كمراعٍ طبيعية وتعرف في أمريكا الشمالية بحشائش البراري.



خريطة (١٧) توزيع إقليم مناخ البحر المتوسط والصيني

٢) إقليم المناخ المعتدل شرق القارات «الصيني»

الموقع

معلومة إثرائية:

عواصف التيفون نوع من العواصف المدارية البحرية المدمرة التي كثيراً ما تتعرض لها جزر الفلبين وجنوب الصين والمناطق المجاورة، وتشبه عواصف الهريكين التي تهب في منطقة البحر الكاريبي بالمحيط الأطلنطي.

• يقع في شرق القارات في نفس عروض إقليم البحر المتوسط، أي أنه يظهر بين دائرتي عرض «٣٠ - ٤٥°» شمال وجنوب دائرة الاستواء، وذلك في جنوب شرق أمريكا الجنوبية وشرق الصين في آسيا، جنوب شرق أستراليا، جنوب شرق أمريكا الشمالية وجنوب شرق أفريقيا.

الخصائص المناخية يتميز بـ • ارتفاع درجة الحرارة صيفاً وانخفاضها شتاءً.

• سقوط الأمطار طوال العام مع زيادتها في فصل الصيف، وتعرض أحياناً لعواصف مدارية مثل التيفون.

الخصائص النباتية • تنمو بالإقليم غابات الإقليم الصيني ومن أهم أشجاره «الصفصاف والبلوط» وهي غابات دائمة الخضرة وتنمو بالقرب منه حشائش الاستبس.

■ ثالثاً: الأقاليم المعتدلة الباردة «وتمتد بين دائرتي عرض ٤٥ - ٦٠° شمالاً وجنوباً».

١) إقليم مناخ غرب أوروبا

الموقع: يقع بين دائرتي عرض «٤٥ - ٦٠°» غرب القارات في:

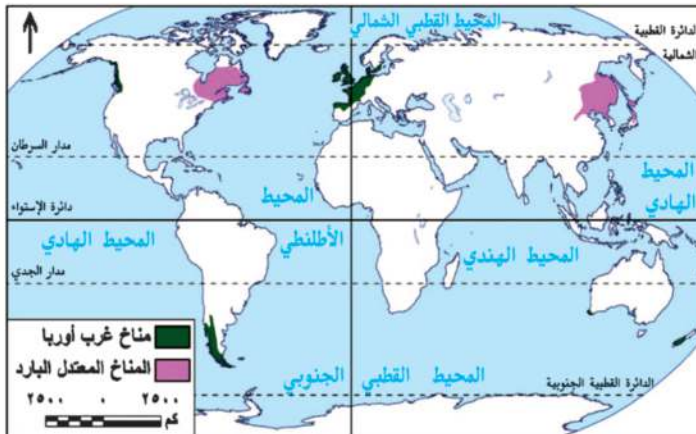
- شمال غرب أوروبا.
- شمال غرب أمريكا الشمالية.
- أقصى جنوب غرب أمريكا الجنوبية.

الخصائص المناخية

- الدفء صيفاً والبرودة شتاءً.
- أمطار دائمة طوال العام خاصة في فصلي الشتاء والخريف.

الخصائص النباتية

تنمو الغابات النفضية وسميت بهذا الاسم لأنها تنفض أوراقها في فصل الشتاء بسبب شدة البرودة، ومن أهم أشجارها الزان.



خريطة (١٨) توزيع إقليم مناخ غرب أوروبا والمناخ المعتدل البارد

٢) إقليم المناخ المعتدل البارد شرق القارات «اللورانسى»

الموقع:

يقع فى نفس عروض مناخ غرب أوروبا بين دائرتى عرض «٤٥ - ٦٠» شمالاً، ونلاحظ من الخريطة أنه يقع في:

- شمال شرق أمريكا الشمالية.
- قارة آسيا : شمال شرق الصين - شمال اليابان .

الخصائص المناخية يتميز بـ:

- شتاء بارد وصيف معتدل . ● سقوط الأمطار طوال العام خاصة فى فصل الصيف .
- **الخصائص النباتية:** تنمو بالإقليم الغابات المخروطية ومن أشجارها الصنوبر والشربين وتوجد به الحيوانات ذات الفراء الكثيف كالدب القطبي .

عزيزي التلميذ:

لاحظ خريطة (١٩) وحدد مناطق توزيع إقليم المناخ القاري البارد، ثم استعن بشبكة المعلومات الدولية (الإنترنت) لتحديد خصائصه المناخية والنباتية.

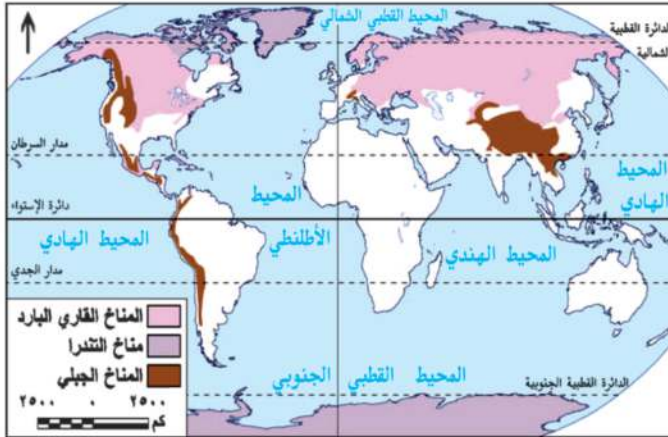
رابعاً: الأقاليم الباردة:

١) إقليم مناخ التندرا «ما وراء الدائرتين القطبيتين ٦٠ شمالاً وجنوباً».

الموقع:

يسود فى المناطق القطبية المتجمدة، ونلاحظ من الخريطة أنه يظهر في:

- أنتاركتيكا.
- آسيا: الأجزاء القطبية - شمال سيبيريا .
- أوروبا : شمال أوروبا .
- أمريكا الشمالية: شمال كندا .
- أمريكا الجنوبية: بعض جزر المحيط المتجمد الجنوبي .



خريطة (١٩) توزيع إقليم المناخ القاري البارد والتندرا والجبلى

معلومة إثرائية:

سجلت مدينة فرخويانسك شرق روسيا (آسيا) أقل درجة حرارة فى العالم وهى ٥٠ درجة دون الصفر .

الخصائص المناخية:

يتميز بـ: صيف قصير وشتاء طويل شديد البرودة مع تساقط الثلوج، والأمطار صيفية قليلة.

الخصائص النباتية:

النباتات عبارة عن طحالب تنمو سريعاً في فصل ذوبان الجليد وتوجد به حيوان الرنة.

٢ (إقليم المناخ الجبلي

الموقع:

يشغل القمم والمنحدرات العليا للمناطق الجبلية في العالم.

الخصائص المناخية:

يسوده مناخ شديد البرودة وكثيراً ما تغطي القمم الجبلية بالجليد طوال العام مثل قمم جبال الهيمالايا في آسيا.

الخصائص النباتية:

تنوع الحياة النباتية طبقاً لارتفاع السطح وكمية المطر.

توجه إلى الموقع الإلكتروني للوزارة لحل الأنشطة والتدريبات على الدرس



أهداف الوحدة

في نهاية دراسة هذه الوحدة يتوقع أن يكون التلميذ قادرًا على أن :

- يحدد السلالات البشرية في كل قارة.
- يوضح على الخريطة توزيع السكان في كل قارة.
- يحلل الجداول والرسوم البيانية الخاصة بالسكان.
- يفسر أسباب اختلاف توزيع السكان في كل قارة.
- يحدد خصائص السكان في كل قارة.
- يوضح بعض عادات وتقاليد سكان بعض القارات.

دروس الوحدة

الدرس الأول. السلالات البشرية في العالم



الدرس الثاني. توزيع السكان في العالم



الدرس الثالث. خصائص سكان العالم





الوحدة الثانية

السلالات البشرية في العالم

الدرس الأول

معلومات إثرائية عن

- البوشمن والهونتوت.
- اختلاط السلالات.
- الإسكيمو.
- الشعب.

أهداف الدرس

- من المتوقع بعد الانتهاء من الدرس أن يكون التلميذ قادرًا على أن:
- يُعرف مفهوم سلالة.
- يحدد السلالات البشرية الرئيسة.
- يوزع السلالات الرئيسة في العالم على خريطة صماء.

مفاهيم أتعلّمها

- سلالة بشرية.

صور

- لشخص زنجي -
- قوقازي - مغولي

الخرائط والرسوم

- خريطة توزيع السلالات في العالم
- رسم بياني لنسب السلالات البشرية في العالم

قضايا متضمنة

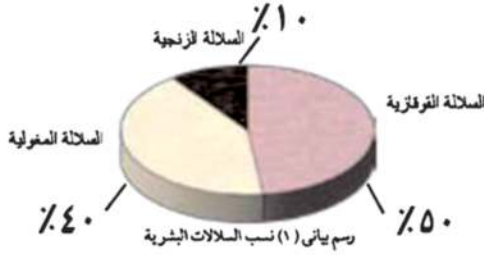
- العولمة



التمهيد

يرجع انتشار الإنسان في قارات العالم المختلفة خاصة قارات العالم القديم إلى أواخر عصر البلايستوسين، ومع استقرار الإنسان في بيئاته المختلفة بدأ يتأثر بها ويؤثر فيها، وهنا كانت نشأة السلالات البشرية، والواقع أن البشر يختلفون في صفاتهم الوراثية تبعاً لسلالاتهم، ويقصد بالسلالة مجموعة بشرية تتشابه في صفاتها الجسمية الخارجية.

السلالات الرئيسية في العالم:



لاحظ صور الأشخاص التي أمامك، يختلف الناس في طول القامة ولون البشرة وشكل العين والأنف وحجم الرأس وغيرها، ويرجع هذا الاختلاف إلى تعدد السلالات البشرية والتي تنقسم إلى ثلاثة سلالات رئيسية لاحظ الرسم البياني وتعرفها.



“ قوقازي ”



“ مغولي ”



“ زنجي ”

- ويختلف توزيع السلالات في العالم لاحظ الخريطة شكل «٢٠» وتعرف عليها.

(السلالة الزنجية)

- تتميز هذه السلالة بالبشرة الداكنة والأنف العريض والشعر الأجعد والشفاه الغليظة.
- وقد تعرض عدد كبير من الزوجات للإجبارية القسرية إلى الأمريكتين ضمن تجارة العبيد التي كانت سائدة في الماضي، وذلك للعمل في مزارع القطن وقصب السكر والتبغ التي أنشأها الأوروبيون في الأمريكتين، كما يوجد عدد كبير منهم في دول أوروبا، وقد حصل عدد كبير منهم على جنسية هذه الدول.

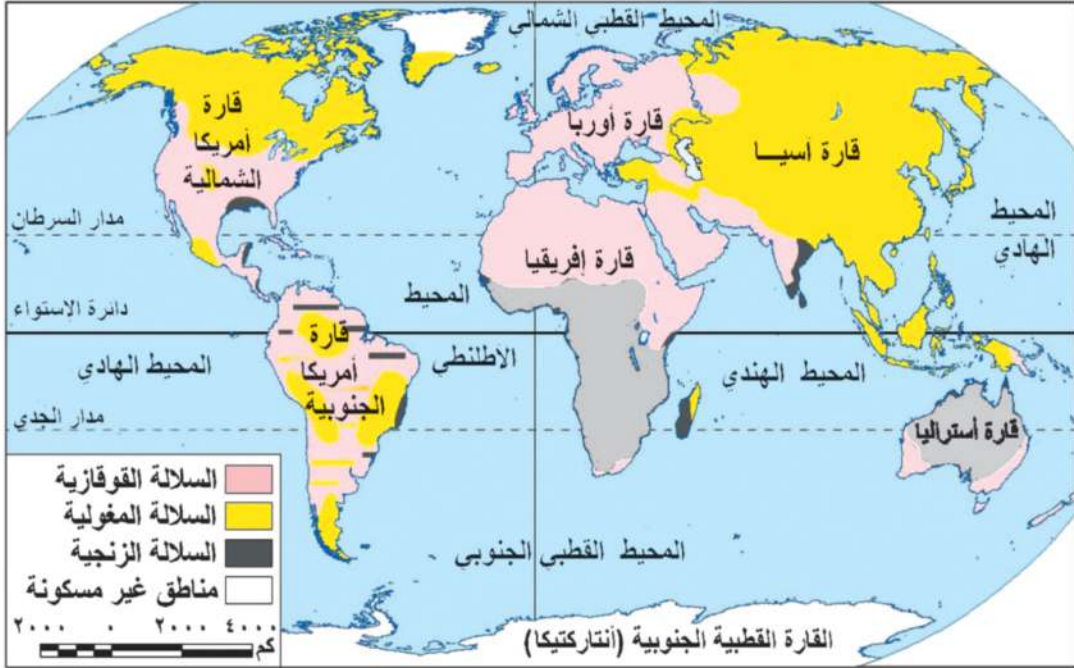
معلومة إثرائية

البوشمن والهوتنتوت: يعيشون في جنوب غرب إفريقيا والبوشمن قصار القامة ويتميزون بالشعر المفلقل والجهة البارزة والهوتنتوت أطول قليلاً ويشاركون معهم في الصفات الأخرى.

- يبلغ عدد الزوجات حوالي ١٠٪ فقط من جملة سكان العالم.

● تتركز السلالة الزنجية قرب دائرة الاستواء فى إفريقيا وتمثل هذه السلالة حوالى ٧٠٪ من سكان القارة وحوالى ٧٥٪ من عدد الزنوج فى العالم. وينقسم الزنوج إلى عدة أقسام منها:

- ١- الزنوج السودانيون.
- ٢- البانتو.
- ٣- النيليون الحاميون.
- ٤- الأقزام.
- ٥- البوشمن والهوتنتوت وغيرهم.



خريطة (٢٠) توزيع السلالات فى العالم

«السلالة المغولية»:

من الصورة التى أمامك تلاحظ أن:



السلالة المغولية تتميز بالبشرة الصفراء، والعيون المنحرفة ولون الشعر الأسود المسترسل، يوجد عدد كبير من الجنس المغولى فى دول العالم المختلفة بنسبة تزيد على ٤٠٪ من جملة عدد سكان العالم، وذلك لأن النسبة الكبرى من سكان الصين ودول شرق وجنوب شرق آسيا، هم من السلالة المغولية .

معلومة إثرائية

اختلاط السلالات: نتج عن اختلاط الأوربيين بالزنج في أمريكا الجنوبية سلالة ثانوية تعرف بالمشيزو وباختلاط الأوروبيين بالهنود الحمر نتجت سلالة المولاتو وباختلاط الزنج مع الهنود الحمر نتجت سلالة الزامبو، وكل هذه السلالات بصفاتها المختلفة توجد بأمريكا الجنوبية.

تتركز السلالة المغولية في قارة آسيا في دول مثل الصين واليابان وكوريا ومنغوليا ودول جنوب شرق آسيا وتوجد في سيبيريا وبعض المناطق في الأمريكتين.

● الإسكيمو في شمال كندا وألاسكا.

● الهنود الحمر في الأمريكتين.

● جماعة التنجوس في سيبيريا.

معلومة إثرائية

كلمة إسكيمو: معناها أكلو اللحوم النيئة وأول من أطلق عليهم هذا الاسم بعض قبائل الهنود الأمريكيين.

■ السلالة «القوقازية»:

تتميز السلالة القوقازية بالبشرة البيضاء الوردية، والشعر المتموج والشفاه الرفيعة.

وتنقسم إلى :

● سكان حوض البحر المتوسط وينتمي العرب إلى هذه السلالة وعدد كبير من سكان جنوب أوروبا.

● المجموعة الألبية سكان غرب ووسط أوروبا.

● المجموعة النوردية الشمالية ومنها معظم سكان دول شمال أوروبا.

● وتشمل هذه السلالة نحو نصف عدد سكان العالم.

● تنتشر السلالة القوقازية في قارات العالم المختلفة أوروبا -

أمريكا الشمالية - أمريكا الجنوبية - أستراليا - إفريقيا،

ويركزون في شمال الصحراء في الدول العربية.



معلومة إثرائية

الشعب: مجموعة من السكان تسكن دولة واحدة قد تضم عدداً من السلالات كما هو الحال في الولايات المتحدة وغيرها من الدول.

أما الآن:

● انصهرت السلالات واختلطت الصفات الطبيعية التى تميز كل سلالة عن الأخرى، فلا يوجد فى الوقت الحاضر ما يعرف بالسلالة النقية إلا:

١- بعض الزوج قصار القامة فى المجتمعات البدائية التى تسكن غابات حوض الكونغو وصحراء كلهاى بإفريقيا، لم يختلطوا بغيرهم من السكان وفى طريقهم للانقراض.

٢- الإسكيمو فى صحارى التنديرا الباردة شمال كندا، والهنود الحمر فى غابات أمريكا الجنوبية وجبالها، وكذلك الأستراليون الأصليون وغيرهم.

نستنتج مما سبق:

● لا توجد دولة واحدة فى العالم يتكون شعبها من سلالة واحدة، فالولايات المتحدة على سبيل المثال يضم شعبها سلالات مختلفة سوداء وهم الزوج، وصفراء وهم الهنود الحمر وهم السكان الأصليون ثم القوقازيون وهم السكان البيض القادمون من أوروبا.

● نحن العرب لسنا من سلالة واحدة، فالأغلبية العربية من السلالة القوقازية ولكن حدث مع الفتوحات والهجرات على مر التاريخ اختلاط مع السلالات الأخرى.

● نخلص مما سبق إلى أن أصل السلالات البشرية أصل واحد وأن الأسس التى تم على أساسها التقسيم هى أسس ظاهرية وليست جوهرية ولا توجد سلالة أكثر ذكاء من سلالة أخرى أو أكثر منها قدرة على العمل والإبداع.

توجه إلى الموقع الإلكتروني للوزارة لحل الأنشطة والتدريبات على الدرس



الوحدة الثانية

الدرس الثاني

توزيع السكان في العالم

معلومة إثرائية عن

- أصول السكان في كندا.
- كثافة السكان في بعض الدول.

أهداف الدرس

- من المتوقع بعد الانتهاء من الدرس أن يكون التلميذ قادرًا على أن:
- يقرأ خريطة توزيع السكان بكل قارة.
- يحلل الرسم البياني الخاص بالسكان.
- يفسر أسباب اختلاف توزيع السكان من قارة لأخرى ومن منطقة إلى أخرى داخل القارة الواحدة.

مفاهيم أتعلّمها

- الهجرة غير الشرعية.

خرائط

- خريطة توزيع سكان آسيا.
- خريطة توزيع سكان إفريقيا.
- خريطة توزيع سكان أوروبا.
- خريطة توزيع سكان أمريكا الشمالية.
- خريطة توزيع سكان أمريكا الجنوبية.
- خريطة توزيع سكان الأوقيانوسية والجزر المجاورة.

رسوم بيانية

- رسم بياني يوضح عدد سكان كل قارة.

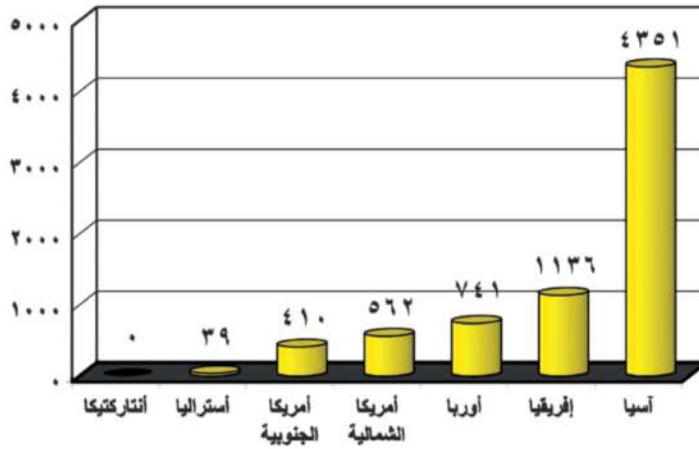
قضايا متضمنة

- احترام العمل

التمهيد

تهتم جميع دول العالم بالتعداد السكاني وهو إجراء دوري، يتم كل خمس أو عشر سنوات ولكن على مستوى العالم يتم استخدام التقديرات ؛ فقد بلغ عدد السكان العالم طبقاً لتقديرات عام ٢٠١٤م نحو ٧,٢

مليون نسمة



رسم بياني (٢) سكان العالم عام ٢٠١٤م

مليار نسمة، يوزعون على قارات العالم بأعداد مختلفة. فهناك قارات ذات أعداد سكانية كبيرة، وهناك قارات أقل في عدد سكانها. وأكبر قارات العالم سكاناً قارة آسيا، أما قارة أنتاركتيكا فهي خالية من السكان.

أين يتركز سكان العالم؟ لاحظ الشكل التالي لتتعرف:

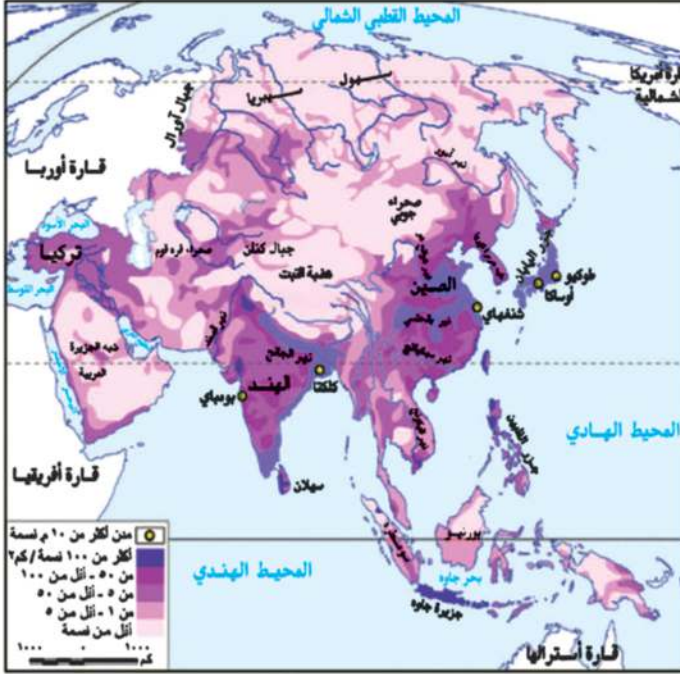


توزيع سكان العالم

توزيع سكان قارة آسيا:

يسكن قارة آسيا نحو ٦٠٪ من سكان العالم.

من الخريطة نلاحظ ما يلي:
يتركز السكان فى السهول الفيضية التى تجرى بها الأنهار مثل نهر اليانغتسى فى الصين والجانج فى الهند كما يزداد عدد السكان فى الجزر خاصة ذات التربة الجيدة مثل جزيرة جاوة وهى أكثر مناطق العالم ازدحاماً بالسكان، وكذلك الجزر اليابانية وجزر الفلبين.



خريطة (٢١) توزيع سكان آسيا

يقبل عدد السكان فى عدة مناطق منها:

- **المناطق الشمالية:** فى سيبيريا بسبب برودة الجو.
- **المناطق الجبلية والهضبية:** فى وسط القارة بسبب وعورة السطح.
- **المناطق الصحراوية:** مثل شبه الجزيرة العربية.
- يوجد فى آسيا أكبر دولتين فى العالم من حيث عدد السكان وهما: **الصين والهند:** وبهما نحو

ما المشكلات المترتبة على زيادة السكان فى معظم دول آسيا؟

ترتب على زيادة السكان فى معظم دول آسيا مشكلات عديدة منها:

- نقص الغذاء.
- قلة نصيب الفرد من الدخل القومي.
- انخفاض مستوى المعيشة.
- وجود هجرات غير شرعية تتجه فى معظمها إلى الدول المتقدمة مثل دول أوروبا.

مفاهيم أتعلمها

الهجرات غير الشرعية: يقصد بها الهجرة التى تتم من خلال وسائل غير قانونية، مثل هجرة أعداد كبيرة من الأفارقة فى مراكب والوصول إلى سواحل أوروبا خاصة إسبانيا وإيطاليا، والهروب من سلطات الحدود والإقامة غير الشرعية بالبلاد.

معلومة إثرائية

يوجد فى آسيا دول كثيفة السكان مثل **إندونيسيا وبنجلاديش وباكستان**، ودول أقل كثافة مثل **كازاخستان وأرمينيا**.

توزيع سكان قارة إفريقيا:

بلغ عدد سكان إفريقيا عام ٢٠١٤ نحو ١,١ مليار نسمة. نلاحظ من الخريطة:

● تركز سكان إفريقيا في عدة مناطق:

- السهول الفيضية الخصبة: مثل سهول وادى النيل فى مصر والسودان.
- السهول الساحلية المعتدلة الخصبة: خاصة على سواحل البحر المتوسط فى مصر ودول المغرب العربى وسواحل جنوب إفريقيا.
- وكذلك بالمناطق المرتفعة السطح فى الدول المدارية، حيث يعتدل المناخ بسبب ارتفاع السطح كما هو الحال فى أوغندا وكينيا.

● بينما يقل عدد السكان فى عدة مناطق تتمثل فيما يلى:

- المناطق الاستوائية ذات الغابات الكثيفة والبيئة الطبيعية القاسية حيث تنتشر الأمراض.
- فى النطاقات الصحراوية الفقيرة بالصحراء الكبرى وصحراء كلهارى.
- بعض المناطق الجبلية الوعرة مثل جبال البحر الأحمر.

توزيع سكان قارة أوروبا:

يبلغ عدد سكان أوروبا نحو ٧٤١ مليون نسمة، يتركزون فى دول غرب ووسط أوروبا مثل بريطانيا وألمانيا وفرنسا وإسبانيا وهولندا.

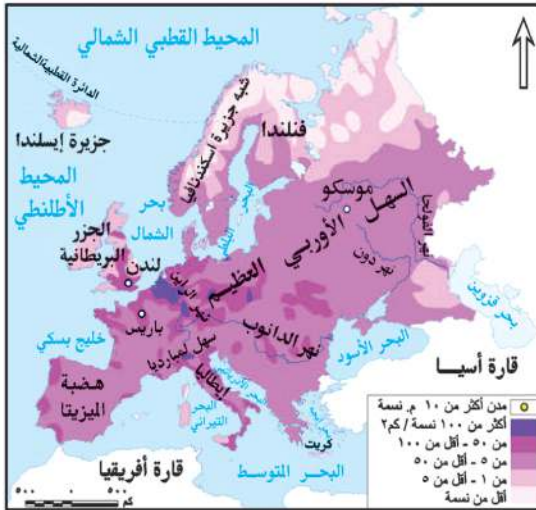
- ويتركز معظم هؤلاء السكان فى المناطق والمدن الصناعية الضخمة مثل لندن وباريس، كذلك فى السهول الزراعية الخصبة مثل السهل الأوروبى العظيم.

- كما يتركز السكان بدرجة أقل فى دول شرق أوروبا التى تعد أقل فى درجة تقدمها عن غرب ووسط أوروبا.

- يقل عدد السكان فى المناطق الشمالية بسبب شدة البرودة مثل فنلندا والنرويج، كما يقل عدد السكان فى المناطق الجبلية الوعرة. ارجع لخريطة السطح صفحة ص ١١ وتعرف مواقع هذه الجبال.

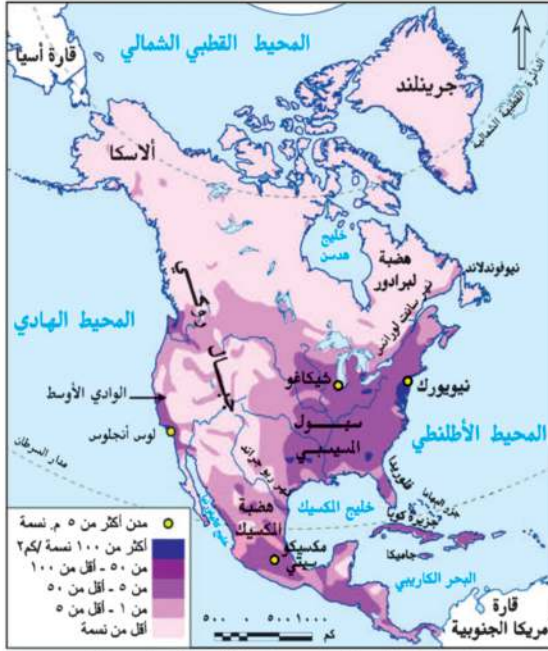


خريطة (٢٢) توزيع سكان إفريقيا



خريطة (٢٣) توزيع سكان أوروبا

توزيع سكان قارة أمريكا الشمالية



تضم كلا من كندا والولايات المتحدة الأمريكية والمكسيك ودول أمريكا الوسطى والبحر الكاريبي ويوجد بها نحو ٥٦٢ مليون نسمة منهم ما يقرب من ٥٧٪ فى الولايات المتحدة و ٢١٪ منها فى المكسيك.

نلاحظ من الخريطة:

● تركز سكان الولايات المتحدة فى عدة مناطق منها:

الساحل الشمالى الشرقى: حيث المدن الكبرى والموارد الاقتصادية الضخمة ومن أكبرها مدينة نيويورك.

ولايات الوسط حيث الأقاليم الزراعية «سهول المسيسيبي».

منطقة البحيرات العظمى: وهى منطقة ذات موارد اقتصادية ضخمة.

● تركز سكان كندا فى المدن الكبرى مثل مونتريال.

● تركز سكان المكسيك فى المدن الرئيسة خاصة مدينة مكسيكو العاصمة.

● يقل السكان فى دول البرزخ مثل هندوراس وكوستاريكا وكذلك الجزر الصغيرة الأخرى.

معلومات إضافية

أصول السكان فى كندا: معظم سكان كندا من أصول بريطانية وفرنسية (نحو ٨٠٪)، أما بقية السكان ينتمون إلى أصول أخرى مثل الألمان الذين يمثلون نحو ٥٪ من السكان والهنود الحمر ١,٢٪ من السكان والباقي من جنسيات أخرى.

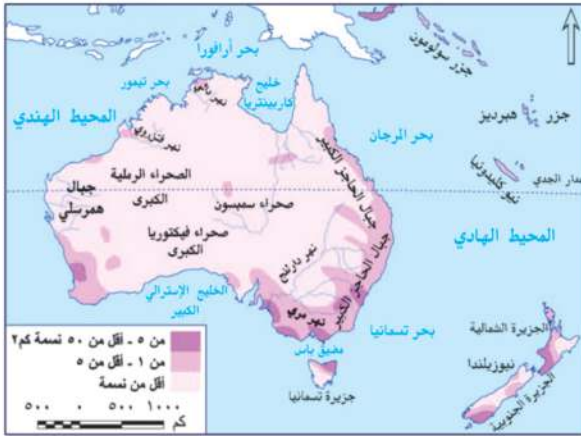
توزيع سكان قارة أمريكا الجنوبية



خريطة (٢٥) توزيع سكان أمريكا الجنوبية

- يبلغ عدد سكان أمريكا الجنوبية حوالى ٤١٠ ملايين نسمة، ويتركزون على السهول الساحلية والسهول الفيضية مثل سهول الأورينوكو فى فنزويلا وسهول لابلاتا التى تعرف فى الأرجنتين بسهول البمباس وكذلك فى هضبة البرازيل وعلى سواحلها، حيث المدن الكبرى، ويقل عددهم فى سهول الأمازون الاستوائية وعلى قمم جبال الأنديز وفى هضبة بتاجونيا فى الجنوب.
- تعد البرازيل أكبر دول القارة سكاناً حيث يمثل سكان البرازيل نحو ٥٠٪ من إجمالى سكان القارة، ومن الدول التى يزيد فيها عدد السكان على ٤٠ مليون نسمة والأرجنتين، كما يوجد فى القارة دول يقل فيها عدد السكان عن مليون نسمة مثل جويانا.

توزيع سكان القارة الأوقيانوسية «أستراليا والجزر المجاورة»



خريطة (٢٦) توزيع سكان أستراليا

- يبلغ عدد سكان القارة الأوقيانوسية ٣٩ مليون نسمة ٦٠٪ منهم يعيشون داخل دولة أستراليا و ١١٪ فى جزيرتى نيوزيلندا والباقي فى الجزر المتناثرة فى المحيط الهادى ومنها سولومون.
- يتركز سكان أستراليا على السواحل الشرقية حيث المدن الكبرى مثل سيدنى والمناطق الصناعية الكبرى.
- كما يتركزون فى الأراضى الزراعية وفى سهول نهري مري ودارلنج فى الجنوب الشرقى.
- ويقل عددهم فى الداخل والغرب بسبب سيادة الظروف الصحراوية، كما يقلون فى الشمال فى مناطق حشائش السافانا والغابات الموسمية.



توجه إلى الموقع الإلكتروني للوزارة لحل الأنشطة والتدريبات على الدرس



الوحدة الثانية

خصائص سكان العالم

الدرس الثالث

معلومة إثرائية عن

■ الأمية.

أهداف الدرس

من المتوقع بعد الانتهاء من الدرس أن يكون التلميذ قادرًا على أن:

- يحدد الخصائص الديموجرافية لسكان العالم.
- يفسر أسباب اختلاف معدلات المواليد والوفيات من دولة إلى أخرى.
- يستخلص النتائج المترتبة على ارتفاع نسبة فئة صغار السن في الدول النامية.
- يقارن بين الدول النامية والدول المتقدمة من حيث الحالة التعليمية والصحية.
- يفسر العلاقة بين عادات وتقاليد وخصائص السكان.
- يصف الخصائص الاقتصادية لسكان العالم.
- يقرأ الأشكال البيانية المرتبطة بالسكان ويحللها.

رسوم بيانية

- رسم بياني عن معدل المواليد في العالم.
- رسم بياني عن معدل الوفيات في العالم.
- رسم بياني عن نصيب الفرد من الدخل القومي.

مفاهيم أتعلّمها

- الزيادة الطبيعية.
- التركيب العمري.
- ديموجرافيا.
- قوة العمل.

قضايا متضمنة

- حقوق الإنسان
- المرأة والطفل.



التمهيد

بعد أن تعرفنا فى الدرسين السابقين على السلالات فى قارات العالم وتوزيع السكان، سوف نتعرف فى هذا الدرس على خصائص سكان العالم.

ماذا نقصد بدراسة خصائص السكان؟

خصائص السكان تعنى الاهتمام بدراسة:

- خصائص السكان الديموجرافية «المواليد والوفيات والتركيب العمرى والنوعى».
- خصائص السكان التعليمية «الحالة التعليمية».
- خصائص السكان الصحية.
- خصائص السكان الاقتصادية «الحالة الاقتصادية».

مفاهيم اتعلمها

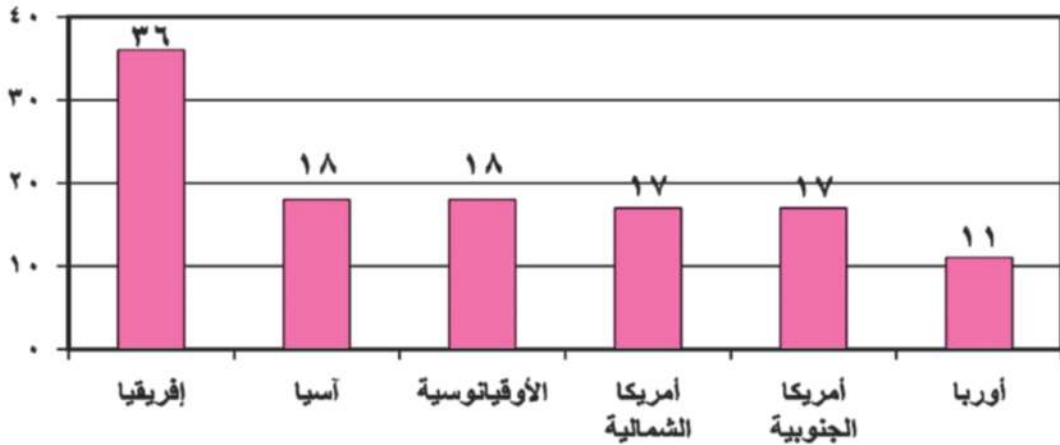
الديموجرافيا Demography: يعنى علم دراسة السكان ويدرس نمو و توزيع وتركيب السكان.

خصائص السكان الديموجرافية

معدل المواليد

يختلف معدل المواليد فى العالم من دولة إلى أخرى ومن قارة إلى قارة - لاحظ الرسم.

لكل ألف نسمة



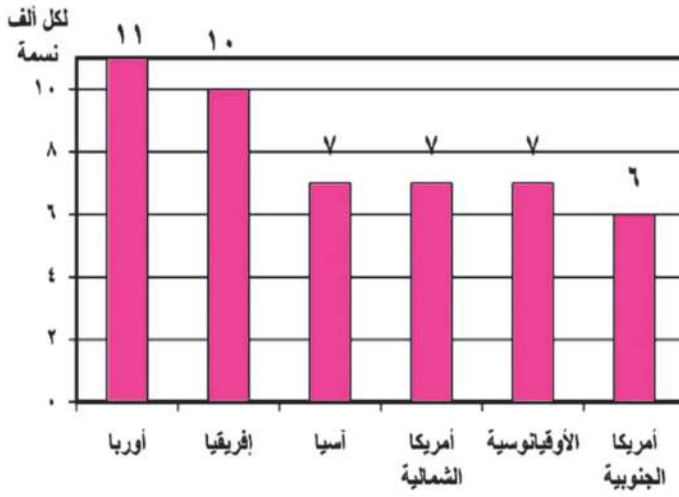
رسم بياني (٣) معدل المواليد فى العالم عام ٢٠١٤ م

يبلغ معدل المواليد فى العالم نحو ٢٠ فى الألف وتسجل قارة إفريقيا أعلى معدل مواليد فى العالم نحو ٣٦ فى الألف وهو معدل مرتفع مثل معظم دول العالم النامية ويرجع ارتفاع معدلات المواليد فى قارة إفريقيا بشكل كبير إلى:

- انتشار الأمية، والفقر فى معظم دولها.
- الاعتماد على الزراعة البدائية والرعي.
- انتشار بعض العادات والتقاليد السلبية مثل الرغبة فى إنجاب أكبر عدد من الأبناء، والزواج المبكر للإناث.

يصل معدل المواليد فى مصر إلى ٣١,٣ فى الألف فى عام ٢٠١٤

معدل الوفيات



رسم بياني (٤) معدل الوفيات في العالم عام ٢٠١٤م

- يصل معدل الوفيات إلى ٨ في الألف على مستوى العالم تزيد في الدول النامية وتقل في الدول المتقدمة لتصل إلى أقل من ٧ في الألف بينما تزيد في الدول النامية والفقيرة عن ١١ في الألف.
- تصل النسبة في أوروبا ١١ في الألف، ويرجع ذلك إلى زيادة عدد كبار السن ويوضح الرسم (٤) نسب الوفيات في قارات العالم المختلفة.

• انخفضت معدلات الوفيات في مصر إلى ٦,١ في الألف عام ٢٠١٤م نتيجة للرعاية الصحية والاهتمام بصحة الأطفال.

العوامل المؤثرة على معدلات الوفيات في العالم

- يلعب مستوى السكن والتغذية والخدمات الصحية العامة دوراً مؤثراً في معدل الوفاة، فالدول التي تراعى بها مستويات الوقاية الصحية وحماية البيئة من التلوث تقل بها معدلات الوفيات، بينما تزداد في الدول التي تقل فيها الرعاية الصحية وتنتشر بها الأمراض، وقد تؤدي الحروب والكوارث الطبيعية مثل الجفاف والزلازل إلى زيادة معدلات الوفيات.

بالتعاون مع زملائك صنف العوامل المؤثرة على معدلات الوفيات إلى عوامل بشرية وعوامل طبيعية.

معدل الزيادة الطبيعية

هو ناتج الفرق بين معدلات المواليد والوفيات، فنجد أن الدول المتقدمة تقل بها معدلات المواليد وتقل كذلك معدلات الوفيات، وبالتالي تقل معدلات الزيادة الطبيعية، فنجد أنها تزداد في إفريقيا وذلك لزيادة المواليد وقلة الوفيات نسبياً، بينما تقل في أمريكا الشمالية - (لماذا؟)، وقد وصلت في أوروبا إلى الصفر بمعنى أن عدد السكان ثابت، لأن عدد المواليد يتساوى مع عدد الوفيات.

وتصل الزيادة الطبيعية في مصر إلى ٢٥,٢ في الألف لعام ٢٠١٤م وهو معدل زيادة طبيعية مرتفع.

التركيب العمري

يقصد بالتركيب العمري دراسة عدد ونسبة كل مجموعة من سكان المنطقة وفقاً لفئات عمرية محددة، وتنقسم هذه الفئات إلى:

أولاً: فئة صغار السن

- هذه الفئة تضم الرضع والأطفال المراهقين الذين تقل أعمارهم عن ١٥ عامًا.
- تصل إلى ٢٩٪ من جملة السكان فى الدول النامية، وفى مصر ٣٢٪ ، بينما تنخفض إلى ١٧٪ فى السويد.
- السكان فى فئة صغار السن غير منتجين.
- هذه الفئة تكلف الدولة ميزانية ضخمة من أجل توفير الغذاء والملبس والرعاية الصحية والتعليم وغيرها من الخدمات.

ناقش مع معلمك الآثار المترتبة على ارتفاع فئة صغار السن فى الدول النامية وانخفاضها فى الدول المتقدمة.

ثانياً: الفئة المتوسطة (البالغون) من ١٥ - ٦٤ سنة

هى فئة سن العمل المنتجة، وهى فئة متقاربة بين دول العالم المختلفة، وأعلى نسب من السكان البالغين فى دول غرب أوروبا، وأقل نسب على مستوى العالم توجد فى قارة إفريقيا.

معلومات إثرائية

تكافؤ الفرص فى التعليم : يقصد بها إتاحة جميع الفرص بشكل متساو بين جميع الأطفال للالتحاق بالتعليم بغض النظر عن النوع أو المستوى الاقتصادى أو الاجتماعى.

ثالثاً: فئة كبار السن (٦٥ فأكثر)

وهى فئة غير منتجة ترتفع نسبتهم فى الدول المتقدمة (١٧٪) مقارنة بالدول النامية (٦٪) نتيجة للتقدم فى مجالات الخدمات الصحية والتعليمية.

الخصائص التعليمية

- هناك فارق كبير جداً بين الدول النامية والدول المتقدمة فى نسبة الأمية بين سكانها فوق سن ١٥ سنة، والتي ترتفع بشكل كبير فى الدول النامية، بينما تنخفض بشكل ملموس فى الدول المتقدمة.
- تصل نسبة المتعلمين فى الدول المتقدمة إلى أكثر من ٩٥٪ فى أمريكا الشمالية و أوروبا وأستراليا واليابان وروسيا.
 - كما تصل نسبة المتعلمين أيضاً فى معظم دول أمريكا الجنوبية وفى دول جنوب إفريقيا والصين إلى ٧٥٪ بينما تصل إلى ما بين ٤٠-٦٠٪ فى معظم دول قارة إفريقيا والهند فى آسيا، وتصل فى مصر إلى ٦٥٪ وذلك نتيجة زيادة الاهتمام بالتعليم فى مراحله المختلفة وجهود الدولة فى مجالات محو الأمية وتحقيق مبدأ تكافؤ الفرص.

نلاحظ أن:

معلومة إثرائية
الأمية هي عدم معرفة الإنسان
للقراءة أو الكتابة أو كليهما.

هناك عادات وتقاليد في بعض دول العالم تؤثر على معدل التعليم فيها خاصة معدل تعليم الإناث، ومن هذه العادات:

• بعض المناطق تحرم المرأة من التعليم حفاظاً عليها أو بسبب المعتقدات الخاطئة.

• تفضيل الزواج المبكر للإناث.

خصائص السكان الصحية (الحالة الصحية)

يعد عدد الأطباء مؤشراً مهماً على الرعاية الطبية، فكلما زاد عدد الأطباء بالنسبة للسكان في دولة ما دل ذلك على زيادة الرعاية الطبية، وقد قسمت الدول من حيث الرعاية الطبية إلى:

- دول ذات رعاية طبية فائقة: مثل معظم دول أوروبا وروسيا ودول أمريكا الشمالية.
- دول ذات رعاية طبية مرتفعة مثل: مصر - الأردن - الإمارات.
- دول ذات رعاية طبية منخفضة: ومعظمها يقع في دول إفريقيا مثل: النيجر - إثيوبيا - وفي نيبال بقارة آسيا.

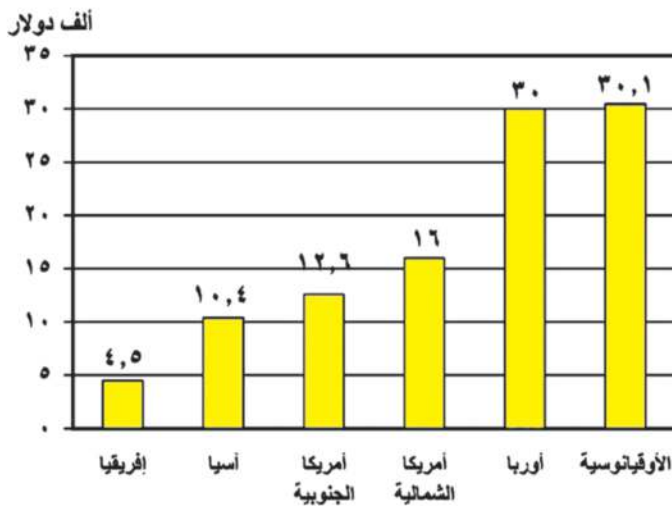
الخصائص الاقتصادية

تختلف الخصائص الاقتصادية لسكان العالم وفقاً لـ:

- تنوع الأنشطة التي يقوم بها السكان في كل دولة.
- دخل السكان.

(لاحظ الرسم البياني وناقش مع معلمك)

- القارة التي تتأثر بأعلى دخل للفرد.
- أقل قارة في نصيب الفرد من الدخل القومي.



رسم بياني (٥) نصيب الفرد من الدخل القومي السنوي في قارات العالم عام ٢٠١٤م

وتنقسم دول العالم من حيث الدخل إلى ما يلي:

■ دول ذات دخل اقتصادى مرتفع:

- تمثل فى الدول الصناعية مثل غرب أوروبا وأمريكا الشمالية، ودول الخليج العربى التى تعتمد على استخراج البترول وتصديره إلى الخارج وتصنيع مشتقاته.
- يتركز معظم السكان فى المدن فى مستويات معيشية مرتفعة.
- يعتمدون على الصناعة والخدمات، يستهلكون كميات كبيرة من الطاقة..

■ دول ذات دخل فوق المتوسط:

تعتمد على التصنيع والتنمية الاقتصادية والأنشطة الأخرى : مثل تركيا ودول شرق أوروبا والمكسيك وجنوب إفريقيا.

■ دول ذات مستوى اقتصادى أقل من المتوسط:

تعتمد على التصنيع النامى والأنشطة التقليدية مثل دول قارات العالم المختلفة كالهند فى آسيا - مصر والمغرب فى إفريقيا - البرازيل فى أمريكا الجنوبية - أوكرانيا فى أوروبا وهايتى فى أمريكا الشمالية.

■ دول ذات اقتصاد زراعى منخفض:

- معظم السكان ممن يعيشون فى الريف يعتمدون على الزراعة.
- تتركز هذه الدول فى إفريقيا ومنها الكونغو .
- كما تتركز فى باكستان فى آسيا.

نستنتج مما سبق أن: الدول ذات الدخل الاقتصادى المرتفع تعتمد على النشاط الصناعى بينما الدول ذات الدخل الاقتصادى المنخفض يسودها النشاط الزراعى.

ماذا يحدث إذا قامت إفريقيا بالاستفادة من ثرواتها المعدنية والزراعية فى التصنيع؟ **ناقش مع معلمك.**

■ قوة العمل

ويقصد بها: عدد الأفراد فى سن العمل والقادرين على العمل والذين يعملون فعلياً أو يبحثون عن عمل.

تصل نسبة قوة العمل فى مجال الزراعة إلى :

- ٨٠٪ فى الدول النامية فى إفريقيا، مثل إثيوبيا.
- ٨٠-٦٠٪ فى السودان بإفريقيا والهند فى آسيا.
- ٦٠-٣٠٪ فى مصر بإفريقيا وتركيا فى آسيا.
- أقل من ١٠٪ فى الدول المتقدمة فى غرب أوروبا وأمريكا الشمالية وأستراليا.
- تزداد نسبة العاملين فى الصناعة والخدمات المرتبطة بها فى الدول المتقدمة الغنية مقارنة بالدول الفقيرة التى يعمل بها نسبة كبيرة من السكان فى الزراعة، وغيرها من النشاطات الأولية والثانوية، مثل الصيد وقطع الغابات والرعى وغيرها.

توجه إلى الموقع الإلكتروني لوزارة حل الأنشطة والتدريبات على الدرس



أهداف الوحدة

في نهاية دراسة هذه الوحدة يتوقع أن يكون التلميذ قادرًا على أن:

- يتعرف أسباب دخول العثمانيين مصر.
- يستخلص نتائج هزيمة الجيوش المملوكية.
- يحدد ملامح الحكم العثماني لمصر.
- يوقع على خريطة امتداد نفوذ الدولة العثمانية في بداية القرن السادس عشر الميلادي.
- يصف أحداث الحملة الفرنسية على مصر والشام.
- يبرز دور الشعب المصري في تولية (محمد علي).
- يقيم دور (محمد علي) في بناء مصر الحديثة.
- يعتز بجهود المصريين في مقاومة الاحتلال.
- يقدر جهود (محمد علي) في بناء مصر الحديثة.

دروس الوحدة

الدرس الأول: مصريين المماليك والعثمانيين



الدرس الثاني: الحملة الفرنسية على مصر (١٧٩٨-١٨٠١م)



الدرس الثالث: ثورة الشعب المصري وتولية محمد علي



الدرس الرابع: (محمد علي) وبناء مصر الحديثة





الوحدة الثالثة

مصريين الماليك والعثمانيين

الدرس الأول

أهداف الدرس

من المتوقع بعد الانتهاء من الدرس أن يكون التلميذ قادرًا على أن:

- يتتبع مراحل استيلاء العثمانيين على مصر والشام .
- يحدد أبرز ملامح الحكم العثماني في مصر .
- يوقع على خريطة لقارات العالم القديم امتداد الدولة العثمانية .
- في بداية القرن السادس عشر الميلادي .
- يستنتج أسباب ضعف دولة الماليك .
- يُبدى رأيه في العلاقة بين الدولتين العثمانية والمملوكية .

معلومة إثرائية عن

- الدولة الصفوية.

صور

- السلطان سليم الأول.
- على بك الكبير.

خرائط

- دولة الماليك.
- موقعتا مرج دابق والريدانية.
- الدولة العثمانية في أقصى اتساع لها
- طريق رأس الرجاء الصالح.

قضايا متضمنة

- حقوق الإنسان.
- حسن استخدام الموارد وتنميتها.

شهد العالم الإسلامي أواخر القرن الخامس عشر وبداية القرن السادس عشر صراعاً حاداً بين ثلاث قوى هي:

دولة المماليك:



خريطة (٢٧) دولة المماليك

قامت في مصر والشام والحجاز وجزء من ساحل إفريقيا الشرقى المطل على البحر الأحمر وقد تعرضت دولة المماليك في أواخر القرن الـ ١٥ الميلادي لأزمات مالية وتدهور اقتصادي، بعد اكتشاف طريق رأس الرجاء الصالح عام ١٤٩٨م، وتحطم الأسطول المملوكي عام ١٥٠٩م في معركة ديو البحرية كما تعرضت لأزمات سياسية بسبب اضطراب الأمن، والصراع المستمر بين المماليك، وكثرة الفتن والثورات الداخلية، مما أدى إلى إضعاف قوتهم العسكرية.

الدولة العثمانية

مع بداية القرن السادس عشر الميلادي اتجه السلطان سليم الأول في غزواته نحو الشرق، فكان الصدام العسكري مع الدولة الصفوية في إيران والدولة المملوكية في الشام ومصر.

لمزيد من المعلومات استعن بالشبكة الدولية للمعلومات.

الدولة الصفوية:

الدولة الصفوية: نسبة إلى إسماعيل الصفوي، وهي دولة إسلامية وكانت متاخمة للعراق. مركزها بلاد الفرس قديماً وعاصمتها تبريز وتدين بالمشيخي.

وبعد أن تمكن السلطان سليم الأول من هزيمة الصفويين في موقعة جالديران ١٥١٤م ودخوله العاصمة تبريز اتجه بجيشه العثماني إلى الدولة المملوكية في مصر والشام.

أسباب انجاء العثمانيين إلى مصر والشام

١- رغبة السلطان سليم الأول في توسيع ممتلكاته في الشرق عن طريق الاستيلاء على مصر التي تمثل قلب العالم الإسلامي.



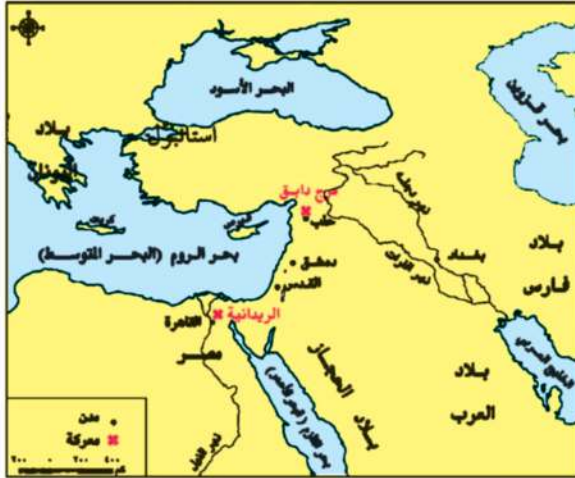
السلطان سليم الأول

٢- إدراك السلطان سليم الأول أن الصدام مع الدول الأوروبية في ذلك الوقت محفوف بالمخاطر، لتفوقها حضارياً وعسكرياً على العثمانيين ومن هنا كان التوجه نحو الشرق لتحقيق السيطرة على المنطقة.

استيلاء العثمانيين على مصر والشام

مرج دابق (أغسطس ١٥١٦م):

بادر السلطان العثماني سليم الأول بالاستيلاء على إمارة ذى القادر المملوكية، التي تقع على الحدود بين الدولتين العثمانية والمملوكية، فخرج السلطان الغوري للشام ودارت معركة بين المماليك والعثمانيين عند «مرج دابق» هزمت فيها القوات المملوكية.



خريطة (٢٨) موقعى مرج دابق والريدانية

الريدانية (يناير ١٥١٧م):

التقى العثمانيون بجيوش طومان باى عند الريدانية بصحراء العباسية، وأسفرت المعركة عن هزيمة طومان باى ودخول العثمانيين القاهرة، وهكذا انتهت دولة المماليك في مصر والشام، وصارت مصر ولاية عثمانية.

أسباب هزيمة الجيوش المملوكية

- التفوق العسكرى للجيش العثماني، واستخدام أساليب القتال الحديثة والأسلحة المتطورة.
- نزاع المماليك المستمر على السلطة وعدم الاستقرار الداخلي.

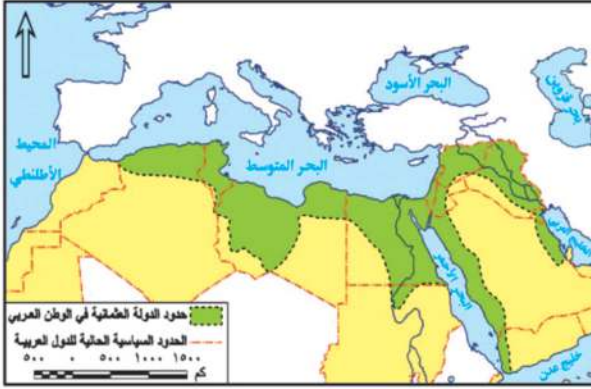
ناقش زملائك في أسباب هزيمة الجيوش المملوكية في ضوء دراستك لها سابقاً.

نتائج هزيمة الجيوش المملوكية

١- تحول مصر من دولة مستقلة، إلى ولاية من ولايات الدولة العثمانية.

٢- سيطرة العثمانيين على العالم العربى من اتجاhein (الاسوى والإفريقى) لاحظ موقعهما على الخريطة

٣- انتقال خلافة العالم الإسلامى الدينية والسياسية إلى الدولة العثمانية، وإعلان سليم الأول نفسه الحامى الوحيد للحرمين الشريفين ولجميع رعاياه فى العالم الإسلامى.



خريطة (٢٩) الدولة العثمانية فى أقصى اتساع لها

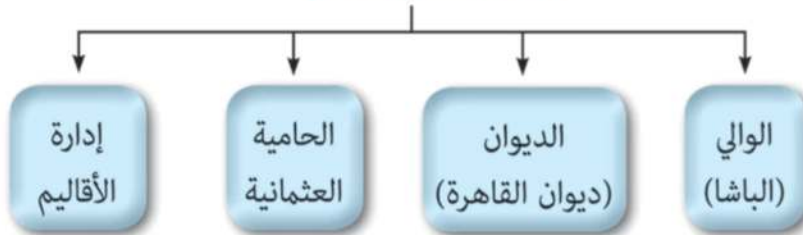
ملامح الحياة فى مصر إبان الحكم العثماني

• خضعت مصر للحكم العثمانى نحو أربعة قرون متتالية، وكان حكمهم جامداً راکداً، نتج عنه تحول مصر إلى ولاية معزولة عن المؤثرات الحضارية الحديثة فى أوروبا. والآن تعال معاً نتعرف أحوال مصر تحت الحكم العثماني

أولاً : الحياة السياسية

وضع العثمانيون نظاماً للحكم يتكون من عدة هيئات، لاحظ الشكل التالي وتعرفها، ثم ناقش معلمك فيها:

هيئات الحكم العثماني



لقد حمل نظام الحكم العثماني فى ثناياه عوامل ضعفه بسبب:

- قصر مدة حكم الوالي التى تتراوح ما بين سنة وثلاث سنوات.
- زيادة سلطة الديوان والحامية العثمانية.

حركة علي بك الكبير

نتيجة ضعف الدولة العثمانية تطلع البكوات المماليك (حكام الأقاليم) للانفراد بالحكم، وكان من أبرزهم (علي بك الكبير)، الذي صار الحاكم الفعلي لمصر عام ١٧٦٨م



علي بك الكبير

تحالف "علي بك الكبير" مع الشيخ ظاهر العمر حاكم جنوب الشام، وأخضع الحجاز لنفوذه، وأرسل نائبه محمد بك أبو الدهب لغزو الشام واستطاع دخول دمشق، إلا أنه انحاز للسلطان العثماني واتفق معه ضد علي بك الكبير وفشلت حركة علي بك الكبير وعادت مصر ولاية عثمانية تحت حكم شيخ البلد محمد بك أبو الدهب.

ثانياً: الحياة الاقتصادية

تدهورت الأوضاع الاقتصادية في مصر إبان العصر العثماني.

ومن مظاهر ذلك ما يلي :

الزراعة:

- كانت الأرض ملكاً للدولة ممثلة في السلطان، وكانت تتم زراعتها عن طريق تكليف الفلاحين فيما عرف بحق الانتفاع حيث ينتفع الفلاح بزراعة الأراضي وليس له حق التصرف فيها ومع ضعف الدولة العثمانية تم تطبيق نظام الالتزام في منتصف القرن الـ ١٧م. (ناقش زملائك في سمات نظام الالتزام في عصر الدولة العثمانية).
- أثقل الفلاح بالضرائب المفروضة على الأراضي الزراعية، وشدة تعسف وظلم الملتزمين في جمعها، وعدم اهتمام الطبقة الحاكمة بتنظيم الري أو إقامة السدود وحفر الترع، مما أدى إلى تدهور الزراعة وتدهور أحوال المجتمع الريفي بوجه عام.

الصناعة:

تأخرت الصناعة في العصر العثماني في مصر بسبب تدهور الزراعة وانتقال الحرفيين والصناع المهرة إلى «الآستانة» عاصمة الدولة العثمانية. فأصبحت الصناعات يدوية بسيطة وكانت رديئة.

التجارة:

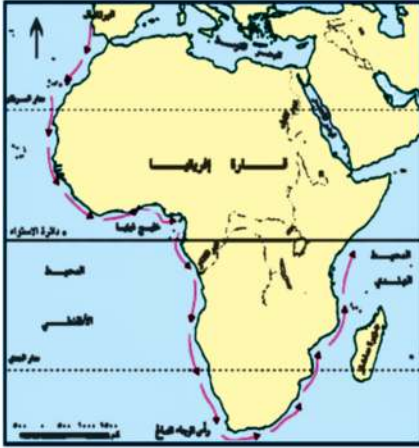
١- التجارة الداخلية:

- كسدت التجارة الداخلية في مصر ابان العصر العثماني بسبب:
- تدهور الزراعة والصناعة وافتقاد الأمن.
- عدم الاهتمام بالطرق البرية، والإغارات المتلاحقة لبدو الصحراء.

٢- التجارة الخارجية:

- تدهورت التجارة الخارجية بسبب تحول الطريق التجاري بين الشرق والغرب إلى طريق رأس الرجاء الصالح، ومنح الدولة العثمانية الإمتيازات الأجنبية للدول الأوروبية.

ناقش زملائك في العلاقة بين الاستقرار السياسي للدول وبين تقدمها اقتصادياً.



خريطة (٣٠) طريق رأس الرجاء الصالح

ثالثاً: الحياة الاجتماعية

كان المجتمع المصري خلال الحكم العثماني ينقسم إلى فئتين متميزتين:

- فئة الحكام: كان لها كافة السلطات في شئون الحكم والإدارة والجيش، وتركزت في أيدي الأتراك والمماليك
- فئة المحكومين: كانت تنقسم إلى طبقة وسطى محدودة من المشايخ وعلماء الأزهر ورجال الدين وكبار التجار وطبقة دنيا وهم الأكثرية من الفلاحين وصغار الحرفيين وعامة الناس، وقد عانت من الفقر والظلم وتفشى الأوبئة والأمراض.

رابعاً: الحياة الفكرية والثقافية

اتسمت الحياة الفكرية والثقافية خلال فترة الحكم العثماني بالجمود والتخلف بسبب العزلة التي فرضها العثمانيون على البلاد، وقد ترتب على ذلك:

- اهتزاز مكانة الأزهر العلمية آنذاك، ولم يعد هناك اهتمام بالعلوم العقلية أو الرياضية أو الطبيعية ولكن كان هناك اهتمام بالعلوم الشرعية.
- تدهور الحياة الأدبية.
- انتشار الدجل والشعوذة والخرافات، وشاع الجهل.



توجه إلى الموقع الإلكتروني للوزارة لحل الأنشطة والتدريبات على الدرس

الوحدة الثالثة

الدرس الثاني

الحملة الفرنسية على مصر (١٧٩٨ - ١٨٠١م)

أهداف الدرس

من المتوقع بعد الانتهاء من الدرس أن يكون التلميذ قادرًا على أن:

- يحدد أسباب الحملة الفرنسية على مصر والشام.
- يرسم خريطة توضح خط سير الحملة الفرنسية على مصر والشام.
- يوضح دور المقاومة في فشل الحملة الفرنسية على مصر والشام.
- يستنتج أسباب حرص الدولة العثمانية وبريطانيا على خروج قوات الحملة الفرنسية من مصر.
- يستخلص نتائج الحملة الفرنسية على مصر.
- يقدر دور المقاومة الشعبية في مواجهة المحتل.
- يقارن بين أحوال مصر قبل الحملة الفرنسية وبعدها.

معلومات إثرائية

- منشور نابليون بونابرت إلى المصريين.
- كتاب وصف مصر.

مفاهيم أتعلّمها

- مقاومة.
- جلاء.

صور

- نابليون بونابرت.
- كليبر.

خرائط

- خط سير الحملة الفرنسية على مصر.
- موقعة أبي قير البحرية.
- خط سير الحملة الفرنسية على الشام.

قضايا متضمنة

- مقاومة الاحتلال.
- حسن استخدام الموارد.

التمهيد

تعد الحملة الفرنسية على مصر والشام (١٧٩٨ - ١٨٠١م) بقيادة نابليون بونابرت جزءاً من التنافس الاستعماري بين إنجلترا وفرنسا على المستعمرات، وقد بدأ هذا التنافس في القرن السابع عشر الميلادي، واستمر طوال القرن الثامن عشر. وجه القنصل الفرنسي في مصر آنذاك تقارير تفيد بسوء الأوضاع السياسية والداخلية في مصر، يحث فيها حكومة الثورة الفرنسية على إرسال حملة عسكرية على مصر.

الحملة الفرنسية على مصر ١٧٩٨ م

أ - أسباب الحملة :

- تعويض فرنسا عن فقدان مستعمراتها.
- قطع الطريق بين إنجلترا ومستعمراتها في الهند.
- إنشاء مستعمرة فرنسية في الشرق تكون قاعدتها مصر.

ب - الإعداد للحملة :

- أعد نابليون بونابرت جيشاً، واصطحب معه مجموعة من العلماء في مختلف العلوم والفنون لدراسة أحوال مصر من جميع النواحي، وكيفية استغلال مواردها، وحمل معه مطبعة عربية وأخرى فرنسية لطبع المنشورات للأهالي.

ج - خط سير الحملة :

- أبحرت الحملة من ميناء طولون سراً، ثم أصدر نابليون أوامره بأن تتجه الحملة نحو مصر.
- وصلت الحملة إلى مدينة الإسكندرية فواجه أهالي الإسكندرية بزعامة حاكمها السيد «محمد كُرم» قوات الحملة قبل أن تصل قوات المماليك من القاهرة ولهذا اعتقلته القوات الفرنسية، ثم أعدم رمياً بالرصاص في سبتمبر ١٧٩٨ م.



خريطة (٣١) خط سير الحملة الفرنسية على مصر

- واصلت القوات الفرنسية زحفها في طريقها إلى القاهرة، فالتقت بقوات المماليك بالقرب من شبراخيت في البحيرة (يوليو ١٧٩٨م) فهزموا وفروا جنوباً للدفاع عن القاهرة، ورابطت عند إمبابة وهناك واجه المماليك القوات

معلومة إثرائية



ادعى نابليون بونابرت أنه جاء لمحاربة المماليك الغرباء عن البلاد، والذين يستنزفون ثروة مصر ويظلمون أهلها، وأنه يهدف إلى إنشاء حكومة وطنية يكون الحكم فيها للمصريين،

وزع نابليون بونابرت منشوراً في مصر بتاريخ ٢٧ يونيو ١٧٩٨م قبل وصول الحملة إلى الشواطئ المصرية، يقول فيه: «إنني ما قدمت إليكم إلا لأخلص حقكم من يد المماليك الظالمين، وأن جميع الناس متساوون عند الله، وأن الشيء الذي يفرقهم عن بعضهم هو العقل والفضائل والعلم فقط».

الفرنسية مرة أخرى حيث هُزموا وفر مراد بك إلى الصعيد، وهرب إبراهيم بك ومعه والي العثماني إلى الشام، وكان من أسباب هزيمة المماليك اعتمادهم على الفروسية بينما كان الفرنسيون يستخدمون المدافع والمعدات الحديثة.

دخول القاهرة (يوليو ١٧٩٨م):

دخل نابليون القاهرة، بعد أن أَمَنَ العلماء والمشايخ في الجامع الأزهر على الأرواح والأموال.

ناقش مع معلمك دور العلماء والمشايخ في نمو الوعي القومي أثناء الحملة الفرنسية.

موقعة أبوقير البحرية (أغسطس ١٧٩٨م):

أغرق الأسطول الإنجليزي بقيادة نلسون أسطول الحملة الفرنسية في خليج أبوقير، وحاصر الأسطول البريطاني شواطئ مصر الشمالية مما أدى إلى: القضاء على آمال فرنسا في السيطرة على سواحل البحر المتوسط، حرمان الحملة في مصر من إمدادات فرنسا لها، وشعور الجنود الفرنسيين بأنهم محاصرون داخل مصر، وتوقفت حركة التجارة الخارجية بالنسبة لمصر.



خريطة (٣٢) موقعة أبوقير البحرية ١٧٩٨ م

مقاومة الشعب المصري للاحتلال الفرنسي

١ - مقاومة أبناء الصعيد

أخفقت القوات الفرنسية في إخضاع أهالي الصعيد الذين اتبعوا حرب المناوشات والمعارك المتفرقة، والتي أنهكت قوة الفرنسيين نظرًا لطول الوادي، مما أدى إلى تعاظم الشعور الوطني ونمو الوعي القومي تجاه الاحتلال الفرنسي.

٢ - ثورة القاهرة الأولى: (أكتوبر ١٧٩٨م)

مفاهيم اتعلمها

مقاومة: رفض الشعوب للاحتلال ومظاهره، ودفعه عن البلاد بمختلف الوسائل.

نتائجها

- إعدام كثير من الأهالي والثوار.
- فرض غرامات مالية على التجار والعلماء.
- شروع القوات الفرنسية في تحصين مدينة القاهرة.

أحداثها

- أصبح الأزهر الشريف مقر قيادة الثورة واشتدت المقاومة وامتدت الثورة إلى الأقاليم المجاورة وقتل حاكم مدينة القاهرة الفرنسي. واستخدمت قوات الاحتلال الفرنسية سياسة القمع والإرهاب لإخماد الثورة، ودخلوا جامع الأزهر بخيولهم مما أثار الشعور الديني لدى المصريين.

أسبابها

- فرض نابليون بونابرت الضرائب الفادحة
- تفتيش البيوت بحثًا عن الأموال.
- هدم أبواب الحارات لمطاردة عناصر المقاومة.
- هدم كثير من الآثار والمساجد والمباني بحجة تحصين القاهرة.

الحملة الفرنسية على الشام ١٧٩٩ م

أ - الأسباب:

- تحالفت الدولة العثمانية مع إنجلترا وروسيا لإخراج الفرنسيين من مصر بالقوة العسكرية فأعدوا حملتين لغزو مصر الأولى بحرية في جزيرة رودس إلى مصر من الشمال، والثانية برية إلى مصر من الشرق عن طريق الشام.

ب - الأحداث:

- قاد نابليون بونابرت قواته إلى الشام من جهة العريش ليقتضى على الجيش العثماني قبل أن يصل مصر، وذلك في (مارس ١٧٩٩م)، واستولى في طريقه على العريش وغزة، وحاصر يافا حصاراً شديداً، وبعد استيلائه على يافا أعدم جميع أفراد حاميتها رغم تأمينه على أرواحهم، مُرتكباً جريمة بشعة والتي سميت باسم مذبحه (يافا البشرية)، مما أدى إلى مقاومة واستبسال أهالي عكا عن مدينتهم بقيادة (أحمد باشا الجزار) بمساعدة الأسطول البريطاني وإمداداته بالموثون والذخائر.



خريطة (٣٣) خط سير الحملة الفرنسية على الشام

ج - نتائجها:

- فشل الحملة الفرنسية على الشام • اضطر نابليون بونابرت للعودة إلى مصر.

موقعة أبي قير البرية (يوليو ١٧٩٩م):

- بعد عودة نابليون إلى مصر وصل الأسطول العثماني عند أبي قير، وتوجه نابليون بقواته إليهم مما أدى إلى اشتباك قوات الحملة الفرنسية مع قوات الأسطول العثماني وترتب على ذلك هزيمة القوات العثمانية.

رحيل بونابرت:

- ترك نابليون الحملة لنائبة كليبر، وسافر سراً إلى فرنسا بسبب تحالف دول أوروبا ضد فرنسا.
- وكان كليبر من أنصار الجلاء عن مصر لأن الأخطار تهدد الحملة الفرنسية من كل جانب، حيث تناقص عدد الجيش الفرنسي بسبب المعارك والحروب الداخلية والخارجية، وإرسال الدولة العثمانية



كليبر

حملة أخرى إلى العرش ودمياط ، وعودة المماليك للمقاومة ، وتجددت ثورات المصريين فى الشرقية وامتدت إلى وسط الدلتا وغربها ، مما أدى إلى اتجاه كليبر للتفاوض مع الدولة العثمانية فيما يسمى **بـ (اتفاقية العرش ١٨٠٠م)** .
أ - شروطها:

خروج الحملة الفرنسية بجنودها إلى فرنسا على نفقة الدولة العثمانية ، مما دفع العثمانيين الى التقدم نحو القاهرة .
ب - نتائجها:

- رفضت الحكومة البريطانية الاتفاق وطلبت استسلام الجيش الفرنسى كأسرى حرب فرفض كليبر .
- هاجم كليبر القوات العثمانية وأعادها متقهقرة إلى الشام مرة أخرى .

٣ - ثورة القاهرة الثانية مارس ١٨٠٠ م :

أ - أحداثها:

قام المصريون بثورة عارمة بزعامة السيد عمر مكرم نقيب الأشراف ضد قوات الاحتلال الفرنسى ، واشتدت الثورة خاصة فى حى بولاق؛ ولكن سرعان ما أخمدتها القوات الفرنسية .

ب - نتائجها:

- دمر الفرنسيون حى بولاق .
- اشتد كليبر فى فرض المزيد من الضرائب ومصادرة الأموال .
- وبعد أن هدأت الأوضاع قُتل كليبر على يد سليمان الحلبي أحد طلاب الأزهر فى يونيو ١٨٠٠م ، وتولى مينو أمر الحملة وكان ينوى الإقامة فى مصر وتحويلها إلى مستعمرة فرنسية كبرى ، وتحقيقاً لذلك قام بوضع خطة إصلاحية فى مجالات الزراعة والصناعة والتجارة والصحة والنظام القضائى .

جاء الحملة الفرنسية:

جلاء: رحيل قوات الاحتلال عن البلد المحتل .

- أرسلت إنجلترا أسطولاً حربياً إلى أبى قير (فبراير ١٨٠١م) لإخراج الفرنسيين من مصر وانضم إليه الجيش العثماني ، ولم تستطع القوات الفرنسية المقاومة ، واستسلمت وغادرت الحملة الفرنسية مصر فى سبتمبر ١٨٠١م .

نتائج الحملة الفرنسية

اصطحب نابليون مع الحملة مجموعة كبيرة من العلماء فى مختلف المجالات ، لذا تركت الحملة نتائج بعيدة المدى تمثلت فيما يلي:

أولاً: نمو الروح القومية

أيقظت الحملة الفرنسية الروح القومية لدى المصريين ، حيث تمسك المصريون بعد خروج الحملة الفرنسية بحقوقهم فى الحرية ، واختيار حاكمهم .

ثانياً: الأعمال التي قام بها علماء الحملة الفرنسية

- دراسة شق قناة تربط بين البحرين الأحمر والمتوسط.
- إنشاء المجمع العلمي المصري.
- تأليف كتاب (وصف مصر).
- اكتشاف حجر رشيد ١٧٩٩ م ، وماترتب على ذلك من التعرف على التاريخ المصري القديم.

معلومات إثرائية

كتاب (وصف مصر)

يعد أول موسوعة حديثة عن مصر تتضمن وصف مصر منذ أقدم العصور حتى نهاية عهد الحملة وبه كثير من الرسوم والخرائط والأشكال منها خريطة للقطر المصري .

ثالثاً: توجيه أنظار الدول الأوروبية إلى أهمية موقع مصر الجغرافي

وجهت الحملة أنظار الدول الأوروبية عامة وإنجلترا خاصة لأهمية موقع مصر الجغرافي والاستراتيجي .

رابعاً: نظم الحكم والإدارة

أنشأ نابليون بونابرت الديوان العام ودواوين الأقاليم وديوان القاهرة، بهدف تدريب الأعيان والعلماء المصريين على نظام مجالس الشورى من حيث الاستشارة وتلقى الآراء، فيما يعود على الأهالي بالنفع العام .

خامساً: الآثار الاقتصادية والاجتماعية

وضعت الحملة بعض المشروعات للإصلاح في المجالات التالية :

- **الزراعة:** تنويع المحاصيل الزراعية والاهتمام بمشاريع الري .
- **الصناعة:** إنشاء مصانع للنسيج وبعض الصناعات الدقيقة والدباغة وصناعة حروف الطباعة .
- **التجارة:** فتح أسواقاً لمصر في بلاد البحر الأحمر ودارفور في السودان والحبشة وبلاد شمال إفريقيا .
- **الصحة العامة:** إنشاء المحاجر الصحية في القاهرة والعديد من المدن الأخرى .

توجه إلى الموقع الإلكتروني للوزارة لحل الأنشطة والتدريبات على الدرس





الوحدة الثالثة

الدرس الثالث

ثورة الشعب المصري وتولية (محمد علي)

أهداف الدرس

من المتوقع بعد الانتهاء من الدرس أن يكون التلميذ قادرًا على أن:

- يتتبع مراحل بروز شخصية (محمد علي).
- يصف أحوال مصر قبل تولية (محمد علي).
- يبرز دور الشعب المصري في تولية (محمد علي).
- يبدى رأيه في انفراد (محمد علي) بالسلطة.
- يقدر دور الشعب المصري في تولية (محمد علي).
- يحرص على التعايش مع الآخرين.
- يرسم خريطة زمنية لأهم الأحداث التاريخية منذ خروج الحملة الفرنسية من مصر حتى تولية (محمد علي).

معلومات إثرائية عن

- محمد علي
- استغلال (محمد علي) الأزمة الاقتصادية عام ١٨٠٨ لتوطيد حكمه.
- صلح إيمان

صور

- (محمد علي)

خرائط

- حملة فريزر على مصر ١٨٠٧م.

قضايا متضمنة

- التربية من أجل المواطنة.

التمهيد

عقب رحيل الحملة الفرنسية من مصر، واجهت البلاد فترة من الفوضى والاضطرابات والصراعات بين المماليك والعثمانيين وانجلترا رغبة في استئثار كل منهم بالسيطرة على مصر، وبسط نفوذهم عليها وفي النهاية استمرت مصر ولاية تابعة للدولة العثمانية (ناقش مع معلمك دوافع كل منهم)

معلومة إثرائية

ولد (محمد علي) باشا سنة ١٧٦٩ م في مدينة (قولة) أحد موانئ مقدونيا ببلاد اليونان التي كانت تحت الحكم العثماني وبدأ بممارسة حرفة التجارة، ثم التحق بالجيش العثماني وجاء إلى مصر مع القوات العثمانية لمحاربة الفرنسيين، وأصبح قائداً للجند الألبان في مصر.



محمد علي

معلومة إثرائية

عقد صلح إيمان في مارس ١٨٠٢ م بين بريطانيا وفرنسا، وبمقتضاه تم سحب القوات البريطانية من مصر في مارس ١٨٠٣ م

تولية (محمد علي) حكم مصر

• بدأت الدولة العثمانية تستعيد حكم البلاد، لكن قام الشعب المصري بالعديد من الثورات ضد الولاة العثمانيين وزعماء المماليك كان من أهمها ثورة الشعب في مارس ١٨٠٤ م بسبب فرض الضرائب والإتاوات على الأهالي، وخشى (محمد علي) أن تصيب الثورة جنوده، فجاهر بالانضمام إلى العلماء والمشايخ واختلط بالأهالي الساخطين، وتعهد للعلماء بأن يبذل قصارى جهده لرفع الضريبة عن الناس، واقترح تعيين (خورشيد باشا) والياً على مصر، والذي تم تعيينه من قبل السلطان العثماني، وترتب على ذلك كسب (محمد علي) عطف الشعب وثقة زعمائه، نظر إليه الشعب كرجل عادل يكره الظلم.

• اجتمع زعماء الشعب من العلماء ونقباء الطوائف بدار المحكمة (بيت القاضي) في ١٣ من مايو ١٨٠٥ م، وقرروا عزل خورشيد باشا (الوالي العثماني)، وتعيين (محمد علي) بدلاً منه، وأخذوا عليه العهود والمواثيق أن يحكم بالعدل وألا يُبرم أمراً إلا بمشورتهم وكانت هذه أول مرة في تاريخ مصر الحديث التي يُعزل فيها الوالي ويُعين آخر بإرادة الشعب.

• أصدر السلطان العثماني فرماناً في التاسع من يوليو ١٨٠٥ م، تضمن عزل (خورشيد باشا) وتعيين (محمد علي) والياً على حكم مصر.

توطيد سيادة (محمد علي)

قبل أن يتفرغ (محمد علي) لبناء دولة مصر الحديثة، كان عليه أن يطمئن لاستقرار الحكم في يده، ومواجهة العديد من المشكلات التي اعترضته والتي تمثلت فيما يلي:

محاولة نقل (محمد علي) من مصر ١٨٠٦ م

لم ترضخ بريطانيا بسهولة بعد تولية (محمد علي) الحكم، إذ كانت تسعى لتولية محمد بك الألفي (المملوكي)، لكي تطمئن على مصالحها الاقتصادية في المنطقة، فحاولت إقناع السلطان العثماني بعزل (محمد علي) وإسناد ولاية مصر إلى محمد بك الألفي أو إلى أي والٍ عثماني آخر، واستجاب السلطان لبريطانيا وأرسل أسطولاً يحمل فرماناً بنقل (محمد علي) والياً على سالونيك في مقدونيا، وتسليم السلطة دون معارضة أو مقاومة إلى والٍ عثماني جاء مع الأسطول (يوليو ١٨٠٦ م)، ولكن الزعامة الشعبية المصرية وقفت بجانب (محمد علي)، فرفض السلطان العثماني وتخلّى عن فكرة نقل (محمد علي) من ولاية مصر مع تثبيتته عليها.

معلومة إثرائية

استغل (محمد علي) فرصة الأزمة الاقتصادية نتيجة لانخفاض منسوب النيل بمصر (أغسطس ١٨٠٨ م) ليتخذ بعض القرارات التي تحقق له أغراض السيطرة والإنفراد بالحكم مثل

حملة فريزر مارس ١٨٠٧ م

أسبابها:

- انتهزت بريطانيا فرصة تدهور علاقتها مع السلطان العثماني، وأرسلت حملة عسكرية في مارس ١٨٠٧ م لاحتلال مصر وخلع (محمد علي)، وتثبيت تابعها (محمد بك الألفي) المملوكي.



لاحظ الخريطة التي أمامك ثم ناقش مع معلمك خط سير الحملة ومقاومة الشعب المصري لها. وكان من أهم نتائجها:

- هزيمة الحملة في رشيد وحماد.
- جلاء الحملة مقابل الإفراج عن الأسرى.
- دخول (محمد علي) الإسكندرية منتصراً.

خريطة (٣٤) حملة فريزر في مارس ١٨٠٧ م

الزعامة الشعبية

أدرك (محمد علي) قوة الزعامة الشعبية الممثلة في السيد عمر مكرم، ودورها في: توليه الحكم والقيود التي فرضتها عليه عند قبوله الولاية، وقد رأى (محمد علي) ضرورة أن ينفرد بالحكم دون وصاية أو رقابة شعبية لذا، أخذ يتربص الوقت المناسب للتخلص من السيد عمر مكرم.

وقد ساعده في تحقيق ذلك انقسام القيادات الشعبية فيما بينها حول تقدير السيد عمر مكرم ومكانته بين الناس، حيث أخذ مُنافسوه يدسون له عند (محمد علي) الذي انتهاز الفرصة، وأقدم على خلعه من نقابة الأشراف، وإبعاده ونفيه إلى دمياط (١٨٠٩ م).

المماليك

عمل (محمد علي) على التخلص من المماليك؛ لأنه كان يرى أنهم مصدرًا للقلق والفوضى، واتبع في ذلك عدة أساليب منها: حرمانهم من تولى المناصب الرفيعة في الدولة مثل: مشيخة البلد، ومطاردتهم بكل مكان، وتدمير مذبحة القلعة الشهيرة في (مارس ١٨١١ م)، وبهذه الإجراءات تمكن (محمد علي) من الإنفراد تمامًا بحكم البلاد، والتي أرادها بعد نظره وطموحه في مصاف الدول الأوروبية الحديثة.

توجه إلى الموقع الإلكتروني للوزارة لحل الأنشطة والتدريبات على الدرس





الوحدة الثالثة

(محمد علي) وبناء مصر الحديثة

الدرس الرابع

أهداف الدرس

من المتوقع بعد الانتهاء من الدرس أن يكون التلميذ قادرًا على أن:

- يحدد مظاهر بناء الدولة الحديثة في عصر (محمد علي).
- يقارن بين نظام الاحتكار ونظام الالتزام.
- يحدد أسباب حروب (محمد علي) ونتائجها.
- يقدر أهمية أعمال (محمد علي) الخارجية.
- يقدر دوافع سياسة (محمد علي) الداخلية والخارجية.
- يقدر جهود (محمد علي) في بناء مصر الحديثة.
- يقدر دور الجيش في حفظ الأمن والأمان لمصرنا العزيزة.

معلومات إثرائية عن

- تدهور الزراعة في مصر قبل تولية (محمد علي).
- عرض القنصل الفرنسي على (محمد علي).
- كفاءة الجندي المصري.

صور

- القناطر الخيرية.
- رفاعة رافع الطهطاوي.
- علي باشا مبارك.
- اللوحة التذكارية لتأسيس المطبعة الأميرية ببولاق.
- الكولونيل سيف.

مفاهيم أتعلمها

- نظام الاحتكار.
- فرمان.

خرائط

- الحروب الوهابية.
- حدود مصر في عصر (محمد علي).

قضايا متضمنة

- حسن استخدام الموارد وتنميتها.
- التنمية الاقتصادية.

التمهيد

أدرك (محمد علي) أن نهضة مصر لن تتحقق إلا من خلال بناء دولة قوية تأخذ بأساليب المدنية الحديثة في الغرب، ولذا فقد بادر بإجراء إصلاحات شملت جوانب الحياة المختلفة.

مظاهر بناء الدولة الحديثة في عصر (محمد علي)

أولة: البناء الاقتصادي الاحتكار

مفاهيم اتعلمها

الاحتكار: يعنى أن تقوم الحكومة ممثلة في (محمد علي) بتحديد نوع الغلات التي تزرع ونوع المصنوعات التي تنتج، وتحديد أثمان شرائها، وأثمان بيعها في السوق.

نظم (محمد علي) الاقتصاد المصري في الزراعة والصناعة والتجارة على أساس (الاحتكار)، وبهذا النظام ضمن (محمد علي) الدخول في سوق التجارة الدولية منافساً لغيره من الدول. ناقش مع معلمك الاحتكار في عصر (محمد علي) والسياسة الاقتصادية الحالية.

وتمثل البناء الاقتصادي في المجالات التالية:

الزراعة



القناطر الخيرية

ألغى (محمد علي) نظام الالتزام، ووزع مساحات من الأرض على الفلاحين، اتبع سياسة زراعية تهدف إلى توفير أكبر قدر من الدخل من الإنتاج الزراعي من أهمها:

- إدخال أساليب وغللات زراعية جديدة .

- أنشأ مدرسة للزراعة واستقدام الخبراء الزراعيين من الخارج.

- تحسين طرق الري، وإنشاء العديد من القناطر على النيل، أهمها القناطر الخيرية وقام بحفر ترعة احمودية
- تزويد الفلاحين بكل ما يلزم الزراعة

الصناعة

قام محمد علي بتطوير وتحديث الإنتاج الصناعي بالإجراءات التالية:

- إقامة المصانع الحكومية، مثل (الغزل، النسيج، الورق، السكر....).

معلومة إثرائية

عند تولية (محمد علي) حكم مصر كانت الزراعة قد قطعت شوطاً من التدهور نتيجة لنظام ملكية الأرض والانتفاع وتعدد الضرائب المفروضة على الفلاحين وإهمال مشاريع الري.

- الاستعانة بالخبرات الأجنبية وإرسال البعثات للخارج فى مختلف الصناعات، وترجمة الكتب الخاصة بها.
- جمع الصبىة للعمل فى مصانع الدولة بأجور رمزية، فأصبحت بمثابة مدارس صناعية.
- كما اتبع سياسة تهدف إلى السيطرة على الإنتاج الصناعى وتوزيعه وذلك عن طريق:
- إمداد الصناع بالمواد الخام اللازمة للصناعة.
- شراء المنتجات الصناعية.

التجارة

نشطت التجارة الداخلية والخارجية، نتيجة للنهوض بالزراعة والصناعة والاستقرار الداخلى. وقد خضعت التجارة أيضاً لنظام الاحتكار عن طريق:

- تسويق جميع الحاصلات الزراعية بعد شرائها وجمعها فى مخازن الدولة.
- البيع للتجار الأجانب فى مصر.
- البيع فى الخارج لحساب الحكومة المصرية.
- احتكار تجارة الواردات.

معلومة إسرائيلية

عرض القنصل الفرنسى على (محمد علي) حفر قناة تصل البحرين المتوسط والأحمر، لكن (محمد علي) رفض خشية أن تكون ذريعة للتدخل الأجنبى فى شئون مصر.

النقل والمواصلات

اهتم (محمد علي) بتمهيد وتأمين الطرق البرية والبحرية وبناء أسطول فى البحرين الأحمر والمتوسط، وحفر الترع والاهتمام بالموانئ المصرية، وتطهير البحر الأحمر من القرصنة.

ثانياً : البناء الاجتماعي

- أثرت سياسة (محمد علي) الاقتصادية فى تشكيل وبناء القوى الاجتماعية فى مصر، والتي تمثلت فى:
- انتهاء نفوذ المماليك كهيئة حاكمة وحل محلها أسرة (محمد علي) وبعض العناصر التركية.
- تضائل نفوذ علماء الأزهر والقيادات الشعبية، وظهور طبقة الأعيان وطبقة عمال الصناعة، واستمرار طوائف الحرف كوسطاء للحكومة.
- تدهور طبقة التجار وظهور البدو كقوة اجتماعية مستقرة.

ثالثاً : التعليم والثقافة

أدرك (محمد علي) أنه بحاجة إلى موظفين لسد حاجة المصالح الحكومية، بالإضافة إلى فنيين ومتخصصين فى مختلف الفروع خاصة لسد حاجة الجيش والأسطول، فقام بالآتي:

- إنشاء المدارس الحديثة ومنها المدارس (الطب، الزراعة، المهندسخانة، وغيرها).
- إرسال البعثات العلمية إلى أوروبا، ومن أبرز أعضائها رفاعة رافع الطهطاوي، وعلى باشا مبارك اللذان أسهما في استمرار النهضة التعليمية بعد عودتهم من أوروبا
- الاستعانة ببعض الأساتذة الأجانب للتدريس في المدارس العليا والمساهمة في الترجمة .
- إنشاء المطبعة الأميرية في بولاق لطبع الكتب اللازمة للمدارس، والكتب الأدبية والفنية، وإصدار صحيفة الوقائع المصرية.



على مبارك باشا

رابعاً : بناء القوة العسكرية

أدرك (محمد علي) أن بناء القوة العسكرية هي الدعامة الأساسية لتحقيق أهدافه وبناء الدولة الحديثة، وكانت كافة مشروعاته العمرانية والتعليمية، بهدف سد حاجات الجيش، وبناء القوة العسكرية على النحو التالي :



رفاعة رافع الطهطاوي

إعداد الضباط:

أنشأ (محمد علي) العديد من المدارس العسكرية منها مدرسة عسكرية في أسوان واستقدم لهذه المدارس ضباطاً ومعلمين ذوي خبرة ودراية من أوروبا، كان أشهرهم (الكولونيل سيف) أحد ضباط جيش نابليون.

إعداد الجنود:

بدأ بتجنيد السودانيين، ثم اتجه بعد ذلك إلى تجنيد المصريين، الذين أثبتوا كفاءتهم بالانتظام في التدريب وإطاعة الأوامر العسكرية، وفي ميادين القتال الخارجية.

الأسطول:

اهتم (محمد علي) بتأسيس ترسانة في بولاق ثم في الإسكندرية، لصناعة السفن وزودها بكافة أنواع الأسلحة، كما أعد أماكن لتدريب وتعليم البحارة والجنود .

مصانع الأسلحة والذخيرة:

اهتم (محمد علي) بالتصنيع الحربي، فأنشأ ترسانة في القلعة لتصنيع الأسلحة ، وأنشأ القلاع للدفاع عن البلاد في الإسكندرية ورشيد ودمياط .



الكولونيل سيف

خامسا : البناء السياسى للدولة الحديثة فى مصر

السياسة الداخلية

عندما تولى (محمد علي) الحكم، بدأ فى إعادة تنظيم الإدارة بما يكفل له السيطرة الكاملة على شئون البلاد، وذلك وفقا للإجراءات التالية:

- تقسيم مصر إلى سبع مديريات ، وأنشأ على رأس النظام الإدارى الحكومة المركزية فى القاهرة، ومنها تصدر جميع الأوامر الواجبة التنفيذ.
- أنشأ عدة مجالس ودواوين منها الديوان العالى ومجلس المشورة.
- إصدارلائحة جديدة ١٨٣٧م لإعادة تنظيم الإدارة إلى سبعة دواوين وحدد اختصاصاتها.
- ناقش مع زملائك تحت إشراف معلمك مهام كل من الديوان العالى ومجلس المشورة.

السياسة الخارجية

سعى (محمد علي) إلى الانفصال عن الدولة العثمانية والاستقلال بمصر، وقد مرت العلاقة بينه وبين السلطان العثماني بمرحتين: مرحلة الاتفاق ثم مرحلة الخلاف والصدام بينهما.



حروبه فى الجزيرة العربية (١٨١١-١٨١٩ م):

وتُعرف بالحروب الوهابية، وهدفت إلى القضاء على الدعوة الوهابية ، وذلك لتهديدهم نفوذ الدولة العثمانية فى الجزيرة العربية، وانتهت بالسيطرة على الجزيرة العربية.
انظر الخريطة (٣٥)



خريطة (٣٥) الحروب الوهابية

ضم السودان: (١٨٢٠م-١٨٢٢م)

تم ضم السودان لأسباب سياسية واقتصادية وعسكرية، قد ترتب على ذلك امتداد النفوذ المصرى إلى جنوب السودان، وإنشاء العاصمة (الخرطوم)، واكتشاف منابع النيل.

حروب اليونان: (١٨٢١: ١٨٢٨ م):

هدفت إلى القضاء على ثوار اليونان في المورة والذين طالبوا بالاستقلال عن الدولة العثمانية، وانتهت بهزيمة الجيش وتحطيم الأسطول المصرى فى موقعة نفايرين (١٨٢٧ م)، وأدت إلى ضم جزيرة كريت لولاية مصر، وعلو مكانة مصر دوليًا، نتيجة تفاوض الدول الأوروبية مع (محمد علي) لإنهاء الحرب (١٨٢٨م)، مما ساعد على نمو فكرة الانفصال عن الدولة العثمانية وتحقيق استقلال مصر.



خريطة (٣٦) حدود مصر فى عصر (محمد علي)

حروب الشام (١٨٣١ م- ١٨٣٩ م)

توترت العلاقات بين (محمد علي) والسلطان العثماني بسبب تفاوض (محمد علي) مع القوى الأوروبية لتأمين انسحاب الجيش المصرى من المورة، وتصميم (محمد علي) على الانفصال والاستقلال بمصر، فكانت المواجهة بينه وبين الدولة العثمانية فيما عُرف بحرب الشام الأولى والثانية، وترتب على ذلك وصول القوات المصرية إلى الشام وأعلى الفرات، وامتداد النفوذ المصرى فى بلاد الشام.

معلومة إسرائيلية

- أظهرت حروب (محمد علي) كفاءة الجندي المصرى فى التدريب والتنظيم فى ميدان القتال بالرغم من قسوة البيئة الطبيعية وبعد المسافات عن الوطن.
- تأمين الجيش المصرى للمقدسات الإسلامية ومناسك الحج مما يعكس أخلاقيات وقت السلم والحرب
- تطبيق المفهوم الحديث لمعركة الأسلحة المشتركة (قوات المشاة، الفرسان، المدفعية)

تدخل الدول الأوروبية

أدركت الدولة الأوروبية ما يمثله (محمد علي) من خطر على التوازن الدولي نتيجة انتصاراته وازدياد نفوذه (لاحظ الخريطة السابقة)، لذا تدخلت الدول الأوروبية فى مفاوضات مع السلطان العثماني لفرض ما تراه من شروط على (محمد علي) انتهت ب**معاهدة لندن الدولية ١٨٤٠ م**، والتي تضمنت إعادة بلاد الشام والجزيرة العربية إلى السلطان العثمان وتثبيت (محمد علي) فى حكم مصر وإعلان خضوعه للسلطان العثماني واضطر (محمد علي) إلى قبول شروطها.

مفاهيم اتعلمها

فرمان : أمر سلطاني من قبل سلطان الدولة العثمانية واجب التنفيذ.

وفى يونيو ١٨٤١م أصدر السلطان العثماني فرماناً يقضى بحق وراثه مصر لأكبر أبناء (محمد علي) الذكور سناً، ثم أصدر السلطان العثماني فرماناً آخر بولاية (محمد علي) على السودان فى نفس العام.

توجه إلى الموقع الإلكتروني للوزارة لحل الأنشطة

والتدريبات على الدرس



أهداف الوحدة

في نهاية دراسة هذه الوحدة يتوقع أن يكون التلميذ قادرًا على أن :

- يوضح المظاهر الإصلاحية لخلفاء (محمد علي).
- يستنتج أسباب ازدياد التدخل الأجنبي في مصر.
- يذكر أسباب الثورة العرابية.
- يحدد المراحل التي مرت بها الثورة العرابية.
- يرسم خريطة خط سير الاحتلال البريطاني في مصر.
- يقدر كفاح أحمد عرابي ورفقائه ومصطفى كامل ومحمد فريد في مقاومة المحتل.
- يستنتج أسباب تصريح ٢٨ فبراير ١٩٢٢م.
- يقدر دور الشعب المصري وزعمائه في أحداث ثورة ١٩١٩م.
- يقدر أهمية معاهدة ١٩٣٦م كخطوة نحو الاستقلال التام.
- يوضح أحداث الفترة التاريخية منذ ١٩١٤ حتى قيام ثورة ٢٣ يوليو ١٩٥٢م.
- يعطي تعريفًا صحيحًا للمفاهيم والمصطلحات مثل الامتيازات الأجنبية والمحاكم المختلطة.

دروس الوحدة

الدرس الأول: خلفاء (محمد علي) وازدياد النفوذ الأجنبي




الدرس الثاني: الحركة الوطنية والثورة العرابية



الدرس الثالث: الكفاح الوطني ضد الاحتلال البريطاني



الدرس الرابع: مصر من الحماية البريطانية حتى ثورة يوليو ١٩٥٢م





الوحدة الرابعة

خلفاء (محمد علي) وازدياد النفوذ الأجنبي

الدرس الأول

أهداف الدرس

- من المتوقع بعد الانتهاء من الدرس أن يكون التلميذ قادرًا على أن:
- يستنتج أهمية المشروعات التي تمت في عهد خلفاء (محمد علي).
- يربط بين ازدياد الديون وازدياد النفوذ الأجنبي.
- يرسم خريطة قناة السويس.
- يقدر أهمية المشروعات التي تمت في عهد خلفاء (محمد علي).
- يعطي تعريفًا صحيحًا للمفاهيم الآتية:
- (الإمبريالية الأجنبية، المحاكم المختلطة، المراقبة الثنائية).
- يذكر أهم شروط امتياز حفر قناة السويس.

معلومات إثرائية عن

- إبراهيم باشا.
- العمل في حفر قناة السويس.
- مشروع قناة السويس الجديدة.
- من أهم أعمال الخديو إسماعيل.

قضايا متضمنة

- حسن استخدام الموارد وتنميتها.
- العولمة.

صور

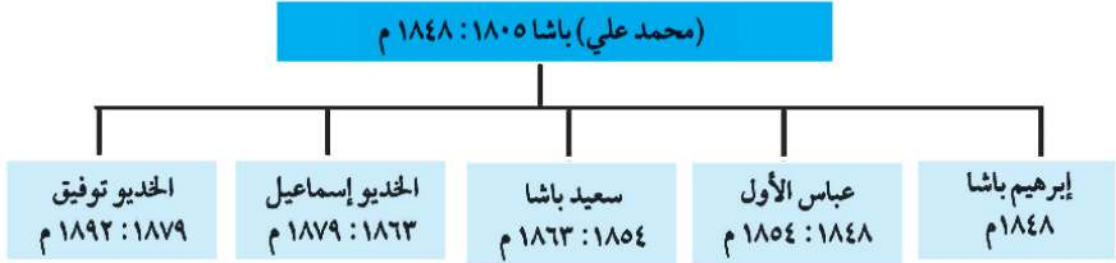
- الأوبرا القديمة.
- قصر عابدين.

خرائط

- سكك حديد مصر بين القاهرة والإسكندرية.

التمهيد

تعاقب على حكم مصر عدة حكام من أسرة (محمد علي) لاحظ الخريطة الزمنية التالية لتتعرفهم:



لم يكن خلفاء (محمد علي) على شاكلته من حيث القوة والوعي، بحيث يشتون كفاءتهم في حكم البلاد، فدهمتهم الموجه الغربية ولم يكن أى منهم يمتلك الكفاءة اللازمة للمواجهة، وأفلت زمام الأمور من أيديهم، وتأرجحوا بين إبداء مظاهر الميل لكل من فرنسا وبريطانيا والدولة العثمانية وكان ذلك على حساب مصر واستقلالها.

معلومة إثرائية
ترأس إبراهيم باشا مجلس الوصاية بسبب تدهور صحة (محمد علي) (١٨٤٨ م) وكانت مدة حكمه قصيرة جداً لعدة شهور فقط.

أولاً: عهد عباس باشا الأول (١٨٤٨ : ١٨٥٤) م

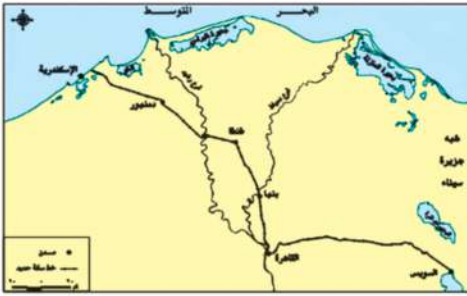
تولى عباس باشا الأول حكم مصر في نوفمبر ١٨٤٨ م، وتوقفت في عصره حركة النهضة التي ظهرت في عصر (محمد علي)، حيث أغلقت معظم المدارس ومعظم المصانع، وتم تخفيض حجم الجيش، وعطلت أعمال الترسانة البحرية، ومن الأعمال القليلة التي تمت في عهده إصلاح الطريق البري بين القاهرة والسويس، والشروع في إنشاء أول خط حديدى بين القاهرة والإسكندرية عام ١٨٥٢ م.

ثانياً: عهد محمد سعيد باشا (١٨٥٤ : ١٨٦٣) م

تولى سعيد الحكم عقب وفاة عباس الأول، وشهدت البلاد في عهده تقدماً في بعض المجالات التالية:

أ) الزراعة

اهتم بإصلاح أحوال الفلاحين، حيث أصدر اللائحة السعيدية في أغسطس ١٨٥٨ م والتي بموجبها أصبح للفلاح الحق في توريث الأرض الزراعية، كما عُني بتطهير ترعة المحمودية لتفنى بحاجة الري والزراعة.



خريطة (٣٧) سكك حديد مصر بين القاهرة والإسكندرية

(ب) النقل والمواصلات

أتم الخط الحديدي بين القاهرة والإسكندرية، وكما أنشأ خطاً من القاهرة إلى السويس، ومد الخطوط التلغرافية على الطريقة الحديثة بين الإسكندرية، والقاهرة، والسويس، انظر الخريطة (٣٧)

(ج) الجيش والبحرية

جعل مدة الخدمة العسكرية سنة واحدة إجبارية للجميع، واعتنى بالترسانة البحرية فشرع فى إصلاح السفن وتجديد الأسطول، وفتح باب الترقى أمام الضباط المصريين.

(د) التعليم

ألغى ديوان المدارس وفي نفس الوقت شجع البعثات الأجنبية في مصر على فتح مدارس لها بالقاهرة والإسكندرية.

بالرغم من التقدم الذى تحقق فى بعض القطاعات، إلا أن عهد سعيد باشا قد شهد بدايات التدخل الأجنبي فى شئون مصر، وتمثل ذلك فيما يلي:

القروض الأجنبية

لقد اعتمد سعيد باشا على رؤوس الأموال الأجنبية، وبدأت الأزمة المالية فى عهده عندما استدان من البيوت المالية الأوروبية فمعد فى عام ١٨٦٢ م أول قرض مع أحد البنوك البريطانية، ثم اندفع فى طلب الاستدانات بعد ذلك، ثم لجأ للاستدان من المرابين مقابل سندات على حساب الخزانة المصرية.

امتياز قناة السويس

١- منح سعيد باشا فى نوفمبر ١٨٥٤ م فرديناند ديليسبس عقد الامتياز الأول والذى يقضى بمنح امتياز تأسيس شركة عامة لحفر قناة السويس، واستثمارها لمدة ٩٩ سنة ابتداءً من تاريخ فتح القناة للملاحة.

معلومة إثرائية
بدأ العمل فى حفر قناة السويس فى إبريل ١٨٥٩ م من جهة الشمال.

٢- منح سعيد باشا فى يناير ١٨٥٦ م فرديناند ديليسبس عقد الامتياز الثانى، والتي جاءت شروطه مجففة لمصر والمصريين، ومنها:

- ١- منحت الحكومة المصرية للشركة امتياز إنشاء قناة السويس وحفر ترعة المياه الصالحة للملاحة النيلية (ترعة الإسماعيلية)، وإنشاء فرعين للرى والشرب يستمدان مياههما من ترعة الإسماعيلية.
- ٢- تنازل الحكومة للشركة مجاناً عن جميع الأراضى المملوكة لها والمطلوبة لإنشاء القناة المالحة وترعة المياه العذبة.

(لمزيد من المعلومات عن عهد سعيد باشا يمكنك الاستعانة بمكتبة المدرسة وشبكة الإنترنت).

معلومة إثرائية

يعد مشروع قناة السويس الجديدة من المشاريع الوطنية التي اعتمدت على المساهمات المصرية الخالصة من جميع فئات الشعب بهدف تحقيق تنمية اقتصادية عملاقة بمنطقة محور القناة بما يعود بالنفع على مصر.

- ٣- يكون أربعة أخماس العمال من المصريين.
- ٤- للشركة الحق في فرض ما تشاء من رسوم على السفن التي تمر في القناة البحرية أو الترع العذبة.
- ٥- تحصل مصر مقابل الأراضي والامتيازات الممنوحة للشركة على ١٥٪ من صافي الأرباح.
- ٦- اشترط لصحة الامتياز أن يصدق عليه السلطان العثماني.

ثالثاً: عهد الخديو إسماعيل (١٨٦٣: ١٨٧٩ م)

يمثل عهد إسماعيل فترة من أزهى الفترات وأكثرها تقدماً وعمراناً في تاريخ مصر الحديث، كما يمثل حقبة من أخطر ما تعرضت له البلاد من تدخل أجنبي في شئون مصر بسبب الأخطاء التي أدت إلى تدهور مركز مصر المالي، وما تبعه من انهيار استقلالها السياسي.

مظاهر النهضة والإصلاح في عهد إسماعيل

(أ) مجال الزراعة والري

- زيادة مساحة الأراضي الزراعية.
- حفر العديد من الترع مثل التربة الإبراهيمية، وأنشئت قناطر على النيل.

(ب) مجال الصناعة

إعادة نشاط كثير من المصانع، والتوسع في إنشاء مصانع السكر بالوجه القبلي.

(ج) التعليم والنهضة العلمية

- إعادة فتح ديوان المدارس (وزارة التربية والتعليم حالياً)، والتوسع في إنشاء المدارس المختلفة.
- إنشاء دار الكتب، ودار الرصد بالعباسية، ومصلحة الإحصاء والمساحة بالإضافة إلى الجمعية الجغرافية عام ١٨٧٥ م.

بالتعاون مع زملاءك استعن بشبكة المعلومات الدولية واجمع مزيد من المعلومات عن مظاهر النهضة التعليمية

في عهد إسماعيل

(د) الجيش والبحرية

اهتم الخديو إسماعيل بتنظيم الجيش وتسليحه ومضاعفة قوته كما عنيّ بنهضة التعليم البحري. (ناقش مع معلمك مظاهر ذلك).

معلومة إثرائية

- أنشأ إسماعيل أول مدرسة للبنات عام ١٨٧٣ م المعروفة بالمدرسة السنية
- عهد إلى العالم الأثري (ماريت) بتنظيم المتحف المصري.
- من علماء النهضة العلمية المصرية آنذاك (على باشا مبارك)



الأوبرا القديمة



قصر عابدين

(هـ) العمراني :

- إنشاء (دار الأوبرا) وإقامة الجسور والكبارى، وتم بناء عدد من القصور المعروفة الآن مثل: قصر عابدين.
- مد الخطوط التلغرافية بين مختلف محافظات مصر، كما تم إنشاء مصلحة بريد مصرية لها مكاتب فى الإسكندرية والقاهرة والأقاليم.

(و) تأسيس مجلس شورى النواب:

عرفت مصر الهيئات شبه النيابية، حين تأسس (مجلس شورى النواب) عام ١٨٦٦م والذي يُعد بداية تاريخ المؤسسات النيابية فى مصر الحديثة، وكذلك عرفت نظام (الوزارة المسئولة) عام ١٨٧٨م، ووضع أول دستور فى مصر عرف بـ (اللائحة الأساسية)، بهدف إقامة حياة دستورية سليمة، ولكن تدخل الدول الأوربية أعاق هذه التطورات الدستورية.

(ز) امتداد النفوذ المصري:

وجّه الخديو إسماعيل عدة حملات حربية إلى الأقاليم الاستوائية فى إفريقيا لمنع تجارة الرقيق، والتوسع فى الجنوب والسيطرة على مياه النيل، وقد وصل النفوذ المصرى إلى ساحل البحر الأحمر بكامله فى عام ١٨٧٥م.

الأزمة المالية وازدياد التدخل الأجنبى فى مصر

ورث الخديو إسماعيل (١٨٦٣ - ١٨٧٩ م) دولة مقيدة فى سيادتها بالدولة العثمانية، كما أدت سياسته إلى حدوث أزمة مالية فى مصر وكان من أهم عواملها ما يلي:

عوامل الأزمة المالية

أ- سياسة الاقتراض

اتبع الخديو إسماعيل سياسة الاقتراض للوفاء بالتزاماته ومشروعاته.

ب- افتتاح قناة السويس

أقام الخديو إسماعيل العديد من الحفلات لافتتاح القناة في ١٧ نوفمبر ١٨٦٩ ودعا إليها ملوك أوروبا وأنفق ببذخ على هذه الاحتفالات مما أدى إلى ازدياد حدة الأزمة المالية.

ج- علاقة الخديو إسماعيل بالدولة العثمانية

اعتمد الخديو إسماعيل في علاقته مع السلطان العثماني على تقديم المال والهدايا ليحصل على الفرمانات التي يوسع بها نطاق حكمه، ويجعل وراثته العرش في أكبر أبنائه، وزيادة عدد الجيش المصري، وغيرها من الفرمانات.

مظاهر ازدياد التدخل الأجنبية

أدت سياسة الخديو إسماعيل إلى زيادة التدخل الأجنبي في شئون مصر المالية والتي تتمثل في:

أ - المحاكم القنصلية

بمرور الوقت زادت قبضة القناصل الأجانب، وصارت المحاكم القنصلية تنظر في الجرائم التي يرتكبها الرعايا الأجانب ضد المصريين والحكومة المصرية نفسها، وكانت الأحكام لا تستأنف إلا في الخارج مما كان يدفع بالمصريين إلى التنازل عن حقوقهم.

ب- الامتيازات الأجنبية

منحت الدولة العثمانية رعايا بعض الدول الأوروبية العديد من الامتيازات الأجنبية تشجيعاً لهم على الإقامة والتجارة، مع تعهد الدولة العثمانية بالمحافظة على أموالهم وأرواحهم، وإعطائهم حق الرجوع إلى قناصلهم في شئونهم التجارية، والشخصية.

ج) المحاكم المختلطة ١٨٧٥

حاول الخديو إسماعيل اتخاذ إجراءات للحد من مساوئ المحاكم القنصلية، فأنشأ المحاكم المختلطة للفصل في القضايا المدنية والمنازعات العقارية بين المصريين والأجانب، والمنازعات التي تنشأ بين الأجانب والحكومة المصرية نفسها، وكان قضاتها من الأجانب والمصريين، إلا أن رئاسة الأجانب لها أدت إلى تدخلهم في سلطة القضاء التشريعي، وانحيازهم للأجانب.

د- بعثة كليف (CAVE) (ديسمبر ١٨٧٥ م):

عرض الخديو إسماعيل على بريطانيا إفاد موظف كفاء لدراسة أسباب سوء الأوضاع المالية في مصر، وتقديم المقترحات لعلاج الأزمة المالية فأرسلت الحكومة البريطانية وأرسلت بعثة برئاسة المستر كليف، واقترحت البعثة إنشاء إدارة للمراقبة المالية يرأسها موظف إنجليزي، وألا يعقد الخديو قرض ما لم توافق عليه إدارة الرقابة المالية.

هـ- صندوق الدين (مايو ١٨٧٦ م)

أصدر الخديو إسماعيل مرسوماً بإنشاء صندوق الدين وهو بمثابة خزانة فرعية للخزانة المصرية تتولى تسليم المبالغ المخصصة للديون من المصالح المختلفة، والإشراف على تسديد الديون لأصحابها، ويتولى إدارته مندوبون أجانب تنتدبهم الدول الدائنة.

و- المراقبة الثنائية (نوفمبر ١٨٧٦ م)

اقترحت الدول الأوروبية فرض الرقابة الأوروبية على المالية المصرية، فاضطر الخديو إسماعيل لإصدار مرسوم في نوفمبر ١٨٧٦م بتعيين مراقبين أجنيين على المالية المصرية، أحدهما بريطاني للإيرادات، والثاني فرنسي للمصروفات وقد عُرف هذا النظام بالمراقبة الثنائية.

ز- لجنة التحقيق العليا الأوروبية (يناير ١٨٧٨ م)

زادت الأمور المالية في مصر سوءاً وارتباكاً مما أدى إلى مطالبة الرقيبان بإنشاء لجنة دولية للتحقيق في جميع الشؤون المالية والإدارية، فاستجاب إسماعيل وأصدر مرسوماً بتأليف هذه اللجنة والموافقة على مطالبتها؛ وأهمها تنازل الخديو عن سلطته المطلقة لوزارة مسئولة عن الحكم في البلاد، والتنازل عن أطيانه وأطيانه عائلته ووضعها تحت الرقابة الدولية مقابل مخصصات مالية تصرف لهم.

ن - الوزارة المختلطة أغسطس ١٨٧٨ م

أصدر الخديو إسماعيل بناء على اتفاق الحكومتين البريطانية والفرنسية مرسوماً بتأليف وزارة مسئولة برئاسة نوبار باشا، وبها وزيران أجنيان أحدهما بريطاني للمالية والآخر فرنسي للأشغال.

اللائحة الوطنية وعزل الخديو إسماعيل

وجهت الحركة الوطنية في مصر الانتقادات للوزارة المختلطة مما شجع اسماعيل على اقضاء الوزيرين الأجبيين عن الوزارة، وإصدار مرسوم فى إبريل ١٨٧٩م، بتسوية الديون طبقاً لما قررتة اللائحة الوطنية، مما أدى إلى تدخل الحكومتين البريطانية والفرنسية ، والضغط على السلطان العثمانى فأصدر فرماناً بخلع الخديو إسماعيل وتولية ابنه توفيق فى يونيو ١٨٧٩م.

توجه إلى الموقع الإلكتروني للوزارة لحل الأنشطة والتدريبات على الدرس





الوحدة الرابعة

الحركة الوطنية والثورة العربية

الدرس الثاني

معلومات إثرائية عن :

- الاحتلال البريطاني لمصر
- مناقض لكل المبادئ.
- تحويل مصر إلى قاعدة لإنتاج المواد الخام.
- عناصر الثورة العربية
- حوار بين الخديو توفيق وأحمد عرابي.

أهداف الدرس :

من المتوقع بعد الانتهاء من الدرس أن يكون التلميذ قادراً على أن :

- يوضح دور الخديو توفيق في ازدياد التدخل الأجنبي .
- يفسر الأسباب التي ساعدت على قيام الثورة العربية .
- يحدد المراحل التي مرت بها الثورة العربية .
- يرسم خريطة الاحتلال البريطاني لمصر عام ١٨٨٢ م .
- يفسر أسباب فشل الثورة العربية .
- يقدر جهود الزعماء الوطنيين في مقاومة الاحتلال .

مفاهيم أتعلمها :

- احتلال

صور :

- الزعيم أحمد عرابي
- عرابي داخل السجن

خرائط :

- خطط سير القوات البريطانية إلى مصر

قضايا متضمنة :

- التربية من أجل المواطنة
- المهارات الحياتية



التمهيد

تولى الخديو توفيق الحكم وقد أدرك منذ البداية مدى قوة وتسلسل النفوذ الأجنبي في مصر، فاتخذ سياسة أدت إلى زيادة التدخل الأجنبي في شئون البلاد، من بينها إعادة نظام المراقبة الثنائية ورفض اللائحة الأساسية (الدستور) لمجلس النواب، ووضع نفسه تحت حماية إنجلترا وفرنسا بإسناد الوزارة إلى رياض باشا.

استنتاج: أهداف الخديو توفيق من سماحه بازدياد التدخل الأجنبي في مصر.

معلومة إثرائية

عناصر الثورة العربية: شارك في الثورة العربية عناصر عديدة منها أحمد عرابي، ومعه مجموعة من الضباط الوطنيين، ودعاة إصلاح مثقفون مرتبطون بالجامع الأزهر وإن احتكوا بالثقافة الغربية، أمثال الشيخ محمد عبده وعبدالله النديم وغيرهما من علماء وطلاب الجامع الأزهر وتلاميذ السيد جمال الدين الأفغاني.

أسباب الثورة العربية

- ١- ازدياد التدخل الأجنبي في شئون مصر نتيجة للقروض، وفقدان مصر نصيبها من أسهم شركة قناة السويس.
- ٢- المؤثرات الفكرية الغربية التي أدت إلى نمو الوعي القومي وتطورت إلى المطالبة بالدستور والحكم النيابي.
- ٣- سوء الأحوال الاقتصادية في عهد وزارة

رياض باشا

- ٤- اضطهاد عثمان رفقي باشا للضباط المصريين وعدم ترقية لهم.

أحداث الثورة العربية

لقد مرت الثورة العربية بعدة مراحل تعال معنا لتعرفها بشئ من التفصيل

- ١- **حادثة قصر النيل:** في منتصف يناير ١٨٨١م تقدم عرابي، وزملائه بشكوى إلى مجلس الوزراء؛ طالبوا فيها بإقالة عثمان رفقي ناظر الجهادية، فأمر الخديو توفيق بالقبض عليهم وتقديمهم للمحاكمة أمام مجلس عسكري، وتم اعتقالهم بسجن قصر النيل ونتيجة لتحرك رجال الجيش تم إخراج عرابي وزملائه بالقوة فاستجاب الخديو لمطالبهم وعزل عثمان رفقي، وعين محمود سامي البارودي بدلاً منه.

- ٢- **مظاهرة عابدين ٩ سبتمبر ١٨٨١م:** خرج عرابي على رأس الجيش ومعه الآلاف من الوطنيين إلى (ساحة عابدين) في مظاهرة وطنية أبرزت مدى مؤازرة الشعب لعرابي وزملائه لتقديم مطالب الأمة، ونزل الخديو توفيق إلى الميدان، وبرفته بعض الضباط الأتراك والقنصل البريطاني، والمراقب المالي البريطاني، وتمثلت هذه المطالب في:

- إسقاط الحكومة المستبدة برئاسة رياض باشا.
- تشكيل مجلس نواب على النسق الأوربي.

معلومة إثرائية

حواريين الخديو توفيق وعرابي

أعلن الخديو لعرابي أنه ورث ملك هذه البلاد عن آبائه وأجداده، وما هم إلا عبيد إحسان فكان رد عرابي جريئاً وحاسماً، فقد قال عرابي للخديو لقد خلقنا الله أحراراً ولم يخلقنا قراة أو عقاراً، فوالله الذي لا إله إلا هو إننا سوف لانورث ولا نستعبد بعد اليوم .

- زيادة عدد الجيش إلى ١٨,٠٠٠ جندي .

واضطر الخديو أن يوافق على مطالب الأمة والجيش وأسند إلى شريف باشا أمر تشكيل الوزارة. بعد أن اشتد الحوار بين الخديو وعرابي تعرف الحوار من النص المقابل .

٣- وزارة شريف باشا: أجريت الانتخابات لمجلس النواب الجديد الذي افتتح في ديسمبر ١٨٨١م، و عرض شريف باشا على مجلس النواب اللائحة الأساسية، والتي لم تتضمن حق المجلس في مناقشة الميزانية؛ لأن شريف باشا كان يرى تأجيلها لتجنب الاصطدام بالدول الأوربية مما أثار الجدل بينهم.

٤- المذكرة المشتركة الأولى (يناير ١٨٨٢م): أرادت بريطانيا وفرنسا تقوية مركز الخديو في مواجهة الحركة الوطنية؛ فأرسلتا في يناير ١٨٨٢م (المذكرة المشتركة) التي أبدتا فيها رغبتهما الصريحة في حل مجلس النواب وتأييدهما التام لموقف الخديو ومساندته ضد الحركة الوطنية.

٥- وزارة محمود سامي البارودي فبراير ١٨٨٢م (وزارة الثورة): اضطر شريف باشا للاستقالة لإصرار مجلس النواب على مناقشة الميزانية، وتولى محمود سامي البارودي رئاسة الوزارة وأسندت وزارته الجهادية والبحرية إلى عرابي، وقد صدر المرسوم بتأييد الوزارة الجديدة، والتي أصدرت اللائحة الأساسية (الدستور) ونصت على مسئولية الوزارة أمام مجلس النواب، وحق المجلس في مناقشة الميزانية وإقرارها. اكتشفت مؤامرة من الضباط الشراكسة لاغتيال عرابي والضباط الوطنيين للإطاحة بالوزارة الجديدة مما ترتب عليه محاكمة المشتركين في المؤامرة والحكم عليهم بالنفي إلى أقاصى السودان؛ ولكن الخديو رفض التصديق على الحكم، مما أدى إلى زيادة التوتر بين الوزارة والخديو.

٦- المذكرة المشتركة الثانية (مايو ١٨٨٢م)

تدخلت بريطانيا وفرنسا مرة ثانية لمساندة الخديو أمام العسكريين؛ فأرسلت قطعاً من أسطولهما إلى الإسكندرية كما أرسلت الدولتان المذكرة المشتركة الثانية تطالبان فيها بإقالة البارودي وإبعاد عرابي وزملائه خارج البلاد.

الاحتلال البريطاني لمصر

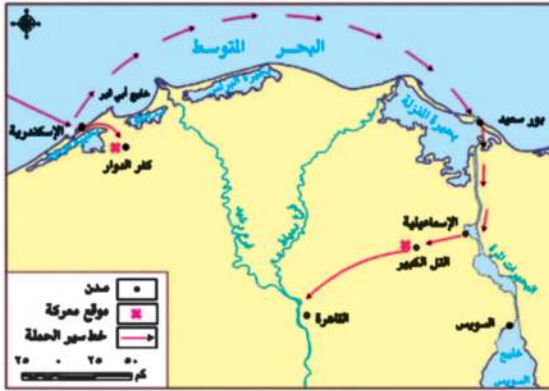
مفاهيم تعلمها

احتلال: الاستيلاء على أرض الغير بالقوة.

وجدت بريطانيا الفرصة سانحة لتحقيق أغراضها منذ جلاء الحملة الفرنسية من مصر عام ١٨٠١م، منتهزة بعض الأحداث الداخلية من أهمها:

- أ- الخلاف الذي وقع بالإسكندرية في ١١ يونيو ١٨٨٢م بين أحد الرعايا من الأجانب وأحد الأهالي، أدى إلى نشوب معركة نتج عنها عدد من القتلى من الجانبين، ترتب عليه اجتماع قناصل الدول الأجنبية بالإسكندرية، وسفر الخديو إلى الإسكندرية بحجة تهدئة الأوضاع.
- ب- تكليف الخديو توفيق «راغب باشا» بتأليف وزارة جديدة في ٢٠ يونيو ١٨٨٢م بعد أن ظلت البلاد بدون وزارة مدة أسبوعين.
- ج- عقد ممثلو الدول العظمى مؤتمر بالأستانة للنظر في «المسألة المصرية»، وقرر أعضائه أن ترسل تركيا قوة لإعادة الأمن والنظام في مصر وعدم تدخل الدول الأجنبية منفردة تجاه المسألة المصرية.

خط سير القوات البريطانية



خريطة (٣٨) خط سير القوات البريطانية على مصر

كانت بريطانيا تستعد لضرب مدينة الإسكندرية بالقنابل تمهيداً لاحتلال مصر، وتم ذلك على النحو التالي:

١- أرسل قائد الأسطول البريطاني إنذاراً إلى الحكومة المصرية لتسليم بعض المدافع المنصوبة في الحصون على ساحل الإسكندرية إلا أن الحكومة المصرية رفضت الإنذار.

٢- أعطى القائد البريطاني إشارة بدء الضرب في

يوليو ١٨٨٢م، ورغم دفاع أهل مدينة الإسكندرية والجنود المصريين عنها، إلا أن القوات البريطانية نزلت إلى شواطئ مدينة الإسكندرية، وقرر الخديو توفيق عدم مغادرة قصر رأس التين هو وأسرته، بينما قرر العرابيون الانسحاب من مدينة الإسكندرية إلى كفر الدوار وإنشاء الاستحكامات هناك لمواجهة زحف الجيش البريطاني.

٣- أرسل الخديو في يوليو ١٨٨٢م إلى الزعيم أحمد عرابي يأمره بالكف عن استعداداته الحربية، وأن يحضر إلى سراي رأس التين لتلقى تعليماته؛ لكن عرابي رفض واتهمه بمحاباة البريطانيين.

وفي يوليو ١٨٨٢م أصدر الخديو أمراً بعزل عرابي من وزارة الحربية، وحذر المصريين من الانضمام إليه فأظهره بمظهر

العاصي لأوامره، إلا أن الأمة المصرية ازدادت تمسكاً، وصممت على مقاومة المعتدين.

٤- معركة كفر الدوار:

دارت معارك بين الجيش البريطاني والقوات المصرية عند كفر الدوار، وتمكن العرابيون من صد هجماتهم، وتحركت القوات البريطانية إلى منطقة القناة، فعقد أحمد عرابي مجلساً عسكرياً للنظر في أمر قناة السويس، والذي أجمع على ضرورة تعطيل الملاحة في القناة وفقاً للاتفاقات الدولية، ورغم تأكيد ديليسبس حيادية القناة إلا أن السفن البريطانية اجتاحت القناة دون مراعاة لوضعها بالنسبة للملاحة الدولية، حتي وصلت إلى الإسماعيلية واحتلتها، واتخذوها قاعدة لتقدمهم داخل البلاد.



أحمد عرابي

معلومة إثرائية

يُعد الاحتلال البريطاني لمصر مناقضاً لكل المبادئ البريطانية المعلنة، وحتى تبرر بريطانيا احتلالها لمصر انسأقت في حملة أوربية لتشويه سمعة الحكم في مصر، ووجدت أن من مصالحها استمرار هذه الحملة المشوهة ضد الحكم المصري وإظهار عجز البلاد عن إدارة شئونها عموماً، وذلك لتبرير الاحتلال البريطاني نفسه. وأدعت بريطانيا بأن احتلالها لمصر مؤقت من باب إلهاء المصريين عن المقاومة، وامتصاص غضب الدول الأوربية خاصة فرنسا وروسيا.

وفي أغسطس ١٨٨٢م احتلت القوات البريطانية مدينة القصاصين، وأصبح الجيش البريطاني على مقربة من التل الكبير، وكانت القوات المصرية قد أقامت التحصينات، وانضم إليها الكثير من المتطوعين.

وفي تلك الأثناء أقنع البريطانيون السلطان العثماني بإصدار منشوراً بإعلان عصيان عرابي، فأصدر منشوراً بذلك مما أضعف الروح المعنوية للمقاتلين.

٥- معركة التل الكبير

هاجمت القوات البريطانية خطوط الدفاع المصرية في التل الكبير، وشهد ميدان القتال بطولات مصرية خالدة، ومن هذه البطولات الضابط «محمد عبيد» الذي صمد بقواته أمام القوات البريطانية وقتلهم قتلاً شديداً، إلى أن استشهد هو ومعظم رجاله.

٦- دخول القاهرة:

اتجه عرابي إلى القاهرة في محاولة الدفاع عن العاصمة، إلا أن روح اليأس والهزيمة تسربت إلى العديد من أنصاره وطلبوا منه عدم الاستمرار في المقاومة، والاستسلام للقوات البريطانية التي استمرت في تقدمها نحو القاهرة، حتى تم احتلالها في سبتمبر ١٨٨٢م.

محاكمة العرابيين

اعتُقل زعماء الثورة العرابية، والضباط والأعيان الذين أيدوها، ما عدا خطيب الثورة عبدالله النديم ولم تستطع

معلومة إرشادية

بعد أن استولى البريطانيون على مقدرات الأمور في مصر، عملوا على تحويلها إلى قاعدة لتزويد الصناعة البريطانية بالقطن، فدعا ذلك إلى إجراء أعمال إنشائية واسعة للرى على حساب مصر، وجعلوا مصر تقوم بدفع تعويض لبريطانيا مقابل الخسائر التي نتجت عن العمليات الحربية أثناء الاحتلال.

الحكومة أن تصل إليه .
وفى ديسمبر ١٨٨٢م أصدرت المحكمة العسكرية حكمها بإعدام قادة الثورة: ثم عدلت الأحكام إلى النفي المؤبد ومصادرة أملاكهم .
وقد اختارت الحكومة البريطانية «جزيرة سيلان» بالهند منفى لهؤلاء الزعماء، بينما صدرت أحكام أخرى على بقية العرايين .
وهكذا انتهت أحداث الثورة العربية وبدأ الاحتلال البريطاني البغيض لمصر، ذلك الاحتلال الذي جثم على صدر البلاد لأكثر من سبعين عامًا .

أسباب فشل الثورة العربية



عربي داخل السجن

- ١- عدم تكافؤ القوة العسكرية بين قوات الاحتلال البريطاني، والقوات المصرية.
- ٢- تواطؤ إدارة شركة قناة السويس الأجنبية مع قيادة الجيش البريطاني.
- ٣- إصدار السلطان العثماني إعلاناً بعصيان عرابي.
- ٤- عدم إدراك قيادة الثورة العربية لأهمية التعبئة الشعبية لمساندة القوات المصرية في معاركها.
- ٥- ميول بعض عناصر القوات المصرية للخديو والبريطانيين.
- ٦- الظروف الدولية في عام ١٨٨٢م لم تكن في صالح الحركات الوطنية.

توجه إلى الموقع الإلكتروني للوزارة لحل الأنشطة والتدريبات على الدرس





الوحدة الرابعة

الكفاح الوطني ضد الاحتلال البريطاني

الدرس الثالث

أهداف الدرس

من المتوقع بعد الانتهاء من الدرس أن يكون التلميذ قادرًا على أن:

- يصف أحوال مصر تحت الاحتلال البريطاني.
- يستنتج أهم الأدوار الوطنية لكل من :
مصطفى كامل، محمد فريد.
- يعطى تعريفاً صحيحاً لمفهوم الاتفاق الودى.
- يقدر دور أبناء مصر المخلصين فى مقاومة الاحتلال البريطانى.
- يتتبع دور الأحزاب فى الكفاح الوطنى.

معلومة إثرائية عن

- أقوال مأثورة للزعيم
مصطفى كامل.

صور

- مصطفى كامل.
- محمد فريد.

قضايا متضمنة

- الوحدة الوطنية.
- مقاومة الاحتلال
البريطانى.

مفاهيم أتعلمها

- الاتفاق الودى.

التمهيد

استمر المصريون فى مواصلة الكفاح بعد الاحتلال البريطانى لمصر، من أجل الاستقلال وإقامة حكومة دستورية، وواجه المصريون فى كفاحهم الحكام المستبدين من أسرة «محمد علي» وسياسة الاحتلال البريطانى، الذى أتى بحجة حماية الخديو وتدعيم سلطته وتأمين حياة الأجانب ومصالحهم، والقضاء على الثورة العربية.

مصر تحت الاحتلال البريطانى

الحكم والإدارة: أصبحت السلطة الفعلية فى مصر للمعتمد البريطانى و انحصرت سلطة «الخديو» فى التصديق على قرارات سلطات الاحتلال.

الجيش: إنشاء جيش مصرى لا يتجاوز عدده ستة آلاف جندي، يتولى قيادته ضابط إنجليزى مهمته إقرار الأمن وحفظ النظام.

الحياة النيابية: إلغاء مجلس النواب المنتخب فى عام ١٨٨١م، وإنشاء مجالس صورية لا سلطة لها، (مجلس شورى القوانين، الجمعية العمومية، ثم الجمعية التشريعية).

الاقتصاد

● فرض سياسة اقتصادية تخدم المصالح البريطانية، بالتوسع فى زراعة القطن لتوفير المادة الخام اللازمة للمصانع البريطانية، ومحاربة الصناعة المصرية، بتسويق المنتجات البريطانية والأجنبية فى السوق المصرية، وظهرت طبقة من كبار الملاك والأعيان تستفيد من هذه السياسة، ويرتبط نموها الاقتصادى باستمرار بقاء الاحتلال.

التعليم: إهمال التعليم وجعله بمصروفات مرتفعة، وحصره فى فئة قليلة، بهدف تخريج مجموعة من الموظفين للعمل فى الإدارات والمصالح الحكومية.

مصطفى كامل باعث الحركة الوطنية ١٨٧٤/١٩٠٨م

قاد الزعيم مصطفى كامل الحركة الوطنية فى أواخر القرن التاسع عشر، بعد أن تمكنت سلطات الاحتلال البريطانى من إحكام قبضتها على البلاد وأشاعت روح اليأس فى نفوس المواطنين، وتمثلت تحركات مصطفى كامل فى اتجاهين:

أ) داخليا

كانت خطبه ومقالاته الموجهة إلى المصريين بمثابة الحث على التمسك بالوحدة الوطنية والإخلاص لمصر ومحاربة اليأس واستثارة روح الكرامة فى نفوسهم.



مصطفى كامل

معلومة إثرائية

أقوال مأثورة عن الزعيم مصطفى كامل باشا (لا معنى للحياة مع اليأس ولا معنى لليأس مع الحياة)، (إن من يتسامح في حقوق بلاده ولو مرة واحدة يبقى أبد الدهر مزعزع العقيدة سقيم الوجدان)

اعلم أن

الاتفاق الودي عام ١٩٠٤ م بين فرنسا وإنجلترا نص على: انفراد إنجلترا بحكم مصر مقابل انفراد فرنسا بحكم مراكش (المغرب حالياً).

- المطالبة بالدستور وأسس جريدة اللواء عام ١٩٠٠م والحزب الوطني عام ١٩٠٧م، إنشاء الجامعة المصرية عام ١٩٠٨م «جامعة القاهرة حالياً».

ب) خارجياً

- تعريف الرأي العام الأوربي والقوى الدولية وفي مقدمتها فرنسا بحق مصر في الاستقلال ، ورفضها للاحتلال وسياساته والتي تخلت عن مساندة مصطفى كامل بعقد الاتفاق مع إنجلترا عام ١٩٠٤م.
- الدعوة إلى رفض اتفاقية الحكم الثنائي في السودان يناير ١٨٩٩م.
- استغلال حادثة دنشواي عام ١٩٠٦م للتنديد بالاحتلال البريطاني وسياسته القمعية مما أدى لاستقالة اللورد كرومر (المعتمد البريطاني) في مصر، وتوفي الزعيم مصطفى كامل عام ١٩٠٨م.

لمزيد من المعلومات استعن بشبكة المعلومات الدولية.

كفاح (محمد فريد)

• تولى محمد فريد رئاسة الحزب الوطني بعد وفاة مصطفى كامل رفيقه في الكفاح ، وكان قد تحول الخديو عباس حلمي الثاني عن مؤازرة الحركة الوطنية إلى موالة الاحتلال، فاتجه محمد فريد إلى الجهاد ضد الاحتلال البريطاني والخديو في وقت واحد حيث المطالبة بالجلء والدستور وظل يجاهد لتحقيق ذلك داخل مصر وخارجها.

• طالب بإنشاء مجلس نيابي له سلطات واسعة، وإنشاء نقابات للعمال، ودعا إلى إنشاء مدارس الشعب الليلية لتعليم العمال والفقراء مجاناً، وجعل التعليم إلزامياً في المرحلة الابتدائية وبالمجان.

• نجح محمد فريد بتأييد من الرأي العام في إجبار الحكومة على دعوة مجلس شورى القوانين والجمعية العمومية لمناقشة طلب شركة قناة السويس بتمديد امتياز قناة السويس أربعين عاماً أخرى، مما أدى إلى رفض الحكومة المصرية لطلب الشركة، وتوفي الزعيم محمد فريد في نوفمبر ١٩١٩م.

لمزيد من المعلومات عن الأحزاب السياسية خلال الفترة من ١٩٠٧ - ١٩١٤م استعن بشبكة المعلومات الدولية.

توجه إلى الموقع الإلكتروني للوزارة لحل الأنشطة والتدريبات على الدرس



الوحدة الرابعة

مصر من الحماية البريطانية حتى ثورة يوليو ١٩٥٢م

الدرس الرابع

أهداف الدرس

من المتوقع بعد الانتهاء من الدرس أن يكون التلميذ قادرًا على أن:

- يصف أحوال مصر في الفترة منذ عام ١٩١٤ إلى قيام ثورة يوليو ١٩٥٢م.
- يحدد مقدمات ثورة ١٩١٩م.
- يستنتج عوامل قيام ثورة ١٩١٩م.
- يتتبع أحداث ثورة ١٩١٩م.
- يذكر بنود تصريح ٢٨ فبراير ١٩٢٢م.
- يقارن بين دستور ١٩٢٣م، ودستور ١٩٣٠م.
- يقيم بنود معاهدة ١٩٣٦م.
- يكشف المتغيرات الداخلية والدولية بعد معاهدة ١٩٣٦م.
- يقدر الكفاح الوطني للشعب المصري ضد الاحتلال البريطاني.
- يقدر مشاركة المرأة في أحداث ثورة ١٩١٩م.
- يبرز دور الوحدة الوطنية في أحداث ثورة ١٩١٩م.

معلومة إثرائية عن

- نتائج ثورة ١٩١٩م.
- وفاة سعد زغلول.
- قناة السويس أمن قومي.

مفاهيم أتعلّمها

- الحماية البريطانية.

صور

- سعد زغلول باشا.
- ثورة ١٩١٩م
- مصطفى النحاس باشا.

قضايا متضمنة

- الوحدة الوطنية.
- مقاومة الاحتلال
- البريطاني.



سعد زغلول

التمهيد

• مرت مصر منذ عام ١٩١٤م وحتى قيام ثورة يوليو ١٩٥٢م بمراحل من الصدام بين الحركة الوطنية وسلطات الاحتلال البريطاني.

مقدمات ثورة ١٩١٩م:

تأليف الوفد المصري

عقب انتهاء الحرب العالمية الأولى «نوفمبر ١٩١٨م» تألف الوفد المصري من أعضاء الجمعية التشريعية برئاسة سعد زغلول وآخرون، وقد ذهب هؤلاء لمقابلة المندوب السامي البريطاني في مصر «السير ونجت» للمطالبة بإلغاء الحماية البريطانية، وإنهاء الأحكام العرفية، وإلغاء الرقابة على الصحف والمطبوعات، والمطالبة بالاستقلال مع السماح لهم بالسفر إلى باريس لعرض المطالب الوطنية على مؤتمر الصلح هناك.

الصدام بين أعضاء الوفد وسلطات الاحتلال

- اعترض المندوب السامي البريطاني على الصفة التي تعطى لهؤلاء حق التحدث باسم الأمة، ومن هنا بدأت فكرة جمع التوكيلات من الأمة «للوفاة المصري» للسعى إلى استقلال مصر استقلالاً تاماً، وأصبح الوفد المصري بزعامة سعد زغلول يمثل الأمة.
- رفضت سلطات الاحتلال البريطاني مطالب الوفد المصري، وقامت بالقبض على سعد زغلول وزملاءه في مارس ١٩١٩م ونفيهم إلى جزيرة مالطة.



مشاركة المرأة في ثورة ١٩١٩م

عوامل قيام ثورة ١٩١٩م:

- تجمعت عوامل عديدة، أسهمت في اشتعال ثورة ١٩١٩م، لعل أهمها ما يلي:
- ازدياد نمو الوعي الوطني لدى المصريين من أجل الاستقلال.
- الإجراءات العنيفة التي اتخذتها سلطات الاحتلال أثناء الحرب العالمية الأولى «١٩١٤م - ١٩١٨م».
- ادعاء إنجلترا وحلفائها بأنها تحارب من أجل حرية الشعوب واستقلالها.
- إعلان مبادئ الرئيس الأمريكي ولسن الأربعة عشر ومنها حق الشعوب في تقرير مصيرها.

أحداث الثورة

• امتدت الثورة من القاهرة إلى كافة المدن والأقاليم، واشترك فيها جميع فئات وعناصر الشعب المصري مما يؤكد على الوحدة الوطنية بين أبناء الأمة.

نتائج الثورة

انزعجت الحكومة البريطانية من الأوضاع التي ترتبت على سياستها فعينت الجنرال اللنبي مندوباً سامياً في مصر، وقررت الإفراج عن سعد زغلول ورفاقه في إبريل ١٩١٩م والسماح لهم بالتوجه إلى باريس لعرض قضية استقلال مصر على مؤتمر الصلح.

إلا أنهم وجدوا أبواب مؤتمر الصلح موصودة في وجوههم، حيث اعترفت الدول في المؤتمر بالحماية البريطانية على مصر كما أعلن ذلك ولسن مما أصابهم بإحباط كبير.

• لجنة ملنر (ديسمبر ١٩١٩م)

أرسلت الحكومة البريطانية لجنة برئاسة اللورد ملنر وزير المستعمرات البريطاني إلى مصر لإقناع الشعب المصري بقبول الحماية البريطانية إلا أن الشعب المصري رفض التفاوض مع لجنة ملنر وقاطعها لأن التفاوض معها يعني التنازل عن الوكالة للوفد المصري .
أبدى ملنر استعداداً للتفاوض مع الوفد المصري، وانتهت المفاوضات «بمشروع معاهدة»، غير أن الشعب المصري بجميع طوائفه رفض مشروع المعاهدة، لأنها كانت ستؤدي إلى استقلال مصر استقلالاً صورياً.

• مفاوضات عدلى - كيرزون (١٩٢١م)

تولى عدلى يكن باشا رئاسة الوزارة في مارس ١٩٢١م وكان يرجو أن يوفق في الاتفاق مع البريطانيين على وضع دستور يحقق أمانى ومطالب المصريين، غير أن المفاوضات بين «عدلى يكن باشا» وكيرزون وزير خارجية بريطانيا فشلت لأنها لم تؤد إلى نتيجة، واستقال «عدلى يكن باشا» ورفض رجال السياسة تشكيل حكومة وتم القبض على سعد زغلول ونفيه للمرة الثانية إلى جزيرة سيشل فتجددت الثورة مرة أخرى وقاطع الشعب البضائع الانجليزية مما اضطر الحكومة البريطانية للإفراج عنه.

معلومة إثرائية

كان من أهم نتائج ثورة ١٩١٩، خروج المرأة إلى الحياة العامة ومعتك السياسة، بعد أن شاركت بإيجابية في أحداث الثورة.

كما أدت الثورة إلى كشف مزاعم الاحتلال حول الخلافات بين المسلمين والأقباط، حيث أظهرت الثورة قمة الوحدة بين عنصرى الأمة.

مفاهيم تعلمها

الحماية البريطانية: خضوع مصر المطلق للاحتلال البريطاني.

• تصريح ٢٨ فبراير ١٩٢٢م

بعد فشل مفاوضات «عدلى - كيرزون» أصدرت بريطانيا تصريح ٢٨ فبراير ١٩٢٢م، الذي اعترفت فيه بمصر دولة مستقلة ذات سيادة، وأنهت حمايتها على البلاد، وألغت الأحكام العرفية، ولكنها احتفظت بعدة أمور، وهى المعروفة بالتحفظات الأربعة التى تمثلت فيما يلي:

- ١- تأمين المواصلات البريطانية فى مصر.
 - ٢- الدفاع عن مصر ضد أى اعتداء أو تدخل أجنبي.
 - ٣- حماية المصالح الأجنبية وحماية الأقليات فى مصر.
 - ٤- استمرار أوضاع السودان على ما كانت عليه وفقاً لاتفاقية الحكم الثنائى عام ١٨٩٩م.
- وترتب على ذلك: أعلن السلطان فؤاد نفسه ملكاً على مصر «مارس ١٩٢٢م»، وأعيدت وزارة الخارجية المصرية، وشكلت وزارة عبدالحق ثروت باشا لجنة من ثلاثين عضواً لإعداد الدستور الذى عرف بدستور ١٩٢٣م.

• دستور ١٩ أبريل ١٩٢٣م

رغم أن هذا الدستور أعطى للملك سلطات واسعة إزاء السلطتين التشريعية والتنفيذية، حيث جعل من حقه حل البرلمان والدعوة لانتخابات جديدة، إلا أنه كان خطوة فى تقرير مبدأ أن الأمة مصدر السلطات ووضع نهاية للحكم المطلق، كما قرر مبدأ المساواة بين جميع المصريين فى الحقوق والواجبات، ومبدأ احترام الحريات العامة.

وزارة الشعب

• أجريت الانتخابات العامة فى مصر طبقاً لدستور ١٩٢٣م، وحصل حزب الوفد على الأغلبية، وبناء على ذلك شكل سعد زغلول فى يناير ١٩٢٤ أول وزارة برلمانية عرفت بوزارة الشعب، وافتتح أول برلمان مصرى فى مارس ١٩٢٤م.

• فى ١٩ نوفمبر ١٩٢٤م تم اغتيال القائد العام للجيش المصرى والحاكم العام للسودان «السير لى ستاك» وأعقبه تقديم المندوب السامى البريطانى اللورد النبى إنذاره للحكومة المصرية فى ٢٢ نوفمبر ١٩٢٤م، ترتب عليه استقالة وزارة سعد زغلول باشا فى اليوم التالى تم تأليف وزارة برئاسة زيور باشا رئيس مجلس الشيوخ والتى قبلت المطالب البريطانية التى جاءت فى الإنذار البريطانى ومنها سحب الجيش المصرى من السودان.

معلومة إثرائية

وفاة سعد زغلول باشا: خسرت مصر فى أغسطس ١٩٢٧م زعيماً قديراً ووطنياً مخلصاً بوفاة سعد زغلول باشا، وخلفه فى زعامة حزب الوفد مصطفى النحاس باشا.

دستور ١٩٣٠ م

شكل إسماعيل صدقي باشا في يونيو ١٩٣٠م وزارة جديدة قامت بإلغاء دستور ١٩٢٣م، ووضع «دستور ١٩٣٠» الذي أعطى للملك مزيداً من السلطات، وأهدر سلطة الأمة وحقوقها في مواضع كثيرة، وقد عارض الشعب هذا الدستور الجديد، وقام بالعديد من المظاهرات للمطالبة بإلغائه، مما اضطر الملك فؤاد إلى الرضوخ لمطالب الأمة وإعادة دستور ١٩٢٣م.

تعدد الأحزاب

تعددت الأحزاب في مصر منذ صدور دستور ١٩٢٣م إلا أن تعددها لم يؤدِّ لإثراء الحياة النيابية كما أنها كانت أداة للقصر الملكي ولبريطانيا لتحقيق مصالحهما، دون النظر لمصالح الشعب.



مصطفى النحاس باشا

معلومة إثرائية

قناة السويس أمن قومي.
فضلاً عن دور الجيش في
حماية وتأمين قناة السويس، فإنها تقوم
بدوراً مهماً في مشروع قناة السويس
الجديدة، حيث تشارك هيئة القناة في
أعمال الحفر وتوفير متطلباته من خلال
الوزارات المختلفة، كما قامت بتطهير
منطقة القناة من الألغام.

معاهدة ١٩٣٦ م

اضطرت بريطانيا بعقد معاهدة مع مصر لتخوفها من قيام ثورة جديدة في الوقت التي ستخوض فيه بريطانيا حرب عالمية جديدة و دارت المفاوضات بين مصطفى النحاس باشا والإنجليز ، وانتهت بالتوقيع على المعاهدة في أغسطس ١٩٣٦م.

وقد نصت المعاهدة على:

- جلاء القوات البريطانية عن القاهرة وجميع الجهات الأخرى ما عدا منطقة قناة السويس.
- وضع الموانئ والمطارات وطرق المواصلات المصرية تحت تصرف بريطانيا في حالة الحرب.
- تعهد الحكومة المصرية ببناء الثكنات والمعسكرات والطرق والكبارى اللازمة للقوات البريطانية وصيانتها.
- مساعدة بريطانيا لمصر للانضمام إلى عصبة الأمم
- استمرار إدارة السودان وفقاً لاتفاقية يناير ١٨٩٩م مع عودة القوات المصرية إلى السودان.
- تسرى المعاهدة لمدة عشرين عاماً.

نتائج المعاهدة: وترتب على تلك المعاهدة:

- ١- انتهاء احتلال مصر عسكرياً.
- ٢- انضمام مصر إلى عضوية عصبة الأمم باعتبارها دولة مستقلة ذات سيادة.
- ٣- إلغاء الامتيازات الأجنبية وفقاً لمؤتمر مونترال (١٩٣٧م).

- ٤- تقوية الجيش المصرى لى يمكن من الدفاع عن قناة السويس بمفرده، وبالتالي تجلو القوات البريطانية عن مصر.
- ٥- حرية مصر فى عقد المعاهدات السياسية مع الدول الأجنبية بشرط ألا تتعارض مع المعاهدة.
- ٦- عودة الجيش المصرى إلى السودان واعتراف بريطانيا بالإدارة المشتركة مع مصر للسودان.

المتغيرات الداخلية والدولية بعد معاهدة ١٩٣٦ م

- تحول العلاقة بين مصر وبريطانيا من علاقة احتلال إلى علاقة تحالف.
- ازداد نفوذ القصر وسيطرته منذ اعتلاء الملك فاروق العرش.
- تغير الأوضاع الدولية، عقب اندلاع الحرب العالمية الثانية فى سبتمبر ١٩٣٩م، نتيجة الخلافات بين حكومة مصر والإنجليز، بسبب إصرار الإنجليز على أن تعلن مصر الحرب على دول المحور وهو ما كانت ترفضه الحكومة المصرية لاتباع سياسة تجنب مصر ويلات الحرب فبادرت بريطانيا بالضغط على الملك لتشكيل حكومة جديدة برئاسة مصطفى النحاس باشا، ولما ماطلهم الملك اضطرت أن ترسل الإنذار الشهير عام ١٩٤٢م، وهو اليوم الذى حاصرت فيه الدبابات قصر عابدين «حادث ٤ فبراير»، وهددت بخلع الملك فاروق عن العرش، فقبل الملك الإنذار البريطانى، وعرض على مصطفى النحاس باشا رئيس حزب الوفد تأليف الوزارة فقبل ذلك.

قضية الجلاء الكامل للقوات البريطانية

- عرضت مصر قضية جلاء القوات البريطانية الكامل عن مصر ووحدة وادى النيل على مجلس الأمن فى عام ١٩٤٧م، ولكن مجلس الأمن لم يتخذ قراراً فى القضية وتركها معلقة.
- فى أكتوبر ١٩٥١م أعلن مصطفى النحاس رئيس الوزارة وقتئذ إلغاء معاهدة ١٩٣٦م، وأطلق الحرية للشعب للنضال المسلح ضد القوات البريطانية فى القناة.
- وبناء على ذلك أخذت جماعات الفدائيين فى مهاجمة المعسكرات البريطانية، وعمدت الحكومة إلى زيادة عدد جنود الشرطة لمساعدة الفدائيين، فحاصر البريطانيون مبنى المحافظة بالإسماعيلية لنزع سلاح جنود الشرطة، ولكن رفض الجنود التسليم لقوات الاحتلال مما أدى إلى الصدام بينهما (٢٥ يناير ١٩٥٢م) واستشهد الكثير منهم بعدها تطورت الأحداث ووقع حريق القاهرة فى اليوم التالى مباشرة، فكان ذلك إيذاناً بنهاية النظام الملكى وقيام ثورة يوليو ١٩٥٢م.



توجه إلى الموقع الإلكتروني للوزارة لحل الأنشطة
والتدريبات على الدرس

الفصل الدراسي الثاني

محتويات الفصل الدراسي الثاني

الصفحة	المقدمة
	الوحدة الأولى
	الموارد والأنشطة الاقتصادية في العالم
٢	الدرس الأول النشاط الزراعي وموارده في العالم
٩	الدرس الثاني الرعي والثروة الحيوانية والسكنية في العالم
١٥	الدرس الثالث النشاط التعدين في العالم
٢٣	الدرس الرابع النشاط الصناعي في العالم
	الوحدة الثانية
	نماذج لبعض الدول النامية والمتقدمة
٢٧	الدرس الأول جمهورية الهند
٣١	الدرس الثاني جمهورية البرازيل الاتحادية
٣٥	الدرس الثالث جمهورية نيجيريا الاتحادية
٣٩	الدرس الرابع ألمانيا الاتحادية
٤٣	الدرس الخامس الولايات المتحدة الأمريكية
	الوحدة الثالثة
	ثورة يوليو والصراع العربي الإسرائيلي
٤٩	الدرس الأول ثورة ٢٣ يوليو ١٩٥٢م
٥٦	الدرس الثاني مصر والقضية الفلسطينية
٦٣	الدرس الثالث حرب أكتوبر ١٩٧٣م
٦٧	الدرس الرابع مصر و الصراع العربي الإسرائيلي
٧١	الدرس الخامس ثورتا ٢٥ يناير ٢٠١١م و ٣٠ يونيو ٢٠١٣م
	الوحدة الرابعة
	الحياة السياسية وعلاقات مصر الدولية
٧٧	الدرس الأول الحياة النيابية والحزبية ودور المرأة في العمل الوطني
٨٤	الدرس الثاني مصر والمنظمات الإقليمية والدولية

الوحدة الأولى الموارد والأنشطة الاقتصادية في العالم

أهداف الوحدة

في نهاية دراسة هذه الوحدة يتوقع أن يكون التلميذ قادرًا على أن :

- يحدد الأنشطة الاقتصادية في العالم .
- يفسر العلاقة بين تنوع الموارد الطبيعية والأنشطة الاقتصادية في العالم .
- يقرأ الأشكال البيانية المرتبطة بالموارد والأنشطة الزراعية في العالم .
- يحدد مناطق الرعي الرئيسية في العالم .
- يوزع على خريطة العالم مناطق صيد الأسماك .
- يقارن بين الدول من حيث الإنتاج المعدني عالميًا .
- يوزع على خريطة العالم الصماء الأقاليم الرئيسية للصناعة في العالم .
- يقارن بين الدول المتقدمة والدول النامية من حيث مدى توافر مقومات الصناعة .
- يقدر عظمة الله في تنوع الموارد والأنشطة الاقتصادية في العالم .

دروس الوحدة

الدرس الأول: النشاط الزراعي و موارده في العالم



الدرس الثاني: الرعي والثروة الحيوانية والسمكية في العالم



الدرس الثالث: النشاط التعدين في العالم



الدرس الرابع: النشاط الصناعي في العالم





الوحدة الأولى

النشاط الزراعي و موارده في العالم

الدرس الأول

أهداف الدرس

من المتوقع بعد الانتهاء من الدرس أن يكون التلميذ قادرًا على أن :

- يحدد على خريطة العالم المناطق الزراعية الرئيسية في العالم .
- يفسر العلاقة بين الموارد الزراعية والنشاط الذي يمارسه الإنسان .
- يتعرف الموارد الزراعية المختلفة بالعالم .
- يقرأ الأشكال البيانية المرتبطة بالموارد والأنشطة الزراعية
- يقدر عظمة الخالق في تنوع الموارد الزراعية اللازمة للإنسان .

معلومات إثرائية عن

- اليام والكسافا .
- الحبوب الغذائية .
- السكر .
- المطاط .

مفاهيم أتعلمها

- الزراعة الكثيفة .

رسوم بيانية

- رسم بياني للدول الرئيسية المنتجة للقمح .
- رسم بياني لقارات العالم المنتجة للذرة .
- رسم بياني للدول الرئيسية المنتجة لقصب السكر .
- رسم بياني للقارات المنتجة للقطن .

خرائط

- خريطة توزيع الأنواع الرئيسية للزراعة في العالم .
- خريطة مناطق زراعة المحاصيل الغذائية الرئيسية (القمح - الأرز - الذرة)
- خريطة مناطق زراعة قصب السكر والبنجر في العالم .
- خريطة مناطق زراعة القطن في العالم .

قضايا متضمنة

- حُسن استخدام الموارد وتنميتها .
- ترشيد الاستهلاك .

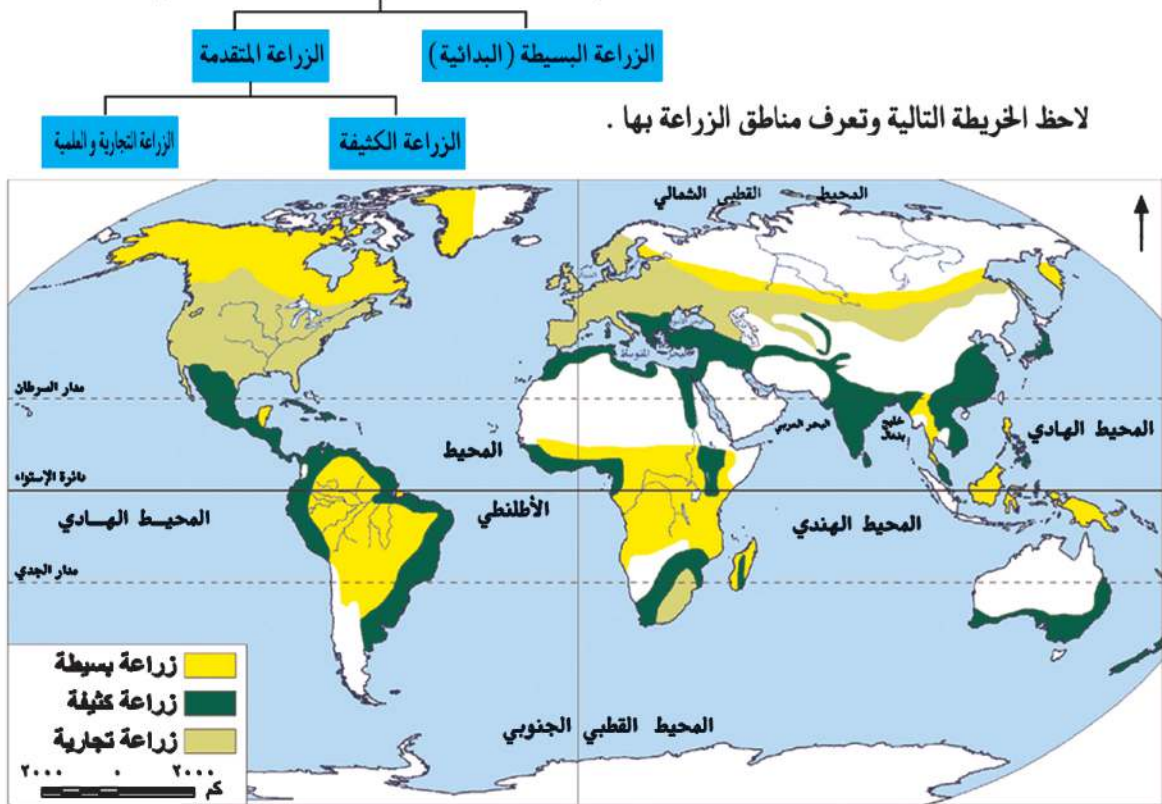
هل تعلم - عزيزي التلميذ - أن الإنسان اتجه بالفطرة نحو إشباع حاجاته الضرورية من مأكّل ومشرب ومأوى لاستمرار حياته ؟ ولقد مارس البشر العديد من الأنشطة الاقتصادية البدائية في الماضي ، ومنها الصيد والرعي وتربية الحيوان ، وزاد عدد السكان وتنوعت أنشطتهم وتطورت في النهاية حتى وصل إلى النشاط الصناعي المتطور والذي يتركز في معظم دول العالم المتقدمة . وسوف نتناول الأنشطة الاقتصادية ، بدءاً من البدائية حتى المتقدمة .

■ المناطق الزراعية الأساسية في العالم :

عرف الإنسان الزراعة منذ ما يقرب من ٥٠٠٠ سنة وعرف معها الاستقرار في الأراضي الخصبة على ضفاف الأنهار .

ويعد النشاط الزراعي من الأنشطة الاقتصادية الأساسية في العالم **لعدة أسباب منها أنه :**

- يمثل مصدراً رئيساً لغذاء الإنسان بجانب الأسماك والحيوانات .
 - يعد مصدراً مهماً للمواد الخام الزراعية التي تدخل في الصناعة مثل الألياف التي تدخل في صناعة المنسوجات ، والمطاط الذي يدخل في صناعة إطارات السيارات وغيرها .
 - يرتبط بتربية الحيوان .
- ويسود النشاط الزراعي في كل قارات ودول العالم تقريباً ، وينقسم النشاط الزراعي إلى نوعين رئيسيين :



خريطة (١) توزيع الأنواع الرئيسة للزراعة في العالم

معلومة إثرائية

اليام: عبارة عن درنات تشبه البطاطا يتم تجميعها و تجفيفها وطحنها وتستخدم في صناعة الخبز في عدد من دول إفريقيا مثل غانا ونيجيريا
الكسافا: نبات ينمو في المناطق ذات المناخ الدافئ وجذوره غنية جدًا بالنشويات، وقد استحدث العلماء أصنافًا جديدة منه ذات قيمة غذائية عالية وإنتاجية أكبر وأكثر مقاومة للأمراض.

أولا الزراعة البسيطة (البداية)

يعمل بها عدد قليل من السكان في مناطق صغيرة ومعزولة .

أماكن انتشارها :

- المناطق الحارة على هوامش الغابات الاستوائية وبعض مناطق حشائش السافانا
- بمساعدة معلمك حدد مناطق أخرى لانتشارها على الخريطة (١) .

خصائصها :

- (أ) استخدام الأدوات البدائية البسيطة .
- (ب) ضيق المساحة المزروعة وتباعدها عن بعضها البعض .
- (ج) توفير الاحتياجات الغذائية للسكان دون وجود فائض للتصدير .
- أهم المحاصيل : اليام والذرة والموز والكسافا .

ثانيًا : الزراعة المتقدمة

١ - الزراعة الكثيفة

يقصد بها زراعة الأرض أكثر من مرة في العام الواحد لإشباع حاجة السكان المحليين من الغذاء (أى للاستهلاك المحلي فقط) وعادة ما توجد في المناطق كثيفة السكان .

أماكن انتشارها : المناطق الحارة والمعتدلة

خصائصها :

- تتم الزراعة من خلال عمليات عديدة مثل بذر الحبوب والرى ، وتنقية الحشائش مما يتطلب أيدى عاملة وفيرة .
- يتم زراعة الأرض بأكثر من محصول خلال العام .

- يصعب استخدام الآلات والميكنة الزراعية لصغر مساحات الحقول الزراعية .

أهم المحاصيل : القمح والأرز والقطن .

٢ - الزراعة التجارية والعلمية

تعرف بنظام الزراعة الواسعة ، وتهدف للإنتاج التجارى الضخم .

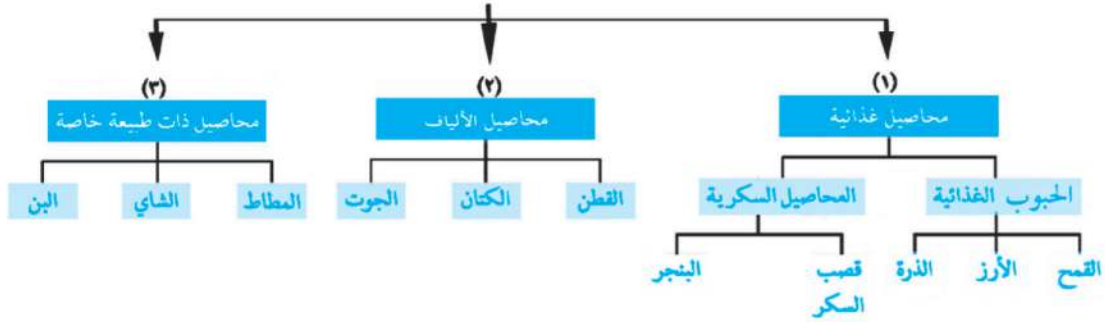
أماكن انتشارها : نلاحظ من الخريطة (١) أنها توجد فى :-

أمريكا الشمالية خاصة الولايات المتحدة حيث مناطق زراعة القمح، ونطاق القطن، وفى جنوب شرق آسيا حيث مزارع المطاط والشاي وكذلك فى أوروبا حيث مناطق زراعة القمح وغيرها .

خصائصها : تتم فى مزارع واسعة وتستخدم أحدث الآلات الزراعية والطرق العلمية الحديثة وهذا يؤدى إلى تقليل التكاليف والعمالة.

الموارد الزراعية

هل تعرف عزيزي التلميذ أهم الموارد الزراعية الرئيسية في العالم ؟ لاحظ الشكل التالي لتتعرفها

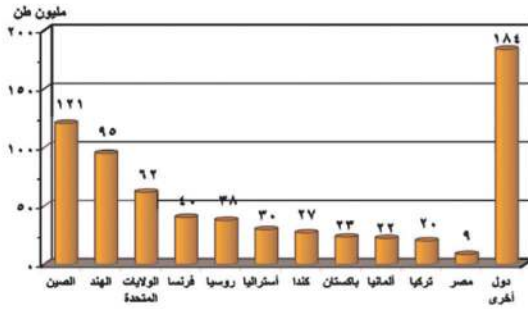


وفيما يلي نتعرف بعض المحاصيل الزراعية :

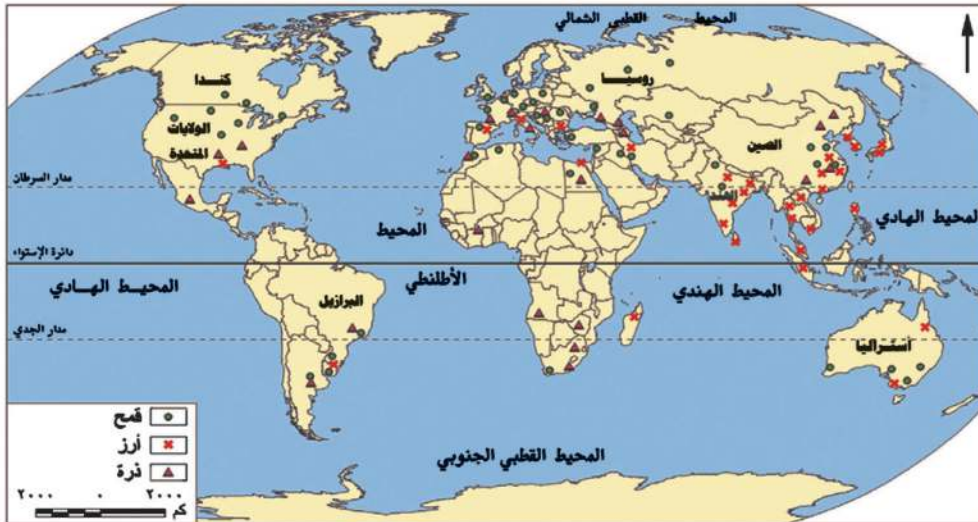
القمح

يعتبر القمح الغذاء الرئيسي لمعظم شعوب العالم حيث يصنع منه الخبز، والمكرونة والحلويات ، وينتج في كل قارات العالم ، وتعد قارة آسيا أولى قارات العالم. لذا تأتي الصين والهند أولى الدول إنتاجًا له .

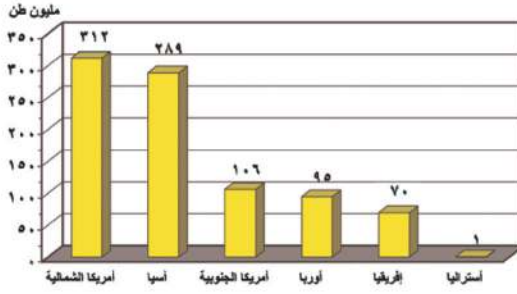
لاحظ خريطة (٢) والرسم البياني شكل (١) وتعرف أهم الدول المنتجة للقمح.



شكل (١) رسم بياني للدول الرئيسية المنتجة للقمح لعام (٢٠١٢)



خريطة (٢) مناطق زراعة الحبوب الغذائية الرئيسية (القمح - الأرز - الذرة)



شكل (٢) رسم بياني لإنتاج الذرة في قارات العالم (لعام ٢٠١٢)

الذرة

تنتشر زراعتها في معظم قارات العالم . ناقش معلمك
الرسم البياني (٢)

- تأتي قارة أمريكا الشمالية في المرتبة الأولى إنتاجاً

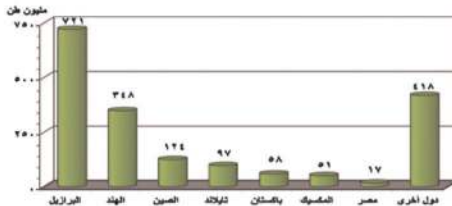
للذرة ويستخدم معظم الإنتاج كعلف للماشية، ويصدر جزء منه إلى الخارج .

قصب السكر

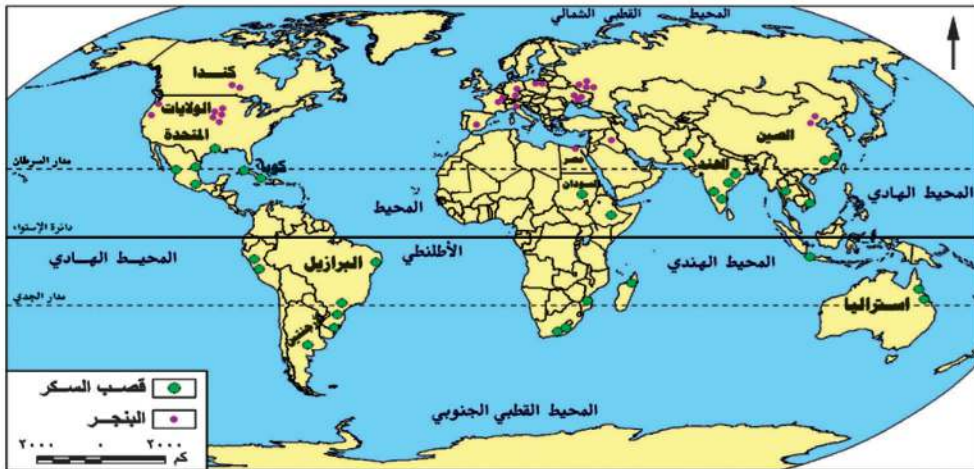
- يعد قصب السكر من المحاصيل الأساسية لإنتاج السكر، ويزرع

في المناطق المدارية الحارة، وينتج في كل القارات عدا قارة أوروبا حيث يحتاج لدرجة حرارة مرتفعة وكمية مياه وفيرة، وتعد البرازيل أولى دول العالم إنتاجاً له .

لاحظ الخريطة (٢) والرسم البياني (٣) وتعرف الدول المنتجة لقصب السكر .



شكل (٣) رسم بياني لأهم الدول المنتجة لقصب السكر (لعام ٢٠١٢)



خريطة (٢) المناطق الرئيسية لزراعة قصب السكر والبنجر في العالم

■ البنجر

هو المحصول الثانى لإنتاج السكر فى العالم .

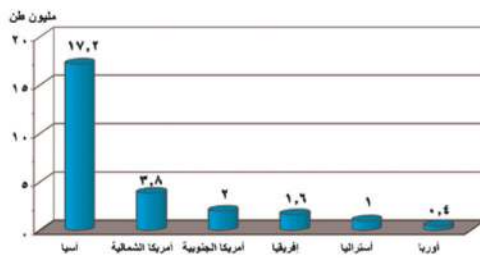
- تتركز زراعته وإنتاجه فى دول أوروبا مثل فرنسا وفى أمريكا الشمالية فى الولايات المتحدة بسبب ملاءمة ظروف المناخ والتربة الزراعية .
- أكبر الدول المنتجة له فى إفريقيا هى مصر .

■ الإنتاج العالمى للسكر

- تعد البرازيل أكبر دول العالم إنتاجاً للسكر ، ثم الهند، والصين .

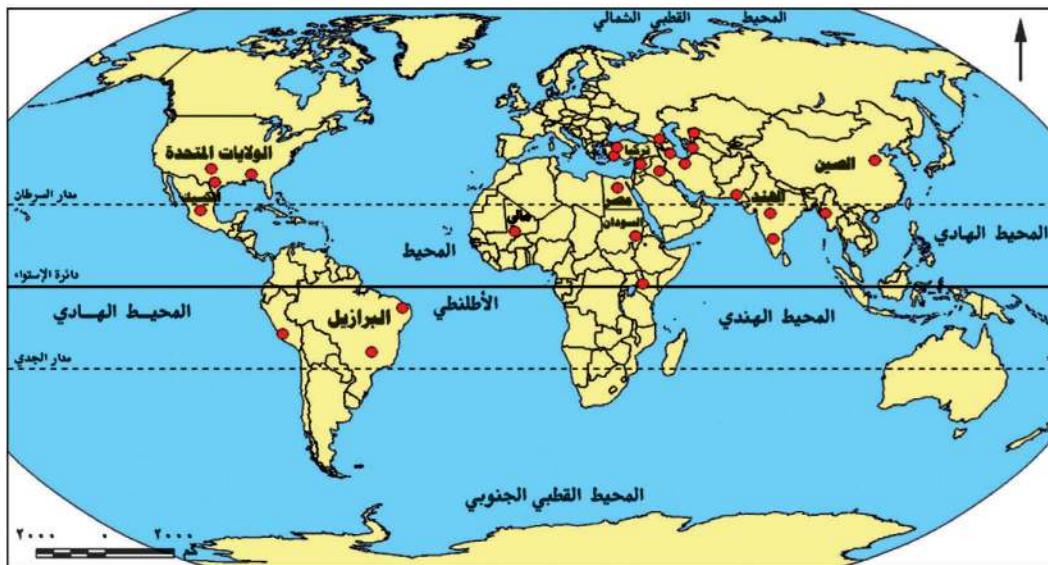
■ القطن

من المحاصيل المدارية المهمة لإنتاج الخيوط التى تستخدم فى صناعة أجود أنواع الملابس والمنسوجات ، كما يعد مصدراً لاستخراج زيت بذرة القطن والأعلاف .



- تنتج قارة آسيا ثلثى الإنتاج العالمى من القطن، بالتالى تعد أكبر قارات العالم إنتاجاً ، وأهم الدول المنتجة له هي الصين والهند، تلى آسيا قارة أمريكا الشمالية، ثم قارة أمريكا الجنوبية ثم قارة إفريقيا وأهم دولها مصر، السودان ويعد القطن فى مصر والسودان من أجود أنواع القطن فى العالم، ومعظمها من الأنواع طويل التيلة.

شكل (٤) رسم بياني لإنتاج القطن فى القارات المختلفة (لعام ٢٠١٢)



خريطة (٤) المناطق الرئيسة لزراعة القطن فى العالم

معلومة إثرائية

المطاط نوعان :

المطاط الطبيعي : مادة بيضاء اللون يستخرج من أشجار استوائية ثم تعالج كيميائياً وتتحول إلى مادة المطاط التي نعرفها ويبلغ الإنتاج العالمي منه ١١,٥ مليون طن عام ٢٠١٢م.

المطاط الصناعي : يصنع من البترول ، وتتركز صناعته في دول العالم المتقدمة ويدخل في التجارة الدولية منافساً للمطاط الطبيعي .

المطاط الطبيعي

يستخرج من عصارة أشجار استوائية وتصنع منه إطارات السيارات وصناعات أخرى ، تنتج قارة آسيا معظم الإنتاج العالمي ، وتليها إفريقيا وتعد دولة تايلاند أولى دول العالم في إنتاج المطاط الطبيعي .

الشاي

- الشاي نبات دائم الخضرة موطنه الأصلي شرق آسيا .
- تحتاج زراعته إلى تربة خصبة خفيفة - مناخ حار - هواء رطب ومطر غزير .
- تعد الصين أولى دول العالم إنتاجاً للشاي .

توجه إلى الموقع الإلكتروني للوزارة لحل الأنشطة والتدريبات على الدرس





الوحدة الأولى

الرعي والثروة الحيوانية والسمكية في العالم

الدرس الثاني

أهداف الدرس

من المتوقع بعد الانتهاء من الدرس أن يكون التلميذ قادرًا على أن:

- يصنف الموارد الحيوانية في العالم.
- يتعرف مناطق الرعي الرئيسية على خريطة العالم.
- يستنتج العلاقة بين الزراعة وتربية الحيوانات في العالم.
- يقرأ الأشكال البيانية المرتبطة بتوزيع حيوانات الرعي في العالم.
- يحدد على خريطة العالم مناطق صيد الأسماك في العالم.
- يقدر عظمة الله فيما وهبه لنا من ثروات.

قضايا متضمنة

- حسن استخدام الموارد وتنميتها.
- ترشيد الاستهلاك.

خرائط ورسوم بيانية

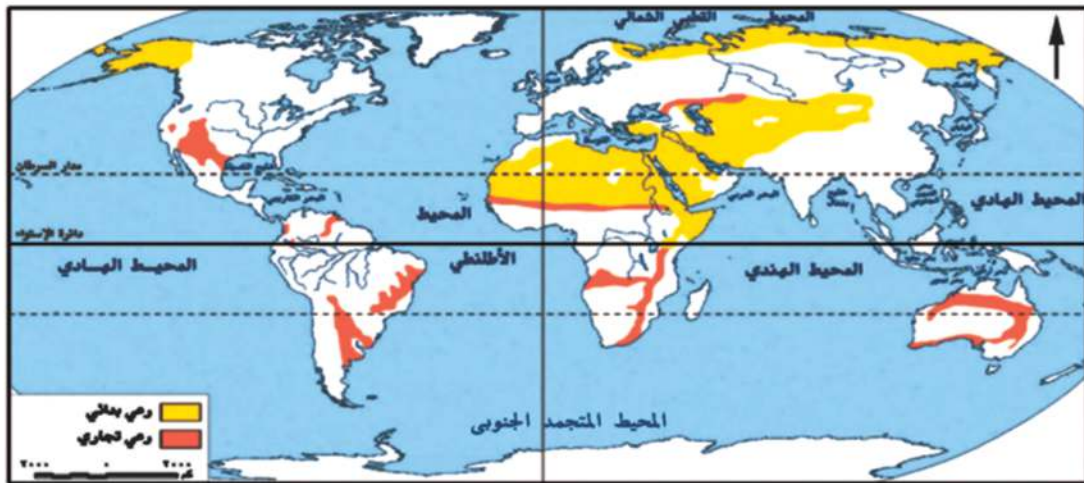
- خريطة الرعي في العالم.
- رسم بياني لأعداد الأبقار في قارات العالم.
- رسم بياني لأعداد الأغنام في الدول الرئيسية.

معلومات إثرائية عن

- الجاموس في العالم.
- الماعز في العالم.
- أسماك دولة بيرو.

■ النشاط الرعوى

يرتبط النشاط الرعوى بمناطق الحشائش في العالم ومنها حشائش الاستبس وحشائش السافانا وغيرها ، لاحظ الخريطة التالية وتعرف أهم مناطق الرعى بالعالم .



الخريطة (٥) مناطق الرعى في العالم

نستنتج من الخريطة (٥) أن الرعى ينقسم إلى نوعين هما :-

أ (الرعى البدائى (التقليدى)

- يمارسه سكان المناطق الصحراوية في مساحات واسعة في قارات العالم ، ومنها :
- **آسيا** : يوجد في الصحارى الحارة في شبه الجزيرة العربية وبادية الشام ، وقد قل عدد القائمين بهذه الحرفة نتيجة توطين البدو لتدفق البترول . كما يوجد في دول وسط آسيا . ولكن عندما انتشر بين قبائل وسط آسيا التعليم تغير نشاطهم للعمل بالصناعة والزراعة والخدمات .
- **إفريقيا** : في صحارى شمال القارة . • **أوروبا وآسيا** : ويوجد في صحارى التندرا الباردة حيث يرعى حيوان الرنة وغيره .

ب (الرعى التجارى

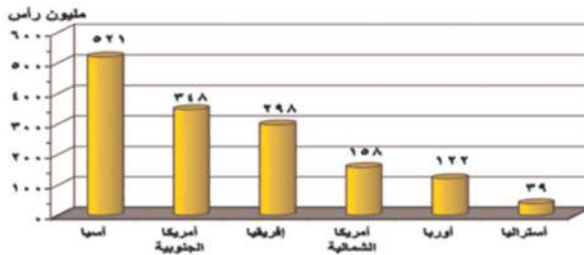
- يوجد الرعى التجارى في مناطق الحشائش في العالم خاصة في مناطق الحشائش القصيرة (البرارى) وفي مناطق الاستبس و السافانا بقارات العالم ، ويسود في الولايات المتحدة الأمريكية والأرجنتين وأستراليا .
- ويعتمد الرعى التجارى على أحدث الأساليب العلمية ويتم تربية حيوان المرعى لإنتاج الألبان أو اللحوم ، حيث يرعى كل نوع في مزارع خاصة به دون الاختلاط بحيوانات أخرى .

الموارد الحيوانية في العالم

تعد الثروة الحيوانية المصدر الرئيس للحوم والألبان في العالم بجانب الجلود والصوف وغيرها وتمثل في:

أولا : الثروة الحيوانية :-

الأبقار



شكل (5) رسم بياني لأعداد الأبقار في قارات العالم لعام ٢٠١٢م

معلومة إثرائية

يوجد نحو ٢٠٠ مليون رأس من الجاموس في العالم، وتوجد في بعض الدول أكبرها الهند وباكستان والصين ومصر، حيث يوجد لدينا في مصر نحو ٤ ملايين رأس من الجاموس، وهو المصدر الرئيس للحوم والألبان.

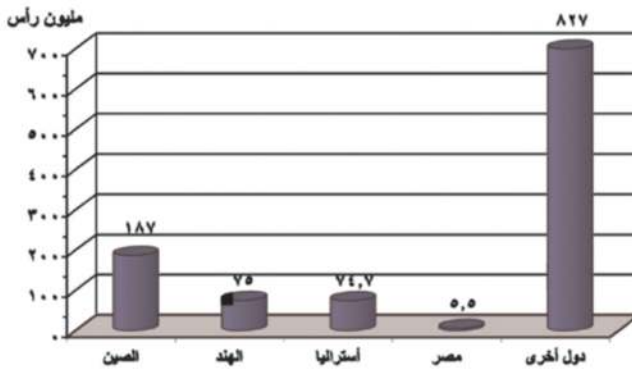
تعد الأبقار المصدر الرئيس للحوم لغالبية سكان العالم، وتدخل بنسبة كبيرة في التجارة الدولية.

- يتضح من الشكل البياني السابق : أن قارة آسيا أولى قارات العالم وأهم دولها الهند وتليها قارة أمريكا الجنوبية.

الأغنام

تتركز الأغنام في عدد كبير من الدول لاحظ الرسم البياني شكل (٦) أكبرها الصين ؛ تليها الهند وأستراليا بسبب توفر الحشائش، وتربي الأغنام في العالم من أجل لحومها وأصوافها، وترتبط تربيتها بالمراعي التجارية الواسعة.

تذكر عزيزي التلميذ أن هناك حيوانات أخرى عديدة مثل الجاموس والإبل والماعز والخنازير.



شكل (٦) رسم بياني لأعداد الأغنام في الدول الرئيسية (لعام ٢٠١٢)

الإنتاج الحيواني في العالم :



■ إنتاج اللحوم الحمراء في العالم :

تعد اللحوم هي المنتج الرئيس للحيوان ، ولقد زاد معدل الاستهلاك العالمى للحوم بسبب ارتفاع مستوى المعيشة في كثير من دول العالم .

- يدخل نحو ٨٪ من اللحوم الحمراء في التجارة العالمية.
- تعد الصين أولى دول العالم إنتاجاً لها ومعظمها من لحوم الخنازير ، تليها الولايات المتحدة.

■ إنتاج الألبان في العالم

- تعد الألبان المنتج الثانى المهم للثروة الحيوانية بعد إنتاج اللحوم .
- الهند أكبر الدول إنتاجاً للألبان ، تليها الولايات المتحدة، وتنتج مصر نحو ٦ مليون طن سنوياً، والإنتاج لا يكفي سكانها - لماذا؟

■ إنتاج الأصواف في العالم

يعد صوف الأغنام مادة خام أساسية لصناعة نسيج الصوف، وأهم الدول المنتجة له أستراليا حيث أصواف المارينو الشهيرة ، ثم الصين.

■ إنتاج الجلود

تعد الجلود منتج حيوانى رئيس تقوم عليها صناعة دُبغ الجلود وتصنيعها في شكل منتجات جلدية متعددة .



إحدى مزارع الدواجن

■ ثانياً : الدواجن

تربي الدواجن في كل دول العالم تقريباً وتساهم بمنتجاتها من اللحوم والبيض في سد حاجة السكان من الغذاء ، وتحتل الولايات المتحدة المركز الأول ، تليها الصين .

■ ثالثاً : الأسماك :

• تمثل الأسماك غذاءً رئيساً لكثير من سكان العالم خاصة في المناطق الساحلية على البحار والمحيطات .
وتنتشر مصايد الأسماك على سواحل القارات (شمال غرب أوروبا وسواحل أمريكا الشمالية وأمريكا الجنوبية وغيرها) ، حيث تتوفر بها العوامل الطبيعية والبشرية التي تساعد في تطور هذه الحرفة وتتمثل أهم هذه العوامل في :

- ضخالة المياه الساحلية وغناها بالمواد الغذائية .
- التقاء التيارات البحرية الدافئة مع الباردة .
- توفر الموانئ لترسو سفن الصيد .
- توفر الخبرات الفنية والعلمية في صناعة مراكب وأدوات الصيد والثلاجات وغيرها .
- التوسع في تربية الأسماك على أسس علمية حديثة .

■ إنتاج الأسماك في العالم

- يأتي حوالى نصف الإنتاج السمكي من المياة المالحة بالبحار والمحيطات وثلثه من مزارع تربية الأسماك التي انتشرت في السنوات الأخيرة في العديد من دول العالم وباقي الانتاج من أسماك الأنهار والمياة العذبة .
- تحتل الصين المركز الأول في إنتاج الأسماك بأكثر من ثلث الإنتاج العالمى ، وذلك من مصائد على المحيط الهادى والأنهار والبحيرات ومزارع تربية الأسماك .



أحد أساطيل الصيد

- يلي الصين كل من أندونيسيا والولايات المتحدة الأمريكية في إنتاج الأسماك في العالم ويرجع ذلك لطول السواحل على البحار والمحيطات، وكذلك تقدم وسائل الصيد .
- وتعد الصين والنرويج وتايلاند من الدول الرئيسة المصدرة للأسماك .
- إلى جانب الأسماك توجد أنواع أخرى من الأحياء البحرية كالقشريات ومنها الجمبري والرخويات كالسبيط، كما توجد الحيتان في المحيطات وتصطاد للاستفادة من لحومها وشحومها .

معلومة إثرائية

أكثر من ٨٠٪ من أسماك دولة بيرو من نوع واحد وهو الأنشوجة ، ويتم تجفيف معظمه وتصديره في شكل مسحوق يستخدم كعلف للحيوان والدواجن وتعد الولايات المتحدة أكبر الدول المستوردة له .

توجه إلى الموقع الإلكتروني للوزارة لحل الأنشطة

والتدريبات على الدرس



الوحدة الأولى

النشاط التعدين في العالم

الدرس الثالث

معلومات إثرائية عن

- هنري بيسمر .
- المصريون والمعادن .
- أول بشر لاستخراج البترول .
- بدء استخدام الكهرباء .
- الدول الخمس العربية .

خرائط ورسوم

- رسم بياني للدول الرئيسة المنتجة للحديد .
- خريطة مناطق إنتاج الحديد في العالم .
- خريطة مناطق إنتاج النحاس في العالم .
- رسم بياني للدول الرئيسة المنتجة للنحاس .
- خريطة مناطق إنتاج البوكسيت في العالم .
- رسم بياني للدول الرئيسة المنتجة للبوكسيت .
- خريطة مناطق الدول المنتجة للفحم والبترول في العالم .
- رسم بياني للدول المنتجة للفحم .

أهداف الدرس

من المتوقع بعد الانتهاء من الدرس أن يكون التلميذ قادرًا على أن :

- يتعرف مناطق إنتاج الحديد على خريطة العالم .
- يقارن بين إنتاج الدول الرئيسة المنتجة للمعادن المهمة .
- يقدر أهمية النحاس ومناطق إنتاجه في قارات العالم .
- يحدد أهمية البوكسيت والصناعة التي تعتمد عليه .
- يوقع على خريطة العالم مناطق إنتاج كل من البترول والفحم .
- يعدد مصادر الطاقة النظيفة في العالم .
- يستنتج العلاقة بين الموارد المعدنية وقيام النشاط التعدين في العالم .

قضايا متضمنة

- حسن استخدام الموارد وتنميتها .

النشاط التعدينى

هو استخراج المعادن ومصادر الطاقة من فحم وبتترول وغاز طبيعى من باطن الأرض أو بالقرب من السطح . ويرتبط هذا النشاط بوجود الخام بكميات وفيرة قريبة من المراكز الصناعية ؛ حيث يتم نقله من المناجم إلى المصانع .

- وتسبق عملية التعدين عمليات البحث والكشف عن الخامات ثم إعداد المنجم لعملية التعدين والاستخراج ؛ مثل مد الخطوط الحديدية والطرق وإنشاء مساكن للعاملين ثم مرحلة الإنتاج والنقل والتوزيع .

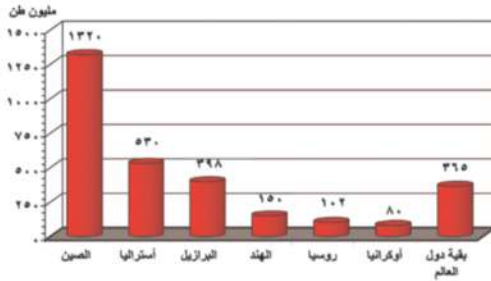
مطلوبة إثرائية

كان هنرى بيسمر أول من ابتكر طريقة لتصنيع الصلب من الحديد عام ١٨٥٥م وتحويل الحديد إلى صلب فى أفران خاصة .

أولاً: الموارد المعدنية

تحتوى قشرة الأرض على العديد من المعادن التى يبلغ عددها نحو ٢٠٠ معدن ، إلا أن نحو ٢٠ معدن فقط عرفت على المستوى التجارى والصناعى ، وفيما يلى أهم المعادن :

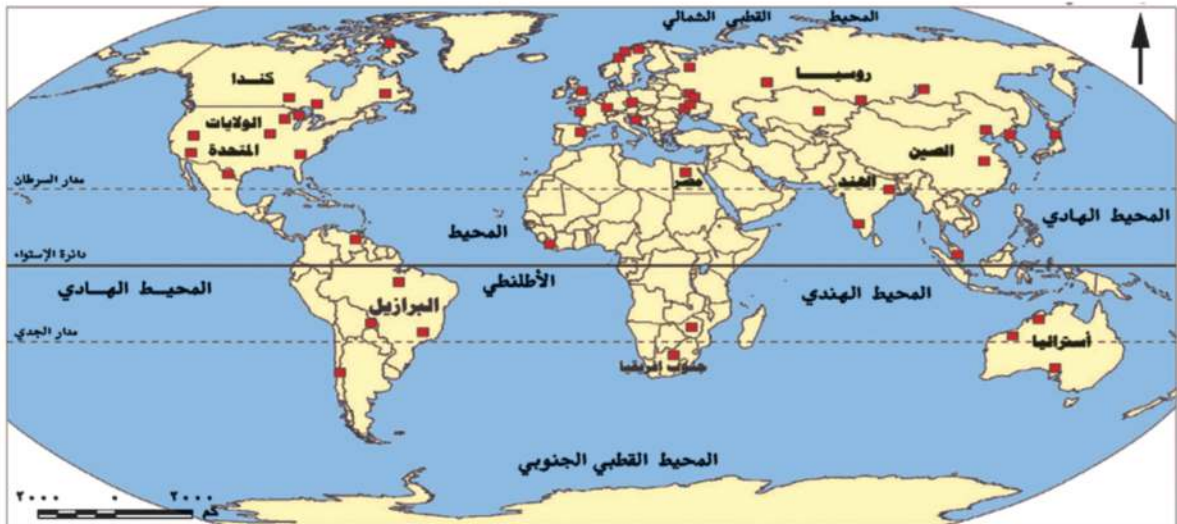
الحديد



- يعد من أهم المعادن المستخدمة فى الصناعة وقد عرف الإنسان استخدامه منذ آلاف السنين .
- يوجد الحديد فى جميع قارات العالم ، لاحظ الخريطة (٦) ، والرسم البيانى شكل (٧) وناقش معلمك فى الدول المنتجة وكمية الإنتاج .

شكل (٧) رسم بيانى للدول الرئيسة المنتجة للحديد فى العالم لعام (٢٠١٢)

- تعد الصين أولى دول العالم إنتاجاً للحديد تليها استراليا وتصدر الدول النامية مثل موريتانيا خام الحديد إلى الدول الصناعية المتقدمة مثل اليابان وبريطانيا ، حيث يدخل نحو ٣٠٪ من الإنتاج العالمى للحديد فى التجارة الدولية .



خريطة (٦) مناطق إنتاج الحديد فى العالم

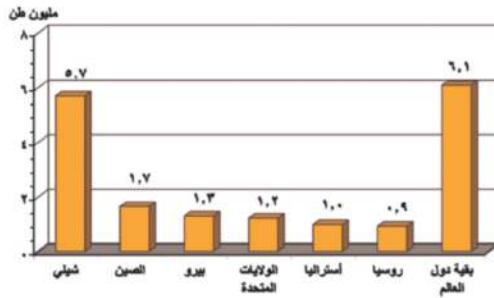
■ النحاس

يستخدم النحاس في كثير من الصناعات مثل الأسلاك والأدوات الكهربائية .



خريطة (٧) مناطق إنتاج النحاس

لاحظ الخريطة (٧) والرسم البياني (٨) حدد مع معلمك الدول المنتجة للنحاس وكمية الإنتاج .



شكل (٨) رسم بياني الدول الرئيسة المنتجة للنحاس (عام ٢٠١٢)

- يتركز إنتاجه التجاري في عدد من دول العالم أهمها شيلي وأمريكا الجنوبية والصين في آسيا.

■ البوكسيت (خام الألومنيوم)

يعد البوكسيت الخام الرئيس لمعدن الألومنيوم ، ويصدر من الدول النامية المنتجة له إلى الدول المتقدمة التي تقوم

بصناعة الألومنيوم ، حيث تتوفر بها مقومات صناعته من طاقة

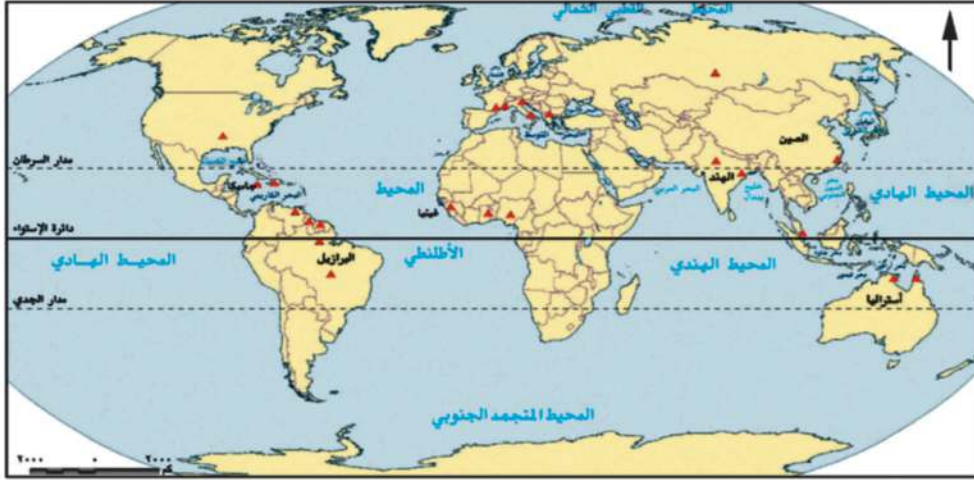
كهربائية وخبرة علمية وفنية متطورة وسوق محلية وخارجية ليستوعب الإنتاج .

- تعد أستراليا أولى دول العالم إنتاجًا له.

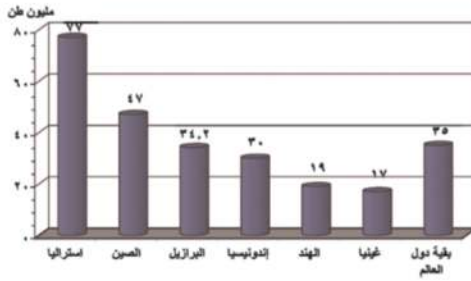
- لاحظ الخريطة (٨) والرسم البياني (٩) ثم حدد مع معلمك أهم الدول المنتجة للبوكسيت وكمية الإنتاج .

معلومة إثرائية

المصريون والمعادن : عرف المصريون النحاس منذ القدم وخططوه بالزنك للحصول على النحاس الأصفر ، كما حصلوا على البرونز من خلال خططه بالقصدير .



خريطة (٨) مناطق إنتاج البوكسيت



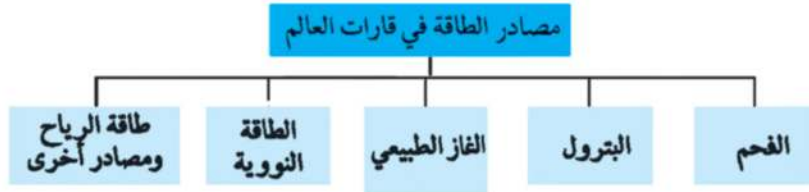
شكل (٩) رسم بياني الدول الرئيسية المنتجة للبوكسيت لعام (٢٠١٣)

- تعد الولايات المتحدة الأمريكية أكبر دول العالم إنتاجًا للألمونيوم رغم قلة إنتاجها من البوكسيت - ناقش معلمك ؟ ، كما يصنع الألمونيوم في كندا، وأستراليا، واليابان. وتوجد معادن أخرى مثل المنجنيز والفوسفات واليورانيوم والذهب.

تستهلك الدول المتقدمة نحو ٨٥٪ من معادن العالم رغم أن بها نحو خمس سكان العالم (ناقش معلمك)

ثانياً : مصادر الطاقة في العالم (القوى المحركة)

عزيزي التلميذ، مصادر الطاقة هي القوى المحركة لحياة الإنسان في جميع مجالات حياته ، كما أنها من الموارد الطبيعية المهمة التي لا غنى عنها ، سواء على مستوى الصناعة أو على مستوى الاستخدامات البشرية المختلفة . وتتعدد مصادر الطاقة ، تعرفها من الشكل التالي :



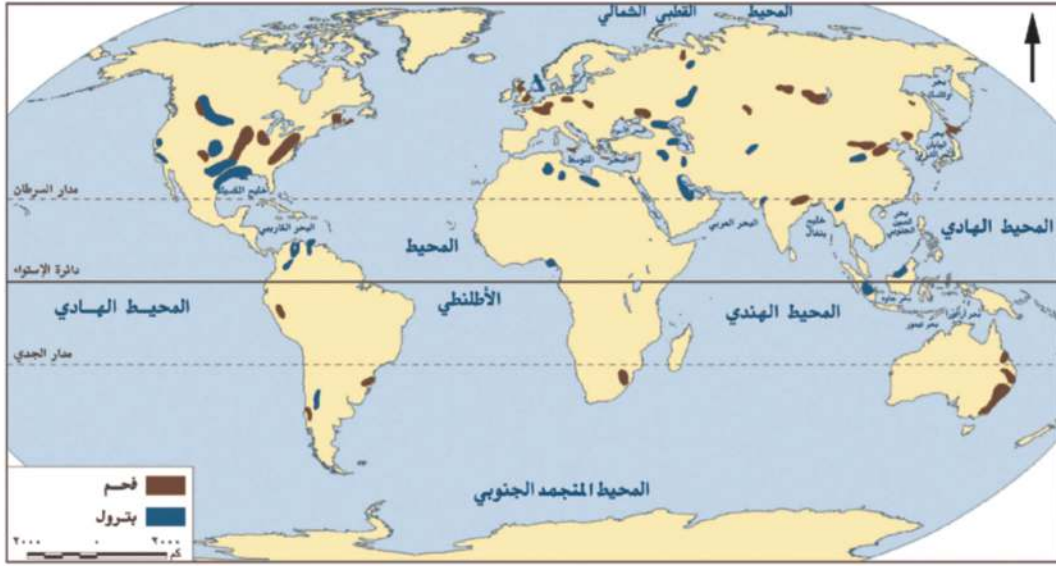
وسوف نتعرض الآن لدراسة أهم هذه المصادر ومناطق انتشارها :

■ الفحم

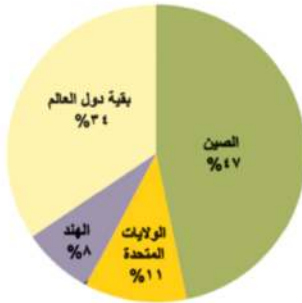
- احتل الفحم المصدر الأول والرئيس للطاقة المستخدمة في العالم حتى أوائل القرن العشرين ، وكان يشكل عماد الثورة الصناعية في أوروبا في أواخر القرن ١٨ الميلادي .
- ومازال الفحم يُستخدم كمصدر رئيس في الصناعة في الدول الصناعية الكبرى ، كما يستخدم في توليد الكهرباء وغيرها .

معلومة إثرائية

- عبارة عن بقايا أشجار وشجيرات كانت موجودة منذ ملايين السنين ثم جفت وانظمرت تحت التكوينات الصخرية ، ونتيجة للحرارة والضغط تحولت إلى مادة كربونية سوداء ، وهي المعروفة بالفحم الحجري .



خريطة (٩) المناطق المنتجة للفحم والبتترول في العالم



شكل (١٠) رسم بياني للدول المنتجة للفحم عام ٢٠١٣م



أحد حقول البترول

- يوجد الفحم في كل قارات العالم وتعد قارة آسيا وقارة أوروبا أكبر قارتين إنتاجاً للفحم (أكثر من ثلاثة أرباع $\frac{3}{4}$) إنتاج العالم) وتليهما أمريكا الشمالية.
- نستنتج من الرسم البياني أن :
- الصين أكبر دول العالم إنتاجاً للفحم تليها الولايات المتحدة الأمريكية.

البتترول

معلومة إثرائية

نشأ البترول عن تحلل كائنات عضوية كانت تعيش في البحار تجمعت بكميات كبيرة جداً وغطتها رواسب الطين والرمل وتحللت ثم تحولت إلى البترول والذي يتم تكريره في معامل تنتج مشتقاته مثل البنزين والسولار.

ويعد البترول أهم مصادر الطاقة ، لارتباطه بالتنمية الاقتصادية والاجتماعية ، وبالعلاقات السياسية ، حيث يشكل مع الغاز الطبيعي نحو ٥٥٪ من الطاقة المستخدمة في العالم.

معلومة إثرائية

- حفر أول بئر لاستخراج البترول في العالم في الولايات المتحدة عام ١٨٥٩ م .
- وتعد مصر أقدم دولة عربية اكتشف بها البترول، واستخرج عام ١٩١١ م تليها العراق . وتسهم الدول العربية المطلة على الخليج العربي بنحو ٤٧٪ من التجارة الدولية للبترول والغاز الطبيعي .

- نظرًا لزيادة الطلب عليه وتعدد استخداماته فإن أسعاره في زيادة مستمرة خاصة وهو من نوع الموارد القابلة للنفاذ .
- تمثل المملكة العربية السعودية المركز الأول في الإنتاج العالمي من البترول وتليها روسيا ثم الولايات المتحدة الأمريكية .

الغاز الطبيعي

معلومة إثرائية

- غازات موجودة في باطن الأرض داخل مسام الصخور وقد توجد بشكل منفصل أو تكون مصاحبة لوجود البترول وعادة ما تملأه بسبب خفة وزنها . يبلغ إنتاج العالم من الغاز الطبيعي نحو ٣٤ تريليون قدم مكعب عام ٢٠١٣ م

- يعد من مصادر الطاقة الأقل تلوثًا والرخيصة في العالم، وأصبح يستخدم على نطاق واسع في الصناعة والاستخدامات المنزلية وفي توليد الطاقة الكهربائية، وكذلك كوقود للسيارات بديلاً للبنزين للحد من تلوث البيئة ويمثل في الوقت الحاضر نحو ٢٥٪ من مصادر الوقود في العالم .

- وينتج بكميات ضخمة في دول العالم خاصة الدول المنتجة للبترول
- تعد قارة أوروبا أولى قارات العالم إنتاجاً له حيث تنتج نحو ثلث الإنتاج العالمي .
- وتعد الولايات المتحدة الأمريكية أولى الدول في الإنتاج العالمي ، وقد توسع العالم في استخدامه كبديل لمصادر الطاقة الأخرى وذلك لرخص ثمنه وسهولة نقله وعدم تلويثه البيئة .

معلومة إثرائية

- يرجع استخدام الكهرباء إلى منتصف القرن ١٩ الميلادي .
- يبلغ الإنتاج العالمي من الكهرباء، نحو ٢٣ مليار كيلو / وات / ساعة .

- يستخدم كل من الفحم والبترول والغاز الطبيعي في إنتاج الكهرباء الحرارية، بينما تستخدم الشلالات والسدود والأمواج وحركة المد والجزر في توليد الكهرباء المائية (الكهرومائية) .

الطاقة النووية

- يتم إنتاج الكهرباء النووية من المحطات النووية السلمية.
- تعد أوروبا أولى قارات العالم إنتاجاً للطاقة النووية تليها أمريكا الشمالية.

طاقة الرياح

- كذلك ولدت الطاقة الكهربائية من الرياح في بعض الدول المتقدمة مثل فرنسا وبريطانيا والولايات المتحدة الأمريكية .
- وتوجد خمس دول عربية تولد الطاقة الكهربائية من الرياح تتقدمها مصر، تليها المغرب .

معلومة إثرائية

الدول الخمس العربية التي تستخدم الرياح لتوليد الكهرباء هي مصر، والمغرب، وتونس، والأردن، وسوريا.

مصادر أخرى للطاقة

- وتنتج الكهرباء من الأمواج وحركة المد والجزر في بعض الدول المتقدمة مثل: بريطانيا وفرنسا واليابان.
- وتتجه بعض الدول منها مصر للبحث عن مصادر جديدة نظيفة للطاقة مثل الطاقة الشمسية لتوليد الكهرباء الشمسية للاستخدامات المنزلية .

توجه إلى الموقع الإلكتروني للوزارة لحل الأنشطة والتدريبات على الدرس



الوحدة الأولى

الدرس الرابع

النشاط الصناعي في العالم

أهداف الدرس

من المتوقع بعد الانتهاء من الدرس أن يكون التلميذ قادرًا على أن:

- يتعرف المراكز الرئيسية للصناعة على خريطة العالم.
- يعدد أنواع الصناعات الرئيسية في العالم.
- يقارن بين الدول المتقدمة والدول النامية من حيث مدى توافر مقومات الصناعة.
- يوقع على خريطة العالم الصماء المراكز الرئيسية للصناعة في العالم.

خرائط ورسوم

- خريطة الأقاليم الصناعية الكبرى.

معلومة إثرائية عن

- الاتحاد الأوروبي.

قضايا متضمنة

- البيئة : حمايتها وتجميلها والمحافظة عليها.
- العولمة.
- التربية من أجل السلام.

عزيزى التلميذ، يعد النشاط الصناعى قمة الأنشطة الاقتصادية المتطورة ، ورغم وجود الصناعة فى دول عديدة من العالم إلا أنها تختلف فيما بينها إما فى نوعية الصناعة هل هى خفيفة أو ثقيلة، وكذلك تتفاوت فى مدى تركزها وجودتها .

وتعد الصناعة الحديثة مقياساً رئيساً لتطور الشعوب وازدهارها . وعادة ما تكون الدول المتقدمة هى الدول التى تطورت فيها الصناعة تطوراً مذهباً أخذ به الأساليب العلمية وتطبيق الأبحاث والتجارب العلمية فى الاختراع وتطوير المنتجات الصناعية وتحديثها بشكل مستمر .

■ مقومات الصناعة :

مقومات طبيعية: تتمثل فى توفر المواد الخام (معدنية- زراعية - حيوانية) ومصادر الطاقة اللازمة؛ والموقع المتميز.

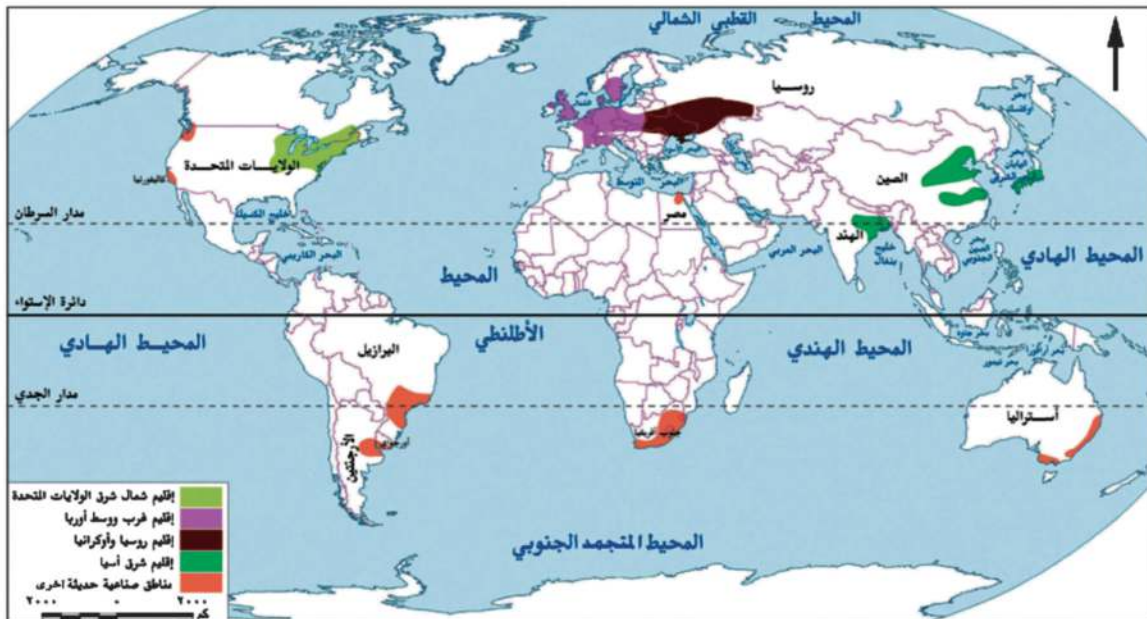
مقومات بشرية: تتمثل فى توفر الأيدي العاملة الماهرة، والتطور العلمى وتوفر الأسواق ورأس المال والسياسات الحكومية وكلها تلعب دوراً كبيراً فى قيام الصناعة وازدهارها .

■ الأقاليم الصناعية الرئيسية فى العالم:

على المستوى العالمى تتركز الصناعة فى الدول المتقدمة والقليل من الدول النامية التى ارتفعت بمستوى شعوبها واقتربت من مستوى الدول المتقدمة؛ كالصين وجنوب إفريقيا ومصر .

وتتمثل الأقاليم الصناعية الرئيسية فى العالم فى خمس مناطق رئيسة هى :

لاحظ الخريطة (١٠) وحددها :



خريطة (١٠) للأقاليم الصناعية الكبرى

معلومة إثرائية

الاتحاد الأوربي ، هو تجمع اقتصادي وسياسي مهم
أنشأ في عام ١٩٥٢م من تجمع ٦ دول أوربية، ثم
زاد عدد الدول المنضمة إليه ليبلغ ٢٨ دولة عام
٢٠١٤م.

تستنتج من الخريطة أن الأقاليم الصناعية الرئيسية هي :

■ إقليم غرب ووسط أوروبا الصناعي

- توجد في هذا الإقليم مراكز صناعية عديدة في دول مثل بريطانيا وفرنسا وألمانيا .

- وتتوفر في دول أوروبا بشكل عام مقومات الصناعة ، وقد أدت

الوحدة الاقتصادية الأوربية إلى التكامل في الجوانب الاقتصادية والصناعية وحمايتها جمركياً وتدعيمها من جانب هيئة الاتحاد الأوربي .

■ إقليم شمال شرق الولايات المتحدة الصناعي

- هو أكبر الأقاليم الصناعية في العالم الجديد ، ويشمل البحيرات العظمى، وتنوع الصناعات في هذا الإقليم من صناعات هندسية مثل الإلكترونيات والسيارات والأدوات الكهربائية ، وصناعات خفيفة واستهلاكية مثل الصناعات الغذائية والنسيجية وغيرها.

■ إقليم روسيا وأوكرانيا الصناعي

- يمتد هذا الإقليم في كل من روسيا وأوكرانيا ، وتبدو في شكل مناطق متباعدة أهمها مركز الصناعة في إقليم موسكو وما حولها وإقليم الأورال.

■ إقليم شرق آسيا الصناعي

- توجد مناطق صناعية في دول هذا النطاق الصناعي خاصة الجزيرة اليابانية (هانشو) وجمهورية كوريا ومناطق صناعية عديدة بالصين .

■ مراكز صناعية حديثة أخرى

- جنوب شرق آسيا (ماليزيا - سنغافورة - إندونيسيا - تايلاند) - أمريكا الشمالية - (كندا - المكسيك) - أستراليا - أمريكا الجنوبية (البرازيل - الأرجنتين - شيلي) - إفريقيا (مصر - دولة جنوب إفريقيا) - الصناعات البترولية في دول الخليج العربي .

توجه إلى الموقع الإلكتروني للوزارة لحل الأنشطة

والتدريبات على الدرس



أهداف الوحدة

في نهاية دراسة هذه الوحدة يتوقع أن يكون التلميذ قادرًا على أن :

- يميز بين دول العالم النامي والمتقدم.
- يحدد الموقع الجغرافي لبعض دول العالم النامي والمتقدم.
- يوزع تضاريس هذه الدول على الخريطة.
- يقارن بين الأقاليم المناخية التي تسود هذه الدول.
- يوقع مناطق النبات الطبيعي بهذه الدول على الخريطة.
- يفسر أسباب تركيز السكان في الأقاليم المختلفة بهذه الدول.
- يفسر أسباب تنوع الأنشطة الاقتصادية بهذه الدول.
- يعدد أهم المشكلات الاقتصادية في بعض دول العالم.
- يشرح مجالات التنمية الاقتصادية لهذه الدول.
- يستخلص أسباب التقدم الاقتصادي في دول العالم المتقدم.
- يستنتج الدروس المستفادة من تجارب بعض دول العالم المتقدم.
- يوقع أهم مدن هذه الدول على الخريطة.
- يقدر جهود بعض شعوب هذه الدول من أجل التقدم.

دروس الوحدة

الدرس الأول: جمهورية الهند



الدرس الثاني: جمهورية البرازيل الاتحادية



الدرس الثالث: جمهورية نيجيريا الاتحادية



الدرس الرابع: ألمانيا الاتحادية



الدرس الخامس: الولايات المتحدة الأمريكية



■ تترك الحرية لكل محافظة في اختيار دراسة ثلاث دول فقط على أن تكون باقي الدول للقراءة.

الوحدة الثانية

الدرس الأول

جمهورية الهند



أهداف الدرس

من المتوقع بعد الانتهاء من الدرس أن يكون التلميذ قادرًا على أن :

- يحدد الموقع الفلكي والجغرافي للهند .
- يوزع تضاريس الهند على الخريطة .
- يقارن بين الأقاليم المناخية التي تسود الهند .
- يوقع مناطق النبات الطبيعي على الخريطة .
- يفسر تركيز السكان في الأقاليم المختلفة .
- يفسر تنوع الأنشطة الاقتصادية الزراعية والصناعية في الهند .
- يحدد أهم مدن الهند على الخريطة .
- يقدر جهود الشعب الهندي في تنمية بلاده والنهوض بها .

القضايا المتضمنة

- حُسن استخدام الموارد .

خرائط

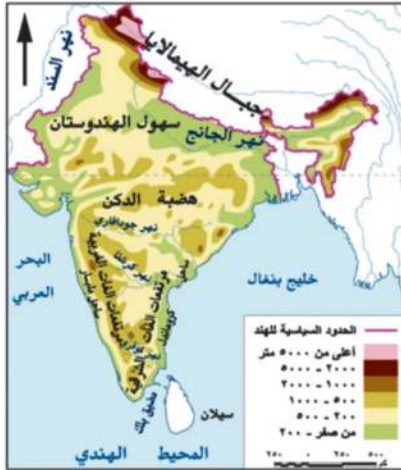
- خريطة موقع الهند وأهم مدنها .
- خريطة تضاريس الهند .

معلومات إثرائية عن

- صناعة البرمجيات .
- الهند في أرقام .
- قطع الأشجار .
- عدد سكان نيودلهي .



خريطة (١١) لموقع الهند وأهم مدنها



خريطة (١٢) لتضاريس الهند

جمهورية الهند - إحدى دول قارة آسيا - شهدت تطورات هائلة في المجالات الاقتصادية والسياسية ... هيا بنا نتعرف الكثير عنها ...

الموقع الفلكي و الجغرافي و المساحة

اقرأ الخريطة (١١) لتتعرف أن جمهورية الهند :

عبارة عن شبه جزيرة تحيط بها المياه من جميع الجهات عدا الشمال .

- تمتد بين دائرتي عرض ٨ - ٢٥ شمالاً وبين خطي طول ٦٨ و ٩٧ شرقاً.

- يحدها من الشمال نيبال والصين وبوتان

- ومن الشمال الشرقي ميانمار

- ومن الشمال الغربي باكستان

- ومن الشرق والجنوب الشرقي خليج البنغال

- ومن الغرب والجنوب الغربي البحر العربي

- أما دولة بنجلاديش فتقع بكاملها داخل حدود دولة الهند

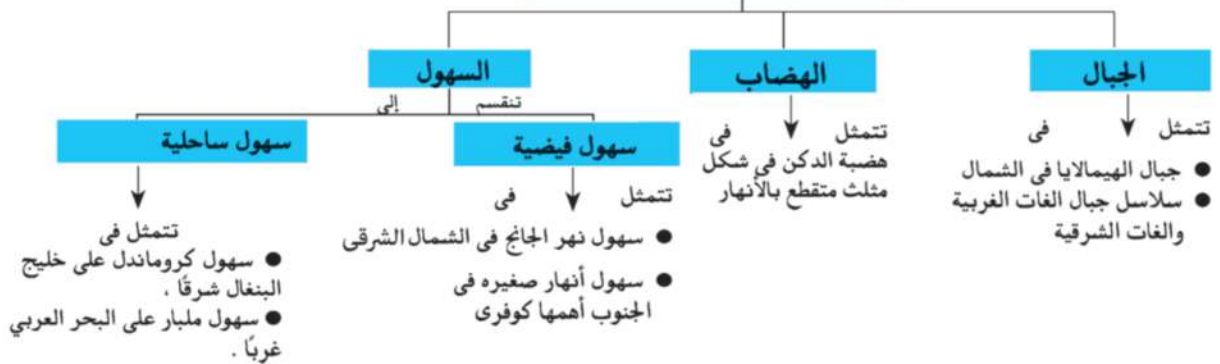
- ويتضح من الخريطة أن الهند تظهر على شكل مثلث رأسه في

الجنوب وتبلغ مساحتها حوالي ٣,٢ مليون كم^٢

التضاريس

بملاحظة الخريطة (١٢) نجد أن

أقسام تضاريس الهند



المناخ و النبات الطبيعي

- يزيد المتوسط السنوي للحرارة على ٣٠ ° وتقل بالاتجاه نحو الشمال ، والأمطار موسمية صيفية غزيرة في الجنوب وتقل بالاتجاه نحو الشمال .
- تنمو الغابات الموسمية على السواحل الغربية والشرقية بينما تنمو حشائش قصيرة على هضبة الدكن .

مطلومة إثرائية

- تهدد عملية قطع الأشجار بانقراض بعض الأنواع ، ومن الأنواع المعرضة لهذا الخطر أشجار التيك وهي من أفضل الأشجار الاستوائية المعروفة وأعلاها قيمة من الناحية الاقتصادية .
- تعد المنحدرات الجنوبية لجبال الهيمالايا أغزر مناطق العالم مطراً .

السكان

- تعد الهند ثاني دول العالم سكاناً بعد الصين، ويتركز سكانها في السهول الساحلية والفيضية حيث المدن الرئيسية مثل نيودلهي ومومباي.
- واجهت الهند المشكلة السكانية بسياسات تنموية مختلفة أهمها الاهتمام بالتعليم وتطوير البحث العلمي الذي أدى إلى تطوير الزراعة والصناعة .

مطلومة إثرائية

- تنتج الهند ٢١ مليون طن من الذرة الشامية و ٩٥ مليون طن من القمح، و ٧,٢ مليون طن محاصيل نسيجية حيث تنتج ٥,٣ مليون طن قطن و ١,٩ مليون طن من الجوت، و ٣,٢ مليون طن من الأرز

الموارد و الأنشطة الاقتصادية

- تتوفر الموارد الاقتصادية بالهند سواء كانت موارد زراعية أو ثروات معدنية ، حيث توجد مساحات واسعة من الأرض الزراعية التي تعتمد على المطر وأخرى على مياه الأنهار .

المحاصيل الزراعية

- تنتج الهند محاصيل زراعية تشمل حبوباً غذائية ومحاصيل سكرية ومحاصيل نسيجية وزيتية ، وزاد الإنتاج منها بكميات كبيرة خلال السنوات الأخيرة ، «تأكد من فهمك وارجع إلى الدرس الأول بالوحدة الأولى» .

الثروة الحيوانية والسمكية

- توجد بالهند ثروة حيوانية ضخمة بسبب كثرة المراعى حيث يوجد بها أكثر من ٢٢٠ مليون رأس عدد من الأبقار في العالم وإن كانت قيمتها الاقتصادية محدودة وذلك بسبب تحريم الديانة الهندوسية أكل لحوم الأبقار، كما يوجد بها أعداد كبيرة من الجاموس والأغنام .
- تعد من الدول الرئيسية المنتجة للأسمك ، حيث تطل على خلجان بجبهات ساحلية طويلة .

■ الثروة المعدنية ومصادر الطاقة

توجد بالهند ثروات معدنية ومصادر طاقة كثيرة أهمها : الفحم وهي ثالث دول العالم إنتاجاً له وتوجد مناجمه فى هضبة الدكن ويعد أساس صناعة الحديد والصلب .

- تفتقر للبتروك ومصادر الطاقة الأخرى لذا لجأت للطاقة النووية والكهربائية .

معلومة إثرائية

بدأت صناعة البرمجيات وتكنولوجيا المعلومات فى الهند فى عام ١٩٨٥ وإذا كان لدى بلدان الشرق الأوسط البترول فإن لدى الهند رجال تكنولوجيا البرمجيات ، ولا يسبق الهند فى هذا المجال سوى الولايات المتحدة الأمريكية . وتستطيع الهند أن توفر ٦٠ ألف مبرمج كل عام .

■ الصناعة فى الهند

شهدت الهند قفزات سريعة فى تطور الصناعة بسبب توفر مقومات الصناعة بها ، وأهمها صناعة السيارات والإلكترونيات والآلات بجانب المنسوجات والصناعات الغذائية والكىماوية وغيرها .

■ أهم مدن الهند

نيودلهى: العاصمة السياسية للهند ، وتتميز بوجود الجامعات والمراكز الصناعية والمعالم التاريخية المهمة .

مومباى: أهم مدن الساحل الغربى وهى من أكبر الموانئ والعاصمة التجارية للهند ومن أكبر المدن الصناعية بها .

حيدر أباد: بهضبة الدكن وهى من أكبر مراكز الصناعات اليدوية ، وتضم المدينة العديد من المراكز الإسلامية .

معلومة إثرائية

- يزيد عدد سكان نيودلهى عن ٨ ملايين نسمة وبومباى عن ١٢ مليون نسمة

■ العلاقات المصرية الهندية

- تشهد العلاقات المصرية الهندية نمواً كبيراً على كافة الأصعدة السياسية والاقتصادية والثقافية والعلمية .
- تصدر مصر إلى الهند القطن والأسمدة الخام و المصنعة والجلود والفوسفات ، وتستورد مصر من الهند غزل القطن والسمسم والشاى والتوابل وقطع غيار وسائل النقل وغيرها .

توجه إلى الموقع الإلكتروني لوزارة لحل الأنشطة والتدريبات على الدرس



الوحدة الثانية

الدرس الثاني

جمهورية البرازيل الاتحادية



أهداف الدرس

من المتوقع بعد الانتهاء من الدرس أن يكون التلميذ قادرًا على أن:

- يحدد الموقع الفلكي والجغرافي للبرازيل.
- يحدد تضاريس البرازيل على الخريطة.
- يقارن بين الأقاليم المناخية التي تسود البرازيل.
- يوقع مناطق النبات الطبيعي على خريطة البرازيل.
- يستنتج أسباب تركيز السكان في الأقاليم المختلفة.
- يفسر أسباب تنوع الأنشطة الاقتصادية الزراعية والصناعية في البرازيل.
- يوزع أهم مدن البرازيل على خريطة صماء لها.

معلومات إثرائية عن

- اكتشاف البرازيل.
- فرض الضرائب
- لصيانة الغابات.
- مدينة ساو باولو

خرائط

- خريطة موقع البرازيل وأهم مدنها.
- خريطة تضاريس البرازيل.

القضايا المتضمنة

- حسن استخدام الموارد وتنميتها.
- الحفاظ على البيئة وحمايتها.

مطلوبة إثرائية

يرجع اكتشاف البرازيل إلى سنة ١٥٠٠م عندما اكتشفها البحار البرتغالي (بيدرو ألفاريز كابرال)، وتدفع البرتغاليون عليها وأبادوا السكان الأصليين وجلبوا الرقيق من إفريقيا ثم أنشئ الرق سنة ١٨٨٨م وأعلنت البرازيل جمهورية في العام التالي .



خريطة (١٣) لموقع البرازيل وأهم مدنها



خريطة (١٤) تضاريس البرازيل

البرازيل : هي أكبر دول قارة أمريكا الجنوبية مساحةً ؛ حيث تحتل وحدها حوالي نصف مساحة هذه القارة ، كما أنها أكثر دول أمريكا الجنوبية سكاناً .
والآن أين تقع البرازيل على خريطة العالم ؟ وكم تبلغ مساحتها ؟

الموقع الفلكي و الجغرافي و المساحة

نلاحظ من الخريطة (١٣) أن البرازيل :

- تمتد بين دائرتي عرض ٥° شمالاً و ٣٣° جنوباً كما تمتد بين خطي طول ٣٥° - ٧٤° غرباً
- يحدها عدد كبير من الدول : (جيانا وفنزويلا وسورينام وجويانا وكولومبيا، أوروغواي وباراجواي والأرجنتين وبيرو وبوليفيا)

ومن الشرق والشمال الشرقي المحيط الأطلنطي

- تبلغ مساحتها أكثر من ٨,٥ مليون كم^٢ .

التضاريس

بالنظر إلى الخريطة (١٤) نلاحظ أن سطح البرازيل ينقسم إلى :

- ١- الهضاب : يسود المظهر الهضبي الأراضي البرازيلية وتشمل هضبة البرازيل في الجنوب وبعض الهضاب في الشمال .
- ٢- السهول : تشمل السهول الفيضية المتمثلة في سهول نهر الأمازون والسهول الساحلية الضيقة على المحيط الأطلنطي .

المناخ و النبات الطبيعي

أ- المناخ

الموقع الفلكي للبرازيل جعل معظمها يقع في المناطق الاستوائية والمدارية ؛ لذا :

- يسود المناخ الاستوائي شديد الحرارة طوال العام في حوض الأمازون والسهل الساحلي الشمالي .
- تسود الظروف المناخية المدارية الحارة السهول الشرقية وهضبة البرازيل .
- يسود المناخ المعتدل الرطب في أقصى جنوب شرقي البرازيل .

ب . النبات الطبيعي

- تسود الغابات الاستوائية في حوض الأمازون وهي أكبر غابة استوائية في العالم .
- تنمو حشائش السافانا فوق هضبة البرازيل ، وحشائش المعتدلة في أطرافها الجنوبية .

السكان

- يعد سكان البرازيل خليطاً من معظم الأجناس ، فهناك السكان الأصليون للبلاد (الهنود الحمر) وكذلك العناصر السوداء ذات الأصول الإفريقية والأوروبيون .
- يبلغ عدد سكان البرازيل نحو ٢٠٣ مليون نسمة لعام ٢٠١٤ م ، يمثلون نصف عدد سكان قارة أمريكا الجنوبية ، ومع ذلك تعاني البرازيل من قلة عدد السكان بسبب مساحتها الواسعة ووجود مناطق تكاد تكون شبه خالية ، مثل سهول الأمزون .
- يتركز السكان في الساحل الجنوبي الشرقي حيث المدن الرئيسية (انظر أهم مدن البرازيل) .
- أنشئت عدة مدن لتعمير هضبة البرازيل وإعادة توزيع السكان نحو الداخل ، أهمها برازيليا ، وميناووس التي على نهر الأمزون .

النشاط الاقتصادي

يتنوع النشاط الاقتصادي في البرازيل ؛ ويشمل :

الزراعة وقطع الأشجار

- يعمل بالزراعة أكثر من ربع القوى العاملة بالبلاد .
- الأراضي الزراعية تشغل حوالي ٢٪ من مساحتها معظمها في جنوب البلاد .
- تشتهر بإنتاج محاصيل زراعية عديدة ، فهي أولى دول العالم إنتاجاً للبن وقصب السكر . «تأكد من فهمك وارجع إلى الدرس الأول بالوحدة الأولى» .
- يتم قطع أشجار الغابات الاستوائية والمدارية وتصنيع أخشابها .

معلومة إثرائية

مدينة ساو باولو : من أشهر مدن البن في العالم حيث يوجد بها ٢٠ ألف مصنع للبن ، كما أنها السوق الأولى لتصدير البن في العالم .

معلومة إثرائية

أدت إجراءات فرض الضرائب على إزالة الغابات في البرازيل إلى حماية وصيانة الغابات وما تملكه البرازيل من التنوع الإحيائي (حيث تملك أكثر من ٢٠٪ من التنوع الإحيائي النباتي الموجودة في العالم) علماً بأن الغابات هي مصدر عالمي لتنقية الهواء .

■ الرعى وصيد الأسماك

- يمثل الرعى حرفة مهمة في الاقتصاد البرازيلي ، فالمرعى الدائمة تقع في الشمال من هضبة البرازيل .
- تمتلك البرازيل ثروة حيوانية كبيرة ، لذا تعد من الدول الرئيسة المنتجة والمصدرة للحوم .
- تعد البرازيل من الدول المنتجة للأسماك نظراً لامتلاكها سواحل طويلة على المحيط الأطلنطي والبحر الكاريبي مع وجود نهر الأمزون .

■ الثروة المعدنية

- توجد بالبرازيل ثروة معدنية كبيرة يقوم عليها نشاط التعدين ؛ وأهم هذه المعادن الحديد والبوكسيت والمنجنيز .

■ الصناعة فى البرازيل

- كانت تقتصر فى الماضى على الصناعات الغذائية والمنسوجات والصناعات الكيماوية ، أما الآن فقد ظهرت بها الصناعات الثقيلة كصناعة الحديد والصلب والسيارات والطائرات والآلات الكهربائية والأسمنت وغيرها .
- تتركز الصناعة فى الجنوب الشرقى قرب مدينة ساو باولو وريودى جانيرو وغيرهما من المدن الرئيسة .

■ أهم مدن البرازيل

- **برازيليا العاصمة:** هى العاصمة الجديدة وتعد أهم المدن البرازيلية .
- **ريودى جانيرو:** هى العاصمة القديمة للبرازيل ، وتعد واحدة من أجمل مدن العالم .
- **ساو باولو:** وهو أهم الموانئ بالبرازيل وتقع على المحيط الأطلنطي، وتشتهر بمبانيها الضخمة وشواطئها الرملية الواسعة.

■ العلاقات المصرية البرازيلية

- تربط مصر والبرازيل علاقات قديمة تمتد إلى القرن التاسع عشر الميلادى. وهناك اهتمام بتوسيع نطاق التبادل التجارى بين البلدين ، وتصدر مصر إلى البرازيل، الأقطان، والمواد الغذائية، والأثاث، والمنسوجات، والأسمدة، وتستورد مصر من البرازيل الحبوب الغذائية خاصة الزيتية، والسكر، والمعادن، وخاصة الحديد، واللحوم، والبن .

توجه إلى الموقع الإلكتروني للوزارة لحل

الأنشطة والتدريبات على الدرس



الوحدة الثانية

الدرس الثالث

جمهورية نيجيريا الاتحادية

أهداف الدرس

من المتوقع بعد الانتهاء من الدرس أن يكون التلميذ قادرًا على أن:

- يحدد الموقع الفلكي والجغرافي لنيجيريا.
- يوزع تضاريس نيجيريا على الخريطة.
- يقارن بين الأقاليم المناخية التي تسود نيجيريا.
- يوزع مناطق النبات الطبيعي والحيوان على خريطة صماء.
- يفسر أسباب تركيز السكان في الأقاليم المختلفة في نيجيريا.
- يفسر تنوع الأنشطة الاقتصادية الزراعية والصناعية في نيجيريا.
- يوقع أهم مدن نيجيريا على الخريطة.

معلومات إثرائية عن

- سكان نيجيريا.
- أبوجا.
- نيجيريا في أرقام.
- إنتاج القصدير
- والبترو.

القضايا المتضمنة

- حسن استخدام
- الموارد وتنميتها.

خرائط

- خريطة موقع نيجيريا
- وأهم مدنها.
- خريطة تضاريس
- نيجيريا.

نيجيريا: إحدى دول غرب إفريقيا، استقلت عن بريطانيا وأصبحت دولة اتحادية، وتضم ١٢ ولاية تبعاً للقبائل التي تعيش فيها ولكن بدأت تتداخل القبائل مع بعضها البعض.. تعالوا معنا لتعرف الكثير عن نيجيريا.

الموقع الفلكي و الجغرافي و المساحة

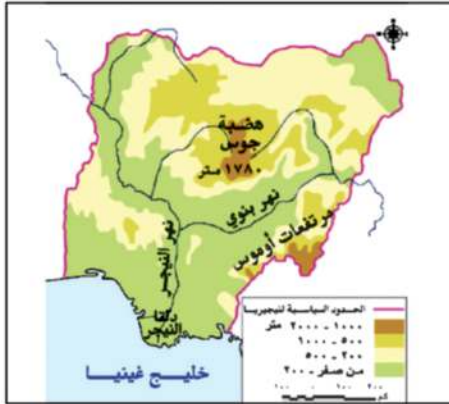


خريطة (١٥) لموقع نيجيريا وأهم مدنها

نستنتج من الخريطة (١٥) أن نيجيريا:

- تمتد بين دائرتي عرض 4° - 14° شمالاً وبين خطي طول 3° - 14° شرقاً.
- يحدها من الشمال النيجر، ومن الغرب دولة بنين، ومن الشرق تشاد والكامرون، ومن الجنوب المحيط الأطلنطي (خليج غينيا)
- تبلغ مساحتها ٩٢٤ ألف كيلومتر مربع.

التضاريس



خريطة (١٦) تضاريس نيجيريا

نستنتج من الخريطة (١٦) أن تضاريس نيجيريا تنقسم إلى:

- الهضاب: تتمثل في هضبة جوس التي ترتفع إلى ١٧٨٠ متر، وتقع وسط السهول الشمالية.
- التلال: عبارة عن أراضٍ مرتفعة تلي السهول الساحلية وتزداد ارتفاعاً في الشمال الغربي.
- السهول: - تنقسم إلى:

- سهول ساحلية منخفضة على خليج غينيا حيث ينتهي نهر النيجر في دلتا واسعة.
- سهول فيضية كونتها الأنهار وتعرف بالسهول الشمالية ويجري بها نهر النيجر وتعتمد عليه في الري والزراعة.

المناخ و النبات الطبيعي

- يقع معظم نيجيريا في نطاق المناخ المدارى حيث الحرارة المرتفعة والمطر الصيفى بينما الأطراف الجنوبية تقع في نطاق المناخ الاستوائى حيث المطر طوال العام .
- تغطي الغابات الاستوائية والمدارية الجزء الجنوبي لنيجيريا بينما تنمو حشائش السافانا في شمالها .

السكان

- يبلغ عدد سكان نيجيريا نحو ١٧٨ مليون نسمة وذلك عام ٢٠١٤ م.
- تعد أولى دول إفريقيا من حيث عدد السكان .
- يتركز السكان في الغرب ، وكذلك في السهول الشمالية وفي هضبة جوس حيث الأراضي الزراعية والمراعي ومناطق التعدين .
- بينما يقل عدد السكان في دلتا النيجر بسبب كثافة الغابات والظروف المناخية القاسية .

معلومة إثرائية

سكان نيجيريا، يتكون سكان نيجيريا من أكثر من ٢٥٠ مجموعة عرقية مختلفة.

الموارد والأنشطة الاقتصادية

تتنوع الموارد الاقتصادية خاصة الموارد الزراعية والموارد الغابية والثروات المعدنية والبتترول، ومع ذلك يعد اقتصاد نيجيريا اقتصاداً نامياً ويعتمد على الزراعة في المقام الأول.

ابحث واجمع

بالاستعانة بشبكة المعلومات الدولية اجمع معلومات عن أساليب التنمية الاقتصادية في نيجيريا ولخص ما توصلت إليه.

معلومة إثرائية

نيجيريا في أرقام

تنتج نيجيريا،
٤,٨ مليون طن أرز
٩,٤ مليون طن ذرة شامية
٦٠٠ ألف طن فول سودانى
٣٠٠ ألف طن كاكاو
٩٥٠ ألف طن نخيل الزيت
١٤٤ ألف طن مطاط

الموارد الزراعية

- أكثر من نصف أراضي نيجيريا صالح للزراعة والرعي، ولكن المساحة المستغلة بالفعل لا تتجاوز ١٥٪ من المساحة الكلية، وبعد الإقليم الغربي أهم مناطق نيجيريا في الإنتاج الزراعي .
- وتغطي الغابات نحو ثلث مساحة نيجيريا ، وتعد مصدراً للأخشاب .

أهم المحاصيل الزراعية

- يزرع في الجنوب : - المطاط : تعتبر أولى دول أفريقيا إنتاجاً له - الأرز : يزرع في دلتا نهر النيجر وتعد ثاني دولة إفريقية إنتاجاً له بعد مصر .
- يزرع في الوسط والشمال كل من الذرة الشامية والذرة الرفيعة والكاكاو والفول السوداني ونخيل الزيت .

الرعي وصيد الأسماك

- الإنتاج الحيواني : توجد في نيجيريا أعدادًا كبيرة من الأبقار والأغنام والماعز، حيث مراعي حشائش السافانا .
- وتنتج نيجيريا كميات كبيرة من الأسماك حيث تتمتع بساحل طويل على خليج غينيا وبها أنهار وبحيرات بالداخل .

الثروة المعدنية ومصادر الطاقة

- توجد ثروات معدنية في نيجيريا أهمها :
- القصدير ويستخرج من هضبة جوس .
- الفحم في المنطقة الشرقية .
- البترول وتنتج نيجيريا منه كميات كبيرة، فقد وصل الإنتاج إلى نحو ٣٪ من الإنتاج العالمي ، ويستخرج من المنطقة القريبة من الساحل في الجنوب الشرقي .

معلومات إثرائية

- تنتج نيجيريا نحو ٢٠٠ ألف طن من القصدير
- بدأ إنتاج نيجيريا للبترول منذ ١٩٦٠ م

الصناعة في نيجيريا

ورغم امتلاكها لثروات زراعية وموارد معدنية بجانب البترول، إلا أن الصناعة بها ليست متطورة أو متنوعة، ومن الصناعات الموجودة بها الغزل والنسيج وتكرير البترول والصناعات الكيماوية وبعض الصناعات الغذائية .

أهم مدن نيجيريا

أبوجا: العاصمة وهي مدينة داخلية حديثة.

لاجوس: العاصمة القديمة وأكبر المدن النيجيرية، وأكثرها تكدسًا بالسكان، وتعتبر العاصمة الاقتصادية للبلاد . ومن المدن الشهيرة أيضًا في نيجيريا **إيبادان** التي تأتي في المركز الثاني بعد لاجوس ، وهي مركز للتجارة والتعليم والمواصلات.

معلومات إثرائية

أبوجا: أعلنت الحكومة عام ١٩٧٦ م تحويل العاصمة الاتحادية من لاجوس إلى أبوجا التي تقع في وسط البلاد، وبدأ العمل في إنشائها منذ أوائل الثمانينيات من القرن العشرين وأصبحت العاصمة عام ١٩٩١ م.

العلاقات المصرية النيجيرية

- توجد علاقات قوية بين البلدين وتقوم مصر بتصدير الأسمدة والمعدات الثقيلة والأسلاك النحاسية والإطارات والمحولات الكهربائية ومواسير الألومنيوم وتنحصر الواردات المصرية في السلع الزراعية وأهمها الحبوب الزيتية.

توجه إلى الموقع الإلكتروني للوزارة لحل

الأنشطة والتدريبات على الدرس



الوحدة الثانية

الدرس الرابع

ألمانيا الاتحادية



أهداف الدرس

من المتوقع بعد الانتهاء من الدرس أن يكون التلميذ قادراً على أن :

- يحدد الموقع الفلكي والجغرافي لألمانيا .
- يوزع تضاريس ألمانيا الاتحادية على الخريطة .
- يقارن بين الأقاليم المناخية التي تسود ألمانيا .
- يحدد مناطق النبات الطبيعي في ألمانيا .
- يفسر أسباب تركيز السكان على الأودية وفي المدن الكبرى .
- يقيم الأنشطة الاقتصادية في ألمانيا .

معلومة إثرائية عن

- جزر الفريزيا .
- سكان ميونخ .
- هامبورج .

خرائط

- خريطة موقع ألمانيا
- وأهم مدنها .
- خريطة تضاريس ألمانيا .

قضايا متضمنة

- حسن استخدام الموارد .

تعد ألمانيا الاتحادية من أكثر دول العالم تقدماً ، حيث تعد من الدول الاقتصادية الأولى في العالم . **فأين تقع ألمانيا وما الخصائص الطبيعية والبشرية التي تميزها ؟** تعالوا نتعرف عليها

الموقع الفلكي و الجغرافي و المساحة

تقع ألمانيا في غرب القارة الأوروبية ، بين دائرتي عرض ٤٧° و ٥٥° شمالاً وبين خطي طول ٦° - ١٤° شرقاً بمساحة تبلغ ٣٥٧ ألف كم^٢.

يحدها من الشمال: بحر الشمال والدنمارك والبحر البلطي ، ومن الجنوب: النمسا وسويسرا ، ومن الشرق: بولندا والتشيك ، ومن الغرب: فرنسا ولوكسمبورج وبلجيكا وهولندا لاحظ خريطة (١٧) .

التضاريس

تتنوع تضاريس السطح في ألمانيا ، وتتكون من الشمال ، إلى الجنوب من الأقاليم الآتية لاحظ الخريطة (١٨) :

■ **السَّهْل الألماني الشمالي:** ويُعد من أكبر الأقاليم في ألمانيا ، وهو جزء من السَّهْل الأوروبي العظيم الخصب ، حيث يبدأ في الشمال بالسهول الساحلية وتجري خلاله الأنهار التي تُصب في بحر الشمال ، ومن أهم هذه الأنهار الألب ، والراين ، وتنتشر المستنقعات في الشمال قرب الساحل .

■ **المُرتفعات الوُسطي:** وهي هضاب متقطعة تفصل بينها سهول خصبة تجري فيها أنهار تتجه نحو الشمال ، وتغطي بالغابات المخروطية وتكثر بها التلال والينابيع المائية التي تعد مناطق جذب للسياح .

جبال الألب

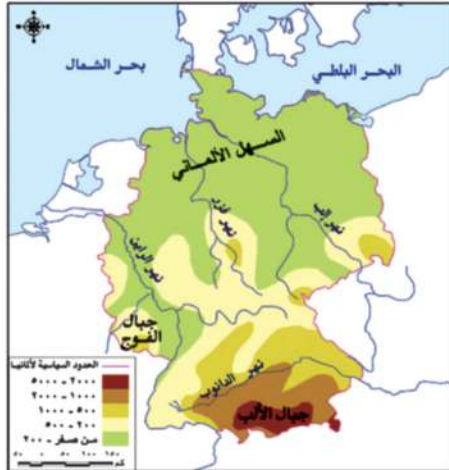
وهي جزء من جبال الألب الأوروبية تقطعها الأنهار وتوجد بها أعلى القمم الجبلية بألمانيا تكسوها الجليد وتنمو على منحدراتها الغابات المخروطية والنفضية .



خريطة (١٧) موقع ألمانيا وأهم مدنها

مطلوثة اثرائية

تقع أمام الساحل البحري بعض الجزر الصغيرة تعرف بجزر الفريزيا .



خريطة (١٨) تضاريس ألمانيا

المناخ و النبات الطبيعي

- يسود بها مناخ غرب أوروبا الممطر طول العام خاصة في الشمال متأثراً بالمحيط الأطلنطي وبحر الشمال.
- الصيف معتدل وترتفع درجة الحرارة بالاتجاه نحو الشرق.
- الشتاء تهبط فيه درجة الحرارة إلى ما دون الصفر المئوي خاصة في الداخل.
- بالنسبة للنبات الطبيعي تغطي الغابات نحو ثلث مساحة ألمانيا وأهمها الغابات النفضية، والغابات المخروطية، وتسود في مناطق الجبال والهضاب وتعد مصدرًا للأخشاب.
- وتنتشر الحشائش بالسَّهل الساحلي وقد انكمشت لإحلال الزراعة محلها والتوسع العمراني.

السكان

- يبلغ عدد سكان ألمانيا نحو ٨١ مليون نسمة عام ٢٠١٤ وتعد من أكبر الدول الأوروبية سكاناً.
 - يتركز السكان في المدن الكبرى والمناطق الصناعية وفي الأودية على جوانب الأنهار.
- « ناقش معلمك في أسباب تركيز السكان في تلك المناطق »

الأنشطة الاقتصادية

تتعدد الأنشطة الاقتصادية في ألمانيا، ووصلت إلى مركز متقدم عالمي، وتتمثل فيما يلي:

أولاً: الزراعة

- تنتشر في السهل الشمالي والأودية النهرية وتعتمد على التكنولوجيا الحديثة، ويعمل بها نحو ٣٪ من القوى العاملة.
- ومن أهم المحاصيل القمح والشعير والبنجر.
- تربي الماشية والخنازير والأغنام لإنتاج اللحوم والألبان، وتربي في مناطق الحشائش وفي الحظائر بأساليب علمية.

ثانياً: الصناعة

- الصناعة هي العمود الفقري للاقتصاد الألماني حيث يعمل بها نحو ثلث القوى العاملة.
- توسعت الصناعة الألمانية توسعاً كبيراً بعد الحرب العالمية الثانية، وتطورت لتوافر مقومات الصناعة بالإضافة إلى تدفق الاستثمار وتوافر المراكز العلمية المتقدمة.
- تتميز الصناعة الألمانية بالجودة والتنوع وأهم هذه الصناعات : صناعة الحديد والصلب والسيارات والمنسوجات والسفن والصناعات الإلكترونية والكهربائية.

أهم مدن ألمانيا

- برلين:** العاصمة السياسية للدولة ويبلغ عدد سكانها نحو ٣,٤ مليون نسمة.
- ميونخ:** عاصمة إقليم بافاريا جنوباً وبها مقر عدد من الشركات والمصانع الألمانية العالمية.
- هامبورج:** أهم موانئ ألمانيا، وهي قريبة من بحر الشمال .

معلومات إضافية

- يبلغ عدد سكان ميونخ ١,٤ مليون نسمة
- يوجد مقر شركة B.M.W للسيارات في ميونخ .
- يبلغ عدد سكان هامبورج ١,٨ مليون نسمة .

العلاقات المصرية الألمانية

- توجد علاقات ثقافية وعلمية بين البلدين تتمثل في هيئة التبادل العلمي الألمانية والمركز الثقافي الألماني والجامعة الألمانية بالقاهرة ومعهد الآثار الألماني وغيرها.
- توجد العلاقات الاقتصادية مثل تمويل ألمانيا لمحطات توليد الكهرباء من الرياح في مصر . وتصدر مصر إلى ألمانيا البترول والغاز الطبيعي والملابس وغيرها من المنتجات . وتستورد مصر من ألمانيا الصناعات الكيماوية والآلات والسيارات وغيرها.

توجه إلى الموقع الإلكتروني للوزارة لحل الأنشطة والتدريبات على الدرس



الوحدة الثانية

الدرس الخامس

الولايات المتحدة الأمريكية



أهداف الدرس

من المتوقع بعد الانتهاء من الدرس أن يكون التلميذ قادرًا على أن:

- يحدد الموقع الفلكي والجغرافي للولايات المتحدة.
- يوزع تضاريس الولايات المتحدة على الخريطة الصماء.
- يقارن بين الأقاليم المناخية التي تسود الولايات المتحدة.
- يحدد مناطق النبات الطبيعي في الولايات المتحدة.
- يعدد أسباب تركيز السكان في الأقاليم المختلفة في الولايات المتحدة الأمريكية.
- يستخلص أسباب تنوع الأنشطة الاقتصادية الزراعية والصناعية.
- يحدد أهم مدن الولايات المتحدة على الخريطة.

معلومات إثرائية عن

- البحيرات العظمى.
- إقليم نيو إنجلند.
- نصيب المواطن الأمريكي.

قضايا متضمنة

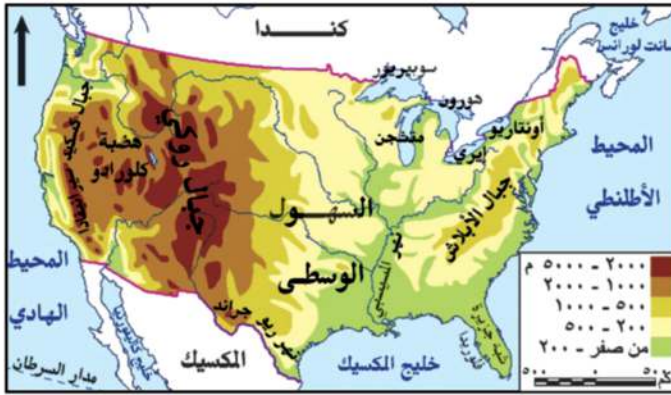
- حسن استخدام الموارد وتنميتها.

خرائط

- خريطة موقع الولايات المتحدة الأمريكية.
- خريطة ولاية الأسكا وولاية هاواي.
- خريطة تضاريس الولايات المتحدة الأمريكية.

تعد الولايات المتحدة الأمريكية القوة الاقتصادية الأولى في العالم وأول الدول الصناعية السبع وهي الدولة الرابعة في العالم من حيث المساحة، بعد روسيا وكندا والصين، (تعالوا لتتعرف الكثير عنها ...).

الموقع الفلكي والجغرافي و المساحة

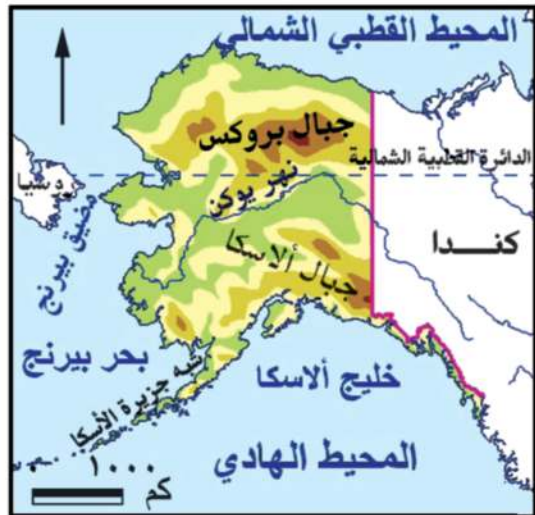


خريطة (١٩) موقع الولايات المتحدة الأمريكية

انظر الخريطة (١٩) ولاحظ أن الولايات المتحدة الأمريكية:

- تقع في قارة أمريكا الشمالية، بين دائرتي عرض ٢٥° و ٤٩° شمالاً وبين خطي طول ٦٧° - ١٢٥° غرباً.
- يحدها من الشمال كندا، ومن الجنوب خليج المكسيك ودولة المكسيك، ومن الشرق المحيط الأطلسي، ومن الغرب المحيط الهادئ.

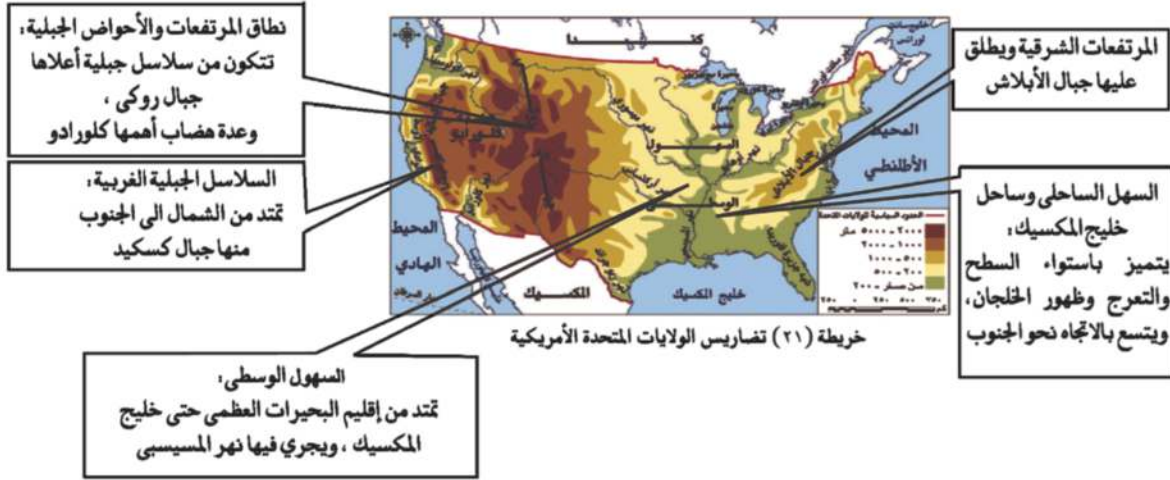
- تتكون من ٥٠ ولاية منها ولاية هاواي وهي مجموعة من الجزر تقع في وسط المحيط الهادئ وولاية ألاسكا في أقصى الشمال الغربي؛ انظر الخريطة (٢٠) وتبلغ مساحة الولايات المتحدة الأمريكية ٩,٤ مليون كم^٢.



خريطة (٢٠) ولاية ألاسكا وولاية هاواي .

التضاريس

انظر إلى الخريطة (٢١) ولاحظ أن: تضاريس الولايات المتحدة تتنوع من الشرق إلى الغرب على النحو الآتي:



المناخ و النبات الطبيعي

أدى اتساع مساحة الولايات المتحدة وتنوع تضاريسها إلى تنوع المناخ واختلافه من منطقة إلى أخرى.

المناخ شبه المداري الحار مع أمطار غزيرة طوال العام:

ويشمل الساحل الجنوبي الشرقي ودلتا نهر المسيسيبي وهذا الإقليم يتأثر بالأعاصير المدارية المدمرة وتنتشر به غابات الإقليم الصيني .

مناخ السهول الوسطى:

تختلف الخصائص المناخية للسهول الوسطى من منطقة إلى أخرى نظراً لاتساعها وامتدادها من الشمال إلى الجنوب، وتختلف به أنواع النباتات من حشائش في الوسط وغابات في أقصى الجنوب.

مناخ الإقليم الجبلي والهضبي في الغرب:

تقل الأمطار في الأحواض الجنوبية حيث صحراء أريزونا الحارة الجافة ، وتنتشر بها الأعشاب الصحراوية. تتسم المرتفعات الشمالية الغربية بالأمطار الغزيرة والحرارة المنخفضة، وتنتشر بها الحشائش والنباتات الجبلية .

معلومة إثرائية

البحيرات العظمى هي بحيرات عذبة وعددها خمس ؛ وهي متشجن - هورن - أنتاريو - سوبريور - آيري

السكان

- يبلغ عدد سكان الولايات المتحدة حوالي ٣١٨ ملايين نسمة في ٢٠١٤ م، ثلثي السكان يعيش في المدن وثلث في الريف .
- يتركز ٥٠٪ منهم في إقليم نيو إنجلاند بالمنطقة الشمالية الشرقية الذي يمثل نحو ١٢٪ فقط من المساحة الكلية للدولة وتعتبر المنطقة الأكثر اكتظاظاً بالسكان وذلك لوجود المدن الكبرى مثل نيويورك وأيضاً المناطق الصناعية والتجارية الكبرى .
- كما يتركز السكان في السهول الوسطي حول البحيرات العظمى وفي السهول الفيضية لنهر المسيسيبي ودلتاه .
- ترتفع الكثافة السكانية في كثير من السواحل الغربية حيث المناطق الصناعية والمدن الكبرى مثل سان فرانسيسكو ولوس أنجلوس ، وكذلك المناطق الزراعية الخصبة .
- يقل عدد السكان بنطاق المرتفعات والأحواض الغربية، وذلك بسبب الظروف الطبيعية الصعبة، كما يقل عدد السكان في ألاسكا بسبب برودة الجو .

معلومة إثرائية

يقصد بإقليم نيو إنجلاند الإقليم الشمالي الشرقي المكون من ١٣ ولاية منها نيويورك وكنتاكي وهي ولاية متقدمة للغاية وكانت البداية لتكون دولة الولايات المتحدة الأمريكية .

الموارد والأنشطة الاقتصادية

تتمتع الولايات المتحدة الأمريكية بموارد طبيعية متنوعة، مما أدى إلى تعدد الأنشطة الاقتصادية وضخامة الإنتاج .
وفيما يلي نتعرف على هذه الأنشطة الاقتصادية :

النشاط الزراعي

توجد بالولايات المتحدة أراض زراعية خصبة واسعة حيث سهول المسيسيبي في الوسط والمناطق الزراعية في الجنوب الشرقي وفي الوادي الأوسط بكاليفورنيا وعلى جوانب المرتفعات، وتعتمد على التكنولوجيا الحديثة في الزراعة .
«ناقش معلمك في مركز الولايات المتحدة في إنتاج المحاصيل الزراعية من خلال الدرس الأول بالوحدة الأولى»

الإنتاج الحيواني و السمكي

- تربي الولايات المتحدة أعداد كبيرة من الأبقار والأغنام والخنازير لإنتاج اللحوم تصدر جزء منها للخارج بالإضافة إلى إنتاج الألبان والجلود .
- توجد ثروة سمكية كبيرة بالولايات المتحدة بسبب وقوعها على محيطين كبيرين الي جانب وجود الأنهار والبحيرات .

معلومة إثرائية

يبلغ نصيب المواطن الأمريكي سنوياً نحو :
١٨ كجم أسماك - ٢٢٩ كجم قمح
٦٥ كجم لحوم - ٥٢ كجم دواجن

النشاط الصناعي

- تعد الولايات المتحدة القوة الصناعية الأولى في العالم، حيث تتوفر بها كل مقومات الصناعة.
- تنتج الولايات المتحدة كميات كبيرة من المعادن ومصادر الطاقة (أكد معلوماتك بالرجوع إلى الدرس الثالث بالوحدة الأولى).
- تساهم بحصص مرتفعة من الإنتاج العالمي في عدد من الصناعات كصناعة السيارات والصلب والألومنيوم،
- فتننتج ثلث الإنتاج العالمي من الصناعات الكهربائية والإلكترونية.
- تحتل المرتبة الأولى عالمياً في صناعة الطيران وصناعة سفن الفضاء والأقمار الصناعية.
- تضم الولايات المتحدة الأمريكية مناطق صناعية رئيسة كالآتي تتمثل في :
 - **منطقة الشمال الشرقي:** وتضم نطاق المدن الصناعية الكبرى منها منطقة البحيرات العظمى.
 - **منطقة الجنوب:** وتشمل مدناً صناعية من أهمها برمنجهام.
 - **الغرب الساحلي:** ويضم مدناً صناعية أهمها سان فرانسيسكو.

أهم مدن الولايات المتحدة

- **واشنطن:** العاصمة السياسية وتطل على المحيط الأطلنطي .
- **نيويورك :** وهى ميناء هام وتطل على المحيط الأطلنطي وفيها مقر الأمم المتحدة.
- **شيكاغو:** أكبر مدن السهول الوسطي وتقع على بحيرة متشجن .
- **سان فرانسيسكو:** أكبر الموانئ الأمريكية على ساحل المحيط الهادي.

العلاقات المصرية الأمريكية

- تعد العلاقات المصرية الأمريكية من العلاقات القوية وتوجد اتفاقيات بين البلدين في إطار التعاون الاقتصادي والتكنولوجي والثقافي والعلمي، وتوجد اتفاقيات تجارية بين البلدين منها اتفاقية منطقة التجارة الحرة واتفاقية المناطق الصناعية المؤهلة (الكويز). وتستورد مصر من الولايات المتحدة منتجات تكنولوجية حديثة وأسلحة وطائرات وغيرها.

« ناقش مع معلمك اتفاقية الكويز »

توجه إلى الموقع الإلكتروني للوزارة لحل الأنشطة

والتدريبات على الدرس



أهداف الوحدة

في نهاية دراسة هذه الوحدة يتوقع أن يكون التلميذ قادرًا على أن :

- يصف أحوال مصر قبل قيام ثورة ٢٣ يوليو ١٩٥٢م.
- يتعرف نشأة ومراحل تطور القضية الفلسطينية.
- يحدد الموقف العربي من قرار تقسيم فلسطين عام ١٩٤٧م.
- يقارن بين نتائج حرب ١٩٤٨م، ونتائج هزيمة يونيو ١٩٦٧م.
- يصف أحداث حرب أكتوبر ١٩٧٣م وموقف الدول العربية أثناء الحرب على الجبهتين المصرية والسورية.
- يستخلص الدروس المستفادة من نتائج حرب أكتوبر ١٩٧٣م.
- يفسر موقف مصر وسياساتها تجاه حل الصراع العربي الإسرائيلي (معاهدة السلام).
- يقيم موقف كل من الدول العربية والمواقف الإقليمية والدولية من قضية السلام وحل الصراع العربي الإسرائيلي.
- يتعرف أسباب وأهداف ثورة ٢٥ يناير ٢٠١١م وأهم أحداثها.
- يقدر دور الشعوب في صناعة الأحداث والوقائع التاريخية.
- يفسر قيام ثورة ٣٠ يونيو ٢٠١٣م.

دروس الوحدة

الدرس الأول: ثورة يوليو ١٩٥٢م



الدرس الثاني: مصر والقضية الفلسطينية



الدرس الثالث: حرب أكتوبر ١٩٧٣م



الدرس الرابع: مصر والنزاع العربي الإسرائيلي



الدرس الخامس: ثورة ٢٥ يناير ٢٠١١م و ٣٠ يونيو ٢٠١٣م



الوحدة الثالثة

الدرس الأول

ثورة ٢٣ يوليو ١٩٥٢م

أهداف الدرس

من المتوقع بعد الانتهاء من الدرس أن يكون التلميذ قادرًا على أن:

- يربط بين الأحوال السياسية والاجتماعية والاقتصادية في مصر قبل الثورة وبين أسباب قيام ثورة ٢٣ يوليو ١٩٥٢م.
- يحلل الأحوال السياسية والاجتماعية والاقتصادية على اعتبار أنها مقدمات لثورة ٢٣ يوليو ١٩٥٢م.
- يستخلص أسباب قيام ثورة ٢٣ يوليو ١٩٥٢م.
- يصف أحداث ثورة ٢٣ يوليو ١٩٥٢م.
- يحدد مطالب الجيش من الملك فاروق.
- يربط بين أهداف ثورة ٢٣ يوليو ١٩٥٢م وإنجازاتها.
- يقدر أهمية الدور الوطني لبعض الشخصيات والرموز.

معلومات إثرائية عن

- أهم ما جاء في بيان الثورة.
- أقوال مأثورة.

قضايا متضمنة

- التربية من أجل
- المواطنة.
- الديمقراطية.
- المساواة.

مفاهيم اتعلمها

- عدم الانحياز.

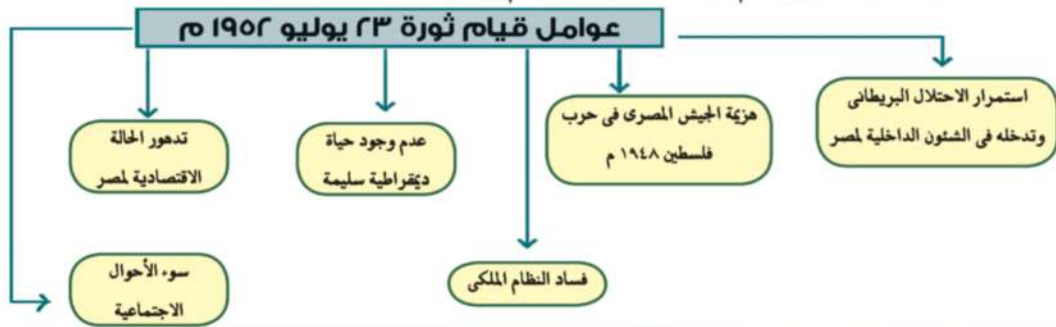


عزيزي التلميذ/ عزيزتي التلميذة:

اختلفت الكتابات وتعددت الآراء حول ثورة ٢٣ يوليو ١٩٥٢م، إذ يرى بعض المؤرخين أنها تكتسب أهمية كبيرة لما تركته من آثار على أغلب الحركات التحررية في المنطقة العربية بشكل خاص وفي العالم بشكل عام، ولما أسهم به قادتها من تأسيس لحركات دولية منها على سبيل المثال حركة عدم الإنحياز والحياد الإيجابي . ويرى آخرون أنها لم تبدأ عندما أسس جمال عبدالناصر تنظيم الضباط الأحرار، أو عندما سيطرت قيادة الثورة على مقرات الجيش والإذاعة المصرية، إنما كان هذا التحرك مكملاً لنضال طويل وممتد لشعب مصر، الذي ثار ضد الفساد والاحتلال وسوء الحكم منذ الثورة العرابية وثورة ١٩١٩م وحتى قيام ثورة ٢٣ يوليو ١٩٥٢م.

أولاً : - عوامل قيام ثورة ٢٣ يوليو ١٩٥٢م:

تجمعت عدة عوامل وأدت إلى قيام ثورة ٢٣ يوليو ١٩٥٢م، وهي:



١- استمرار الاحتلال البريطاني و تدخله في الشؤون الداخلية لمصر



النحاس يوقع معاهدة ١٩٣٦م

كان الهدف من قيام ثورة ٢٣ يوليو التخلص من الاحتلال البريطاني بعد أن ثبت أن معاهدة ١٩٣٦م لم تؤد إلى الاستقلال الحقيقي للبلاد، وظهر ذلك بوضوح عندما حاصرت قوات الاحتلال قصر عابدين في فبراير ١٩٤٢م لإجبار الملك فاروق على تعيين مصطفى النحاس باشا رئيساً للحكومة.

٢- هزيمة الجيش المصري في حرب فلسطين ١٩٤٨م

كان الجيش المصري في مقدمة الجيوش العربية التي شاركت في حرب ١٩٤٨م بفلسطين ولكنه هُزم لأسباب عديدة منها : دعم الولايات المتحدة وبريطانيا لإسرائيل وعدم استعداد العرب للحرب عسكرياً.

٣- فساد النظام الملكي

تمثل فساد النظام الملكي في الاستبداد بالحكم وانتشار الرشاوي كما حدث في صفقة الأسلحة الفاسدة.

اعلم أن

التضحية والفداء من أجل الوطن والاستشهاد في سبيل رفعة وتقدمه وصيانة كرامته واجب وطني.

مطلوبت إثرائية

أقوال مأثورة :

- البطل الشهيد أحمد عبدالعزيز (إن ميدان الجهاد الحقيقي في مصر)
- الزعيم جمال عبدالناصر (إن فلسطين لن تتحرر إلا بتحرير مصر).

٤- عدم وجود حياة ديمقراطية سليمة

كان لفساد النظام الملكي وخضوع مصر للاحتلال البريطاني إلى جانب فساد الأحزاب أثر كبير في زيادة الصراع بينهم من أجل الوصول للحكم.

٥- تدهور الحياة الاقتصادية لمصر

أدى توقيع معاهدة ١٩٣٦ م إلى جعل مصر ميداناً لمعارك الحرب العالمية الثانية، واستنزاف موارد البلاد لخدمة بريطانيا وحلفائها، وأرهقت الحرب الاقتصاد المصري وزادت معاناة أفراد الشعب.

٦- سوء الأحوال الاجتماعية

كان للصراعات السياسية بين الأحزاب، أثراً كبيراً في تدهور الحياة الاجتماعية، كما كان لظاهرة الإقطاع وسوء توزيع الأرض الزراعية دور في جعل فئة صغيرة تملك وتستبد، وتفشت ظاهرة الفقر والجهل والمرض. وبعد أن تعرفنا عوامل قيام ثورة ٢٣ يوليو تعال معنا نتعرف أحداثها :-

ثانياً :- أحداث ثورة ٢٣ يوليو ١٩٥٢ م :

١- تنظيم الضباط الأحرار :

أدى استمرار الاحتلال البريطاني وفساد الأوضاع في مصر إلى قيام مجموعة من ضباط الجيش المصري بتأسيس تنظيمًا عُرف باسم (الضباط الأحرار)، ورأوا ضرورة القيام بثورة للقضاء على الفساد وتحرير واستقلال الوطن من الاحتلال البريطاني.

عمل هؤلاء الضباط في سرية تامة، وخططوا لإعلان الثورة بعد أن نظموا صفوفهم، وتحركوا في صباح ٢٣ يوليو ١٩٥٢ م، وسيطروا على المواقع المهمة في القاهرة والإسكندرية.

٢- بيان الثورة :

ملزمة إثرائية

أهم ما جاء في بيان الثورة: لقد اجتازت مصر فترة عصيبة في تاريخها الأخير من الرشوة والفساد وعدم الاستقرار للحكم، وقد كان لكل هذه العوامل تأثير كبير على الجيش، وقد تسبب المرتشون والمغرضون في هزيمتنا في حرب فلسطين، وأما فترة ما بعد الحرب فقد تضافرت فيها عوامل الفساد وتآمر الخونة على الجيش، وتولى أمره إما جاهل أو فاسد حتى أصبح مصر بلا جيش يحميها، وعلى ذلك فقد قمنا بتطهير أنفسنا، وتولي أمرنا في داخل الجيش رجال نثق في قدرتهم وفي خلقهم وفي وطنيتهم. ولابد أن مصر كلها ستتلقى هذا الخبر بالابتهاج والترحيب..

وانى أؤكد للشعب المصري أن الجيش كله أصبح يعمل لصالح الوطن في ظل الدستور مجرداً من أى غاية.

بعد أن أصبحت القاهرة بأكملها تحت سيطرة قوات الثورة، وفي الساعة السابعة والنصف من صباح ٢٣ يوليو ١٩٥٢م أذيع البيان الأول للثورة من دار الإذاعة المصرية باسم اللواء محمد نجيب القائد العام للقوات المسلحة بصوت محمد أنور السادات - والذي بموجبه أصبح اللواء محمد نجيب مسيطراً على جميع قطاعات الجيش المصري .

ناقش مع معلمك ما ورد في البيان لصالح الوطن .



محمد أنور السادات



جمال عبد الناصر



محمد نجيب



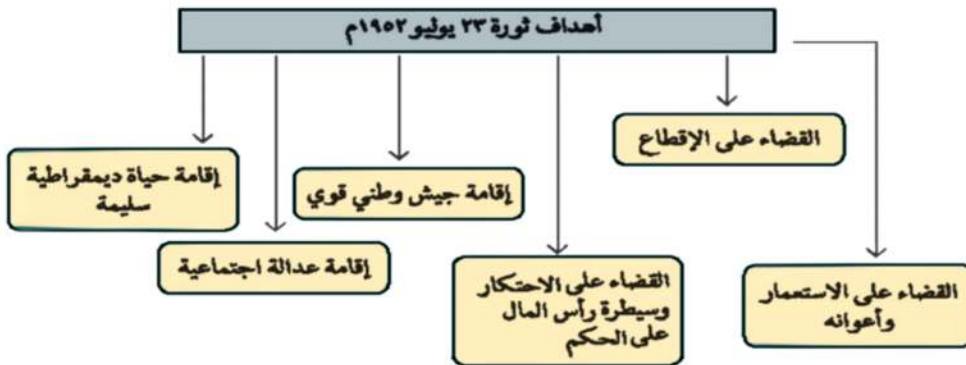
مغادرة الملك فاروق لمصر

٣- مطالب الثورة من الملك فاروق :

تمثلت فيما يلي :

- تنازل الملك عن العرش لابنه الصغير (أحمد فؤاد الثاني).
- مغادرة الملك البلاد قبل الساعة السادسة من مساء يوم ٢٦ يوليو ١٩٥٢ م.
- وقد وافق الملك فاروق على مغادرة البلاد هو وأسرته قبل الموعد الذي تم تحديده لأنه كان يدرك أن الجيش والشعب يكرهان حكمه ، كما أن الإنجليز قد تخلوا عنه .

ثالثًا :- أهداف ثورة ٢٣ يوليو ١٩٥٢ م.

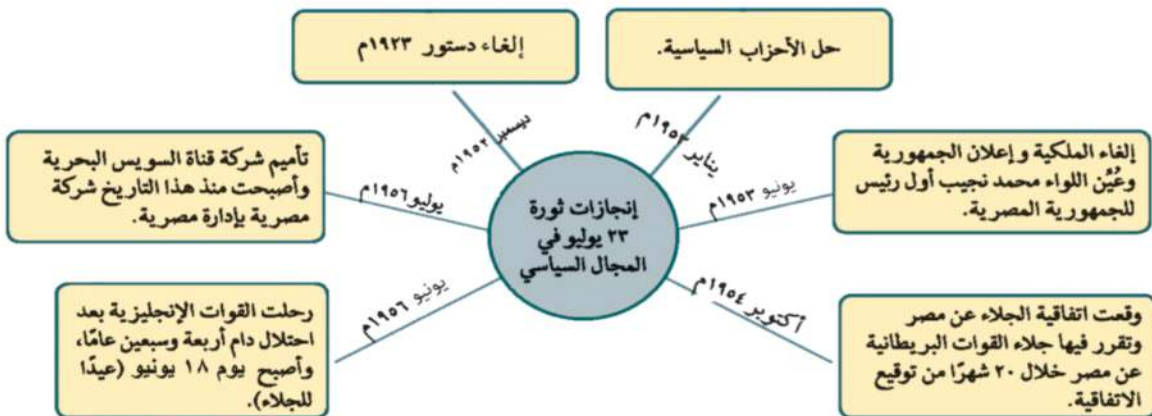


رابعًا: إنجازات ثورة ٢٣ يوليو ١٩٥٢ م

لقد نجحت ثورة ٢٣ يوليو ١٩٥٢ م في تحقيق بعض أهدافها ويتضح ذلك من خلال إنجازاتها في مختلف المجالات

تعال معًا نتعرف إنجازات كل مجال بشئ من التفاصيل :-

١- المجال السياسي .



٢- المجال الاقتصادي.

إنجازات ثورة ٢٣ يوليو في المجال الاقتصادي

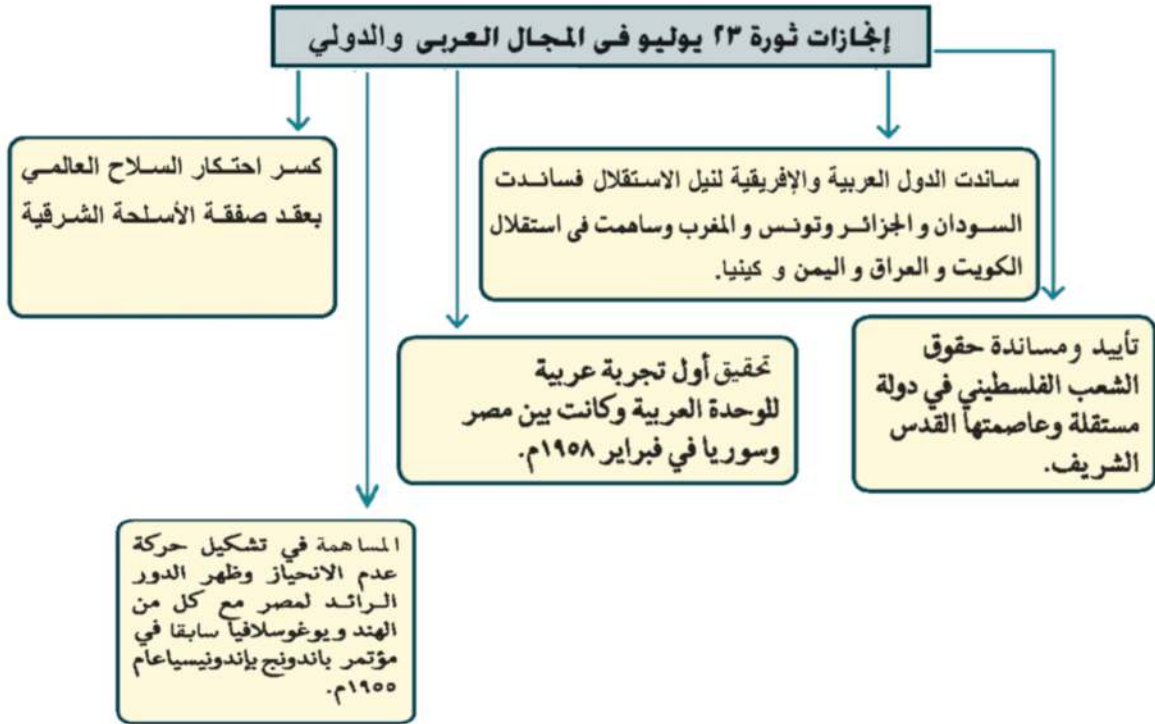
مجال الزراعة	مجال الصناعة	مجال التجارة
اهتمت بـ: ١- التوسع في استصلاح الأراضي الصحراوية لزيادة الرقعة الزراعية. ٢- إنشاء السد العالي وتم إنجازه عام ١٩٧١ م بهدف: (أ) حماية البلاد من خطر الفيضان. (ب) تخزين المياه وتوليد الكهرباء.	اهتمت بـ: ١- إنشاء العديد من المصانع؛ منها الحديد والصلب بحلوان والأسمدة بأسوان. ٢- التعليم الصناعي ومراكز التدريب المهني. ٣- البحث والتنقيب عن البترول وإنشاء معامل لتكرير البترول.	اهتمت بـ: ١- فتح أسواقًا خارجية جديدة لتسويق المنتجات المصرية. ٢- تمصير البنوك وشركات التأمين وشركات التصدير والاستيراد.

٣- المجال الاجتماعي.

إنجازات ثورة ٢٣ يوليو في المجال الاجتماعي

- ١- القضاء على الإقطاع وتحقيق ذلك من خلال :
 - إصدار قانون الإصلاح الزراعي الأول في سبتمبر ١٩٥٢م ثم صدور قوانين أخرى للإصلاح الزراعي حددت الملكية الزراعية في النهاية بـ ٥٠ فدانًا مما زاد في تملك الفلاحين للأرض الزراعية.
- ٢- جعل التعليم بجميع مراحله قبل الجامعي والجامعي بالمجان (مجانية التعليم).
- ٣- إقامة الوحدات الصحية والجمعيات الزراعية.
- ٤- تحديد ساعات العمل وإشراك العمال في مجالس إدارة الشركات والمصانع وتحديد نسبة لهم من الأرباح.
- ٥- إصدار قوانين للتأمينات الاجتماعية والمعاشات للموظفين والعمال.
- ٦- منح المرأة الحق في الانتخاب والترشح لمجلس الأمة (مجلس النواب حاليًا) عام ١٩٥٦م.

٤ - المجال العربي والدولي:



ما رأيك في انجازات الثورة على الصعيد العربي؟

« ناقش مع معلمك دول إفريقية أخرى ساندتها مصر لنيل استقلالها »

توجه إلى الموقع الإلكتروني للوزارة لحل الأنشطة

والتدريبات على الدرس



مفاهيم اتعلمها

عدم الانحياز ، عدم الانضمام إلى أى من الكتلتين
الشرقية والغربية .

الوحدة الثالثة

الدرس الثاني

مصر والقضية الفلسطينية

أهداف الدرس

من المتوقع بعد الانتهاء من الدرس أن يكون التلميذ قادراً على أن :

- يتتبع نشأة القضية الفلسطينية والحركة الصهيونية .
- يكتب مقالاً قصيراً عن وعد بلفور والانتداب البريطاني على فلسطين .
- يقيم الموقف العربي من قرار تقسيم فلسطين عام ١٩٤٧ م .
- يحدد أسباب حرب ١٩٤٨ م وموقف الولايات المتحدة منها .
- يحلل أسباب العدوان الثلاثي على مصر والموقف الدولي منه .
- يكشف العلاقة بين نتائج حرب ١٩٤٨ م ونتائج هزيمة يونيو ١٩٦٧ م .
- يقدر الجهود الوطنية لخدمة القضية الفلسطينية .
- يستخلص نتائج حرب الاستنزاف .
- يقيم دور بريطانيا بالنسبة للقضية الفلسطينية .

معلومة إثرائية عن

- أهمية فلسطين لبريطانيا .
- مؤتمر الحسنة ١٩٦٨ م .
- الفريق أول عبد المنعم رياض .

خرائط ورسوم

- خريطة تقسيم فلسطين عام ١٩٤٧ م .
- خريطة فلسطين بعد حرب ١٩٤٨ م .
- خريطة احتلال إسرائيل للأراضي العربية بعد حرب يونيو ١٩٦٧ م .

قضايا متضمنة

- المواطنة .
- التسامح الديني .
- حقوق الإنسان .

عزيزي التلميذ / عزيزتي التلميذة



المسجد الأقصى



وزير خارجية بريطانيا
جيمس بلفور

معلومة إثرائية

ترجع جذور الحركة الصهيونية - كحركة سياسية
تنادي بوطن خاص لليهود - إلى هرتزل
(١٨٦٠ - ١٩٠٤) في (لندن) عاصمة بريطانيا

معلومة إثرائية

ترجع أهمية فلسطين لبريطانيا إلى أنها
تعد خط الدفاع الأول من الجهة الشمالية
لمستعمراتها في الشرق، يستطيع من
يحتلها أن يسيطر على الركن الشرقي من
البحر المتوسط الغني بموارده الاقتصادية

لفلسطين أهمية خاصة في قلب كل عربي، فقد ولد فيها السيد
المسيح عليه السلام وإليها أسري سيدنا محمد صلى الله عليه وآله وسلم، وبها المسجد الأقصى
أولى القبلتين وثالث الحرمين، بالإضافة لما تتميز به نسبياً من موقع
جغرافي فكانت مطمناً للغزاة على مر العصور، وعاش بها عدد قليل
من اليهود حتي قيام الحرب العالمية الأولى (١٩١٤ - ١٩١٨م) إلى جانب
المسلمين والمسيحيين.

الوعد بوطن لليهود:

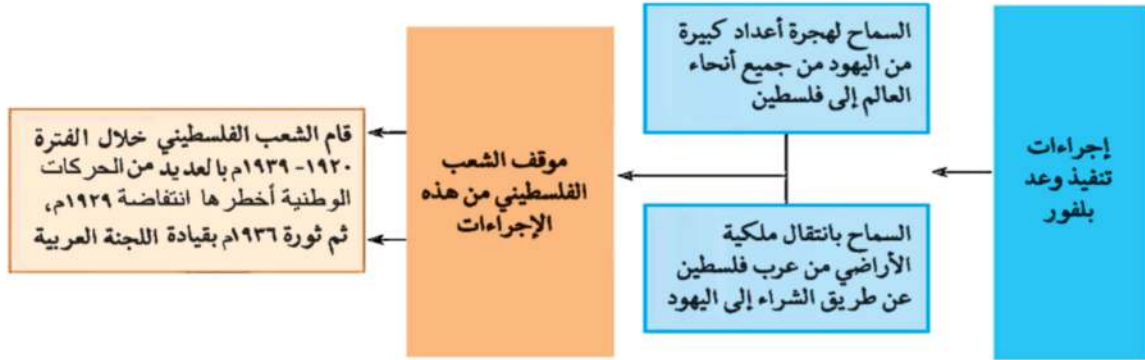
أدركت بريطانيا أهمية فلسطين. لذا سعت لتأييد فكرة وطن
لليهود في فلسطين، وأصدرت وعد بلفور ١٩١٧ م، والذي نص
على تعهد بريطانيا ببذل مساعيها لإنشاء وطن قومي لليهود في
فلسطين، ويوصف هذا التصريح أو الوعد بأنه (وعد من لا يملك
لمن لا يستحق).

الانتداب البريطاني على فلسطين (١٩٢٠ - ١٩٤٨م):

- قررت دول الحلفاء (الدول المنتصرة في الحرب) وضع فلسطين
تحت الانتداب البريطاني مع تنفيذ وعد بلفور.
 - أعطى مؤتمر (سان ريمو) بإيطاليا في إبريل ١٩٢٠م لبريطانيا حق
الانتداب على فلسطين.
 - قررت حكومة الانتداب البريطاني اتخاذ عدة إجراءات لتنفيذ وعد بلفور.
- اقرأ الشكل التالي لتتعرفها وموقف الشعب الفلسطيني منها:

معلومة إثرائية

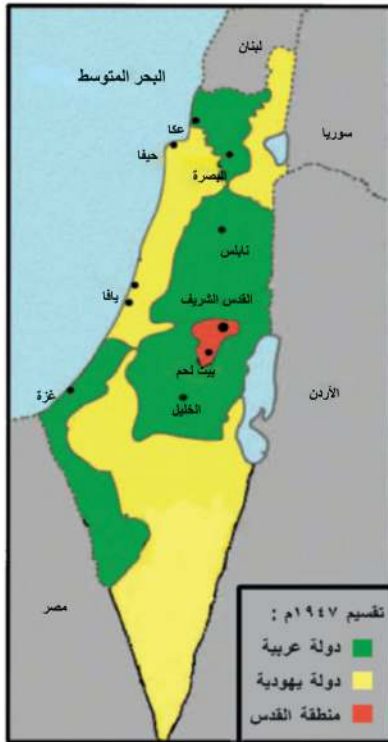
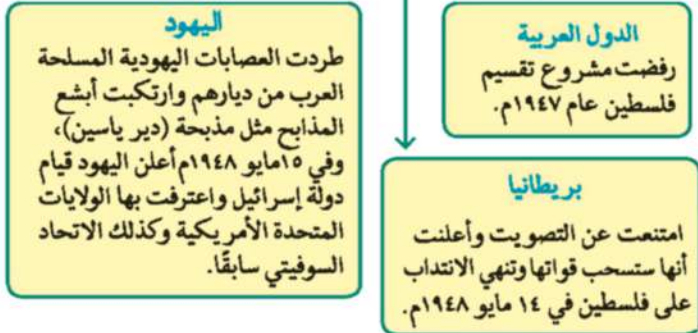
الانتداب نظام وضعته عصبة الأمم بعد انتهاء الحرب العالمية الأولى
(١٩١٤ - ١٩١٨م)، وهو شكل من أشكال الاستعمار، وبموجب هذا
النظام يتم وضع الدول التي كانت تابعة للدول المنهزمة (ألمانيا
وتركيا) تحت إدارة دول متقدمة للنهوض بها.



تقسيم فلسطين عام ١٩٤٧م

وافقت هيئة الأمم المتحدة على تقسيم فلسطين عام ١٩٤٧ م
عندما عرضت عليها بريطانيا حل القضية الفلسطينية إلى :
- دولة عربية - دولة يهودية - تدويل منطقة القدس

ردود الأفعال المختلفة بشأن قرار تقسيم ١٩٤٧ م



خريطة (٢٢) تقسيم فلسطين عام ١٩٤٧م

الحروب بين إسرائيل والعرب:

تعددت الحروب والمواجهات بين إسرائيل والعرب منذ ١٩٤٨م وحتى ١٩٧٣م.
والآن تعال معنا نتعرف كل منها بشيء من التفصيل:



خريطة (٢٢) فلسطين بعد حرب ١٩٤٨ م

حرب فلسطين ١٩٤٨ م

- عقب خروج آخر جندي بريطاني من فلسطين في ١٤ مايو ١٩٤٨ م ، أعلن اليهود قيام دولة إسرائيل في ١٥ مايو ١٩٤٨ م ، مما دفع الجيوش العربية للتحرك بهدف :
 - ١- نصرته وإنقاذ العرب الفلسطينيين من بطش اليهود .
 - ٢- مساعدة الشعب الفلسطيني على إقامة حكومة وطنية على أرضه .
- تمكنت الجيوش العربية في البداية من تحقيق انتصارات على القوات الإسرائيلية
- تقدمت الولايات المتحدة الأمريكية إلى مجلس الأمن باقتراح لوقف القتال وإقامة هدنة مدتها شهر يمتنع خلالها اليهود والعرب عن جلب الأسلحة والمحاربين إلى فلسطين ، وأن يكون ذلك تحت إشراف دولي .
- لم يلتزم اليهود بالهدنة وبدأوا في تقوية قواتهم من حيث العدد والتسليح والتدريب .
- عند استئناف القتال ظهر تفوق اليهود على جميع جبهات القتال وتراجعت القوات العربية وانهزمت .

- ونتج عن هزيمة العرب في حرب فلسطين ١٩٤٨ م :

- الاستيلاء على جميع أراضي فلسطين ولم يبق سوى :

١- قطاع غزة تحت إدارة مصرية .

٢- الضفة الغربية وبها القوات الأردنية .

٣- قسمت القدس بين العرب واليهود . (لاحظ الخريطة ٢٣)

العدوان الثلاثي على مصر ١٩٥٦ م

العدوان الثلاثي حرب شنتها كل من (بريطانيا وفرنسا وإسرائيل) على مصر ، اقرأ الشكل التالي ثم ناقش مع معلمك أسباب العدوان الثلاثي وأهم نتائجه :

العدوان الثلاثي على مصر ١٩٥٦ م

النتائج التي ترتبت على فشل العدوان

- ١- انسحاب القوات الانجليزية والفرنسية من بورسعيد في ديسمبر ١٩٥٦ م ، و بعد يوم ٢٣ ديسمبر عيداً للنصر وعيداً سنوياً لمحافظة بورسعيد.
- ٢- انسحاب القوات الإسرائيلية من قطاع غزة وسيناء أوائل عام ١٩٥٧ م ووضعت قوات طوارئ دولية بين مصر وإسرائيل منذ عام ١٩٥٧ م.
- ٣- أدركت الدول العربية الخطر الإسرائيلي وأطماعه في السيطرة على العالم العربي فقامت وحدة بين مصر وسوريا عام ١٩٥٨ م وحتى ١٩٦١ م.

أسباب فشل العدوان

- ١- المقاومة الباسلة من الجيش والشعب وصلابة القيادة.
- ٢- وقوف الشعوب العربية إلى جانب مصر.
- ٣- تهديد الاتحاد السوفيتي (سابقاً) بالتدخل لوقف العدوان.
- ٤- رفض الولايات المتحدة الأمريكية استخدام القوة في حل النزاعات.
- ٥- تنديد الأمم المتحدة بالعدوان.

أسباب العدوان

- ١- عقدت حكومة الثورة اتفاقية مع الاتحاد السوفيتي (سابقاً) لتزويد مصر بالأسلحة والمعدات لمواجهة الأطماع الإسرائيلية والاعتداءات على الشعب الفلسطيني.
- ٢- مساندة حركات التحرر الوطني في الجزائر ضد الاستعمار الفرنسي.
- ٣- تأميم شركة قناة السويس في يوليو ١٩٥٦ م.

■ العدوان الاسرائيلي (٥ يونيو ١٩٦٧م)

قامت إسرائيل بمساعدة الولايات المتحدة الأمريكية في الإعداد والتهئية والتخطيط للعدوان خصوصاً بعد فشل العدوان الثلاثي .

■ أسباب ونتائج عدوان (٥ يونيو ١٩٦٧م)

أرادت إسرائيل القضاء على قوة مصر واستدراج الدول العربية إلى حرب غير مستعدة لها فقامت بحشد القوات على الحدود مع سوريا في ١٩٦٧م فقامت مصر بما يلي:

- إعلان وقفها إلى جانب سوريا تطبيقاً لاتفاقية الدفاع المشترك بينهما ، وأرسلت القوات المصرية على عجل إلى شبه جزيرة سيناء .
- مطالبة قوات الطوارئ الدولية الموجودة على الحدود بين مصر وإسرائيل منذ عام ١٩٥٧م بالانسحاب من بعض النقاط .
- اغلاق خليج العقبة في وجه الملاحة الإسرائيلية في مايو ١٩٦٧م وذلك إحصاماً للحصار الاقتصادي الذي يفرضه العرب على إسرائيل .
- وبرغم المساعي التي بذلت لمعالجة الموقف المتهب بين الدول العربية وإسرائيل ، قامت إسرائيل في صباح ٥ يونيو ١٩٦٧م بغارات مفاجئة على المطارات المصرية وبدأت أحداث الحرب والتي انتهت بما يلي:

- استيلاء اسرائيل على كل من قطاع غزة وسيناء حتى الضفة الشرقية لقناة السويس، و هضبة الجولان بسوريا ومدينة القدس العربية و الضفة الغربية لنهر الأردن. (لاحظ خريطة ٢٤)

حاول أن تستنتج بنفسك أسباب الهزيمة قبل قراءة النقاط الآتية:

■ أسباب الهزيمة

- ترجع هزيمة الدول العربية في عدوان ٥ يونيو ١٩٦٧م إلى:
- التفوق العسكري الإسرائيلي وبصفة خاصة السلاح الجوي .
- استخدام عنصر المفاجأة في ضرب المطارات المصرية بعد أن صورت أجهزة تجسس أمريكية حديثة المواقع المصرية .
- مساندة الولايات المتحدة وبعض الدول الأوربية لإسرائيل عسكرياً واقتصادياً وسياسياً .
- نقص التدريب وعدم توافر الأسلحة المتطورة للقوات المصرية .



خريطة (٢٤) احتلال إسرائيل للأراضي العربية بعد حرب يونيو ١٩٦٧م

تدخل مجلس الأمن وإصدار قرار رقم ٢٤٢ فى نوفمبر عام ١٩٦٧م ونص على:

- إنهاء حالة الحرب بين إسرائيل والعرب.
- احترام سيادة دول المنطقة على أراضيها.
- انسحاب إسرائيل من الأراضي التى احتلتها عام ١٩٦٧م.
- حرية الملاحة فى الممرات الدولية.
- إنشاء مناطق منزوعة السلاح .

وقبلت مصر تنفيذ القرار، ولكن امتنعت إسرائيل عن تنفيذه ولم تنسحب من الأراضي التى احتلتها.

معلومة إثرائية

مؤتمر الحسنة أكتوبر ١٩٦٨ م
بذلت إسرائيل مساعى عديدة لإقناع أهالى
سيناء بتدويل سيناء وإعلانها دولة منفصلة
ورد الشيخ « سالم الهرش » باسم أهالى
سيناء بالرفض قائلًا: سيناء أرض مصرية
وستبقى مصرية « وسجل التاريخ لأهالى
سيناء درسًا جديدًا فى الشرف والانتماء
والعزة والكرامة ».

إعادة بناء القوات المسلحة المصرية

حرصت القيادة المصرية على إعادة بناء القوات المسلحة على أسس جديدة
من حيث الاختيار والتدريب والتسليح.

ومرت عملية إعادة بناء القوات المسلحة بمرحلتين هما:

المرحلة الأولى : (مرحلة الصمود والتصدى)

يقصد بها تصدى القوات المصرية للاعتداءات الإسرائيلية ومن مظاهر ذلك :

أ - معركة رأس العش : حيث نجحت القوات المصرية فى هزيمة القوات
الإسرائيلية عندما حاولت احتلال مدينة بورفؤاد.

ب - تدمير المدمرة الإسرائيلية إيلات بصواريخ البحرية المصرية فى أكتوبر ١٩٦٧م.

المرحلة الثانية : (حرب الاستنزاف والمواجهة عامى ١٩٦٩م، ١٩٧٠م)

يقصد بها استنزاف طاقات العدو الإسرائيلي فى سيناء، حيث :

نجحت مصر برغم التحديات فى بناء حائط

الصواريخ على الضفة الغربية لقناة السويس مما
منع اختراق الطائرات الإسرائيلية للأجواء
المصرية، كذلك القصف المستمر لخط بارليف
وتحصيناته بالمدفعية على طول خط قناة السويس.



حرب الاستنزاف

مطلوبت اثرائية



الفريق أول
عبد المنعم رياض

يعد واحدًا من أشهر
العسكريين العرب خلال
النصف الثاني من القرن
العشرين شارك في الحرب
العالمية الثانية ضد قوات ألمانيا وإيطاليا
وغيرها وشارك في حرب فلسطين ١٩٤٨م
وحرب ١٩٥٦م .

وقد خاض الشعب المصري وجيشه الباسل حرب الاستنزاف التي استشهد فيها أحد أبطال العسكرية المصرية الكبار (الفريق أول عبدالمنعم رياض) رئيس أركان حرب القوات المسلحة. وأحد الأعمدة الرئيسية التي اعتمد عليها الرئيس جمال عبد الناصر في إعادة بناء وتنظيم القوات المسلحة في حرب الاستنزاف.



روجرز وزير خارجية أمريكا

تدخلت الولايات المتحدة فقدم وزير خارجيتها مبادرة عرفت بمبادرة روجرز لوقف إطلاق النار تمهيدا لحل النزاع سلميًا.



احتشاد جموع الشعب المصري
لتشيع جثمان الرئيس الراحل
جمال عبد الناصر

توفي الرئيس جمال عبد الناصر في سبتمبر ١٩٧٠م بعد مرحلة طويلة من الكفاح لتحقيق حلم الاستقلال والتقدم للأمة وخلفه الرئيس السادات لتشهد مصر مرحلة جديدة من المواجهة مع إسرائيل وهي حرب أكتوبر ١٩٧٣م.

توجه إلى الموقع الإلكتروني للوزارة لحل

الأنشطة والتدريبات على الدرس





الوحدة الثالثة

حرب أكتوبر ١٩٧٣م

الدرس الثالث

معلومة إثرائية

- اعترافات وزير الدفاع الإسرائيلي.

أهداف الدرس

- من المتوقع بعد الانتهاء من الدرس أن يكون التلميذ قادرًا على أن:
- يحلل ظروف وأحداث ما قبل حرب أكتوبر ١٩٧٣م.
- يحدد الأسباب التي أدت إلى قيام حرب أكتوبر ١٩٧٣م.
- يصف أحداث الحرب على كل من الجبهتين المصرية والسورية.
- يوضح موقف الدول العربية أثناء حرب أكتوبر ١٩٧٣م.
- يفسر موقف الولايات المتحدة الأمريكية أثناء حرب أكتوبر ١٩٧٣م.
- يحدد بنود قرار مجلس الأمن رقم ٣٣٨.
- يوضح العوامل التي كانت سببًا في انتصار أكتوبر ١٩٧٣م.
- يستخلص الدروس المستفادة من حرب أكتوبر ١٩٧٣م ونتائجها.

قضايا متضمنة

- التضامن ووحدة الصف العربي.
- التربية من أجل السلام.
- التفاوض والحل السلمي للنزاعات.
- المواطنة وحقوق الإنسان.

عزيزي التلميذ/عزيزتي التلميذة

لعلك تعرفت في الدرس السابق أن حرب فلسطين ١٩٤٨ م ، والعدوان الثلاثي على مصر ١٩٥٦ م ، وعدوان يونيو ١٩٦٧ م ، تمثل حلقات من الصراع العربي/الإسرائيلي وعرفت أيضاً أن الشعب المصري وجيشه الباسل لم يقبلوا بالهزيمة - وخاض بكل شجاعة حرب الاستنزاف.

وقد أعقب ذلك حلقة أخرى من حلقات هذا الصراع، وهي **حرب السادس من أكتوبر ١٩٧٣ م** (العاشر من رمضان ١٣٩٣ هـ) وقد دارت بين كل من مصر وسوريا من جانب وإسرائيل من جانب آخر. **تعال معاً نتعرف أسبابها وأحداثها وأهم نتائجها.**

أسباب اندلاع حرب أكتوبر ١٩٧٣ م

- ١- رفض إسرائيل لكل نداءات السلام بالانسحاب من الأراضي التي احتلتها في العدوان الإسرائيلي ٥ يونيو ١٩٦٧ م بموجب قرار مجلس الأمن ٢٤٢ و التي تتمثل في شبه جزيرة سيناء والجولان.
- ٢- التصميم المصري السوري لإزالة آثار نكسة ١٩٦٧ م.

الاستعدادات لحرب أكتوبر ١٩٧٣ م

- ١- تهيئة وإعداد الجبهة العربية من خلال :
الاستفادة من كل الموارد والإمكانات العربية المتاحة وتصفية الخلافات وتوحيد الصف العربي .
- ٢- تهيئة وإعداد الجبهة الداخلية من خلال :
- رفع الرقابة على الصحف
- إلغاء الحراسات والإجراءات المقيدة للحريات - القضاء على مراكز القوى
- تجهيز الجيش وتسليحه بأحدث الأسلحة وتدريبه عليها .

الجبهة المصرية



انتصار أكتوبر

- مهدت الضربة الجوية الناجحة التي قام بها سلاح الطيران، وكان قائد سلاح الطيران آنذاك محمد حسني مبارك، ونيران المدفعية على طول القناة لعبور الدبابات والمدرعات والآليات العسكرية بمختلف أنواعها.
- تدمير خط بارليف (أسطورة إسرائيل) في ست ساعات.
- انتشرت القوات المصرية على الضفة الشرقية لقناة السويس، ورفع علم مصر عليها، وتم أسر مئات من الجنود الإسرائيليين وتحطيم أعداد كبيرة من الطائرات والمعدات العسكرية. وسطر الجيش المصري أعظم الانتصارات في البر والبحر والجو.

الجبهة السورية

- بدأ هجوم القوات السورية في اللحظة نفسها التي بدأت فيها القوات المسلحة المصرية الهجوم طبقاً للاتفاق بين القيادة العسكرية في البلدين، وعبرت (الطائرات السورية، ثم اندفعت الدبابات والمدافع نحو خط (ألون) وهو خط الدفاع الإسرائيلي في هضبة الجولان، ويمثل تماماً خط (بارليف) على الجبهة المصرية.
- دارت معارك جوية عديدة بين الطيران الإسرائيلي والطيران السوري الذي استمر في تقديم دعمه للقوات البرية التي اخترقت خط الدفاع الإسرائيلي ودمرته تماماً. وخسر العدو أعداداً كبيرة من الجنود والطائرات؛ فطلبت إسرائيل المساعدة من الولايات المتحدة.

الدور العربي اثناء الحرب

- تمثل الدعم العربي في:
- تقديم بعض الدول العربية الدعم العسكري لمصر وسوريا؛ (العراق - الجزائر - ليبيا - الأردن - المغرب - السعودية - السودان - الكويت - تونس).
 - تقديم بعض الدول العربية الدعم المالي لمصر وسوريا مثل (السعودية - الجزائر - الإمارات).
 - قرار وزراء النفط العربي في اجتماعهم بالكويت الذي نص على خفض الإنتاج، حظر الصادرات النفطية إلى الولايات المتحدة الأمريكية عندما طلب الرئيس الأمريكي مساعدات عاجلة لإسرائيل.

دور الولايات المتحدة الأمريكية في دعم اسرائيل

- أقامت الولايات المتحدة الأمريكية جسراً جويًا لتقديم المساعدات العسكرية لإسرائيل.
- قدمت الولايات المتحدة مساعدات مالية ضخمة عاجلة لإسرائيل.
- قدمت معلومات عسكرية لإسرائيل ساعدتها في إحداث ثغرة في منطقة الدفرسوار.
- تدخلت الولايات المتحدة والدول الأعضاء في مجلس الأمن الدولي التابع للأمم المتحدة، وتم إصدار القرار (٣٣٨) الذي يقضي بوقف جميع الأعمال الحربية بدءاً من يوم ٢٢ أكتوبر ١٩٧٣م، بعدها بدأت مباحثات المفاوضات بين الطرفين (المصري - الإسرائيلي).

النتائج والدروس المستفادة من حرب السادس من أكتوبر ١٩٧٣م

- ١- تعد نقطة تحول في الصراع العربي / الإسرائيلي، وأثبتت أن منطق القوة لا يمنح سلاماً.
- ٢- تحطيم أسطورة الجيش الإسرائيلي الذي لا يقهر، وعودة الثقة للمقاتل المصري والعربي.
- ٣- تفويض أسس العقيدة القتالية للقوات الإسرائيلية.

معلومة إثرائية

- اعترافات وزير الدفاع الإسرائيلي ، إن السلاح الجوي واجه الكثير من المصاعب وأن الحسائر فيه كانت الكثير من الطائرات والطيارين وذلك بسبب بطاريات الصواريخ والسلاح الجوي المصري .
- لو كنا حاولنا الاستمرار في محاولتنا لدفع المصريين عبر القناة لكادت الحسائر في القتال والرجال جسيمة لدرجة أن إسرائيل كانت ستبقى بلا أية قوة عسكرية تذكر .
- علينا أن نعيد دراستنا وأن نعمل على التمرکز في أماكن دفاعية جديدة .
- علينا نحن الإسرائيليين أن نفهم أننا لا يمكننا الاستمرار في الاعتقاد بأننا القوة الوحيدة العسكرية في الشرق الأوسط ، فهناك حقائق جديدة علينا أن نتعاشق معها .



المشير أحمد اسماعيل

- تولي القيادة العامة للموحدة للقوات المصرية السورية في حرب أكتوبر ١٩٧٣م حيث كان مديراً للمخابرات العامة ثم وزيراً للحربية وقائداً للقوات المسلحة .
- كما تولى التخطيط والتنسيق على الجبهتين (المصرية و السورية) بدقة ومهارة عالية - وقاد خطة الخداع لصرف أنظار إسرائيل عن التجهيزات الهجومية - وقد حصل على وسام نجمة سيناء وهو أعلى الأوسمة العسكرية .

الفريق سعد الدين الشاذلي :

- اختاره الرئيس الراحل أنور السادات رئيساً لأركان حرب القوات المسلحة ١٩٧١م - حتى ١٣ ديسمبر ١٩٧٣م شارك مع القادة العسكريين في تطوير القوات المسلحة وفي وضع خطة لعبور قناة السويس وتحطيم خط بارليف وقام بتنفيذها في حرب ١٩٧٣م . وقد تم تكريمه في الذكرى التاسعة والثلاثين لنصر أكتوبر بمنح اسمه قلادة النيل العظمى .

الفريق محمد عبدالغني الجمسي



الفريق محمد عبد الغني الجمسي

- شغل منصب رئيس هيئة عمليات القوات المسلحة ١٩٧٢م ثم رئيساً لأركان القوات المسلحة ديسمبر ١٩٧٣م - قامت الهيئة بإعداد دراسة عن أنسب التوقيتات للقيام بالعمليات الهجومية على إسرائيل على الجبهتين مما كان له الأثر في إحراز النصر .
- ولن ينسى التاريخ أمجاد العسكرية المصرية في تلك الحرب بكل أبناء مصر البواسل من الآلاف الذين شاركوا في كل العمليات العسكرية من القادة والضباط والصف والجنود الذين ضحوا من أجل مصر في حرب أكتوبر ١٩٧٣م .

توجه إلى الموقع الإلكتروني للوزارة لحل الأنشطة

والتدريبات على الدرس





الوحدة الثالثة

مصر والصراع العربي الإسرائيلي

الدرس الرابع

أهداف الدرس

من المتوقع بعد الانتهاء من الدرس أن يكون التلميذ قادرًا على أن :

- يحلل أسباب مبادرة الرئيس السادات بالذهاب إلى إسرائيل في ١٩ نوفمبر ١٩٧٧م.
- يحدد نتائج مؤتمر كامب ديفيد في سبتمبر ١٩٧٨م.
- يعدد نصوص معاهدة السلام بين مصر وإسرائيل في مارس ١٩٧٩م.
- يحدد موقف كل من الدول العربية ودول العالم الأخرى من معاهدة السلام.
- يوضح كيف عادت طابا إلى مصر.
- يعدد مزايا السلام لكل من مصر والدول العربية.
- يستخلص جهود مصر الإقليمية والدولية لتحقيق السلام.

معلومات إثرائية عن

- جائزة نوبل للسلام.
- اتفاقية أوسلو.

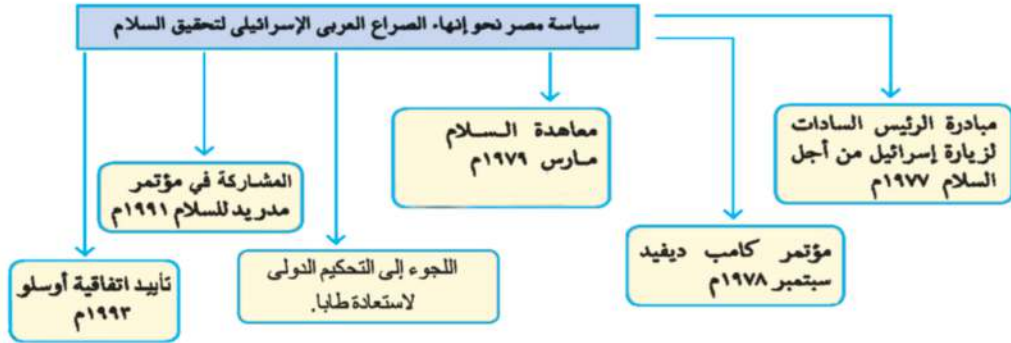
قضايا متضمنة

- المواطنة.
- التربية من أجل السلام.
- نبذ العنف والإرهاب لتحقيق السلام.
- التفافض والحل السلمي للنزاعات.
- الأمن القومي.

عزيزى التلميذ / عزيزتى التلميذة

عرفت من الدرس السابق أن مصر وسوريا قامتا بالإعداد والتخطيط لحرب أكتوبر ١٩٧٣م بهدف استرداد الأراضي المحتلة ومحو آثار نكسة يونيو ١٩٦٧م، وأن هذه الحرب حققت بعض أهدافها وبصفة خاصة تحريك القضية الفلسطينية نحو الحل الشامل للصراع العربي الإسرائيلي، واختيار مبدأ الأرض مقابل السلام.

تعرف سياسة مصر تجاه إنهاء الصراع العربي / الإسرائيلي بعد حرب أكتوبر ١٩٧٣م من الشكل التالى :



سياسة مصر نحو إنهاء الصراع العربي الإسرائيلي لتحقيق السلام :

(أ) مبادرة الرئيس السادات لزيارة إسرائيل من أجل السلام ١٩٧٧م.

لقد نادى الرئيس السادات بالسلام العادل لكل شعوب المنطقة، ودعا العالم كله إلى مساندته في التطلع إلى السلام الدائم بعد سلسلة من الحروب استنزفت طاقات وموارد البلاد البشرية والمادية، ومهدت الطريق أمام إسرائيل للقبول بمبدأ التفاوض بين الأطراف المهتمة والمعنية بالقضية.

(ب) مؤتمر كامب ديفيد سبتمبر ١٩٧٨م

دعا الرئيس الأمريكي كارتر كل من (السادات وبيجين) إلى اجتماعات في كامب ديفيد بالولايات المتحدة واستمرت الاجتماعات حتى تم التوصل إلى إطار اتفاق للسلام بين مصر وإسرائيل.

(ج) معاهدة السلام مارس ١٩٧٩م

فى مارس ١٩٧٩م تم توقيع معاهدة السلام بين مصر وإسرائيل بمشاركة ورعاية أمريكية وقد نصت المعاهدة على مايلي:

- انسحاب إسرائيل الكامل من سيناء التي احتلتها عام ١٩٦٧م.
- إنهاء حالة الحرب بين مصر وإسرائيل وحل المنازعات بالطرق السلمية.
- احترام كل طرف لسيادة واستقلال الطرف الآخر.

مطلومة إثرائية

كان من نتائج اتفاقية كامب ديفيد حصول كل من السادات وبيجين على جائزة نوبل للسلام، وكان مبرر المنح هو جهودهما الحثيثة في تحقيق السلام في منطقة الشرق الأوسط.



توقيع معاهدة السلام

مطلوثة إثرائية

برغم الجهود التي بذلها الرئيس السادات لتحقيق السلام الشامل وتأييده لكل المبادرات السياسية التي تتفق مع الأهداف والمواقف العربية، إلا أن الأيدي الأثمة اغتالته أثناء الاحتفال السنوي في ٦ أكتوبر ١٩٨١م. وقد خلفه الرئيس محمد حسني مبارك وبدأت صفحة جديدة في مسار تحقيق السلام العادل والشامل للصراع العربي الإسرائيلي

- إقامة علاقات ودية (سياسية - اقتصادية - ثقافية) بين الدولتين .
- إقامة مناطق محدودة السلاح على جانبي الحدود مع تحديد عدد الأسلحة والقوات.
- احترام حرية الملاحة في الممرات الدولية.
- البدء بمفاوضات لإنشاء حكم ذاتي للفلسطينيين في الضفة الغربية وقطاع غزة.
- التطبيق الكامل لقرار مجلس الأمن الدولي رقم (٢٤٢).


ما رأيك في بنود المعاهدة؟

ومن نتائج المعاهدة :

رفع العلم المصري فوق شبه جزيرة سيناء ، فى ٢٥ إبريل ١٩٨٢م بعد استعادتها من المحتل الإسرائيلي، فيما عدا منطقة طابا الواقعة على رأس خليج العقبة.

■ (د) اللجوء إلى التحكيم الدولي لاستعادة طابا :

حيث حدث خلاف على تعيين مكان بعض علامات الحدود واتفق الطرفان على مبدأ التحكيم. وفى سبتمبر ١٩٨٨م أصدرت هيئة التحكيم بحكمة العدل الدولية حكمها لصالح مصر، وفى مارس ١٩٨٩م استعادت مصر طابا وعادت إلى السيادة المصرية في عهد الرئيس الأسبق محمد حسني مبارك.



علم مصر فوق طابا

■ (هـ) المشاركة في مؤتمر مدريد للسلام ١٩٩١م :

- شاركت مصر بفاعلية في هذا المؤتمر نظراً لدعوته إلى حل الصراع العربي الإسرائيلي على ضوء قرارات الأمم المتحدة وعلى أساس مبدأ الأرض مقابل السلام.
- عقد هذا المؤتمر في مدريد عاصمة أسبانيا ١٩٩١م برعاية كل من الولايات المتحدة الأمريكية والاتحاد السوفيتي (سابقاً).

■ (و) تأييد اتفاقية أوسلو ١٩٩٣م

- كان من نتائج مؤتمر مدريد عام ١٩٩١م حدوث مفاوضات اتسمت بالسرية وأسفرت عن توقيع اتفاقية برعاية أمريكية بواشنطن في سبتمبر ١٩٩٣م بين إسرائيل ومنظمة التحرير الفلسطينية أيدت مصر الاتفاقية وما حدث من اتفاقيات أخرى تتعلق بالانسحاب الإسرائيلي من الأراضي المحتلة وإقامة السلطة الوطنية الفلسطينية.

■ مزايا تحقيق السلام و إنهاء الصراع العربي الإسرائيلي

إن اختيار السلام بدلاً من الحرب التي تستنزف كافة الموارد الاقتصادية والبشرية، يعود بالنفع على وطننا العربي

وتحقيق مايلي:

- الاستقرار الداخلي للبلاد العربية .
- دفع عجلة التنمية الاقتصادية والاجتماعية وإصلاح البنية الأساسية للبلاد .
- تشجيع رؤوس الأموال العربية والأجنبية للاستثمار في مصر وغيرها من الدول العربية .
- تنشيط حركة السياحة مما يؤدي إلى زيادة الدخل القومي وتوفير العملات الأجنبية .
- إقامة المشروعات الوطنية وتحقيق التنمية في مصر بشكل خاص ومنطقتنا العربية بشكل عام .

توجه إلى الموقع الإلكتروني للوزارة لحل الأنشطة والتدريبات على الدرس



معلومة إثرائية

سميت الاتفاقية بأوسلو؛ لأن التفاوض بشأن الاتفاقية تم في مدينة أوسلو عاصمة النرويج ، وهي تعتبر أول اتفاقية رسمية مباشرة بين إسرائيل ممثلة بوزير خارجيتها آنذاك شمعون بيريز، ومنظمة التحرير الفلسطينية ممثلة بأمين سر اللجنة التنفيذية محمود عباس وهو الرئيس الحالي للسلطة الفلسطينية.

نصت الاتفاقية على:

- إقامة سلطة حكومية ذاتية انتقالية فلسطينية (تعرف الآن بالسلطة الوطنية الفلسطينية) ومجلس تشريعي منتخب للشعب الفلسطيني في الضفة الغربية وقطاع غزة لفترة انتقالية.
- تغطي المفاوضات فيما بعد القضايا المتبقية (القدس - اللاجئين - المستوطنات - الترتيبات الأمنية - الحدود - العلاقات - والتعاون)
- إنشاء قوة شرطة فلسطينية قوية لضمان حفظ الأمن والنظام.

الوحدة الثالثة

ثورتا ٢٥ يناير ٢٠١١ و ٣٠ يونيو ٢٠١٣ م

الدرس الخامس

معلومات إثرائية

- الخصخصة.
- الانفتاح الاقتصادي.
- ميدان التحرير.
- المجلس الأعلى للقوات المسلحة.

أهداف الدرس

في نهاية هذا الدرس يتوقع أن يكون التلميذ قادراً على :

- يتعرف عوامل قيام ثورة ٢٥ يناير ٢٠١١ م.
- يستنتج دور التكنولوجيا و وسائل الاتصال في ثورة يناير ٢٠١١ م.
- يتتبع أحداث ثورة ٢٥ يناير ٢٠١١ م.
- يقدر دور الشعب المصري في صنع الأحداث والوقائع التاريخية.
- يقدر الدور العظيم للقوات المسلحة في حماية الشعب.
- يوضح أحداث ثورة ٣٠ يونيو ٢٠١٣ م.
- يستخلص الدروس المستفادة من تاريخ الشعوب.
- يقدر أهمية الوحدة الوطنية في الحفاظ على الأمن القومي.

قضايا متضمنة

- حقوق الإنسان.
- الوحدة الوطنية.
- التربية من أجل المواطنة.



موقع التواصل الاجتماعي الفيس بوك

معلومة إثرائية

الانفتاح الاقتصادي:

هو تغيير شامل في النظم والسياسات الاقتصادية من أبرز ملامحه التحول عن نظام التخطيط الشامل واستبداله ببرامج سنوية تقوم على تشجيع القطاع الخاص والمستثمرين الأجانب على المشاركة في التنمية الاقتصادية للدولة من خلال إنشاء المشروعات الخاصة .

معلومة إثرائية

الخصخصة:

عملية التحول من الاعتماد على القطاع العام إلى القطاع الخاص، سواء (ملكية أو إدارة) وإعطاء دور فعال للقطاع الخاص في الحياة الاقتصادية للمجتمع .



تدني الخدمات الطبية

■ ثورة ٢٥ يناير ٢٠١١ م

تعد ثورة ٢٥ يناير من الثورات الفريدة في التاريخ المصري الحديث والمعاصر، حيث ساهمت التكنولوجيا المتطورة ووسائل الاتصال ممثلة في الشبكة الدولية للمعلومات (الإنترنت) ومواقع التواصل الاجتماعي (الفيس بوك وغيره) في اندلاع هذه الثورة لتشمل شتى أنحاء البلاد، ولم تكن ثورة ٢٥ يناير ٢٠١١ م وليدة هذا التاريخ، بل كانت هناك حركات سياسية احتجاجية سبقتها ومهدت لها .

■ أسباب قيام الثورة :

١- تدهور الأوضاع الاقتصادية وذلك بسبب:

أ- اتباع سياسة الانفتاح الاقتصادي دون ضوابط علمية .
ب- التطبيق غير السليم لسياسة الخصخصة وبيع مؤسسات الدولة بأقل من سعرها الحقيقي لصالح فئة معينة من رجال الأعمال وقد أدى ذلك الى:

- ارتفاع الأسعار .
- تجمع آلاف العاملين وانضمامهم لصفوف البطالة من الشباب في وقفات احتجاجية .

٢- سوء الأوضاع الاجتماعية بسبب:

- زيادة الفوارق الاجتماعية بين طبقات المجتمع وغياب العدالة الاجتماعية في توزيع الثروات .

٣- تدهور الأحوال الصحية والخدمية والتعليمية .

٤- استمرار العمل بقانون الطوارئ منذ أن تولى الرئيس مبارك الحكم في أكتوبر ١٩٨١ م .

٥- تزوير الانتخابات البرلمانية لمجلس الشعب عام ٢٠١٠ م، حيث حصل الحزب الوطني الحاكم على ٩٧٪ من المقاعد، وبهذا خلا المجلس من وجود أي معارضة وطنية تذكر .

معلومة إثرائية

ميدان التحرير :

يعد ميدان التحرير أكبر ميادين مدينة القاهرة في مصر، سمي في بداية إنشائه باسم ميدان الإسماعيلية، نسبة للخدو إسماعيل، ثم تغير الاسم في الخمسينيات إلى اسمه الحالي " ميدان التحرير" نسبة إلى التحرر من الاستعمار.

معلومة إثرائية

المجلس الأعلى للقوات المسلحة :

يتألف المجلس الأعلى للقوات المسلحة من قادة الفروع العسكرية الرئيسية في الجيش المصري برئاسة وزير الدفاع والقائد العام للقوات المسلحة، ويعد رئيس الجمهورية بحكم منصبه قائدًا أعلى للقوات المسلحة.

■ أحداث ووقائع الثورة:

تطورت الأحداث في ثورة ٢٥ يناير ٢٠١١ م تطوراً سريعاً أدت إلى نجاحها، ويمكن تحديد أهم ملامح هذه الأحداث فيما يلي :

١ - اختياريوم ٢٥ يناير ٢٠١١ م بداية للاحتجاج والتظاهر السلمي، واتخاذ الميادين العامة بالقاهرة و الإسكندرية والسويس والمنصورة ومعظم ميادين المدن المصرية مكاناً للتظاهر.

٢ - استمرت الثورة ثمانية عشر يوماً، حدث خلالها أحداث كثيرة، أهمها: الاضطراب الأمني الشديد، فشل المجتمع المصري بكل فئاته ما عرف باللجان الشعبية لحماية المنشآت والمناطق ومواجهة أعمال السرقة والحرق والترويع.

٣ - الاستعانة بالقوات المسلحة المصرية لضمان حماية وأمن الممتلكات والمواطنين.

٤ - سعى النظام لامتنصاص غضب الجماهير وفوض صلاحيات رئيس الجمهورية إلى نائبه وتم تشكيل حكومة جديدة إلا أن هذه الخطوات لم تمنع استمرار المظاهرات.

٥ - في الحادي عشر من فبراير ٢٠١١ م تخلى الرئيس الأسبق مبارك عن الرئاسة وتسليم إدارة شئون البلاد للمجلس الأعلى للقوات المسلحة، عندئذ خرجت الملايين من الجماهير تحتفل بهذا الحدث التاريخي.



ميدان التحرير يوم ٢٥ يناير ٢٠١١ م



الاستفتاء على تعديل بعض مواد الدستور

وقد أثبتت أحداث وقائع الثورة مدى إصرار الشعب المصري على الاستمرار من أجل تحقيق مطالبه، كذلك أكدت الأحداث أن الجيش هو قوة مساندة للشعب، وليس أداة لدى النظام لقمع المتظاهرين وإجهاض الثورة. وتلى ذلك العديد من الأحداث المهمة فى تاريخ مصر للمزيد من المعلومات عنها استعن بشبكة المعلومات الدولية .

ثورة ٣٠ يونيو ٢٠١٣م

مقدمات ثورة ٣٠ يونيو ٢٠١٣م:

- تولى محمد مرسى مرشح حزب الحرية والعدالة حكم البلاد نتيجة فوزه فى انتخابات رئاسة الجمهورية عام ٢٠١٢م.
- لم تحقق السياسات الجديدة للدولة حلول للمشكلات التى تعانى منها غالبية الشعب المصري، خاصة العدالة الاجتماعية، واستمرار سوء الأحوال الاقتصادية.

أحداث ثورة ٣٠ يونيو ٢٠١٣م:

- خرجت جموع الشعب المصرى فى أعداد هائلة إلى الميادين والشوارع فى ثورة جديدة يوم ٣٠ يونيو ٢٠١٣م للتعبير عن رأيها فى التغيير، وحفاظاً على الأمن العام للدولة تدخلت القوات المسلحة، وأعلنت بياناً فى ٢٣ يونيو ٢٠١٣م وضحت فيه أن :
(المسئولية الوطنية والأخلاقية للقوات المسلحة تجاه الشعب تحتم التدخل لمنع انزلاق مصر فى نفق مظلم من الصراع والقتال والفتنة الطائفية).
ودعت إلى إيجاد صيغة تفاهم وتوافق ومصالحة حقيقية لحماية مصر وشعبها خلال أسبوع.
- رفض الرئيس الموافقة على إجراء انتخابات رئاسية مبكرة وكذلك رفضت المعارضة دعوته إلى الحوار.



جموع من الشعب المصرى فى ٣٠ يونيو

نتائج ثورة ٣٠ يونيو ٢٠١٣م:

- عزل محمد مرسي في الثالث من يوليو ٢٠١٣م وتسليم السلطة إلى المستشار (عدلي منصور) رئيس المحكمة الدستورية العليا حين إجراء انتخابات رئاسية مبكرة وتعديل دستور ٢٠١٢م.



- صدور دستور جديد في يناير ٢٠١٤م، ثم عقدت انتخابات الرئاسة وإعلان فوز المرشح عبد الفتاح السيسي. وبذلك بدأت صفحة جديدة من تاريخ مصر الحديث، وبدأ يتطلع الشعب المصري إلى تحقيق طموحاته في تطبيق الديمقراطية وإقامة العدالة الاجتماعية، وأصبحت مصر تسير خطوات جادة نحو التقدم والأزدهار في كافة المجالات.

توجه إلى الموقع الإلكتروني للوزارة لحل الأنشطة والتدريبات على الدرس



أهداف الوحدة

في نهاية دراسة هذه الوحدة يتوقع أن يكون التلميذ قادرًا على أن :

- يقارن بين مراحل تطور الحياة النيابية في مصر قبل وبعد الاحتلال البريطاني .
- يحدد مراحل تطور الحياة النيابية في مصر بعد ثورة ٢٣ يوليو ١٩٥٢م .
- يعدد سلطات الحكم في مصر على ضوء الدستور الدائم عام ١٩٧١م .
- يقارن بين مراحل تطور الحياة الحزبية في مصر قبل وبعد ثورة ١٩١٩م .
- يصف دور الأحزاب في العمل الوطني خلال كل مرحلة من مراحل تطور الحياة الحزبية في مصر .
- يقارن بين تطور الحياة الحزبية والدور الوطني للأحزاب بعد ثورة ١٩١٩م وثورة ٢٣ يوليو ١٩٥٢م .
- يعدد بالأمثلة الأدوار التي قامت بها المرأة المصرية في العمل الوطني خلال تطور الحياة النيابية وتطور الحياة الحزبية في مصر .
- يحدد دور منظمات المجتمع المدني ودورها في العمل الوطني .
- يقيم دور مصر في المنظمات الإقليمية والدولية .
- يقارن بين أهداف جامعة الدول العربية وأهداف الأمم المتحدة .
- يعدد أهداف بعض الأجهزة الرئيسة التابعة للأمم المتحدة .
- يقارن بين دور مصر في إنشاء الاتحاد الإفريقي وإنشاء منظمة المؤتمر الإسلامي وأهداف كل منهما .

دروس الوحدة

الدرس الأول: الحياة النيابية والحزبية ودور المرأة في العمل الوطني



الدرس الثاني: مصر والمنظمات الإقليمية والدولية





الوحدة الرابعة

الحياة النيابية والحزبية ودور المرأة فى العمل الوطنى

الدرس الأول

أهداف الدرس

من المتوقع بعد الانتهاء من الدرس أن يكون التلميذ قادرًا على أن:

- يحدد مراحل تطور الحياة النيابية فى مصر .
- يحدد سلطات الحكم فى مصر فى ضوء الدستور الدائم ١٩٧١م .
- يقيم دور المرأة فى الحياة النيابية فى مصر .
- يتتبع مراحل تطور الحياة النيابية فى مصر ودورها فى تحقيق الوحدة الوطنية والسلام الاجتماعى .
- يحدد مراحل تطور الحياة الحزبية فى مصر .
- يقارن بين مراحل تطور الحياة الحزبية فى مصر من حيث عدد الأحزاب وأسباب نشأتها وزعمائها .
- يقارن بين مراحل تطور العمل الوطنى للمرأة المصرية ودورها فى حرية وتقديم الوطن .
- يوضح أساليب وإجراءات تعزيز دور المرأة فى المجتمع .
- يقيم منظمات المجتمع المدنى ودورها فى العمل الوطنى .
- يعطى فكرة عن تعميق مشاركة المرأة فى الحياة الاجتماعية .

مفاهيم أتعلمها

- الحياة النيابية .
- الدستور .
- البرلمان .

معلومات إثرائية عن

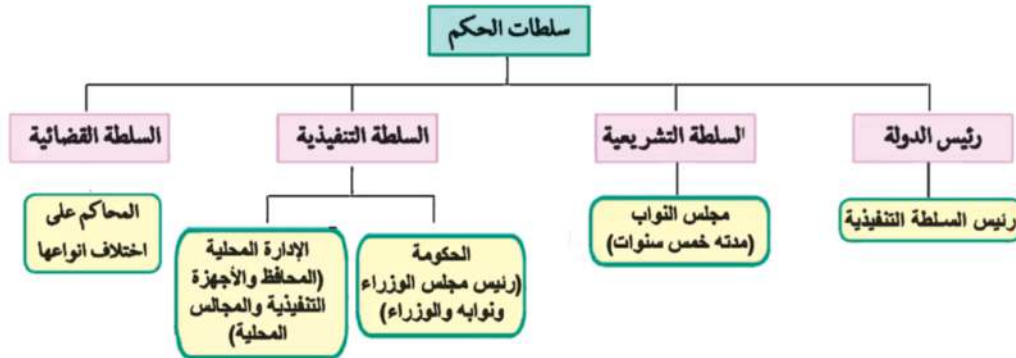
- رفاعة رافع الطهطاوى .
- هدى شعراوى .

قضايا متضمنة

- الوحدة الوطنية .
- المشاركة السياسية
- وتدعيم الديمقراطية .
- حقوق المرأة .

■ سلطات الحكم :

تتمثل سلطات الحكم بمصر في أربع سلطات يوضحها الشكل التالي:



وقد كافح الشعب المصرى خلال مراحل التاريخ المختلفة من أجل الاستقلال والدستور والحرية ، ومرت الحياة النيابية فى مصر بعدة مراحل كما يلي:

■ أولاً تطور الحياة النيابية في مصر

١- مرحلة ما قبل الاحتلال البريطاني :

وقد أنشئت خلال هذه الفترة عدة مجالس نيابية صورية لا سلطة لها .

■ أ - عصر محمد على (١٨٠٥ - ١٨٤٨م) :

أنشأ (محمد على) عدة مجالس استشارية لا سلطة لها .

١- مجلس المشورة

٢- المجلس العالى

■ مفاهيم اتعلمها

الحياة النيابية: قيام الشعب بانتخاب ممثلين لإدارة شئون الحكم فى البلاد وسن القوانين ومراقبة أعمال الحكومة نيابة عنه .



الخديو إسماعيل

ب - عصر الخديو إسماعيل (١٨٦٣ - ١٨٧٩م)

أنشأ إسماعيل مجلس شورى النواب (ديسمبر ١٨٦٦م)

٢- مرحلة عهد الاحتلال البريطاني :

ويمكن تقسيمها إلى مرحلتين .

المرحلة الأولى (من ١٨٨٢ وحتى اندلاع الحرب العالمية الأولى ١٩١٤م) .

وتم فيها إنشاء مجلسين استشاريين هما :

- مجلس شورى القوانين والجمعية العمومية ١٨٨٣م .

- الجمعية التشريعية عام ١٩١٣م .

• المرحلة الثانية (من ١٩٢٣ وحتى قيام ثورة يوليو ١٩٥٢م) .

وفيها صدر دستور ١٩٢٣م والذي تضمن حرية تكوين الأحزاب السياسية،

وإنشاء برلمان يمثل السلطة التشريعية ، والذي تكون من مجلسين هما :

(مجلس النواب - مجلس الشيوخ)

مفاهيم أتصلها

دستور: هو الوثيقة الرسمية التي تحدد نظام الحكم في الدولة وتحدد شكل واختصاصات المؤسسات الدستورية المختلفة.

٣- مرحلة ما بعد ثورة يوليو ١٩٥٢م :

قامت ثورة يوليو ١٩٥٢م بإلغاء دستور ١٩٢٣ م ، وحل الأحزاب السياسية التي كانت قائمة قبل الثورة

وقد شهدت هذه الفترة صدور أول دستور للبلاد عقب ثورة ١٩٥٢م وهو

دستور ١٩٥٦م الذي نص على أن السلطة التشريعية تكون في يد مجلس

منتخب هو « مجلس الأمة » وقد تم تشكيله في يوليو ١٩٥٧م ، وبعدها صدر

دستور ١٩٧١م وكان يطلق عليه **الدستور الدائم**، مؤكداً على سيادة القانون

واستقلال القضاء وإقرار مبادئ التعددية الحزبية.

مفاهيم أتصلها

برلمان: يطلق على المجالس النيابية التي تتولى السلطة التشريعية في الدولة.

الحياة النيابية بعد ثورة ٢٣ يوليو ١٩٥٢م

الفترة من ١٩٨١ حتى
١١ فبراير ٢٠١١م
عصر الرئيس
محمد حسني مبارك



الفترة من ١٩٧٠: ١٩٨١م
عصر الرئيس
محمد أنور السادات



الفترة من ١٩٥٤: ١٩٧٠م
عصر الرئيس
جمال عبد الناصر



للقراءة والاطلاع

ثانيًا مراحل الحياة الحزبية في مصر الحديثة

يعد ظهور الأحزاب السياسية في مصر تعبيراً عن تفاعلات اجتماعية واقتصادية وثقافية ، نتيجة لظروف تاريخية ووطنية وسياسية ، وقد شهدت مصر الحديثة ثلاث تجارب حزبية تعال معا نتعرفها بشئ من التفصيل :

١- مرحلة ما قبل ثورة ١٩١٩ : (١٩٠٧ - ١٩١٤م) :

تم تأسيس عدة أحزاب سياسية أهمها .

١ - الحزب الوطني : برئاسة مصطفى كامل .

٣ - حزب الأمة : وفيلسوفه المفكر أحمد لطفي السيد .

٢- مرحلة بعد ثورة ١٩١٩م : (١٩٢٣ - ١٩٥٢م) :

وتميزت هذه المرحلة بالصراعات الحزبية ، مما أضعف هذه الأحزاب وأدى إلى عدم الاستقرار السياسي ، وذلك بسبب الصدام بين حزب الوفد والقصر أو بينه وبين سلطات الاحتلال البريطاني ، كما كانت هناك أحزاب أخرى مثل الأحرار الدستوريون ، والهيئة السعدية .

٣- مرحلة ما بعد ثورة ٢٣ يوليو ١٩٥٢م :

مرت بمرحلتين فرعيتين وهي:

١ - مرحلة التنظيم السياسي الواحد ١٩٥٣ - ١٩٧٦م

تمثلت في الاتحاد الاشتراكي، وبعد تولية الرئيس السادات الحكم عام ١٩٧٠م قرر في مارس ١٩٧٦م السماح بقيام ثلاثة منابر للرأي وتمثل اليمين واليسار و الوسط ، وفي نوفمبر ١٩٧٦م أعلن الرئيس السادات تحويل التنظيمات السياسية الثلاث إلى أحزاب .

للقرأة والاطلاع

٢ - مرحلة تعددية الأحزاب من ١٩٧٧ - ١٩٨١ م:

صدر قانون الأحزاب السياسية في يونيو ١٩٧٧ م - وقد اشترط لتأسيس أي حزب ما يلي:

- أ - عدم تعارض مبادئه مع مبادئ الشريعة الإسلامية .
- ب - الحفاظ على الوحدة الوطنية والسلام الاجتماعي والنظام الاشتراكي الديمقراطي .
- ج - عدم قيام الحزب على أساس طبقي أو طائفي .

٣ - الفترة من (١٩٨١ - ٢٠١١ م)

تم خلال تلك الفترة تخفيف القيود على النشاط الحزبي ، فبعد أن كان عدد الأحزاب خمسة في عام ١٩٨١ م زادت حتى أصبح عددها أربعاً وعشرين حزباً

ثالثاً: تطور دور المرأة في العمل الوطني

ارتبط تطور دور المرأة في العمل الوطني بقضايا اجتماعية طرحتها الصحافة والهيئات النيابية ، ومرت بمراحل متعددة تعال معا وتعرفها بشئ من التفصيل : -

■ مرحلة ما قبل ثورة ١٩١٩م:

- بدأت هذه المرحلة فعلياً في عهد الخديو اسماعيل الذي استجاب لدعوة رفاة الطهطاوي وأنشأ أول مدرسة لتعليم البنات عام ١٨٧٣ م (مدرسة السنية بالسيدة زينب حالياً) .
- ساهمت المرأة في تأسيس صحافة نسائية تبني القضايا النسائية وتدافع عن حقوق المرأة ومكانتها . فظهرت أول مجلة نسائية مصرية وهي «الريحانة» (فبراير ١٩٠٧ م) وأصدرتها «جميلة حافظ» وتحولت إلى جريدة في مارس ١٩٠٨ م.

مطلومة إثرانية

يقول رفاة الطهطاوي في كتابه "المرشد الأمين في تعليم البنات والبنين" والذي صدر عام ١٨٧٢: إن تعليم المرأة يحقق مزايا عديدة للمجتمع؛ منها:
- التفاهم والتقارب بين الرجل والمرأة.
- الزواج المتكافئ.
- حسن تربية الأولاد.
- إبعاد المرأة عن حياة الفراغ والتي تؤدي إلى النسيمة.

مطلوثة إترانيث



هدى شعراوي

شاركت « هدى شعراوي » في أول وفد عربي في المؤتمر النسائي العالمي الذي انعقد في روما من خلال مؤسسة الاتحاد النسائي .

مرحلة ما بعد ثورة ١٩١٩م وحتى ثورة ٢٣ يوليو

١٩٥٢م:

شهدت هذه الفترة نهضة نسائية ودورًا رائدًا للمرأة في مختلف المجالات منها :

- المشاركة بصورة لم يعهدها المجتمع المصري إلى جانب الرجل في المظاهرات عقب نفي سعد زغلول (مارس ١٩١٩م) .
- تشكيل لجنة الوفد المركزية للسيدات عام ١٩٢٠م وانتخبت « هدى شعراوي » رئيسًا لها .
- الالتحاق بالجامعة المصرية عام ١٩٢٨م (جامعة القاهرة حاليًا)

مرحلة ما بعد ثورة ٢٣ يوليو ١٩٥٢م وحتى الآن :

شهدت هذه الفترة تحولات كبيرة ساعدت على ترسيخ مبدأ مشاركة المرأة في كافة مجالات الحياة السياسية والاقتصادية والإجتماعية منها ما يلي :

(أ) الفترة من ١٩٥٢ إلى ١٩٧١م.

- ١ - حصلت المرأة المصرية على حق الانتخاب والترشح في دستور ١٩٥٦م وأصبحت عضوًا بالبرلمان المصري .
- ٢ - تقلدت المناصب الوزارية فكانت « حكمت أبوزيد » أول وزيرة للشئون الاجتماعية عام ١٩٦٢م .
- ٣ - شاركت المرأة المصرية أيضًا في النقابات العمالية والمهنية والمنظمات غير الحكومية .

(ب) الفترة من ١٩٧١ إلى ١٩٨١م

- شغلت مناصب وزارية حيث عين الرئيس السادات الدكتورة (عائشة راتب) وزيرة للشئون الاجتماعية عام ١٩٧١م .
- شاركت المرأة في الحياة النيابية وشغلت (الدكتورة أمال عثمان) منصب رئيس اللجنة التشريعية بمجلس الشعب .

(ج) الفترة من ١٩٨١ وحتى الآن :

- إدراكاً من الدولة لمكانة المرأة، تم العمل على تدعيم هذه المكانة على كافة المستويات على النحو التالي :
- إنشاء المجلس القومي للمرأة. وتقلدها بعض الوظائف والمناصب المختلفة.

معلومة إثرائية

- تم تعيين أول قاضية مصرية في عام ٢٠٠٢م بالمحكمة الدستورية العليا (تهانى الجبالى).
- تم تعيين أول ماذونة شرعية في ٢٠٠٨م في تاريخ مصر والعالم الإسلامي (أمل سليمان عفيفى)
- تم تعيين أول امرأة مصرية في منصب «العمدة» بمحافظة أسيوط (إيها هابيل) .

أعلم أن

منظمات المجتمع المدني «تضم جمعيات المجتمعات المحلية، والمنظمات غير الحكومية، وال نقابات العمالية، والجمعيات الخيرية وغيرها» .

منظمات المجتمع المدني

تعد منظمات المجتمع المدني عناصر فاعلة في تقديم الخدمات الاجتماعية وتنفيذ برامج التنمية كـمكمل للعمل الحكومي ومن أنشطة منظمات المجتمع المدني ما يلي:

- تثقيف المواطنين وتعريفهم بالحقوق السياسية كالتصويت والانتخاب والترشح للمناصب السياسية .
- توضيح علاقة المواطن بالدولة وكيفية التعبير عن حقوقه وواجباته.
- توفير مناخ يحقق الوحدة الوطنية من خلال توعية الأفراد بنبذ العنف .
- تدعيم السياسة العامة للدولة ومواقفها من القضايا الدولية مثل حظر استخدام الألغام الأرضية ، ومحاربة الإرهاب وحماية البيئة ... إلخ .

توجه إلى الموقع الإلكتروني للوزارة لحل الأنشطة والتدريبات على الدرس





الوحدة الرابعة

مصر والمنظمات الإقليمية و الدولية

الدرس الثاني

معلومات إثرائية عن

- مؤتمر القمة العربية .
- عصابة الأمم .
- بطرس غالي الأمين العام
- السابق للأمم المتحدة .

أهداف الدرس

من المتوقع بعد الانتهاء من الدرس أن يكون التلميذ قادرًا على أن :

- يعطي فكرة موجزة عن إنشاء جامعة الدول العربية .
- يعدد دور مصر في إنشاء جامعة الدول العربية .
- يستخلص الهدف من إنشاء جامعة الدول العربية .
- يحدد الهيكل التنظيمي لجامعة الدول العربية .
- يحدد الهيكل التنظيمي للأمم المتحدة .
- يوضح أهداف الأمم المتحدة .
- يقارن بين أهداف الأجهزة الرئيسة للأمم المتحدة .
- يعطي فكرة عن المنظمات الفرعية التابعة للأمم المتحدة .
- يحدد دور مصر في إنشاء حركة عدم الانحياز .
- يحدد أهداف إنشاء حركة عدم الانحياز .
- يحدد دور مصر في إنشاء الاتحاد الإفريقي .
- يقدر دور مصر في إنشاء منظمة المؤتمر الإسلامي .
- يوضح دور مصر وعلاقتها بالمنظمات المعنية بالشأن الإفريقي .
- يقيم دور مصر في المنظمات الإقليمية .

قضايا متضمنة

- العولمة
- احترام الآخر

التمهيد

لعبت مصر دوراً مهماً في توطيد الروابط العربية ، وقد تحقق ذلك بإنشاء جامعة الدول العربية ، وكانت مصر من أوائل الدول التي وقعت ميثاق الأمم المتحدة ، وقد اتسع الدور المصري ليشمل حركات ومنظمات إقليمية لتعزيز التعاون الدولي ، حيث ساهمت في إنشاء حركة عدم الانحياز، ومنظمة المؤتمر الإسلامي ، ومنظمة الوحدة الإفريقية سابقاً (الاتحاد الإفريقي حالياً) .

أولاً : المنظمات الإقليمية

هي : منظمات التي تجمع عدداً من الدول المستقلة وترتبط ببعضها بروابط معينة .

١- جامعة الدول العربية: مارس ١٩٤٥ م

■ فكرة إنشاء جامعة الدول العربية :

دعت مصر كلاً من رئيس وزراء سوريا والكتلة الوطنية اللبنانية للتباحث في القاهرة حول فكرة إقامة جامعة عربية ، وبعد عدة اجتماعات تم توقيع ميثاق القاهرة مارس ١٩٤٥ كأول وثيقة تخص الجامعة الذي تضمن مبادئ قيام جامعة الدول العربية ، وتم التوقيع من قبل سبع دول عربية هي (مصر - الأردن - سوريا - العراق - السعودية - لبنان - اليمن) ، وأصبح عددها الآن اثنتين وعشرين دولة ، بما فيها فلسطين .



شعار جامعة الدول العربية

■ الهدف من إنشاء جامعة الدول العربية :

- تنسيق العلاقات بين الدول الأعضاء .
- تنسيق الخطط السياسية والاقتصادية والاجتماعية والثقافية والأمنية .
- التعاون وحماية الأمن القومي العربي .
- صيانة وحماية استقلال الدول الأعضاء وسيادتها .
- تعزيز العمل العربي المشترك في مختلف المجالات .

■ الهيكل التنظيمي لجامعة الدول العربية :

(أ) مجلس الجامعة:

يعد أعلى سلطة داخل الجامعة ، ويتألف من ممثلي جميع الدول الأعضاء بما فيهم ممثل دولة فلسطين ، ولكل دولة صوت واحد ، ولمجلس الجامعة مهام محددة أقرها ميثاق الجامعة .

(ب) اللجان الدائمة:

للجامعة العربية عدد من اللجان الدائمة المعنية بمختلف مجالات التعاون فيما بين الأعضاء ، وعددها حالياً اثنتا عشرة لجنة وتحول الكثير منها إلى منظمات متخصصة في مختلف المجالات .

(ج) الأمانة العامة :

أمناء مساعدون وعدد من الموظفين ، ويعين الأمين العام بموافقة مجلس الجامعة بأغلبية الثلثين لمدة خمس سنوات.

معلومة إثرائية

يعقد سنوياً مؤتمراً للقمة العربية في الأسبوع الأخير من مارس لكل عام، ويمكن الدعوة لعقد مؤتمرات طارئة حسب المستجدات على الساحتين العربية والدولية.

٢- الاتحاد الإفريقي:

- شاركت مصر في تأسيسه بعد تحرر الكثير من البلدان الإفريقية ، واستضافت أول قمة إفريقية على أرضها عام ١٩٦٤م.



شعار الاتحاد الإفريقي

- تولت مصر رئاسة الاتحاد الأفريقي للمرة الثالثة في فبراير ٢٠١٩م

برئاسة الرئيس عبدالفتاح السيسي لتعود مصر إلى حضن أفريقيا من جديد متبنيه استراتيجية جديدة تهدف للعمل على تذليل المعوقات التي تواجه تعميق العمل الأفريقي المشترك بتشجيع

سواعد أبناء القارة على بناء المشروعات القارية الرائدة لتطوير البنية التحتية الأفريقية وربط الأسواق الأفريقية وتفعيل اتفاقية التجارة الحرة وقد أكد السيد الرئيس في كلمته بمناسبة الاحتفال بيوم أفريقيا في مايو ٢٠١٩ على ضرورة سعي دول القارة نحو تطوير ثرواتها البشرية وتأهيل شباب القارة لمواجهة تطورات العصر فضلاً عن مواصلة تعزيز دور المرأة الأفريقية كقلب نابض لمجتمعاتها .

- كما أكد أيضاً على تدعيم الروابط الثقافية والحضارية بين شعوب القارة ترسيخاً للهوية الأفريقية وإعلان لمبادئ التضامن الأفريقي .

٣ - منظمة المؤتمر الإسلامي

تعد مصر من أوائل الدول التي ساهمت في بلورة فكرة إنشاء هذه المنظمة .

وشاركت مصر في كافة المؤتمرات الإسلامية ، وكان أهم مؤتمرات القمة الإسلامية هو الذي انعقد في سبتمبر ١٩٦٩م بمدينة الرباط المغربية .



شعار منظمة المؤتمر الإسلامي

ثانياً - المنظمات الدولية :

تضم في عضويتها دول العالم المستقلة وإن لم ترتبط ببعضها بروابط معينة وتمثل في .



شعار الأمم المتحدة

١ - الأمم المتحدة:

- منظمة عالمية تضم في عضويتها جميع دول العالم المستقلة ومقرها نيويورك . وقد أنشئت أواخر عام ١٩٤٥ م ، ومن أهم أهدافها :
- المحافظة على السلام والأمن الدوليين .
 - تنمية العلاقات الودية والتعاون الدولي لحل المشكلات الاقتصادية والاجتماعية والثقافية .
 - تعزيز احترام حقوق الإنسان وحرياته دون تفرقة بسبب الجنس أو الدين .

معلومة إثرائية

في الفترة من ١٩١٩ إلى ١٩٤٥م كانت هناك عصبة الأمم إلا أنها فشلت في مهامها، خصوصاً بعد قيام الحرب العالمية الثانية، مما أدى إلى نشأة الأمم المتحدة بعد انتصار الحلفاء. وعضوية الأمم المتحدة مفتوحة أمام كل الدول المحبة للسلام، والتي تقبل التزامات ميثاق الأمم المتحدة وحكمها. وعدد الدول الأعضاء في المنظمة الدولية ١٩٢ دولة.

الأجهزة الرئيسية للأمم المتحدة:

تتكون الأمم المتحدة من ستة أجهزة رئيسة كما يلي :

الجمعية العامة :

تضم جميع الدول الأعضاء في الأمم المتحدة ولكل دولة صوت واحد .

مجلس الأمن :

أهم أجهزة الأمم المتحدة لأنه المسئول عن حفظ السلام والأمن الدوليين ، وسلطته قانونية على حكومات الدول الأعضاء.

مجلس الوصاية :

أنشئ مجلس الوصاية ليرعى مصالح شعوب البلدان التي كانت مستعمرات والأخذ بيدها نحو الحكم الذاتي والاستقلال .

محكمة العدل الدولية:

الجهاز القضائي الأساسي للأمم المتحدة ومقرها لاهاي بهولندا ، وتنظر في القضايا التي تضعها الدول أمامها وتقديم الاستشارات القانونية للهيئات الدولية .

الأمانة العامة :

يرأس الأمانة العامة الأمين العام ، ويتم تعيينه عن طريق الجمعية العامة بناء على توصية من مجلس الأمن لفترة خمس سنوات ، ومقرها نيويورك .

المجلس الاقتصادي والاجتماعي .

أحد المجالس الرئيسية للأمم المتحدة ، ومسئولاً عن نشاط الأمم المتحدة الاقتصادي والاجتماعي يتبعه عدد من المنظمات المتخصصة .

معلومة اثرائية

فى الفترة من يناير ١٩٩٢م وحتى ٣١ ديسمبر ١٩٩٦م شغل الدكتور (بطرس بطرس غالى) المصرى الجنسية منصب الأمين العام للأمم المتحدة. أما الأمين العام الحالى فهو (أنطونيو غوتيريس) وهو برتغالى الجنسية.

- وقد شاركت مصر في الأنشطة المختلفة للأمم المتحدة، كما شاركت بجنودها في قوات حفظ السلام الدولية في بلدان عديدة منها (الكونغو - البوسنة والهرسك - الصومال - الكويت).



شعار اليونسكو

(أ) منظمة الأمم المتحدة للتربية والعلوم والثقافة (اليونسكو).

منظمة متخصصة تأسست عام ١٩٤٥م هدفها الرئيسي المساهمة في إحلال السلام والأمن عن طريق رفع مستوى التعاون بين دول العالم في مجالات التربية والعلوم والثقافة. ومن أمثلة التعاون بين المنظمة وجمهورية مصر العربية المساهمة فيما يلي :

١ - إنقاذ معابد (أبوسمبل) في عام ١٩٦٤م .

٢ - إحياء مكتبة الإسكندرية .



شعار منظمة الصحة العالمية

(ب) منظمة الصحة العالمية :

أنشئت في أبريل ١٩٤٨م ومقرها جنيف بسويسرا ، والهدف منها توفير أفضل سبل الرعاية الصحية لجميع الشعوب ، ونشر الوعي من أجل حماية مياه الشرب من التلوث وعقد دورات تدريبية لتطوير الخدمات الصحية.



شعار منظمة الأغذية والزراعة

(ج) منظمة الأغذية والزراعة (الفاو) : FA.O :

منظمة متخصصة في المجال الزراعي للقضاء على الجوع ومساعدة البلدان النامية على تطوير وتحسين الإنتاج الزراعي والتغذية الجيدة، ومقرها الحالى مدينة روما بإيطاليا.



unicef

شعار منظمة اليونيسف

(د) منظمة الأمم المتحدة للطفولة :

(اليونيسف) Unicef : هي المنظمة الوحيدة المتخصصة في مجال الطفولة لتعزيز وحماية حقوق الأطفال ورعايتهم ، وفي عام ١٩٥٩م كان إعلان حقوق الطفل باعتبارهم يمثلون محور التنمية .



شعار مؤتمر حركة عدم الانحياز

بشرم الشيخ

٢ - حركة عدم الانحياز

كانت البداية مصرية في مؤتمر باندونج عام ١٩٥٥م بالاشتراك مع الهند وإندونيسيا ويوغسلافيا سابقاً في تأسيس حركة عدم الانحياز ، وبعد أن كانت الحركة تضم في بدايتها ٢٥ دولة أصبحت كياناً ضخماً يضم حالياً ١١٨ دولة من قارات إفريقيا وآسيا وأوروبا وأمريكا اللاتينية (الجنوبية) .

توجه إلى الأنشطة والتدريبات لحل التطبيقات علي الدرس .

توجه إلى الموقع الإلكتروني للوزارة لحل

الأنشطة والتدريبات على الدرس



المواصفات الفنية: الدراسات الاجتماعية ص ٢ الإعدادى

عدد صفحات الكتاب	١٨٨ صفحة بالغلاف
المتن	٧٠ جرام $\frac{1}{8}$ ٥٧ X ٨٢
الغلاف	كوشية ١٨٠ جرام
الطباعة	٤ لون للمتن و ٤ لون للغلاف
رقم الكتاب	٢٠/٣/٣٣/٢/٢/٢٥٠

<http://elearning.moe.gov.eg>

