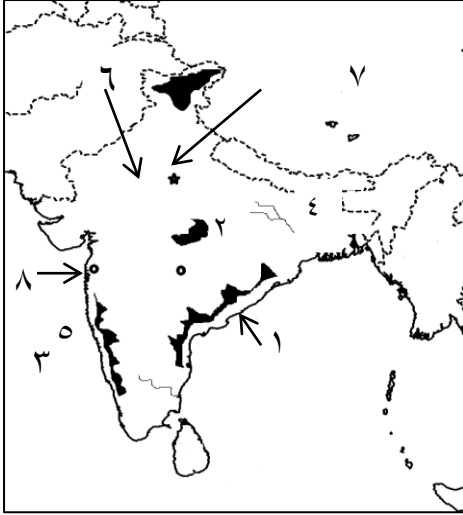


## النموذج الاول



📌 أمامك خريطة صماء للهند وضع عليها مدلول الأرقام التالية:

١- سُهل كروماندل ٢- هضبة الدكن

٣- البحر العربي ٤- نهر الجانج

٥- سهول ملبار ٦- سهول الهندوستان

٧- مدينة نيودلهي ٨- مدينة بومباي

🌟 أكتب ما تشير اليه العبارات التالية/

١- الخام الرئيسي لمعدن الألومنيوم (البوكسيت)

٢- مدينة أنشأت علي هضبة البرازيل لإعادة توزيع السكان في البرازيل. (برازيليا)

٣- مصدر طاقه كان يمثل عماد الثورة الصناعية حتي بداية القرن العشرين (الفحم)

🌟 اختر الاجابة الصحيحة مما بين القوسين/

١- أولي دول العالم إنتاجا للمطاط ..... (نيجيريا - الصين - النرويج - تايلاند)

٢- ينتج قصب السكر في كل قارات العالم ماعدا..... (آسيا - أوروبا - أفريقيا - أمريكا الشمالية)

📌 ما الدولة الاولى في إنتاج كلا من/

١- قصب السكر البرازيل ٢- الاغنام الصين ٣- الالبان الهند ٤- البوكسيت استراليا ٥- الفحم الصين

🌟 قارن بين /

١- الهند و الولايات المتحدة من حيث:

\* المناخ السائد \* القارة التي تنتمي اليهما \* علاقة كل منهما بمصر.

وجه المقارنة	المناخ السائد	القاره	علاقتها بمصر
الهند	أمطار موسمية صيفية في الشمال ، وأمطار شتوية في الجنوب "مناخها موسمي"	تنتمي الي قارة آسيا	تصدر مصر الي الهند القطن الاسمده المصنعة والجلود والفسفات تستورد مصر من الهند غزل القطن والسسمم والتوابل والشاي
الولايات المتحدة	يتنوع المناخ * شبه المداري الحار * مناخ السهول الوسطي * المناخ الجبلي والهضبي	تنتمي الي قارة أمريكا الشمالية	علاقات قوية في جميع المجالات هناك تعاون إقتصادي وتكنولوجي وعلمي * أهم الاتفاقيات - إتفاقية التجارة الحرة. - إتفاقية الكويز. تستورد مصر منها المنتجات التكنولوجية - الاسلحة - الطائرات

📌 صفها النتائج المترتبة علي/

١- وقوع الهند في نطاق المناخ الموسمي؟ أدبي الي ارتفاع الحرارة جنوبا ، بينما تقل في الشمال .

٢- عدم تقدم الصناعة في نيجيريا ؟ ..... أصبحت نيجيريا من الدول النامية التي تعتمد علي الزراعة

## - المقومات الطبيعية لكل من الانتاج السمكي والصناعي في العالم.

الانتاج السمكي	النشاط الصناعي
ضخالة المياه التقاء التيارات الدفيئة مع الباردة توافر الموائل الطبيعية	المواد الخام "زراعية - معدنية - حيوانية" مصادر الطاقة (متجددة او غير متجددة) الموقع المتميز.

← بم تفسر /

١- يعد النشاط الزراعي من الانشطة الاقتصادية الهامة في العالم؟

\*مصدر رئيسي لغذاء الانسان.....\*مصدر للمواد الخام اللازمة للصناعة.....\*يرتبط بها تربية الحيوان.

٢- زيادة الاستهلاك العالمي من اللحوم؟..... بسبب إرتفاع مستوي المعيشة.

٣- التوسع في استخدام الغاز الطبيعي في الوقت الحالي؟- لانه مصدر طاقة نظيف - وغير ملوث للبيئة - سهولة نقله.

٤- تعد الولايات المتحدة القوة الصناعية الاولى في العالم؟

- لتوافر كل مقومات الصناعة.

\* ما العلاقة بين....؟

١- إنتاج الفحم - صناعة الحديد والصلب؟..... أدي توافر الفحم الي تطور الصناعة خاصة صناعة الحديد والصلب.

٢- الامطار - النبات الطبيعي في الهند؟..... أدت الامطار الي نمو الغابات الموسمية الكثيفة خاصة الساحل الغربي

والساحل الشرقي.

\* من جهة نظرك كيف يمكن جودة الانتاج الصناعي في مصر؟

- الاهتمام بتطوير التعليم الفني والصناعي - توفير رأس المال - اتجاه السياسة الحكومية للدولة نحو تطوير الصناعة

☺ أعد كتابة العبارات التالية بعد تصويب الخطأ/

١- يزرع قصب السكر في كل قارات العالم ما عدا آسيا. (أوربا)

٢- تساهم الولايات المتحدة بربع المنتجات الكهربائية في العالم. (ثلث)

٣- يسود المناخ المعتدل في حوض الامزون في البرازيل. (الاستوائي)

☞ ضع علامة (✓) أو علامة (x).... مع التصويب /

١- عقد مؤتمر باندونج بأندونيسيا عام ١٩٥٥ (✓)

٢- قبلت مصر قرار مجلس الامن ٢٤٢ وامتنعت إسرائيل عن تنفيذه. (✓)

٣- كانت معاهدة السلام بين كلاً من مصر وإسرائيل عام ١٩٧٩ برعاية الاتحاد السوفيتي. (X) برعاية امريكية

☺ اختر الاجابة الصحيحة مما بين القوسين /

١- عرف الدستور الذي أصدره الرئيس السادات بالدستور ..... (المستديم - الموازي - الدائم)

٢- إستجاب الخديوي إسماعيل لدعوة .... وأنشأ أول مدرسة لتعليم البنات ١٨٧٣ (الطهطاوي - محمد فريد - سعد زغلول)

٣- إمتنعت عن التصويت علي تقسيم فلسطين ١٩٤٧.... (فرنسا - الولايات - بريطانيا - الاتحاد السوفيتي)

٤- قررت دول ..... وضع فلسطين تحت الانتداب البريطاني (الحلفاء - المحور - الكوميسا - حلف شمال الاطلنطي)

٥- الادارة المحلية يمثلها.....والاجهزة التنفيذية(المحافظ - الوزير - رئيس الدولة)

٦- قائل عبارة "ما اخذ بالقوة لا يسترد الا بالقوة"... (أنور السادات - جمال عبد الناصر - محمد نجيب - حسني مبارك)

❦ ما النتائج المترتبة علي...؟

١- ظاهرة الاقطاع قبل ثورة ١٩٥٢؟- جعل فئة صغيرة تمتلك وتستبد .....وانتشار ظاهرة الفقر والجهل والمرض.

٢- توقيع إتفاقية أوسلو ١٩٩٣؟- إنشاء حكم ذاتي فلسطيني في الضفة الغربية وقطاع غزة.

٣- العدوان الثلاثي علي مصر ١٩٥٦؟

- رحيل بريطانيا وفرنسا من بورسعيد

- رحيل القوات الاسرائيلية من غزة وسيناء

- قيام الوحدة العربية بين مصر وسوريا ١٩٥٨م.

٤- التعاون بين مصر ومنظمة اليونسكو؟

- قامت منظمة اليونسكو بإفقاد معبد أبو سمبل من الغرق .

- كما ساهمت في إحياء مشروع مكتبة الاسكندرية.

٥- عقد مؤتمر سان ريمو ١٩٢٠م؟.....- منح الانتداب علي فلسطين لبريطانيا و بدء تنفيذ وعد بلفور.

٦- هزيمة العرب في حرب فلسطين؟

- أدى الي استيلاء اسرائيل علي كل فلسطين ماعدا الضفة الغربية وقطاع غزة.

❦ اكتب ما تشير اليه العبارات التالية/

١- منظمة تضم في عضويتها جميع الدول المستقلة وترتبط ببعضها بروابط معينة.(المنظمات الإقليمية)

٢- وعد أصدرته بريطانيا عام ١٩١٧ لإنشاء وطن قومي لليهود(وعد بلفور).

٣- منظمة متخصصة في مجالات التربية والثقافة والعلوم(اليونسكو).

٤- تولي القيادة العامة الموحدة للجيش المصرية والسورية وتم منحه نجمة سيناء(المشير أحمد اسماعيل).

٥- المسئول عن حفظ الامن والسلام الدوليين وسلطته قانونية علي الدول الاعضاء(مجلس الامن).

❦ افسر/

١- أهمية الدستور الدائم ١٩٧١مصر؟

- لأنه أكد علي "سيادة القانون - إستقلال القضاء - إقرار مبدأ تعدد الاحزاب السياسية.

٢- قيام ثورة ٣٠ يونية ٢٠١٣م؟

- لعدم تحقيق السياسة الجديدة للدولة حلول للمشكلات التي يعاني منها غالبية الشعب المصري، وسوء الاحوال الإقتصادية

٣- هزيمة ٥ يونية ١٩٦٧م؟

- التفوق العسكري لإسرائيل في سلاح الطيران .. إستخدام عنصر المفاجأة ... مساعدة الولايات المتحدة لإسرائيل

٤- أهمية جامعة الدول العربية؟

- لتنسيق العلاقات بين الدول العربية.....صيانة وحماية إستقلال الدول الاعضاء.....التعاون وحماية الامن القومي العربي

٥- لمصر دور في خدمة قضايا إفريقيا؟

- شاركت مصر في تحرير الكثير من الدول الافريقية ..... إستضافت أول قمة إفريقية علي أرضها عام ١٩٦٤م.

## ٦- أهمية مجلس الوصاية كاحد أهم أجهزة الأمم المتحدة؟

- ليرعى مصالح الشعوب والبلدان التي كانت تحت الاحتلال للنهوض بها.

## 🕒 قارن بين كلامين /

١- قرار مجلس الامن ٢٤٢ وقرار ٣٣٨

قرار مجلس الامن ٢٤٢	قرار مجلس الامن ٣٣٨
نص علي إعادة إسرائيل جميع الاراضي العربية التي إستولت عليها بعد عدوان ٦٧	نص علي وقف جميع العمليات الحربية بدءاً من يوم ٢٢ أكتوبر

## ٢- دور المرأة قبل ثورة ١٩١٩ وبعد ثورة ١٩٥٢م.

دور المرأة قبل ثورة ١٩١٩	دور المرأة بعد ثورة ١٩٥٢
فيها إستجاب الخديوي إسماعيل لدعوة رفاة الطهطاوي فأنشأ مدرسة لتعليم البنات " المدرسة السنية" تم تأسيس اول مجلة نسائية " الريحانه " أسستها جميلة حافظ ١٩٠٧	حصلت المرأة علي حق الترشح في المجالس النيابية ٥٦ اول وزيرة للشئون الاجتماعية حكمت أبو زيد ٦٢ وزيرة الشئون الاجتماعية في عهد السادات عائشة راتب آمال عثمان شغلت منصب رئيس للجنة التشريعية بمجلس الشعب

## ما العلاقة بين /

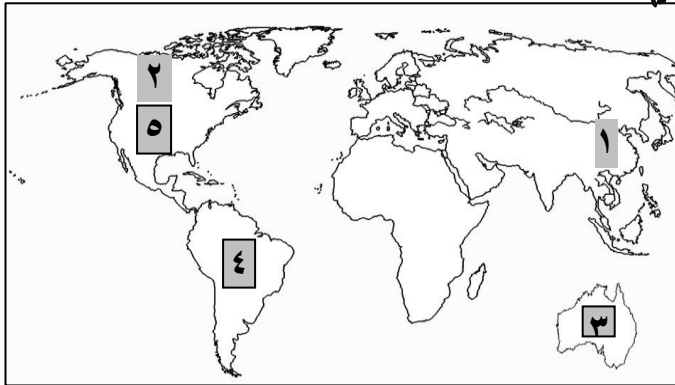
## حرب الاستنزاف ومبادرة روجرز؟

نجاح مصر في إقامة حائط الصوريخ ادي الي تقديم الولايات المتحدة مبادرة روجرز لحل النزاع بالطرق السلمية

## النموذج الثاني

## أولاً : الجغرافيا

🌍 أمامك خريطة صماء للعالم أكتب مدلول الأرقام الموجودة عليها:



١- أكبر دولة منتجة للقمح الصين

٢- أكبر القارات انتاجاً للذرة أمريكا الشمالية

٣- أكثر دول العالم انتاجاً للأصواف استراليا

٤- أولى دول العالم انتاجاً لقصب السكر البرازيل

٥- أولى دول العالم في إنتاج الغاز الطبيعي الولايات المتحدة

## \* بم تفسر ما يلي :

١- تطور الصناعة في الدول المتقدمة ؟.....بسبب استخدام الاساليب العلمية واجراء الابحاث العلمية

٢- قلة عدد السكان في دلتا نهر النيجر ؟.....لارتفاع درجة الحرارة ووجود الغابات

٣- تصدر الدول المنتجة لخام البوكسيت معظم انتاجها للخارج ؟

لعدم توافر مقومات صناعته وهي: \*طاقة كهربائية .....خبرة علمية وفنية.....أسواق داخلية وخارجية تستوعب الانتاج.

#### ٤- زيادة أهمية البترول في الوقت الحالي؟

- يترتب بالتنمية الاقتصادية والاجتماعية العلاقات السياسية.....ويتم تكريره فيشتق منه البنزين والسولار.

#### 📖 صوب ماتحته خط

١- من المحاصيل التي تزرع في نطاق الزراعة التجارية اليوم والكسافا.....الزراعة البسيطة

٢- تعتبر الولايات المتحدة اولى دول العالم في انتاج البترول.....السعودية

٣- تعد جمهورية كوريا من دول اقليم غرب ووسط أوروبا الصناعي.....شرق آسيا

٤- تقع معظم مساحة دولة باكستان داخل الهند.....بنجلاديش

#### 📖 اكل العبارات الآتية

١- اولى دول العالم في انتاج محصول الشاي دولة الصين

٢- من المحاصيل التي تستخدم في صناعة اطارات السيارات محصول المطاط

٣- تعتبر دولة الهند من اكبر دول العالم في تربية الأبقار.

٤- تعد لاجوس العاصمة الاقتصادية للنيجيريا.

٥- توجد إتفاقيات تجارية منها اتفاقية التجارة منطقة التجارة الحرة واتفاقية الكوير

٦- تستورد مصر من نيجيريا الحبوب الزيتية

٧- واشنطن العاصمة السياسية للولايات المتحدة بينما سان فرانسيسكو أكبر الموانئ علي المحيط الهادي.

ب ( قارن بين دولتي نيجيريا و الهند من حيث : ١- المناخ في كل منهما ٢- عاصمة كل منهما

الهند	نيجيريا
تقع في الاقليم الموسمي حيث الامطار الصيفية نيودلهي العاصمة السياسية	تقع معظم نيجيريا في الاقليم المداري الحار ماعدا الاجزاء الجنوبية في الاقليم الاستوائي. العاصمة السياسية الحالية أبوجا

ج ( مالمقصود ( بالنشاط التعديني ) هو إستخراج المعادن ومصادر الطاقة المختلفة من باطن الارض.

ما النتائج المترتبة علي

١- إتساع الولايات المتحدة وتنوع تضاريسها؟.....تنوع الاقاليم المناخية بها.

٢- نظافة ورخص الغاز الطبيعي؟.....أدي ذلك الي توسع العالم في استخدامه.

٣- إنتشار التعليم بين القبائل في وسط آسيا بالنسبة للرعي البدائي؟.....ادي الي قلة العاملين في نشاط الرعي .

٤- زيادة الطلب علي البترول؟.....أدي الي ارتفاع أسعاره عالميا.

الي أي الدول تنتمي المدن التالية وما شهرتها؟

٥-إبيادان.

٣- نيويورك

١- لاجوس

### الي أي الدول تنتمي الظاهرات الجغرافية التالية/

- ١- نهر النيجر ٢- بحيرة متشجن ٣- نهر الامزون ٤- نهر كوفري مرتفعات أموس

هـ اكتب كلمة صح او كلمة خطأ أمام مايناسب كل عبارة مع تصويب الخطأ :

- ١- القى اللواء محمد نجيب بيان ثورة ٢٣ يوليو ١٩٥٢ (X) أنور السادات
- ٢- صدر الحكم الدولي لصالح مصر عام ١٩٨٨ بشأن بعض علامات الحدود (✓)
- ٣- اعترض الملك فاروق على مغادرته لمصر عند قيام ثورة ٢٣ يوليو ١٩٥٢ (X) وافق
- ٤- سيطر السادات علي كل قطاعات الجيش بعد إعلان بيان الثورة عام ١٩٥٢م (X) اللواء محمد نجيب
- ٥- تحقق عنصر المفاجأة في ضرب المطارات المصرية خلال العدوان الاسرائيلي عام ٦٧ بمساهمة امريكية (✓)

✋ ماالنتائج المترتبة على /

### ١- تحقيق السلام وحل النزاع العربي الإسرائيلي؟

- تحقيق الاستقرار الداخلي للدول العربية.
- دفع عجلة التنمية الاقتصادية والاجتماعية
- تشجيع رؤوس الأموال العربية والاجنبية على الاستثمار
- تشجيع حركة السياحة

### ٢- التطبيق الغير سليم لسياسة الخصخصة في مصر؟

إرتفاع الاسعار.....زيادة نسبة البطالة.

### ٣- بناء حائط الصواريخ علي الضفة الغربية إثناء حرب الاستنزاف؟

- منع الطائرات السرائيلية من الاقتراب من قناة السويس وتقديم الولايات المتحدة مبادرة روجرز لحل النزاع سلميا

✋ الي من تنسب الأعمال الآتية

- ١- صاحب فكرة إنشاء مدرسه لتعليم البنات في عهد الخديوي إسماعيل (رفاعه الطهطاوي)
- ٢- أول وزيرة للشئون الاجتماعية في عام ١٩٦٢م. (حكمت أبو زيد)
- ٣- دعا كل من السادات وبيجين الى مؤتمر كامب ديفيد عام ١٩٧٨ (كارتر)
- ٤- من أشهر شهداء حرب الاستنزاف إعمد عليه جمال عبد الناصر في إعادة بناء القوات المسلحة. (عبد المنعم رياض)
- ٥- دعت كلا من رئيس وزراء سوريا والكتلة اللبنانية لعقد مباحثات لانشاء جامعة الدول العربية. (مصر)
- ٦- تم تعيينه رئيسا لاركان حرب القوات المسلحة المصرية عام ١٩٧١م. (الفريق سعد الدين الشاذلي)

٧- أصدرت أول مجلة نسائية عرفت بالريخانة عام ١٩٠٧م. (جميله حافظ)

## 😊 اختر الإجابة الصحيحة

١- اغلقت مصر في وحه الملاحة الإسرائيلية في مايو ١٩٦٧ خليج ... ( السويس - عمان - العقبة - عدن )

٢- تولى القيادة العامة الموحد للقوات المصرية و السورية في حرب أكتوبر ١٩٧٣

( سعد الدين الشاذلى - احمد اسماعيل - محمد عبدالغنى الجمسى - عبدالمنعم رياض )

٣- الحرب التى اظهرت اهمية سلاح النفط العربى هى حرب (الإستنزاف - ١٩٦٧ - فلسطين ١٩٤٨ - أكتوبر ١٩٧٣)

٤- من انجازات ثورة ٢٣ يوليو فى المجال السياسى.....

( بناء السد العالى - مجانية التعليم - قوانين التأمينات والمعاشات - الغاء الملكية واعلان الجمهورية )

"اكتسبت ثورة ٢٣ اهمية كبيره لما تركته من آثارعلى اغلب حركات التحررية فى الوطن العربى والعالم " فى ضوء هذه العبارة أجب

١- انجازات ثورة يوليو فى المجال العربى والدولى .

\*تأييد مساندة الشعب الفلسطينى فى تكوين دولة مستقلة.

\*تحقيق أول وحدة عربية بين مصر وسوريا.

\*المساهمة فى تشكيل حركة عدم الانحياز.

\*كسر إحتكار السلاح العالمى بعقد صفقة الاسلحة الشرقية.

٢- كان تدهور الاحوال الاقتصادية من عوامل قيام ثورة ٢٥ يناير ٢٠١١م.

\*بسبب إتباع سياسة الانفتاح الاقتصادى

\*التطبيق الغير سليم لسياسة الخصخصة وبيع مؤسسات الدولة.

٣- ارسال مصر قواتها الى سيناء وإعلان وقفها الى جانب سوريا ١٩٦٧؟

لتطبيق اتفاقية الدفاع المشترك بين مصر وسوريا التى تم توقيعها.

دلل علي صحة العبارة التالية

١- دور مصر فى منظمة الاتحاد الافريقى؟

- استضافت أول قمة إفريقية على أرضها عام ١٩٦٤ ورأست الاتحاد الأفريقى مرتين.

٢- يعد دور منظمات المجتمع المدنى مكملًا للعمل الحكومى؟

- لانها تعتبر عناصر فاعلة فى تقديم الخدمات الاجتماعية وتنفيذ برامج التنمية

👉 ماذا يحدث اذا

١- إعتمدت مصر علي سلاح الطيران فقط فى حرب أكتوبر ١٩٧٣؟...عدم تحطيم خط بارليف

٢- لم تساعد مصر حركات التحرر الوطنى فى الجزائر؟.....لم تشترك فرنسا فى العدوان الثلاثى علي مصر.

أذكر إثنين من إنجازات ثورة ١٩٥٢ فى المجال العربى والدولى؟



- تأسيس حركة عدم الانحياز.....مسانده ثورة الجزائر .....قيام الوحده بين مصر وسوريا.

أذكر إثنين من أهداف ثورة ١٩٥٢م.

- القضاء علي الاستعمار وإقامة جيش وطني قوي.

ما العلاقة بين /

١- حركات التحرر الوطني في الجزر والعدوان الثلاثي.

- أدت مساندة مصر لثورة الجزائر الي اشتراك فرنسا في العدوان

صح دلل علي صحة العبارة التالية /

١- معاهدة ١٩٣٦ لم تؤدي الي الاستقلال الحقيقي.

- بسبب محاصرة القوات البريطانية لقصر عابدين لإجبار الملك فاروق علي تعيين مصطفى النحاس رئيسا للحكومة.

٢- قامت الدول العربية بدور كبير في حرب أكتوبر .

- حيث قدمت بعض الدول دعما عسكريا مثل الجزائر .....بعضها قدم دعما ماليا مثل السعودية والكويت .....وقامت

الدول المصدرة للبترول بمنع تصديره للولايات المتحدة خاصة بعد تقديمها مساعدات عاجله لإسرائيل.

٣- استطاعت ثورة ٢٣ يوليو القضاء علي الاقطاع

"لكن المصريون إسرائيل درسا قاسيا في حرب أكتوبر ١٩٧٣"

١- وضع إجراء الرئيس السادات لاعداد الجبهة الداخلية للبلاد قبل حرب أكتوبر ١٩٧٣.

أ- أصد دستور ١٩٧١ ب- رفع الرقابة علي الصحف ج- الغي الحراسات المقيده علي الحريات

٢- أذكر أوجه الاختلاف بين موقف الولايات المتحدة من مصر أثناء العدوان الثلاثي ٥٦ وحرب أكتوبر ٧٣

- في أثناء العدوان الثلاثي رفضت الولايات المتحدة استخدام لقوة في حل النزاع.

- في أثناء حرب أكتوبر قدمت الولايات مساعدات مالية وأقامت جسرا جويا كما قدمت معلومات عسكرية لإسرائيل

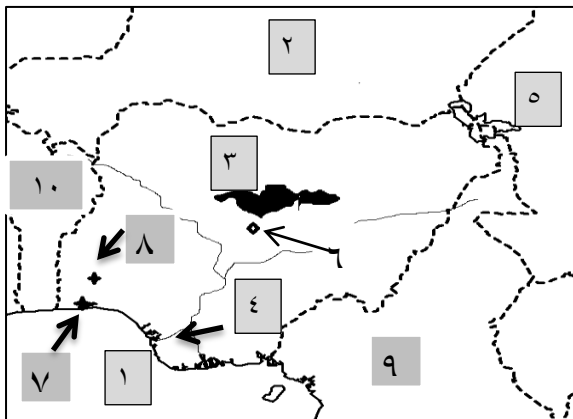
ساعدت في إحداث ثغرة الدفرسوار.

٣- العلاقة بين قرار مجلس الامن ٢٤٢ وحرب أكتوبر ١٩٧٣.

أدي رفض إسرائيل لقرار مجلس الامن الي إصرار مصر وسوريا للقيام بحرب أكتوبر

النموذج الثالث

صح امامك خريطة صماء لدولة نيجيريا وضع عليها مدلول الارقام التالية /



١- خليج غينيا ٢- دولة النيجر

٣- منطقة لإستخراج القصدير المنطقة الشرقية

٤- منطقة يقل بها التركز السكاني دلتا نهر النيجر

٥- دولة تشاد ٦- مدينة أبوجا السياسية.

٧- مدينة لاجوس ٨- مدينة إيبادان للتعليم والمواصلات

٩- دولة الكيرون ١٠- دولة بنين

صح بهم تفسر /

١- إقتصاد صناعة الالومنيوم علي الدول المتقدمة رغم عدم توافر البوكسيت بها؟



- بسبب توافر مقومات صناعته "الكهرباء - الخبرة الفنية - الاسواق"

٢- يزرع قصب السكر في كل قارات العالم ماعدا قارة اوربا؟..... بسبب عدم توافر شروط زراعته.

٣- تعتبر نيجيريا من الدول الغنية بالابقار والاغنام؟..... لوفرة المراعي الطبيعية التي تربي عليها.

٤- تركز السكان في السهول الشمالية "هضبة جوس"؟..... بسبب توافر مناطق الزراعة والرعي والتعدين.

قارن بين

(أ) نيجيريا والهند من حيث /

\*الصناعة \*النبات الطبيعي \*علاقتها بمصر \*المناخ السائد.

وجه المقارنة	الصناعة	النبات الطبيعي	علاقتها بمصر	المناخ السائد
نيجيريا	ليست متطورة ولا متنوعة	- الغابات المدارية: تغطي بأشجارها المتشابكة الجزء الجنوبي - السافانا الطويلة : توجد في الشمال	١- تصدر مصر لها الأسمدة والمعدات الثقيلة والاسلاك النحاسية والاطارات والمحولات الكهربائية ومواسير الألومنيوم . ٢- تستورد مصر منها السلع الزراعية وأهمها الحبوب الزيتية.	معظمها في المناخ المداري ماعدا الاجزاء الجنوبية في الاقليم الاستوائي
الهند	تطورت بسبب وفرة الأيدي العاملة والخبرات الفنية وفرة المواد الخام الطبيعية	- الغابات الموسمية : في الغرب والشمال اشجارها التيك - الحشائش القصيرة : في معظم هضبة الدكن	١- تصدر مصر إلى الهند القطن والأسمدة الخام و المصنعة والبترو ل والجلود ٢- تستورد مصر من الهند غزل القطن والسمن والشاي والتوابل وقطع غيار وسائل	- مناخ مدارى حار

اختر الاجابة الصحيحة مما بين القوسين /

١- تقع ولاية ..... في وسط المحيط الهادي.(الاسكا - بوسطن - هاواي)

٢- يضم جنوب شرق آسيا مراكز صناعية (تايلاند - البرايل - المكسيك - اليابان)

٣- تحتل ..... المركز الاول في إنتاج الغاز الطبيعي ويصل إنتاجها الي ثلث الانتاج العالمي (اوربا - اسيا - أمريكا الشمالية)

٤- أكبر دولة في أفريقيا من حيث السكان ويبلغ إنتاجها من البترول ٣% من الانتاج العالمي (جيبوتي - نيجيريا - موريتانيا)

هـ صوب ما تحته خط /

١- أول قارات العالم إنتاجا للأبقار قارة أمريكا الشمالية وبينما اهم دولها الصين.....آسيا ، الهند.

٢- تتميز الزراعة الكثيفة بزراعة محصول واحد خلال العام.....أكثر من محصول.

٣- من هضاب شمال نيجيريا هضبة الدكن.....جوس.

٤- أهم الصناعات في دول الخليج الصناعات اليدوية.....الصناعات البترولية

٥- نيويورك كبر مدن السهول الوسطي في الولايات المتحدة وتقع علي بحيرة متشجن.....شيكاغو

اكتب المفهوم الجغرافي لكل من /

١- الرعي البدائي/رعي يمارسه السكان في المناطق الصحراويه في القارات العالم.

٢- الزراعة الكثيفة/ تعني زراعة الارض بشكل مكثف لإشباع حاجه السكان من الغذاء

ماذا يحدث إذا

- ١- تطوت الصناعة في نيجيريا؟.....\*أصبحت نيجيريا من الدول ذات الاقتصاد المرتفع.
  - ٢- توافرت مصادر الطاقة لدي الدول المنتجة للبوكسيت؟ أصبحت الدول المنتجة للبوكسيت هي الدول المصنعة للألومنيوم.
- ضع علامة (✓) أو علامة (x) مع التصويب /

- ١- يتركز نصف سكان الولايات المتحدة في إقليم نيو إنجلند (✓)
- ٢- تقع معظم نيجيريا في الاقليم الاستوائي (X) المداري
- ٣- توافر الخبرة العلمية والفنية أحد المقومات الطبيعية لصيد الاسماك (X) البشرية
- ٤- توجد العديد من المركز الاسلامية في مدينة حيدر أباد (✓)
- ٥- تنسم المرتفعات الشمالية الشرقية بالولايات المتحدة بندرة الامطار والحرارة المنخفضة (✓)

أكتب المصطلح التاريخي /

- ١- الوثيقة الرسمية التي تحدد نظام الحكم في الدولة. (الدستور)
- ٢- انتخاب ممثلين عن الشعب لإدارة شئون البلاد ومراقبة أعمال الحكومة وسن القوانين. (الحياة النيابية)
- ٣- المجالس التي تتولي السلطة التشريعية في الدولة. (البرلمان)
- ٤- منظمات تضم جمعيات المجتمعات المحلية والمنظمات الغير حكومية. (منظمات المجتمع المدني)

ضع علامة (✓) أو علامة (x) مع التصويب /

- ١- الغت حكومة ثورة ٢٣ يوليو الاحزاب السياسية القائمة (✓)
- ٢- شكل مجلس الامة بناء علي دستور ١٩٥٦ (✓)
- ٣- عادت طابا لسياده المصرية في عهد الرئيس الاسبق حسني مبارك (✓)
- ٤- من مزايا تحقيق السلام دفع عجلة التنمية الاقتصادية (✓)
- ٥- يعين الامين العام للجامعة العربية باغلبية الثلثين لمدة اربعة اعوام (X) خمسة أعوام
- ٦- وقع ميثاق جامعة الدول العربية عدد ٧ دول و عددها حاليا ٢٢ دولة (✓)
- ٧- جامعة الدول العربية منظمة إقليمية أنشئت عام ١٩٤٥ (✓)
- ٨- أنشئت منظمة الصحة العالمية عام ١٩٤٨ ومقرها روما في إيطاليا (✓)
- ٩- ساهمت منظمة اليونسكو في إنقاذ معابد سمبل ١٩٦٤م (✓)
- ١٠- مجلس الامن هو المسئول عن الشايط الاقتصادي والاجتماعي للامم المتحدة (X) المجلس الاقتصادي والاجتماعي.

بم تفسر

- ١- أهمية دور محكم العدل الدولية ؟- الفصل في القضايا الدولية .....وتقديم الاستشارات القانونية.

٢- شهدت مصر نهضة نسائية في الفترة بعد عام ١٩٨١م؟

- تعيين أمال عثمان رئيسا للجنة التشريعية بمجلس النواب
- وإنشاء المجلس القومي للمرأة.

٣- صدور الدستور الدائم لمصر عام ١٩٧١؟

- ليؤكد على:.....١- سيادة القانون
- ٢- استقلال القضاء
- ٣- إقرار مبادئ التعددية الحزبية

٤- أهمية منظمة الامم المتحدة؟

- تنمية العلاقات بين الدول .....تحقيق التعاون الإقتصادي بين الدول.....تعزيز إحترام حقوق الانسان.

٥- مجلس الامن أحد أهم اجهزة الامم المتحدة؟.....لأنه المسئول عن حفظ الامن والسلام الدوليين

٦- الامم المتحدة منظمة دولية؟- لانها تضم في عضويتها جميع دول العالم المستقلة وإن لم ترتبط بعضها بروابط معينة

٧- إنشاء مجلس الوصاية؟

- ليرعى مصالح شعوب البلدان التي كانت مستعمرات والأخذ بيدها نحو الحكم الذاتي والاستقلال.

للمن تنسب الاعمال الآتية/

١- شغل منصب رئيس المخابرات الحربية وقاد خطه لخداع اسرائيل عن التجهيزات الهجومية لحرب أكتوبر (أحمد اسماعيل)

٢- قدم مبادرة عرفت باسمه لوقف إطلاق النار في حرب الاستنزاف. (روجرز)

٣- ترأست نصب رئيس السلطة التشريعية لمجلس النواب (أمال عثمان)

٤- تعيين عائشة راتب كوزيرة للشئون الاجتماعية ١٩٧١م. (السادات)

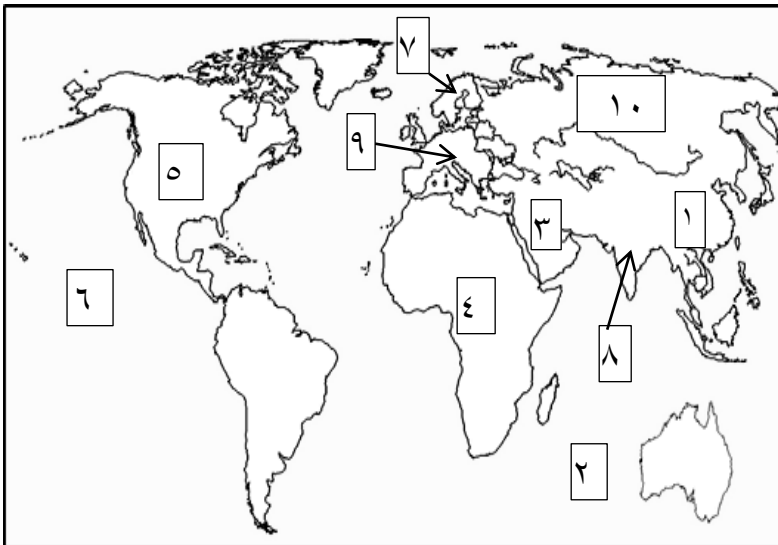
لماذا يحدث إذا..؟

١- نجح العدوان الثلاثي علي مصر؟.....بقاء القوات الفرنسية والانجليزية في بورسعيد والقوات الاسرائيلية في سيناء

وعدم قيام الوحدة بين مصر واسرائيل.

النموذج الرابع

أمامك خريطة صماء للعالم وضع عليها مدلول الأرقام التالية/



١- أولي دول العالم في إنتاج القمح الصين.

٢- أشهر دول العالم في إنتاج أصواف المارينو استراليا

٣- أكبر دول العالم في إنتاج البترول السعودية

٤- ثاني قارات العالم إنتاجا للقطن افريقيا

٥- أولي دول العالم إنتاجا للغاز الطبيعي usa

٦- المحيط الهادي

٧- ثاني دول العالم تصديرا للأسماك النرويج

٨- من أهم الدول الاسيوية المنتجة للابقار الهند

٩- قارة يتركز بها زراعة البنجر أوروبا

١٠- دولة روسيا تحتل المركز الثاني لإنتاج البترول.

ضع علامة (✓) أو علامة (x) مع التصويب / ١- تعتبر الصين من الدول المنتجة للاصواف (X) استراليا

٢- الصين أكبر دول العالم في تصدير الحديد الي الدول المتقدمه (X) موريتانيا

٣- يتميز إقليم شمال شرق الولايات المتحدة بإنتاج المحاصيل الزراعية (X) بالصناعات الهندسية والالكترونية

سبحم تفسر /

١- تعتبر الصناعة مقياس رئيسي لتطور الشعوب ؟

- لأنها تأخذ بالاساليب العلمية....تطبيق الابحاث والتجارب في الاختراع.... تطوير المنتجات وتحديثها بشكل مستمر.

٢- تطور الصناعة بشكل كبير في اقليم شمال شرق الولايات المتحدة ؟

- بسبب توافر المواد الخام ومصادر الطاقة وتنوع الصناعات واستخدام التكنولوجيا الحديثة.

٣- لا تعاني الهند من وجود مشكلة سكانية ؟

- لانها إتبع سياسة تنمية أدت الي الاهتمام بالتعليم وتطوير مراكز البحث العلمي مما ادي الي زياده الانتاج الزراعي

والصناعي

٤- إصطياد الحيتان من بعض المحيطات في العالم ؟..... للإستفادة من لحومها وشحومها.

٥- إنخفاض التكاليف وقلة العمال في الزراعة التجارية ؟..... بسبب الاعتماد علي الآلات الحديثة.

٦- تناقص عدد العاملين في نشاط الرعي في شبه الجزيرة العربية ؟..... بسبب تدفق "إكتشاف" البترول وإستقرار البدو

😊 إختار الاجابة الصحيحة مما بين القوسين /

١- من المراكز الصناعية الحديثة في آسيا..... (تايلاند - تايبان - الهند - البرازيل)

٢- من أولى الدول المنتجة للسكر ..... (البرازيل - الصين - الهند - كوبا)

٣- تسقط الامطار الموسمية الصيفية في الهند..... (شمال - جنوبا - شرقا - غربا)

٤- من القشريات البحرية..... (السيط - الحيتان - الجمبري)

❀ أكمّل العبارات التالية بكلمات مناسبة /

١- تقع نيجيريا في غرب افريقيا ، أما الهند فيحدها من الشمال الغربي دولة باكستان

٢- أكبر دولة منتجة للابقار دولة الهند في آسيا.

٣- من الدول المصدرة للحديد موريتانيا أما أكبر الدول المنتجة له الصين ويدخل بنسبة ٣٠% من تجارة الحديد.

٤- أولى دول العالم إنتاجا للنحاس توجد في قارة أمريكا الجنوبية

٥- الدولة التي تتقدم الدول العربية في إنتاج الكهرباء من الرياح مصر

👉 ماذا يحدث إذا /

١- لم تتوافر الحشائش الطبيعية في دولة الصين ؟- لم تصبح من أكبر دل العالم في تربية الاغنام

٢- لم تصدر موريتانيا خام الحديد وقامت بتصنيعه ؟..... أصبحت تحتل المركز الاول في إنتاج وتصدير الحديد.

٣- زاد إنتاج الهند من البترول ؟..... لم تلجأ الي استخدام الطاقة النووية والكهربائية.

أين تقع المدن التالية وما شهرتها....؟

١- حيدر أباد/ تقع في الهند .....مركز للصناعات اليدوية والمراكز الاسلامية

- ٢- واشنطن / تقع في الولايات المتحدة.....العاصمة السياسية.
- ٣- إبيادان / نيجيريا.....مركزا للتعليم والمواصلات والتجارة.
- ٤- بومباي / الهند.....أهم الموانئ علي الساحل الغربي.
- ٥- نيويورك / الولايات المتحدة.....أهم الموانئ علي المحيط الاطلنطي.

### ❖ دلل علي صحة العبارة التالية /

#### ١- تتم عملية التعدين بعدة مراحل ؟

\*البحث والكشف عن الخامات

\*إعداد المنجم للتعدين

\*مرحلة الإنتاج والنقل والتوزيع

#### ٢- للفحم اهمية كبيرة كمصدر للطاقة قديما وحديثا؟

- ١- كان عماد الثورة الصناعية في أوروبا في أواخر القرن الـ ١٨
- ٢- المصدر الأول والرئيسي للطاقة المستخدمة في العالم حتى أوائل القرن العشرين
- ٣- ومازال الفحم مصدر رئيسي في الصناعة في الدول الكبرى
- ٤- يستخدم في توليد الكهرباء.

### التاريخ

✍ بم تفسر:

#### ١- فشل العدوان الثلاثي علي مصر ١٩٥٦م؟

- ١- مقاومة الجيش والشعب وصلابة القيادة
- ٢- وقوف الشعوب العربية بجانب مصر
- ٣- تهديد الاتحاد السوفيتي بالتدخل لوقف العدوان
- ٤- رفض الولايات المتحدة استخدام القوة في حل المنازعات
- ٥- تنديد الأمم المتحدة بالعدوان

#### ٢- عدوان ٥ يونيو ١٩٦٧م؟

- ١- اعلان مصر وقفها الى جانب سوريا تطبيقاً لاتفاقية الدفاع المشترك.
- ٣- اغلاق مصر خليج العقبة في وجه الملاحة الاسرائيلية في مايو ١٩٦٧م؟.
- إحكاما للحصار العربي الاقتصادي علي اسرئيل.

### أكتب المصطلح الجغرافي الذي تدل عليه العبارات الاتية /

- ١- يعمل علي رعاية مصالح شعوب البلاد التي كانت مستعمرات ومساعدتها نحو الحكم الذاتي.(مجلس الوصاية)
- ٢- أحد المنظمات التابعة للأمم المتحدة مسئولة عن حماية حقوق الاطفال ورفاهيتهم.(اليونيسيف)
- ٣- خط دفاع إسرئيلي في هضبة الجولان شهد إندفاع الدبابات والمدركات السورية في أكتوبر ١٩٧٣م.(ألوان)
- ٤- تسلم السلطة لحين إجراء إنتخابات رئاسية وتعديل دستور ٢٠١٣.(المستشار عدلي منصور)
- ٥- أحد المنظمات الدولية مسئولة عن القضاء علي الجوع وحماية مياه الشرب من التلوث.(الأغذية والزراعة)

- ٦- شارك مع القادة العسكريين في وضع خطة عبور قناة السويس وتخطيط خط بارليف ومنح قلادة النيل (سعد الدين الشاذلي)
- ٧- شغل منصب رئيس هيئة عمليات القوات المسلحة ورئيساً لأركان القوات المسلحة ١٩٧٣ ووضع انساب التوقيعات المناسبة. (الفريق محمد عبد الغني الجمسي)
- ضع علامة (✓) أو علامة (x) مع التصويب /

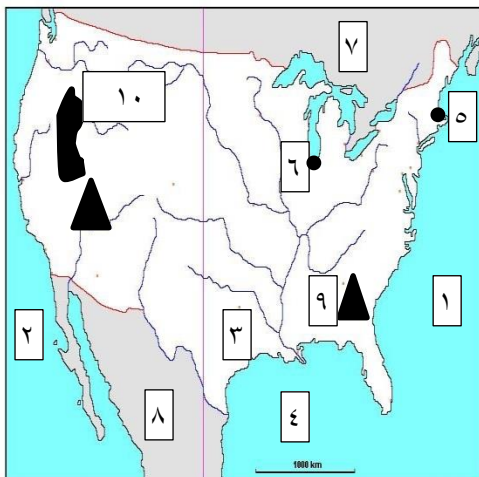
- ١- منطق القوة لا يمنح سلاماً كان من احد الدروس المستفادة من حرب أكتوبر ١٩٧٣م (✓)
- ٢- مجلس الامن سلطته قانونية ولكنها غير ملزمة للدول الاعضاء (X) ملزمه
- ٣- اتخذ شباب الفيس بوك ٢٥ يناير بداية الاحتجاج والتظاهر السلمي (✓)
- ٤- ساهمت مصر بدور كبير في تشكيل حركة عدم الانحياز من خلال مؤتمر باندونج (✓)
- ٥- إستجاب الخديوي إسماعيل لدعوة رفاة الطهطاوي فأشأ أول مدرسة لتعليم البنات ١٨٧٣م. (✓)
- أيد بالأدلة التاريخية /

- ١- كان مؤتمر سان ريمو أحد الاسباب الاساسية لمشكلة فلسطين؟
- لان مؤتمر سان ريمو بإيطاليا اعطى لبريطانيا حق الانتداب على فلسطين
- ٢- اتخذت حكومة الانتداب البريطاني عدة إجراءات لتنفيذ وعد بلفور؟
- \* السماح بهجرة اعداد كبيرة من يهود العالم الى فلسطين
- \* السماح بانتقال ملكية الاراضي من العرب الى اليهود بالشراء
- قارن بين /

منظمة الامم المتحدة للتربية والثقافة والعلوم ومنظمة الصحة العالمية من حيث المدينة والاهداف؟

منظمة الصحة العالمية	منظمة الامم المتحدة للتربية والثقافة
<p>* مقرها : جنيف بسويسرا</p> <p>اهداف منظمة الصحة العالمية :</p> <p>١- توفير أفضل سبل الرعاية الصحية لجميع الشعوب</p> <p>٢- نشر الوعي من أجل حماية مياه الشرب من التلوث</p>	<p>- المساهمة في إحلال السلام والأمن عن طريق رفع مستوى التعاون بين دول العالم في مجالات التربية والتعليم والثقافة</p>

### النموذج الخامس



امامك خريطة صماء للولايات المتحدة وضع عليها /

- ١- المحيط الاطلنطي
- ٢- المحيط الهادي
- ٣- نهر المسيسيبي
- ٤- خليج المكسيك
- ٥- مدينة نيويورك
- ٦- مدينة شيكاغو
- ٧- دولة كندا
- ٨- دولة المكسيك
- ٩- جبال الابلاش
- ١٠- هضبة كلورادو



## ✱ ما العلاقة بين كلا من /

١- الزراعة الكثيفة والايدي العاملة؟ .....تعتمد الزراعة الكثيفة علي ايدي العاملة نظرا لتعدد مراحل الزراعة.  
أكتب إسم الدولة الاولي إنتاجا لكلا من.

- ١- اللحوم الحمراء(الصين) ٢- النحاس (شيلي) ٣- الغاز الطبيعي(الولايات المتحدة)  
٤- قصب السكر(البرازيل) ٥- الالبان(الهند) ٦- الاسماك(الصين) ٧ - الدواجن(الولايات المتحدة)  
بسم تفسر:

- ١- تفوق الهند في صناعة الحديد والصلب ؟ .....لتوافر إنتاج الفحم من هضبة الدكن حيث تحتل الهند المركز الثالث في إنتاج الفحم.  
٢- قلة السكان في ولاية ألاسكا؟ .....بسبب شدة البرودة.  
٣- تربي الولايات المتحدة أعداد كبيرة من الابقار والاغنام والمخنازير؟ .....لإنتاج اللحوم وتصدير جزء منها الي الخارج.  
٤- تعد الولايات المتحدة القوة الاقتصادية الاولي في العالم؟  
- لتوافر كل مقومات الصناعة بها.

## ✱ ما النتائج المترتبة علي /

- ١- وجود الغابات والظروف المناخية القاسية في دلتا نهر النيجر؟  
- ادي ذلك الي قلة التركز السكاني  
٢- الوحدة الاقتصادية الاوربية؟  
- أدي الي تحقيق التكامل الاقتصادي وتدعيم الصناعة جمرিকা من جانب الاتحاد الاوربي.  
٣- ضيق مساحة الحقول في الزراعة الكثيفة؟  
- أدي ذلك الي قلة استخدام الالات الحديثة والميكنة الزراعية.  
٤- زيادة الطلب علي البترول ؟  
- أدي الي إرتفاع أسعاره عالميا.

## ✱ اختر الاجابة الصحيحة مما بين القوسين /

- ١- أكبر الدول المنتجة للأصواف.....(الولايات المتحدة و- الصين - أستراليا - مصر)  
٢- تعتبر دول.....من أهم الدول في تصدير الاسماك.(بيرو - النرويج - البرازيل - الارجنتين)  
٣- تعتبر دولة .....الاولي في إنتاج الالومنيوم(شيلي - استراليا - الولايات المتحدة)  
٤- من المحاصيل ذات الطبيعة الخاصة.....(القمح - القطن - البن - الارز)

## التاريخ

## ✱ بسم تفسر /

- ١- هزيمة الدول العربية في دوان ٥ يونيه ١٩٦٧؟  
- تفوق اسرائيل العسكري.....استخدام اسرائيل عنصر المفاجأة..... مساندة الولايات المتحدة لاسرائيل عسكريا  
٢- فشل الطائرات الاسرائيلية من الاقتراب من قناة السويس؟





- بسبب نجاح مصر في إقامة حائط الصواريخ علي الضفة الغربية للقناة.

٣- الاستعانة بالقوات المسلحة في ثورة ٢٥ يناير؟

- لحماية الممتلكات العامة والخاصة وامن المواطنين.

### 📌 أكمّل العبارات التالية/

١- يتم تعيين الامين العام للأمم المتحدة عن طريق الجمعية العامة

٢- اصبحت فلسطين تحت الانتداب البريطاني طبقا لقرارات مؤتمر سان ريمو

٣- قامت ثورة ١٩٣٦ برئاسة اللجنة العربية ، بينما كانت من اشبع المذاهب دير ياسين.

٤- تم توقيع إتفاقية أوسلو في النرويج ١٩٩٣م.

### ما النتائج المترتبة علي /

١- وجود منظمات المجتمع المدني؟

- تثقيف المواطن بحقوقه السياسية

- توفير مناخ يحقق الوحدة الوطنية.

- توضيح العلاقة بين المواطن والدولة.

- تدعيم السياسة العامة للدولة.

٢- فوز المشير عبد الفتاح السيسي في الانتخابات الرئاسية؟

- بدأت فترة جديدة من تاريخ مصر يتطلع فيها الشعب الي تحقيق طموحاته وأحلامه.

٣- إصدار قانون الاصلاح الزراعي الاول سبتمبر ١٩٥٢م؟

- تحديد ملكية الاراضي الزراعية.

- القضاء علي الإقطاع.

٤- مؤتمر كامب ديفيد سبتمبر ١٩٧٨م؟

- تم التوصل الي غطار للسلام بين مصر وإسرائيل.

### 📖 أكتب المفهوم او المصطلح التاريخي /

١- الجهاز القضائي للأمم المتحدة وله نشاط قضائي واسع.(محكمة العدل الدولية)

٢- عدم الانضمام الي اي من الكتلتين الشرقية والغربية.(عدم الانحياز)

٣- منظمة عالمية متخصصة في مجال الصحة ومقرها جنيف بسويسرا(منظمة الصحة العالمية)

٤- المجلس الذي يتكون من ممثلي جميع الدول العربية لاعضاء في جامعة الدول العربية.(مجلس الجامعة)

٥- الجهة المسؤولة عن السلطة التشريعية في البلاد.(مجلس النواب)

"بموجب المعاهدة التي وقعت بين مصر وإسرائيل تم رفع العالم المصري فوق شبه جزيرة سيناء فيما عدا المنطقة الواقعة علي

رأس خليج العقبة حيث حدث خلاف عليها واتفق الطرفان علي التحكيم".....علي ضوء العبارة السابقة وضع :

١- المنطقة التي حدث عليها الخلاف.(طابا)

٢- نصين من نصوص تلك المعاهدة.

(انسحاب اسرائيل الكامل من سيناء - إحترام حرية الملاحة في الممرات الدولية)



