

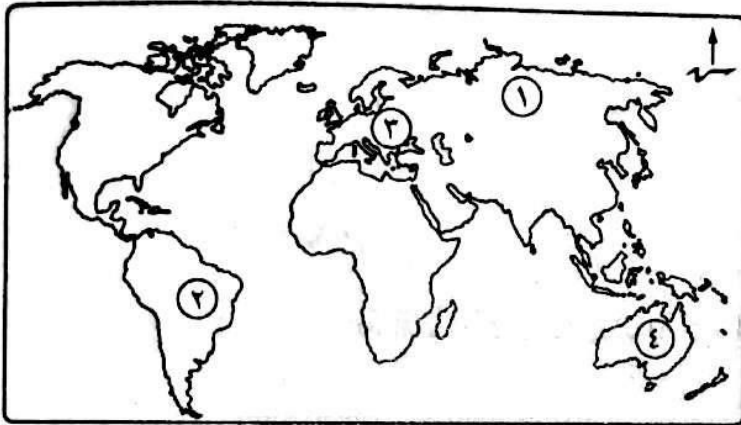


### النموذج الأول

#### أولاً الجغرافيا

#### اجب عن الأسئلة الآتية،

١ (١) أمامك خريطة صماء للعالم، اكتب في كراسة الإجابة مدلول الأرقام الموقعة عليها ،



(١) أولى قارات العالم

..... إنتاجاً للقمح

(٢) ثاني قارات العالم

..... فى تربية الأبقار

(٣) أولى قارات العالم

..... إنتاجاً للغاز الطبيعي

(٤) \* أولى دول العالم

..... إنتاجاً للبوكسيت

(ب) بم تفسر ... ؟

(١) تركّز زراعة البنجر فى معظم دول أوروبا.

(٢) التوسع فى استخدام الغاز الطبيعي كبديل لمصادر الطاقة الأخرى.

(٣) تُعد الصين من الدول الرئيسية المنتجة للأسماء.

٢ (١) اكتب المصطلح الذى تعبر عنه كل عبارة مما يأتى :

(١) \* زراعة الأرض أكثر من مرة فى العام لإشباع حاجة السكان المحليين من الغذاء.

(٢) نوع من أنواع الرعى يمارسه سكان المناطق الصحراوية فى مساحات واسعة فى

قارات العالم.

(ب) قارن بين : الهند، وجمهورية ألمانيا الاتحادية، من حيث :

\* المناخ. \* الموقع الجغرافى.

(ج) «توجد علاقات مصرية مع كل من نيجيريا والولايات المتحدة الأمريكية».

فى ضوء العبارة السابقة أجب عما يأتى ،

(١) ما مدى صحة العبارة السابقة ؟ ولماذا ؟

(٢) ما أوجه الاختلاف بين كل منهما من حيث أهم الصناعات ؟

## التاريخ

- ٣ (أ) اكتب كلمة (صواب) أمام العبارة الصحيحة، وكلمة (خطأ) أمام العبارة غير الصحيحة، مع التصويب :
- (١) كان من أهداف قيام ثورة ٢٣ يوليو ١٩٥٢م التخلص من الاحتلال البريطاني. ( )
  - (٢) \* أعطى مؤتمر سان ريمو لبريطانيا حق الانتداب على فلسطين ١٩٢٠م. ( )
  - (٣) أنشأ (محمد علي) عدة مجالس استشارية منها مجلس النواب. ( )
  - (٤) يقع مقر منظمة الأمم المتحدة في مدينة مدريد. ( )

(ب) ما النتائج التي ترقبت على ... ؟

- (١) عقد مؤتمر مدريد للسلام عام ١٩٩١م.
- (٢) قيام ثورة ٢٣ يوليو ١٩٥٢م في مجال التجارة.
- (٣) تدهور الأوضاع الاجتماعية والاقتصادية في عهد مبارك.

## ٤ (أ) من يكون ... ؟

- (١) أذاع أول بيان لثورة ٢٣ يوليو ١٩٥٢م.
- (٢) \* قادت الثورة عام ١٩٣٦م بفلسطين.
- (٣) المنظمة التي ساهمت في إحياء مكتبة الإسكندرية وإنقاذ معابد أبو سمبل.
- (٤) الجهة المسئولة عن تولى السلطة التشريعية في الدولة.

(ب) ماذا كان يحدث إذا ... ؟

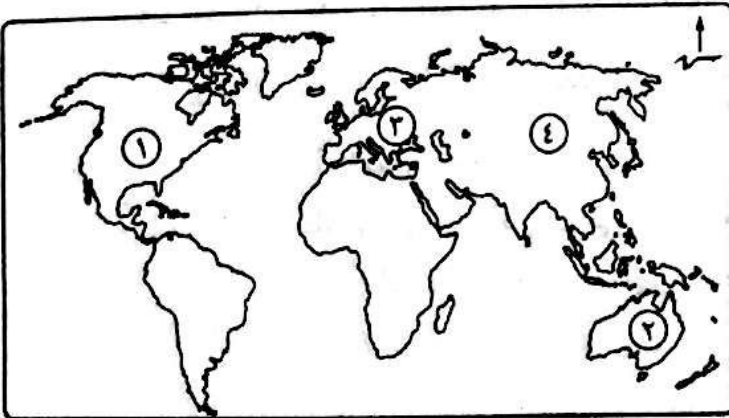
- (١) لم تصدر بريطانيا وعد بلفور ١٩١٧م.
- (٢) استجابت إسرائيل لنداءات السلام بالانسحاب من الأراضي التي احتلتها في عدوان ١٩٦٧م.
- (٣) لم يتضامن الجيش مع الشعب أثناء ثورة ٢٥ يناير ٢٠١١م.

## النموذج الثاني

### أولاً الجغرافيا

### اجب عن الأسئلة الآتية :

- ١ (أ) أمامك خريطة صماء للعالم، اكتب في كراسة إجابتك مدلول الأرقام الموقعة عليها :
- (١) أولى قارات العالم إنتاجاً للذرة .....



- (٢) \* من الدول المربية للأغنام .....
- (٣) أولى قارات العالم إنتاجاً للطاقة النووية .....
- (٤) أولى قارات العالم إنتاجاً للقطن .....

(ب) بم تفسر ... ؟

- (١) يُعد النشاط الزراعى من الأنشطة الاقتصادية الأساسية فى العالم.
- (٢) نجاح الهند فى مواجهة المشكلة السكانية.
- (٣) توسع دول العالم فى استخدام الغاز الطبيعى كبديل لمصادر الطاقة الأخرى.

(١) اكتب المصطلح الذى تعبر عنه كل عبارة من العبارات الآتية :

- (١) الخام الرئيسى للألومنيوم.
- (٢) إقليم صناعى يبدو فى شكل مناطق متباعدة أهمها المركز الصناعى فى إقليم موسكو.
- (٣) نشاط اقتصادى يمثل العمود الفقرى للاقتصاد الألمانى ويعمل بها نحو ثلث القوى العاملة.

(ب) ماذا يحدث إذا ... ؟

- (١) تطورت الصناعة فى نيچيريا.
- (٢) وقعت معظم أراضي البرازيل فى المناطق القطبية والباردة.
- (٣) توافرت مصادر الطاقة والخبرة العلمية والفنية لدى الدول المنتجة للبوكسيت.

## ثانياً التاريخ

(١) اكتب كلمة (صواب) أمام العبارة الصحيحة، وكلمة (خطأ) أمام العبارة غير الصحيحة، مع التصويب :

- (١) قدمت الدول العربية دعماً عسكرياً ومالياً لمصر أثناء حرب أكتوبر ١٩٧٣م. ( )
- (٢) أقرت معاهدة السلام إنهاء حالة الحرب بين مصر وإسرائيل. ( )
- (٣) استمرت حرب الاستنزاف لمدة خمس سنوات. ( )
- (٤) \* نص دستور ١٩٥٦م أن تكون السلطة التشريعية فى يد مجلس منتخب هو مجلس الأمة. ( )

(ب) ما النتائج التى ترتبت على ... ؟

- (١) سوء الأحوال الاجتماعية قبل ثورة ٢٣ يوليو ١٩٥٢م.
- (٢) إنشاء السد العالى.
- (٣) \* التعاون بين مصر ومنظمة اليونسكو.

(١) قارن بين : العدوان الثلاثى على مصر فى ١٩٥٦م، والعدوان الإسرائيلى على مصر فى يونيه ١٩٦٧م، من حيث : \* الأسباب.

(ب) ما رأيك فى : مبادرة الرئيس محمد أنور السادات بالذهاب إلى إسرائيل من أجل السلام ؟

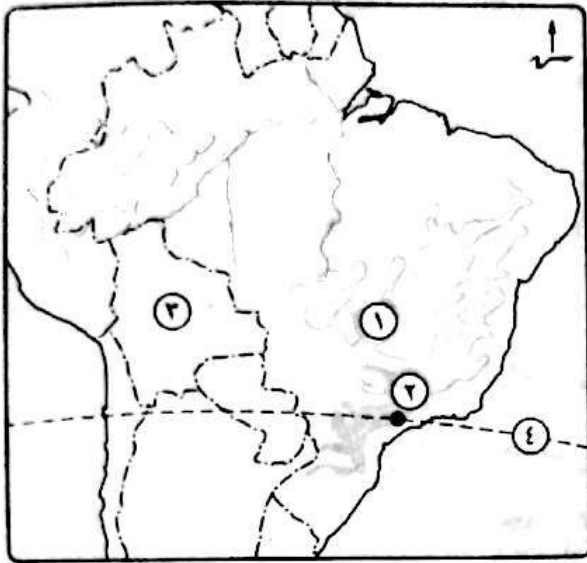
(ج) إلى من ينسب كل عمل مما يأتى ... ؟

- (١) أنشأ مجلس شورى النواب فى ١٨٦٦م.
- (٢) دعا الرئيس السادات وبيجين إلى اجتماعات فى كامب ديفيد للتوصل إلى إطار اتفاق للسلام بين مصر وإسرائيل.

## النموذج الثالث

### أولاً الجغرافيا

### أجب عن الأسئلة الآتية،



١ (أ) أمامك خريطة لدولة البرازيل، اكتب في كراسة

إجابتك مدلول الأرقام الموقعة أمامك :

(١) هضبة .....

(٢) مدينة .....

(٣) دولة .....

(٤) دائرة .....

(ب) قارن بين : ألمانيا، والولايات المتحدة الأمريكية،

من حيث :

\* أهم المدن. \* علاقتهما بمصر.

٢ (أ) حدد الدولة الأولى في إنتاج ما يلي :

(١) اللحوم الحمراء. (٢) الحديد. (٣) البترول. (٤) قصب السكر.

(ب) ما المقصود بكل من ... ؟

(١) الزراعة البسيطة. (٢) الزراعة الكثيفة.

(ج) دلل على صحة كل عبارة من العبارات الآتية :

(١) تركز الصناعة في الدول المتقدمة. (٢) يربط مصر ونيجيريا علاقات قوية.

(٣) اعتبار جمهورية الهند شبه جزيرة. (٤) تنوع النبات الطبيعي في ألمانيا.

### ثانياً التاريخ

٣ (أ) اكتب كلمة (صواب) أمام العبارة الصحيحة، وكلمة (خطأ) أمام العبارة غير الصحيحة، مع التصويب :

(١) غادر الملك فاروق مصر قبل الموعد المحدد له. ( )

(٢) وافقت الدول العربية على مشروع تقسيم فلسطين عام ١٩٤٧م. ( )

(٣) تم انسحاب إسرائيل بالكامل من سيناء بعد توقيع معاهدة السلام ١٩٧٩م. ( )

(٤) أصبح للمرأة حق الترشح في البرلمان وفق دستور ١٩٥٦م. ( )

(ب) بم تفسر ... ؟

(١) إنشاء جامعة الدول العربية.

(٢) أهمية البترول العربى فى حرب أكتوبر ١٩٧٣م.

(٣) العدوان الثلاثى على مصر عام ١٩٥٦م.

٤ (١) ما النتائج التي ترقبت على ... ؟

(١) التعاون بين جمهورية مصر العربية ومنظمة اليونسكو.

(٢) حرب فلسطين عام ١٩٤٨م.

(٣) مؤتمر مدريد للسلام ١٩٩١م.

(ب) رتب الأحداث التاريخية الآتية من القديم إلى الحديث :

\* نشأة الأمم المتحدة. \* إصدار ما عرف بـ «الدستور الدائم لمصر».

\* مجلس شورى النواب. \* اغتيال الرئيس السادات.

(ج) ما رأيك فى ... ؟

(١) قرار تأميم شركة قناة السويس عام ١٩٥٦م.

(٢) الدعم العربى أثناء حرب أكتوبر ١٩٧٣م.

## النموذج الرابع

### أولاً الجغرافيا

### أجب عن الأسئلة الآتية:

١ (١) أمامك خريطة لدولة نيجيريا،

اكتب فى كراسة إجابتك مدلول

الأرقام الموقعة أمامك :

(١) خليج .....

(٢) دولة .....

(٣) دولة .....

(٤) نهر .....

(ب) ما مدى صحة العبارات الآتية ... ؟

(١) النشاط الزراعى من الأنشطة

الاقتصادية المهمة.

(٢) اتساع الأراضى الزراعية الخصبة بالولايات المتحدة الأمريكية.

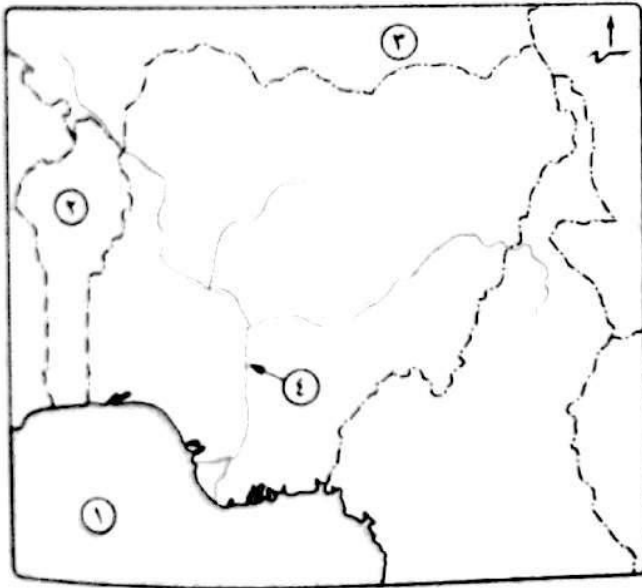
(٣) سواحل شمال غرب أوروبا من أهم مناطق صيد الأسماك فى العالم.

(ج) أمامك مجموعة من المدن حدد ما تشتهر به، والدولة التى تنتمى إليها :

(١) ساوباولو.

(٢) ميونخ.

(٣) إيبادان.



٢ (١) صوب ما تحته خط :

- (١) تستخدم الذرة الشامية فى أمريكا الشمالية كغذاء للإنسان.
- (٢) أوروبا أكثر قارات العالم إنتاجاً للقطن.
- (٣) أستراليا أكبر دول العالم إنتاجاً لقصب السكر.
- (٤) قارة أوروبا أكثر قارات العالم إنتاجاً للبتروك كمصدر للطاقة.

(ب) قارن بين :

- (١) الهند، وألمانيا، من حيث : \* الموقع الجغرافى. \* مناطق التركيز السكانى.
- (٢) إقليم غرب ووسط أوروبا الصناعى، وإقليم شرق آسيا الصناعى، من حيث أهم مراكز الصناعة.

### ثالثاً التاريخ

٣ (١) اكتب كلمة (صواب) أمام العبارة الصحيحة، وكلمة (خطأ) أمام العبارة غير الصحيحة، مع التصويب :

- (١) صدر أول قانون للإصلاح الزراعى فى مصر عام ١٩٥٢م. ( )
- (٢) \* تشكلت لجنة الوفد المركزية للسيدات عام ١٩٢٠م برئاسة هدى شعراوى. ( )
- (٣) حصلت مصر على طابا بالقوة العسكرية. ( )
- (٤) وافق الملك فاروق على مغادرة البلاد قبل الموعد المحدد له. ( )

(ب) قارن بين : حرب فلسطين عام ١٩٤٨م ، وحرب أكتوبر ١٩٧٣م، من حيث الأسباب.

(ج) ما المقصود بكل من ... ؟

- (١) منظمة إقليمية.
- (٢) الحياة النيابية.

٤ (١) ماذا كان يحدث إذا ... ؟

- (١) لم يصدر تصريح بلفور فى عام ١٩١٧م.
- (٢) \* لم تشارك مصر فى منظمة الوحدة الأفريقية.

(ب) من يكون ... ؟

- (١) إعطاء إشارة البدء لحرب أكتوبر ١٩٧٣م.
- (٢) أنشأ مجلس شورى النواب ١٨٦٦م.
- (٣) \* قادت ثورة ١٩٣٦م بفلسطين.



## النموذج الخامس

### أولاً الجغرافيا

### اجب عن الأسئلة الآتية:

١ ( أ ) أمامك خريطة لجمهورية الهند ، اكتب في كراسة

إجابتك مدلول الأرقام الموقعة أمامك :

(١) مدينة ..... (٢) دولة .....

(٣) مضبة ..... (٤) البحر .....

(ب) بم تفسر ... ؟

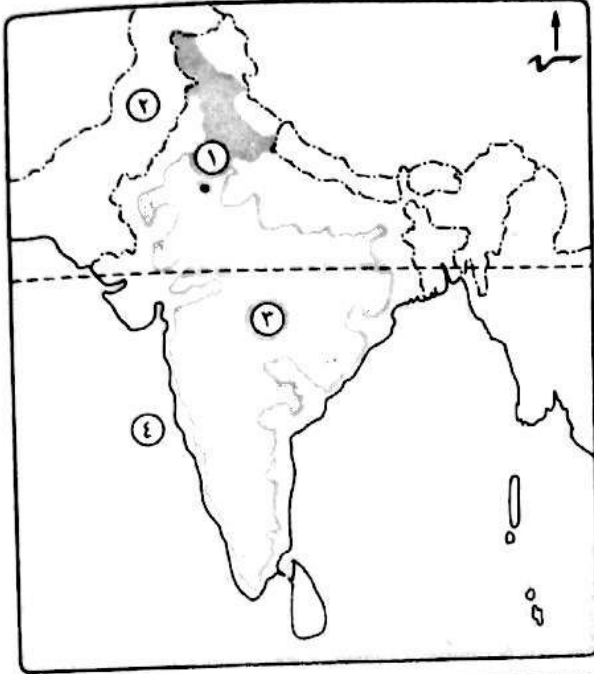
(١) إنشاء عدة مدن على مضبة البرازيل.

(٢) ينتج قصب السكر في كل قارات

العالم عدا أوروبا.

(٣) معظم الدول المنتجة للبوكسيت ليست

هي المنتجة للألومنيوم.



٢ ( أ ) اكتب كلمة (صواب) أمام العبارة الصحيحة، وكلمة (خطأ) أمام العبارة غير الصحيحة، مع التصويب :

(١) تمتد الولايات المتحدة الأمريكية جنوب دائرة الاستواء. ( )

(٢) يعد القطن من المحاصيل المدارية. ( )

(٣) تعتبر برازيليا العاصمة القديمة للبرازيل. ( )

(٤) تأتي العراق في المركز الأول في الإنتاج العالمي من البترول. ( )

(ب) قارن بين : ألمانيا، ونيجيريا، من حيث :

\* العاصمة السياسية. \* نوع المناخ السائد.

\* ما تصدره مصر إليها.

(ج) حدد أولى دول العالم إنتاجاً لكل من :

(١) القمح. (٢) الفحم.

(٣) المطاط.

### ثانياً التاريخ

٣ ( أ ) صوب ما تحته خط :

(١) عقد المؤتمر الإسلامي عام ١٩٥٥م في باندونج.

(٢) أنهت حرب أكتوبر ١٩٧٣م حالة اللاسلم واللاحرب بين مصر وفرنسا.

(٣) اشترك في العدوان الثلاثي على مصر كل من فرنسا و الولايات المتحدة الأمريكية وإسرائيل.

(٤) أُذيع أول بيان لثورة ٢٣ يوليو ١٩٥٢م باسم جمال عبدالناصر.



(ب) الى من ينسب كل عمل مما يأتى ... ؟

(١) هيئة تقوم بتقديم الاستشارات القانونية للهيئات الدولية.

(٢) أسس تنظيم الضباط الأحرار.

(٣) أنشأ مجلس شورى النواب عام ١٨٦٦م.

٤ (١) اختر الإجابة الصحيحة مما بين القوسين :

(١) استمرت الوحدة بين مصر و ..... حتى عام ١٩٦١م.

( اليمن - العراق - السعودية - سوريا )

(٢) وافقت هيئة الأمم المتحدة فى ١٩٤٧م على ..... ( تقسيم فلسطين -

ضم القدس للدولة اليهودية - الانتداب البريطانى على فلسطين - تقسيم السودان )

(٣) عُقد مؤتمر القمة الإسلامى عام ١٩٦٩م بمدينة .....

( الكويت - الرباط - الرياض - القاهرة )

(٤) استجاب الخديو إسماعيل لدعوة ..... وأنشأ أول مدرسة لتعليم البنات ١٨٧٣م.

( رفاة الطهاوى - مصطفى كامل - سعد زغلول - أحمد لطفى السيد )

(ب) دلل تاريخياً على صحة كل عبارة من العبارات الآتية :

(١) شهدت مصر نهضة نسائية فى فترة ما قبل ثورة عام ١٩١٩م.

(٢) حققت مبادرة السلام للرئيس السادات عام ١٩٧٧م أهدافها.

## النموذج السادس

أولاً الجغرافيا

اجب عن الأسئلة الآتية :

١ (١) أمامك خريطة لدولة ألمانيا ، اكتب

فى كراسة إجابتك مدلول الأرقام

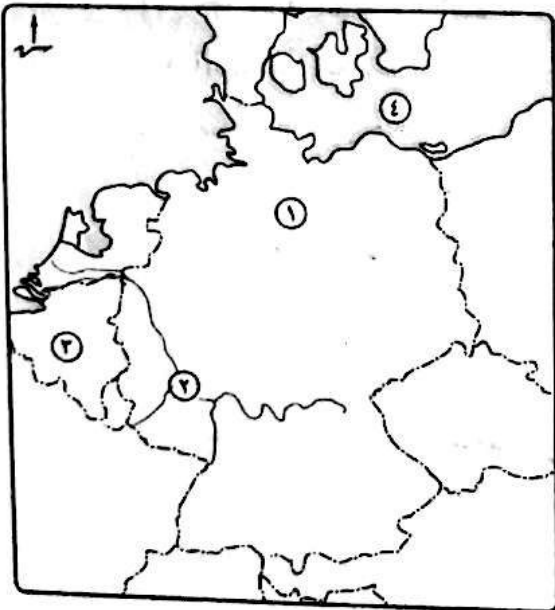
الموقعة أمامك :

(١) السهل .....

(٢) نهر .....

(٣) دولة .....

(٤) البحر .....



- (ب) قارن بين :
- (١) القطن، والذرة، من حيث : \* الأهمية. \* أولى القارات المنتجة.
- (٢) \* الأغنام، والأبقار، من حيث أهم دول العالم المربية.
- (ج) ماذا يحدث إذا ، لم تتوافر مقومات الصناعة فى الولايات المتحدة الأمريكية ؟

- ٢ (١) اختر الإجابة الصحيحة مما بين القوسين :
- (١) تعد قارة آسيا أولى قارات العالم إنتاجاً لـ .....
- (٢) يطلق على المرتفعات الشرقية بالولايات المتحدة الأمريكية اسم جبال .....
- (٣) تنتمى دولة نيجيريا لقارة ..... ( آسيا - أفريقيا - أمريكا الشمالية - أستراليا )
- (٤) أكبر الأقاليم الصناعية فى العالم الجديد إقليم .....
- ( غرب ووسط آسيا - شمال شرق الولايات المتحدة الأمريكية - روسيا - شرق آسيا )
- (ب) دلل على صحة كل عبارة من العبارات الآتية :
- (١) \* توسع العالم فى استخدام الغاز الطبيعى كبديل لمصادر الطاقة الأخرى.
- (٢) غنى نيجيريا بمصادر الطاقة.
- (٣) تختلف الزراعة البسيطة عن الزراعة المتقدمة.

### ثانياً التاريخ

- ٣ (١) اختر الإجابة الصحيحة مما بين القوسين :
- (١) استمرت ثورة ٢٥ يناير ٢٠١١ م .....
- (٢) \* أحد أجهزة الأمم المتحدة والمسئول عن حفظ السلام والأمن الدوليين هو ..... ( الجمعية العامة - المجلس الاقتصادى والاجتماعى - مجلس الأمن - الأمانة العامة )
- (٣) تحققت أول وحدة عربية عام ١٩٥٨ م بين كل من مصر و ..... ( العراق - السعودية - سوريا - اليمن )
- (٤) وضعت فلسطين تحت الانتداب البريطانى طبقاً لقرارات مؤتمر ..... ( مدريد - باندونج - كامب ديفيد - سان ريمو )
- (ب) ما العلاقة بين ... ؟
- (١) سياسة الانفتاح الاقتصادى، والأحوال الاقتصادية فى مصر قبل ثورة ٢٥ يناير ٢٠١١ م.
- (٢) حرب فلسطين، وتنظيم الضباط الأحرار.
- (ج) ماذا كان يحدث إذا ، استجابت إسرائيل لقرار مجلس الأمن رقم (٢٤٢) ؟

٤ (أ) إلى من ينسب كل عمل مما يأتي ... ؟

(١) حكم مصر قبل قيام ثورة ٢٣ يوليو ١٩٥٢م.

(٢) \* قدم مبادرة لوقف إطلاق النار خلال حرب الاستنزاف.

(ب) بم تفسر ... ؟ (١) فشل العدوان الثلاثي على مصر عام ١٩٥٦م.

(٢) إنشاء مجلس المشورة.

(٣) اندلاع حرب السادس من أكتوبر ١٩٧٣م.

(ج) ما رأيك في ... ؟ (١) إنشاء جامعة الدول العربية. (٢) قرار تأميم شركة قناة السويس.

## النموذج السابع

### أولاً الجغرافيا

### اجب عن الأسئلة الآتية،

١ (أ) أمامك خريطة للولايات المتحدة

الأمريكية، اكتب في كراسة إجابتك

مدلول الأرقام الموقعة أمامك :

(١) دولة ..... (٢) نهر .....

(٣) جبال ..... (٤) خليج .....

(٥) المحيط .....

(ب) ما النتائج المترتبة على ... ؟

(١) الموقع الفلكي لدولة نيچيريا.

(٢) انتشار الديانة الهندوسية بالهند.

(ج) ما المقصود بكل من ... ؟ (١) الزراعة الكثيفة. (٢) \* النشاط التعديني.

٢ (أ) اختر من المجموعة (ب) ما يناسب المجموعة (أ) :

(ب)	(أ)
(١) أولى الدول إنتاجاً له جنوب أفريقيا.	(١) الشاي
(ب) كان عماد الثورة الصناعية في أوروبا أواخر القرن الـ ١٨م.	(٢) اللحوم
(ج) تعد أوروبا أولى قارات العالم إنتاجاً لها.	(٣) الفحم
(د) الصين أكبر دول العالم إنتاجاً لها.	(٤) * الطاقة
(هـ) الولايات المتحدة الأمريكية ثاني دول العالم إنتاجاً له.	النووية

(ب) قارن بين :

(١) البترول، والغاز الطبيعي، من حيث : \* الأهمية.

(٢) ألمانيا، والبرازيل، من حيث : \* العاصمة.

(ج) أين تنتشر كل حرفة مما يأتي ... ؟ (١) صيد الأسماك. (٢) الزراعة البدائية.

## ثانياً التاريخ

٣ ( أ ) اكتب كلمة (صواب) أمام العبارة الصحيحة، وكلمة (خطأ) أمام العبارة غير الصحيحة، مع التصويب :

- ( ١ ) أقر ميثاق إنشاء جامعة الدول العربية بتوقيع سبع دول عربية. ( )
- ( ٢ ) \* كان من العوامل الاقتصادية لقيام ثورة ٢٥ يناير ٢٠١١ م ارتفاع الأسعار. ( )
- ( ٣ ) استمرت حرب الاستنزاف لمدة خمس سنوات. ( )
- ( ٤ ) رحبت مصر بقرار مجلس الأمن رقم (٢٣٨). ( )

(ب) «شارك بصوتك ولا تكن سلبياً، شعاراً يرفعه الإعلام المصرى خلال فترة الانتخابات».

فى ضوء هذه العبارة أجب عما يلى :

- (١) قارن بين : الحياة النيابية أثناء الاحتلال البريطانى، وبعد ثورة ١٩٥٢م.
- (٢) ماذا تقول لمن لا يشاركون بأصواتهم فى الانتخابات ؟

٤ ( أ ) رتب الأحداث التاريخية الآتية من القديم إلى الحديث :

- \* العدوان الثلاثى على مصر.
- \* مشروع الأمم المتحدة لتقسيم فلسطين.
- \* توقيع اتفاقية أوسلو.
- \* حرب السادس من أكتوبر.

(ب) ما المقصود بالمصطلحات الآتية ... ؟

- (١) الضباط الأحرار.
- (٢) الحياة النيابية.
- (٣) الدستور.

## النموذج الثامن

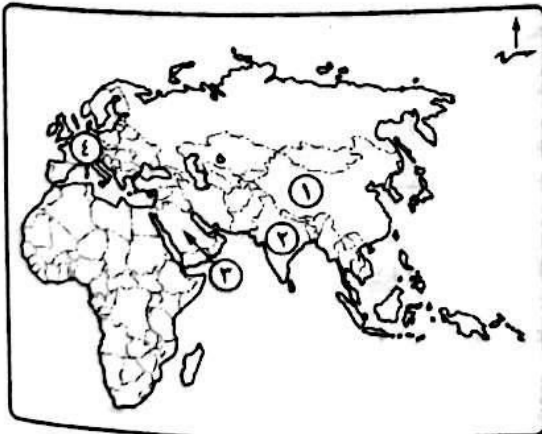
### أولاً الجغرافيا

### اجب عن الأسئلة الآتية :

١ ( أ ) أمامك خريطة لقارات العالم القديم ، اكتب فى

كراسة إجابتك مدلول الأرقام الموقعة عليها ،

- (١) \* أولى دول العالم فى تربية الأغنام .....
- (٢) من أهم الدول الآسيوية المنتجة للقطن .....
- (٣) أولى دول العالم إنتاجاً للبترول .....
- (٤) قارة تتركز بها زراعة البنجر .....



(ب) قارن بين : الزراعة البدائية، والزراعة التجارية والعلمية، من حيث :

\* مناطق الانتشار. \* أهم الخصائص.

(ج) استخراج الكلمة المخالفة مما يلي واكتبها في كراسة إجابتك، مع ذكر السبب :

(١) واشنطن - هامبورج - نيويورك - شيكاغو.

(٢) حيدر أباد - نيودلهي - نيويورك - بومباي.

٢ (أ) صوب ما تحته خط :

(١) يطلق على المرتفعات الشرقية بالولايات المتحدة الأمريكية اسم جبال روكي.

(٢) يشكل الفحم وطاقته الرياح نحو ٥٥٪ من الطاقة المستخدمة في العالم.

(ب) بم تفسر ... ؟

(١) قلة السكان في دلتا النيجر.

(٢) \* تنوع المناخ في الولايات المتحدة الأمريكية.

(٣) تحتل الصين المركز الأول في إنتاج الأسماك.

(٤) \* يعد النشاط الزراعي من الأنشطة الاقتصادية الأساسية في العالم.

## ثانياً التاريخ

٣ (١) اكتب ما تشير إليه كل عبارة من العبارات الآتية :

(١) قانون صدر للقضاء على الإقطاع بتحديد الملكية الزراعية في سبتمبر ١٩٥٢م.

(٢) منظمة متخصصة في المجال الزراعي للقضاء على الجوع ومساعدة البلدان النامية.

(٣) خط عسكري منيع حطمته القوات المصرية في حرب أكتوبر ١٩٧٣م.

(٤) تصريح أصدرته بريطانيا يتضمن إنشاء وطن قومي لليهود في فلسطين ١٩١٧م.

(ب) دلل على صحة كل عبارة من العبارات الآتية :

(١) لفلسطين أهمية خاصة في قلب كل عربي.

(٢) الأمم المتحدة منظمة عالمية في أهدافها.

(٣) لمنظمة اليونسكو دور ثقافي رائد في مصر.

٤ (١) اكتب كلمة (صواب) أمام العبارة الصحيحة، وكلمة (خطأ) أمام العبارة غير الصحيحة.  
مع التصويب :

- ( ) (١) ظهرت أول مجلة نسائية مصرية عام ١٩٠٧م تحت عنوان الريحانة.  
( ) (٢) نصت معاهدة السلام ١٩٧٩م على التطبيق الكامل لقرار مجلس الأمن الدولي رقم ٢٤٢  
( ) (٣) \* شاركت مصر في تأسيس الاتحاد الأفريقي وعُقد بها أول قمة أفريقية.  
( ) (٤) من الإنجازات الاجتماعية لثورة ٢٣ يوليو ١٩٥٢م مساندة الدول العربية في الحصول على الاستقلال.

(ب) ما النتائج التي ترقبت على ... ؟

- (١) \* هزيمة الدول العربية في عدوان ٥ يونيو ١٩٦٧م.  
(٢) \* وضع فلسطين تحت الانتداب البريطاني.  
(٣) قيام حكومة ثورة ٢٣ يوليو ١٩٥٢م ببناء السد العالي.

## النموذج التاسع

### أولاً الجغرافيا

### اجب عن الأسئلة الآتية :



١ (١) أمامك خريطة للأمريكتين ، اكتب في كراسة

إجابتك مدلول الأرقام الموقعة عليها :

- (١) ثاني قارات العالم إنتاجاً للقطن .....  
(٢) أكبر دول أمريكا الجنوبية مساحة .....  
(٣) أولى دول العالم إنتاجاً للغاز الطبيعي .....  
(٤) المحيط .....

(ب) بم تفسر ... ؟

- (١) تركيز زراعة البنجر في قارة أوروبا.  
(٢) \* قلة عدد السكان في البرازيل رغم أنهم يمثلون نصف سكان أمريكا الجنوبية.  
(٣) تُعد الولايات المتحدة الأمريكية القوة الأولى اقتصادياً في العالم.

(ج) ماذا يحدث إذا ، لم تنتشر الديانة الهندوسية في الهند ؟



٢ (أ) حدد القارة الأولى فى إنتاج ما پلى ،

(١) الفحم. (٢) الطاقة النووية. (٣) الذرة.

(ب) قارن بين : نيجيريا ، والولايات المتحدة الأمريكية، من حيث :  
\* مناطق التركيز السكانى. \* المناخ.

(ج) ما النتائج المترتبة على ... ؟

(١) تحيط الهند محيطات وخليجان بجبهات ساحلية طويلة.

(٢) توافر الموارد المعدنية والزراعية بالبرازيل.

### ثانياً التاريخ

٣ (أ) أعد كتابة العبارات الآتية بعد تصويب ما تحته خط :

(١) أدى توقيع معاهدة ١٩٣٦م إلى الاستقلال الحقيقى لمصر.

(٢) وافقت هيئة الأمم المتحدة عام ١٩٤٧م على تقسيم السودان.

(٣) تعرف المرحلة الثانية من إعادة بناء القوات المسلحة عقب عدوان عام ١٩٦٧م  
بالحرب الإلكترونية.

(٤) تم التوقيع على ميثاق الجامعة العربية فى مارس ١٩٤٥م بعدد خمس دول عربية.

(ب) بم تفسر ... ؟

(١) مشاركة مصر بفاعلية فى مؤتمر مدريد للسلام ١٩٩١م.

(٢) يُعد مجلس الأمن أهم أجهزة الأمم المتحدة.

(٣) فشل العدوان الثلاثى على مصر ١٩٥٦م.

٤ (أ) «اشتريكت ثورتى مصر (٢٣ يوليو ١٩٥٢م و ٢٥ يناير ٢٠١١م) فى هدف أساسى هو

القضاء على الفساد وتحقيق العدالة الاجتماعية». فى ضوء العبارة السابقة وضح :

(١) سببين لكل من ثورة ٢٣ يوليو ١٩٥٢م ، وثورة ٢٥ يناير ٢٠١١م.

(٢) \* نتائج ثورة ٣٠ يونيه ٢٠١٣م.

(ب) رتب الأحداث التاريخية الآتية من القديم إلى الحديث :

\* إنشاء جامعة الدول العربية.

\* إعلان قيام الجمهورية فى مصر.

\* انتصار مصر على إسرائيل فى حرب أكتوبر.

\* تأميم شركة قناة السويس.

\* حصار القوات الإنجليزية لقصر عابدين.



## النموذج العاشر

## أولاً الجغرافيا

## اجب عن الأسئلة الآتية :

١ ( أ ) أمامك خريطة للعالم ، اكتب في كراسة إجابتك مدلول الأرقام الموقعة عليها ،

(١) أولى دول العالم إنتاجاً للقمح .....

(٢) أشهر دول العالم إنتاجاً للأصواف

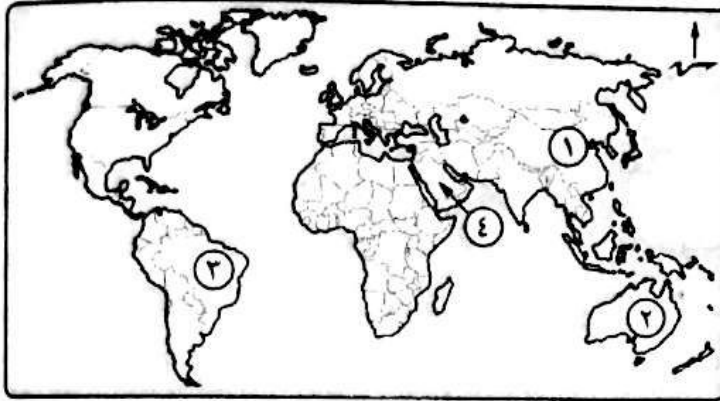
من أغنام المارينو .....

(٣) أكبر دول أمريكا الجنوبية

مساحة .....

(٤) أكبر دول العالم إنتاجاً

للبنترول .....



(ب) اذكر أهمية كل مما يأتى :

(١) المطاط. (٢) النحاس. (٣) الغاز الطبيعي.

(ج) ما النتائج المترتبة على ... ؟

(١) اتساع مساحة الولايات المتحدة الأمريكية.

(٢) وجود البنترول فى دول الخليج العربى.

٢ ( أ ) اكتب كلمة (صواب) أمام العبارة الصحيحة، وكلمة (خطأ) أمام العبارة غير الصحيحة.

مع التصويب :

(١) من أهم المناطق الصناعية فى إقليم روسيا وأوكرانيا جزيرة هنشو. ( )

(٢) تحتل البرازيل المركز الأول فى تربية الدواجن. ( )

(٣) القطن من محاصيل الألياف التى يتركز إنتاجها فى قارة آسيا. ( )

(٤) يتركز سكان نيجيريا فى الشمال. ( )

(ب) قارن بين :

(١) ألمانيا، والبرازيل، من حيث :

\* القارة التى تنتمى إليها. \* العاصمة. \* ما تستورده مصر منها.

(٢) أحد المحاصيل الغذائية، وأحد محاصيل الألياف، من حيث أهم دول الإنتاج.

٣ (١) اختر الإجابة الصحيحة مما بين القوسين :

- (١) من أهم إنجازات ثورة ٢٣ يوليو ١٩٥٢م في المجال الاجتماعي .....
- ( إلغاء الملكية - حل الأحزاب السياسية - مجانية التعليم - إنشاء السد العالي )
- (٢) يوجد مقر الأمانة العامة للأمم المتحدة في مدينة .....
- ( جنيف - روما - لندن - نيويورك )
- (٣) أعطى الرئيس ..... إشارة بدء حرب ١٩٧٣م.
- ( محمد نجيب - جمال عبدالناصر - السادات - مبارك )
- (٤) \* امتنعت ..... عن التصويت على مشروع تقسيم فلسطين عام ١٩٤٧م.
- ( فرنسا - الولايات المتحدة - بريطانيا - الاتحاد السوفيتي )

(ب) ما النتائج التي ترقبت على ... ؟

- (١) قرار محكمة العدل الدولية في مارس ١٩٨٩م.
- (٢) إنشاء منظمة الصحة العالمية.
- (٣) انهيار خط بارليف.

٤ (١) من أكون ... ؟

- (١) أنا أهم أجهزة الأمم المتحدة المسئول عن حفظ الأمن والسلام الدوليين.
- (٢) \* قدمت مبادرة عرفت باسمى لوقف حرب الاستنزاف بين مصر وإسرائيل.
- (٣) أنا من أذاع أول بيان لثورة ٢٣ يوليو ١٩٥٢م.
- (٤) قمت بإصدار أول مجلة نسائية مصرية (الريحانة) ١٩٠٧م.

(ب) عبر برأيك فيما يلي :

- (١) موقف الدول العربية أثناء حرب أكتوبر عام ١٩٧٣م.
- (٢) موقف الجيش المصري في ثورة ٢٥ يناير ٢٠١١م.
- (٣) \* إنجازات ثورة ٢٣ يوليو ١٩٥٢م في المجال العربي والدولي.

## حل نماذج كتاب الوزارة (النموذج الأول)

أولاً الجغرافيا: السؤال الأول: أ- أمامك خريطة صماء للعالم:

١- آسيا ٢- أمريكا الجنوبية ٣- أوروبا ٤- أستراليا.

ب- بم تفسر: ١- بسبب ملائمة المناخ والتربة لزراعته في قارة أوروبا.

٢- بسبب نظافته - رخص سعره - سهولة نقله - أقل تلويثاً للبيئة.

٣- بسبب طول سواحلها على البحار والمحيطات - تقدم وسائل الصيد وحفظ وتعليب الأسماك.

السؤال الثاني: أ- اكتب المفهوم:

١- الزراعة الكثيفة ٢- الرعي البدائي.

ب- قارن بين الهند وألمانيا من حيث الموقع الفلكي والجغرافي:

وجه المقارنة	الهند	ألمانيا
المناخ	تقع الهند في الإقليم الموسمي ويسود بها مناخ مداري حار يزيد المتوسط الحراري السنوي عن ٣٠ درجة مئوية وتسقط الأمطار الموسمية الغزيرة في فصل الصيف وتقل كمية الأمطار كلما اتجهنا شمالاً	تقع ألمانيا في إقليم غرب أوروبا درجة الحرارة تكون معتدلة صيفاً وترتفع كلما اتجهنا نحو الشرق وفي الشتاء تنخفض درجات الحرارة إلى ما دون الصفر المئوي تسقط الأمطار طول العام وخاصة في الأجزاء الشمالية متأثرة ببحر الشمال والمحيط الأطلنطي
الموقع الجغرافي	من الشمال: الصين - نيبال - بوتان الشمال الشرقي: ميانمار - الشمال الغربي: باكستان الشرق والجنوب الشرقي: خليج البنغال الغرب والجنوب الغربي: البحر العربي	الجنوب: النمسا و سويسرا الشرق: بولندا والتشيك الغرب: هولندا ، بلجيكا ، لوكسمبورج، فرنسا

ج- العبارة صحيحة: حيث تصدر مصر إلى نيجيريا كلاً من الأسلاك النحاسية ومواسير الألومنيوم والمحولات الكهربائية والمعدات الثقيلة والإطارات وتستورد منها المحاصيل الزراعية وخاصة الزيتية.

أما بالنسبة لعلاقة مصر بالولايات المتحدة الأمريكية فقد وقعت مصر عدة اتفاقيات اقتصادية معها منها اتفاقية التجارة الحرة واتفاقية الكويز وتستورد مصر من الولايات المتحدة الأمريكية الطائرات والمنتجات التكنولوجية والأسلحة.

٢- الصناعة في نيجيريا ليست متطورة وتعتمد أغلبها على الصناعات الخفيفة الاستهلاكية مثل الصناعات النسيجية والغذائية وتكرير البترول أما في الولايات المتحدة الأمريكية فتعتبر أولى الدول الصناعية السبع ويوجد بها الصناعات الهندسية المتطورة مثل الطائرات والصناعات الكهربائية والإلكترونية وغيرها.

## ثانياً التاريخ

السؤال الثالث: أ- ضع علامة (✓) أو علامة (X):

١- ✓ ٢- ✓ ٣- X مجلس المشورة ٤- X نيويورك

ب- ما النتائج المترتبة على: ١- حدوث مفاوضات اتسمت بالسرية بين دولة إسرائيل ومنظمة التحرير الفلسطينية في مدينة أوسلو النرويجية وأسفرت عن توقيع اتفاقية أوسلو عام ١٩٩٣م برعاية أمريكية.

٢- تمصير البنوك وشركات الاستيراد والتصدير والتأمين - فتح أسواق خارجية

٣- قيام ثورة ٢٥ يناير ٢٠١١م.

السؤال الرابع: أ- من يكون:

١- محمد أنور السادات ٢- اللجنة العربية ٣- اليونسكو ٤- البرلمان (مجلس النواب)

ب- ماذا كان يحدث إذا: ١- لم يتم إنشاء وطن قومي لليهود في فلسطين (دولة إسرائيل).

٢- لم تحدث حرب أكتوبر ١٩٧٣م. ٣- لم تنجح ثورة ٢٥ يناير ٢٠١١م.



## (النموذج الثاني)

## أولاً الجغرافيا: السؤال الأول: أ - أمامك خريطة صماء للعالم:

١ - أمريكا الشمالية ٢ - أستراليا ٣ - أوروبا ٤ - آسيا

ب - بم تنفسو: ١ - حيث أنه يعتبر مصدر رئيسي لغذاء الإنسان - توفر المادة الخام اللازمة للصناعة مثل القطن والكتان والمطاط الطبيعي - يرتبط به تربية الحيوان .

٢ - حيث اعتمدت على السياسات التنموية مثل الاهتمام بالتعليم وتطوير البحث العلمي مما أدى إلى تطوير المزارعة والصناعة.

٣ - بسبب نظافته - رخص سعره - سهولة نقله - أقل تلويثاً للبيئة.

## السؤال الثاني: أ - أكتب المفهوم: ١ - اليوكسيت ٢ - إقليم روسيا وأوكرانيا ٣ - الصناعة.

ب - ماذا يحدث إذا: ١ - يصبح اقتصاد نيجيريا اقتصاداً متقدماً وليس نامياً ويرتفع المستوى الاقتصادي بها.

٢ - اختفت منها حشائش السافانا والاستبس و قلت أعداد الثروة الحيوانية بها لم تصبح من الدول الرئيسية المنتجة للحوم.

٣ - يتم تصنيع الألمنيوم بها بدلاً من تصدير اليوكسيت كمادة خام.

## ثانياً التاريخ

## السؤال الثالث: أ - ضع علامة (✓) أو علامة (X):

١ - ✓ ٢ - ✓ ٣ - X سنتان ٤ - ✓

ب - ما النتائج المترتبة على: ١ - زيادة الفوارق بين الطبقات - انتشار ظاهرة الإقطاع وسوء توزيع الأراضي

الزراعية - انتشار الفقر والجهل والمرض - قيام ثورة ٢٣ يوليو ١٩٥٢ م.

٢ - تخزين المياه - توليد الكهرباء - حماية مصر من خطر الفيضان.

٣ - إنقاذ معبد أبو سمبل من الغرق عام ١٩٦٤ م و احياء مكتبة الإسكندرية.

## السؤال الرابع: قارن بين:

عدوان ٥ يونيو ١٩٦٧ م

العدوان الثلاثي ١٩٥٦ م

وجه  
المقارنة  
الأسباب

١ - رغبة إسرائيل في القضاء على قوة مصر عسكرياً واستدراج العرب لحرب غير مستعدين لها فقامت بحشد قواتها على الحدود السورية - فأعلنت مصر وقوفها بجانب سوريا تطبيقاً لاتفاقية الدفاع المشترك.

١ - مساندة حركات التحرر الوطني في الجزائر ضد الاستعمار الفرنسي.  
٢ - تأميم قناة السويس ٢٦ يوليو ١٩٥٦

٣ - عقد صفقة الأسلحة الشرقية ١٩٥٥ م

فشل العدوان و : ١ - انسحبت إنجلترا وفرنسا من بورسعيد في ديسمبر ١٩٥٦

٢ - انسحبت إسرائيل من سيناء أوائل عام ١٩٥٧ وتم وضع قوات طوارئ دولية بين مصر وإسرائيل.

٣ - قيام الوحدة بين مصر وسوريا من ١٩٥٨ حتى ١٩٦١ م

النتائج

١ - استولت إسرائيل على فلسطين كلها والضفة الغربية لنهر الأردن و شبه جزيرة سيناء من مصر وهضبة الجولان السورية.



- ب- رأيي أنها مبادرة عظيمة لأنها أنهت سلسلة طويلة من الحروب بين مصر وإسرائيل وأعدت الأراضي المحتلة إلى مصر بالسلام.
- ج- لمن تنسب الأعمال: ١- الخديو إسماعيل ٢- الرئيس الأمريكي كارتر

## (النموذج الثالث)

## أولاً الجغرافيا: السؤال الأول: أ- أمامك خريطة صماء لدول البرازيل:

- ١- هضبة البرازيل ٢- رايودي جانيرو ٣- بوليفيا ٤- مدار الجدي
- ب- قارن بين: ألمانيا والولايات المتحدة الأمريكية ونيجيريا:

وجه المقارنة	ألمانيا	الولايات المتحدة الأمريكية
أهم المدن	برلين: العاصمة السياسية للدولة يبلغ عدد سكانها نحو ٣,٤ مليون نسمة. ميونخ: عاصمة إقليم بافاريا جنوب ألمانيا * يوجد بها مقر عدد من الشركات والمصانع الألمانية المهمة هامبورج: أهم موانئ ألمانيا - قريبة من بحر الشمال	واشنطن: تطل على المحيط الأطلنطي هي العاصمة السياسية. نيويورك: ميناء هام تطل على المحيط الأطلنطي بها مقر الأمم المتحدة. شيكاغو: أكبر مدن السهول الوسطي تقع على بحيرة متشجن سان فرانسيسكو: أكبر الموانئ الأمريكية على ساحل المحيط الهادي
العلاقات مع مصر	علاقات ثقافية وعلمية بين البلدين تمثل في هيئة التبادل العلمي الألمانية والجامعة الألمانية بالقاهرة ومعهد الآثار الألماني وغيرها. * توجد العلاقات الاقتصادية مثل تمويل ألمانيا لمحطات توليد الكهرباء من الرياح * تصدر مصر إلى ألمانيا البترول والغاز الطبيعي والملابس وغيرها من المنتجات. وتستورد مصر من ألمانيا الصناعات الكيماوية والآلات والسيارات	العلاقات قوية بين البلدين حيث توجد اتفاقيات بين البلدين اقتصادية وتكنولوجية وثقافية وعلمية. توجد اتفاقيات تجارية في منطقة التجارة الحرة و اتفاقية الكويز . تستورد مصر : منتجات تكنولوجية حديثة ، أسلحة ، طائرات .

## السؤال الثاني: أ- حدد الدولة الأولى في إنتاج ما يلي:

- ١- اللحوم/ الصين ٢- الحديد / الصين ٣- البترول / السعودية ٤- قصب السكر/ البرازيل
- ب- ما المقصود بكلاً من:

- ١- الزراعة البسيطة: زراعة تنتشر في المناطق الحارة على هوامش الغابات الاستوائية وحشائش السافانا ويستخدم فيها الأدوات البدائية وتتميز بضيق المساحات المزروعة وتباعدها عن بعضها.
- ٢- الزراعة الكثيفة: زراعة الأرض أكثر من مرة خلال العام لإشباع حاجة السكان المحليين من الغذاء.
- ج- دلل على صحة العبارات: ١- ارتفاع مستوى المعيشة والتقدم الاقتصادي - استهلاكها لـ ٨٥% من معادن العالم.
- ٢- حيث تصدر مصر إلى نيجيريا كلاً من: الأسمدة والمعدات الثقيلة والأسلاك النحاسية والإطارات والمحولات الكهربائية ومواسير الألمونيوم وتتحضر الواردات المصرية في السلع الزراعية وأهمها الحبوب الزيتية.
- ٣- لأن الماء يحيط بها من جميع الجهات ما عدا الجهة الشمالية. فمن الشرق والجنوب الشرقي خليج البنغال والغرب والجنوب الغربي البحر العربي.



٤- حيث تنمو الحشائش في السهل الألماني الشمالي وتنمو الغابات الصنوبرية في المرتفعات الوسطى أما الأجزاء الجنوبية على منحدرات جبال الألب تنمو الغابات النفضية والغابات الصنوبرية.

### ثانياً التاريخ

السؤال الثالث: أ- ضع علامة (✓) أو علامة (X):

١- ✓ ٢- X رفضت التقسيم ٣- ✓ ٤- ✓

ب- بم تفسر: ١- تنسيق العلاقات بين الدول العربية - تنسيق الخطط السياسية والاجتماعية والثقافية - التعاون وحماية الأمن القومي العربي - صيانة وحماية استقلال الدول العربية - تعزيز العمل العربي المشترك في جميع المجالات.

٢- حيث استخدمته الدول العربية كسلاح للضغط على الدول المساندة لإسرائيل فأجتمع وزراء النفط العربي في الكويت وقرروا: أ- خفض إنتاج الدول العربية من البترول ب- حظر تصدير البترول للولايات المتحدة الأمريكية والدول الأوروبية المساندة لإسرائيل.

٣- ١- مساندة حركات التحرر الوطني في الجزائر ضد الاستعمار الفرنسي. ٢- تأميم قناة السويس ٢٦ يوليو ١٩٥٦  
٣- عقد حكومة الثورة في مصر صفقة الأسلحة الشرقية مع الاتحاد السوفييتي عام ١٩٥٥ م.

السؤال الرابع: أ- ما النتائج المترتبة على: ١- إنقاذ معابد أبو سمبل من الغرق عام ١٩٦٤ م ، إحياء مكتبة الإسكندرية عام ٢٠٠٢ م.

٢- هزيمة العرب و استيلاء إسرائيل على كل أراضي فلسطين ما عدا: قطاع غزة أصبح تحت إدارة مصرية ، الضفة الغربية بها قوات أردنية لم يتم تقسيم القدس بين العرب واليهود.

٣- حدوث مفاوضات اتسمت بالسرية بين دولة إسرائيل ومنظمة التحرير الفلسطينية في مدينة أوسلو النرويجية وأسفرت عن توقيع اتفاقية أوسلو عام ١٩٩٣ م برعاية أمريكية.

ب- الترتيب: ١- شورى النواب ١٨٦٦ ٢- الأمم المتحدة ١٩٤٥ ٣- الدستور الدائم ١٩٧١ ٤- اغتيال السادات ١٩٨١ م

ج- ما رأيك في: ١- قرار عظيم حيث جعل قناة السويس ملكاً لمصر.

٢- موقف عظيم من الدول العربية وكان من أسباب النصر في حرب أكتوبر.

### (النموذج الرابع)

أولاً الجغرافيا: السؤال الأول: أ- أماهك خريطة لنيجيريا:

١- خليج غينيا ٢- دولة بنين ٣- دولة النيجر ٤- نهر النيجر

ب- ما مدى صحة العبارات التالية: ١- العبارة صحيحة: لأن النشاط الزراعي من الأنشطة الهامة حيث يمثل مصدراً رئيسياً لغذاء الإنسان - يعد مصدراً للمادة الخام المستخدمة في الصناعة مثل القطن والكتان والمطاط - يرتبط به تربية الحيوان .

٢- عبارة صحيحة : حيث تتوافر الأراضي الخصبة حول نهر المسيسيبي والجنوب الشرقي وجوانب المرتفعات والوادي الأوسط من ولاية كاليفورنيا.

٣- عبارة صحيحة : حيث تتوافر بسواحل شمال غرب أوروبا العوامل التي تساعد على تطور حرفة الصيد ومنها ضخالة المياه الساحلية وغناها بالموارد الاقتصادية، كثرة الموانئ لرسو السفن، توافر الخبرات الفنية والعلمية لصناعة مراكب الصيد.



## ج - أَمَاك مجموعة من المدن:

المدينة	الدولة	أسباب شهرتها
ساو باولو	البرازيل	أهم الموانئ بالبرازيل - تقع على المحيط الأطلنطي وتشتهر بشواطئها الرملية الواسعة ومبانيها الضخمة.
ميونخ	ألمانيا	عاصمة إقليم بافاريا جنوب ألمانيا - يوجد بها مقر عدد من الشركات والمصانع الألمانية المهمة
إبيادان	نيجيريا	الثانية في الأهمية بعد لاجوس - مركز للتجارة والتعليم والمواصلات

السؤال الثاني: أ - صوب ما فوق الخط: ١ - كلف للماشية ٢ - آسيا ٣ - البرازيل ٤ - الغاز الطبيعي.

ب - قارن بين: ١ - الهند وألمانيا من حيث: الموقع الجغرافي - مناطق التركيز السكاني.

الهند: أ - الموقع الجغرافي: من الشمال (الصين ونيبال وبتان) الشمال الشرقي ميانمار - الشمال الغربي باكستان - الشرق والجنوب الشرقي خليج البنغال - الغرب والجنوب الغربي البحر العربي.

ب - مناطق التركيز السكاني: يتركز السكان في السهول الساحلية والفيضية حيث المدن الكبرى مثل بومباي ونيودلهي.

ألمانيا: أ - الموقع الجغرافي: الشمال: (البحر البلطي، الدنمارك، بحر الشمال) - الجنوب: (النمسا و سويسرا) -

الشرق: (بولندا والتشيك) - الغرب: (هولندا، بلجيكا، لوكسمبورج، فرنسا)

ب - مناطق التركيز السكاني: يتركز السكان في المناطق الصناعية والمدن الكبرى والسهول الفيضية.

٢ - قارن بين إقليم غرب ووسط أوروبا وشرق آسيا الصناعات من حيث أهم مراكز الصناعة.

إقليم غرب ووسط أوروبا: فرنسا - ألمانيا - بريطانيا

شرق آسيا المناطق الصناعية في الصين، دولة كوريا، بعض الجزر اليابانية مثل جزيرة هونشو.

## ثانياً التاريخ

السؤال الثالث: أ - ضع علامة (✓) أو علامة (X):

١ - ✓ ٢ - ✓ ٣ - X بالتحكيم الدولي ٤ - ✓

ب - قارن بين: حرب اعم ١٩٤٨م وحرب ١٩٧٣م من حيث الأسباب:

أسباب حرب فلسطين ١٩٤٨م: نصرة وإنقاذ الشعب الفلسطيني من بطش اليهود - مساعدة الشعب الفلسطيني على إقامة حكومة وطنية على أرضه.

أسباب حرب أكتوبر ١٩٧٣م: رفض إسرائيل كل نداءات السلام والانسحاب من الأراضي التي احتلتها عام ١٩٦٧ - التصميم المصري السوري على إزالة آثار نكسة ١٩٦٧م.

ج - ما المقصود بـ كلاً من: ١ - منظمة إقليمية: منظمة تجمع عدد من الدول المستقلة التي ترتبط ببعضها بروابط معينة مثل جامعة الدول العربية

٢ - حياة نيابية: أن يقوم الشعب بانتخاب ممثلين عنه لإدارة شئون الحكم ومن القوانين ومراقبة أعمال الحكومة.

السؤال الرابع: أ - ماذا كان يحدث إذا: ١ - لم يتم إنشاء وطن قومي لليهود في فلسطين (دولة إسرائيل).

٢ - لم تستضيف مصر القمة الإفريقية على أرضها مرتين ولم يتم مساعدة الدول الإفريقية على التحرر ولم يتم إقرار الأمن والسلام في القارة الإفريقية.

ب - من يكون: ١ - محمد أنور السادات. ٢ - الخديو إسماعيل. ٣ - اللجنة العربية.



## (النموذج الخامس)

أولاً الجغرافيا: السؤال الأول: أ- أماك خريطة للهند:

- ١- نيودلهي ٢- باكستان ٣- الدكن ٤- العربي

ب- بم تفسر: ١- لإعادة توزيع السكان نحو الداخل وفوق هضبة البرازيل.

٢- لأنه محصول مداري يحتاج إلى حرارة مرتفعة ومياه وفيرة بينما قارة أوروبا تقع في المنطقة المعتدلة.

٣- لأن صناعة الألومنيوم تحتاج إلى خبرات علمية وفنية وأسواق محلية وخارجية و طاقة كهربائية.

السؤال الثاني: أ- ضع علامة (✓) أو علامة (X):

- ١- X شمال الاستواء ٢- ✓ ٣- X ريودي جانييرو ٤- X السعودية.

ب- قارن بين ألمانيا ونيجييريا:

وجه المقارنة	ألمانيا	نيجييريا
العاصمة السياسية	مدينة برلين	مدينة أبوجا
نوع المناخ السائد	مناخ غرب أوروبا	مناخ مداري واستوائي
ما تصدره مصر	البتروال والغاز الطبيعي والملابس وغيرها من المنتجات	الأسمدة والمعدات الثقيلة والأسلاك النحاسية والإطارات والمحولات الكهربائية ومواسير الألومنيوم

ج- حدد أولى دول العالم إنتاجاً لكل من: ١- الصين ٢- الصين ٣- تايلاند

## ثانياً التاريخ

السؤال الثالث: أ- صوب ما تحته خط:

- ١- حركة عدم الانحياز ٢- و إسرائيل. ٣- وبريطانيا ٤- محمد نجيب

ب- لمن ينسب كل عمل: ١- محكمة العدل الدولية ٢- جمال عبد الناصر. ٣- الخديو إسماعيل

السؤال الرابع: أ- اختر من بين القوسين: ١- سوريا ٢- تقسيم فلسطين ٣- الرباط ٤- رفاة الطهطاوي

ب- دلل تاويخياً: ١- حيث أنشأ الخديو إسماعيل أول مدرسة لتعليم البنات (المدرسة السنية) عام ١٨٧٣م -

ظهرت الصحافة النسائية في مصر - صدرت أول مجلة نسائية عام ١٩٠٧ وهي مجلة الريحانة على يد جميلة حافظ وفي العام التالي تحولت إلى جريدة.

٢- حيث تم توقيع معاهدة السلام بين مصر وإسرائيل واستعادت مصر كل أراضيها بالسلام وانسحبت إسرائيل من كل الأراضي المصرية..

## (النموذج السادس)

أولاً الجغرافيا: السؤال الأول: أ- أمامك خريطة لألمانيا:

- ١- السهل الألماني الشمالي  
٢- الراين  
٣- بلجيكا  
٤- البلطي  
ب- قارن بين:

وجه المقارنة	أولى قارات العالم إنتاجاً	الأهمية
القطن	آسيا	يصنع منه أجود أنواع الملابس ويستخرج منه الزيوت
الذرة	أمريكا الشمالية	يصنع من مخلفاته أعلاف للحيوانات
الأغنام	الصين ثم الهند ثم استراليا	يستخدم في أمريكا الشمالية كأعلاف للحيوانات
الأبقار	الهند	

ج- ماذا يحدث إذا: - لم تصبح القوة الاقتصادية الأولى في العالم ولا أولى الدول الصناعية السبع

السؤال الثاني: أ- اختر الإجابة من بين القوسين:

- ١- القمح  
٢- الألباش  
٣- إفريقيا  
٤- شمال شرق الولايات المتحدة الأمريكية  
ب- دال على صحة العبارات: ١- حيث يمثل نحو ٢٥% من مصادر الوقود في العالم ويستخدم في توليد الكهرباء والصناعة والاستخدامات المنزلية وكوقود للسيارات للحد من التلوث.  
٢- حيث تنتج الفحم من المنطقة الشرقية وتنتج كميات كبيرة من البترول ويصل إنتاجها لحوالي ٣% من الإنتاج العالمي وتنتجه من الساحل الجنوبي الشرقي.  
٣- الزراعة البسيطة: تتميز بطريق المساحة المزروعة - يصعب استخدام الآلات الزراعية بها - تمارس لإشباع حاجات السكان من الغذاء. أما الزراعة الراقية (التجارية والعلمية) تمارس في مزارع واسعة تستخدم فيها أحدث الآلات الزراعية - قلة الأيدي العاملة وقلة التكاليف - تهدف إلى الإنتاج التجاري الضخم مع وجود فائض للتصدير.

## ثانياً التاريخ

السؤال الثالث: أ- اختر الإجابة من بين القوسين:

- ١- ثمانية عشر يوماً  
٢- مجلس الأمن  
٣- سوريا  
٤- سان ريمو  
ب- ما العلاقة بين: ١- أدت سياسة الانفتاح الاقتصادي إلى سوء الأحوال الاقتصادية وقيام ثورة ٢٥ يناير ٢٠١١ م  
٢- هزيمة الجيش المصري في حرب فلسطين ١٩٤٨ م أدت إلى تكوين تنظيم الضباط الأحرار الذي قام بثورة ٢٣ يوليو ١٩٥٢ م.

ج- ماذا كان يحدث إذا: كانت انسحبت من سيناء ولم تحدث حرب أكتوبر ١٩٧٣ م.

السؤال الرابع: أ- لمن تنسب الأعمال التالية: ١- الملك فاروق ٢- روجرز.

- ب- بم تفسر: ١- بسبب شدة المقاومة صلابة القيادة- وقوف جميع الدول العربية بجانب مصر- تهديد الاتحاد السوفيتي بالتدخل لوقف العدوان - رفض الولايات المتحدة استخدام القوة في حل المنازعات- تنديد الأمم المتحدة بالعدوان.

٢- للنظر في المسائل الإدارية. ( معلومة محذوفة هذا العام)

- ٣- بسبب رفض إسرائيل كل نداءات السلام والانسحاب من الأراضي التي احتلتها عام ١٩٦٧ م - التصميم المصري السوري على إزالة آثار النكسة.

ج- ما رأيك في: ١- عمل جيد حيث أدت إلى تنسيق العلاقات والخطط بين الدول العربية في جميع المجالات.

٢- قرار عظيم حيث جعل قناة السويس ملكاً لمصر .



## ( النموذج السابع )

أولاً الجغرافيا: السؤال الأول: أ- أمامك خريطة للولايات المتحدة الأمريكية:

١- كندا ٢- المسيسيبي ٣- روكي ٤- المكسيك ٥- الهادي

ب- ما النتائج المترتبة على: ١- أدى إلى وقوعها في الإقليم المداري والاستوائي وسقوط الأمطار طول العام جنوب نيجيريا وصيفاً على شمال نيجيريا ونمو الغابات الاستوائية والمدارية في جنوب نيجيريا وحشائش السافانا في الشمال وارتفاع أعداد الثروة الحيوانية في نيجيريا.

٢- أدى إلى أن أصبحت القيمة الاقتصادية محدودة في دولة الهند.

ج- ما المقصود بـ: ١- الزراعة الكثيفة: زراعة الأرض أكثر من مرة في العام لإشباع حاجات السكان المحليين من الغذاء.

٢- التعدين: عملية استخراج المعادن ومصادر الطاقة من فحم وبتروول وغاز طبيعي من باطن الأرض .

السؤال الثاني: أ- اختر من المجموعة (ب) ما يناسب المجموعة (أ)

١- الشاي: الصين أكبر دول العالم إنتاجاً له ، ٢- اللحوم: الولايات المتحدة الأمريكية ثاني دول العالم إنتاجاً

٣- الفحم: كان عماد الثورة الصناعية في أوروبا ، ٤- الطاقة النووية: تعد أوروبا أولى قارات العالم إنتاجاً لها.

ب- قارن بين:

وجه المقارنة	الاهمية الاقتصادية	أولى القارات
البترول	يستخرج منه العديد من المشتقات مثل البنزين والسيول - يرتبط بالتنمية الاقتصادية والاجتماعية والعلاقات السياسية بين الدول الكبرى والدول النامية - يمثل هو والغاز الطبيعي نحو ٥٥% من مصادر الطاقة المستخدمة في العالم	آسيا أولى الدول هي السعودية
الغاز الطبيعي	من مصادر الطاقة الرخيصة والنظيفة في العالم - يستخدم في الصناعة والاستخدامات المنزلية - يستخدم في توليد الكهرباء و كوقود للسيارات للحد من التلوث - يمثل نحو ٢٥% من مصادر الوقود في العالم	أوروبا

وجه المقارنة	العاصمة	أهم الموانئ
ألمانيا	برلين	هامبورج
البرازيل	برازيليا	ساو باولو

ج- أبن تنتشر الحرف التالية: ١- في شمال غرب أوروبا ، سواحل الأمريكتين ، سواحل المحيط الهادي والأطلسي

٢- في المناطق الحارة على هوامش الغابات الاستوائية وحشائش السافانا

## ثانياً التاريخ

السؤال الثالث: أ- ضع علامة (✓) أو علامة (X)

✓ - ٤

X - ٣ لمدة عامين

✓ - ٢

✓ - ١

ب- ١- قارن بين: الحياة النيابية في عهد الاحتلال البريطاني : كانت صورية حيث أنشأ الاحتلال البريطاني عام ١٨٨٣م مجلسين صوريين وهما مجلس شورى القوانين والجمعية العمومية ثم في عام ١٩١٣م أنشأ الجمعية التشريعية. وفي عام ١٩٢٣م صدر أول دستور لمصر الذي تضمن حرية تكوين الأحزاب وجعل السلطة التشريعية في يد البرلمان الذي تكون من مجلسين وهما مجلس النواب ومجلس الشيوخ.

بعد ثورة ١٩٥٢م: قامت الثورة بحل الأحزاب السياسية وإلغاء دستور ١٩٢٣م وصدر أول دستور بعد الثورة وهو ١٩٥٦م والذي جعل السلطة التشريعية في يد مجلس واحد هو مجلس الأمة الذي تم انتخابه عام ١٩٥٧م - وبعد ذلك أصدر الرئيس السادات الدستور الدائم لمصر عام ١٩٧١م والذي أكد على سيادة القانون واستقلال القضاء وأقر مبادئ التعددية الحزبية.

٢- أقول لهم : شارك بصوتك ولا تكن سلبياً

٢- العدوان الثلاثي ١٩٥٦

السؤال الرابع: أ- رتب الأحداث: ١- تقسيم فلسطين ١٩٤٧م

٤- توقيع اتفاقية أوسلو ١٩٩٣م.

٣- جرب السادس من أكتوبر ١٩٧٣م

• ب- ما المقصود بالمصطلحات التالية: ١- الضباط الأحرار: مجموعة من ضباط الجيش تزعمهم جمال عبد الناصر رأوا ضرورة القيام بثورة تقضي على الفساد وتحرر الوطن من الاستعمار.

٢- الحياة النيابية: أن يقوم الشعب بانتخاب ممثلين عنه لإدارة شؤون الحكم في البلاد و سن القوانين ومراقبة أعمال الحكومة.

٣- الدستور: الوثيقة الرسمية التي تحدد نظام الحكم في الدولة وتحدد شكل واختصاصات المؤسسات المختلفة.



## (النموذج الثامن)

أولاً الجغرافيا: السؤال الأول: أ- أمامك خريطة للعالم القديم:

١- دولة الصين ٢- دولة الهند ٣- دولة السعودية ٤- قارة أوروبا

ب- قارن بين الزراعة البدائية والتجارية

وجه المقارنة	مناطق الانتشار	أهم السمات
الزراعة البدائية	المناطق الحارة على هوامش الغابات الاستوائية وحشائش السافانا	ضييق المساحات المزروعة - لا تستخدم فيها الآلات الزراعية - تمارس من أجل سد حاجة السكان المحليين من الغذاء
الزراعة التجارية	الولايات المتحدة الأمريكية - قارة أوروبا - جنوب شرق آسيا	تتم في مزارع وساعة - تستخدم فيها أحدث الآلات الزراعية - توفر العمالة والتكاليف - إنتاج كميات ضخمة من المحاصيل الزراعية ووجود فائض للتصدير

ج- استخرج الكلمة المخالفة مع فكر السبب: ١- هامبورج: لأنها تقع في دولة ألمانيا وباقي المدن في الولايات المتحدة الأمريكية.

٢- نيويورك: لأنها تقع في الولايات المتحدة الأمريكية وباقي المدن في دولة الهند.

السؤال الثاني: أ- صوب ما تحته خط: ١- الأبلش ٢- البترول والغاز الطبيعي

ب- بم تفسر: ١- بسبب كثافة الغابات الاستوائية والظروف المناخية القاسية

٢- بسبب اتساع المساحة وتنوع التضاريس.

٣- بسبب طول سواحلها على البحار والمحيطات وتقدم وسائل الصيد وحفظ الأسماك.

٤- لأنه يعتبر مصدر رئيسي لغذاء الإنسان ومصدر للمادة الخام الزراعية المستخدمة في الصناعة مثل القطن والكتان والمطاط الطبيعي ويرتبط بها تربية الحيوان.

## ثانياً التاريخ

السؤال الثالث: أ- أكتب ما تشير إليه العبارات:

١- قانون الإصلاح الزراعي الأول. ٢- منظمة الأغذية والزراعة (الفاو) ٣- خط بارليف ٤- وعد بلفور

ب- دلل على صحة ما يأتي: ١- حيث ولد بها السيد المسيح عليه السلام، أسري إليها سيدنا محمد صلى الله عليه وسلم، بها المسجد الأقصى أولى القبلتين وثالث الحرمين.

٢- حيث أنها تهدف إلى: حفظ السلام والأمن الدوليين، تنمية العلاقات الودية بين دول العالم، التعاون الدولي لحل المشكلات السياسية والاقتصادية والاجتماعية، تعزيز احترام حقوق الإنسان.

٣- حيث أنها قامت بإنقاذ معابد أبو سمبل من الغرق عام ١٩٦٤ م، إحياء مكتبة الإسكندرية عام ٢٠٠٢ م.

السؤال الرابع: أ- ضع علامة (✓) أو علامة (X)

١- ✓ ٢- ✓ ٣- ✓ ٤- X من الانجازات الاجتماعية للثورة مجانية التعليم

ب- ما النتائج المترتبة على:

١- استيلاء إسرائيل على فلسطين كلها ( القدس والضفة الغربية لنهر الأردن) وشبه جزيرة سيناء من مصر وهضبة الجولان السورية.

٢- قامت بريطانيا بعدة إجراءات في فلسطين هي: السماح لليهود بالهجرة بأعداد كبيرة على فلسطين والسماح بانتقال ملكية الأراضي من العرب لليهود عن طريق الشراء. انشاء وطن قومي لليهود في فلسطين.

٣- حماية مصر من خطر الفيضان - تخزين المياه - توليد الكهرباء.



## (النموذج التاسع)

أولا الجغرافيا: السؤال الأول: أ- أمامك خريطة للأمريكتين:

- ١- أمريكا الشمالية ٢- دولة البرازيل ٣- الولايات المتحدة الأمريكية ٤- الهادي

ب- بم تفسر: ١- بسبب ملانمة التربة والمناخ لشروط زراعته.

٢- بسبب مساحتها الواسعة ووجود مناطق تكاد تكون شبه خالية مثل سهول الأمازون.

٣- بسبب تنوع الموارد الطبيعية بها وتعدد الأنشطة الاقتصادية وضخامة الإنتاج الاقتصادي بها.

ج- ماذا يحدث إذا: ترتفع القيمة الاقتصادية للأبقار في الهند وتصبح أولى دول العالم في إنتاج اللحوم.

السؤال الثاني: أ- حدد القارة الأولى في الإنتاج:

- ١- الفحم / آسيا ٢- الطاقة النووية / أوروبا ٣- الذرة / أمريكا الشمالية.

ب- قارن بين: نيجيريا والولايات المتحدة الأمريكية

وجه المقارنة	نيجيريا	الولايات المتحدة الأمريكية
مناطق التركيز السكاني	في الغرب والشمال وهضبة جوس	إقليم نيو انجلند (الشمال الشرقي) و السهول الوسطى و الغرب
المناخ	مداري واستوائي	يتنوع المناخ بسبب اتساع المساحة وتنوع التضاريس

ج- ما النتائج المترتبة على: ١- زيادة إنتاج الهند من الأسماك ٢- تقدم الصناعة في دولة البرازيل.

## ثانياً التاريخ

السؤال الثالث: أ- صوب ما تحته خط: ١- استقلال صوري ٢- فلسطين ٣- حرب الاستنزاف ٤- ٧ دول

ب- بم تفسر: ١- لحل الصراع العربي الإسرائيلي على ضوء قرارات الأمم المتحدة وعلى أساس مبدأ الأرض مقابل السلام.

٢- لأنه المسنول عن حفظ السلام والأمن الدوليين وسلطته قانونية على حكومات الدول الأعضاء.

٣- بسبب شدة المقاومة صلابة القيادة- وقوف جميع الدول العربية بجانب مصر- تهديد الاتحاد السوفيتي بالتدخل لوقف العدوان - رفض الولايات المتحدة استخدام القوة في حل المنازعات- تنديد الأمم المتحدة بالعدوان.

السؤال الرابع: أ- أجب عما يلي: ١- سببين لثورة ٢٣ يوليو ١٩٥٢ م: استمرار الاحتلال البريطاني وتدخله في

شئون مصر الداخلية - هزيمة الجيش المصري في حرب فلسطين ١٩٤٨ م.

سببين لثورة ٢٥ يناير: تدهور الأحوال الاقتصادية أواخر عهد مبارك - تدهور الأحوال الصحية والخدمية والتعليمية

٢- عزل محمد مرسي وتكليف المستشار عدلي منصور بإدارة البلاد لحين إجراء الانتخابات- اصدار الدستور الجديد لمصر في يناير ٢٠١٤ م - أجريت الانتخابات الرئاسية وفاز فيها المرشح عبد الفتاح السيسي.

ب- رتب الأحداث: حصار القوات الإنجليزية لقصر عابدين - إنشاء جامعة الدول العربية - إعلان قيام الجمهورية في

مصر - تأميم قناة السويس - انتصار مصر على إسرائيل في حرب أكتوبر.



## (النموذج العاشر)

أولا الجغرافيا: السؤال الأول: أ- أماهك خريطة للعالم:

- ١- الصين ٢- استراليا ٣- البرازيل ٤- السعودية
- ب- أذكر أهمية كلاً من:
- ١- المطاط: صناعة إطارات السيارات. ٢- النحاس: صناعة الأسلاك والأدوات الكهربائية.
- ٣- الغاز الطبيعي: يمثل ٢٥% من مصادر الوقود في العالم - يستخدم في توليد الكهرباء - يستخدم في الصناعة والاستخدامات المنزلية - يستخدم كوقود للسيارات للحد من التلوث.
- ج- ما النتائج المترتبة على:
- ١- تنوع التضاريس - تنوع المناخ - تنوع النبات الطبيعي.
- ٢- ارتفاع المستوى الاقتصادي والاجتماعي لدول الخليج العربي - أصبحت من المراكز الصناعية الحديثة في العالم التي تعتمد على الصناعات البترولية.

السؤال الثاني: أ- ضع علامة (✓) أو علامة (X) مع التصويب

- ١- إقليم شرق آسيا X ٢- الولايات المتحدة الأمريكية ✓ ٣- ✓ ٤- ✓
- ب- قارن بين: ١- ألمانيا والبرازيل

وجه المقارنة	ألمانيا	البرازيل
القارة	أوروبا	أمريكا الجنوبية
العاصمة	برلين	برازيليا
ما تستورده مصر	الآلات والسيارات والصناعات الكيماوية	اللحوم والحديد والبن والسكر والمحاصيل الزيتية مثل السمسم

٢- أحد المحاصيل الغذائية وأحد المحاصيل النسيجية

وجه المقارنة	أهمية	أهمية
أهمية	أهمية	أهمية
أهم دول الإنتاج	الصين - الهند	الصين - الهند
أهم دول الإنتاج	الصين - الهند	الصين - الهند

## ثانياً التاريخ

السؤال الرابع: أ- اختر الإجابة من بين القوسين:

- ١- مجانية التعليم ٢- نيويورك ٣- السادات ٤- بريطانيا
- ب- ما النتائج المترتبة على:

- ١- عودة مدينة طابا إلى السيادة المصرية - وبذلك استعادت مصر آخر جزء من أراضيها.
- ٢- نشر الرعاية الصحية بين دول العالم وحماية مياه الشرب من التلوث.
- ٣- انتهاء نظرية الأمن الإسرائيلية و استطاعت مصر الانتصار في حرب أكتوبر وتحطيم أسطورة الجيش الإسرائيلي الذي لا يقهر.

السؤال الرابع: أ- من أكون:

- ١- مجلس الأمن ٢- روجرز ٣- محمد أنور السادات ٤- جميلة حافظ
- ب- عبر برأيك:

- ١- موقف رانع حيث أن مساعدات الدول العربية أدت إلى الانتصار في حرب أكتوبر.
- ٢- موقف عظيم حيث أثبتت أحداث الثورة أن الجيش قوة مساندة للشعب وليس أداة لقمع المتظاهرين وأنه الضامن الحقيقي لنجاح ثورة ٢٥ يناير.
- ٣- انجازات رانعة حيث ساهمت ثورة ٢٣ يوليو في تحرير الكثير من الدول العربية والإفريقية كام ساهمت في تشكيل حركات سياسية مازات موجودة حتى الآن مثل حركة عدم الانحياز وكسرت احتكار السلاح العالمي.