

الامتحان

الدراسات
الاجتماعية

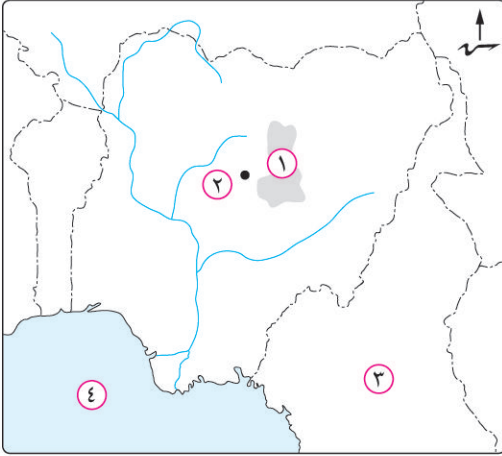
نماذج امتحانات

الصف 3 الإعدادي

الفصل الدراسي الثاني ٢٠٢١

أجب عن الأسئلة الآتية :

أولاً الجغرافيا



١ (أ) أمامك خريطة لدولة نيجيريا، وضح مدلول الأرقام

الموجودة عليها :

- (١) هضبة
 (٢) مدينة
 (٣) دولة
 (٤) مسطح مائي

(ب) ما النتائج المترتبة على ... ؟

- (١) وجود المناخ الاستوائي والمدارى فى قارة آسيا بالنسبة لإنتاج الموارد الزراعية.
 (٢) وقوع الصين على المحيط الهادى ووجود الأنهار والبحيرات ومزارع تربية الأسماك بها.
 (٣) زيادة الطلب على البترول وتعدد استخداماته.
 (٤) وجود التلال والينابيع بالمرتفعات الوسطى فى ألمانيا.
 (ج) قارن بين : القطن، والمطاط الطبيعى، من حيث : * الأهمية.
 * أهم الدول المنتجة.

٢ (أ) اختر الإجابة الصحيحة مما بين القوسين :

- (١) أكبر دولة منتجة للبنجر فى قارة أفريقيا دولة (جنوب أفريقيا - مصر - نيجيريا - السودان)
 (٢) تعتبر أولى دول العالم إنتاجاً للقمح. (الصين - الهند - الولايات المتحدة الأمريكية - روسيا)
 (٣) من المراكز الصناعية الحديثة فى أمريكا الجنوبية (بيرو - بوليفيا - الأرجنتين - المكسيك)
 (٤) تُعد البرازيل أولى دول العالم إنتاجاً لـ (الصوف - السكر - اللحوم - القمح)
 (٥) يحد ألمانيا من جهة الغرب دولة (بولندا - التشيك - الدنمارك - فرنسا)

(ب) «تُعد مصادر الطاقة القوى المحركة لحياة الإنسان». فى ضوء ذلك، أجب عما يأتى :

- (١) وضح : استخدامات الغاز الطبيعى.
 (٢) ما العلاقة بين : الألومنيوم، والطاقة الكهربائية ؟
 (٣) ما مقترحاتك لـ : زيادة إنتاج الطاقة فى مصر ؟ (من خلال ما درست).
 (٤) دلل جغرافياً على صحة العبارة الآتية :
 واجهت الهند المشكلة السكانية بسياسات تنمية مختلفة.

ثانياً التاريخ

٣ (١) أعد كتابة العبارات الآتية بعد تصويب ما تحته خط :

- (١) أسس جمال عبدالناصر تنظيم تكون من مجموعة من ضباط الجيش المصرى عُرف باسم عدم الانحياز.
- (٢) وضعت فلسطين تحت الانتداب البريطانى بمقتضى مؤتمر باندونج ١٩٢٠م.
- (٣) عقد مؤتمر كامب ديفيد على أساس مبدأ الأرض مقابل السلام.
- (٤) استشهد الفريق أول عبدالمنعم رياض فى حرب أكتوبر ١٩٧٣م.
- (٥) إقامة الوحدات الصحية والجمعيات الزراعية من إنجازات ثورة ٢٣ يوليو ١٩٥٢م فى المجال السياسى.

(ب) بم تفسر ... ؟

- (١) لم تحقق معاهدة ١٩٣٦م الاستقلال الحقيقى لمصر.
- (٢) فشل العدوان الثلاثى على مصر.
- (٣) تشكيل اللجان الشعبية أثناء ثورة ٢٥ يناير ٢٠١١م.
- (٤) صدور الدستور الدائم عام ١٩٧١م.
- (٥) إنشاء محكمة العدل الدولية.

٤ (١) اختر الإجابة الصحيحة مما بين القوسين :

- (١) قامت مصر فى أكتوبر ١٩٥٤م ب.....
- (إلغاء دستور ١٩٢٣م - توقيع اتفاقية الجلاء - إلغاء الملكية وإعلان الجمهورية - إصدار قانون الإصلاح الزراعى)
- (٢) إحكاماً للحصار الاقتصادى الذى فرضه العرب على إسرائيل قامت مصر بإغلاق خليج فى مايو ١٩٦٧م.
- (السويس - عدن - العقبة - هرمز)
- (٣) نجحت القوات المصرية فى هزيمة القوات الإسرائيلية فى معركة رأس العش عندما حاولت احتلال مدينة
- (بورسعيد - بورفؤاد - السويس - الإسماعيلية)
- (٤) شاركت المرأة فى الحياة النيابية، وشغلت الدكتوراة منصب رئيس
- اللجنة التشريعية بمجلس الشعب. (حكمت أبوزيد - عائشة راتب - أمال عثمان - تهانى الجبالى)
- (٥) يعد أعلى سلطة داخل الجامعة العربية.
- (مجلس الجامعة - الأمين العام - الأمناء المساعدون - اللجان الدائمة)

(ب) «كانت حرب أكتوبر ١٩٧٣م أحد حلقات الصراع مع إسرائيل». فى ضوء ذلك، وضح :

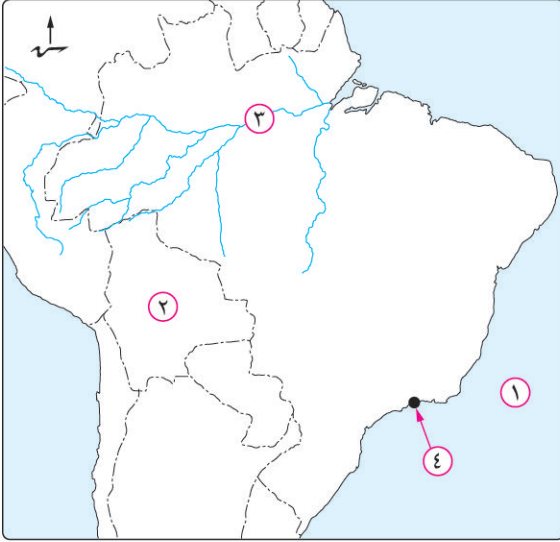
- (١) أسباب حرب أكتوبر ١٩٧٣م.
- (٢) الإجراءات التى قامت بها مصر لإعداد وتهيئة الجبهة الداخلية استعداداً للحرب أكتوبر ١٩٧٣م.
- (٣) دور الدول العربية فى دعم مصر وسوريا فى حرب أكتوبر ١٩٧٣م.

(ج) دلل تاريخياً على صحة كل عبارة مما يأتى :

- (١) عدم التزام اليهود بالهدنة كان سبباً لتفوقهم فى حرب ١٩٤٨م.
- (٢) لتحقيق السلام وإنهاء الصراع العربى / الإسرائيلى عدة مزايا لمصر والدول العربية.

أجب عن الأسئلة الآتية :

أولاً الجغرافيا



١ (أ) أمامك خريطة صماء لدولة البرازيل،

اكتب ما تدل عليه الأرقام الآتية :

(١) المحيط

(٢) دولة

(٣) نهر

(٤) العاصمة القديمة

(ب) بم تفسر ... ؟

(١) قيام الدول النامية المنتجة للبوكسيت بتصديره إلى

الدول المتقدمة .

(٢) قلة عدد السكان في دلتا النيجر .

(٣) توسع العالم في استخدام الغاز الطبيعي كبديل لمصادر الطاقة الأخرى .

(٤) تركيز زراعة البنجر في معظم دول قارة أوروبا .

(ج) ما الأهمية الاقتصادية لكل مورد مما يأتي ... ؟ مع تحديد أولى الدول المنتجة له :

(١) المطاط الطبيعي .

(٢) النحاس .

(د) دلل جغرافياً على صحة العبارة الآتية : قوة العلاقات بين مصر وكل من نيجييريا وألمانيا .

٢ (أ) اختر الإجابة الصحيحة مما بين القوسين :

(١) تحتل دولة المركز الأول عالمياً في تربية الدواجن .

(الولايات المتحدة الأمريكية - الهند - الصين - تايلاند)

(٢) تقع أهم مراكز الصناعة الحديثة في جنوب شرق آسيا بدولة

(فنزويلا - شيلي - ماليزيا - المكسيك)

(٣) يستخرج من هضبة چوس بدولة نيجييريا معدن (الحديد - القصدير - البوكسيت - الرصاص)

(٤) أولى الدول العربية في توليد الطاقة الكهربائية من الرياح (المغرب - تونس - سوريا - مصر)

(ب) ما النتائج المترتبة على ... ؟

(١) التوسع العمراني في السهل الساحلي الشمالى بألمانيا .

(٢) انتشار التعليم بين قبائل وسط آسيا .

(ج) ما المقصود بكل مفهوم من المفاهيم الجغرافية الآتية ... ؟

- (١) زراعة الأرض أكثر من مرة في العام لإشباع حاجة السكان المحليين من الغذاء.
- (٢) نبات دائم الخضرة موطنه الأصلي شرق آسيا.
- (٣) القوى المحركة لحياة الإنسان في جميع مجالات حياته.
- (٤) يعتبر غذاء رئيسي لكثير من سكان العالم خاصة في المناطق الساحلية.

ثانياً التاريخ

٣ (أ) صوب ما تحته خط :

- (١) امتنعت فرنسا عن التصويت بعد قرار تقسيم فلسطين عام ١٩٤٧م.
- (٢) تدخل مجلس الوصاية وأصدر القرار رقم ٢٤٢ في نوفمبر ١٩٦٧م.
- (٣) أستشهد الفريق أول عبد المنعم رياض في حرب فلسطين.
- (٤) أنشأ إسماعيل مجلس المشورة عام ١٨٦٦م.
- (٥) استضافت تونس أول قمة أفريقية على أرضها عام ١٩٦٤م.

(ب) ما النتائج التي تترتب على ... ؟

- (١) فشل العدوان الثلاثي على مصر عام ١٩٥٦م.
- (٢) حرب أكتوبر ١٩٧٣م. (بَلَّغْ بِأَيِّهِ نَنَالُ)
- (٣) اللجوء إلى التحكيم الدولي في قضية طابا.

(ج) ماذا كان يحدث إذا ... ؟

- (١) تم هزيمة إسرائيل في ٥ يونيو ١٩٦٧م.
- (٢) رفض كل من السادات وبيجين دعوة الرئيس الأمريكي كارتر لاجتماعات كامب ديفيد.

٤ (أ) لمن تنسب الأعمال التاريخية الآتية ... ؟

- (١) سيطر على جميع قطاعات الجيش المصري بموجب إذاعة البيان الأول لثورة ٢٣ يوليو ١٩٥٢م.
- (٢) قاد خطة الخداع لصرف أنظار إسرائيل عن التجهيزات الهجومية لحرب أكتوبر ١٩٧٣م.
- (٣) شغلت منصب رئيس اللجنة التشريعية بمجلس الشعب.
- (٤) منظمة دولية ساهمت في إحياء مكتبة الإسكندرية.

(ب) دلل تاريخياً على صحة كل عبارة من العبارات الآتية :

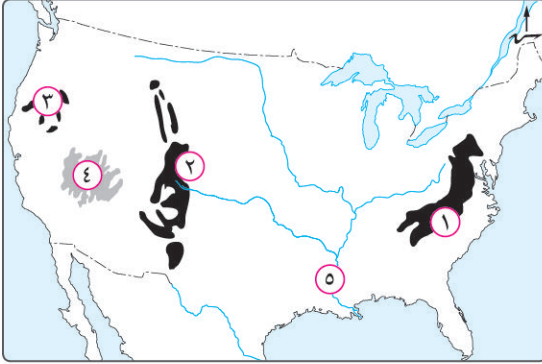
- (١) اهتمام ثورة ٢٣ يوليو ١٩٥٢م بحقوق العمال.
- (٢) تطبيق الهدنة في حرب فلسطين عام ١٩٤٨م لم يكن في صالح العرب.

(ج) قارن بين :

أوضاع مصر الاقتصادية قبل ثورة ٢٣ يوليو ١٩٥٢م، وقبل ثورة ٢٥ يناير ٢٠١١م.

أجب عن الأسئلة الآتية :

أولاً الجغرافيا



١ (أ) أمامك خريطة للولايات المتحدة الأمريكية،

اكتب ما تدل عليه الأرقام :

- (١) جبال
 (٢) جبال
 (٣) جبال
 (٤) هضبة
 (٥) نهر

(ب) صوب الكلمات التي فوق الخط في كل عبارة من العبارات الآتية :

- (١) يزرع القمح في كل قارات العالم عدا قارة أوروبا.
 (٢) تُعد الأغنام المصدر الرئيسي للحوم لغالبية سكان العالم.
 (٣) مدينة أبوجا هي مركز للتجارة والتعليم والمواصلات وتأتي في المركز الثاني في الأهمية بعد لاجوس.
 (ج) «اتجه الإنسان بالفطرة نحو إشباع حاجاته الضرورية لاستمرار حياته وقد مارس البشر العديد من الأنشطة الاقتصادية». في ضوء العبارة السابقة، أجب عن الأسئلة الآتية:

- (١) وضح المقصود بمصطلح : الزراعة الكثيفة.
 (٢) ما العلاقة بين : تدفق البترول، والرعى البدائي في شبه الجزيرة العربية، وبادية الشام ؟
 (٣) ما النتائج المترتبة على : الوحدة الاقتصادية الأوروبية ؟

٢ (أ) اختر الإجابة الصحيحة مما بين القوسين :

- (١) أولى قارات العالم في إنتاج القمح قارة
 (٢) تحتل دولة المركز الأول في إنتاج الأسماك في العالم.
 (٣) توجد خمس دول عربية تنتج الطاقة الكهربائية من الرياح تتقدمها مصر تليها
 (العراق - تونس - المغرب - الجزائر)
 (بومباي - نيودلهي - كلكتا - حيدرآباد)
 (٤) أهم مدن الساحل الغربي في الهند مدينة

(ب) بم تفسر... ؟

- (١) تركيز زراعة الشاي في دول شرق آسيا.
 (٢) توجد بالهند ثروة حيوانية ضخمة.
 (٣) يقل عدد السكان في دلتا نهر النيجر.
 (٤) تفوق الهند في صناعة الحديد والصلب.
 (ج) قارن بين : صناعة الألومنيوم، وصناعة أسلاك الكهرباء، من حيث :
 * المادة الخام الرئيسية في إنتاج كل منهما.
 * أولى الدول المنتجة للمادة الخام الرئيسية لكل منهما.

ثانياً التاريخ

٣ (أ) اختر الإجابة الصحيحة مما بين القوسين :

- (١) شارك مصر في تشكيل حركة عدم الانحياز كل من إندونيسيا و.....
- (الهند ونيجيريا - ألمانيا ويوغوسلافيا - الهند ويوغوسلافيا - أمريكا وروسيا)
- (٢) يُعد الفريق أحد أبطال العسكرية المصرية والذي استشهد في حرب الاستنزاف.
- (سعد الدين الشاذلي - أحمد إسماعيل - محمد نجيب - عبد المنعم رياض)
- (٣) أشهر المذابح التي ارتكبتها اليهود ضد العرب في فلسطين مذبحه
- (بحر البقر - دير ياسين - القلعة - يافا)
- (٤) ظهرت أول مجلة نسائية مصرية (الريحانة) في فبراير ١٩٠٧م وأصدرتها
- (جميلة حافظ - هدى شعراوي - عائشة راتب - آمال عثمان)

(ب) بم تفسر... ؟

- (١) غادر الملك فاروق وأسرته البلاد قبل الموعد الذي حددته ثورة ٢٣ يوليو ١٩٥٢م.
- (٢) أهمية منظمات المجتمع المدني.
- (٣) يعتبر مجلس الأمن أهم أجهزة الأمم المتحدة.

(ج) دلل تاريخياً على صحة كل عبارة من العبارات الآتية :

- (١) اختلعت الكتابات وتعددت الآراء حول ثورة ٢٣ يوليو ١٩٥٢م.
- (٢) كان الدعم العربي لمصر أحد أسباب النصر في حرب أكتوبر ١٩٧٣م.
- (٣) سوء الأحوال الاجتماعية في مصر أحد أسباب ثورة ٢٥ يناير ٢٠١١م.

٤ (أ) اكتب كلمة (صواب) أمام العبارة الصحيحة، وكلمة (خطأ) أمام العبارة غير الصحيحة :

- () (١) أذيع البيان الأول لثورة ١٩٥٢م بصوت محمد نجيب.
- () (٢) نجحت مصر في استعادة كل أراضيها من إسرائيل في ٢٥ أبريل ١٩٨٢م.
- () (٣) تحقيق السلام يؤدي إلى الاستقرار الداخلي للبلاد العربية.
- () (٤) المنظمات الإقليمية يشترك فيها كل دول العالم.

(ب) «أدركت بريطانيا أهمية فلسطين، لذا سعت لتأييد فكرة الوطن اليهودي».

في ضوء العبارة السابقة، وضح :

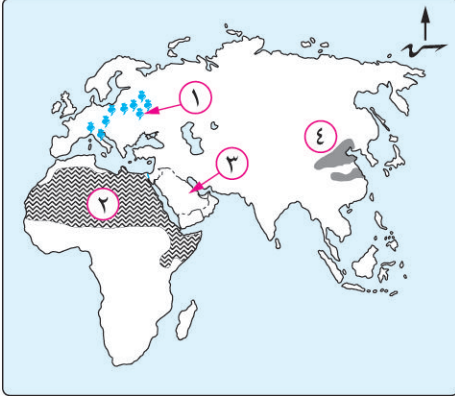
- (١) أهمية فلسطين في قلب كل عربي.
- (٢) إجراءات بريطانيا لتنفيذ وعد بلفور.
- (٣) دور الولايات المتحدة الأمريكية في هزيمة مصر والعرب في حرب فلسطين ١٩٤٨م.
- (٤) جهود الرئيس السادات في إعداد الجبهة الداخلية استعداداً للحرب أكتوبر ١٩٧٣م.

(ج) ما النتائج التي ترتبت على ... ؟

- (١) عدوان ٥ يونيو ١٩٦٧م.
- (٢) إنشاء السد العالي في مصر.

أجب عن الأسئلة الآتية :

أولاً الجغرافيا



١ (أ) أمامك خريطة لقارات العالم القديم، اكتب مدلول

الأرقام الموقعة عليها :

(١) محصول سكرى

(٢) نوع الرعى

(٣) مصدر للطاقة تعتبر الدولة الموضحة الأولى في إنتاجه

(٤) إقليم صناعى

(ب) قارن بين : حركة المد والجزر، والغاز الطبيعي، من حيث :

نوع الكهرباء المتولدة عن كل منهما.

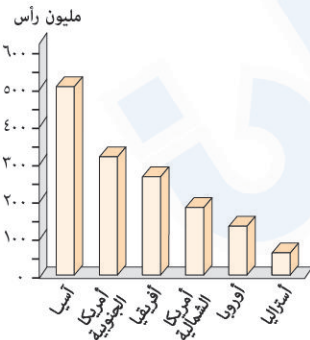
(ج) اكتب ما تشير إليه كل عبارة من العبارات الآتية :

(١) محصول زراعى يعتبر الغذاء الرئيسى لمعظم شعوب العالم.

(٢) دولة عربية تعد الأولى في توليد الطاقة الكهربائية من الرياح.

(٣) أحد المدن الجديدة البرازيلية التى تقع على نهر الأمازون.

(٤) أكبر المدن النيجيرية تكديسا بالسكان.



٢ (أ) أمامك رسم بياني يمثل إنتاج أحد الموارد الحيوانية في العالم،

استعن به للإجابة عما يأتى :

(١) ما المورد الحيوانى الذى يمثله الرسم البيانى ؟

وما أهميته الاقتصادية ؟

(٢) ما أهم دول العالم إنتاجاً لهذا المورد ؟

وما سبب ضآلة قيمته الاقتصادية فيها ؟

(ب) أيهما أفضل ... ؟ ولماذا ؟

(١) اتباع نظام الزراعة الكثيفة أم التجارية فى المزارع واسعة المساحة .

(٢) استغلال المياه الساحلية الضحلة أم العميقة فى نشاط صيد الأسماك .

(٣) تفرق الدول الأوروبية أم تجمعها على هيئة وحدة اقتصادية .

(ج) أكمل المقارنة الآتية :

الولايات المتحدة الأمريكية	جمهورية البرازيل	
يحدها من الشمال دولة (٤)	يحدها من الشرق المحيط (١)	الموقع الجغرافى
تمتد على سواحلها الغربية جبال (٥)	تمتد فى جنوبها هضبة (٢)	الظواهر التضاريسية
عاصمتها السياسية (٦)	عاصمتها القديمة (٣)	أهم المدن

ثانياً التاريخ

٣ (أ) أكمل العبارات الآتية بكلمات مناسبة :

- (١) تم إذاعة البيان الأول لثورة ٢٣ يوليو ١٩٥٢م من الإذاعة المصرية باسم اللواء
- (٢) امتنعت دولة عن التصويت على مشروع تقسيم فلسطين عام ١٩٤٧م.
- (٣) تخلى الرئيس مبارك عن الرئاسة وسلم إدارة شؤون البلاد لـ
- (٤) بموجب دستور عام ١٩٥٦م تم في عام ١٩٥٧م تشكيل

(ب) بم تفسر ... ؟

- (١) اكتسبت ثورة ٢٣ يوليو ١٩٥٢م أهمية كبيرة في المنطقة العربية والعالم.
- (٢) تفوق اليهود في حرب ١٩٤٨م عند استئناف القتال بعد الهدنة.
- (٣) مبادرة الرئيس محمد أنور السادات لزيارة إسرائيل عام ١٩٧٧م.
- (٤) الأمم المتحدة منظمة دولية.

(ج) دلل تاريخياً على صحة كل عبارة من العبارات الآتية :

- (١) تعتبر بريطانيا صانعة مشكلة فلسطين.
- (٢) أنهت حرب أكتوبر ١٩٧٣م نظرية الأمن الإسرائيلي.
- (٣) لمنظمات المجتمع المدني دور مهم في تثقيف المواطنين.
- (٤) لمصر دور مهم في منظمة الاتحاد الأفريقي.

٤ (أ) من يكون ... ؟

- (١) أحد الأعمدة الرئيسة في إعادة بناء وتنظيم القوات المسلحة في حرب الاستنزاف.
- (٢) أصبح رئيساً لأركان حرب القوات المسلحة المصرية في ديسمبر ١٩٧٣م.
- (٣) أنشأ مدرسة لتعليم البنات عام ١٨٧٣م.
- (٤) أول وزيرة للشؤون الاجتماعية في مصر عام ١٩٦٢م.

(ب) ما النتائج التي ترتبت على ... ؟

- (١) توقيع اتفاقية الجلاء في أكتوبر ١٩٥٤م.
- (٢) اجتماع وزراء النفط العربي بالكويت أثناء حرب أكتوبر ١٩٧٣م.
- (٣) التعاون بين مصر ومنظمة اليونسكو.

(ج) «حقق الجيش المصري انتصاراً حاسماً في حرب أكتوبر ١٩٧٣م ثم اتجهت مصر بعد ذلك لإنهاء الصراع العربي/ الإسرائيلي وتحقيق السلام». في ضوء هذه العبارة، وضح :

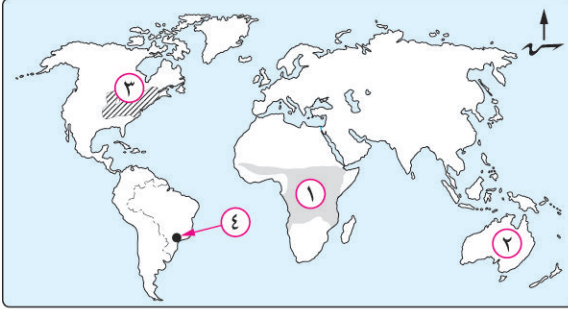
- (١) الاستعدادات التي قامت بها مصر لحرب أكتوبر ١٩٧٣م لتهيئة الجبهة العربية.
- (٢) موقف مصر من مؤتمر مدريد للسلام عام ١٩٩١م.

(د) رتب الأحداث التاريخية الآتية من الأقدم إلى الأحدث :

- * عقد مؤتمر كامب ديفيد.
- * إنشاء جامعة الدول العربية.
- * الوحدة بين مصر وسوريا.
- * حرب الاستنزاف.

أجب عن الأسئلة الآتية :

أولاً الجغرافيا



١ (أ) أمامك خريطة للعالم، اكتب مدلول الأرقام الموقعة عليها :

(١) نوع الزراعة السائدة

(٢) اسم المعدن الذى تحتل الدولة رقم (٢) المرتبة

الأولى فى إنتاجه

(٣) إقليم صناعى

(٤) العاصمة القديمة للدولة الموضحة

(ب) «تمثل الأسماك غذاءً رئيسياً لكثير من سكان العالم خاصة فى المناطق الساحلية على البحار والمحيطات».

فى ضوء هذه العبارة، وضح :

(١) العوامل الطبيعية التى ساعدت على انتشار مصايد الأسماك على سواحل القارات.

(٢) أسباب قيام بعض الدول بصيد الحيتان.

(٣) أسباب امتلاك البرازيل لثروة كبيرة من الأسماك.

(ج) ما العلاقة بين ... ؟

(١) تدفق البترول، وحرفة الرعى البدائى فى شبه الجزيرة العربية.

(٢) دولة ألمانيا، ومحطات توليد الكهرباء فى مصر.

(د) اكتب المصطلح الجغرافى لكل عبارة من العبارات الآتية :

(١) يستخرج من عصارة أشجار استوائية ويصنع منه إطارات السيارات.

(٢) احتل المصدر الأول والرئيسى للطاقة المستخدمة فى العالم حتى أوائل القرن العشرين.

(٣) مناخ يسود الساحل الجنوبي الشرقى للولايات المتحدة الأمريكية.

٢ (أ) صوب ما تحته خط فى العبارات الآتية :

(١) القطن من المحاصيل المعتدلة المهمة لإنتاج الخيوط التى تستخدم فى صناعة المنسوجات.

(٢) تصدر الدول النامية مثل موريتانيا خام النحاس إلى الدول الصناعية المتقدمة.

(٣) تُعد آسيا أولى قارات العالم إنتاجاً للطاقة النووية.

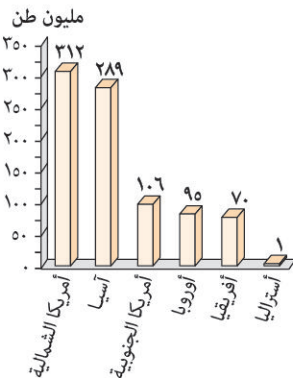
(٤) تغطى الغابات ثلث مساحة ألمانيا وأهمها الغابات الاستوائية والمدارية.

(ب) أمامك رسم بياني يمثل إنتاج إحدى أنواع الموارد الزراعية فى العالم،

استعن به للإجابة عما يأتى :

(١) ما المورد الزراعى الذى يمثله الرسم البياني ؟

(٢) حدد القيمة الاقتصادية لهذا المورد لأولى القارات المنتجة له.



(ج) ما النتائج المترتبة على ... ؟

- (١) استخدام الطرق العلمية الحديثة في الزراعة التجارية والعلمية.
- (٢) رخص ثمن الغاز الطبيعي وقلّة تلوثه.
- (د) **قارن بين :** الأبقار، والأغنام، من حيث الأهمية الاقتصادية لكل منهما.

ثانياً التاريخ

٣ (أ) اكتب كلمة (صواب) أمام العبارة الصحيحة، وكلمة (خطأ) أمام العبارة غير الصحيحة، مع التصويب :

- (١) كسرت مصر احتكار السلاح العالمي بعقد صفقة الأسلحة الشرقية. ()
- (٢) قدمت الولايات المتحدة الأمريكية مساعدات مالية ضخمة عاجلة لمصر أثناء حرب أكتوبر ١٩٧٣م. ()
- (٣) التطبيق السليم لسياسة الخصخصة أدى إلى ارتفاع الأسعار في المجتمع المصري قبل ثورة ٢٥ يناير ٢٠١١م. ()
- (٤) ساهمت منظمة الأمم المتحدة للتربية والعلوم والثقافة في إنقاذ «معابد أبو سمبل» في عام ١٩٦٤م. ()

(ب) بم تفسر ... ؟

- (١) عجز الأحزاب السياسية في التعبير عن إرادة الشعب المصري ومطالبه قبل ثورة يوليو ١٩٥٢م.
- (٢) مشاركة مصر في مؤتمر مدريد للسلام عام ١٩٩١م.
- (٣) أهمية الدستور الدائم لمصر عام ١٩٧١م.

(ج) ماذا كان يحدث إذا ... ؟ (١) لم تؤيد مصر حركات التحرر الوطني في الجزائر.

(٢) لم تشكل اللجان الشعبية أثناء ثورة ٢٥ يناير ٢٠١١م.

٤ (أ) لمن تنسب الأعمال التاريخية الآتية ... ؟

- (١) أذاع أول بيان لثورة ٢٣ يوليو ١٩٥٢م.
- (٢) أصدر تصريحاً تعهدت فيه بريطانيا بإنشاء وطن قومي لليهود في فلسطين.
- (٣) دعا كلاً من مصر وإسرائيل لعقد مؤتمر كامب ديفيد للسلام عام ١٩٧٨م.
- (٤) تولت منصب وزيرة الشؤون الاجتماعية عام ١٩٧١م.
- (ب) «تعددت الحروب والمواجهات بين إسرائيل والعرب منذ عام ١٩٤٨م وحتى عام ١٩٧٣م».

في ضوء هذه العبارة، وضّح :

- (١) أسباب هزيمة الدول العربية في يونيو ١٩٦٧م.
- (٢) دور القوات المسلحة المصرية في الصمود والتصدي للاعتداءات الإسرائيلية بعد عدوان عام ١٩٦٧م.
- (٣) موقف الولايات المتحدة الأمريكية من حرب الاستنزاف.

(ج) رتب الأحداث التاريخية الآتية من الأقدم للأحدث :

- * عودة طابا إلى السيادة المصرية.
- * إصدار جميلة حافظ أول مجلة نسائية مصرية (الريحانة).
- * تأميم شركة قناة السويس البحرية شركة مصرية بإدارة مصرية.
- * إنشاء جامعة الدول العربية.

إجابات نماذج امتحانات

الصف 3 الإعدادي

الفصل الدراسي الثاني ٢٠٢١

1 إجابة نموذج

١

- (٣) - التوسع في توليد الطاقة الكهربائية من الأمواج وحركة المد والجزر والطاقة الشمسية والرياح.
- استخدام المحطات النووية السلمية في توليد الطاقة الكهربائية.
(٤) حيث اهتمت بالتعليم وتطوير البحث العلمي مما أدى إلى تطوير الزراعة والصناعة.

٣

- (١) (١) ... تنظيم الضباط الأحرار.
(٢) ... سان ريمو.
(٣) ... مدريد ...
(٤) ... الاستنزاف عام ١٩٦٩م.
(٥) ... المجال الاجتماعي.
(ب) (١) لأن قوات الاحتلال البريطاني في فبراير ١٩٤٢م قامت بمحاصرة قصر عابدين لإجبار الملك فاروق على تعيين مصطفى النحاس باشا رئيساً للحكومة مما يعد تدخل في شؤون مصر الداخلية.

(٢) بسبب :

- المقاومة الباسلة لجيش مصر وشعبها وصلابة القيادة.
- وقوف الشعوب العربية إلى جانب مصر.
- تهديد الاتحاد السوفيتي (سابقاً) بالتدخل لوقف العدوان.
- رفض الولايات المتحدة الأمريكية استخدام القوة في حل النزاعات.
- تنديد الأمم المتحدة بالعدوان.

(٣) بهدف :

- حماية المنشآت والمناطق.
- مواجهة أعمال السرقة والحرق والترويع.
- (٤) لأنه :

- أكد على سيادة القانون واستقلال القضاء وإقرار مبادئ التعددية الحزبية.
- كان أحد إجراءات تهيئة وإعداد الجبهة الداخلية لمصر قبل حرب أكتوبر ١٩٧٣م.

(٥) بهدف :

- النظر في القضايا التي تضعها الدول أمامها.
- تقديم الاستشارات القانونية للهيئات الدولية.

٤

- (١) (١) توقيع اتفاقية الجلاء.
(٢) العقبة.
(٣) بورفؤاد.
(٤) أمال عثمان.
(٥) مجلس الجامعة.

- (١) (١) جوس.
(٢) أبوجا.
(٣) الكامرون.
(٤) خليج غينيا.

(ب) (١) ترتب على ذلك إنتاج قارة آسيا لـ :

- قصب السكر لأنه محصول مدارى حار.
- القطن (ثلاثي الإنتاج العالمى وهى أولى القارات إنتاجاً له) لأنه محصول مدارى.
- المطاط الطبيعي (أولى قارات العالم إنتاجاً له) لأنه يستخرج من عصارة أشجار استوائية.
- (٢) أدى ذلك إلى أن أصبحت الصين من أهم الدول المنتجة للأسماك.
- (٣) ترتب على ذلك ارتفاع أسعاره عالمياً.
- (٤) ترتب على ذلك أن أصبحت المرتفعات الوسطى في ألمانيا مناطق جذب للسياح.

(ج)

المطاط الطبيعي	القطن	الأهمية (الاستخدام)
* يصنع منه إطارات السيارات وصناعات أخرى.	* إنتاج الخيوط التي تُستخدم في صناعة أجود أنواع الملابس والمنسوجات.	* مصدر لاستخراج زيت بذرة القطن وصناعة الأعلاف.
* تايلاند (أولى دول العالم).	* الصين. * الهند.	أهم الدول المنتجة

٢

- (١) (١) مصر.
(٢) الصين.
(٣) الأرچنتين.
(٤) السكر.
(٥) فرنسا.

(ب) (١) حيث يستخدم :

- في الصناعة على نطاق واسع.
- في الاستخدامات المنزلية.
- في توليد الطاقة الكهربائية (الكهرباء الحرارية).
- كوقود للسيارات بديلاً للبنزين للحد من تلوث البيئة.
- (٢) وفرة الطاقة الكهربائية من مقومات صناعة الألومنيوم.

(ب) (١) بسبب :

- رفض إسرائيل لكل نداءات السلام بالانسحاب من الأراضي التي احتلتها في العدوان الإسرائيلي ٥ يونيو ١٩٦٧م بموجب قرار مجلس الأمن (٢٤٢).
- تصميم مصر وسوريا على إزالة آثار نكسة يونيو ١٩٦٧م (واسترداد شبه جزيرة سيناء وهضبة الجولان).

(٢) حيث تم :

- رفع الرقابة عن الصحف.
- إصدار دستور جديد للبلاد (دستور ١٩٧١م).
- إلغاء الحراسات والإجراءات المقيدة للحريات.
- القضاء على مراكز القوى.
- تجهيز الجيش وتسليحه بأحدث الأسلحة وتدريبه عليها.

(٣) حيث :

- قدمت بعض الدول العربية الدعم المالي والعسكري لمصر وسوريا.
- قرر وزراء النفط العربي في اجتماعهم بالكويت خفض إنتاج البترول وحظر الصادرات النفطية إلى الولايات المتحدة الأمريكية خاصة عندما طلب الرئيس الأمريكي مساعدات عاجلة لإسرائيل.

(ج) (١) حيث بدأوا في تقوية قواتهم من حيث العدد والتسليح وعند استئناف القتال ظهر تفوق اليهود على جميع جبهات القتال مما أدى لتراجع وهزيمة القوات العربية.

(٢) حيث إن تحقيق السلام يساعد على :

- الاستقرار الداخلي للبلاد العربية.
- دفع عجلة التنمية الاقتصادية والاجتماعية وإصلاح البنية الأساسية للبلاد.
- تشجيع رؤوس الأموال العربية والأجنبية للاستثمار في مصر وغيرها من الدول العربية.
- تنشيط حركة السياحة والتي تؤدي إلى زيادة الدخل القومي وتوفير العملات الأجنبية.
- إقامة المشروعات الوطنية وتحقيق التنمية في مصر بشكل خاص، ومنطقتنا العربية بشكل عام.

إجابة نموذج 2

١

(١) (١) الأطلنطي.
(٣) الأمازون.

(٢) بوليفيا.
(٤) ريودي چانيرو.

(ب) (١) بسبب عدم توافر مقومات صناعة الألومنيوم من طاقة كهربائية وخبرة علمية.

(٢) بسبب وجود الغابات الكثيفة والظروف المناخية القاسية.
(٣) لأنه من مصادر الطاقة الأقل تلويثًا للبيئة ورخيص الثمن وسهل النقل.

(٤) بسبب ملائمة ظروف زراعته من مناخ وتربة زراعية.

(ج) (١) - الأهمية الاقتصادية : يُصنع منه إطارات السيارات وصناعات أخرى.

- أولى الدول المنتجة له : تايلاند.

(٢) - يستخدم في الكثير من الصناعات، مثل : الأسلاك، والأدوات الكهربائية.
- أولى الدول المنتجة له : شيلي.

(د) - قوة العلاقات بين مصر ونيجيريا :

♦ تصدر مصر إلى نيجيريا :

الأسمدة، المعدات الثقيلة، الأسلاك النحاسية، الإطارات، مواسير الألومنيوم، المحولات الكهربائية.

♦ تستورد مصر من نيجيريا :

السلع الزراعية وأهمها الحبوب الزيتية.

- قوة العلاقات بين مصر وألمانيا :

♦ توجد علاقات ثقافية وعلمية بين مصر وألمانيا،

تتمثل في :

◇ هيئة التبادل العلمي الألماني.

◇ المركز الثقافي الألماني.

◇ الجامعة الألمانية بالقاهرة.

◇ معهد الآثار الألماني.

♦ توجد علاقات اقتصادية بين مصر وألمانيا،

حيث :

◇ تمول ألمانيا محطات توليد الكهرباء من الرياح في مصر.

◇ تصدر مصر لألمانيا «البترول والغاز الطبيعي والملابس».

وتستورد مصر من ألمانيا «الصناعات الكيماوية والآلات

والسيارات».

٢

(١) (١) الولايات المتحدة الأمريكية. (٢) ماليزيا.

(٣) القصدير. (٤) مصر.

(ب) (١) أدى ذلك إلى انكماش مساحة الحشائش في السهل الساحلي.

(٢) أدى إلى قلة أعداد القائمين بحرفة الرعي البدائي في وسط آسيا.

(ج) (١) الزراعة الكثيفة. (٢) الشاي.

(٣) مصادر الطاقة. (٤) الأسماك.

٣

- (١) (١) بريطانيا. (٢) الأمن. (٣) الاستنزاف. (٤) شوري النواب. (٥) مصر.

(ب) (١) ترتب على ذلك :

- انسحاب القوات الإنجليزية والفرنسية من بورسعيد في ٢٣ ديسمبر ١٩٥٦م.
- انسحاب القوات الإسرائيلية من قطاع غزة وسيناء في أوائل عام ١٩٥٧م ووضع قوات طوارئ دولية بين مصر وإسرائيل منذ عام ١٩٥٧م.
- إدراك الدول العربية الخطر الإسرائيلي وأطماعه في السيطرة على العالم العربي، ولذلك قامت وحدة بين مصر وسوريا عام ١٩٥٨م.

(٢) - تُعد نقطة تحول في الصراع العربي/ الإسرائيلي حيث

- أثبتت أن منطق القوة لا يمنح سلاماً.
- تحطيم أسطورة الجيش الإسرائيلي الذي لا يقهر وعودة الثقة للمقاتل المصري والعربي.
- تقويض (هدم) أسس العقيدة القتالية للقوات الإسرائيلية.
- انتهاء نظرية الأمن الإسرائيلية بعد انهيار الخطوط الدفاعية والتحصينات القوية مثل خط بارليف.
- إنهاء حالة اللاسلم واللاحرب وبذلك أفسحت المجال للمفاوضات السياسية من منطلق القوة العربية.
- إظهار أهمية استخدام سلاح النفط العربي.
- تأثر العلاقات بين إسرائيل وبعض الدول المحبة للسلام في آسيا وأفريقيا وأوروبا.

(٣) ترتب على ذلك إصدار محكمة العدل الدولية في سبتمبر ١٩٨٨م حكمها لصالح مصر وعادت طابا إلى السيادة المصرية في مارس ١٩٨٩م.

(ج) (١) لم تتمكن إسرائيل من الاستيلاء على :

- قطاع غزة. - مدينة القدس العربية.
- الضفة الغربية لنهر الأردن.
- هضبة الجولان بسوريا.
- سيناء حتى الضفة الشرقية لقناة السويس.
- (٢) كان لم يتم التوصل إلى إطار اتفاق (معاهدة) للسلام بين مصر وإسرائيل.

٤

- (١) (١) محمد نجيب. (٢) المشير أحمد إسماعيل. (٣) آمال عثمان. (٤) منظمة اليونسكو.

(ب) (١) حيث عملت على :

- تحديد ساعات العمل وإشراك العمال في مجالس إدارة الشركات والمصانع وتحديد نسبة لهم من الأرباح.
- إصدار قوانين للتأمينات الاجتماعية والمعاشات للموظفين والعمال.

(٢) حيث استطاعت إسرائيل تقوية قواتها من حيث العدد والتسليح والتدريب وبعد استئناف القتال ظهر تفوق اليهود على جميع جبهات القتال مما أدى إلى تراجع وهزيمة القوات العربية.

أوضاع مصر الاقتصادية قبل ثورة ٢٣ يوليو ١٩٥٢م	أوضاع مصر الاقتصادية قبل ثورة ٢٥ يناير ٢٠١١م
<p>(ج) * أدى توقيع معاهدة ١٩٣٦م إلى جعل مصر ميداناً لمعارك الحرب العالمية الثانية واستنزاف موارد مصر لخدمة بريطانيا وحلفائها مما ترتب عليه إرهاب الاقتصاد المصري وزيادة معاناة أفراد الشعب.</p>	<p>* كانت متدهورة بسبب : • اتباع سياسة الانفتاح الاقتصادي دون ضوابط علمية. • التطبيق غير السليم لسياسة الخصخصة وبيع مؤسسات الدولة بأقل من سعرها الحقيقي لصالح فئة معينة من رجال الأعمال وأدى ذلك إلى : - ارتفاع الأسعار. - انضمام آلاف العاملين (بعد خروجهم بنظام التقاعد المبكر) لصفوف البطالة من الشباب في وقفات احتجاجية.</p>

إجابة نموذج 3

١

- (١) (١) الأبلش. (٢) روكي. (٣) كسكيد. (٤) كلورادو. (٥) المسيسيبي.
- (ب) (١) قصب السكر. (٢) الأبقار. (٣) إيبادان.

- توفير مناخ يحقق الوحدة الوطنية من خلال توعية الأفراد بنبذ العنف.

- تدعيم السياسة العامة للدولة ومواقفها من القضايا الدولية مثل : حظر استخدام الألغام الأرضية، ومحاربة الإرهاب، وحماية البيئة.

(٣) لأنه : - مسئول عن حفظ السلام والأمن الدوليين.

- يُعد سلطة قانونية على حكومات الدول الأعضاء في الأمم المتحدة.

(ج) (١) حيث :

- يرى بعض المؤرخين أنها تكتسب أهمية كبيرة لما تركته من آثار على أغلب الحركات التحررية في المنطقة العربية وفي العالم، ولما أسهم به قادتها من تأسيس لحركات دولية منها حركة عدم الانحياز والحياد الإيجابي.

- يرى مؤرخون آخرون أنها لم تبدأ عندما تأسس تنظيم الضباط الأحرار، أو عندما سيطرت قيادة الثورة على مقرات الجيش والإذاعة المصرية، إنما كان هذا التحرك مكملًا لنضال طويل وممتد لشعب مصر، الذي ثار ضد الفساد والاحتلال وسوء الحكم منذ الثورة العربية وثورة ١٩١٩م وحتى قيام ثورة ٢٣ يوليو ١٩٥٢م.

(٢) حيث :

- قدمت بعض الدول العربية الدعم المالي والعسكري لمصر وسوريا.

- قرر وزراء النفط العربي في اجتماعهم بالكويت خفض إنتاج البترول وحظر الصادرات النفطية إلى الولايات المتحدة الأمريكية خاصة عندما طلب الرئيس الأمريكي مساعدات عاجلة لإسرائيل.

(٣) بسبب زيادة الفوارق الاجتماعية (بين طبقات المجتمع) وغياب العدالة الاجتماعية في توزيع الثروات.

٤

(أ) (١) خطأ.

(٢) خطأ.

(ب) (١) لأن : - وُلد فيها السيد المسيح ﷺ .

- أُسرى إليها سيدنا محمد ﷺ .

- يوجد بها المسجد الأقصى أولى القبلتين وثالث الحرمين.

(٢) - السماح بهجرة أعداد كبيرة من اليهود من جميع أنحاء العالم إلى فلسطين.

- السماح بانتقال ملكية الأراضي من عرب فلسطين عن طريق الشراء إلى اليهود.

(ج) (١) نوع من الزراعة المتقدمة تُزرع فيه الأرض أكثر من مرة في العام الواحد بهدف إشباع حاجة السكان المحليين من الغذاء (للاستهلاك المحلي فقط) وعادة ما توجد في المناطق كثيفة السكان.

(٢) أدى تدفق البترول في شبه الجزيرة العربية وبادية الشام إلى توطين البدو وبالتالي قلة عدد العاملين بحرفة الرعي البدائي بها.

(٣) ترتب على ذلك حدوث التكامل في الجوانب الاقتصادية (الصناعية والتجارية) بإقليم غرب ووسط أوروبا وحمايتها جبريًا وتدعيمها من جانب هيئة الاتحاد الأوروبي.

٢

(أ) (١) آسيا.

(٢) الصين.

(٣) المغرب.

(٤) بومباي.

(ب) (١) بسبب توافر ظروف زراعته من تربة خصبة خفيفة ومناخ حار وهواء رطب ومطر غزير.

(٢) بسبب كثرة المراعى.

(٣) بسبب وجود الغابات الكثيفة والظروف المناخية القاسية.

(٤) لأنها ثالث دول العالم إنتاجًا للفحم الذي يُعد أساس قيام صناعة الحديد والصلب.

	صناعة الألومنيوم	صناعة أسلاك الكهرباء	(ج)
المادة الخام	البوكسيت	النحاس	
أولى الدول المنتجة للمادة الخام	أستراليا	شيلي	

٣

(أ) (١) الهند ويوغوسلافيا.

(٢) عبد المنعم رياض.

(٣) دير ياسين.

(٤) جميلة حافظ.

(ب) (١) لأنه أدرك أن الجيش والشعب يكرهان حكمه بالإضافة إلى تخلى الإنجليز عنه لذلك غادر البلاد قبل الموعد المحدد.

(٢) لأن هذه المنظمات تعد عناصر فعالة في تقديم الخدمات الاجتماعية وتنفيذ برامج التنمية ويتضح ذلك من خلال الأنشطة التي تقوم بها، ومنها :

- تثقيف المواطنين وتعريفهم بالحقوق السياسية كالتصويت والانتخاب والترشح للمناصب السياسية.

- توضيح علاقة المواطن بالدولة وكيفية التعبير عن حقوقه وواجباته.

(٢) أهم الدول : الهند.

ضالة قيمته الاقتصادية : بسبب تحريم الديانة الهندوسية
أكل لحوم الأبقار.

(ب) (١) الزراعة التجارية لأنها تتم في مزارع واسعة.

(٢) المياه الساحلية الضحلة لأنها غنية بالمواد الغذائية.

(٣) تجمع الدول الأوروبية في هيئة اقتصادية واحدة يساعد
على تحقيق التكامل في الجوانب الاقتصادية (الصناعية
والتجارية) وحمايتها جمركيًا.

(ج) (١) الأطلنطي. (٢) البرازيل.

(٣) ريودي چانيرو. (٤) كندا.

(٥) كسكيد. (٦) واشنطن.

٣

(أ) (١) محمد نجيب. (٢) بريطانيا.

(٣) المجلس الأعلى للقوات المسلحة. (٤) مجلس الأمة.

(ب) (١) بسبب ما تركته الثورة من آثار على أغلب الحركات التحررية
في المنطقة العربية وفي العالم، ولما أسهم به قادتها من
تأسيس لحركات دولية منها حركة عدم الانحياز والحياد
الإيجابي.

(٢) لأن إسرائيل استطاعت تقوية قواتها من حيث العدد والتسليح

والتدريب وبعد استئناف القتال ظهر تفوق اليهود على جميع

جبهات القتال مما أدى إلى تراجع وهزيمة القوات العربية.

(٣) لإنهاء الصراع العربي/ الإسرائيلي سلميًا ولتحقيق السلام

الدائم بعد سلسلة من الحروب استنزفت طاقات وموارد

البلاد البشرية والمادية.

(٤) لأنها تضم في عضويتها دول العالم المستقلة وإن لم ترتبط

ببعضها بروابط معينة.

(ج) (١) حيث قامت بريطانيا بإصدار وعد (تصريح) بلفور

عام ١٩١٧م واتخذت عدة إجراءات لتنفيذه بعد انتدابها على

فلسطين ١٩٢٠م، منها :

- السماح بهجرة أعداد كبيرة من اليهود من جميع أنحاء

العالم إلى فلسطين.

- السماح بانتقال ملكية الأراضي من عرب فلسطين عن

طريق الشراء إلى اليهود.

(٢) حيث انهارت الخطوط الدفاعية والتحصينات القوية

لإسرائيل مثل خط بارليف على الجبهة المصرية.

(٣) حيث تقدمت الولايات المتحدة الأمريكية باقتراح إلى مجلس
الأمن تضمن وقف القتال وإقامة هدنة مدتها شهر يمتنع
خلالها العرب واليهود عن جلب الأسلحة ولم يلتزم اليهود
بالهدنة وبدأوا في تقوية قواتهم من حيث العدد والتسليح
والتدريب وعندما استؤنف القتال ظهر تفوق اليهود على
جميع جبهات القتال مما أدى إلى تراجع وهزيمة القوات
العربية.

(٤) حيث تم :

- رفع الرقابة عن الصحف.

- إصدار دستور جديد للبلاد (دستور ١٩٧١م).

- إلغاء الحراسات والإجراءات المقيدة للحريات.

- القضاء على مراكز القوى.

- تجهيز الجيش وتسليحه بأحدث الأسلحة وتدريبه عليها.

(ج) (١) أدى إلى هزيمة الدول العربية واستيلاء إسرائيل على :

- قطاع غزة.

- سيناء حتى الضفة الشرقية لقناة السويس.

- هضبة الجولان بسوريا.

- مدينة القدس العربية.

- الضفة الغربية لنهر الأردن.

(٢) ترتب على ذلك :

- حماية البلاد من خطر الفيضان.

- تخزين المياه وتوليد الكهرباء.

إجابة نموذج 4

١

(أ) (١) النيجر. (٢) الرعي البدائي (التقليدي).

(٣) البترول. (٤) إقليم شرق آسيا.

(ب)	حركة المد والجزر	الغاز الطبيعي
	الطاقة الكهرومائية	الكهرباء الحرارية

(ج) (١) القمح. (٢) مصر.

(٣) ميناؤوس. (٤) لاجوس.

٢

(أ) (١) - المورد الحيواني : الأبقار.

- الأهمية الاقتصادية :

♦ تُعد المصدر الرئيسي للحوم الحمراء لغالبية سكان

العالم.

♦ تدخل بنسبة كبيرة في التجارة الدولية.

- (د) ① إنشاء جامعة الدول العربية.
② الوحدة بين مصر وسوريا.
③ حرب الاستنزاف.
④ عقد مؤتمر كامب ديفيد.

إجابة نموذج 5

١

- (أ) ① (أ) الزراعة البسيطة (البدائية). (ب) البوكسيت.
(ب) ② شمال شرق الولايات المتحدة الأمريكية.
(ج) ③ ريودي جانيرو.

- (ب) ④ - ضحالة المياه الساحلية وغناها بالمواد الغذائية.
- التقاء التيارات البحرية الدافئة مع الباردة.
- توافر الموانئ لرسو سفن الصيد.
(ج) ⑤ للاستفادة من لحومها وشحومها.
(د) ⑥ بسبب :

- امتلاكها سواحل طويلة على المحيط الأطلنطي والبحر الكاريبي.
- وجود نهر الأمازون.

- (ج) ⑦ (أ) أدى تدفق البترول إلى توطين البدو مما تسبب في قلة العاملين بحرفة الرعي البدائي في شبه الجزيرة العربية.
(ب) ⑧ تقوم دولة ألمانيا بتمويل محطات توليد الكهرباء من الرياح في مصر.

- (د) ⑨ (أ) المطاط الطبيعي. (ب) الفحم.
(ج) ⑩ المناخ شبه المداري الحار.

٢

- (أ) ① (أ) المدارية. (ب) الحديد.
(ب) ② أوروبا. (ج) ③ النفضية والمخروطية.

- (ب) ④ الذرة.

- (ج) ⑤ تستخدم كعلف للماشية وتصدر جزءاً منه للخارج.

- (ج) ⑥ (أ) يترتب على ذلك : - قلة التكاليف، وقلة عدد العمالة الزراعية.
- الإنتاج التجاري الضخم.

- (ب) ⑦ ترتب على ذلك التوسع في استخدام الغاز الطبيعي كبديل لمصادر الطاقة الأخرى واستخدامه في الصناعة والاستخدامات المنزلية وفي توليد الكهرباء وكذلك كوقود للسيارات بدلاً للبنزين (للحد من التلوث).

- (ج) ⑧ حيث تعد هذه المنظمات عناصر فعالة في تقديم الخدمات الاجتماعية وتنفيذ برامج التنمية ويتضح ذلك من خلال الأنشطة التي تقوم بها، ومنها :

- تثقيف المواطنين وتعريفهم بالحقوق السياسية كالنصويت والانتخاب والترشح للمناصب السياسية.

- توضيح علاقة المواطن بالدولة وكيفية التعبير عن حقوقه وواجباته.

- توفير مناخ يحقق الوحدة الوطنية من خلال توعية الأفراد بنبذ العنف.

(د) ⑨ حيث :

- شاركت مصر في تأسيس منظمة الاتحاد الأفريقي.

- استضافت مصر أول قمة أفريقية على أرضها عام ١٩٦٤م.

- تولت مصر رئاسة الاتحاد الأفريقي للمرة الثالثة في فبراير ٢٠١٩ برئاسة الرئيس عبدالفتاح السيسي.

٤

- (أ) ① (أ) الفريق أول عبدالمنعم رياض.

- (ب) ② الفريق محمد عبدالغنى الجمسى.

- (ج) ③ الخديو إسماعيل. (د) ④ حكمت أبو زيد.

- (ب) ⑤ (أ) ترتب على ذلك جلاء القوات البريطانية عن مصر في ١٨ يونيو ١٩٥٦م بعد احتلال دام ٧٤ عاماً.

(ج) ⑥ ترتب على ذلك :

- خفض إنتاج البترول.

- حظر الصادرات النفطية إلى الولايات المتحدة الأمريكية خاصة عندما طلب الرئيس الأمريكى مساعدات عاجلة لإسرائيل.

- (ب) ⑦ ترتب على ذلك مساهمة اليونسكو فى :

- إنقاذ معابد أبو سمبل عام ١٩٦٤م.

- إحياء مكتبة الإسكندرية.

(ج) ⑧ قامت مصر ب :

- تصفية الخلافات وتوحيد الصف العربى.

- الاستفادة من كل الموارد والإمكانات العربية المتاحة.

- (ب) ⑨ شاركت فيه مصر بفاعلية لدعوته لحل الصراع العربى/

- الإسرائيلى على أساس مبدأ الأرض مقابل السلام على

- ضوء قرارات الأمم المتحدة (مجلس الأمن).

- مساندة الولايات المتحدة الأمريكية وبعض الدول الأوروبية لإسرائيل عسكرياً واقتصادياً وسياسياً.
- نقص التدريب وعدم توافر الأسلحة المتطورة للقوات المصرية.

(٢) حيث استطاعت :

- هزيمة القوات الإسرائيلية فى معركة رأس العش عندما حاولت إسرائيل احتلال مدينة بورفؤاد.
- تدمير المدمرة الإسرائيلية إيلات بصواريخ البحرية المصرية أكتوبر ١٩٦٧م.
- وأُطلق على هذه المرحلة الصمود والتصدى.
- (٣) تدخلت الولايات المتحدة الأمريكية وقدم وزير خارجيتها روجرز مبادرة عرفت باسمه لوقف إطلاق النار تمهيداً لحل النزاع سلمياً.
- (ج) ① إصدار جميلة حافظ أول مجلة نسائية مصرية (الريحانة) (فبراير ١٩٠٧م).
- ② إنشاء جامعة الدول العربية (مارس ١٩٤٥م).
- ③ تأميم شركة قناة السويس البحرية شركة مصرية بإدارة مصرية (يوليو ١٩٥٦م).
- ④ عودة طابا إلى السيادة المصرية (مارس ١٩٨٩م).

الأبقار	الأغنام
* تُعد المصدر الرئيسى للحوم الحمراء لغالبية سكان العالم. * تدخل بنسبة كبيرة فى التجارة الدولية.	* تُربى من أجل لحومها وأصوافها.

٣

(أ) (١) صواب.

(٢) خطأ : ... لإسرائيل ...

(٣) خطأ : التطبيق غير السليم ...

(٤) صواب.

(ب) (١) بسبب :

- خضوع مصر للاحتلال البريطانى.
- فساد النظام الملكى.
- فساد الأحزاب السياسية وزيادة الصراع بينهم من أجل الوصول إلى الحكم.
- (٢) لحل الصراع العربى/ الإسرائيلى على أساس مبدأ الأرض مقابل السلام على ضوء قرارات الأمم المتحدة (مجلس الأمن).
- (٣) لأنه :
- أكد على سيادة القانون واستقلال القضاء وإقرار مبادئ التعددية الحزبية.
- كان أحد إجراءات تهينة وإعداد الجبهة الداخلية لمصر قبل حرب أكتوبر ١٩٧٣م.
- (ج) (١) لم تشارك فرنسا فى العدوان الثلاثى على مصر.
- (٢) - لن يتم حماية المنشآت والمناطق.
- تعرض البلاد لأعمال السرقة والحرق والترويع.

٤

(أ) (١) الرئيس محمد أنور السادات.

(٢) جيمس بلفور وزير خارجية بريطانيا.

(٣) الرئيس الأمريكى كارتر.

(٤) عائشة راتب.

(ب) (١) بسبب :

- التفوق العسكرى الإسرائيلى وبصفة خاصة السلاح الجوى.
- استخدام إسرائيل عنصر المفاجأة فى ضرب المطارات المصرية بعد أن صورت أجهزة تجسس أمريكية حديثة المواقع المصرية.