

2020



المرابحة النفطية
و نماد الامتيازات

المفاتيح
الاعداد
الفصل الدراسي الاول

MR
ghobashy

الامتحان

الدراسات الاجتماعية



(ب) رتب الأحداث الآتية من القديم إلى الحديث :

* هجرة المسلمين إلى الحبشة. (١)

* استشهاد عثمان بن عفان رضى الله عنه. (٤)

* غزوة الخندق. (٥)

* بيعة العقبة الثانية. (٦)

(ج) ما الأسباب التي أدت إلى كل مما يأتى ... ؟

(١) معارضة قريش للدعوة الإسلامية.

(٢) تردد الخليفة عمر بن الخطاب رضى الله عنه فى فتح مصر.

لما منعوا رسول الله صلى الله عليه وسلم من أن يدخل مكة فقاموا به على الجبال فقاموا به على الجبال فقاموا به على الجبال

٦

(١) ما النتائج التي ترقبت على كل مما يأتى ... ؟

(١) غزوة بدر ٢ هـ. (٢) فتح مكة ٨ هـ.

(ب) ماذا كان يحدث إذا ... ؟

(١) كان النجاشى ملك الحبشة ظالماً.

(٢) لم يترك الرماة المسلمين أماكنهم فى غزوة أحد ٣ هـ.

(ج) اكتب المصطلح التاريخى الذى تشير إليه العبارات الآتية :

(١) ما ينزله الله على الأنبياء عن طريق جبريل عليه السلام. (الوحي)

(٢) ديانة سيدنا موسى عليه السلام. (اليهودية)

(٣) قبائل عربية خرجت عن الإسلام بعد وفاة الرسول صلى الله عليه وسلم ومنهم من رفض دفع الزكاة ومنهم من ادعى النبوة. (المرتدين)

(٤) ما ينزله الله على الأنبياء عن طريق جبريل عليه السلام. (الوحي)

(٥) ديانة سيدنا موسى عليه السلام. (اليهودية)

(٦) قبائل عربية خرجت عن الإسلام بعد وفاة الرسول صلى الله عليه وسلم ومنهم من رفض دفع الزكاة ومنهم من ادعى النبوة. (المرتدين)

إدارة غرب كفر الشيخ التعليمية

محافظة كفر الشيخ

أولاً الجغرافيا

أجب عن الأسئلة الآتية :

١ (أ) أمامك خريطة للوطن العربى،

اكتب مدلول الأرقام :

(١) هضبة باربارية

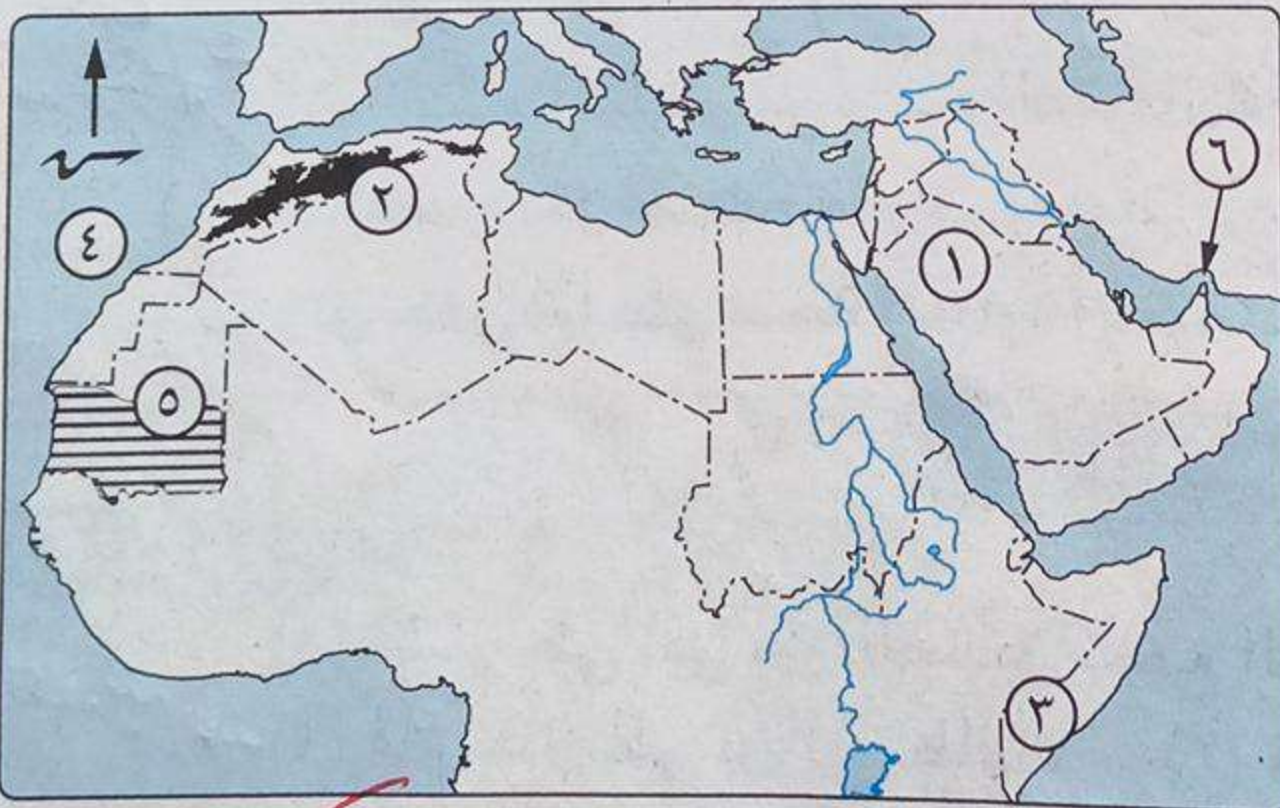
(٢) جبال طلس

(٣) دولة الصومال

(٤) المحيط الأطلس

(٥) إقليم مناخى الجبلية

(٦) مضيق جبل طارق



(ب) بم تفسر ... ؟

(١) أهمية الأودية الجافة.

(٢) تناقص أعداد البدو فى الدول العربية.

(٣) تتدرج حشائش الساقانا كلما ابتعدنا عن دائرة الاستواء.

مصدر الحصول على المياه الجوفية - وتسمى كطريق للمياه الجوفية - وتسمى كطريق للمياه الجوفية - وتسمى كطريق للمياه الجوفية

٢ (١) اختر الإجابة الصحيحة مما بين القوسين :

- (١) أدت الحركات الانكسارية للأرض إلى تكون جبال
(أطلس - عُمان - كردستان - البحر الأحمر)
- (٢) تنمو الحشائش المعتدلة بين إقليم البحر المتوسط والإقليم
(المداري - الموسمي - الصحراوي - الاستوائي)
- (٣) يصل مضيق جبل طارق بين البحر المتوسط والمحيط
(الهندي - الأطلنطي - الهادي - القطبي الشمالي)
- (٤) دولة يفضل سكانها سكنى الجبال. (مصر - السودان - لبنان - ليبيا)
- (٥) دولة تقع خارج نطاق حدود الوطن العربي
(جزر القمر - الصومال - المغرب - عُمان)
- (٦) توجد في جنوب شبه الجزيرة العربية هضبة
(حضرموت - نجد - الشطوط - بادية الشام)



(ب) إلى أي الأقاليم المناخية تنتمي كل من النباتات الطبيعية الآتية ... ؟

- المداري (١) أشجار السنط. (٢) حشائش الساقانا. (٣) أشجار الأرز. (٤) الصبار. الصحراوي

(ج) ما العلاقة بين : الحروب والصراعات، والنمو السكاني ؟

هناك تأثير إيجابي على نمو السكان في الدول التي تشهد حروباً وصراعات، وذلك لأن الحروب والصراعات تؤدي إلى زيادة المواليد وتقليل الوفيات.

٣ (١) أكمل العبارات الآتية بوضع كلمة مناسبة مما بين القوسين :

- (الشتاء - القارية - الريف - المداري - الأردن - البدو - الصحراوي - مصر - الشطوط - الصين)

- (١) تحصر جبال أطلس بينها هضبة الشطوط
- (٢) من الدول التي تقوم بعمل التعداد كل خمس سنوات دولة السودان
- (٣) تسعى حكومات الدول العربية لتوطين سكان البدو
- (٤) أكبر الأقاليم المناخية إقليم الصحراوي
- (٥) تعرف المناطق الداخلية البعيدة عن تأثير البحر بالمناطق القارية
- (٦) تسقط الأمطار في وسط الصومال في فصل الصيف

(ب) ما المقصود بكل مصطلح جغرافي مما يأتي ... ؟ (١) الموقع الجغرافي. (٢) المناطق العشوائية.

(ج) دال جغرافياً على صحة العبارة الآتية : إن الوطن العربي مهد الحضارات. ما هي الأدلة ؟

الدول العربية هي مهد الحضارات، حيث شهدت فيها حضارات عظيمة مثل الحضارة المصرية القديمة، والحضارة الفينيقية، والحضارة الإسلامية.

ثانياً التاريخ

٤ (١) من هو ... ؟

- (١) أشار على أبي بكر الصديق بجمع القرآن الكريم. عمر بن الخطاب
- (٢) قام بقتل علي بن أبي طالب. معاوية بن أبي سفيان
- (٣) قائد المسلمين في معركة ذات الصواري. خالد بن الوليد
- (٤) أول خطيب في الإسلام أبو بكر
- (٥) فتح مصر في عهد الخليفة عمر بن الخطاب.
- (٦) أول من أسلم من الموالى. زيد بن حارثة

(ب) ما النتائج التي ترقبت على ... ؟

- (١) بيعة العقبة الثانية.
- (٢) معركة القادسية.
- (٣) استشهاد عدد كبير من حفظة القرآن الكريم.
- استشهاد علي بن أبي طالب على أبي بكر بجمع القرآن الكريم.



- ٥ (١) اكتب كلمة (صواب) أمام العبارة الصحيحة، وكلمة (خطأ) أمام العبارة غير الصحيحة :
- (١) سعى على بن أبي طالب لتولى الخلافة بعد عثمان بن عفان.
 - (٢) كانت غزوة تبوك ٩ هـ بين المسلمين والروم.
 - (٣) أول عمل قام به أبو بكر الصديق إرسال جيش أسامة بن زيد لبلاد الشام.
 - (٤) ظهرت مملكة سبأ في جنوب شبه الجزيرة العربية.
 - (٥) أول هجرة للمسلمين كانت إلى الحبشة.
 - (٦) شارك على بن أبي طالب الرسول ﷺ في كل غزواته.
- (ب) ماذا كان يحدث إذا ... ؟
- لم يهاجم الروم ولم يخرجهم خارج الجزيرة

- (١) التزم اليهود بعهدهم مع الرسول ﷺ في غزوة الخندق.
- (٢) لم يترك الرماة أماكنهم في غزوة أحد.
- (٣) لم يأمر عثمان بن عفان بإنشاء أول أسطول بحري.

- ٦ (١) قارن بين : معركة نهاوند، واليرموك، من حيث :
- * الأطراف. * النتائج. * النتائج.
- (ب) صوب ما تحته خط :

- (١) * كانت أطول فترة في حكم الخلفاء الراشدين عمر بن الخطاب.
- (٢) نقل على بن أبي طالب مقر خلافته إلى مدينة البصرة بالعراق.
- (٣) استغرقت مرحلة الدعوة السرية خمس سنوات.
- (٤) أمر الخليفة أبو بكر بفتح جزيرة قبرص.
- (٥) أول سفير في الإسلام زيد بن حارثة.

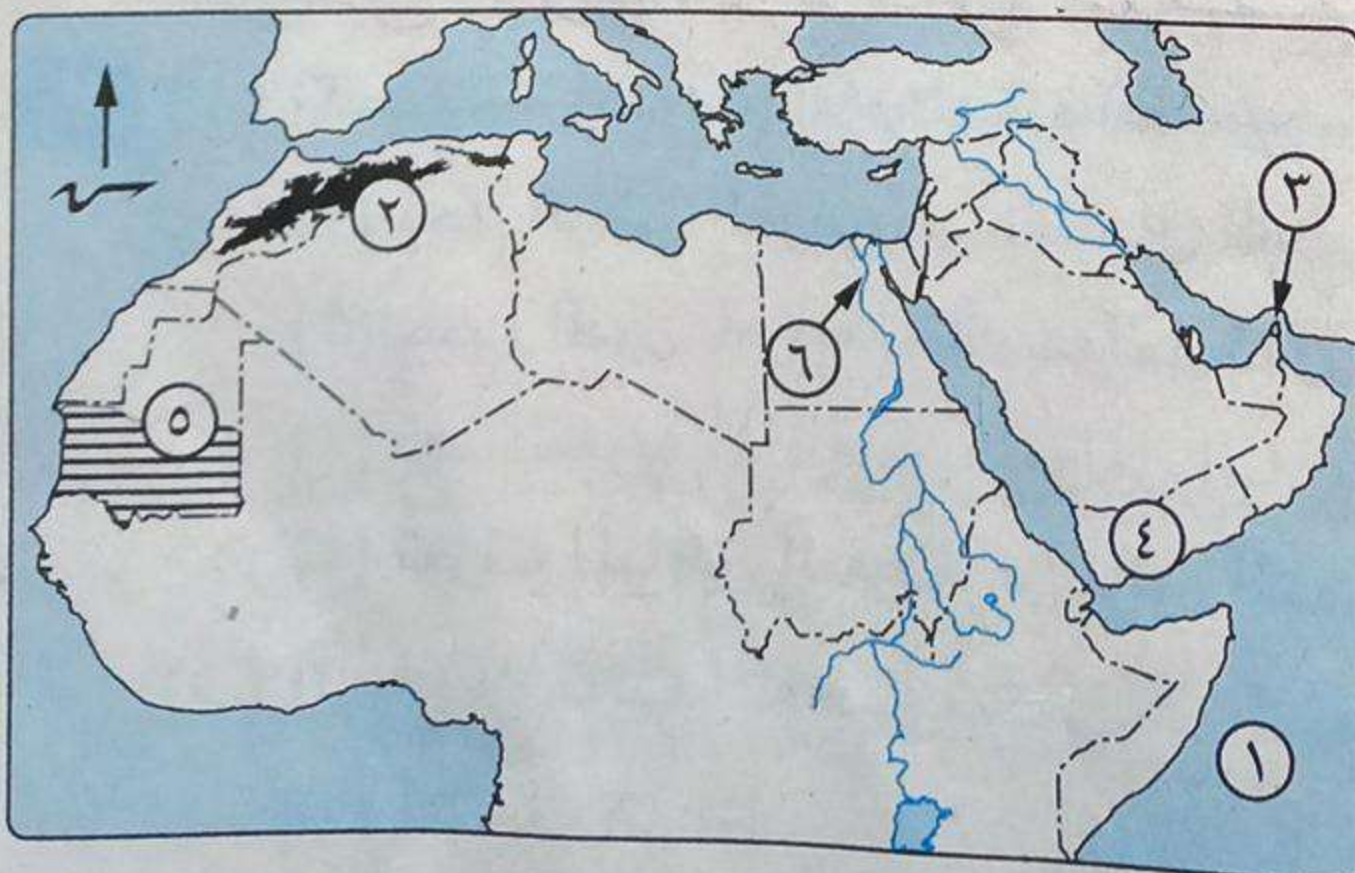


محافظة البحيرة

مدرسة الحرير الصناعي الإعدادية
إدارة بندر كفر الدوار التعليمية

أولاً الجغرافيا

أجب عن الأسئلة الآتية :



- ١ (أ) أمامك خريطة للوطن العربي، اكتب ما تدل عليه الأرقام :
- (١) المحيط الهندي
 - (٢) جبال الأطلس
 - (٣) مضيق هرمز
 - (٤) دولة ليبيا
 - (٥) إقليم مناخى البحر الأحمر
 - (٦) نهر النيل

احتياط الوطن العربي بخصيصته الممتدة من البحر الأحمر إلى البحر الأبيض المتوسط
ارتباطه بالعالم الخارجي
تناقص عدد سكانه في بعض المناطق
ظهور المساحات الزراعية

(ب) ما النتائج المترتبة على ... ؟

(١) الحدود الطبيعية للوطن العربي.

(٢) الهجرة المستمرة من الريف إلى المدن.

(٣) العلاقة غير المتوازنة بين عدد سكان الوطن العربي والموارد المتاحة.

(٤) الأهمية الاستراتيجية للوطن العربي.

(ج) أعط دليلًا جغرافيًا على : أن للتضاريس أثر كبير في توزيع السكان في الوطن العربي.
حيث تتركز الكثافة السكانية في المناطق المنخفضة والمناطق المطلة على البحر المتوسط

(١) اختر الإجابة الصحيحة مما بين القوسين :

(١) من دول الجناح الآسيوي العربي

(تونس - الأردن - جزر القمر - جيبوتي)

(٢) تقع هضبة الشطوط بين سلاسل جبال

(البحر الأحمر - الحجاز - أطلس - عسير)

(٣) كل العوامل الآتية تؤثر في مناخ الوطن العربي عدا

(الموقع الفلكي - البعد أو القرب من المسطحات المائية -

التضاريس - التكدس السكاني)

(٤) تحصر جبال الشام بينها سهول تجرى فيها أنهار مثل

(النيل - جوبا - دجلة - الليطاني)

قيام العديد من الحضارات على أرضه مثل الحضارة الفرعونية - بلاد الشام

موقعه الاستراتيجي - وهو دول حوض البحر المتوسط

ارتفاع معدل الإعالة في الوطن العربي

تناقص أعداد البدو الرحل في الوطن العربي

ما العلاقة بين ... ؟

(١) الأهمية الحضارية والدينية للوطن العربي

(٢) ارتفاع معدل الإعالة في الوطن العربي

(٣) تناقص أعداد البدو الرحل في الوطن العربي

(ج) ما العلاقة بين ... ؟

(١) الحروب والصراعات، وتوزيع السكان.

(٢) اتجاه الكتل الجبلية، وتوزيع الأمطار.

(٣) تعدد التعرية المائية من العوامل الباطنية التي تشكل سطح الأرض.

(٤) تُعرف المناطق البعيدة عن تأثير البحر بالمناطق القارية.

(١) يحد الوطن العربي من الشمال البحر الأحمر وجبال طوروس.

(٢) جميع الدول العربية تمتلك سواحل تطل على بحار أو محيطات أو الاثنين معًا.

(٣) تعد التعرية المائية من العوامل الباطنية التي تشكل سطح الأرض.

(٤) تُعرف المناطق البعيدة عن تأثير البحر بالمناطق القارية.

(ب) إلى أي الأقاليم المناخية تنتمي النباتات الآتية ... ؟

(١) أشجار السنط.

(٢) أشجار الأرز.

(٣) نبات الصبار.

البحر المتوسط

البحر الأحمر



(ج) ما المقصود بكل مصطلح جغرافي مما يأتي ... ؟
(١) قوة العمل.
(٢) سهول صحراوية.
(د) دلالة جغرافياً على صحة العبارة الآتية : ارتفاع مكانة المرأة العربية في الوطن العربي.

ثانياً التاريخ

(١) لمن تنسب الأعمال الآتية ... ؟

(١) أول فدائي في الإسلام. **علي بن أبي طالب**

(٢) أرسله الرسول ﷺ مع عدد من الأوس والخزرج ليعلمهم شئون دينهم. **عصبة بن خزيمة**

(٣) أنهى الوجود اليهودي في شبه الجزيرة العربية. **عمر بن الخطاب**

(٤) فرح بمولد الرسول ﷺ وطاف به حول الكعبة وسماه محمداً. **خديجة بنت خويلد**

(٥) أخبر النبي ﷺ بأنه سيكون نبي هذه الأمة. **عبد الله بن عبد المطلب**

(٦) فتح بلاد النوبة عام ٣١ هـ. **عبد الله بن أبي السرح**

(ب) ما المقصود بكل مصطلح تاريخي مما يأتي ... ؟

(١) الحنيفية. (٢) الأنصار. (٣) الخلافة. (٤) وحى.

(ج) اذكر : عوامل نجاح هجرة الرسول ﷺ إلى يثرب.

(أ) صوب ما تحته خط :

(١) اختار الرسول ﷺ دار **أبي طالب** لتكون أول مدرسة في الإسلام.

(٢) هاجر المسلمون إلى **فارس** لأن بها ملك عادل لا يُظلم عنده أحد.

(٣) شارك عثمان بن عفان في جميع الغزوات ما عدا غزوة **أحد**.

(٤) كان **معاوية بن أبي سفيان** دليل الرسول ﷺ في الهجرة.

(ب) **قارن بين** : معركة القادسية، واليرموك، من حيث :

* قائد المسلمين. * قائد الروم.

* الأطراف. * النتائج.

(ج) **دل تاريخياً على صحة العبارة الآتية** : كان صلح الحديبية فتحاً مبيناً على المسلمين.

(أ) **رتب الأحداث التاريخية الآتية من الأقدم إلى الأحدث** :

* معركة ذات الصواري. * فتح بيت المقدس.

* رحلة الإسراء والمعراج. * غزوة الخندق.

(ب) **بم تفسر ... ؟** (١) رفض قريش الدعوة الإسلامية ومحاربتها.

(٢) اهتمام المسلمين بإنشاء أسطول بحري.

(ج) **«إنك إن فتحتها كانت قوة للمسلمين وعوناً لهم»**. في ضوء العبارة أجب :

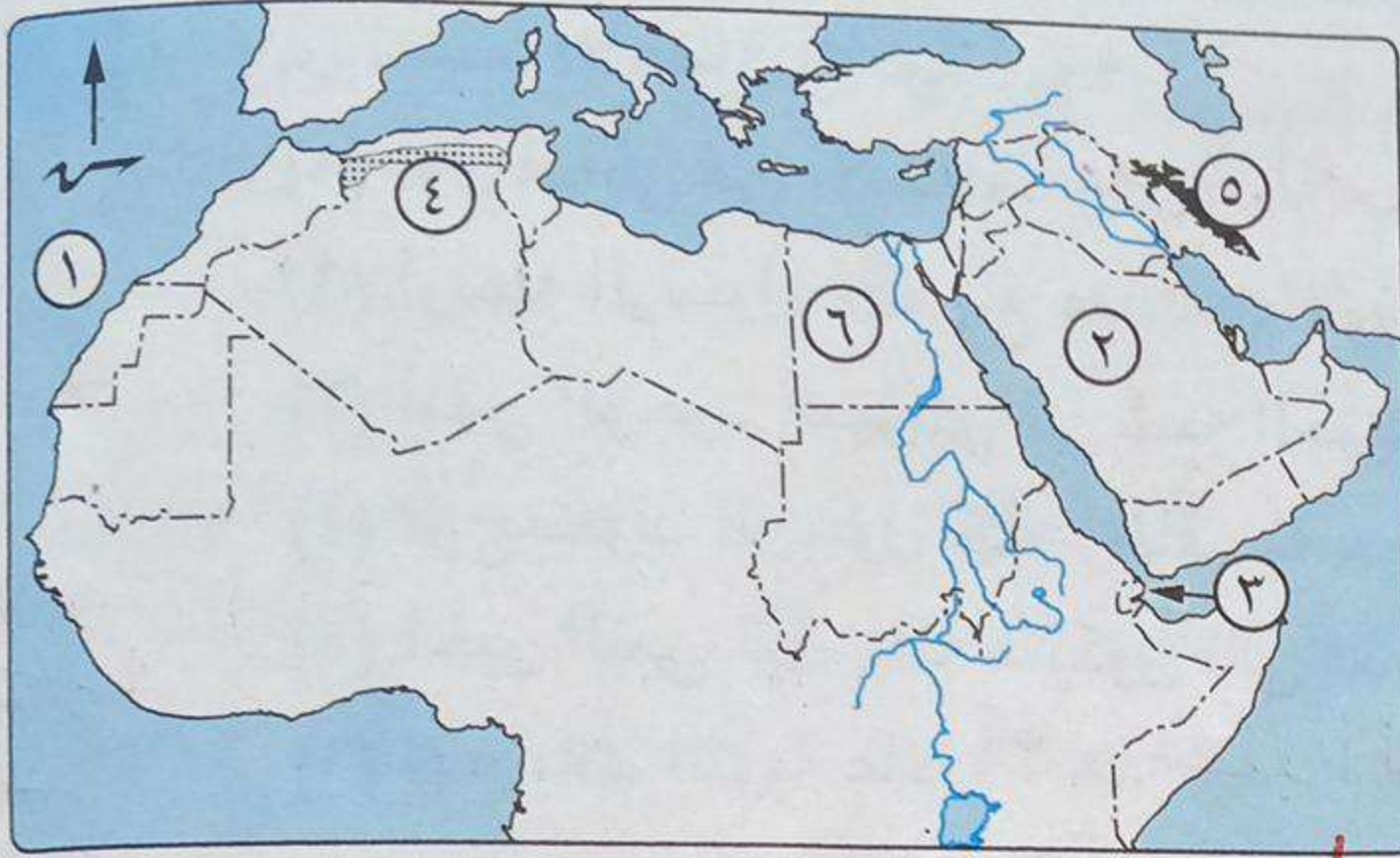
(١) من قائل هذه العبارة ؟

(٢) اذكر آداب الحرب في الإسلام.



أولاً الجغرافيا

أجب عن الأسئلة الآتية:



١ (١) لاحظ الخريطة التي أمامك، ثم

اكتب مدلول الأرقام التي عليها:

(١) المحيط الهندي

(٢) دولة تعاني نقصاً

سكانياً البحر الميت

(٣) مضيق باب المندب

(٤) منطقة ذات كثافة

سكانية منخفضة



٢ (٥) جبال زاغروس (٦) دولة يجرى بها تعداد سكاني كل ١٠ سنوات. حصر
الامتداد (ب) بم تفسر... (١) الأهمية الاقتصادية والاستراتيجية لوطنا العربي. حصر
وجود البحر الميت (٢) تدرج حشائش الساقنا في الطول من الجنوب إلى الشمال.
حكمه في طريق البحر إلى العالم (٣) ارتفاع الكثافة السكانية في المدن.

١ البحر من الشرق إلى الغرب - ضيق البحر الميت كأي دول الخليج - انشطار البحر

٢ (أ) اكتب المصطلحات الجغرافية التي تدل على كل عبارة مما يلي:

(١) الموقع بالنسبة لدوائر العرض وخطوط الطول. الموقع الفلكي

(٢) انتقال الفرد من منطقة لأخرى بغرض الإقامة والعمل. الهجرة

(٣) أرض مستوية أو شبه مستوية على شواطئ البحار والمحيطات. سواحل ساحلية

١ انخفاض معدل المواليد

(ب) ما النتائج المترتبة على...؟

(١) الثورات البركانية.


أرتم الى
ظهور الحيات
والهضاب مثل هضبة الجولان

(٢) ارتفاع مستوى معيشة الأفراد.

٣ (أ) «لقد وهب الله وطننا العربي أشكالاً مختلفة من مظاهر السطح ساهمت في تحقيق وحدة أبنائه». في ضوء العبارة أجب عما يأتي:

(١) أمامك مجموعة من العوامل المؤثرة في توزيع السكان صنفها في جدول كما يأتي:

عوامل طبيعية	عوامل بشرية
النبضات	الأنشطة الاقتصادية
المساح	المناخ
	النقل والمواصلات



(ب) ما العلاقة بين ... ؟

(٢) الحروب والصراعات، والنمو السكاني.

ثانياً التاريخ

(أبو بكر الصديق - الخندق - العراق - عمر بن الخطاب - النبوة - بدر - الصادق الأمين)

(٢) أطلق على غزوة **الغزوة المحمّدية** غزوة الأحزاب.

(٤) اتخذ عمر بن الخطاب من هجرة الرسول ﷺ بداية للتقويم الهجرى.

(١) كان من عادات أشراف مكة أن يرسلوا أبنائهم لمرضعات البادية.

١) لمن تنسب الأعمال الآتية ... ؟

(٣) قاد جيش المسلمين وانتصر على الفرس في معركة نهاوند. **المعتمد بن عمار**

(ب) ما النتائج التي تترتبت على ...
 ١٩ ربح الرسول من ايجار مكانه اخبر لئلا يرغوه فكان له
 ٢٠ امر الرسول اصحابه بالاحمره الى طبقة

(٢) فتح المسلمين لمصر عام ٢١ هـ. جبل الرواح الرواح منه اصميت مصر والسراية

روح الود والتعاون والإخاء بين الأغنياء والفقراء». في ضوء العبارة اجاب على السؤالين

(٢) ما رأيك في : موقف السيدة خديجة زوجة الرسول ﷺ
التاكيد على حيد الأورى - البصر لله

(ب) رتب الأحداث التاريخية الآتية من الأقدم إلى الأحدث:

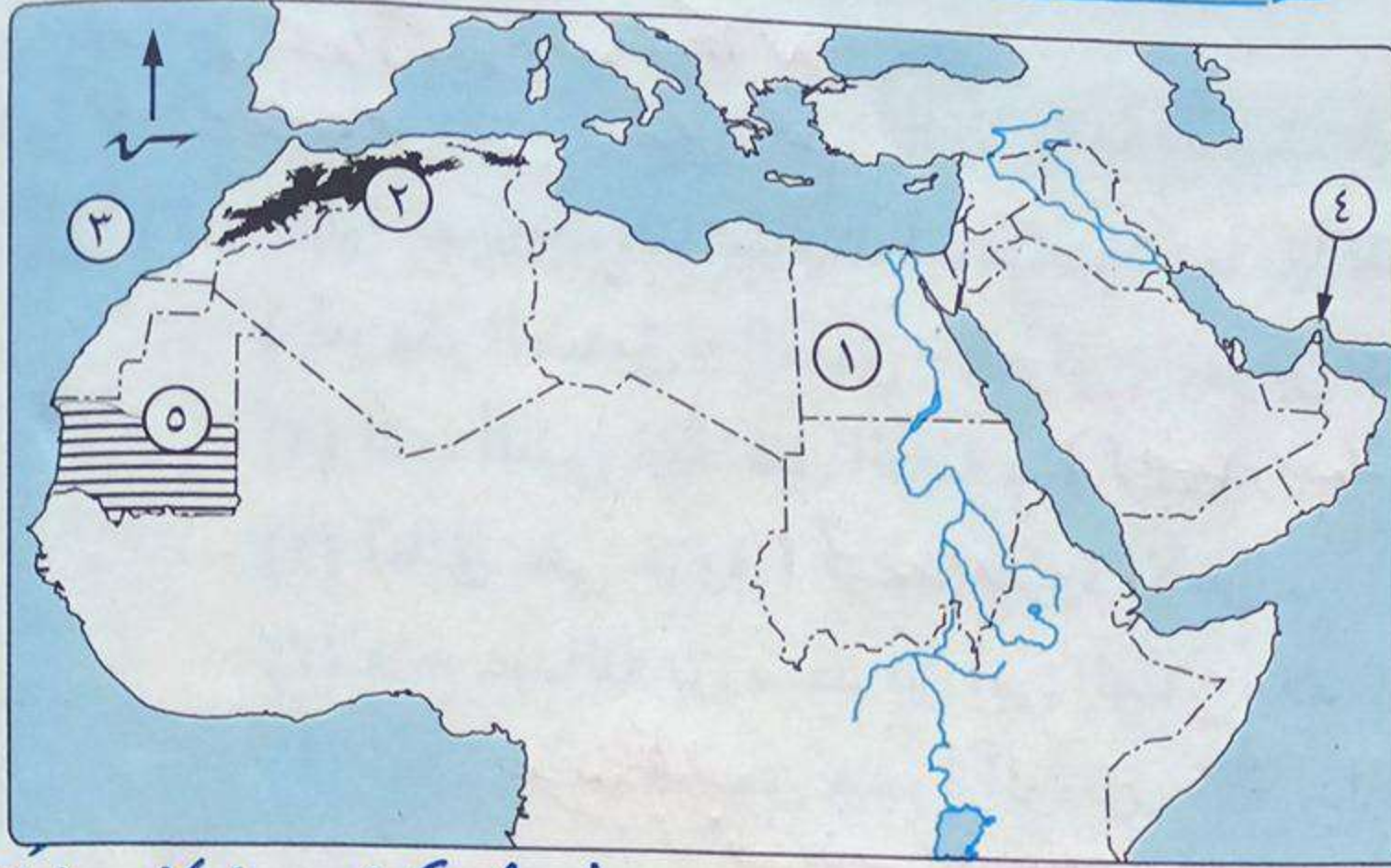
* معركة القادسية. (٣)

* معركة ذات الصواري. (٤)



أولاً الجغرافيا

أجب عن الأسئلة الآتية:



١ (أ) أمامك خريطة للوطن

العربي، اكتب ما تدل

عليها الأرقام الآتية:

(١) دولة مصر

(٢) جبال إيليس

(٣) المحيط الأطلنطي

(٤) مضيق صيرج

(٥) إقليم مناخي البحرى

أوربي

كانت عامره

بالماء

ثم صفت

(ب) ما المقصود بكل مصطلح جغرافى مما يأتى ... ؟

(١) الأودية الجافة. (٢) هجرة. (٣) نمو سكاني.

(٤) شتات الأرض. (٥) أهمية الاقتصادية لسهول البحر الأحمر والخليج العربي.

(ج) بم تفسر ... ؟ (١) أهمية الاقتصادية لسهول البحر الأحمر والخليج العربي.

(٢) انخفاض معدل الوفيات فى الوطن العربى.

(٣) نمو سكاني.

(٤) شتات الأرض.

(٥) أهمية الاقتصادية لسهول البحر الأحمر والخليج العربي.

(٦) انخفاض معدل الوفيات فى الوطن العربى.

(٧) نمو سكاني.

(٨) شتات الأرض.

(٩) أهمية الاقتصادية لسهول البحر الأحمر والخليج العربي.

(١٠) انخفاض معدل الوفيات فى الوطن العربى.

(١١) نمو سكاني.

(١٢) شتات الأرض.

(١٣) أهمية الاقتصادية لسهول البحر الأحمر والخليج العربي.

(١٤) انخفاض معدل الوفيات فى الوطن العربى.

(١٥) نمو سكاني.

(١٦) شتات الأرض.

(١٧) أهمية الاقتصادية لسهول البحر الأحمر والخليج العربي.

(١٨) انخفاض معدل الوفيات فى الوطن العربى.

(١٩) نمو سكاني.

(٢٠) شتات الأرض.

(٢١) أهمية الاقتصادية لسهول البحر الأحمر والخليج العربي.

(٢٢) انخفاض معدل الوفيات فى الوطن العربى.



٢ (أ) اكتب كلمة (صواب) أمام العبارة الصحيحة، وكلمة (خطأ) أمام العبارة غير الصحيحة، مع التصويب:

(١) تمتد جبال الشام على الساحل الجنوبي للبحر المتوسط. (خطأ)

(٢) من الجبال الالتوائية فى الوطن العربى جبال عُمان. (صواب)

(٣) تعرف الجهات البعيدة عن المسطحات المائية بالمناطق القارية. (صواب)

(٤) تمتد هضبة حضرموت فى شمال شبه الجزيرة العربية. (خطأ)

(٥) تعاني دول الخليج العربى نقصاً سكانياً. (صواب)

(ب) ما العلاقة بين كل من ... ؟

(١) اتجاه الكتل الجبلية، وتوزيع كمية المطر. هضبة نجد.

(٢) الحروب والصراعات، وتوزيع السكان فى الوطن العربى. هضبة نجد.

(ج) أين تقع كل ظاهرة من الظواهر التضاريسية الآتية ... ؟

(١) نهرا دجلة والفرات. هضبة نجد.

(٢) هضبة نجد. هضبة نجد.

(٣) واحة سيوة. واحة سيوة.

(٤) واحة سيوة. واحة سيوة.

(٥) واحة سيوة. واحة سيوة.

(٦) واحة سيوة. واحة سيوة.

(٧) واحة سيوة. واحة سيوة.

(٨) واحة سيوة. واحة سيوة.

(٩) واحة سيوة. واحة سيوة.

(١٠) واحة سيوة. واحة سيوة.

(٤) يعتبر المناخ من العوامل **البشرية** التي تؤثر في توزيع السكان. **الطبيعية**

(٥) **قلت** نسبة المتحقيقين بالتعليم قبل الجامعي في الوطن العربي. **زادت**

(ب) **قارن بين كل من:** **الطبيعية** **على سواحل البحر المتوسط** **عصر ليبي**

(١) إقليم البحر المتوسط، والإقليم الصحراوي، من حيث: **الخصائص المناخية** **سحر الحرار** **ضيقها صبه بالحرار حديد** **البرودة شتاء** **أهم الأعمال** **الرعي** **الزراعة** **وتربية حيوان**

ماريات
هيف
مستل محط
شمار

ثانياً التاريخ

(١) **إلى من تنسب الأعمال التالية ... ؟**

(١) غلام السيدة خديجة الذي خرج مع الرسول ﷺ في رحلته التجارية. **صهره**

(٢) أول سفير في الإسلام. **وصعب بن عكر**

(٣) كلفه رسول الله ﷺ برعى الأغنام حول غار ثور. **عامر بن مضر**

(٤) أشار على النبي ﷺ بحفر خندق حول المدينة. **سلمان بن عمار**

(٥) انتصر على الفرس في معركة نهاوند. **الشعيب بن مسهر**

(٦) نقل مقر الخلافة إلى الكوفة. **علي بن أبي طالب**

(ب) **ما النتائج التي ترقبت على ... ؟** **أحار عمر بن الخطاب على أبو بكر يجمع لعمركم**

(١) استشهاد كثير من حفظة القرآن في حرب المرتدين. **سنة حذو لدولة السريه كمال**

(٢) الانتصارات في الفتوحات الإسلامية في عهد عثمان بن عفان **عمر بن الخطاب** **عمر بن الخطاب** **عمر بن الخطاب**

(ج) **ما رأيك في :** موقف عمر بن الخطاب رضى الله عنه من أهل بيت المقدس ؟ **عمر بن الخطاب** **عمر بن الخطاب** **عمر بن الخطاب**

(١) **ما المقصود بالمفاهيم التاريخية الآتية ... ؟**

(١) ما ينزله الله على الأنبياء عن طريق جبريل عليه السلام. **الوحي**

(٢) معارك خاضها المسلمون ضد المشركين بقيادة الرسول ﷺ. **الغزوات**

(٣) مجموعة كبيرة من السفن التي تستخدم في الحروب أو في التجارة. **السطول**

(٤) فئة من جيش علي بن أبي طالب رضى الله عنه خرجوا عليه ورفضوا التحكيم. **الخوارج**

(ب) **رتب الأحداث التاريخية الآتية من القديم إلى الحديث :**

* عام الفيل. ①

* فتح قبرص. ④

* بناء المسجد النبوي. ③

* الهجرة إلى الحبشة. ②

(ج) **أيد تاريخياً صحة كل عبارة مما يأتي :** **كان الرسول ﷺ أول من طبق مبدأ التعايش السلمي** **اتخذ أبو بكر الصديق رضى الله عنه موقفاً حازماً من المرتدين** **بصاره لصحابه وجمع ذلك في الحارة**

٦ (١) اختر الإجابة الصحيحة مما بين القوسين :

- (١) أسس الرسول ﷺ دولة الإسلام في (مكة - المدينة - الشام - اليمن)
- (٢) انتصر خالد بن الوليد على الروم في معركة
(أجنادين - نهاوند - القادسية - اليرموك)
- (٣) تم إنشاء الدواوين في عهد الخليفة رضى الله عنه .
- (أبو بكر الصديق - عمر بن الخطاب - عثمان بن عفان - علي بن أبي طالب)
- (٤) دارت أولى معارك فتح مصر عند مدينة
(العريش - الإسكندرية - الفرما - بلبيس)
- (٥) تم تنظيم الشرطة في عهد الخليفة رضى الله عنه .
- (أبو بكر الصديق - عمر بن الخطاب - عثمان بن عفان - علي بن أبي طالب)



- (ب) بم تفسر ... ؟ (١) موقف قريش العدائي من الدعوة الإسلامية. هو منا على حكا تهمنا لكرامه
روصنا لحرا - لا نرا تخالف
سيرا باهم واصبرهم
(ج) ماذا كان يحدث إذا : لم يخالف الرماة أوامر الرسول ﷺ في غزوة أحد ؟
لم يفتنوا لما لزمنا على بئس الحسيم ولم يحول نصر الله إلى هزيمه

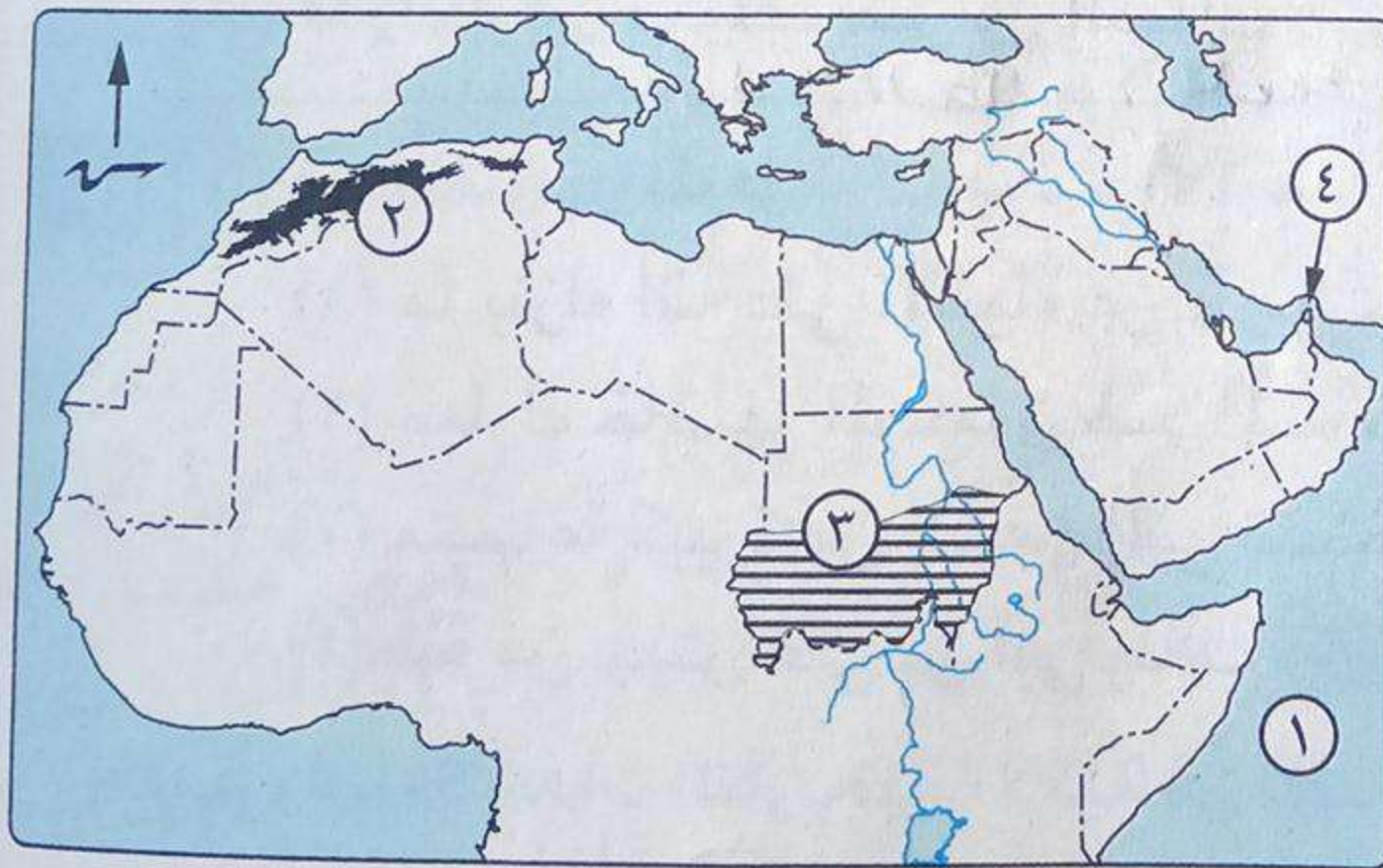
محافظة المنيا

إدارة المنيا التعليمية

١٧

أولاً الجغرافيا

أجب عن الأسئلة الآتية :



١ (١) أمامك خريطة للوطن العربى،

اكتب مدلول الأرقام التى عليها :

- (١) المحيط الهندى
- (٢) جبال إيليس
- (٣) إقليم مناخى البحرى
- (٤) مضيق هرمز

(ب) اكتب المصطلح الجغرافى الذى تشير إليه كل عبارة مما يأتى :

- (١) أودية كانت تملؤها مياه الأمطار قديماً ثم جفت. الأودية الجافة
- (٢) زيادة عدد السكان خلال فترة زمنية محددة. النمو السكاني
- (٣) الموقع بالنسبة للماء واليابس. الموقع الجغرافى
- (٤) إقليم مناخى يشغل ٨٠ ٪ من مساحة الوطن العربى. إقليم الصحراوي

(١) صوب ما تحته خط : جبل طار

- (١) يصل مضيق باب المندب البحر المتوسط بالمحيط الأطلنطي.
(٢) يعمل سكان الحضر بحرفة الزراعة وتربية الحيوانات. الصري
(٣) تقع هضبة حصرموت في شمال شبه الجزيرة العربية. جنوب
(٤) يفضل سكان لبنان سكنى السهول لاعتدال مناخها. المرتفعات

(ب) بم تفسر ... ؟ (١) ظهور المشكلة السكانية في الوطن العربي. نتيجة عدم التوازن بين الموارد
(٢) سقوط الأمطار صيفاً على جنوب غرب شبه الجزيرة العربية. سقوط الأمطار صيفاً على جنوب غرب شبه الجزيرة العربية.

(١) أكمل العبارات الآتية بما يناسبها مما بين القوسين :
(كردستان - الشتاء - الشام - الصومال - المحيط الأطلنطي - الصيف - خليج عدن)

- (١) من الجبال الانكسارية في وطننا العربي جبال السنين.
(٢) يحد الوطن العربي غرباً المحيط الأطلنطي (٣) ترتفع نسبة الوفيات في دولة الصومال
(٤) تسقط الأمطار على إقليم مناخ البحر المتوسط في فصل الشتاء

(ب) حدد العنصر غير المناسب لمجموعته، مع ذكر السبب :

- (١) التضاريس - الحروب - المناخ - التربة الخصبة. لأنه ليس له علاقة بالبيئة في توزيع السكان
(٢) الأرز - السنط - الزيتون - البلوط الفليني. لأنه ليس له علاقة بالبيئة في توزيع السكان
(ج) ما العلاقة بين : التضاريس، ودرجة الحرارة في الوطن العربي ؟
حيث أن التضاريس عامل يؤثر على درجة الحرارة كما

التاريخ

ثانياً
أرشفة ٢١٥ نقل درجة حرارة أدنى

(١) إلى من تنسب الأعمال الآتية ... ؟

- (١) أنشأ الدواوين ونظام الحسبة في الدولة الإسلامية. عمر بن الخطاب
(٢) أول سفير في الإسلام. مصعب بن عمير

(٣) تولى تربية الرسول ﷺ بعد وفاة أمه. حمزة عبد المطلب

(٤) نقل الخلافة الإسلامية إلى الكوفة بالعراق. علي بن أبي طالب

(ب) ما النتائج التي ترقبت على ... ؟

- (١) صلح الحديبية. بدأ الرسول ﷺ في إرسال
(٢) معركة القادسية. مقتل رستم - زهول لبراهمة
(ج) ماذا كان يحدث إذا ... ؟ الدول - بدأ في مرحلة عالمه لبراهمة
(١) لم يقيم أهل مكة بتنظيم رحلتى الشتاء والصيف. لم تحظ مكة ببحر تجاري كبير
(٢) أطاع الرماة أوامر الرسول ﷺ في غزوة أحد. لم يحول نصر المسلمين إلى هزيمة

(١) اختر الإجابة الصحيحة مما بين القوسين :

(١) أمر الرسول ﷺ بخروج يهود بني قريظة بعد غزوة

(بدر - الخندق - خيبر - تبوك)

- عباره الله على (٢) تم جمع القرآن في عهد الخليفة
 (أبو بكر الصديق - عمر بن الخطاب - عثمان بن عفان - علي بن أبي طالب)
 (٣) فتح عبدالله بن أبي السرح بلاد في عهد عثمان بن عفان.
 (أفريقية - أرمينية - مصر - العراق)
 (٤) كانت غزوة أول غزوات الرسول ﷺ. (حنين - الأحزاب - أحد - بدر)

(ب) ما المقصود بكل مصطلح تاريخي مما يأتي ... ؟ (١) الحنيقية. (٢) المهاجرين.
 هم اهل مكة لذلك صا حروا منه

- ٦ (أ) رتب الأحداث التاريخية الآتية من القديم إلى الحديث :
 * فتح مكة. (٣) * معركة ذات الصواري. (٥) * بيعة العقبة الأولى. (١)
 * غزوة أحد. (٢) * فتح مصر. (٤)

- (ب) اكتب كلمة (صواب) أمام العبارة الصحيحة، وكلمة (خطأ) أمام العبارة غير الصحيحة :
 (١) ولد الرسول ﷺ يتيمًا حيث مات أبوه ودفن في مكة. (خطأ)
 (٢) أصبحت مصر ولاية إسلامية بسقوط الإسكندرية. (صواب)
 (٣) قاد خالد بن الوليد جيوش المسلمين في معركة اليرموك. (صواب)



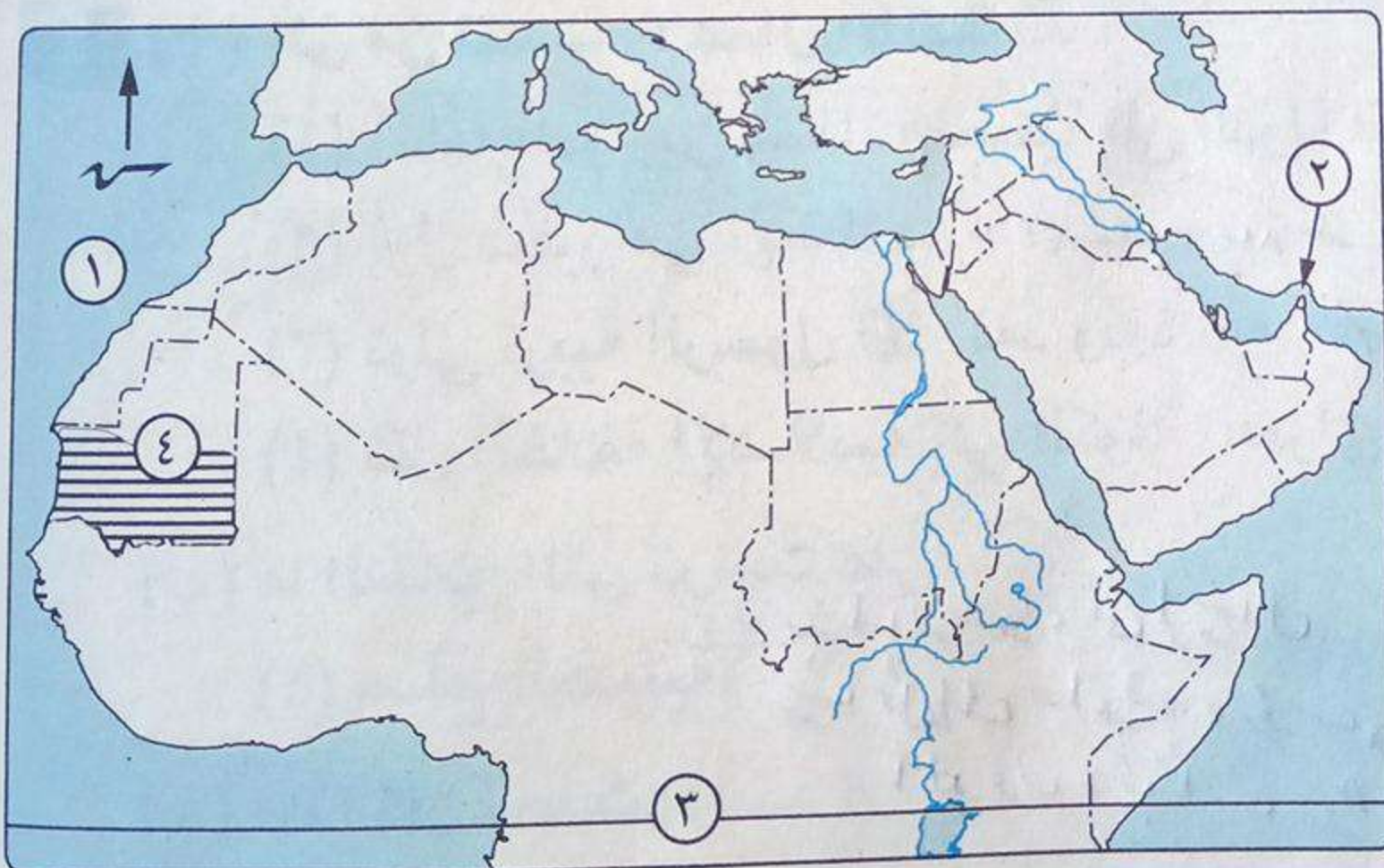
محافظة أسيوط

إدارة أسيوط التعليمية

١٨

أولاً الجغرافيا

أجب عن الأسئلة الآتية :



- ١ (أ) أمامك خريطة للوطن العربي، اكتب ما تشير إليه الأرقام المدونة عليها :
 (١) المحيط الأطلسي
 (٢) مضيق هرمز
 (٣) دائرة عرض الهند
 (٤) إقليم مناخى البحر المتوسط

(ب) اكتب المصطلح الجغرافى الدال على كل عبارة مما يأتي :

- (١) الموقع بالنسبة لخطوط الطول ودوائر العرض. الموقع الضلكى
 (٢) زيادة عدد السكان خلال فترة زمنية معينة. نمو السكان
 (٣) أرض منخفضة فى الصحراء يعيش بها السكان وتربى فيها الحيوانات. الواحات
 (٤) عدد الأفراد فى سن العمل والقادرين عليه سواء يعملون أو يبحثون عن عمل. قوة العمل



٢ (أ) اكتب كلمة (صواب) أمام العبارة الصحيحة، وكلمة (خطأ) أمام العبارة غير الصحيحة :

- (١) يؤثر اتجاه الكتل الجبلية على كمية الأمطار الساقطة على الوطن العربي. (صواب)
- (٢) جبال الشام من الجبال التي تكونت بفعل الحركات الانكسارية. (صواب)
- (٣) تنخفض الكثافة السكانية في المناطق الرعوية بالوطن العربي. (صواب)
- (٤) التضاريس والمناخ من العوامل البشرية المؤثرة في توزيع السكان بالوطن العربي. (صواب)

(ب) بم تفسر ... ؟ (١) تنوع أهمية الاقتصادية للسهول الساحلية بالوطن العربي. (خطأ)

ارتفاع نسبة سكان الحضر في الوطن العربي. (٢) تزايد سكان الحضر في الوطن العربي. (خطأ)

ارتفاع نسبة سكان الريف في الوطن العربي. (٣) أهمية الحضرية للوطن العربي. (خطأ)

ارتفاع نسبة سكان الريف في الوطن العربي. (٤) ارتفاع نسبة الإعالة في الوطن العربي. (خطأ)

٣ (أ) اختر الإجابة الصحيحة مما بين القوسين :

(١) الدولة العربية التي تقع بالكامل جنوب دائرة الاستواء



(جزر القمر - الصومال - موريتانيا - تونس)

(٢) تقع هضبة في جنوب شبه الجزيرة العربية.

(الشطوط - نجد - حزموت - بادية الشام)

(٣) تنمو الغابات المعتدلة فوق جبال

(كردستان - البحر الأحمر - أطلس - زاجروس)

(٤) من الدول التي تعاني قلة في الموارد الاقتصادية

(السعودية - الكويت - الإمارات - مصر)

(٥) من الدول التي تشرف على مضيق جبل طارق

(عمان - المغرب - مصر - ليبيا)

(ب) ما النتائج المترتبة على ... ؟

(١) تعرض الوطن العربي للاستعمار الأوروبي. (خطأ)

(٢) التعرية الهوائية على سطح الوطن العربي. (خطأ)

(٣) العلاقة غير المتوازنة بين عدد السكان والموارد الاقتصادية. (خطأ)

ثانياً التاريخ

٤ (أ) أكمل العبارات التالية بما يناسبها مما بين القوسين :

(خالد بن الوليد - الفرس - البيعة الخاصة - الروم - سعد بن أبي وقاص - ثور)

- البيعة العامة - البصرة - حراء - الخندق - الكوفة)

(١) نقل الخليفة علي بن أبي طالب مقر خلافته إلى مدينة (البصرة) بالعراق.



- (٢) أطلق على غزوة الجسيم غزوة الأحزاب.
- (٣) انتصر القائد جبريل بن عبد الله على الفرس في معركة القادسية عام ١٥ هـ.
- (٤) خضعت مصر وبلاد الشام لحكم الروم قبل ظهور الإسلام.
- (٥) كان الرسول ﷺ يخرج إلى غار حرا ليتعبد فيه.
- (٦) بايع المسلمون أبي بكر الصديق في المسجد فعرفت ببيعة البصرة.
- (ب) اكتب المصطلح التاريخي الذي تشير إليه كل عبارة من العبارات التالية :

- (١) نظام اتبعه المسلمون في اختيار الخلفاء الراشدين يقوم على الترشيح والانتخاب. **السورى**
- (٢) البيعة التي بايع فيها الرسول ﷺ أصحابه على قتال قريش عام ٦ هـ. **بيعة الرضوان**
- (٣) مدينة قصدتها النبي ﷺ ليلتمس النصرة من قبيلة ثقيف. **الطائف**

٥ (١) بم تفسر ... ؟

- (١) معارضة قريش للدعوة الإسلامية ومجاراتها منذ اللحظة الأولى.
- (٢) فتح الرسول ﷺ مكة ٨ هـ. **بيت نضير**
- (٣) تسمية معركة نهاوند بفتح الفتوح. **انتصار المسلمين وانتزاع دوله الفرس**
- (٤) شهرة سوقى عكاظ وذى المجاز في شبه الجزيرة العربية. **لدى بني كنانة**
- (ب) من تنسب الأعمال التالية ... ؟

- (١) أنهى الوجود اليهودي في شبه الجزيرة العربية. **عمر بن الخطاب**
- (٢) خليفة تم في عهده إنشاء أول أسطول بحرى إسلامي. **عمر بن الخطاب**
- (٣) كان دليلاً للرسول ﷺ في الطريق أثناء الهجرة إلى يثرب. **عبد الله بن ربيعة**
- (٤) أول سفير في الإسلام. **مصعب بن عمير**

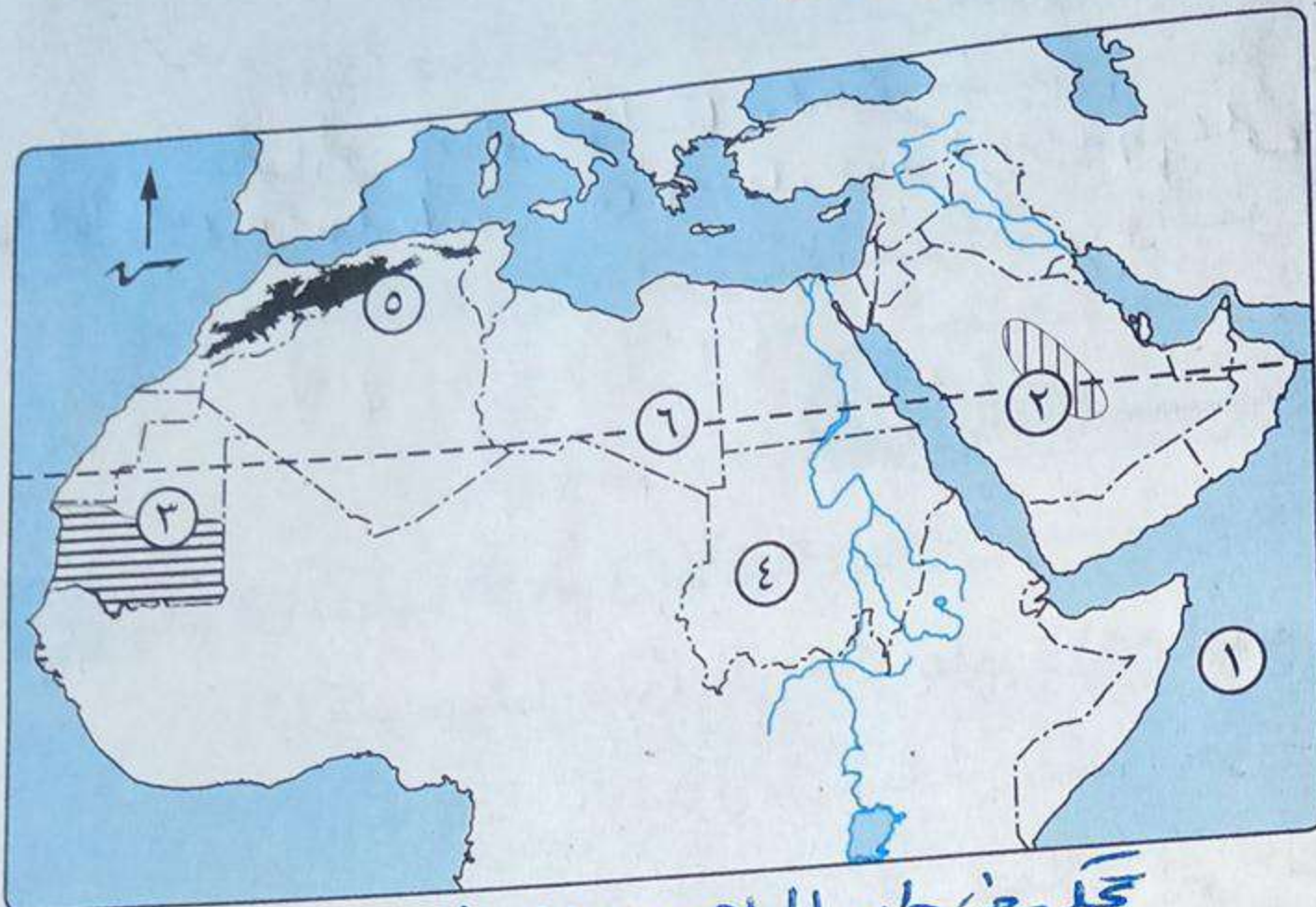
٦ (١) اكتب كلمة (صواب) أمام العبارة الصحيحة، وكلمة (خطأ) أمام العبارة غير الصحيحة :

- (١) قامت مملكتا الحيرة والغساسنة جنوب شبه الجزيرة العربية. **(خطأ)**
- (٢) المؤاخاة بين المهاجرين والأنصار الركن الأول من أركان بناء الدولة الإسلامية. **(خطأ)**
- (٣) شارك على بن أبى طالب الرسول ﷺ كل غزواته عدا غزوة بدر. **(خطأ)**
- (٤) كان النظام القبلى هو النظام السياسى السائد فى شبه الجزيرة العربية. **(صواب)**
- (٥) اتخذ عمر بن الخطاب من هجرة الرسول ﷺ بداية للتقويم الهجرى. **(صواب)**
- (ب) ما النتائج التي ترقبت على ... ؟
- (١) موقعة ذات الصوارى عام ٣٤ هـ. **استنهاض الروح المعنوية والسياسية - تدعيم أسطول الروم**
- (٢) مخالفة الرماة أوامر الرسول ﷺ فى غزوة أحد. **استنهاض الروح المعنوية والسياسية - تدعيم أسطول الروم**
- (٣) استشهاد عدد كبير من حفظة القرآن فى حروب المرتدين. **استنهاض الروح المعنوية والسياسية - تدعيم أسطول الروم**



أولاً الجغرافيا

اجب عن الأسئلة الآتية :



(١) أمامك خريطة للوطن

العربي، اكتب ما تدل

عليه الأرقام الآتية :

(١) المحيط الهندي

(٢) هضبة جبال

(٣) إقليم مناخي جوبي

(٤) دولة السودان

(٥) جبال أطلس

(٦) مدار السرطان

تكلّم في طير المواصفات العالمية - أ - سرانه على كونه اذرع
عائيه - تكلّم في اربعه محركات عائيه
تكلّم في صناعه الصنع العربي

(ب) بم تفسر ... ؟ (١) الأهمية الاستراتيجية للوطن العربي.
ارتفاع نسبة هجره رسم (٢) لأشجار السنط أهمية اقتصادية. تكلّم في صناعه الصنع العربي
ارتفاع نسبة الإعالة في الوطن العربي.
ارتفاع نسبة هجره رسم (٣) ارتفاع نسبة الإعالة في الوطن العربي.
ارتفاع نسبة هجره رسم (٤) ارتفاع نسبة الإعالة في الوطن العربي.



(١) اكتب المصطلح الجغرافي الذي تشير إليه كل عبارة من العبارات الآتية :

(١) الموقع بالنسبة لليابس والماء. الموقع الجغرافي

(٢) سهول كونتها الرياح عن طريق النحت والإرساب. سهول هجره رسم

(٣) زيادة عدد السكان خلال فترة زمنية معينة. نمو السكان

(٤) منطقة تنشأ حول المدن الكبرى دون تخطيط وتفتقر للمرافق والخدمات. المناطق الحضرية

(ب) صنف الجبال التالية حسب نشأتها :

(١) جبال أطلس. التواضع (٢) جبال الشام. انكاره

(٣) جبال عُمان. التواضع (٤) جبال البحر الأحمر. انكاره

(١) اختر الإجابة الصحيحة مما بين القوسين :

(١) من دول الجناح العربي الأفريقي
(السعودية - اليمن - تونس - الكويت)

(٢) تقع هضبة الشطوط بين سلاسل جبال
(الشام - الحجاز - عسير - أطلس)

(٣) تسقط الأمطار على إقليم مناخ البحر المتوسط في فصل

(الشتاء - الصيف - الربيع - الخريف)

(٤) يعمل أغلبية سكان الريف بحرفة
(الرعى - الزراعة - التعدين - الصناعة)

(٥) من دول الوطن العربي التي تعاني من نقص عدد السكان وزيادة الموارد

١) قتل العدا وكثيره منه لكاه (ج) اجهار عدد كثير منهم على بحره بللهم
(ب) ما العلاقة بين : الحروب والصراعات، والنمو السكاني ؟

ثانياً التاريخ

٤ (أ) لمن تنسب الأعمال الآتية ... ؟

- (١) قاد جيشاً كبيراً إلى مكة عام ٥٧٠م لهدم الكعبة. ~~ابن~~ ~~هشام~~ ~~بن~~ ~~عبد~~ ~~المطلب~~
- (٢) أشار على الرسول ﷺ بحفر خندق حول المدينة. ~~سليمان~~ ~~بن~~ ~~سليمان~~
- (٣) أرسله أبو بكر الصديق في حملات إلى الشام. ~~أبو~~ ~~سعيد~~ ~~بن~~ ~~زيد~~
- (٤) انتصر على الفرس في معركة القادسية. ~~عبد~~ ~~الله~~ ~~بن~~ ~~عبد~~ ~~الله~~
- (٥) خليفة تم في عهده فتح بيت المقدس عام ١٥هـ. ~~عمر~~ ~~بن~~ ~~الخطاب~~
- (٦) أنشأ البحرية الإسلامية. ~~عبد~~ ~~الله~~ ~~بن~~ ~~عبد~~ ~~الله~~

(ب) ما النتائج التي ترقبت على ... ؟

(١) بيعة العقبة الثانية. ١ من الرسول المصطفى بالخروج الى يثرب
(٢) استشهاد عدد كبير من حفظة القرآن في حرب المرتدين. ١ من عمر بن الخطاب رضي الله عنه
(٣) معركة ذات الصواري. ١ من الصحابة الكرام

٥ (أ) أكمل العبارات الآتية بالكلمات المناسبة مما بين القوسين :

(خمس - ثلاث - الندوة - الأرقم بن أبي الأرقم - عثمان بن عفان - عمر بن الخطاب)

(۱) أول مدرسة في الإسلام كانت في دار النبي محمد ﷺ بمكة
(۲) ظل الرسول ﷺ يدعو للإسلام سرّاً ۱۰ سنوات.

(ب) بم تفسر...؟ بیست و نه اینها و مرئس للخصم والبرطانیة والامریکا

(ب) بم تفسر...؟
(١) هجرة المسلمين إلى الحبشة.
(٢) تسمية معركة نهاوند بفتح الفتوح.
(٣) عدم مشاركة عثمان بن عفان في غزوة بدر.

(١) صوب ما تحته خط :

- (١) أول هجرة للمسلمين كانت إلى الشام الجبلية
- (٢) تحول النصر إلى هزيمة في غزوة بدر أصر
- (٣) قام معاوية بن أبي سفيان بفتح مصر في عهد عمر بن الخطاب. عمر بن الخطاب
- (٤) اختار على بن أبي طالب مدينة البصرة لتكون مقراً للخلافة. الكوفة
- (٥) تخلص الرسول ﷺ من يهود بنى قريظة بعد غزوة تبوك. الحند

(ب) اكتب المصطلح التاريخي الذي تشير إليه كل عبارة من العبارات الآتية :

- (١) ديانة سيدنا إبراهيم عليه السلام. الحنيفية
- (٢) حملات وجهها الرسول ﷺ ضد المشركين ولم يشارك فيها. السرايا
- (٣) شكل من أشكال الحكم أقره المسلمون بعد وفاة الرسول ﷺ. الخنزرة

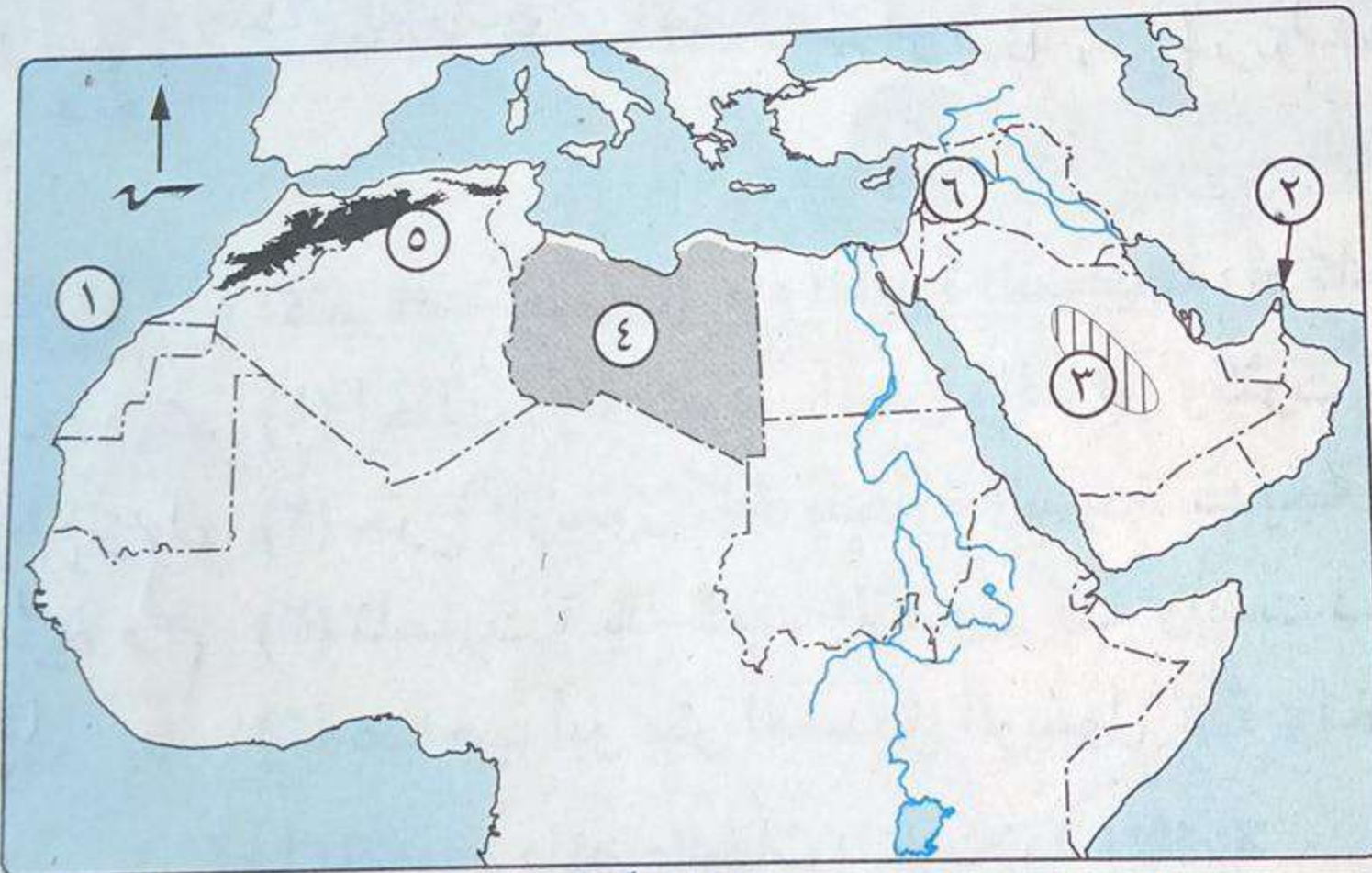


محافظة قنا

إدارة قنا التعليمية

أولاً الجغرافيا

أجب عن الأسئلة الآتية :



(١) أمامك خريطة للوطن

العربي، اكتب مدلول

الأرقام الموضحة عليها :

(١) المحيط البحر المتوسط

(٢) مضيق هرمز

(٣) هضبة بحيرة

(٤) إقليم مناخي صحراوي

(٥) جبال اطلس

(٦) سهل نهر النيل

تنوع حوارده الاقتصادية - وصول لسيول وكناز

الطبيعي على أرضه - تحله من طريق التجارة العالمية

(ب) بم تفسر ... ؟ (١) تعرض الوطن العربي للعديد من المحاولات الاستعمارية.

(٢) تؤثر التضاريس على مناخ الوطن العربي.

(٣) حدوث المشكلة السكانية في الوطن العربي ١٩٥٠م لذلك تنظم المكنج

تحم الجبال (التي تسمى)

ولتنوع تجميعها لواجهتها للبحر

المرور وطرقها لسهولة التنوع والراعي

(١) اختر الإجابة الصحيحة مما بين القوسين :

(١) من الأشجار التي تنمو في الإقليم المداري أشجار
(الأرز - الصنوبر - السنط - الصبار)

- (٢) من المشكلات السياسية التي ظهرت في الوطن العربي مشكلة
(مصر - دارفور - الكويت - تونس)
- (٣) من السهول الساحلية الصالحة للزراعة في الوطن العربي سهول
(البحر الأحمر - البحر المتوسط - المحيط الأطلنطي - الخليج العربي)
- (٤) من الدول التي تنتمي إلى إقليم البحر المتوسط دولة
(موريتانيا - الصومال - المغرب - السعودية)

لذلك تعمل الحكومة على تطويرها
على تطويرها
تؤدي إلى حصول العمار
كثير من سكانها وأحياناً الكثير منهم على تركها
(١) صوب ما تحته خط مع كتابة الجملة الصحيحة في ورقة الإجابة :

- (١) ارتفاع نسبة الأطفال صغار السن نتيجة ارتفاع معدلات الهجرة. الموالب
- (٢) من الجبال الالتوائية في الوطن العربي جبال الشام. الاندلسية
- (٣) توجد واحة الكفرة في دولة تونس. ليبيا
- (٤) يوجد وادي العلاقي في دولة البحرين. مصر

بهم لكان
من المناطق
الزراعية
(ب) اذكر أثر كل نشاط مما يأتي على توزيع السكان :
(١) الزراعة
(٢) الصناعة
(٣) الرعي
(٤) السياحة
لذلك كان من شأنها علم الرعي
لذلك كان من شأنها علم الرعي
لذلك كان من شأنها علم الرعي
لذلك كان من شأنها علم الرعي

ثانياً التاريخ

(١) اكتب كلمة (صواب) أمام العبارة الصحيحة، أو كلمة (خطأ) أمام العبارة غير الصحيحة :

- (١) احتلت دولة الفرس اليمن والعراق وكثرت فيها العبادات الوثنية. (صواب)
- (٢) خرج الرسول ﷺ بتجارة السيدة خديجة رضي الله عنها إلى مصر. (خطأ)
- (٣) ناصرت قبيلة ثقيف الرسول ﷺ وأيدت دعوته. (خطأ)
- (٤) صاحب أبو بكر الصديق الرسول ﷺ واختبأ في غار حراء ثلاثة ليالي. (خطأ)

(ب) ما المقصود بالمصطلحات التاريخية الآتية ... ؟
(١) السرايا : ما يتر له الله على الرسل
(٢) الوحي : ما يتر له الله على الرسل
(٣) الخلافة : ما يتر له الله على الرسل
(٤) الخوارج : ما يتر له الله على الرسل
السرايا : ما يتر له الله على الرسل
الوحي : ما يتر له الله على الرسل
الخلافة : ما يتر له الله على الرسل
الخوارج : ما يتر له الله على الرسل

(١) أكمل العبارات الآتية بما يناسبها مما بين القوسين :

- (الحباب بن المنذر - حبيب بن مسيلمة - أسامة بن زيد - خالد بن الوليد - عمرو بن العاص)
- (١) أشار حبيب بن مسيلمة على الرسول ﷺ أن يعسكر عند أقرب بئر من آبار بدر.
- (٢) أرسل أبو بكر الصديق جيشاً إلى بلاد الشام لتنفيذاً لأوامر الرسول ﷺ بقيادة أسامة بن زيد.
- (٣) انتصر المسلمون على الروم في موقعة اليرموك بقيادة عمر بن الخطاب.
- (٤) أرسل معاوية بن أبي سفيان لفتح أرمينية.

حبيب بن مسيلمة

(١) التزم يهود بنى قريظة بعهدهم مع الرسول ﷺ لم يصرح رسول الله ﷺ بحسنهم ولم يخرجه
(٢) تهاون أبو بكر الصديق في محاربة المرتدين. لما دخلوا المدينة

(أ) لمن تنسب كل من الأعمال الآتية ... ؟
الدعوة الإسلامية

- (١) كتب كتاب يعرف بدستور المدينة. الرسول صلى الله عليه وسلم
- (٢) قام بإنشاء البحرية الإسلامية. عثمان بن عفان
- (٣) قام بنقل مقر الخلافة الإسلامية إلى الكوفة. علي بن أبي طالب
- (٤) أشار على الرسول ﷺ بحفر خندق حول المدينة. سلمان بن عمرو

(ب) اذكر دور كل من الشخصيات التالية في خطة الهجرة النبوية من مكة إلى يثرب:

→ (١) عبدالله بن أريقط. (٢) عبدالله بن أبي بكر. (٣) عامر بن فهيرة. راعي البهائم حول يثرب.

(ج) **قارن بين:** العادات الحسنة والعادات السيئة في المجتمع العربي القديم.

مدرسة الدكتور طه حسين الإعدادية
إدارة أسوان التعليمية

محافظة أسوان



أولاً الجغرافيا

أجب عن الأسئلة الآتية:

(أ) أمامك خريطة للوطن العربي،

اكتب مدلول الأرقام الآتية :

(١) البحر العربي

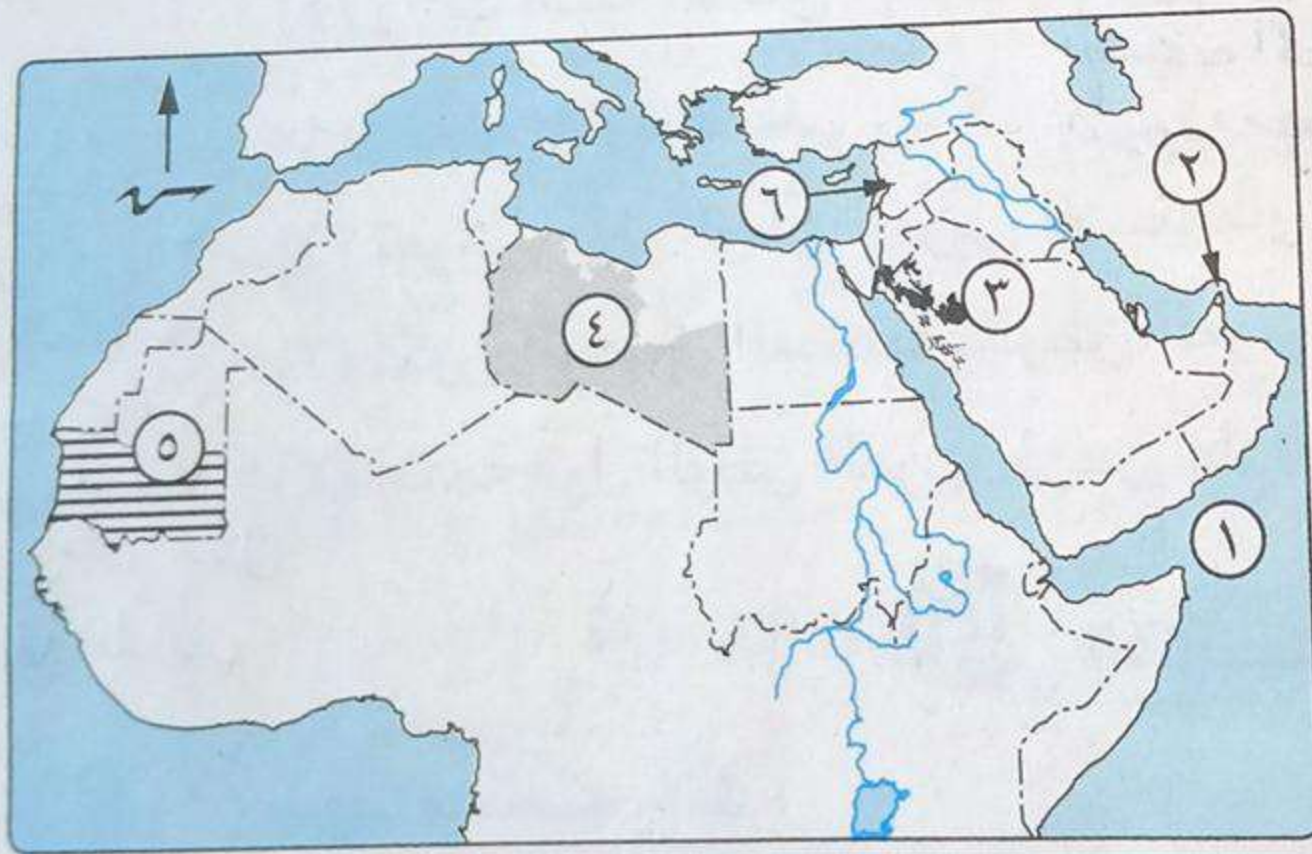
(۲) مضیق حرم

(۳) جبال الحجاز

(٤) هــبـة اءفءىءاء السماء

(۵) اقلیم مناخی جھڑی

(٦) دولة لديها زيادة سكانية..... سوريا



(ب) بم تفسر...؟ لیب ایترا چھوڑ الوطن لعربی مع قواصر حبیبہ

(١) احتفاظ الوطن العربي بشخصيته المميزة بين الأمم.

(٢) تكون الدالات والشواطىء بالوطن العربى.

(٣) التزايد المستمر لسكان الحضر بالوطن العربي. بسبب الهجرة من الريف إلى المدن.

تصانف المجلد المبرور له كما في دول الخليل العربي
الكتاب المجلد المبرور له كما في مصر وسوريا

٢ (١) اكتب المصطلح الجغرافي الذي تشير إليه كل عبارة من العبارات التالية :

- (١) دولة تقع في المحيط الهندي جنوب دائرة الاستواء. **جزر القمر**
- (٢) أرض منخفضة في الصحراء صالحة للحياة وتعتمد على المياه الجوفية. **الواحات**
- (٣) نبات طبيعي ينمو بين أقاليم البحر المتوسط والإقليم الصحراوي. **الاسبيس**
- (٤) زيادة عدد السكان خلال فترة زمنية معينة. **النمو السكاني**

(ب) ما العلاقة بين ... ؟

- (١) كمية المطر، والنباتات الصحراوية. **كمية المطر - كمية النباتات الصحراوية**
- (٢) المناخ، وتوزيع السكان. **المناخ - توزيع السكان**
- (٣) ما مقترحاتك ... ؟ **استحداث طرق مواصلات جديدة - توفير المياه الجوفية**
- (١) الاستفادة من الأودية الجافة. **الاستفادة من الأودية الجافة**
- (٢) تقليل الهجرة من الريف إلى المدن. **تقليل الهجرة من الريف إلى المدن**

٣ (١) اكتب كلمة (صواب) أمام العبارة الصحيحة، وكلمة (خطأ) أمام العبارة غير الصحيحة :

- (١) كل الدول العربية تمتلك سواحل تطل على البحار أو المحيطات. **أو الاثنين معاً.**
- (٢) المناطق الداخلية البعيدة عن تأثير البحر بالوطن العربي تتميز بالمناخ المعتدل. **خطأ**
- (٣) تقوم الدول العربية بعمل تعداد سكاني كل خمس سنوات مثل مصر. **خطأ**
- (٤) تنخفض الكثافة السكانية في المناطق الرعوية بالوطن العربي. **صواب**
- (٥) زادت نسبة التحاق الإناث بالتعليم الجامعي بالوطن العربي إلى ٧٧٪. **خطأ**



(ب) ما النتائج المترتبة على ... ؟

- (١) تعرض دول الوطن العربي للاستعمار الأوروبي. **لصحة إلى دول صبا سيده الماشه - ربح صيرارة**
 - (٢) تكون السهول الفيضية بالوطن العربي. **يتركز السكان حول السهول الفيضية**
 - (٣) إتاحة دول الوطن العربي فرص عادلة للتعليم لجميع أبنائها. **يتم توفير فرص وموارد تعليمية**
- ١٠٦٥٣٥

ثانياً التاريخ

٤ (١) صوب ما تحته خط :

- (١) ولد الرسول ﷺ يتيمًا حيث توفي أبوه عبدالله ودفن في الطائف. **سيرب**
- (٢) صعد محمد ﷺ ليعلن دعوته بين الناس على جبل أحد. **الصفا**
- (٣) دبر زعماء قريش مؤامرة ضد الرسول ﷺ أثناء اجتماعهم في دار الأرقم. **دار الندوة**
- (٤) أول سفير في الإسلام ورقة بن نوفل. **صعب بن عمير**
- (٥) حاصرت قريش المسلمون في المدينة شهرًا أثناء غزوة بدر. **مكره الحنجر**
- (٦) تمت مبايعة الخليفة أبي بكر الصديق البيعة الخاصة في المسجد. **صبيغ بنى ساعده**

(ب) **دليل تاريخياً على صحة كل عبارة من العبارات الآتية** :
 (١) تعرض الرسول ﷺ وأصحابه للإيذاء بعد الجهر بالدعوة.
 (٢) كان صلح الحديبية فتحاً مبيناً على المسلمين.
 (٣) الخليفة علي بن أبي طالب نموذجاً وقدوة في الزهد وعدم الحرص على الدنيا.
 (٤) **لم تنسب الأعمال التالية ... ؟**
 * أخبر النبي ﷺ بأنه سيكون نبي هذه الأمة. **وحرره نوفل**
 * كفل الرسول ﷺ في سن الثامنة من عمره. **عنه أبو طالب**
 * أول من أسلم من الموالى. **زبير بن عوف**
 * دليل الرسول ﷺ في الطريق أثناء الهجرة إلى يثرب. **عبد الله بن أبي ربيعة**
 * أشار على الرسول ﷺ أن يعسكر عند أقرب بئر من آبار بدر إلى المشركين. **الحباب بن المنذر**
 * تولى قيادة الجيوش الأربعة المتجهة لبلاد الشام في عهد أبي بكر الصديق. **أبو عبيدة بن الجراح**



(ب) **قارن بين** : معركة القادسية، وموقعة ذات الصواري، من حيث :
 * قائد المسلمين. **عبد الله بن أبي ربيعة**
 * الأطراف. **المسلمون - الروم**
 (ج) **ماذا كان يحدث إذا** : لم يضع الرسول ﷺ مبادئ التعايش مع الآخر في المدينة ؟
 (١) **اختر الإجابة الصحيحة مما بين القوسين** :

- (١) قامت في شمال شبه الجزيرة العربية قبل الإسلام مملكة
 (سبأ - معين - حمير - الغساسنة)
- (٢) ذهب الرسول ﷺ في رحلة الطائف يلتمس النصرة من قبيلة
 (ثقيف - هوازن - خزاعة - قريش)
- (٣) من أعمال الخليفة عمر بن الخطاب
 (قتال المرتدين - إنشاء المدن - إنشاء البحرية - نقل الخلافة)
- (٤) أنفق عثمان بن عفان أمواله على تجهيز الجيوش في غزوة
 (بدر - أحد - تبوك - خيبر)

(ب) «الخلفاء الراشدين نرى فيهم المثل الأعلى والقدوة الصالحة لنهتدى بهم ونسير على نهجهم».

في ضوء العبارة السابقة وضع : رسالة **هبة السجدة** **بدر بن أبي ربيعة**

- (١) أول عمل قام به أبو بكر الصديق بعد تولية الخلافة. **عدم الرياء لئلا - عدم قتل السجوف**
- (٢) آداب الحرب في الإسلام التي أوصى بها أبو بكر الصديق. **(اللقب بالثقة) ولقاء ولطفه**
- (٣) الهدف من السرايا. **أصناف نوره كرسف لإصطفا ربه لسلطوا كيدهم وكمرهم للبهو على رسول**
- (٤) رأيك في : موقف عمر بن الخطاب من أهل بيت المقدس عند تسلمها عام ١٥ هجرية.
بكره للطالب للتعبير عنه رأي



أولاً الجغرافيا

أجب عن الأسئلة الآتية:

١ (١) أمامك خريطة للوطن العربي،

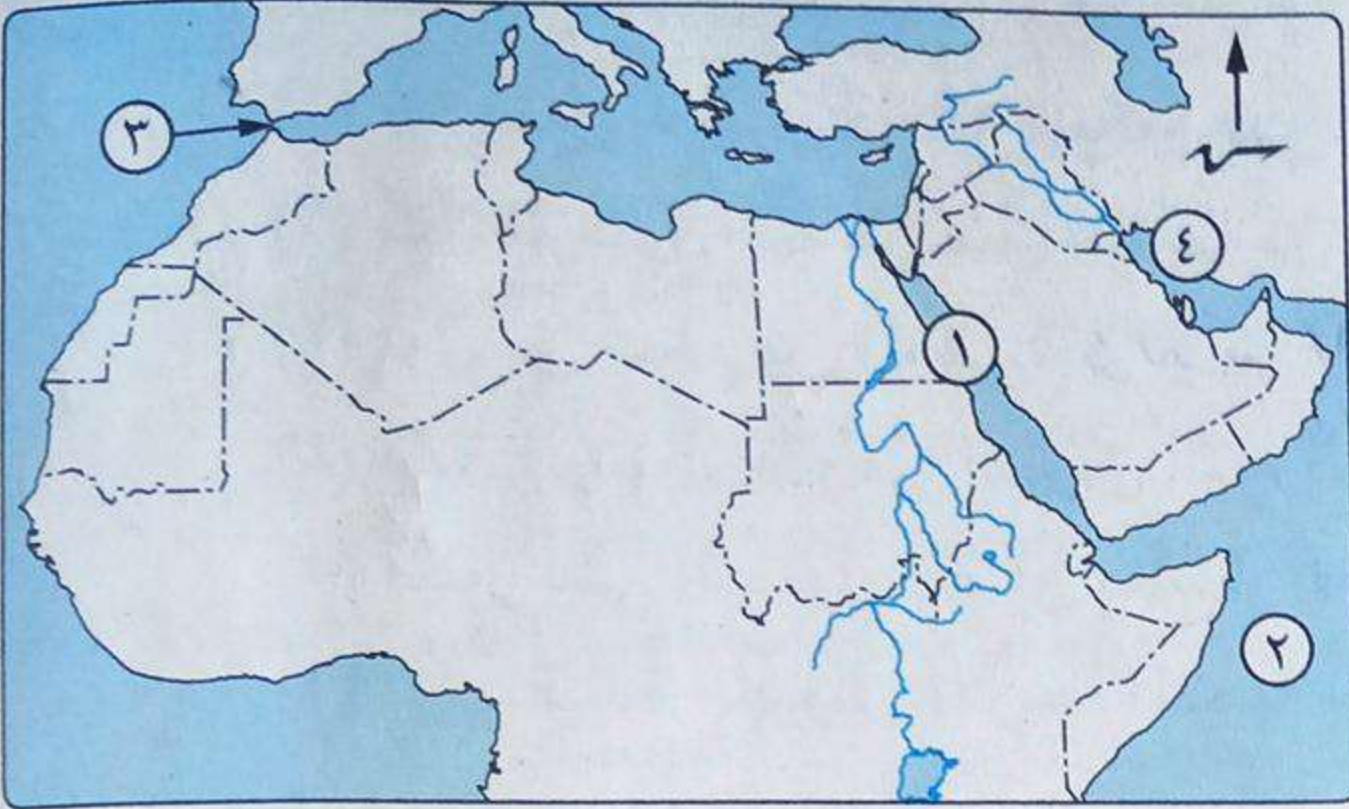
اكتب ما تدل عليه الأرقام:

(١) البحر الأحمر

(٢) المحيط الهندي

(٣) مضيق جبل طارق

(٤) الخليج العربي



(ب) اختر الإجابة الصحيحة مما بين القوسين:

(١) من هضاب الجناح الأفريقي العربي

(هضبة حضرموت - هضبة الشطوط - هضبة نجد - هضبة بادية الشام)

(٢) من أمثلة الجبال الانكسارية

(جبال كردستان - جبال عمان - جبال الشام - جبال أطلس)

(٣) من الدول التي تنتمي بعض أجزائها لإقليم البحر المتوسط

(اليمن - ليبيا - عُمان - السودان)

(٤) من خصائص سكان وطننا العربي الاقتصادية والاجتماعية

(الاهتمام بالتعليم - تنوع الأنشطة الاقتصادية - ارتفاع مكانة المرأة - كل ما سبق)



يعيشون في بلد
ولسهم ٥٥

ويعملون
بالصناعة
أو الزراعة

والصحة
من تزايد
سبب الهجرة

من الهجرة
من الهجرة
من الهجرة

من الهجرة
من الهجرة
من الهجرة

من الهجرة
من الهجرة
من الهجرة

من الهجرة
من الهجرة
من الهجرة

من الهجرة
من الهجرة
من الهجرة

(ج) قارن بين كل مما يأتي:

(١) سكان الريف، وسكان الحضر في الوطن العربي.

(٢) الإقليم الصحراوي، والإقليم المداري من حيث:

(٣) العوامل الباطنية، والعوامل الخارجية لتشكيل سطح الوطن العربي.

(٤) العوامل الباطنية، والعوامل الخارجية لتشكيل سطح الوطن العربي.

(٥) العوامل الباطنية، والعوامل الخارجية لتشكيل سطح الوطن العربي.

(٦) العوامل الباطنية، والعوامل الخارجية لتشكيل سطح الوطن العربي.

(٧) العوامل الباطنية، والعوامل الخارجية لتشكيل سطح الوطن العربي.

(٨) العوامل الباطنية، والعوامل الخارجية لتشكيل سطح الوطن العربي.

(٩) العوامل الباطنية، والعوامل الخارجية لتشكيل سطح الوطن العربي.

(١٠) العوامل الباطنية، والعوامل الخارجية لتشكيل سطح الوطن العربي.

مع التصويب:

الهجرة

(١) الزيادة الطبيعية تعني انتقال الفرد من منطقة لأخرى بغرض الإقامة والعمل. (X)

(٢) تكثر أشجار السنط التي يستخرج منها الصمغ العربي في الغابات المدارية. (✓)



(✓)

(✓)

$$\left(\begin{array}{c} \alpha \end{array} \right)$$

(✓)

لید سحر

۱۱۱

~~sub~~

بِسْمِ اللَّهِ الرَّحْمَنِ الرَّحِيمِ

المسحوق

المساح

الفصل

am

هـ أحد.

ارسطو

بی و کا

علی

لا سنا كانت عبارة عبد قبال مقتضيه و لعل قبيله شيخ حكيم
و حائوه عبد رصوف و احياء كل من رصيف

لَا يَسْأَلُكُمْ فِي الدِّينِ وَالْأَمْرِ وَالنَّفْسِ بِشَيْءٍ بِمِثْلِ مَا سَأَلَكُمْ فِي الدُّنْيَا (ب) بِمِثْلٍ تَفْصِيْلًا ؟

مصدر مصطلح الحجازية (١) كان النظام القبلى هو النظام السائد فى شبه الجزيرة العربية قبل الإسلام.

أعلنت قريش رفضها لدعوة النبي ﷺ ومحاربتها منذ اللحظة الأولى.

ولا يخفى ما لفتاويه (٣) هزيمة المسلمين في غزوة أحد. بسبب مخالفة الرعاة لأوامر الرسول وتركه ما ألهمه
أبائهم وأجدادهم. لم يحصوا لهم فاستعمل ما لديه الوليد المرصود وانقضت على عينه الحسم

٥ (أ) أكمل العبارات الآتية بما يناسبها مما بين القوسين :

(عمر بن الخطاب - خالد بن الوليد - عثمان بن عفان - الشام - زيد بن ثابت -

عام الفيل - اليمن - عام الحزن - سعد بن أبي وقاص)

(١) نظم العرب قبل الإسلام رحلة الشتاء إلى البحر ورحلة الصيف إلى الشتاء.

(٢) ولد الرسول ﷺ عام ٥٧٠م وهو العام الذي يعرف بعام البعثة

(٣) أطلق على العام الذي فقد الرسول ﷺ عمه أبو طالب وزوجته خديجة سنة الحزن

(٤) كان زَيْدٌ بِهِ مَائِبَةٌ أَحَدُ كِتَابِ الْوَحْيِ وَأَمْرُهُ أَبُو بَكْرٍ الصَّدِيقُ بِجَمْعِ الْقُرْآنِ.

(٥) انتصر القائد خالد بن الوليد على الروم في موقعة اليرموك.

(٦) يعد محمد بن عبد الله أول من أنشأ الدواوين في الدولة الإسلامية.

قوله الإسلامية.
الربا محلاته وفيها الرسول صه لمسه لم
يصرها

عبدك فكل لطفك (ب) وضع : امر الرسول بالحسين لا لاجره الى رب

(٢) الفرق بين السرايا والغزوات.

العقوبات معاملة ما صدرت اليه

(١) نتائج بيعة العقبة الثانية.

(٣) آداب الحرب في الإسلام.

بقيادة الرسول عبد المصطفى

عدم النشوة - عدم حرص الروح

(أ) اكتب كلمة (صواب) أمام العبارة الصحيحة، وكلمة (خطأ) أمام العبارة غير الصحيحة، مع التصويب :

(١) توفيت أم الرسول ﷺ وهو في السادسة من عمره.

(٢) أنجبت السيدة خديجة من الرسول ﷺ بنتين وأربعة أولاد. العكس (X)

(٣) المؤاخاة بين المهاجرين والأنصار كانت هي الركن الثاني من أركان

بناء الدولة الإسلامية.

(✓)

(٤) توفي الخليفة أبو بكر الصديق وعمره ستون عامًا. ٦٣ (X)

٥) قتل الخليفة عثمان بن عفان نتيجة فتنة تزعمها عبدالله بن سبأ.

(ب) «الخليفة على بن أبي طالب بن عبدالمطلب الهاشمي القرشي ابن عم الرسول ﷺ ولد

بمكة ونشأ وتربى في بيت الرسول ﷺ فكان له القدوة الصالحة والمثل الأعلى.

في ضوء هذه العبارة، وضح: (ج) نظم الشرطة

(١) أهم أعمال الخليفة على بن أبي طالب. عندما نام في ضراسه الرسول يوم

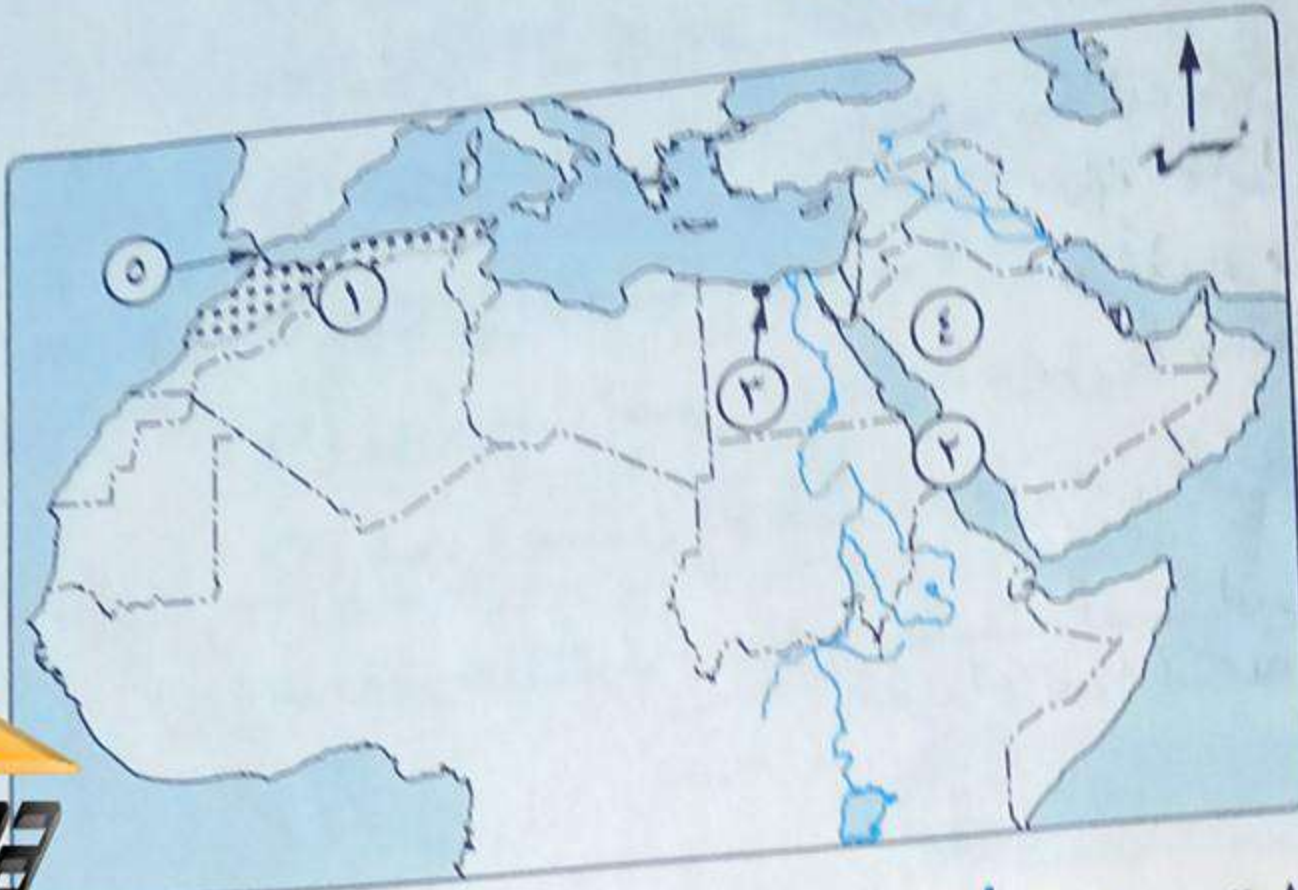
(٢) كيف كان على بن أبي طالب أول فدائي في الإسلام. لجميع المسلمين

(٣) من هما سيدا شباب أهل الجنة. الحسرة الحسرة



أولاً الجغرافيا

البيان الأسئلة الآتية:



(أ) أمامك خريطة للوطن العربي.

اكتب في كراسة اجابتك مدلول

الأرقام الموضحة عليها.

(١) إقليم متاخى بحر متوسط

(٢) البحر الأحمر

(٣) مدينة ساحلية ترتفع فيها

كثافة السكان الكثيرة

(٤) دولة لديها زيادة فى الموارد الاقتصادية لبحرية (٥) مضيق جبل طارق

(ب) فى أى الدول العربية يوجد الآتى ... ؟

(١) كنيسة المهد. فلسطين

(٢) نهر الليطاني. لبنان

(٣) مدينة سبته. المغرب

(٤) واحة الكفرة. ليبيا

(ج) بم تفسر ... ؟

(١) تأثر كمية المطر باتجاه الكتل الجبلية. منطقة ظل المطر - مثل جبال الأطلس

(٢) اهتمام البلاد العربية بالتعليم. نعمل الحكومة على تحسين لعماله ونكافؤ الفرص فى التعليم

(أ) اكتب المصطلح الجغرافى الدال على كل مما يأتى :

(١) الأهمية وقت الحروب والأزمات والسلام. الأهمية الاستراتيجية

(٢) زيادة عدد السكان خلال فترة زمنية معينة. النمو السكاني

(٣) نسبة عدد السكان إلى المساحة التى يقيمون عليها. الكثافة السكانية

(٤) منطقة تنشأ حول المدن دون تخطيط وتفتقر للمرافق والخدمات. المناطق العشوائية

(٥) عدد الأفراد فى سن العمل والقادرين عليه سواء كانوا يعملون أو يبحثون عن عمل. قوة العمل

(ب) قارن بين : الإقليم الإدارى، والإقليم الصحراوى، من حيث

الخصائص المناخية. الخصائص النباتية. صحراوي - شتوي

(ج) أعط دليلاً جغرافياً على : الخصائص المناخية. الخصائص النباتية. صحراوي - شتوي

تأثر توزيع السكان فى الوطن العربى بالأنشطة الاقتصادية التى يمارسها السكان. الخصائص المناخية. الخصائص النباتية. صحراوي - شتوي

تأثر توزيع السكان فى الوطن العربى بالأنشطة الاقتصادية التى يمارسها السكان. الخصائص المناخية. الخصائص النباتية. صحراوي - شتوي

تأثر توزيع السكان فى الوطن العربى بالأنشطة الاقتصادية التى يمارسها السكان. الخصائص المناخية. الخصائص النباتية. صحراوي - شتوي

تأثر توزيع السكان فى الوطن العربى بالأنشطة الاقتصادية التى يمارسها السكان. الخصائص المناخية. الخصائص النباتية. صحراوي - شتوي

تأثر توزيع السكان فى الوطن العربى بالأنشطة الاقتصادية التى يمارسها السكان. الخصائص المناخية. الخصائص النباتية. صحراوي - شتوي

٣ (١) اكتب كلمة (صواب) أمام العبارة الصحيحة، وكلمة (خطأ) أمام العبارة غير الصحيحة.

مع التصويب :

- (١) تنحصر هضبة الشطوط بين جبال انكسارية. المستوي (X)
 (٢) تنمو الساقانا في جنوب الوطن العربي ويربى عليها الأغنام والماعز. (X)
 (٣) يتركز السكان في المناطق ذات المناخ المعتدل والمطر. (✓)
 (٤) تسعى حكومات الدول العربية لتوطين سكان الصحارى. (✓)



(ب) ما النتائج المترتبة على ... ؟

- (١) تعرض أراضي الوطن العربي للاستعمار الأوروبي. من الجبال إلى دول حوض البحر المتوسط
 (٢) هجرة سكان الوطن العربي من الريف إلى المدن. من الجبال إلى المدن
 (ج) ما مقترحاتك : علاج المشكلة السكانية في الوطن العربي ؟ توزيع السكان على المناطق المختلفة - إنشاء مزارع - إنشاء مناطق سكنية

ثانياً التاريخ

٤ (١) اختر الإجابة الصحيحة مما بين القوسين :

- (١) من الممالك التي قامت في شمال شبه الجزيرة العربية قبل الإسلام
 (معين - الغساسنة - سبأ - حمير)
 (٢) بدأت في السنة الثالثة من البعثة النبوية مرحلة الدعوة
 (السرية - العالمية - الجهرية بدون مواجهة - مواجهة المعتدين)
 (٣) أرسله الرسول ﷺ أول سفير في الإسلام إلى يثرب
 (خالد بن الوليد - أسامة بن زيد - عثمان بن عفان - مصعب بن عمير)
 (٤) كانت عاصمة مصر أثناء الحكم الروماني مدينة
 (القاهرة - الإسكندرية - الفرما - بلييس)

(ب) دلل تاريخياً على صحة العبارات التالية : مكة للحكم - دار للصياره - مركز لتعليم القرآن

- (١) كان للمسجد أهمية كبيرة في بناء الدولة الإسلامية. حيث أن الدواوين كانت في المسجد
 (٢) نجح عمر بن الخطاب رضى الله عنه في تنظيم الدولة الإسلامية. حيث أنه لم يتركها في أيدي الأمويين
 (٣) كان لعثمان بن عفان رضى الله عنه جهود كبيرة في نشر الإسلام. حيث فتح من توعوا وعلموا بلاد

(ج) ما الدروس المستفادة من : هجرة النبي ﷺ إلى يثرب ؟ محبته من قبل يثريين - وأمر ببيعة

٥ (١) لمن تنسب الأعمال التالية ... ؟

- (١) طمأنت النبي ﷺ بعد نزول الوحي وساندته في دعوته. السيرة هزريه
 (٢) تولى إمامة المسلمين في الصلاة أثناء مرض الرسول ﷺ. أبو بكر الصديق

(٣) تولى كتابة القرآن الكريم في مصحف واحد بتكليف من عثمان بن عفان رضي الله عنه.
 (٤) نقل مقر الخلافة من المدينة إلى الكوفة. على يد أبي طالب.

(ب) بم تفسر ... ؟ (١) رحلة النبي صلى الله عليه وسلم إلى الطائف. (٢) خروج المسلمين بقيادة النبي صلى الله عليه وسلم لفتح مكة. (٣) اهتمام المسلمون بإنشاء أسطول حربي. (ج) ماذا كان يحدث إذا : أطاع الرماة أوامر الرسول صلى الله عليه وسلم في غزوة أحد ؟ لم ينجح في غزوة أحد ؟ لم ينجح في غزوة أحد ؟

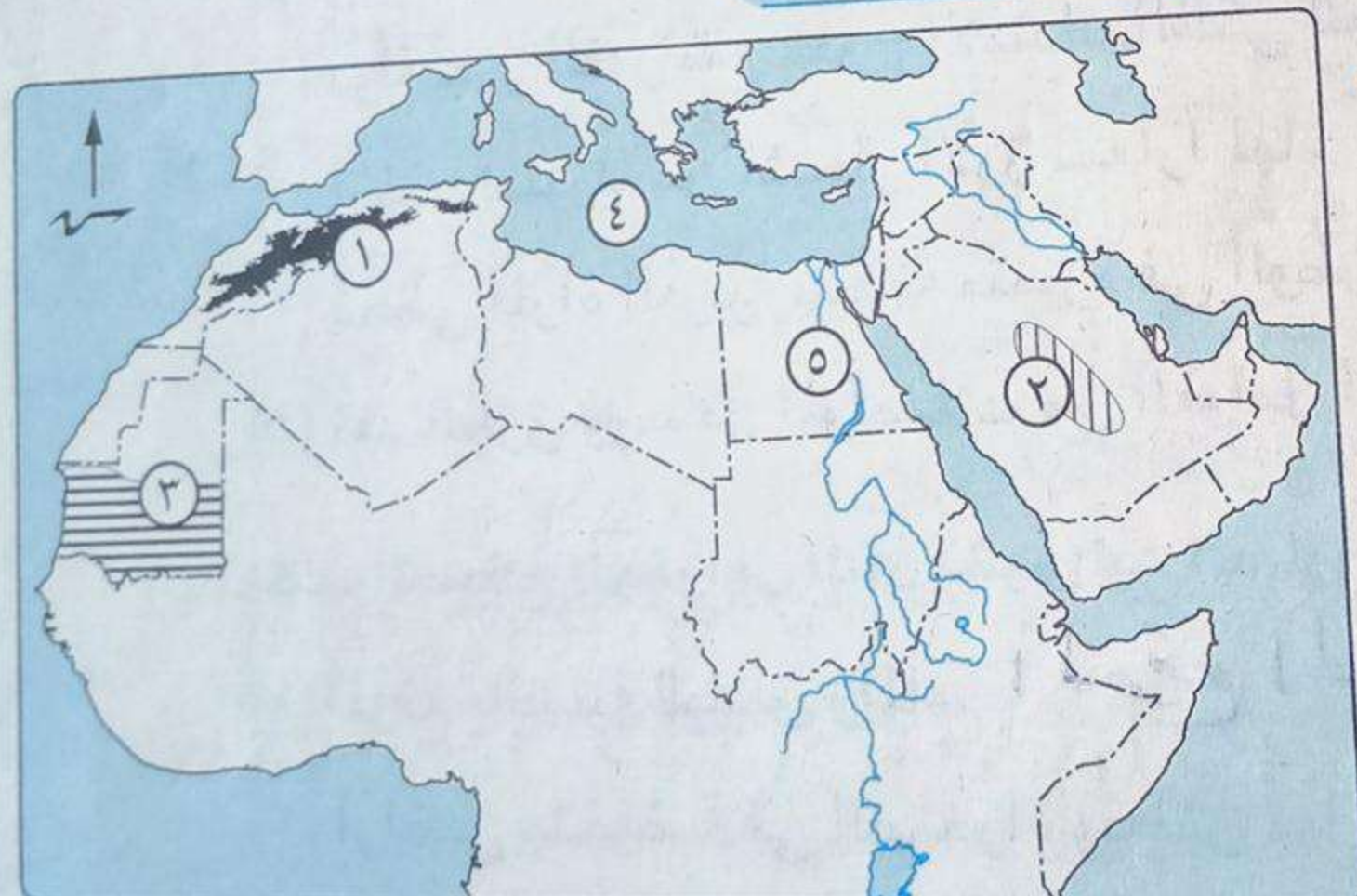
(١) ما المقصود بالمصطلحات التاريخية التالية ... ؟
 (٢) السرايا. (ج) ما النتائج التي تترتب على ... ؟
 (١) اشتغال النبي صلى الله عليه وسلم بحرفة الرعي. (٢) اجتماع المهاجرين والأنصار في سقيفة بني ساعدة. (٣) معركة القادسية عام ١٥ هـ. (ج) ما رأيك في : إعطاء عمر بن الخطاب رضي الله عنه لأهل بيت المقدس أماناً على أنفسهم ؟ لم ينجح في غزوة أحد ؟ لم ينجح في غزوة أحد ؟

إدارة العرش التعليمية

محافظة شمال سيناء



أولاً الجغرافيا



أجب عن الأسئلة الآتية:

- (١) أمامك خريطة للوطن العربي، وضع عليها مدلول الأرقام :
 (١) جبال الأطلس
 (٢) هضبة الجبل
 (٣) الإقليم الجبلي
 (٤) البحر المتوسط
 (٥) نهر النيل

(ب) ما النتائج المترتبة على ... ؟
 (١) تعرض الوطن العربي للاستعمار الأوروبي. (٢) الهجرة من الريف إلى المدن. (٣) تحكم الوطن العربي في عدد من الممرات المائية. (ج) ماذا يحدث إذا : توازن سكان الوطن العربي مع موارده الاقتصادية ؟ لم ينجح في غزوة أحد ؟ لم ينجح في غزوة أحد ؟

(١) اختر الإجابة الصحيحة مما بين القوسين :

- (١) تعاني دولة من نقص سكاني وفائض في الموارد.
(مصر - الكويت - لبنان - سوريا)
- (٢) يصل مضيق بين المحيط الهندي والبحر الأحمر.
(هرمز - جبل طارق - باب المندب - ماجلان)
- (٣) تنمو أشجار في الإقليم المداري. (السنط - البلوط - الصبار - الأرز)
- (٤) تكونت جبال نتيجة الحركات الانكسارية للأرض.
(البحر الأحمر - كردستان - أطلس - عُمان)

مصر لبريانيا
الساوية لبريانيا
المروية لبريانيا
وهو لبريانيا
المندرية لبريانيا

(ب) بم تفسر ... ؟
(١) تعد حشائش السافانا حديقة حيوان طبيعية. الفضل السود والصناع - وكرز
(٢) ارتفاع نسبة الإعالة في الوطن العربي. ارتفاع سطحها السطح
(٣) الأهمية الدينية للوطن العربي. السطح السطح السطح
(ج) إلى أي الأقاليم المناخية تنتمي كل مدينة مما يأتي ... ؟ (١) الرياض. (٢) بيروت. (٣) بيروت

(١) اكتب كلمة (صواب) أمام العبارة الصحيحة، وكلمة (خطأ) أمام العبارة غير الصحيحة.

- مع التصويب :
- (١) دولة جزر القمر تقع خارج الامتداد الفلكي للوطن العربي. (✓)
- (٢) اتخذت سوريا من أشجار الأرز شعاراً لها. لبنان (X)
- (٣) تحظى المرأة العربية بمكانة متميزة في الوطن العربي. (✓)
- (٤) تُعد الطرق ووسائل المواصلات من العوامل التي تجذب السكان. (✓)

(ب) اكتب المصطلح الجغرافي الذي تشير إليه العبارات الآتية :

- (١) الموقع بالنسبة لليابس والماء. الموقع الحضري
- (٢) أراضي منخفضة في الصحراء ويعيش بها السكان. الواحات
- (٣) الزيادة السكانية الناتجة عن الفرق بين معدل المواليد والوفيات. الزيادة الطبيعية

(ج) أين تقع كل ظاهرة من الظواهر الجغرافية الآتية ... ؟

- (١) نهر دجلة. العراق
- (٢) واحة سيوة. مصر
- (٣) هضبة الشطوط. الجزائر
- (٤) جبال البحر الأحمر. مصر وليبيا

ثانياً التاريخ

(أ) من تنسب الأعمال الآتية ... ؟

- (١) حاول هدم الكعبة عام ٥٧٠ م. *أبو ربيعة الجبلي*
- (٢) انتصر على الفرس في معركة القادسية. *عمر بن الخطاب*
- (٣) أرسل جيش أسامة بن زيد لقتال الروم. *أبو بكر الصديق*
- (٤) أول سفير في الإسلام. *عصبة بن عكر*
- (٥) نقل مقر الخلافة الإسلامية إلى الكوفة بالعراق. *علي بن أبي طالب*
- (٦) دليل الرسول ﷺ في الهجرة. *عبد الله بن أبي ربيعة*

(ب) رتب الأحداث التاريخية الآتية من الأقدم إلى الأحدث :

- * بيعة العقبة الثانية (١)
- * صلح الحديبية (٣)
- * معركة القادسية (٤)
- * الهجرة إلى الحبشة (٥)

(ج) وضع : أهمية دور المسجد في بناء الدولة الإسلامية. *مركز الحكم - دار للعبادة*

(أ) أكمل العبارات الآتية بالكلمة المناسبة مما بين القوسين :

(عمر بن الخطاب - عثمان بن عفان - سعد بن أبي وقاص - النعمان بن مقرن - اليمن - ثور - حراء)

(١) ثالث الخلفاء الراشدين *عمر بن الخطاب* وهو أحد العشرة المبشرين بالجنة.

(٢) قائد معركة نهاوند التي أنهت دولة الفرس هو القائد *البيضاء بن عمرو*

(٣) كان الرسول ﷺ يتعبد في غار *حراء*

(٤) قام أهل مكة برحلة الشتاء إلى *البحرين*

(ب) دلل تاريخياً على صحة العبارات الآتية :

(١) تسبب الرماة في تحويل الهزيمة إلى نصر في غزوة أحد ٣ هـ.

(٢) قام عمر بن الخطاب بإنشاء العديد من المدن الإسلامية. *حيثما أرباباً شاء البصره والكوفة بالعراق والمطاط بمصر*

(٣) يُطلق على (علي بن أبي طالب) أول فدائي في الإسلام. *لقد نام في فراش الرسول يوم الهجرة*

(ج) ما المقصود بالمصطلح التاريخي الآتي : الخلافة ؟

(أ) «إنك إن فتحتها كانت قوة للمسلمين». *في ضوء هذه العبارة وضع ما يأتي بالحسين عليه السلام*

(١) من قائل هذه العبارة ؟ ولمن قالها ؟ *عمر بن الخطاب - عمر بن الخطاب*

(٢) ما البلد التي تشير إليها العبارة ؟ *مصر*

(ب) صوب ما تحته خط :

- (١) استغرقت مرحلة الدعوة السرية خمس سنوات. تمت سنوات
- (٢) تم جمع القرآن في عهد الخليفة عثمان بن عفان. ابو بكر الصديق
- (٣) تسمى المعارك التي خاضها المسلمون بقيادة الرسول ﷺ بالسرايا. الغزوات
- (٤) خضعت مصر لحكم الفرس قبل ظهور الإسلام. الرومان
- (ج) ماذا كان يحدث إذا ... ؟ كما كان الدعوة السرية سوف تكون سبب لغزها ومجربها
- (١) رحبت قريش بالدعوة الإسلامية. ولم يهاجروا رسول الله ﷺ إلى المدينة
- (٢) فشل المسلمون في بناء أسطول بحري حربي. لم يتم بناء أسطول بحري حربي

إدارة سفاجا التعليمية

٢٥

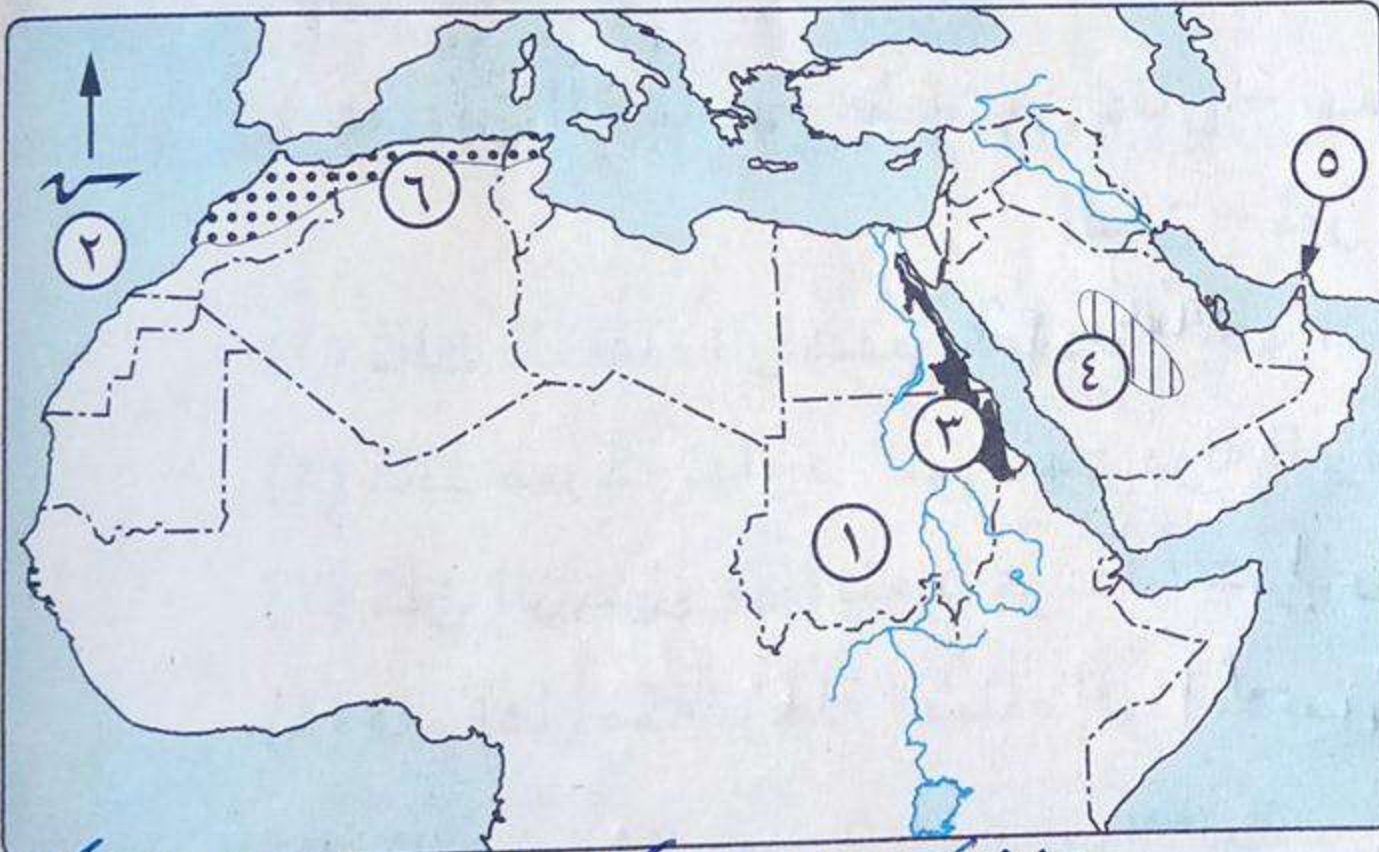
محافظة البحر الأحمر

ghobashy

أولاً الجغرافيا

أجب عن الأسئلة الآتية:

(١) أمامك خريطة للوطن العربي، اكتب مدلول الأرقام الموقعة عليها :



- (١) دولة السودان
- (٢) المحيط الأطلسي
- (٣) جبال البحر الأحمر
- (٤) هضبة نجد
- (٥) مضيق جبل طارق
- (٦) إقليم مناخي بحر متوسط

(ب) ما النتائج المترتبة على ... ؟

- (١) الهجرة المستمرة من الريف إلى المدن. تساقص عدد سكان الريف وتزايد سكان المدن
- (٢) قيام الصراعات والحروب في بعض الدول العربية. قله عدد السكان حيث تقل
- (ج) إلى أي إقليم مناخي ينتمي كل نبات طبيعي مما يأتي ... ؟
- (١) أشجار السنط. الحمري (٢) الصبار. الصحراوي

(١) اكتب المصطلح الجغرافي الذي تشير إليه كل عبارة من العبارات الآتية :

- (١) زيادة عدد السكان خلال فترة زمنية معينة. حجم السكان
- (٢) حشائش تنمو بين إقليم البحر المتوسط والإقليم الصحراوي تزدهر شتاءً وتجف صيفاً. الحشائش

(٣) سكان الصحارى الذين يعيشون حياة تنقل وترحال بحثاً عن العشب والماء. البدر والرحيل
(٤) دولة عربية تقع بأكملها في المحيط الهندي جنوب دائرة الاستواء. صحرى القفر

(ب) بم تفسر ... ؟ (١) الأهمية الحضارية للوطن العربى. ^{حيثما كان على أرضه لصيرته حضارة}
(٢) ارتفاع نسبة الإغالة فى الوطن العربى. ^{حيثما كان على أرضه لصيرته حضارة}
(٣) تخطى الثلوج قمم بعض الجبال فى الوطن العربى. ^{حيثما كان على أرضه لصيرته حضارة}
(٤) انخفاض معدل الوفيات فى الوطن العربى. ^{حيثما كان على أرضه لصيرته حضارة}

(١) اكتب كلمة (صواب) أمام العبارة الصحيحة، وكلمة (خطأ) أمام العبارة غير الصحيحة.
(١) تتميز المناطق القارية باعتدال المناخ وسقوط الأمطار.

- (٢) يعمل سكان الريف بالزراعة وتربية الحيوانات وهم فى تزايد مستمر. (X)
- (٣) تعد سهول البحر المتوسط من السهول الساحلية الصالحة للزراعة. (X)
- (٤) تعاني دولة الكويت من زيادة فى عدد السكان ونقص فى الموارد الاقتصادية. (✓)
- (٥) من المدن العربية التى لم تحصل على استقلالها مدينة سبتة بالمغرب. (X)

(ب) أين تقع الظواهرات الجغرافية الآتية ... ؟

سوريا → (١) نهر العاصى. (٢) وادى العلاقى. (٣) واحة الكفرة. (٤) هضبة الشطوط. الجزائر
(ج) ما العلاقة بين : المناخ، وتوزيع السكان ؟
حيثما كان على أرضه لصيرته حضارة

ثانياً التاريخ



(١) أكمل العبارات الآتية بما يناسبها مما بين القوسين :

- (عامر بن فهيرة - الأوس - الروم - خالد بن الوليد - بنى قريظة - ثقيف -
- أحد - عبدالله بن أبى بكر - أسامة بن زيد - بنى النضير - بدر)
- (١) ذهب الرسول ﷺ إلى الطائف ليلتمس النصرة من قبيلة ثقف بعد وفاة عمه وزوجته.
- (٢) احتلت دولة الروم بعض البلاد العربية مثل مصر والشام قبل الإسلام.
- (٣) كلف الرسول ﷺ عبد الله بن مسعود بتتبع أخبار قريش عند الهجرة.
- (٤) كان أول عمل قام به أبو بكر الصديق رضي الله عنه هو إرسال جيش سريته لأمير المؤمنين.
- لأمر الرسول ﷺ.
- (٥) شارك سيدنا عثمان بن عفان رضي الله عنه فى كل غزوات الرسول ﷺ عدا غزوة بيداء.
- (٦) بعد انتهاء غزوة الخندق حاصر الرسول ﷺ يهود بني نضير وأمر بإخراجهم من المدينة لخيانتهم للعهد.

هي عمره وعمره الرسول صلى الله عليه وسلم فخرها

عبارة الله على

دس سينا (ب) ما المقصود بالمصطلحات التاريخية الآتية ... ؟

أبراهيم الأعمام (أ) الحنيفة.

(٢) الخوارج.

(٣) السرية.

بإله الواسد واليوم الأرض فخره محمد بن علي رضي الله عنهما وخارجه فخره

٥ (أ) من تنسب الأعمال الآتية ... ؟

(١) أول سفير في الإسلام. مصعب بن عمير

(٢) حاول هدم الكعبة ٥٧٠م بجيش يضم عدد من الفيلة. ابرهة الحبشي

(٣) قام بإنشاء الدواوين ونظام الحسبة. عمر بن الخطاب

(٤) أشار على الرسول ﷺ أن يعسكر المسلمون عند أدنى بئر من آبار بدر. خطاب بن بشر

(٥) فتح بلاد النوبة عام ٣١ هـ. عبد الله بن أبي السرح

(٦) نقل مقر الدولة الإسلامية من المدينة إلى الكوفة. عاصي بن أبي طالب

(ب) ما النتائج التي ترقبت على ... ؟

(١) استشهاد الكثير من حفظة القرآن في حروب الردة.

(٢) معركة القادسية ١٥ هـ. انتصار المسلمين. خروج لفرس. فتح رستم

(٣) الفتوحات الإسلامية في عهد عثمان بن عفان رضى الله عنه. تأميم حدود الدولة الإسلامية

سما لا هي الرعية. عربا اخر رعية. حبشيا هي بلاد النوبة

٦ (أ) صوب ما تحته خط في العبارات الآتية : الجبهة

(١) أمر الرسول ﷺ أصحابه بالهجرة إلى اليمن لأن بها ملك عادل لا يظلم عنده أحد.

(٢) أصبحت مصر ولاية إسلامية بعد سقوط مدينة الفسطاط عاصمة مصر أثناء

الحكم الروماني عام ٢١ هـ. الإسكندرية

(٣) توفي والد الرسول ﷺ عبدالله بن عبد المطلب أثناء عودته من بلاد العراق. مبرور

(٤) كان عمر بن الخطاب رضى الله عنه إماماً للمسلمين في الصلاة أثناء مرض الرسول ﷺ.

(٥) اختبأ الرسول ﷺ وأبو بكر الصديق رضى الله عنه في غار حراء ثلاث ليال عند الهجرة.

(ب) دلل تاريخياً على صحة كل عبارة من العبارات الآتية : حبس عام فكانه الرسول يوم

إلى ملوكة وروحاء (أ) كان على بن أبي طالب رضى الله عنه أول فدائي في الإسلام. الحجرة لجميع المسلمين

(٢) كان صلح الحديبية ٦ هـ فتحاً مبيناً للمسلمين.

(ج) ما رأيك في : موقف الخليفة عمر بن الخطاب رضى الله عنه عندما تسلم بيت المقدس ؟