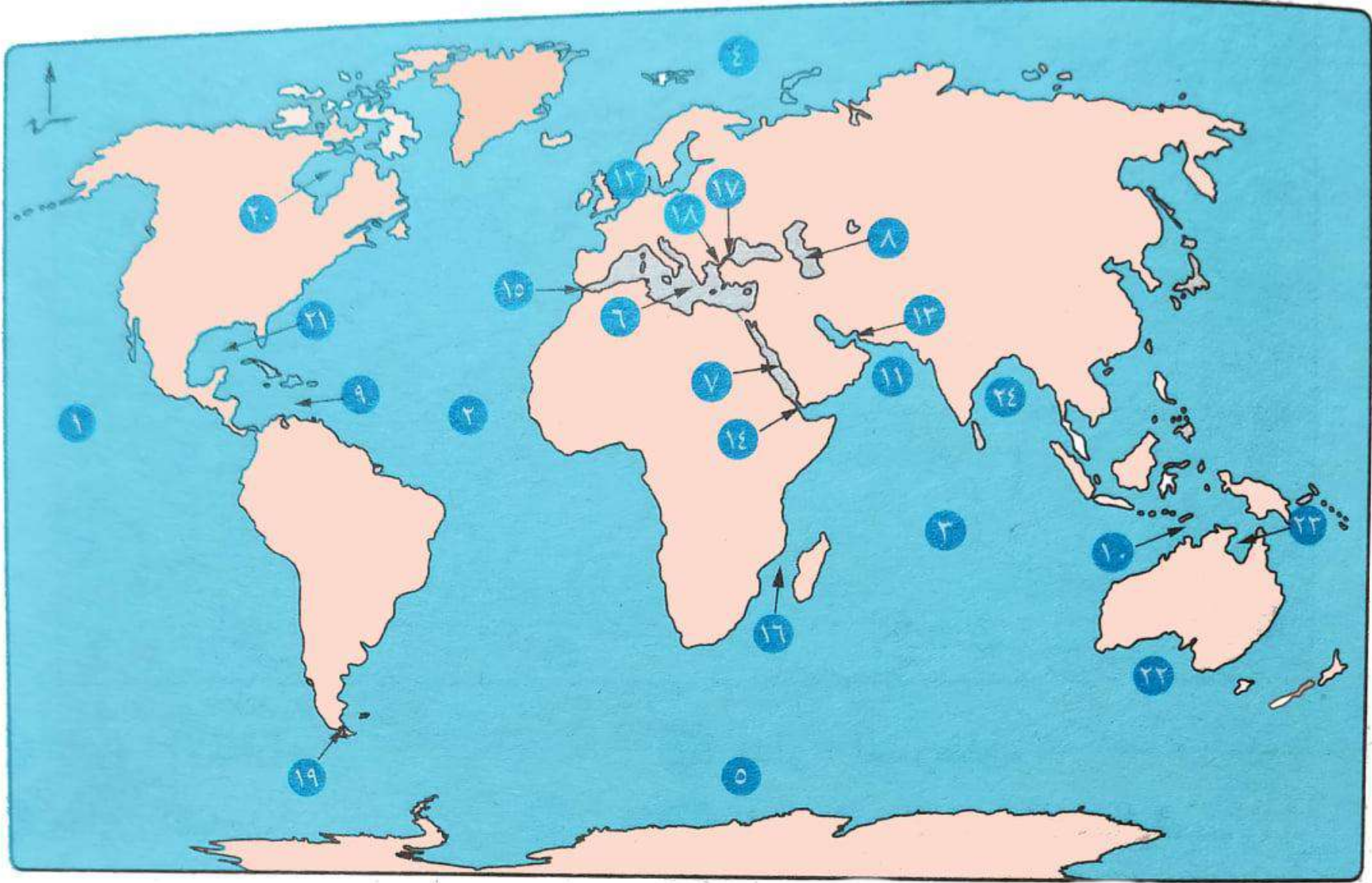


أمامك مجموعة خرائط، اكتب ما تدل عليه الأرقام ...

العالم (محيطات - بحار - مضائق - خلجان)

١

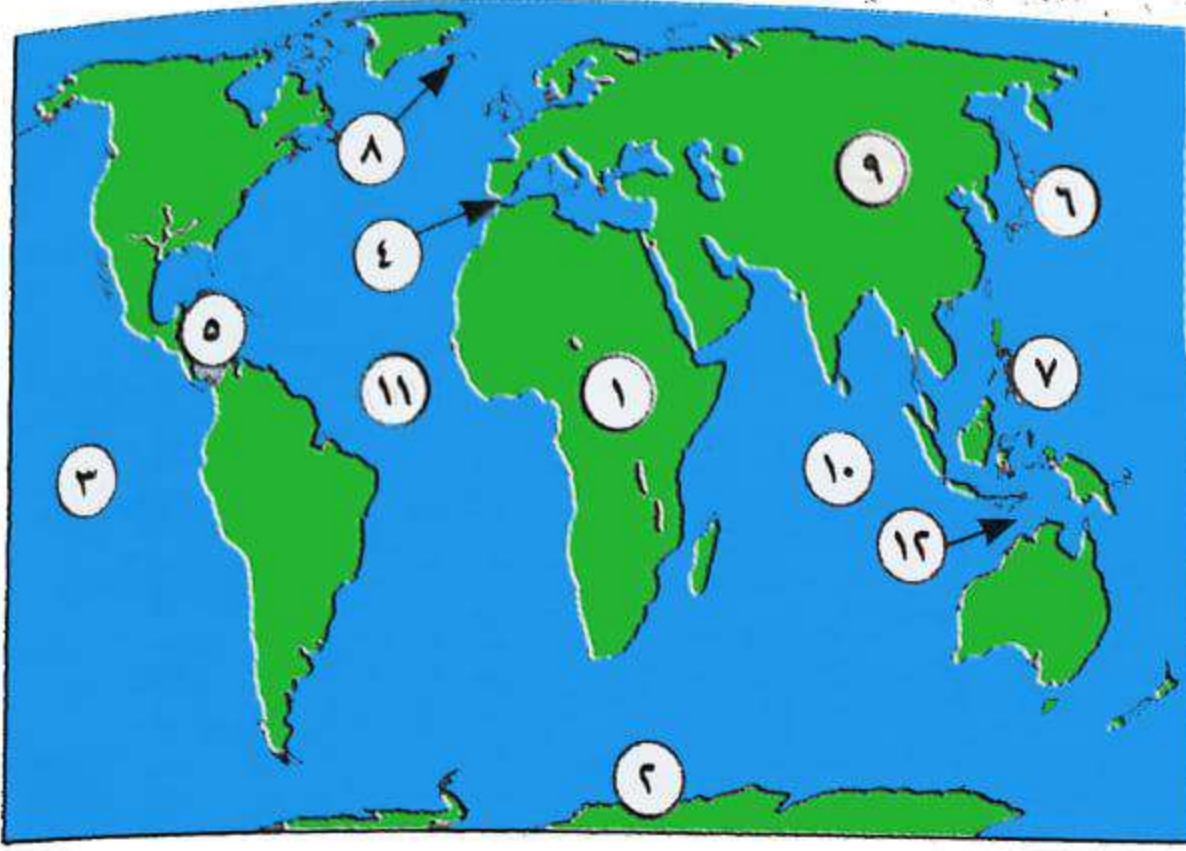


- ٢ المحيط : الأطلسي.
- ٤ المحيط : القطبي الشمالي.
- ٦ البحر : المتوسط.
- ٨ بحر : قزوين.
- ١٠ بحر : أرافورا.
- ١٢ بحر : الشمال.
- ١٤ مضيق : باب المندب.
- ١٦ مضيق : موزمبيق.
- ١٨ مضيق : الدردنيل.
- ٢٠ خليج : هدسن.
- ٢٢ الخليج : الأسترالي الكبير.
- ٢٤ خليج : البنغال.



- ١ المحيط : الهادي.
- ٣ المحيط : الهندي.
- ٥ المحيط : القطبي الجنوبي.
- ٧ البحر : الأحمر.
- ٩ البحر : الكاريبي.
- ١١ البحر : العربي.
- ١٣ مضيق : هرمز.
- ١٥ مضيق : جبل طارق.
- ١٧ مضيق : البسفور.
- ١٩ مضيق : ماجلان.
- ٢١ خليج : المكسيك.
- ٢٣ خليج : كارينتاريا.

١ أمامك خريطة صماء للعالم. بين مدلول الأرقام التي عليها:



- ١- قارة (إفريقيا)
- ٢- قارة غير مأهولة بالسكان (أنتاركتيكا)
- ٣- المحيط (الهادي)
- ٤- مضيق (جبل طارق)
- ٥- البحر (الكاربي)
- ٦- جزر (اليابان)
- ٧- جزر (الفلبين)
- ٨- جزيرة (أيسلندا)
- ٩- أكبر قارات العالم مساحة (آسيا)
- ١٠- المحيط (الهندي)
- ١١- المحيط (الأطلسي)
- ١٢- بحر (أرافورا)

٩- أكبر قارات العالم مساحة (آسيا)

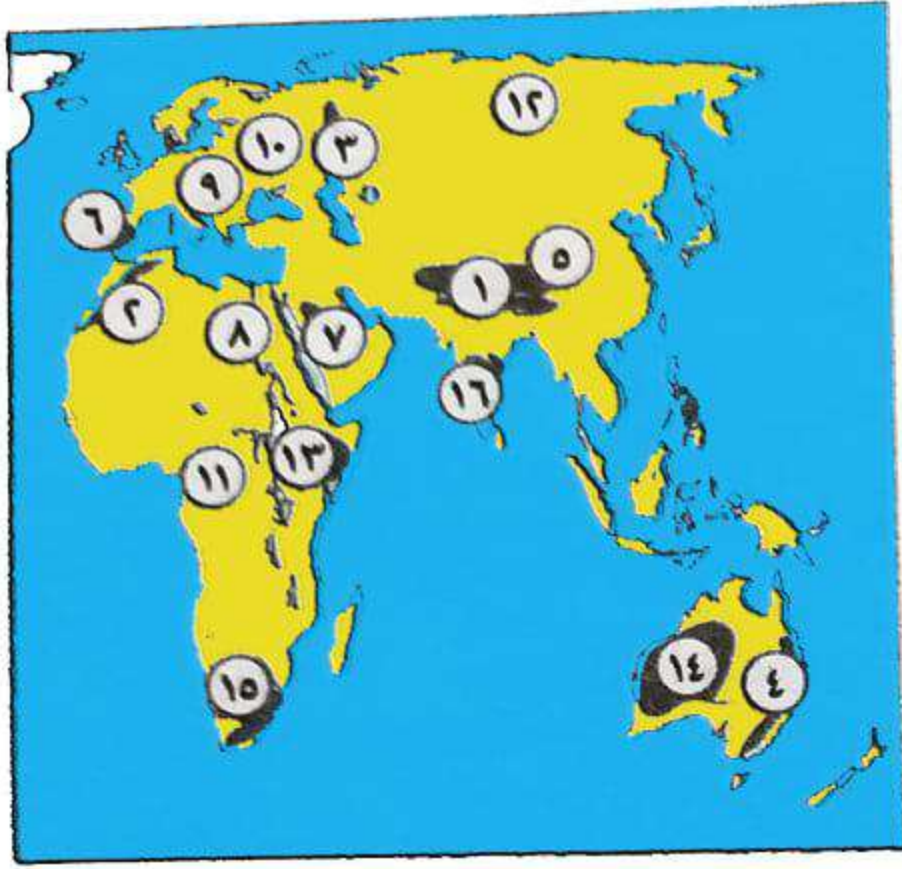
١١- المحيط (الأطلسي)

٢ أمامك خريطة قارتي أمريكا الشمالية والجنوبية. بين مدلول الأرقام التي عليها:



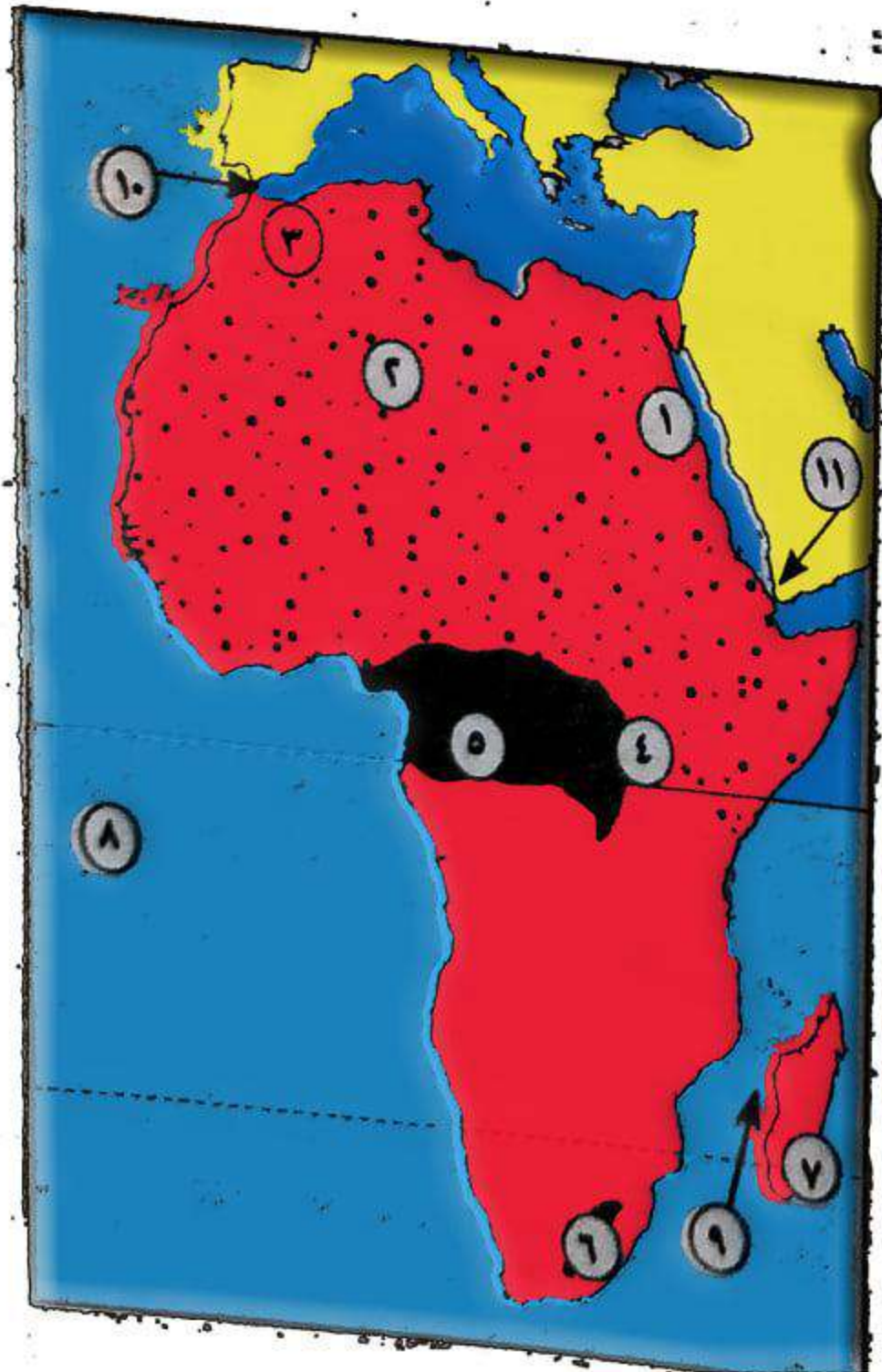
- ١- جبال (روكي)
- ٢- جبال (الأبلاش)
- ٣- جبال (الأنديز)
- ٤- هضبة (البرازيل)
- ٥- هضبة (لبرادور)
- ٦- هضبة (بتاجونيا)
- ٧- هضبة (المكسيك)
- ٨- نهر (نلسن)
- ٩- نهر (لابلاتا)
- ١٠- نهر (الأمزون)
- ١١- نهر (الأورينكو)

٣ أمامك خريطة صماء لقارات آسيا وإفريقيا وأوروبا وأستراليا. بين مدلول الأرقام التي عليها:



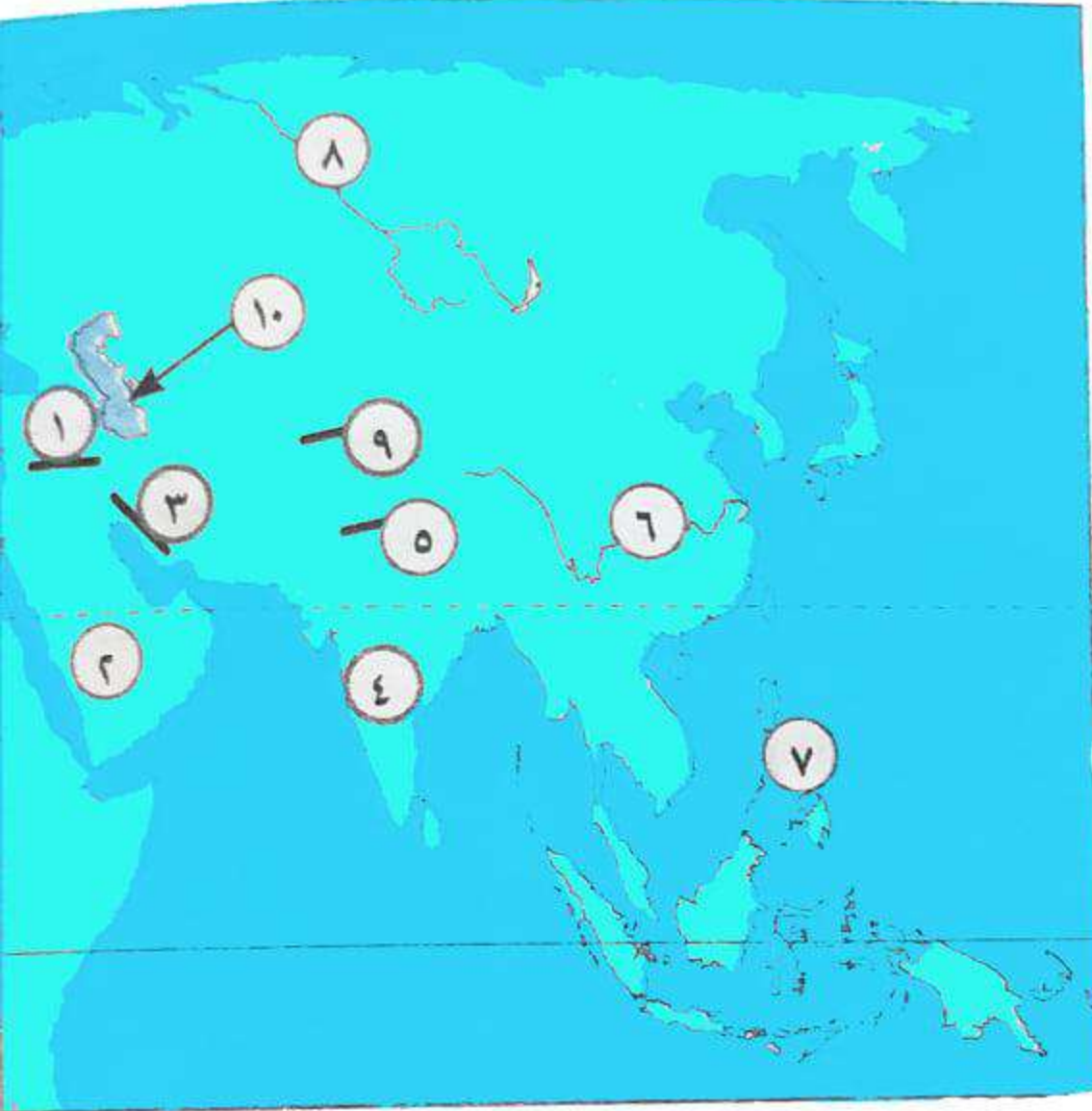
- | | |
|------------|-----------------------------|
| ١- جبال | (الهمالايا) |
| ٢- جبال | (أطلس) |
| ٣- جبال | (أورال) |
| ٤- جبال | (الحاجز الكبير) |
| ٥- هضبة | (التبت) |
| ٦- هضبة | (الميزيتا) |
| ٧- هضبة | (شبه الجزيرة العربية) |
| ٨- نهر | (النيل) |
| ٩- نهر | (الدانوب) |
| ١١- نهر | (الكونغو) |
| ١٣- هضبة | (الحبشة) |
| ١٥- جبال | (دراكنزبرج) |
| ١٠- نهر | (الفولجا) |
| ١٢- نهر | (لينا) |
| ١٤- الهضبة | (الغربية) |
| ١٦- هضبة | (الدكن) |

٤ أمامك خريطة صماء لإفريقيا. اكتب ما تدل عليه الأرقام:



- | | |
|------------|-----------------------------|
| ١- جبال | (البحر الأحمر) |
| ٢- مرتفعات | (الأحجار) |
| ٣- هضبة | (الشطوط) |
| ٤- هضبة | (البحيرات الاستوائية) |
| ٥- نهر | (الكونغو) |
| ٦- جبال | (دراكنزبرج) |
| ٧- جزيرة | (مدغشقر) |
| ٨- المحيط | (الأطلسي) |
| ٩- مضيق | (موزمبيق) |
| ١٠- مضيق | (جبل طارق) |
| ١١- مضيق | (باب المندب) |

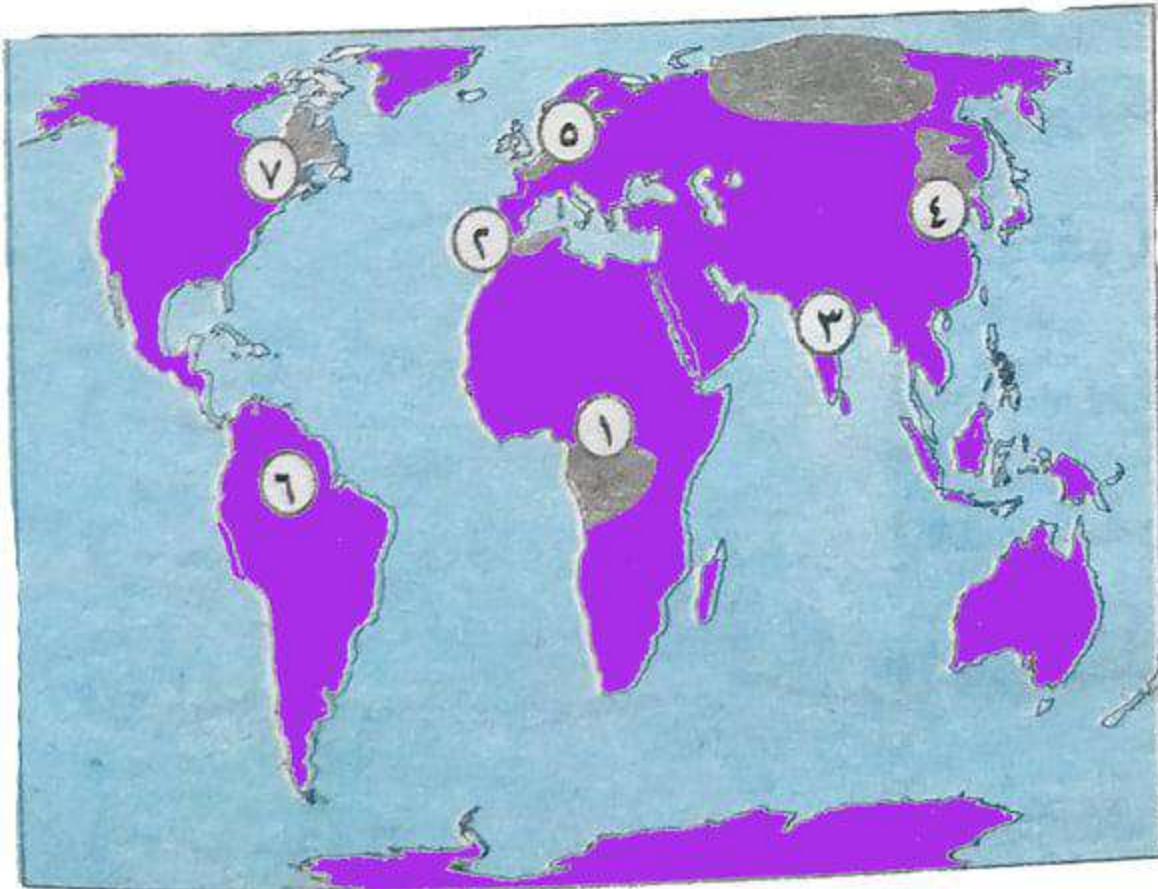
٥ أمامك خريطة صماء لآسيا. اكتب ما تدل عليه الأرقام:



Osama
ghobashy

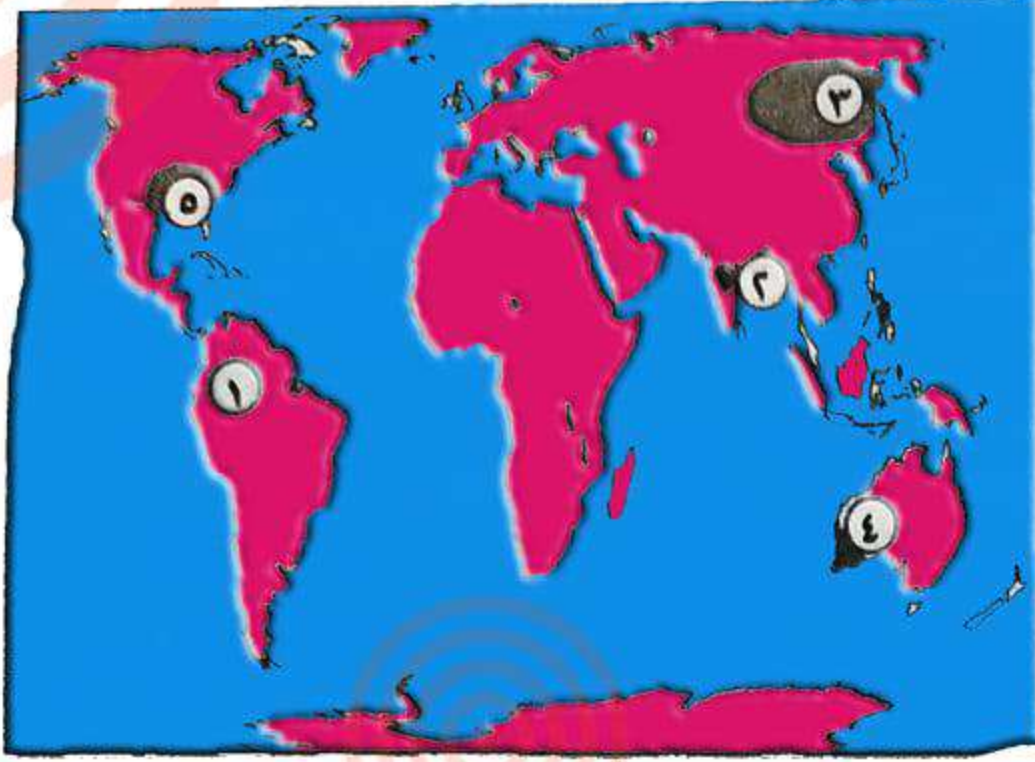
- ١- جبال (طوروس).
- ٢- هضبة (شبه الجزيرة العربية).
- ٣- جبال (زاجروس).
- ٤- هضبة (الدكن).
- ٥- جبال (الهيماالايا).
- ٦- نهر (اليانغتسى).
- ٧- جزر (الفلبين).
- ٨- نهر (ينسى).
- ٩- هضبة (التبت).
- ١٠- بحر (قزوين).

٦ أمامك خريطة صماء للعالم. اكتب ما تدل عليه الأرقام:



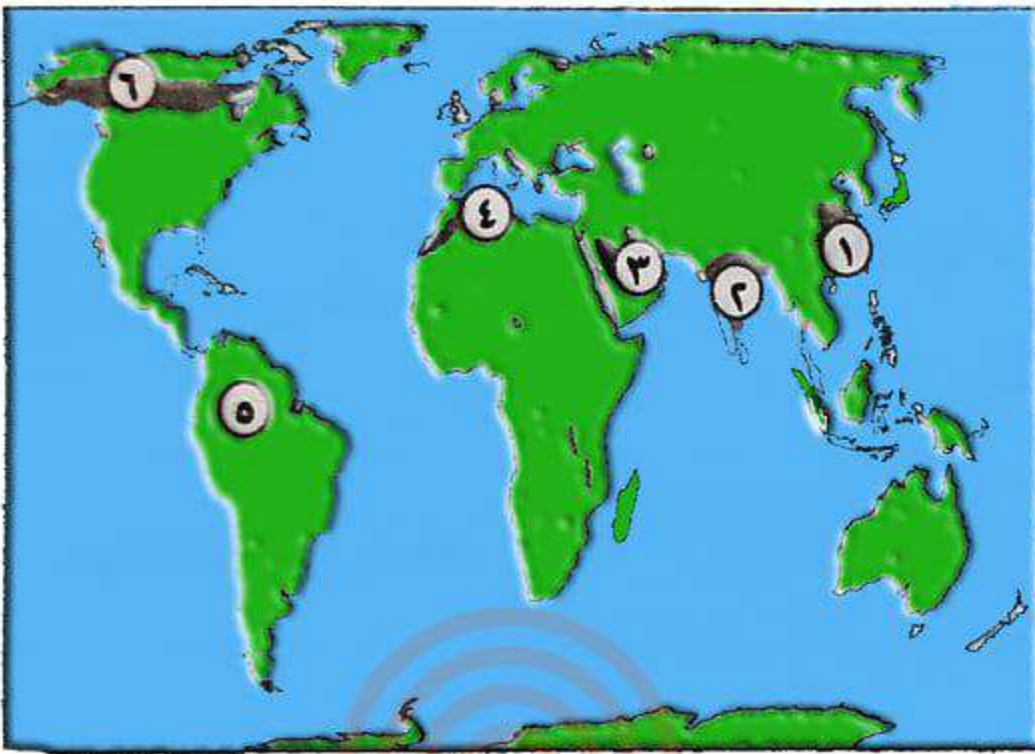
- ١- إقليم مناخى (الاستوائى).
- ٢- إقليم مناخى (البحر المتوسط).
- ٣- إقليم مناخى (الموسمى).
- ٤- إقليم مناخى (الصينى).
- ٥- إقليم مناخى (غرب أوربا).
- ٦- إقليم مناخى (المدارى).
- ٧- إقليم مناخى (المعتدل البارد).

٧ أمامك خريطة للعالم. اكتب ما تدل عليه الأرقام:



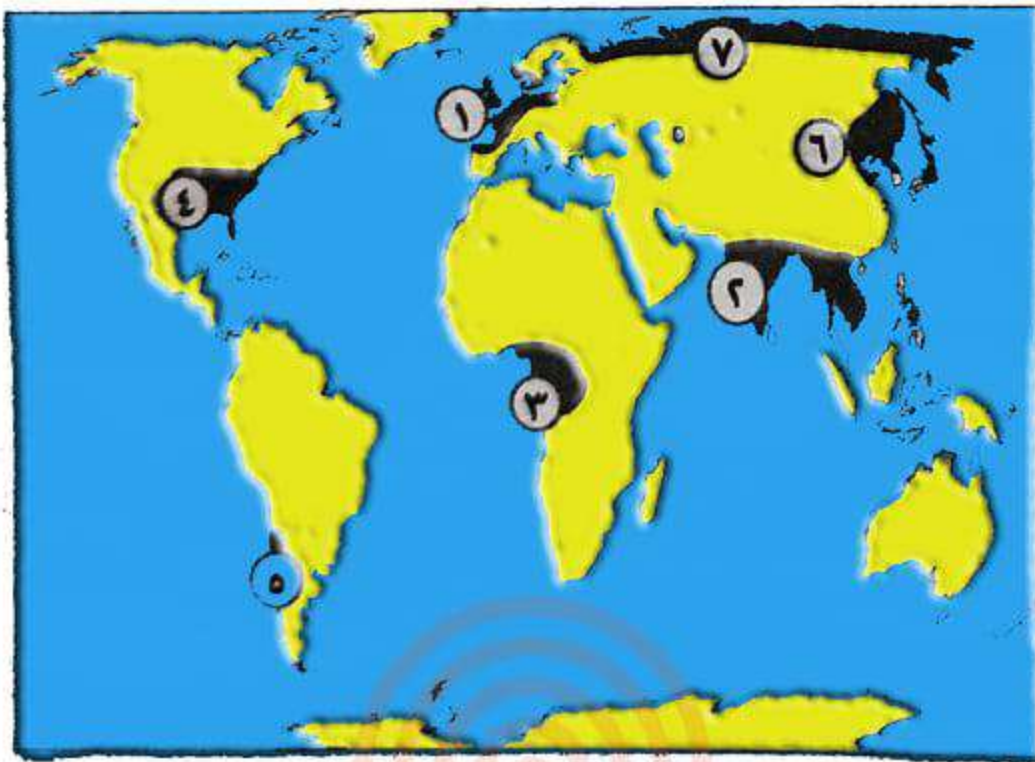
- ١- الغابات (الاستوائية).
- ٢- الغابات (الموسمية).
- ٣- الغابات (المحروطة).
- ٤- غابات (البحر المتوسط).
- ٥- حشائش (الإستبس أو البراري).

٨ أمامك خريطة صماء للعالم. اكتب ما تدل عليه الأرقام:

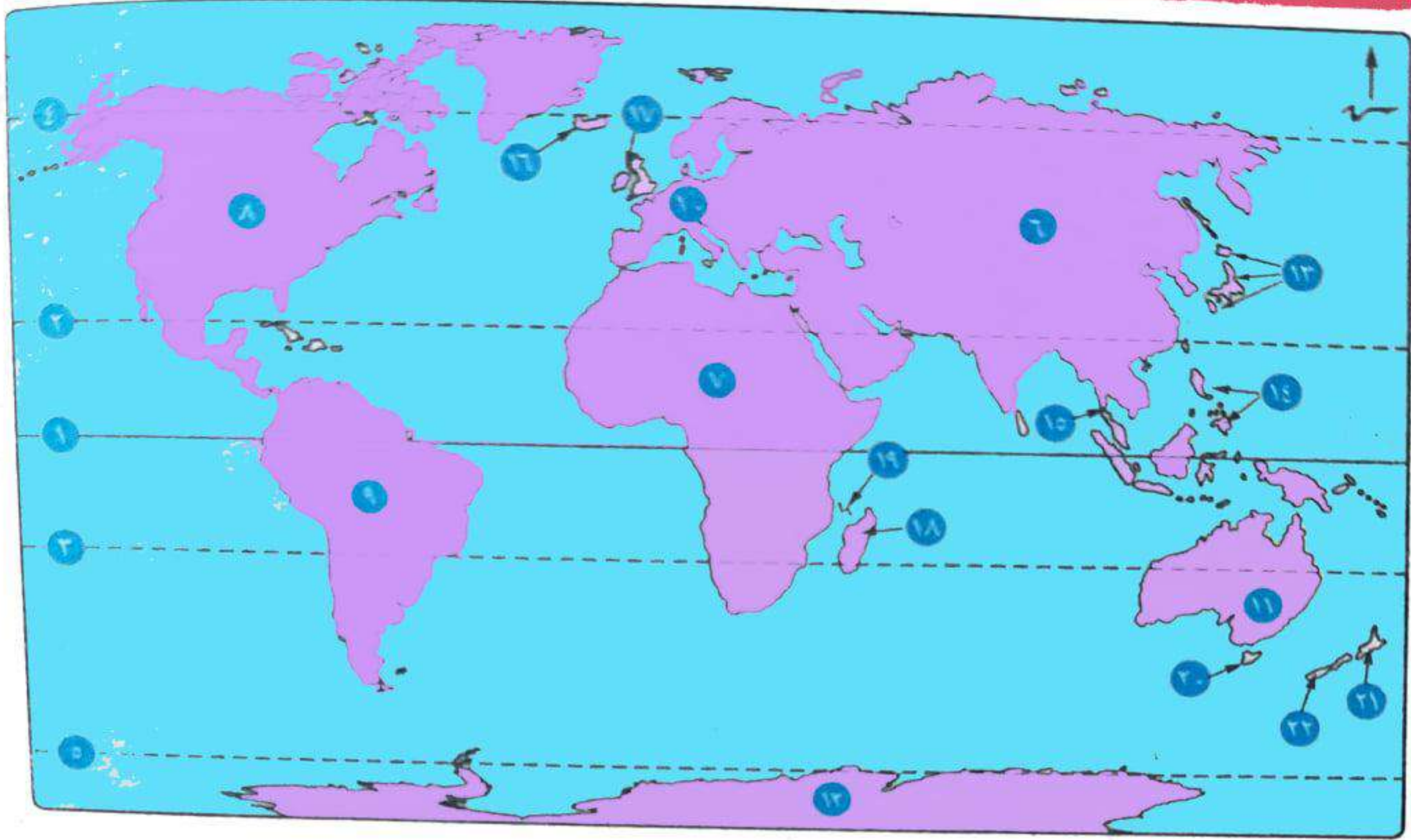


- ١- غابات (الإقليم الصيني).
- ٢- غابات (موسمية).
- ٣- صحراء (شبه الجزيرة العربية).
- ٤- غابات (البحر المتوسط).
- ٥- الغابات (الاستوائية).
- ٦- إقليم (مناخ التندرا).

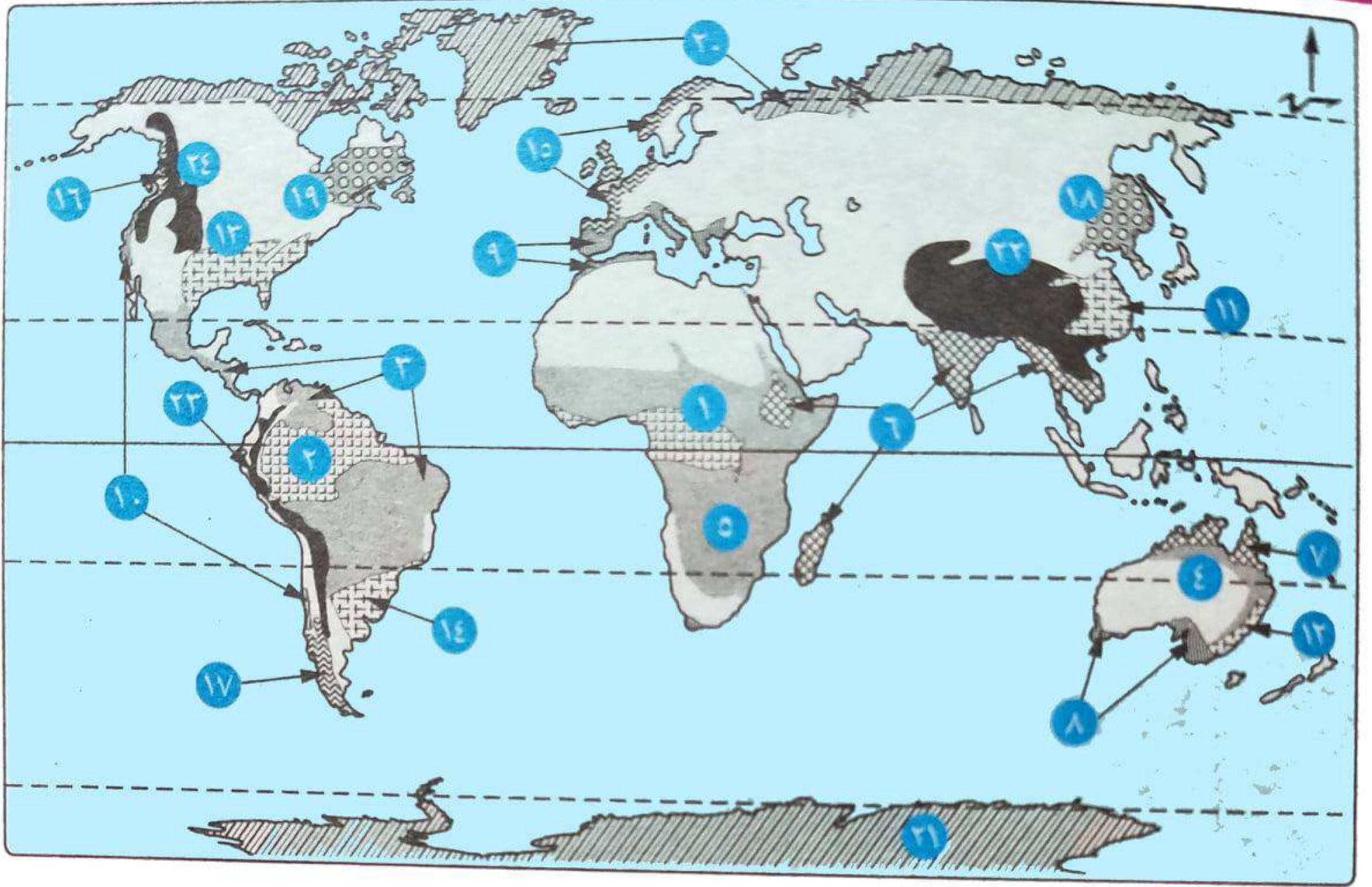
٩ أمامك خريطة صماء للعالم. اكتب ما تدل عليه الأرقام:



- ١- إقليم مناخي (غرب أوروبا).
- ٢- إقليم مناخي (الموسمي).
- ٣- إقليم مناخي (الاستوائي).
- ٤- إقليم مناخي (الصيني).
- ٥- إقليم مناخي (البحر المتوسط).
- ٦- إقليم مناخي (المعتدل البادر شرق القارات اللوراسي).
- ٧- إقليم مناخي (مناخ التندرا).



- | | |
|------------------------------------|--|
| ١ دائرة : الاستواء. | ٢ مدار : السرطان. |
| ٣ مدار : الجدى. | ٤ الدائرة : القطبية الشمالية. |
| ٥ الدائرة : القطبية الجنوبية. | ٦ قارة : آسيا. |
| ٧ قارة : أفريقيا. | ٨ قارة : أمريكا الشمالية. |
| ٩ قارة : أمريكا الجنوبية. | ١٠ قارة : أوروبا. |
| ١١ قارة : أستراليا (الأوقيانوسية). | ١٢ القارة : القطبية الجنوبية (أنتاركتيكا). |
| ١٣ جزر : اليابان | [بقارة آسيا) |
| ١٤ جزر : الفلبين | |
| ١٥ شبه جزيرة : الملايو | |
| ١٦ جزيرة : آيسلندا | [بقارة أوروبا) |
| ١٧ الجزر : البريطانية | |
| ٢٠ جزيرة : تسمانيا | [بقارة أستراليا) |
| ٢١ جزيرة : نيوزيلندا الشمالية | |
| ٢٢ جزيرة : نيوزيلندا الجنوبية | |
| ١٨ جزيرة : مدغشقر | [بقارة أفريقيا) |
| ١٩ جزر : القمر | |



الإقليم الاستوائي وشبه الاستوائي ١ ، ٢

الإقليم المداري الحار (السوداني) ٣ ، ٤ ، ٥

الإقليم الموسمي ٦ ، ٧

إقليم البحر المتوسط ٨ ، ٩ ، ١٠

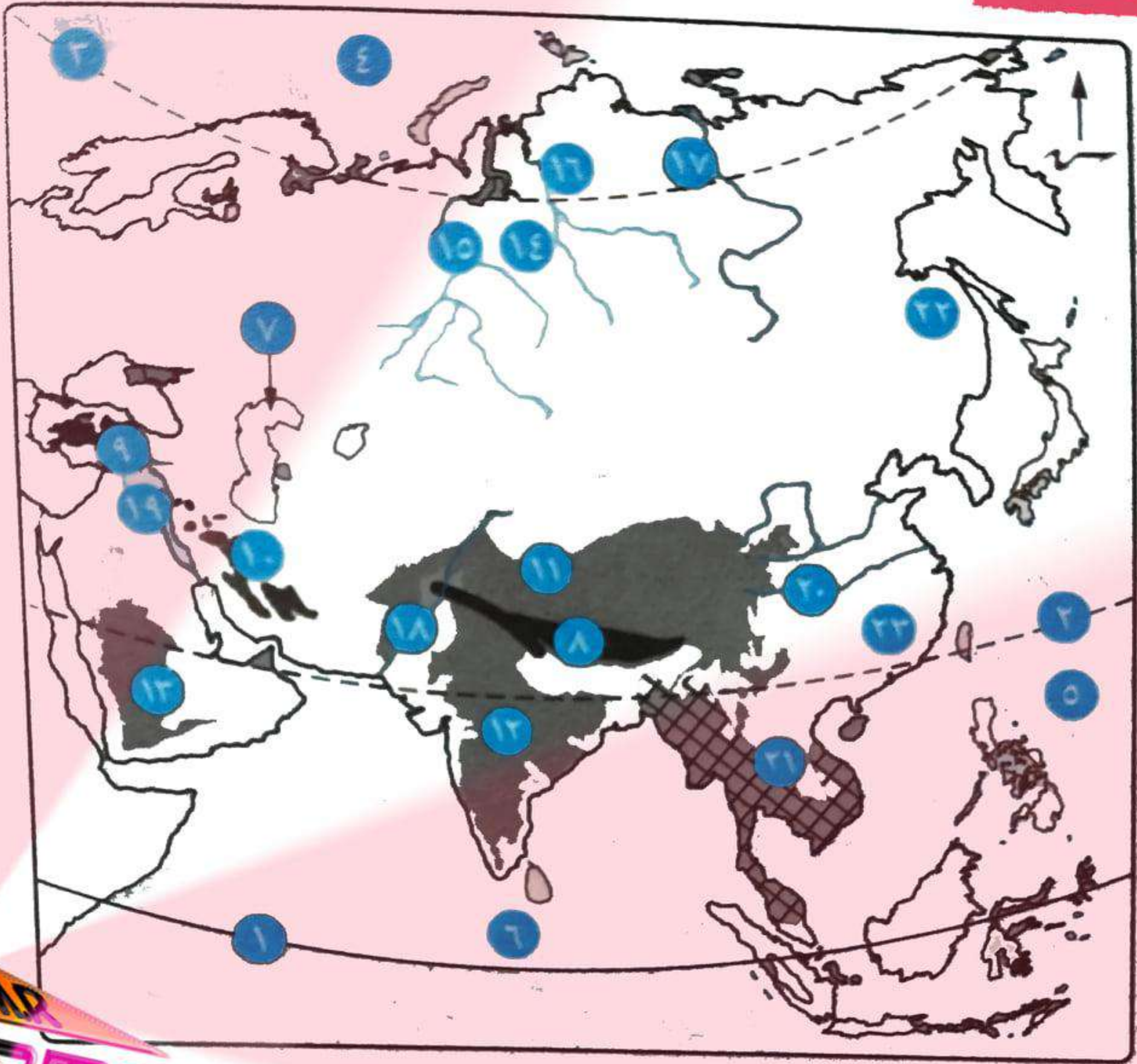
الإقليم المعتدل شرق القارات (الصيني) ١١ ، ١٢ ، ١٣ ، ١٤

إقليم غرب أوروبا ١٥ ، ١٦ ، ١٧

الإقليم المعتدل البارد شرق القارات (اللورانسى) ١٨ ، ١٩

إقليم التندرا ٢٠ ، ٢١

الإقليم الجبلى ٢٢ ، ٢٣ ، ٢٤



OSAMA
ghobashy

٢ مدار : السرطان.

١ دائرة : الاستواء.

٤ المحيط : القطبي الشمالى.

٣ الدائرة : القطبية الشمالية.

٦ المحيط : الهندى.

٥ المحيط : الهادى.

٩ جبال : طوروس.

٨ جبال : الهيمالايا.

١٢ هضبة : الدكن.

١١ هضبة : التبت.

١٣ هضبة : شبه الجزيرة العربية.

١٤ سهول : سيبيريا.

١٧ نهر : ليئا.

١٦ نهر : ينسى.

١٥ نهر : أوب.

١٩ نهرا : دجلة والفرات.

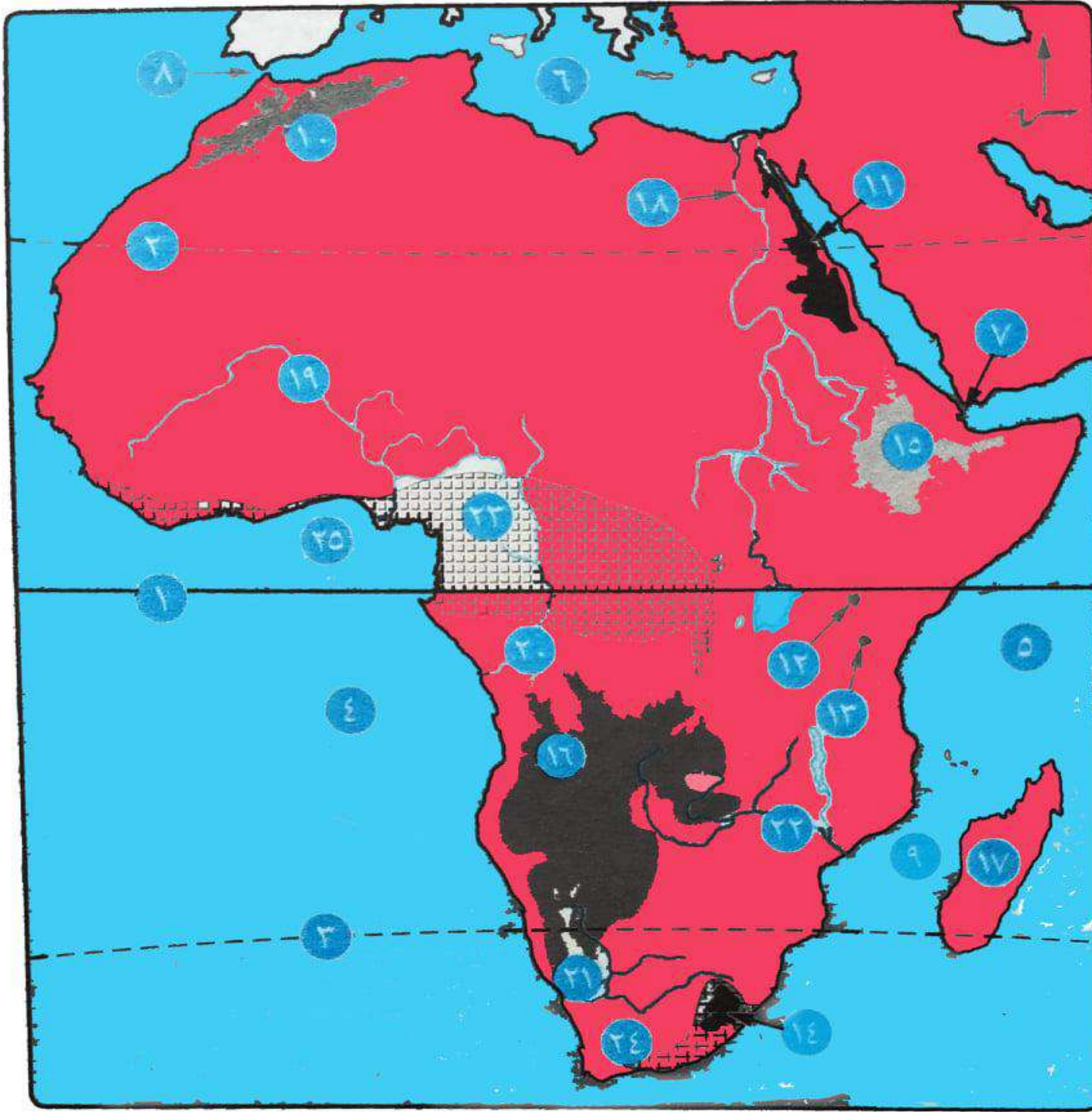
١٨ نهر : السند.

٢٢ سهول : منشوريا.

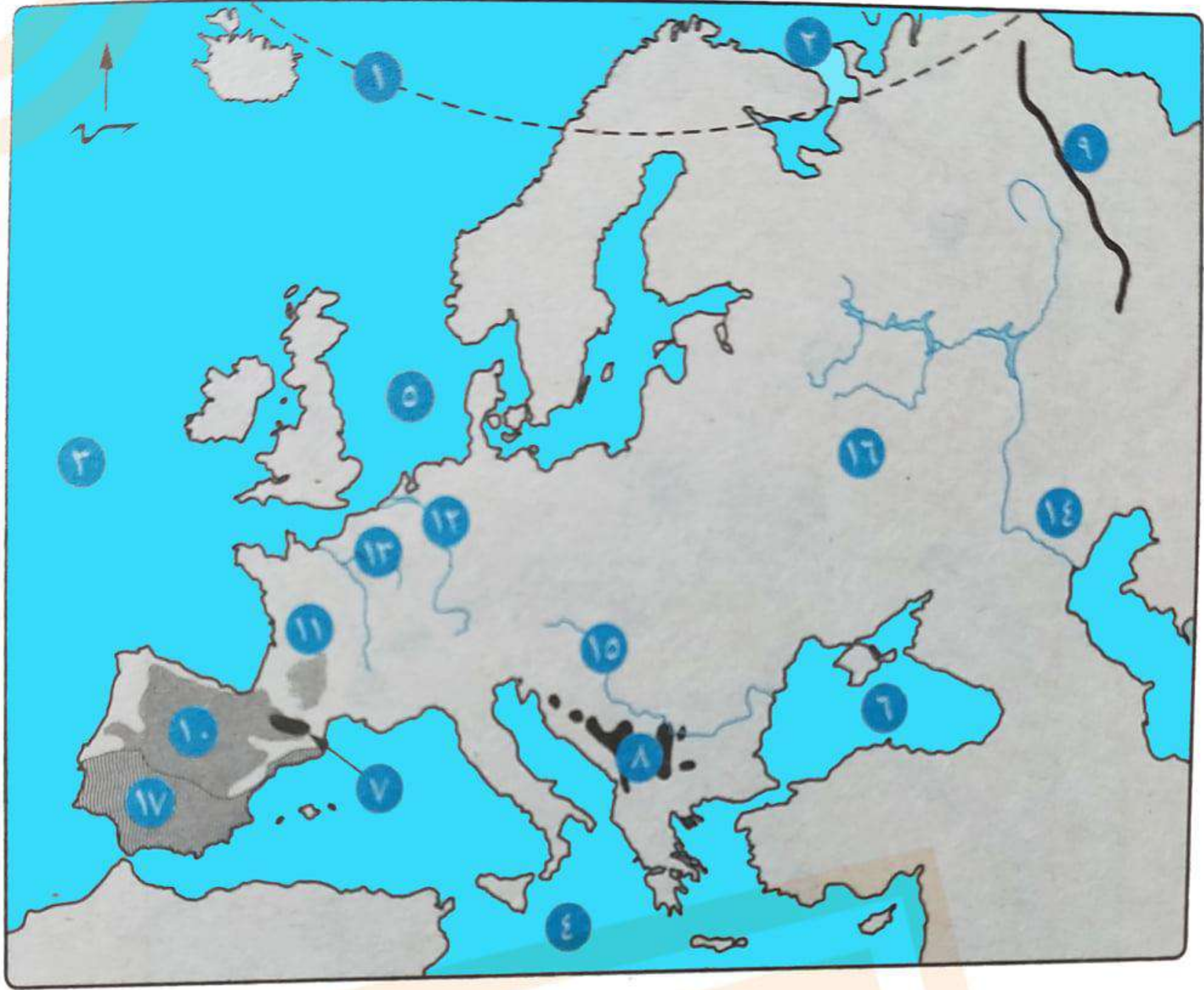
٢١ إقليم مناخى : الموسمى.

٢٠ نهر : اليانجتسى.

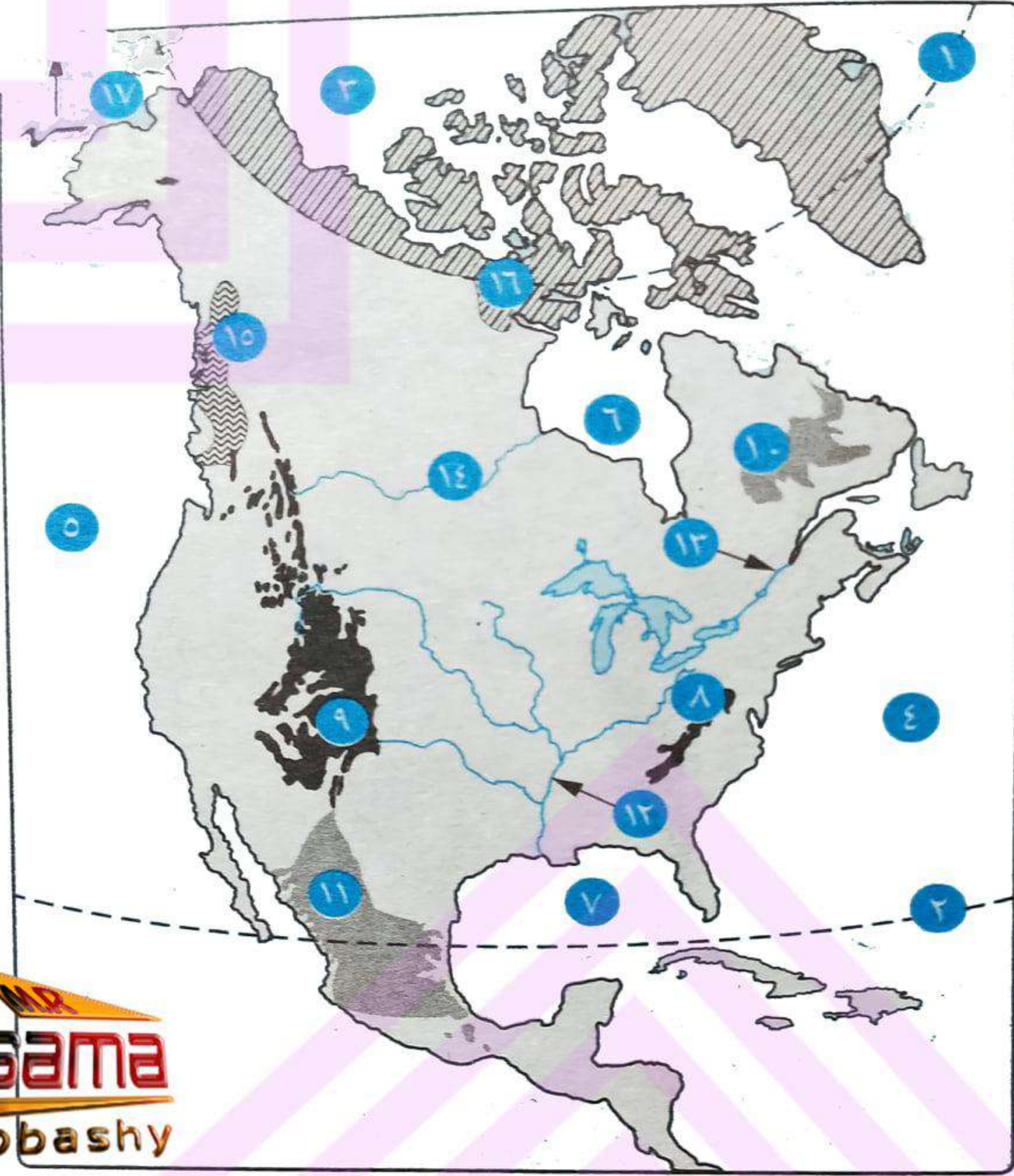
٢٣ سهول : شرق الصين.



- | | | |
|--|-------------------------|--------------------|
| ١ دائرة : الاستواء. | ٢ مدار : السرطان. | ٣ مدار : الجدى. |
| ٤ المحيط : الأطلنطى. | ٥ المحيط : الهندى. | ٦ البحر : المتوسط. |
| ٧ مضيق : باب المندب. | ٨ مضيق : جبل طارق. | ٩ مضيق : موزمبيق. |
| ١٠ جبال : أطلس. | ١١ جبال : البحر الأحمر. | ١٢ جبل : كينيا. |
| ١٣ جبل : كلمنجارو. | ١٤ جبال : دراكنزبرج. | |
| ١٥ هضبة : إثيوبيا (الحبشة). | ١٦ هضبة : جنوب أفريقيا. | |
| ١٧ جزيرة : مدغشقر. | ١٨ نهر : النيل. | ١٩ نهر : النيجر. |
| ٢٠ نهر : الكونغو. | ٢١ نهر : أورانج. | ٢٢ نهر : الزمبيزى. |
| ٢٣ إقليم مناخى : الاستوائى وشبه الاستوائى. | | |
| ٢٤ إقليم مناخى : المعتدل شرق القارات (الصينى). | | ٢٥ خليج : غينيا. |

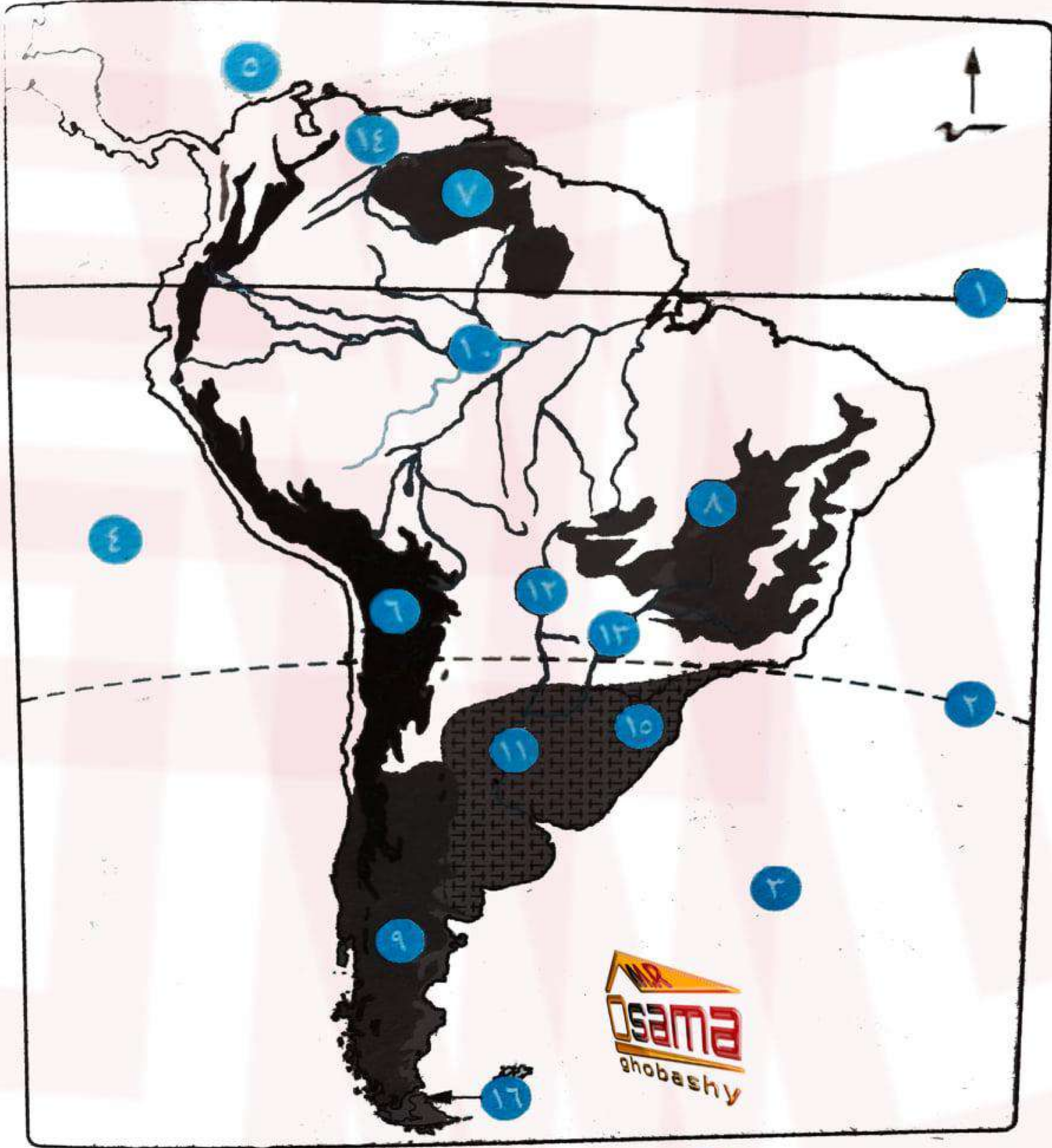


- | | |
|---------------------------------|-----------------------------|
| ١ الدائرة : القطبية الشمالية. | ٢ المحيط : القطبي الشمالي. |
| ٣ المحيط : الأطلنطي. | ٤ البحر : المتوسط. |
| ٥ بحر : الشمال. | ٦ البحر : الأسود. |
| ٧ جبال : البرانس. | ٨ جبال : الألب الدينارية. |
| ٩ جبال : أورال. | ١٠ هضبة : الميزيتا. |
| ١١ هضبة : فرنسا الوسطى. | ١٢ نهر : الراين. |
| ١٣ نهر : السين. | ١٤ نهر : الفولجا. |
| ١٥ نهر : الدانوب. | ١٦ السهل : الأوروبي العظيم. |
| ١٧ إقليم مناخي : البحر المتوسط. | |



MR
Osama
ghobashy

- | | |
|-------------------------------|---------------------------|
| ١ الدائرة : القطبية الشمالية. | ٢ مدار : السرطان. |
| ٣ المحيط : القطبي الشمالى. | ٤ المحيط : الأطلنطى |
| ٥ المحيط : الهادى. | ٦ خليج : هدسن. |
| ٧ خليج : المكسيك. | ٨ جبال : الأبلال. |
| ٩ جبال : روكى. | ١٠ هضبة : لبرادور. |
| ١١ هضبة : المكسيك. | ١٢ نهر : المسيسيبي. |
| ١٣ نهر : سانت لورانس. | ١٤ نهر : نلسن. |
| ١٥ إقليم مناخى : غرب أوروبا. | ١٦ إقليم مناخى : التندرا. |
| ١٧ مضيق : بيرنج | |



١ دائرة : الاستواء.

٢ مدار : الجدى.

٣ المحيط : الأطلنطى.

٤ المحيط : الهادى.

٥ البحر : الكاريبى.

٦ جبال : الإنديز.

٧ هضبة : جيانا.

٨ هضبة : البرازيل.

٩ هضبة : بتاجونيا.

١٠ نهر : الأمازون.

١١ نهر : لابلاتا.

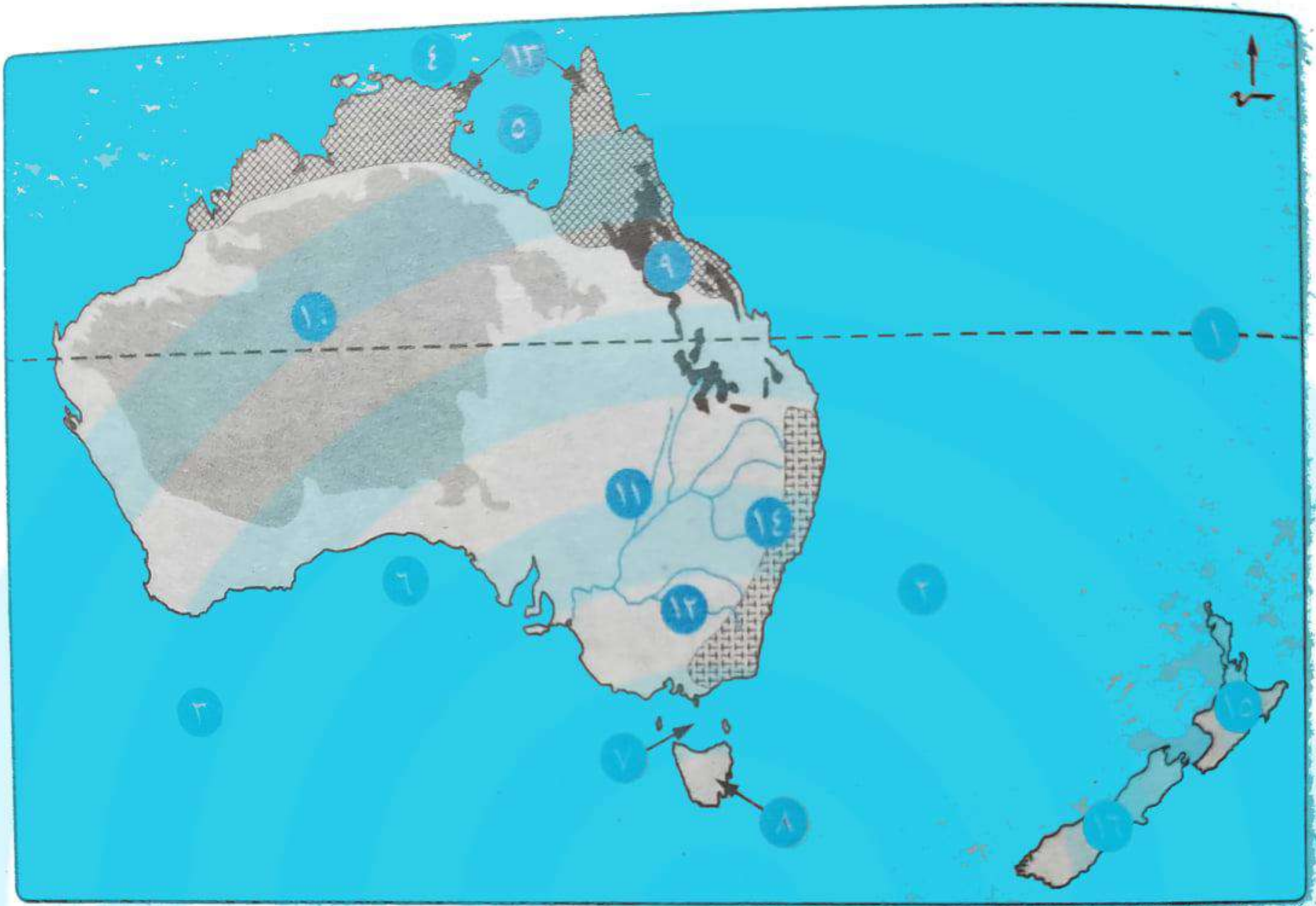
١٢ نهر : باراجواى.

١٣ نهر : بارانا.

١٤ نهر : الأورينوكو.

١٥ إقليم مناخى : المعتدل شرق القارات (الصينى).

١٦ مضيق : ماجلان.



١ مدار : الجدى .

٢ المحيط : الهادى .

٣ المحيط : الهندى .

٤ بحر : أرافورا .

٥ خليج : كارينتاريا .

٦ الخليج : الأستراالى الكبير .

٧ مضيق : باس .

٨ جزيرة : تسمانيا .

٩ جبال : الحاجز الكبير .

١٠ الهضبة : الغربية .

١١ نهر : دارلنج .

١٢ نهر : مرى .

١٣ إقليم مناخى : الموسمى .

١٤ إقليم مناخى : المعتدل شرق القارات (الصينى) .

١٥ جزيرة : نيوزلندا الشمالية .

١٦ جزيرة : نيوزلندا الجنوبية .