

الصف السادس الابتدائي

الفصل الدراسي الثاني

الصف السادس
الابتدائي





الوحدة الأولى: القوة والحركة..

الدرس الأول: أنواع الروافع

☺ اخترع الإنسان منذ قديم الزمان العديد من الآلات البسيطة لكي تساعد على القيام بالمهام الشاقة بسهولة ويسر ، والروافع هي أول الآلات البسيطة التي اخترعها الإنسان في الماضي. ولقد تم وصف الروافع لأول مرة في عام ٢٦٠ ق.م بواسطة العالم اليوناني أرشميدس. الآلة: هي وسيلة يستخدمها الإنسان في أداء عمله لتوفير الجهد.



☞ في الصور المجاورة مجموعة من الآلات البسيطة تشترك في أنها:
١. تتكون من ساق متينة (مستقيمة أو منحنية).
٢. وجود جسم يراد تحريكه، ويتولد من هذا الجسم المقاومة.
٣. وجود قوة يؤثر بها الشخص لتحريك الجسم.
٤. وجود نقطة ثابتة ترتكز عليها الساق تسمى بـ نقطة الارتكاز.
٥. تعرف الآلات البسيطة التي تتوفر فيها هذه الصفات باسم (الروافع)

مجموعة من الآلات البسيطة.



الرافعة: ساق متينة تتحرك حول نقطة ثابتة تسمى بنقطة الارتكاز كما تؤثر عليها قوة ومقاومة.

أهمية الروافع:

الروافع تجعل أداء المهام أكثر سهولة بقيامها بواحدة أو أكثر من الوظائف التالية:

١. تليد القوة: مثل العتلة التي توفر الجهد المبذول عن طريق استخدام قوة صغيرة لتحريك جسم كبير.
٢. تليد المسافة: مثل المكنسة اليدوية فعندما تحرك يدك مسافة صغيرة في أعلى يد المكنسة .. يتحرك الجزء السفلي مسافة أكبر.
٣. زيادة السرعة: مثل مضرب الهوكي حيث تعمل الرافعة على زيادة سرعة الأجسام التي تؤثر عليها.
٤. نقل القوة من مكان إلى آخر: مثل المكنسة اليدوية. فبدلاً من ان ينحني الشخص لجمع القمامة فإنه يستخدم المكنسة اليدوية لنقل قوة يديه لأسفل.
٥. الدفع في أداء العمل: مثل الملقط الذي يستخدم في التقاط الأجسام الصغيرة جداً.
٦. تجنب المخاطر: مثل ماسك الفحم أو ماسك الثلج الذي يحمي الإنسان من الحرارة والبرودة .

ملاحظة: تتحدد الوظائف السابقة التي يمكن أن تؤديها الرافعة طبقاً لموضع القوة والمقاومة ونقطة الارتكاز بالنسبة لبعضهم البعض.

نقطة الارتكاز: هي نقطة ثابتة ترتكز عليها الساق.





أنواع الروافع:

تحدد الوظائف التي يمكن أن تؤديها الرافعة وفقاً لموضع القوة والمقاومة ونقطة الارتكاز بالنسبة لبعضهم البعض.. وعلى هذا تم تصنيف الروافع إلى ثلاثة أنواع هي :

وجه المقارنة	روافع النوع الأول	روافع النوع الثاني	روافع النوع الثالث
الشكل			
الخصائص	*نقطة الارتكاز بين القوة والمقاومة *أكثر أنواع الروافع شيوعاً في حياتنا اليومية.	*المقاومة بين القوة ونقطة الارتكاز.	*القوة بين نقطة الارتكاز والمقاومة.
الأمثلة	الأرجوحة، العتلة، المقص، الميزان، الكماشة، مشبك الغسيل، مجدف المركب، طلمبة الماء، الذراع	كسارة البندق، فتاحة المياه، الغازية، عربة الحديقة.	صنارة السمك، المكنسة اليدوية، ماسك الحلوى، دباسة الورق، عصا الهوكي
الجهد	توفر الجهد أحياناً	توفر الجهد دائماً	لا توفر الجهد
الموضع في الوسط	نقطة الارتكاز	المقاومة	القوة

*روافع النوع الأول: توفر الجهد أحياناً ➔ العتلة ➔ توفر الجهد ميزان البقال ➔ لا يوفر الجهد
*روافع النوع الثاني: توفر الجهد دائماً ➔ لأن الجهد المبذول أقل من المقاومة
*روافع النوع الثالث: لا توفر الجهد دائماً ➔ لأن الجهد المبذول أكبر من المقاومة .

تحديد نوع الرافعة:

١. تخيل الطريقة التي تعمل بها الرافعة. ٢. حدد موضع القوة، والمقاومة، ونقطة الارتكاز أثناء الاستخدام.

الموضع في الوسط	نقطة الارتكاز	المقاومة	القوة
نوع الرافعة	١	٢	٣

علل: بعض الروافع ذات أهمية للإنسان على الرغم من أنها لا توفر الجهد؟

لأن هذه الروافع تساعد في زيادة المسافة أو زيادة السرعة أو زيادة الدقة أو تجنب المخاطر.

علل: الروافع لها أهمية كبيرة في حياتنا؟

لأنها تجعل أداء المهام أكثر سهولة بقيامها بوظيفة أو أكثر مثل تكبير القوة، تكبير المسافة، زيادة السرعة، الدقة في أداء العمل، تجنب المخاطر.



الدرس الثاني : قانون الروافع

الرافعة: ساق متينة تتحرك حول نقطة ثابتة تسمى بنقطة الارتكاز كما تؤثر عليها قوة ومقاومة. وقد تكون **القوة** في بعض الأحيان أصغر من **المقاومة**. وقد تكون أكبر منها. وقد تتساوى معها. وذلك تبعاً لنوع الرافعة المستخدمة. فمثلاً عندما يكون الميزان ذو الكفتين في حالة إتزان معنى ذلك أن القوة تتساوى مع المقاومة.

الجسم	القوة (نيوتن)	ذراع القوة (سم)	المقاومة (نيوتن)	ذراع المقاومة (سم)	القوة × ذراعها	المقاومة × ذراعها
١	٥٠	٤٠	٥٠	٤٠	٢٠٠٠	٢٠٠٠
٢	٦٠	٣٠	١٢٠	١٥	١٨٠٠	١٨٠٠
٣	٧٠	٢٠	٣٥	٤٠	١٤٠٠	١٤٠٠
٤	٢٠	١٠	٢٥	٨	٢٠٠	٢٠٠

نحدر فيبحث كل من القوة والمقاومة في الروافع

إذا كان ذراع القوة = ذراع المقاومة

فإن القوة = المقاومة. كما في الحالة رقم ١

إذا كانت ذراع القوة أطول من ذراع المقاومة

فإن القوة تكون أصغر من المقاومة وبالتالي

تعمل الرافعة على توفير الجهد كما في الحالة رقم ٢ بالجدول

إذا كانت ذراع القوة أقصر من ذراع المقاومة

فإن القوة تكون أكبر من المقاومة

وبالتالي لا تعمل الرافعة على توفير الجهد كما في الحالة رقم ٣ بالجدول.

قانون الروافع \Rightarrow القوة × ذراعها = المقاومة × ذراعها

ملاحظات:

يطبق قانون الروافع في حالة إتزان الرافعة فقط.

تقدر الكتل بوحدة الجرام أو الكيلو جرام

في قانون الروافع يقدر الوزن (القوة أو المقاومة) بوحدة النيوتن أو ثقل.

حاصل ضرب القوة × ذراعها يسمى عزم القوة ويقدر بوحدة نيوتن/متر

حاصل ضرب المقاومة × ذراعها يسمى عزم المقاومة ويقدر بوحدة نيوتن/متر

أمثلة محلولة

١. رافعة من النوع الأول القوة المؤثرة عليها تساوي ٥٠٠ نيوتن وطول ذراعها ٢٠ سم تؤثر على مقاومة

مقدارها ٢٠٠ نيوتن فاحسب ذراع المقاومة؟

القوة × ذراعها = المقاومة × ذراعها $\Rightarrow 20 \times 500 = 200 \times \text{ذراع المقاومة}$

ذراع المقاومة = ٥٠ سم

٢. رافعة من النوع الثاني القوة المؤثرة عليها تساوي ٢٠٠ نيوتن وطول ذراعها ٥٠ سم تؤثر على مقاومة

مقدارها ١٠٠٠ نيوتن فاحسب ذراع المقاومة؟

القوة × ذراعها = المقاومة × ذراعها $\Rightarrow 50 \times 200 = 1000 \times \text{ذراع المقاومة}$

ذراع المقاومة = ١٠ سم

٣. رافعة من النوع الثالث طول ذراع القوة ٥ سم وطول ذراع المقاومة ١٥ سم ، فإذا كانت المقاومة تساوي

٣٠٠ نيوتن احسب القوة المؤثرة؟

القوة × ذراعها = المقاومة × ذراعها $\Rightarrow 5 \times 300 = 15 \times \text{القوة}$

القوة = ٩٠٠ نيوتن



✧ الروافع التي توفر الجهد

١. روافع النوع الأول : توجد ثلاثة احتمالات بالنسبة لطول كل من ذراع القوة وذراع المقاومة وهي:

ذراع القوة أصغر من ذراع المقاومة	ذراع القوة = ذراع المقاومة	ذراع القوة أكبر من ذراع المقاومة
		
تكون القوة أكبر من المقاومة وبالتالي لا يحدث توفير للجهد.	تكون القوة مساوية للمقاومة وبالتالي لا يحدث توفير في الجهد.	تكون القوة أصغر من المقاومة وبالتالي يحدث توفير للجهد.

٢. روافع النوع الثاني:



✧ توفر جميع روافع النوع الثاني الجهد
لأن ذراع القوة تكون دائما أطول من ذراع المقاومة وبالتالي تكون القوة دائما أصغر من المقاومة.

٣. روافع النوع الثالث:



✧ لا توفر الجهد
لأن ذراع المقاومة تكون أطول من ذراع القوة وبالتالي تكون القوة دائما أكبر من المقاومة.

علل: يمكن أن تتساوى القوة مع المقاومة في روافع النوع الأول فقط ؟

لأن في روافع النوع الأول تتواجد نقطة الارتكاز في المنتصف بين بين القوة والمقاومة.

علل: روافع النوع الأول توفر الجهد أحيانا؟

لأن إذا كان ذراع القوة أكبر من ذراع المقاومة.

علل: لا يمكن أن تتساوى القوة مع المقاومة في روافع النوع الثاني؟

لأن ذراع القوة دائما أكبر من ذراع المقاومة فتكون القوة دائما أصغر من المقاومة.

علل: القوة دائما أصغر من المقاومة في روافع النوع الثاني؟

لأن ذراع القوة دائما أكبر من ذراع المقاومة.





الوحدة الثانية: الطاقة الكهربائية..

الدرس الأول: المصابيح الكهربائية

☀️ **الشمس** هي السراج الوهاج التي سخرها الله للإنسان ، فاستغنى بها عن وسائل الإضاءة الاصطناعية

وعندما تغرب الشمس < يبحث الإنسان عن وسائل تعينه على الرؤية والعمل ليلا مثل
المشاعل والشموع والمصابيح الزيتية.... وحديثا حل محلها المصباح الكهربائي.

مميزات المصباح الكهربائي:

١. مصدرا دائما لضوء صاف وبراق
٢. خال من الدخان والأبخرة والروائح
٣. مصدر دائم لا يتأثر بالرياح أو الجو الخارجي
٤. سهل الإضاءة والإطفاء عن طريق مفتاح في دائرته الكهربائية

☀️ المصابيح الكهربائية

هناك عدة أنواع من المصابيح الكهربائية فمنها:

١. مصباح متوهج < يطلق الضوء عن طريق تسخين السلك إلى درجة التوهج
 ٢. مصباح يولد الضوء من البخار أو الغاز عندما < يمر فيه التيار الكهربائي.
- المصباح الكهربائي** : هو جهاز أو أداة تقوم بتحويل الطاقة الكهربائية إلى طاقة ضوئية

أولاً: المصابيح المتوهجة

تعد المصابيح أكثر مصادر الضوء شيوعا، حيث توجد في كل منزل تقريبا وكذلك مصابيح السيارة ومصابيح اليد الكهربائية .

☀️ تركيب المصباح الكهربائي

المصباح العادي يتكون من ثلاثة أجزاء رئيسية وهي:

١. فتيل المصباح : سلك لولبي رفيع من < التنجستين

يتصل طرفاه بسلكين سميكين من النحاس يصلان بين قاعدة المصباح والفتيلة.

فكرة عمل المصباح الكهربائي :

عندما يسري التيار الكهربائي في الفتيلة تسخن وتتوهج وينبعث منها ضوء وحرارة

علل: تصنع فتيلة المصباح الكهربائي من التنجستين؟

لأن درجة انصهار التنجستين مرتفعة، لذا لا ينصهر في درجات الحرارة العالية.

٢. انتفاخ زجاجي رقيق:

يحيط تماما بالفتيلة، ويحتوي في معظم المصابيح على نوع من أنواع الغازات الخاملة مثل < الأرجون بدلا من الهواء.

وظيفة الانتفاخ الزجاجي : ١. يعمل على منع وصول الهواء للفتيلة فلا تحترق

٢. ينفذ الضوء من خلاله لأنه وسط شفاف.

وظيفة الغاز الخامل داخل المصباح : ١. لا يتفاعل مع الفتيلة فيطول العمر الافتراضي لها.

٢. يمنع انتشار الكهرباء في زجاج المصباح.



علماء أفادوا البشرية

☀️ «توماس ألفا إديسون» مخترع أمريكي اخترع المصباح الكهربائي، وعندما توفى أطفئت جميع أنوار ومصابيح أمريكا، حيث إن العالم من قبله كان هكذا.





علل: لا يملأ الانتفاخ الزجاجي في المصباح الكهربائي بالهواء؟
لأنه حتى لا تحترق فتيلة المصباح الكهربائي وتتآكل بسرعة .

٣. قاعدة المصباح :

توجد أسفل القاعدة قطعتان معدنيتان تتصلان بسلكي النحاس السميكين

- وظيفة القاعدة:** ١. تحمل المصباح الكهربائي قائماً وتثبتته ٢. تقوم بتوصيل المصباح الكهربائي بالدائرة الكهربائية
- أنواع القاعدة :** ١. قاعدة حلزونية (قلاووظ) : توجد بها قطعتان معدنيتان للتوصيل.
٢. قاعدة مسماريت : يوجد بها مسماران جانبيان وقطعتان معدنيتان للتوصيل.

ثانياً: المصابيح الفلوريسنت:

تستخدم مصابيح الإضاءة الفلوريسنت المعروفة باسم < (المصابيح النيون) في

١. المنازل ٢. المكاتب ٣. تزيين المحلات التجارية ٤. الإعلانات التجارية.

تركيب مصباح الفلوريسنت :

١. أنبوبة زجاجية :

أنبوبة زجاجية أسطوانية عادة مفرغة من الهواء

تحتوي على < غاز الأرجون الخامل ، وقليل من الزئبق .

< يغطي سطح الأنبوب من الداخل

< بمادة فسفورية تومض عند سقوط الضوء عليها.

٢. فتيلتان من التنجستين : على طرفي المصباح من الداخل .

٣. نقاط التوصيل : توجد نقطتا توصيل عند كل طرف من أطراف

المصباح (٤ نقاط) < لتوصيل الكهرباء إلى المصباح .

علل: وجود نقاط توصيل عند طرفي المصباح الفلوريسنت؟

للتوصيل الكهربائي لفتيلتي المصباح.

معلومة ١: لا يدخل غاز النيون الخامل في عمل مصباح الفلوريسنت، ولكن اشتهر اسم هذا النوع من المصابيح بالنيون.

معلومة ٢: هناك نوع من أنواع المصابيح الفلوريسنت والذي يسمى < بالمصابيح الفلوريسنت المدمجة والذي يختلف عن المصابيح العادية في أنه

* يوفر في استهلاك الطاقة.

* له عمر افتراضي أكبر من المصابيح العادية من ٨ إلى ١٨ مرة.

حيث يتراوح عمرها الافتراضي من ٨٠٠٠ ساعة إلى ١٥٠٠٠ ساعة .

بينما يتراوح العمر الافتراضي للمصابيح العادية من ٧٥٠ إلى ١٠٠٠ ساعة.

وجه المقارنة	المصباح المتوهج	المصباح الفلوريسنت
التركيب	١. انتفاخ زجاجي ٢. فتيلة التنجستين ٣. قاعدة المصباح	١. أنبوبة زجاجية ٢. فتيلتان من التنجستين ٣. نقاط توصيل
الغاز المستخدم	الأرجون (أو أي غاز خامل)	*الأرجون * قليل من بخار الزئبق
الأنواع	١. مصباح بقاعدة حلزونية ٢. مصباح بقاعدة مسمارية	١. مصابيح عادية ٢. مصابيح مدمجة موفرة للطاقة
فكرة العمل	عند مرور التيار في سلك التنجستين يسخن ويتوهج ويشع ضوء.	عند مرور التيار خلال الغاز أو البخار تضيء المادة الفسفورية المبطن بها جدار الأنبوبة الداخلية

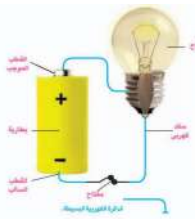


أولاً: توصيل المصابيح الكهربائية في الدوائر الكهربائية

تتكون الدائرة الكهربائية البسيطة من :

١. بطارية (مصدر التيار الكهربائي) ٢. مصباح ٣. أسلاك توصيل البطارية بالمصباح ٤. مفتاح كهربائي .
- لكي يمر التيار الكهربائي بالدائرة لا بد من توصيل جميع أجزاء الدائرة الكهربائية وتكون الدائرة في هذه الحالة مغلقة لذا يمر التيار الكهربائي

وفي حالة عدم توصيل أي جزء من هذه الأجزاء لا يمر التيار الكهربائي بالدائرة وتكون الدائرة في هذه الحالة مفتوحة



الدائرة الكهربائية : هي المسار المغلق الذي تمر خلاله الشحنات الكهربائية لتتم دورة كاملة .

التيار الكهربائي : هو سريان الشحنات الكهربائية خلال مادة موصلة للكهرباء مثل أسلاك

النحاس والألمنيوم.

طرق توصيل المصابيح في الدوائر الكهربائية

وجه المقارنة	التوصيل على التوالي	التوصيل على التوازي
الرسم		
طريقة توصيل المصابيح	واحد تلو الآخر	في مسارات متفرعة
نتيجته	يوجد للتيار الكهربائي مسار واحد يسير خلاله	يوجد للتيار الكهربائي أكثر من مسار يسير خلاله في الدائرة
عند فك مصباح أو احتراقه	١. لا يكمل التيار السريان ٢. ينطفئ جميع المصابيح بالدائرة الكهربائية	١. يسير التيار في المسارات الأخرى ٢. لا تنطفئ باقي المصابيح بالدائرة الكهربائية
عند توصيل أكثر من مصباح	تقل شدة إضاءة المصابيح حتى تضعف عند توصيل عدد كبير من المصابيح بالدائرة.	تظل شدة إضاءة المصابيح كما هي

علل: توصيل مصابيح أضواء الزينة في الأعياد ومناسبات الأفراح على التوازي؟

١. حتى يسهل الوصول إلى المصباح المحترق واستبداله

٢. وحتى لا يؤدي احتراق أحد المصابيح إلى انقطاع التيار عن باقي المصابيح فتتطفئ.

ثانياً: توصيل المصابيح الكهربائية بالمنزل

جميع مصابيح المنزل وأيضاً الأجهزة الكهربائية توصل «على التوازي» بالمصدر الرئيسي للطاقة الكهربائية.

كل مصباح أو جهاز كهربائي يعمل بشكل مستقل عن المصابيح والأجهزة الأخرى .

إنارة أي غرفة تكون مستقلة عن إنارة الغرف الأخرى

حتى إذا تم إطفاء أو تلف أحد المصابيح في غرفة لا يؤثر ذلك على المصابيح الموجودة في باقي الغرف.

علل: يتم توصيل المصابيح الكهربائية على التوازي في المنزل؟

حتى لا تنطفئ جميع المصابيح بالمنزل عند تلف أو إطفاء مصباح واحد منها .

ماذا يحدث لو صنعت فتيلة المصباح من الحديد؟ لتتصهر عند درجات الحرارة المرتفعة.

ماذا يحدث لو وجد هواء بداخل المصباح الكهربائي؟ لتتشعل الفتيلة .

ماذا يحدث لو تم توصيل المصابيح الكهربائية في المنزل على التوالي ؟

لتتنطفئ جميع المصابيح بالمنزل عند تلف أو إطفاء مصباح واحد منها.

الفصل الدراسي الثاني "علوم"



الدرس الثاني: أخطار الكهرباء وكيفية التعامل معها

استخدامات الطاقة الكهربائية:

١. طهي الطعام وحفظه بارداً ٢. إنارة المنازل ٣. تزويد الأجهزة واللعب بالكهرباء.
ولعلنا نرى على الرغم من الفوائد الكثيرة للكهرباء في حياتنا إلا أنها تشكل خطورة على الأرواح والممتلكات وقد تكون سببا في وقوع الحرائق والانفجارات أو وفاة الكثير من الناس .. فالكهرباء خطرة على كل من يتهاون أو يهمل احتياطات السلامة والتعليمات الواجب اتباعها أثناء التعامل معها.

وجه المقارنة	المواد الموصلة للكهرباء	المواد العازلة للكهرباء
المفهوم	هي المواد التي تسمح بمرور التيار الكهربائي خلالها	هي المواد التي لا تسمح بمرور التيار الكهربائي خلالها
أمثلة	مسمار، مفتاح، عملة معدنية، ساق من الحديد	البلاستيك، المطاط، الخشب، الزجاج
وجودها بالدائرة الكهربائية	تقوم بإكمال الدائرة (جعلها مغلقة) مما يؤدي لمرور التيار الكهربائي في الدائرة بالكامل	لا تغلق الدائرة الكهربائية مما يؤدي إلى عدم مرور التيار الكهربائي في الدائرة.

التيار الكهربائي في المنازل:

تصل الكهرباء في منازلنا من محطات توليد الطاقة، حيث ينتقل التيار الكهربائي عبر كابلات معدنية محمولة بأعمدة عالية، وتكون هذه الكابلات مغلقة بمواد عازلة طويلة تمنع التيار الكهربائي من الانتقال من الكابلات إلى الأعمدة.

أخطار الكهرباء

الكهرباء آمنة عند التعامل معها بحرص أما إذا تم التعامل معها بإهمال أو بسرعة أو بطريقة خاطئة فإنها تؤدي إلى العديد من الأخطار

الإصابات الناتجة عن سوء استخدام الكهرباء:

١. الإصابات المباشرة * الحرائق الناتجة عن الكهرباء * الصدمة الكهربائية * الحروق الناتجة عن التيار الكهربائي.
٢. الإصابات غير المباشرة * تؤدي إليها الكهرباء ولا تكون سببا مباشرا فيها مثل * السقوط من فوق سلم أثناء التعامل مع الأدوات الكهربائية.



١. الحريق الناتج عن الكهرباء

أسبابه:

١. وضع جهاز كهربائي يولد حرارة «مكواة، مدفأة، أباجورة، سخان» بالقرب من بعض الأشياء القابلة للاشتعال كال«المفروشات، الستائر، السجاد، الملابس» مما يؤدي إلى حدوث حريق نتيجة اشتعال هذه المواد.
٢. زيادة التحميل الكهربائي، وذلك عن طريق تشغيل أكثر من جهاز عن طريق قابس (فيشة) واحد.
٣. عدم فصل التيار الكهربائي عن الأجهزة الكهربائية التي تولد حرارة بعد استخدامها.
٤. مما يؤدي إلى زيادة درجة حرارة الجهاز مما يؤدي إلى اشتعالها.
٤. تآكل أو إزالة المادة العازلة المحيطة بالأسلاك.

علل يستخدم الماء في إطفاء الحريق العادي، بينما لا يمكننا استخدامه في إطفاء الحريق الناتج عن الكهرباء؟
لأن الماء غير النقي من المواد السائلة جيدة التوصيل للكهرباء، لذلك فاستخدامه يزيد من الحريق وقد يؤدي الأشخاص المنقذين.



٢ المصيدة الكهربائية

سببها < مرور التيار الكهربائي خلال جسم الإنسان.

الأضرار الناتجة عنها :

١. شدة التيار الكهربائي المار في جسم الإنسان < (تزيد الأضرار بزيادة شدة التيار)
٢. الزمن الذي استغرقه التيار الكهربائي للمرور في جسم الإنسان < (تزيد الأضرار بزيادة زمن مرور التيار)

كيف تحدث الصدمة الكهربائية؟

تحدث عندما يكون جسم الإنسان جزءاً من دائرة كهربائية ويؤدي إلى إكمالها (غلقها).. مما يؤدي إلى سريان التيار الكهربائي من أحد أجزاء جسمك وخروجه من جزء آخر... ويحدث ذلك عن طريق

١. عندما تكون ملامساً لسلك به تيار كهربائي بأحد أجزاء جسمك وملامساً للأرض بجزء آخر.
 ٢. عندما تكون ملامساً لسلك به تيار كهربائي بأحد أجزاء جسمك، وملامساً لمادة موصلة للكهرباء متصلة بالأرض.
 ٣. عندما تكون ملامساً لسلكين موصلين للكهرباء.
- ويمكن أن تؤدي إلى أضرار غير مباشرة < مثل السقوط من فوق سلم والذي يؤدي إلى العديد من الإصابات. وقد تسبب الوفاة في أحيان عديدة .



٣ الحروق الناتجة عن التيار الكهربائي

تسبب الحروق تدمير لأنسجة الجسم وتحدث نتيجة:

١. ملامسة أحد أجزاء الجسم مباشرة لمصدر للتيار الكهربائي،
٢. مما يؤدي إلى حدوث حروق ، ويكون هذا النوع نتيجة لحدوث الصدمة الكهربائية.
٢. ملامسة النار أو الشرارة الناتجة عن حدوث حريق كهربائي لأحد أجزاء الجسم.
٣. ملامسة جهاز كهربائي يولد حرارة (مدفأة ، مكواة ، سخان كهربائي) مباشرة بأحد أجزاء الجسم مما يولد حروقا.

الإسعافات الأولية عند وقوع حوادث بسبب التيار الكهربائي

١. يعزل المصاب عن الدائرة الكهربائية بفصل الكهرباء أو بعزله فوراً عن المصدر الكهربائي..وهنا تتم طريقة العزل بدفع المصاب بأي شيء يكون عازلاً للكهرباء (قطعة خشب أو بلاستيك).
٢. يستدعي الطبيب على الفور إلى مكان الحادث.
٣. إذا كان المصاب مستمراً في التنفس فيجب تسهيل تنفسه بفتح ملابسه المحكمة.
٤. يجب المحافظة على نبضات القلب وذلك بالتدليك عن طريق الضغط على الصدر براحتي اليد.
٥. إذا تعذر على المصاب التنفس يبدأ فوراً في إجراء التنفس الاصطناعي له.

أنماط التعامل الخاطئة مع الكهرباء

١. تشغيل عدة أجهزة كهربائية معاً في نفس الوقت مع اتصالها بنفس القابس (الفيشة)
٢. ترك جهاز كهربائي (سخان كهربائي) متصلاً بمصدر التيار الكهربائي أثناء الاستحمام.
٣. وضع أسلاك الكهرباء خاصة غير المعزولة منها على الأرض المبللة بالماء.

احتياطات التعامل مع الكهرباء:

١. عدم وضع عدة وصلات في المصدر الكهربائي بالحائط.
 ٢. عدم إدخال جسم معدني في القابس (الفيشة) (مسامير ، مفك غير معزول ، سلك معدني) .
 ٣. وضع قطع بلاستيكية في القابس (الفيشة) لمنع إدخال أي جسم به.
 ٤. عدم لمس الأدوات الكهربائية الموصولة بالتيار بأيدي مبللة.
 ٥. عدم ترك جهاز كهربائي أو سخان موصولاً بالتيار أثناء الاستحمام.
 ٦. عدم العبث بالتوصيلات الكهربائية.
 ٧. عدم محاولة إصلاح أو صيانة أو تنظيف أي آلة كهربائية وهي موصولة بالتيار الكهربائي.
 ٨. عدم وضع المواد القابلة للاشتعال (ستائر، أقمشة، ملابس، مفروشات، سجاد، أوراق) بجانب الأجهزة الكهربائية التي تبعث حرارة (المكواة، السخان الكهربائي، الأباجرة، المدفأة).
 ٩. عدم ترك بعض الأسلاك مكشوفة وغير المعزولة.
 ١٠. عدم وضع الأسلاك الكهربائية ملقاة على الأرض حتى لا يتعثر بها أحد عند السير.. وعدم وضعها أسفل السجاد.
- علل جسم الإنسان موصل جيد للكهرباء؟ لأن ٧٠% من جسم الإنسان يحتوي على ماء.



مرور التيار الكهربائي في جسم الإنسان يؤدي إلى حدوث صدمة كهربائية.



الوحدة الثالثة: الكون

الدرس الأول: كسوف الشمس

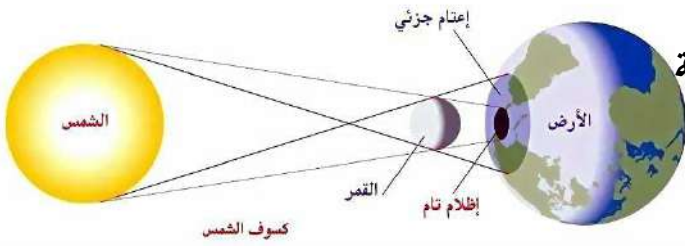
☼ الشمس > نجم مضيء يشع ضوء وحرارة.. والأرض > كوكب معتم.. والقمر > جسم معتم يدور القمر حول الأرض في مدار محدد.. وهما يدوران حول الشمس في مدار محدد. ونتيجة لذلك تحدث ظاهرتان فلكيتان هما كسوف الشمس وكسوف القمر.

☼ انتشار ضوء الشمس > ينتشر الضوء على هيئة خطوط مستقيمة طالما لم يعترضه عائق.

☼ الاعتماد الكلي > منطقة يحجب عنها أشعة الضوء المباشرة وذلك نتيجة اعتراض جسم معتم لضوء الشمس فيتكون للجسم ظل.. مثل ظل الإنسان والشجرة والشمسية
الضوء < الجسم المعتم < الظل
☼ تأثير الظل > تشعر باعتدال درجة الحرارة نتيجة حجب أشعة الشمس المباشرة.
ظل القمر على الأرض يؤدي إلى كسوف الشمس.

☼ ظاهرة كسوف الشمس


عندما يقع القمر بين الأرض والشمس وعلى استقامة واحدة.. يحجب القمر ضوء الشمس.. ويتكون ظل القمر على الأرض.. وتسمى هذه الظاهرة الفلكية بكسوف الشمس التي تدوم أكثر من ٧ دقائق و ٤٠ ثانية.
☼ إذا حدث كسوف الشمس



☼ عندما يقع القمر بين الأرض والشمس وعلى استقامة واحدة تقريبا.. فيحجب القمر ضوء الشمس عن جزء من الأرض فيتكون ظل القمر على الأرض ويعبر قرص القمر المظلم قرص الشمس المضيء .
☼ تكوين ظل وشبه ظل القمر

منطقة الظل الحقيقي: هي المنطقة المظلمة التي لا يصل الضوء إليها نتيجة وجود جسم معتم في مسار الأشعة الضوئية. (إقليم كلي)

منطقة شبه الظل: هي منطقة تقع بين المنطقة المضاءة ومنطقة الظل الحقيقي وفيها نرى جزء من مصدر الضوء. (إقليم جزئي)





✿ أنواع الكسوف:

يختلف نوع الكسوف تبعاً لحركة القمر أمام قرص الشمس كما يلي:

الكسوف الحلقى	الكسوف الجزئي	الكسوف الكلي
		
*يدور القمر حول الأرض في مدار بيضاوي وعندها لا يصل مخروط الظل لسطح الأرض لوجود القمر في مدار أعلى بالنسبة للأرض يتكون الكسوف الحلقى للشمس.	*يتكون في منطقة شبه ظل القمر على الأرض *تشاهد جزءاً من الشمس	*يتكون في منطقة ظل القمر على الأرض (قطرها ٢٥٠ كم) *لاستطيع أن نشاهد الشمس كلياً

✿ احتياطات الأمان عند ملاحظة كسوف الشمس

١. عدم النظر المباشر للشمس..

لأن أشعتها تؤذي العين ويمكنها أن تذهب بالبصر خلال دقائق معدودة.

٢. استخدام نظارات خاصة..

لأن الهالة الشمسية الخارجية تطلق الأشعة الضارة للعين عموماً وخاصة الشبكية مثل الأشعة فوق البنفسجية والأشعة تحت الحمراء بالرغم أن توهج الشمس في حالة الكسوف الكلي والجزئي والحلقى يكون ضعيفاً.

✿ تمكن القدماء منذ عصر البابليين الأوائل من معرفة أوقات حدوث ظواهر كسوف الشمس وكسوف القمر بشكل تقريبي قبل حدوثه بعامين.

✿ آخر كسوف في منطقة الشرق الأوسط وشمال إفريقيا في يوم الأربعاء ٢٩/مارس/٢٠٠٦م
✿ الكسوف القادم في ٢/أغسطس/٢٠٢٧م.. الزمن اللازم لحدوث كسوف على منطقتنا: ٢١ عاماً.

علل يحدث كسوف حلقى عندما يقع القمر في مدار أعلى بالنسبة للقمر؟

لأن القمر يدور حول الأرض في مدار بيضاوي وعندها لا يصل مخروط الظل للأرض.

علل يختلف نوع الكسوف تبعاً لحركة القمر أمام قرص الشمس؟

لأنه حيث يعبر قرص القمر المظلم قرص الشمس المضيء والجزء الذي يحجبه من الشمس عن الأرض.

علل يتطلب كسوف الشمس أجهزة خاصة عند النظر إليه؟

لأن أشعة الشمس تؤذي العين.





الدرس الثاني: خسوف القمر

✧ خسوف القمر

يحدث خسوف القمر < عندما تكون الشمس والأرض والقمر على استقامة واحدة.. وتكون الأرض في المنتصف وبالتالي يدخل القمر في ظل الأرض التي تحجب عنه أشعة الشمس. ويمكن رؤية الخسوف بسهولة من فوق سطح الأرض الذي يظل لمدة ساعة أو ساعتين حيث يتلون سطح القمر تدريجياً باللون الأحمر ثم يعود للون العادي الطبيعي.

✧ ظاهرة خسوف القمر:

تتشأ ظاهرة خسوف القمر في منتصف الشهر القمري عندما تقع الأرض بين الشمس والقمر على استقامة واحدة فتحجب ضوء الشمس أو جزءاً منه عن القمر بمعدل خسوفين لكل سنة.

✧ كيف يحدث الخسوف؟

عندما تقع الأرض بين القمر والشمس وتكون جميعها على استقامة واحدة. فإن ظل الأرض يقع على القمر مما يحجب ضوء الشمس عنه فيكون الخسوف كلياً.. ويكون الخسوف جزئياً إذا وقع جزء من القمر في منطقة الظل.

✧ أنواع الخسوف

١. خسوف كلي:

يحدث الخسوف الكلي للقمر عندما* يكون القمر بالكامل في منطقة ظل الأرض وفي هذه الحالة يحدث خسوف كامل للقمر..

وتكون الشمس والأرض والقمر جميعها على خط مستقيم واحد وتتوسط الأرض بين الشمس والقمر. وفي بداية الخسوف الكلي فإن لون القمر يميل للحمرة بسبب < الأشعة الحمراء التي لا يمكن امتصاصها من أعلى الغلاف الجوي للأرض.

٢. خسوف جزئي:

يحدث عندما* يدخل جزء من القمر منطقة ظل الأرض.. ففي هذه الحالة يحدث خسوف جزء من القمر أما إذا وقع القمر بأكمله في منطقة شبه ظل الأرض فإنه يبدو كقرص لونه أحمر وذلك لا يعتبر خسوفاً.


✧ ملاحظات

١. أثناء حدوث الخسوف يتلون سطح القمر باللون الأحمر ثم يعود لونه الطبيعي

لأن الأشعة تحت الحمراء لا يمكن امتصاصها بواسطة طبقات الغلاف الجوي فتصل للأرض.

٢. لماذا لا يحدث خسوف حلقي للقمر؟

لأن الأرض أكبر حجماً من القمر.





مقارنة بين كسوف الشمس وخسوف القمر

وجه المقارنة	كسوف الشمس	خسوف القمر
سبب حدوثه	وقوع القمر بين الأرض والشمس على استقامة واحدة الأرض ← القمر ← الشمس	وقوع الأرض بين القمر والشمس على استقامة واحدة الشمس ← الأرض ← القمر
وقت حدوثه	نهاراً	ليلاً
الرؤية	إذا كنا في مكان ملائم نرى قرص القمر المظلم يعبر قرص الشمس المضيء	يمكن رؤيته بسهولة من أي مكان على الأرض
مدته	سبع دقائق وأربعين ثانية	قد يمتد أكثر من ساعتين
آخر تواريخ حدوثه	الأربعاء ٢٩ مارس ٢٠٠٦ م	الخميس ٢١ فبراير ٢٠٠٨ م
احتياطات الأمان	١. عدم النظر إلى الشمس مباشرة ٢. استخدام نظارات خاصة لمشاهدة الكسوف	لا يتطلب احتياطات أو تحذيرات أو أجهزة خاصة عند النظر إليه
تأثيره على العين	يسبب أضرار بالغة للعين عند النظر إليه مباشرة	لا يشكل أي ضرر على العين
أنواعه	١. كسوف كلي ٢. كسوف جزئي ٣. كسوف حلقي	١. خسوف كلي ٢. خسوف جزئي
كل منهما ظاهرة فلكية ينتج عنها حجب جزء أو كل من الشمس أو القمر أو كل منهما عن سكان الأرض لفترة من الوقت.		

علل: لا تؤثر ظاهرة الكسوف والخسوف في حياة الناس على الأرض؟

لأنهما ظاهرتان طبيعيتان تحدثان نتيجة دوران القمر حول الأرض وهما يدوران حول الشمس.

تتكرر ظاهرتي الكسوف والخسوف بصفة دورية ويمكن التنبؤ بهما؟

لأن القمر والأرض يدوران في مدارات منتظمة وثابتة.





الدرس الثالث: رصد الفضاء



🌟 **النجوم** : أجرام سماوية تسبح في الكون وهي أجسام تشع الضوء والحرارة

★ ولذلك تظهر كنقطة مضيئة لأنها بعيدة جدا عن سكان الأرض.

★ ولكي نرى النجوم بوضوح ننظر إليها من خلال جهاز يسمى **التلسكوب**

🌟 **التلسكوب**: هو آلة تقوم بتجميع الضوء لرؤية الأجرام السماوية البعيدة بوضوح

مثل المجرات و الكواكب والنجوم والأقمار ..

★ فهو يكون صور مقربة للأجرام السماوية ويقوم بتجميع أكبر كمية من الضوء الصادر من النجوم أو المنعكس عن الكواكب .

🌟 **أهمية التلسكوب** ← ١. رؤية الأجسام البعيدة ٢. رؤية الأجسام على سطح الأرض ٣. رؤية الأجرام السماوية



🌟 **المراصد**: الأماكن التي تحفظ بداخلها التلسكوبات ويعمل بها الفلكيون وسقفها على شكل قبة

تتفتح أثناء الليل لكشف التلسكوب وتوجيهه إلى الأجرام السماوية في الكون.

★ الأماكن المناسبة للرصد فوق الجبال مثل استطلاع الهلال.

رصد الفضاء نشاط بشري قديم

🌟 **تسلسل رصد الفضاء**

العين المجردة ← التلسكوبات الأرضية ← التلسكوبات الفضائية ← الأقمار الصناعية وسفن الفضاء

١. **البابليون في العصور القديمة** :

★ اكتشفوا أن القمر يعود إلى نفس النقطة التي يحدث فيها الكسوف أو الخسوف بعد ١٨ سنة و ١١ يوما وهذا يسمى دورة الساروس للقمر.

٢. **العلماء العرب** :

★ أنشؤوا المراصد الفلكية على الأماكن المرتفعة مثل الجبال لرصد حركة النجوم والكواكب والأقمار.

★ وصنعوا آلات الرصد لدراسة مواقع وأحوال الأجرام السماوية.

٣. **العالم العربي (الحسن بن الهيثم)** :

★ أثبت أن رؤية الأجرام السماوية تتم بسبب مقدار الضوء المنعكس أو الصادر من الأجسام على العين. وهذه النظرية تم على أساسها فكرة اختراع التلسكوبات.

٤. **التلسكوب الفلكي** :

★ جهاز يستخدم لرؤية الأجرام السماوية كالنجوم والكواكب.

٥. **تلسكوب جاليليو** :

★ صنع جاليليو أول تلسكوب فلكي أرضي عام ١٦٠٩م يستخدم العدسات ..

★ وجاليليو أول من رأى جبال القمر بواسطة التلسكوب.

٦. **التلسكوبات الحديثة** :

★ صنعت التلسكوبات قديما من العدسات مثل تلسكوب جاليليو .. الآن أنواعها كثيرة حسب نوع الأشعة

التي تستقبلها مثل الأشعة الضوئية المرئية أو تحت الحمراء أو فوق البنفسجية.

★ التلسكوبات الأرضية مثل تلسكوب جاليليو تظهر صوراً غير واضحة للكون

لأن جو الأرض مليء بالأتربة والغبار مما يسبب عدم دقة الرصد.

٧. **رصد الفضاء خارج الأرض التلسكوبات الفضائية** :

★ صنع الإنسان حديثاً تلسكوبات تدور حول الأرض وهي محملة على أقمار صناعية ومحطات فضائية

خارج الغلاف الجوي بعيداً عن الملوثات لدقة الرصد.



٨. تلسكوب هابل:

- ★ أول تلسكوب فضائي يدور حول الكرة الأرضية في مدار .. سمي باسم الفلكي أدوين هابل
 - ★ على ارتفاع ٥٩٣ كم فوق سطح البحر .. واستغرق عشر سنين من التصميم والبناء
 - ★ ويصل طوله إلى ١٦ مترا تقريبا وتم إطلاقه في مكوك فضائي في إبريل عام ١٩٩٠ م.
 - ★ تستخدم المرايا في تلسكوب هابل الفضائي. ★ أمد تلسكوب هابل الفلكيين بأوضح وأفضل صور للكون.
 - ★ تلسكوب هابل يكمل مداره الدائري حول الأرض بين ٩٧ - ٩٩ دقيقة
 - ★ يتوقع أن يخرج تلسكوب هابل من الخدمة عام ٢٠١٤ بعد ٢٤ سنة من العمل حيث قدم صورا للأرض والفضاء منذ عام ١٩٩٠ م وسوف يرجع إلى الأرض لكي يسقط في أحد المحيطات
 - ★ ويستبدل بتلسكوب جيمس ويب الجديد الذي سيقدم صورا لمجالات أبعد وأوسع من هابل.
- ### ❁ أنواع التلسكوبات:

١. **تلسكوبات تستخدم العدسات:** لتجميع الضوء والموجات الكهرومغناطيسية مثل < تلسكوب جاليليو (أرضية)

٢. **تلسكوبات تستخدم المرايا:** لتجميع الضوء والموجات الكهرومغناطيسية مثل < تلسكوب هابل (فضائية)



🌐 الأقمار الصناعية الدوارة نافذة ثابتة على الفضاء

هي مرصد فلكية تدرس النجوم والمجرات من موقعها خارج الغلاف الجوي للأرض ومنها القمر الصناعي سبوتنيك.

القمر الصناعي سبوتنيك.

- ★ أطلق عام ١٩٥٧ م وهو أول مرصد فلكي لدراسة الأجرام السماوية من موقعها خارج الغلاف الجوي للأرض.
 - ★ وبعد ذلك تم إطلاق العديد من الأقمار والمحطات الفضائية في مدارات حول الأرض وهي ترسل صورا للكون بانتظام.
 - ★ عند النظر من خلال التلسكوب للفضاء الخارجي فإننا نرى < المجرات والمجموعة الشمسية.
- ### 🌐 المجرات < (وحدة الكون):

هي مجموعة من ملايين النجوم تكون جزرا من الضوء وسط فضاء من الظلام الدامس وتختلف في أشكالها.

🌐 مجرة درب التبانة: ★ لولبية الشكل ... ★ ولها أربع أذرع

★ وبها أكثر من مائتي مليار من النجوم ★ وفيها المجموعة الشمسية التي يتبعها كوكب الأرض الذي نعيش فيه.

🌐 المجموعة الشمسية: تقع على إحدى الأذرع الأربعة لمجرة درب التبانة وتشمل:

١. نجم الشمس ٢. كواكب المجموعة الشمسية التي تنقسم إلى :

١. كواكب صغيرة الحجم صخرية < عطارد * الزهرة * الأرض * المريخ

٢. كواكب ضخمة الحجم غازية < المشترى * زحل * أورانوس * نبتون

علل: المرصد الفلكية لا بد أن يكون سقفها على شكل قبة تنفتح أثناء الليل؟

للإكشاف التلسكوب وتوجيهه إلى الأجرام السماوية في الكون.

علل: إهتمام الإنسان منذ القدم برصد النجوم والكواكب؟ للبحث حتى يتمكن من تفسير الظواهر الكونية.

علل: كان يتم استطلاع هلال الشهر العربي قديما بالصعود فوق الجبال والمآذن؟

للإيضاح رؤية هلال القمر فوق المناطق المرتفعة عن سطح الأرض

علل: استكشاف الفضاء البعيد يتطلب وضع المراصد الفلكية خارج الغلاف الجوي للأرض؟

للإدقة رصد الفضاء بعيدا عن الملوثات

علل: ينشر الإنسان حاليا محطات فضائية ويرسل الأقمار الصناعية خارج الأرض؟

للإستكشاف الأجرام السماوية في الفضاء الخارجي للكون





الوحدة الرابعة: التركيب والوظيفة في الكائنات الحية

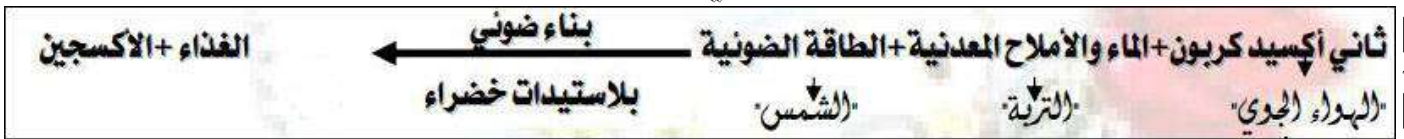
امتصاص وانتقال الماء والأملاح المعدنية في النبات



✿ التركيب الظاهري للنبات الأخضر

✿ يتكون النبات الأخضر من:

١. **المجموع الجذري**: يشمل الجذر وتفرعاته وما تحمله من الشعيرات الجذرية
 ٢. **المجموع الخضري**: يشمل الساق وتفرعاته وما تحمله من براعم وأوراق وأزهار وثمار بداخلها بذور.
- ✿ يكون النبات الأخضر غذاءه بعملية البناء الضوئي.



✿ يحتاج النبات كميات ضئيلة جدا من عناصر أخرى وهي ضرورية لحياة النبات مثل: الفوسفور ✿ الماغنسيوم ✿ الكالسيوم ✿ الزنك ✿ النيتروجين .

✿ امتصاص الماء والأملاح المعدنية من التربة يتم عن طريق الشعيرات الجذرية في الجذور.

✿ تركيب جذر النبات

✿ **المجموع الجذري** في النبات يتفرع ويحمل الشعيرات الجذرية.

✿ الشعيرات الجذرية تمتد من الجذر وهي:

مبطنة من الداخل بطبقة رقيقة من السيتوبلازم وفيها فجوة عصارية كبيرة.

✿ الشعيرات الجذرية

تمتد من طبقة البشرة التي تليها القشرة ثم الأندودرمس ثم الخشب.

✿ وظيفة المجموع الجذري في النبات:

✿ يتفرع ويتغلغل بين حبيبات التربة ليعمل على:

١. تثبيت النبات في التربة.

٢. يمتص الماء والأملاح فهو يغطي مساحة كبيرة من التربة بحثا عنهما

ويرفعها للمجموع الخضري لصنع الغذاء.

✿ عمر الشعيرة الجذرية بضعة أيام أو أسابيع لأن خلايا البشرة تتمزق

للبسبب الاحتكاك مع حبيبات التربة أثناء أثناء تمدد الجذر وتعوض الشعيرات الجذرية باستمرار...

✿ دور الشعيرات الجذرية وملاءمتها في امتصاص الماء والأملاح المعدنية:

١. **جذرها رقيقة** تسمح بنفاذ الماء والأملاح المعدنية خلالها

٢. **عددتها الكبير وامتدادها خارج الجذر** يزيد من مساحة سطح الامتصاص.

٣. **تركيز المحلول داخل فجوتها العصارية أكبر من تركيز محلول التربة** منطقة تركيز عال للماء

مما يساعد على انتقال الماء إليها من التربة بواسطة الخاصية الأسموزية.

٤. **تفرز الشعيرة الجذرية مادة لزجة** تساعد على تغلغل الجذر بين حبيبات التربة وتجذب الماء

فتعمل كأغشية مائية وتسهل عملية الإمتصاص.






✿ صعود العصارة من الجذر إلى باقي أجزاء النبات:

١. الماء < الخاصية الاسموزية

✿ تمتص الشعيرات الجذرية الماء من التربة إلى داخل الشعيرة الجذرية عبر غشائها شبه المنفذ عن طريق الخاصية الاسموزية (من التربة ذات تركيز الأملاح المنخفض إلى الفجوة العصارية للشعيرة الجذرية ذات تركيز الأملاح المرتفع.. أي من تركيز الماء المرتفع إلى تركيز الماء المنخفض)



✿ ثم ينتقل الماء خلال خلايا أنسجة الجذر من الشعيرة الجذرية إلى البشرة ثم القشرة ثم البشرة الداخلية (الأندودرمس) التي تنظم مرور الماء إلى الخشب الذي يرفع العصارة إلى الساق وباقي أجزاء النبات.

٢. الأملاح المعدنية < خاصية النفاذ الاختياري

✿ الغشاء الخلوي له خاصية النفاذ الاختياري حيث يسمح للأملاح التي يحتاجها النبات فقط بالمرور خلاله. لكي يقوم النبات بعملية الامتصاص يحتاج قدرا من الطاقة يحصل عليها من عملية التنفس.

✿ الخاصية الاسموزية:

عملية انتقال جزيئات الماء خلال غشاء شبه منفذ من منطقة ذات تركيز عالي للماء إلى منطقة ذات تركيز منخفض للماء.. (من التربة إلى الجذر)

✿ خاصية النفاذ الاختياري:

عملية انتقال جزيئات بعض الأملاح المعدنية فقط خلال غشاء شبه منفذ حسب حاجة النبات وبمساعدة الطاقة الناتجة عن عملية تنفس الجذر.. (من التربة إلى الجذر)

أهمية الغشاء الخلوي للشعيرة الجذرية في عملية الامتصاص:

الغشاء الخلوي شبه منفذ وبذلك ينظم عملية الامتصاص كما يلي:

١. يمتص الغشاء الخلوي الماء بالخاصية الاسموزية.
٢. يمتص الغشاء الخلوي الأملاح المعدنية بخاصية النفاذ الاختياري.

ماذا يحدث إذا لم يوجد الغشاء الخلوي؟

لا لاتتم عملية امتصاص الماء والأملاح المعدنية من التربة.

✿ عملية النتح:

هي عملية حيوية يفقد فيها النبات الماء على صورة بخار ماء من الأوراق والأجزاء الخضراء عن طريق فتحات (الثغور) إلى البيئة المحيطة.

✿ الثغر: فتحة تحاط بخليتين حارستين تغيران من شكلهما لفتح أو غلق الثغر.

✿ وتوجد الثغور وتنتشر بكثرة على السطح السفلي لأوراق النباتات.

✿ ويفقد النبات معظم الماء الذي يصل إلى الأوراق عن طريق الثغور في عملية النتح التي تسبب قوة تعمل على شد ورفع الماء والذائبات إلى أعلى.

ماذا يحدث في حالة عدم وجود ثغور؟

لا يستطيع النبات القيام بعملية النتح فلا يفقد الماء ولا تتولد قوة شد لرفع الماء والذائبات لأعلى.



ماذا يحدث في حالة عدم وجود الخليتين الحارستين في الثغور؟
 لا يفقد النبات كل مائه ويذبل ويموت لعدم فتح وغلق الثغر.
 ماذا يحدث إذا لم توجد الخاصية الأسموزية بالنبات؟
 لا يستطيع النبات امتصاص الماء من التربة

❖ كيفية انتقال الماء والذائبات إلى كل أجزاء النبات؟

بواسطة عملية النتح عن طريق فقد النبات للماء عن طريق ثغور الأوراق ..
 مما يولد قوة شد ترفع الماء والذائبات إلى أعلى النبات.

١. ينتقل الماء والذائبات من الشعيرات الجذرية للبشرة فالفقشرة فالأنودورمس ثم أوعية الخشب بالجذر
 ٢. ينتقل الماء والذائبات في أوعية الخشب بالساق
 ٣. يتبخر الماء من ثغور الأوراق عن طريق النتح فتتولد قوة شد
 ترفع العصارة فينتقل الماء والذائبات إلى جميع أجزاء النبات.
علل لما يأتي:

١. قدرة الشعيرات الجذرية على امتصاص الماء من التربة؟

لأن عدد الشعيرات الجذرية كبير مما يزيد من مساحة سطح الامتصاص * وجدها رقيقة تسمح بنفاذ الماء والأملاح.

٢. وجود ثغور على السطح السفلي لأوراق النبات؟

لأنه حتى يقوم النبات بعملية النتح وتتولد قوة شد لرفع العصارة.

٣. عمر الشعيرات الجذرية لا يتجاوز بضعة أسابيع؟

لأن طبقة بشرة الجذر تتمزق نتيجة احتكاكها بحبيبات التربة أثناء تمددها

٤. تركيز المحلول داخل الفجوة العصارية للنبات أكبر من تركيز

محلول التربة؟

لأنه حتى يمكن امتصاص الماء بالخاصية الأسموزية.

٥. تستطيع الشعيرات الجذرية في النبات امتصاص الماء من التربة؟

لأن تركيز المحلول داخل الفجوة العصارية أكبر من تركيز التربة مما يساعد على انتقال الماء إليها من التربة بواسطة الخاصية الأسموزية (من التركيز المرتفع للماء إلى التركيز المنخفض للماء)..
 حيث أن جدر الشعيرات الجذرية رقيقة.

٦. يوجد غشاء خلوي في الشعيرات الجذرية؟

لأنه غشاء شبه منفذ يسمح بمرور الماء بالخاصية الأسموزية.. والأملاح بخاصية النفاذ الاختياري.

