

السلطان



في الدراسات الإجتهادية
الصف السادس الابتدائي

الفصل
الدراسي الثاني



إعداد
محمد مفتحي



012 000 28 345

السلاطان مذكرات

6 الدراسات الإجتماعية الصف السادس الابتدائي

- شرح وافى ومبسط لجميع النقاط.
- أسئلة على أهم النقاط.
- مراجعة شاملة بعد كل درس.



www.facebook.com/EL.Sulttan

تابعنا على صفحتنا

الخصائص الطبيعية للبيئة الصحراوية

البيئة الصحراوية

هى المناطق التى يقل فيها المطر ويسود فيها الجفاف والفقر الشديد فى النبات وندرة والحيوان ويغضى سطحها الحصى والصخور والرمال.

تبلغ مساحة البيئة الصحراوية نحو: ٩٦% من مساحة مصر.

أولاً الموقع ومظاهر السطح

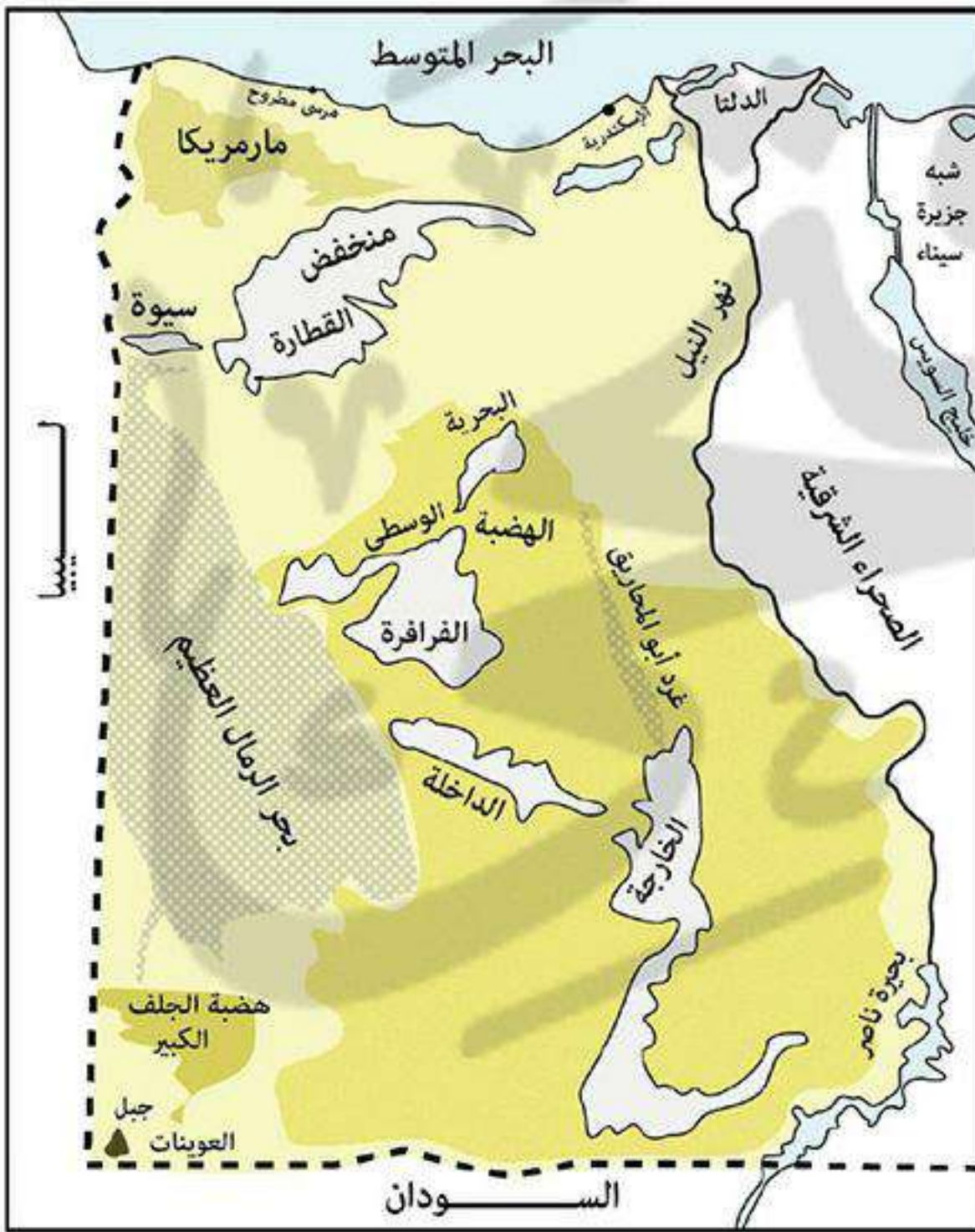
١ الصحراء الغربية

- **المساحة:** هى أكبر الصحارى المصرية وتمثل ٦٨% من مساحة مصر.
- **الموقع:**
 - شمالاً: ساحل البحر المتوسط.
 - جنوباً: حدود مصر مع السودان.
 - شرقاً: وادى النيل والدلتا.
 - غرباً: حدود مصر مع ليبيا.

■ مظاهر السطح:

- الجبال: مثل **جبل العوينات** جنوب غرب مصر يمتد فى مصر وليبيا والسودان.
- الهضاب: يوجد ثلاث هضاب هما:
 - **هضبة مارمريكا** فى الشمال.
 - **الهضبة الوسطى** فى الوسط.
 - **هضبة الجلف الكبير** فى الجنوب.

✱ يتشر فوق هذه الهضاب بعض الظواهرات الجغرافية مثل:



كثبان رملية

هى تجمعات من الرمال تتراكم فوق بعضها بفعل الرياح مثل: بحر الرمال العظيم.



الواحات

أرض منخفضة فى الصحراء تقوم بها الزراعة على المياه الجوفية (آبار - عيون) ويعيش بها السكان، مثل: **سيوة - البحرية - الفرافرة - الداخلة - الخارجة**.



المنخفضات

جزء من الأرض يقل مستواها عن مستوى الأجزاء المحيطة به مثل **منخفض القطارة**.



٢ الصحراء الشرقية

■ **المساحة:** تبلغ مساحتها نحو ٢٢٪ من مساحة مصر.

■ **الموقع:** • شمالاً: شرق الدلتا.

• جنوباً: حدود مصر مع السودان.

• شرقاً: ساحل البحر الأحمر وخليج السويس.

• غرباً: وادي النيل.

■ **مظاهر السطح:**

• **الجبال:** يوجد سلاسل جبال البحر الأحمر التي تمتد من الشمال الغربي إلى الجنوب الشرقي.

• *** جبل الشايب** هو أكثر جبال البحر الأحمر ارتفاعاً.

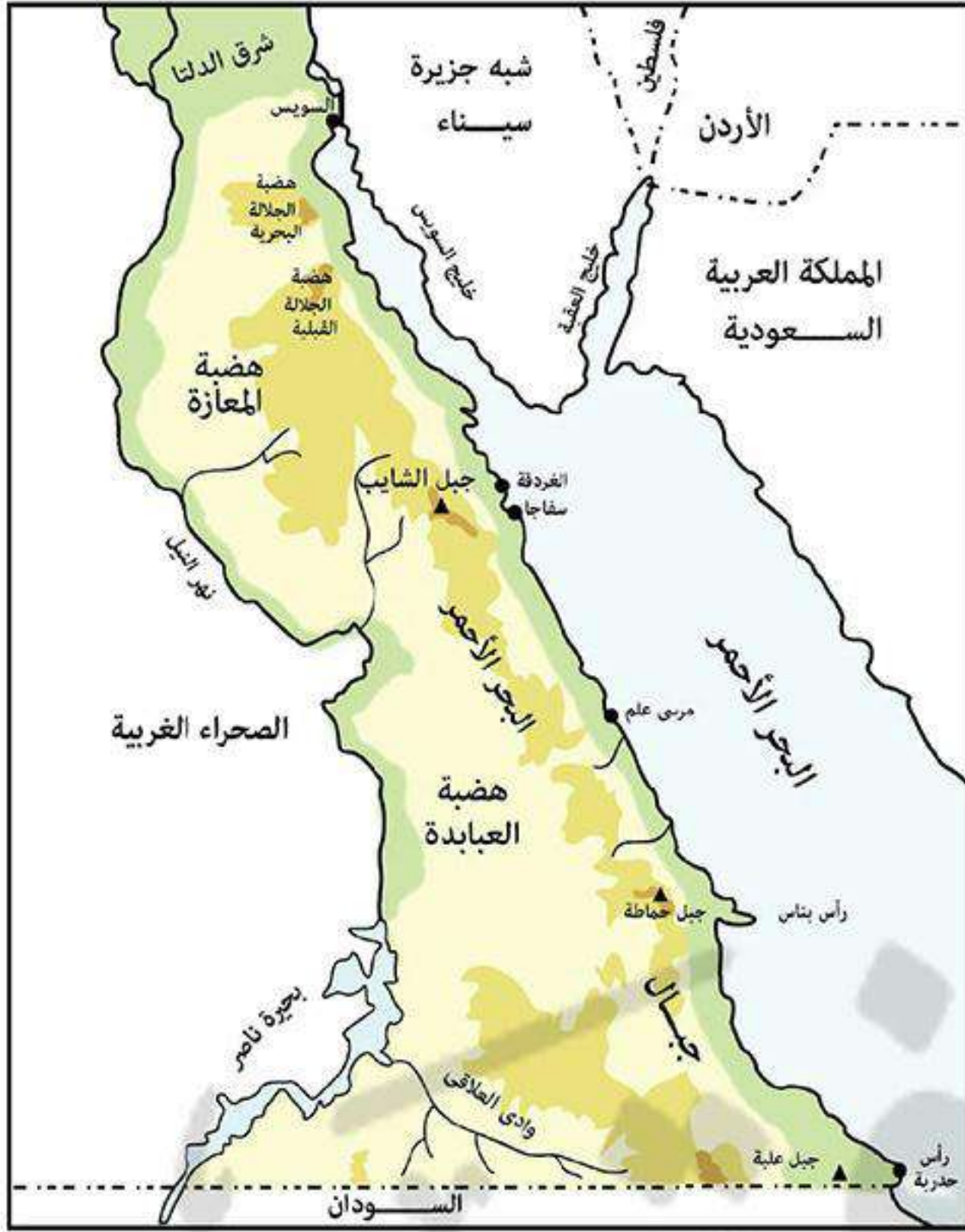
• **الهضاب:** - الجلالة البحرية. - الجلالة القبلية. - المعازة.

- العباددة: التي يقطعها الأودية الجافة مثل **وادي العلاقي**.

أودية جافة

هي مجاري مائية كانت تجري بها المياه ثم جفت.

تختفي المنخفضات والواحات في الصحراء الشرقية.



٣ شبه جزيرة سيناء

■ **المساحة:** تبلغ مساحتها نحو ٦٪ من مساحة مصر.

■ **الموقع:** تقع ما بين • شمالاً: ساحل البحر المتوسط.

• جنوباً: ساحل البحر الأحمر.

• شرقاً: خليج العقبة و حدود مصر مع فلسطين.

• غرباً: خليج السويس وقناة السويس.

■ **ينقسم سطح شبه جزيرة سيناء إلى ثلاثة أقسام هي:**

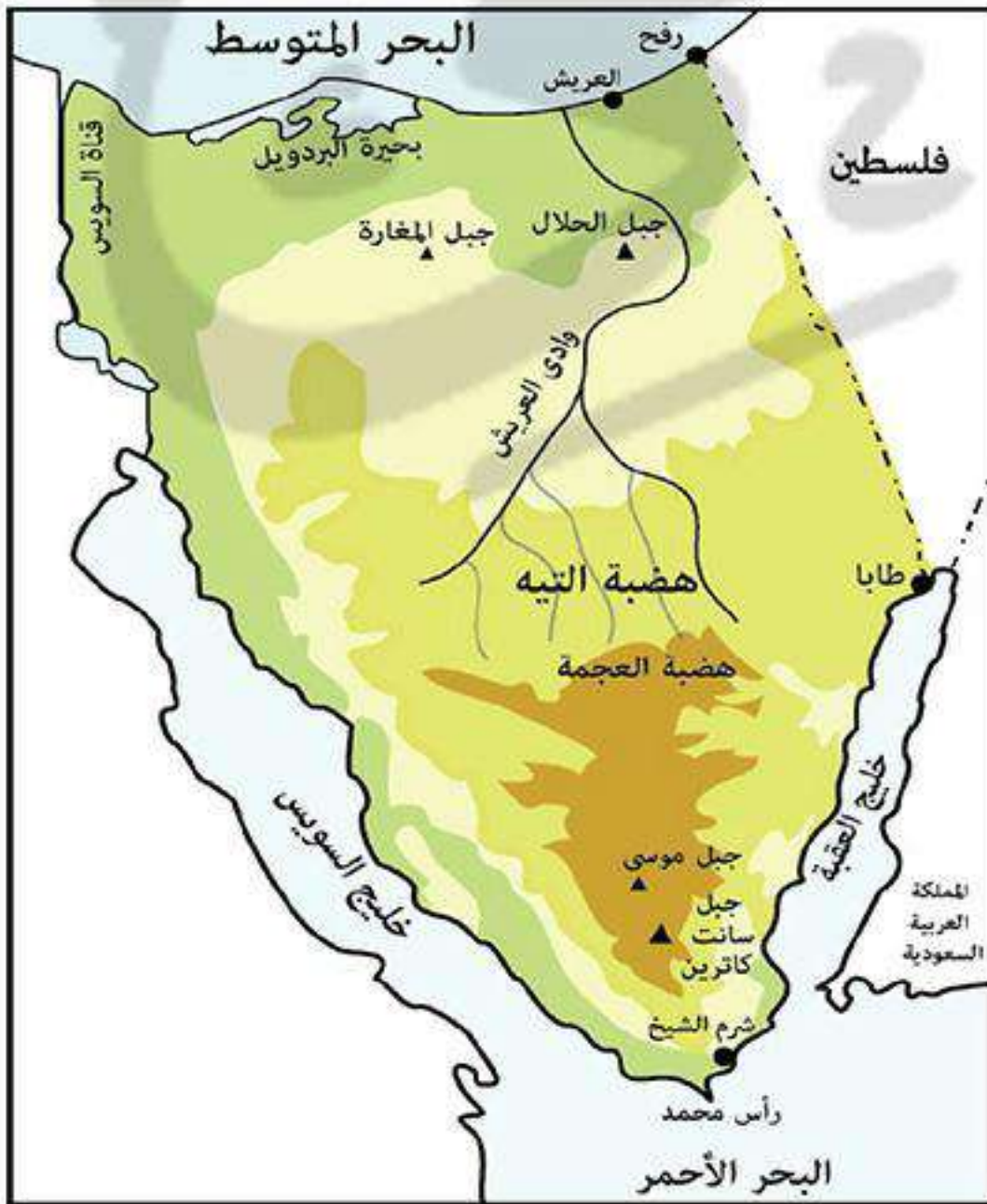
• **الجنوب:** يوجد به جبال مثل: - **جبل سانت كاترين** أعلى قمة في مصر.

- **جبل موسى**.

• **الوسط:** توجد هضاب مثل: **هضبة التيه** و **هضبة العجمة** ويخترقها

وادي العريش ويصب في البحر المتوسط.

• **الشمال:** توجد سهول ساحلية يظهر بها جبال قبابية قليلة الارتفاع مثل (**جبل المغارة - جبل الحلال**).



ثانياً المناخ في البيئة الصحراوية

الحرارة	- مرتفعة صيفاً. - منخفضة شتاءً خاصة في الليل.
الأمطار	تسقط فجائية على شكل سيول مدمرة كما يؤدي إلى: جريان المياه في بعض الأودية الجافة لفترة قصيرة.
الرياح	تهب في فصل الربيع رياح من الصحراء الغربية في شهر مارس وأبريل تسمى برياح الخماسين وهي ضارة بالنسبة للمحاصيل الزراعية والإنسان لأنها محملة بالرمال والأتربة.

ثالثاً موارد المياه (المياه الجوفية)



بئر ماء

• توجد المياه الجوفية في البيئة الصحراوية في شكل خزانات جوفية في باطن الأرض ويحصل عليها السكان من خلال حفر الآبار، وأحياناً تصل المياه تلقائياً إلى سطح الأرض في شكل عيون.

* السبب الرئيسي لوجود السكان بالواحات هو توافر **المياه الجوفية** التي تقوم عليها الزراعة والاستخدامات الأخرى.



عين ماء

رابعاً التربة

• تربة البيئة الصحراوية رملية صفراء فقيرة، لكن تزداد جودة التربة في الواحات.

خامساً النباتات الطبيعية والحيوان البرية

■ **النبات الطبيعي:** يتحمل الجفاف بطرق مختلفة منها:

- (١) مد جذوره إلى مسافات بعيدة للحصول على المياه الجوفية مثل أشجار **النخيل والدوم**.
- (٢) أن تكون له أوراق اسفنجية سميكة لتخزن المياه لمدة طويلة مثل نبات **الصبار**.
- (٣) أن تكون له أوراق أبرية لمقاومة الحرارة والجفاف مثل **النباتات الشوكية**.

* يتميز النبات الطبيعي بتبعثره ولكنه يتركز في:

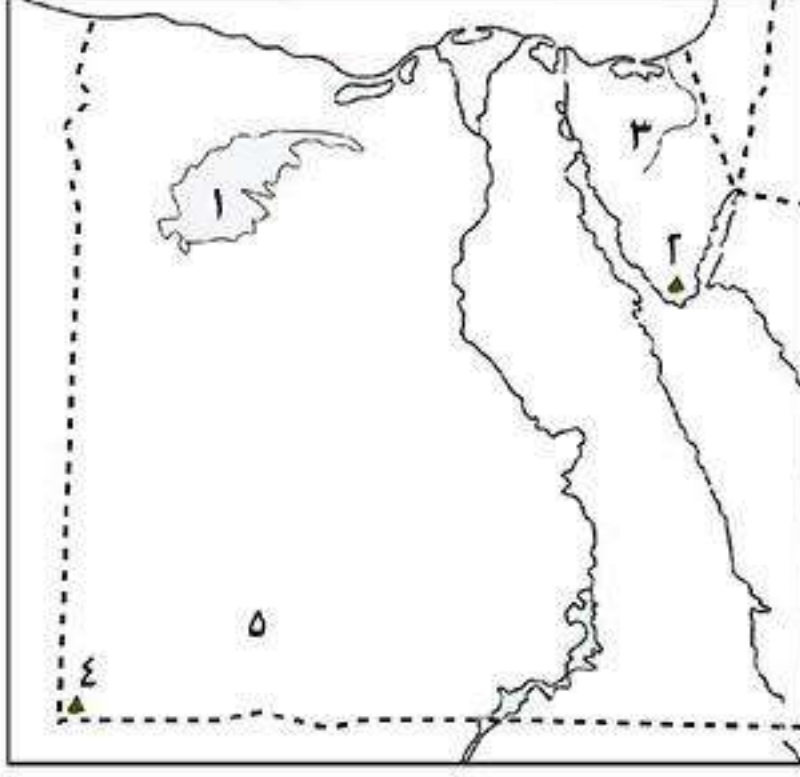
- مناطق الأودية أو الواحات لوجود المياه.
- مناطق السهول القريبة من السواحل حيث تسقط بعض الأمطار.



■ **الحيوانات البرية:** تعيش في الصحراء حيوانات تتحمل الجفاف

والبيئة القاسية مثل **الأرانب البرية والثعلب والجمال والغزال**.

أسئلة عامة على الدرس



أكتب ما تشير إليه الأرقام الآتية:

- (١) منخفض
- (٢) جبل
- (٣) وادى
- (٤) جبل
- (٥) هضبة

أكمل:

- (١) هى أكوام من الرمال تتراكم فوق بعضها بفعل الرياح.
- (٢) معظم مساحة مصر وتمثل % من مساحة مصر.
- (٣) أكبر جبال سيناء جبل بينما أكبر جبال الصحراء الشرقية جبل
- (٤) توجد هضبة مارمريكا فى الصحراء بينما توجد هضبة التيه فى
- (٥) تهب رياح من الصحارى المصرية فى شهرى و
- (٦) تقع الصحراء الشرقية ما بين شمالاً وحدود مصر مع دولة جنوباً.
- (٧) يعتمد سكان الواحات على فى الزراعة.
- (٨) تتميز الصحراء بوجود الواحات والمنخفضات.
- (٩) من أشهر الأودية الجافة فى سيناء وادى بينما يوجد وادى فى الصحراء الشرقية.
- (١٠) من أشهر المنخفضات الصحراوية منخفض فى الصحراء

بم تفسر:

- (١) انتشار الجفاف فى البيئة الصحراوية ؟
- (٢) رياح الخماسين ضارة ؟
- (٣) يطلق على البيئة الصحراوية بيئة طبيعية ؟
- (٤) تركز النبات الطبيعى فى البيئة الصحراوية فى الواحات والأودية ؟

ما النتائج المترتبة على :

- (١) قلة الأمطار فى البيئة الصحراوية ؟
- (٢) انتشار التربة الرملية الصفراء فى البيئة الصحراوية ؟
- (٣) وجود الآبار والعيون داخل الواحات ؟

أكتب ما تشير إليه الجمل الآتية:

١. أرض منخفضة وتتشرب بها المياه الجوفية.
٢. تجمعات رملية تتراكم فوق بعضها بفعل الرياح.
٣. رياح حارة محملة بالرمال والأتربة وضارة بالمحاصيل والإنسان.
٤. جزء من الأرض يقل مستواه عن الأراضى المحيطة به.

ما المقصود بالمصطلحات الآتية:

- (١) البيئة الصحراوية ؟
- (٢) رياح الخماسين ؟
- (٣) الواحة ؟

أختر الإجابة الصحيحة:

- (١) يحد الحراء الغربية من ناحية الشرق.
 - (٢) تبلغ مساحة الصحراء نحو ٢٢٪ من مساحة مصر.
 - (٣) الجبل الذى يقع معظمه خارج حدود مصر هو جبل.
 - (٤) الأمطار فى البيئة الصحراوية
 - (٥) توجد هضبة مارماريكا فى الصحراء الغربية وتقع فى الجزء.
 - (٦) أعلى قمة جبلية فى مصر جبل.
 - (٧) يتميز مناخ البيئة الصحراوية بارتفاع الحرارة فى فصل.
 - (٨) يوجد جبل شمال سيناء.
 - (٩) تمتد الصحراء الغربية من وادى النيل والدلتا شرقاً وحتى حدود مصر مع دولة غرباً.
- (البحر الأحمر - وادى النيل - البحر المتوسط - السودان)
(سيناء - الدلتا - الشرقية - الغربية)
(العوينات - الشايب - موسى - سانت كاترين)
(قليلة - نادرة - غزيرة - متوسطة)
(الأوسط - الجنوبى - الشمالى - الشرقى)
(العوينات - الشايب - موسى - سانت كاترين)
(الشتاء - الربيع - الخريف - الصيف)
(شومر - موسى - سانت كاترين - المغارة)
(فلسطين - السودان - ليبيا - السعودية)

أين توجد الظواهر الآتية الآتية:

- (١) منخفض القطارة ؟
- (٢) وادى العلاقى ؟
- (٣) هضبة مارماريكا ؟
- (٤) وادى العريش ؟
- (٥) هضبة العجمة ؟
- (٦) جبل الحلال ؟
- (٧) جبل الشايب ؟
- (٨) جبل العوينات ؟
- (٩) جبل سانت كاترين ؟
- (١٠) هضبة العباددة ؟

قارن بين:

- (١) الصحراء الغربية والصحراء الشرقية من حيث: (الموقع والمساحة).

برهن على صحة العبارات الآتية:

- (١) نبات النخيل يتكيف مع ظروف البيئة الصحراوية ؟
- (٢) الآبار والعيون هى السبب الرئيسى لوجود سكان فى الواحات ؟

الخصائص السكانية للبيئة الصحراوية

* رغم أن البيئة الصحراوية تشغل معظم مساحة مصر (٩٦٪ من مساحتها) إلا أن عدد سكانها قليل ويعيشون في خمس محافظات تسمى **محافظات الحدود**.

محافظات الحدود

هى المحافظات التى توجد فى البيئة الصحراوية وعددها خمس محافظات: **شمال سيناء - جنوب سيناء - البحر الأحمر - مطروح - الوادى الجديد**.



مناطق تركيز سكان البيئة الصحراوية

- (١) **الواحات**: للعمل فى الزراعة اعتماداً على **المياه الجوفية**.
- (٢) **مناطق التعدين** واستخراج البترول.
- (٣) **مناطق الرعى** حيث يوجد العشب والماء.

خصائص سكان البيئة الصحراوية

١ الخصائص الاجتماعية

- (١) حجم الأسرة كبير.
- (٢) الترابط الأسرى بين أفراد الأسرة.
- (٣) **التزاوج بين الأقارب**.

■ العادات الإيجابية والسلبية لسكان البيئة الصحراوية:

العادات السلبية

- (١) **الزواج المبكر**.
- (٢) **عمل الأطفال بالرعى والزراعة**.
- (٣) **العلاج بوسائل بدائية مما يؤدى إلى:**
زيادة الوفيات خاصة عند الأطفال.

العادات الإيجابية

- (١) **الحفاظ على التقاليد والتراث القديم فى عادات الزواج**.
- (٢) **احترام المجالس العرفية التى يرأسها شيخ القبيلة**.
- (٣) **إكرام الضيف**.
- (٤) **تكوين علاقات طيبة مع سكان البيئات الأخرى**.

■ تبذل الدولة جهود لتعديل بعض العادات من خلال:

- (١) **التوعية بعدم عمالة الأطفال والزواج المبكر**.
- (٢) **إقامة: المستشفيات وتوفير الرعاية الصحية**.

٢ الخصائص التعليمية

* ترتفع نسبة الأمية بين السكان فى المحافظات الصحراوية، لكن بدأت تقل فى السنين الأخيرة نتيجة جهود الدولة.

■ جهود الدولة لحل مشكلات التعليم فى البيئة الصحراوية:

← **أنشأت الدولة العديد من المدارس وبعض الكليات والمعاهد مما أدى إلى:**

- (١) **زيادة نسبة التعليم**.
- (٢) **وجود الكثير من الأطباء والمهندسين وأساتذة الجامعات من البيئة الصحراوية ويعملون فى خدمة المجتمع**.

٣ الخصائص الاقتصادية

(١) يعمل معظم السكان بحرفة الرعى والزراعة.

(٢) انخفاض مستوى المعيشة للسكان.

المشكلات الاقتصادية في البيئة الصحراوية:

أدى قلة الموارد الطبيعية في البيئة الصحراوية إلى ظهور العديد من المشكلات الاقتصادية منها:

(١) نقص الغذاء.

(٢) اعتمادهم على البيئات الأخرى لسد احتياجاتهم عن طريق التجارة فيما بينهم.

(٣) الهجرة إلى البيئات الأخرى.

جهود الدولة لحل المشكلات الاقتصادية لسكان البيئة الصحراوية:

(١) تعمير الصحراء واستصلاح الأراضي لزيادة الغذاء والتبادل التجارى مع البيئات الأخرى.

(٢) الاهتمام بالمشروعات السياحية بتشجيع المستثمرين على إنشاء فنادق وقرى سياحية.

(٣) تشجيع سياحة السفارى.

أسئلة عامة على الدرس

أكمل:

- (١) البيئة الصحراوية هي بيئات مصر وهى بيئات مصر سكاناً.
- (٢) يتركز السكان في الصحراء في ومناطق التعدين ومناطق
- (٣) يعتمد سكان الواحات في الصحراء على في الزراعة.
- (٤) يعمل معظم سكان الصحراء هو والزراعة.
- (٥) من محافظات الحدود في سيناء و.....
- (٦) لحل مشكلة التعليم أقامت الدولة عدد من والمعاهد و.....
- (٧) يهاجر سكان البيئة الصحراوية إلى البيئات الأخرى بسبب انخفاض
- (٨) يقل إنتاج في البيئة الصحراوية لقلة الأراضي الزراعية.
- (٩) من جهود الدولة لحل المشكلات الاقتصادية في البيئة الصحراوية الصحراء و..... الأراضي.
- (١٠) من العادات الإيجابية عند سكان البيئة الصحراوية الضيف والحفاظ على التقاليد والتراث القديم في
- (١١) من العادات السلبية لسكان البيئة الزراعية الزواج وعمل الأطفال بحرفة و.....
- (١٢) ترتب على علاج سكان البيئة الصحراوية بالوسائل البدائية زيادة عدد خاصة من
- (١٣) من محافظات الحدود في الصحراء الغربية و.....
- (١٤) من جهود الدولة لتعديل بعض العادات السلبية في البيئة الصحراوية التوعية بعدم المبكر.
- (١٥) تقوم الدولة بإنشاء مستشفيات في البيئة الصحراوية لتوفير الرعاية

بم تفسر:

- (١) استقرار سكان الصحراء في الواحات ؟
- (٢) هجرة أعداد كبيرة من سكان البيئة الصحراوية إلى البيئات الأخرى ؟
- (٣) انخفاض نسبة الأمية في البيئة الصحراوية مؤخراً ؟
- (٤) يعاني سكان البيئة الصحراوية من مشكلات اقتصادية عديدة ؟

ما النتائج المترتبة على:

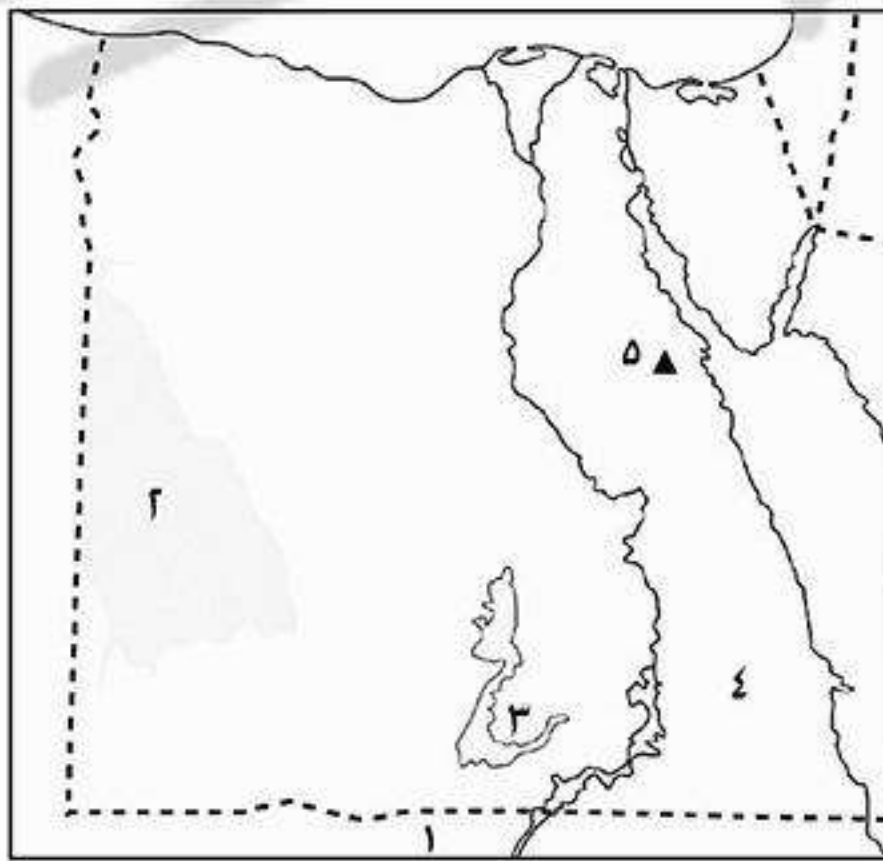
- (١) تراجع نسبة الأمية في المحافظات الصحراوية ؟
- (٢) قلة الموارد الطبيعية في البيئة الصحراوية ؟

أكتب ما تشير إليه الجمل الآتية:

- (١) المياه التي نحصل عليها عن طريق الآبار والعيون.
- (٢) أرض منخفضة في الصحراء تقوم فيها حرفة الزراعة على المياه الجوفية وسكانها مستقرون.
- (٣) محافظات مصرية توجد بالبيئة الصحراوية.

ضع علامة (✓) أو (×) مع التصويب:

- () (١) سكان البيئة الصحراوية هم سكان المحافظات الحدودية.
- () (٢) من العادات الإيجابية لسكان البيئة الصحراوية الزواج المبكر.
- () (٣) ترتفع نسبة الأمية في المحافظات الحدودية.
- () (٤) يستقر عدد كبير من سكان البيئة الصحراوية في الأودية الجافة.
- () (٥) يتركز سكان البيئة الصحراوية في الواحات بالصحراء الشرقية.
- () (٦) حجم الأسرة في البيئة الصحراوية عادة صغير.
- () (٧) تتسم البيئة الصحراوية في مصر بكثرة عدد سكانها.

اختبار**أكتب ما تشير إليه الأرقام الآتية:**

- (١) دولة
- (٢) كثبان رملية
- (٣) واحة
- (٤) هضبة
- (٥) جبل

ما النتائج المترتبة على:

- (١) مظاهرات عابدين ١٨٨١ م ؟
- (٢) ندرة الأمطار في البيئة الصحراوية ؟

بم تفسر:

- (١) يتغلب نبات النخيل على الجفاف في البيئة الصحراوية ؟

- (٢) هجرة بعض سكان البيئة الصحراوية إلى البيئات الأخرى ؟
 (٣) دعوة محمد فريد لإنشاء مدارس ليلية ؟

أكمل:

- (١) قدم أحمد عرابى فى ٩ سبتمبر مطالب الأمة ومنها
 (٢) خلف مصطفى كامل فى كفاحه الزعيم
 (٣) احتلت مصر فى ١٤ سبتمبر ١٨٨٢ م.
 (٤) ترتفع فى البيئة الصحراوية لكن بدأت تقل نسبتها لقيام الدولة بإنشاء مدارس وجامعات.

أكتب ما تشير إليه الجمل الآتية:

- (١) تجمعات من الرمال تأخذ أشكالاً مختلفة وتنتشر فى مناطق الصحارى.
 (٢) دعا لإنشاء مجلس نيابى ومدارس ليلية لتعليم العمال.

أختار الإجابة الصحيحة:

- (١) أسس جريدة اللواء عام ١٩٠٠ م. (محمد فريد - مصطفى كامل - طلعت حرب - سعد زغول)
 (٢) فشلت القوات البريطانية فى دخول مصر عن طريق. (قناة السويس - التل الكبير - كفر الدوار - كفر الشيخ)
 (٣) احتلت القوات البريطانية مصر بعد هزيمة القوات المصرية فى معركة. (كفر الدوار - التل الكبير - القاهرة - الإسماعيلية)
 (٤) التحق أحمد عرابى بالجيش فى عهد. (توفيق - إسماعيل - سعيد - محمد على)

ضع علامة (✓) أو (×) مع التصويب:

- () (١) مساحة الصحراء الشرقية أكبر من مساحة الصحراء الغربية.
 () (٢) تختفى ظاهرة المنخفضات من سطح الصحراء الغربية.
 () (٣) الجاموس والأبقار من حيوانات الرعى بالبيئة الصحراوية.
 () (٤) يعمل معظم سكان البيئة الصحراوية بصناعة السيارات.
 () (٥) يعتمد سكان الواحات على مياه الأمطار فى الزراعة.
 () (٦) يتسم مناخ البيئة الصحراوية بغزارة الأمطار.

ما الدروس المستفادة من: هزيمة أحمد عرابى فى معركة التل الكبير ؟**ماذا يحدث لو:**

- (١) لم تتعرض مصر لرياح الخماسين ؟
 (٢) سقوط الأمطار بانتظام طوال العام فى الصحراء ؟

أذكر عملاً واحداً لكل من:

- (١) أحمد عرابى ؟
 (٢) محمد سعيد باشا ؟
 (٣) محمد فريد ؟
 (٤) فرديناند دليسيبس ؟

الموارد والأنشطة الاقتصادية في البيئة الصحراوية

★ يمارس سكان البيئة الصحراوية العديد من الأنشطة الاقتصادية وذلك

بسبب تنوع الموارد الطبيعية.

أنشطة اقتصادية

الأعمال التي يقوم بها الإنسان مثل: الزراعة والصناعة والتجارة والتعدين والسياحة وغيره.

أهم الأنشطة الاقتصادية

١ الرعي

■ **الرعي:** يمارسه بعض سكان الصحراء ويتنقل الرعاة في الصحراء من مكان لآخر بحثاً عن العشب والماء.

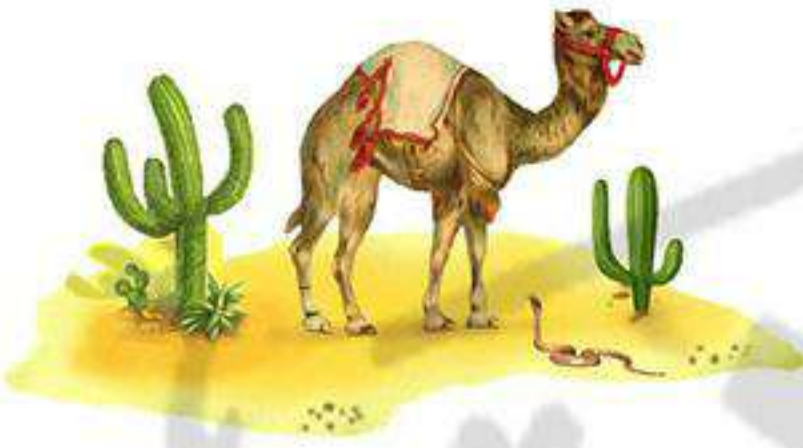
■ **من القبائل التي تقوم بحرفة الرعي:**

• قبيلة أولاد علي في محافظة مطروح بالصحراء الغربية.

• قبيلة العبابدة بالصحراء الشرقية.

• بعض القبائل في سيناء.

■ **أهم حيوانات الرعي:** أبل - ماعز - أغنام، وهي توفر الألبان واللحوم والصوف والجلود.



٢ الزراعة

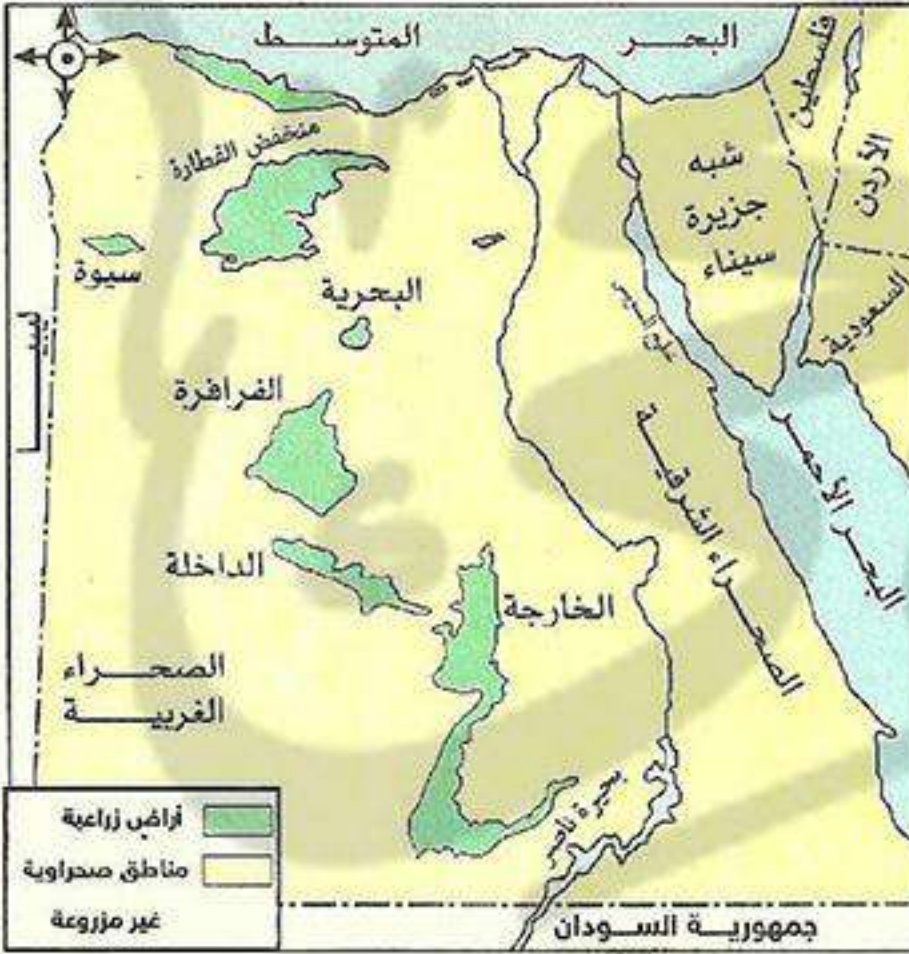
■ **توجد الزراعة في الواحات مثل:** (سيوة - داخلية - خارجة - البحرية - الفرافرة).

■ **أهم المحاصيل الزراعية:**

• حبوب غذائية: قمح وشعير (وهي مهمة لسد حاجة السكان من الغذاء).

• نباتات شجرية: مثل أشجار نخيل - المشمش - الزيتون.

• نباتات طبية: هي نباتات تستخدم في علاج بعض الأمراض.



٣ الصناعات الحرفية

■ **أهم الصناعات الحرفية في البيئة الصحراوية:**

• صناعة حفظ التمور.

• صناعة السجاد اليدوي.

بم تفسر: قيام صناعة حفظ التمور بالبيئة الصحراوية ؟

بسبب: وفرة الأيدي العاملة وكثرة أشجار النخيل.

بم تفسر: قيام صناعة السجاد اليدوي بالبيئة الصحراوية ؟

بسبب: وفرة وبر الأبل وصوف الأغنام.

الصناعة

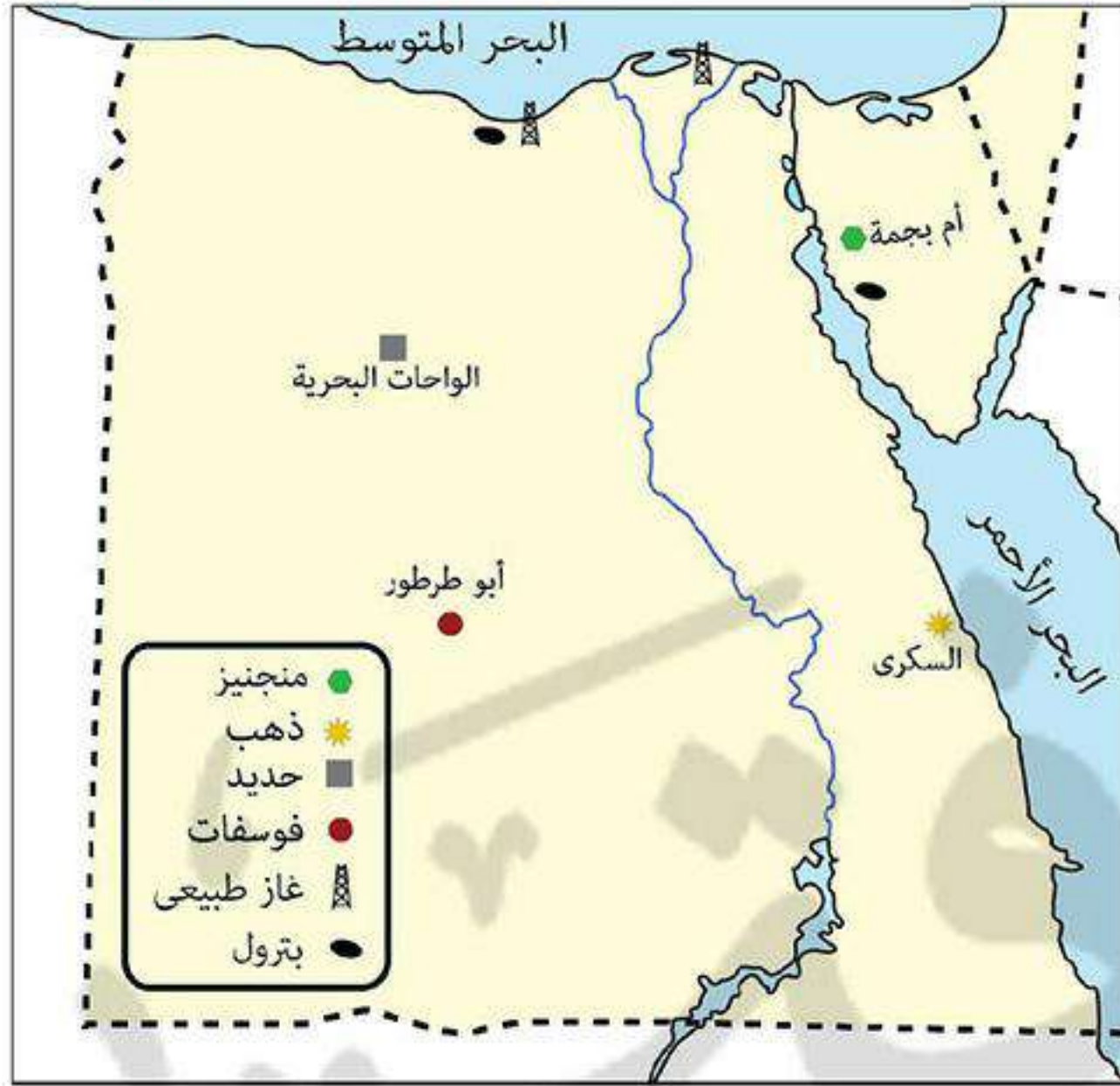
هي تحويل المواد الخام الزراعية والحيوانية والمعدنية إلى منتجات يستفيد منها الإنسان.



صناعة السجاد اليدوي

التعدين

عملية استخراج المعادن من باطن الأرض.



التعدين واستخراج البترول

* يعمل عدد كبير من سكان الصحراء في التعدين وقد استقروا

في المراكز العمرانية القريبة من مناطق التعدين.

■ أهم الموارد المعدنية بالبيئة الصحراوية:

- الحديد: يوجد في الواحات البحرية.
- الفوسفات: يوجد في أبو طرطور بالواحات الداخلية.
- المنجنيز: يوجد في أم بجمة بسيناء.
- الذهب: يوجد في مناجم السكرى بالصحراء الشرقية.
- البترول والغاز الطبيعي: يوجد في سيناء على سواحل خليج السويس وشمال الصحراء الغربية.

السياحة

* تعتبر السياحة من الأنشطة الاقتصادية المهمة في البيئة الصحراوية.

بم تفسر: السياحة من الأنشطة الاقتصادية المهمة في البيئة الصحراوية ؟

لتوافر: مقومات جذب السياح في البيئة الصحراوية مثل:

توافر المنشآت السياحية من فنادق ونجيمات وطرق جيدة لخدمة السياحة مثل فنادق الواحات البحرية وساحل البحر الأحمر.



فندق بالواحات البحرية

تعدد المزارات السياحية مثل دير سانت كاترين وجبل موسى حيث السياحة الدينية.



دير سانت كاترين

مناظر طبيعية خلابة تجذب السياح للقيام بسياحة السفاري مثل الصحراء البيضاء بالفراة.



الصحراء البيضاء

نباتات وطيور وحيوانات نادرة مثل: الكبش الجبلي.



الكبش الجبلي

سياحة دينية

سياحة الغرض منها زيارة المساجد والكنائس والأديرة والمنشآت الدينية.



مذكرات السلطان

www.facebook.com/EL.Sulttan

أسئلة عامة علم الدرس

أكمل:

- (١) يعتبر هو الحرفة الرئيسية في البيئة الصحراوية.
- (٢) يوجد الذهب في مناجم بالصحراء الشرقية.
- (٣) من المزارات الدينية في شبه جزيرة سيناء و.....
- (٤) من مناطق استخراج الحديد في الصحراء الغربية
- (٥) يستخرج الفوسفات من مناجم
- (٦) تعيش قبائل العباددة في الصحراء ويعملون بحرفة
- (٧) توجد الصحراء البيضاء بواحة
- (٨) من الصناعات الحرفية في البيئة الصحراوية حفظ و..... اليدوي.
- (٩) سياحة الغرض منها التمتع بالبيئة الطبيعية مثل زيارة بواحة الفرافرة.

بم تفسر:

- (١) قيام البدو بتربية الإبل والماعز والأغنام ؟
- (٢) يطلق على بعض النباتات الصحراوية اسم النباتات الطبية ؟
- (٣) قيام حرفة السجاد اليدوي في البيئة الصحراوية ؟

ضع علامة (✓) أو (×) مع التصويب:

- (١) الأنشطة الاقتصادية في البيئة الصحراوية محدودة. ()
- (٢) توجد حرفة الزراعة في البيئة الصحراوية في الأودية. ()
- (٣) الجاموس والأبقار من حيوانات الرعى بالبيئة الصحراوية. ()
- (٤) صناعة السيارات من الصناعات التي تتم في البيئة الصحراوية. ()
- (٥) يوجد المنجنيز في أبو طرطور بسيينا. ()

ما النتائج المترتبة على:

- (١) عدم وجود واحات في الصحراء الشرقية ؟
- (٢) توافر المعادن والبترو في البيئة الصحراوية ؟
- (٣) تنوع الموارد الطبيعية في البيئة الصحراوية ؟

اكتب ما تشير إليه العبارات الآتية:

- (١) قبيلة تعيش في محافظة مطروح وتقوم بحرفة الرعى.
- (٢) من الصناعات الغذائية الهامة في البيئة الصحراوية.
- (٣) سياحة تتم داخل الصحراء والهدف منها الاستمتاع بالمنظر الطبيعية الخلابة.

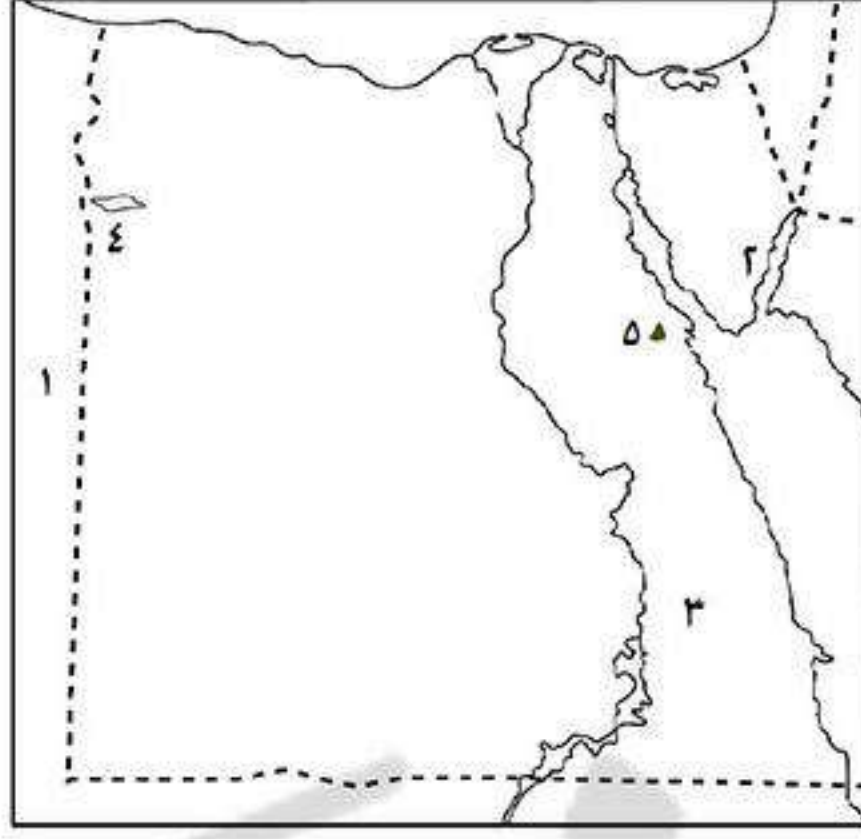
برهن على صحة العبارة الآتية:

- (١) تنوع المعادن في البيئة الصحراوية ؟

ما المقصود بالمصطلحات الآتية:

- (١) نباتات طبية ؟
- (٢) تعدين ؟

اختبار



أكتب ما تشير إليه الأرقام الآتية:

- (١) دولة
- (٢) خليج
- (٣) الصحراء
- (٤) واحة
- (٥) جبل

بم تفسر:

- (١) دعوة محمد فريد لإنشاء مدارس ليلية ؟
- (٢) خيب مؤتمر الصلح في باريس ١٩١٩م آمال المصريين ؟
- (٣) نمو النبات الطبيعي في البيئة الصحراوية ؟
- (٤) اهتمام بالبدو بتربية الأغنام والإبل والماعز ؟
- (٥) ازدياد التدخل الأجنبي في شئون مصر من أسباب الثورة العربية ؟

أكمل:

- (١) أصدر الزعيم مصطفى كامل جريدة
- (٢) أعلنت الحماية على مصر في عام ١٩١٤م.
- (٣) تأسس بنك في ١٩٢٠م.
- (٤) من الخصائص الاجتماعية لسكان البيئة الصحراوية أن حجم الأسرة وبين الأقارب.
- (٥) يعد الزواج المبكر من العادات لسكان البيئة الصحراوية.
- (٦) يقل إنتاج في البيئة الصحراوية نتيجة قلة الأراضي الزراعية.

أكتب ما تشير إليه الجمل الآتية:

- (١) قائد ثورة الجيش المصري عام ١٨٨١م.
- (٢) زعيم وطني تم نفيه إلى جزيرة مالطة.
- (٣) أنشأ الحزب الوطني عام ١٩٠٧م.

ما المقصود بـ: (١) الواحة ؟ (٢) منخفض ؟

صوب ما تحته خط :

- (١) تخلت إنجلترا عن مساندة القضية المصرية بعد عقد الاتفاق الودي سنة ١٩٠٤م.
- (٢) التحق أحمد عرابي بالجيش في عهد الخديو توفيق.
- (٣) رفض مصطفى كامل مد امتياز شركة قناة السويس.
- (٤) تأسس بنك مصر في أبريل ١٩٢٠م على يد سعد زغلول.
- (٥) يعيش معظم سكان البيئة الصحراوية في محافظات زراعية.
- (٦) تربة البيئة الصحراوية تربة طينية سوداء.
- (٧) يهتم سكان البيئة الصحراوية بالصناعات الثقيلة.
- (٨) يعيش سكان البيئة الصحراوية في ١١ محافظة.

تنمية البيئة الصحراوية

★ يوجد العديد من المشكلات التي يعاني منها سكان البية الصحراوية وبذلت الدولة جهود لحلها.

أهم المشكلات البيئية فى البيئة الصحراوية

١ ندرة المياه

★ ندرة الأمطار فى البيئة الصحراوية يؤثر سلباً على نمو النبات الطبيعى.

ما النتائج المترتبة على: ندرة الأمطار فى البيئة الصحراوية ؟

ترتب علمه ذلك: (١) أصبحت التربة رملية صفراء وفقيرة.

(٢) ندرة النبات الطبيعى.

★ بدأ ينخفض منسوب المياه الجوفية فى الآبار بسبب الإسراف فى استخدامها خاصة فى الزراعة.



٢ حركة الرمال

ما النتائج المترتبة على: حركة الرمال بفعل الرياح ؟

ترتب علمه ذلك: (١) إتلاف الحقول الزراعية.

(٢) ردم الآبار وزيادة التصحر.

(٣) تعطيل حركة النقل لتراكم الرمال على الطرق.

حركة الرمال

وجود كميات كبيرة من الرمال المفككة تقوم الرياح بتحريكها من مكان لآخر، وأحياناً نحو الأرض الزراعية مما يفسد التربة.

التصحر

تدهور التربة الزراعية وانخفاض قدرتها الإنتاجية.

٣ السيول

★ هى تجمع كميات كبيرة من مياه الأمطار ثم تندفع بشدة فى الأودية المنتشرة فوق المرتفعات.

ما النتائج المترتبة على: حدوث السيول فى البيئة الصحراوية ؟

يترتب علمه ذلك: (١) تدمير الحقول الزراعية.

(٢) تدمير المباني الطرق وتعطيل حركة النقل.



٤ تملح التربة

★ أى تراكم الأملاح على سطح التربة وداخل مسامها بسبب: تبخر المياه وترسب الملح على سطح التربة

جهود الدولة لتنمية البيئة الصحراوية

■ أقامت الدولة العديد من مشروعات التنمية في البيئة الصحراوية ومنها:

- (١) إنشاء شبكة من الطرق لتسهيل حركة التجارة ونقل الركاب وربط الصحراء بالوادي والدلتا.
- (٢) إقامة مشروع استزراع الكثبان الرملية جنوب واحة سيوة لتثبيت الرمال ومراقبة حركتها على الطرق.
- (٣) استصلاح الأراضي في البيئة الصحراوية.
- (٤) حفر آبار عميقة في مناطق استصلاح الأراضي مثل مشروع شرق العوينات.

- (٥) إنشاء سدود على الأودية التي تتعرض للسيول مثل سد الروافعة على وادي العريش، لحجز المياه واستخدامها وقت الحاجة.
- (٦) الاهتمام بالمحميات الطبيعية مثل:

- جزر سالوجا وغزال في أسوان جنوب مصر.
- الزرائق في شمال سيناء.
- محمية وادي الريان في الفيوم.



أسئلة عامة علم الدرس

أكمل:

- (١) أنشئ سد على وادي العريش لحجز والاستفادة منها وقت الحاجة.
- (٢) أقيم مشروع جنوب واحة لتثبيت الرمال ومراقبة حركتها.
- (٣) يقوم مشروع شرق العوينات اعتماداً على المياه
- (٤) من المحميات الطبيعية في مدينة أسوان و
- (٥) توجد محمية في شمال سيناء.
- (٦) التصحر هو الأرض الزراعية وانخفاض قدرتها
- (٧) تؤثر ندرة سلباً على نمو النبات الطبيعي.
- (٨) تؤدي حركة الرمال إلى إتلاف وردم وزيادة التصحر.
- (٩) تؤدي السيول إلى تدمير مما يؤدي لتعطيل حركة النقل.

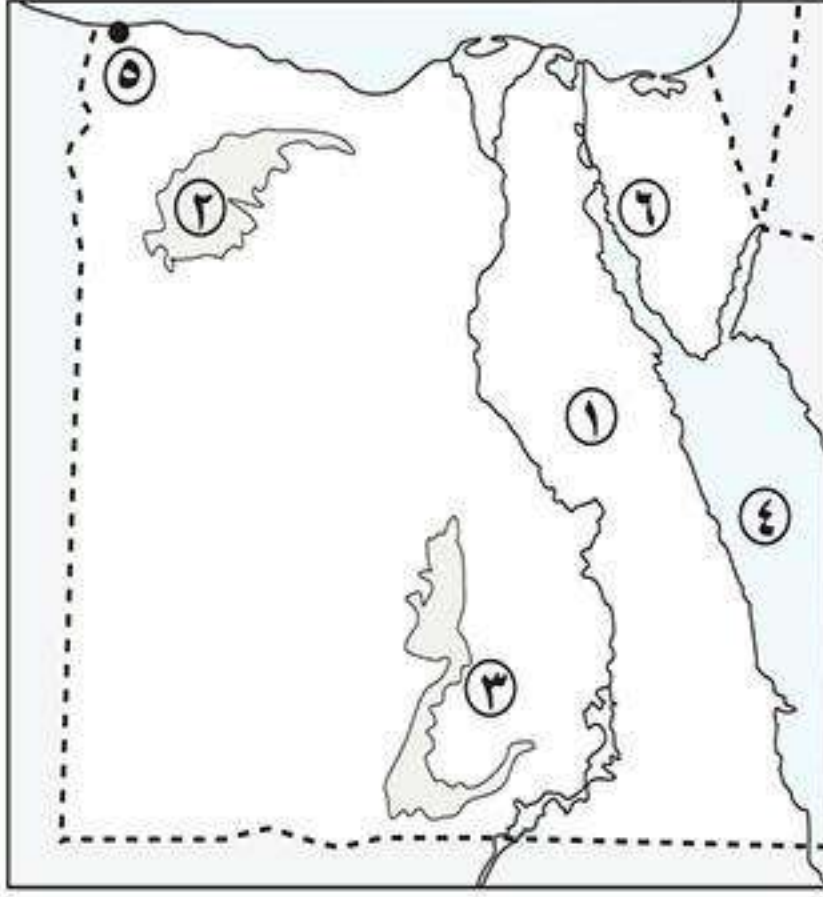
بم تفسر:

- (١) انخفاض منسوب المياه الجوفية ؟
- (٢) قيام الدولة بإنشاء سد الروافعة ؟
- (٣) تملح التربة في البيئة الزراعية ؟
- (٤) إقامة مشروعات استزراع الكثبان الرملية ؟

ما النتائج المترتبة على:

- (١) حدوث السيول ؟
- (٢) حركة الرمال في البيئة الصحراوية ؟

اختبار



أكتب ما تشير إليه الأرقام الآتية:

- (١) الصحراء
- (٢) منخفض
- (٣) واحة
- (٤) البحر
- (٥) مدينة
- (٦) خليج

بم تفسر:

- (١) السياحة من الأنشطة الاقتصادية المهمة في البيئة الصحراوية ؟
- (٢) تدمير ضباط الجيش المصري في عهد الخديو توفيق ؟

ما النتائج المترتبة على:

- (١) عقد فرنسا الاتفاق الودى عام ١٩٠٤م ؟
- (٢) خطب ومقالات مصطفى كامل ؟
- (٣) مظاهرة عابدين ١٨٨١م ؟

أكمل:

- (١) احتلت القوات البريطانية مصر بعد هزيمة الجيش المصري في
- (٢) بدأ (أحمد عرابي) كفاحه منذ عصر الخديو
- (٣) عزل اللورد كرومر من منصبه عقب حادثة
- (٤) أعلنت بريطانيا
- (٥) عقب تصريح ٢٨ فبراير ١٩٢٢م تم إصدار
- (٦) تم نفى في مارس ١٩١٩م إلى جزيرة مالطة.

أختار الإجابة الصحيحة:

- (مصطفى كامل - محمد فريد - سعد زغلول - أحمد عرابي)
 (محمد فريد - مصطفى كامل - أحمد عرابي - سعد زغلول)
 (الوقائع - المؤيد - الأهرام - اللواء)
 (أم بجمة - أبو طرطور - مرجان - بلاعيم)

- (١) تشكلت أول حكومة دستورية برئاسة عام ١٩٢٤م.
- (٢) دعا لتأسيس حكومة وطنية.
- (٣) أسس مصطفى كامل جريدة عام ١٩٠٠م.
- (٤) يستخرج الفوسفات من

ما المقصود بـ:

- (١) الواحات ؟
- (٢) التعدين ؟

ضع علامة (✓) أو (×) مع التصويب:

- () (١) يقع سد الروافعة على وادى العلاقى.
- () (٢) يعد جبل سانت كاترين أعلى قمة جبلية في مصر.
- () (٣) مساحة الصحراء الشرقية أكبر من مساحة الصحراء الغربية.
- () (٤) حرص الاحتلال البريطانى على زيادة ميزانية التعليم بمصر.

01200028345

٢ مظاهر السطح

١ السهول الساحلية

- **السهول الساحلية:** هي أرض شبه مستوية السطح، تمتد من خط الساحل إلى مسافات داخل اليابس.
- تنقسم السهول الساحلية في مصر إلى:

السهول ساحلية مطلة البحر الأحمر



■ تنقسم إلى:

(١) ساحل البحر الأحمر:

- **تمتد بين:** البحر الأحمر شرقاً وجبال البحر الأحمر غرباً.
- **تتميز ب:** الضيق في مناطق وتتسع بشكل عام بالاتجاه جنوباً.
- (٢) **السهل الساحلي على خليج السويس:** يكون أكثر اتساعاً.
- (٣) **السهل الساحلي على خليج العقبة:** يتميز بالضيق لاقتراب الجبال من ساحل البحر.

السهول ساحلية مطلة البحر المتوسط



■ تتميز ب:

- الاتساع والانبساط بشكل عام.
- يغطي معظمها رمال ناعمة.
- يوجد بها ظواهر طبيعية مثل:
- الكثبان الرملية.
- سلاسل التلال الجيرية ناصعة البياض (على طول الساحل الشمالى الغربى لمصر).

بم تفسر: أهمية التلال الجيرية على الساحل الشمالى الغربى لمصر ؟
لأنها: تقوم بتخزين مياه الأمطار ويستفاد منها في حفر الآبار.

ب الخلجان والرعوس الأرضية

ساحل البحر الأحمر

■ تتميز بوجود:

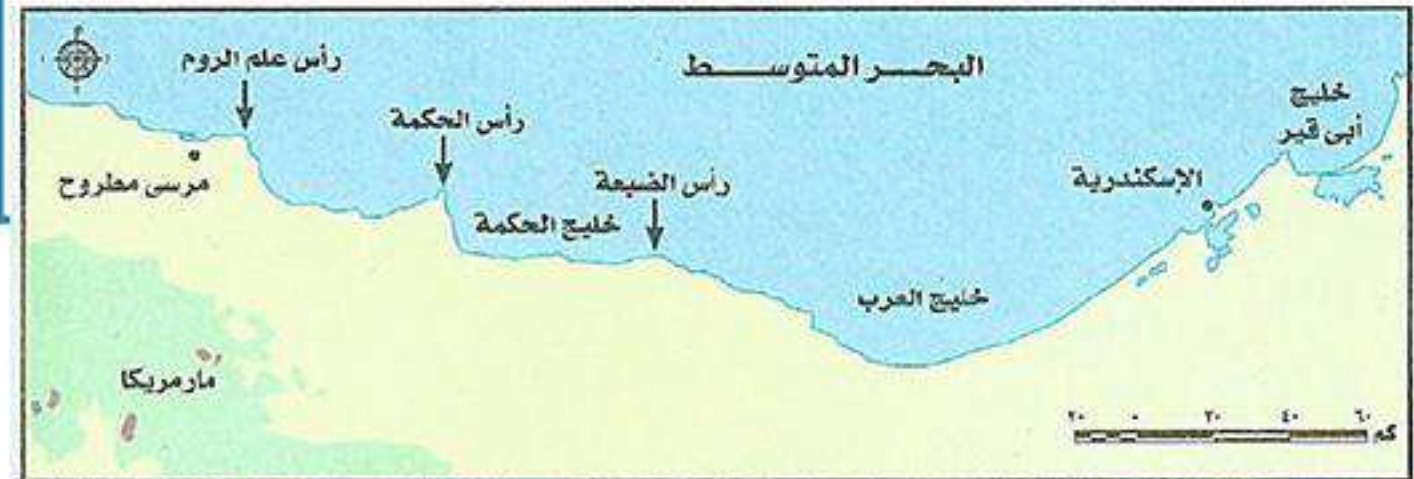
- خلجان مثل: خليج السويس - خليج العقبة.
- شروم مثل: شرم الشيخ - نويبع مما ساعد على إنشاء العديد من الموانئ عليها.
- رؤس أرضية: وهي قليلة مثل: رأس بناس.



ساحل البحر المتوسط

■ تتميز بوجود:

- خلجان متسعة مثل: خليج أبو قير - خليج العرب.
- رؤس أرضية مثل: رأس الضبعة - رأس الحكمة - رأس علم الروم.



شرم

خليج ذو مدخل ضيق متعمق في اليابس.

رأس أرضية

امتداد أرضي من اليابس داخل البحر.

خليج

توغل لجزء من البحر في اليابس ويتصل بالبحر بفتحة واحدة.

ج الشعاب المرجانية

* تنتشر الشعاب المرجانية في مناطق متفرقة على ساحل البحر الأحمر فقط.

بم تفسر: نمو الشعاب المرجانية بسواحل البحر الأحمر ؟

بسبب: (١) صفاء المياه.

(٢) هدوء حركة المياه.

(٣) ارتفاع حرارة المياه.

بم تفسر: أهمية الشعاب المرجانية ؟

لأنها: أحد عوامل جذب السياح لأنها تتميز بألوانها الخلابة ومناظرها الجميلة.



٣ المناخ في البيئة الساحلية

تتميز البيئة الساحلية بحرارة معتدلة طوال العام.

بم تفسر: اعتدال مناخ البيئة الساحلية طوال العام ؟

لأن: البحر يعمل على تلطيف درجة الحرارة معظم فصول السنة حتى وإن مالت إلى الارتفاع صيفاً.

• **صيفاً:** تهب رياح هادئة طوال العام تلطف الحرارة صيفاً.

• **شتاءً:** تهب رياح شديدة وتسقط أمطار غزيرة تتسبب في تقلب الجو وتعرف باسم **النوة** وهي تستمر عدة أيام متواصلة.

• **البحر المتوسط:** تسقط الأمطار في فصل الشتاء مما يساعد على قيام الزراعة في شمال سيناء والساحل الشمالى الغربى لمصر.

• **البحر الأحمر:** الأمطار نادرة وأحياناً تسقط أمطار شديدة على شكل سيول **تؤدى إلى:** تدمير الطرق والمنشآت



٤ النباتات الطبيعية والحيوان البرى

البحر الأحمر

■ **ينمو:**

- شجيرات المانجروف في المناطق الطينية.
- شجيرات الغرقد.



■ **يعيش:** القط البرى والقليل من الغزلان.

البحر المتوسط

■ **ينمو:**

- حشائش وأعشاب تعتبر مراعى طبيعية
- تربي عليها الأغنام والماعز.
- أشجار التين والزيتون.



■ **يعيش:** الغزلان والثعالب البرية.

النبات
الطبيعى

الحيوان البرى

أسئلة عامة علم الدرس

أكمل:

- (١) البيئة الساحلية تظهر في شكل شريط يتسع أو يضيق تبعاً لاقتراب من البحر.
- (٢) تقوم بتخزين مياه الأمطار في البيئة الساحلية على البحر المتوسط.
- (٣) يتميز ساحل البحر المتوسط بوجود عديد من المتسعة مثل خليج أبو قير.
- (٤) من أهم النباتات الطبيعية في البيئة الساحلية للبحر الأحمر شجيرات ونبات
- (٥) تمتد البيئة الساحلية على طول البحر المتوسط من شرق مدينة في أقصى الشرق وحتى غرب مدينة غرباً.
- (٦) تضيق سهول البحر الأحمر وتتسع بشكل عام كلما اتجهنا
- (٧) يمتد ساحل شمال الدلتا من مدينة إلى شرق مدينة الإسكندرية.
- (٨) تتسم السهول الساحلية على خليج العقبة بأنها لاقتراب الجبال من ساحل البحر.

بم تفسر:

- (١) ضيق السهل الساحلي على خليج العقبة ؟
- (٢) نمو الشعاب المرجانية على ساحل البحر الأحمر ؟
- (٣) أهمية التلال الجيرية على طول ساحل البحر المتوسط ؟
- (٤) اتساع السهل الساحلي المطل على البحر المتوسط ؟
- (٥) اعتدال مناخ البيئة الساحلية طوال العام ؟

ما النتائج المترتبة على:

- (١) سقوط الأمطار شتاءً على ساحل البحر المتوسط ؟
- (٢) نمو الشعاب المرجانية بسواحل البحر الأحمر ؟

اكتب ما تشير إليه الجمل الآتية:

- (١) توغل الماء في اليابس ويتصل بالبحر بفتحة واحدة.
- (٢) رياح شديدة وأمطار غزيرة تقلب الجو وتستمر لعدة أيام متواصلة.
- (٣) خليج شديد الضيق متعمق في اليابس.
- (٤) تكوينات أفرزتها حيوانات بحرية دقيقة على طول امتداد البحر الأحمر.

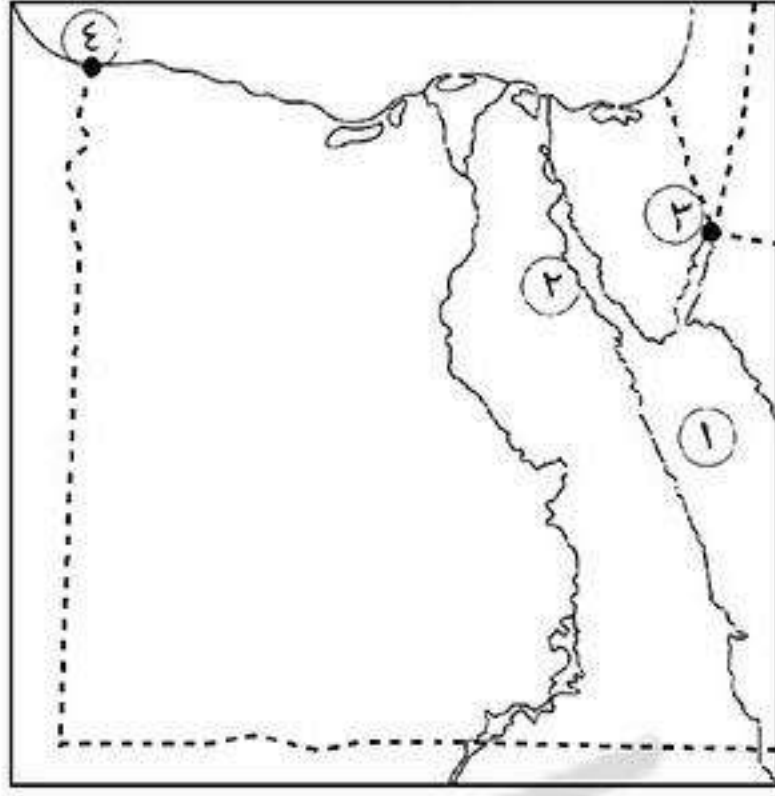
اختر الإجابة الصحيحة مما بين القوسين:

- (١) تمتد البيئة الساحلية في مصر على ساحل البحر المتوسط في. (الشرق - الغرب - الشمال - الجنوب)
- (٢) يتميز ساحل البحر المتوسط بوجود خلجان متسعة مثل. (العقبة - أبو قير - نعمة - السويس)
- (٣) تسقط الأمطار في البيئة الساحلية المطلة على البحر المتوسط. (صيفاً - شتاءً - ربيعاً - خريفاً)

ضع علامة (✓) أو (×) مع التصويب:

- () (١) السهول الساحلية المجاورة للبحر المتوسط تكون ضيقة لاقتراب الجبال منها.
- () (٢) تنمو شجيرات المانجروف على طول سواحل البحر المتوسط.
- () (٣) يتميز ساحل البحر الأحمر بوجود العديد من الخلجان.
- () (٤) تقل الرءوس الأرضية على طول ساحل البحر الأحمر.
- () (٥) تتميز البيئة الساحلية في مصر بصفة عامة باعتدال المناخ طوال العام.
- () (٦) تتميز سواحل البحر الأحمر بغزارة الأمطار.
- () (٧) تنوع السهول الساحلية في مصر ما بين سهول ضيقة وسهول متسعة.

اختبار



أكتب ما تشير إليه الأرقام الآتية:

- (١) البحر
- (٢) خليج
- (٣) مدينة
- (٤) مدينة

بم تفسر:

- (١) السياحة من الأنشطة الاقتصادية المهمة في البيئة الصحراوية ؟
- (٢) تملح التربة في البيئة الصحراوية ؟
- (٣) ظهور العديد من المشكلات الاقتصادية في البيئة الصحراوية ؟
- (٤) مؤتمر الصلح في باريس لم يحقق آمال المصريين ؟

ما النتائج المترتبة على:

- (١) هدوء وصفاء حركة المياه في البحر الأحمر ؟

أكمل:

- (١) كان من نتائج ثورة ٢٣ يوليو إنشاء العديد من المصانع مثل مصنع
- (٢) شارك محمد فريد في العديد من لبحث المشكلات المصرية السياسية.
- (٣) التحق أحمد عرابي بالجيش في عهد
- (٤) تخلت عن مساندة القضية المصرية عام ١٩٠٤ م.

أكتب ما تشير إليه الجمل الآتية:

- (١) عمل محرراً في جريدة الوقائع المصرية ثم تولى نظارة المعارف عام ١٩٠٦ م.
- (٢) رئيس أمريكي أعلن حق الشعوب في تقرير مصيرها.
- (٣) تجمعات من الرمال تتراكم فوق بعضها بفعل الرياح.

ما المقصود بـ:

- (١) محافظات الحدود ؟
- (٢) التصحر ؟
- (٣) عدالة إجتماعية ؟

ماذا يحدث إذا:

- (١) لم تتواجد الكثبان الرملية والتلال الجيرية على الساحل الشمالى لمصر ؟

قارن بين: السهول الساحلية على خليجى السويس والعقبة (من حيث الامتداد - الاتساع أو الضيق).

صوب ما تحته خط:

- (١) رفض مصطفى كامل مد امتياز شركة قناة السويس.
- (٢) تأسس بنك مصر في أبريل ١٩٢٠ م على يد سعد زغلول.
- (٣) يعيش معظم سكان البيئة الصحراوية في المحافظات الساحلية.
- (٤) تربة البيئة الصحراوية طينية سوداء.

الخصائص السكانية للبيئة الساحلية

أولاً تركيز سكان البيئة الساحلية

- * يتركز سكان البيئة الساحلية في المدن والمراكز العمرانية الساحلية ويعيشون في ١١ محافظة ساحلية.
- * يوجد بالمحافظات الساحلية بعض المدن المليونية مثل مدينة الإسكندرية.
- * يتركز نسبة كبيرة من السكان بالمحافظات الساحلية.

مدينة مليونية

هى المدينة التى يزيد عدد سكانها عن مليون نسمة.



ميناء الإسكندرية

بم تفسر: تركيز السكان فى محافظات البيئة الساحلية ؟

- بسبب: (١) توافر الموارد الغذائية والمواد الخام وهى أساس التنمية الصناعية.
- (٢) توافر المناظر الطبيعية التى تجذب السياح.
- (٣) تعتبر البيئة الساحلية مجال حيوى للنقل البحرى والتجارة والانفتاح على الخارج.

ثانياً خصائص سكان البيئة الساحلية

١ الخصائص الاجتماعية

- * يؤثر البحر بشكل كبير فى عادات وتقاليد وخصائص سكان البيئة الساحلية وتنقسم إلى:

العادات السلبية	العادات الإيجابية
<p>(١) الهجرة غير الشرعية.</p> <p>(٢) الصيد غير القانونى.</p> <p>(٣) تصريف المخلفات المنزلية والصناعية فى البحر.</p>	<p>(١) <u>العمل فى جماعة</u>: لأن أعمال البيئة الساحلية تحتاج إلى تعاون مثل الصيد وشحن وتفريغ السفن.</p> <p>(٢) <u>حب المخاطرة والشجاعة</u> حيث إن البحر عود أهل البيئة الساحلية على حب المخاطرة والشجاعة فى مواجهة الأخطار.</p> <p>(٣) <u>مشاركة المرأة للرجل فى معظم الأعمال</u> لأن الرجال يقضون معظم أوقاتهم فى الأعمال المرتبطة بالبحر.</p> <p>(٤) <u>إقامة احتفالات خاصة بهم</u> مثل مسابقات الصيد والمهرجانات الساحلية وألعاب الشاطئ.</p> <p>(٥) <u>الانفتاح على العالم الخارجى</u>.</p>

هجرة غير شرعية

هجرة الأفراد والجماعات إلى خارج الدولة بطرق غير قانونية.

٢ الخصائص التعليمية

- ترتفع نسبة التعليم بين سكان البيئة الساحلية، خاصة تعليم البنات.
- يزداد بها عدد المدارس.

٣ الخصائص الاقتصادية

• يعمل العديد من السكان بالصيد والصناعة والتجارة وكما يعمل البعض بالزراعة في شمال الدلتا.

■ أهم تيارات الهجرة الداخلية نحو المدن الساحلية:

تتجه بعض تيارات الهجرة الداخلية من البيئة الزراعية أو الصحراوية للعمل بالأنشطة الاقتصادية مثل:

- (١) هجرة سكان **واحة سيوة** للاستقرار في مدينة **مرسى مطروح**.
- (٢) هجرة بعض سكان الوجه القبلى والبحرى إلى مدينة (الإسكندرية - الغردقة - شرم الشيخ - السويس).

ثالثاً مشكلات السكان فى البيئة الساحلية

(١) ازدحام السكان في المدن الساحلية.

(٢) التلوث البيئى في المدن الساحلية مما أدى إلى انتشار الأمراض.

■ تبذل الدولة جهود لحل المشكلات السكانية بالبيئة الساحلية مثل:

(١) إنشاء مدن جديدة مثل مدينة **برج العرب الجديدة**.

(٢) إنشاء مصانع جديدة.

(٣) مد الطرق والكبارى.



ازدحام المدن الساحلية

أسئلة عامة على الدرس

أكمل:

- (١) من الخصائص الإيجابية لسكان البيئة الساحلية العمل في حب المخاطرة و.....
- (٢) من المدن المليونية في البيئة الساحلية مدينة
- (٣) يتجه سكان واحة سيوة للاستقرار في مدينة
- (٤) يتميز سكان البيئة الساحلية بالانفتاح على
- (٥) يتجه تيار الهجرة من الوجه القبلى إلى مدينة على البحر المتوسط.
- (٦) يبلغ عدد المحافظات الساحلية محافظة ويوجد بها مدن
- (٧) من مشكلات السكان في البيئة الساحلية الذى أدى إلى انتشار الكثير من الأمراض.
- (٨) من جهود الدولة لحل المشكلات السكانية بالبيئة الساحلية إنشاء مدن جديدة مثل مدينة
- (٩) من العادات السلبية لسكان البيئة الصحراوية الهجرة والصيد

بم تفسر:

- (١) يتميز سكان البيئة الساحلية بحبهم للعمل في جماعة ؟
- (٢) تركز السكان في المدن الساحلية ؟
- (٣) يطلق على بعض المدن الساحلية مدن مليونية ؟
- (٤) مشاركة المرأة للرجل في البيئة الساحلية ؟
- (٥) هجرة بعض سكان البيئات الأخرى إلى المدن الساحلية ؟

ما النتائج المترتبة على:

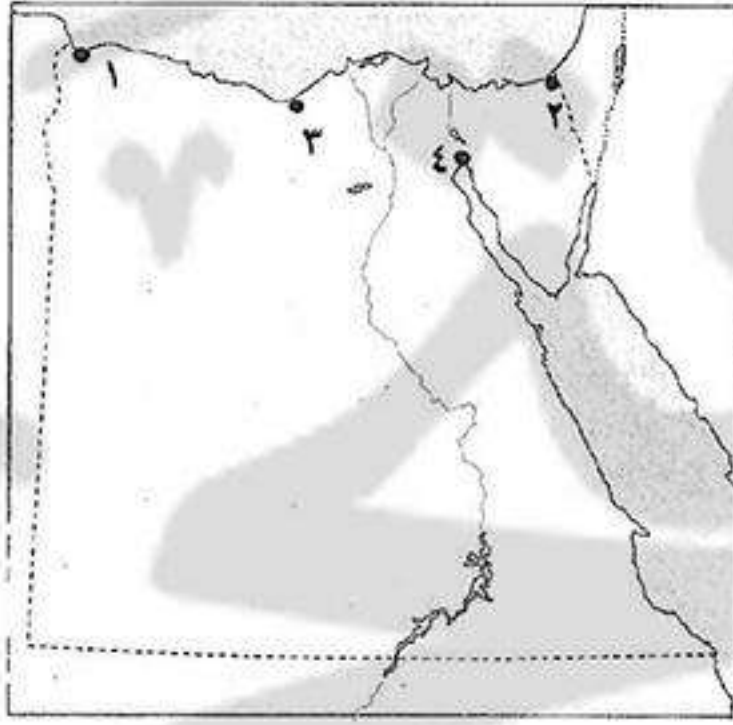
- (١) وفرة الموارد الغذائية والمواد الخام بالمناطق الساحلية ؟
- (٢) تصريف المخلفات المنزلية والزراعية فى البحر ؟

اكتب ما تشير إليه الجمل الآتية:

- (١) هجرة أفراد وجماعات إلى الخارج بطرق غير قانونية.
- (٢) المدينة التى يزيد عدد سكانها على المليون نسمة.

ضع علامة (✓) أو (×) مع التصويب:

- (١) من العادات السلبية لسكان البيئة الصحراوية الهجرة غير الشرعية والصيد غير القانونى. ()
- (٢) من المشكلات السكانية فى البيئة الساحلية الازدحام السكانى. ()
- (٣) البيئة الساحلية مناطق طاردة للسكان. ()
- (٤) من الخصائص التعليمية لسكان البيئة الساحلية ارتفاع نسبة الأمية. ()

اختبار**اكتب ما تشير إليه الأرقام الآتية:**

- (١) مدينة
- (٢) مدينة
- (٣) مدينة
- (٤) مدينة

بم تفسر:

- (١) نمو الشعاب المرجانية بسواحل البحر الأحمر ؟
- (٢) انخفاض نسبة الأمية فى المحافظات الصحراوية مؤخراً ؟
- (٣) تميز سكان البيئة الساحلية بحبهم للعمل فى جماعة ؟

ما النتائج المترتبة على:

- (١) ارتباط سكان البيئة الساحلية بالبحر ؟
- (٢) تأميم شركة قناة السويس ؟
- (٣) نفى سعد زغلول وبعض زعماء الوفد المصرى للمرة الثانية ؟

أكمل:

- (١) تعتمد الزراعة فى على مياه الأمطار الشتوية.
- (٢) أصدرت تصريح ٢٨ فبراير ١٩٢٢ م.
- (٣) تعتبر قبيلة من أشهر القبائل التى تمارس حرفة الرعى فى مطروح بالصحراء
- (٤) الشرارة التى فجرت ثورة ١٩١٩ م هو نفى سعد زغلول وزملاؤه إلى جزيرة

اكتب ما تشير إليه الجمل الآتية:

- (١) أسس جريدة اللواء ١٩٠٠ م.
- (٢) أسس بنك مصر ١٩٢٠ م.
- (٣) قاد ثورة ١٨٨١ م.

وضح: سلبيات تصريح ٢٨ فبراير ١٩٢٢ م.

الأنشطة الاقتصادية في البيئة الساحلية

★ تعدد الأنشطة الاقتصادية في البيئة الساحلية بسبب تنوع الموارد الطبيعية الموجودة بها.

أولاً الأنشطة الاقتصادية في البيئة الساحلية

١ صيد الأسماك

- هي الحرفة الرئيسية في البيئة الساحلية ويعمل بها العديد من السكان بالإضافة إلى العمل في حفظ وتعليب الأسماك.
- تُعد مياه البحار والبحيرات هي المصدر الرئيسي للأسماك في مصر، ويبلغ إنتاجها السنوي من الأسماك ما يزيد عن ٦٠٪.
- ★ بحيرة المنزلة هي أكبر البحيرات إنتاجاً للأسماك.

٢ الرعي



رعي الأغنام في شمال سيناء

■ تتشتر مراعى الأغنام والإبل والماعز خاصة في:

- ساحل مريوط (وهو يمتد من الإسكندرية إلى السلوم).
- شمال سيناء.

يتم تفسير: قيام حرفة الرعي في شمال سيناء وساحل مريوط ؟
بسبب: سقوط الأمطار الشتوية التي تساعد على نمو الحشائش والأعشاب التي تعتبر مراعى طبيعية.

٣ الزراعة



مزارع الزيتون في شمال سيناء

■ توجد مناطق مزروعة كثيرة مثل:

- أشجار الزيتون: في الساحل الشمالى الغربى وشمال سيناء ويستخرج منها أجود أنواع زيت الزيتون.

- مزارع فاكهة مثل التين.
- مزارع الشعير والمواالح.

يتم تفسير: قيام حرفة الزراعة في شمال سيناء وساحل مريوط ؟
بسبب: سقوط الأمطار الشتوية التي تساعد على قيام الزراعة.

٤ الصناعة

■ يعمل السكان بالعديد من الصناعات المختلفة مثل:

- صناعة السفن.
- الغزل والنسيج.
- الحديد والصلب.
- استخراج البترول والغاز الطبيعي.



مصنع غزل ونسيج



نقل البضائع عبر البحر

٥ التجارة والنقل البحري

■ يعمل بعض سكان البيئة الساحلية في:

- عمليات شحن وتفريغ السفن في الموانئ.
- نقل البضائع والمسافرين عن طريق البحر.



استخراج البترول من قاع البحر

٦ استخراج البترول والغاز الطبيعي

- أهم حقول البترول: بلاعيم - مرجان (في سيناء).
- أهم حقول الغاز الطبيعي: أبو ماضي في شمال الدلتا.

٧ السياحة

- سواحل البحر الأحمر والبحر المتوسط: تعتبر مصايف ومشاتٍ تجذب السياح إليها من دول العالم المختلفة، وتعد من مناطق الترويج الرئيسية للمصريين.
- يعمل بعض سكان البيئة الساحلية بالأنشطة المرتبطة بالسياحة مثل: (استقبال السياح - الأعمال الفندقية).



بم تفسر: أهمية سواحل البحر الأحمر والبحر المتوسط في السياحة ؟

- لأنها:** (١) تعتبر مصايف ومشاتٍ تجذب إليها السياح من مختلف دول العالم.
(٢) تعتبر مناطق الترويج الرئيسية للمصريين.

بم تفسر: أهمية السياحة لمصر؟

- لأنها:** (١) مصدر للدخل القومي والعملات الأجنبية لمصر.
(٢) توفر فرص عمل.

تلوث المياه

أن تصبح المياه غير صالحة للاستخدام سواء للإنسان أو الحيوان أو الأسماك أو النباتات.



إلقاء الصرف الصحي في البحر

تآكل السواحل

يقصد به قيام الأمواج بنحت الصخور التي تشكل ساحل البحر.

ثانياً المشكلات في البيئة الساحلية

* هناك العديد من المشكلات في البيئة الساحلية من أهمها:

١ تلوث المياه الشاطئية

بم تفسر: تلوث المياه الشاطئية ؟

- بسبب:** (١) إلقاء مياه الصرف الصحي والصناعي والزراعي في البحر والبحيرات الساحلية.
(٢) التلوث الناتج عن حركة سفن شحن ونقل البترول.

* يؤثر تلوث المياه الشاطئية على الأسماك وبالتالي صحة الإنسان.

٢ تآكل السواحل بفعل نحت الأمواج (خاصة ساحل الدلتا)

ما النتائج المترتبة على: تآكل السواحل ؟

- يترتب عنه ذلك:** (١) إزالة الشواطئ الرملية.
(٢) تدمير الشاليهات المخصصة للاصطياف.



مصدات الأمواج

جهود الدولة لحل مشكلات البيئة الساحلية

- (١) أصدرت الدولة قوانين تجرم إلقاء مخلفات الصرف في مياه البحر.
- (٢) أقامت الدولة بعمل مصدات أمواج وتجديد رمال الشواطئ.

أسئلة عامة علم الدرس

أكمل:

- (١) من الأنشطة المرتبطة بالسياحة التي يعمل بها سكان البيئة الساحلية و.....
- (٢) تعد مشكلة و من أكبر المشكلات التي تهدد البيئة الساحلية في مصر.
- (٣) من أمثلة حقول الغاز الطبيعي في البيئة الساحلية حقل شمال الدلتا.
- (٤) تعد بحيرة أكبر بحيرات مصر إنتاجاً للأسماك.
- (٥) تعتبر حرفة هي الحرفة الرئيسية في البيئة الساحلية.
- (٦) من أهم محاصيل البيئة الساحلية في الساحل الشمالى وشمال سيناء.
- (٧) من أهم حقول البترول في البيئة الساحلية حقل و.....

بم تفسر:

- (١) تلوث المياه الشاطئية ؟
- (٢) تنوع الأنشطة الاقتصادية في البيئة الساحلية ؟
- (٣) انتشار حرفة رعى الإبل والماعز والأغنام في ساحل مريوط ؟
- (٤) أهمية البحار والبحيرات كمصدر للأسماك في مصر ؟

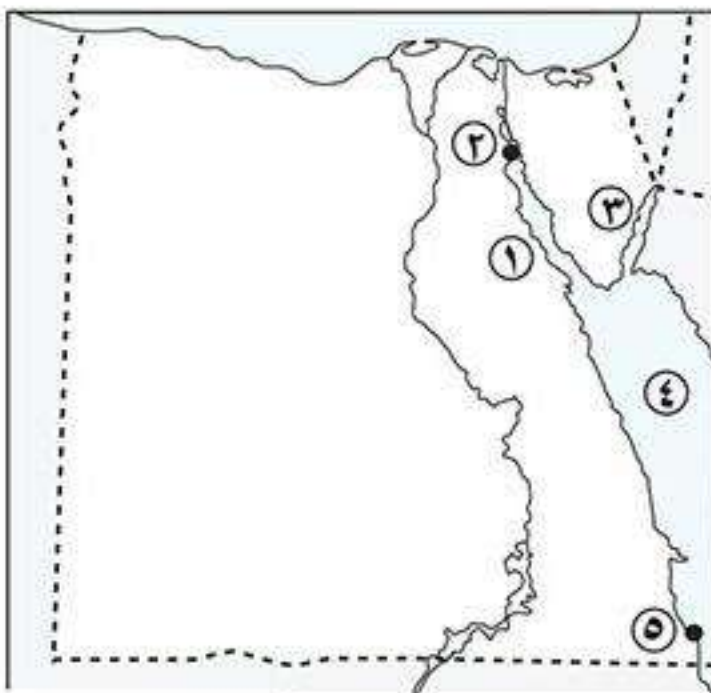
ما النتائج المترتبة على:

- (١) تآكل السواحل ؟
- (٢) انتشار مزارع الزيتون على طول ساحل مريوط وشمال سيناء ؟
- (٣) توافر مياه الأمطار الشتوية على السواحل الشمالية لمصر ؟

ما المقصود بالمصطلحات الآتية:

- (١) تآكل الشواطئ.
- (٢) تلوث المياه.
- (٣) ساحل مريوط.

اختبار



أكتب ما تشير إليه الأرقام الآتية:

- (١) خليج
- (٢) مدينة
- (٣) خليج
- (٤) البحر
- (٥) مدينة

بم تفسر:

- (١) السياحة من الأنشطة الاقتصادية المهمة في البيئة الصحراوية ؟
- (٢) خيب مؤتمر الصلح في باريس آمال المصريين ؟
- (٣) أهمية التلال الجيرية بالساحل الشمالى الغربى لمصر ؟
- (٤) انتشار الشعاب المرجانية بسواحل البحر الأحمر ؟

ما النتائج المترتبة على:

- (١) حركة الرمال التى تسببها الرياح في البيئة الصحراوية ؟
- (٢) أحداث ثورة ١٩١٩ م ؟
- (٣) إعلان مصر تأمين شركة قناة السويس في يوليو ١٩٥٦ م ؟

أكمل:

- (١) احتلت انجلترا مصر بعد معركة
- (٢) تولى زعامة الحركة الوطنية أواخر القرن ١٩ الميلادى
- (٣) شارك في العدوان الثلاثى على مصر كل من وفرنسا و.....
- (٤) كان الحاكم الفعلى للبلاد بعد الاحتلال البريطانى لمصر
- (٥) أصدر الزعيم مصطفى كامل جريدة

اكتب ما تشير إليه الجمل الآتية:

- (١) توغل لجزء من البحر في اليابس ويتصل بالبحر بفتحة واحدة.
- (٢) توزيع الثروات القومية بين المواطنين توزيعاً عادلاً.
- (٣) مجموعة من الضباط المعروفين بوطنيتهم وتجمعهم أهداف مشتركة.
- (٤) مجموعة المبادئ والقواعد التى تحدد نظام الحكم في الدولة.

ما المقصود بـ:

- (١) محافظات الحدود ؟
- (٢) لجان شعبية ؟

رتب الأحداث الآتية: (تصريح ٢٨ فبراير - ثورة ١٩١٩ م - الحرب العالمية الأولى - الثورة العراقية)**ماذا يحدث لو:**

- (١) لم تقم الدولة بإنشاء سد الروافعة على وادى العريش ؟
- (٢) اهتمت الدولة بإنشاء العديد من المدارس والمعاهد والكليات في البيئة الصحراوية ؟

أذكر:


- (١) اثنين من جهود الدولة لتنمية البيئة الصحراوية.
- (٢) مطالب الثورة العراقية.

ضع علامة (✓) أو (×) مع التصويب:

- () (١) رفض الخديو توفيق الاستجابة لمطالب أحمد عرابى في مظاهرة عابدين.
- () (٢) وقفت فرنسا بجانب الحركة الوطنية المصرية عقب الاتفاق الودى ١٩٠٤ م.
- () (٣) أعلى جبال شبه جزيرة سيناء جبل الشايب.
- () (٤) تقل الءوس الأرضية على طول سواحل البحر الأحمر.
- () (٥) تنمو شجيرات المانجروف على ساحل البحر المتوسط.

الحركة الوطنية ومقاومة الاحتلال البريطاني

* ضعفت أحوال مصر السياسية والاقتصادية في عهد خلفاء محمد علي، وكثرت عليها الديون وتعرضت للاحتلال البريطاني ولم يستسلم الشعب المصري للاحتلال وظل يكافح لينال الاستقلال.



أحمد عرابي

أحمد عرابي

- هو ضابط مصري انضم للجيش المصري في عهد محمد سعيد باشا الذي أمر بتجنيد أولاد عمه البلاد ومشايخها.
- ترقى أحمد عرابي حتى وصل إلى رتبة أميرالاي (عميد) في عهد الخديو توفيق.

أولاً أحمد عرابي والثورة العربية ١٨٨١م

١ كفاح أحمد عرابي منذ عهد الخديو إسماعيل

- بدأ أحمد عرابي كفاحه في عهد الخديو إسماعيل ضد استبداد النظام التركي والجرمسي.
- طالب بالمساواة بين أبناء مصر وغيرهم من باقي الأجناس.
- اشترك أحمد عرابي مع بعض المصريين في تأسيس جمعية سرية هي (مصر الفتاة) وأصبح عضو بارز فيها.

٢ زعماء الثورة العربية

- كان هناك زعماء آخرين غير أحمد عرابي للثورة العربية هم:
- محمد عبيد - الإمام محمد عبده - عبد العال حلمي -
- محمود سامي البارودي - علي فهمي - علي الروي



الإمام محمد عبده

٣ أسباب الثورة العربية

(١) ازدياد التدخل الأجنبي في شئون مصر بسبب:

- الامتيازات الأجنبية: التي منحتها الدولة العثمانية للأجانب في مصر.
- القروض الأجنبية: التي أخذتها مصر من الدول الأوروبية.
- المراقبة الثنائية: التي قامت بها إنجلترا وفرنسا على الإيرادات والمصروفات المصرية.

(٢) سوء الأحوال الاقتصادية: خاصة في عهد وزارة رياض باشا بسبب:

- الضرائب الفادحة المفروضة على المصريين.
- عدم توزيع الضرائب توزيعاً عادلاً.

(٣) إهمال الجيش:

- حيث تم تسريح الكثير من الجنود والضباط المصريين.

أحداث الثورة العرابية

* قاد أحمد عرابي مظاهرة عابدين السلمية يوم ٩ سبتمبر ١٨٨١م واشترك فيها الشعب والجيش لعرض مطالبهم



على الخديوي توفيق وهي: (١) إسقاط وزارة رياض باشا المستبد.

(٢) زيادة عدد الجيش إلى ١٨ ألف جندي.

(٣) تشكيل مجلس نواب.

نتائج مظاهرة عابدين:

• اضطر الخديوي توفيق للموافقة على مطالب الشعب والجيش.

• تشكيل وزارة جديدة في سبتمبر ١٨٨١م.

ثانياً الاحتلال البريطاني لمصر

وقفت إنجلترا ضد الحركة الوطنية (الثورة العرابية) في مصر حيث:

دبرت إنجلترا بعض الحوادث في الإسكندرية لتكون دليل على عدم قدرة أحمد عرابي على حفظ الأمن والنظام في البلاد وبالتالي يعزله الخديوي توفيق.

ضرب مدينة الإسكندرية:

• قام الانجليز بضرب الإسكندرية في يوليو ١٨٨٢م.

• قام الخديوي توفيق بعزل أحمد عرابي من وزارة الحربية.

• قرر الشعب المصري مواصلة الدفاع عن البلاد بزعامة أحمد عرابي إلا أن الغلبة في النهاية كانت للقوات البريطانية.

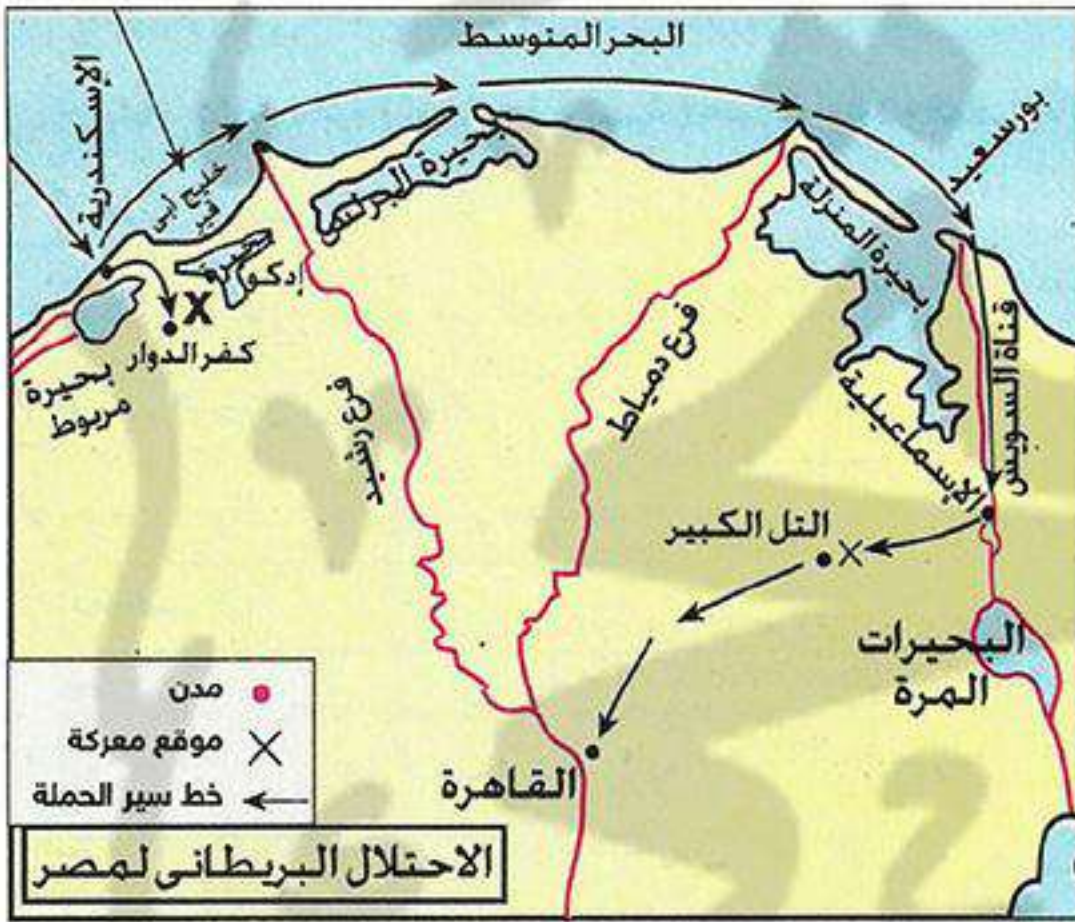
خط سير القوات البريطانية:

• فشلت القوات الانجليزية في دخول البلاد عن طريق كفر الدوار.

• احتل الإنجليز قناة السويس بعد خيانة فرديناند دليسبس لعرابي.

• تغلبت القوات البريطانية على الجيش المصري في معركة التل الكبير في سبتمبر ١٨٨٢م.

• نجحت القوات البريطانية في احتلال القاهرة في ١٤ سبتمبر ١٨٨٢م.



ثالثاً سياسة الاحتلال البريطاني في مصر

* اتبع الاحتلال البريطاني في مصر سياسة السيطرة على كل مرافق البلاد حيث:

(١) أصبح المعتمد البريطاني هو الحاكم الفعلي للبلاد.

(٢) إلغاء مجلس النواب الذي عاصر الثورة العرابية.

(٣) إلغاء المراقبة الثنائية (البريطانية والفرنسية) والسيطرة على مالية البلاد لصالح البنوك الأوروبية.

(٤) تحويل مصر إلى قاعدة زراعية لتزويد المصانع البريطانية بالقطن المصري وإهمال الصناعة المصرية.

(٥) فرض ضرائب باهظة على المصريين.

(٦) خفض الإنفاق الحكومي خاصة على الصحة والتعليم.

(٧) إلزام مصر بدفع تعويض لإنجلترا مقابل الخسائر التي نتجت عن العمليات الحربية أثناء الاحتلال.

المعتمد البريطاني

هو ممثل الاحتلال البريطاني في مصر وهو الحاكم الفعلي للبلاد.

رابعاً الحركة الوطنية في مواجهة الاحتلال البريطاني

★ رغم تأمر الخديو توفيق وأتباعه على الحركة الوطنية مما سهل على بريطانيا احتلال مصر، ظل المصريون متمسكون بالمطالب الوطنية التي نادى بها أحمد عرابي.

١ مصطفى كامل (باعت الحركة الوطنية)

★ تولى مصطفى كامل زعامة الحركة الوطنية أواخر القرن ١٩ وقام بمقاومة الاحتلال البريطاني داخل مصر وخارجها:

كفاحه داخلياً

- (١) كتب خطب ومقالات للمصريين تهدف إلى:
 - تجديد الشعور الوطني.
 - كراهية الاحتلال البريطاني ورفض وجوده.
 - إقناع المصريين بأن جلاء الاحتلال البريطاني عن مصر ليس مستحيلاً.
- (٢) اتصل بالقوة الوطنية داخل مصر وحاول جذب الخديو عباس حلمي الثاني لصفوف الحركة الوطنية.
- (٣) أسس جريدة اللواء عام ١٩٠٠م التي كشفت جرائم الاحتلال البريطاني في مصر.

كفاحه خارجياً

- اتصل بالقوة الدولية التي يمكنها مساندة المطالب المصرية وكانت حكومة فرنسا هي أكبر المؤيدين للحركة الوطنية المصرية حتى عقدت فرنسا مع بريطانيا الاتفاق الودي عام ١٩٠٤م.
- بم تفسير: تخلى فرنسا عن تأييد مصطفى كامل وقضية استقلال مصر؟
- كسبب: عقد فرنسا مع بريطانيا الاتفاق الودي عام ١٩٠٤م.

ما النتائج المترتبة على: كفاح مصطفى كامل؟

- ك١ عزل اللورد كرومر المعتمد البريطاني في مصر عقب حادثة دنشواي ١٩٠٦م.
- ك٢ إنشاء الحزب الوطني ١٩٠٧م.



مصطفى كامل

وفاة مصطفى كامل:

توفي مصطفى كامل في فبراير عام ١٩٠٨م ليخلفه في رئاسة الحزب الوطني محمد فريد.

٢ محمد فريد (رمز الإخلاص والتضحية)

★ وضع محمد فريد برنامج سياسي لتحريك جميع القوى السياسية في البلاد لبحث المشاكل الداخلية والخارجية.

كفاح محمد فريد

- دعا محمد فريد إلى: (١) جلاء الاحتلال البريطاني.
- (٢) إنشاء مجلس نواب.
- (٣) تأسيس حكومة وطنية مستقلة.
- (٤) إنشاء مدارس ليلية لتعليم الفقراء مجاناً.
- (٥) رفض مد امتياز شركة قناة السويس البحرية عام ١٩١٠م.



محمد فريد

جلاء

خروج القوات المحتلة من أراضي الدولة التي احتلتها نهائياً.

رحيل محمد فريد إلى خارج مصر:

- عندما بدأت السلطات الحاكمة في مصر مع سلطات الاحتلال البريطاني تراقب نشاط محمد فريد وتضيق عليه، مد محمد فريد نشاط الحركة الوطنية إلى أوروبا وشارك في العديد من المؤتمرات لبحث المشكلات السياسية والاجتماعية والاقتصادية والمناذاة باستقلال مصر.

وفاة محمد فريد:

- توفي محمد فريد في ١٥ نوفمبر ١٩١٩ م.

أسئلة عامة علم الدرس**أكمل:**

- (١) تم تجنيد أولاد العمدة ومشايخ البلاد في عهد
- (٢) وصل أحمد عرابي إلى رتبة في عهد الخديو
- (٣) أسس الحزب الوطني عام
- (٤) اهتم محمد فريد بالتعليم وأنشأ المدارس لتعليم العمال والفقراء.
- (٥) من مطالب مظاهرة عابدين عزل وزارة وتشكيل
- (٦) عقد بين فرنسا وبريطانيا عام ١٩٠٤ م.
- (٧) تم عزل بعد حادثة دنشواي عام ١٩٠٦ م.
- (٨) فشلت القوات البريطانية دخول مصر عن طريق ولكنها دخلت عن طريق بعد خيانة دليسيبس.
- (٩) احتلت القوات البريطانية القاهرة عام ١٨٨٢ م بعد هزيمة الجيش المصري في معركة
- (١٠) شارك أحمد عرابي مع بعض المصريين في تأسيس جمعية

بم تفسر:

- (١) قيام الثورة العربية ؟
- (٢) سوء الأحوال الاقتصادية في عهد وزارة رياض باشا ؟
- (٣) ازدياد التدخل الأجنبي في شئون مصر ؟
- (٤) اتصال مصطفى كامل بالدول الأوروبية ؟
- (٥) تدبير انجلترا لبعض الحوادث في مدينة الإسكندرية ؟

أكتب المفهوم الذي تشير إليه العبارات الآتية:

- (١) جمعية سرية كان أحمد عرابي عضواً بارزاً فيها.
- (٢) ارتكب حادثة دنشواي ١٩٠٦ م وتم عزله بعدها.
- (٣) أمر بتجنيد أولاد عمدة البلاد ومشايخها.
- (٤) رتبة حصل عليها أحمد عرابي في عهد الخديو توفيق.
- (٥) جريدة أسسها مصطفى كامل.

ما النتائج المترتبة على:

- (١) كفاح مصطفى كامل ؟
- (٢) مظاهرة عابدين ١٨٨١ م ؟

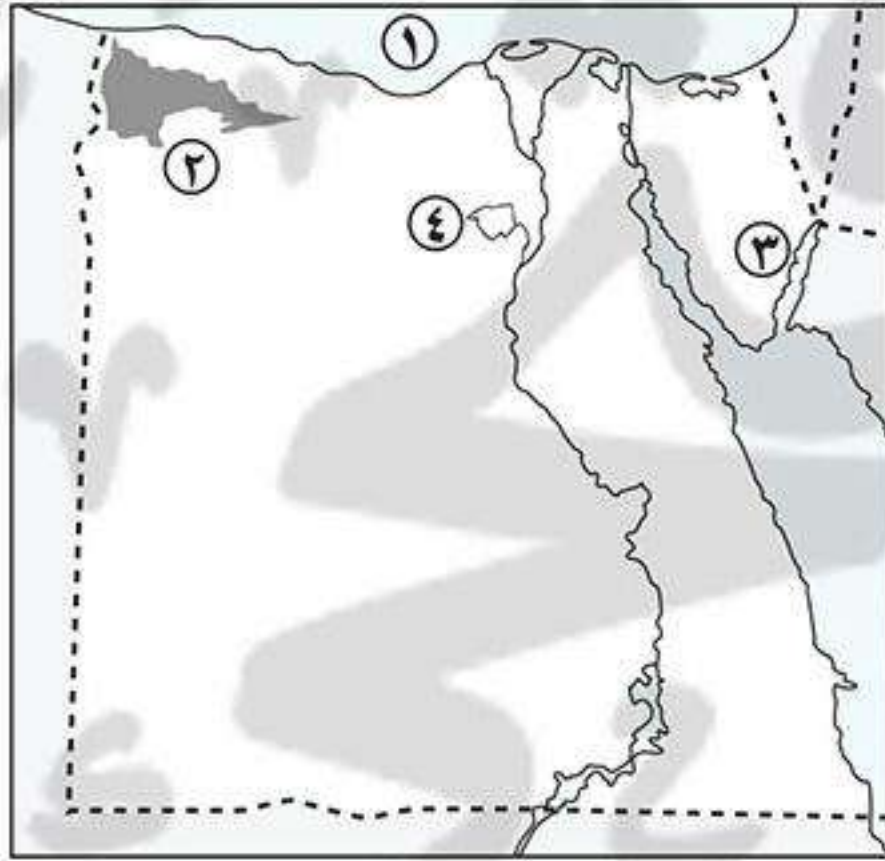
(٣) خطب ومقالات مصطفى كامل ؟

(٤) معركة التل الكبير ؟

ضع علامة (✓) أو (×) مع التصويب:

- () (١) ترقى أحمد عرابي حتى وصل إلى رتبة أميرالاي في عهد الخديو إسماعيل.
- () (٢) من مطالب مظاهرة عابدين إسقاط وزارة راغب باشا.
- () (٣) أسس محمد فريد جريدة اللواء ١٩٠٠ م.
- () (٤) تم عقد الاتفاق الودى بين مصر وبريطانيا عام ١٩٠٤ م.
- () (٥) تم إنشاء الحزب الوطنى عام ١٩٠٧ م.

اختبار



أكتب ما تشير إليه الأرقام الآتية:

- (١) البحر
- (٢) هضبة
- (٣) خليج
- (٤) منخفض

ما النتائج المترتبة على:

- (١) انتشار التربة الرملية الصفراء في الصحراء ؟
- (٢) خيانة دليسييس لأحمد عرابي ؟
- (٣) ندر الأمطار وانتشار الجفاف في البيئة الصحراوية ؟
- (٤) تضيق سلطات الاحتلال على محمد على في مصر ؟

أكمل:

- (١) أسس مصطفى كامل جريدة عرفت باسم
- (٢) من النباتات الصحراوية التى تخزن المياه داخل أوراقها
- (٣) دعا إلى تأسيس حكومة وطنية مستقلة وإنشاء مجلس نواب.
- (٤) يجد صحراء سيناء شرقاً البحر الأحمر و.....
- (٥) يقطع هضبة العباددة أودية جافة مثل

ما المقصود بالمصطلحات الآتية:

- (١) كثبان رملية ؟
- (٢) جلاء ؟
- (٣) منخفض ؟

بم تفسر:

- (١) قيام الزراعة في الواحات ؟
- (٢) تخلى فرنسا عن مساعدة مصطفى كامل ؟


قارن بين:

الصحراء الشرقية والصحراء الغربية من حيث: (الموقع - المساحة)

ثورة ١٩١٩م

* اكتسب سعد زغلول أهمية فى التاريخ باعتباره زعيم ثورة ١٩١٩م.

سعد زغلول



سعد زغلول

- عمل سعد زغلول محرراً فى جريدة **الوقائع المصرية** وانضم إلى الثورة العرابية.
- اشتغل بالمحاماة ثم عمل بالقضاء.
- شارك فى الدعوة لإنشاء **الجامعة المصرية**.
- تولى نظارة المعارف عام ١٩٠٦م (وزارة التربية والتعليم).
- تم اختياره وزيراً **للحقانية** عام ١٩١٠م (وزارة العدل).
- تم انتخابه عضواً **بالجمعية التشريعية** عام ١٩١٣م.

أولاً مصر والحرب العالمية الأولى (١٩١٤ - ١٩١٨م)

عقب اندلاع الحرب العالمية الأولى **أغسطس ١٩١٤م** أعلنت بريطانيا **الحماية البريطانية** على مصر فى ديسمبر ١٩١٤م وإنهاء تبعيتها للدولة العثمانية.



بم نفسر: سوء أحوال مصر الاقتصادية والاجتماعية أثناء الحرب العالمية الأولى؟

- (١) تجنيد بريطانيا لأعداد كبيرة من المصريين.
 - (٢) وضع بريطانيا خطوط السكك الحديدية والموانئ المصرية فى خدمة القوات البريطانية.
- * ترتب على ذلك ازدياد شعور المصريين بضياع حقوقهم.

ثانياً ثورة ١٩١٩م

عوامل قيام ثورة ١٩١٩م:

- (١) ازدياد الوعي القومى والدعوة إلى التحرر من الاستعمار.
- (٢) الإجراءات التعسفية التى فرضها الاحتلال البريطانى على مصر أثناء الحرب العالمية الأولى.
- (٣) إعلان الرئيس الأمريكى **ولسن** مبادئه ومنها حق الشعوب فى تقرير مصيرها (أى استقلالها).

مقدمات ثورة ١٩١٩م:

بعد انتهاء الحرب العالمية الأولى فى **نوفمبر ١٩١٨م** تألف وفد مصرى من: (سعد زغلول - على شعراوى - عبد العزيز فهمى) لمطالبة سلطات الاحتلال البريطانى بالسماح لهم للسفر إلى **باريس** لعرض مطالبهم الوطنية على **مؤتمر الصلح** وهى:

مؤتمر الصلح

مؤتمر عقدته بعض الدول الأوروبية بعد الحرب العالمية الأولى للنظر فى الأوضاع السياسية بعد انتهاء الحرب.

- الحماية البريطانية.
 - الأحكام العرفية.
 - الرقابة على الصحف والمطبوعات.
- إلغاء:

موقف سلطات الاحتلال البريطانى:

- رفضت السلطات البريطانية فى مصر السماح لأعضاء الوفد المصرى بالسفر إلى باريس، فاتجه أعضاء الوفد المصرى لتعبئة رأى العام الداخلى فى مصر ضد الاحتلال البريطانى، تم إلقاء القبض على سعد زغلول وثلاثة من أعضاء الوفد المصرى وتم نفيهم إلى جزيرة مالطة مما أدى إلى اندلاع ثورة ١٩١٩م.

أحداث ثورة ١٩١٩م:

- بدأت الثورة فى القاهرة بمظاهرات الطلبة فى مارس ١٩١٩م ثم اشترك فيها العمال والفلاحون وقاموا بقطع خطوط السكك الحديدية والتلغرافية لمنع اتصال القوات البريطانية المنتشرة فى مصر ببعضها.
- انتقلت الثورة من القاهرة إلى الدلتا والأقاليم الأخرى.
- شاركت المرأة لأول فى المظاهرات ويعد ذلك تطور اجتماعى ملحوظ فى تاريخ البلاد.
- اشترك عنصرى الأمة من مسلمين ومسيحيين فى الثورة.
- * لذلك تعد ثورة ١٩١٩م ثورة شعبية عامة حيث اشترك فيها كل طوائف الشعب المصرى.



مشاركة المرأة فى ثورة ١٩١٩م



الوفد المصرى فى مؤتمر الصلح

موقف بريطانيا من ثورة ١٩١٩م:**ما النتائج المترتبة على: قيام ثورة ١٩١٩م؟**

- ١) أفرجت بريطانيا عن سعد زغلول وزملائه فى أبريل ١٩١٩م.
- ٢) سمحت بريطانيا للوفد المصرى بالسفر لعرض مطالبهم على مؤتمر الصلح بباريس.

مؤتمر الصلح والمطالب المصرية:

- خيب مؤتمر الصلح آمال المصريين فى الاستقلال لأنه اعترف بالحماية البريطانية على مصر.
- تجددت الثورة مرة أخرى بعد أن أدرك المصريون ضرورة الاعتماد على أنفسهم للتخلص من الاحتلال البريطانى.
- قامت السلطات البريطانية بالقبض على سعد زغلول وبعض زعماء الوفد المصرى ونفيهم إلى جزيرة سيشل بالمحيط الهندى.

موقف المصريين بعد نفي سعد زغلول للمرة الثانية:

- اشتدت الثورة مرة أخرى وقام المصريون بمقاطعة البنوك والسفن والبضائع البريطانية، فاضطرت بريطانيا للإفراج عن سعد زغلول وزملائه.



مذكرات السلطان

www.facebook.com/EL.Sulttan

ثالثاً تصريح ٢٨ فبراير ١٩٢٢م

- أصدرت بريطانيا تصريح ٢٨ فبراير ١٩٢٢م واعترفت فيه:
 - بانتهاء الحماية البريطانية.
 - مصر دولة مستقلة ذات سيادة

* لكن هذا الاستقلال كان شكلياً/ صورياً بسبب وجود ٤ تحفظات بريطانية:

- (١) تأمين المواصلات البريطانية في مصر.
- (٢) الدفاع عن مصر ضد أى اعتداء أو تدخل أجنبي.
- (٣) حماية المصالح الأجنبية وحماية الأقليات.
- (٤) يبقى وضع السودان وفقاً لاتفاقية الحكم الثنائي ١٨٩٩م.

* قبلت الحكومة المصرية تصريح ٢٨ فبراير ١٩٢٢م.

ما النتائج المترتبة على: تصريح ٢٨ فبراير ١٩٢٢م؟

دستور

هو مجموعة القواعد والمبادئ التي تحدد نظام الحكم في الدولة.

- (١) وضع دستور ١٩٢٣م.
- (٢) إجراء انتخابات عامة وفوز حزب الوفد بزعامة سعد زغلول بالأغلبية المطلقة.
- (٣) تشكيل أول حكومة دستورية في مصر عام ١٩٢٤م بزعامة سعد زغلول.

رابعاً طلعت حرب والاقتصاد المصري

استقلال سياسي

أن يكون حكم مصر بيد أبناءها، و عدم خضوعها للاحتلال أو سيطرة أجنبية

استقلال اقتصادي

عدم تبعية الاقتصاد المصري لأى دولة أجنبية والاعتماد على رؤوس أموال وطنية.

- تدهورت الأحوال الاقتصادية لمصر أثناء الاحتلال البريطاني.
- أدرك طلعت حرب أن استقلال مصر السياسى الذى يقاتل من أجله المصريون لن يكون له قيمة إذا لم يستند إلى استقلال اقتصادى قوى وسيطر المصريون على اقتصادهم.

■ إنشاء بنك مصر:

استطاع طلعت حرب بمشاركة مجموعة من العاملين في مجال المال والتجارة تأسيس بنك مصر ١٩٢٠م، يديره مصريون تحت إشراف وطنى لتمويل المشروعات الوطنية.

أسئلة عامة علم الدرس

أكمل:

- (١) عقب قيام الحرب العالمية الأولى أعلنت بريطانيا على مصر في ديسمبر ١٩١٤م.
- (٢) تولى سعد زغلول عام ١٩٠٦م نظارة ثم تولى نظارة عام ١٩١٠م.
- (٣) قام بمشاركة العاملين في مجال المال والتجارة بتأسيس
- (٤) أثناء الحرب العالمية الأولى أصدر الرئيس الأمريكى مبادئه ومنها حق في تقرير مصيرها.
- (٥) نفى سعد زغلول أول مرة إلى جزيرة ثم أعيد نفيه للمرة الثانية إلى جزيرة

- (٦) عقب تصريح تم وضع دستور ١٩٢٣م وأجريت الانتخابات وفاز حزب
- (٧) بعد انتهاء الحرب العالمية الأولى تم عقد مؤتمر فى عام ١٩١٩م.
- (٨) خيب مؤتمر الصلح فى باريس آمال المصريين لأنه اعترف على مصر.
- (٩) شكل سعد زغلول أول عام ١٩٢٤م.

بم تفسر:

- (١) قيام ثورة ١٩١٩م ؟
- (٢) خيب مؤتمر الصلح فى باريس آمال المصريين ؟
- (٣) تعتبر ثورة ١٩١٩م ثورة شعبية ؟
- (٤) تشكيل الوفد المصرى عقب انتهاء الحرب العالمية الأولى ؟
- (٥) يعتبر استقلال مصر عام ١٩٢٢م استقلالاً ناقصاً ؟
- (٦) ارتباط استقلال مصر السياسى باستقلالها الاقتصادى ؟

أكتب ما تشير إليه الجمل الآتية:

- (١) شكل أول حكومة دستورية فى مصر عام ١٩٢٤م. (.....)
- (٢) الرئيس الأمريكى الذى أعلن حق كل أمة فى تقرير مصيرها. (.....)
- (٣) زعيم وطنى نفاه الإنجليز إلى جزيرة مالطة مع ثلاثة من أعضاء الوفد المصرى. (.....)
- (٤) اقتصادى مصرى ارتبط اسمه بالاستقلال الاقتصادى لمصر. (.....)

ما النتائج المترتبة على:

- (١) نفى سعد زغلول وزملائه إلى جزيرة مالطة ؟
- (٢) تصريح ٢٨ فبراير ١٩٢٢م ؟
- (٣) نفى سعد زغلول إلى جزيرة سيشل بالمحيط الهندى ؟
- (٤) مقاطعة المصريين للبنوك والبضائع المصرية أثناء ثورة ١٩١٩م ؟
- (٥) تمويل بنك مصر للصناعات الوطنية ؟

ضع علامة (✓) أو (×) مع التصويب:

- () (١) قبضت السلطات البريطانية على سعد زغلول ونفته إلى جزيرة مالطة فى مارس ١٩١٩م.
- () (٢) شكل سعد زغلول أول حكومة دستورية عام ١٩٢٢م.
- () (٣) نفت السلطات البريطانية سعد زغلول وزملائه أول مرة إلى جزيرة سيشل بالمحيط الهندى.
- () (٤) أصدرت فرنسا تصريح ٢٨ فبراير واعترفت فيه باستقلال مصر.
- () (٥) انتهت الحماية البريطانية على مصر بانتهاء الحرب العالمية الأولى ١٩١٨م.
- () (٦) أسس طلعت حرب بنك مصر برؤوس أموال أجنبية.
- () (٧) شاركت المرأة لأول مرة فى ثورة ١٨٨١م.

برهن على صحة العبارات الآتية :

- (١) سجلت ثورة ١٩١٩م تطور اجتماعى خطير فى تاريخ البلاد ؟

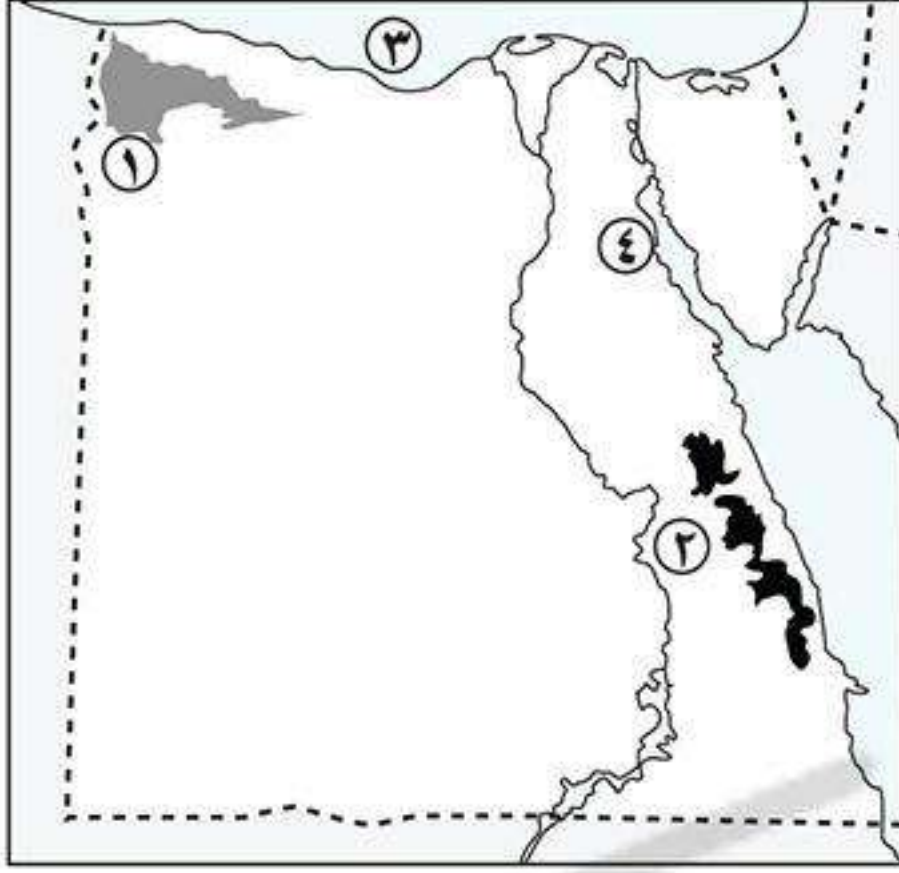
ما المقصود بالمصطلحات الآتية:

- (١) دستور ؟ (٢) استقلال مصر الاقتصادى ؟

اختبار

أكتب ما تشير إليه الأرقام الآتية:

- (١) هضبة
- (٢) سلاسل جبلية
- (٣) البحر
- (٤) خليج



بم تفسر:

- (١) يطلق على عدد كبير من سكان البيئة الصحراوية بدو رحل ؟
- (٢) قيام الزراعة في الواحات ؟
- (٣) قيام الثورة العرابية ؟
- (٤) مد محمد فريد نشاط الحركة الوطنية إلى أوروبا ؟

أكمل:

- (١) قادة مظاهرة عابدين السلمية
- (٢) دعا إلى إنشاء مدارس ليلية.
- (٣) تختفى بالصحراء الشرقية.
- (٤) نفى سعد زغلول ورفاقه للمرة أولى إلى جزيرة
- (٥) أسس جريدة اللواء عام ١٩٠٠ م.

أختار الإجابة الصحيحة:

- (١) عقدت حكومة فرنسا الاتفاق الودى ١٩٠٤ م مع:
- (٢) تضمن تصريح ٢٨ فبراير إعلان بريطانيا أن مصر دولة:
- (٣) يُعد جبل أعلى قمة جبلية في مصر.
- (٤) من العادات السلبية لسكان البيئة الصحراوية.
- (ألمانيا - روسيا - إنجلترا - إسرائيل)
- (مستعمرة - مستقلة ذات سيادة - محتلة - تحت الحماية)
- (الشايب - علبة - سانت كاترين - موسى)
- (الترابط الأسرى - الزواج المبكر - إكرام الضيف - العلاقات الطيبة مع الآخرين)

ضع علامة (✓) أو (×) مع التصويب:

- () (١) يتسم مناخ البيئة الصحراوية بارتفاع الحرارة شتاءً.
- () (٢) يتركز سكان البيئة الصحراوية في الواحات للعمل بالزراعة.
- () (٣) طالب أحمد عرابى بعزل وزارة شريف باشا .
- () (٤) محافظة الوادى الجديد وإسكندرية من محافظات الحدود بالصحراء الغربية.
- () (٥) ساهم بنك مصر في تمويل المشروعات الوطنية.

ما النتائج المترتبة على:

- (١) حادثة دنشواى ؟
- (٢) معركة التل الكبير ١٨٨٢ م ؟
- (٣) قلة الموارد الطبيعية في البيئة الصحراوية ؟
- (٤) توافر الصوف كمادة خام عند سكان البيئة الصحراوية ؟
- (٥) انتشار المعادن في البيئة الصحراوية ؟

ثورة ٢٣ يوليو ١٩٥٢م

تنظيم الضباط الأحرار

مجموعة من الضباط المعروفين بوطنيتهم تجمعهم أهداف مشتركة، أسسه جمال عبد الناصر.



جمال عبد الناصر

عدالة إجتماعية

المساواة بين الأفراد في الحقوق والواجبات، وتوزيع الثروات القومية بين المواطنين توزيع عادلاً.

حياة ديمقراطية

أن يحكم الشعب نفسه بنفسه عن طريق انتخاب نواب.

* ساءت أحوال مصر السياسية والاجتماعية والاقتصادية في ظل الاحتلال البريطاني وفساد الحكام، فتذمر الضباط الشرفاء وقاموا بتأسيس **تنظيم الضباط الأحرار** الذي قاد ثورة ٢٣ يوليو ١٩٥٢م.

أولاً قيام ثورة ٢٣ يوليو ١٩٥٢م

أسباب ثورة ٢٣ يوليو ١٩٥٢م

- **أسباب سياسية:** الاحتلال البريطاني وفساد الحكام.
- **أسباب اقتصادية:** ارتفاع الأسعار وانخفاض الدخل وانتشار الفقر.
- **أسباب اجتماعية:** - سوء توزيع الثروات وغياب العدالة الاجتماعية. - انتشار الجهل والمرض.

مبادئ ثورة ٢٣ يوليو ١٩٥٢م

- القضاء على
 - (١) الاستعمار وأعوانه.
 - (٢) الإقطاع.
 - (٣) الاحتكار وسيطرة رأس المال.
- إقامة
 - (١) جيش وطني قوى.
 - (٢) عدالة اجتماعية.
 - (٣) حياة ديمقراطية سليمة.

أهم إنجازات ثورة ٢٣ يوليو ١٩٥٢م

تأميم قناة السويس

أى تتحول ملكية شركة قناة السويس إلى مصر.



السد العالي

حركات التحرر الوطني

حركات سياسية لإنهاء احتلال الدول وتحررها من الاستعمار.

- (١) إلغاء الملكية وإعلان الجمهورية يونيو ١٩٥٣م.
- (٢) عقد اتفاقية الجلاء بين مصر وبريطانيا أكتوبر ١٩٥٤م.
- (٣) تأميم قناة السويس الملاحية يوليو ١٩٥٦م.

سياسياً

الاهتمام بالكتليات العسكرية وتنويع مصادر الإمداد والتسليح.

عسكرياً

إصدار **قانون الإصلاح الزراعي** سبتمبر ١٩٥٢م ونص على (تحديد ملكية الأراضي الزراعية)

اجتماعياً

(١) تمصير البنوك والشركات.

اقتصادياً

(٢) إنشاء السد العالي وافتتاحه عام ١٩٧١م.

(٣) إنشاء الصناعات الثقيلة مثل **مصنع الحديد والصلب** في حلون.

اقتصادياً

(١) إقامة وحدة بين مصر وسوريا عام ١٩٥٨م ولكنها لم تدم طويلاً.

خارجياً

(٢) مساندة حركات التحرر الوطني في آسيا وأفريقيا وأبرزها (الثورة الجزائرية).

ثانياً

العدوان الثلاثي على مصر أكتوبر ١٩٥٦م



■ **أشترك كلاً من:** (فرنسا - بريطانيا - إسرائيل) في العدوان على مصر في أكتوبر ١٩٥٦م.

■ **أسباب العدوان:** إعلان مصر تأميم قناة السويس في يوليو ١٩٥٦م.

■ **النتائج:** فشل العدوان الثلاثي على مصر **بسبب:**

(١) وقوف الشعب والجيش بجانب قيادته السياسية لصد العدوان.

(٢) وقوف الشعوب العربية مع مصر.

(٣) معارضة **الاتحاد السوفيتي** للعدوان وتهديده بالتدخل عسكرياً لصالح مصر.

ثالثاً

العدوان الإسرائيلي على مصر يونيو ١٩٦٧م

■ **أسباب العدوان:** قيام مصر بمساندة حركات التحرر الوطني في آسيا وأفريقيا، فخططت إسرائيل للقضاء على

زعامة مصر للعالم العربي وقامت بالاعتداء على مصر في ٥ يونيو ١٩٦٧م وقد دعمت

الولايات المتحدة هذا العدوان.



■ **النتائج:** احتلال إسرائيل لكل من:

• شبه جزيرة سيناء والضفة الشرقية لقناة السويس في مصر.

• هضبة الجولان في سوريا.

• الضفة الغربية لنهر الأردن والقدس الشرقية في فلسطين.

لم تستسلم مصر وقامت بإعادة تنظيم وتسليح وتدريب قواتها المسلحة من أجل

استرداد الأراضي التي احتلتها إسرائيل.

أسئلة عامة على الدرس

أكمل:

(١) من الأسباب السياسية لثورة ٢٣ يوليو وفساد

(٢) من مبادئ ثورة ٢٣ يوليو القضاء على وأعوانه.

(٣) نظم ضباط الجيش المصري تنظيم سرى هو

(٤) اشترك في العدوان الثلاثي على مصر بريطانيا و..... وفرنسا عام ١٩٥٦م.

(٥) قامت وحدة بين مصر و..... عام ١٩٥٨م لكنها لم تدم طويلاً.

(٦) تم افتتاح في مصر عام ١٩٧١م.

(٧) عقدت مصر مع بريطانيا اتفاقية في أكتوبر ١٩٥٤م.

(٨) من مبادئ ثورة ٢٣ يوليو إقامة وطني قوى و..... إجتماعية وحياة ديمقراطية سليمة.

(٩) نجحت ثورة ٢٣ يوليو في القضاء على الإقطاع بإصدار قانون سبتمبر ١٩٥٢م.

بم تفسر:

- (١) هناك أسباب اجتماعية لقيام ثورة ٢٣ يوليو ١٩٥٢م؟
- (٢) حدوث العدوان الثلاثي على مصر؟
- (٣) تأسيس تنظيم الضباط الأحرار؟
- (٤) فشل العدوان الثلاثي على مصر؟
- (٥) قيام إسرائيل بالعدوان على مصر في ٥ يونيو ١٩٦٧م؟
- (٦) أهمية السد العالي لمصر؟

أختر الإجابة الصحيحة:

- (١) أقامت مصر عام ١٩٥٨م وحدة مع
- (٢) قامت ثورة ٢٣ يوليو لأسباب سياسية منها
- (٣) عقدت مصر مع اتفاقية الجلاء ١٩٥٤م.
- (٤) من إنجازات ثورة ٢٣ يوليو السياسية تأميم
- (٥) الاهتمام بالكليات العسكرية وتنوع مصادر التدريب والتسليح من إنجازات ثورة ٢٣ يوليو في المجال: (السياسي - الاجتماعي - العسكري - الخارجي)

ما النتائج المترتبة على:

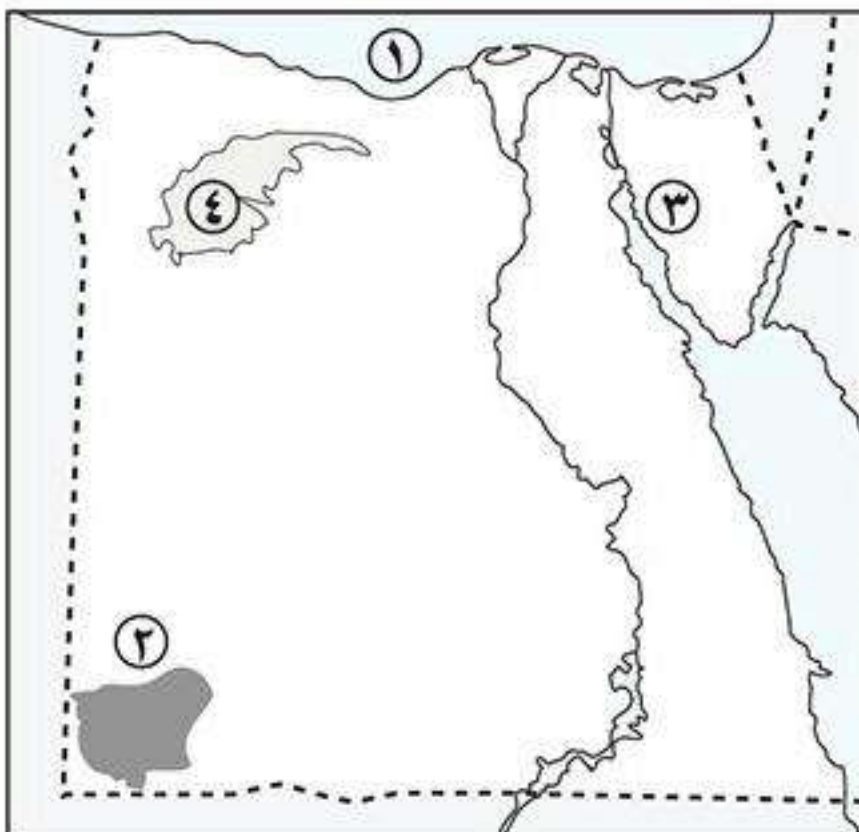
- (١) تأميم مصر لشركة قناة السويس ١٩٥٦م؟
- (٢) مناصرة مصر لحركات التحرر الوطني؟

ضع علامة (✓) أو (×) مع التصويب:

- () (١) رحلت القوات الفرنسية عن مصر بعد توقيع اتفاقية الجلاء مع مصر ١٩٥٦م.
- () (٢) شاركت ألمانيا في العدوان الثلاثي على مصر في ١٩٥٦م.
- () (٣) تم القضاء على الإقطاع بتحديد الملكية الزراعية بعد ثورة ٢٣ يوليو.
- () (٤) من إنجازات ثورة ٢٣ يوليو العسكرية بناء السد العالي.
- () (٥) تم عقد اتفاقية الجلاء بين مصر وفرنسا في أكتوبر ١٩٥٤م.

ما المقصود بالمصطلحات الآتية:

- (١) عدالة اجتماعية؟
- (٢) تأميم قناة السويس؟
- (٣) تنظيم الضباط الأحرار؟

اختبار**أكتب ما تشير إليه الأرقام الآتية:**

- (١) البحر
- (٢) هضبة
- (٣) خليج
- (٤) منخفض

بم تفسر:

- (١) فشل الثورة العربية ؟
- (٢) تخلى فرنسا عن مساندة مصطفى كامل ؟
- (٣) قيام صناعة حفظ التمور في البيئة الصحراوية ؟

أذكر:

- (١) جهود الدولة في حل المشكلات الاقتصادية لسكان البيئة الصحراوية ؟

ما المقصود بالمصطلحات الآتية:

- (١) استقلال مصر الاقتصادي ؟
- (٢) منخفض ؟
- (٣) محافظات الحدود ؟

أكتب ما تشير إليه الجمل الآتية:

- (١) زعيم قام بتأسيس جريدة اللواء.
- (٢) توزيع الثروات القومية بين المواطنين توزيعاً عادلاً.
- (٣) تجمعات من الرمال تتراكم فوق بعضها بفعل الرياح.
- (٤) أعطى امتياز حفر قناة السويس للمهندس ديليسبس.

ما النتائج المترتبة على:

- (١) خيانة ديليسبس لعرايى ؟
- (٢) تضيق الخديو وسلطات الاحتلال على محمد فريد ؟
- (٣) تأميم شركة قناة السويس ؟

صوب ما تحته خط:

- (١) التحق أحمد عرابى بالجيش في عهد الخديو توفيق.
- (٢) تأسس بنك مصر في أبريل ١٩٢٠م على يد سعد زغلول.
- (٣) دعا إلى إنشاء مدارس ليلية للعمال في مصر.
- (٤) توجد أودية جافة في هضبة العباد بالصحراء الشرقية أهمها وادى العريش.

وضح:

- (١) سياسة الاحتلال البريطانى في مصر ؟ (يكتفى باثنين فقط).

اختر الإجابة الصحيحة:

- (١) تشكلت أول حكومة دستورية برئاسة عام ١٩٢٤م. (مصطفى كامل - سعد زغلول - محمد فريد - أحمد عرابى)
- (٢) دعا لتأسيس حكومة وطنية. (سعد زغلول - مصطفى كامل - أحمد عرابى - محمد فريد)
- (٣) يعد أول إصلاح لثورة ٢٣ يوليو ١٩٥٢م. (قانون الإصلاح الزراعى - إعلان الجمهورية - تأميم شركة قناة السويس - إقامة وحدة بين مصر وسوريا)
- (٤) من الدول التى شاركت في العدوان الثلاثى على مصر (الولايات المتحدة الأمريكية - ألمانيا - إنجلترا - روسيا)
- (٥) قامت الدولة بمشروع استزراع الكثبان الرملية جنوب واحة (الداخلية - البحرية - الفرافرة - سيوة)

أكمل:

- (١) أكبر الصحارى المصرية هى الصحراء
- (٢) من القبائل التى تقوم بحرفة الرعى في محافظة مطروح قبيلة

حرب أكتوبر (ملحمة العبور) ١٩٧٣م

أحوال مصر قبل حرب أكتوبر ١٩٧٣م

- شهدت الفترة ما بين حرب ١٩٦٧م إلى قبل حرب أكتوبر ١٩٧٣م ما يسمى بـ **(حرب الاستنزاف)**، استطاع خلالها الجيش المصري تلقين العدو درساً قاسياً.
- قامت إسرائيل بعمل سلسلة من التحصينات العسكرية أمام الجبهة المصرية مثل **خط بارليف** و**الساتر الترابي**.

حرب الاستنزاف

هي غارات متقطعة قامت بها القوات المسلحة المصرية في الفترة ما بين حرب ١٩٦٧م وقبل حرب ١٩٧٣م ضد العدو الإسرائيلي لإستنزاف قوة العدو العسكرية.



خلال حرب الاستنزاف استشهد
الفريق أول عبد المنعم رياض

أسباب قيام حرب أكتوبر ١٩٧٣م

- (١) رفض إسرائيل مفاوضات التسوية السلمية واستمرار احتلالها للأراضي العربية.
- (٢) تحرير الأراضي التي احتلتها إسرائيل في حرب يونيو ١٩٦٧م وإزالة آثار العدوان.
- (٣) إنهاء حالة اللا حرب واللا سلم التي فرضت على المنطقة.
- (٤) رد كرامة الجندي المصري والعربي.
- (٥) إعادة الملاحة البحرية في قناة السويس.

قررت مصر الدخول في حرب أكتوبر ١٩٧٣م لاسترداد أراضيها المحتلة.



الرئيس السادات

أحداث حرب أكتوبر ١٩٧٣م

- تم التنسيق بين الجيشين المصري والسوري بإعادة بناء قواتهما، وإعداد خطط الحرب في سرية تامة.
- في تمام الساعة ٢ بعد ظهر يوم **٦ أكتوبر ١٩٧٣م** / العاشر من رمضان ١٣٩٣ هـ أعطى الرئيس **محمد أنور السادات** إشارة بدء القتال ببدء القتال على الجبهتين المصرية والسورية.

تمكنت القوات المسلحة المصرية من:

- (١) تدمير مواقع العدو الإسرائيلي في سيناء وإحداث خسائر كبيرة بها.
- (٢) إزالة الساتر الترابي وعبور وحدات الجيش المصري إلى سيناء.
- (٣) تحطيم تحصينات **خط بارليف** مما أدى إلى: إرباك صفوف العدو الإسرائيلي وفقدانه السيطرة على قواته.



- تدخلت الدول الكبرى وأصدر مجلس الأمن الدولي **القرار رقم ٣٣٨** بوقف إطلاق النار ووافقت مصر وإسرائيل عليه **لكن: - التزمت مصر بالقرار.**
- لم تلتزم إسرائيل بالقرار وحاولت اقتحام **مدينة السويس** ولكنها فشلت.

بم تفسر: فشل إسرائيل في اقتحام مدينة السويس؟

بسبب: تعاون أهالي مدينة السويس مع القوات المسلحة في الدفاع عن المدينة.

- أصدر مجلس الأمن القرار الثاني رقم ٣٤٠ ونص على: « وقف إطلاق النار وجميع الأعمال الحربية بين الطرفين، وعودة القوات المتحاربة إلى ما كانت عليه يوم ٢٢ أكتوبر ١٩٧٣ م، وإنشاء قوة دولية للمراقبة».
- أنهت الحرب يوم ٢٨ أكتوبر ١٩٧٣ م واجتمع الفريقان المصري والإسرائيلي لبدء تنفيذ قرار مجلس الأمن.

عوامل نجاح حرب أكتوبر ١٩٧٣م

- (١) العقيدة القتالية وقوة الإيمان.
- (٢) التدريب المستمر.
- (٣) السرية التامة والخداع الاستراتيجي.
- (٤) التعاون العربي.

نتائج حرب أكتوبر ١٩٧٣م



توقيع معاهدة السلام

- (١) كسر حاجز الخوف واستعادة الشعب المصري ثقته بنفسه.
- (٢) القضاء على أسطورة التفوق المطلق للجيش الإسرائيلي الذي (الجيش الذي لا يقهر).
- (٣) تغيير نظرة العالم للجيش المصري وانبهاره بأداءه العسكري تخطيطاً وتنفيذاً.
- (٤) أظهرت وحدة وتضامن الصف العربي.
- (٥) استعادة مصر دورها الرائد في المنطقة العربية.
- (٦) عودة الملاحة البحرية في قناة السويس تحت السيادة المصرية الكاملة يونيو ١٩٧٥ م.
- (٧) توقيع اتفاقية السلام بين مصر وإسرائيل مارس ١٩٧٩ م لاستعادة سيناء المحتلة عن طريق المفاوضات.

أسئلة عامة على الدرس

أكمل:

- (١) أقامت إسرائيل عدة تحصينات عسكرية أمام الجيش المصري مثل
- (٢) قامت القوات المسلحة المصرية في الفترة من ١٩٦٧ م وحتى ١٩٧٣ م بحرب
- (٣) من عوامل نجاح حرب أكتوبر ١٩٧٣ م العقيدة وقوة
- (٤) توقفت حرب أكتوبر نهائياً يوم أكتوبر بعد أن أصدر مجلس الأمن القرار رقم
- (٥) من نتائج حرب أكتوبر كسر حاجز واستعادة الشعب المصري
- (٦) من نتائج حرب أكتوبر عقد مصر اتفاقية مع إسرائيل مارس ١٩٧٩ م.
- (٧) عادت الملاحة البحرية في تحت السيادة المصرية عام ١٩٧٥ م.
- (٨) من عوامل نجاح حرب أكتوبر المستمر و التامة.
- (٩) أظهرت حرب أكتوبر أهمية وحدة وتضامن

بم تفسر:

- (١) قيام حرب أكتوبر ١٩٧٣ م؟
- (٢) نجاح حرب أكتوبر؟
- (٣) فشل إسرائيل في اقتحام مدينة السويس أثناء حرب أكتوبر؟

أختر الإجابة الصحيحة:

- (١) دخلت مصر حرب أكتوبر بالتنسيق سرّاً مع .
- (٢) غيرت حرب أكتوبر نظرة العالم للجيش .
- (٣) حطم الجنود المصريين في بداية حرب أكتوبر خط .
- (٤) أبرز شهداء حرب الاستنزاف الفريق أول
- (٥) من تحصينات إسرائيل أمام الجبهة المصرية
- (إسرائيل - فلسطين - سوريا - الاتحاد السوفيتي)
- (الإسرائيلي - السوري - المصري - الأمريكي)
- (ألوان - بارليف - ماجينو - السكك الحديد)
- (عبد الحكيم عامر - جمال عبد الناصر - محمد أنور السادات - عبد المنعم رياض)
- (قناة السويس - خط الاستواء - خط بارليف - خط ألوان)

ما النتائج المترتبة على:

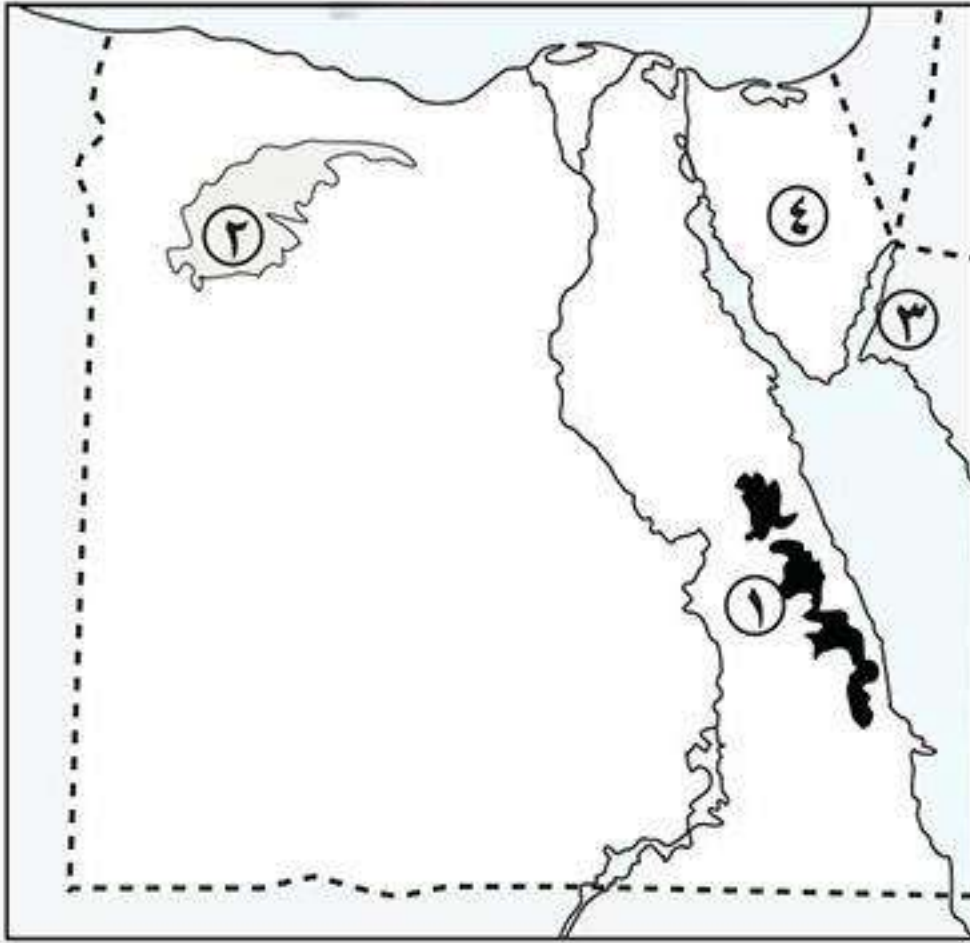
- (١) انتصار حرب أكتوبر ؟ (يكتفى بثلاثة)
- (٢) وقوف الدول العربية بجانب مصر أثناء حرب أكتوبر ؟
- (٣) تحطيم تحصينات خط بارليف ؟
- (٤) معاهدة السلام ١٩٧٩م ؟

ضع علامة (✓) أو (×) مع التصويب:

- () (١) وقعت مصر مع إسرائيل اتفاقية السلام في أكتوبر ١٩٧٣م .
- () (٢) التزمت كل من مصر وإسرائيل بقرار مجلس الأمن رقم ٣٣٨ .
- () (٣) شاركت مصر وإسرائيل في إعداد خطة سرية للقيام بحرب أكتوبر .
- () (٤) غيرت حرب أكتوبر نظرة العالم للجيش المصري .
- () (٥) اتخذ الرئيس محمد جمال عبد الناصر قرار حرب أكتوبر ١٩٧٣م .

ما المقصود بالمصطلحات الآتية:

- (١) حرب الاستنزاف .

اختبار**أكتب ما تشير إليه الأرقام الآتية:**

- (١) سلاسل جبال
- (٢) منخفض
- (٣) خليج
- (٤) شبه جزيرة

بم تفسر:

- (١) إنشاء السدود على الأودية التي تتعرض للسيول ؟
- (٢) هجرة سكان واحة سيوة للاستقرار في مدينة مرسى مطروح ؟
- (٣) ضيق السهول الساحلية المطلّة على خليج العقبة ؟
- (٤) إقامة مشروع الكثبان الرملية جنوب واحة سيوة ؟
- (٥) نمو الشعاب المرجانية على ساحل البحر الأحمر ؟

أكمل:

- (١) تعتمد الزراعة في على المياه الجوفية .
- (٢) عمل سعد زغلول محرراً في جريدة

- (٣) ساهم بنك برئاسة طلعت حرب في تمويل الصناعات المصرية.
- (٤) قامت وحدة عربية بين مصر و عام ١٩٥٨م.
- (٥) فشلت القوات البريطانية في دخول مصر عن طريق
- (٦) بدأ أحمد عرابي كفاحه منذ عصر الخديو
- (٧) في عام ١٩١٠م رفض مد امتياز شركة قناة السويس.

أكتب ما تشير إليه الجمل الآتية:

- (١) جزء من الأرض يقل مستواه عن مستوى سطح البحر.
- (٢) مؤتمر عقد بين الدول الأوروبية بعد الحرب العالمية الأولى للنظر في الأوضاع السياسية.
- (٣) توزيع الثروات القومية بين المواطنين توزيعاً عادلاً.
- (٤) تدهور التربة الزراعية وانخفاض قدرتها الانتاجية.
- (٥) توغل لجزء من البحر في اليابس ويتصل بالبحر بفتحة واحدة.
- (٦) أرض منخفضة تقوم بها الزراعة على المياه الجوفية الآبار والعيون.

ما النتائج المترتبة على:

- (١) حركة الرمال بفعل الرياح ؟
- (٢) السيول ؟
- (٣) مقاطعة المصريين للبضائع والبنوك والسفن البريطانية عام ١٩١٩م ؟
- (٤) العدوان الإسرائيلي على مصر عام ١٩٦٧م ؟

أذكر:

- (١) العادات السلبية لسكان البيئة الصحراوية ؟
- (٢) الطرق التي تتغلب بها نباتات البيئة الصحراوية على الجفاف ؟

ضع علامة (✓) أو (×) مع التصويب:

- () (١) تمتد الصحراء الشرقية من وادي النيل والدلتا شرقاً حتى الحدود المصرية الليبية غرباً.
- () (٢) يصب وادي العريش في البحر الأحمر.
- () (٣) أهم حيوانات الرعى في البيئة الصحراوية الأبقار والجاموس.
- () (٤) يرتبط وجود البيئة الساحلية بالبحار والمستطحات المائية الكبيرة.
- () (٥) دبرت بريطانيا عدة حوادث في مدينة القاهرة عام ١٨٨٢م.
- () (٦) مد سعد زغلول نشاط الحركة الوطنية إلى خارج مصر.

اختر الإجابة الصحيحة مما بين القوسين:

- (١) تم نفى سعد زغلول في مارس ١٩١٩م إلى جزيرة (مالطة - سيشل - قبرص - شدوان)
- (٢) تم في يوليو ١٩٥٦م.
- (تأميم شركة قناة السويس - إعلان الجمهورية - الوحدة بين مصر وسوريا - بناء السد العالي)
- (٣) احتل الإنجليز مدينة القاهرة بعد هزيمة عرابي في معركة (كفر الدوار - الإسكندرية - السويس - التل الكبير)
- (٤) ساندت ثورة يوليو ١٩٥٢م معظم الثورات العربية وأبرزها ثورة (العراق - تونس - سوريا - الجزائر)
- (٥) تشكلت أول حكومة دستورية برئاسة عام ١٩٢٤م. (مصطفى كامل - سعد زغول - محمد فريد - أحمد عرابي)

ثورتا ٢٥ يناير ٢٠١١ م و ٣٠ يونيو ٢٠١٣ م

أحوال مصر قبل ثورة ٢٥ يناير ٢٠١١ م



- بعد اغتيال الرئيس السادات تولى نائبه **محمد حسنى مبارك** حكم مصر.
- استمر حكم مبارك لمصر من عام ١٩٨١ م حتى ١١ فبراير ٢٠١١ م.
- شهدت هذه الفترة أحداث مهمة مثل: (١) إنشاء مشروعات البنية التحتية ومترو الأنفاق.
- (٢) التوسع في إنشاء المدارس والمدن الجديدة.
- لكن ساءت أحوال البلاد في أواخر حكم **مبارك** بسبب العديد من التجاوزات والأخطاء في مختلف المجالات.

أسباب ثورة ٢٥ يناير ٢٠١١ م

بم تفسر: قيام ثورة ٢٥ يناير ٢٠١١ م؟

- بسبب:** (١) سوء الأوضاع السياسية والاقتصادية والاجتماعية والصحية والتعليمية.
- (٢) انتشار الفساد في جميع مؤسسات الدولة.
- (٣) تزوير انتخابات **مجلسي الشعب والشورى** عام ٢٠١٠ م وسيطرة الحزب الوطنى الحاكم على أغلبية مقاعدهما وخلوهما من المعارضة.

حزب سياسي

مجموعة منظمة تتشترك في وضع برامج محددة، لتحسين شئون الدولة سياسياً واقتصادياً واجتماعياً وذلك من خلال المشاركة في مسئوليات الحكم.

أهداف ثورة ٢٥ يناير ٢٠١١ م:

- أهم أهداف الثورة هي تحقيق الكرامة والحرية والعدالة الاجتماعية للمواطن المصرى.
- كان شعار الثورة (**عيش - حرية - عدالة اجتماعية**).

أحداث ثورة ٢٥ يناير ٢٠١١ م



- انتشرت دعوات الشباب على وسائل التواصل الاجتماعى للخروج للتظاهر السلمى في جميع ميادين مصر يوم ٢٥ يناير ٢٠١١ م.
- التحمت قوى الشعب المختلفة وشارك الملايين في كل محافظات مصر في المظاهرات التى قامت في جميع ميادين مصر خاصة في **ميدان التحرير** وسط القاهرة.
- **قام النظام:** - بقطع جميع وسائل التواصل الاجتماعى (**تليفونات - إنترنت**).
- - استخدام العنف ضد المتظاهرين.
- حدث فراغ أمنى مما شجع على اقتحام السجون وهروب المسجونين.
- نزلت القوات المسلحة للشوارع لحماية ممتلكات الدولة والمؤسسات العامة.
- قام الشعب بتشكيل **لجان شعبية** لحماية المواطنين والمنازل والمؤسسات العامة.
- سقط الرئيس مبارك والنظام الحاكم.

لجان شعبية

تجمع أفراد من الشعب في مكان ما، للمحافظة على الأمن والمنشآت.

ساعد على نجاح ثورة ٢٥ يناير

اطمئنان الثوار لموقف القوات المسلحة المؤيد لمطالبهم.

■ ما تم تحقيقه من إنجازات ثورة ٢٥ يناير ٢٠١١ م:

■ ما النتائج المترتبة على: قيام ثورة ٢٥ يناير ٢٠١١ م؟

- ترتب على ذلك: (١) إسقاط النظام السياسى ووضع خطة زمنية لإجراء انتخابات رئاسية ووضع دستور جديد.
- (٢) حل مجلسى الشعب والشورى.
- (٣) الإفراج عن المعتقلين والمسجونين السياسيين.
- (٤) تأكيد الإحساس بالمواطنة والوحدة الوطنية بين المسلمين والمسيحيين.
- (٥) ارتفاع الوعي السياسى لدى الشعب المصرى والمطالبة بحقوقه واحترام حقوق الإنسان.

تم إجراء انتخابات رئاسية وبعد تولى محمد مرسى حكم البلاد لم تتحسن الأحوال السياسية والاقتصادية والاجتماعية فتجمع الشعب مرة أخرى وقام بثورة فى ٣٠ يونيو ٢٠١٣ م.

■ أسباب ثورة ٣٠ يونيو ٢٠١٣ م

■ بـم تفسر: قيام ثورة ٣٠ يونيو ٢٠١٣ م؟

- بسبب: (١) استمرار سوء الأحوال السياسية والاقتصادية والاجتماعية.
- (٢) لم تحقق السياسات الجديدة حلولاً للمشكلات التى يعانى منها غالبية الشعب المصرى.
- (٣) ازدياد الأصوات المعارضة للحكم والمطالبة بإجراء انتخابات رئاسية مبكرة.

■ أحداث ثورة ٣٠ يونيو ٢٠١٣ م:

- تزايد أعداد المعارضين وقامت المظاهرات وحدثت اشتباكات بين المؤيدين والمعارضين لحكم محمد مرسى.
- تدخلت القوات المسلحة ودعت لقيام مصالحة بين الرئيس محمد مرسى والمعارضة خلال أسبوع للحفاظ على الأمن العام.
- رفض الرئيس محمد مرسى إجراء انتخابات رئاسية مبكرة ودعى القوى السياسية إلى للحوار.
- رفضت المعارضة دعوة الرئيس مرسى للحوار.
- تجمعت أعداد كبيرة من الشعب فى الشوارع والميادين يوم ٣٠ يونيو ٢٠١٣ م للمطالبة بالتغيير.

■ نتائج ثورة ٣٠ يونيو ٢٠١٣ م:

■ ما النتائج المترتبة على: قيام ثورة ٣٠ يونيو ٢٠١٣ م؟

- ترتب على ذلك: (١) عزل الرئيس محمد مرسى وتسليم السلطة للمستشار عدلى منصور رئيس المحكمة الدستورية العليا حين إجراء انتخابات رئاسية مبكرة.
- (٢) تعديل دستور ٢٠١٢ م وإصدار دستور جديد للبلاد دستور فى يناير ٢٠١٤ م.
- (٣) إجراء انتخابات رئاسية مبكرة وفوز المرشح عبد الفتاح السيسى.



الرئيس عبد الفتاح السيسى

* بدأت فترة جديدة من تاريخ مصر لتحقيق آمال وطموحات الشعب المصرى فى حياة ينعم فيها بالديمقراطية والتقدم والرخاء.

أسئلة عامة علم الدرس

أكمل:

- (١) من نتائج ثورة ٢٥ يناير إسقاط وحل مجلسي و.....
- (٢) من أشهر الميادين التي قامت فيها ثورة ٢٥ يناير ميدان بوسط
- (٣) يوم ٣ يوليو ٢٠١٣ تم عزل الرئيس وتسليم السلطة إلى رئيس المحكمة الدستورية العليا.
- (٤) تم تعديل دستور ٢٠١٢م وإصدار دستور جديد في
- (٥) من أسباب ثورة ٢٥ يناير تزوير انتخابات مجلسي وسيطرة الحزب عليهما.

أكتب ما تشير إليه الجمل الآتية:

- (١) المساواة بين جميع أفراد الشعب في الحقوق والواجبات.
- (٢) تجمعات شعبية في مكان ما لها مطالب محددة.
- (٣) أفراد من الشعب يقومون بحفظ الأمن وحماية الممتلكات العامة.
- (٤) مجموعة منظمة تعمل بالوسائل السياسية الديمقراطية لتحقيق أهداف سياسية واجتماعية واقتصادية تتعلق بالدولة.
- (٥) نزلت الشوارع والميادين لحماية الممتلكات والمنشآت العامة أثناء ثورة ٢٥ يناير.

بم تفسر:

- (١) تكوين الشعب المصري للجان الشعبية في ثورة ٢٥ يناير ؟
- (٢) تعتبر ثورة ٢٥ يناير ثورة سلمية بيضاء ؟
- (٣) قيام ثورة ٣٠ يونيو ٢٠١٣م ؟

أختر الإجابة الصحيحة:

- (١) أثناء ثورة ٢٥ يناير تم قطع جميع وسائل
 - (٢) قام الشعب المصري في ثورة ٢٥ يناير بإسقاط
 - (٣) اشتعلت ثورة ٢٥ يناير من ميدان وسط القاهرة.
- (المواصلات - الإعلام - التواصل الاجتماعي - الكهرباء)
(رجال الأعمال - الطائرات - الساتر الترابي - النظام)
(طلعت حرب - التحرير - العباسية - رمسيس)

ما النتائج المترتبة على:

- (١) قيام ثورة ٣٠ يونيو ٢٠١٣م ؟
- (٢) الانفلات الأمني بالشارع المصري أثناء ثورة ٢٥ يناير ٢٠١١م ؟
- (٣) ثورة ٢٥ يناير ٢٠١١م ؟

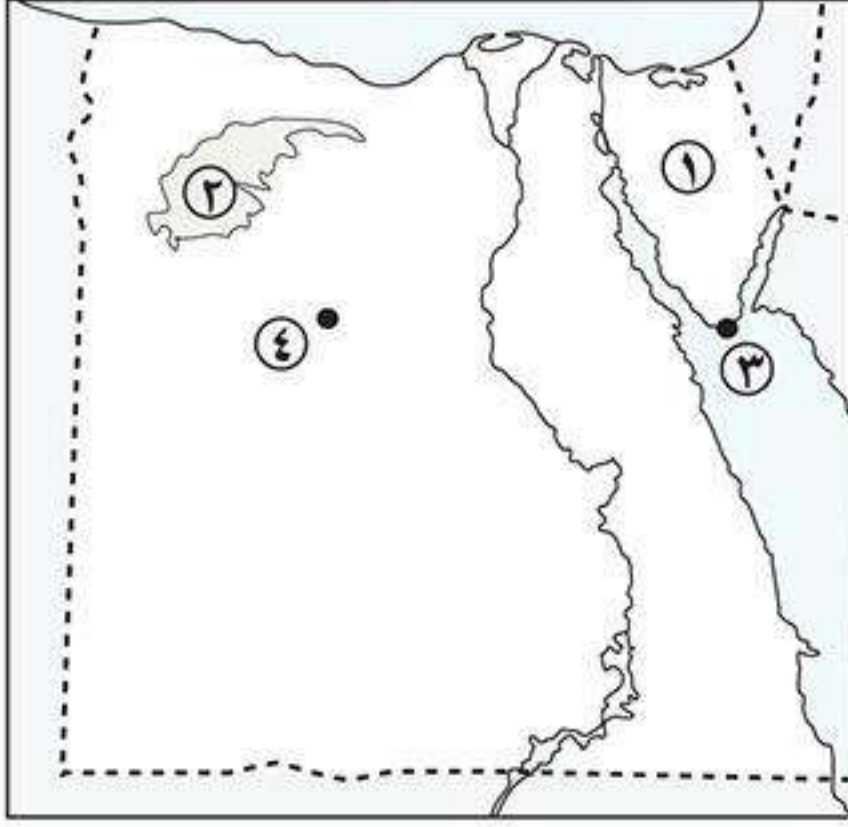
ضع علامة (✓) أو (×) مع التصويب:

- () (١) استجاب النظام السياسي لمطالب المتظاهرين في ٢٥ يناير ٢٠١١م.
- () (٢) كانت ثورة ٢٥ يناير ثورة دموية مسلحة.
- () (٣) ساهمت التكنولوجيا الحديثة في قيام ثورة ٢٥ يناير.
- () (٤) استجاب الرئيس محمد مرسي لمطالب المعارضين بإجراء انتخابات رئاسية مبكرة.
- () (٥) استخدم الشباب خطابات البريد للدعوة للتظاهر السلمي يوم ٢٥ يناير.

ما المقصود بالمصطلحات الآتية:

- (١) عدالة إجتماعية.
- (٢) لجان شعبية.
- (٣) حزب سياسي.

اختبار



أكتب ما تشير إليه الأرقام الآتية:

- (١) شبه جزيرة
- (٢) منخفض
- (٣) محمية طبيعية
- (٤) منطقة لاستخراج الحديد

بم تفسر:

- (١) فشل العدوان الثلاثي على مصر ١٩٥٦ م ؟
- (٢) قيام ثورة ١٩١٩ م ؟
- (٣) ارتفاع نسبة الوفيات خاصة بين الأطفال في البيئة الصحراوية ؟
- (٤) إقامة سد الورافعة على وادي العريش ؟
- (٥) اتساع السهل الساحلي المطل على البحر المتوسط ؟

أذكر:

- (١) تحفظات تصريح ٢٨ فبراير ؟

أكمل:

- (١) من الزعامات الوطنية التي شاركت في الثورة العرابية أحمد عرابي و.....
- (٢) أدى كفاح مصطفى كامل إلى عزل المعتمد البريطاني في مصر.
- (٣) أكثر جبال البحر الأحمر ارتفاعاً جبل
- (٤) تقوم قبيلة بحرفة الرعي في الصحراء الشرقية.
- (٥) تنمو أشجار الزيتون في المناطق المطلة على ساحل

أكتب ما تشير إليه الجمل الآتية:

- (١) جزء من الأرض يقل مستواه عن مستوى سطح البحر.
- (٢) تدهور التربة الزراعية وانخفاض قدرتها الانتاجية.
- (٣) خليج ذو مدخل ضيق متعمق في اليابس.
- (٤) هجرة الأفراد والجماعات إلى خارج الدولة بطرق غير قانونية.

ما النتائج المترتبة على:

- (١) سقوط أمطار فجائية على البيئة الصحراوية ؟
- (٢) صفاء وهدوء ودفء مياه ساحل البحر الأحمر ؟
- (٣) حركة الرمال بفعل الرياح في البيئة الصحراوية ؟

ما المقصود بالمصطلحات الآتية:

- (١) الواحة ؟
- (٢) الخليج ؟
- (٣) المدينة المليونية ؟
- (٤) الشعب المرجانية ؟

فهرس الموضوعات

الصفحة

أولاً: الجغرافيا

◀ الوحدة الأولى: البيئة الصحراوية

- الدرس الأول: الخصائص الطبيعية للبيئة الصحراوية ١
- الدرس الثاني: الخصائص السكانية للبيئة الصحراوية ٦
- الدرس الثالث: الموارد والأنشطة الاقتصادية في البيئة الصحراوية ١٠
- الدرس الرابع: تنمية البيئة الصحراوية ١٤

◀ الوحدة الثانية: البيئة الساحلية

- الدرس الأول: الخصائص الطبيعية للبيئة الساحلية ١٧
- الدرس الثاني: الخصائص السكانية للبيئة الساحلية ٢٢
- الدرس الثالث: الموارد والأنشطة الاقتصادية في البيئة الساحلية ٢٥

ثانياً: التاريخ

◀ الوحدة الثالثة: أحداث من التاريخ المصري الحديث والمعاصر

- الدرس الأول: الحركة الوطنية ومقاومة الاحتلال البريطاني ٢٩
- الدرس الثاني: ثورة ١٩١٩م ٣٤

◀ الوحدة الرابعة: الحياة السياسية وعلاقات مصر الدولية

- الدرس الأول: ثورة ٢٣ يوليو ١٩٥٢م ٣٩
- الدرس الثاني: حرب أكتوبر ١٩٧٣م ٤٣
- الدرس الثالث: ثورتا ٢٥ يناير ٢٠١١م و ٣٠ يونيو ٢٠١٣م ٤٧



مذكرات السلطان

www.facebook.com/EL.Sulttan

