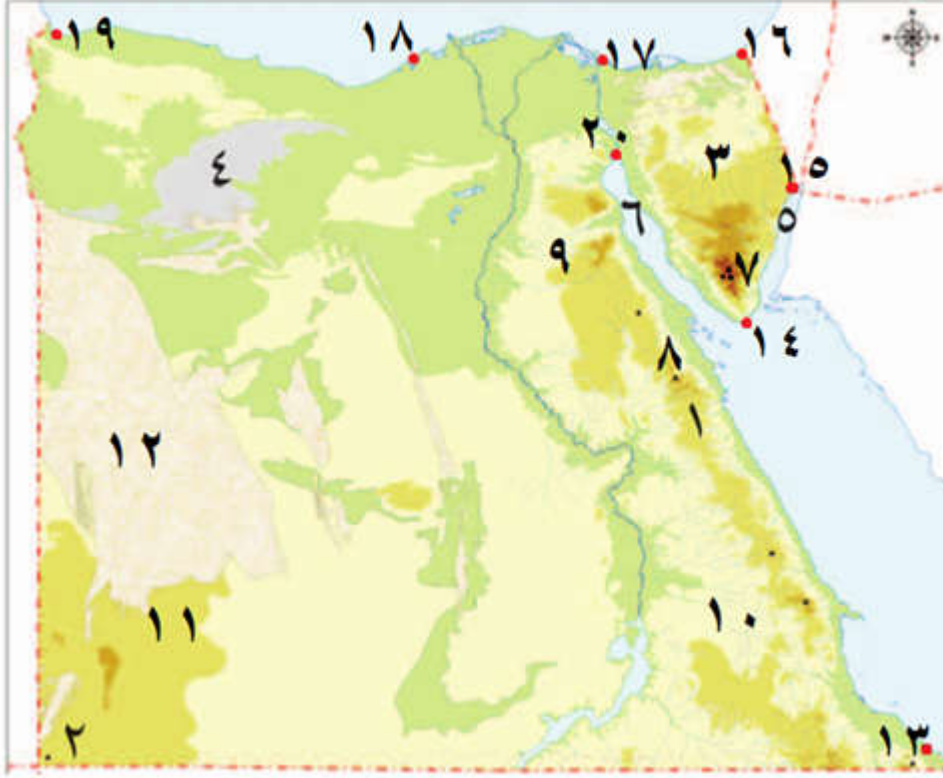
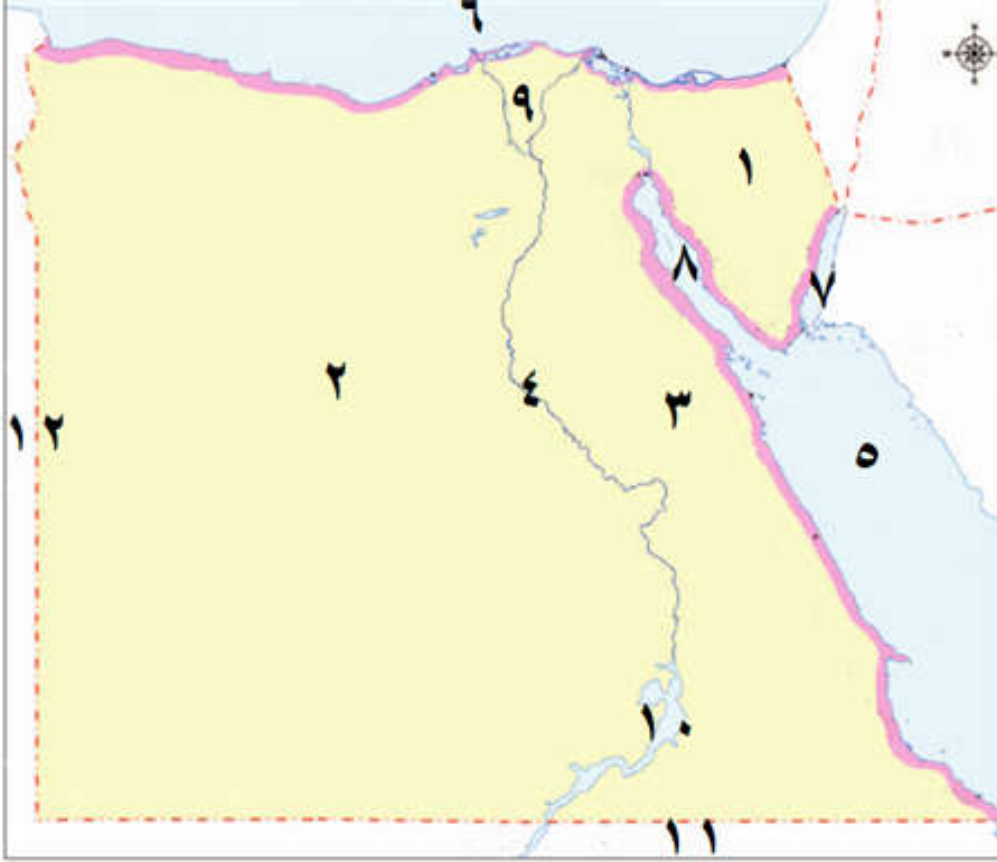


اكتب مدلول الأرقام علي الخريطة التي أمامك:-



- (١) سلاسل جبال
- (٢) جبل
- (٣) هضبة
- (٤) منخفض
- (٥) خليج
- (٦) خليج
- (٧) اعلي جبال مصر جبل
- (٨) جبل
- (٩) هضبة
- (١٠) هضبة
- (١١) هضبة
- (١٢) بحر
- (١٣) مدينة
- (١٤) مدينة
- (١٥) مدينة
- (١٦) مدينة
- (١٧) مدينة
- (١٨) مدينة
- (١٩) مدينة
- (٢٠) مدينة

اكتب مدلول الأرقام علي الخريطة التي أمامك:-



- (١) شبه جزيرة
- (٢) الصحراء
- (٣) الصحراء
- (٤) النيل
- (٥) البحر
- (٦) البحر
- (٧) خليج
- (٨) خليج
- (٩) النيل
- (١٠) بحيرة
- (١١) حدود مصر مع
- (١٢) حدود مصر مع

اكتب مدلول الأرقام علي الخريطة التي أمامك:-

- ١) رأس
- ٢) خليج
- ٣) شرم
- ٤) مدينة
- ٥) مدينة
- ٦) جبل
- ٧) جزيرة
- ٨) جزيرة
- ٩) رأس
- ١٠) جزيرة
- ١١) مرسي
- ١٢) البحر

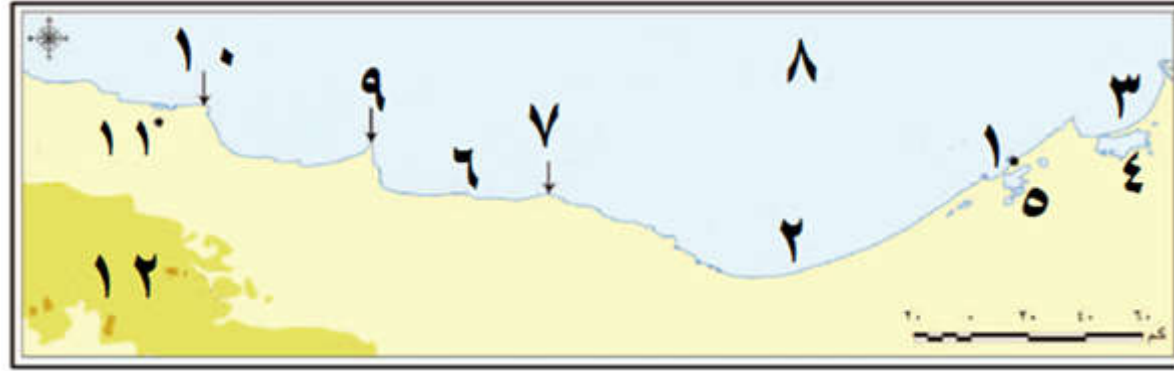
اكتب مدلول الأرقام علي الخريطة التي أمامك:-

١) هضبة



- (٢) خليج
- (٣) منخفض
- (٤) واحة
- (٥) واحة
- (٦) بحر
- (٧) واحة
- (٨) واحة
- (٩) جبل
- (١٠) هضبة
- (١١) بحيرة
- (١٢) البحر
- (١٣) هضبة
- (١٤) هضبة
- (١٥) سلاسل جبال
- (١٦) البحر
- (١٧) وادي
- (١٨) جبل
- (١٩) هضبة
- (٢٠) هضبة

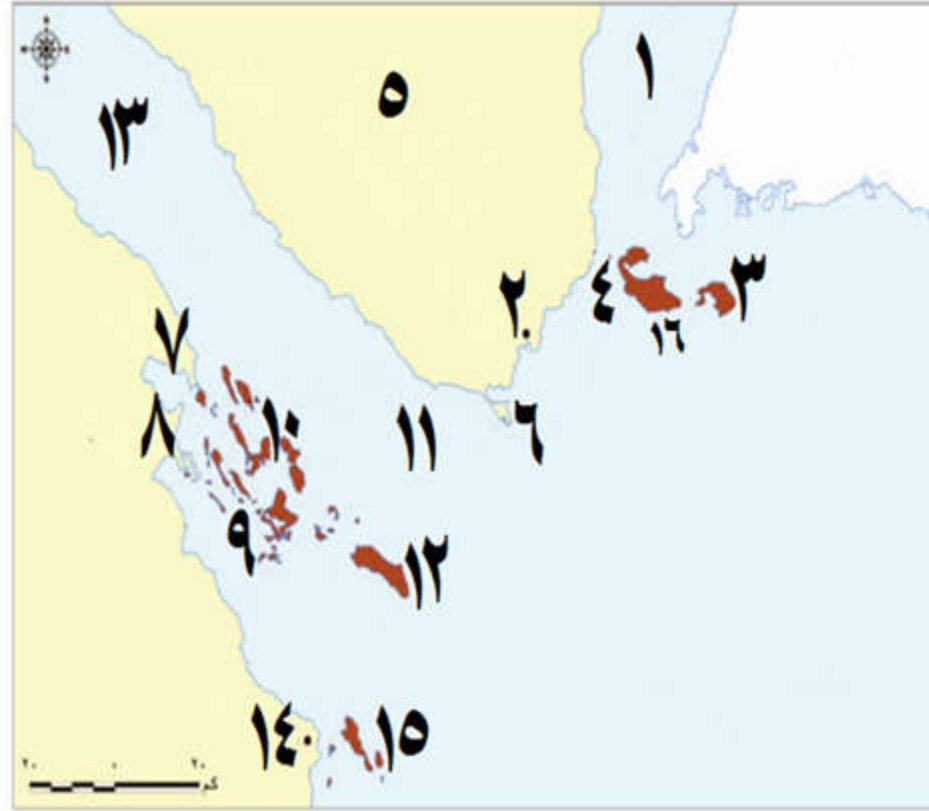
اكتب مدلول الأرقام علي الخريطة التي أمامك:-



- مدينة (١)
- خليج (٢)
- خليج (٣)
- بحيرة (٤)
- بحيرة (٥)
- خليج (٦)
- رأس (٧)
- البحر (٨)
- رأس (٩)
- رأس (١٠)
- مدينة (١١)
- هضبة (١٢)

اكتب مدلول الأرقام علي الخريطة التي أمامك:-

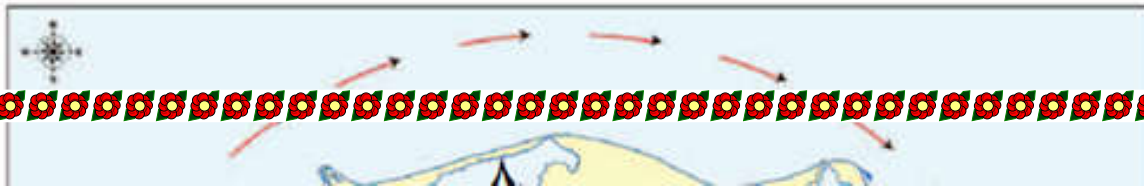
(١) خليج



- (٢) مدينة
- (٣) جزيرة
- (٤) مضيق
- (٥) شبه جزيرة
- (٦) رأس
- (٧) رأس
- (٨) رأس
- (٩) جزيرة
- (١٠) خليج
- (١١) مضيق
- (١٢) جزيرة
- (١٣) خليج
- (١٤) مدينة
- (١٥) جزيرة
- (١٦) جزيرة

اكتب مدلول الأرقام علي الخريطة التي أمامك:-

- (١) مدينة



- (٢) مدينة
- (٣) مدينة
- (٤) مدينة
- (٥) مدينة
- (٦) مدينة
- (٧) بحيرة
- (٨) بحيرة
- (٩) بحيرة
- (١٠) بحيرة
- (١١) مدينة



اكتب مدلول الأرقام علي الخريطة التي أمامك:-



- (١) البحر
- (٢) خليج
- (٣) خليج

- (٤) جبل
- (٥) جبل
- (٦) جبل
- (٧) هضبة
- (٨) هضبة
- (٩) جبل
- (١٠) جبل
- (١١) وادي
- (١٢) مدينة
- (١٣) مدينة
- (١٤) مدينة
- (١٥) مدينة
- (١٦) بحيرة
- (١٧) مدينة
- (١٨) مدينة
- (١٩) البحر

اكتب مدلول الأرقام و الرموز علي الخريطة التي أمامك:-

- معدن 
- معدن 



..... معدن 

..... معدن 

- (١) منجم
- (٢) منجم
- (٣) منجم
- (٤) منجم
- (٥) منجم
- (٦) منجم
- (٧) منجم

حدد علي خريطة مصر التي أهاك التالي :-

- (١) البيئة الساحلية
- (٢) البيئة الصحراوية



٣) مدينة القاهرة

٤) مدينة الإسكندرية

٥) دلتا النيل

٦) وادي النيل