

الأوائل

في

الدراسات الاجتماعية

الصف الثالث الإعدادي اعداد الاستاذ
الفصل الدراسي الثاني أشرف شيلابي



النشاط الزراعى وموارده فى العالم

الوحدة الأولى

الدرس الأول

بم تفسر : مارس الإنسان العديد من الأنشطة الاقتصادية البدائية مثل الصيد والزراعة وتربية الحيوان والرعى ؟

لسد حاجة الانسان من ماكل ومشرب وملبس

المناطق الزراعية الرئيسية فى العالم

- عرف الإنسان الزراعة منذ ما يقرب من ٥٠٠٠ سنة وعرف معها الاستقرار فى الأرضى

الخصبة على ضفاف الأنهار

بم تفسر : الزراعة من الأنشطة الاقتصادية الأساسية فى العالم ؟

١- مصدراً رئيسياً لغذاء الإنسان بجانب الأسماك والحيوانات

٢- يرتبط الزراعة بتربية الحيوان

٣- مصدر مهم للمواد الخام الزراعية التى تدخل فى الصناعة مثل

- الألياف تدخل فى المنسوجات

- المطاط يدخل فى صناعة اطارات السيارات

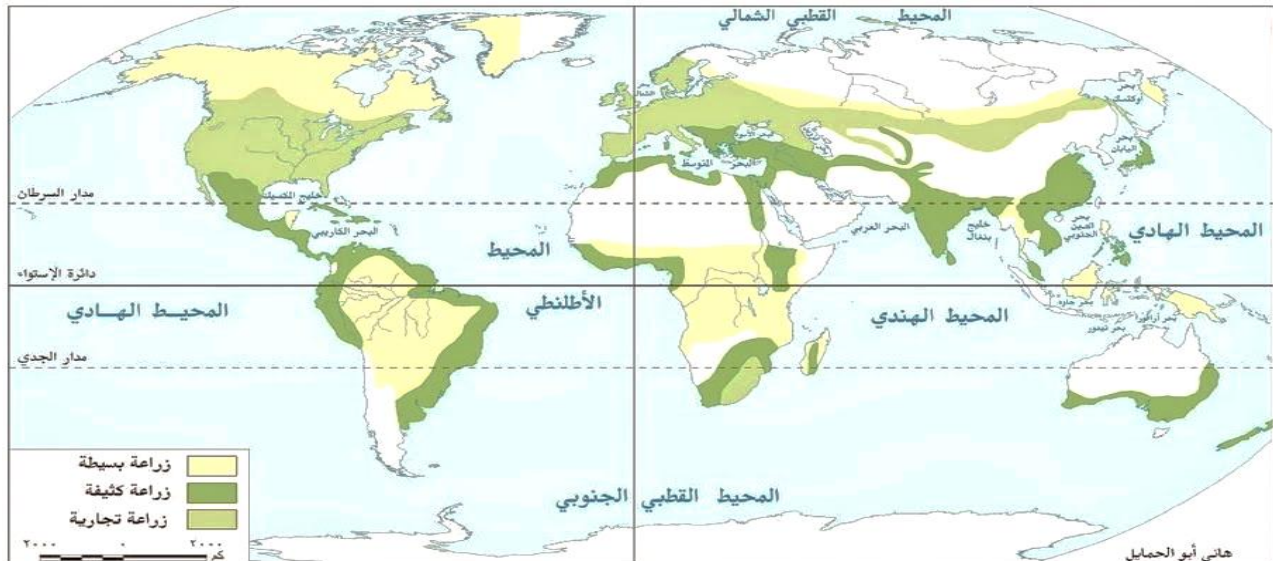
ما العلاقة بين المطاط وصناعة السيارات (اجب انت)

اقسام الزراعة

تنقسم إلى نوعين رئيسيين هما

١- الزراعة البسيطة (البدائية)

٢- الزراعة المتقدمة وتشمل (الكثيفة - التجارية العلمية)



خريطة (١) توزيع الانواع الرئيسية للزراعة فى العالم

أولاً: الزراعة البسيطة

الخصائص	<ul style="list-style-type: none"> - يعمل بها عدد قليل من السكان - ضيق المساحات المزروعة وتباعدها
الهدف	توفير الاحتياجات الغذائية اللازمة للسكان المحليين دون وجود فائض للتصدير
اماكن الانتشار	<ul style="list-style-type: none"> - المناطق الحارة على هوامش الغابات الاستوائية - بعض مناطق حشائش السافانا
اهم المحاصيل	<ul style="list-style-type: none"> - اليام - الموز - الذرة - الكسافا



ثانياً: الزراعة المتقدمة

١- الزراعة الكثيفة

الخصائص	<ul style="list-style-type: none"> - زراعة الأرض بشكل مكثف أكثر من مرة باكثر من محصول - تتطلب أيدى عاملة وفيرة - صغر مساحة الحقول الزراعية
الهدف	اشباع حاجة السكان المحليين من الغذاء للاستهلاك المحلى فقط
اماكن الانتشار	<ul style="list-style-type: none"> - المناطق الحارة والمعتدلة
اهم المحاصيل	<ul style="list-style-type: none"> - القمح - الارز - الذرة

٢- الزراعة التجارية والعلمية

الخصائص	<ul style="list-style-type: none"> - تتم في مزارع واسعة - تستخدم احدث الآلات الزراعية والطرق العلمية الحديثة
الهدف	الانتاج التجارى الضخم
اماكن الانتشار	<ul style="list-style-type: none"> - جنوب شرق آسيا في مزارع المطاط والشاي - أوروبا في مناطق زراعة القمح - أمريكا الشمالية خاصة الولايات المتحدة الأمريكية في مناطق زراعة القمح ونطاق القطن
اهم المحاصيل	<ul style="list-style-type: none"> - القمح - القطن - المطاط - الشاي

بم تفسر

١- تحتاج الزراعة الكثيفة ايدى عاملة وفيرة

- لصعوبة استخدام الآلات والميكنة الزراعية
- لأنها تتم من خلال عمليات عديدة مثل : بذر الحبوب والرى وتنقية الحشائش

٢- صعوبة استخدام الآلات والميكنة الزراعية في الزراعة الكثيفة

- لصغر مساحة الحقول الزراعية

٣- تسمى الزراعة الكثيفة بهذا الاسم ؟

- لزراعة الأرض بشكل مكثف أكثر من مرة بأكثر من محصول

٤- تسمى الزراعة العلمية بالزراعة التجارية

- لأنها تهدف للإنتاج التجاري الضخم

٥- تسمى الزراعة العلمية بالزراعة الواسعة

- لأنها تتم في مزارع واسعة

٦- تسمى الزراعة العلمية بهذا الاسم

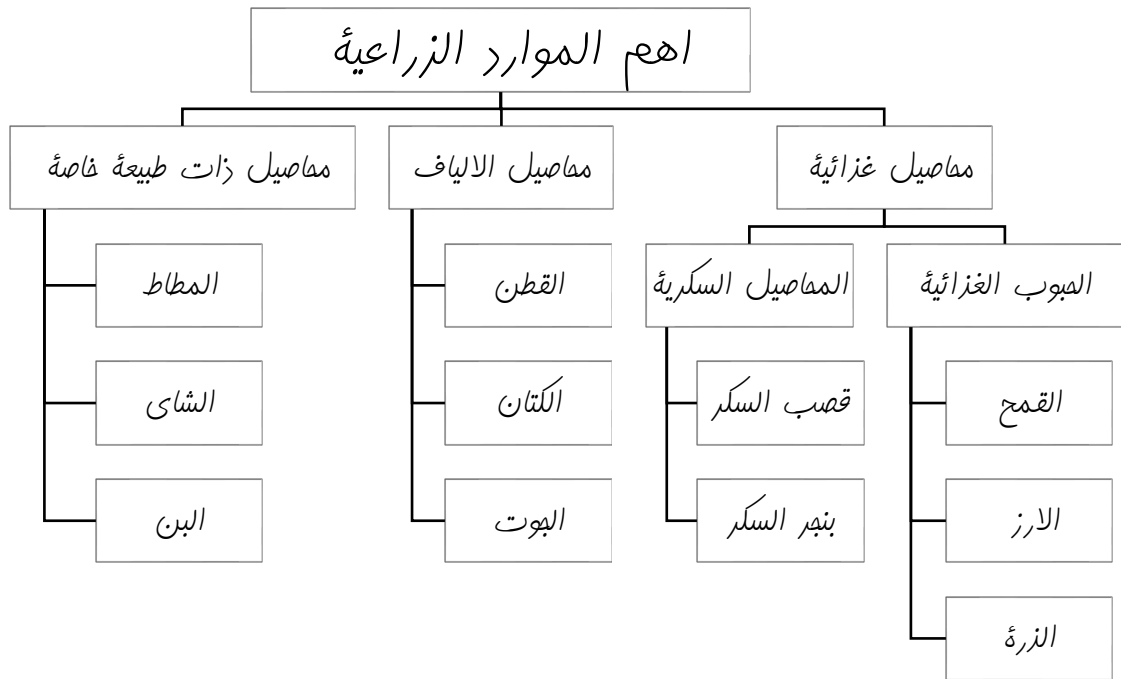
- لأنها تستخدم أحدث الآلات والطرق العلمية الحديثة

ما النتائج المترتبة على

١- استخدام أحدث الآلات الزراعية والطرق العلمية في الزراعة التجارية

إلى قلة التكاليف وقلة العمالة الزراعية

الموارد الزراعية في العالم



أولاً : محاصيل الحبوب

الذرة	القمح	الأهمية
- غذاء للإنسان (بعض الدول) وعلف للحيوان	يعتبر الغذاء الرئيسى لمعظم شعوب العالم حيث يُصنع منه الخبز بالإضافة إلى المكرونه والحلويات	
١- أمريكا الشمالية ٢- آسيا ٣- أمريكا الجنوبية	١- آسيا أكثر القارات إنتاجاً	أهم القارات
١- الولايات المتحدة - يستخدم كعلف ويصدر للخارج	١- الصين ٢- الهند ٣- الولايات المتحدة	أهم الدول

ثانياً المحاصيل السكرية

بنجر السكر	قصب السكر	الأهمية
المحصول الثانى لإنتاج السكر فى العالم	المحصول الأول (الرئيسى) لإنتاج السكر فى العالم	
- يحتاج حرارة معتدلة	يحتاج درجة حرارة مرتفعة و كمية مياه وفيرة	شروط الزراعة
يتركز فى أوروبا	فى كل القارات عدا أوروبا	الإنتاج
- فرنسا (أوروبا) - الولايات المتحدة (أمريكا ش) - مصر (أفريقيا)	١- البرازيل ٢- الهند ٣- الصين	الدول

أهم الدول إنتاجاً للسكر :



- ١- البرازيل
- ٢- الهند
- ٣- الصين

بم تفسر

- ١- يتركز زراعة بنجر السكر فى كل القارات عدا أوروبا ؟
- لأنه يحتاج حرارة مرتفعة ومياه وفيرة لكن أوروبا تقع فى المنطقة المعتدلة
- ٢- تتركز زراعة البنجر فى فرنسا بأوروبا والولايات المتحدة بأمريكا الشمالية
- بسبب ملائمة ظروف المناخ والتربة الزراعية

ثالثاً : محاصيل الألياف

١- القطن

الأهمية	<ul style="list-style-type: none"> - مهمة لإنتاج الخيوط التي تستخدم في الملابس والمنسوجات - مصدر لاستخراج زيت بذرة القطن وصناعة الأعلاف
القارات	<ul style="list-style-type: none"> ١- آسيا ثلثي الإنتاج $\frac{2}{3}$ ٢- أمريكا الشمالية ٣- أمريكا الجنوبية
الدول	<ul style="list-style-type: none"> ١- الصين والهند ٢- الولايات المتحدة ٣- مصر والسودان

بم تفسر : القطن في مصر والسودان من أجود الأنواع في العالم
لأن معظمه من الأنواع طويلة التيلة

رابعاً : محاصيل ذات طبيعة خاصة

المصدر	المطاط الطبيعي	الشاي
يستخرج من عصارة أشجار استوائية	أشجار دائمة الخضرة	
الاهمية	يصنع منه إطارات السيارات وصناعات أخرى	<ul style="list-style-type: none"> - تحتاج زراعته الى تربة خصبة - مناخ حار - هواء رطب ومطر غزير
القارات	١- آسيا ٢- أفريقيا	١- آسيا
الدول	١- تايلاند	١- الشاي

اختبر نفسك

اذكر اولى الدول انتاجاً لـ

- ١- القمح
- ٢- الذرة
- ٣- قصب السكر والسكر
- ٤- القطن
- ٥- المطاط
- ٦- الشاي

بم تفسر

١. يعد النشاط الزراعي من الأنشطة الاقتصادية الأساسية ؟
٢. مارس الانسان العديد من الأنشطة الاقتصادية البدائية ؟
٣. تحتاج الزراعة الكثيفة ايدى عاملة وفيرة

٤. صعوبة استخدام الآلات والميكنة الزراعية في الزراعة الكثيفة
٥. تسمى الزراعة الكثيفة بهذا الاسم ؟
٦. تسمى الزراعة العلمية بالزراعة التجارية
٧. تسمى الزراعة العلمية بالزراعة الواسعة
٨. تسمى الزراعة العلمية بهذا الاسم
٩. يتركز زراعة بنجر السكر في كل الفارات عدا اوربا ؟
١٠. تتركز زراعة البنجر في فرنسا بأوروبا والولايات المتحدة بأمريكا الشمالية
١١. القطن في مصر والسودان من أجود الأنواع في العالم

اذكر أهمية المحاصيل الآتية

١- المطاط

٢- القطن

٣- الذرة

٤- القمح

٥- قصب السكر

اكمل العبارات الآتية

- ١- من الأنشطة الاقتصادية البدائية و..... و.....
- ٢- عرف الانسان الزراعة منذ سنة حول ضفاف
- ٣- تدخل محاصيل في صناعة الالياف
- ٤- بدخل في صناعة اطارات السيارات
- ٥- تنتشر الزراعة على هوامش الغابات الاستوائية
- ٦- تنتشر الزراعة في المناطق الحارة والمعتدلة
- ٧- يصعب استخدام الآلات والميكنة في الزراعة و.....
- ٨- تعرف الزراعة العلمية ب و.....
- ٩- يقل الاعتماد على الايدي العاملة في الزراعة
- ١٠- اليام والكسافا من محاصيل الزراعة
- ١١- تعد قارة أولى القارات انتاجا للقمح
- ١٢- تعد قارة أولى القارات انتاجا للذرة
- ١٣- المحصول الثاني في انتاج السكر هو
- ١٤- اكبر الدول انتاجا لبنجر السكر في افريقيا هي
- ١٥- تنتج اسيا حوالى من الانتاج العالمى للقطن يليها قارة
- ١٦- اكبر دول افريقيا انتاجا للقمح هي
- ١٧- يستخرج من عصارة اشجار استوائية
- ١٨- الموطن الاصلى للشاي هو

الرعى والثروة الحيوانية في العالم

الوحدة الأولى

الدرس الثاني

أولاً: النشاط الرعوي

يرتبط النشاط الرعوي بمناطق الحشائش في العالم ومنها حشائش السافانا و حشائش الاستبس وغيرها



أنواع الرعى

الرعى البدائي (التقليدي)	الرعى التجاري	
رعى يمارسه سكان المناطق الصحراوية في مساحات واسعة في قارات العالم	رعى يمارس في مناطق الحشائش القصيرة (البراري) وفي مناطق الاستبس والسافانا بقارات العالم	التعريف
<p>يتركز في</p> <p>١- الصحاري الحارة كما في شبه الجزيرة العربية وبادية الشام بآسيا وشمال أفريقيا</p> <p>٢- صحاري التندرا الباردة بآسيا وأوروبا (الرنه)</p> <p>٣- الصحاري المعتدلة ب دول وسط آسيا حيث (الصحاري المعتدلة)</p>	<p>- أمريكا الشمالية</p> <p>- الأرجنتين</p> <p>- أستراليا</p>	التركز
<p>١- قل عدد القائمين بالرعى البدائي في شبه الجزيرة العربية وبادية الشام بسبب تدفق البترول وتوطين البدو</p>	<p>- يعتمد على الأساليب العلمية الحديثة</p> <p>يتم تربية حيوان المرعى لإنتاج الألبان واللحوم</p>	الخصائص

<p>٢- قل عدد القائمين بالرعى البدائي بقبائل وسط اسيا</p> <p>- انتشار التعليم واغير نشاطهم للعمل بالزراعة والصناعة والخدمات</p>	<p>- يرعى كل نوع من الحيوانات في مزارع خاصة به دون الاختلاط بحيوانات أخرى</p>
--	---

بم تفسر

- ١- قلة عدد القائمين على حرفة الرعى البدائي في شبه الجزيرة العربية وبادية الشام
اجب انت
- ٢- قلة عدد القائمين على حرفة الرعى البدائي في دول وسط آسيا ؟ اجب انت
- ٣- انتشار الرعى البدائي في الصحارى الباردة ؟
حيث يوجد حيوان الرنة وغيره
- ٤- زيادة انتاج الالبان واللحوم في مناطق الرعى التجاري ؟
لأنها تعتمد على احدث الاساليب العلمية الحديثة
- يرعى كل حيوان دون الاختلاط بالحيوانات الاخرى

ثانياً : الموارد الحيوانية بالعالم

بم تفسر : اهمية الثروة الحيوانية

- المصدر الرئيسى لإنتاج اللحوم والألبان و الجلود والصوف وغيرها

١) الثروة الحيوانية

الأغنام	الأبقار	الاهمية
<p>- تربي من أجل الحصول على لحومها وأصوافها</p>	<p>- هى المصدر الرئيسى للحوم الحمراء لغالبية سكان العالم</p> <p>- تدخل بنسبة كبيرة فى التجارة الدولية</p>	
<p>١- الصين</p> <p>٢- الهند</p> <p>٣- أستراليا</p>	<p>١- آسيا أولى قارات العالم وأهم دولها (الهند)</p> <p>٢- أمريكا الجنوبية ثانى قارات العالم</p> <p>٣- افريقيا</p>	<p>القارات والدول المنتجة</p>

بم تفسر :

١. ترتبط تربية الاغنام بمناطق المراعى التجارية الواسعة ؟
للحصول على لحومها وصوفها
٢. تتركز تربية الأغنام فى الصين والهند وأستراليا ؟
بسبب توافر الحشائش



لاحظ أن : هناك حيوانات رعى أخرى مثل الجاموس - الإبل - الماعز - الخنازير

الإنتاج الحيوانى فى العالم

الدول المنتجة	الأهمية	
١- الصين معظم إنتاجها من لحوم الخنازير ٢- الولايات المتحدة	- المنتج الرئيسى للحيوان - تدخل بنسبة ٨٪ فى التجارة الدولية	١. اللحوم الحمراء
١- الهند ٢- الولايات المتحدة الأمريكية	المنتج الحيوانى الثانى للثروة الحيوانية	٢. الألبان
١- أستراليا ٢- الصين	صوف الأغنام مادة خام أساسية لصناعة نسج الصوف	٣. الأصواف
	تقوم عليها صناعة دبغ الجلود وتصنيعها فى شكل منتجات جلدية متعددة	٤. الجلود

بم تفسر

إنتاج مصر من الألبان يبلغ حوالى ٦ مليون طن

- ١- أستراليا هى الاولى فى إنتاج الصوف لوجود أغنام المارينو الشهيرة بغزارة الصوف
- ٢- زيادة معدل الاستهلاك العالمى للحوم الحمراء - ارتفاع مستوى المعيشة وزيادة السكان
- ٣- إنتاج مصر لا يكفى من الألبان ؟ - زيادة السكان وزيادة الاستهلاك

ثانياً : الدواجن

بم تفسر : تربي الدواجن فى كل دول العالم تقريباً ؟

تُساهم بمنتجاتها من اللحوم والبيض فى سد حاجة سكان العالم من الغذاء
أهم الدول المنتجة :

- ١- الولايات المتحدة الأمريكية
- ٢- الصين



ثالثاً : الاسماك

بم تفسر : أهمية الثروة السمكية ؟

تمثل غذاء رئيسياً لكثير من سكان العالم خاصة فى المناطق الساحلية على البحار والمحيطات
دلل على صحة العبارة : تنتشر مصايد الاسماك على سواحل القارات ؟

حيث تنتشر مناطق الصيد على سواحل القارات التى تتوافر بها العوامل الطبيعية والبشرية كما فى سواحل شمال غرب أوروبا وسواحل أمريكا الشمالية
بم تفسر : تنتشر مصايد الأسماك على سواحل القارات ؟
 لتوفر العوامل الطبيعية والبشرية التى أدت إلى انتشارها وصل

- ١- **ضخالة المياه الساحلية** وغناها بالمواد الغذائية
- ٢- **التقاء التيارات البحرية** الدافئة مع الباردة
- ٣- **توافر الموانئ** لرسو سفن الصيد
- ٤- **توافر الخبرات الفنية والعلمية** فى تطوير صناعة المراكب وأدوات الصيد والثلاجات وغيرها
- ٥- **التوسع فى تربية الأسماك** على أسس علمية حديثة

انتاج الأسماك فى العالم

- **نصف الإنتاج** يأتى من أسماك المياه المالحة بالبحار والمحيطات
- **ثلث الإنتاج** يأتى من مزارع تربية الأسماك
- **باقي الإنتاج** يأتى من أسماك المياه العذبة مثل الأنهار والمياه العذبة

أهم الدول المنتجة

- ١- **الصين** تنتج أكثر من ثلث الإنتاج العالمى
- ٢- **إندونيسيا**
- ٣- **الولايات المتحدة الأمريكية**

بم تفسر

- ١- **الصين الأولى فى انتاج الأسماك ؟**
 - بسبب مصائدتها على المحيط الهادى
 - وجود الأنهار والبحيرات ومزارع تربية الأسماك
- ٢- **تعد إندونيسيا والولايات المتحدة الأمريكية من أوائل الدول المنتجة للأسماك فى العالم ؟**
 - بسبب طول السواحل على البحار والمحيطات
 - تقدم وسائل الصيد

أهم الدول المصدرة للأسماك فى العالم :

- ١- **الصين** ٢- **النرويج** ٣- **تايلاند**

لاحظ أن



- توجد أنواع أخرى من الأحياء البحرية مثل
- القشريات منها **الجمبرى**
- الرخويات مثل : **السبيط**
- **الحيتان**

بم تفسر يتم اصطياد الحيتان

للاستفادة من لحومها وشحومها

اختبر نفسك

اكمل

- ١- يرتبط النشاط الرعوى بمناطق فى العالم
- ٢- الرعى يمارسه سكان المناطق الصحراوية فى مساحات واسعة فى قارات العالم
- ٣- الرعى يمارس فى مناطق الحشائش القصيرة (البرارى) وفى مناطق الاستبس والسافانا
- ٤- هى المصدر الرئيسى للحوم الحمراء لغالبية سكان العالم
- ٥- أولى القارات فى تربية الأبقار تليها
- ٦- المنتج الرئيسى للحيوان هو ويدخل بنسبة% من التجارة الدولية
- ٧- المنتج الحيوانى الثانى للثروة الحيوانية
- ٨- نصف إنتاج الأسماك يأتى من أسماك المياه والثلث من
- ٩- أهم الدول المصدرة للأسماك فى العالم و..... و.....

اذكر أولى الدول فى تربية أو إنتاج

- | | |
|-------------------|---------|
| ١- الأبقار | الأنعام |
| ٢- اللحوم الحمراء | الألبان |
| ٣- الصوف | الدواجن |
| ٤- الأسماك | |

بم تفسر

- ١- قلة عدد القائمين على حرفة الرعى البدائى فى شبه الجزيرة العربية وبداية الشام
- ٢- قلة عدد القائمين على حرفة الرعى البدائى فى دول وسط آسيا ؟
- ٣- انتشار الرعى البدائى فى الصحارى الباردة ؟
- ٤- زيادة إنتاج الألبان واللحوم فى مناطق الرعى التجارى ؟
٣. أهمية الثروة الحيوانية
٤. تربط تربية الأنعام بمناطق المراعى التجارية الواسعة ؟
٥. تتركز تربية الأغنام فى الصين والهند وأستراليا ؟
٦. أستراليا هى الأولى فى إنتاج الصوف
٧. زيادة معدل الاستهلاك العالمى للحوم الحمراء
٨. إنتاج مصر لا يكفى من الألبان ؟
٩. بم تفسر : تنتشر مصايد الأسماك على سواحل القارات ؟
١٠. الصين الأولى فى إنتاج الأسماك ؟
١١. تعد إندونيسيا والولايات المتحدة الأمريكية من أوائل الدول المنتجة للأسماك فى العالم ؟
١٢. يتم اصطياد الحيتان

دل على صحة العبارة : تنتشر مصايد الأسماك على سواحل القارات ؟

قارن بين : الرعى البدائى والتجارى من حيث : الانتشار والخصائص

النشاط التعدينى فى العالم

النشاط التعدينى

هو استخراج المعادن ومصادر الطاقة من فحم وبتترول وغاز طبيعى من باطن الأرض أو بالقرب من السطح

لاحظ أن :-

- يرتبط النشاط التعدينى بوجود الخام (المعادن أو مصادر الطاقة) بكميات وفيرة قريبة من المراكز الصناعية حيث يتم نقله من المناجم إلى المصانع

دلل : هناك عمليات تسبق التعدين

- ١- عملية البحث والكشف عن الخامات
- ٢- إعداد المنجم لعملية التعدين والاستخراج مثل مد الخطوط الحديدية والطرق وإنشاء مساكن للعاملين بمناطق التعدين
- ٣- مرحلة الانتاج والنقل والتوزيع

أولاً الموارد المعدنية

- تحتوى القشرة الأرضية على العديد من المعادن تبلغ ٢٠٠٠ معدن
- عرف على المستوى التجارى والصناعى نحو ٢٠٠ معدن فقط
- بم تفسر : تستهلك الدول المتقدمة ٨٥٪ من معادن العالم رغم أن بها خمس سكان العالم
- حيث تتوافر بها الصناعات المختلفة التى تقوم على هذه المعادن

أهم المعادن

الاهمية	من أهم المعادن المستخدمة فى الصناعة
أهم الدول المنتجة	يوجد فى جميع قارات العالم ١- الصين ٢- استراليا
الانتاج العالمى	دخل ٣٠٪ من الإنتاج العالمى للحديد فى التجارة الدولية
أهم الدول النامية المصدرة لخام الحديد	موريتانيا
أهم الدول المستوردة خام الحديد	اليابان وبريطانيا

الحديد



النحاس	الاهمية	يستخدم فى الكثير من الصناعات مثل الأسلاك والأدوات الكهربائية
	الانتاج	١- شيلي (امريكا الجنوبية) ٢- الصين (اسيا) ٣- بيرو (امريكا الجنوبية)
البوكسيت (خام الالومنيوم)	الاهمية	يعد الخام الرئيسى لمعدن الألومنيوم
	أهم الدول المنتجة للبوكسيت	١- أستراليا
	أهم الدول المنتجة للالومنيوم	١- الولايات المتحدة الأمريكية ٢- كندا ٣- أستراليا ٤- اليابان

بم تفسر

ليس كل الدول المنتجة للبوكسيت منتجة للالومنيوم ؟

لانه يحتاج الى طاقة كهربائية و خبرة علمية وفنية متطورة و سوق محلية وخارجية تستوعب الإنتاج

لاحظ ان :

- توجد معادن أخرى مثل المنجنيز والفوسفات واليورانيوم والذهب

ثانياً : مصادر الطاقة فى العالم

بم تفسر : اهمية مصادر الطاقة

- هى القوى المحركة لحياة الانسان فى جميع مجالات حياته
- هى من الموارد الطبيعية الهامة التى لا غنى عنها سواء على مستوى الصناعة او على مستوى الاستخدامات البشرية المختلفة

اولا الفحم

بم تفسر : اهمية الفحم

- يستخدم كمصدر رئيسى فى الصناعة بالدول الصناعية الكبرى
- يستخدم فى توليد الكهرباء

دلل : كان للفحم اهمية كبرى

- كان الفحم عماد الثورة الصناعية فى أوروبا فى أواخر القرن الـ ١٨م
- كان الفحم المصدر الأول والرئيسى للطاقة المستخدمة فى العالم حتى أوائل القرن الـ ٢٠م



أهم القارات والدول المنتجة للفحم :

- ١- آسيا و أوروبا ينتجوا أكثر من $\frac{3}{4}$ الانتاج العالمى
- ٢- أمريكا الشمالية

الدول

- ١- الصين ٤٧٪
- ٢- الولايات ١١٪
- ٣- الهند ٨٪

ثانياً : البترول

بم تفسر : يعد البترول أهم مصادر الطاقة فى العالم ؟

- ترتبط به التنمية الاقتصادية والاجتماعية والعلاقات السياسية
- يشكل مع الغاز الطبيعى نحو ٥٥٪ من الطاقة المستخدمة فى العالم



بم تفسر اسعار البترول فى زيادة مستمرة

لزيادة الطلب عليه وتعدد استخداماته وقابليته للنفاذ

أهم الدول المنتجة للبترول :-

- ١- السعودية
- ٢- روسيا
- ٣- الولايات المتحدة الأمريكية

ثالثاً : الغاز الطبيعى

بم تفسر : أهمية الغاز الطبيعى :

- من مصادر الطاقة الاقل تلويثاً والرخيصة فى العالم
- يمثل حالياً ٢٥٪ من مصادر الوقود فى العالم

بم تفسر : توسع العالم فى استخدام الغاز الطبيعى

رخيص الثمن وسهل النقل والأقل تلويثاً للبيئة

دلل : توسع العالم فى استخدام الغاز او تعددت استخدامات الغاز الطبيعى

- يُستخدم فى الصناعة و الاستخدامات المنزلية
- فى توليد الطاقة الكهربائية و كوقود للسيارات

بم تفسر : يستخدم الغاز كوقود للسيارات بديلاً للبترول ؟ للحد من تلوث البيئة

أهم القارات المنتجة للغاز الطبيعى :-

قارة أوروبا أولى قارات العالم إنتاجاً وتُمثل (ثلث إنتاج العالم)

أهم الدول المنتجة للغاز الطبيعى :-

يُنتج بكميات ضخمة فى دول العالم خاصة الدول المنتجة للبترول
١- الولايات المتحدة الأمريكية أولى دول العالم إنتاجا

- الكهرباء الحرارية : الناجمة عن استخدام الفحم والبترول والغاز الطبيعى
- الكهرباء المائية (الكهرومائية) : الناجمة عن استخدام الشلالات والسدود والأمواج وحركة المد والجزر

رابعاً / الطاقة النووية :

- يتم إنتاج الكهرباء النووية من المحطات النووية السلمية

أهم القارات المنتجة للطاقة النووية

١- أوروبا

٢- أمريكا الشمالية

خامساً : طاقة الرياح

يتم توليد الكهرباء من الرياح فى

١- بعض الدول المتقدمة مثل :- فرنسا وبريطانيا والولايات المتحدة الأمريكية

٢- توجد خمس دول عربية تولد الطاقة الكهربائية من الرياح تتقدمها مصر تليها المغرب

سادساً : مصادر أخرى للطاقة

١- طاقة الأمواج وحركة المد والجزر : تُستخدم طاقة الأمواج وحركة المد والجزر فى

إنتاج الطاقة الكهربائية فى بعض الدول المتقدمة مثل بريطانيا وفرنسا واليابان

٢- الطاقة الشمسية : اُجهت بعض الدول منها مصر للبحث عن مصدر جديد للطاقة

النظيفة مثل الطاقة الشمسية لتوليد الكهرباء للاستخدامات المنزلية

اختبر نفسك

اكمل

- ١- تحتوى القشرة الأرضية على العديد من المعادن تبلغ معدن
- ٢- دخل الحديد بنسبة..... % من الإنتاج العالمى للحديد فى التجارة الدولية
- ٣- أهم الدول النامية المصدرة لخام الحديد
- ٤- أهم الدول المستوردة خام الحديدو.....
- ٥- أولى القارات إنتاجا للطاقة النووية تليهاز
- ٦- ثانى دول أمريكا الجنوبية إنتاجا للنحاس هى دولة
- ٧- تنتج قارتىو..... ثلاث ارباع الفحم العالمى
- ٨- أولى القارات إنتاجا للغاز الطبيعى

٩- تتقدم دولة..... خمس دول عربية تقوم بانتاج الكهرباء من الرياح تليها

بم تفسر

- ١- تستهلك الدول المتقدمة ٨٥٪ من معادن العالم رغم أن بها خمس سكان العالم
- ٢- أهمية النحاس
- ٣- ليس كل الدول المنتجة للبوكسيت منتجة للألومنيوم ؟
- ٤- يعد البترول أهم مصادر الطاقة فى العالم ؟
- ٥- : أهمية الفحم
- ٦- اسعار البترول فى زيادة مستمرة
- ٧- أهمية الغاز الطبيعى :
- ٨- توسع العالم فى استخدام الغاز الطبيعى

دل على صحة العبارات

- ١- هناك عمليات تسبق التعدين
- ٢- كان للفحم أهمية كبرى
- ٣- توسع العالم فى استخدام الغاز او تعددت استخدامات الغاز الطبيعى

ما المقصود بـ

- ١- استخراج المعادن ومصادر الطاقة من فحم وبترول وغاز طبيعى من باطن الأرض أو بالقرب من السطح
- ٢- الخام الرئيسى لمعدن الألومنيوم
- ٣- يستخدم فى الكثير من الصناعات مثل الأسلاك والأدوات الكهربائية
- ٤- عماد الثورة الصناعية فى أوروبا فى أواخر القرن الـ ١٨م
- ٥- الكهرباء الناتجة عن استخدام الفحم والبترول والغاز الطبيعى
- ٦- الكهرباء الناتجة عن استخدام الشلالات والسدود والامواج وحركة المد والجزر

اذكر اولى الدول فى انتاج

- ١- الحديد
- ٢- النحاس
- ٣- البوكسيت
- ٤- الألومنيوم
- ٥- البترول
- ٦- الفحم
- ٧- الغاز الطبيعى

قارن بين

- ١- الحديد والنحاس من حيث الأهمية والدول المنتجة
- ٢- البترول والغاز الطبيعى من حيث الأهمية والدول المنتجة

النشاط الصناعى فى العالم

الوحدة الأولى

الدرس الرابع

لاحظ أن:

- تعد الصناعة قمة الأنشطة الاقتصادية المتطورة
- تختلف الصناعة بين الدول من حيث نوعية الصناعة (خفيفة أو ثقيلة) و مدى تركزها وجودتها
- دلل : تعد الصناعة الحديثة المتطورة مقياس رئيسي على تطور الشعوب وازدهارها ؟**
- حيث أن الدول المتقدمة هى الدول التى تطورت فيها الصناعة تطوراً مذهلاً لأنها أخذت بالأساليب العلمية و طبقت الأبحاث والتجارب العلمية فى الاختراع و تطوير المنتجات الصناعية و تحديثها بشكل مستمر

مقومات الصناعة

- مقومات طبيعية :** المواد الخام (معدنية - زراعية - حيوانية) و مصادر الطاقة و الموقع المتميز
- مقومات بشرية :** الأيدى العاملة الماهرة و التطور العلمى والأسواق و رأس المال و السياسات الحكومية

الأقاليم الصناعية الرئيسية فى العالم

- تتركز الصناعة فى الدول المتقدمة والقليل من الدول النامية التى ارتفعت بمستوى معيشة شعوبها واقتربت من الدول المتقدمة كالصين وجنوب افريقيا ومصر
- تتمثل الأقاليم الصناعية الرئيسية فى العالم فى **خمس** مناطق رئيسية

١- غرب ووسط أوروبا

- **أهم المراكز الصناعية فى الإقليم :** بريطانيا وفرنسا وألماني
- تتوافر مقومات الصناعة فى دول أوروبا بشكل عام

ما نتائج : الوحدة الاقتصادية الأوروبية

التكامل فى الجوانب الاقتصادية الصناعية وحمايتها جمركياً وتدعيمها من جانب هيئة الاتحاد الأوروبى

٢- شمال شرق الولايات المتحدة

- أكبر الأقاليم الصناعية فى العالم الجديد
- يشمل شمال شرق الولايات المتحدة و منطقة البحيرات العظمى
- أهم الصناعات بالإقليم :** الصناعة الهندسية مثل الإلكترونيات والسيارات والأدوات الكهربائية و الصناعات الخفيفة والاستهلاكية مثل الصناعات الغذائية والنسيجية وغيرها

٣- إقليم روسيا واوركاليا الصناعى

- يمتد هذا الإقليم فى دولتى روسيا وأوكرانيا

- بدو فى شكل مناطق متباعدة

أهم المراكز الصناعية فى الإقليم :- إقليم موسكو وما حولها وإقليم الأورال

٤- إقليم شرق آسيا الصناعى

اهم المناطق الصناعية : دول شرق آسيا الصناعى ومنها جزيرة هونشو اليابانية و جمهورية كوريا و مناطق صناعية عديدة بالصين

مراكز صناعية حديثة اخرى قارة آسيا فى

- دول جنوب شرق آسيا مثل :- ماليزيا وسنغافوره وإندونيسيا وتايلاند

- دول الخليج العربى معظم الصناعات بها صناعات بترولية

- **أستراليا**

- **قارة أمريكا الجنوبية** فى البرازيل والأرجنتين وشيلي

- **قارة أمريكا الشمالية** فى كندا والمكسيك

- **قارة أفريقيا** فى مصر ودولة جنوب أفريقيا

الاقليم الصناعى بالعالم



اختبر نفسك

اكمل

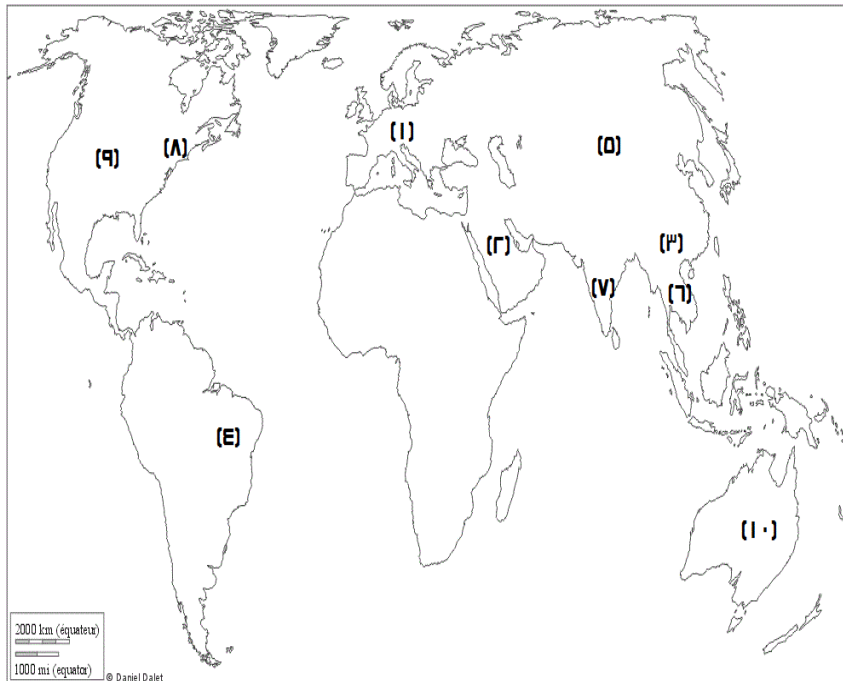
- ١- تعد قمة الأنشطة الاقتصادية المتطورة
- ٢- تتمثل الاقاليم الصناعية الرئيسية فى العالم فى مناطق رئيسية
- ٣- ينتمى موسكو واقليم الاورال لاقليم
- ٤- أهم المراكز الصناعية فى غرب ووسط أوروبا و..... و.....
- ٥- يعتبر اقليم أكبر الأقاليم الصناعية فى العالم الجديد
- ٦- يشمل اقليم شمال شرق الولايات منطقة
- ٧- يبدو اقليم فى شكل مناطق متباعدة
- ٨- تنتمى هانشو وكوريا لاقليم
- ٩- من دول جنوب شرق آسيا الصناعية و..... و.....
- ١٠- من دول أمريكا الجنوبية و..... و.....
- ١١- من دول أمريكا الشمالية و.....
- ١٢- من دول إفريقيا الصناعية و.....

بم تفسر

- ١- قيام الصناعة فى بعض الاقاليم الصناعية
- ٢- دول الخليج من المراكز الصناعية الحديثة

دل على صحة العبارات تُعد الصناعة الحديثة المتطورة مقياس على تطور الشعوب وازدهارها
ما النتائج المترتبة على : الوحدة الاقتصادية الأوروبية

امامك خريطة للعالم وضح مدول الارقام



- ١- قارة منتجة للغاز الطبيعى
- ٢- اولى الدول انتاجا للبترول
- ٣- اولى الدول انتاجا للقمح
- ٤- اولى الدول المنتجة للسكر
- ٥- قارة منتجة للقطن
- ٦- دولة منتجة للمطاط
- ٧- دولة منتجة للالبان
- ٨- اقليم صناعى
- ٩- دولة منتجة للالومنيوم
- ١٠- دولة منتجة للصوف

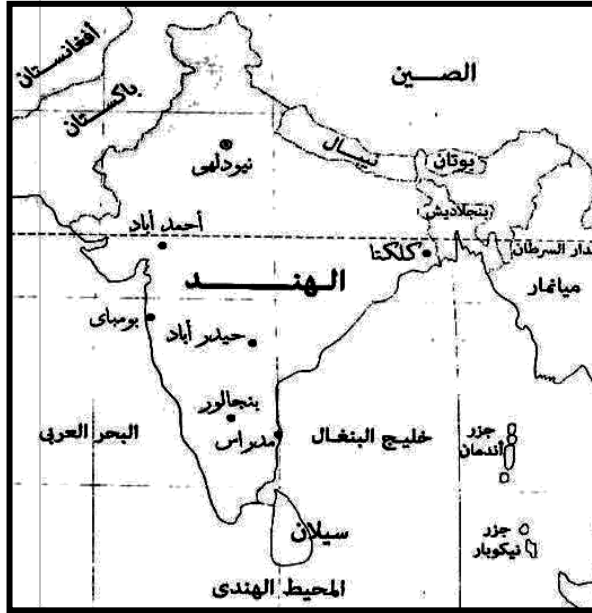


جمهورية الهند

الوحدة الثانية

الدرس الأول

أولاً: الموقع والمساحة

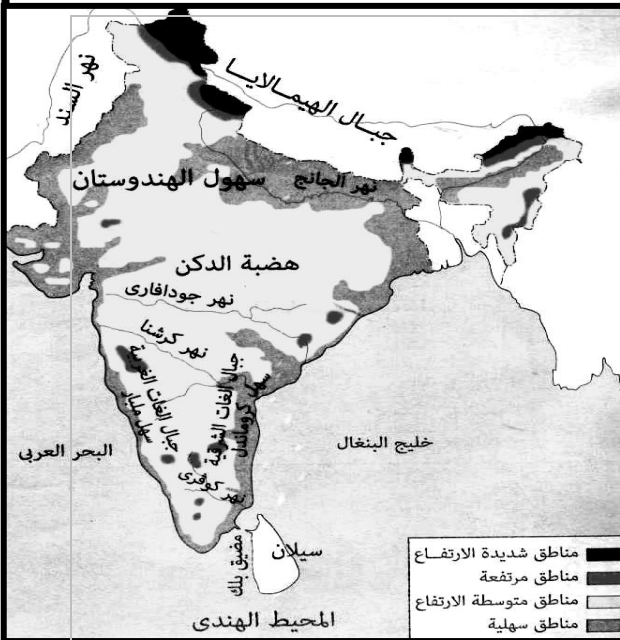


الموقع الفلكي	دائرتي عرض ٨ : ٣٥ شمالاً خطي طول ٦٨ : ٩٧ شرقاً
الموقع الجغرافي	الشمال نيبال والصين وبوتان الشمال الشرقي ميانمار الشمال الغربي باكستان الشرق والجنوب الشرقي خليج البنغال
الموقع الجغرافي	الغرب والجنوب الغربي البحر العربي
المساحة	على شكل مثلث رأسه في الجنوب ٣,٢ مليون كم ^٢

لاحظ أن :

- الهند عبارة عن شبه جزيرة تحيط بها المياه من جميع الجهات عدا **جهة الشمال**
- تقع معظم دولة **بنجلاديش** داخل حدود دولة الهند

ثانياً: التضاريس



الجبال	- جبال الهيمالايا في الشمال - جبال الغات الشرقية - جبال الغات الغربية
الهضاب	- هضبة الدكن وهي ممتدة في شكل مثلث متقطع بالأنهار
السهول	فيضية - سهول نهر الجانج في الشمال الشرقي - سهول أنهار صغيرة في الجنوب أهمها نهر كوفري
ساحلية	الشرق : سهول كروماندل والتي تمتد على خليج البنغال

الغرب : سهول ملبار والتى تمتد على
البحر العربى غربا

المناخ والنبات الطبيعي

- **درجة الحرارة:** يزيد المتوسط السنوى لدرجات الحرارة عن ٣٠ درجة مئوية ويقل كلما
اجهنا شمالا

- **الامطار :** تسقط أمطار موسمية صيفية غزيرة فى الجنوب وتقل كلما اجهنا نحو
الشمال

- **النبات الطبيعي :**

تنمو الغابات الموسمية على السواحل الغربية والشرقية
تنمو الحشائش القصيرة على هضبة الدكن

السكان

- تُعد الهند ثانى دول العالم سكانا بعد (الصين)

- يتركز السكان فى السهول الساحلية والفيضية

حيث المدن الرئيسية مثل نيودلهى وبومباى

كيف واجهت الهند المشكلة السكانية

واجهت الهند المشكلة السكانية (زيادة عدد السكان)

بسياسات تنمية مختلفة أهمها الاهتمام بالتعليم

وتطوير البحث العلمى مما أدى إلى تطوير الزراعة والصناعة

الموارد والأنشطة الاقتصادية

- تتوافر الموارد الاقتصادية بالهند سواء كانت موارد زراعية أو ثروات معدنية مما أدى إلى تنوع
الأنشطة الاقتصادية كالتالى

١- المحاصيل الزراعية

- تنتج الهند محاصيل زراعية (حبوب غذائية ومحاصيل سكرية ونسيجية وزيتية)

- زاد إنتاج الهند منها بكميات كبيرة فى السنوات الأخيرة

- مثل : القمح وقصب السكر والقطن

٢- الثروة الحيوانية والسمكية

بم تفسر : توجد بالهند ثروة حيوانية ضخمة ؟

بسبب كثرة المراعى حيث يوجد بها ٢٢٠ مليون رأس من الأبقار

بم تفسر : القيمة الاقتصادية للأبقار فى الهند محدودة ؟

بسبب حرم الديانة الهندوسية أكل لحوم الأبقار

ايضا يوجد بها
أعداد كبيرة من
الجاموس
والأغنام

بم تفسر / تعد الهند من الدول الرئيسية المنتجة للأسماء ؟

٣- الثروة المعدنية ومصادر الطاقة

- توجد بالهند ثروات معدنية ومصادر طاقة كثيرة أهمها **الفحم** (ثالث دول العالم إنتاجاً

له) توجد مناجمه في هضبة الدكن

بم تفسر: اهمية الفحم بالهند ؟ أساس قيام صناعة الحديد والصلب بالهند

بم تفسر لجأت الهند للطاقة النووية والكهربية ؟ لافتهاقها للبترول ومصادر الطاقة الأخرى

٤- الصناعة

بم تفسر: شهدت الهند قفزات سريعة في تطور الصناعة ؟

بسبب توافر مقومات الصناعة بها

أهم الصناعات :- الحديد والصلب و السيارات و الإلكترونيات و الآلات والمنسوجات و

الصناعات الغذائية و الصناعات الكيماوية

الم

[illegible]

<p>العاصمة السياسية</p> <p>تتميز بوجود الجامعات والمراكز</p> <p>الصناعية والمعالن التاريخية المهمة</p>	<p>نيودلهي</p>
<p>العاصمة التجارية</p> <p>أهم مدن الساحل الغربي فهي تُعد من</p> <p>أكبر الموانئ والمدن الصناعية بالهند</p>	<p>بومباي</p>
<p>توجد بهضبة الدكن</p> <p>من أكبر مراكز الصناعات اليدوية</p> <p>تضم العديد من المراكز الإسلامية</p>	<p>حيدرآباد</p>

العلاقات المصرية الهندية

تشهد العلاقات المصرية الهندية نمواً كبيراً على كافة الأصعدة (المستويات) السياسية والاقتصادية والثقافية والعلمية

تصدير مصر إلى الهند القطن والأسمدة الخام والمصنعة والجلود والفوسفات

تستورد مصر من الهند غزل القطن والسمسم والشاي والتوابل وقطع غيار وسائل النقل

اختیر نفسک

اکمل

١- جمهورية الهند إحدى دول قارة

٢- تمتد الهند بين دائرتي عرض و.....

- ٣- تمتد الهند بين خطى طول و.....
- ٤- يحد الهند من الشمال و..... و.....
- ٥- يحد الهند من الشمال الشرقى
- ٦- يحد الهند من الشمال الغربى
- ٧- يحد الهند من الشرق والجنوب الشرقى خليج
- ٨- يحد الهند من الغرب والجنوب الغربى البحر
- ٩- تبدو الهند على شكل رأسه فى ومساحتها مليون كم ٢
- ١٠- الهند عبارة عن شبه جزيرة تحيط بها المياه من جميع الجهات عدا جهة
- ١١- تقع معظم دولة بنجلاديش داخل حدود دولة الهند
- ١٢- تجرى سهول نهر فى الشمال الشرقى للهند
- ١٣- يزيد المتوسط السنوى لدرجات الحرارة فى الهند عن درجة مئوية ويقل كلما اتجهنا
- ١٤- تسقط بالهند أمطار موسمية غزيرة فى وتقل كلما اتجهنا نحو
- ١٥- الهند دول العالم فى إنتاج الفحم ويتركز فى

اكتب ما تشير اليه العبارات

- ١- السهول الشرقية للهند على خليج البنغال
- ٢- السهول الغربية للهند على البحر العربى
- ٣- العاصمة السياسية للهند
- ٤- أهم مدن الساحل الغربى فهى تُعد من أكبر الموانئ بالهند توجد بهضبة الدكن
- ٥- من أكبر مراكز الصناعات اليدوية وتضم العديد من المراكز الإسلامية

بم تفسر

- ١- استطاعت الهند مواجهة المشكلة السكانية
- ٢- الهند شبه جزيرة
- ٣- تنوع الأنشطة الاقتصادية بالهند
- ٤- توجد بالهند ثروة حيوانية ضخمة ؟
- ٥- القيمة الاقتصادية للأبقار فى الهند محدودة ؟
- ٦- تعد الهند من الدول الرئيسية المنتجة للأسماءك ؟
- ٧- أهمية الفحم بالهند ؟
- ٨- لجأت الهند للطاقة النووية والكهرية ؟
- ٩- شهدت الهند قفزات سريعة فى تطور الصناعة ؟
- ١٠- شهرة مدينة نيودلهى
- ١١- شهرة مدينة حيدرآباد

دل : شهدت العلاقات المصرية الهندية نموا كبيرا :

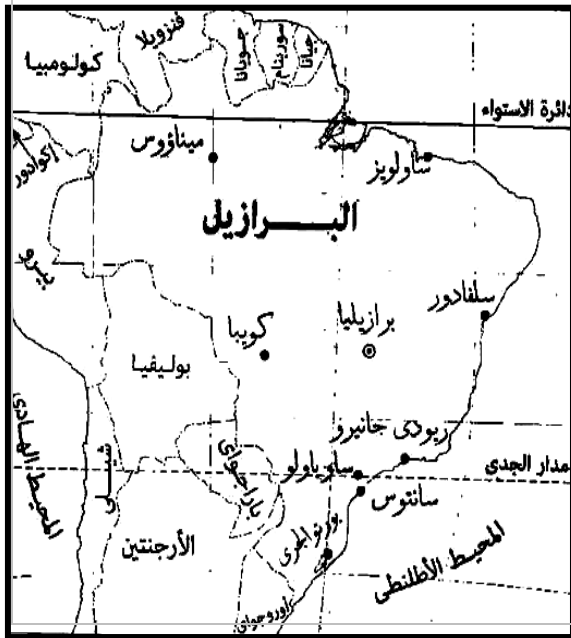


جمهورية البرازيل

الوحدة الثانية

الدرس الثاني

أولاً: الموقع والمساحة

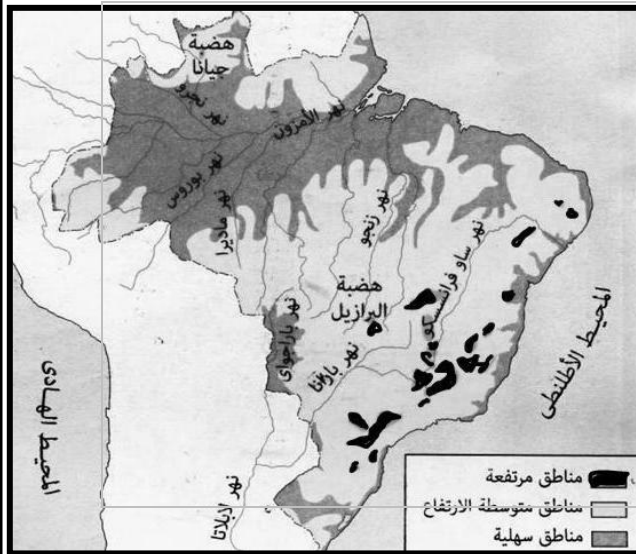


الموقع الفلكي	دائرتي عرض ٥ شمالاً و ٣٣ جنوباً خطي طول ٣٥ غرباً و ٧٤ غرباً
الموقع الجغرافي	ويحدها عدد كبير من الدول هي : (جيانا - سورينام - جويانا - - فنزويلا - كولومبيا - بيرو - بوليفيا - باراجواي - الأرجنتين - أورجواي)
المساحة	الشرق والشمال الشرقي المحيط الأطلسي ٨,٥ مليون كم ٢

لاحظ ان

- البرازيل هي اكبر دول امريكا الجنوبية مساحة
- تحتل نصف مساحة القارة وهي الاكثر سكانا بالقارة

ثانياً: التضاريس



الهضاب	دتل : يسود المظهر الهضبي البرازيل حيث توجد هضبة البرازيل في الوسط والجنوب وبعض الهضاب في الشمال
السهول	سهول فيضية : مثل سهول نهر الأمازون ، وسهول ساحلية ضيقة: تطل على المحيط الأطلسي

ثالثاً: المناخ والنبات الطبيعي

أ- المناخ

ما نتائج الموقع الفلكي للبرازيل (بالنسبة للمناخ)

يقع معظمها في المناطق الاستوائية والمدارية ، وترتب على ذلك :

١- يسود المناخ الإستوائي (شديد الحرارة والمطر طول العام) في حوض الأمازون والسهل الساحلي الشمالي

٢- يسود المناخ المداري الحار في السهول الشرقية وهضبة البرازيل

٣- يسود المناخ المعتدل الرطب في أقصى جنوب شرق البرازيل

٢-النبات الطبيعي:

- تسود الغابات الاستوائية في حوض الأمازون وهي أكبر غابة استوائية في العالم

- تنمو حشائش السافانا فوق هضبة البرازيل

- تنمو الحشائش المعتدلة في أطراف البرازيل الجنوبية

رابعاً : السكان :

دليل يعد سكان البرازيل خليطاً من معظم الأجناس ،

فهناك السكان الأصليون للبلاد (الهنود الحمر) ، وكذلك العناصر السوداء ذات الأصول الإفريقية والأوروبيون

- بلغ عدد سكان البرازيل ٢٠٣ مليون نسمة عام ٢٠١٤ م ،

- يمثلون نصف عدد سكان قارة أمريكا الجنوبية ، وبذلك تعد البرازيل أكبر دول القارة سكاناً

بم تفسر تعاني البرازيل من قلة عدد السكان

بسبب مساحتها الواسعة ووجود مناطق تكاد تكون شبه خالية مثل سهول الأمازون

اماكن تركيز السكان

يتركز السكان في الساحل الجنوبي الشرقي حيث المدن الرئيسية مثل ريو دي جانيرو ومدينة ساو باولو

بم تفسر : أنشئت عدة مدن جديدة بالبرازيل برازيليا (العاصمة) ، ومدينة

مينائوس على نهر الأمازون

لتعمير هضبة البرازيل وإعادة توزيع السكان نحو الداخل أهمها مدينة

خامساً : النشاط الاقتصادي :

يتنوع النشاط الاقتصادي في البرازيل ويتمثل في :

١) الزراعة وقطع الأشجار:

- يعمل بالزراعة أكثر من ربع (٢٥ ٪) القوى العاملة في البرازيل

- الأراضي الزراعية تشغل حوالى ٢٠ ٪ من مساحة البرازيل ، ويوجد معظمها في الجنوب

- تشتهر البرازيل بإنتاج محاصيل زراعية عديدة وتعد أولى دول العالم إنتاجاً لكل من (البن - قصب

السكر)

- يتم قطع الغابات الاستوائية والمدارية لتصنيع أخشابها

٢)الرعي وصيد الأسماك :

بم تفسر يمثل الرعي حرفة هامة في الاقتصاد البرازيلي ،

لوجود المراعي الدائمة في شمال هضبة البرازيل

بم تفسر : البرازيل من الدول الرئيسية المنتجة والمصدرة للحوم

حيث توجد بها ثروة حيوانية كبيرة ومتنوعة نظراً لوجود المراعي الغنية

بم تفسر : تعد البرازيل من الدول المنتجة للأسماك

نظراً لامتلاكها سواحل طويلة علي المحيط الأطلسي والبحر الكاريبي ، ولوجود نهر الأمازون

(٣) الثروة المعدنية :

توجد بالبرازيل ثروة معدنية كبيرة يقوم عليها نشاط التعدين .

ومن أهم المعادن : (الحديد - البوكسيت - المنجنيز)

(٤) الصناعة :

- كانت تقتصر في الماضي على الصناعات الغذائية والمنسوجات والصناعات الكيماوية .

- أما الآن فقد تطورت و ظهرت بها الصناعات الثقيلة كصناعة الحديد والصلب والسيارات

والطائرات والآلات الكهربائية والأسمنت

- تتركز الصناعة في الجنوب الشرقي للبرازيل قرب مدينتي ساو باولو وريودي جانيرو

أهم المدن :



برازيليا	العاصمة الجديدة
ريودي جانيرو	<ul style="list-style-type: none"> العاصمة القديمة للبرازيل . واحدة من أجمل مدن العالم
ساو باولو	<ul style="list-style-type: none"> أهم الموانئ بالبرازيل تقع على المحيط الاطلنطي تشتهر بمبانيها الضخمة وشواطئها الرملية الواسعة

العلاقات المصرية البرازيلية :

ترتبط مصر بالبرازيل بعلاقات قديمة تمتد إلى القرن التاسع عشر . منها العلاقات الاقتصادية .

وهناك إهتمام بتوسيع نطاق التبادل التجارى بين البلدين

تصدر مصر إلى البرازيل (الأقطان - المواد الغذائية - الأثاث - المنسوجات - الأسمدة

تستورد مصر من البرازيل (الحبوب الغذائية خاصة الزيتية - السكر - المعادن خاصة الحديد - اللحوم - البن)

اختبر نفسك

اكمل

١- جمهورية البرازيل إحدى دول قارة

٢- تمتد البرازيل بين دائرتي عرض و.....

- ٣- تمتد البرازيل بين خطى طولو.....
- ٤- يحد البرازيل من الشمالو.....و.....
- ٥- يحد البرازيل من الشرق المحيط
- ٦- يقع معظم البرازيل فى المناطقو..... للبرازيل
- ٧- يسود المناخ فى حوض الأمازون والسهول الساحلى الشمالى
- ٨- يسود المناخ المعتدل الرطب فى أقصى البرازيل
- ٩- تسود الغابات فى حوض الأمازون وهى أكبر فى العالم
- ١٠- تنمو حشائش فوق هضبة البرازيل
- ١١- تنمو الحشائش فى أطراف البرازيل الجنوبية
- ١٢- يعمل بالزراعة فى البرازيل أكثر من% القوى العاملة فى البرازيل
- ١٣- معظم الأراضي الزراعية بالبرازيل توجد فى
- ١٤- تعود العلاقات المصرية البرازيلية للقرن
- ١٥- تصدر مصر للبرازيلو.....

اكتب ما تشير اليه العبارات

- ١- اكبر دول امريكا الجنوبية مساحة وتحتل نصف مساحة القارة وهى الاكثر سكانا بالقارة
- ٢- العاصمة الجديدة للبرازيل
- ٣- العاصمة القديمة للبرازيل ، واحدة من أجمل مدن العالم
- ٤- أهم الموانئ بالبرازيل تقع على المحيط الاطلنطى

دل على صحة العبارات

- ١- يسود المظهر الهضبي البرازيل
- ٢- تتنوع السهول فى البرازيل
- ٣- يتنوع المناخ فى البرازيل
- ٤- يتنوع النبات الطبيعى فى البرازيل
- ٥- يعد سكان البرازيل خليطاً من معظم الأجناس ،
- ٦- ترتبط مصر مع البرازيل بعلاقات قديمة تمتد إلى القرن التاسع عشر

بم تفسر

- ١- تعاني البرازيل من قلة عدد السكان
- ٢- أنشئت عدة مدن جديدة بالبرازيل برازيليا (العاصمة) ، ومدينة ميناؤوس على نهر الأمازون
- ٣- يمثل الرعي حرفة هامة فى الاقتصاد البرازيلي ،
- ٤- البرازيل من الدول الرئيسية المنتجة والمصدرة للحوم
- ٥- تعد البرازيل من الدول المنتجة للأسماء



جمهورية نيجريا

الوحدة الثانية

الدرس الثالث

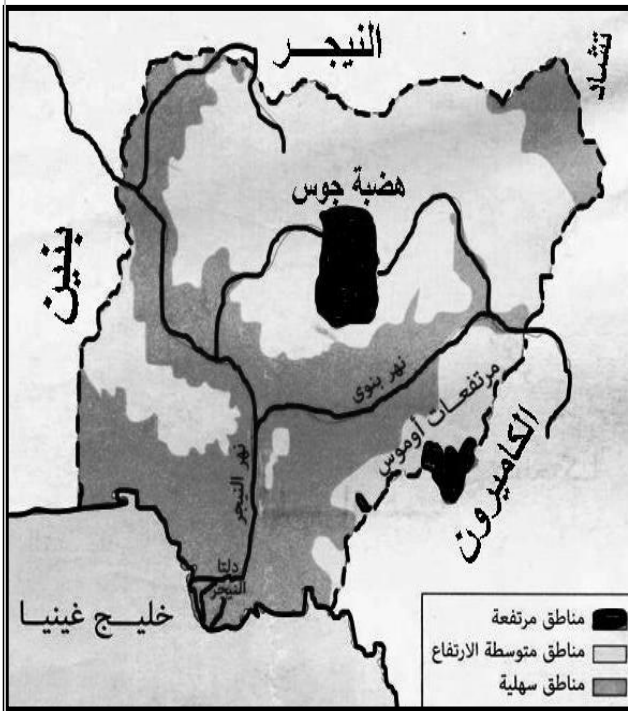
. هي إحدى دول غرب أفريقيا . استقلت عن بريطانيا وأصبحت دولة اتحادية تضم ١٢ ولاية تبعاً للقبائل التي تعيش فيها والتي بدأت تتداخل مع بعضها البعض

أولاً : الموقع والمساحة



الموقع الفلكي	دائرتي عرض ٤ - ١٤ شمالاً خطي طول ٢٣٠° - ١٤° شرقاً
الموقع الجغرافي	الشمال : النيجر الجنوب : المحيط الأطلنطي (خليج غينيا)
تقع غرب افريقيا	الشرق : الكامرون وتشاد الغرب : بنين
المساحة	٩٢٤ ألف كم ^٢

ثانياً : التضاريس



الهضاب	تتمثل في هضبة جوس والتي ترتفع ١٧٨٠ متر وتقع وسط السهول الشمالية
السهول	- سهول ساحلية منخفضة على خليج غينيا جنوباً حيث ينتهي نهر النيجر في دلتا واسعة - سهول فيضية كونتها الأنهار (السهول الشمالية) يجري بها نهر النيجر الذي تعتمد نيجيريا عليه في الري والزراعة
التلال	- عبارة عن أراضي مرتفعة تلي السهول الساحلية وتزداد ارتفاعاً في الشمال الغربي

ثالثاً : المناخ والنبات الطبيعي

(١) المناخ:

- تقع معظم نيجيريا ضمن نطاق المناخ المداري حيث الحرارة المرتفعة والمطر الصيفي
- الأطراف الجنوبية تقع ضمن المناخ الإستوائي حيث الحرارة المرتفعة والمطر طوال العام

(٢) النبات الطبيعي :

- تغطي الغابات الاستوائية والمدارية الجزء الجنوبي من نيجيريا
- تنمو حشائش السافانا شمال الغابات المدارية

رابعاً : السكان :

- يبلغ عدد سكان نيجيريا نحو ١٧٨ مليون نسمة عام ٢٠١٤ م
- تعد أكبر دوله في أفريقيا من حيث عدد السكان
- بم تفسر يتركز السكان في الغرب ، وفي السهول الشمالية ، وفي هضبة جوس
- حيث الأراضي الزراعية والمراعي ومناطق التعدين
- بم تفسر : يقل السكان في دلتا النيجر
- بسبب كثافة الغابات والظروف المناخية القاسية

خامساً : الموارد والأنشطة الاقتصادية :

- تتنوع الموارد الاقتصادية خاصة الموارد الزراعية والموارد الغابية والثروات المعدنية والبتترول ،
- بم تفسر يعد اقتصاد نيجيريا اقتصاداً نامياً ؟
- لانه يعتمد على الزراعة في المقام الأول

(١) الموارد الزراعية :

دلل : تمتلك نيجيريا أراضي زراعية كبيرة ،

- أكثر من نصف أراضي نيجيريا صالح للزراعة والرعي ،
- ولكن المساحة المستغلة بالفعل في الزراعة لا تتجاوز ١٥ ٪ من المساحة الكلية ،
- ويعد الإقليم الغربي أهم مناطق نيجيريا في الإنتاج الزراعي
- تغطي الغابات ثلث مساحة نيجيريا وتعد مصدراً للأخشاب

أهم المحاصيل الزراعية :

يزرع في الجنوب

- المطاط أولى دول افريقيا انتاجا له

- الأرز ثاني دول افريقيا انتاجا له بعد مصر ويزرع في دلتا نهر النيجر

يزرع في الوسط والشمال (الذرة الشامية ، الذرة الرفيعة ، الكاكاو ، نخيل الزيت ، الفول السوداني)

(٢) الرعي وصيد الأسماك :

- بم تفسر توجد في نيجيريا أعداد كبيرة من الأبقار والأغنام والماعز ؟
- لوجود مراعي حشائش السافانا

بم تفسر تنتج نيجيريا كميات كبيرة من الأسماك
لأنها تتمتع بساحل طويل على خليج غينيا وبها أنهار وخيرات بالداخل

(٣) الثروة المعدنية والطاقة :

توجد ثروات معدنية ومصادر طاقة أهمها ما يلي :

- القصدير: يستخرج من هضبة جوس
- الفحم : يستخرج من المنطقة الشرقية
- البترول : تنتج كميات كبيرة منه (٣٪ من الإنتاج العالى) ويستخرج من المنطقة القريبة من الساحل في الجنوب الشرقي

(٤) الصناعة :

- الصناعة في نيجيريا ليست متطورة أو متنوعة رغم امتلاكها لثروات زراعية وموارد معدنية وبترول
- من الصناعات الموجودة : الغزل والنسيج وتكرير البترول والصناعات الكيماوية وبعض الصناعات الغذائية

أهم المدن :



ابوجا	العاصمة السياسية مدينة داخلية حديثة
لاجوس	- العاصمة القديمة وأكبر المدن النيجيرية وأكثرها شهرة - أكثرها تكديسا بالسكان - وتعتبر العاصمة الاقتصادية
إيبادان	- تأتي في المركز الثاني في الأهمية بعد لاجوس - هي مركز للتجارة والتعليم والمواصلات

العلاقات المصرية النيجيرية :

توجد علاقات قوية بين البلدين

- تصدر مصر لنيجيريا (الأسمدة - المعدات الثقيلة - الاسلاك النحاسية - الاطارات - المحولات الكهربائية - مواسير الألومنيوم)
 - تستورد مصر من نيجيريا سلع زراعية وأهمها الحبوب الزيتية
- اختبر نفسك

اكمل

- ١- نيجيريا هي إحدى دول أفريقيا .
- ٢- استقلت نيجيريا عن

- ٣- تضم نيجريا ولاية تبعاً للقبائل
- ٤- تمتد نيجريا بين دائرتى عرض و.....
- ٥- تمتد نيجريا بين خطى طول و.....
- ٦- يحد نيجريا من الشمال دولة
- ٧- يحد نيجريا من الجنوب خليج
- ٨- يحد نيجريا من الغرب
- ٩- يحد نيجريا من الشرق
- ١٠- مساحة نيجريا الف كم ٢
- ١١- من هضاب نيجريا هضبة
- ١٢- تعتمد نيجريا على نهر فى الرى و الزراعة
- ١٣- تقع معظم نيجريا ضمن نطاق المناخ
- ١٤- الأطراف الجنوبية تقع ضمن المناخ
- ١٥- تعد أكبر دوله فى أفريقيا من حيث عدد السكان
- ١٦- ويعد الإقليم الغربى أهم مناطق نيجريا فى الإنتاج الزراعى
- ١٧- تغطى الغابات ثلث مساحة نيجريا وتعد مصدرا للأخشاب
- ١٨- تعد نيجريا اولى دول افريقيا انتاجا ل..... والثانية فى
- ١٩- ويستخرج البترول من نيجريا من المنطقة القريبة من
- ٢٠- يستخرج القصدير من هضبة بنيجريا

دل على صحة العبارات الآتية

- ١- يتنوع المناخ فى نيجريا
- ٢- يتنوع النبات الطبيعى فى نيجريا
- ٣- دلل : تمتلك نيجريا أراضى زراعية كبيرة .
- ٤- تنوع الثروة المعدنية فى نيجريا
- ٥- توجد علاقات قوية بين مصرونيجريا

بم تفسر

- ١- يتركز السكان فى الغرب ، وفى السهول الشمالية ، وفى هضبة جوس
- ٢- يقل السكان فى دلتا النيجر
- ٣- يعد اقتصاد نيجريا اقتصاداً نامياً ؟
- ٤- توجد فى نيجريا أعداد كبيرة من الأبقار والأغنام والماعز ؟
- ٥- تنتج نيجريا كميات كبيرة من الأسماك
- ٦- شهرة مدينة ابوجا
- ٧- شهرة مدينة ايبادان



المانيا الاتحادية

الوحدة الثانية

الدرس الرابع

تعد المانيا من اكثر دول العالم تقدما حيث تعد من الدول الاقتصادية الاولى في العالم

اولا : الموقع والمساحة

	الموقع الفلكى دائرتى عرض ٣٠° ٤٧° شمالا و ٥٥° شمالا خطى طول ٦° شرقا و ١٤° ٣٠° شرقا	
	الموقع الجغرافى تقع غرب اوروبا الشمال : البحر البلطى و الدنمارك و بحر الشمال الجنوب : النمسا و سويسرا الشرق : بولندا والتشيك الغرب : هولندا و بلجيكا و لوكسمبورج و فرنسا	
	المساحة ٣٥٧ ألف كم ^٢	

ثانيا : التضاريس

تنوع تضاريس ألمانيا وتتكون من الشمال إلى الجنوب من الأقاليم (الأقسام) الآتية :

(١) السهل الألماني الشمالى

- من أكبر الأقاليم في ألمانيا .
- وهو جزء من **السهل الأوروبى العظيم** الخصب .
- يبدأ في الشمال بالسهول الساحلية
- تجرى خلاله عدة أنهار تصب في بحر الشمال وأهمها
- الالب والراين**

تنتشر المستنقعات في الشمال قرب الساحل

(٢) المرتفعات الوسطى

- عبارة عن هضاب متقطعة تفصل بينها
- سهول خصبة تجرى فيها أنهار تتجه نحو
- الشمال تغطى هذه الهضاب بالغابات
- الصنوبرية (المخروطية)

(٣) جبال الالب



- توجد في الجنوب وهي جزء من جبال الألب الأوروبية ،
- تقطعها الأنهار

- توجد بها أعلى القمم الجبلية بألمانيا ويكسوها الجليد توجد على منحدراتها الغابات الصنوبرية (المخروطية) والنفضية

بم تفسر : تعد السهول الوسطى مناطق جذب للسباح

تكثر بها التلال والينابيع المائية

ثالثاً: المناخ والنبات الطبيعي

(١) المناخ:

- يسود ألمانيا مناخ **غرب أوروبا** الممطر طول العام خاصة في الشمال متأثراً بالمحيط الأطلنطي وجر الشمال حيث :

- **فصل الصيف** يكون معتدلاً مع إرتفاع درجة الحرارة بالاجتاه نحو الشرق

- **فصل الشتاء** تنخفض فيه درجة الحرارة إلى ما دون الصفر المئوي خاصة في الداخل

(٢) النبات الطبيعي:

- تغطي **الغابات** نحو ثلث مساحة ألمانيا وأهمها الغابات **النفضية** ، والغابات **الصنوبرية** ، وتسود في مناطق الجبال والهضاب وتعد مصدراً للأخشاب

- تنتشر **الحشائش** في السهل الساحلي

بم تفسر : انكشيت مساحة الحشائش في ألمانيا

بسبب إحلال الزراعة محلها والتوسع العمراني

رابعاً: السكان:

يبلغ **عدد سكان ألمانيا** نحو ٨١ مليون نسمة عام ٢٠١٤م

تعد ألمانيا من أكبر الدول الأوروبية سكاناً

بم تفسر : يتركز السكان في المناطق الصناعية وفي المدن الكبرى

حيث تتوافر فرص العمل في الشركات والمصانع الألمانية

بم تفسر : يتركز السكان في المناطق الصناعية وفي المدن الكبرى

، ويتركزون كذلك بالأودية على جوانب الأنهار حيث تقوم الزراعة بالأراضي الزراعية الخصبة

خامساً: الموارد والأنشطة الاقتصادية

تعد ألمانيا من أكثر دول العالم تقدماً حيث تعد من الدول الاقتصادية **الأولى** في العالم

تتعدد الأنشطة الاقتصادية في ألمانيا وتتمثل في :

(١) الموارد الزراعية:

- تنتشر الزراعة في السهل **الشمالي** وفي **الأودية النهرية**

- تعتمد الزراعة على التكنولوجيا الحديثة و يعمل بها نحو ٣٪ من القوى العاملة

- أهم المحاصيل الزراعية : القمح والشعير وبنجر السكر

٢) الثروة الحيوانية :

- تربية الماشية والخنزير والأغنام لإنتاج اللحوم والألبان
- وتربية فى مناطق الحشائش وفى الحظائر بأساليب علمية

٣) الصناعة :

بم تفسر : الصناعة هي العمود الفقري للاقتصاد الألماني

حيث يعمل بها نحو ثلث القوى العاملة

بم تفسر : توسعت الصناعة الألمانية توسعاً كبيراً بعد الحرب العالمية الثانية

بسبب : ١- توافر مقومات الصناعة

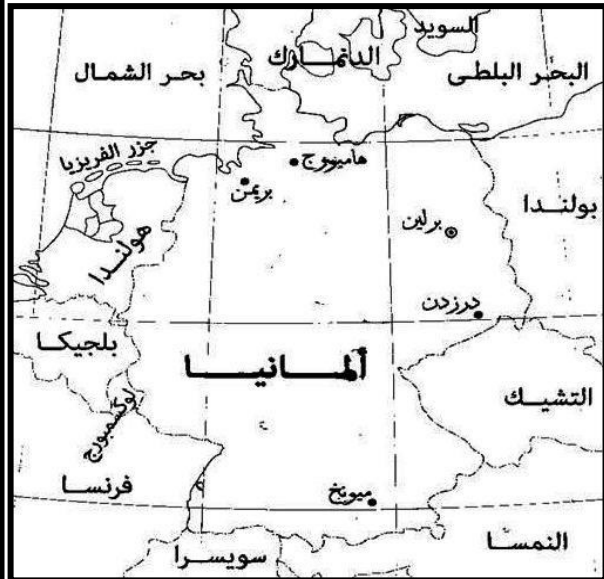
٢- تدفق الاستثمارات

٣- توافر المراكز العلمية المتقدمة

تتميز الصناعة الألمانية بالجودة والتنوع وأهم هذه الصناعات :

(الحديد والصلب - السيارات - المنسوجات - السفن - الصناعات الإلكترونية والكهربائية)

أهم المدن :



برلين	العاصمة السياسية يبلغ عدد سكانها ٣,٤ مليون نسمة
ميونخ	- عاصمة إقليم بافاريا جنوب ألمانيا - يوجد بها مقر عدد من الشركات والمصانع الألمانية العالمية
هامبورج	- أهم موانئ ألمانيا ، وهى قريبة من بحر الشمال

العلاقات المصرية الألمانية

علاقات ثقافية وعلمية بين البلدين تتمثل فى :

(هيئة التبادل العلمى الألمانية - المركز الثقافى الألمانى - الجامعة الألمانية بالقاهرة - معهد الآثار الألمانى)

علاقات اقتصادية تتمثل فى :

تمويل ألمانيا لمحطات توليد الكهرباء من الرياح فى مصر

- تصدر مصر إلى ألمانيا البترول والغاز الطبيعى والملابس

- تستورد مصر من ألمانيا الصناعات الكيماوية والآلات والسيارات

اختبر نفسك

اكمل

- ١- ألمانيا هي إحدى دول أوروبا .
- ٢- تمتد ألمانيا بين دائرتى عرض و.....
- ٣- تمتد ألمانيا بين خطى طول و.....
- ٤- يحدها ألمانيا من الشمال البحر وبحر و دولة
- ٥- يحدها ألمانيا من الجنوب دولتى و.....
- ٦- يحدها ألمانيا من الغرب دول و..... و..... و.....
- ٧- يحدها ألمانيا من الشرق دولتى و.....
- ٨- مساحة ألمانيا ألف كم ٢
- ٩- المرتفعات بألمانيا عبارة عن هضاب متقطعة تفصل بينها سهول خصبة
- ١٠- توجد جبال جنوب ألمانيا
- ١١- يسود ألمانيا مناخالمطر
- ١٢- تغطى الغابات نحو مساحة ألمانيا وأهمها الغابات و.....
- ١٣- تنتشر الحشائش فى السهل لألمانيا
- ١٤- يعمل بالصناعة فى ألمانيا حوالى السكان

اكتب ما تشير اليه العبارات

- ١- من أكبر الأقاليم التضاريسية فى ألمانيا .
- ٢- أكبر الدول الأوروبية سكاناً
- ٣- عاصمة إقليم بافاريا
- ٤- العاصمة السياسية لألمانيا
- ٥- أهم موانئ ألمانيا ، وهى قريبة من بحر الشمال

بم تفسر :

- ١- تعد السهول الوسطى مناطق جذب للسياح
- ٢- يتركز السكان فى المناطق الصناعية وفى المدن الكبرى
- ٣- يتركز السكان فى المناطق الصناعية وفى المدن الكبرى
- ٤- الصناعة هي العمود الفقري للاقتصاد الألماني
- ٥- توسعت الصناعة الألمانية توسعاً كبيراً بعد الحرب العالمية الثانية

دل على صحة العبارات الآتية

- ١- تتنوع التضاريس فى ألمانيا
- ٢- ترتبط مصر وألمانيا بعلاقات ثقافية
- ٣- ترتبط مصر وألمانيا بعلاقات اقتصادية



الولايات المتحدة الأمريكية

الوحدة الثانية

الدرس الخامس

تقع في قارة أمريكا الشمالية وتتكون من ٥٠ ولاية منها ولايتان تقعان خارج الموقع الفلكي والجغرافي هما ولاية هاواي وهي مجموعة من الجزر تقع في وسط المحيط الهادي ، وولاية ألاسكا في أقصى الشمال الغربي لأمريكا الشمالية

أولاً : الموقع والمساحة

	الموقع الفلكي دائرتي عرض ٢٥ و ٤٩ شمالاً خطي طول ٦٧ و ١٢٥ غرباً	الموقع الجغرافي
	الشمال : كندا الجنوب : خليج المكسيك ودولة المكسيك	الموقع الجغرافي
	الشرق : المحيط الأطلنطي	الموقع الجغرافي
	الغرب : المحيط الهادي	الموقع الجغرافي
	المساحة ٩٠٤ مليون كم ^٢ تعد الولايات المتحدة الدولة الرابعة في العالم من حيث المساحة بعد روسيا وكندا والصين	المساحة

ثانياً : التضاريس

تنوع التضاريس من الشرق إلى الغرب كالآتي :

١) السهل الساحلي الشرقي وساحل خليج المكسيك :

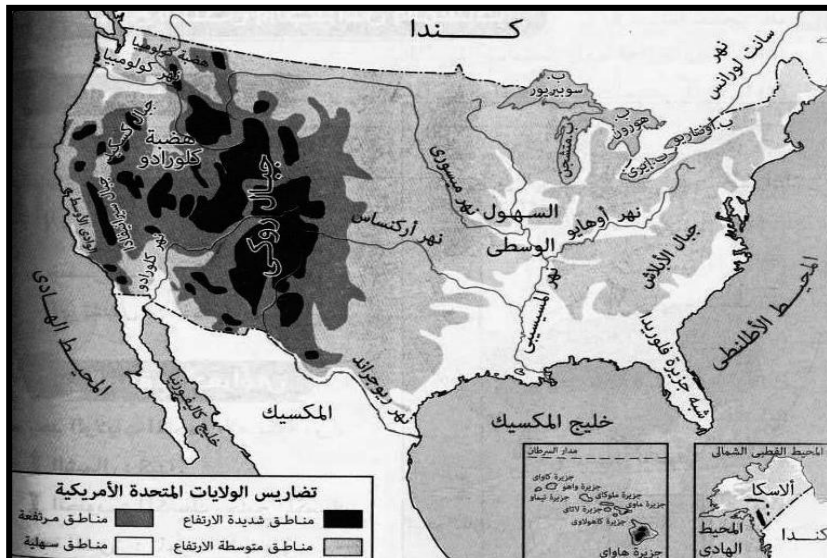
يتميز بإستواء السطح والتعرج وظهور الخلجان ويتسع بالإتجاه جنوباً

٢) المرتفعات الشرقية :

يطلق عليها جبال الأبلاش

٣) السهول الوسطى :

تمتد من إقليم البحيرات العظمى شمالاً حتى ساحل خليج المكسيك جنوباً ويجري فيها نهر المسيسيبي



٤) نطاق المرتفعات والأحواض الجبلية الغربية :

تتكون من سلاسل جبلية أعلاها (جبال روكي) ، وهضاب مرتفعة أهمها (هضبة كلورادو)
٥) السلاسل الجبلية الغربية الساحلية : تمتد من الشمال إلى الجنوب ومنها جبال كسكيد

ثالثاً: المناخ والنبات الطبيعي

ما نتائج : اتساع مساحة الولايات المتحدة

وتنوع تضاريسها و تنوع المناخ والنبات الطبيعي واختلافه من منطقة إلى أخرى

١) المناخ شبه المداري الحار مع سقوط أمطار غزيرة طوال العام

- يشمل الساحل الجنوبي الشرقي ودلتا نهر المسيسيبي :
- يتأثر هذا الإقليم بالأعاصير المدارية المدمرة
- توجد به غابات الإقليم الصينى

٢) مناخ السهول الوسطي :

بم تفسر تختلف خصائصها المناخية من منطقة إلى أخرى

نظراً لاتساعها وامتدادها من الشمال إلى الجنوب

- تختلف أنواع النباتات من حشائش في الوسط وغابات في أقصى الجنوب

٣) مناخ الإقليم الجبلي والهضبي في الغرب :

- تقل الأمطار على الأحواض الجنوبية حيث صحراء أريزونا الحارة الجافة وتنتشر بها الاعشاب الصحراوية
- تتسم المرتفعات الشمالية الغربية بالأمطار الغزيرة والحرارة المنخفضة وتنتشر بها الحشائش والنباتات الجبلية

رابعاً: السكان :

- يبلغ عدد سكان الولايات المتحدة حوالى ٣١٨ مليون نسمة عام ٢٠١٤م
- يعيش ثلثى السكان في المدن والثلث في الريف

مناطق التركيز السكاني :

١. إقليم نيو إنجلند بالمنطقة الشمالية الشرقية :

يتركز فيه ٥٠% من السكان بالرغم من انه يمثل نحو ١٢% فقط من المساحة الكلية للدولة بم تفسر

بسبب (وجود المدن الكبرى مثل نيويورك ووجود المناطق الصناعية والتجارية الكبرى)

٢. السهول الوسطى : يتركز السكان حول البحيرات العظمى وفي السهول الفيضية

لنهر المسيسيبي ودلتاه

٣. السواحل الغربية : حيث المناطق الصناعية والمدن الكبرى مثل سان فرانسيسكو ولوس أنجلوس وكذلك في المناطق الزراعية الخصبة

المناطق قليلة السكان :

- نطاق المرتفعات والأحواض الغربية : بسبب الظروف الطبيعية الصعبة
- ولاية آلاسكا : بسبب برودة الجو

خامسا : الموارد والأنشطة الاقتصادية

بم تفسر : تعد الولايات المتحدة القوة الاقتصادية الأولى في العالم

، لأنها تتمتع بموارد طبيعية وفيرة ومتنوعة و تعدد الأنشطة الاقتصادية وضخامة الإنتاج الاقتصادي

(١) النشاط الزراعي :

بم تفسر : يتميز الانتاج الزراعي بالتنوع والضخامة بالولايات المتحدة

١. بسبب وجود أراضي زراعية خصبة وواسعة : حيث سهول المسيسيبي في الوسط والمناطق الزراعية في الجنوب الشرقي وفي الوادي الأوسط بكاليفورنيا وعلى جوانب المرتفعات
 ٢. الإعتماد على التكنولوجيا الحديثة في الزراعة
- تعد الولايات المتحدة من أكبر دول العالم انتاجا لمحاصيل (القمح - بنجر السكر - القطن)

(٢) الإنتاج الحيواني والسمكي :

- تربي الولايات المتحدة أعداد كبيرة من الأبقار ، والأغنام والخنازير لإنتاج اللحوم ويصدر جزء منها للخارج بالإضافة إلى إنتاج الألبان والجلود
- بم تفسر : توجد ثروة سمكية كبيرة بالولايات المتحدة
- بسبب وقوعها على محيطين كبيرين (الأطلنطي - الهادي) ،
- وجود الأنهار والبحيرات

(٣) الثروة المعدنية ومصادر الطاقة :

تنتج الولايات المتحدة كميات كبيرة من المعادن و مصادر الطاقة ، فهي من أكبر دول العالم في إنتاج (النحاس - البترول)

(٤) النشاط الصناعي :

بم تفسر تعد الولايات المتحدة القوة الصناعية الأولى في العالم

حيث تتوافر بها كل مقومات الصناعة

- تسهم الولايات المتحدة بحصص مرتفعة من الإنتاج العالمي في عدد من الصناعات منها :
- صناعة السيارات - صناعة الصلب - صناعة الألومنيوم
- تنتج ثلث الإنتاج العالمي من الصناعات الكهربائية والإلكترونية
- تحتل المراتب الأولى عالمياً في صناعة الطائرات وسفن الفضاء والأقمار الصناعية

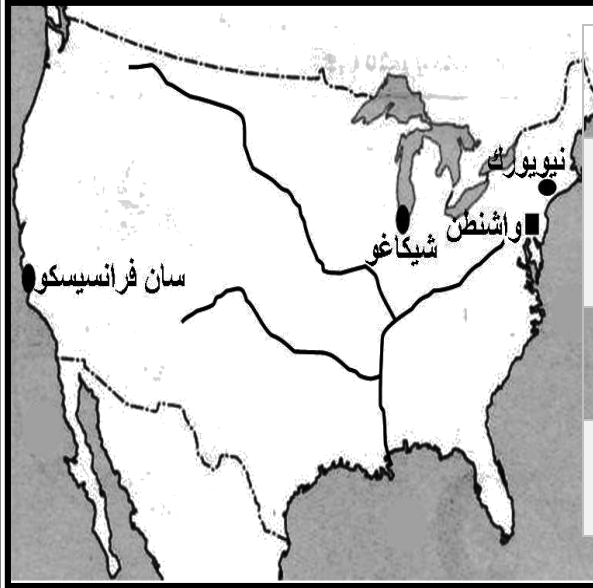
المناطق الصناعية الرئيسية بالولايات المتحدة :

- **منطقة الشمال الشرقى :** وتضم نطاق المدن الصناعية الكبرى مثل منطقة البحيرات العظمى

- **منطقة الجنوب :** تضم مدن صناعية أهمها برمنجهام

- **منطقة الغرب الساحلى :** تضم مدن صناعية أهمها سان فرانسيسكو

أهم المدن :



واشنطن	العاصمة السياسية تطل على المحيط الأطلسي
نيويورك	ميناء هام تطل على المحيط الأطلسي ويوجد بها مقر الأمم المتحدة
شيكاغو	أكبر مدن السهول الوسطى تقع على بحيرة متشجن
سان فرانسيسكو	أكبر الموانئ الأمريكية على ساحل المحيط الهادي

العلاقات المصرية الأمريكية :

- تعد العلاقات المصرية الأمريكية من العلاقات القوية وتوجد اتفاقيات بين البلدين فى إطار التعاون الاقتصادي والتكنولوجي والثقافي والعلمى
- توجد اتفاقيات تجارية بين البلدين منها اتفاقية منطقة التجارة الحرة واتفاقية الكويز
- تستورد مصر من الولايات المتحدة منتجات تكنولوجيه حديثة وأسلحة وطائرات

اختبر نفسك

اكمل

- ١- الولايات المتحدة هي إحدى دول قارة
- ٢- تمتد الولايات المتحدة بين دائرتى عرض و.....
- ٣- تمتد الولايات المتحدة بين خطى طول و.....
- ٤- يحد الولايات المتحدة من الشمال دولة
- ٥- يحد الولايات المتحدة من الجنوب دولة وخليج
- ٦- يحد الولايات المتحدة من الغرب المحيط
- ٧- يحد الولايات المتحدة من الشرق المحيط

٨- مساحة الولايات المتحدة حوالى مليون كم ٢

٩- تتكون الولايات المتحدة ولاية

١٠- تعرف المرتفعات الشرقية فى الولايات باسم جبال

١١- تنتج الولايات المتحدة ثلث الإنتاج العالمى من الصناعات و

اكتب ما تشير اليه العبارات

١. مجموعة من الجزر الأمريكية تقع فى وسط المحيط الهادى
٢. ولاية أمريكية فى أقصى الشمال الغربى لأمريكا الشمالية
٣. العاصمة السياسية تطل على المحيط الأطلنطي
٤. ميناء هام وتطل على المحيط الأطلنطي ويوجد بها مقر الأمم المتحدة
٥. أكبر مدن السهول الوسطى تقع على بحيرة متشجن
٦. من المدن الصناعية بالغرب الساحلى للولايات المتحدة

ما نتائج :

- ١- اتساع مساحة الولايات المتحدة
- ٢- اتساع سواحل الولايات المتحدة
- ٣- تنوع الموارد بالولايات المتحدة

بم تفسر

- ١) تختلف السهول الوسطى خصائصها المناخية من منطقة إلى أخرى
- ٢) يتركز فيه ٥٠٪ من السكان بالرغم من انه يمثل نحو ١٢٪ فقط من المساحة الكلية للدولة
- ٣) تعد الولايات المتحدة القوة الإقتصادية الأولى فى العالم
- ٤) يتميز الانتاج الزراعى بالتنوع والضخامة بالولايات المتحدة
- ٥) توجد ثروة سمكية كبيرة بالولايات المتحدة
- ٦) تعد الولايات المتحدة القوة الصناعية الأولى فى العالم
- ٧) قلة تركيز السكان فى الاسكا
- ٨) تركيز السكان على السواحل الغربية للولايات
- ٩) شهرة مدينة واشنطن
- ١٠) شهرة مدينة نيويورك
- ١١) شهرة مدينة شيكاغو

دل على صحة العبارات

- ١- تتعدد المناطق الصناعية بالولايات المتحدة
- ٢- تتسم العلاقات المصرية الأمريكية بالقوة والتنوع

ثورة يوليو ١٩٥٢

الوحدة الثالثة

الدرس الاول

دلل : اختلفت الكتابات وتعددت الآراء حول ثورة ٢٣ يوليو ١٩٥٢م

- يرى بعض المؤرخون أنها تكتسب أهمية كبيرة لما تركته من آثار على أغلب الحركات التحررية فى المنطقة العربية بشكل خاص
- وفى العالم بشكل عام ولما أسهم به قادتها من تأسيس لحركات دولية مثل :- ← حركة عدم الانحياز والحياد الإيجابى
- يرى مؤرخون آخرون أنها لم تبدأ عندما تأسس تنظيم الضباط الأحرار أو عندما سيطرت قيادة الثورة على مقرات الجيش والإذاعة المصرية إنما كان هذا التحرك مكملًا لنضال طويل وامتد لشعب مصر الذى ثار ضد الفساد والاحتلال وسوء الحكم منذ الثورة العربية و ثورة ١٩١٩م وحتى قيام ثورة ٢٣ يوليو ١٩٥٢م

عوامل قيام ثورة ٢٣ يوليو ١٩٥٢م



١. استمرار الاحتلال البريطانى وتدخله فى شئون مصر .
٢. عدم وجود حياة ديمقراطية سليمة .
٣. فساد النظام الملكى .
٤. هزيمة الجيش المصرى فى حرب فلسطين ١٩٤٨م .
٥. تدهور الأحوال الاقتصادية .
٦. سوء الأحوال الاجتماعية .

١) استمرار الاحتلال البريطانى وتدخله فى شئون مصر الداخلية :

دلل : لم تؤدى معاهدة ١٩٣٦م إلى الاستقلال الحقيقى

ظهر ذلك عندما حاصرت قوات الاحتلال قصر عابدين فى فبراير ١٩٤٢م لإجبار الملك فاروق على تعيين مصطفى النحاس باشا رئيسا للحكومة .

٢) هزيمة الجيش المصرى فى حرب فلسطين ١٩٤٨م : بم تفسر والسبب :

١. دعم الولايات المتحدة وبريطانيا لإسرائيل
٢. عدم استعداد العرب عسكريا للحرب

٣) فساد النظام الملكى : دلل

- استبداد الملك فاروق بالحكم .
- انتشار الرشاوى كما حدث فى صفقة الاسلحة الفاسدة .

٤) عدم وجود حياة ديمقراطية سليمة : بم تفسر

- بسبب فساد النظام الملكى
- خضوع مصر للاحتلال البريطانى
- فساد الأحزاب و زيادة الصراع بينهم من أجل الوصول إلى الحكم .

٥) تدهور الأحوال الإقتصادية :

ما نتائج : توقيع معاهده ١٩٣٦م

١. جعل مصر ميدان للحرب العالمية الثانية
٢. إستنزاف موارد البلاد لخدمة بريطانيا وحلفائها
٣. إرهاب الإقتصاد المصرى مما زاد معاناة الشعب .

٦) سوء الأحوال الإجتماعية : بم تفسر

- الصراع السياسى بين الأحزاب
- الإقطاع وسوء توزيع الأرض الزراعية مما جعل فئة صغيرة تملك وتستبد .
- تفشى ظاهرة الفقر والجهل والمرض .

أحداث ثورة ٢٣ يوليو ١٩٥٢م :



١- تنظيم الضباط الأحرار:

بم تفسر : تكوين تنظيم الضباط الأحرار

نتيجة استمرار الإحتلال البريطانى وفساد الأوضاع فى مصر

تزعّمهم جمال عبدالناصر

أهدافه : ضرورة القيام بثورة

- القضاء على الفساد - العمل على تحرير واستقلال مصر من الاحتلال البريطانى

٢- التحركات الاولى للثورة

- عمل الضباط الأحرار فى سرية تامة وخططوا لإعلان الثورة بعد أن نظموا صفوفهم .
- تحركوا فى صباح يوم ٢٣ يوليو ١٩٥٢م وسيطروا على المراكز الهامة فى القاهرة والأسكندرية

٣- بيان الثورة :

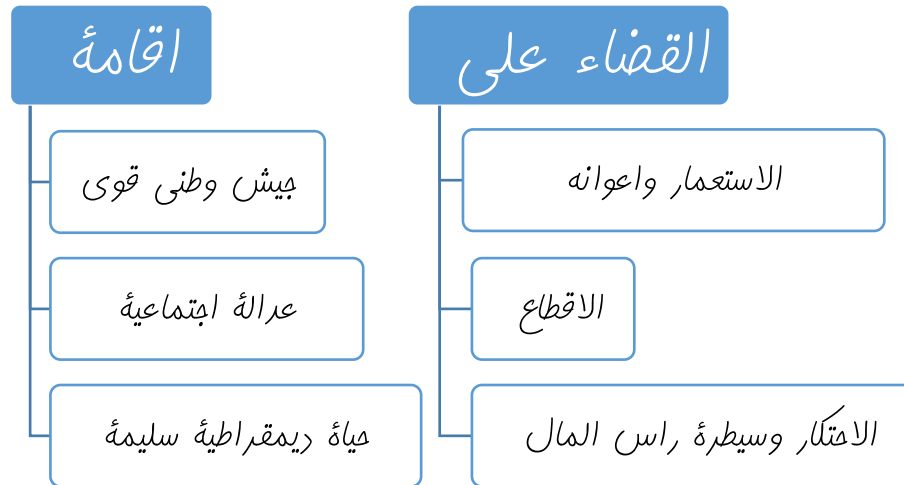
- أذاع محمد أنور السادات أول بيان للثورة بإسم اللواء محمد نجيب (القائد العام للقوات المسلحة) ، وبموجب هذا البيان أصبح اللواء محمد نجيب مسيطرا على جميع قطاعات الجيش المصرى .

٤- مطالب الثورة من الملك فاروق :

- (١) تنازل الملك فاروق عن العرش لابنه أحمد فؤاد الثانى الذى كان طفلا .

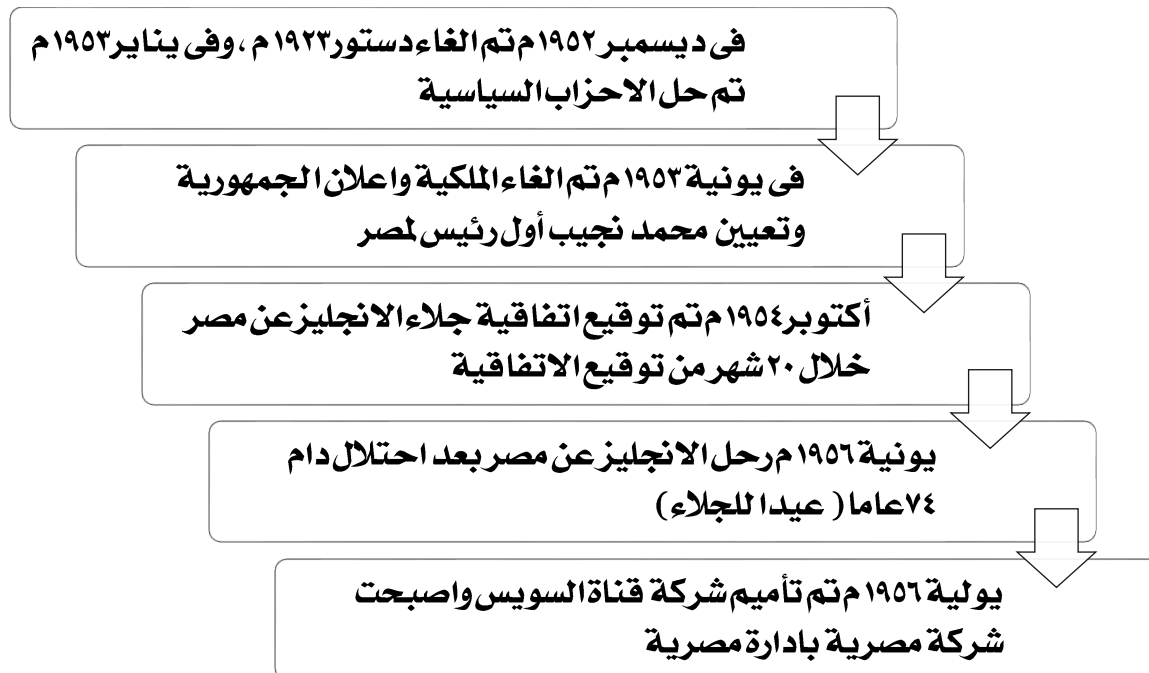
٢) مغادرة الملك البلاد قبل الساعة السادسة مساء يوم ٢٦ يوليو ١٩٥٢ م .
 بم تفسر : وافق الملك فاروق على مطالب الثورة قبل الموعد المحدد
 لأنه أدراك أن الجيش والشعب يكرهان حكمه وتخلي الإنجليز عنه .

أهداف ثورة ٢٣ يوليو ١٩٥٢م



إنجازات ثورة ٢٣ يوليو ١٩٥٢م

١) المجال السياسي



٢) المجال الاقتصادي

الزراعة	الصناعة	التجارة
---------	---------	---------

- التوسع في استصلاح الأراضي الصحراوية لزيادة الرقعة الزراعية - إنشاء السد العالي وتم إجزاه عام ١٩٧١م	- إنشاء مصانع جديدة مثل الحديد والصلب جلولان والاسمدة بأسوان - الاهتمام بالتعليم الصناعي ومراكز التدريب المهني - البحث والتنقيب عن البترول وإنشاء معامل لتكريره	- فتح أسواق جديدة في الخارج لتسويق المنتجات المصرية - تمصير البنوك وشركات التأمين وشركات الاستيراد والتصدير
--	---	---

بم تفسر: أهمية إنشاء السد العالي

حماية مصر من خطر الفيضان و تخزين المياه وتوليد الكهرباء

٣) المجال الاجتماعي

١. القضاء على الإقطاع : عن طريق :

- إصدار قانون الإصلاح الزراعي الأول سبتمبر ١٩٥٢م الذي حدد الملكية الزراعية بـ ٢٠٠ فدان وتوزيع الباقي على الفلاحين المعدمين

- صدرت قوانين أخرى حددت الملكية الزراعية بـ ٥٠ فدان مما زاد من تملك الفلاحين للأرض الزراعية

٢. إقامة عدالة اجتماعية : عن طريق :

١- مجانية التعليم لجميع مراحلها بما فيه التعليم الجامعي

٢- إقامة الوحدات الصحية والجمعيات الزراعية

٣- تحديد ساعات العمل وإشراك العمال بمجالس إدارة الشركات وتحديد نسبة لهم من الأرباح

٤- إصدار قوانين التأمينات والمعاشات الاجتماعية للموظفين والعمال

٥- منح المرأة حق الانتخاب والترشيح لمجلس الأمة (مجلس النواب حاليا) عام ١٩٥٦م

٤) المجال العربي والدولي

١. ساندت الدول العربية وبعض الدول الإفريقية لنيل الإستقلال مثل (السودان والجزائر وتونس

والمغرب والكويت والعراق واليمن وكينيا)

٢. إقامة أول وحدة عربية بين مصر وسوريا فبراير ١٩٥٨م

٣. تأييد ومساندة حقوق الشعب الفلسطيني في دولة مستقلة عاصمتها القدس الشريف

٤. كسر احتكار السلاح العالي بعقد صفقة الأسلحة الشرقية

٥. المساهمة في تشكيل حركة عدم الانحياز وظهر الدور الرائد لمصر مع كل من الهند ويوغسلافيا

سابقا في مؤتمر باندونج باندونيسيا عام ١٩٥٥م

عدم الانحياز : عدم الانضمام الى أي من الكتلتين الشرقية والغربية

اختبر نفسك

أكمل

١- من أهداف ثورة ١٩٥٢ القضاء على و..... و.....

- ٢- من اهداف ثورة ١٩٥٢ اقامةو.....و.....
- ٣- فى يناير ١٩٥٣ تم حل
- ٤- فى يونيه ١٩٥٣ تم الغاء واعلان
- ٥- تم توقيع اتفاقية الجلاء عام
- ٦- تم تاميم شركة ١٩٥٦
- ٧- تم انشاء السد العالى عام
- ٨- منحت المرأة حق الانتخاب والترشح لأول مرة عام لمجلس
- ٩- قامت اول وحدة عربية بين مصر و..... ١٩٥٨

بم تفسر

- ١- هزيمة الجيش المصرى فى حرب فلسطين ١٩٤٨ م ؟
- ٢- عدم وجود حياة ديمقراطية سليمة قبل ثورة يوليو
- ٣- تكون جماعة الضباط الاحرار داخل الجيش المصرى
- ٤- وافق الملك فاروق على مطالب الثورة قبل الموعد المحدد
- ٥- : اهمية انشاء السد العالى

دل

- ١- لم تحقق معاهدة ١٩٣٦م الاستقلال الحقيقى للبلاد
- ٢- فساد النظام الملكى قبل ثورة يوليو ؟
- ٣- سوء الأحوال الاجتماعية فى مصر قبل ثورة يوليو ؟
- ٤- لثورة ١٩٥٢ اجازات فى المجال الزراعى
- ٥- لثورة ١٩٥٢ اجازات فى المجال الصناعى
- ٦- لثورة ١٩٥٢ اجازات فى المجال التجارى
- ٧- لثورة ١٩٥٢ اجازات فى مجال اقامة عدالة اجتماعية
- ٨- لثورة ١٩٥٢ اجازات فى المجال العربى والدولى

ما نتائج

- ١- توقيع معاهده ١٩٣٦م
- ٢- قانون الاصلاح الزراعى
- ٣- مؤتمر باندونج باندونسيا ١٩٥٥

لمن تنسب الاعمال الاتية

- ١- اتزعم تنظيم الضباط الاحرار
- ٢- اذاع اول بيان لثورة ١٩٥٢
- ٣- اذيع باسمه اول بيان لثورة ١٩٥٢
- ٤- طالبت الثورة منه مغادرة البلاد والتنحى عن الحكم

مصر والقضية الفلسطينية

فلسطين عربية :

بم تفسر : فلسطين أهمية خاصة في قلب كل عربي

- فيها ولد السيد المسيح عليه السلام
- وإليها أسرى بسيدنا محمد صلى الله عليه وسلم
- بها المسجد الأقصى أولى القبلتين وثالث الحرمين

لاحظ ان

- عاش فيها المسلمون والمسيحيون وقليل من اليهود حتى قيام الحرب العالمية الأولى (١٩١٤م - ١٩١٨م)

- كانت فلسطين مطمعا للغزاة على مر العصور لموقعها الجغرافي المتميز

الوعد بوطن لليهود :

- سعت بريطانيا لتأييد فكرة وطن قومي لليهود في فلسطين فأصدرت بريطانيا وعد بلفور ١٩١٧م نص على (تعهد بريطانيا ببذل مساعيها لإنشاء وطن قومي لليهود في فلسطين) وهو وعد بمن لا يملك لمن لا يستحق .

الانتداب البريطاني على فلسطين

(١٩٢٠م - ١٩٤٨م) :

- قررت دول الحلفاء (الدول المنتصرة في الحرب العالمية الأولى) وضع فلسطين تحت الانتداب البريطاني مع تنفيذ وعد بلفور

- ما نتائج مؤتمر سان ريمو بإيطاليا في إبريل ١٩٢٠م

أعطى لبريطانيا حق الانتداب على فلسطين

الاجراءات التي اتخذتها حكومة الانتداب لتنفيذ وعد بلفور:

١. السماح لهجرة الكثير من يهود العالم الى فلسطين

٢. السماح بانتقال ملكية الارض من عرب فلسطين الى اليهود عن طريق الشراء

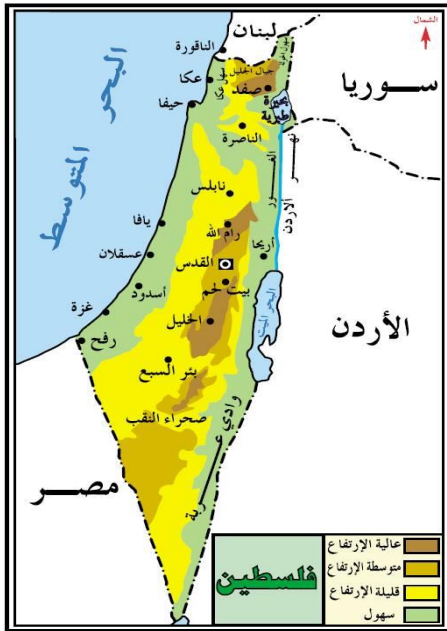
موقف الشعب الفلسطيني من تلك الاجراءات :

- قام الشعب الفلسطيني بعدد من الحركات الوطنية بين عامي (١٩٢٠م - ١٩٣٩م) أخطرها

انتفاضة عام ١٩٢٩م ، وثورة عام ١٩٣٦م بقيادة اللجنة العربية

تقسيم فلسطين ١٩٤٧م :

- عرضت بريطانيا القضية الفلسطينية على الأمم المتحدة عام ١٩٤٧م مانحاً





وافقت على تقسيم فلسطين إلى (دولة عربية - دولة يهودية - تدويل منطقة القدس أي وضعها تحت إدارة دولية)

ردود الفعل

١. **العرب** : رفضت **الدول العربية** مشروع تقسيم فلسطين **بريطانيا** : امتنعت **بريطانيا** عن التصويت وأعلنت أنها ستسحب قواتها وتنتهي الانتداب على فلسطين في ١٤ مايو ١٩٤٨م
٢. **اليهود** : وافق **اليهود** على المشروع

- قامت العصابات اليهودية المسلحة بطرد العرب من ديارهم
- ارتكبوا أبشع المذابح مثل مذبحه (دير ياسين)
- في ١٥ مايو ١٩٤٨م أعلن اليهود قيام دولتهم (إسرائيل) وأُعترفت بها الولايات المتحدة الأمريكية والاتحاد السوفيتي (سابقا) .

الحروب العربية الإسرائيلية

أولاً : حرب فلسطين ١٩٤٨م :
أسبابها :

١. نصرة وانقاذ العرب الفلسطينيين من بطش اليهود
٢. مساعدة الشعب الفلسطيني على إقامة حكومة وطنية على أرضه

أحداثها :

- تمكنت الجيوش العربية من تحقيق انتصارات على القوات الاسرائيلية
- تقدمت الولايات المتحدة باقتراح لمجلس الامن لوقف القتال وإقامة هدنة لمدة شهر يمنع فيها العرب واليهود من جلب الاسلحة والمحاربين إلى فلسطين ويكون ذلك تحت اشراف دولي
- لم يلتزم اليهود بالهدنة وبدأوا في تقوية قواتهم من حيث العدد والسلاح والتدريب
- أستؤنف القتال وظهر تفوق اليهود على جميع جبهات القتال وتراجعت القوات العربية وانهزمت

نتائجها :

- ١- هزيمة العرب



٢- الاستيلاء على جميع أرض فلسطين ماعدا

- قطاع غزة تحت إدارة مصرية
- الضفة الغربية وبها القوات الأردنية
- قسمت القدس بين العرب واليهود

ثانياً: العدوان الثلاثي على مصر ١٩٥٦م :

الدول المشتركة في العدوان : (بريطانيا - فرنسا - إسرائيل)
«أسبابه :

١. عقد حكومة الثورة اتفاقية مع الاتحاد السوفيتي (سابقا) لتزويد مصر بالأسلحة والمعدات لمواجهة الأطماع الإسرائيلية والاعتداءات على الشعب الفلسطيني
٢. مساندة مصر لحركات التحرر الوطني في الجزائر ضد الاحتلال الفرنسي
٣. تأميم مصر لقناة السويس في يوليو ١٩٥٦م

أسباب فشل العدوان الثلاثي :

١. المقاومة الباسلة من الشعب والجيش وصلابة القيادة
٢. وقوف الشعوب العربية بجانب مصر
٣. تهديد الاتحاد السوفيتي (سابقا) بالتدخل لوقف العدوان
٤. رفض الولايات المتحدة استخدام القوة في حل المنازعات
٥. تنديد الأمم المتحدة بالعدوان

نتائج فشل العدوان :

فشل العدوان وترتب على ذلك :

- ١- انسحاب القوات الفرنسية والإجليزية من بورسعيد في ٢٣ ديسمبر ١٩٥٦م الذي يعتبر عيداً للنصر وعيدا سنوياً لبورسعيد
- ٢- انسحاب القوات الإسرائيلية من قطاع غزة وسيناء في أوائل ١٩٥٧م ووضعت قوات طوارئ دولية بين مصر وإسرائيل منذ عام ١٩٥٧م
- ٣- أدراك الدول العربية خطر إسرائيل واطماعها في السيطرة على العالم العربي فقامت وحدة بين مصر وسوريا عام ١٩٥٨م حتى تم الانفصال بينهما عام ١٩٦١م

ثالثاً: العدوان الإسرائيلي (٥ يونيو ١٩٦٧م)

قامت إسرائيل بمساعدة الولايات المتحدة الأمريكية بالإعداد والتهيئة والتخطيط للعدوان

أسباب العدوان :

بسبب رغبة إسرائيل في القضاء على قوة مصر واستدراج مصر والدول العربية إلى حرب كانت غير مستعدة لها .



مقدمات العدوان :

- قامت إسرائيل بجشده قواتها على الحدود مع سوريا عام ١٩٦٧م
- أعلنت مصر وقوفها بجانب سوريا طبقا لاتفاقية الدفاع المشترك بينهما وأرسلت قواتها بسرعة إلى سيناء
- طلبت مصر من قوات الطوارئ الدولية الموجودة بين مصر وإسرائيل الانسحاب من بعض النقاط
- إغلاق مصر خليج العقبة في وجه الملاحة الإسرائيلية في مايو ١٩٦٧م بم تفسير
- احكاما للحصار الاقتصادي الذي يفرضه العرب على إسرائيل
- ورغم المساعي الدولية لمعالجة الموقف الملتهب بين الدول العربية وإسرائيل ،
- قامت إسرائيل في صباح (٥ يونية ١٩٦٧م) بغارات مفاجئة على المطارات المصرية وبدأت أحداث الحرب

نتائج العدوان :

١. هزيمة الدول العربية
٢. استيلاء القوات الإسرائيلية علي
- قطاع غزة ومدينة القدس العربية والضفة الغربية لنهر الأردن
- شبه جزيرة سيناء حتى الضفة الشرقية لقناة السويس
- هضبة الجولان السورية

أسباب هزيمة الدول العربية :

- ١- تفوق إسرائيل العسكري وخاصة السلاح الجوي
- ٢- استخدام عنصر المفاجأة بعد تصوير المواقع المصرية بأجهزة تجسس أمريكية

- ٣- مساعدة الولايات المتحدة وبعض دول أوروبا لإسرائيل عسكريا واقتصاديا وسياسيا
- ٤- نقص التدريب وعدم توافر الأسلحة المتطورة للقوات المصرية

تدخل مجلس الأمن الذي اصدر القرار رقم ٢٤٢ في نوفمبر ١٩٦٧م

قرار مجلس الأمن رقم ٢٤٢ في نوفمبر ١٩٦٧م :

نصوصه :

١. انتهاء حالة الحرب بين العرب وإسرائيل
٢. احترام سيادة دول المنطقة على أراضيها
٣. انسحاب إسرائيل من الأراضي التي احتلتها في ١٩٦٧م
٤. حرية الملاحة في الممرات الدولية
٥. إنشاء مناطق متزوعة السلاح

موقف مصر وإسرائيل من القرار :

- قبلت مصر قرار مجلس الأمن
- رفضت إسرائيل تنفيذه ولم تنسحب من الأراضي التي احتلتها



إعادة بناء القوات المسلحة المصرية :

- حرصت مصر على إعادة بناء القوات المسلحة على أسس جديدة من حيث الاختيار والتدريب والتسليح .

مرت عملية البناء بمرحلتين :

المرحلة الاولى	المرحلة الثانية
مرحلة الصمود والتصدى	حرب الاستنزاف والمواجهة عامى ١٩٦٩م - ١٩٧٠م
<p>- يقصد بها تصدى القوات المصرية للاعتداءات الاسرائيلية ومنها</p> <p>١- معركة رأس العش وفيها نجحت قواتنا فى هزيمة القوات الاسرائيلية عندما حاولت احتلال مدينة بورفؤاد .</p> <p>٢- تدمير المدمرة الاسرائيلية (إيلات) بصواريخ البحرية المصرية فى اكتوبر ١٩٦٧م</p>	<p>يقصد بها استنزاف طاقات العدو الإسرائيلى فى سيناء وفيها</p> <p>- نجحت مصر فى بناء حائط الصواريخ على الضفة الغربية للقناة مما منع اختراق طائرات اسرائيل للأجواء المصرية</p> <p>- القصف المستمر بالمدفعية لخط بارليف على طول القناة</p>

ما نتائج : القصف المستمر لخط بارليف فى حرب الاستنزاف

تدخل الولايات المتحدة وقدم وزير خارجيتها مبادرة روجرز لوقف اطلاق النار وحل

النزاع سلميا

لاحظ أن :

- خاض الشعب المصرى وجيشه الباسل حرب الاستنزاف التى استشهد فيها الفريق أول **عبد المنعم رياض** رئيس أركان حرب القوات المسلحة
- وكان أحد الأعمدة التى إعتمد عليها جمال عبد الناصر فى إعادة بناء وتنظيم القوات المسلحة فى حرب الاستنزاف .

- توفى الرئيس جمال عبد الناصر فى سبتمبر ١٩٧٠م بعد مرحلة طويلة من الكفاح لتحقيق حلم الإستقلال وخلفه الرئيس محمد أنور السادات لتبدأ مرحلة جديدة من المواجهة مع إسرائيل هى حرب اكتوبر ١٩٧٣م

اختبر نفسك

اكمل

- ١- أصدرت وعد بلفور ١٩١٧م
- ٢- اصدرت قرارها بتقسيم فلسطين ١٩٤٧
- ٣- تم وضع فلسطين تحت الانتداب عام وحتى عام
- ٤- ارتكب اليهود مذبة
- ٥- تدمير المدمرة الاسرائيلية (إيلات) بصواريخ البحرية المصرية فى اكتوبر ١٩٦٧م



- ٦- تسمى المرحلة الأولى من إعادة بناء القوات المسلحة باسم
- ٧- تم وضع غزة تحت إدارة بعد حرب ١٩٤٨
- ٨- الدول المشتركة في العدوان الثلاثي هيو.....و.....

بم تفسر :

- ١- لفلسطين أهمية خاصة في قلب كل عربي
- ٢- دخول الجيوش العربية فلسطين ١٩٤٨
- ٣- العدوان الثلاثي على مصر ١٩٥٦م
- ٤- فشل العدوان الثلاثي
- ٥- العدوان الاسرائيلي (٥ يونية ١٩٦٧م
- ٦- هزيمة الدول العربية في نكسة ١٩٦٧
- ٧- إغلاق مصر خليج العقبة في وجه الملاحة الاسرائيلية في مايو ١٩٦٧م

ما النتائج المترتبة على

- ١- مؤتمر سان ريمو بايطاليا في ابريل ١٩٢٠م
- ٢- تطبيق نظام الانتداب البريطاني على فلسطين
- ٣- عرضت بريطانيا القضية الفلسطينية على الأمم المتحدة عام ١٩٤٧م
- ٤- موقف اليهود من تقسم فلسطين
- ٥- موقف العرب من تقسيم فلسطين
- ٦- التزام العرب بالهدنة في حرب فلسطين
- ٧- حرب فلسطين ١٩٤٨
- ٨- فشل العدوان الثلاثي على مصر
- ٩- العدوان الارائيلي ١٩٦٧
- ١٠- رفض اسرائيل قرار مجلس الامن ١٩٦٧
- ١١- معركة رأس العش
- ١٢- بناء حائط صوراخ على الضفة الغربية لقناة السويس
- ١٣- القصف المستمر لخط بارليف في حرب الاستنزاف

لمن تنسب الاعمال الاتية

- ١- قاد ثورة ١٩٣٦
- ٢- قدم مبادرة عرفت باسمه لوقف اطلاق النار في حرب الاستنزاف
- ٣- رئيس اركان حرب القوات المسلحة اثناء حرب الاستنزاف
- ٤- تدخلت في حرب فلسطين وطلبت هدنة لايفاف الحرب ومساعدة اسرائيل

ما هي نصوص قرار مجلس الامن رقم ٢٤٢ وما موقف مصر واسرائيل منه

حرب السادس من أكتوبر ١٩٧٣



أطراف الحرب : مصر وسوريا ضد إسرائيل

أسباب الحرب :

١- رفض إسرائيل نداءات السلام بتنفيذ قرار مجلس الأمن رقم ٢٤٢
والانسحاب من الاراضى التى احتلتها فى ١٩٦٧م والتى تتمثل فى
سيناء والجولان

٢- التصميم المصرى السورى على ازالة آثار نكسة يونيو ١٩٦٧م

الاستعداد للحرب :

على المستوى العربى	تهيئة واعداد الجبهة الداخلية عن طريق :
تهيئة واعداد الجبهة العربية عن طريق :	١- رفع الرقابة على الصحف
١- تصفية الخلافات العربية وتوحيد الصف العربى	٢- اصدار دستور جديد للبلاد (دستور ١٩٧١م)
٢- الاستفادة من كل الموارد والامكانيات العربية المتاحة	٣- الغاء الحراسات والاجراءات المقيدة للحريات
	٤- القضاء على مراكز القوى
	٥- تجهيز الجيش وتسليحه بأحدث الاسلحة وتدريبه عليها

أحداث الحرب :

على الجبهة المصرية :



١- قام سلاح الطيران بقيادة (محمد حسنى مبارك) بضربة جوية ناجحة وقامت المدفعية بإطلاق النيران على طول القناة لعبور الدبابات والمدربات والآليات العسكرية المصرية

٢- تدمير خط بارليف (أسطورة إسرائيل) فى ٦ ساعات

٣- انتشار القوات المصرية على الضفة الشرقية للقناة ورفع العلم المصرى عليها

٤- أسر المئات من الجنود الاسرائيليين

٥- تخطيط عدد كبير من الطائرات والمعدات العسكرية الاسرائيلية

على الجبهة السورية :

١- بدأت سوريا ومصر الهجوم فى لحظة واحدة طبقا للاتفاق العسكرى بينهما

٢- عبرت الطائرات السورية إلى منطقة الجولان المحتلة

٣- اندفعت الدبابات والمدفعات نحو خط (ألوان) وهو خط الدفاع الاسرائيلي بالجولان الذي يماثل خط بارليف في الجبهة المصرية

٤- دارت معارك جوية بين الطيران الاسرائيلي والسوري الذي استمر في تقديم دعمه للقوات البرية التي اخترقت خط الدفاع الاسرائيلي ودمرته تماما

الدعم العربي أثناء الحرب :

- **عسكريا:** قدمت بعض الدول العربية دعما عسكريا لمصر وسوريا مثل (العراق والجزائر وليبيا والاردن والمغرب والسعودية والسودان والكويت وتونس)

- **ماليا:** قدمت بعض الدول العربية دعما ماليا لمصر وسوريا مثل (السعودية والجزائر والإمارات)

- **سياسيا :** قرر وزراء النفط العربي في إجتماعهم بالكويت خفض انتاج البترول فأرتفعت أسعاره ثم حظر الصادرات النفطية إلى الولايات المتحدة الأمريكية خاصة عندما طلب الرئيس الأمريكي مساعدات عاجلة لإسرائيل ونتيجة للخسائر الاسرائيلية على الجبهتين المصرية والسورية طلبت مساعدة الولايات المتحدة الأمريكية

دور الولايات المتحدة الأمريكية في دعم إسرائيل :

- عسكريا وماليا :

- أقامت الولايات المتحدة الأمريكية جسراً جويّاً لتقديم المساعدات العسكرية لإسرائيل
- قدمت الولايات المتحدة مساعدات مالية ضخمة عاجلة لإسرائيل
- قدمت معلومات عسكرية لإسرائيل ساعدتها على إحداث ثغرة في منطقة الدفرسوار

- سياسيا :

تدخلت الولايات المتحدة والدول الأعضاء في مجلس الأمن الدولي التابع للأمم المتحدة . تم إصدار القرار (٢٣٨) الذي يقضى بوقف جميع الأعمال الحربية بدءاً من يوم ٢٢ أكتوبر ١٩٧٣م وقبلت مصر القرار . بعدها بدأت مباحثات المفاوضات بين الطرفين (المصري - الإسرائيلي)

النتائج والدروس المستفادة من حرب أكتوبر :

- ١- تعد نقطة تحول في الصراع العربي/ الإسرائيلي . وأثبتت أن منطق القوة لا يمنح سلاماً.
- ٢- خطيم أسطورة الجيش الإسرائيلي الذي لا يقهر. وعودة الثقة للمقاتل المصري والعربي.
- ٣- تقويض (هدم) أسس العقيدة القتالية للقوات الإسرائيلية .
- ٤- ساهمت حرب أكتوبر في انتهاء نظرية الأمن الإسرائيلية بم تفسر بعد انهيار الخطوط الدفاعية والتحصينات القوية مثل خط بارليف.

- ٥- أنهت حرب أكتوبر ١٩٧٣م حالة اللاسلم واللاحرب ، وأفسحت المجال للمفاوضات السياسية من منطلق القوة العربية.
- ٦- أظهرت حرب أكتوبر ١٩٧٣م أهمية استخدام سلاح النفط العربي .
- ٧- أثرت حرب أكتوبر في العلاقات بين إسرائيل وبعض الدول المحبة للسلام في آسيا وأفريقيا وأوروبا.

شخصيات هضيفة في حرب أكتوبر ١٩٧٣م :

١) المشير أحمد إسماعيل :



المشير أحمد إسماعيل علي

- كان وزيراً للحربية وقائداً للقوات المسلحة ومديراً للمخابرات العامة
- تولى القيادة العامة الموحدة للقوات المصرية السورية في حرب أكتوبر ١٩٧٣م
- تولى التخطيط والتنسيق على الجبهتين المصرية والسورية بدقة ومهارة عالية

- قاد خطة الخداع لصرف أنظار إسرائيل عن التجهيزات الهجومية
- حصل على وسام نجمة سيناء الذي يعد أعلى الأوسمة العسكرية

٢) الفريق سعد الدين الشاذلي :



- اختاره الرئيس الراحل أنور السادات رئيساً لأركان حرب القوات المسلحة المصرية عام ١٩٧١م
- شارك مع القادة العسكريين في تطوير القوات المسلحة وفي وضع خطة العبور لقناة السويس وتخطيط خط بارليف وقام بتنفيذها في حرب أكتوبر ١٩٧٣م

- تم تكريمه في الذكرى الـ ٣٩ لنصر أكتوبر بمنح أسمه (قلادة النيل العظمى)

٣) الفريق محمد عبد الغنى الجمسى :



- شغل منصب رئيس هيئة عمليات القوات المسلحة
- ١٩٧٢م . حيث قامت الهيئة بإعداد دراسة عن أنسب التوقيتات للقيام بالعمليات الهجومية على إسرائيل على الجبهتين المصرية والسورية مما كان له الأثر في إحراز النصر
- أصبح رئيساً لأركان حرب القوات المسلحة عام ١٩٧٣م بعد الحرب مباشرة

اختبر نفسك

اكمل

- ١- حرب ٦ أكتوبر بين مصر و..... ضد إسرائيل حدثت عام هـ
- ٢- خط الدفاع الاسرائيلى فى سيناء يسمى
- ٣- خط الدفاع الاسرائيلى فى الجولان يسمى
- ٤- ساعدت الولايات المتحدة اسرائيل فى احداث ثغرة
- ٥- أنهت حرب أكتوبر ١٩٧٣م حالة و.....
- ٦- أثبتت حرب أكتوبر أن منطق لا يمنح سلاماً.
- ٧- أظهرت حرب أكتوبر ١٩٧٣م أهمية استخدام سلاح العربي .
- ٨- قاد خطة الخداع
- ٩- حصل على وسام نجمة سيناء الذى يعد أعلى الأوسمة العسكرية
- ١٠- تم تكريم فى الذكرى الـ ٣٩ لنصر أكتوبر بمنح أسمه قلادة النيل العظمى
- ١١- قام بإعداد دراسة عن أنسب التوقيتات للقيام بالعمليات الهجومية على اسرائيل على الجبهتين المصرية والسورية هو

بم تفسر

- ١- ما هى اجراءات تهيئة الجبهة الداخلية المصرية قبل حرب ١٩٧٣
- ٢- ما هى اجراءات تهيئة الجبهة العربية قبل حرب ١٩٧٣
- ٣- دور الدول العربية فى مساعدة مصر وسوريا فى حرب أكتوبر
- ٤- دور الدول العربية فى مساعدة مصر وسوريا فى حرب أكتوبر
- ٥- ساهمت حرب أكتوبر فى انتهاء نظرية الأمن الإسرائيلى

ما النتائج المترتبة على

- ١- الضربة الجوية المصرية فى حرب أكتوبر ١٩٧٣
- ٢- اجتماع وزراء افط العرب فى الكويت ١٩٧٣
- ٣- قرار مجلس الامن رقم ٣٣٨
- ٤- حرب أكتوبر ١٩٧٣

لمن تنسب

- ١- قائد سلاح الطيران فى حرب أكتوبر ١٩٧٣
- ٢- رئيس مصر اثناء حرب أكتوبر
- ٣- وزيراً للحربية وقائداً للقوات المسلحة ومديراً للمخابرات العامة
- ٤- تولى القيادة العامة الموحدة للقوات المصرية السورية فى حرب أكتوبر ١٩٧٣م
- ٥- رئيساً لأركان حرب القوات المسلحة المصرية عام ١٩٧١م
- ٦- أصبح رئيساً لأركان حرب القوات المسلحة عام ١٩٧٣م بعد الحرب مباشرة

مصر والصراع العربي الإسرائيلي

لوحة الثالثة

الدرس الأول

سياسة مصر نحو إنهاء الصراع العربي/الإسرائيلي : مبادرة الرئيس السادات لزيارة إسرائيل من أجل السلام (١٩٧٧م) :

بادر السادات بزيارة إسرائيل لحل النزاع العربي/ الإسرائيلي سلميا عام ١٩٧٧م وهناك :

- نادى الرئيس السادات بالسلام العادل لكل شعوب المنطقة

- دعا العالم كله إلى مساندته في التطلع إلى السلام الدائم بعد سلسلة من الحروب استنزفت

طاقات وموارد البلاد البشرية والمادية

نتائج المبادرة

مهدت زيارة السادات الطريق أمام إسرائيل للقبول بمبدأ التفاوض

مع الأطراف المهمة والمعنية بالقضية



مؤتمر كامب ديفيد (سبتمبر ١٩٧٨م) :

في سبتمبر ١٩٧٨م دعا الرئيس الأمريكي كارتر كلا من الرئيس السادات ومناحم بيجين رئيس وزراء

إسرائيل إلى اجتماعات في كامب ديفيد بالولايات المتحدة .

نتائج المؤتمر :

تم التوصل إلى إتفاق (معاهدة) للسلام بين مصر وإسرائيل

معاهدة السلام (مارس ١٩٧٩م) :

- تم توقيع معاهدة السلام بين مصر وإسرائيل بمشاركة ورعاية الولايات المتحدة الأمريكية وقد

نصت المعاهدة على ما يلي :

- (١) انسحاب إسرائيل الكامل من سيناء التي احتلتها عام ١٩٦٧م
- (٢) إنهاء حالة الحرب بين مصر وإسرائيل وحل المنازعات بالطرق السلمية
- (٣) احترام كل طرف لسيادة واستقلال الطرف الآخر
- (٤) إقامة علاقات ودية (سياسية - اقتصادية - ثقافية) بين الدولتين
- (٥) إقامة مناطق محدودة السلاح على جانبي الحدود مع تحديد عدد الاسلحة والقوات
- (٦) احترام حرية الملاحة في الممرات الدولية
- (٧) البدء بمفاوضات لإنشاء حكم ذاتي للفلسطينيين في الضفة الغربية وقطاع غزة
- (٨) التطبيق الكامل لقرار مجلس الأمن الدولي رقم (٢٤٢)

نتيجة المعاهدة :

رفع العلم المصري فوق شبه جزيرة سيناء في ٢٥ أبريل ١٩٨٢ بعد استعادتها كاملةً من المحتل الإسرائيلي . فيما عدا منطقة طابا الواقعة على رأس خليج العقبة



اللجوء الى التحكيم الدولي لاستعادة طابا

- حدث خلاف على تعيين مكان بعض علامات الحدود . واتفق الطرفان على إحالة قضية طابا إلى هيئة التحكيم الدولي .
- وفي **سبتمبر ١٩٨٨م** أصدرت محكمة العدل الدولية حكمها لصالح مصر .
- وفي **مارس ١٩٨٩م** استعادت مصر طابا وعادت إلى السيادة المصرية في عهد الرئيس الأسبق محمد حسني مبارك

المشاركة في مؤتمر مدريد للسلام (١٩٩١م):

- شاركت مصر بفاعلية في المؤتمر نظرا لدعوته إلى حل الصراع العربي الإسرائيلي على ضوء قرارات الأمم المتحدة وعلى أساس **مبدأ الأرض مقابل السلام**
- عقد المؤتمر في مدريد عاصمة إسبانيا عام ١٩٩١م برعاية كلٍّ من الولايات المتحدة الأمريكية والاتحاد السوفيتي (سابقاً)

اتفاقية أوسلو للسلام (١٩٩٣م):

- كان من نتيجة مؤتمر مدريد حدوث مفاوضات اتسمت بالسرية أسفرت عن توقيع اتفاق برعاية أمريكية في سبتمبر ١٩٩٣م بواشنطن بين **إسرائيل ومنظمة التحرير الفلسطينية**
- أيدت مصر الاتفاقية وما حدث من اتفاقات أخرى تتعلق بالانسحاب الإسرائيلي من الأراضي المحتلة وإقامة السلطة الوطنية الفلسطينية .

هزايا تحقيق السلام وإنهاء الصراع العربي / الإسرائيلي :

- (١) يحقق الاستقرار الداخلي للبلاد العربية
- (٢) يدفع عجلة التنمية الاقتصادية والاجتماعية وإصلاح البنية الأساسية للبلاد
- (٣) يشجع رؤوس الأموال العربية والأجنبية للاستثمار في مصر وغيرها من الدول العربية
- (٤) يزيد من حركة السياحة مما يؤدي إلى زيادة الدخل القومي وتوفير العملات الأجنبية
- (٥) إقامة المشروعات الوطنية وتحقيق التنمية في مصر بشكل خاص ومنطقتنا العربية بشكل عام .

اختبر نفسك

ما النتائج المترتبة على

- ١- مبادرة الرئيس السادات لزيارة إسرائيل من أجل السلام (١٩٧٧م) :
- ٢- مؤتمر كامب ديفيد (سبتمبر ١٩٧٨م) :
- ٣- معاهدة السلام (مارس ١٩٧٩م) :
- ٤- اللجوء الى التحكيم الدولي لاستعادة طابا
- ٥- المشاركة في مؤتمر مدريد للسلام (١٩٩١م) :
- ٦- إتفاقية أوسلو للسلام (١٩٩٣م) :
- **وضح مزايا تحقيق السلام**

أكمل

- ١- في سبتمبر ١٩٧٨م دعا الرئيس الأمريكي كلا من الرئيس المصري ورئيس وزراء إسرائيل إلى اجتماعات في بالولايات المتحدة .
- ٢- بادر الرئيس بزيارة إسرائيل لحل النزاع العربي سلميا عام وهناك نادى بالسلام لكل شعوب المنطقة
- ٣- من نصوص معاهدة السلام
- انسحاب إسرائيل الكامل من التي احتلتها عام ١٩٦٧م
- إنهاء حالة بين مصر وإسرائيل وحل المنازعات بالطرق السلمية
- احترام كل طرف الطرف الآخر
- إقامة علاقات بين الدولتين
- إقامة مناطق ز السلاح على جانبي الحدود مع تحديد عدد الاسلحة والقوات
- احترام حرية في الممرات الدولية
- البدء بمفاوضات لإنشاء حكم ذاتي في الضفة الغربية وقطاع غزة
- التطبيق الكامل لقرار مجلس الأمن الدولي رقم
- ٤- تم رفع العلم المصري فوق شبه جزيرة سيناء في ٢٥ ابريل ١٩٨٢ ، فيما عدا منطقة
- ٥- سبتمبر ١٩٨٨م أصدرت حكمها لصالح مصر باحقية مصر في طابا
- ٦- شاركت مصر بفاعلية مؤتمر الذي دعا حل الصراع العربي الإسرائيلي على ضوء قرارات الأمم المتحدة وعلى أساس مبدأ الأرض مقابل السلام
- ٧- حدثت مفاوضات اتسمت بالسرية أسفرت عن توقيع اتفاق برعاية أمريكية في سبتمبر ١٩٩٣م بواشنطن بين ومنظمة الفلسطينية
- ٨- أيدت مصر الاتفاقية وما حدث من اتفاقات أخرى تتعلق بالانسحاب الإسرائيلي من الأراضي المحتلة وإقامة السلطة الوطنية الفلسطينية

ثورة ٢٥ يناير و٣٠ يونيه

الوحدة الثالثة

الدرس الأول

ثورة ٢٥ يناير ٢٠١١م

دليل : تعتبر ثورة ٢٥ يناير ٢٠١١م من الثورات الفريدة في التاريخ الحديث والمعاصر حيث ساهمت التكنولوجيا المتطورة لوسائل الاتصال مثل الشبكة الدولية للمعلومات (الانترنت) ومواقع التواصل الاجتماعي (الفيس بوك وغيره) في اندلاع هذه الثورة لتشمل شتى أنحاء البلاد

لم تكن ثورة ٢٥ يناير ٢٠١١م وليدة هذا التاريخ بل كانت هناك حركات سياسية احتجاجية سبقتها ومهدت لها

أسباب وعوامل قيام ثورة ٢٥ يناير ٢٠١١م :

١- تدهور الأوضاع الاقتصادية :بم تفسر :

- تطبيق سياسة **الانفتاح الاقتصادي** دون ضوابط علمية
- التطبيق غير السليم لنظام **الخصخصة** حيث تم بيع مؤسسات الدولة بأقل من سعرها الحقيقي لصالح فئة معينة من رجال الأعمال مما أدى إلى :
- أ- ارتفاع الأسعار
- ب- تجمع آلاف العاملين بعد خروجهم بنظام التقاعد المبكر وانضمامهم لصفوف البطالة من الشباب في وقفات احتجاجية

٢- سوء الأوضاع الاجتماعية :بم تفسر :

أ- زيادة الفوارق الاجتماعية بين الطبقات

ب- غياب العدالة الاجتماعية في توزيع الثروات

٣- تدهور الأحوال الصحية والخدمية والتعليمية

٤- **إستمرار العمل بقانون الطوارئ** منذ أن تولي الرئيس مبارك الحكم في أكتوبر ١٩٨١م

٥- **تزوير الانتخابات البرلمانية لمجلس الشعب عام ٢٠١٠م :**

حيث حصل الحزب الوطني الحاكم علي نسبة ٩٧ ٪ من المقاعد ، وبهذا خلا المجلس من وجود أي معارضة وطنية تذكر

أحداث ووقائع ثورة ٢٥ يناير ٢٠١١م :

تطورت الأحداث في ثورة ٢٥ يناير ٢٠١١م تطورا سريعا مما أدى إلى نجاحها حيث :

- ١- اختار شباب الثورة يوم ٢٥ يناير ٢٠١١م بداية للاحتجاج والتظاهر السلمي و اتخذوا من الميادين العامة بالقاهرة (ميدان التحرير) والإسكندرية والسويس والمنصورة وغيرها أماكن للتظاهر

٢- استمرت الثورة ١٨ يوم تعبر عن مطالبها بأشكال وصور مختلفة حدث خلالها أحداث كثيرة أهمها :

الإضطراب الأمني الشديد . فشكل المجتمع المصري بكل فئاته ما عرف **باللجان الشعبية**

في الشوارع والحارات والميادين بغرض :

أ- حماية المنشآت والمناطق المحيطة بها

ب- مواجهة أعمال السرقة والحرق والترويع

٣- تم **الاستعانة بالقوات المسلحة المصرية** من أجل :

١- حماية وتأمين الممتلكات العامة والخاصة

ب- المحافظة علي أمن المواطنين

٤- سعى نظام مبارك لامتنصاص حماس

ال جماهير الساخطة بتحقيق بعض

المطالب فأجرى بعض التغييرات منها (تفويض صلاحيات رئيس الجمهورية إلي نائب الرئيس

وتشكيل حكومة جديدة) لكنها لم تمنع استمرار المظاهرات

٥- تخلى الرئيس الأسبق مبارك عن الرئاسة في ١١ فبراير ٢٠١١م . وتم تسليم إدارة شئون البلاد

للمجلس الأعلى للقوات المسلحة . و خرجت الملايين من الجماهير تحتفل بهذا الحدث التاريخي .



ثانياً : ثورة = ٣ يونيو = ٢٣ = ٢٤م

مقدمات الثورة :

- تولى محمد مرسى مرشح حزب الحرية والعدالة الحكم نتيجة فوزه في انتخابات رئاسة

الجمهورية عام ٢٠١٢م

- لم تحقق السياسات الجديدة للدولة حلول لمشكلات غالبية الشعب وخاصة العدالة

الاجتماعية واستمرار سوء الأحوال الإقتصادية

أحداث الثورة :

- تدخلت القوات المسلحة نتيجة تطور الأحداث وحفاظا على الأمن العام للدولة . وأعلنت بيانا

في ٢٣ يونيو ٢٠١٣م وضحت فيه أن (المسؤولية الوطنية والأخلاقية للقوات المسلحة تجاه الشعب

تتم التدخل لمنع انزلاق مصر في نفق مظلم من الصراع والإقتتال والفتنة الطائفية)

ودعت لإيجاد صيغة تفاهم وتوافق ومصالحة حقيقية لحماية مصر وشعبها خلال أسبوع

- رفض الرئيس الأسبق محمد مرسى الموافقة على إجراء انتخابات رئاسية مبكرة وكذلك رفضت

المعارضة دعوته إلى الحوار

- خرجت جموع الشعب فى أعداد هائلة للميادين والشوارع فى ثورة جديدة يوم ٣٠ يونيه ٢٠١٣م للتعبير عن رأيها فى التغيير

نتائج الثورة:

- (١) عزل محمد مرسى فى ٣ يوليو ٢٠١٣م وتسليم السلطة للمستشار عدلى منصور رئيس المحكمة الدستورية العليا حين اجراء انتخابات رئاسية وتعديل دستور ٢٠١٢م
- (٢) صدر الدستور الجديد فى يناير ٢٠١٤م ثم جرت انتخابات الرئاسة وفاز المرشح عبدالفتاح السيسى
- (٣) وبذلك بدأت مصر فترة جديدة من تاريخها يتطلع فيها الشعب لتحقيق طموحاته فى تطبيق الديمقراطية وتحقيق العدالة الاجتماعية والرخاء والتقدم والتنمية .



اختبر نفسك

دلل على صحة العبارات

- ١- تعتبر ثورة ٢٥ يناير ٢٠١١م من الثورات الفريدة فى التاريخ الحديث والمعاصر
- ٢- ساندت القوات المسلحة ثورتى ٢٥ يناير و٣٠ يونيه

بم تفسر:

- ٣- تدهور الأوضاع الاقتصادية قبل ثورة يناير
- ٤- سوء الأوضاع الاجتماعية قبل ثورة يناير
- ٥- شكل المجتمع المصري بكل فئاته ما عرف باللجان الشعبية
- ٦- تم الاستعانة بالقوات المسلحة المصرية فى ثورة يناير

- ٧- حدوث ثورة ٣٠ يونيه ٢٠١٣م

- ٨- اصدار الجيش بيان ٢٣ يونيه ٢٠١٣

ما النتائج المترتبة على

- ١- التطبيق غير السليم لنظام الخصخصة
- ٢- تزوير الانتخابات البرلمانية لمجلس الشعب عام ٢٠١٠م
- ٣- الإضطراب الأمنى الشديد فى ثورة يناير
- ٤- ثورة ٢٥ يناير
- ٥- ثورة ٣٠ يونيه ٢٠١٣
- ٦- صدور الدستور الجديد ٢٠١٤

الحياة النيابية والحزبية ودور المرأة

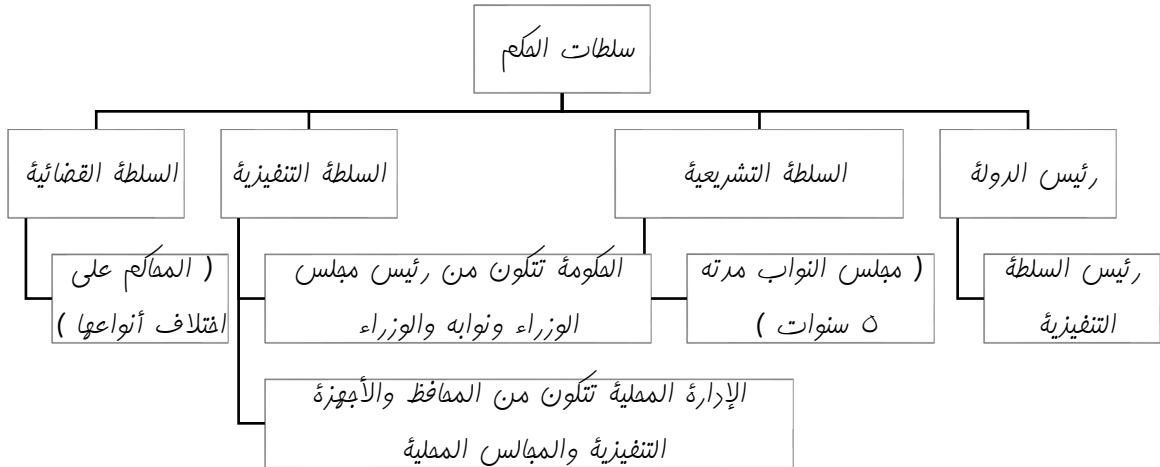
الوحدة الرابعة

الدرس الأول

الحياة النيابية :

قيام الشعب بانتخاب ممثلين لإدارة شئون الحكم في البلاد و سن القوانين ومراقبة أعمال الحكومة نيابة عنه

سلطات الحكم في مصر :



تطور الحياة النيابية

أولاً: مرحلة ما قبل الإحتلال البريطاني	عصر محمد علي	أنشأ محمد علي عدة مجالس استشارية لا سلطة لها منها: مجلس المشورة - المجلس العالي
ثانياً: مرحلة عهد الإحتلال البريطاني :	عصر الخديو إسماعيل	أنشأ إسماعيل مجلس شورى النواب (ديسمبر ١٨٦٦م)
	المرحلة الأولى (١٨٨٢م - ١٩١٤م)	وتم فيها إنشاء مجلسين استشاريين لا سلطة لهما (صوريين) هما :- مجلس شورى القوانين والجمعية العمومية ١٨٨٣م - ثم انشئت الجمعية التشريعية عام ١٩١٣م
	المرحلة الثانية (١٩٢٣م - ١٩٥٢م)	وفيها صدر دستور ١٩٢٣م والذي تضمن - حرية تكوين الأحزاب السياسية - إنشاء برلمان يمثل السلطة التشريعية ، والذي تكون من مجلسين هما : (مجلس النواب - مجلس الشيوخ)

<ul style="list-style-type: none"> - قامت الثورة بإلغاء دستور ١٩٢٣م - حل الأحزاب السياسية - صدور أول دستور للبلاد عقب الثورة هو دستور ١٩٥٦م والذي نص على أن السلطة التشريعية تكون في يد مجلس منتخب هو مجلس الأمة (النواب حاليا) الذي تشكل في يوليو ١٩٥٧م 	<p>عهد جمال عبدالناصر</p>	<p>ثالثًا : مرحلة ما بعد ثورة ٢٣ يولية ١٩٥٢م</p>
<p>صدر دستور ١٩٧١م (الدستور الدائم) ليؤكد على (سيادة القانون واستقلال القضاء وإقرار مبادئ التعددية الحزبية)</p>	<p>عهد السادات</p>	

الدستور: هو الوثيقة الرسمية التي تحدد نظام الحكم في الدولة وتحدد شكل واختصاصات المؤسسات الدستورية المختلفة

البرلمان: يطلق على المجالس النيابية التي تتولى السلطة التشريعية في الدولة

تطور دور المرأة في العمل الوطني

<p>★ بدأت هذه المرحلة فعلياً في عهد الخديو إسماعيل الذي استجاب لدعوة رفاعة الطهطاوي وأنشأ أول مدرسة لتعليم البنات عام ١٨٧٣م (المدرسة السنية بالسيدة زينب حالياً)</p> <p>★ ساهمت المرأة في تأسيس صحافة نسائية تبني القضايا النسائية وتدافع عن حقوق المرأة ومكانتها حيث ظهرت أول مجلة نسائية مصرية وهي (الرخانة) في فبراير عام ١٩٠٧م وأصدرتها (جميلة حافظ) ثم تحولت إلى جريدة في مارس ١٩٠٨م</p>		مرحلة ما قبل ثورة ١٩١٩م
<p>شهدت هذه المرحلة نهضة نسائية ودوراً رائداً للمرأة في مختلف المجالات كما يلي :</p> <p>-شاركت بصورة لم يعهدها المجتمع المصري إلى جانب الرجل في المظاهرات عقب نفي سعد زغلول في مارس ١٩١٩م</p> <p>-تشكيل لجنة الوفد المركزية للسيدات عام ١٩٢٠م وانتخبت هدى شعراوي رئيساً لها</p> <p>-التحقت المرأة بالجامعة المصرية عام ١٩٢٨م (جامعة القاهرة حالياً)</p>		مرحلة ما بعد ثورة ١٩١٩م حتى ثورة ٢٣ يوليو ١٩٥٢م
<p>- حصلت المرأة المصرية على حق الانتخاب والترشيح في دستور ١٩٥٦م وأصبحت عضواً بالبرلمان المصري</p>	<p>أ (الفترة من ١٩٥٢م إلى ١٩٧١م :</p>	مرحلة ما بعد ثورة ٢٣ يولية

<p>- تقلدت المرأة المصرية المناصب الوزارية فكانت (حكمت أبو زيد) أول وزيرة للشئون الاجتماعية عام ١٩٦٢م</p> <p>- شاركت المرأة المصرية في النقابات العمالية والمهنية والمنظمات غير الحكومية</p>		<p>١٩٥٢م حتى الآن</p>
<p>- شغلت المرأة مناصب وزارية حيث عين الرئيس السادات الدكتورة (عائشة راتب) وزيرة للشئون الاجتماعية عام ١٩٧١ م</p> <p>- شاركت المرأة في الحياة النيابية فشغلت الدكتورة (آمال عثمان) منصب رئيس اللجنة التشريعية بمجلس الشعب</p>	<p>الفترة من ١٩٧١م إلى ١٩٨١م</p>	
<p>- تميزت هذه الفترة بالعمل على تدعيم مكانة المرأة على كافة المستويات حيث تم :</p> <p>١- إنشاء المجلس القومي للمرأة</p> <p>٢- تقلد المرأة بعض الوظائف والمناصب المختلفة</p>	<p>ج (الفترة من ١٩٨١ م وحتى الآن :</p>	

منظمات المجتمع المدني

جمعيات المجتمعات المحلية والمنظمات غير الحكومية والنقابات العمالية والجمعيات الخيرية وغيرها)
دلل: تعد منظمات المجتمع المدني عناصر فاعلة في تقديم الخدمات الاجتماعية
 وتنفيذ برامج التنمية كمكمل للعمل الحكومي ويتضح ذلك من خلال الأنشطة التي تقوم بها
 وهى :

« من أنشطة منظمات المجتمع المدني ما يلي :

- ١) تثقيف المواطنين وتعريفهم بالحقوق السياسية كالتصويت والانتخاب والترشيح للمناصب السياسية
- ٢) توضيح علاقة المواطن بالدولة وكيفية التعبير عن حقوقه وواجباته
- ٣) توفير مناخ يحقق الوحدة الوطنية من خلال توعية الأفراد بنبذ العنف
- ٤) تدعيم السياسة العامة للدولة ومواقفها من القضايا الدولية مثل حظر استخدام الألغام الأرضية ، ومحاربة الإرهاب ، وحماية البيئة

اختبر نفسك

دلل على صحة العبارات الآتية

- ١- تتنوع سلطات الحكم في مصر
- ٢- تطورت الحياة النيابية قبل الاحتلال البريطاني
- ٣- مرت الحياة النيابية في عهد الاحتلال بمرحلتين

- ٤- تطورت الحياة النيابية بعد ثورة ١٩٥٢
- ٥- تطور دور المرأة قبل ثورة ١٩١٩
- ٦- تطور دور المرأة بعد ثورة ١٩١٩ وحتى ١٩٥٢
- ٧- تطور دور المرأة بعد ثورة ١٩٥٢ وحتى الان
- ٨- : تعد منظمات المجتمع المدني عناصر فاعلة في تقديم الخدمات الاجتماعية

ما المقصود بـ

- ١- الحياة النيابية
- ٢- الدستور
- ٣- منظمات المجتمع المدني
- ٤- البرلمان

اكمل

- ١- هو رئيس السلطة التنفيذية
- ٢- تتمثل السلطة التشريعية في مجلس ومدتهسنوات
- ٣- تتمثل السلطة التنفيذية فيو.....
- ٤- تتمثل السلطة القضائية في
- ٥- اول مجلة نسائية هي واصدرتها
- ٦- إنشاء المجلس لدعم مكانة المرأة
- ٧- حصلت المرأة المصرية على حق الانتخاب والترشيح في دستور
- ٨- أول وزيرة للشئون الاجتماعية عام ١٩٦٢م هي
- ٩- وزيرة للشئون الاجتماعية عام ١٩٧١ م هي
- ١٠- رئيس اللجنة التشريعية بمجلس الشعب في الفترة من ١٩٧١ وحتى ١٩٨١ هي
- ١١- تم تشكيل لجنة الوفد المركزية للسيدات عام وانتخبت رئيساً لها
- ١٢- التحقت المرأة بالجامعة المصرية عام لأول مرة
- ١٣- أول مدرسة لتعليم البنات عام ١٨٧٣م هي وانشأها الخديوىبدعوة من
- ١٤- انشا الخديوى اسماعيل مجلس ١٨٦٦
- ١٥- انشا محمد على مجلسىو.....

ما النتائج المترتبة على

- ١- صدور دستور ١٩٧١
- ٢- صدور دستور ١٩٥٦
- ٣- صدور دستور ١٩٢٣

مصر والمنظمات الإقليمية والدولية

الوحدة الرابعة

الدرس الاول

المنظمة الإقليمية : هي المنظمة التي تجمع عددًا من الدول المستقلة التي ترتبط ببعضها بروابط معينة مثل جامعة الدول العربية ومنظمة المؤتمر الإسلامي ومنظمة الاتحاد الإفريقي

المنظمة الدولية : هي التي تضم في عضويتها دول العالم المستقلة وإن لم ترتبط ببعضها بروابط معينة مثل منظمة الأمم المتحدة وحركة عدم الانحياز

اولا : المنظمات الإقليمية

(١) جامعة الدول العربية مارس ١٩٤٥

فكرة إنشاء جامعة الدول العربية :

دعت مصر كلاً من رئيس وزراء سوريا والكتلة الوطنية اللبنانية للتباحث في القاهرة حول فكرة إقامة جامعة عربية

وبعد عدة إجتماعات تم توقيع ميثاق القاهرة مارس ١٩٤٥م وهو أول وثيقة تخص الجامعة العربية حيث تضمن مبادئ قيام جامعة الدول العربية

وتم التوقيع عليه في من قبل سبع دول عربية هي (مصر - الأردن - سوريا - العراق - السعودية - لبنان - اليمن) وأصبح عددها الآن ٢٢ دولة ، بما فيهم فلسطين

الهدف من إنشاء جامعة الدول العربية :



- ١- تنسيق العلاقات بين الدول الأعضاء
- ٢- تنسيق الخطط السياسية والاقتصادية والاجتماعية والثقافية والأمنية
- ٣- التعاون وحماية الأمن القومي العربي
- ٤- صيانة وحماية استقلال الدول الأعضاء وسيادتها
- ٥- تعزيز العمل العربي المشترك في مختلف المجالات

الهيكل التنظيمي لجامعة الدول العربية : أ) مجلس الجامعة :

- يعد أعلى سلطة داخل الجامعة
- ويتألف من ممثلي جميع الدول الأعضاء بما فيهم ممثل دولة فلسطين
- لكل دولة صوت واحد ،
- لمجلس الجامعة مهام محددة أقرها ميثاق الجامعة

ب) اللجان الدائمة :

- للجامعة العربية عدد من اللجان الدائمة المعنية بمختلف مجالات التعاون فيما بين الأعضاء
- عددها حالياً ١٢ لجنة وتقوم الكثير منها إلى منظمات متخصصة في مختلف المجالات

ج (الأمانة العامة :

- تتكون من الأمين العام وعدد من الأمناء المساعدون وعدد من الموظفين .
- يعين الأمين العام بموافقة مجلس الجامعة بأغلبية الثلثين لمدة خمس سنوات

٢) الاتحاد الإفريقى



- شاركت مصر في تأسيس الاتحاد الإفريقى بعد تحرر الكثير من البلدان الإفريقية .
- إستضافت مصر أول قمة إفريقية على أرضها عام ١٩٦٤م
- ترأست مصر الاتحاد الإفريقى للمرة الثالثة ٢٠١٩ برئاسة الرئيس عبدالفتاح السيسى لتعود مصر الى افريقيا من جديد متبينة استراتيجية جديدة تهدف للعمل على
- ١- تقليل المعوقات التى تواجه العمل الإفريقى المشترك بتشجيع سواعد ابناء القارة على بناء المشروعات القارية الرائدة لتطوير البنية التحتية الافريقية وربط الاسواق الافريقية وتفعيل اتفاقية التجارة الحرة
- وقد اكد الرئيس السيسى فى كلمته بمناسبة الاحتفال بيوم افريقيا فى مايو ٢٠١٩ على ضرورة سعى دول افريقيا لتطوير ثرواتها البشرية
- ١. تاهيل شباب القارة لمواكبة تطورات العصر
- ٢. مواصلة تعزيز دور المرأة الافريقية
- ٣. تدعيم الروابط الثقافية والحضارية بين شعوب القارة ترسيخا للهوية الافريقية وعلان لمبادئ التضامن الإفريقى

٣) منظمة المؤتمر الاسلامى



- تعد مصر من أوائل الدول التى ساهمت فى بلورة فكرة إنشاء هذه المنظمة .
- شاركت مصر فى كافة المؤتمرات الإسلامية .
- وكان أهمها مؤتمر القمة الإسلامى الذى انعقد فى سبتمبر ١٩٦٩م بمدينة الرباط بالمغرب .

ثانيا : المنظمات الدولية

١- الأمم المتحدة

- هي منظمة عالمية تضم فى عضويتها جميع دول العالم المستقلة ومقرها نيويورك . وقد أنشئت أواخر عام ١٩٤٥م .
- أهداف الأمم المتحدة :



١- المحافظة على السلام والأمن الدوليين

٢- تنمية العلاقات الودية بين الدول

٣- التعاون الدولي لحل المشكلات الاقتصادية والاجتماعية والثقافية

٤- تعزيز إحترام حقوق الإنسان وحرياته دون تفرقة بسبب الجنس أو

الدين

الأجهزة الرئيسية للأمم المتحدة :

- تتكون الأمم المتحدة من ستة أجهزة رئيسية هى :

١. الجمعية العامة :

تضم جميع الدول الأعضاء في الأمم المتحدة ولكل دولة صوت واحد

٢. مجلس الأمن :

بم تفسر : مجلس الامن هو أهم أجهزة الأمم المتحدة

- لأنه المسئول عن حفظ السلام والأمن الدوليين .

- سلطته قانونية على حكومات الدول الأعضاء

٣. مجلس الوصاية :

- أنشئ مجلس الوصاية ليرعى مصالح شعوب البلدان التي كانت مستعمرات والأخذ بيدها نحو

الحكم الذاتي والاستقلال

٤. محكمة العدل الدولية :

- هي الجهاز القضائي الأساسي للأمم المتحدة ومقرها لاهاى بهولندا

- تنظر في القضايا التي تضعها الدول أمامها وتقدم الاستشارات القانونية للهيئات الدولية

٥. الأمانة العامة :

- مقرها نيويورك بالولايات المتحدة الأمريكية

- يرأسها الأمين العام ، ويتم تعيينه عن طريق الجمعية العامة بناء على توصية من مجلس

الأمن لفترة خمس سنوات

٦. المجلس الاقتصادي والاجتماعي :

- هو مسئولاً عن نشاط الأمم المتحدة الاقتصادي والاجتماعي

- وهذا المجلس يتبعه عدد من المنظمات المتخصصة ، وهذه المنظمات هي :

أ) منظمة الأمم المتحدة للتربية والعلوم والثقافة (اليونسكو)

- هي منظمة متخصصة في التربية والعلوم والثقافة تأسست عام ١٩٤٥م

- هدفها المساهمة في إحلال السلام والأمن عن طريق رفع مستوى التعاون

بين دول العالم في مجالات التربية والعلوم والثقافة

من أمثلة التعاون بين منظمة اليونسكو ومصر ما يلي :



١- إنقاذ معابد (أبو سمبل) في عام ١٩٦٤م

٢- إحياء مكتبة الإسكندرية



ب) منظمة الصحة العالمية

- أنشئت في إبريل ١٩٤٨م

- مقرها جنيف بسويسرا

- الهدف منها توفير أفضل سبل الرعاية الصحية لجميع الشعوب .

ونشر الوعي من أجل حماية مياه الشرب من التلوث ، وعقد دورات تدريبية لتطوير الخدمات الصحية

ج) منظمة الأغذية والزراعة : (الفاو FAO)

- هي منظمة متخصصة في المجال الزراعي

- مقرها روما بإيطاليا

- هدفها القضاء على الجوع ، ومساعدة البلدان النامية على تطوير وتحسين

الإنتاج الزراعي والتغذية الجيدة

د) منظمة الأمم المتحدة للطفولة (اليونيسيف Unicef)

- هي المنظمة الوحيدة المتخصصة في مجال الطفولة

- هدفها تعزيز وحماية حقوق الأطفال ورفاهيتهم حيث

قامت المنظمة في عام ١٩٥٩م بإعلان حقوق الأطفال

باعتبارهم يمثلون محور التنمية

مصر والأمم المتحدة :

- شاركت مصر في الأنشطة المختلفة للأمم المتحدة

- شاركت جنودها في قوات حفظ السلام الدولية في بلدان عديدة منها(الكونغو - البوسنة

والهرسك - الصومال - الكويت)

حركة عدم الانحياز

- ساهمت مصر في تأسيس حركة عدم الانحياز حيث كانت البداية مصرية

في مؤتمر باندونج عام ١٩٥٥م بالاشتراك مع الهند وإندونيسيا ويوغوسلافيا)

(سابقا)

- كانت الحركة تضم في بدايتها ٢٥ دولة ، وأصبحت كياناً ضخماً يضم

حاليًا ١١٨ دولة من قارات أفريقيا وآسيا وأوروبا وأمريكا اللاتينية (الجنوبية)



اختبر نفسك

اكتب ما تشير اليه العبارات

- ١- هي المنظمة التي تجمع عددًا من الدول المستقلة التي ترتبط ببعضها بروابط معينة
- ٢- هي التي تضم في عضويتها دول العالم المستقلة وإن لم ترتبط ببعضها بروابط معينة
- ٣- منظمة الهدف منها تنسيق الخطط السياسية والاقتصادية والاجتماعية والثقافية والأمنية بين الدول العربية
- ٤- يعد أعلى سلطة داخل الجامعة العربية ويتألف من ممثلي جميع الدول الأعضاء
- ٥- هي منظمة عالمية تضم في عضويتها جميع دول العالم المستقلة ومقرها نيويورك
- ٦- مجلس يرعى مصالح شعوب البلدان التي كانت مستعمرات
- ٧- هي الجهاز القضائي الأساسي للأمم المتحدة ومقرها لاهاى بهولندا
- ٨- هو مسئولاً عن نشاط الأمم المتحدة الاقتصادي والاجتماعي
- ٩- هي منظمة متخصصة في التربية والعلوم والثقافة تأسست عام ١٩٤٥م
- ١٠- منظمة الهدف منها توفير أفضل سبل الرعاية الصحية لجميع الشعوب ، ونشر الوعي
- منظمة متخصصة في المجال الزراعي مقرها روما بإيطاليا هدفها القضاء على الجوع .
- ١- المنظمة الوحيدة المتخصصة في مجال الطفولة هدفها تعزيز وحماية حقوق الأطفال

أكمل العبارات الآتية

١. للجامعة العربية عدد من اللجان الدائمة عددها حاليًا لجنة
٢. تتكون من الأمين العام وعدد من الأمناء المساعدون وعدد من الموظفين .
٣. يعين الأمين العام لجامعة الدول العربية بموافقة مجلس الجامعة بأغلبية لمدة سنوات
٤. إستضافت مصر أول قمة إفريقية على أرضها عام
٥. تراسست مصر الاتحاد الأفريقي للمرة ٢٠١٩ برئاسة الرئيس
٦. شاركت مصر في مؤتمر القمة الإسلامي الذي انعقد في سبتمبر ١٩٦٩م بمدينة بالمغرب .
٧. تتكون الأمم المتحدة من أجهزة رئيسية هي :
٨. مقرها الأمانة العامة بمدينة بالولايات المتحدة الأمريكية
٩. تقع منظمة الصحة العالمية ب بينما الفاو ب

دلل على صحة العبارات

- ١- شاركت مصر في دعم القارة الافريقية
- ٢- مجلس الامن هو أهم أجهزة الأمم المتحدة
- ٣- تعاونت منظمة اليونسكو مع مصر
- ٤- تعاونت مصر مع الامم المتحدة
- ٥- اسهمت مصر في حركة عدم الانحياز